

# UGC NET 2022 ARCHAEOLOGY

Topic: - 067\_PARTA\_S2

- 1) Which of the following archaeological theories explain cultural innovation and change as a result of stimulus or influence from a point of origin?
1. Diffusion
  2. Cognitive
  3. Functionalism
  4. Contextual

निम्नलिखित में से कौन सा पुरातात्विक सिद्धांत उद्गम स्थल से उद्दीपन या प्रभाव के परिणाम स्वरूप सांस्कृतिक नव प्रवर्तन और परिवर्तन की व्याख्या करता है ?

1. प्रसार
2. संज्ञानात्मक
3. कार्यात्मक
4. प्रासांगिक

[Question ID = 3354][Question Description = 101\_10\_ARC\_SEP22\_S2\_Q01]

1. 1 [Option ID = 13413]
2. 2 [Option ID = 13414]
3. 3 [Option ID = 13415]
4. 4 [Option ID = 13416]

- 2) Who divided the history of Indian Archaeology in three periods as Period - I (1861-1902), Period - II (1902-1944) and Period- III (1944-1960)?
1. E. C. Bayley
  2. Walter Elliott
  3. H. D. Sankalia
  4. Meadows Taylor

किसने भारतीय पुरातत्व के इतिहास को तीन कालों यथा प्रथम काल (1861-1902), द्वितीयक (1902-1944) एवं तृतीय काल (1944-1960) में विभाजित किया है?

1. ई.सी. बेले
2. वाल्टर इलियट
3. एच.डी. सांकलिया
4. मिडोज़ टेलर

[Question ID = 3355][Question Description = 102\_10\_ARC\_SEP22\_S2\_Q02]

1. 1 [Option ID = 13417]
2. 2 [Option ID = 13418]

3. 3 [Option ID = 13419]
4. 4 [Option ID = 13420]

3)

The study of the processes that affect organic remains after death is known as

1. Phylogeny
2. Palaeozoology
3. Palaeontology
4. Taphonomy

मृत्यु के पश्चात कार्बनिक अवशेषों को प्रभावित करने वाली प्रक्रियाओं के अध्ययन को कहा जाता है

1. जातिवृत्त
2. प्राणि अश्मविज्ञान
3. जीवाश्मविज्ञान
4. वयोत्पन्न प्रारूप (टैफोनॉमी)

[Question ID = 3356][Question Description = 103\_10\_ARC\_SEP22\_S2\_Q03]

1. 1 [Option ID = 13421]
2. 2 [Option ID = 13422]
3. 3 [Option ID = 13423]
4. 4 [Option ID = 13424]

4)

Which of the following is NOT a characteristic feature of pastoral nomadism?

1. Dependence of their economy on breeding of their animals
2. The migratory character of life
3. Sedentism
4. Orientation towards substance production

ग्रामीण यायावर का चारित्रिक लक्षण निम्नलिखित में से कौन नहीं है ?

1. उनके जानवरों की उत्पत्ति पर उनकी आर्थिक निर्भरता
2. जीवन का प्रवासी लक्षण
3. स्थानबद्धता
4. पदार्थ उत्पादन का अभिविन्यास

[Question ID = 3357][Question Description = 104\_10\_ARC\_SEP22\_S2\_Q04]

1. 1 [Option ID = 13425]
2. 2 [Option ID = 13426]
3. 3 [Option ID = 13427]
4. 4 [Option ID = 13428]

5)

Hominid baby skull is found from Odai, situated in

1. Maharashtra
2. Tamil Nadu
3. Karnataka
4. Kerala

ओडई से होमिनिड बाल कपाल प्राप्त हुए हैं ; यह कहाँ स्थित है

1. महाराष्ट्र
2. तमिलनाडु
3. कर्नाटक
4. केरल

[Question ID = 3358][Question Description = 105\_10\_ARC\_SEP22\_S2\_Q05]

1. 1 [Option ID = 13429]
2. 2 [Option ID = 13430]
3. 3 [Option ID = 13431]
4. 4 [Option ID = 13432]

6)

The earliest tools from Olduvai Gorge site are reported from

1. Bed I
2. Bed II
3. Bed III
4. Bed IV

ओल्डुवाय घाटी पुरास्थल के प्रारंभिक उपकरण किस बेड से प्राप्त हुए हैं -

1. बेड-I
2. बेड-II
3. बेड-III
4. बेड-IV

[Question ID = 3359][Question Description = 106\_10\_ARC\_SEP22\_S2\_Q06]

1. 1 [Option ID = 13433]
2. 2 [Option ID = 13434]
3. 3 [Option ID = 13435]
4. 4 [Option ID = 13436]

7)

Early Sohan belongs to which inter-glacial period?

1. I
2. II
3. III
4. IV

प्रारंभिक सोहन किस अंतर-हिम काल से संबंधित है ?

1. I
2. II
3. III
4. IV

[Question ID = 3360][Question Description = 107\_10\_ARC\_SEP22\_S2\_Q07]

1. 1 [Option ID = 13437]
2. 2 [Option ID = 13438]
3. 3 [Option ID = 13439]
4. 4 [Option ID = 13440]

8)

When the Levallois technique came into existence?

1. Lower Palaeolithic
2. Middle Palaeolithic
3. Upper Palaeolithic
4. Mesolithic

लावालवा तकनीक कब अस्तित्व में आया ?

1. निम्न पुरापाषाण काल
2. मध्य पुरापाषाण काल
3. उच्च पुरापाषाण काल
4. मध्य-पाषाण काल

[Question ID = 3361][Question Description = 108\_10\_ARC\_SEP22\_S2\_Q08]

1. 1 [Option ID = 13441]
2. 2 [Option ID = 13442]
3. 3 [Option ID = 13443]
4. 4 [Option ID = 13444]

9)

Which of the following site was excavated in India under salvage archaeology?

1. Arikamedu
2. Nagarjunakonda
3. Mahabalipuram
4. Bharhut

निम्नलिखित में किस स्थल को भारत में उद्धारक पुरातत्व के अंतर्गत उत्खनित किया गया था ?

1. अरिकामेडु
2. नागार्जुनकोंडा
3. महाबलीपुरम
4. भरहुत

[Question ID = 3362][Question Description = 109\_10\_ARC\_SEP22\_S2\_Q09]

1. 1 [Option ID = 13445]
2. 2 [Option ID = 13446]
3. 3 [Option ID = 13447]
4. 4 [Option ID = 13448]

10)

Who gave the term 'dancing girl' to the retrieved bronze female figurine of Mohenjadaro?

1. A. Cunningham
2. R. D. Banerjee
3. John Marshall
4. D. R. Sahn

मोहनजोदाड़ों की महिला कांस्य प्रतिमा को 'नर्तकी' की संज्ञा किसने दी ?

1. ए. कमिंघम
2. आर. डी. बनर्जी
3. जॉन मार्शल
4. डी. आर. साहनी

[Question ID = 3363][Question Description = 110\_10\_ARC\_SEP22\_S2\_Q10]

1. 1 [Option ID = 13449]
2. 2 [Option ID = 13450]
3. 3 [Option ID = 13451]
4. 4 [Option ID = 13452]

11)

From which of the following sites, Ostrich egg shells are not found?

1. Uttar Pradesh
2. Madhya Pradesh
3. Rajasthan
4. Odisha

निम्नलिखित में से किस पुरास्थल से शतुरमुर्ग का अंड-कवच प्राप्त नहीं हुआ ?

1. उत्तर प्रदेश
2. मध्य प्रदेश
3. राजस्थान
4. ओडिशा

[Question ID = 3364][Question Description = 111\_10\_ARC\_SEP22\_S2\_Q11]

1. 1 [Option ID = 13453]
2. 2 [Option ID = 13454]
3. 3 [Option ID = 13455]
4. 4 [Option ID = 13456]

12)

The Chalcolithic site of Ojijana is situated in which of the following states?

1. Gujarat
2. Rajasthan
3. Madhya Pradesh
4. Maharashtra

निम्नलिखित में से किस राज्य में ताम्रपाषाणि पुरास्थल ओजियाँ स्थित है ?

1. गुजरात
2. राजस्थान
3. मध्य प्रदेश
4. महाराष्ट्र

[Question ID = 3365][Question Description = 112\_10\_ARC\_SEP22\_S2\_Q12]

1. 1 [Option ID = 13457]
2. 2 [Option ID = 13458]
3. 3 [Option ID = 13459]
4. 4 [Option ID = 13460]

13)

The Chalcolithic site of Ganeshwar is situated in

1. Narmada Valley
2. Bannu Valley
3. Baleshwar Valley
4. Saraswati Valley

गनेश्वर का ताम्रपाषाणिक पुरास्थल कहाँ स्थित है -

1. नर्मदा घाटी में
2. बानू घाटी में
3. बालेश्वर घाटी में
4. सरस्वती घाटी में

[Question ID = 3366][Question Description = 113\_10\_ARC\_SEP22\_S2\_Q13]

1. 1 [Option ID = 13461]
2. 2 [Option ID = 13462]
3. 3 [Option ID = 13463]
4. 4 [Option ID = 13464]

14)

Which of the following archaeological site is situated on the bank of Chhoti Kali Sindh river?

1. Kayatha
2. Navadatoli
3. Nagda
4. Pipri

निम्नलिखित में से कौन सा पुरातात्विक स्थल छोटी काली सिंध नदी के किनारे स्थित है ?

1. कायथा
2. नवदा टोली
3. नागदा
4. पिपरी

[Question ID = 3367][Question Description = 114\_10\_ARC\_SEP22\_S2\_Q14]

1. 1 [Option ID = 13465]
2. 2 [Option ID = 13466]
3. 3 [Option ID = 13467]
4. 4 [Option ID = 13468]

15)

Which of the following universities became the first university in India to participate in excavations?

1. University of Delhi
2. University of Calcutta
3. University of Rajasthan
4. University of Lucknow

निम्नलिखित विश्वविद्यालयों में से कौन सा पहला भारतीय विश्वविद्यालय है जिसने उत्खनन में भाग लिया ?

1. दिल्ली विश्वविद्यालय
2. कलकत्ता विश्वविद्यालय
3. राजस्थान विश्वविद्यालय
4. लखनऊ विश्वविद्यालय

[Question ID = 3368][Question Description = 115\_10\_ARC\_SEP22\_S2\_Q15]

1. 1 [Option ID = 13469]
2. 2 [Option ID = 13470]
3. 3 [Option ID = 13471]
4. 4 [Option ID = 13472]

16)

Who termed megalithic pottery as 'Russet coated ware'?

1. M. Wheeler
2. B. K. Thapar
3. M. N. Deshpande
4. Gogte

किसने महापाषाणयुगीन मृदभांड को 'रसेट कोटेड वेयर' के रूप में बताया है ?

1. एम. व्हीलर
2. बी. के. थापर
3. एम. एन. देशपांडे
4. गोमटे

[Question ID = 3369][Question Description = 116\_10\_ARC\_SEP22\_S2\_Q16]

1. 1 [Option ID = 13473]
2. 2 [Option ID = 13474]
3. 3 [Option ID = 13475]
4. 4 [Option ID = 13476]



17)

'Hathi Well' or 'Elephant Well' section wherein there is a 12-13 meters thick deposit representative section is reported from which of the following archaeological site?

1. Nevasa
2. Jalalpur
3. Daimabad
4. Bhimbetka

निम्नलिखित में से किस पुरातात्विक स्थल में 'हाथी कुआँ' अथवा 'एलिफैंट वेल' अनुभाग का उल्लेख किया गया है जिसमें 12-13 मीटर मोटा जमाव का प्रतिनिधि अनुभाग मौजूद है ?

1. नेवासा
2. जलालपुर
3. दयमाबाद
4. भीमबेटका

[Question ID = 3370][Question Description = 117\_10\_ARC\_SEP22\_S2\_Q17]

1. 1 [Option ID = 13477]
2. 2 [Option ID = 13478]
3. 3 [Option ID = 13479]
4. 4 [Option ID = 13480]

18)

Which of the following site is not located in the state of Bihar?

1. Seneur
2. Chirand
3. Golbai
4. Maner

निम्नलिखित में से कौन सा पुरातत्व स्थल बिहार में स्थित नहीं है ?

1. सेनुआर
2. चिरांद
3. गोलबाई
4. मनेर

[Question ID = 3371][Question Description = 118\_10\_ARC\_SEP22\_S2\_Q18]

1. 1 [Option ID = 13481]
2. 2 [Option ID = 13482]
3. 3 [Option ID = 13483]
4. 4 [Option ID = 13484]

19) Which of the following Harappan sites is not located in Harayana?

1. Kunal
2. Bhirrana
3. Bara
4. Rakhigarhi

निम्नलिखित में से कौन-सा हड़प्पा पुरास्थल हरियाणा में स्थित नहीं है ?

1. कुणाल
2. भिरड़ाना
3. बाड़ा
4. राखीगढ़ी

[Question ID = 3372][Question Description = 119\_10\_ARC\_SEP22\_S2\_Q19]

1. 1 [Option ID = 13485]
2. 2 [Option ID = 13486]
3. 3 [Option ID = 13487]
4. 4 [Option ID = 13488]

20) Which of the following sites is not located in Karnataka?

1. Maski
2. Tekkalakotta
3. Velpumadugu
4. Hallur

निम्नलिखित में से कौन सा पुरास्थल कर्नाटक में स्थित नहीं है ?

1. मास्की
2. टेक्कलकोटा
3. वेल्लुमदुगु
4. हल्लूर

[Question ID = 3373][Question Description = 120\_10\_ARC\_SEP22\_S2\_Q20]

1. 1 [Option ID = 13489]
2. 2 [Option ID = 13490]
3. 3 [Option ID = 13491]
4. 4 [Option ID = 13492]

21)

Which of the following ancient urban centers is devoid of fortification?

1. Shravasti
2. Ahichhatra
3. Shishupalgarh
4. Kausambi

निम्नलिखित में कौन सा प्राचीन नगरीय केंद्र किलाबंदी (Fortification) में विभक्त है ?

1. श्रावस्ती
2. अहिच्छत्रा
3. शिशुपाल गढ़
4. कौशाम्बी

[Question ID = 3374][Question Description = 121\_10\_ARC\_SEP22\_S2\_Q21]

1. 1 [Option ID = 13493]
2. 2 [Option ID = 13494]
3. 3 [Option ID = 13495]
4. 4 [Option ID = 13496]


22)

The plan of the Maniyar math at Rajgir is

1. Circular
2. Apsidal
3. Square
4. Rectangular

राजगृह स्थित 'मनियर मठ' की आयोजना है

1. वृत्ताकार
2. गज पृष्ठाकर (एप्सिडल)
3. वर्गाकार
4. चतुर्भुजाकार



[Question ID = 3375][Question Description = 122\_10\_ARC\_SEP22\_S2\_Q22]

1. 1 [Option ID = 13497]
2. 2 [Option ID = 13498]
3. 3 [Option ID = 13499]
4. 4 [Option ID = 13500]

23)

The seal inscribed as 'Samaveda' is found from which of the following sites?

1. Malhar
2. Ujjain
3. Tarighat
4. Chandraketugarh

निम्नलिखित में से किस पुरास्थल से 'सामवेद' अंकित मोहर प्राप्त होती है ?

1. मलहर
2. उज्जैन
3. तरीघाट
4. चन्द्रकेतु गढ़

[Question ID = 3376][Question Description = 123\_10\_ARC\_SEP22\_S2\_Q23]

1. 1 [Option ID = 13501]
2. 2 [Option ID = 13502]
3. 3 [Option ID = 13503]
4. 4 [Option ID = 13504]

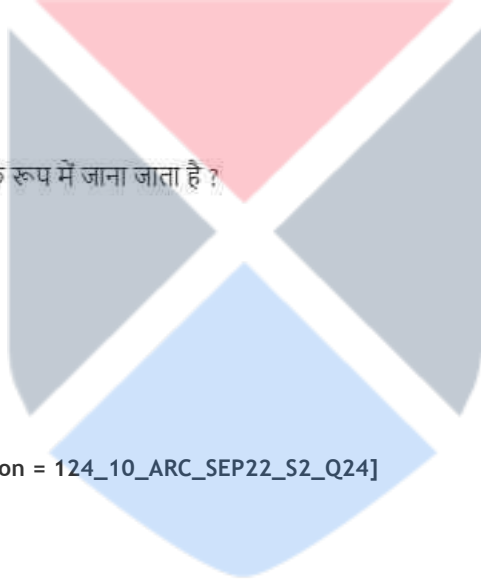
24)

Which of the following site is known as Pimprihar?

1. Arikamedu
2. Manikpatna
3. Kaveripattanam
4. Muchiri

निम्नलिखित में से कौन सा पुरास्थल 'पम्पुहार' के रूप में जाना जाता है ?

1. अरिकामेडु
2. मानिकपाटन
3. कावेरीपट्टन
4. मुचिरी



[Question ID = 3377][Question Description = 124\_10\_ARC\_SEP22\_S2\_Q24]

1. 1 [Option ID = 13505]
2. 2 [Option ID = 13506]
3. 3 [Option ID = 13507]
4. 4 [Option ID = 13508]

25)

The famous terracotta 'panchachuda' figurine has been found from

1. Shishupalgarh
2. Chandraketugarh
3. Budhigarh
4. Junagarh

प्रसिद्ध 'पंचुदा' मृण्मूर्ति प्राप्त हुई है :

1. शिशुपाल गढ़
2. चन्द्रकेतु गढ़
3. बुधिगढ़
4. जूनागढ़

[Question ID = 3378][Question Description = 125\_10\_ARC\_SEP22\_S2\_Q25]

- 1 [Option ID = 13509]
- 2 [Option ID = 13510]
- 3 [Option ID = 13511]
- 4 [Option ID = 13512]

26)

The Nigali Sagar inscription of Ashoka records the stupa of

1. Shakyamuni
2. Kanakmuni
3. Sariputta
4. Nagarjuna

अशोक के निगली सागर अभिलेख में स्तूप का उल्लेख है :

1. शाक्य मुनि
2. कनक मुनि
3. सारिपुट्ट
4. नागार्जुन

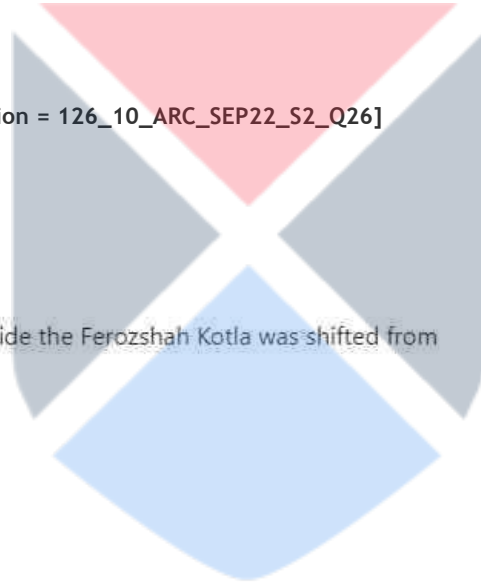
[Question ID = 3379][Question Description = 126\_10\_ARC\_SEP22\_S2\_Q26]

- 1 [Option ID = 13513]
- 2 [Option ID = 13514]
- 3 [Option ID = 13515]
- 4 [Option ID = 13516]

27)

The present day Ashokan pillar inside the Ferozshah Kotla was shifted from

1. Kosam
2. Meerut
3. Mehrauli
4. Topra



वर्तमान में फिरोजशाह कोटला स्थित अशोका स्तम्भ, से लाया/स्थापित किया गया-

1. कोसम
2. मेरठ
3. मेहरौली
4. टोपरा

[Question ID = 3380][Question Description = 127\_10\_ARC\_SEP22\_S2\_Q27]

- 1 [Option ID = 13517]
- 2 [Option ID = 13518]
- 3 [Option ID = 13519]
- 4 [Option ID = 13520]

28)

Who identified king 'Piyadasi' as Mauryan king Ashoka based on the Pali texts?

1. George Turnour
2. Charles Wilkins
3. James Prinsep
4. Charles Masson

किसने मौर्य राजा अशोक को पाली स्तोत्रों के आधार पर 'राजा पियदसि' से समीकृत किया ?

1. जार्ज टर्नर
2. चार्ल्स विल्किंस
3. जेम्स प्रिंसेप
4. चार्ल्स मसून

[Question ID = 3381][Question Description = 128\_10\_ARC\_SEP22\_S2\_Q28]

1. 1 [Option ID = 13521]
2. 2 [Option ID = 13522]
3. 3 [Option ID = 13523]
4. 4 [Option ID = 13524]

29)

Mix metal 'Billon' type coins is an alloy of

1. Silver and Gold
2. Silver and Copper
3. Silver and Lead
4. Silver and Tin

मिश्र धातु 'बिलन' प्रकार के सिक्के किसके अपरूप हैं

1. चाँदी और सोने के
2. चाँदी और ताम्र के
3. चाँदी और शीशे के
4. चाँदी और टिन के

[Question ID = 3382][Question Description = 129\_10\_ARC\_SEP22\_S2\_Q29]

1. 1 [Option ID = 13525]
2. 2 [Option ID = 13526]
3. 3 [Option ID = 13527]
4. 4 [Option ID = 13528]

30)

Which of the following inscriptions refer to the names of Kalidasa and Bharavi?

1. Allahabad inscription
2. Hathigumpha inscription
3. Besnagar inscription
4. Aihole inscription

निम्नलिखित में से कौन-सा कालिदास और भारवी के नामों से संबंधित है ?

1. इलाहाबाद अभिलेख
2. हाथीगुम्फा अभिलेख
3. बेसनगर अभिलेख
4. ऐहोल अभिलेख

[Question ID = 3383][Question Description = 130\_10\_ARC\_SEP22\_S2\_Q30]

1. 1 [Option ID = 13529]
2. 2 [Option ID = 13530]
3. 3 [Option ID = 13531]
4. 4 [Option ID = 13532]

31) Which of the following dynasties did not issue any coin?

1. Gupta
2. Somavamshi
3. Sarabhapuriya
4. Kalachuri

निम्नलिखित में से किस राजवंश द्वारा कोई सिक्का जारी नहीं किया गया ?

1. गुप्ता
2. सोमवंशी
3. सरभपुरी
4. कलचुरी

[Question ID = 3384][Question Description = 131\_10\_ARC\_SEP22\_S2\_Q31]

1. 1 [Option ID = 13533]
2. 2 [Option ID = 13534]
3. 3 [Option ID = 13535]
4. 4 [Option ID = 13536]

32)

The Abhisheka-Lakshmi motif appears on the coins of

1. Demetrius
2. Azes - I
3. Agathocleus
4. Azilises

कौन से सिक्कों पर अभिषेक-लक्ष्मी की आकृति दिखाई देती है -

1. डेमिट्रियस
2. एजेज -I
3. अगाथाक्लीज
4. एजीलिसस

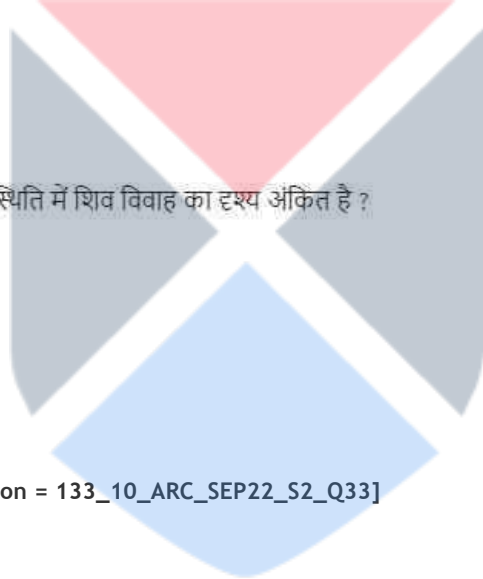
[Question ID = 3385][Question Description = 132\_10\_ARC\_SEP22\_S2\_Q32]

1. 1 [Option ID = 13537]
2. 2 [Option ID = 13538]
3. 3 [Option ID = 13539]
4. 4 [Option ID = 13540]

33)

Which of the following temples depicts the scene of marriage of Shiva in the presence of Ganesha?

1. Mukteshwara
2. Parashurameshwara
3. Bharateshwara
4. Lingaraja



निम्नलिखित मंदिरों में से किसमें गणेश की उपस्थिति में शिव विवाह का दृश्य अंकित है ?

1. मुक्तेश्वर
2. परशुरामेश्वर
3. भरतेश्वर
4. लिंगराज

[Question ID = 3386][Question Description = 133\_10\_ARC\_SEP22\_S2\_Q33]

1. 1 [Option ID = 13541]
2. 2 [Option ID = 13542]
3. 3 [Option ID = 13543]
4. 4 [Option ID = 13544]

34)

According to the Jaina Shwetambar tradition, which of the following tirthankara was a female?

1. Shantinatha
2. Mallinatha
3. Neminatha
4. Chandraprabhanath

जैन श्वेताम्बर परंपरा के अनुसार निम्नलिखित में से कौन स्त्री तीर्थंकर थीं ?

1. शान्तिनाथ
2. मल्लिनाथ
3. नेमिनाथ
4. चंद्रप्रभानाथ



[Question ID = 3387][Question Description = 134\_10\_ARC\_SEP22\_S2\_Q34]

- 1 [Option ID = 13545]
- 2 [Option ID = 13546]
- 3 [Option ID = 13547]
- 4 [Option ID = 13548]

35)

Which of the following is the first long inscription in Sanskrit in the Indian sub-continent?

1. Rudradaman's Junagarh Inscription
2. Samudragupta's Allahabad Inscription
3. Nanaghat Inscription
4. Nasik Inscription

भारतीय उप-महाद्वीप में निम्नलिखित में से कौन संस्कृत में लिखा गया प्रथम दीर्घ अभिलेख है ?

1. रुद्रदमन का जूनागढ़ अभिलेख
2. समुद्रगुप्त का इलाहाबाद अभिलेख
3. नानाघाट अभिलेख
4. नासिक अभिलेख

[Question ID = 3388][Question Description = 135\_10\_ARC\_SEP22\_S2\_Q35]

- 1 [Option ID = 13549]
- 2 [Option ID = 13550]
- 3 [Option ID = 13551]
- 4 [Option ID = 13552]

36)

The Vaikuntha sculpture from Mathura has faces representing

1. Vishnu, Narasimha, Matsya
2. Vishnu, Varaha, Matsya
3. Vishnu, Narasimha, Varaha
4. Vishnu, Vamana, Varaha

मथुरा की वैकुंठ प्रतिमा में किस-किसका चेहरा दिखाई पड़ता है -

1. विष्णु, नरसिंह, मत्स्य
2. विष्णु, वराह, मत्स्य
3. विष्णु, नरसिंह, वराह
4. विष्णु, वामन, वराह

[Question ID = 3389][Question Description = 136\_10\_ARC\_SEP22\_S2\_Q36]

- 1 [Option ID = 13553]
- 2 [Option ID = 13554]
- 3 [Option ID = 13555]
- 4 [Option ID = 13556]

37)

The Chennakeshava temple at Belur was built in the year

1. 1114 AD
2. 1115 AD
3. 1117 AD
4. 1119 AD

बेल्लूर स्थित चेत्रकेशव मंदिर किस वर्ष निर्मित किया गया -

1. 1114 ईस्वी
2. 1115 ईस्वी
3. 1117 ईस्वी
4. 1119 ईस्वी

[Question ID = 3390][Question Description = 137\_10\_ARC\_SEP22\_S2\_Q37]

1. 1 [Option ID = 13557]
2. 2 [Option ID = 13558]
3. 3 [Option ID = 13559]
4. 4 [Option ID = 13560]

38) The earliest examples of Jaina paintings in south India are found in

1. Panamallai
2. Tiruparutikundram
3. Sittanavasal
4. Kanchipuram

दक्षिण भारत में जैन चित्रकारी के आरंभिक उदाहरण कहाँ पाए गए हैं :-

1. पन्नामलाई
2. तिरुपरुतिकुंदरम
3. सित्तनवासल
4. कांचीपुरम

[Question ID = 3391][Question Description = 138\_10\_ARC\_SEP22\_S2\_Q38]

1. 1 [Option ID = 13561]
2. 2 [Option ID = 13562]
3. 3 [Option ID = 13563]
4. 4 [Option ID = 13564]

39) Pick the odd one out :

1. APA
2. MLA
3. TURABIAN
4. SCHOLAR

इनमें से कौन सबसे अलग है :

1. ए पी ए
2. एम एल ए
3. टूराबियन
4. स्कॉलर

[Question ID = 3392][Question Description = 139\_10\_ARC\_SEP22\_S2\_Q39]

1. 1 [Option ID = 13565]
2. 2 [Option ID = 13566]
3. 3 [Option ID = 13567]
4. 4 [Option ID = 13568]

40) MLA stands for \_\_\_\_\_ in reference style.

1. Modern Library Association
2. Modern Language Association
3. Modern Linguistic Association
4. Modern Liberal Association

किस संदर्भ पद्धति के लिए एम. एल. ए. का प्रयोग किया जाता है ?

1. मॉडर्न लाइब्रेरी एसोसिएशन
2. मॉडर्न लैंग्वेज एसोसिएशन
3. मॉडर्न लिंक्विस्टिक एसोसिएशन
4. मॉडर्न लिबरल एसोसिएशन

[Question ID = 3393][Question Description = 140\_10\_ARC\_SEP22\_S2\_Q40]

1. 1 [Option ID = 13569]
2. 2 [Option ID = 13570]
3. 3 [Option ID = 13571]
4. 4 [Option ID = 13572]

41)

Which of the following Princely states established their own departments of archaeology during 1900-1920s?

- A. Gwalior
- B. Jind
- C. Hyderabad
- D. Jaipur

Choose the **correct** answer from the options given below:

1. A, B and C only
2. A, B and D only
3. B and D only
4. A, C and D only

1900 से 1920 के (दरम्यान) मध्य किन देशी रियासतों ने अपने राज्य में अपना पुरातत्व विभाग स्थापित किया ?

- A. ग्वालियर
- B. जींद
- C. हैदराबाद
- D. जयपुर

नीचे दिए गए विकल्पों में से सही उत्तर चुनें :

- 1. केवल A, B और C
- 2. केवल A, B और D
- 3. केवल B और D
- 4. केवल A, C और D

[Question ID = 3394][Question Description = 141\_10\_ARC\_SEP22\_S2\_Q41]

- 1. 1 [Option ID = 13573]
- 2. 2 [Option ID = 13574]
- 3. 3 [Option ID = 13575]
- 4. 4 [Option ID = 13576]


42)

The Sanghao cave is stratigraphically related to the following period/s:

- A. Lower Palaeolithic
- B. Middle Palaeolithic
- C. Upper Palaeolithic
- D. Mesolithic

Choose the **correct** answer from the options given below:

- 1. A and B only
- 2. B and C only
- 3. A and C only
- 4. B and D only



निम्नलिखित में किस स्तरानुक्रम से संघावो गुफा संबंधित है ?

- A. निम्न पुरापाषाणकाल
- B. मध्य पुरा पाषाण काल
- C. उच्च पुरापाषाण काल
- D. मध्य पाषाण काल

नीचे दिए गए विकल्पों में से सही उत्तर चुनें :

- 1. केवल A और B
- 2. केवल B और C
- 3. केवल A और C
- 4. केवल B और D

[Question ID = 3395][Question Description = 142\_10\_ARC\_SEP22\_S2\_Q42]

- 1. 1 [Option ID = 13577]
- 2. 2 [Option ID = 13578]
- 3. 3 [Option ID = 13579]
- 4. 4 [Option ID = 13580]


43)

In which of the following periods, the modern genre of animals appeared?

- A. Cretaceous
- B. Tertiary
- C. Jurassic
- D. Quaternary

Choose the **correct** answer from the options given below:

- 1. A and B only
- 2. A and C only
- 3. B and D only
- 4. B and C only



निम्नलिखित में से कौन सा युग आधुनिक पशुवंश को संदर्भित करता है ?

- A. क्रीटेशियस
- B. तृतीयक
- C. जुरैसिक
- D. चतुर्थक

नीचे दिए गए विकल्पों में से सही उत्तर चुनें :

- 1. केवल A और B
- 2. केवल A और C
- 3. केवल B और D
- 4. केवल B और C

[Question ID = 3396][Question Description = 143\_10\_ARC\_SEP22\_S2\_Q43]

- 1. 1 [Option ID = 13581]
- 2. 2 [Option ID = 13582]
- 3. 3 [Option ID = 13583]
- 4. 4 [Option ID = 13584]

44)

The Pleistocene formation from the Middle Son Valley includes the following;

- A. Jayal
- B. Sihawal
- C. Patpara
- D. Baghor

Choose the **correct** answer from the options given below:

- 1. A, B and C only
- 2. B, C and D only
- 3. A, B and D only
- 4. A, C and D only



मध्य सोन घाटी का प्रातिनूतन युगीन सांस्कृतिक जमाव निम्नलिखित को संदर्भित करता है

- A. जायल
- B. सिहावल
- C. पटपरा
- D. बघोर

नीचे दिए गए विकल्पों में से सही उत्तर चुनें :

- 1. केवल A, B और C
- 2. केवल B, C और D
- 3. केवल A, B और D
- 4. केवल A, C और D

[Question ID = 3397][Question Description = 144\_10\_ARC\_SEP22\_S2\_Q44]

- 1. 1 [Option ID = 13585]
- 2. 2 [Option ID = 13586]
- 3. 3 [Option ID = 13587]
- 4. 4 [Option ID = 13588]

45)

Which of the following scholars are associated with prehistoric research?

- A. R. P. Pandey
- B. K. Paddayya
- C. A. K. Dubey
- D. J. N. Pal

Choose the **correct** answer from the options given below:

- 1. A, B and C only
- 2. A, C and D only
- 3. B and C only
- 4. A, B and D only



निम्नलिखित में से कौन विद्वान प्रागैतिहासिक शोध अध्ययन से सम्बद्ध है ?

- A. आर. पी. पांडेय
- B. के. पट्टैया
- C. ए. के. दुबे
- D. जे. एन. पाल

नीचे दिए गए विकल्पों में से सही उत्तर चुनें :

- 1. केवल A, B और C
- 2. केवल A, C और D
- 3. केवल B और C
- 4. केवल A, B और D

[Question ID = 3398][Question Description = 145\_10\_ARC\_SEP22\_S2\_Q45]

- 1. 1 [Option ID = 13589]
- 2. 2 [Option ID = 13590]
- 3. 3 [Option ID = 13591]
- 4. 4 [Option ID = 13592]


46)

Hominid/Human fossils have been found from

- A. Hathnora
- B. Bagor
- C. Odai
- D. Langhnaj

Choose the **correct** answer from the options given below:

- 1. A, B and C only
- 2. A and B only
- 3. A and C only
- 4. C and D only





आदिम मानव के जीवाश्म प्राप्त हुए हैं

- A. हथनोरा
- B. बागोर
- C. उदाई
- D. लंघनाज

नीचे दिए गए विकल्पों में से सही उत्तर चुनें :

- 1. केवल A, B और C
- 2. केवल A और B
- 3. केवल A और C
- 4. केवल C और D

[Question ID = 3399][Question Description = 146\_10\_ARC\_SEP22\_S2\_Q46]

- 1. 1 [Option ID = 13593]
- 2. 2 [Option ID = 13594]
- 3. 3 [Option ID = 13595]
- 4. 4 [Option ID = 13596]

47)

The geological profile of prehistory in the Deccan includes the following:

- A. Bori Formation
- B. Shivalik Formation
- C. Chandrapuri Formation
- D. Godavari Formation

Choose the **correct** answer from the options given below:

- 1. A, B and C only
- 2. A, C and D only
- 3. A, B and D only
- 4. A and D only



दकन का प्रागितिहास निम्नलिखित भूगर्भीय धरातल से संदर्भित है :

- A. बोरी जमाव
- B. शिवालिक जमाव
- C. चंद्रपुरी जमाव
- D. गोदावरी जमाव

नीचे दिए गए विकल्पों में से सही उत्तर चुनें :

- 1. केवल A, B और C
- 2. केवल A, C और D
- 3. केवल A, B और D
- 4. केवल A और D

[Question ID = 3400][Question Description = 147\_10\_ARC\_SEP22\_S2\_Q47]

- 1. 1 [Option ID = 13597]
- 2. 2 [Option ID = 13598]
- 3. 3 [Option ID = 13599]
- 4. 4 [Option ID = 13600]


48)

The fire altars are reported from

- A. Dholavira
- B. Kalibangan
- C. Lothal
- D. Kuntasi

Choose the **correct** answer from the options given below:

- 1. A and B only
- 2. A, B and C only
- 3. B and C only
- 4. B and D only



'अग्निवेदिका' प्रतिवेदित है :

- A. धौलावीरा
- B. कालीबंगा
- C. लोधल
- D. कुन्तासी

नीचे दिए गए विकल्पों में से सही उत्तर चुनें :

- 1. केवल A और B
- 2. केवल A, B और C
- 3. केवल B और C
- 4. केवल B और D

[Question ID = 3401][Question Description = 148\_10\_ARC\_SEP22\_S2\_Q48]

- 1. 1 [Option ID = 13601]
- 2. 2 [Option ID = 13602]
- 3. 3 [Option ID = 13603]
- 4. 4 [Option ID = 13604]

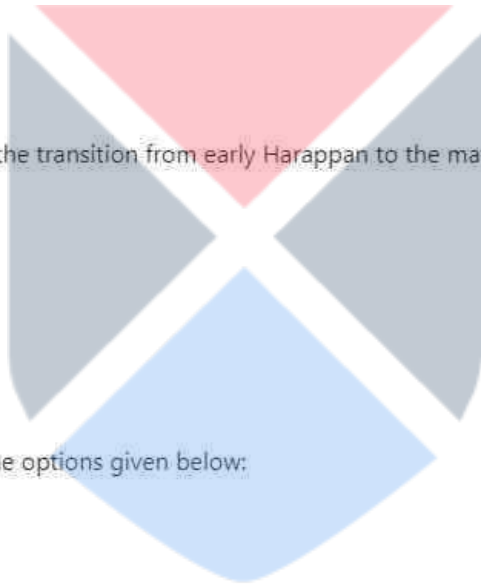
49)

Which of the following sites show the transition from early Harappan to the mature Harappan?

- A. Kunal
- B. Kalibangan
- C. Dholavira
- D. Harappa

Choose the **correct** answer from the options given below:

- 1. A, B and C only
- 2. A, B and D only
- 3. B and C only
- 4. A, C and D only



निम्नलिखित में से कौन सा/से पुरास्थल आद्य हड़प्पीय से हड़प्पीय काल को संदर्भित करते हैं ?

- A. कुणाल
- B. कालीबंगा
- C. धौलावीरा
- D. हड़प्पा

नीचे दिए गए विकल्पों में से सही उत्तर चुनें :

- 1. केवल A, B और C
- 2. केवल A, B और D
- 3. केवल B और C
- 4. केवल A, C और D

[Question ID = 3402][Question Description = 149\_10\_ARC\_SEP22\_S2\_Q49]

- 1. 1 [Option ID = 13605]
- 2. 2 [Option ID = 13606]
- 3. 3 [Option ID = 13607]
- 4. 4 [Option ID = 13608]


50)

Which of the following tools are part of "Copper Hoard" culture?

- A. Ring
- B. Harpoon
- C. Bar celt
- D. Sickle

Choose the **correct** answer from the options given below:

- 1. A, B and C only
- 2. A and B only
- 3. A, C and D only
- 4. A and D only



निम्नलिखित में "ताम्रनिधि संस्कृति" के उपकरण कौन से हैं ?

- A. कड़ा / छल्ला
- B. मत्स्य भाला
- C. रवन्ती सब्बर
- D. हँसिया

नीचे दिए गए विकल्पों में से सही उत्तर चुनें :

- 1. केवल A, B और C
- 2. केवल A और B
- 3. केवल A, C और D
- 4. केवल A और D

[Question ID = 3403][Question Description = 150\_10\_ARC\_SEP22\_S2\_Q50]

- 1. 1 [Option ID = 13609]
- 2. 2 [Option ID = 13610]
- 3. 3 [Option ID = 13611]
- 4. 4 [Option ID = 13612]


51)

Which of the following Harappan sites revealed the evidences of cemetery?

- A. Kunal
- B. Girawar
- C. Sannauli
- D. Farmana

Choose the **correct** answer from the options given below:

- 1. A, B and C only
- 2. A and B only
- 3. A and C only
- 4. C and D only



निम्नलिखित में से किन हड़प्पीय पुरस्थली से शवाधान के प्रमाण प्राप्त हुए हैं?

- A. कुणाल
- B. गिरावड़
- C. सनौली
- D. फरमाना

नीचे दिए गए विकल्पों में से सही उत्तर चुनें :

- 1. केवल A, B और C
- 2. केवल A और B
- 3. केवल A और C
- 4. केवल C और D

[Question ID = 3404][Question Description = 151\_10\_ARC\_SEP22\_S2\_Q51]

- 1. 1 [Option ID = 13613]
- 2. 2 [Option ID = 13614]
- 3. 3 [Option ID = 13615]
- 4. 4 [Option ID = 13616]

52)

Which of the following megalithic sites are located in Karnataka?

- A. Brahmagiri
- B. Arikamedu
- C. Budihal
- D. Maski

Choose the **correct** answer from the options given below:

- 1. A, B and C only
- 2. A, C and D only
- 3. A and C only
- 4. A and D only



निम्नलिखित में से कौन से महापाषाणिक पुरास्थल कर्नाटक में अवस्थित हैं ?

- A. ब्रह्मगिरि
- B. अरिकामेडु
- C. बुरिहाल
- D. मास्की

नीचे दिए गए विकल्पों में से सही उत्तर चुनें :

- 1. केवल A, B और C
- 2. केवल A, C और D
- 3. केवल A और C
- 4. केवल A और D

[Question ID = 3405][Question Description = 152\_10\_ARC\_SEP22\_S2\_Q52]

- 1. 1 [Option ID = 13617]
- 2. 2 [Option ID = 13618]
- 3. 3 [Option ID = 13619]
- 4. 4 [Option ID = 13620]


53)

Which of the following were the sanitary arrangements of NBPW culture?

- A. Ring wells
- B. Dumps
- C. Drainage
- D. Soakage Jars

Choose the **correct** answer from the options given below:

- 1. A and B only
- 2. A and C only
- 3. B and C only
- 4. A and D only



एन.बी.पी.डब्ल्यू संस्कृति की मल विसर्जन व्यवस्था से संदर्भित है :

- A. छल्लेदार कूप
- B. क्षेपण
- C. नाली (ड्रेनेज)
- D. सोखता गडदे

नीचे दिए गए विकल्पों में से सही उत्तर चुनें :

- 1. केवल A और B
- 2. केवल A और C
- 3. केवल B और C
- 4. केवल A और D

[Question ID = 3406][Question Description = 153\_10\_ARC\_SEP22\_S2\_Q53]

- 1. 1 [Option ID = 13621]
- 2. 2 [Option ID = 13622]
- 3. 3 [Option ID = 13623]
- 4. 4 [Option ID = 13624]

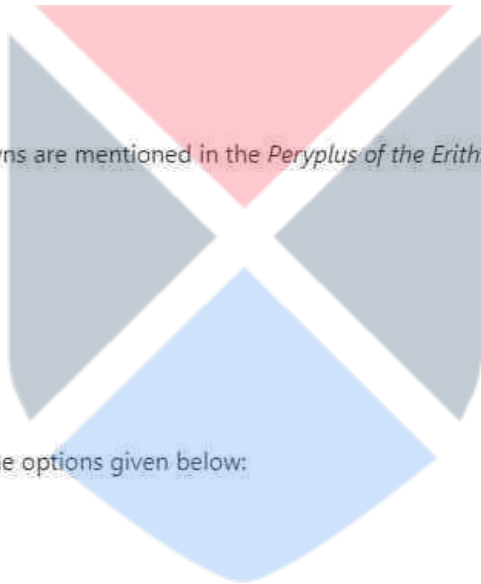
54)

Which of the following market-towns are mentioned in the *Peryplus of the Erythrean Sea*?

- A. Paithan
- B. Ter
- C. Kalyan
- D. Pushkalawati

Choose the **correct** answer from the options given below:

- 1. A, B and D only
- 2. B and C only
- 3. A, B and C only
- 4. A and C only



पेरिप्लस ऑफ दि एरिथ्रियन सी में निम्नलिखित में से कौन-सा बाजार-नगर स्थित था ?

- A. पैठान
- B. टेर
- C. कल्याण (कलियान)
- D. पुष्कलावती

नीचे दिए गए विकल्पों में से सही उत्तर चुनें :

- 1. केवल A, B और D
- 2. केवल B और C
- 3. केवल A, B और C
- 4. केवल A और C



[Question ID = 3407][Question Description = 154\_10\_ARC\_SEP22\_S2\_Q54]

1. 1 [Option ID = 13625]
2. 2 [Option ID = 13626]
3. 3 [Option ID = 13627]
4. 4 [Option ID = 13628]

55)

According to Stella Kramrisch, the Sadashiva image of Elephanta depicts the forms of Shiva as

- A. Aghora
- B. Vamadeva
- C. Sadyojata
- D. Chandrashekhar

Choose the **correct** answer from the options given below:

1. A, B and C only
2. A, B and D only
3. B and C only
4. A and B only



स्टेला क्रैमरिश के अनुसार एलिफेंटा की सदाशिव प्रतिमा शिव के किन स्वरूपों का प्रतिनिधित्व करती है

- A. अघोर
- B. वामदेव
- C. सद्योजात
- D. चन्द्रशेखर

नीचे दिए गए विकल्पों में से सही उत्तर चुनें :

1. केवल A, B और C
2. केवल A, B और D
3. केवल B और C
4. केवल A और B

[Question ID = 3408][Question Description = 155\_10\_ARC\_SEP22\_S2\_Q55]

1. 1 [Option ID = 13629]
2. 2 [Option ID = 13630]
3. 3 [Option ID = 13631]
4. 4 [Option ID = 13632]

56)

Which of the following books are authored by B. and R. Allchin?

A. *Birth of Indian Civilization*

B. *Rise of Civilization in India and Pakistan*

C. *Indus Civilization Sites in India : New Discoveries*

D. *Indus-Saraswati Civilization*

Choose the **correct** answer from the options given below:

1. A and B only
2. A and C only
3. A and D only
4. B and C only

निम्नलिखित में से कौन-कौन सी पुस्तक बी. और आर. अल्चिन द्वारा लिखित हैं ?

- A. दि बर्थ ऑफ इंडियन सिविलाइजेशन
- B. दि राइज ऑफ सिविलाइजेशन इन इंडिया एण्ड पकिस्तान
- C. इंडस सिविलाइजेशन साइट्स इन इंडिया:न्यू डिस्कवरीज
- D. दि इंडस-सरस्वती सिविलाइजेशन

नीचे दिए गए विकल्पों में से सही उत्तर चुनें :

1. केवल A और B
2. केवल A और C
3. केवल A और D
4. केवल B और C

[Question ID = 3409][Question Description = 156\_10\_ARC\_SEP22\_S2\_Q56]

1. 1 [Option ID = 13633]
2. 2 [Option ID = 13634]
3. 3 [Option ID = 13635]
4. 4 [Option ID = 13636]

57)

The four lion capital in Ashokan pillar are seen at

- A. Sanchi
- B. Sarnath
- C. Rampurva
- D. Bakhira

Choose the **correct** answer from the options given below:

- 1. A and B only
- 2. A and C only
- 3. A, B and C only
- 4. A, B and D only

चतुः सिंहस्थ शीर्ष अशोक के किन स्तंभों पर प्राप्त होते हैं ?

- A. साँची
- B. सारनाथ
- C. रामपुरवा
- D. बखीरा

नीचे दिए गए विकल्पों में से सही उत्तर चुनें :

- 1. केवल A और B
- 2. केवल A और C
- 3. केवल A, B और C
- 4. केवल A, B और D



[Question ID = 3410][Question Description = 157\_10\_ARC\_SEP22\_S2\_Q57]

- 1. 1 [Option ID = 13637]
- 2. 2 [Option ID = 13638]
- 3. 3 [Option ID = 13639]
- 4. 4 [Option ID = 13640]

58)

The Mahabalipuram Shore temple comprises of following shrines:

- A. Talagiriswara
- B. Kshatriyasimheshwara
- C. Rajasimheshwara
- D. Narapatisimhapallava Vishnugriha

Choose the **correct** answer from the options given below:

- 1. A, B and C only
- 2. B, C and D only
- 3. A, B and D only
- 4. A, C and D only

महाबलीपुरम का शोर मंदिर निम्नलिखित अवयव को संदर्भित करता है :-

- A. तालगिरीश्वर
- B. क्षत्रियसिद्धेश्वर
- C. राजसिंहेश्वर
- D. नरपति सिंह पल्लव विष्णुगृह

नीचे दिए गए विकल्पों में से सही उत्तर चुनें :

- 1. केवल A, B और C
- 2. केवल B, C और D
- 3. केवल A, B और D
- 4. केवल A, C और D



[Question ID = 3411][Question Description = 158\_10\_ARC\_SEP22\_S2\_Q58]

- 1. 1 [Option ID = 13641]
- 2. 2 [Option ID = 13642]
- 3. 3 [Option ID = 13643]
- 4. 4 [Option ID = 13644]

59)

The Mediterranean Amphora and Terra sigillata have been reported from

- A. Arikamedu
- B. Kanchipuram
- C. Uraiyur
- D. Rajaghat

Choose the **correct** answer from the options given below:

- 1. A, B and C only
- 2. A and B only
- 3. A and C only
- 4. B and C only

भूमध्य सागरीय एम्फोरा और टेरा सिगिलटा प्राप्त हुए हैं :

- A. अरिकामेडु
- B. काँचीपुरम
- C. उरमूर (उरैयूर)
- D. राजघाट

नीचे दिए गए विकल्पों में से सही उत्तर चुनें :

- 1. केवल A, B और C
- 2. केवल A और B
- 3. केवल A और C
- 4. केवल B और C



[Question ID = 3412][Question Description = 159\_10\_ARC\_SEP22\_S2\_Q59]

- 1. 1 [Option ID = 13645]
- 2. 2 [Option ID = 13646]
- 3. 3 [Option ID = 13647]
- 4. 4 [Option ID = 13648]

60)

The temples at Khajuraho are made of

- A. Sandstone
- B. Limestone
- C. Marble
- D. Granite

Choose the **correct** answer from the options given below:

- 1. A, B and C only
- 2. A and B only
- 3. A and C only
- 4. A and D only

खजुराहो के मंदिर निर्मित हैं :-

- A. बलुआ पत्थर
- B. चूना पत्थर
- C. संगमरमर
- D. ग्रेनाइट

नीचे दिए गए विकल्पों में से सही उत्तर चुनें :

- 1. केवल A, B और C
- 2. केवल A और B
- 3. केवल A और C
- 4. केवल A और D



[Question ID = 3413][Question Description = 160\_10\_ARC\_SEP22\_S2\_Q60]

- 1. 1 [Option ID = 13649]
- 2. 2 [Option ID = 13650]
- 3. 3 [Option ID = 13651]
- 4. 4 [Option ID = 13652]

61)

Which of the following temples were built at Pattadakal by the queens of Vikramaditya-II to commemorate his victory against the Pallavas?

- A. Virupaksha
- B. Mallikarjuna
- C. Sangameshwara
- D. Papanatha

Choose the **correct** answer from the options given below:

- 1. A and B only
- 2. A and C only
- 3. A and D only
- 4. B and C only

पट्टदकल में विक्रमादित्य द्वितीय की रानी के द्वारा पल्लवों पर उनकी जीत के स्मारक के रूप में निम्नलिखित में से कौन-कौन से मंदिर बनवाये गए थे ?

- A. विरुपाक्ष
- B. मल्लिकार्जुन
- C. संगमेश्वर
- D. पापनाथ

नीचे दिए गए विकल्पों में से सही उत्तर चुनें :

- 1. केवल A और B
- 2. केवल A और C
- 3. केवल A और D
- 4. केवल B और C



[Question ID = 3414][Question Description = 161\_10\_ARC\_SEP22\_S2\_Q61]

- 1. 1 [Option ID = 13653]
- 2. 2 [Option ID = 13654]
- 3. 3 [Option ID = 13655]
- 4. 4 [Option ID = 13656]

62)

Mir Zakah hoard consisted the coins of the following rulers:

- A. Graeco-Bactrian
- B. Indo-Greek
- C. Kushana
- D. Imperial Gupta

Choose the **correct** answer from the options given below:

- 1. A, B and C only
- 2. A, C and D only
- 3. B and C only
- 4. B and D only

मीर जाका निधि से निम्नलिखित में से किन शासकों के सिक्के प्राप्त हुए हैं :-

- A. ग्रीको-बैक्ट्रियन
- B. इंडो-ग्रीक
- C. कुषाण
- D. गुप्त शासकों

नीचे दिए गए विकल्पों में से सही उत्तर चुनें :

- 1. केवल A, B और C
- 2. केवल A, C और D
- 3. केवल B और C
- 4. केवल B और D



[Question ID = 3415][Question Description = 162\_10\_ARC\_SEP22\_S2\_Q62]

- 1. 1 [Option ID = 13657]
- 2. 2 [Option ID = 13658]
- 3. 3 [Option ID = 13659]
- 4. 4 [Option ID = 13660]



63)

Which of the following 64 Yogini temples are located in Odisha?

- A. Bheraghat
- B. Lalitpur
- C. Hirapur
- D. Ranipur Jharria

Choose the **correct** answer from the options given below:

- 1. A, B and C only
- 2. A and B only
- 3. C and D only
- 4. A and D only

निम्नलिखित में से कौन-से 64-योगिनी मंदिर ओडिशा में स्थित हैं ?

- A. भेड़ा घाट
- B. ललितपुर
- C. हीरापुर
- D. रानीपुर झरिया

नीचे दिए गए विकल्पों में से सही उत्तर चुनें :

- 1. केवल A, B और C
- 2. केवल A और B
- 3. केवल C और D
- 4. केवल A और D



[Question ID = 3416][Question Description = 163\_10\_ARC\_SEP22\_S2\_Q63]

- 1. 1 [Option ID = 13661]
- 2. 2 [Option ID = 13662]
- 3. 3 [Option ID = 13663]
- 4. 4 [Option ID = 13664]

64)

Which of the following sites are located in Maharashtra?

- A. Adam
- B. Tripuri
- C. Mahurjhari
- D. Nikund

Choose the **correct** answer from the options given below:

- 1. A, B and C only
- 2. B and C only
- 3. B and D only
- 4. A, C and D only

निम्नलिखित में से कौन-से पुरास्थल महाराष्ट्र में स्थित हैं ?

- A. अदम
- B. त्रिपुरी
- C. महुरझरि
- D. नायकुंड

नीचे दिए गए विकल्पों में से सही उत्तर चुनें :

- 1. केवल A, B और C
- 2. केवल B और C
- 3. केवल B और D
- 4. केवल A, C और D



[Question ID = 3417][Question Description = 164\_10\_ARC\_SEP22\_S2\_Q64]

- 1. 1 [Option ID = 13665]
- 2. 2 [Option ID = 13666]
- 3. 3 [Option ID = 13667]
- 4. 4 [Option ID = 13668]

65)

The Kushana statues at Mat include

A. Vima Kadphises

B. Kanishka

C. Chastana

D. Huvishka

Choose the **correct** answer from the options given below:

1. A, B and C only
2. A, B and D only
3. A and B only
4. B and C only

माट से निम्न कुषाण मूर्तियाँ प्राप्त हुई हैं :-

A. विम कडफिशोस

B. कनिष्क

C. चष्टण

D. हुविष्क

नीचे दिए गए विकल्पों में से सही उत्तर चुनें :

1. केवल A, B और C
2. केवल A, B और D
3. केवल A और B
4. केवल B और C



[Question ID = 3418][Question Description = 165\_10\_ARC\_SEP22\_S2\_Q65]

1. 1 [Option ID = 13669]
2. 2 [Option ID = 13670]
3. 3 [Option ID = 13671]
4. 4 [Option ID = 13672]

66)

Match **List I** with **List II**

<b>List I</b>	<b>List II</b>
<b>Sites</b>	<b>Nature</b>
A. Golbai	I. Palaeolithic
B. Mahurjhari	II. Early Historical
C. Hunsgi	III. Neolithic
D. Chandraketugarh	IV. Megalithic

Choose the **correct** answer from the options given below:

1. A - I, B - II, C - III, D - IV
2. A - II, B - I, C - IV, D - III
3. A - III, B - IV, C - I, D - II
4. A - III, B - I, C - IV, D - II

सूची -I को सूची -II से सुमेलित कीजिए :

सूची -I	सूची -II
A. गोलबाई	I. पुरा पाषाण काल
B. महुर्झरी	II. प्रारंभिक ऐतिहासिक
C. हुंसगी	III. नव पाषाण काल
D. चन्द्रकेतुगढ़	IV. महापाषाणिक

नीचे दिए गए विकल्पों में से सही उत्तर चुनिए :

1. A - I, B - II, C - III, D - IV
2. A - II, B - I, C - IV, D - III
3. A - III, B - IV, C - I, D - II
4. A - III, B - I, C - IV, D - II

[Question ID = 3419][Question Description = 166\_10\_ARC\_SEP22\_S2\_Q66]

1. 1 [Option ID = 13673]
2. 2 [Option ID = 13674]
3. 3 [Option ID = 13675]
4. 4 [Option ID = 13676]

67)

Match **List I** with **List II**

List I	List II
Dating Method	Material
A. Dendrochronology	I. Volcanic Rock
B. Carbon-14	II. Terracotta
C. TL Dating	III. Organic material
D. K-Ar Dating	IV. Timber

Choose the **correct** answer from the options given below:

1. A - I, B - II, C - III, D - IV
2. A - IV, B - I, C - III, D - II
3. A - IV, B - II, C - I, D - III
4. A - IV, B - III, C - II, D - I

सूची -I को सूची -II से सुमेलित कीजिए :

सूची -I	सूची -II
A. वृक्ष वलय परीक्षण	I. ज्वालामुखी चट्टान
B. कार्बन-14	II. मृण्मय
C. टी.एल तिथि निर्धारण	III. जैविक अवशेष
D. पोटेसियम-आर्गन तिथि निर्धारण विधि	IV. लकड़ी

नीचे दिए गए विकल्पों में से सही उत्तर चुनिए :

1. A - I, B - II, C - III, D - IV
2. A - IV, B - I, C - III, D - II
3. A - IV, B - II, C - I, D - III
4. A - IV, B - III, C - II, D - I

[Question ID = 3420][Question Description = 167\_10\_ARC\_SEP22\_S2\_Q67]

1. 1 [Option ID = 13677]
2. 2 [Option ID = 13678]
3. 3 [Option ID = 13679]
4. 4 [Option ID = 13680]

68)

Match **List I** with **List II**

List I	List II
Type	Example
A. Artifact	I. Lapidary
B. Ecofact	II. Skeleton
C. Feature	III. Coin
D. Industry	IV. Hearth

Choose the **correct** answer from the options given below:

1. A - I, B - II, C - III, D - IV
2. A - IV, B - I, C - II, D - III
3. A - III, B - II, C - IV, D - I
4. A - II, B - IV, C - I, D - III

सूची -I को सूची -II से सुमेलित कीजिए :

सूची -I	सूची -II
A. मानव कृति	I. मनका
B. पारिस्थितिक तथ्य	II. कंकाल
C. लक्षण	III. सिक्के
D. उद्योग	IV. चूल्हा

नीचे दिए गए विकल्पों में से सही उत्तर चुनिए :

1. A - I, B - II, C - III, D - IV
2. A - IV, B - I, C - II, D - III
3. A - III, B - II, C - IV, D - I
4. A - II, B - IV, C - I, D - III

[Question ID = 3421][Question Description = 168\_10\_ARC\_SEP22\_S2\_Q68]

1. 1 [Option ID = 13681]
2. 2 [Option ID = 13682]
3. 3 [Option ID = 13683]
4. 4 [Option ID = 13684]

69)

Match **List I** with **List II**

List I	List II
<b>Site</b>	<b>Excavator</b>
A. Kuchai	I. R. E. M. Wheeler
B. Kausambi	II. A. Nath
C. Adam	III. B. K. Thapar
D. Arikamedu	IV. G.R. Sharma

Choose the **correct** answer from the options given below:

1. A - I, B - II, C - III, D - IV
2. A - III, B - I, C - II, D - IV
3. A - III, B - IV, C - II, D - I
4. A - II, B - III, C - I, D - IV

सूची -I को सूची -II से सुमेलित कीजिए :

सूची -I	सूची -II
A. कुचई	I. आर. ई. एम. व्हीलर
B. कौशाम्बी	II. ए. नाथ
C. अदम	III. बी. के. थापर
D. अरिकामेडु	IV. जी. आर. शर्मा

नीचे दिए गए विकल्पों में से सही उत्तर चुनिए :

1. A - I, B - II, C - III, D - IV
2. A - III, B - I, C - II, D - IV
3. A - III, B - IV, C - II, D - I
4. A - II, B - III, C - I, D - IV

[Question ID = 3422][Question Description = 169\_10\_ARC\_SEP22\_S2\_Q69]

1. 1 [Option ID = 13685]
2. 2 [Option ID = 13686]
3. 3 [Option ID = 13687]
4. 4 [Option ID = 13688]

70)

Match **List I** with **List II**

<b>List I</b>	<b>List II</b>
<b>Site</b>	<b>Culture</b>
A. Bhirrana	I. Late Harappan
B. Bara	II. Mature Harappan
C. Girawar	III. Early Mature Harappan
D. Farmana	IV. Early Harappan

Choose the **correct** answer from the options given below:

1. A - I, B - II, C - III, D - IV
2. A - II, B - III, C - IV, D - I
3. A - III, B - IV, C - I, D - II
4. A - IV, B - I, C - III, D - II

सूची -I को सूची -II से सुमेलित कीजिए :

सूची -I	सूची -II
A. भिरड़ाना	I. परवर्ती हड़प्पा
B. बाड़ा	II. विकसित हड़प्पा
C. गिरावर	III. प्रारंभिक, विकसित हड़प्पा
D. फ़रमाना	IV. प्रारंभिक हड़प्पा

नीचे दिए गए विकल्पों में से सही उत्तर चुनिए :

1. A - I, B - II, C - III, D - IV
2. A - II, B - III, C - IV, D - I
3. A - III, B - IV, C - I, D - II
4. A - IV, B - I, C - III, D - II

[Question ID = 3423][Question Description = 170\_10\_ARC\_SEP22\_S2\_Q70]

1. 1 [Option ID = 13689]
2. 2 [Option ID = 13690]
3. 3 [Option ID = 13691]
4. 4 [Option ID = 13692]



71)

Match **List I** with **List II**

List I	List II
Place	Site
A. Karkabhat	I. Port-site
B. Radhanagar	II. Buddhist site
C. Manikpatna	III. Megalithic site
D. Vajragiri	IV. Early Urban site

Choose the **correct** answer from the options given below:

1. A - I, B - II, C - III, D - IV
2. A - II, B - I, C - III, D - IV
3. A - III, B - IV, C - I, D - II
4. A - IV, B - II, C - I, D - III

सूची -I को सूची -II से सुमेलित कीजिए :

सूची -I	सूची -II
A. करकाभाट	I. पत्तन स्थल
B. राधानगर	II. बुद्ध पुरास्थल
C. मानिक पटना	III. महापाषाणिक पुरास्थल
D. वज्रगिरि	IV. प्रारंभिक नगरीय स्थल

नीचे दिए गए विकल्पों में से सही उत्तर चुनिए :

1. A - I, B - II, C - III, D - IV
2. A - II, B - I, C - III, D - IV
3. A - III, B - IV, C - I, D - II
4. A - IV, B - II, C - I, D - III

[Question ID = 3424][Question Description = 171\_10\_ARC\_SEP22\_S2\_Q71]

1. 1 [Option ID = 13693]
2. 2 [Option ID = 13694]
3. 3 [Option ID = 13695]
4. 4 [Option ID = 13696]

72)

Match **List I** with **List II**

List I	List II
Site	State
A. Sannauli	I. Punjab
B. Rohira	II. Haryana
C. Kunal	III. Karnataka
D. Brahmagiri	IV. Uttar Pradesh

Choose the **correct** answer from the options given below:

1. A - I, B - II, C - III, D - IV
2. A - IV, B - II, C - I, D - III
3. A - II, B - IV, C - I, D - III
4. A - IV, B - I, C - II, D - III

सूची -I को सूची -II से सुमेलित कीजिए :

सूची -I	सूची -II
A. सनौली	I. पंजाब
B. रोहिरा	II. हरियाणा
C. कुणाल	III. कर्नाटक
D. ब्रह्मगिरि	IV. उत्तर प्रदेश

नीचे दिए गए विकल्पों में से सही उत्तर चुनिए :

1. A - I, B - II, C - III, D - IV
2. A - IV, B - II, C - I, D - III
3. A - II, B - IV, C - I, D - III
4. A - IV, B - I, C - II, D - III

[Question ID = 3425][Question Description = 172\_10\_ARC\_SEP22\_S2\_Q72]

1. 1 [Option ID = 13697]
2. 2 [Option ID = 13698]
3. 3 [Option ID = 13699]
4. 4 [Option ID = 13700]

73)

Match **List I** with **List II**

<b>List I</b>	<b>List II</b>
<b>Author</b>	<b>Book</b>
A. D. K. Bhattacharya	I. <i>Early History of India</i>
B. V. A. Smith	II. <i>Ashoka and the Decline of the Mauryans</i>
C. H. C. Raychaudhari	III. <i>Prehistoric Archaeology</i>
D. Romila Thapar	IV. <i>Political History of Ancient India</i>

Choose the **correct** answer from the options given below:

1. A - I, B - II, C - III, D - IV
2. A - III, B - I, C - II, D - IV
3. A - III, B - I, C - IV, D - II
4. A - IV, B - II, C - I, D - III

सूची -I को सूची -II से सुमेलित कीजिए :

सूची -I	सूची -II
A. डी. के. भट्टाचार्य	I. अर्ली हिस्ट्री ऑफ इंडिया
B. वी. ए. स्मिथ	II. अशोका एण्ड द डेक्लाइन ऑफ द मौर्यस
C. एच. सी. रायचौधरी	III. प्रीहिस्टारिक आर्कियोलजी
D. रोमिला थापर	IV. पॉलिटिकल हिस्ट्री ऑफ एंशियन्ट इण्डिया

नीचे दिए गए विकल्पों में से सही उत्तर चुनिए :

1. A - I, B - II, C - III, D - IV
2. A - III, B - I, C - II, D - IV
3. A - III, B - I, C - IV, D - II
4. A - IV, B - II, C - I, D - III

[Question ID = 3426][Question Description = 173\_10\_ARC\_SEP22\_S2\_Q73]

1. 1 [Option ID = 13701]
2. 2 [Option ID = 13702]
3. 3 [Option ID = 13703]
4. 4 [Option ID = 13704]

74)

Match **List I** with **List II**

<b>List I</b>	<b>List II</b>
<b>Author</b>	<b>Book</b>
A. B. Lal	I. <i>Indian Epigraphy</i>
B. D. C. Sircar	II. <i>Earliest Civilization of South-East Asia</i>
C. P. L. Gupta	III. <i>Temples of North India</i>
D. Krishna Deva	IV. <i>Coins</i>

Choose the **correct** answer from the options given below:

1. A - II, B - IV, C - III, D - I
2. A - II, B - I, C - IV, D - III
3. A - I, B - II, C - III, D - IV
4. A - III, B - I, C - IV, D - II

सूची -I को सूची -II से सुमेलित कीजिए :

सूची -I	सूची -II
A. बी.बी.लाल	I. इण्डियन इपीग्राफी
B. डी.सी.सरकार	II. अर्लियेस्ट सिविलाइजेशन ऑफ साउथ-ईस्ट एशिया
C. पी.एल.गुप्ता	III. टेम्पल्स ऑफ नार्थ इण्डिया
D. कृष्ण देव	IV. कॉइन्स

नीचे दिए गए विकल्पों में से सही उत्तर चुनिए :

1. A - II, B - IV, C - III, D - I
2. A - II, B - I, C - IV, D - III
3. A - I, B - II, C - III, D - IV
4. A - III, B - I, C - IV, D - II

[Question ID = 3427][Question Description = 174\_10\_ARC\_SEP22\_S2\_Q74]

1. 1 [Option ID = 13705]
2. 2 [Option ID = 13706]
3. 3 [Option ID = 13707]
4. 4 [Option ID = 13708]

75)

Match **List I** with **List II**

<b>List I</b>	<b>List II</b>
<b>Coin</b>	<b>Site</b>
A. Bent-Bar Coins	I. Khokrakot
B. Gupta Coins	II. Taxila
C. Yaudheya Coins	III. Bayana
D. Satavahana Coins	IV. Jogalthambi

Choose the **correct** answer from the options given below:

1. A - I, B - III, C - II, D - IV
2. A - II, B - III, C - I, D - IV
3. A - I, B - II, C - III, D - IV
4. A - III, B - I, C - II, D - IV

सूची -I को सूची -II से सुमेलित कीजिए :

सूची -I	सूची -II
A. छड़ नुमा सिक्के	I. खोकराकोट
B. गुप्त सिक्के	II. तक्षशिला
C. यौधेय सिक्के	III. बयाना
D. सातवाहन सिक्के	IV. जोगलथम्बी

नीचे दिए गए विकल्पों में से सही उत्तर चुनिए :

1. A - I, B - III, C - II, D - IV
2. A - II, B - III, C - I, D - IV
3. A - I, B - II, C - III, D - IV
4. A - III, B - I, C - II, D - IV

[Question ID = 3428][Question Description = 175\_10\_ARC\_SEP22\_S2\_Q75]

1. 1 [Option ID = 13709]
2. 2 [Option ID = 13710]
3. 3 [Option ID = 13711]
4. 4 [Option ID = 13712]

76)

Re-arrange the following in a chronological order:

- A. Miocene
- B. Holocene
- C. Pliocene
- D. Pleistocene

Choose the **correct** answer from the options given below

- 1. A, B, C, D
- 2. A, D, B, C
- 3. A, C, D, B
- 4. A, C, B, D

निम्नलिखित को कालक्रमानुसार पुनर्व्यवस्थित करें :

- A. मायोसीन
- B. होलोसीन
- C. प्लायोसीन
- D. प्लास्टोसीन

नीचे दिए गए विकल्पों में से सही उत्तर चुनें :

- 1. A, B, C, D
- 2. A, D, B, C
- 3. A, C, D, B
- 4. A, C, B, D



[Question ID = 3429][Question Description = 176\_10\_ARC\_SEP22\_S2\_Q76]

- 1. 1 [Option ID = 13713]
- 2. 2 [Option ID = 13714]
- 3. 3 [Option ID = 13715]
- 4. 4 [Option ID = 13716]

77)

Re-arrange the following archaeological sites in chronological order:

- A. Birbhanpur
- B. Nevasa
- C. Pallavaram
- D. Chirand

Choose the **correct** answer from the options given below

- 1. A, B, C, D
- 2. B, C, A, D
- 3. C, B, A, D
- 4. D, A, B, C

निम्नलिखित पुरास्थलों को कालक्रमानुसार पुनर्व्यवस्थित करें :

- A. बीरभानपुर
- B. नेवासा
- C. पल्लवरम्
- D. चिराँद

नीचे दिए गए विकल्पों में से सही उत्तर चुनें :

- 1. A, B, C, D
- 2. B, C, A, D
- 3. C, B, A, D
- 4. D, A, B, C



[Question ID = 3430][Question Description = 177\_10\_ARC\_SEP22\_S2\_Q77]

- 1. 1 [Option ID = 13717]
- 2. 2 [Option ID = 13718]
- 3. 3 [Option ID = 13719]
- 4. 4 [Option ID = 13720]

78)

Re-arrange the following Director Generals of the Archaeological Survey of India in chronological order:

A. John Marshall

B. A. Ghosh

C. D. R. Sahnî

D. B. B. Lal

Choose the **correct** answer from the options given below

1. A, C, B, D

2. A, B, C, D

3. B, C, A, D

4. C, A, D, B

भारतीय पुरातत्व सर्वेक्षण के निम्नलिखित महानिदेशकों को कालक्रमानुसार पुनर्व्यवस्थित करें

A. जॉन मार्शल

B. ए. घोष

C. डी. आर. साहनी

D. बी. बी. लाल

नीचे दिए गए विकल्पों में से सही उत्तर चुनें :

1. A, C, B, D

2. A, B, C, D

3. B, C, A, D

4. C, A, D, B



[Question ID = 3431][Question Description = 178\_10\_ARC\_SEP22\_S2\_Q78]

1. 1 [Option ID = 13721]

2. 2 [Option ID = 13722]

3. 3 [Option ID = 13723]

4. 4 [Option ID = 13724]



79)

Re-arrange the following archaeological sites in a chronological order;

A. Sirpur

B. Puri

C. Vidisha

D. Sanchi

Choose the **correct** answer from the options given below

1. A, B, C, D

2. A, C, D, B

3. C, B, D, A

4. D, C, A, B

निम्नलिखित पुरास्थलों को उनके कालक्रमानुसार पुनर्व्यवस्थित कीजिये

A. सिरपुर

B. पुरी

C. विदिशा

D. साँची

नीचे दिए गए विकल्पों में से सही उत्तर चुनें :

1. A, B, C, D

2. A, C, D, B

3. C, B, D, A

4. D, C, A, B



[Question ID = 3432][Question Description = 179\_10\_ARC\_SEP22\_S2\_Q79]

1. 1 [Option ID = 13725]

2. 2 [Option ID = 13726]

3. 3 [Option ID = 13727]

4. 4 [Option ID = 13728]

80)

Re-arrange the following monuments in a chronological order:

- A. Bhaja caves
- B. Ajanta caves
- C. Barabar Caves
- D. Ellora Caves

Choose the **correct** answer from the options given below

- 1. A, B, C, D
- 2. A, C, B, D
- 3. C, A, B, D
- 4. C, B, A, D

निम्नलिखित स्मारकों को उनके कालक्रमानुसार व्यवस्थित कीजिये

- A. भाजा गुफाएँ
- B. अजन्ता गुफाएँ
- C. बराबर गुफाएँ
- D. ऐलोरा गुफाएँ

नीचे दिए गए विकल्पों में से सही उत्तर चुनें :

- 1. A, B, C, D
- 2. A, C, B, D
- 3. C, A, B, D
- 4. C, B, A, D



[Question ID = 3433][Question Description = 180\_10\_ARC\_SEP22\_S2\_Q80]

- 1. 1 [Option ID = 13729]
- 2. 2 [Option ID = 13730]
- 3. 3 [Option ID = 13731]
- 4. 4 [Option ID = 13732]

81)

Re-arrange the following temples in a chronological order:

- A. Lakshman Temple
- B. Vaital Temple
- C. Brahmeshwara Temple
- D. Jagannath Temple

Choose the **correct** answer from the options given below

- 1. A, B, C, D
- 2. A, C, B, D
- 3. A, D, B, C
- 4. A, C, D, B

निम्नलिखित मंदिरों को कालक्रमानुसार व्यवस्थित कर सही उत्तर का चयन करें

- A. लक्ष्मण मंदिर
- B. वेताल मंदिर
- C. ब्रह्मेश्वर मंदिर
- D. जगन्नाथ मंदिर

नीचे दिए गए विकल्पों में से सही उत्तर चुनें :

- 1. A, B, C, D
- 2. A, C, B, D
- 3. A, D, B, C
- 4. A, C, D, B



[Question ID = 3434][Question Description = 181\_10\_ARC\_SEP22\_S2\_Q81]

- 1. 1 [Option ID = 13733]
- 2. 2 [Option ID = 13734]
- 3. 3 [Option ID = 13735]
- 4. 4 [Option ID = 13736]

82)

Re-arrange the following Chola temples in a chronological sequence:

- A. Airavateshwara Temple
- B. Sundareshwara Temple
- C. Koranganatha Temple
- D. Brihadeshwara Temple

Choose the **correct** answer from the options given below

- 1. A, B, C, D
- 2. B, C, D, A
- 3. A, B, D, C
- 4. B, A, C, D

निम्नलिखित चोल कालीन मंदिरों को कालक्रमानुसार व्यवस्थित कर सही उत्तर चुनें

- A. ऐरावतेश्वर मंदिर
- B. सुंदरेश्वर मंदिर
- C. कोरंगनाथ मंदिर
- D. बृहदेश्वर मंदिर

नीचे दिए गए विकल्पों में से सही उत्तर चुनें :

- 1. A, B, C, D
- 2. B, C, D, A
- 3. A, B, D, C
- 4. B, A, C, D



[Question ID = 3435][Question Description = 182\_10\_ARC\_SEP22\_S2\_Q82]

- 1. 1 [Option ID = 13737]
- 2. 2 [Option ID = 13738]
- 3. 3 [Option ID = 13739]
- 4. 4 [Option ID = 13740]

83)

Re-arrange the following Buddhist sites in chronological order:

- A. Ajanta
- B. Ratnagiri
- C. Sanchi
- D. Langudi

Choose the **correct** answer from the options given below

- 1. A, B, C, D
- 2. A, C, B, D
- 3. C, A, D, B
- 4. B, D, A, C

निम्नलिखित बौद्ध पुरास्थलों को कालक्रमानुसार व्यवस्थित कर सही उत्तर का चयन करें

- A. अजन्ता
- B. रत्नागिरि
- C. साँची
- D. लांगुड़ी

नीचे दिए गए विकल्पों में से सही उत्तर चुनें :

- 1. A, B, C, D
- 2. A, C, B, D
- 3. C, A, D, B
- 4. B, D, A, C



[Question ID = 3436][Question Description = 183\_10\_ARC\_SEP22\_S2\_Q83]

- 1. 1 [Option ID = 13741]
- 2. 2 [Option ID = 13742]
- 3. 3 [Option ID = 13743]
- 4. 4 [Option ID = 13744]

84)

Re-arrange the following in a chronological order:

- A. Sarnath Buddha
- B. Headless Statue of Kanishka
- C. Didarganj Yakshini
- D. Nataraja Shiva

Choose the **correct** answer from the options given below

- 1. A, C, D, B
- 2. C, B, A, D
- 3. A, B, C, D
- 4. B, A, D, C

निम्नलिखित को कालक्रमानुसार व्यवस्थित कर सही उत्तर को चयनित करें :-

- A. सारनाथ बुद्ध
- B. कनिष्क की मस्तक विहीन मूर्ति
- C. दीदारगंज यक्षी
- D. नटराज शिव

नीचे दिए गए विकल्पों में से सही उत्तर चुनें :

- 1. A, C, D, B
- 2. C, B, A, D
- 3. A, B, C, D
- 4. B, A, D, C

[Question ID = 3437][Question Description = 184\_10\_ARC\_SEP22\_S2\_Q84]

- 1. 1 [Option ID = 13745]
- 2. 2 [Option ID = 13746]
- 3. 3 [Option ID = 13747]
- 4. 4 [Option ID = 13748]



85)

Re-arrange the following inscriptions in a chronological sequence:

- A. Sarnath Buddha Image Inscription
- B. Rock Edict 13 of Ashoka
- C. Junagarh inscription of Rudradaman
- D. Kirari wooden inscription

Choose the **correct** answer from the options given below

- 1. A, B, C, D
- 2. B, C, A, D
- 3. B, C, D, A
- 4. D, B, A, C

निम्नलिखित अभिलेखों को कालक्रमानुसार व्यवस्थित करें

- A. सारनाथ बुद्ध प्रतिमा अभिलेख
- B. अशोक का 13 वाँ शिलालेख
- C. रुद्रदामन का जूनागढ़ अभिलेख
- D. किरारी काष्ठ स्तंभ अभिलेख

नीचे दिए गए विकल्पों में से सही उत्तर चुनें :

- 1. A, B, C, D
- 2. B, C, A, D
- 3. B, C, D, A
- 4. D, B, A, C



[Question ID = 3438][Question Description = 185\_10\_ARC\_SEP22\_S2\_Q85]

- 1. 1 [Option ID = 13749]
- 2. 2 [Option ID = 13750]
- 3. 3 [Option ID = 13751]
- 4. 4 [Option ID = 13752]

86)

Given below are two statements, one is labelled as **Assertion A** and the other is labelled as **Reason R**

**Assertion A :** The tool types of the stone age of different phases represent the technological skills.

**Reason R :** *Homo erectus*, *Homo sapiens* and *Homo sapiens sapiens* - the three different species represent the technological skill.

In light of the above statements, choose the **correct** answer from the options given below

1. Both **A** and **R** are true and **R** is the correct explanation of **A**
2. Both **A** and **R** are true but **R** is NOT the correct explanation of **A**
3. **A** is true but **R** is false
4. **A** is false but **R** is true

नीचे दो कथन दिए गए हैं : एक को अभिकथन (A) और दूसरे को कारण (R) कहा गया है।

अभिकथन (A) : पाषाण युग के औजारों स्वरूपों के विभिन्न चरण प्रौद्योगिकीय कौशल को निरूपित करते हैं।

कारण (R) : होमो इरेक्टस, होमो सेपियंस और होमोसेपियंस सेपियंस - तीन अलग-अलग प्रजातियाँ प्रौद्योगिकीय कौशल को निरूपित करते हैं।

उपर्युक्त कथनों के आलोक में निम्नांकित विकल्पों में से सही उत्तर चुनें :

1. (A) और (R) दोनों सत्य हैं और (R), (A) की सही व्याख्या है।
2. (A) और (R) दोनों सत्य हैं परन्तु (R), (A) की सही व्याख्या नहीं है।
3. (A) सत्य है परन्तु (R) असत्य है।
4. (A) असत्य है परन्तु (R) सत्य है।

[Question ID = 3439][Question Description = 186\_10\_ARC\_SEP22\_S2\_Q86]

1. 1 [Option ID = 13753]
2. 2 [Option ID = 13754]
3. 3 [Option ID = 13755]
4. 4 [Option ID = 13756]

87)

Given below are two statements, one is labelled as **Assertion A** and the other is labelled as **Reason R**

**Assertion A :** X-Ray Fluorescence Spectrometry (XRF) is a method of chemical analysis.

**Reason R :** The technique is used for analysing wooden artifacts.

In light of the above statements, choose the **correct** answer from the options given below

1. Both **A** and **R** are true and **R** is the correct explanation of **A**
2. Both **A** and **R** are true but **R** is NOT the correct explanation of **A**
3. **A** is true but **R** is false
4. **A** is false but **R** is true



नीचे दो कथन दिए गए हैं : एक को अभिकथन (A) और दूसरे को कारण (R) कहा गया है।

अभिकथन (A) : एक्स-किरण प्रतिदीप्ति स्पेक्ट्रममिति (XRF) रासायनिक विश्लेषण की एक प्रविधि है।

कारण (R) : यह प्रक्रिया काष्ठ मानवकृति के विश्लेषण हेतु प्रयोग की जाती है।

उपर्युक्त कथनों के आलोक में निम्नांकित विकल्पों में से सही उत्तर चुनें :

1. (A) और (R) दोनों सत्य हैं और (R), (A) की सही व्याख्या है।
2. (A) और (R) दोनों सत्य हैं परन्तु (R), (A) की सही व्याख्या नहीं है।
3. (A) सत्य है परन्तु (R) असत्य है।
4. (A) असत्य है परन्तु (R) सत्य है।

[Question ID = 3440][Question Description = 187\_10\_ARC\_SEP22\_S2\_Q87]

1. 1 [Option ID = 13757]
2. 2 [Option ID = 13758]
3. 3 [Option ID = 13759]
4. 4 [Option ID = 13760]

88)

Given below are two statements, one is labelled as **Assertion A** and the other is labelled as **Reason R**

**Assertion A:** The growth of second urbanization in the 6<sup>th</sup> century in the Gangetic plains was due to the iron technology.

**Reason R:** The surplus food production gave rise to urbanization.

In light of the above statements, choose the **correct** answer from the options given below

1. Both **A** and **R** are true and **R** is the correct explanation of **A**
2. Both **A** and **R** are true but **R** is NOT the correct explanation of **A**
3. **A** is true but **R** is false
4. **A** is false but **R** is true

नीचे दो कथन दिए गए हैं : एक को अभिकथन (A) और दूसरे को कारण (R) कहा गया है।

अभिकथन (A) : गंगा के मैदानी भागों में छठी शताब्दी में द्वितीय शहरीकरण प्रक्रिया का विकास लौह प्रौद्योगिकी के कारण हुआ।

कारण (R) : अन्न के अधिक उत्पादन के कारण शहरीकरण हुआ।

उपर्युक्त कथनों के आलोक में निम्नांकित विकल्पों में से सही उत्तर चुनें :

1. (A) और (R) दोनों सत्य हैं और (R), (A) की सही व्याख्या है।
2. (A) और (R) दोनों सत्य हैं परन्तु (R), (A) की सही व्याख्या नहीं है।
3. (A) सत्य परन्तु (R) असत्य है।
4. (A) असत्य है परन्तु (R) सत्य है।

[Question ID = 3441][Question Description = 188\_10\_ARC\_SEP22\_S2\_Q88]

1. 1 [Option ID = 13761]
2. 2 [Option ID = 13762]
3. 3 [Option ID = 13763]
4. 4 [Option ID = 13764]

89)

Given below are two statements, one is labelled as **Assertion A** and the other is labelled as **Reason R**

**Assertion A:** The Bharhut reliefs look like plasticine figures on a flat board.

**Reason R:** They appear without any suggestion of depth in the background.

In light of the above statements, choose the **correct** answer from the options given below

1. Both **A** and **R** are true and **R** is the correct explanation of **A**
2. Both **A** and **R** are true but **R** is NOT the correct explanation of **A**
3. **A** is true but **R** is false
4. **A** is false but **R** is true

नीचे दो कथन दिए गए हैं : एक को अभिकथन (A) और दूसरे को कारण (R) कहा गया है।

अभिकथन (A) : भरहुत उत्कीर्ण एक चपटे बोर्ड पर कृत्रिम आकृति जैसा दिखता है।

कारण (R) : ये पृष्ठभूमि में बिना किसी गहराई के आभास के प्रतीत होते हैं।

उपर्युक्त कथनों के आलोक में निम्नांकित विकल्पों में से सही उत्तर चुनें :

1. (A) और (R) दोनों सत्य हैं और (R), (A) की सही व्याख्या है।
2. (A) और (R) दोनों सत्य हैं परन्तु (R), (A) की सही व्याख्या नहीं है।
3. (A) सत्य है परन्तु (R) असत्य है।
4. (A) असत्य है परन्तु (R) सत्य है।

[Question ID = 3442][Question Description = 189\_10\_ARC\_SEP22\_S2\_Q89]

1. 1 [Option ID = 13765]
2. 2 [Option ID = 13766]
3. 3 [Option ID = 13767]
4. 4 [Option ID = 13768]

90)

Given below are two statements, one is labelled as **Assertion A** and the other is labelled as **Reason R**

**Assertion A :** The Satavahana rulers issued coins with ship motifs.

**Reason R :** The maritime trade was promoted by the Satavahanas.

In light of the above statements, choose the **correct** answer from the options given below

1. Both **A** and **R** are true and **R** is the correct explanation of **A**
2. Both **A** and **R** are true but **R** is NOT the correct explanation of **A**
3. **A** is true but **R** is false
4. **A** is false but **R** is true

नीचे दो कथन दिए गए हैं : एक को अभिकथन (A) और दूसरे को कारण (R) कहा गया है।

अभिकथन (A) : सातवाहन शासकों ने जहाज की आकृति वाले सिक्के जारी किए।

कारण(R) : सातवाहनों द्वारा समुद्री व्यापार को प्रोत्साहित किया गया था।

उपर्युक्त कथनों के आलोक में निम्नांकित विकल्पों में से सही उत्तर चुनें :

1. (A) और (R) दोनों सही हैं और (R), (A) की सही व्याख्या है।
2. (A) और (R) दोनों सही हैं परन्तु (R), (A) की सही व्याख्या नहीं है।
3. (A) सही है परन्तु (R) सही नहीं है।
4. (A) सही नहीं है परन्तु (R) सही है।

[Question ID = 3443][Question Description = 190\_10\_ARC\_SEP22\_S2\_Q90]

1. 1 [Option ID = 13769]
2. 2 [Option ID = 13770]
3. 3 [Option ID = 13771]
4. 4 [Option ID = 13772]

Topic:- 067\_PARTB\_S2

1)

**Read the given passage and answer the questions that follow:**

The NBP pottery tradition in north India represented a surplus economy based society. The scholars of history and archaeology have mentioned the important role of the NBP culture in the development and expansion of the urban process in the mid-Gangetic plains as well as in the rise of janapada, Mahajanpada and then the nation-state. The earliest date of this culture is considered to be between 13<sup>th</sup> to 8<sup>th</sup> century BCE, on the basis of modern research. In present day Bihar and eastern Uttar Pradesh, many archaeological sites related to this culture have come to light, which have been excavated on a large scale by the archaeologists.

NBPW culture stands for

1. Northern Blue Painted Ware Culture
2. Northern Black Polished Ware Culture
3. New Black Painted Ware Culture
4. Northern Blue Polished Ware Culture

**निम्नलिखित गद्यांश को ध्यानपूर्वक पढ़िए और सम्बंधित पांच प्रश्नों के उत्तर दीजिए**

उत्तर भारत में NBP पात्र परम्परा संस्कृति अधिशेष उत्पादन पर आधारित अर्थ व्यवस्था का प्रतिनिधित्व करती है। NBP संस्कृति की मध्य गांगेय मैदान में नगरीय प्रक्रिया के विकसित और विस्तारित होने के साथ ही जनपद महाजनपद तत्पश्चात राष्ट्रीय राज्य के उदय में महत्वपूर्ण भूमिका का उल्लेख इतिहास एवं पुरातत्व के विद्वानों ने किया है। इस संस्कृति की प्राचीनतम तिथि अधुनातन अनुसंधानों के आधार पर 1300-800 ई.पू. के मध्य माना गया है वर्तमान बिहार एवं पूर्वी उत्तर प्रदेश में इस संस्कृति से सम्बन्धित अनेक पुरास्थल प्रकाश में आये हैं जिनका पुराविदों द्वारा विस्तृत पैमाने पर उत्खनन कार्य किया गया है।

एन.बी.पी.डब्ल्यू संस्कृति से अभिप्राय है

1. उत्तरी नीली चित्रित पात्र परम्परा
2. नवीन कालीन चित्रित पात्र परम्परा
3. उत्तरी काली चमकीली पात्र परम्परा
4. उत्तरी नीली चमकीली पात्र परम्परा

[Question ID = 3444][Question Description = 191\_10\_ARC\_SEP22\_S2\_Q91]

1. 1 [Option ID = 13773]
2. 2 [Option ID = 13774]
3. 3 [Option ID = 13775]
4. 4 [Option ID = 13776]

2) **Read the given passage and answer the questions that follow:**

The NBP pottery tradition in north India represented a surplus economy based society. The scholars of history and archaeology have mentioned the important role of the NBP culture in the development and expansion of the urban process in the mid-Gangetic plains as well as in the rise of Janapada, Mahajanpada and then the nation-state. The earliest date of this culture is considered to be between 13<sup>th</sup> to 8<sup>th</sup> century BCE, on the basis of modern research. In present day Bihar and eastern Uttar Pradesh, many archaeological sites related to this culture have come to light, which have been excavated on a large scale by the archaeologists.

The mid-Gangetic plains extend from

1. Haridwar (Uttarakhand) to Rajmahal hills (Bihar)
2. Prayagraj (Uttar Pradesh) to Purulia (West Bengal)
3. Haridwar (Uttarakhand) to Bay of Bengal (W. Bengal)
4. Western Kausambi (Uttar Pradesh) to Rajgriha (Bihar)

**निम्नलिखित गद्यांश को ध्यानपूर्वक पढ़िए और सम्बंधित पांच प्रश्नों के उत्तर दीजिए**

उत्तर भारत में NBP पात्र परम्परा संस्कृति अधिशेष उत्पादन पर आधारित अर्थ व्यवस्था का प्रतिनिधित्व करती है। NBP संस्कृति की मध्य गांगेय मैदान में नगरीय प्रक्रिया के विकसित और विस्तारित होने के साथ ही जनपद महाजनपद तत्पश्चात राष्ट्रीय राज्य के उदय में महत्वपूर्ण भूमिका का उल्लेख इतिहास एवं पुरातत्व के विद्वानों ने किया है। इस संस्कृति की प्राचीनतम तिथि अधुनातन अनुसंधानों के आधार पर 1300-800 ई.पू. के मध्य माना गया है वर्तमान बिहार एवं पूर्वी उत्तर प्रदेश में इस संस्कृति से सम्बन्धित अनेक पुरास्थल प्रकाश में आये हैं जिनका पुराविदों द्वारा विस्तृत पैमाने पर उत्खनन कार्य किया गया है।

मध्य गांगेय मैदान का सीमा विस्तार है

1. हरिद्वार से बिहार में राजमहल की पहाड़ी तक।
2. प्रयागराज से पं. बंगाल के पुरुलिया जनपद की सीमा तक।
3. हरिद्वार से पं. बंगाल तक।
4. कौशाम्बी जनपद उत्तर प्रदेश की पश्चिमी सीमा से बिहार के राजगृह तक।

[Question ID = 3445][Question Description = 192\_10\_ARC\_SEP22\_S2\_Q92]

1. 1 [Option ID = 13777]
2. 2 [Option ID = 13778]
3. 3 [Option ID = 13779]
4. 4 [Option ID = 13780]

3) **Read the given passage and answer the questions that follow:**

The NBP pottery tradition in north India represented a surplus economy based society. The scholars of history and archaeology have mentioned the important role of the NBP culture in the development and expansion of the urban process in the mid-Gangetic plains as well as in the rise of janapada, Mahajanpada and then the nation-state. The earliest date of this culture is considered to be between 13<sup>th</sup> to 8<sup>th</sup> century BCE, on the basis of modern research. In present day Bihar and eastern Uttar Pradesh, many archaeological sites related to this culture have come to light, which have been excavated on a large scale by the archaeologists.

Which of the following mahajanapada is not located in the mid-Gangetic plains?

1. Chedi
2. Kashi
3. Vatsya
4. Ashmaka

**निम्नलिखित गद्यांश को ध्यानपूर्वक पढ़िए और सम्बंधित पांच प्रश्नों के उत्तर दीजिए**

उत्तर भारत में NBP पात्र परम्परा संस्कृति अधिशेष उत्पादन पर आधारित अर्थ व्यवस्था का प्रतिनिधित्व करती है। NBP संस्कृति की मध्य गांगेय मैदान में नगरीय प्रक्रिया के विकसित और विस्तारित होने के साथ ही जनपद महाजनपद तत्पश्चात राष्ट्रीय राज्य के उदय में महत्वपूर्ण भूमिका का उल्लेख इतिहास एवं पुरातत्व के विद्वानों ने किया है। इस संस्कृति की प्राचीनतम तिथि अधुनातन अनुसंधानों के आधार पर 1300-800 ई.पू. के मध्य माना गया है वर्तमान बिहार एवं पूर्वी उत्तर प्रदेश में इस संस्कृति से सम्बन्धित अनेक पुरास्थल प्रकाश में आये हैं जिनका पुराविदों द्वारा विस्तृत पैमाने पर उत्खनन कार्य किया गया है।

मध्य गांगेय मैदान में कौन सा प्राचीन महाजनपद नहीं स्थित है

1. चेदि
2. काशी
3. वत्स
4. अस्मक

[Question ID = 3446][Question Description = 193\_10\_ARC\_SEP22\_S2\_Q93]

1. 1 [Option ID = 13781]
2. 2 [Option ID = 13782]
3. 3 [Option ID = 13783]
4. 4 [Option ID = 13784]

4) **Read the given passage and answer the questions that follow:**

The NBP pottery tradition in north India represented a surplus economy based society. The scholars of history and archaeology have mentioned the important role of the NBP culture in the development and expansion of the urban process in the mid-Gangetic plains as well as in the rise of janapada, Mahajanpada and then the nation-state. The earliest date of this culture is considered to be between 13<sup>th</sup> to 8<sup>th</sup> century BCE, on the basis of modern research. In present day Bihar and eastern Uttar Pradesh, many archaeological sites related to this culture have come to light, which have been excavated on a large scale by the archaeologists.

Which of the following archaeologist has not excavated the NBPW cultural sites?

1. G. R. Sharma
2. J. N. Pal
3. A. K. Narain
4. H. D. Sankalia

**निम्नलिखित गद्यांश को ध्यानपूर्वक पढ़िए और सम्बंधित पांच प्रश्नों के उत्तर दीजिए**

उत्तर भारत में NBP पात्र परम्परा संस्कृति अधिशेष उत्पादन पर आधारित अर्थ व्यवस्था का प्रतिनिधित्व करती है। NBP संस्कृति की मध्य गांगेय मैदान में नगरीय प्रक्रिया के विकसित और विस्तारित होने के साथ ही जनपद महाजनपद तत्पश्चात राष्ट्रीय राज्य के उदय में महत्वपूर्ण भूमिका का उल्लेख इतिहास एवं पुरातत्व के विद्वानों ने किया है। इस संस्कृति की प्राचीनतम तिथि अधुनातन अनुसंधानों के आधार पर 1300-800 ई.पू. के मध्य माना गया है वर्तमान बिहार एवं पूर्वी उत्तर प्रदेश में इस संस्कृति से सम्बन्धित अनेक पुरास्थल प्रकाश में आये हैं जिनका पुराविदों द्वारा विस्तृत पैमाने पर उत्खनन कार्य किया गया है।

निम्नलिखित में से कौन सा पुराविद् NBP संस्कृति के उत्खनन से नहीं सम्बन्धित है

1. गोवर्धन राय शर्मा
2. जे. एन. पाल
3. ए. के. नारायण
4. एच. डी. संकालिया

[Question ID = 3447][Question Description = 194\_10\_ARC\_SEP22\_S2\_Q94]

1. 1 [Option ID = 13785]
2. 2 [Option ID = 13786]
3. 3 [Option ID = 13787]
4. 4 [Option ID = 13788]

5) **Read the given passage and answer the questions that follow:**

The NBP pottery tradition in north India represented a surplus economy based society. The scholars of history and archaeology have mentioned the important role of the NBP culture in the development and expansion of the urban process in the mid-Gangetic plains as well as in the rise of janapada, Mahajanpada and then the nation-state. The earliest date of this culture is considered to be between 13<sup>th</sup> to 8<sup>th</sup> century BCE, on the basis of modern research. In present day Bihar and eastern Uttar Pradesh, many archaeological sites related to this culture have come to light, which have been excavated on a large scale by the archaeologists.

Which of the following sites are related to the NBPW culture?

1. Bhirrana
2. Koldihawa
3. Mahagara
4. Chechar Kutubpur

## निम्नलिखित गद्यांश को ध्यानपूर्वक पढ़िए और सम्बंधित पांच प्रश्नों के उत्तर दीजिए

उत्तर भारत में NBP पात्र परम्परा संस्कृति अधिशेष उत्पादन पर आधारित अर्थ व्यवस्था का प्रतिनिधित्व करती है। NBP संस्कृति की मध्य गांगेय मैदान में नगरीय प्रक्रिया के विकसित और विस्तारित होने के साथ ही जनपद महाजनपद तत्पश्चात राष्ट्रीय राज्य के उदय में महत्वपूर्ण भूमिका का उल्लेख इतिहास एवं पुरातत्व के विद्वानों ने किया है। इस संस्कृति की प्राचीनतम तिथि अधुनातन अनुसंधानों के आधार पर 1300-800 ई.पू. के मध्य माना गया है वर्तमान बिहार एवं पूर्वी उत्तर प्रदेश में इस संस्कृति से सम्बन्धित अनेक पुरास्थल प्रकाश में आये हैं जिनका पुराविदों द्वारा विस्तृत पैमाने पर उत्खनन कार्य किया गया है।

निम्नलिखित में से NBPW संस्कृति से कौन पुरास्थल सम्बन्धित है

1. भिरड़ाना
2. कोल्हिववा
3. महगड़ा
4. चेचर कुतुबपुर

[Question ID = 3448][Question Description = 195\_10\_ARC\_SEP22\_S2\_Q95]

1. 1 [Option ID = 13789]
2. 2 [Option ID = 13790]
3. 3 [Option ID = 13791]
4. 4 [Option ID = 13792]

Topic:- 067\_PARTC\_S2

### 1) Read the given passage and answer the questions that follow:

In the form of archaeological evidence of early Hindu temples, only surface structures of these temples are found, which are believed to be of the third century BC. The structural remains of such temples have been found at Vidisha in Madhya Pradesh, Nagari in Rajasthan, Sonkh near Mathura in Uttar Pradesh. The evidence of an ancient Shiva temple has been found near the Parashurameshwara temple from Gudimallam in Chittoor district of Andhra Pradesh. On the basis of the remains found related to the above-mentioned temples, the opinions of the scholars are that the process of temple construction in India started from 2400-2500 years ago. From the architectural and sculptural point of view, this art had attained its perfection nearly 1500 years ago.

Which of the following sites was famous as the city of temples?

1. Vidisha
2. Gudimallam
3. Dangwada
4. Sonkh

### निम्नलिखित परिच्छेद के आधार पर सम्बंधित पांच प्रश्नों के उत्तर दीजिए।

प्रारंभिक हिन्दू मंदिरों के पुरातात्विक साक्ष्य के रूप में इन मंदिरों की धरातलीय संरचनाएं ही प्राप्त होती हैं, जिन्हें ई.पू. की तीसरी शताब्दी का माना जाता है। मध्य प्रदेश के विदिशा, राजस्थान के नागरी तथा उत्तर प्रदेश के मथुरा के समीप सोख नामक स्थान से इस प्रकार के मंदिरों के संरचनात्मक अवशेष प्राप्त हुए हैं। आंध्र प्रदेश के चित्तूर जनपद के गुडीमल्लम से परशुरामेश्वर मंदिर के समीप एक प्राचीनतम शिव मंदिर का प्रमाण प्राप्त हुआ है। उपर्युक्त मंदिरों के सापेक्ष प्राप्त अवशेषों के आधार पर विद्वानों का अभिमत है कि भारत में मंदिर निर्माण की प्रविधि का प्रारंभ आज से 2400 से 2500 वर्ष पूर्व प्रारंभ हो गया था। कालांतर में स्थापत्य एवं मूर्तिकला की दृष्टि से 1500 वर्ष पूर्व यह कला अपने पूर्णत्व को प्राप्त हो गयी।

निम्नलिखित में से कौन-सा पुरास्थल अनेक मंदिरों वाले नगर के रूप में विख्यात था ?

1. विदिशा
2. गुडीमल्लम
3. दंगवाड़ा
4. सोख

[Question ID = 3449][Question Description = 196\_10\_ARC\_SEP22\_S2\_Q96]

1. 1 [Option ID = 13793]
2. 2 [Option ID = 13794]
3. 3 [Option ID = 13795]
4. 4 [Option ID = 13796]

### 2) Read the given passage and answer the questions that follow:

In the form of archaeological evidence of early Hindu temples, only surface structures of these temples are found, which are believed to be of the third century BC. The structural remains of such temples have been found at Vidisha in Madhya Pradesh, Nagari in Rajasthan, Sonkh near Mathura in Uttar Pradesh. The evidence of an ancient Shiva temple has been found near the Parashurameshwara temple from Gudimallam in Chittoor district of Andhra Pradesh. On the basis of the remains found related to the above-mentioned temples, the opinions of the scholars are that the process of temple construction in India started from 2400-2500 years ago. From the architectural and sculptural point of view, this art had attained its perfection nearly 1500 years ago.

The earliest Hindu temples are usually dedicated to the following deities:

1. Shiva and Parvati
2. Vishnu and Lakshmi
3. Only Shiva
4. Shiva and Vishnu



### निम्नलिखित परिच्छेद के आधार पर सम्बंधित पांच प्रश्नों के उत्तर दीजिए।

प्रारंभिक हिन्दू मंदिरों के पुरातात्विक साक्ष्य के रूप में इन मंदिरों की धरातलीय संरचनाएं ही प्राप्त होती हैं, जिन्हें ई.पू. की तीसरी शताब्दी का माना जाता है। मध्य प्रदेश के विदिशा, राजस्थान के नागरी तथा उत्तर प्रदेश के मथुरा के समीप सोख नामक स्थान से इस प्रकार के मंदिरों के संरचनात्मक अवशेष प्राप्त हुए हैं। आंध्र प्रदेश के चित्तूर जनपद के गुडीमल्लम से परशुरामेश्वर मंदिर के समीप एक प्राचीनतम शिव मंदिर का प्रमाण प्राप्त हुआ है। उपर्युक्त मंदिरों के सापेक्ष प्राप्त अवशेषों के आधार पर विद्वानों का अभिमत है कि भारत में मंदिर निर्माण की प्रविधि का प्रारंभ आज से 2400 से 2500 वर्ष पूर्व प्रारंभ हो गया था। कालांतर में स्थापत्य एवं मूर्तिकला की दृष्टि से 1500 वर्ष पूर्व यह कला अपने पूर्णत्व को प्राप्त हो गयी।

प्राचीनतम हिन्दू मंदिर प्रायः किस/किन देवताओं को समर्पित हैं ?

1. शिव और पार्वती
2. विष्णु और लक्ष्मी
3. केवल शिव
4. शिव और विष्णु

[Question ID = 3450][Question Description = 197\_10\_ARC\_SEP22\_S2\_Q97]

1. 1 [Option ID = 13797]
2. 2 [Option ID = 13798]
3. 3 [Option ID = 13799]
4. 4 [Option ID = 13800]

### 3) Read the given passage and answer the questions that follow:

In the form of archaeological evidence of early Hindu temples, only surface structures of these temples are found, which are believed to be of the third century BC. The structural remains of such temples have been found at Vidisha in Madhya Pradesh, Nagari in Rajasthan, Sonkh near Mathura in Uttar Pradesh. The evidence of an ancient Shiva temple has been found near the Parashurameshwara temple from Gudimallam in Chittoor district of Andhra Pradesh. On the basis of the remains found related to the above-mentioned temples, the opinions of the scholars are that the process of temple construction in India started from 2400-2500 years ago. From the architectural and sculptural point of view, this art had attained its perfection nearly 1500 years ago.

In which of the following periods, the Indian art and architecture was at its zenith?

1. Kushana
2. Gupta
3. Later-Gupta
4. Rajput

### निम्नलिखित परिच्छेद के आधार पर सम्बंधित पांच प्रश्नों के उत्तर दीजिए।

प्रारंभिक हिन्दू मंदिरों के पुरातात्विक साक्ष्य के रूप में इन मंदिरों की धरातलीय संरचनाएं ही प्राप्त होती हैं, जिन्हें ई.पू. की तीसरी शताब्दी का माना जाता है। मध्य प्रदेश के विदिशा, राजस्थान के नागरी तथा उत्तर प्रदेश के मथुरा के समीप सोख नामक स्थान से इस प्रकार के मंदिरों के संरचनात्मक अवशेष प्राप्त हुए हैं। आंध्र प्रदेश के चित्तूर जनपद के गुडीमल्लम से परशुरामेश्वर मंदिर के समीप एक प्राचीनतम शिव मंदिर का प्रमाण प्राप्त हुआ है। उपर्युक्त मंदिरों के सापेक्ष प्राप्त अवशेषों के आधार पर विद्वानों का अभिमत है कि भारत में मंदिर निर्माण की प्रविधि का प्रारंभ आज से 2400 से 2500 वर्ष पूर्व प्रारंभ हो गया था। कालांतर में स्थापत्य एवं मूर्तिकला की दृष्टि से 1500 वर्ष पूर्व यह कला अपने पूर्णत्व को प्राप्त हो गयी।

भारत में मंदिर स्थापत्य एवं मूर्तिकला की दृष्टि से कौन-सा युग अपने शीर्ष पर था ?

1. शुंग-कुषाण काल
2. गुप्त काल
3. गुप्तोत्तर काल (550 ई. से 750 ई. तक)
4. राजपूत काल

[Question ID = 3451][Question Description = 198\_10\_ARC\_SEP22\_S2\_Q98]

1. 1 [Option ID = 13801]
2. 2 [Option ID = 13802]
3. 3 [Option ID = 13803]
4. 4 [Option ID = 13804]

#### 4) Read the given passage and answer the questions that follow:

In the form of archaeological evidence of early Hindu temples, only surface structures of these temples are found, which are believed to be of the third century BC. The structural remains of such temples have been found at Vidisha in Madhya Pradesh, Nagari in Rajasthan, Sonkh near Mathura in Uttar Pradesh. The evidence of an ancient Shiva temple has been found near the Parashurameshwara temple from Gudimallam in Chittoor district of Andhra Pradesh. On the basis of the remains found related to the above-mentioned temples, the opinions of the scholars are that the process of temple construction in India started from 2400-2500 years ago. From the architectural and sculptural point of view, this art had attained its perfection nearly 1500 years ago.

Who among the following is a famous art historian?

1. H. C. Raychaudhari
2. Kalinkar Dutt
3. Krishna Deva
4. D. N. Jha

### निम्नलिखित परिच्छेद के आधार पर सम्बंधित पांच प्रश्नों के उत्तर दीजिए।

प्रारंभिक हिन्दू मंदिरों के पुरातात्विक साक्ष्य के रूप में इन मंदिरों की धरातलीय संरचनाएं ही प्राप्त होती हैं, जिन्हें ई.पू. की तीसरी शताब्दी का माना जाता है। मध्य प्रदेश के विदिशा, राजस्थान के नागरी तथा उत्तर प्रदेश के मथुरा के समीप सोख नामक स्थान से इस प्रकार के मंदिरों के संरचनात्मक अवशेष प्राप्त हुए हैं। आंध्र प्रदेश के चित्तूर जनपद के गुडीमल्लम से परशुरामेश्वर मंदिर के समीप एक प्राचीनतम शिव मंदिर का प्रमाण प्राप्त हुआ है। उपर्युक्त मंदिरों के सापेक्ष प्राप्त अवशेषों के आधार पर विद्वानों का अभिमत है कि भारत में मंदिर निर्माण की प्रविधि का प्रारंभ आज से 2400 से 2500 वर्ष पूर्व प्रारंभ हो गया था। कालांतर में स्थापत्य एवं मूर्तिकला की दृष्टि से 1500 वर्ष पूर्व यह कला अपने पूर्णत्व को प्राप्त हो गयी।

निम्नलिखित में से कौन सुप्रसिद्ध कला इतिहासकार है ?

1. हरिशचंद्र राय चौधुरी
2. कार्लिकर दत्त
3. कृष्ण देव
4. द्विजेन्द्र नाथ झा

[Question ID = 3452][Question Description = 199\_10\_ARC\_SEP22\_S2\_Q99]

1. 1 [Option ID = 13805]
2. 2 [Option ID = 13806]
3. 3 [Option ID = 13807]
4. 4 [Option ID = 13808]

### 5) Read the given passage and answer the questions that follow:

In the form of archaeological evidence of early Hindu temples, only surface structures of these temples are found, which are believed to be of the third century BC. The structural remains of such temples have been found at Vidisha in Madhya Pradesh, Nagari in Rajasthan, Sonkh near Mathura in Uttar Pradesh. The evidence of an ancient Shiva temple has been found near the Parashurameshwara temple from Gudimallam in Chittoor district of Andhra Pradesh. On the basis of the remains found related to the above-mentioned temples, the opinions of the scholars are that the process of temple construction in India started from 2400-2500 years ago. From the architectural and sculptural point of view, this art had attained its perfection nearly 1500 years ago.

Which of the following sites is not famous as a city of temples?

1. Pattadakal
2. Aihole
3. Bhubaneswar
4. Sanchi

### निम्नलिखित परिच्छेद के आधार पर सम्बंधित पांच प्रश्नों के उत्तर दीजिए।

प्रारंभिक हिन्दू मंदिरों के पुरातात्विक साक्ष्य के रूप में इन मंदिरों की धरातलीय संरचनाएं ही प्राप्त होती हैं, जिन्हें ई.पू. की तीसरी शताब्दी का माना जाता है। मध्य प्रदेश के विदिशा, राजस्थान के नागरी तथा उत्तर प्रदेश के मथुरा के समीप सोख नामक स्थान से इस प्रकार के मंदिरों के संरचनात्मक अवशेष प्राप्त हुए हैं। आंध्र प्रदेश के चित्तूर जनपद के गुडीमल्लम से परशुरामेश्वर मंदिर के समीप एक प्राचीनतम शिव मंदिर का प्रमाण प्राप्त हुआ है। उपर्युक्त मंदिरों के सापेक्ष प्राप्त अवशेषों के आधार पर विद्वानों का अभिमत है कि भारत में मंदिर निर्माण की प्रविधि का प्रारंभ आज से 2400 से 2500 वर्ष पूर्व प्रारंभ हो गया था। कालांतर में स्थापत्य एवं मूर्तिकला की दृष्टि से 1500 वर्ष पूर्व यह कला अपने पूर्णत्व को प्राप्त हो गयी।

मंदिरों के नगर के रूप में कौन-सा पुरास्थल विख्यात नहीं है ?

1. पट्टदकल
2. ऐहोल
3. भुवनेश्वर
4. सांची

[Question ID = 3453][Question Description = 200\_10\_ARC\_SEP22\_S2\_Q100]

1. 1 [Option ID = 13809]
2. 2 [Option ID = 13810]
3. 3 [Option ID = 13811]
4. 4 [Option ID = 13812]

Topic:- 22 GP\_29SEPT22\_SH1\_S2\_A

1) **Based on the data in the table, answer the five questions that follow**

The following table gives the sale figures of five different types of batteries (in thousands) sold by a company during the years 2015 to 2021.

Year-wise Sale of Batteries

Year	Types Of Batteries Sold (in thousands)				
	4AH	7AH	32AH	35AH	55AH
2015	75	144	114	102	108
2016	90	126	102	84	126
2017	96	114	75	105	135
2018	105	90	150	90	75
2019	90	75	135	75	90
2020	105	60	165	45	120
2021	115	85	160	100	145

What was the approximate percentage increase in the sales of 55AH batteries in 2021 compared to that in 2015?

1. 28 %
2. 31 %
3. 33 %
4. 34 %

निम्नलिखित तालिका में वर्ष 2015 से 2021 तक के दौरान एक कंपनी द्वारा बिक्री की गई विभिन्न प्रकार की बैटरियों (हजार में) के बिक्री - आंकड़े दिए गए हैं। इस तालिका के आंकड़ों के आधार पर पांच प्रश्नों के उत्तर दीजिए :

बैटरियों की वर्ष - वार बिक्री :

वर्ष	बिक्री की गई बैटरियों के प्रकार (हजार में)				
	4 ए एच	7 ए एच	32 ए एच	35 ए एच	55 ए एच
2015	75	144	114	102	108
2016	90	126	102	84	126
2017	96	114	75	105	135
2018	105	90	150	90	75
2019	90	75	135	75	90
2020	105	60	165	45	120
2021	115	85	160	100	145

2015 की तुलना में 2021 में 55 ए एच बैटरियों की बिक्री में लगभग प्रतिशत वृद्धि क्या थी ?

1. 28 %
2. 31 %
3. 33 %
4. 34 %

[Question ID = 4374][Question Description = 101\_81\_GP6\_SEP22\_S2\_Q01]

1. 1 [Option ID = 17493]
2. 2 [Option ID = 17494]
3. 3 [Option ID = 17495]
4. 4 [Option ID = 17496]

2)

**Based on the data in the table, answer the five questions that follow**

The following table gives the sale figures of five different types of batteries (in thousands) sold by a company during the years 2015 to 2021.

Year-wise Sale of Batteries

Year	Types Of Batteries Sold (in thousands)				
	4AH	7AH	32AH	35AH	55AH
2015	75	144	114	102	108
2016	90	126	102	84	126
2017	96	114	75	105	135
2018	105	90	150	90	75
2019	90	75	135	75	90
2020	105	60	165	45	120
2021	115	85	160	100	145

The total sales of all the seven years is maximum for which type of battery?

1. 4AH
2. 7AH
3. 32AH
4. 35AH

निम्नलिखित तालिका में वर्ष 2015 से 2021 तक के दौरान एक कंपनी द्वारा बिक्री की गई विभिन्न प्रकार की बैटरियों (हजार में) के बिक्री - आंकड़े दिए गए हैं। इस तालिका के आंकड़ों के आधार पर पांच प्रश्नों के उत्तर दीजिए :

बैटरियों की वर्ष - वार बिक्री :

वर्ष	बिक्री की गई बैटरियों के प्रकार (हजार में)				
	4 ए एच	7 ए एच	32 ए एच	35 ए एच	55 ए एच
2015	75	144	114	102	108
2016	90	126	102	84	126
2017	96	114	75	105	135
2018	105	90	150	90	75
2019	90	75	135	75	90
2020	105	60	165	45	120
2021	115	85	160	100	145

इन सभी सात वर्षों में किस प्रकार की बैटरी की कुल बिक्री सर्वाधिक थी ?

1. 4 ए एच
2. 7 ए एच
3. 32 ए एच
4. 35 ए एच

[Question ID = 4375][Question Description = 102\_81\_GP6\_SEP22\_S2\_Q02]

1. 1 [Option ID = 17497]
2. 2 [Option ID = 17498]
3. 3 [Option ID = 17499]
4. 4 [Option ID = 17500]

3)

**Based on the data in the table, answer the five questions that follow**

The following table gives the sale figures of five different types of batteries (in thousands) sold by a company during the years 2015 to 2021.

Year-wise Sale of Batteries

Year	Types Of Batteries Sold (in thousands)				
	4AH	7AH	32AH	35AH	55AH
2015	75	144	114	102	108
2016	90	126	102	84	126
2017	96	114	75	105	135
2018	105	90	150	90	75
2019	90	75	135	75	90
2020	105	60	165	45	120
2021	115	85	160	100	145

What is the difference in the number of 35AH batteries sold in 2016 and 2020?

1. 24000
2. 28000
3. 35000
4. 39000

निम्नलिखित तालिका में वर्ष 2015 से 2021 तक के दौरान एक कंपनी द्वारा बिक्री की गई विभिन्न प्रकार की बैटरियों (हजार में) के बिक्री - आंकड़े दिए गए हैं। इस तालिका के आंकड़ों के आधार पर पांच प्रश्नों के उत्तर दीजिए :

बैटरियों की वर्ष - वार बिक्री :

वर्ष	बिक्री की गई बैटरियों के प्रकार (हजार में)				
	4 ए एच	7 ए एच	32 ए एच	35 ए एच	55 ए एच
2015	75	144	114	102	108
2016	90	126	102	84	126
2017	96	114	75	105	135
2018	105	90	150	90	75
2019	90	75	135	75	90
2020	105	60	165	45	120
2021	115	85	160	100	145

वर्ष 2016 और 2020 में 35 ए एच बैटरियों की बिक्री संख्या में क्या अंतर है ?

1. 24000
2. 28000
3. 35000
4. 39000

[Question ID = 4376][Question Description = 103\_81\_GP6\_SEP22\_S2\_Q03]

1. 1 [Option ID = 17501]
2. 2 [Option ID = 17502]
3. 3 [Option ID = 17503]
4. 4 [Option ID = 17504]

4)

**Based on the data in the table, answer the five questions that follow**

The following table gives the sale figures of five different types of batteries (in thousands) sold by a company during the years 2015 to 2021.

Year-wise Sale of Batteries

Year	Types Of Batteries Sold (in thousands)				
	4AH	7AH	32AH	35AH	55AH
2015	75	144	114	102	108
2016	90	126	102	84	126
2017	96	114	75	105	135
2018	105	90	150	90	75
2019	90	75	135	75	90
2020	105	60	165	45	120
2021	115	85	160	100	145

The percentage of 4AH batteries sold in a given year to the total number of batteries sold in that same year was maximum in the year:

1. 2017
2. 2018
3. 2019
4. 2020

निम्नलिखित तालिका में वर्ष 2015 से 2021 तक के दौरान एक कंपनी द्वारा बिक्री की गई विभिन्न प्रकार की बैटरियों (हजार में) के बिक्री - आंकड़े दिए गए हैं। इस तालिका के आंकड़ों के आधार पर पांच प्रश्नों के उत्तर दीजिए :

बैटरियों की वर्ष - वार बिक्री :

वर्ष	बिक्री की गई बैटरियों के प्रकार (हजार में)				
	4 ए एच	7 ए एच	32 ए एच	35 ए एच	55 ए एच
2015	75	144	114	102	108
2016	90	126	102	84	126
2017	96	114	75	105	135
2018	105	90	150	90	75
2019	90	75	135	75	90
2020	105	60	165	45	120
2021	115	85	160	100	145

किसी दिए गए वर्ष में बैटरियों की बिक्री की कुल संख्या के साथ उसी वर्ष में बिक्री की गयी 4 ए एच बैटरियों का प्रतिशत किस वर्ष अधिक था ?

1. 2017
2. 2018
3. 2019
4. 2020

[Question ID = 4377][Question Description = 104\_81\_GP6\_SEP22\_S2\_Q04]

1. 1 [Option ID = 17505]
2. 2 [Option ID = 17506]
3. 3 [Option ID = 17507]
4. 4 [Option ID = 17508]



5)

**Based on the data in the table, answer the five questions that follow**

The following table gives the sale figures of five different types of batteries (in thousands) sold by a company during the years 2015 to 2021.

Year-wise Sale of Batteries

Year	Types Of Batteries Sold (in thousands)				
	4AH	7AH	32AH	35AH	55AH
2015	75	144	114	102	108
2016	90	126	102	84	126
2017	96	114	75	105	135
2018	105	90	150	90	75
2019	90	75	135	75	90
2020	105	60	165	45	120
2021	115	85	160	100	145

In case of which type of battery there was a continuous decrease in sales from 2015 to 2020?

1. 4AH
2. 7AH
3. 32AH
4. 35AH

निम्नलिखित तालिका में वर्ष 2015 से 2021 तक के दौरान एक कंपनी द्वारा बिक्री की गई विभिन्न प्रकार की बैटरियों (हजार में) के बिक्री - आंकड़े दिए गए हैं। इस तालिका के आंकड़ों के आधार पर पांच प्रश्नों के उत्तर दीजिए :

बैटरियों की वर्ष - वार बिक्री :

वर्ष	बिक्री की गई बैटरियों के प्रकार (हजार में)				
	4 ए एच	7 ए एच	32 ए एच	35 ए एच	55 ए एच
2015	75	144	114	102	108
2016	90	126	102	84	126
2017	96	114	75	105	135
2018	105	90	150	90	75
2019	90	75	135	75	90
2020	105	60	165	45	120
2021	115	85	160	100	145

वर्ष 2015 से 2020 तक किस प्रकार की बैटरी की बिक्री में निरंतर गिरावट हुयी ?

1. 4 ए एच
2. 7 ए एच
3. 32 ए एच
4. 35 ए एच

[Question ID = 4378][Question Description = 105\_81\_GP6\_SEP22\_S2\_Q05]

1. 1 [Option ID = 17509]
2. 2 [Option ID = 17510]

3. 3 [Option ID = 17511]
4. 4 [Option ID = 17512]

Topic: - 22 GP\_29SEPT22\_SH1\_S2\_B

1) Which scheme of Ministry of Education, Government of India, uses Artificial Intelligence to make learning more personalised and customised, as per requirements of the learners?

1. NEAT
2. NEET
3. SWAYAM
4. SWAYAM PRABHA

शिक्षा मंत्रालय, भारत सरकार की कौन सी योजना शिक्षार्थियों की आवश्यकताओं के अनुसार अधिगम को अधिक वैयक्तिक और विद्यार्थी अनुकूल बनाने के लिए कृत्रिम बुद्धिमत्ता का प्रयोग करती है ?

1. एन ई ए टी
2. एन ई ई टी
3. स्वयम (SWAYAM)
4. स्वयम प्रभा (SWAYAMPRAHA)

[Question ID = 4379][Question Description = 106\_81\_GP6\_SEP22\_S2\_Q06]

1. 1 [Option ID = 17513]
2. 2 [Option ID = 17514]
3. 3 [Option ID = 17515]
4. 4 [Option ID = 17516]

2) Upon completion of academic programmes (Graduation), what outcomes should the students have attained?

1. Programme Education Objectives/ Programme outcomes
2. Lesson outcomes
3. Course outcomes
4. Unit/Chapter outcomes

अकादमिक कार्यक्रमों (स्नातक) के पूरा होने पर, विद्यार्थियों को क्या परिणाम प्राप्त होने चाहिए ?

1. कार्यक्रम शिक्षा उद्देश्य / कार्यक्रम परिणाम
2. पाठ परिणाम
3. पाठ्यक्रम परिणाम
4. यूनिट/ अध्याय परिणाम

[Question ID = 4380][Question Description = 107\_81\_GP6\_SEP22\_S2\_Q07]

1. 1 [Option ID = 17517]
2. 2 [Option ID = 17518]
3. 3 [Option ID = 17519]
4. 4 [Option ID = 17520]

3)

Given below are two statements, one is labelled as **Assertion A** and the other is labelled as **Reason R**.

**Assertion A:** Teachers must encourage students to ask questions.

**Reason R:** Asking questions can create curiosity and develop passion for learning.

In light of the above statements, choose the **most appropriate** answer from the options given below

1. Both **A** and **R** are correct and **R** is the correct explanation of **A**
2. Both **A** and **R** are correct but **R** is NOT the correct explanation of **A**
3. **A** is correct but **R** is not correct
4. **A** is not correct but **R** is correct

नीचे दो कथन दिए गए हैं : एक को अभिकथन (A) और दूसरे को कारण (R) कहा गया है।

अभिकथन (A) : शिक्षकों को विद्यार्थियों को प्रश्न पूछने के लिए प्रोत्साहित करना चाहिए।

कारण (R) : प्रश्न पूछने से जिज्ञासा सृजित होती है और अधिगम के लिए उत्साह विकसित होता है।

उपर्युक्त कथनों के आलोक में निम्नांकित विकल्पों में से सही उत्तर चुनें :

1. (A) और (R) दोनों सही हैं और (R), (A) की सही व्याख्या है।
2. (A) और (R) दोनों सही हैं परन्तु (R), (A) की सही व्याख्या नहीं है।
3. (A) सही है परन्तु (R) सही नहीं है।
4. (A) सही नहीं है परन्तु (R) सही है।

[Question ID = 4381][Question Description = 108\_81\_GP6\_SEP22\_S2\_Q08]

1. 1 [Option ID = 17521]
2. 2 [Option ID = 17522]
3. 3 [Option ID = 17523]
4. 4 [Option ID = 17524]

4)

Which of the following model is used for development of e-content for MOOCs on SWAYAM?

1. Four Quadrant
2. Two Quadrant
3. Flipped Classroom
4. Bloom's Taxonomy

स्वयम (SWAYAM) पर मूक्स (MOOCs) के लिए ई-विषयवस्तु के विकास के लिए निम्न में से किस मॉडल का प्रयोग होता है ?

1. चार चतुष्क
2. दो चतुष्क
3. फ्लिपड कक्षा
4. ब्लूम का वर्गीकरण विज्ञान

[Question ID = 4382][Question Description = 109\_81\_GP6\_SEP22\_S2\_Q09]

1. 1 [Option ID = 17525]
2. 2 [Option ID = 17526]
3. 3 [Option ID = 17527]
4. 4 [Option ID = 17528]

5) In order to develop a video for MOOC, how much portion of some copyrighted video is allowed to be used as per the fair use guidelines?

1. Upto 10% or 10 minutes, whichever is less.
2. Upto 10% or 3 minutes, whichever is less.
3. Upto 20% or 10 minutes, whichever is less.
4. Upto 30% or 3 minutes, whichever is less.

मूक (MOOC) के लिए कोई वीडियो बनाने के लिए, उचित प्रयोग दिशानिर्देशों के अनुसार, किसी प्रतिलिप्याधिकारित वीडियो के कितने हिस्से का प्रयोग करने की अनुमति है ?

1. 10% तक, या 10 मिनट, जो भी कम हो।
2. 10% तक, या 3 मिनट, जो भी कम हो।
3. 20% तक, या 10 मिनट, जो भी कम हो।
4. 30% तक, या 3 मिनट, जो भी कम हो।

[Question ID = 4383][Question Description = 110\_81\_GP6\_SEP22\_S2\_Q10]

1. 1 [Option ID = 17529]
2. 2 [Option ID = 17530]
3. 3 [Option ID = 17531]
4. 4 [Option ID = 17532]

6) When the subjects of a research change or improve their behaviour, not due to changes in experimental stimulus, it is called

1. The Hawthorne effect
2. The Glenn effect
3. The Fischer effect
4. The Kerlinger effect

जब किसी शोध के विषयों के व्यवहार में परिवर्तन या सुधार प्रयोगात्मक उद्दीपकों में परिवर्तन के कारण नहीं होता है, तो उसे कहा जाता है :-

1. हावथोर्न प्रभाव
2. ग्लेन प्रभाव
3. फिशर प्रभाव
4. करलिंगर प्रभाव

[Question ID = 4384][Question Description = 111\_81\_GP6\_SEP22\_S2\_Q11]

1. 1 [Option ID = 17533]
2. 2 [Option ID = 17534]
3. 3 [Option ID = 17535]
4. 4 [Option ID = 17536]

7)

The advantages of research based on field experiments are:

- A. A strong external validity
- B. Subjects behave normally and naturally.
- C. The experiment takes place in a natural setting.
- D. Generation of primary data
- E. Non-requirement of elaborate logistics

Choose the **correct** answer from the options given below:

- 1. A, B and C only
- 2. B, C and D only
- 3. C, D and E only
- 4. A, C and E only

क्षेत्र में प्रयोगों पर आधारित शोध के लाभ हैं :-

- A. एक प्रबल बाह्य वैधता।
- B. विषय सामान्य और स्वाभाविक रूप से व्यवहार करते हैं।
- C. प्रयोग प्राकृतिक व्यवस्था में होता है।
- D. प्राथमिक आंकड़ों का सृजन।
- E. विस्तृत संभार-तंत्र की आवश्यकता नहीं होती।

नीचे दिए गए विकल्पों में से सही उत्तर चुनें :

- 1. केवल A, B और C
- 2. केवल B, C और D
- 3. केवल C, D और E
- 4. केवल A, C और E



[Question ID = 4385][Question Description = 112\_81\_GP6\_SEP22\_S2\_Q12]

- 1. 1 [Option ID = 17537]
- 2. 2 [Option ID = 17538]
- 3. 3 [Option ID = 17539]
- 4. 4 [Option ID = 17540]

8)

Hypothesis, that is alternative to null hypothesis, is represented as

- 1.  $H_0$
- 2.  $H_1$
- 3.  $H_{alt}$
- 4.  $H_{\neq 0}$

परिकल्पना, जो शून्य परिकल्पना का विकल्प है, को दर्शाया जाता है

1.  $H_0$
2.  $H_1$
3.  $H_{alt}$
4.  $H_{\neq 0}$

[Question ID = 4386][Question Description = 113\_81\_GP6\_SEP22\_S2\_Q13]

1. 1 [Option ID = 17541]
2. 2 [Option ID = 17542]
3. 3 [Option ID = 17543]
4. 4 [Option ID = 17544]

9) What is SCOPUS?

1. Software to prepare Ph.D thesis
2. Database containing abstracts and citations of academic journals
3. Agency to fund research and development
4. Plagiarism checking software

स्कॉपस (SCOPUS) क्या है ?

1. पी.एच.डी. शोध ग्रंथ तैयार करने का सॉफ्टवेयर
2. डाटाबेस जिसमें शैक्षिक पत्रिकाओं के सार एवं उद्धरण होते हैं
3. शोध और विकास के वित्तपोषण के लिए अभिकरण
4. साहित्यिक चोरी की जाँच करने वाला सॉफ्टवेयर

[Question ID = 4387][Question Description = 114\_81\_GP6\_SEP22\_S2\_Q14]

1. 1 [Option ID = 17545]
2. 2 [Option ID = 17546]
3. 3 [Option ID = 17547]
4. 4 [Option ID = 17548]

10) The Social Science research which is data-based, has been associated with

1. Authoritarian mode
2. Positivist philosophy
3. Network theory
4. Phenomenology

वह सामाजिक विज्ञान शोध, जो आंकड़ा-आधारित होता है, निम्नलिखित से संबद्ध है :-

1. सत्तावादी पद्धति
2. प्रत्यक्षवादी दर्शन
3. नेटवर्क सिद्धांत
4. दृश्यघटना विज्ञान

[Question ID = 4388][Question Description = 115\_81\_GP6\_SEP22\_S2\_Q15]

1. 1 [Option ID = 17549]
2. 2 [Option ID = 17550]
3. 3 [Option ID = 17551]
4. 4 [Option ID = 17552]

11)

The modern communication revolution is propelled by

1. Cold war propaganda
2. International commerce
3. Technological convergence
4. Change in political systems

आधुनिक सम्प्रेषण क्रांति किसके द्वारा अभिप्रेरित है ?

1. शीत युद्ध का प्रोपेगैंडा
2. अंतर्राष्ट्रीय वाणिज्य
3. प्रौद्योगिकीय अभिसरण
4. राजनीतिक प्रणाली में परिवर्तन

[Question ID = 4389][Question Description = 116\_81\_GP6\_SEP22\_S2\_Q16]

1. 1 [Option ID = 17553]
2. 2 [Option ID = 17554]
3. 3 [Option ID = 17555]
4. 4 [Option ID = 17556]

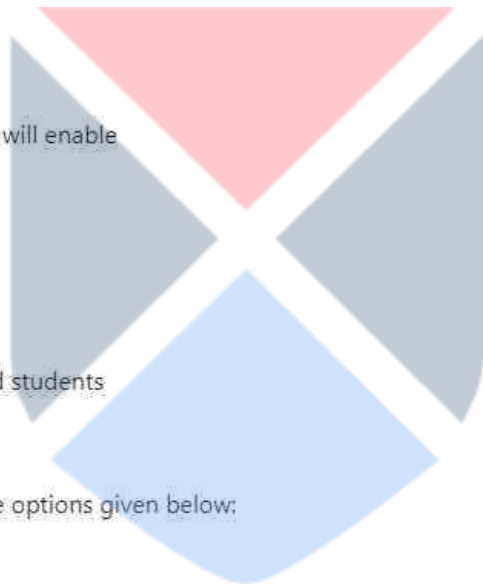
12)

Effective classroom communication will enable

- A. Efficient teaching
- B. Interest in learning
- C. Minimal assessment
- D. Interaction between teachers and students
- E. Teacher-centric behaviour

Choose the **correct** answer from the options given below:

1. A, B and C only
2. B, C, D and E only
3. C, D and E only
4. A, B and D only



कक्षा में प्रभावी सम्प्रेषण किसमें सक्षम करेगा :

- A. कुशल अध्यापन
- B. सीखने में रुचि
- C. अल्पतम मूल्यांकन
- D. शिक्षकों और विद्यार्थियों के बीच अन्योन्य क्रिया
- E. अध्यापक- केंद्रित व्यवहार

नीचे दिए गए विकल्पों में से सही उत्तर चुनें :

- 1. केवल A, B और C
- 2. केवल B, C, D और E
- 3. केवल C, D और E
- 4. केवल A, B और D

[Question ID = 4390][Question Description = 117\_81\_GP6\_SEP22\_S2\_Q17]

- 1. 1 [Option ID = 17557]
- 2. 2 [Option ID = 17558]
- 3. 3 [Option ID = 17559]
- 4. 4 [Option ID = 17560]

13)

Which of the following are barriers to understand the communicated messages?

- A. Emotional quotient
- B. Jargon
- C. Personal space
- D. Pre-judgement
- E. Cultural background

Choose the **correct** answer from the options given below:

- 1. A, B and C only
- 2. B, D and E only
- 3. C, D and E only
- 4. B, C and D only





निम्नलिखित में से कौन से सम्प्रेषित संदेशों को समझने में अवरोधक हैं ?

- A. संवेदात्मक-लब्धि
- B. अनर्गल
- C. वैयक्तिक स्थान
- D. पूर्व-निर्णय
- E. सांस्कृतिक पृष्ठभूमि

नीचे दिए गए विकल्पों में से सही उत्तर चुनें :

- 1. केवल A, B और C
- 2. केवल B, D और E
- 3. केवल C, D और E
- 4. केवल B, C और D

[Question ID = 4391][Question Description = 118\_81\_GP6\_SEP22\_S2\_Q18]

- 1. 1 [Option ID = 17561]
- 2. 2 [Option ID = 17562]
- 3. 3 [Option ID = 17563]
- 4. 4 [Option ID = 17564]

14)

Given below are two statements

**Statement I:** Knowledge is a form of cultural capital for all practical purposes.

**Statement II:** Communication media make cultural capital a form of illimitable property.

In light of the above statements, choose the **most appropriate** answer from the options given below

- 1. Both Statement I and Statement II are correct
- 2. Both Statement I and Statement II are incorrect
- 3. Statement I is correct but Statement II is incorrect
- 4. Statement I is incorrect but Statement II is correct

नीचे दो कथन दिए गए हैं :

कथन - I : ज्ञान सभी व्यावहारिक प्रयोजनों के लिए सांस्कृतिक पूंजी का एक रूप है।

कथन - II : सम्प्रेषण मीडिया, सांस्कृतिक पूंजी को एक प्रकार की असीमित सम्पत्ति बनाता है।

उपर्युक्त कथनों के आलोक में निम्नलिखित विकल्पों में से सही उत्तर चुनें :

- 1. कथन I और II दोनों सही हैं।
- 2. कथन I और II दोनों गलत हैं।
- 3. कथन I सही है, किन्तु कथन II गलत है।
- 4. कथन I गलत है, किन्तु कथन II सही है।

[Question ID = 4392][Question Description = 119\_81\_GP6\_SEP22\_S2\_Q19]

- 1. 1 [Option ID = 17565]
- 2. 2 [Option ID = 17566]
- 3. 3 [Option ID = 17567]
- 4. 4 [Option ID = 17568]

15)

Match **List I** with **List II**

List I	List II
<b>Concept of presentation</b>	<b>Characteristic</b>
A. Text	I. Order of signification
B. Discourse	II. Subjective invention
C. Connotation	III. Micro data
D. Myth	IV. Macro exchange

Choose the **correct** answer from the options given below:

1. A - I, B - II, C - III, D - IV
2. A - II, B - III, C - IV, D - I
3. A - III, B - IV, C - I, D - II
4. A - IV, B - I, C - II, D - III

सूची -I को सूची -II से सुमेलित कीजिए :

सूची -I	सूची -II
प्रस्तुतीकरण की अवधारणा	विशेषताएं
A. पाठ	I. महत्वीकरण का क्रम
B. विमर्श	II. आत्म-निष्ठ खोज
C. गुणार्थ	III. माइक्रो-डेटा
D. मिथक	IV. बृहत आदान-प्रदान

नीचे दिए गए विकल्पों में से सही उत्तर चुनिए :

1. A - I, B - II, C - III, D - IV
2. A - II, B - III, C - IV, D - I
3. A - III, B - IV, C - I, D - II
4. A - IV, B - I, C - II, D - III

[Question ID = 4393][Question Description = 120\_81\_GP6\_SEP22\_S2\_Q20]

1. 1 [Option ID = 17569]
2. 2 [Option ID = 17570]
3. 3 [Option ID = 17571]
4. 4 [Option ID = 17572]

16)

Choose the set of numbers, similar to the set (31, 19, 41) out of the following:

A. (27, 29, 47)

B. (23, 34, 49)

C. (29, 16, 41)

D. (29, 17, 37)

E. (23, 37, 49)

Choose the **correct** answer from the options given below:

1. A, C and E only
2. A and B only
3. B and D only
4. D only

निम्नलिखित समुच्चयों में से समुच्चय (31,19,41) के समान संख्याओं के समुच्चय को चुनिए :-

A. (27, 29, 47)

B. (23, 34, 49)

C. (29, 16, 41)

D. (29, 17, 37)

E. (23, 37, 49)

नीचे दिए गए विकल्पों में से सही उत्तर चुनें :

1. केवल A, C और E
2. केवल A और B
3. केवल B और D
4. केवल D



[Question ID = 4394][Question Description = 121\_81\_GP6\_SEP22\_S2\_Q21]

1. 1 [Option ID = 17573]
2. 2 [Option ID = 17574]
3. 3 [Option ID = 17575]
4. 4 [Option ID = 17576]

17)

Unscramble the strings below to create a meaningful word and then find the odd one out:

- A. EIWNTR
- B. UMRSME
- C. PIGRSN
- D. LCUOD

Choose the **correct** answer from the options given below:

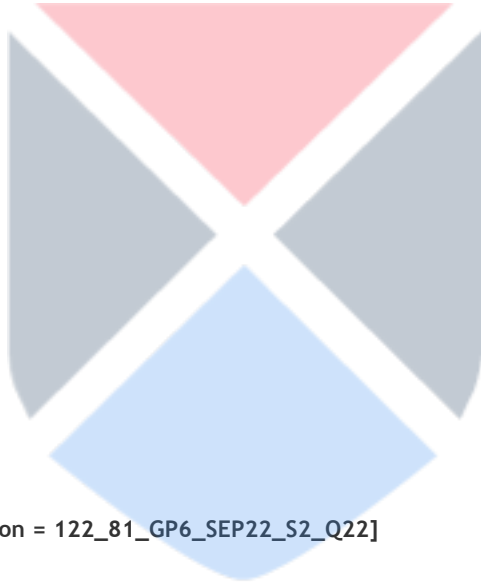
- 1. A only
- 2. B only
- 3. C only
- 4. D only

नीचे दिए गए सूत्र को इस प्रकार सुलझाएँ कि अर्थपूर्ण शब्द बने तथा तदुपरांत विषम को ढूँढें :-

- A. EIWNTR
- B. UMRSME
- C. PIGRSN
- D. LCUOD

नीचे दिए गए विकल्पों में से सही उत्तर चुनें :

- 1. केवल A
- 2. केवल B
- 3. केवल C
- 4. केवल D



[Question ID = 4395][Question Description = 122\_81\_GP6\_SEP22\_S2\_Q22]

- 1. 1 [Option ID = 17577]
- 2. 2 [Option ID = 17578]
- 3. 3 [Option ID = 17579]
- 4. 4 [Option ID = 17580]

18)

What shall be the value when 0.07 is divided by 350?

- 1. 0.0002
- 2. 0.002
- 3. 0.02
- 4. 0.00002

जब 0.07 को 350 से भाग किया जाएगा तो क्या मान प्राप्त होगा ?

- 1. 0.0002
- 2. 0.002
- 3. 0.02
- 4. 0.00002

[Question ID = 4396][Question Description = 123\_81\_GP6\_SEP22\_S2\_Q23]

1. 1 [Option ID = 17581]
2. 2 [Option ID = 17582]
3. 3 [Option ID = 17583]
4. 4 [Option ID = 17584]

19)

Six persons went to a hotel for a dinner. Five of them spent Rs 150 each on their meals, while the sixth person spent Rs 80 more than the average expenditure of all the six persons. What is the total money spent by all the six persons?

1. 996
2. 999
3. 1000
4. 1001

छह लोग रात्रि भोजन के लिए होटल में जाते हैं। उनमें पाँच व्यक्तियों में से प्रत्येक अपने भोजन पर ₹150 खर्च करता है। जबकि छठा व्यक्ति सभी छह व्यक्तियों के औसत खर्च से ₹80 अधिक खर्च करता है। सभी छह व्यक्तियों द्वारा कुल कितनी धन राशि खर्च की गई ?

1. ₹ 996
2. ₹ 999
3. ₹ 1000
4. ₹ 1001

[Question ID = 4397][Question Description = 124\_81\_GP6\_SEP22\_S2\_Q24]

1. 1 [Option ID = 17585]
2. 2 [Option ID = 17586]
3. 3 [Option ID = 17587]
4. 4 [Option ID = 17588]

20)

The selling price of 30 fans is equal to the purchase price of 25 fans. What is the profit or loss in percentage?

1. A gain of  $16\frac{2}{3}\%$
2. A loss of 15%
3. A loss of  $16\frac{2}{3}\%$
4. No gain, no loss

30 पंखों का बिक्री मूल्य 25 पंखों के खरीद मूल्य के बराबर है। लाभ अथवा हानि प्रतिशत में कितनी है ?

1.  $16\frac{2}{3}\%$  लाभ
2. 15% हानि
3.  $16\frac{2}{3}\%$  हानि
4. न हानि, न लाभ

[Question ID = 4398][Question Description = 125\_81\_GP6\_SEP22\_S2\_Q25]

1. 1 [Option ID = 17589]
2. 2 [Option ID = 17590]
3. 3 [Option ID = 17591]
4. 4 [Option ID = 17592]

21)

In Classical Square of Opposition, if 'Some S is P' is given as true then which of the following could be immediately inferred from it?

- A. 'Some S is not P' is false
- B. 'Some S is not P' is true
- C. 'No S is P' is false
- D. 'All S is P' is undetermined
- E. 'Some S is not P' is undetermined

Choose the **correct** answer from the options given below:

- 1. A, C and D only
- 2. C, D and E only
- 3. B, C and D only
- 4. B and C only

विरोधों के शास्त्रीय चतुर्भुज में 'कुछ S, P होते हैं', को यदि सही माना गया हो तो निम्न में से किसको प्रत्यक्ष रूप से अनुमानित किया जा सकता है ?

- A. 'कुछ S, P नहीं है', गलत है
- B. 'कुछ S, P नहीं है', सत्य है
- C. 'कोई S, P नहीं है', गलत है
- D. 'सभी S, P है', अनिर्धारित है
- E. 'कुछ S, P नहीं है', अनिर्धारित है

नीचे दिए गए विकल्पों में से सही उत्तर चुनें :

- 1. केवल A, C और D
- 2. केवल C, D और E
- 3. केवल B, C और D
- 4. केवल B और C

[Question ID = 4399][Question Description = 126\_81\_GP6\_SEP22\_S2\_Q26]

- 1. 1 [Option ID = 17593]
- 2. 2 [Option ID = 17594]
- 3. 3 [Option ID = 17595]
- 4. 4 [Option ID = 17596]



22)

A fallacy in which the conclusion is stated or assumed within one of the premises is known severally as:

- A. *Petitio Principii*
- B. Irrelevant Conclusion
- C. Begging the Question
- D. Fallacy of Composition
- E. Circular argument

Choose the **correct** answer from the options given below:

- 1. A, D and E only
- 2. C and D only
- 3. B, C and E only
- 4. A, C and E only

कोई तर्क दोष जिसमें निष्कर्ष को एक आधार वाक्य के रूप के अंतर्गत रेखांकित किया गया हो अथवा माना गया हो उसे विभिन्न प्रकारों से क्या कहा जाता है।

- A. पिटिशियो प्रिंसिपी
- B. अप्रासंगिक निष्कर्ष
- C. आत्माश्रय दोष
- D. संयोजन का तर्क-दोष
- E. चक्रक दोष

- 1. केवल A, D और E
- 2. केवल C और D
- 3. केवल B, C और E
- 4. केवल A, C और E

[Question ID = 4400][Question Description = 127\_81\_GP6\_SEP22\_S2\_Q27]

- 1. 1 [Option ID = 17597]
- 2. 2 [Option ID = 17598]
- 3. 3 [Option ID = 17599]
- 4. 4 [Option ID = 17600]

23)

Analogical Arguments are:

- 1. Deductive in nature
- 2. Inductive in nature
- 3. Valid arguments but fallacious
- 4. Invalid arguments

सदृशमूलक तर्क हैं :

1. निगमात्मक प्रकृति रूपी
2. आगात्मक प्रकृति रूपी
3. वैध परंतु दोषयुक्त तर्क
4. अवैध तर्क

[Question ID = 4401][Question Description = 128\_81\_GP6\_SEP22\_S2\_Q28]

1. 1 [Option ID = 17601]
2. 2 [Option ID = 17602]
3. 3 [Option ID = 17603]
4. 4 [Option ID = 17604]

24)

Given below are two statements, one is labelled as **Assertion A** and the other is labelled as **Reason R**.

**Assertion A:** According to Classical Indian School of Logic (Nyāya), it is desirable but not necessary to offer an example in a syllogistic argument or inference.

**Reason R:** Example shows that there is at least one existent object or case in the world in which the middle and major terms co-exist.

In light of the above statements, choose the **most appropriate** answer from the options given below.

1. Both **A** and **R** are correct and **R** is the correct explanation of **A**.
2. Both **A** and **R** are correct but **R** is NOT the correct explanation of **A**.
3. **A** is correct but **R** is not correct.
4. **A** is not correct but **R** is correct.

नीचे दो कथन दिए गए हैं : एक को अभिकथन (A) और दूसरे को तर्क (R) कहा गया है।

अभिकथन (A) : शास्त्रीय भारतीय न्याय मत के अनुसार किसी न्याय वाक्य अथवा अनुमान का उदाहरण देना वांछनीय है, किंतु अनिवार्य नहीं।

कारण (R) : उदाहरण यह दर्शाता है कि कम से कम एक अस्तित्ववान वस्तु या सांसारिक स्थिति मौजूद है जिसमें मध्य पद और प्रमुख पद सह-विद्यमान हैं।

उपर्युक्त कथनों के आलोक में निम्नांकित विकल्पों में से सही उत्तर चुनें :

1. (A) और (R) दोनों सही हैं और (R), (A) की सही व्याख्या है।
2. (A) और (R) दोनों सही हैं परन्तु (R), (A) की सही व्याख्या नहीं है।
3. (A) सही है परन्तु (R) सही नहीं है।
4. (A) सही नहीं है परन्तु (R) सही है।

[Question ID = 4402][Question Description = 129\_81\_GP6\_SEP22\_S2\_Q29]

1. 1 [Option ID = 17605]
2. 2 [Option ID = 17606]
3. 3 [Option ID = 17607]
4. 4 [Option ID = 17608]



25)

An American is told by his friend that Asian buffalo is like bison in such and such respects. When the American visits Asia and comes across a buffalo, he comes to know that the animal seen by him is buffalo. Which of the following means of knowledge (pramāṇa) is used in this instance?

1. Postulation (Arthāpatti)
2. Comparison (Upamāna)
3. Perception (Pratyakṣa)
4. Verbal Testimony (Śabda)

एक अमेरिकी को उसके मित्र द्वारा बताया गया कि एक एशियाई भैंस इन और इन सन्दर्भों में बाइसन (BISON) की तरह होता है। जब इस अमेरिकी ने एशिया की यात्रा की और वह भैंस के सम्मुख आया तो उसे यह पता चला कि उसने जिस प्राणी को देखा, वह भैंस है। निम्नलिखित में से किस ज्ञान माध्यम (प्रमाण) का इस्तेमाल उसके द्वारा उस समय किया गया ?

1. अर्थापत्ती
2. उपमान
3. प्रत्यक्ष
4. शब्द

[Question ID = 4403][Question Description = 130\_81\_GP6\_SEP22\_S2\_Q30]

1. 1 [Option ID = 17609]
2. 2 [Option ID = 17610]
3. 3 [Option ID = 17611]
4. 4 [Option ID = 17612]

26)

Given below are two statements, one is labelled as **Assertion A** and the other is labelled as **Reason R**.

**Assertion A :** Static RAM is typically used for PC's main memory while Dynamic RAM is used for CPU cache.

**Reason R :** Static RAM is faster and more expensive than Dynamic RAM.

In light of the above statements, choose the **correct** answer from the options given below

1. Both **A** and **R** are true and **R** is the correct explanation of **A**
2. Both **A** and **R** are true but **R** is NOT the correct explanation of **A**
3. **A** is true but **R** is false
4. **A** is false but **R** is true

नीचे दो कथन दिए गए हैं : एक को अभिकथन (A) और दूसरे को कारण (R) कहा गया है।

अभिकथन (A) : 'स्टैटिक रैम' का विशिष्ट रूप से उपयोग 'पी सी' की मेम मेमोरी के लिए किया जाता है जबकि "डायनेमिक रैम" सी पी यू केशे के लिए प्रयोग की जाती है।

कारण (R) : "स्टैटिक रैम" "डायनेमिक रैम" की तुलना में अधिक तेज और महंगी होती है।

उपर्युक्त कथनों के आलोक में निम्नांकित विकल्पों में से सही उत्तर चुनें :

1. (A) और (R) दोनों सत्य हैं और (R), (A) की सही व्याख्या है।
2. (A) और (R) दोनों सत्य हैं परन्तु (R), (A) की सही व्याख्या नहीं है।
3. (A) सत्य है परन्तु (R) असत्य है।
4. (A) असत्य है परन्तु (R) सत्य है।

[Question ID = 4404][Question Description = 131\_81\_GP6\_SEP22\_S2\_Q31]

- 1 [Option ID = 17613]
- 2 [Option ID = 17614]
- 3 [Option ID = 17615]
- 4 [Option ID = 17616]

27)

With respect to the Computers, what is the purpose of compressing a data file?

1. To encrypt the data
2. To occupy less storage space
3. To increase transmission time over a network
4. To allow the file to be read by a variety of applications

कम्प्यूटर के संदर्भ में एक डाटा फाइल को कम्प्रेस करने का क्या उद्देश्य होता है ?

1. डाटा को एन्क्रिप्ट करने के लिए
2. कम स्टोरेज स्पेस घेरने के लिए
3. एक नेटवर्क पर ट्रांसमिशन टाइम में वृद्धि करने के लिए
4. एक फाइल को विभिन्न अनुप्रयोगों द्वारा पढ़े जाने के लिए अनुमति देना

[Question ID = 4405][Question Description = 132\_81\_GP6\_SEP22\_S2\_Q32]

- 1 [Option ID = 17617]
- 2 [Option ID = 17618]
- 3 [Option ID = 17619]
- 4 [Option ID = 17620]


28)

Which of the following peripheral devices are considered as only input devices?

- A. Microphone
- B. Projector
- C. Joy Stick
- D. Scanner
- E. Track-ball

Choose the **correct** answer from the options given below:

1. A, C, D and E only
2. A, B, D and E only
3. B, C, D and E only
4. A, B, C and D only



निम्नलिखित पेरिफेरल डिवाइसेस में से किन्हें केवल इनपुट डिवाइसेस माना जाता है ?

- A. माइक्रोफोन
- B. प्रोजेक्टर
- C. जॉय स्टिक
- D. स्कैनर
- E. ट्रैक बाल

नीचे दिए गए विकल्पों में से सही उत्तर चुनें :

- 1. केवल A, C, D और E
- 2. केवल A, B, D और E
- 3. केवल B, C, D और E
- 4. केवल A, B, C और D

[Question ID = 4406][Question Description = 133\_81\_GP6\_SEP22\_S2\_Q33]

- 1. 1 [Option ID = 17621]
- 2. 2 [Option ID = 17622]
- 3. 3 [Option ID = 17623]
- 4. 4 [Option ID = 17624]

29)

A Company's word-processed daily report contains a graph from a spreadsheet. The report needs to display the most recent information from the spreadsheet. What feature should be used to insert the most up-to-date graph?

- 1. Copy and paste
- 2. Mail merge wizard
- 3. Automated importing
- 4. Linking and embedding

किसी कम्पनी की वर्ड-प्रोसेस्ड दैनिक रिपोर्ट में स्प्रेडशीट का एक ग्राफ शामिल होता है। रिपोर्ट में स्प्रेडशीट से अद्यतन सूचना को दिया जाना आवश्यक होता है। अद्यतन ग्राफ को अंतर्विष्ट करने के लिए किस गुण (फीचर) का उपयोग किया जाना चाहिए ?

- 1. कापी और पेस्ट
- 2. मेल मर्ज विज़र्ड
- 3. आटोमेटेड इम्पोर्टिंग
- 4. लिंकिंग और एम्बेडिंग

[Question ID = 4407][Question Description = 134\_81\_GP6\_SEP22\_S2\_Q34]

- 1. 1 [Option ID = 17625]
- 2. 2 [Option ID = 17626]
- 3. 3 [Option ID = 17627]
- 4. 4 [Option ID = 17628]

30)

Which type of virus or destructive software could appear to be useful, but will actually cause damage once installed or run by a user?

1. Hoax
2. Worm
3. Trojan Horse
4. System Sector

किसी प्रयोक्ता को किस प्रकार का वायरस अथवा डैस्ट्रक्टिव सॉफ्टवेयर उपयोगी प्रतीत होता है, लेकिन एक बार सॉफ्टवेयर इंस्टॉल करने के बाद अथवा उसे चलाने पर वास्तव में उससे डैमेज होता है

1. होक्स (HOAX)
2. वार्म (WORM)
3. ट्रॉयन हार्स (TROJAN HORSE)
4. सिस्टम सेक्टर (SYSTEM SECTOR)

[Question ID = 4408][Question Description = 135\_81\_GP6\_SEP22\_S2\_Q35]

1. 1 [Option ID = 17629]
2. 2 [Option ID = 17630]
3. 3 [Option ID = 17631]
4. 4 [Option ID = 17632]

31)

According to Noise Pollution (Regulation and Control) Rules in India, noise ( $L_{eq}$ ) in educational institutions during night time (10pm-6am) must not exceed

1. 35 dB
2. 40 dB
3. 45 dB
4. 50 dB

भारत में ध्वनि प्रदूषण (विनियम एवं नियंत्रण) नियमावली के अनुसार, शैक्षिक संस्थाओं में रात 10 बजे अपराह्न से 6 बजे पूर्वाह्न तक की अवधि में ध्वनि ( $L_{eq}$ ) का स्तर निम्नलिखित से अधिक नहीं होना चाहिए

1. 35 dB
2. 40 dB
3. 45 dB
4. 50 dB

[Question ID = 4409][Question Description = 136\_81\_GP6\_SEP22\_S2\_Q36]

1. 1 [Option ID = 17633]
2. 2 [Option ID = 17634]
3. 3 [Option ID = 17635]
4. 4 [Option ID = 17636]

32)

The percentage increase in carbon dioxide concentration in atmosphere from pre-industrial times is approximately

1. 55 %
2. 50 %
3. 74 %
4. 62 %

औद्योगिक काल से पहले से वातावरण में कार्बन डाइऑक्साइड सांद्रता में प्रतिशत वृद्धि लगभग है :

1. 55%
2. 50%
3. 74%
4. 62%

[Question ID = 4410][Question Description = 137\_81\_GP6\_SEP22\_S2\_Q37]

1. 1 [Option ID = 17637]
2. 2 [Option ID = 17638]
3. 3 [Option ID = 17639]
4. 4 [Option ID = 17640]

33)

The highest nonzero dose at which no toxic effect is observed in a study on animals is called

1. LD<sub>50</sub>
2. NOAEL
3. LOAEL
4. NOEFF

अधिकतम गैर शून्य मात्रा जिस पर कोई भी विषाक्त प्रभाव जानवरों पर अध्ययन में नहीं देखा जाता है, निम्नलिखित कही जाती है :

1. LD<sub>50</sub>
2. NOAEL
3. LOAEL
4. NOEFF

[Question ID = 4411][Question Description = 138\_81\_GP6\_SEP22\_S2\_Q38]

1. 1 [Option ID = 17641]
2. 2 [Option ID = 17642]
3. 3 [Option ID = 17643]
4. 4 [Option ID = 17644]

34)

Given below are two statements, one is labelled as **Assertion A** and the other is labelled as **Reason R**.

**Assertion A:** Hybrid Electric Vehicles' (HEVs) fuel running cost is lesser than Electric Vehicles (EVs).

**Reason R:** Hybrid Electric Vehicles have both an internal combustion engine and an onboard electric power generation system.

In light of the above statements, choose the **most appropriate** answer from the options given below

1. Both **A** and **R** are correct and **R** is the correct explanation of **A**
2. Both **A** and **R** are correct but **R** is NOT the correct explanation of **A**
3. **A** is correct but **R** is not correct
4. **A** is not correct but **R** is correct

नीचे दो कथन दिए गए हैं : एक को अभिकथन (A) और दूसरे को कारण (R) कहा गया है।

अभिकथन (A) : हाइब्रिड इलेक्ट्रिक वाहनों (HEVs) की ईंधन चालन लागत इलेक्ट्रिक वाहन (EVs) से कम है।

कारण (R) : हाइब्रिड इलेक्ट्रिक वाहन में आंतरिक दहन ईंजन और एक ऑनबोर्ड इलेक्ट्रिक विद्युत उत्पादन प्रणाली दोनों होते हैं।

उपर्युक्त कथनों के आलोक में निम्नांकित विकल्पों में से सही उत्तर चुनें :

1. (A) और (R) दोनों सही हैं और (R), (A) की सही व्याख्या है।
2. (A) और (R) दोनों सही हैं परन्तु (R), (A) की सही व्याख्या नहीं है।
3. (A) सही है परन्तु (R) सही नहीं है।
4. (A) सही नहीं है परन्तु (R) सही है।

[Question ID = 4412][Question Description = 139\_81\_GP6\_SEP22\_S2\_Q39]

1. 1 [Option ID = 17645]
2. 2 [Option ID = 17646]
3. 3 [Option ID = 17647]
4. 4 [Option ID = 17648]

35)

What is the correct chronological order of sequence from older to newer of the following agreement, summit and protocols?

- A. Paris Agreement
- B. Montreal Protocol
- C. Kyoto Protocol
- D. Rio Summit

Choose the **correct** answer from the options given below

1. A, B, C, D
2. B, D, C, A
3. A, C, D, B
4. B, C, D, A

निम्नलिखित समझौता, शिखर सम्मलेन एवं प्रोटोकॉलों का पुराने से नए कालानुक्रम में सही क्रम क्या है ?

- A. पेरिस समझौता
- B. मॉन्ट्रियल प्रोटोकॉल
- C. क्योटो प्रोटोकॉल
- D. रियो शिखर सम्मेलन

नीचे दिए गए विकल्पों में से सही उत्तर चुनें :

1. A, B, C, D
2. B, D, C, A
3. A, C, D, B
4. B, C, D, A

[Question ID = 4413][Question Description = 140\_81\_GP6\_SEP22\_S2\_Q40]

1. 1 [Option ID = 17649]

2. 2 [Option ID = 17650]
3. 3 [Option ID = 17651]
4. 4 [Option ID = 17652]

36)

Which of the following universities is an Institute of Eminence?

1. Central University of Gujrat, Gandhinagar
2. University of Hyderabad
3. Tezpur University
4. Jamia Millia Islamia

निम्नलिखित विश्वविद्यालयों में से कौन सा लब्धप्रतिष्ठ संस्थान है ?

1. गुजरात केन्द्रीय विश्वविद्यालय, गांधीनगर
2. हैदराबाद विश्वविद्यालय
3. तेजपुर विश्वविद्यालय
4. जामिया मिलिया इस्लामिया

[Question ID = 4414][Question Description = 141\_81\_GP6\_SEP22\_S2\_Q41]

1. 1 [Option ID = 17653]
2. 2 [Option ID = 17654]
3. 3 [Option ID = 17655]
4. 4 [Option ID = 17656]

37)

Given below are two statements

**Statement I:** With Academic Bank of Credit facility in place, a student will be able to customize and design own degree, provided 50% of credit are from the higher education institutions awarding the degree.

**Statement II:** Credits once used or redeemed by a student cannot be used for any other formal purpose or course waivers.

In light of the above statements, choose the **most appropriate** answer from the options given below

1. Both Statement I and Statement II are correct
2. Both Statement I and Statement II are incorrect
3. Statement I is correct but Statement II is incorrect
4. Statement I is incorrect but Statement II is correct

नीचे दो कथन दिए गए हैं :

कथन - I : अकेडमिक बैंक ऑफ क्रेडिट सुविधा लागू होने के साथ, छात्र अपनी डिग्री को ग्राहकोनुकूल बनाने तथा डिजायन करने में सक्षम होंगे बशर्ते 50% क्रेडिट, डिग्री देने वाले उच्चतर शिक्षण संस्था से हो।

कथन - II : छात्र द्वारा क्रेडिट का उपयोग कर लेने अथवा उसे निस्तार कर लेने के बाद उसका उपयोग किसी अन्य औपचारिक उद्देश्य अथवा कोर्स से छूट के लिए नहीं किया जा सकता है।

उपर्युक्त कथनों के आलोक में निम्नलिखित विकल्पों में से सबसे उपयुक्त उत्तर चुनें :

1. कथन I और II दोनों सही हैं।
2. कथन I और II दोनों गलत हैं।
3. कथन I सही है, किन्तु कथन II गलत है।
4. कथन I गलत है, किन्तु कथन II सही है।

[Question ID = 4415][Question Description = 142\_81\_GP6\_SEP22\_S2\_Q42]

1. 1 [Option ID = 17657]
2. 2 [Option ID = 17658]
3. 3 [Option ID = 17659]
4. 4 [Option ID = 17660]

38)

In a State government university or Central University, recommendation of the Selection Committee for the recruitment of the faculty is approved by the

1. Academic Council
2. Executive Council
3. Finance Committee
4. Chancellor of University

राज्य सरकार के विश्वविद्यालय या केन्द्रीय विश्वविद्यालय में, संकाय की भर्ती के लिए चयन समिति की सिफारिश को स्वीकृत निम्नलिखित द्वारा किया जाता है :

1. शैक्षिक परिषद
2. कार्यकारी परिषद
3. वित्त समिति
4. विश्वविद्यालय के कुलाधिपति

[Question ID = 4416][Question Description = 143\_81\_GP6\_SEP22\_S2\_Q43]

1. 1 [Option ID = 17661]
2. 2 [Option ID = 17662]
3. 3 [Option ID = 17663]
4. 4 [Option ID = 17664]



39)

Environmental education encompasses the issues of

- A. Resource Consumption
- B. Environmental degradation
- C. Biodiversity loss
- D. Economic empowerment
- E. Climate change and its impact

Choose the **correct** answer from the options given below:

- 1. A, B, C and D only
- 2. A, B, C and E only
- 3. B, C, D and E only
- 4. B and E only

पर्यावरणीय शिक्षा में निम्नलिखित मुद्दे शामिल हैं :

- A. संसाधन उपभोग
- B. पर्यावरणीय अवनति
- C. जैव विविधता की हानि
- D. आर्थिक सशक्तिकरण
- E. जलवायु परिवर्तन एवं इसका प्रभाव

नीचे दिए गए विकल्पों में से सही उत्तर चुनें :

- 1. केवल A, B, C और D
- 2. केवल A, B, C और E
- 3. केवल B, C, D और E
- 4. केवल B और E



[Question ID = 4417][Question Description = 144\_81\_GP6\_SEP22\_S2\_Q44]

- 1. 1 [Option ID = 17665]
- 2. 2 [Option ID = 17666]
- 3. 3 [Option ID = 17667]
- 4. 4 [Option ID = 17668]

40)

Given below are two statements

**Statement I:** The recommendations of the Radhakrishnan Commission in 1949 resemble those of Calcutta University Commission in 1917.

**Statement II:** The recommendations of the Mudaliar Commission in 1953 resemble those of John Sergent's post-war Educational Development Plan in 1944.

In light of the above statements, choose the **most appropriate** answer from the options given below

1. Both Statement I and Statement II are correct
2. Both Statement I and Statement II are incorrect
3. Statement I is correct but Statement II is incorrect
4. Statement I is incorrect but Statement II is correct

नीचे दो कथन दिए गए हैं :

कथन - I : 1949 में राधाकृष्णन आयोग की सिफारिशों 1917 में कलकत्ता विश्वविद्यालय आयोग की सिफारिशों के सदृश हैं।

कथन - II : 1953 में मुदलियर आयोग की सिफारिशों 1944 में जॉन सर्जेण्ट के युद्ध पश्चात शैक्षिक विकास योजना की सिफारिशों के सदृश है।

उपर्युक्त कथनों के आलोक में निम्नलिखित विकल्पों में से सही उत्तर चुनें :

1. कथन I और II दोनों सही हैं।
2. कथन I और II दोनों गलत हैं।
3. कथन I सही है, किन्तु कथन II गलत है।
4. कथन I गलत है, किन्तु कथन II सही है।

[Question ID = 4418][Question Description = 145\_81\_GP6\_SEPT22\_S2\_Q45]

1. 1 [Option ID = 17669]
2. 2 [Option ID = 17670]
3. 3 [Option ID = 17671]
4. 4 [Option ID = 17672]

Topic: - 22 GP\_29SEPT22\_SH1\_S2\_C

1) **Read the given passage and answer the questions that follow**

Human beings are not completely free to socially construct their own behaviour. They have a shared biological nature. The nature is remarkably uniform throughout the world, given the fact that most contemporary humans outside of Africa descended from a single relatively small group of individuals some fifty thousand years ago. This shared nature does not determine political behaviour, but it frames and limits the nature of institutions that are possible. It also means that human politics is subject to certain recurring patterns of behaviour across time and across cultures. This shared nature can be described in certain propositions like that the human beings never existed in a pre-social state.

The idea that human beings at one time existed as isolated individuals, who interacted either through anarchic violence (Hobbes) or in pacific ignorance of one another (Rousseau), is not correct. Human beings as well as their primate ancestors always lived in kin-based social groups of varying sizes. Indeed, they lived in these social units for a sufficiently long period of time that the cognitive and emotional faculties needed to promote social cooperation evolved and became hardwired in their genetic endowments. This means that a rational-choice model of collective action, in which individuals calculate that they will be better off by cooperating with one another, vastly understates the degree of social cooperation that exists in human societies and misunderstands the motives that underlie it.

The next one is the idea of natural human sociability. This is built around two principles, kin selection and reciprocal altruism. The principle of kin selection or inclusive fitness states that human beings will act altruistically toward genetic relatives (or individuals believed to be genetic relatives) in rough proportion to their shared genes. The principle of reciprocal altruism says that human beings tend to develop relationships of mutual benefit or mutual harm as they interact with other individuals over time. Reciprocal altruism, unlike kin selection, does not depend on genetic relatedness: it does, however, depend upon repeated, direct personal interaction.

The shared biological nature of humans influences

1. The division of social constructs
2. The nature of institutions in society
3. The political behaviour of people
4. The formation of social groups

## निम्नलिखित उद्धरण को पढ़ें और सम्बंधित पाँच प्रश्नों के उत्तर दें।

मानवजाति अपने व्यवहार को सामाजिक तौर पर निर्माण करने के लिए पूर्ण रूप से स्वतंत्र नहीं है उनकी जैविकीय प्रकृति समान होती है, पूरे विश्व में प्रकृति एक सामान होती है इस तथ्य को देखते हुए कि अधिकांश समकालिक मानवों की उत्पत्ति अफ्रीका के बाहर एक अपेक्षाकृत छोटे समूह के द्वारा लगभग 50 हजार वर्ष पहले हुई थी। यह परस्पर प्रकृति राजनीतिक व्यवहार को निर्धारित नहीं करती है लेकिन यह संभावित संस्थाओं की प्रकृति निर्मित और सीमित करती है। इसका तात्पर्य यह है कि समय और संस्कृतियों के क्रम में मानव राजनीति व्यवहार के कुछ विशिष्ट तरीकों से विनिर्दिष्ट होती है, इस परस्पर प्रकृति को कुछ हद तक इस तरह वर्णित किया जा सकता है कि मानवजाति समाज पूर्व स्थिति से पहले अस्तित्व में नहीं था यह विचार कि मानव जाति एक समय में पृथक व्यक्ति के तौर पर अस्तित्व में थी जो आपस में अराजकतापूर्ण हिंसा (हॉब्स) द्वारा या एक दूसरे से प्रशांत अज्ञानतावश मिलते थे (रूसो) ऐसा कहना सही नहीं है। मानवजाति और उनके पुराप्राचीन पूर्वज हमेशा आपसी संबंधों के आधार पर विभिन्न आकार के सामाजिक समूहों में रहते थे। वास्तव में वे इन सामाजिक एककों में लम्बे समय तक रहे जिससे सामाजिक सहयोग के लिए आवश्यक प्रज्ञामूलक और भावनात्मक क्षमतायें विकसित हुयीं और वे अपने जीन अक्षयनिधि से दृढ़तापूर्वक जुड़ गयीं। इसका अर्थ यह हुआ कि सामूहिक कार्य का विवेकपूर्ण-विकल्प प्रतिदर्श, जिसमें एक व्यक्ति यह समझता है कि वह आपस में सहयोग करके ही बेहतर ढंग से रह सकते हैं, बहुत हद तक सामाजिक सहयोग के महत्त्व को कमतर दिखाता है, जो मानव समाज में विद्यमान होता है और जो इसके अंतर्गत निहित इरादों को ठीक से नहीं समझता है। अगला विचार प्राकृतिक मानवीय सामाजिकता का है। यह दो सिद्धांतों पर आधारित है जो रिश्तेदारों का चयन और परस्पर परोपकारिता पर निर्भर है। यह रिश्तेदार चयन या समावेशी अनुकूलता का सिद्धांत दर्शाता है कि मानवीय क्रिया की परोपकारिता जैनेटिक संबंधों की ओर (या ऐसे व्यक्ति जो जैनेटिक रूप से एक दूसरे से जुड़े हों) साधारण तौर पर उनके साझा जीन्स के समानुपाती होती है। परस्पर परोपकारिता का सिद्धांत यह कहता है कि मानव का स्वभाव आपसी सम्बंध स्थापित करने का है जो परस्पर लाभ या परस्पर हानि पर आधारित होता है जब वह समय के दौरान एक दूसरे से मिलते जुलते हैं। परस्पर परोपकारिता रिश्तेदार चयन के विपरीत जैनेटिक सम्बद्धता पर आधारित नहीं होता है हालांकि यह बार-बार प्रत्यक्ष व्यक्तिगत मेलजोल पर निर्भर है।

मानव की साझा जैविक प्रकृति किसे प्रभावित करती है ?

1. सामाजिक ताने-बाने का विभाजन
2. समाज में संस्थाओं की प्रकृति
3. लोगों का राजनितिक व्यवहार
4. सामाजिक समूहों की रचना

[Question ID = 4419][Question Description = 146\_81\_GP6\_SEP22\_S2\_Q46]

1. 1 [Option ID = 17673]
2. 2 [Option ID = 17674]
3. 3 [Option ID = 17675]
4. 4 [Option ID = 17676]

2) **Read the given passage and answer the questions that follow**

Human beings are not completely free to socially construct their own behaviour. They have a shared biological nature. The nature is remarkably uniform throughout the world, given the fact that most contemporary humans outside of Africa descended from a single relatively small group of individuals some fifty thousand years ago. This shared nature does not determine political behaviour, but it frames and limits the nature of institutions that are possible. It also means that human politics is subject to certain recurring patterns of behaviour across time and across cultures. This shared nature can be described in certain propositions like that the human beings never existed in a pre-social state.

The idea that human beings at one time existed as isolated individuals, who interacted either through anarchic violence (Hobbes) or in pacific ignorance of one another (Rousseau), is not correct. Human beings as well as their primate ancestors always lived in kin-based social groups of varying sizes. Indeed, they lived in these social units for a sufficiently long period of time that the cognitive and emotional faculties needed to promote social cooperation evolved and became hardwired in their genetic endowments. This means that a rational-choice model of collective action, in which individuals calculate that they will be better off by cooperating with one another, vastly understates the degree of social cooperation that exists in human societies and misunderstands the motives that underlie it.

The next one is the idea of natural human sociability. This is built around two principles, kin selection and reciprocal altruism. The principle of kin selection or inclusive fitness states that human beings will act altruistically toward genetic relatives (or individuals believed to be genetic relatives) in rough proportion to their shared genes. The principle of reciprocal altruism says that human beings tend to develop relationships of mutual benefit or mutual harm as they interact with other individuals over time. Reciprocal altruism, unlike kin selection, does not depend on genetic relatedness: it does, however, depend upon repeated, direct personal interaction.

Human beings did not exist in a pre-social state due to

1. Social kinsfolk
2. Human politics across cultures
3. Institutional limitations
4. Absence of individual independence

## निम्नलिखित उद्धरण को पढ़ें और सम्बंधित पाँच प्रश्नों के उत्तर दें।

मानवजाति अपने व्यवहार को सामाजिक तौर पर निर्माण करने के लिए पूर्ण रूप से स्वतंत्र नहीं है उनकी जैविकीय प्रकृति समान होती है, पूरे विश्व में प्रकृति एक सामान होती है इस तथ्य को देखते हुए कि अधिकांश समकालिक मानवों की उत्पत्ति अफ्रीका के बाहर एक अपेक्षाकृत छोटे समूह के द्वारा लगभग 50 हजार वर्ष पहले हुई थी। यह परस्पर प्रकृति राजनीतिक व्यवहार को निर्धारित नहीं करती है लेकिन यह संभावित संस्थाओं की प्रकृति निर्मित और सीमित करती है। इसका तात्पर्य यह है कि समय और संस्कृतियों के क्रम में मानव राजनीति व्यवहार के कुछ विशिष्ट तरीकों से विनिर्दिष्ट होती है, इस परस्पर प्रकृति को कुछ हद तक इस तरह वर्णित किया जा सकता है कि मानवजाति समाज पूर्व स्थिति से पहले अस्तित्व में नहीं था यह विचार कि मानव जाति एक समय में पृथक व्यक्ति के तौर पर अस्तित्व में थी जो आपस में अराजकतापूर्ण हिंसा (हॉब्स) द्वारा या एक दूसरे से प्रशांत अज्ञानतावश मिलते थे (रूसो) ऐसा कहना सही नहीं है। मानवजाति और उनके पुराप्राचीन पूर्वज हमेशा आपसी संबंधों के आधार पर विभिन्न आकार के सामाजिक समूहों में रहते थे। वास्तव में वे इन सामाजिक एककों में लम्बे समय तक रहे जिससे सामाजिक सहयोग के लिए आवश्यक प्रज्ञामूलक और भावनात्मक क्षमतायें विकसित हुयीं और वे अपने जीन अक्षयनिधि से दृढ़तापूर्वक जुड़ गयीं। इसका अर्थ यह हुआ कि सामूहिक कार्य का विवेकपूर्ण-विकल्प प्रतिदर्श, जिसमें एक व्यक्ति यह समझता है कि वह आपस में सहयोग करके ही बेहतर ढंग से रह सकते हैं, बहुत हद तक सामाजिक सहयोग के महत्त्व को कमतर दिखाता है, जो मानव समाज में विद्यमान होता है और जो इसके अंतर्गत निहित इरादों को ठीक से नहीं समझता है। अगला विचार प्राकृतिक मानवीय सामाजिकता का है। यह दो सिद्धांतों पर आधारित है जो रिश्तेदारों का चयन और परस्पर परोपकारिता पर निर्भर है। यह रिश्तेदार चयन या समावेशी अनुकूलता का सिद्धांत दर्शाता है कि मानवीय क्रिया की परोपकारिता जैनेटिक संबंधों की ओर (या ऐसे व्यक्ति जो जैनेटिक रूप से एक दूसरे से जुड़े हों) साधारण तौर पर उनके साझा जीन्स के समानुपाती होती है। परस्पर परोपकारिता का सिद्धांत यह कहता है कि मानव का स्वभाव आपसी सम्बंध स्थापित करने का है जो परस्पर लाभ या परस्पर हानि पर आधारित होता है जब वह समय के दौरान एक दूसरे से मिलते जुलते हैं। परस्पर परोपकारिता रिश्तेदार चयन के विपरीत जैनेटिक सम्बद्धता पर आधारित नहीं होता है हालांकि यह बार-बार प्रत्यक्ष व्यक्तिगत मेलजोल पर निर्भर है।

किस कारण मानव पूर्व-सामाजिक स्थिति में नहीं रहा ?

1. सामाजिक जातिवर्ग
2. समग्र संस्कृतियों में मानव राजनीति
3. संस्थागत सीमाएँ
4. व्यक्तिगत स्वतंत्रता का आभाव

[Question ID = 4420][Question Description = 147\_81\_GP6\_SEP22\_S2\_Q47]

1. 1 [Option ID = 17677]
2. 2 [Option ID = 17678]
3. 3 [Option ID = 17679]
4. 4 [Option ID = 17680]

3) **Read the given passage and answer the questions that follow**

Human beings are not completely free to socially construct their own behaviour. They have a shared biological nature. The nature is remarkably uniform throughout the world, given the fact that most contemporary humans outside of Africa descended from a single relatively small group of individuals some fifty thousand years ago. This shared nature does not determine political behaviour, but it frames and limits the nature of institutions that are possible. It also means that human politics is subject to certain recurring patterns of behaviour across time and across cultures. This shared nature can be described in certain propositions like that the human beings never existed in a pre-social state.

The idea that human beings at one time existed as isolated individuals, who interacted either through anarchic violence (Hobbes) or in pacific ignorance of one another (Rousseau), is not correct. Human beings as well as their primate ancestors always lived in kin-based social groups of varying sizes. Indeed, they lived in these social units for a sufficiently long period of time that the cognitive and emotional faculties needed to promote social cooperation evolved and became hardwired in their genetic endowments. This means that a rational-choice model of collective action, in which individuals calculate that they will be better off by cooperating with one another, vastly understates the degree of social cooperation that exists in human societies and misunderstands the motives that underlie it.

The next one is the idea of natural human sociability. This is built around two principles, kin selection and reciprocal altruism. The principle of kin selection or inclusive fitness states that human beings will act altruistically toward genetic relatives (or individuals believed to be genetic relatives) in rough proportion to their shared genes. The principle of reciprocal altruism says that human beings tend to develop relationships of mutual benefit or mutual harm as they interact with other individuals over time. Reciprocal altruism, unlike kin selection, does not depend on genetic relatedness: it does, however, depend upon repeated, direct personal interaction.

From the author's point of view, the main characteristic of human society has been

1. Anarchic violence
2. Pacific ignorance of one another
3. Kinship based social groups
4. Calculated individual relations

## निम्नलिखित उद्धरण को पढ़ें और सम्बंधित पाँच प्रश्नों के उत्तर दें।

मानवजाति अपने व्यवहार को सामाजिक तौर पर निर्माण करने के लिए पूर्ण रूप से स्वतंत्र नहीं है उनकी जैविकीय प्रकृति समान होती है, पूरे विश्व में प्रकृति एक सामान होती है इस तथ्य को देखते हुए कि अधिकांश समकालिक मानवों की उत्पत्ति अफ्रीका के बाहर एक अपेक्षाकृत छोटे समूह के द्वारा लगभग 50 हजार वर्ष पहले हुई थी। यह परस्पर प्रकृति राजनीतिक व्यवहार को निर्धारित नहीं करती है लेकिन यह संभावित संस्थाओं की प्रकृति निर्मित और सीमित करती है। इसका तात्पर्य यह है कि समय और संस्कृतियों के क्रम में मानव राजनीति व्यवहार के कुछ विशिष्ट तरीकों से विनिर्दिष्ट होती है, इस परस्पर प्रकृति को कुछ हद तक इस तरह वर्णित किया जा सकता है कि मानवजाति समाज पूर्व स्थिति से पहले अस्तित्व में नहीं था यह विचार कि मानव जाति एक समय में पृथक व्यक्ति के तौर पर अस्तित्व में थी जो आपस में अराजकतापूर्ण हिंसा (हॉब्स) द्वारा या एक दूसरे से प्रशांत अज्ञानतावश मिलते थे (रूसो) ऐसा कहना सही नहीं है। मानवजाति और उनके पुराप्राचीन पूर्वज हमेशा आपसी संबंधों के आधार पर विभिन्न आकार के सामाजिक समूहों में रहते थे। वास्तव में वे इन सामाजिक एककों में लम्बे समय तक रहे जिससे सामाजिक सहयोग के लिए आवश्यक प्रज्ञामूलक और भावनात्मक क्षमतायें विकसित हुयीं और वे अपने जीन अक्षयनिधि से दृढ़तापूर्वक जुड़ गयीं। इसका अर्थ यह हुआ कि सामूहिक कार्य का विवेकपूर्ण-विकल्प प्रतिदर्श, जिसमें एक व्यक्ति यह समझता है कि वह आपस में सहयोग करके ही बेहतर ढंग से रह सकते हैं, बहुत हद तक सामाजिक सहयोग के महत्त्व को कमतर दिखाता है, जो मानव समाज में विद्यमान होता है और जो इसके अंतर्गत निहित इरादों को ठीक से नहीं समझता है। अगला विचार प्राकृतिक मानवीय सामाजिकता का है। यह दो सिद्धांतों पर आधारित है जो रिश्तेदारों का चयन और परस्पर परोपकारिता पर निर्भर है। यह रिश्तेदार चयन या समावेशी अनुकूलता का सिद्धांत दर्शाता है कि मानवीय क्रिया की परोपकारिता जैनेटिक संबंधों की ओर (या ऐसे व्यक्ति जो जैनेटिक रूप से एक दूसरे से जुड़े हों) साधारण तौर पर उनके साझा जीन्स के समानुपाती होती है। परस्पर परोपकारिता का सिद्धांत यह कहता है कि मानव का स्वभाव आपसी सम्बंध स्थापित करने का है जो परस्पर लाभ या परस्पर हानि पर आधारित होता है जब वह समय के दौरान एक दूसरे से मिलते जुलते हैं। परस्पर परोपकारिता रिश्तेदार चयन के विपरीत जैनेटिक सम्बद्धता पर आधारित नहीं होता है हालांकि यह बार-बार प्रत्यक्ष व्यक्तिगत मेलजोल पर निर्भर है।

लेखक के दृष्टिकोण से मानवीय समाज की मुख्य विशेषता निम्नलिखित है :

1. अराजकतापूर्ण हिंसा
2. एक दूसरे के प्रति शांतिप्रिय अनभिज्ञता
3. रिश्तेदार आधारित सामाजिक समूह
4. निर्धारित व्यक्तिगत सम्बंध

[Question ID = 4421][Question Description = 148\_81\_GP6\_SEP22\_S2\_Q48]

1. 1 [Option ID = 17681]
2. 2 [Option ID = 17682]
3. 3 [Option ID = 17683]
4. 4 [Option ID = 17684]



4) **Read the given passage and answer the questions that follow**

Human beings are not completely free to socially construct their own behaviour. They have a shared biological nature. The nature is remarkably uniform throughout the world, given the fact that most contemporary humans outside of Africa descended from a single relatively small group of individuals some fifty thousand years ago. This shared nature does not determine political behaviour, but it frames and limits the nature of institutions that are possible. It also means that human politics is subject to certain recurring patterns of behaviour across time and across cultures. This shared nature can be described in certain propositions like that the human beings never existed in a pre-social state.

The idea that human beings at one time existed as isolated individuals, who interacted either through anarchic violence (Hobbes) or in pacific ignorance of one another (Rousseau), is not correct. Human beings as well as their primate ancestors always lived in kin-based social groups of varying sizes. Indeed, they lived in these social units for a sufficiently long period of time that the cognitive and emotional faculties needed to promote social cooperation evolved and became hardwired in their genetic endowments. This means that a rational-choice model of collective action, in which individuals calculate that they will be better off by cooperating with one another, vastly understates the degree of social cooperation that exists in human societies and misunderstands the motives that underlie it.

The next one is the idea of natural human sociability. This is built around two principles, kin selection and reciprocal altruism. The principle of kin selection or inclusive fitness states that human beings will act altruistically toward genetic relatives (or individuals believed to be genetic relatives) in rough proportion to their shared genes. The principle of reciprocal altruism says that human beings tend to develop relationships of mutual benefit or mutual harm as they interact with other individuals over time. Reciprocal altruism, unlike kin selection, does not depend on genetic relatedness: it does, however, depend upon repeated, direct personal interaction.

The concept of social cooperation involves

- A. Kin selection
- B. Cognitive faculty
- C. Emotional detachment
- D. Reciprocal altruism

Choose the correct option:

- 1. A and B only
- 2. B and C only
- 3. C and D only
- 4. A and D only

## निम्नलिखित उद्धरण को पढ़ें और सम्बंधित पाँच प्रश्नों के उत्तर दें।

मानवजाति अपने व्यवहार को सामाजिक तौर पर निर्माण करने के लिए पूर्ण रूप से स्वतंत्र नहीं है उनकी जैविकीय प्रकृति समान होती है, पूरे विश्व में प्रकृति एक सामान होती है इस तथ्य को देखते हुए कि अधिकांश समकालिक मानवों की उत्पत्ति अफ्रीका के बाहर एक अपेक्षाकृत छोटे समूह के द्वारा लगभग 50 हजार वर्ष पहले हुई थी। यह परस्पर प्रकृति राजनीतिक व्यवहार को निर्धारित नहीं करती है लेकिन यह संभावित संस्थाओं की प्रकृति निर्मित और सीमित करती है। इसका तात्पर्य यह है कि समय और संस्कृतियों के क्रम में मानव राजनीति व्यवहार के कुछ विशिष्ट तरीकों से विनिर्दिष्ट होती है, इस परस्पर प्रकृति को कुछ हद तक इस तरह वर्णित किया जा सकता है कि मानवजाति समाज पूर्व स्थिति से पहले अस्तित्व में नहीं था यह विचार कि मानव जाति एक समय में पृथक व्यक्ति के तौर पर अस्तित्व में थी जो आपस में अराजकतापूर्ण हिंसा (हॉब्स) द्वारा या एक दूसरे से प्रशांत अज्ञानतावश मिलते थे (रूसो) ऐसा कहना सही नहीं है। मानवजाति और उनके पुराप्राचीन पूर्वज हमेशा आपसी संबंधों के आधार पर विभिन्न आकार के सामाजिक समूहों में रहते थे। वास्तव में वे इन सामाजिक एककों में लम्बे समय तक रहे जिससे सामाजिक सहयोग के लिए आवश्यक प्रज्ञामूलक और भावनात्मक क्षमतायें विकसित हुयीं और वे अपने जीन अक्षयनिधि से दृढ़तापूर्वक जुड़ गयीं। इसका अर्थ यह हुआ कि सामूहिक कार्य का विवेकपूर्ण-विकल्प प्रतिदर्श, जिसमें एक व्यक्ति यह समझता है कि वह आपस में सहयोग करके ही बेहतर ढंग से रह सकते हैं, बहुत हद तक सामाजिक सहयोग के महत्त्व को कमतर दिखाता है, जो मानव समाज में विद्यमान होता है और जो इसके अंतर्गत निहित इरादों को ठीक से नहीं समझता है। अगला विचार प्राकृतिक मानवीय सामाजिकता का है। यह दो सिद्धांतों पर आधारित है जो रिश्तेदारों का चयन और परस्पर परोपकारिता पर निर्भर है। यह रिश्तेदार चयन या समावेशी अनुकूलता का सिद्धांत दर्शाता है कि मानवीय क्रिया की परोपकारिता जैनेटिक संबंधों की ओर (या ऐसे व्यक्ति जो जैनेटिक रूप से एक दूसरे से जुड़े हों) साधारण तौर पर उनके साझा जीन्स के समानुपाती होती है। परस्पर परोपकारिता का सिद्धांत यह कहता है कि मानव का स्वभाव आपसी सम्बंध स्थापित करने का है जो परस्पर लाभ या परस्पर हानि पर आधारित होता है जब वह समय के दौरान एक दूसरे से मिलते जुलते हैं। परस्पर परोपकारिता रिश्तेदार चयन के विपरीत जैनेटिक सम्बद्धता पर आधारित नहीं होता है हालांकि यह बार-बार प्रत्यक्ष व्यक्तिगत मेलजोल पर निर्भर है।

सामाजिक सहयोग की अवधारणा में निम्नलिखित शामिल हैं

- A. रिश्तेदार चयन
- B. प्रज्ञानात्मक तंत्र
- C. भावनात्मक विलगाव
- D. पारस्परिक परोपकार

- 1. केवल A और B
- 2. केवल B और C
- 3. केवल C और D
- 4. केवल A और D

[Question ID = 4422][Question Description = 149\_81\_GP6\_SEP22\_S2\_Q49]

- 1. 1 [Option ID = 17685]
- 2. 2 [Option ID = 17686]
- 3. 3 [Option ID = 17687]
- 4. 4 [Option ID = 17688]

5) **Read the given passage and answer the questions that follow**

Human beings are not completely free to socially construct their own behaviour. They have a shared biological nature. The nature is remarkably uniform throughout the world, given the fact that most contemporary humans outside of Africa descended from a single relatively small group of individuals some fifty thousand years ago. This shared nature does not determine political behaviour, but it frames and limits the nature of institutions that are possible. It also means that human politics is subject to certain recurring patterns of behaviour across time and across cultures. This shared nature can be described in certain propositions like that the human beings never existed in a pre-social state.

The idea that human beings at one time existed as isolated individuals, who interacted either through anarchic violence (Hobbes) or in pacific ignorance of one another (Rousseau), is not correct. Human beings as well as their primate ancestors always lived in kin-based social groups of varying sizes. Indeed, they lived in these social units for a sufficiently long period of time that the cognitive and emotional faculties needed to promote social cooperation evolved and became hardwired in their genetic endowments. This means that a rational-choice model of collective action, in which individuals calculate that they will be better off by cooperating with one another, vastly understates the degree of social cooperation that exists in human societies and misunderstands the motives that underlie it.

The next one is the idea of natural human sociability. This is built around two principles, kin selection and reciprocal altruism. The principle of kin selection or inclusive fitness states that human beings will act altruistically toward genetic relatives (or individuals believed to be genetic relatives) in rough proportion to their shared genes. The principle of reciprocal altruism says that human beings tend to develop relationships of mutual benefit or mutual harm as they interact with other individuals over time. Reciprocal altruism, unlike kin selection, does not depend on genetic relatedness: it does, however, depend upon repeated, direct personal interaction.

The passage recognises the fact that human sociability has

1. Political determinants
2. Rational choice model
3. Integrated collective action
4. Genetic linkage

## निम्नलिखित उद्धरण को पढ़ें और सम्बंधित पाँच प्रश्नों के उत्तर दें।

मानवजाति अपने व्यवहार को सामाजिक तौर पर निर्माण करने के लिए पूर्ण रूप से स्वतंत्र नहीं है उनकी जैविकीय प्रकृति समान होती है, पूरे विश्व में प्रकृति एक सामान होती है इस तथ्य को देखते हुए कि अधिकांश समकालिक मानवों की उत्पत्ति अफ्रीका के बाहर एक अपेक्षाकृत छोटे समूह के द्वारा लगभग 50 हजार वर्ष पहले हुई थी। यह परस्पर प्रकृति राजनीतिक व्यवहार को निर्धारित नहीं करती है लेकिन यह संभावित संस्थाओं की प्रकृति निर्मित और सीमित करती है। इसका तात्पर्य यह है कि समय और संस्कृतियों के क्रम में मानव राजनीति व्यवहार के कुछ विशिष्ट तरीकों से विनिर्दिष्ट होती है, इस परस्पर प्रकृति को कुछ हद तक इस तरह वर्णित किया जा सकता है कि मानवजाति समाज पूर्व स्थिति से पहले अस्तित्व में नहीं था यह विचार कि मानव जाति एक समय में पृथक व्यक्ति के तौर पर अस्तित्व में थी जो आपस में अराजकतापूर्ण हिंसा (हॉब्स) द्वारा या एक दूसरे से प्रशांत अज्ञानतावश मिलते थे (रूसो) ऐसा कहना सही नहीं है। मानवजाति और उनके पुराप्राचीन पूर्वज हमेशा आपसी संबंधों के आधार पर विभिन्न आकार के सामाजिक समूहों में रहते थे। वास्तव में वे इन सामाजिक एककों में लम्बे समय तक रहे जिससे सामाजिक सहयोग के लिए आवश्यक प्रज्ञामूलक और भावनात्मक क्षमतायें विकसित हुयीं और वे अपने जीन अक्षयनिधि से दृढ़तापूर्वक जुड़ गयीं। इसका अर्थ यह हुआ कि सामूहिक कार्य का विवेकपूर्ण-विकल्प प्रतिदर्श, जिसमें एक व्यक्ति यह समझता है कि वह आपस में सहयोग करके ही बेहतर ढंग से रह सकते हैं, बहुत हद तक सामाजिक सहयोग के महत्त्व को कमतर दिखाता है, जो मानव समाज में विद्यमान होता है और जो इसके अंतर्गत निहित इरादों को ठीक से नहीं समझता है। अगला विचार प्राकृतिक मानवीय सामाजिकता का है। यह दो सिद्धांतों पर आधारित है जो रिश्तेदारों का चयन और परस्पर परोपकारिता पर निर्भर है। यह रिश्तेदार चयन या समावेशी अनुकूलता का सिद्धांत दर्शाता है कि मानवीय क्रिया की परोपकारिता जैनेटिक संबंधों की ओर (या ऐसे व्यक्ति जो जैनेटिक रूप से एक दूसरे से जुड़े हों) साधारण तौर पर उनके साझा जीन्स के समानुपाती होती है। परस्पर परोपकारिता का सिद्धांत यह कहता है कि मानव का स्वभाव आपसी सम्बंध स्थापित करने का है जो परस्पर लाभ या परस्पर हानि पर आधारित होता है जब वह समय के दौरान एक दूसरे से मिलते जुलते हैं। परस्पर परोपकारिता रिश्तेदार चयन के विपरीत जैनेटिक सम्बद्धता पर आधारित नहीं होता है हालांकि यह बार-बार प्रत्यक्ष व्यक्तिगत मेलजोल पर निर्भर है।

उद्धरण यह मानता है कि मानवीय सामाजिकता में निहित है

1. राजनीतिक निर्धारक
2. विवेक आधारित चयन प्रतिदर्श
3. समेकित सामूहिक कार्य
4. जैनेटिक सम्बद्धता

[Question ID = 4423][Question Description = 150\_81\_GP6\_SEP22\_S2\_Q50]

1. 1 [Option ID = 17689]
2. 2 [Option ID = 17690]
3. 3 [Option ID = 17691]
4. 4 [Option ID = 17692]