



Test Date : 22 Feb 2023

Test Slot : Slot 2

Subject : 7-Anthropology

Sl. No.1

QBID:17001

The concept of cultural lag was given by:

1. William Ogburn
2. William James
3. Raymond Williams
4. Monica Wilson

(1) 1

(2) 2

(3) 3

(4) 4

किसने सांस्कृतिक पश्चता (कल्चरल लैग) की अवधारणा प्रदान की थी ?

1. विलियम ऑगबर्न
2. विलियम जेम्स
3. रेमंड विलियम्स
4. मोनिका विल्सन

(1) 1

(2) 2

(3) 3

(4) 4

1[Option ID=13401]

2[Option ID=13402]

3[Option ID=13403]

4[Option ID=13404]



Sl. No.2

QBID:17002

The concept of performativity is associated with the work of :

1. Benjamin Lee Whorf
2. Wilhelm Wundt
3. John Austin
4. Max Weber

(1) 1

(2) 2

(3) 3

(4) 4

निष्पादनता (पर्फॉर्मेटिविटी) की अवधारणा किसके कार्य से संबंधित है?

1. बेंजामिन ली वॉर्फ
2. विल्हेल्म वुंड
3. जॉन ऑस्टिन
4. मैक्स वेबर

(1) 1

(2) 2

(3) 3

(4) 4

1[Option ID=13405]

2[Option ID=13406]

3[Option ID=13407]

4[Option ID=13408]

Sl. No.3

QBID:17003

The concept of 'Key Scenario' was used by:

1. Eric Wolf
2. Marshall Shalins
3. Rodney Needham
4. Sherry Ortner

(1) 1

(2) 2

(3) 3

(4) 4

किसने 'प्रमुख परिदृश्य' (की सिनोरियो) की अवधारणा को प्रयुक्त किया था ?

1. एरिक वॉल्फ
2. मार्शल साहलिन्स
3. रोडनी नीधम
4. शेरी ऑर्टनर

(1) 1

(2) 2

(3) 3

(4) 4

1[Option ID=13409]

2[Option ID=13410]

3[Option ID=13411]

4[Option ID=13412]

Sl. No.4

QBID:17004

The kinship terminology principle through which 'blood relatives' are distinguished from 'relative by marriage' is called as:

1. Collaterality
2. Covenant
3. Bifurcation
4. Polarity

(1) 1

(2) 2

(3) 3

(4) 4

नातेदारी पद सिद्धांत, जिसके माध्यम से 'विवाह द्वारा सम्बंधी' का 'रक्त-आधारित सम्बंधियों' से भेद किया जाता है, को किस नियम के आधार पर कहा जाता है ?

1. भिन्नशाखियता (कॉलेटेरेलिटी)
2. प्रसंविदा (कॉवेनेंट)
3. द्विशाखन (बाइफर्केशन)
4. ध्रुवता (पोलेरिटी)

(1) 1

(2) 2

(3) 3

(4) 4

- 1[Option ID=13413]
- 2[Option ID=13414]
- 3[Option ID=13415]
- 4[Option ID=13416]

Sl. No.5
QBID:17005

The concept of 'antistructure' was proposed by:

1. Victor Barnouw
2. Jack Goody
3. Ernest Gellner
4. Victor Turner

(1) 1

(2) 2

(3) 3

(4) 4

किसके द्वारा 'प्रति-संरचना' (एंटीस्ट्रक्चर) की अवधारणा प्रस्तावित की गई थी ?

1. विक्टर बार्नो
2. जैक गुडी
3. अर्नेस्ट गेलनर
4. विक्टर टर्नर

(1) 1

(2) 2

(3) 3

(4) 4

- 1[Option ID=13417]
- 2[Option ID=13418]
- 3[Option ID=13419]
- 4[Option ID=13420]

Sl. No.6
QBID:17006

Teivaliol and Tarthrol are the kin groups found among the:

1. Bhils
2. Kukis
3. Nagas
4. Todas

(1) 1

(2) 2

(3) 3

(4) 4

तेवालियोल और तारथ्रोल किनके बीच नातेदार (किन) समूह हैं ?

1. भील
2. कुकी
3. नागा
4. टोडा

(1) 1

(2) 2

(3) 3

(4) 4

- 1[Option ID=13421]

2[Option ID=13422]
3[Option ID=13423]
4[Option ID=13424]

Sl. No.7
QBID:17007

According to Levi-Strauss, _____ is not an elementary form of exchange.

1. Currency
2. Women
3. Goods
4. Messages

- (1) 1
(2) 2
(3) 3
(4) 4

लेवी स्ट्रॉस के अनुसार _____ विनिमय का एक प्रारम्भिक रूप नहीं है।

1. मुद्रा
2. महिलाएं
3. वस्तुएं
4. संदेश

- (1) 1
(2) 2
(3) 3
(4) 4

1[Option ID=13425]
2[Option ID=13426]
3[Option ID=13427]
4[Option ID=13428]

Sl. No.8
QBID:17008

Cognates are kinsmen related to ego through:

1. Consanguineal link to males
2. Consanguineal link to females
3. Consanguineal link to either sex
4. Affinial link to either sex

- (1) 1
(2) 2
(3) 3
(4) 4

काग्नेट्स, अहं से किस तरह से संबंधित नातेदार होते हैं -

1. पुरुषों से रक्त संबंधी (कान्सैनीनियल) संबंध
2. महिलाओं से रक्त-संबंधी (कान्सैनीनियल) संबंध
3. पुरुष या स्त्री, किसी एक से रक्त संबंधी (कान्सैनीनियल) संबंध
4. पुरुष या स्त्री, किसी एक से वैवाहिक (एफीनियल) संबंध

- (1) 1
(2) 2
(3) 3
(4) 4

1[Option ID=13429]
2[Option ID=13430]

3[Option ID=13431]

4[Option ID=13432]

Sl. No.9

QBID:17009

Which one of the following commissions recommended the introduction of 'Ashram Schools' during the 5th Five Year Plan ?

1. B.P. Mondal Commission
2. Kaka Kalekar Commission
3. U.N. Dhebar Commission
4. Shilu Ao Commission

- (1) 1
(2) 2
(3) 3
(4) 4

निम्नलिखित में से किस आयोग ने 5वीं पंचवर्षीय योजना के दौरान आश्रम विद्यालयों के प्रारंभ की अनुशंसा की थी?

1. बी.पी. मंडल आयोग
2. काका कालेलकर आयोग
3. यू.एन. धेबर आयोग
4. शिलो औ आयोग

- (1) 1
(2) 2
(3) 3
(4) 4

1[Option ID=13433]

2[Option ID=13434]

3[Option ID=13435]

4[Option ID=13436]

Sl. No.10

QBID:17010

The concept of 'cultural hegemony' was proposed by :

1. Antonio Gramsci
2. Karl Mannheim
3. Konrad Lorenz
4. Andrew Lang

- (1) 1
(2) 2
(3) 3
(4) 4

'सांस्कृतिक आधिपत्य' की संकल्पना किसने प्रतिपादित की थी ?

1. एंटोनियो ग्राम्शी
2. कार्ल मैन्हीम
3. कोन्स्ट्रॉड लॉरेन्ज
4. एंड्रयू लैंग

- (1) 1
(2) 2
(3) 3
(4) 4

1[Option ID=13437]

2[Option ID=13438]

3[Option ID=13439]
4[Option ID=13440]

Sl. No.11
QBID:17011

Who introduced the term 'Jajmani System' to Social Anthropology ?

1. Louis Dumont
2. M.N. Srinivas
3. William Wiser
4. Oscar Lewis

- (1) 1
(2) 2
(3) 3
(4) 4

सामाजिक नृविज्ञान के लिए 'जजमानी पद्धति' शब्द का आरंभ किसने किया था?

1. लुईस ड्यूमॉन्ट
2. एम.एन. श्रीनिवास
3. विलियम वाइजर
4. ऑस्कर लेविस

- (1) 1
(2) 2
(3) 3
(4) 4

1[Option ID=13441]
2[Option ID=13442]
3[Option ID=13443]
4[Option ID=13444]

Sl. No.12
QBID:17012

"Medical systems mirrors power differentiation in social classes" is attributed to:

1. Charles Leslie and Byron Good
2. Arthur Klienman and Marcia Inhorn
3. Paul Farmer and Shirley Lindenbaum
4. Merrill Singer and Hans Baer

- (1) 1
(2) 2
(3) 3
(4) 4

"मध्यकालीन व्यवस्था सामाजिक वर्गों में शक्ति विभेद को प्रदर्शित करती हैं" - यह कथन किसका है?

1. चार्ल्स लेस्ली और बायरन गुड
2. आर्थस क्लीनमैन और मर्सिया इन्हार्न
3. पॉल फार्मर और शिले लिन्डेनबॉम
4. मेरिल सेनगर और हैन्स बेयर

- (1) 1
(2) 2
(3) 3
(4) 4

1[Option ID=13445]
2[Option ID=13446]
3[Option ID=13447]
4[Option ID=13448]

Sl. No.13
QBID:17013

Who among the following feminist anthropologists gave the concept of 'muted group' referring to women?

1. H.L. Moore
2. Sherry Ortner
3. Edwin Ardener
4. Eleanor Leacock

(1) 1

(2) 2

(3) 3

(4) 4

निम्नलिखित में से किस नारीवादी नृविज्ञानी ने महिलाओं से संबंधित 'मौन समूह' की संकल्पना दी थी?

1. एच.एल. मूर
2. शेरी ऑर्टनर
3. एडविन आर्डेनर
4. इलीनर लीकाक

(1) 1

(2) 2

(3) 3

(4) 4

1[Option ID=13449]

2[Option ID=13450]

3[Option ID=13451]

4[Option ID=13452]

Sl. No.14
QBID:17014

Which of the following communities in South India was studied by Kathleen Gough ?

1. Nadars
2. Nayars
3. Nayakas
4. Nayakars

(1) 1

(2) 2

(3) 3

(4) 4

दक्षिण भारत के निम्नलिखित में से किस समुदाय का अध्ययन कैथलीन गेफ ने किया था?

1. नाडार
2. नायर
3. नायक
4. नायकर

(1) 1

(2) 2

(3) 3

(4) 4

1[Option ID=13453]

2[Option ID=13454]

3[Option ID=13455]

4[Option ID=13456]

Sl. No.15
QBID:17015

Who suggested that the motive for Sanskritization is not imitation per se but an expression of challenge and revolt against the socio-economic deprivation?

1. T.K. Oomen
2. E.B. Harper
3. Harold Gould
4. K.M. Pannikar

(1) 1

(2) 2

(3) 3

(4) 4

यह मत किसने दिया था कि संस्कृतिकरण का उद्देश्य स्वभावतः अनुकरण नहीं है किन्तु सामाजिक-आर्थिक वंचन के विरुद्ध चुनौती एवं विद्रोह की अभिव्यक्ति है?

1. टी.के. ओमेन
2. ई.बी. हार्पर
3. हेरॉल्ड गोल्ड
4. के.एम. पणिकर

(1) 1

(2) 2

(3) 3

(4) 4

1[Option ID=13457]

2[Option ID=13458]

3[Option ID=13459]

4[Option ID=13460]

Sl. No.16

QBID:17016

Which of the following linguistic families is associated with the Santali language?

1. Austro-Asiatic family
2. Tibeto-Chinese family
3. Dravidian family
4. Indo-European family

(1) 1

(2) 2

(3) 3

(4) 4

निम्नलिखित में से कौन सा भाषाई परिवार संथाली भाषा से संबद्ध है ?

1. आस्ट्रेलियाई-एशियाई परिवार ओ(एस्ट्रो-एशियाटिक फैमिली)
2. तिब्बती-चीनी परिवार (तिब्बतो-चाइनीज फैमिली)
3. द्राविड़ परिवार (द्राविडियन फैमिली)
4. भारतीय-यूरोपियन परिवार (इंडो-यूरोपियन फैमिली)

(1) 1

(2) 2

(3) 3

(4) 4

1[Option ID=13461]

2[Option ID=13462]

3[Option ID=13463]

4[Option ID=13464]

Sl. No.17

QBID:17017

A.L. Kroeber in his famous essay, "The Super Organic" published in the year 1917 clarified the distinction between :

1. Political and social nature of human beings
2. Organic evolution and social evolution
3. Culture and Civilization
4. Human and Primates

(1) 1

(2) 2

(3) 3

(4) 4

ए.एल. क्रोबर ने वर्ष 1917 में प्रकाशित अपने प्रसिद्ध निबंध 'द सुपर आर्गेनिक' में निम्नलिखित में से किसके मध्य भेद को स्पष्ट किया था?

1. मानव की राजनैतिक एवं सामाजिक प्रकृति
2. जैव विकास एवं सामाजिक विकास
3. संस्कृति एवं सभ्यता
4. मानव एवं प्राइमेट

(1) 1

(2) 2

(3) 3

(4) 4

1[Option ID=13465]

2[Option ID=13466]

3[Option ID=13467]

4[Option ID=13468]

Sl. No.18

QBID:17018

Who called classical evolutionism as pseudo historical and conjectural history?

1. Franz Boaz
2. A.R. Radcliffe-Brown
3. Margaret Mead
4. Julian Steward

(1) 1

(2) 2

(3) 3

(4) 4

निम्नलिखित में से किसने क्लासिकी विकासवाद को छद्म ऐतिहासिक एवं आनुमानिक इतिहास कहा है?

1. फ्रैंज बोआज
2. ए.आर. रेडक्लिफ-ब्राउन
3. मार्गरेट मीड
4. जूलियन स्टीवर्ड

(1) 1

(2) 2

(3) 3

(4) 4

1[Option ID=13469]

2[Option ID=13470]

3[Option ID=13471]

4[Option ID=13472]

Sl. No.19

QBID:17019

The analytical framework in which a person's social and political identities combine to create different modes of differentiation and privilege is called :

1. Triangulation
2. Hegemony
3. Intersectionality
4. Intersubjectivity

(1) 1

(2) 2

(3) 3

(4) 4

वह विश्लेषणपरक ढाँचा जिसमें किसी व्यक्ति की सामाजिक एवं राजनैतिक अस्मिताएं विभेदीकरण एवं विशेषाधिकार के विभिन्न साधनों को सृजित करने के लिए संयुक्त होती है, वह कहलाता है:

1. त्रिकोणीय (ट्रैंगुलेशन)
2. आधिपत्य (हेजेमनी)
3. प्रतिच्छेदता (इन्टरसेक्शनलिटी)
4. अन्तर-व्यक्तिनिष्ठता (इन्टरसब्जेक्टिविटी)

(1) 1

(2) 2

(3) 3

(4) 4

1[Option ID=13473]

2[Option ID=13474]

3[Option ID=13475]

4[Option ID=13476]

SI. No.20

QBID:17020

The process of extensive borrowing of aspects of culture in the context of super ordinate - subordinate relations between societies, usually occurs as the result of external pressure is called as:

1. Diffusion
2. Acculturation
3. Enculturation
4. Assimilation

(1) 1

(2) 2

(3) 3

(4) 4

समाज के मध्य उच्चकोटि-अधीनस्थ संबंधों के संदर्भ में संस्कृति के पक्षों के व्यापक रूप से ग्रहण करने की प्रक्रिया सामान्यतया वाह्य दबाव के परिणाम स्वरूप उत्पन्न होती है, जिसमें कहा जाता है:

1. प्रसार (डिफ्यूजन)
2. संस्कृति-संक्रमण (एकल्चरेशन)
3. संस्कृतीकरण (एन्कल्चरेशन)
4. स्वांगीकरण (एसीमिलेशन)

(1) 1

(2) 2

(3) 3

(4) 4

1[Option ID=13477]

2[Option ID=13478]

3[Option ID=13479]

4[Option ID=13480]

Sl. No.21

QBID:17021

The 'Loess deposits' are formed by the:

1. Glacial activity
2. Wind activity
3. Sea-level changes
4. Fluvial activity

(1) 1

(2) 2

(3) 3

(4) 4

किसके द्वारा 'पवनोढ मृत्तिका' के भंडार (लोएस डिपोजिट्स) बनाए जाते हैं?

1. हिमानी अभिकरण (ग्लेशियल एक्टिविटी)
2. पवन गतिविधि (विंड एक्टिविटी)
3. समुद्री स्तर के परिवर्तन (सी लेवल चेन्जेज)
4. नदी से संबंधित गतिविधि (फ्लुविएटाल एक्टिविटी)

(1) 1

(2) 2

(3) 3

(4) 4

1[Option ID=13481]

2[Option ID=13482]

3[Option ID=13483]

4[Option ID=13484]

Sl. No.22

QBID:17022

The 'Topical' is:

1. An archaeological site
2. A burial type
3. A prehistoric tool type
4. A flint knapping technology

(1) 1

(2) 2

(3) 3

(4) 4

'प्राकरणिक' (टॉपिकल) है -

1. एक पुरातात्विक स्थल
2. एक शवाधान प्रकार
3. एक प्रागैतिहासिक उपकरण प्रकार
4. एक चकमक (फ्लिन्ट) से शिखर बनाने वाली प्रौद्योगिकी

(1) 1

(2) 2

(3) 3

(4) 4

1[Option ID=13485]

2[Option ID=13486]

3[Option ID=13487]

4[Option ID=13488]

Sl. No.23
QBID:17023

The Clactonian and Levalloisian techniques are named after:

1. The discoverer
2. The fossil name
3. The site name
4. The sediment type

(1) 1

(2) 2

(3) 3

(4) 4

क्लैक्टोनियन और लेवाल्लोइशियन तकनीकों के नाम किसके नाम से रखे गए हैं ?

1. खोजकर्ता
2. जीवाश्म के नाम
3. स्थल के नाम
4. तलछट प्रकार (सेडिमेंट टाइप)


(1) 1

(2) 2

(3) 3

(4) 4

1[Option ID=13489]
2[Option ID=13490]
3[Option ID=13491]
4[Option ID=13492]



Sl. No.24
QBID:17024

The catalhöyük and Shanidar are:

1. Cattle breeding sites of Europe
2. Early farming sites of Near-East
3. Neolithic sites of North East India
4. Harappan sites of North-West India

(1) 1

(2) 2

(3) 3

(4) 4

कैटलहयूक और शनिदर क्या हैं?

1. यूरोप के पशु-प्रजनन स्थल
2. पूर्व के समीप (नियर-ईस्ट) प्रारम्भिक खेती के स्थल
3. उत्तर-पूर्व भारत के नव-पाषण स्थल
4. उत्तर-पश्चिमी भारत के हड़प्पा स्थल

(1) 1

(2) 2

(3) 3

(4) 4

1[Option ID=13493]
2[Option ID=13494]
3[Option ID=13495]
4[Option ID=13496]

Sl. No.25
QBID:17025

The Soanian culture is characterized by:

1. Split pebble technology
2. Tortoise core technology
3. Fluted core technology
4. Pecked and polished technology

(1) 1

(2) 2

(3) 3

(4) 4

सोएिनयन संस्कृति को किसके द्वारा विशेषित किया जाता है?

1. स्पलिट पेबल प्रौद्योगिकी
2. टॉरटॉइज कोर प्रौद्योगिकी
3. फ्लूटेड कोर प्रौद्योगिकी
4. पेक्ड एंड पॉलिशड प्रौद्योगिकी

(1) 1

(2) 2

(3) 3

(4) 4

1[Option ID=13497]

2[Option ID=13498]

3[Option ID=13499]

4[Option ID=13500]

Sl. No.26

QBID:17026

The Colobinae sub-family of Old World monkeys can be distinguished from the cercopithecinae sub family by the presence of:

1. Sacculated stomach and absence of cheek pouches
2. Ischial callosities
3. Elongated tympanic annulus forming an external auditory meatus
4. Nostrils that are situated close to each other.

(1) 1

(2) 2

(3) 3

(4) 4

पुरानी दुनिया के बंदरो के सेसनोपिथेसिनई उपकुल को सेरकोपिथेसिनई उपयुक्त से निम्नांकित किसकी विद्यमानता (उपस्थिति) से विभेदित किया जा सकता है?

1. पेट और फूला हुआ गाल (चीक पाउच) की अनुपस्थिति
2. इशियल कैलो साइटीज
3. टिमोनिक एनुलस दीर्घकृत (लंबे) होता है और यह एक बाह्य स्वर (श्रवण) द्वार निर्मित करता है।
4. नासिकाछिद्र परस्पर निकट स्थित होते हैं।

(1) 1

(2) 2

(3) 3

(4) 4

1[Option ID=13501]

2[Option ID=13502]

3[Option ID=13503]

4[Option ID=13504]

Sl. No.27

QBID:17027

The earliest hominid fossil in the Indian subcontinent was discovered at:

1. Lothal
2. Hathnora
3. Utnur
4. Mirzapur

(1) 1

(2) 2

(3) 3

(4) 4

भारतीय उपमहाद्वीप में आरम्भिक मानव जीवाश्म (होमिनिडफोजिल) को कहा खोजा गया था?

1. लोथल
2. हथनोरा
3. उतनूर
4. मिर्जापूर

(1) 1

(2) 2

(3) 3

(4) 4

1[Option ID=13505]

2[Option ID=13506]

3[Option ID=13507]

4[Option ID=13508]

Sl. No.28

QBID:17028

The relationship between sickle cell gene and malaria was established by:

1. A.C. Alison
2. James Neel
3. Alice Bruce
4. Frank Livingstone

(1) 1

(2) 2

(3) 3

(4) 4

सिक्कल कोशिका जीन और मलेरिया के मध्य संबंध किसके द्वारा संस्थापित किया गया था ?

1. ए.सी. एलिषण
2. जेम्स नील
3. एलिस ब्रूस
4. फ्रैंक लिविंगस्टोन

(1) 1

(2) 2

(3) 3

(4) 4

1[Option ID=13509]

2[Option ID=13510]

3[Option ID=13511]

4[Option ID=13512]

Sl. No.29

QBID:17029

The term 'mini satellite' is associated with which of the genetic markers?

1. Variable number of tandem repeat
2. Tandem repeat
3. Single nucleotide polymorphism
4. mtDNA

(1) 1

(2) 2

(3) 3

(4) 4

'मिनी सैटेलाइट' शब्द किस आनुवंशिक सूचक से संबंधित है ?

1. अनुक्रमिक पुनरावर्तन की चर संख्या
2. अनुक्रमिक पुनरावर्तन
3. एकल न्युक्लियोटाइड बहु-आकृति विज्ञानवाद (पॉलीमॉर्फिज्म)
4. एमटी (mt) डी एन ए

(1) 1

(2) 2

(3) 3

(4) 4

1[Option ID=13513]

2[Option ID=13514]

3[Option ID=13515]

4[Option ID=13516]

Sl. No.30

QBID:17030

Who first demonstrated that ethnic groups differed in their ABO gene frequencies?

1. Franz Boas
2. G.W. Laskar
3. H. Hirsfeld
4. W. Shapiro

(1) 1

(2) 2

(3) 3

(4) 4

निम्नांकित में से किसने सर्वप्रथम यह स्पष्ट किया की नृजातीय समूह अपने एबीओ जीन आवृत्तियों में भिन्न होते हैं ?

1. फ्रॉन्ज बोअस
2. जी.डबल्यू. लास्कर
3. एच. हर्सफिल्ड
4. डबल्यू. शपीरो

(1) 1

(2) 2

(3) 3

(4) 4

1[Option ID=13517]

2[Option ID=13518]

3[Option ID=13519]

4[Option ID=13520]

Sl. No.31

QBID:17031

The coefficient of consanguinity is equal to _____ the nature of coefficient of relationship.

1. One-half
2. Double
3. One-fourth
4. One-eighth

(1) 1

(2) 2

(3) 3

(4) 4

समरक्तता का गुणांक, संबंध के गुणांक के _____ मूल्य के बराबर होता है।

1. अर्धभाग
2. दोगुने भाग
3. एक चौथाई भाग
4. आठवें भाग

(1) 1

(2) 2

(3) 3

(4) 4

1[Option ID=13521]

2[Option ID=13522]

3[Option ID=13523]

4[Option ID=13524]

Sl. No.32

QBID:17032

If one per cent males in a population exhibit colours blindness; what is the frequency of heterozygous women?

1. 0.01
2. 0.99
3. 0.198
4. 0.0198

(1) 1

(2) 2

(3) 3

(4) 4

यदी किसी जनसंख्या में एक प्रतिशत पुरुषों में वर्णान्धता पायी जाती है। विषम युग्मजी (एट्रोजाइ) महिला होने की आवृत्ति कितनी है ?

1. 0.01
2. 0.99
3. 0.198
4. 0.0198

(1) 1

(2) 2

(3) 3

(4) 4

1[Option ID=13525]

2[Option ID=13526]

3[Option ID=13527]

4[Option ID=13528]

Sl. No.33

QBID:17033

The totality of deleterious alleles in a population is known as :

1. Genetic loss
2. Genetic load
3. Genetic drift
4. Genetic equilibrium

(1) 1

(2) 2

(3) 3

(4) 4

एक जनसंख्या में हानिकारक एलील्स की सफलता को किस रूप में जाना जाता है

1. आनुवंशिक क्षति (जेनेटिक लॉस)
2. आनुवंशिक भार (जेनेटिक लोड)
3. आनुवंशिक च्युति (जेनेटिक ड्रिफ्ट)
4. आनुवंशिक संतुलन (जेनेटिक इक्विलिब्रियम)

(1) 1

(2) 2

(3) 3

(4) 4

1[Option ID=13529]

2[Option ID=13530]

3[Option ID=13531]

4[Option ID=13532]

Sl. No.34

QBID:17034

Who is associated with the discovery of Laetoli fossilized footprints?

1. Donald Johanson
2. Raymond Dart
3. G.H.R. von Koenigswald
4. Mary Leakey

(1) 1

(2) 2

(3) 3

(4) 4

निम्नलिखित में से कौन लेडओटोली जीवाश्मीकृत पद-छाप की खोज से संबंधित है ?

1. डोनाल्ड जॉनसन
2. रेमंड डार्ट
3. जी.एच. आर. कोइनिग्सवाल्ड
4. मैरी लिकी

(1) 1

(2) 2

(3) 3

(4) 4

1[Option ID=13533]

2[Option ID=13534]

3[Option ID=13535]

4[Option ID=13536]

Sl. No.35

QBID:17035

Which of the following bones is not a part of human axial skeleton?

1. Humerus
2. Sternum
3. Mandible
4. Sacrum

(1) 1

(2) 2

(3) 3

(4) 4

निम्नलिखित में से कौनसी मानव अक्षीय कंकाल की अस्थि (हड्डी) नहीं है ?

1. ह्यूमेरस
2. स्टेरनस (उरोपस्थित)
3. मेन्डिबल (जबड़ा)
4. सैक्रम (त्रिकगस्थि)

(1) 1

(2) 2

(3) 3

(4) 4

1[Option ID=13537]

2[Option ID=13538]

3[Option ID=13539]

4[Option ID=13540]

Sl. No.36

QBID:17036

The book 'Culture, Biology and Anthropology Demography' was authored by :

1. Eric Abella Roth
2. L. Bernardi
3. Nancy Howell
4. D. Kertzer

(1) 1

(2) 2

(3) 3

(4) 4

पुस्तक 'कल्चर, बायोलॉजी एंड एंथ्रोपोलॉजिकल डेमोग्राफी' के लेखक है

1. एरिक एबेला रोथ
2. एल. बर्नाडी
3. नैन्सी हॉविल
4. डी. कर्टजर

(1) 1

(2) 2

(3) 3

(4) 4

1[Option ID=13541]

2[Option ID=13542]

3[Option ID=13543]

4[Option ID=13544]

Sl. No.37

QBID:17037

The total number of human chromosomes was determined by:

1. Alec Jefferys and Asbjorn Folling
2. Joe Hin Tjio and Asbjorn Folling
3. Joe Hin Tjio and Albert Levan
4. Alec Jefferys and Albert Levan

(1) 1

(2) 2

(3) 3

(4) 4

किसने मानव गुण-सूत्र (कामोसोम) 46 का निर्धारण किया था ?

1. एलेक जेफ़रीज और इस्बर्जोर्न फॉलिंग
2. जो हिन टिजियो और एस्बर्जोर्न फॉलिंग
3. जो हिन टिजियो और अल्बर्ट लेवान
4. एलेक जेफ़रीज और अल्बर्ट लेवान

(1) 1

(2) 2

(3) 3

(4) 4

1[Option ID=13545]

2[Option ID=13546]

3[Option ID=13547]

4[Option ID=13548]

Sl. No.38

QBID:17038

Which of the non-human primates is not found in India?

1. Loris
2. Presbytis
3. Macaque
4. Papio

(1) 1

(2) 2

(3) 3

(4) 4

निम्नलिखित में से कौन सा गैर-मानव प्राइमेट भारत में नहीं पाया जाता है ?

1. लोरिस
2. प्रेसम्बाइटिस
3. मेकाक
4. पैप्यो

(1) 1

(2) 2

(3) 3

(4) 4

1[Option ID=13549]

2[Option ID=13550]

3[Option ID=13551]

4[Option ID=13552]

Sl. No.39

QBID:17039

Which of the following is not a non-parametric statistical test ?

1. ANOVA
2. Spearman's Rank Correlation
3. Mann Whitney U test
4. Chi-square test

(1) 1

(2) 2

(3) 3

(4) 4

निम्नलिखित में से कौन एक गैर-प्राचलिक सांख्यिकीय परीक्षण (नॉन-पैरामिट्रिक स्टेटिस्टिकल टेस्ट) नहीं है?

1. एनोवा (ए.एन.ओ.बी.ए.)
2. स्पियरमैन का रैंक सहसंबंध (कोरिलेशन)
3. मान विटने यू टेस्ट
4. कार्ई-स्क्वेयर टेस्ट

(1) 1

(2) 2

(3) 3

(4) 4

1[Option ID=13553]

2[Option ID=13554]

3[Option ID=13555]

4[Option ID=13556]

Sl. No.40

QBID:17040

The theme of the 15th Cold Spring Harbour Symposium on Quantitative Biology held in 1950 was:

1. Origin of Man
2. Origin and Evolution of Man
3. Microevolution
4. Evolution of Man

(1) 1

(2) 2

(3) 3

(4) 4

1950 में आयोजित मात्रापक जीवविज्ञान पर 15 वें कोल्ड स्पिंग हार्बर सिम्पोजियम का थीम (विषय) क्या था ?

1. मानव उद्भव (ओरिजिन ऑफ मैन)
2. मानव का उद्भव एवं विकास (ओरिजिन एंड इवोलुशन ऑफ मैन)
3. माइक्रो-उद्द्विकास (माइक्रोइवोलुशन)
4. मानव का उद्द्विकास (इवोलुशन ऑफ मैन)

(1) 1

(2) 2

(3) 3

(4) 4

1[Option ID=13557]

2[Option ID=13558]

3[Option ID=13559]

4[Option ID=13560]

Sl. No.41

QBID:17041

In census, slums are defined on the basis of:

- A. Inadequate infrastructure
- B. Unemployment
- C. Overcrowding
- D. Poverty

Choose the most appropriate answer from the options given below:

- 1. C and D only
- 2. A and D only
- 3. B and C only
- 4. A and C only

(1) 1

(2) 2

(3) 3

(4) 4

जनगणना में, निम्नांकित किसके आधार पर मलिन बस्ती परिभाषित होती है-

- A. अपर्याप्त अवसंरचना
- B. बेरोजगारी
- C. अति भीड़-भाड़
- D. निर्धनता

नीचे दिए गए विकल्पों में से सबसे उपयुक्त उत्तर का चयन कीजिए:

- 1. केवल C और D
- 2. केवल A और D
- 3. केवल B और C
- 4. केवल A और C

(1) 1

(2) 2

(3) 3

(4) 4

1[Option ID=13561]

2[Option ID=13562]

3[Option ID=13563]

4[Option ID=13564]

SI. No.42

QBID:17042

Which of the following communities are included in the list of PVTGs ?

- A. Toto
- B. Jatapu
- C. Koya
- D. Gadaba

Choose the correct answer from the options given below:

- 1. A and C only
- 2. B and D only
- 3. A and D only
- 4. A and B only

(1) 1

(2) 2

(3) 3

(4) 4

निम्नलिखित में से कौन से समुदाय पी वी टी जी की सूची में सम्मिलित की गई है ?

- A. टोटो
- B. जतापु
- C. कोया
- D. गदाबा

नीचे दिए गए विकल्पों में से सही उत्तर का चयन कीजिए :

- 1. केवल A और C
- 2. केवल B और D
- 3. केवल A और D
- 4. केवल A और B

(1) 1

(2) 2

(3) 3

(4) 4

1[Option ID=13565]

2[Option ID=13566]

3[Option ID=13567]

4[Option ID=13568]

Sl. No.43

QBID:17043

The concept of community is primarily defined on the basis of common:

- A. Language
- B. Religion
- C. Sentiment
- D. Geographical area

Choose the correct answer from the options given below:

- 1. A and B only
- 2. B and D only
- 3. A and C only
- 4. C and D only

(1) 1

(2) 2

(3) 3

(4) 4

समुदाय की अवधारणा मुख्यतया किन आधारों पर परिभाषित की जाती है?

- A. भाषा
- B. धर्म
- C. भावुकता
- D. भौगोलिक क्षेत्र

नीचे दिए गए विकल्पों में से सही उत्तर का चयन कीजिए:

- 1. केवल A और B
- 2. केवल B और D
- 3. केवल A और C
- 4. केवल C और D

(1) 1

(2) 2

(3) 3

(4) 4

1[Option ID=13569]

2[Option ID=13570]

3[Option ID=13571]

4[Option ID=13572]

Sl. No.44

QBID:17044

Examples of 'Sacred Groves' are:

- A. Sarna
- B. Chir
- C. Kekar
- D. Jahera.

Choose the correct answer from the options given below:

- 1. B and C only
- 2. A and D only
- 3. A and B only
- 4. C and D only

(1) 1

(2) 2

(3) 3

(4) 4

पवित्र उपवनों (सैकेड ग्रोव्स) के उदाहरण हैं -

- A. सरना
- B. चीड़
- C. केकड़
- D. जहेड़ा

नीचे दिए गए विकल्पों में से सही उत्तर का चयन कीजिए:

- 1. केवल B और C
- 2. केवल A और D
- 3. केवल A और B
- 4. केवल C और D

(1) 1

(2) 2

(3) 3

(4) 4

1[Option ID=13573]

2[Option ID=13574]

3[Option ID=13575]

4[Option ID=13576]

Sl. No.45

QBID:17045

'Dominant Caste', according to M.N. Srinivas is defined on the basis of:

- A. Land holdings
- B. Numerical preponderance
- C. Varna position
- D. Ritual purity

Choose the most appropriate answer from the options given below:

- 1. A and B only
- 2. A and C only
- 3. B and D only
- 4. C and D only

(1) 1

(2) 2

(3) 3

(4) 4

एम.एन. श्रीनिवास के अनुसार 'प्रभुत्व (डोमिनेंट) जाति' को निम्नांकित किसके आधार पर परिभाषित किया जाता है ?

- A. भूमिधारिता
- B. सांख्यिकीय आधिक्य
- C. वर्ण-स्थिति
- D. अनुष्ठानिक शुद्धता

नीचे दिए गए विकल्पों में से सबसे उपयुक्त उत्तर का चयन कीजिए:

- 1. केवल A और B
- 2. केवल A और C
- 3. केवल B और D
- 4. केवल C और D

(1) 1

(2) 2

(3) 3

(4) 4

1[Option ID=13577]

2[Option ID=13578]

3[Option ID=13579]

4[Option ID=13580]

Sl. No.46

QBID:17046

Christoph von-Fürer - Haimendorf tribes studied the following:

- A. Koya
- B. Konda Reddi
- C. Gond
- D. Yanadi

Choose the correct answer from the options given below:

- 1. A and B only
- 2. B and C only
- 3. C and D only
- 4. D and A only

(1) 1

(2) 2

(3) 3

(4) 4

निम्नलिखित किन जनजातियों के संबंध में क्रिस्टोफ वॉन फ्युरेर हैमेण्ड्रोफ ने अध्ययन किया है ?

- A. कोया
- B. कोंडा रेड्डी
- C. गोंड
- D. यानाद्री

नीचे दिए गए विकल्पों में से सबसे उपयुक्त उत्तर का चयन कीजिए:

- 1. केवल A और B
- 2. केवल B और C
- 3. केवल C और D
- 4. केवल D और A

(1) 1

(2) 2

(3) 3

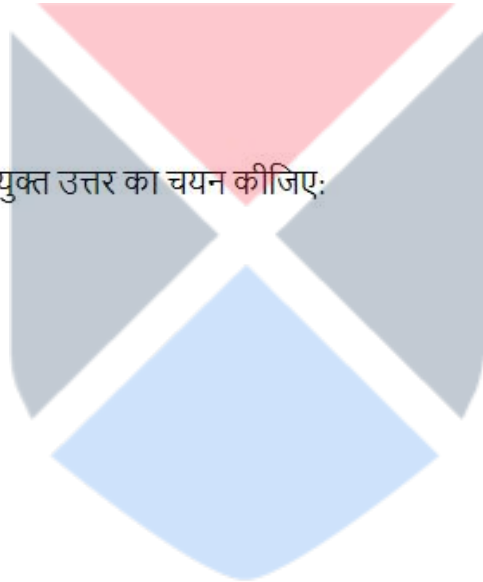
(4) 4

1[Option ID=13581]

2[Option ID=13582]

3[Option ID=13583]

4[Option ID=13584]



SI. No.47

QBID:17047

Potlatch involves:

- A. Feasting
- B. Destroying of property
- C. Gifting
- D. Exchange

Choose the most appropriate answer from the options given below:

- 1. A, C and D only
- 2. B, C and D only
- 3. A, B and C only
- 4. B and D only

(1) 1

(2) 2

(3) 3

(4) 4

पोटलार्क में सम्मिलित होता है :

- A. भोजदेना
- B. संपत्ति को नष्ट करना
- C. उपहार देना
- D. विनिमय

नीचे दिए गए विकल्पों में से सबसे उपयुक्त उत्तर का चयन कीजिए:

- 1. केवल A, C और D
- 2. केवल B, C और D
- 3. केवल A, B और C
- 4. केवल B और D

(1) 1

(2) 2

(3) 3

(4) 4

1[Option ID=13585]

2[Option ID=13586]

3[Option ID=13587]

4[Option ID=13588]

Sl. No.48

QBID:17048

Which of the following books are written by Verrier Elwin?

- A. The Myths of Middle India
- B. The Mundas and their Country
- C. The Naked Nagas
- D. The Muria and their Ghotul

Choose the most appropriate answer from the options given below:

- 1. D and C only
- 2. A and D only
- 3. C and B only
- 4. A and B only

(1) 1

(2) 2

(3) 3

(4) 4

निम्नलिखित में से किन पुस्तकों का लेखन वेरियर एल्विन ने किया है ?

- A. द मिथ्स ऑफ मिडिल इंडिया
- B. द मुंडाज एंड देयर कंट्री
- C. द नेकेड नागाज़
- D. द मूरिया एंड देयर घोटुल

नीचे दिए गए विकल्पों में से सबसे उपयुक्त उत्तर का चयन कीजिए:

- 1. केवल D और C
- 2. केवल A और D
- 3. केवल C और B
- 4. केवल A और B

(1) 1

(2) 2

(3) 3

(4) 4

1[Option ID=13589]

2[Option ID=13590]

3[Option ID=13591]

4[Option ID=13592]

Sl. No.49

QBID:17049

'Swidden', as a form of cultivation is practiced by:

- A. Jaunsaris
- B. Kadars
- C. Khasis
- D. Baigas

Choose the most appropriate answer from the options given below:

- 1. B and C only
- 2. A and C only
- 3. B and D only
- 4. C and D only

(1) 1

(2) 2

(3) 3

(4) 4

निम्नलिखित में से किनके द्वारा कृषि के एक प्रकार के रूप में 'स्वीडन' का प्रयोग किया जाता है:

- A. जौनसारी
- B. कडार
- C. खासी
- D. बैगा

नीचे दिए गए विकल्पों में से सबसे उपयुक्त उत्तर का चयन कीजिए:

- 1. केवल B और C
- 2. केवल A और C
- 3. केवल B और D
- 4. केवल C और D

(1) 1

(2) 2

(3) 3

(4) 4

1[Option ID=13593]

2[Option ID=13594]

3[Option ID=13595]

4[Option ID=13596]

Sl. No.50

QBID:17050

Identify two of the factors mainly responsible for the decline of 'Jajmani system'.

- A. The abolition of untouchability
- B. Availability of caste free occupations
- C. Decline of traditional authority system
- D. Role played by social thinkers

Choose the correct answer from the options given below:

- 1. A and B only
- 2. B and C only
- 3. C and D only
- 4. A and D only

(1) 1

(2) 2

(3) 3

(4) 4

'जजमानी पद्धति' के हास हेतु उत्तरदायी दो प्रमुख कारकों को चिन्हित कीजिए:

- A. अस्पृश्यता का उन्मूलन
- B. जाति मुक्त व्यवसाय की उपलब्धता
- C. पारंपरिक सत्ता व्यवस्था का पतन
- D. सामाजिक चिंतकों द्वारा निर्वाहित भूमिका

नीचे दिए गए विकल्पों में से सबसे उपयुक्त उत्तर का चयन कीजिए:

- 1. केवल A और B
- 2. केवल B और C
- 3. केवल C और D
- 4. केवल A और D

(1) 1

(2) 2

(3) 3

(4) 4

1[Option ID=13597]

2[Option ID=13598]

3[Option ID=13599]

4[Option ID=13600]

Sl. No.51

QBID:17051

The Neolithic culture is characterized by:

- A. Semi-permanent settlements
- B. Cultivation of millets and domestication of cattle
- C. Animal husbandry and dairying
- D. Production of pottery

Choose the most appropriate answer from the options given below:

- 1. A, C and D only
- 2. C and B only
- 3. A, B and D only
- 4. B, C and D only

(1) 1

(2) 2

(3) 3

(4) 4

नवपाषाणिक संस्कृति की विशेषताएँ हैं:

- A. अर्ध-स्थायी अधिवास
- B. मोटे अनाज की खेती एवं पशुओं को पालतू बनाना
- C. पशुपालन एवं डेरी-उद्योग
- D. मृदभांड का उत्पादन

नीचे दिए गए विकल्पों में से सबसे उपयुक्त उत्तर का चयन कीजिए:

- 1. केवल A, C और D
- 2. केवल C और B
- 3. केवल A, B और D
- 4. केवल B, C और D

(1) 1

(2) 2

(3) 3

(4) 4

1[Option ID=13601]

2[Option ID=13602]

3[Option ID=13603]

4[Option ID=13604]

SI. No.52

QBID:17052

The ceramic types that characterize the Indian Protohistoric cultures are:

- A. Northern Black polished ware
- B. Southern Brown polished ware
- C. Painted Grey ware
- D. Ochre coloured pottery

Choose the correct answer from the options given below:

- 1. A, B and C only
- 2. B, C and D only
- 3. A, C and D only
- 4. A and D only

(1) 1

(2) 2

(3) 3

(4) 4

भारतीय आद्यऐतिहासिक संस्कृति को चित्रित करने वाले मृदभांड प्रकार हैं:

- A. उत्तरी कृष्ण पालिशदार भांड (नार्दर्न ब्लैक पॉलिशड वेयर)
- B. दक्षिणी बादामी पालिशदार भांड (सदर्न ब्राएउन पालिशड वेयर)
- C. चित्रित घूसर मृदभांड (पेन्टेड ग्रे वेयर)
- D. गैरिक मृदभांड (ओक्रे कलर्ड पॉटरी)

नीचे दिए गए विकल्पों में से सबसे उपयुक्त उत्तर का चयन कीजिए:

- 1. केवल A, B और C
- 2. केवल B, C और D
- 3. केवल A, C और D
- 4. केवल A और D

(1) 1

(2) 2

(3) 3

(4) 4

1[Option ID=13605]

2[Option ID=13606]

3[Option ID=13607]

4[Option ID=13608]

Sl. No.53

QBID:17053

Which of the following cultural traits are paired correctly?

- A. Pebble Tools - Anvil Technique
- B. Rock Art - Upper Palaeolithic
- C. Flake Tools - Fluted Core technique
- D. Microliths - Compound tools

Choose the correct answer from the options given below:

- 1. A, B and D only
- 2. A, C and D only
- 3. B, C and D only
- 4. A and D only

(1) 1

(2) 2

(3) 3

(4) 4

निम्नलिखित में से कौन से सांस्कृतिक लक्षण सही युग्मित हैं?

- A. गुटिका औजार — निधाति प्रविधि (एन्विल टेक्निक)
- B. शैल कला — उत्तर पुराणपाषाण (अपर पैलियोलिथिक)
- C. शल्क उपकरण — नालीयुक्त कोड प्रविधि (फ्लूटेड कोर टेक्निक)
- D. सूक्ष्म पाषाण — संयुक्त उपकरण (कंपाउन्ड टूल्स)

नीचे दिए गए विकल्पों में से सबसे उपयुक्त उत्तर का चयन कीजिए:

- 1. केवल A, B और D
- 2. केवल A, C और D
- 3. केवल B, C और D
- 4. केवल A और D

(1) 1

(2) 2

(3) 3

(4) 4

1[Option ID=13609]

2[Option ID=13610]

3[Option ID=13611]

4[Option ID=13612]

Sl. No.54

QBID:17054

The Indus Civilization is considered as an early urbanization in Indian sub-continent due to:

- A. Evidence of early overseas trade at Lothal
- B. Prolific use of iron for manufacture of armory of warfare
- C. Planned township on grid pattern at Dholavira
- D. Civic structures like 'Great Bath' and underground drainage at Mohenjodaro

Choose the correct answer from the options given below:

- 1. A, B and D only
- 2. A, C and D only
- 3. A and D only
- 4. B, C and D only

(1) 1

(2) 2

(3) 3

(4) 4

सिन्धु सभ्यता को भारतीय उपमहाद्वीप में आरंभिक नगरीकरण के रूप में माना जाता है क्योंकि:

- A. लोथल से प्राप्त आरंभिक समुद्र पारीय व्यापार के साक्ष्य
- B. युद्ध के शस्त्रागार के निर्माण हेतु लौह का प्रचुरता से प्रयोग
- C. धौलावीरा से प्राप्त ग्रिड प्रतिरूप पर आधारित नियोजित नगर योजना
- D. मोहनजोदड़ो से प्राप्त बृहत्स्नानागार एवं भूमिगत जल निकास जैसी नगर-विषयक संरचना

नीचे दिए गए विकल्पों में से सबसे उपयुक्त उत्तर का चयन कीजिए:

- 1. केवल A, B और D
- 2. केवल A, C और D
- 3. केवल A और D
- 4. केवल B, C और D

(1) 1

(2) 2

(3) 3

(4) 4

1[Option ID=13613]

2[Option ID=13614]

3[Option ID=13615]

4[Option ID=13616]

Sl. No.55

QBID:17055

The 'Peak Height Velocity' during adolescence signifies :

- A. Attainment of adult height
- B. Onset of increase in height
- C. The time when the growth velocity reaches the highest peak in stature
- D. Usually girls reach peak height velocity earlier than the boys

Choose the most appropriate answer from the options given below:

- 1. A and B only
- 2. C and D only
- 3. B and C only
- 4. A, B and C only

(1) 1

(2) 2

(3) 3

(4) 4

किशोरावस्था के दौरान 'शीर्ष कद वेग' का आशय है:

- A. वयस्क कद की प्राप्ति
- B. कद में वृद्धि की शुरुआत
- C. वह समय जब कद का वृद्धिवेग अपने सर्वोच्च शीर्ष पर पहुंचता है
- D. सामान्यतः लड़कियाँ लड़कों से पहले शीर्ष कद वेग प्राप्त करती हैं।

नीचे दिए गए विकल्पों में से सबसे उपयुक्त उत्तर का चयन कीजिए:

- 1. केवल A और B
- 2. केवल C और D
- 3. केवल B और C
- 4. केवल A, B और C

(1) 1

(2) 2

(3) 3

(4) 4

1[Option ID=13617]

2[Option ID=13618]

3[Option ID=13619]

4[Option ID=13620]

Sl. No.56

QBID:17056

Which of the following are the autosomal recessive disorders?

- A. Achondroplasia
- B. Huntington disease
- C. Sickle cell disease
- D. Phenylketonuria

Choose the most appropriate answer from the options given below:

- 1. A and C only
- 2. C and D only
- 3. B and C only
- 4. A and D only

(1) 1

(2) 2

(3) 3

(4) 4

निम्नलिखित में से कौन से ऑटोसोमल पश्चगामी विकार हैं?

- A. एचोन्ड्रोप्लासिया
- B. हन्टिंगटन रोग
- C. सिकल सेल रोग
- D. फेनाइलकीटो न्यूरिका

नीचे दिए गए विकल्पों में से सबसे उपयुक्त उत्तर का चयन कीजिए:

- 1. केवल A और C
- 2. केवल C और D
- 3. केवल B और C
- 4. केवल A और D

(1) 1

(2) 2

(3) 3

(4) 4

1[Option ID=13621]

2[Option ID=13622]

3[Option ID=13623]

4[Option ID=13624]



SI. No.57

QBID:17057

Which of the following statements are associated with Heath-Carter (1990) method of assessing somatotype?

- A. Endomorphy is derived from the sum of three skinfolds
- B. Mesomorphy is described as fat-free mass relative to stature
- C. Ectomorphy is assessed using ponderal index
- D. This method combines both photoscopic and anthropometric procedures to estimate somatotype.

Choose the most appropriate answer from the options given below:

- 1. A, B and C only
- 2. B, C and D only
- 3. A, B and D only
- 4. A, C and D only

(1) 1

(2) 2

(3) 3

(4) 4

निम्नलिखित में से कौनसे कथन कायप्रारूप (सोमेटोटाइप) के मूल्यांकन की हीथकार्टर पद्धति (1990) से संबंधित है?

- A. स्थूलाकारिता (एन्डोमॉर्फ़ी) त्वचा की तीन तहों के योग से प्राप्त की जाती है।
- B. मेसोमॉर्फ़ी को कद (स्टेचर) के सापेक्ष वसा-मुक्त मानव पुंज (फेंट-फ्री मैन मास) के रूप में वर्णन किया जाता है।
- C. पोन्ड्रल सूचकांक का उपयोग कर लंबाकृतिकी (एक्टोमॉर्फ़ी) का मूल्यांकन किया जाता है।
- D. यह कायप्रारूप (सोमेटोटाइप) के अनुमान के लिए फोटोस्कोपी और नृसितीय पद्धतियों दोनों को संयोजित करती है।

नीचे दिए गए विकल्पों में से सबसे उपयुक्त उत्तर का चयन कीजिए:

- 1. केवल A, B और C
- 2. केवल B, C और D
- 3. केवल A, B और D
- 4. केवल A, C और D

(1) 1

(2) 2

(3) 3

(4) 4

1[Option ID=13625]

2[Option ID=13626]

3[Option ID=13627]

4[Option ID=13628]

Sl. No.58

QBID:17058

Stated below are some of the dermatoglyphic characteristics. Which of the characteristics are correct?

- A. Pattern size is obtained by ruling a line from each triradius to the core of the pattern and counting the number of ridges it crosses
- B. The pattern size score of whorls are more than arches.
- C. The number of triradii for double loops and whorl is the same.
- D. The range of pattern intensity ranges from 0 to 10.

Choose the most appropriate answer from the options given below:

- 1. A, B and C only
- 2. B, C and D only
- 3. A, C and D only
- 4. A, B and D only

(1) 1

(2) 2

(3) 3

(4) 4

नीचे कुछ उर्मेटोग्लाइफिक विशेषताएं दी गई हैं ।

- A. प्रतिरूप आकार (पैटर्न साइज) का प्रत्येक ट्राइरेडियस से प्रतिरूप के कोर तक रेखा खींच कर और रिजेज को पार करनेवालों की गणना द्वारा प्राप्त किया जाता है।
- B. रोल्स के प्रतिरूप आकार आर्चेज से अधिक हैं।
- C. डबल लूप्स और रोर्ल के लिए ट्राइरेडियाई की संख्या समान है।
- D. प्रतिरूप की तीव्रता की रेंज 0 से 10 तक हैं।

नीचे दिए गए विकल्पों में से सबसे उपयुक्त उत्तर का चयन कीजिए:

- 1. केवल A, B और C
- 2. केवल B, C और D
- 3. केवल A, C और D
- 4. केवल A, B और D

(1) 1

(2) 2

(3) 3

(4) 4

1[Option ID=13629]

2[Option ID=13630]

3[Option ID=13631]

4[Option ID=13632]

Sl. No.59

QBID:17059

Evidence of paintings made by Cro-Magnon people were found in the caves located in :

- A. Southern France
- B. Italy
- C. Spain
- D. Greece

Choose the correct answer from the options given below:

- 1. A and C only
- 2. A and B only
- 3. A, B and C only
- 4. A, B and D only

(1) 1

(2) 2

(3) 3

(4) 4

क्रो-मैग्नन लोगों द्वारा बनाई गई चित्रकारी के साक्ष्य निम्नलिखित में से किन स्थानों पर अवस्थित गुफाओं में प्राप्त हुए थे?

- A. दक्षिणी फ्रांस
- B. इटली
- C. स्पेन
- D. यूनान

नीचे दिए गए विकल्पों में से सबसे उपयुक्त उत्तर का चयन कीजिए:

- 1. केवल A और C
- 2. केवल A और B
- 3. केवल A, B और C
- 4. केवल A, B और D

- (1) 1
- (2) 2
- (3) 3
- (4) 4

1[Option ID=13633]
2[Option ID=13634]
3[Option ID=13635]
4[Option ID=13636]

Sl. No.60
QBID:17060

Which of the following are the characteristics of haptoglobin?

- A. This is a α_2 globulin
- B. This is a β globulin
- C. It has a molecular weight 85000
- D. It is concerned with transferring free haemoglobin to liver.

Choose the correct answer from the options given below:

- 1. A, B and D only
- 2. B, C and D only
- 3. A and D only
- 4. A, C and D only

- (1) 1
- (2) 2
- (3) 3
- (4) 4

हैप्टोग्लोबिन की विशेषताएं निम्नलिखित में से कौन सी हैं?

- A. यह α_2 ग्लोब्यूलिन है
- B. यह β ग्लोब्यूलिन है
- C. इसका अणुभार 85,000 होता है
- D. यह यकृत में मुक्त हीमोग्लोबिन के स्थानांतरण से संबंधित होता है

नीचे दिए गए विकल्पों में से सबसे उपयुक्त उत्तर का चयन कीजिए:

- 1. केवल A, B और D
- 2. केवल B, C और D
- 3. केवल A और D
- 4. केवल A, C और D

- (1) 1
- (2) 2
- (3) 3
- (4) 4

1[Option ID=13637]
2[Option ID=13638]
3[Option ID=13639]
4[Option ID=13640]

Sl. No.61
QBID:17061

Select the correct statements with respect to pleiotropism.

- A. A gene is said to be pleiotropy if it affects more than one trait
- B. Phenylketonuria is an example of pleiotropy
- C. A condition where one gene has several alleles.
- D. A trait is said to be pleiotropic if several genes control it.

Choose the correct answer from the options given below:

- 1. A and C only
- 2. A and B only
- 3. B and C only
- 4. C and D only

(1) 1

(2) 2

(3) 3

(4) 4

प्लिओट्रोपिज्म के संबंध में सही कथनों को चुनिए:

- A. एक जीन को प्लिओट्रोफी कहा जाता है, यदि वह एक से अधिक लक्षण को प्रभावित करता है।
- B. फेनिलकीटोन - मेह (फिनाइलकीटोल्यूरिया) प्लिओट्रोफी का एक उदाहरण है।
- C. यह स्थिति, जिसमें एक जीन के अनेक एलील होते हैं।
- D. एक लक्षण को प्लिओट्रोपिक कहा जाता है, यदि अनेक जीन इसको नियंत्रित करते हैं।

नीचे दिए गए विकल्पों में से सबसे उपयुक्त उत्तर का चयन कीजिए:

- 1. केवल A और C
- 2. केवल A और B
- 3. केवल B और C
- 4. केवल C और D

(1) 1

(2) 2

(3) 3

(4) 4

1[Option ID=13641]

2[Option ID=13642]

3[Option ID=13643]

4[Option ID=13644]

SI. No.62

QBID:17062

Which of the following characteristics are associated with *Homo erectus*?

- A. Manufactured hand axes
- B. Erect Posture
- C. Co-existed with *Homo sapiens*
- D. Cranial capacity about 900 CC

Choose the correct answer from the options given below:

- 1. A, B and C only
- 2. B, C and D only
- 3. A, C and D only
- 4. A, B and D only

(1) 1

(2) 2

(3) 3

(4) 4

निम्नलिखित कौन-सी विशेषताएं होमोइरेक्ट्स से संबंधित हैं?

- A. मैन्युफैक्चर्ड हैंडेक्सेस
- B. इरेक्ट प्रोश्चर
- C. होमोसेपियन्स के साथ सह-अस्तित्ववान
- D. 900 सीसी के लगभग कपाल क्षमता

नीचे दिए गए विकल्पों में से सबसे उपयुक्त उत्तर का चयन कीजिए:

- 1. केवल A, B और C
- 2. केवल B, C और D
- 3. केवल A, C और D
- 4. केवल A, B और D

(1) 1

(2) 2

(3) 3

(4) 4

1[Option ID=13645]

2[Option ID=13646]

3[Option ID=13647]

4[Option ID=13648]

Sl. No.63

QBID:17063

Which of the following characterises parapathecides ?

- A. Pliocene
- B. Egypt
- C. Small monkey like creature
- D. Oligocene

Choose the correct answer from the options given below:

- 1. A, B and C only
- 2. B and C only
- 3. B, C and D only
- 4. C and D only

(1) 1

(2) 2

(3) 3

(4) 4

निम्नलिखित कौन सी पैरापिथेसिड्स की विशेषताएं हैं?

- A. प्लायोसीन (अतिनूतन)
- B. मिस्र
- C. प्राणी जैसे छोटे बंदर
- D. ओलिगोसीन (अल्पनूतन)

नीचे दिए गए विकल्पों में से सबसे उपयुक्त उत्तर का चयन कीजिए:

- 1. केवल A, B और C
- 2. केवल B और C
- 3. केवल B, C और D
- 4. केवल C और D

(1) 1

(2) 2

(3) 3

(4) 4

1[Option ID=13649]

2[Option ID=13650]

3[Option ID=13651]

4[Option ID=13652]

Sl. No.64

QBID:17064

The 'Y-5' identical pattern :

- A. Is a characteristic of hominoids
- B. Refers to the cusps and fissure patterns of teeth
- C. Is a characteristic of Dryopithecids
- D. Is not found on molars

Choose the correct answer from the options given below:

- 1. A and B only
- 2. D and C only
- 3. A, B and C only
- 4. A and C only

(1) 1

(2) 2

(3) 3

(4) 4

Y-5 दंत प्रतिरूप (पैटर्न) है:

- A. होमोनिड की एक विशेषता
- B. दाँत के कस्स एवं फिशर प्रतिरूप से संबंधित है
- C. ड्रोपोपिथेसिड्स की एक विशेषता है
- D. चवर्णक में नहीं पाया जाता है

नीचे दिए गए विकल्पों में से सबसे उपयुक्त उत्तर का चयन कीजिए:

- 1. केवल A और B
- 2. केवल D और C
- 3. केवल A, B और C
- 4. केवल A और C

(1) 1

(2) 2

(3) 3

(4) 4

1[Option ID=13653]

2[Option ID=13654]

3[Option ID=13655]

4[Option ID=13656]

Sl. No.65

QBID:17065

Which of the statements accurately denote 'genetic fitness'?

- A. Adaptability to various habitats
- B. Number of mates each individual selects
- C. The contribution of a genotype to the gene pool of the next generation
- D. The ability to live and reproduce.

Choose the correct answer from the options given below:

- 1. A and B only
- 2. A and D only
- 3. C and D only
- 4. B and C only

(1) 1

(2) 2

(3) 3

(4) 4

जनसंख्या आनुवंशिकीविद् उपयुक्तता को जिस रूप में संदर्भित करते हैं उसे निम्नलिखित कथनों में से कौन सर्वाधिक सटीक रूप में प्रस्तुत करता है?

- A. विविध प्रकार के आवासों के प्रति अनुकूलन शीलता।
- B. प्रत्येक व्यक्ति द्वारा चुने जाने वाले जोड़ों (सखा) की संख्या।
- C. अगली पीढ़ी के जीनपूल (निकाय) में किसी जीनोटाइप का योगदान।
- D. जीनें एवं प्रजनन हेतु सक्षमता।

नीचे दिए गए विकल्पों में से सही उत्तर का चयन कीजिए:

- 1. केवल A और B
- 2. केवल A और D
- 3. केवल C और D
- 4. केवल B और C

- (1) 1
(2) 2
(3) 3
(4) 4

1[Option ID=13657]
2[Option ID=13658]
3[Option ID=13659]
4[Option ID=13660]

Sl. No.66
QBID:17066

Match List I with List II

LIST I		LIST II	
A.	Multipurpose Tribal Development Projects	I.	Third Five-Year Plan
B.	Tribal Development Block	II.	Second Five-Year Plan
C.	Modified Area Development Agency (MADA)	III.	Fifth Five-Year Plan
D.	Tribal Sub Plan	IV.	Sixth Five-Year Plan.

Choose the correct answer from the options given below:

1. A-I, B-II, C-III, D-IV
2. A-II, B-I, C-IV, D-III
3. A-II, B-IV, C-I, D-III
4. A-III, B-I, C-II, D-IV

- (1) 1
(2) 2
(3) 3
(4) 4

सूची I का सूची II से मिलान कीजिए

सूची I		सूची II	
A.	बहुद्देशीय जनजातीय परियोजनाएं	I.	तृतीय पंचवर्षीय योजना
B.	जनजातीय विकास खंड	II.	द्वितीय पंचवर्षीय योजना
C.	संशोधित श्रेत्र विकास अभिकरण (एम ए डी ए)	III.	पाँचवी पंचवर्षीय योजना
D.	जनजातीय उपयोजना	IV.	छठी पंचवर्षीय योजना

निम्नलिखित विकल्पों में से सही उत्तर का चयन कीजिए :

1. A-I, B-II, C-III, D-IV
2. A-II, B-I, C-IV, D-III
3. A-II, B-IV, C-I, D-III
4. A-III, B-I, C-II, D-IV

- (1) 1
(2) 2
(3) 3
(4) 4

1[Option ID=13661]
2[Option ID=13662]
3[Option ID=13663]
4[Option ID=13664]

Sl. No.67
QBID:17067

Match List I with List II

LIST I		LIST II	
A.	Genealogical method	I.	G.P Murdock
B.	Cross-cultural method	II.	M. Gluckman
C.	Participant observation	III.	W.H.R. Rivers
D.	Extended Case method	IV.	B. Malinowski

Choose the correct answer from the options given below:

1. A-II, B-I, C-IV, D-III
2. A-IV, B-III, C-II, D-I
3. A-III, B-I, C-IV, D-II
4. A-III, B-II, C-IV, D-I

- (1) 1
(2) 2
(3) 3
(4) 4

सूची I का सूची II से मिलान कीजिए

सूची I		सूची II	
A.	वंशवृत्तीय विधि	I.	जी.पी. मर्डोक
B.	अंतः सांस्कृतिक विधि	II.	एम. ग्लूकमान
C.	प्रतिभागी प्रेक्षण	III.	डब्ल्यू. एच. आर. रीवर्स
D.	विस्तारित केस (मामला) विधि	IV.	बी. मैलिनोउशी

निम्नलिखित विकल्पों में से सही उत्तर का चयन कीजिए :

1. A-II, B-I, C-IV, D-III
2. A-IV, B-III, C-II, D-I
3. A-III, B-I, C-IV, D-II
4. A-III, B-II, C-IV, D-I

- (1) 1
(2) 2
(3) 3
(4) 4

1[Option ID=13665]
2[Option ID=13666]
3[Option ID=13667]
4[Option ID=13668]

Sl. No.68
QBID:17068

Match List I with List II

LIST I		LIST II	
A.	Bisipara	I.	Stanley Freed
B.	Kishan Garhi	II.	Kathleen Gough
C.	Shanti Nagar	III.	Mckim Marriott
D.	Kumbapettai	IV.	F.G. Bailey

Choose the correct answer from the options given below:

1. A-II, B-III, C-IV, D-I
2. A-I, B-II, C-IV, D-III
3. A-III, B-I, C-II, D-IV
4. A-IV, B-III, C-I, D-II

(1) 1

(2) 2

(3) 3

(4) 4

सूची I का सूची II से मिलान कीजिए

सूची I		सूची II	
A.	बिसीपाडा	I.	स्टॉनले फ्रीड
B.	किशनगढ़ी	II.	कैथलीन गफ़
C.	शान्तिनगर	III.	मेक्किम मैरियोट्ट
D.	कुम्बापेट्टई	IV.	एफ.जी. बेली

निम्नलिखित विकल्पों में से सही उत्तर का चयन कीजिए :

1. A-II, B-III, C-IV, D-I
2. A-I, B-II, C-IV, D-III
3. A-III, B-I, C-II, D-IV
4. A-IV, B-III, C-I, D-II

(1) 1

(2) 2

(3) 3

(4) 4

1[Option ID=13669]

2[Option ID=13670]

3[Option ID=13671]

4[Option ID=13672]

Sl. No.69

QBID:17069

Match List I with List II

LIST I		LIST II	
A.	Keneth Kennedy	I.	Marxist Anthropologist
B.	Dian Fosse	II.	Primatologist
C.	Maurice Godelier	III.	Paleoanthropologist
D.	Charles Peirce	IV.	Linguistic Anthropologist

Choose the correct answer from the options given below:

1. A-III, B-I, C-II, D-IV
2. A-III, B-II, C-I, D-IV
3. A-II, B-III, C-I, D-IV
4. A-I, B-II, C-IV, D-III

- (1) 1
 (2) 2
 (3) 3
 (4) 4

सूची I का सूची II से मिलान कीजिए

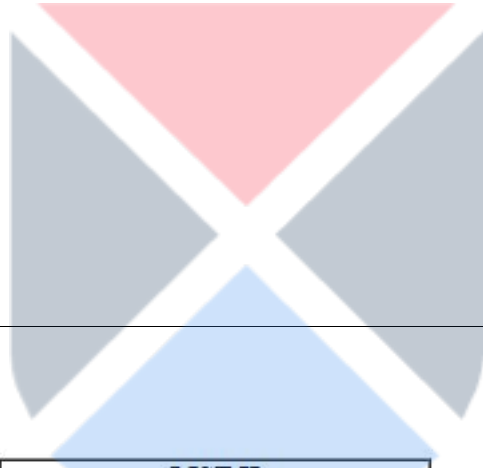
सूची I		सूची II	
A.	कैनेथ केनेडी	I.	माक्सवादी नृ-विज्ञानी
B.	दियान फोसे	II.	प्राइमेट-विज्ञानी
C.	मारिस गोदेलिएर	III.	पुरा-नृ-विज्ञानी (पैलियों एंथ्रोपोलाजिस्ट)
D.	चार्ल्स पिएर्स	IV.	भाषायी नृविज्ञानी

निम्नलिखित विकल्पों में से सही उत्तर का चयन कीजिए :

1. A-III, B-I, C-II, D-IV
2. A-III, B-II, C-I, D-IV
3. A-II, B-III, C-I, D-IV
4. A-I, B-II, C-IV, D-III

- (1) 1
 (2) 2
 (3) 3
 (4) 4

- 1[Option ID=13673]
 2[Option ID=13674]
 3[Option ID=13675]
 4[Option ID=13676]



Sl. No.70
 QBID:17070

Match List I with List II

LIST I		LIST II	
A.	Megalithic	I.	Pit-dwellings
B.	Neolithic	II.	Pygmy tools
C.	Mesolithic	III.	Copper tools
D.	Neolithic Chaleolithic	IV.	Memorial Stones

Choose the correct answer from the options given below:

1. A-I, B-II, C-IV, D-III
2. A-III, B-IV, C-I, D-II
3. A-II, B-III, C-I, D-IV
4. A-IV, B-I, C-II, D-III

- (1) 1
 (2) 2
 (3) 3
 (4) 4

सूची I का सूची II से मिलान कीजिए

सूची I		सूची II	
A.	महापाषाणिक (मेगालिथिक)	I.	गर्तवास
B.	नवपाषाणिक (निओलिथिक)	II.	बौने (पिग्मी) उपकरण
C.	मध्यपाषाणिक (मीसोलिथिक)	III.	ताम्र उपकरण
D.	नवपाषाणिक- ताम्रपाषाणिक (निओलिथिक - चाकोलिथिक)	IV.	स्माकीय-पाषाण

निम्नलिखित विकल्पों में से सही उत्तर का चयन कीजिए :

1. A-I, B-II, C-IV, D-III
2. A-III, B-IV, C-I, D-II
3. A-II, B-III, C-I, D-IV
4. A-IV, B-I, C-II, D-III

- (1) 1
(2) 2
(3) 3
(4) 4

1[Option ID=13677]

2[Option ID=13678]

3[Option ID=13679]

4[Option ID=13680]

SI. No.71

QBID:17071

Match List I with List II

LIST I		LIST II	
A.	The Genetics of Human Populations	I.	M. Kimura
B.	Human Genetics	II.	L.L. Cavalli-Sforza and W. Bodmer
C.	Mankind Evolving	III.	V.A. Mckuscik
D.	The Neutral Theory of Molecular Evolution	IV.	T. Dobzhansky

Choose the correct answer from the options given below:

1. A-III, B-I, C-IV, D-II
2. A-II, B-IV, C-I, D-III
3. A-II, B-III, C-IV, D-I
4. A-IV, B-III, C-II, D-I

- (1) 1
(2) 2
(3) 3
(4) 4

सूची I का सूची II से मिलान कीजिए

सूची I		सूची II	
A.	द जेनेटिक्स ऑफ ह्युमन पापुलेशन	I.	एम. किमुरा
B.	ह्युमन जेनेटिक्स	II.	एल.एल. कावलि स्फ़ोजा और डब्ल्यू बोडमेन
C.	मैनकाइन्ड इवाल्विंग	III.	वी.ए. मैकुसिक
D.	द न्यूट्रल थ्योरी ऑफ मालिक्युलर इवाल्युशन	IV.	टी. डॉबझांस्की

निम्नलिखित विकल्पों में से सही उत्तर का चयन कीजिए :

1. A-III, B-I, C-IV, D-II
2. A-II, B-IV, C-I, D-III
3. A-II, B-III, C-IV, D-I
4. A-IV, B-III, C-II, D-I

- (1) 1
(2) 2
(3) 3
(4) 4

- 1[Option ID=13681]
2[Option ID=13682]
3[Option ID=13683]
4[Option ID=13684]

Sl. No.72

QBID:17072

Match List I with List II

LIST I		LIST II	
A.	Omo-Kibish	I.	Erstwhile Czechoslovakia
B.	Qafzeh	II.	Ethiopia
C.	Border Cave	III.	Israel
D.	Predmosti	IV.	South Africa

Choose the correct answer from the options given below:

1. A-IV, B-III, C-I, D-II
2. A-II, B-III, C-IV, D-I
3. A-III, B-I, C-IV, D-II
4. A-IV, B-I, C-III, D-II

- (1) 1
(2) 2
(3) 3
(4) 4

सूची I का सूची II से मिलान कीजिए

सूची I		सूची II	
A.	ओमो-किबिश	I.	संचेकोस्लोवाकिया
B.	कफ़ज़ेह	II.	इथियोपिया
C.	बार्डर केव	III.	इज़रायल
D.	प्रेडमोस्ती	IV.	दक्षिण अफ़्रीका

निम्नलिखित विकल्पों में से सही उत्तर का चयन कीजिए :

1. A-IV, B-III, C-I, D-II
2. A-II, B-III, C-IV, D-I
3. A-III, B-I, C-IV, D-II
4. A-IV, B-I, C-III, D-II

(1) 1

(2) 2

(3) 3

(4) 4

1[Option ID=13685]

2[Option ID=13686]

3[Option ID=13687]

4[Option ID=13688]

Sl. No.73

QBID:17073

Match List I with List II

LIST I		LIST II	
A.	Cri-du-chat syndrome	I.	Deletion of Chromosome 11 P 13
B.	Prader-Willi syndrome	II.	Micro deletion of chromosome 15q 11 - 13
C.	WAGR syndrome	III.	Duplication in shortarm of chromosome 17p 12
D.	Charcot-Marie-tooth (CMT) Disorder	IV.	Microdeletion of chromosome 5p

Choose the correct answer from the options given below:

1. A-I, B-II, C-III, D-IV
2. A-IV, B-III, C-II, D-I
3. A-II, B-I, C-IV, D-III
4. A-IV, B-II, C-I, D-III

(1) 1

(2) 2

(3) 3

(4) 4

सूची I का सूची II से मिलान कीजिए

सूची I		सूची II	
A.	क्राई-दु-चैट सिंड्रोम	I.	गुणसूत्र - 11P13 का विलोपन
B.	पादेर-विली सिंड्रोम	II.	गुणसूत्र - 15q11-13 का सूक्ष्म विलोपन
C.	डब्ल्यू.ए.जी.आर. संलक्षण (सिंड्रोम)	III.	गुणसूत्र - 17p12 की लघु शाखिका में अनुलिपिकरण (द्विगुणन)
D.	चारकोट - मैर टुथ (सीएमटी) विकास (डिसऑर्डर)	IV.	गुणसूत्र - 5p का सूक्ष्म विलोपन

निम्नलिखित विकल्पों में से सही उत्तर का चयन कीजिए :

1. A-I, B-II, C-III, D-IV
2. A-IV, B-III, C-II, D-I
3. A-II, B-I, C-IV, D-III
4. A-IV, B-II, C-I, D-III

(1) 1

(2) 2

(3) 3

(4) 4

1[Option ID=13689]

2[Option ID=13690]

3[Option ID=13691]

4[Option ID=13692]

SI. No.74

QBID:17074

Match List I with List II

LIST I		LIST II	
A.	Environmental Archaeology	I.	Lewis Binford
B.	Ethno-Archaeology	II.	Karl Butzer
C.	New Archaeology	III.	K.C. Chang
D.	Settlement Archaeology	IV.	M.B. Stanslowski

Choose the correct answer from the options given below:

1. A-II, B-IV, C-I, D-III
2. A-I, B-III, C-IV, D-II
3. A-III, B-II, C-I, D-IV
4. A-IV, B-I, C-II, D-III

(1) 1

(2) 2

(3) 3

(4) 4

सूची I का सूची II से मिलान कीजिए

सूची I		सूची II	
A.	पर्यावरणीय पुरातत्व विज्ञान	I.	लुईस बिनफोर्ड
B.	नृजाति - पुरातत्व विज्ञान	II.	कार्ल बुटजेर
C.	नव-पुरातत्व विज्ञान	III.	के.सी. चाँग
D.	अधिवास - पुरातत्व विज्ञान	IV.	एमबी स्टानस्लोवस्की

निम्नलिखित विकल्पों में से सही उत्तर का चयन कीजिए :

1. A-II, B-IV, C-I, D-III
2. A-I, B-III, C-IV, D-II
3. A-III, B-II, C-I, D-IV
4. A-IV, B-I, C-II, D-III

(1) 1

(2) 2

(3) 3

(4) 4

1[Option ID=13693]

2[Option ID=13694]

3[Option ID=13695]

4[Option ID=13696]

Sl. No.75

QBID:17075

Match List I with List II

LIST I		LIST II	
A.	Aotinae	I.	Langur
B.	Cebinae	II.	Potto
C.	Colobinae	III.	Capuchin monkey
D.	Lorisinae	IV.	Owl or night monkey

Choose the correct answer from the options given below:

1. A-IV, B-III, C-I, D-II
2. A-II, B-III, C-IV, D-I
3. A-III, B-I, C-IV, D-II
4. A-II, B-I, C-IV, D-III

(1) 1

(2) 2

(3) 3

(4) 4

सूची I का सूची II से मिलान कीजिए

सूची I		सूची II	
A.	एओटिनी	I.	लंगूर
B.	कैबिनी	II.	पोटो
C.	कोलोबिनी	III.	कैपुचिन मंकी (बंदर)
D.	लॉरी सिनी	IV.	ओवल अथवा रात्रिकालीन मंकी (बंदर)

निम्नलिखित विकल्पों में से सही उत्तर का चयन कीजिए :

1. A-IV, B-III, C-I, D-II
2. A-II, B-III, C-IV, D-I
3. A-III, B-I, C-IV, D-II
4. A-II, B-I, C-IV, D-III

(1) 1

(2) 2

(3) 3

(4) 4

1[Option ID=13697]

2[Option ID=13698]

3[Option ID=13699]

4[Option ID=13700]

Sl. No.76

QBID:17076

Sequence the following perspectives in chronological order of their publications from earliest to latest.

- A. Sapir-Whorf Hypothesis
- B. Age-Area Hypothesis
- C. Cultural Ecology
- D. Energy theory of culture

Choose the correct answer from the options given below:

1. A, B, D, C
2. B, A, D, C
3. B, A, C, D
4. A, D, B, C

(1) 1

(2) 2

(3) 3

(4) 4

निम्नलिखित परिप्रेक्ष्यों को उनके प्रकाशन के कालक्रमानुसार प्राचीन तम से नवीनतम के क्रम में व्यवस्थित कीजिए:

- A. सपीर-वोर्फ परिकल्पना (सपीर-वोर्फ हाइपोथिसिस)
- B. आयु क्षेत्र परिकल्पना (ऐज, एरिया हाइपोथिसिस)
- C. सांस्कृतिक पारिस्थितिकी (कल्चरल इकोलॉजी)
- D. संस्कृति का ऊर्जा सिद्धांत (एनर्जी थियरी ऑफ कल्चर)

नीचे दिए गये विकल्पों में से सही उत्तर का चयन कीजिए:

- 1. A, B, D, C
- 2. B, A, D, C
- 3. B, A, C, D
- 4. A, D, B, C

(1) 1

(2) 2

(3) 3

(4) 4

1[Option ID=13701]

2[Option ID=13702]

3[Option ID=13703]

4[Option ID=13704]

Sl. No.77

QBID:17077

Arrange the following committees on tribal development, beginning from the earliest to the most recent.

- A. U.N. Dheber Committee
- B. Mungekar Committee
- C. Shilu Ao Committee
- D. Bhuria Committee.

Choose the correct answer from the options given below:

- 1. A, C, B, D
- 2. C, B, D, A
- 3. C, A, D, B
- 4. D, C, B, A

(1) 1

(2) 2

(3) 3

(4) 4

जनजातीय विकास पर आधारित निम्नलिखित समितियों को प्राचीनतम से नवीनतम के क्रम में व्यवस्थित कीजिए:

- A. यू.एन. घेबर समिति
- B. मुंगेकर समिति
- C. शिलूआओ समिति
- D. भूरिया समिति

नीचे दिए गए विकल्पों में से सही उत्तर का चयन कीजिए:

- 1. A, C, B, D
- 2. C, B, D, A
- 3. C, A, D, B
- 4. D, C, B, A

(1) 1

(2) 2

(3) 3

(4) 4

1[Option ID=13705]

2[Option ID=13706]

3[Option ID=13707]

4[Option ID=13708]

Sl. No.78

QBID:17078

Arrange the following works in terms of ascending order of their publications from the earliest to the latest.

- A. Argonauts of the Western Pacific
- B. The Patterns of Culture
- C. Elementary forms of Religious Life
- D. The Elementary Structures of Kinship.

Choose the correct answer from the options given below:

- 1. A, B, C, D
- 2. C, A, B, D
- 3. C, D, B, A
- 4. A, C, B, D

(1) 1

(2) 2

(3) 3

(4) 4

निम्नलिखित कृतियों को उनके प्रकाशन के अनुसार प्राचीनतम से नवीनतम के आरोही क्रम में व्यवस्थित कीजिए:

- A. आर्गेनाउट्स ऑफ द वेस्टर्न पैसिफिक
- B. पैटर्न्स ऑफ कल्चर
- C. एलीमेंट्री फॉर्मर्स ऑफ रिलीजियस लाइफ
- D. द एलीमेंट्री स्ट्रक्चर्स ऑफ किनशिप

नीचे दिए गए विकल्पों में से सही उत्तर का चयन कीजिए:

- 1. A, B, C, D
- 2. C, A, B, D
- 3. C, D, B, A
- 4. A, C, B, D

(1) 1

(2) 2

(3) 3

(4) 4

1[Option ID=13709]

2[Option ID=13710]

3[Option ID=13711]

4[Option ID=13712]

Sl. No.79

QBID:17079

The correct sequence of the following works on rural India starting from the earliest to the most recent is:

- A. Village India
- B. Behind the Mud Walls
- C. The Poison in the Gift
- D. Remembered Village

Choose the correct answer from the options given below:

- 1. C, B, D, A
- 2. B, A, D, C
- 3. A, B, C, D
- 4. B, C, D, A

(1) 1

(2) 2

(3) 3

(4) 4

ग्रामीण भारत पर आधारित निम्नलिखित कृतियों का प्राचीनतम से आधुनिकतम के क्रम में सही अनुक्रम हैं:

- A. विलेज इंडिया
- B. बिहाइंड द मड वाल्स
- C. द प्वाइजन इन द गिफ्ट
- D. रिमेम्बर्ड विलेज

नीचे दिए गए विकल्पों में से सही उत्तर का चयन कीजिए:

- 1. C, B, D, A
- 2. B, A, D, C
- 3. A, B, C, D
- 4. B, C, D, A

(1) 1

(2) 2

(3) 3

(4) 4

1[Option ID=13713]

2[Option ID=13714]

3[Option ID=13715]

4[Option ID=13716]

Sl. No.80

QBID:17080

Arrange the correct sequence of cultural variants that appeared in prehistoric Europe from the earliest to the latest phases :

- A. Perigordian
- B. Tardenoisean
- C. Aurignacian
- D. Maglemosean

Choose the correct answer from the options given below:

- 1. A, C, B, D
- 2. A, B, D, C
- 3. C, A, B, D
- 4. B, D, A, C

(1) 1

(2) 2

(3) 3

(4) 4

पूर्व ऐतिहासिक यूरोप में प्रकट होने वाले सांस्कृतिक रुपांतर के सही अनुक्रम को प्राचीनतम से नवीनतम के क्रम में व्यवस्थित कीजिए:

- A. पेरीगॉर्डियन
- B. टोर्डेनॉइजियन
- C. ऑरिगॉसियन
- D. मैग्लेमॉसियन

नीचे दिए गए विकल्पों में से सही उत्तर का चयन कीजिए:

- 1. A, C, B, D
- 2. A, B, D, C
- 3. C, A, B, D
- 4. B, D, A, C

(1) 1

(2) 2

(3) 3

(4) 4

1[Option ID=13717]

2[Option ID=13718]

3[Option ID=13719]

4[Option ID=13720]

Sl. No.81

QBID:17081

Arrange the archaeological sites in sequential order in which they characterize the cultural phases from earliest to latest.

- A. Rakhigarhi
- B. Attirampakkam
- C. Burzaham
- D. Langhnaj

Choose the correct answer from the options given below:

- 1. B, C, A, D
- 2. A, B, D, C
- 3. B, D, C, A
- 4. D, B, A, C

(1) 1

(2) 2

(3) 3

(4) 4

निम्नलिखित पुरातत्व-स्थलों को कालानुक्रमानुसार प्राचीनतम से नवीनतम के क्रम में व्यवस्थित कीजिए, जिनमें वे सांस्कृतिक अवस्थाओं को चित्रित करते हैं:

- A. राखीगढ़ी
- B. अत्तिरपक्कम्
- C. बुर्जहाम
- D. लघनाज

नीचे दिए गए विकल्पों में से सही उत्तर का चयन कीजिए:

- 1. B, C, A, D
- 2. A, B, D, C
- 3. B, D, C, A
- 4. D, B, A, C

(1) 1

(2) 2

(3) 3

(4) 4

1[Option ID=13721]

2[Option ID=13722]

3[Option ID=13723]

4[Option ID=13724]

Sl. No.82

QBID:17082

Arrange the following landmarks of the upper extremity from proximal to distal end.

- A. Acromian
- B. Styliion
- C. Dactyliion
- D. Radiale

Choose the correct answer from the options given below:

- 1. C, B, D, A
- 2. A, D, B, C
- 3. B, D, C, A
- 4. A, B, C, D

(1) 1

(2) 2

(3) 3

(4) 4

ऊपर सिरे (अपर एक्स्ट्रीमिटी) के निम्नलिखित चिन्हों को निकटतम से दूरस्थ छोर के क्रम में व्यवस्थित कीजिए:

- A. एक्रोमियन
- B. स्टाइलियोन
- C. डैक्टीलियोन
- D. रेडिएल

नीचे दिए गए विकल्पों में से सही उत्तर का चयन कीजिए:

- 1. C, B, D, A
- 2. A, D, B, C
- 3. B, D, C, A
- 4. A, B, C, D

(1) 1

(2) 2

(3) 3

(4) 4

1[Option ID=13725]

2[Option ID=13726]

3[Option ID=13727]

4[Option ID=13728]

Sl. No.83

QBID:17083

Arrange the following stages of growth in the descending order of growth rates.

- A. Mid-childhood
- B. Infancy
- C. Prenatal
- D. Adolescent

Choose the correct answer from the options given below:

- 1. C, D, B, A
- 2. B, C, D, A
- 3. C, B, D, A
- 4. D, B, C, A

(1) 1

(2) 2

(3) 3

(4) 4

वृद्धि की निम्नलिखित अवस्थाओं को वृद्धि दर के अवरोही क्रम को व्यवस्थित कीजिए:

- A. मध्य बाल्यावस्था
- B. शैशव
- C. प्रसवपूर्व
- D. किशोर

नीचे दिए गए विकल्पों में से सही उत्तर का चयन कीजिए:

- 1. C, D, B, A
- 2. B, C, D, A
- 3. C, B, D, A
- 4. D, B, C, A

(1) 1

(2) 2

(3) 3

(4) 4

1[Option ID=13729]

2[Option ID=13730]

3[Option ID=13731]

4[Option ID=13732]

Sl. No.84

QBID:17084

Identify the correct sequence of the following osteological characters as they appear in the human body from head to foot :

- A. Linea aspera
- B. Trochlea
- C. Foramen Magnum
- D. Medial Malleolus

Choose the correct answer from the options given below:

- 1. C, A, B, D
- 2. C, D, B, A
- 3. C, B, A, D
- 4. B, A, C, D

(1) 1

(2) 2

(3) 3

(4) 4

सिर से पैर तक मानव शरीर में उत्पन्न होनेवाले निम्नलिखित अस्थिविज्ञानी अभिलक्षणों को सही अनुक्रम में व्यवस्थित कीजिए:

- A. लीनिया एस्पेरा
- B. ट्रॉकलिया
- C. फॉरमेन मैग्नुम
- D. मीडियल मैलियोलस

नीचे दिए गए विकल्पों में से सही उत्तर का चयन कीजिए:

- 1. C, A, B, D
- 2. C, D, B, A
- 3. C, B, A, D
- 4. B, A, C, D

(1) 1

(2) 2

(3) 3

(4) 4

1[Option ID=13733]

2[Option ID=13734]

3[Option ID=13735]

4[Option ID=13736]

Sl. No.85

QBID:17085

Identify the correct sequence of appearance of the major early humans in chronological order from the earliest to the latest :

- A. *Australopithecus afarensis*
- B. *Homo neanderthalensis*
- C. *Homo erectus*
- D. *Homo habilis*.

Choose the correct answer from the options given below:

- 1. A, B, C, D
- 2. A, D, C, B
- 3. B, C, D, A
- 4. A, B, D, C

- (1) 1
(2) 2
(3) 3
(4) 4

प्रमुख आरंभिक मानवों को उनके उद्भव के कालानुक्रम में प्राचीनतम से नवीनतम के सही अनुक्रम में व्यवस्थित कीजिए:

- A. ऑस्ट्रेलोपिथेक्स अफारेन्सिस
B. होमो निण्डरथलेन्सिस
C. होमो इरेक्टस
D. होमो हैबिलिस

नीचे दिए गए विकल्पों में से सही उत्तर का चयन कीजिए:

1. A, B, C, D
2. A, D, C, B
3. B, C, D, A
4. A, B, D, C

- (1) 1
(2) 2
(3) 3
(4) 4

- 1[Option ID=13737]
2[Option ID=13738]
3[Option ID=13739]
4[Option ID=13740]

Sl. No.86
QBID:17086

Given below are two statements:

Statement I : 'Sacred Complex' involves sacred geography, sacred practices and sacred specialist of Hindu place of pilgrimage.

Statement II: A 'Sacred Complex' reflects a continuity, compromise and a combination of the great and little traditions.

In the light of the above statements, choose the most appropriate answer from the options given below:

1. Both Statement I and Statement II are true
2. Both Statement I and Statement II are false
3. Statement I is true but Statement II is false
4. Statement I is false but Statement II is true

- (1) 1
(2) 2
(3) 3
(4) 4

नीचे दो कथन दिए गए हैं:

कथन I : पावन संकुज में हिन्दू तीर्थ स्थान का पावन भूगोल, पावन प्रथापं और पावन विशेषज्ञजन सम्मिलित हैं।

कथन II : पावन संकुल निरंतरता आपसी समझौता और महत्वपूर्ण एवं साधारण परम्पराओ (ग्रेट एंड लिटल ट्रेडिशनस) को प्रतिबिम्ब करता है।

उपरोक्त कथन के आलोक में नीचे दिए गए विकल्पों में से सही उत्तर का चयन कीजिए:

1. कथन I और II दोनों सत्य हैं
2. कथन I और II दोनों असत्य हैं
3. कथन I सत्य है, लेकिन कथन II असत्य है
4. कथन I असत्य है, लेकिन कथन II सत्य है

(1) 1

(2) 2

(3) 3

(4) 4

1[Option ID=13741]

2[Option ID=13742]

3[Option ID=13743]

4[Option ID=13744]

Sl. No.87

QBID:17087

Given below are two statements:

Statement I : Like positivism, phenomenology is a philosophy of knowledge that lays emphasis on direct observation of phenomenon.

Statement II: Unlike positivists, however, phenomenologists seek to sense reality and describe it in words that reflect consciousness and perception.

In the light of the above statements, choose the most appropriate answer from the options given below:

1. Both Statement I and Statement II are true
2. Both Statement I and Statement II are false
3. Statement I is true but Statement II is false
4. Statement I is false but Statement II is true

(1) 1

(2) 2

(3) 3

(4) 4

नीचे दो कथन दिए गए हैं:

कथन I : प्रत्यक्षवाद (पॉजिटिविज्म) की तरह संवृत्तिशास्त्र (फेनोमेनोलॉजी) एक ज्ञान-दर्शन है, जो परिघटना के प्रत्यक्ष अवलोकन पर बल देता है।

कथन II : प्रत्यक्षवाद के विपरीत, संवृत्तिशास्त्री यथार्थता को मापने और उन शब्दों में वर्णन का प्रयास करते हैं, जो चेतना और प्रत्यक्षण को प्रतिबिम्ब करता है।

उपरोक्त कथन के आलोक में नीचे दिए गए विकल्पों में से सही उत्तर का चयन कीजिए:

1. कथन I और II दोनों सत्य हैं
2. कथन I और II दोनों असत्य हैं
3. कथन I सत्य है, लेकिन कथन II असत्य है
4. कथन I असत्य है, लेकिन कथन II सत्य है

(1) 1

(2) 2

(3) 3

(4) 4

1[Option ID=13745]

2[Option ID=13746]

3[Option ID=13747]

4[Option ID=13748]

Sl. No.88

QBID:17088

Given below are two statements:

Statement I : According to B.S. Guha's classification of Indian populations, Mediterranean and Orientals are the two sub-categories under the category 'The Mediterranean'.

Statement II: The only difference in the physical feature between Mediterranean and Oriental sub-categories is the long and convex nose among the later sub-category.

In the light of the above statements, choose the most appropriate answer from the options given below:

1. Both Statement I and Statement II are correct
2. Both Statement I and Statement II are incorrect
3. Statement I is correct but Statement II is incorrect
4. Statement I is incorrect but Statement II is correct

(1) 1

(2) 2

(3) 3

(4) 4

नीचे दो कथन दिए गए हैं:

कथन I : बी.एस. गुहा के भारतीय जनसंख्या के वर्गीकरण के अनुसार मेडिटेरियन और प्राच्य (आरियन्टल्स) 'द मेडिटेरियन' के वर्ग के दो उपवर्ग हैं।

कथन II : मेडिटेरियन और प्राच्य उप-वर्गों के बीच शारीरिक विशेषता में केवल अंतर वाद के उप-वर्ग में लंबा एवं उत्तल (कॉन्वेक्स) नाक है।

उपरोक्त कथन के आलोक में नीचे दिए गए विकल्पों में से सही उत्तर का चयन कीजिए:

1. कथन I और II दोनों सत्य हैं
2. कथन I और II दोनों असत्य हैं
3. कथन I सत्य है, लेकिन कथन II असत्य है
4. कथन I असत्य है, लेकिन कथन II सत्य है

(1) 1

(2) 2

(3) 3

(4) 4

1[Option ID=13749]

2[Option ID=13750]

3[Option ID=13751]

4[Option ID=13752]

Sl. No.89

QBID:17089

Given below are two statements: One is labelled as Assertion A and the other is labelled as Reason R.

Assertion A : The mental ability of *Homo sapiens* had been matured enough to cognize the biotic and aesthetic understandings of nature as depicted on cave walls and ceilings.

Reason R : The progressive development of brain and the changing environmental conditions contributed to the development of thinking capacity of humans.

In the light of the above statements, choose the most appropriate answer from the options given below

1. Both **A** and **R** are correct and **R** is the correct explanation of **A**
2. Both **A** and **R** are correct but **R** is not the correct explanation of **A**
3. **A** is correct but **R** is not correct
4. **A** is not correct but **R** is correct

(1) 1

(2) 2

(3) 3

(4) 4

नीचे दो कथन दिए गए हैं: एक अभिकथन (Assertion A) के रूप में लिखित है तो दूसरा उसके कारण (Reason R) के रूप में;

अभिकथन A : होमो सैपियन्स की मानसिक क्षमता, जैविक और सौंदर्य संबंधी प्रकृति की समझ के बारे में पर्याप्त रूप से परिपक्व रही थी, जैसाकि गुफा की दीवारों एवं छतों पर चित्रित किया गया है।

कारण R : मस्तिष्क का क्रमिक विकास और परिवर्तनशील पर्यावरण-स्थितियों ने मानव जाति के सोचने की क्षमता के विकास में योगदान दिया।

उपरोक्त कथन के आलोक में नीचे दिए गए विकल्पों में से सही उत्तर का चयन कीजिए:

1. A और R दोनों सही हैं और R, A की सही व्याख्या है
2. A और R दोनों सही हैं, लेकिन R, A की सही व्याख्या नहीं है
3. A सही है लेकिन R सही नहीं है
4. A सही नहीं है लेकिन R सही है

(1) 1

(2) 2

(3) 3

(4) 4

1[Option ID=13753]

2[Option ID=13754]

3[Option ID=13755]

4[Option ID=13756]

Sl. No.90

QBID:17090

Given below are two statements: One is labelled as Assertion A and the other is labelled as Reason R.

Assertion A : Tropically adapted populations have linear body builds, characterized by low body mass, small trunks, and relatively long arms and legs.

Reason R : This morphology allows for both reduced metabolic heat production and efficient heat loss due to high surface area : weight ratios.

In the light of the above statements, choose the most appropriate answer from the options given below:

1. Both **A** and **R** are correct and **R** is the correct explanation of **A**
2. Both **A** and **R** are correct but **R** is not the correct explanation of **A**
3. **A** is correct but **R** is not correct
4. **A** is not correct but **R** is correct

(1) 1

(2) 2

(3) 3

(4) 4

नीचे दो कथन दिए गए हैं: एक अभिकथन (Assertion A) के रूप में लिखित है तो दूसरा उसके कारण (Reason R) के रूप में;

अभिकथन A : उष्णकटिबंधीय अनुकूलित जनसंख्या की शरीर रचना लंबी (लिनियर) वाली, जो कम बॉडी मास, छोटे धड़ और सापेक्षिक रूप से लंबी बाहों एवं पैरों द्वारा विशेषित होती है।

कारण R : यह आकारिकी (मोर्फोलॉजी) अधिक सतही क्षेत्र: वज़न अनुपात के कारण कम उपाचययी उष्मा के उत्पादन और कम कार्यक्षम-उष्मा दोनों की अनुमति देती है।

उपरोक्त कथन के आलोक में नीचे दिए गए विकल्पों में से सही उत्तर का चयन कीजिए:

1. A और R दोनों सही हैं और R, A की सही व्याख्या है
2. A और R दोनों सही हैं, लेकिन R, A की सही व्याख्या नहीं है
3. A सही है लेकिन R सही नहीं है
4. A सही नहीं है लेकिन R सही है

(1) 1

(2) 2

(3) 3

(4) 4

1[Option ID=13757]


2[Option ID=13758]

3[Option ID=13759]

4[Option ID=13760]

Sl. No.91

QBID:17091



Read the given paragraph and answer the five questions that follow:

If one dimension of the cockfight's structure, its lack of temporal directionality, makes it seem a typical segment of the general social life, however, the other, its flat-out, head-to-head (or spur-to-spur) aggressiveness, makes it seem a contradiction, a reversal, even a subversion of it. In the normal course of things, the Balinese are shy to the point of obsessiveness of open conflict, oblique, cautious, subdued, controlled, masters of indirection and dissimulation-what they call as, "polished", "smooth" - they rarely face what they can turn away from, rarely resist what they can evade. But here they portray themselves as wild and murderous, with manic explosions of instinctual cruelty. A powerful rendering of life as the Balinese most deeply do not want it (to adapt a phrase Frye has used of Gloucester's blinding) is set in the context of a sample of it as they do in fact have. And, because the context suggests that the rendering, if less than a straight forward description, is nonetheless more than an idle fancy; it is here that the disquietfulness-the disquietfulness of the fight, not (or, anyway, not necessarily) is patrons, who seem in fact rather thoroughly to enjoy it emerges. The slaughter in the cock ring is not a depiction of how things literally are among men, but, what is almost worse, of how, from a particular angle, they imaginatively are. The angle, of course, is stratificatory. What, as we have already seen, the cockfight talks most forcibly about is status relationships, and what it says about them is that they are matters of life and death. That prestige is a profoundly serious business is apparent everywhere one looks in Bali-in the village, the family, the economy, the state. A peculiar fusion of Polynesian title ranks and Hindu castes, the hierarchy of pride is the moral backbone of the society. But only in the cockfight are the sentiments upon which that hierarchy rests revealed in their natural colours. Enveloped elsewhere in a haze of etiquette, a thick cloud of euphemism and ceremony gesture and allusion, they are here expressed in only the thinnest disguise of an animal mask, a mask which in fact demonstrates them far more effectively than it conceals them. Jealousy is as much a part of Bali as poise, envy as grace, brutality as charm; but without the cockfight the Balinese would have a much less certain understanding of them, which is, presumably, why they value it so highly.

प्रदत्त गद्यांश को पढ़िए व उसके बाद पूछे गए प्रश्नों के उत्तर दीजिए:

यदि मुर्गबाजी संरचना का एक आयाम, इसकी लौकिक दिशात्मकता का अभाव, इसे सामान्य सामाजिक जीवन का एक प्रातिनिधिक भाग जैसा प्रतीत करता है, तथापि, दूसरे इसकी स्पष्ट, सिर से सिर टकराने (अथवा कंट से कंट) की आक्रामकता, इसे एक अंतर्विरोध, एक विपर्यास, यहां तक कि इसका समापन जैसा प्रतीत कराती है। सामान्यतः स्थितियों में, बाली वासी खुले द्वंद की मनोग्रस्ति की सीमा तक संकोची होते हैं। अस्पष्ट, सावधान, शांत, नियंत्रित, परोक्षता व छिपाव के मास्टर, लोग हमें क्या कहते हैं, "परिष्कृत", "चिकने-चुपड़े" - जिससे वे मुंह, मोह सकते हों उसका वे बिरलें ही सामना करते हैं और जिसका वे परिहार कर सकते हो उसका बिरले ही प्रतिरोध करते हैं। परन्तु यहां वे स्वयं को जंगली और हिंसक के रूप में, सहज क्रूरता के विक्षिप्त विस्फोटों को सैध चित्रित करते हैं। ऐसे जीवन का एक संशक्त चित्रण, जैसाकि बालीवासी अत्यधिक गहराई से कामना नहीं करते हैं (फ्राई द्वारा ग्लाउसेस्टर को अंधा बनाए जाने के संबंध में प्रयुक्त वाक्यांश का रूपांतर करते हुए), ऐसे संदर्भ के उदाहरण के रूप में किया जाता है जैसा कि वास्तव में उनका है। और क्योंकि यह संदर्भ संकेत करता है कि यह चित्रण, यदि यह सीधा सच्चा वर्णन नहीं भी है, तो भी यह कोरी कल्पना से तो कहीं अधिक है; यहां वह बैचेनी उभरती है, लड़ाई की बैचेनी, (अथवा, आवश्यक रूप से नहीं) इसके संरक्षकों की नहीं, उनके बारे में तो ऐसा प्रतीत होता है कि वे इसका अत्यधिक आनंद लेते थे, उभरती है। मुर्ग अखाड़े में यह कत्लेआम मनुष्यों के बीच की स्थिति का शाब्दिक चित्रण नहीं है, परन्तु, जो इससे भी बुरा है, कि एक कोण विशेष से काल्पनिक रूप से वे ऐसे हैं। बेशक यह कोण स्तरित है। जैसाकि हमने पहले देखा है, मुर्गबाजी अत्यधिक सशक्तरूप से स्थिति संबंधों की बात करती है और यह जो उनके बारे में कहती है वह है कि ये जीवन और मृत्यु के विषय है। बाली में आप जहां भी देखिए, गांव में, परिवार में, अर्थव्यवस्था में, राज्य में, आप पाएंगे कि सम्मान वहां अत्यधिक गंभीर विषय है। पॉलिनेशियाई पदों पदवियों और हिन्दू जातियों का विशिष्ट समेकन, गर्व का पदानुक्रम वहां के समाज का नैतिक मेरूदंड है। परन्तु यह मुर्गबाजी में ही है कि वे भावनाएं अपने प्राकृतिक रंगों में दिखाई देती हैं जिन पर ये पदानुक्रम आधारित है। अन्य कहीं, शिष्टाचार की धुंध, मंगलभाषिता और समारोह, भंगिमा और संकेतों के घने बादलो से आच्छादित, यहां ये एक पशु मुखौटे के महीन से छधवेश में, एक ऐसा मुखौटा जो वास्तव में जितना छिपाता है उससे कहीं अधिक प्रभावी रूप में उन्हें अभिव्यक्त करता है। ईर्ष्या भी बाली का उतना ही भाग है जितना की संतुलन, शालीनता के रूप में ईर्ष्या सौम्यता के रूप में बर्बरता; परन्तु मुर्गबाजी के बिना बाली वासियों की उनके बारे में कहीं कम सुनिश्चित समझ होती और संभवतया इसी कारण वे इसे इतना अधिक महत्व देते हैं।

According to the aforesaid text the most common feature of Balinese Social organisation is:

1. Euphemism
2. Conflict
3. Hierarchy
4. Competition

(1) 1

(2) 2

(3) 3

(4) 4

उपर्युक्त गद्यांश के अनुसार, सामाजिक संगठन का सर्वाधिक सामान्य लक्षण निम्न में से कौन सा है ?

1. मंगलभाषिता
2. द्वंद
3. पदानुक्रम
4. प्रतिस्पर्धा

(1) 1

(2) 2

(3) 3

(4) 4

1[Option ID=13761]


2[Option ID=13762]

3[Option ID=13763]

4[Option ID=13764]

Sl. No.92

QBID:17092



Read the given paragraph and answer the five questions that follow:

If one dimension of the cockfight's structure, its lack of temporal directionality, makes it seem a typical segment of the general social life, however, the other, its flat-out, head-to-head (or spur-to-spur) aggressiveness, makes it seem a contradiction, a reversal, even a subversion of it. In the normal course of things, the Balinese are shy to the point of obsessiveness of open conflict, oblique, cautious, subdued, controlled, masters of indirection and dissimulation-what they call as, "polished", "smooth" - they rarely face what they can turn away from, rarely resist what they can evade. But here they portray themselves as wild and murderous, with manic explosions of instinctual cruelty. A powerful rendering of life as the Balinese most deeply do not want it (to adapt a phrase Frye has used of Gloucester's blinding) is set in the context of a sample of it as they do in fact have. And, because the context suggests that the rendering, if less than a straight forward description, is nonetheless more than an idle fancy; it is here that the disquietfulness-the disquietfulness of the fight, not (or, anyway, not necessarily) is patrons, who seem in fact rather thoroughly to enjoy it emerges. The slaughter in the cock ring is not a depiction of how things literally are among men, but, what is almost worse, of how, from a particular angle, they imaginatively are. The angle, of course, is stratificatory. What, as we have already seen, the cockfight talks most forcibly about is status relationships, and what it says about them is that they are matters of life and death. That prestige is a profoundly serious business is apparent everywhere one looks in Bali-in the village, the family, the economy, the state. A peculiar fusion of Polynesian title ranks and Hindu castes, the hierarchy of pride is the moral backbone of the society. But only in the cockfight are the sentiments upon which that hierarchy rests revealed in their natural colours. Enveloped elsewhere in a haze of etiquette, a thick cloud of euphemism and ceremony gesture and allusion, they are here expressed in only the thinnest disguise of an animal mask, a mask which in fact demonstrates them far more effectively than it conceals them. Jealousy is as much a part of Bali as poise, envy as grace, brutality as charm; but without the cockfight the Balinese would have a much less certain understanding of them, which is, presumably, why they value it so highly.

प्रदत्त गद्यांश को पढ़िए व उसके बाद पूछे गए प्रश्नों के उत्तर दीजिए:

यदि मुर्गबाजी संरचना का एक आयाम, इसकी लौकिक दिशात्मकता का अभाव, इसे सामान्य सामाजिक जीवन का एक प्रातिनिधिक भाग जैसा प्रतीत करता है, तथापि, दूसरे इसकी स्पष्ट, सिर से सिर टकराने (अथवा कंट से कंट) की आक्रामकता, इसे एक अंतर्विरोध, एक विपर्यास, यहां तक कि इसका समापन जैसा प्रतीत कराती है। सामान्यतः स्थितियों में, बाली वासी खुले द्वंद की मनोग्रस्ति की सीमा तक संकोची होते हैं। अस्पष्ट, सावधान, शांत, नियंत्रित, परोक्षता व छिपाव के मास्टर, लोग हमें क्या कहते हैं, "परिष्कृत", "चिकने-चुपड़े" - जिससे वे मुंह, मोह सकते हों उसका वे बिरलें ही सामना करते हैं और जिसका वे परिहार कर सकते हो उसका बिरले ही प्रतिरोध करते हैं। परन्तु यहां वे स्वयं को जंगली और हिंसक के रूप में, सहज क्रूरता के विक्षिप्त विस्फोटों को सैध चित्रित करते हैं। ऐसे जीवन का एक संशक्त चित्रण, जैसाकि बालीवासी अत्यधिक गहराई से कामना नहीं करते हैं (फ्राई द्वारा ग्लाउसेस्टर को अंधा बनाए जाने के संबंध में प्रयुक्त वाक्यांश का रूपांतर करते हुए), ऐसे संदर्भ के उदाहरण के रूप में किया जाता है जैसा कि वास्तव में उनका है। और क्योंकि यह संदर्भ संकेत करता है कि यह चित्रण, यदि यह सीधा सच्चा वर्णन नहीं भी है, तो भी यह कोरी कल्पना से तो कहीं अधिक है; यहां वह बैचेनी उभरती है, लड़ाई की बैचेनी, (अथवा, आवश्यक रूप से नहीं) इसके संरक्षकों की नहीं, उनके बारे में तो ऐसा प्रतीत होता है कि वे इसका अत्यधिक आनंद लेते थे, उभरती है। मुर्ग अखाड़े में यह कत्लेआम मनुष्यों के बीच की स्थिति का शाब्दिक चित्रण नहीं है, परन्तु, जो इससे भी बुरा है, कि एक कोण विशेष से काल्पनिक रूप से वे ऐसे हैं। बेशक यह कोण स्तरित है। जैसाकि हमने पहले देखा है, मुर्गबाजी अत्यधिक सशक्तरूप से स्थिति संबंधों की बात करती है और यह जो उनके बारे में कहती है वह है कि ये जीवन और मृत्यु के विषय है। बाली में आप जहां भी देखिए, गांव में, परिवार में, अर्थव्यवस्था में, राज्य में, आप पाएंगे कि सम्मान वहां अत्यधिक गंभीर विषय है। पॉलिनेशियाई पदों पदवियों और हिन्दू जातियों का विशिष्ट समेकन, गर्व का पदानुक्रम वहां के समाज का नैतिक मेरूदंड है। परन्तु यह मुर्गबाजी में ही है कि वे भावनाएं अपने प्राकृतिक रंगों में दिखाई देती हैं जिन पर ये पदानुक्रम आधारित है। अन्य कहीं, शिष्टाचार की धुंध, मंगलभाषिता और समारोह, भंगिमा और संकेतों के घने बादलो से आच्छादित, यहां ये एक पशु मुखौटे के महीन से छधवेश में, एक ऐसा मुखौटा जो वास्तव में जितना छिपाता है उससे कहीं अधिक प्रभावी रूप में उन्हें अभिव्यक्त करता है। ईर्ष्या भी बाली का उतना ही भाग है जितना की संतुलन, शालीनता के रूप में ईर्ष्या सौम्यता के रूप में बर्बरता; परन्तु मुर्गबाजी के बिना बाली वासियों की उनके बारे में कहीं कम सुनिश्चित समझ होती और संभवतया इसी कारण वे इसे इतना अधिक महत्व देते हैं।

The cockfight among Balinese can be best described as:

1. Sport
2. Status competition
3. Entertainment
4. Gambling

(1) 1

(2) 2

(3) 3

(4) 4

बाली वासियों के बीच मुर्गबाजी का निम्न में से सर्वोत्तम वर्णन:

1. खेल
2. पद प्रतिस्पर्धा
3. मनोरंजन
4. जुआ

(1) 1

(2) 2

(3) 3

(4) 4

1[Option ID=13765]

2[Option ID=13766]

3[Option ID=13767]

4[Option ID=13768]

Sl. No.93

QBID:17093



Read the given paragraph and answer the five questions that follow:

If one dimension of the cockfight's structure, its lack of temporal directionality, makes it seem a typical segment of the general social life, however, the other, its flat-out, head-to-head (or spur-to-spur) aggressiveness, makes it seem a contradiction, a reversal, even a subversion of it. In the normal course of things, the Balinese are shy to the point of obsessiveness of open conflict, oblique, cautious, subdued, controlled, masters of indirection and dissimulation-what they call as, "polished", "smooth" - they rarely face what they can turn away from, rarely resist what they can evade. But here they portray themselves as wild and murderous, with manic explosions of instinctual cruelty. A powerful rendering of life as the Balinese most deeply do not want it (to adapt a phrase Frye has used of Gloucester's blinding) is set in the context of a sample of it as they do in fact have. And, because the context suggests that the rendering, if less than a straight forward description, is nonetheless more than an idle fancy; it is here that the disquietfulness-the disquietfulness of the fight, not (or, anyway, not necessarily) is patrons, who seem in fact rather thoroughly to enjoy it emerges. The slaughter in the cock ring is not a depiction of how things literally are among men, but, what is almost worse, of how, from a particular angle, they imaginatively are. The angle, of course, is stratificatory. What, as we have already seen, the cockfight talks most forcibly about is status relationships, and what it says about them is that they are matters of life and death. That prestige is a profoundly serious business is apparent everywhere one looks in Bali-in the village, the family, the economy, the state. A peculiar fusion of Polynesian title ranks and Hindu castes, the hierarchy of pride is the moral backbone of the society. But only in the cockfight are the sentiments upon which that hierarchy rests revealed in their natural colours. Enveloped elsewhere in a haze of etiquette, a thick cloud of euphemism and ceremony gesture and allusion, they are here expressed in only the thinnest disguise of an animal mask, a mask which in fact demonstrates them far more effectively than it conceals them. Jealousy is as much a part of Bali as poise, envy as grace, brutality as charm; but without the cockfight the Balinese would have a much less certain understanding of them, which is, presumably, why they value it so highly.

प्रदत्त गद्यांश को पढ़िए व उसके बाद पूछे गए प्रश्नों के उत्तर दीजिए:

यदि मुर्गबाजी संरचना का एक आयाम, इसकी लौकिक दिशात्मकता का अभाव, इसे सामान्य सामाजिक जीवन का एक प्रातिनिधिक भाग जैसा प्रतीत करता है, तथापि, दूसरे इसकी स्पष्ट, सिर से सिर टकराने (अथवा कंट से कंट) की आक्रामकता, इसे एक अंतर्विरोध, एक विपर्यास, यहां तक कि इसका समापन जैसा प्रतीत कराती है। सामान्यतः स्थितियों में, बाली वासी खुले द्वंद की मनोग्रस्ति की सीमा तक संकोची होते हैं। अस्पष्ट, सावधान, शांत, नियंत्रित, परोक्षता व छिपाव के मास्टर, लोग हमें क्या कहते हैं, "परिष्कृत", "चिकने-चुपड़े" - जिससे वे मुंह, मोह सकते हों उसका वे बिरलें ही सामना करते हैं और जिसका वे परिहार कर सकते हो उसका बिरले ही प्रतिरोध करते हैं। परन्तु यहां वे स्वयं को जंगली और हिंसक के रूप में, सहज क्रूरता के विक्षिप्त विस्फोटों को सैध चित्रित करते हैं। ऐसे जीवन का एक संशक्त चित्रण, जैसाकि बालीवासी अत्यधिक गहराई से कामना नहीं करते हैं (फ्राई द्वारा ग्लाउसेस्टर को अंधा बनाए जाने के संबंध में प्रयुक्त वाक्यांश का रूपांतर करते हुए), ऐसे संदर्भ के उदाहरण के रूप में किया जाता है जैसा कि वास्तव में उनका है। और क्योंकि यह संदर्भ संकेत करता है कि यह चित्रण, यदि यह सीधा सच्चा वर्णन नहीं भी है, तो भी यह कोरी कल्पना से तो कहीं अधिक है; यहां वह बैचेनी उभरती है, लड़ाई की बैचेनी, (अथवा, आवश्यक रूप से नहीं) इसके संरक्षकों की नहीं, उनके बारे में तो ऐसा प्रतीत होता है कि वे इसका अत्यधिक आनंद लेते थे, उभरती है। मुर्ग अखाड़े में यह कत्लेआम मनुष्यों के बीच की स्थिति का शाब्दिक चित्रण नहीं है, परन्तु, जो इससे भी बुरा है, कि एक कोण विशेष से काल्पनिक रूप से वे ऐसे हैं। बेशक यह कोण स्तरित है। जैसाकि हमने पहले देखा है, मुर्गबाजी अत्यधिक सशक्तरूप से स्थिति संबंधों की बात करती है और यह जो उनके बारे में कहती है वह है कि ये जीवन और मृत्यु के विषय है। बाली में आप जहां भी देखिए, गांव में, परिवार में, अर्थव्यवस्था में, राज्य में, आप पाएंगे कि सम्मान वहां अत्यधिक गंभीर विषय है। पॉलिनेशियाई पदों पदवियों और हिन्दू जातियों का विशिष्ट समेकन, गर्व का पदानुक्रम वहां के समाज का नैतिक मेरूदंड है। परन्तु यह मुर्गबाजी में ही है कि वे भावनाएं अपने प्राकृतिक रंगों में दिखाई देती हैं जिन पर ये पदानुक्रम आधारित है। अन्य कहीं, शिष्टाचार की धुंध, मंगलभाषिता और समारोह, भंगिमा और संकेतों के घने बादलो से आच्छादित, यहां ये एक पशु मुखौटे के महीन से छधवेश में, एक ऐसा मुखौटा जो वास्तव में जितना छिपाता है उससे कहीं अधिक प्रभावी रूप में उन्हें अभिव्यक्त करता है। ईर्ष्या भी बाली का उतना ही भाग है जितना की संतुलन, शालीनता के रूप में ईर्ष्या सौम्यता के रूप में बर्बरता; परन्तु मुर्गबाजी के बिना बाली वासियों की उनके बारे में कहीं कम सुनिश्चित समझ होती और संभवतया इसी कारण वे इसे इतना अधिक महत्व देते हैं।

According to the text, in every day life, Balinese are not characterized as:

1. Cautious
2. Shy
3. Aggressive
4. Indecisive

(1) 1

(2) 2

(3) 3

(4) 4

गद्यांश के अनुसार, अपने दैनंदिन जीवन में बाली वासियों की निम्न में से कौन सी विशिष्टता नहीं थी ?

1. सावधान
2. संकोची
3. आक्रामक
4. अनिश्चायक

(1) 1

(2) 2

(3) 3

(4) 4

1[Option ID=13769]


2[Option ID=13770]

3[Option ID=13771]

4[Option ID=13772]

Sl. No.94

QBID:17094



Read the given paragraph and answer the five questions that follow:

If one dimension of the cockfight's structure, its lack of temporal directionality, makes it seem a typical segment of the general social life, however, the other, its flat-out, head-to-head (or spur-to-spur) aggressiveness, makes it seem a contradiction, a reversal, even a subversion of it. In the normal course of things, the Balinese are shy to the point of obsessiveness of open conflict, oblique, cautious, subdued, controlled, masters of indirection and dissimulation-what they call as, "polished", "smooth" - they rarely face what they can turn away from, rarely resist what they can evade. But here they portray themselves as wild and murderous, with manic explosions of instinctual cruelty. A powerful rendering of life as the Balinese most deeply do not want it (to adapt a phrase Frye has used of Gloucester's blinding) is set in the context of a sample of it as they do in fact have. And, because the context suggests that the rendering, if less than a straight forward description, is nonetheless more than an idle fancy; it is here that the disquietfulness-the disquietfulness of the fight, not (or, anyway, not necessarily) is patrons, who seem in fact rather thoroughly to enjoy it emerges. The slaughter in the cock ring is not a depiction of how things literally are among men, but, what is almost worse, of how, from a particular angle, they imaginatively are. The angle, of course, is stratificatory. What, as we have already seen, the cockfight talks most forcibly about is status relationships, and what it says about them is that they are matters of life and death. That prestige is a profoundly serious business is apparent everywhere one looks in Bali-in the village, the family, the economy, the state. A peculiar fusion of Polynesian title ranks and Hindu castes, the hierarchy of pride is the moral backbone of the society. But only in the cockfight are the sentiments upon which that hierarchy rests revealed in their natural colours. Enveloped elsewhere in a haze of etiquette, a thick cloud of euphemism and ceremony gesture and allusion, they are here expressed in only the thinnest disguise of an animal mask, a mask which in fact demonstrates them far more effectively than it conceals them. Jealousy is as much a part of Bali as poise, envy as grace, brutality as charm; but without the cockfight the Balinese would have a much less certain understanding of them, which is, presumably, why they value it so highly.

प्रदत्त गद्यांश को पढ़िए व उसके बाद पूछे गए प्रश्नों के उत्तर दीजिए:

यदि मुर्गबाजी संरचना का एक आयाम, इसकी लौकिक दिशात्मकता का अभाव, इसे सामान्य सामाजिक जीवन का एक प्रातिनिधिक भाग जैसा प्रतीत करता है, तथापि, दूसरे इसकी स्पष्ट, सिर से सिर टकराने (अथवा कंट से कंट) की आक्रामकता, इसे एक अंतर्विरोध, एक विपर्यास, यहां तक कि इसका समापन जैसा प्रतीत कराती है। सामान्यतः स्थितियों में, बाली वासी खुले द्वंद की मनोग्रस्ति की सीमा तक संकोची होते हैं। अस्पष्ट, सावधान, शांत, नियंत्रित, परोक्षता व छिपाव के मास्टर, लोग हमें क्या कहते हैं, "परिष्कृत", "चिकने-चुपड़े" - जिससे वे मुंह, मोह सकते हों उसका वे बिरलें ही सामना करते हैं और जिसका वे परिहार कर सकते हो उसका बिरले ही प्रतिरोध करते हैं। परन्तु यहां वे स्वयं को जंगली और हिंसक के रूप में, सहज क्रूरता के विक्षिप्त विस्फोटों को सैध चित्रित करते हैं। ऐसे जीवन का एक संशक्त चित्रण, जैसाकि बालीवासी अत्यधिक गहराई से कामना नहीं करते हैं (फ्राई द्वारा ग्लाउसेस्टर को अंधा बनाए जाने के संबंध में प्रयुक्त वाक्यांश का रूपांतर करते हुए), ऐसे संदर्भ के उदाहरण के रूप में किया जाता है जैसा कि वास्तव में उनका है। और क्योंकि यह संदर्भ संकेत करता है कि यह चित्रण, यदि यह सीधा सच्चा वर्णन नहीं भी है, तो भी यह कोरी कल्पना से तो कहीं अधिक है; यहां वह बैचेनी उभरती है, लड़ाई की बैचेनी, (अथवा, आवश्यक रूप से नहीं) इसके संरक्षकों की नहीं, उनके बारे में तो ऐसा प्रतीत होता है कि वे इसका अत्यधिक आनंद लेते थे, उभरती है। मुर्ग अखाड़े में यह कत्लेआम मनुष्यों के बीच की स्थिति का शाब्दिक चित्रण नहीं है, परन्तु, जो इससे भी बुरा है, कि एक कोण विशेष से काल्पनिक रूप से वे ऐसे हैं। बेशक यह कोण स्तरित है। जैसाकि हमने पहले देखा है, मुर्गबाजी अत्यधिक सशक्तरूप से स्थिति संबंधों की बात करती है और यह जो उनके बारे में कहती है वह है कि ये जीवन और मृत्यु के विषय है। बाली में आप जहां भी देखिए, गांव में, परिवार में, अर्थव्यवस्था में, राज्य में, आप पाएंगे कि सम्मान वहां अत्यधिक गंभीर विषय है। पॉलिनेशियाई पदों पदवियों और हिन्दू जातियों का विशिष्ट समेकन, गर्व का पदानुक्रम वहां के समाज का नैतिक मेरूदंड है। परन्तु यह मुर्गबाजी में ही है कि वे भावनाएं अपने प्राकृतिक रंगों में दिखाई देती हैं जिन पर ये पदानुक्रम आधारित है। अन्य कहीं, शिष्टाचार की धुंध, मंगलभाषिता और समारोह, भंगिमा और संकेतों के घने बादलो से आच्छादित, यहां ये एक पशु मुखौटे के महीन से छधवेश में, एक ऐसा मुखौटा जो वास्तव में जितना छिपाता है उससे कहीं अधिक प्रभावी रूप में उन्हें अभिव्यक्त करता है। ईर्ष्या भी बाली का उतना ही भाग है जितना की संतुलन, शालीनता के रूप में ईर्ष्या सौम्यता के रूप में बर्बरता; परन्तु मुर्गबाजी के बिना बाली वासियों की उनके बारे में कहीं कम सुनिश्चित समझ होती और संभवतया इसी कारण वे इसे इतना अधिक महत्व देते हैं।

The approach used by the author in the text to understand the event can be best described as:

1. Interpretive
2. Structuralism
3. Functionalism
4. Transactionalism

(1) 1

(2) 2

(3) 3

(4) 4

गद्यांश में लेखक द्वारा घटना को समझने के लिए प्रयुक्त उपागम को निम्न में से किस रूप में सर्वोत्तम वर्णित किया जा सकता है?

1. व्याख्यापरक
2. संरचनावाद
3. प्रकार्यवाद
4. संव्यवहारवाद

(1) 1

(2) 2

(3) 3

(4) 4

1[Option ID=13773]


2[Option ID=13774]

3[Option ID=13775]

4[Option ID=13776]

Sl. No.95

QBID:17095



Read the given paragraph and answer the five questions that follow:

If one dimension of the cockfight's structure, its lack of temporal directionality, makes it seem a typical segment of the general social life, however, the other, its flat-out, head-to-head (or spur-to-spur) aggressiveness, makes it seem a contradiction, a reversal, even a subversion of it. In the normal course of things, the Balinese are shy to the point of obsessiveness of open conflict, oblique, cautious, subdued, controlled, masters of indirection and dissimulation-what they call as, "polished", "smooth" - they rarely face what they can turn away from, rarely resist what they can evade. But here they portray themselves as wild and murderous, with manic explosions of instinctual cruelty. A powerful rendering of life as the Balinese most deeply do not want it (to adapt a phrase Frye has used of Gloucester's blinding) is set in the context of a sample of it as they do in fact have. And, because the context suggests that the rendering, if less than a straight forward description, is nonetheless more than an idle fancy; it is here that the disquietfulness-the disquietfulness of the fight, not (or, anyway, not necessarily) is patrons, who seem in fact rather thoroughly to enjoy it emerges. The slaughter in the cock ring is not a depiction of how things literally are among men, but, what is almost worse, of how, from a particular angle, they imaginatively are. The angle, of course, is stratificatory. What, as we have already seen, the cockfight talks most forcibly about is status relationships, and what it says about them is that they are matters of life and death. That prestige is a profoundly serious business is apparent everywhere one looks in Bali-in the village, the family, the economy, the state. A peculiar fusion of Polynesian title ranks and Hindu castes, the hierarchy of pride is the moral backbone of the society. But only in the cockfight are the sentiments upon which that hierarchy rests revealed in their natural colours. Enveloped elsewhere in a haze of etiquette, a thick cloud of euphemism and ceremony gesture and allusion, they are here expressed in only the thinnest disguise of an animal mask, a mask which in fact demonstrates them far more effectively than it conceals them. Jealousy is as much a part of Bali as poise, envy as grace, brutality as charm; but without the cockfight the Balinese would have a much less certain understanding of them, which is, presumably, why they value it so highly.

प्रदत्त गद्यांश को पढ़िए व उसके बाद पूछे गए प्रश्नों के उत्तर दीजिए:

यदि मुर्गबाजी संरचना का एक आयाम, इसकी लौकिक दिशात्मकता का अभाव, इसे सामान्य सामाजिक जीवन का एक प्रातिनिधिक भाग जैसा प्रतीत करता है, तथापि, दूसरे इसकी स्पष्ट, सिर से सिर टकराने (अथवा कंट से कंट) की आक्रामकता, इसे एक अंतर्विरोध, एक विपर्यास, यहां तक कि इसका समापन जैसा प्रतीत कराती है। सामान्यतः स्थितियों में, बाली वासी खुले द्वंद की मनोग्रस्ति की सीमा तक संकोची होते हैं। अस्पष्ट, सावधान, शांत, नियंत्रित, परोक्षता व छिपाव के मास्टर, लोग हमें क्या कहते हैं, "परिष्कृत", "चिकने-चुपड़े" - जिससे वे मुंह, मोह सकते हों उसका वे बिरलें ही सामना करते हैं और जिसका वे परिहार कर सकते हो उसका बिरले ही प्रतिरोध करते हैं। परन्तु यहां वे स्वयं को जंगली और हिंसक के रूप में, सहज क्रूरता के विक्षिप्त विस्फोटों को सैध चित्रित करते हैं। ऐसे जीवन का एक संशक्त चित्रण, जैसाकि बालीवासी अत्यधिक गहराई से कामना नहीं करते हैं (फ्राई द्वारा ग्लाउसेस्टर को अंधा बनाए जाने के संबंध में प्रयुक्त वाक्यांश का रूपांतर करते हुए), ऐसे संदर्भ के उदाहरण के रूप में किया जाता है जैसा कि वास्तव में उनका है। और क्योंकि यह संदर्भ संकेत करता है कि यह चित्रण, यदि यह सीधा सच्चा वर्णन नहीं भी है, तो भी यह कोरी कल्पना से तो कही अधिक है; यहां वह बैचेनी उभरती है, लडाई की बैचेनी, (अथवा, आवश्यक रूप से नहीं) इसके संरक्षकों की नहीं, उनके बारे में तो ऐसा प्रतीत होता है कि वे इसका अत्यधिक आनंद लेते थे, उभरती है। मुर्ग अखाड़े में यह कत्लेआम मनुष्यों के बीच की स्थिति का शाब्दिक चित्रण नहीं है, परन्तु, जो इससे भी बुरा है, कि एक कोण विशेष से काल्पनिक रूप से वे ऐसे हैं। बेशक यह कोण स्तरित है। जैसाकि हमने पहले देखा है, मुर्गबाजी अत्यधिक सशक्तरूप से स्थिति संबंधों की बात करती है और यह जो उनके बारे में कहती है वह है कि ये जीवन और मृत्यु के विषय है। बाली में आप जहां भी देखिए, गांव में, परिवार में, अर्थव्यवस्था में, राज्य में, आप पाएंगे कि सम्मान वहां अत्यधिक गंभीर विषय है। पॉलिनेशियाई पदों पदवियों और हिन्दू जातियों का विशिष्ट समेकन, गर्व का पदानुक्रम वहां के समाज का नैतिक मेरूदंड है। परन्तु यह मुर्गबाजी में ही है कि वे भावनाएं अपने प्राकृतिक रंगों में दिखाई देती है जिन पर ये पदानुक्रम आधारित है। अन्य कही, शिष्टाचार की धुंध, मंगलभाषिता और समारोह, भंगिमा और संकेतो के घने बादलो से आच्छादित, यहां ये एक पशु मुखौटे के महीन से छधवेश में, एक ऐसा मुखौटा जो वास्तव में जितना छिपाता है उससे कहीं अधिक प्रभावी रूप में उन्हें अभिव्यक्त करता है। ईर्ष्या भी बाली का उतना ही भाग है जितना की संतुलन, शालीनता के रूप में ईर्ष्या सौम्यता के रूप में बर्बरता; परन्तु मुर्गबाजी के बिना बाली वासियों की उनके बारे में कहीं कम सुनिश्चित समझ होती और संभवतया इसी कारण वे इसे इतना अधिक महत्व देते हैं।

What is the meaning of the term 'stratifactory angle' in the passage?

1. It refers to the cockfight
2. It refers to the Balinese personality
3. It is a feature of their religion
4. It is a feature of their social organization

(1) 1

(2) 2

(3) 3

(4) 4

गद्यांश में 'स्ट्रेटीफैक्ट्री कोण' पद का निम्न में से कौन सा अर्थ है?

1. इसका संकेत मुर्गबाजी की ओर है।
2. इसका संकेत बाली वासियों के व्यक्तित्व की ओर हैं।
3. यह उनके धर्म का एक अभिलक्षण है।
4. यह उनके सामाजिक संगठन का एव अभिलक्षण है।

(1) 1

(2) 2

(3) 3

(4) 4

1[Option ID=13777]

2[Option ID=13778]

3[Option ID=13779]

4[Option ID=13780]

Sl. No.96

QBID:17096

Some areas of Harappa and Mohenjodaro served as bazaars, complete with shops. Archaeologists have inventoried the finds from artisans' quarters where bead makers, coppersmiths, cotton weavers, and other specialists manufactured and sold their wares. The potters' workshops were filled with painted pots decorated with animal figures and plain, ordinary wheel-made vessel manufactured not only in the cities but also in villages for hundreds of miles around. There were water jars and cooking bowls, storage pots and drinking vessels. Metal workers cast simple axes in open molds and manufactured chisels, knives, razors, spears and fishhooks. Only a few expert artisans made more elaborate objects like 'dancing girl' evidenced at Mohenjodaro. They would make a wax model of the cart and encast it in clay, which was fired to melt the wax. The molten copper or bronze was poured into the mould. This 'lost-wax' method is still used by Indian artists. The technologies used in Harappan cities had been developed centuries earlier in small villages and transferred to the cities without change.

निम्नलिखित गद्यांश को पढ़िये और उससे संबंधित प्रश्नों के उत्तर दीजिए:

हड़प्पा और मोहनजोदड़ो के कुछ क्षेत्र दुकानों से भरे-पूरे बाजार के रूप में पाये गये हैं। पुरातत्वविदों ने कारीगरों के निवास स्थलों से प्राप्त सामानों की समान-सूची बनाई है जहाँ मनका-निर्माताओं, ताम्रकारों, जुलाहों एवं अन्य विशेषज्ञों ने अपने माल का निर्माण तथा बिक्री की। कुम्हारों की कार्यशालाओं में पशु-चित्रों से अलंकृत चित्रित बरतन भरे पड़े थे और सादे, साधारण चाक-निर्मित भांड न केवल शहरों में अपितु सैकड़ों भील के ईर्द-गिर्द के गाँवों में भी निर्मित होते थे। वहाँ पर जल के जार और खाना पकाने का कटोरा, भंडारण के बरतन और पानी पीने के बर्तन प्राप्त हुए थे।

धुतुकर्मकार खुले साँचों में साधारण कुल्हाड़ियों को ढालते थे और छेनी, चाकू, छूरा (उस्तरा), बरछी और मछली पकड़ने के काँटों का निर्माण करते थे। केवल कुछेक विशेषज्ञ कारीगर ही 'डांसिंग गर्ल' जैसी अधिक सुपरिष्कृत वस्तुएं बनाते थे। वे छकड़े (कार्ट) का मोम-प्रतिरूप बनाते थे, और इस पर मृत्तिका का आवरण चढाते थे, मोम को पिघलाने के लिए जिसे आग में सेकते थे। साँचे में पिघला हुआ ताँबा या कांस्य की ढलाई की जाती थी। यह 'लॉस्ट-वैक्स' पद्धति आज भी भारतीय कारीगरों द्वारा प्रयुक्त की जाती है। हड़प्पाकालीन शहरों में प्रयुक्त तकनीतियाँ सदियों पूर्व छोटे-छोटे गाँवों में विकसित हुई थी और बिना किसी परिवर्तन के शहरों में आई।

Which one of the following is not fabricated by the 'lost-wax' mold method?

1. Axes
2. Fishhooks
3. Bulls
4. Carts

(1) 1

(2) 2

(3) 3

(4) 4

निम्नलिखित में से कौन सा 'लॉस्ट वैक्स' साँचा पद्धति द्वारा गढ़ा हुआ नहीं है?

1. कुल्हाड़ियाँ
2. मछली पकड़ने का काँटा
3. सांड
4. छकड़ा

(1) 1

(2) 2

(3) 3

(4) 4

1[Option ID=13781]

2[Option ID=13782]

3[Option ID=13783]

4[Option ID=13784]

Sl. No.97

QBID:17097

Some areas of Harappa and Mohenjodaro served as bazaars, complete with shops. Archaeologists have inventoried the finds from artisans' quarters where bead makers, coppersmiths, cotton weavers, and other specialists manufactured and sold their wares. The potters' workshops were filled with painted pots decorated with animal figures and plain, ordinary wheel-made vessel manufactured not only in the cities but also in villages for hundreds of miles around. There were water jars and cooking bowls, storage pots and drinking vessels. Metal workers cast simple axes in open molds and manufactured chisels, knives, razors, spears and fishhooks. Only a few expert artisans made more elaborate objects like 'dancing girl' evidenced at Mohenjodaro. They would make a wax model of the cart and encast it in clay, which was fired to melt the wax. The molten copper or bronze was poured into the mould. This 'lost-wax' method is still used by Indian artists. The technologies used in Harappan cities had been developed centuries earlier in small villages and transferred to the cities without change.

निम्नलिखित गद्यांश को पढ़िये और उससे संबंधित प्रश्नों के उत्तर दीजिए:

हड़प्पा और मोहनजोदड़ो के कुछ क्षेत्र दुकानों से भरे-पूरे बाजार के रूप में पाये गये हैं। पुरातत्वविदों ने कारीगरों के निवास स्थलों से प्राप्त सामानों की समान-सूची बनाई है जहाँ मनका-निर्माताओं, ताम्रकारों, जुलाहों एवं अन्य विशेषज्ञों ने अपने माल का निर्माण तथा बिक्री की। कुम्हारों की कार्यशालाओं में पशु-चित्रों से अलंकृत चित्रित बरतन भरे पड़े थे और सादे, साधारण चाक-निर्मित भांड न केवल शहरों में अपितु सैकड़ों भील के ईर्द-गिर्द के गाँवों में भी निर्मित होते थे। वहाँ पर जल के जार और खाना पकाने का कटोरा, भंडारण के बरतन और पानी पीने के बर्तन प्राप्त हुए थे।

धुतुकर्मकार खुले साँचों में साधारण कुल्हाड़ियों को ढालते थे और छेनी, चाकू, छूरा (उस्तरा), बरछी और मछली पकड़ने के काँटों का निर्माण करते थे। केवल कुछेक विशेषज्ञ कारीगर ही 'डांसिंग गर्ल' जैसी अधिक सुपरिष्कृत वस्तुएं बनाते थे। वे छकड़े (कार्ट) का मोम-प्रतिरूप बनाते थे, और इस पर मृत्तिका का आवरण चढ़ाते थे, मोम को पिघलाने के लिए जिसे आग में सेकते थे। साँचे में पिघला हुआ ताँबा या कांस्य की ढलाई की जाती थी। यह 'लॉस्ट-वैक्स' पद्धति आज भी भारतीय कारीगरों द्वारा प्रयुक्त की जाती है। हड़प्पाकालीन शहरों में प्रयुक्त तकनीतियाँ सदियों पूर्व छोटे-छोटे गाँवों में विकसित हुई थी और बिना किसी परिवर्तन के शहरों में आई।

Which of the following artisanal group was not part of Harappa and Mohenjodaro sites?

1. Bead Makers
2. Blacksmiths
3. Coppersmiths
4. Potters

(1) 1

(2) 2

(3) 3

(4) 4

निम्नलिखित में से कौन सा कारीगर-समूह हड़प्पा और मोहनजोदड़ो स्थल का भाग नहीं था?

1. मनका निर्माता
2. लोहार
3. ताम्रकार
4. कुम्हार

(1) 1

(2) 2

(3) 3

(4) 4

1[Option ID=13785]

2[Option ID=13786]

3[Option ID=13787]

4[Option ID=13788]

Sl. No.98

QBID:17098

Some areas of Harappa and Mohenjodaro served as bazaars, complete with shops. Archaeologists have inventoried the finds from artisans' quarters where bead makers, coppersmiths, cotton weavers, and other specialists manufactured and sold their wares. The potters' workshops were filled with painted pots decorated with animal figures and plain, ordinary wheel-made vessel manufactured not only in the cities but also in villages for hundreds of miles around. There were water jars and cooking bowls, storage pots and drinking vessels. Metal workers cast simple axes in open molds and manufactured chisels, knives, razors, spears and fishhooks. Only a few expert artisans made more elaborate objects like 'dancing girl' evidenced at Mohenjodaro. They would make a wax model of the cart and encast it in clay, which was fired to melt the wax. The molten copper or bronze was poured into the mould. This 'lost-wax' method is still used by Indian artists. The technologies used in Harappan cities had been developed centuries earlier in small villages and transferred to the cities without change.

निम्नलिखित गद्यांश को पढ़िये और उससे संबंधित प्रश्नों के उत्तर दीजिए:

हड़प्पा और मोहनजोदड़ो के कुछ क्षेत्र दुकानों से भरे-पूरे बाजार के रूप में पाये गये हैं। पुरातत्वविदों ने कारीगरों के निवास स्थलों से प्राप्त सामानों की समान-सूची बनाई है जहाँ मनका-निर्माताओं, ताम्रकारों, जुलाहों एवं अन्य विशेषज्ञों ने अपने माल का निर्माण तथा बिक्री की। कुम्हारों की कार्यशालाओं में पशु-चित्रों से अलंकृत चित्रित बरतन भरे पड़े थे और सादे, साधारण चाक-निर्मित भांड न केवल शहरों में अपितु सैकड़ों मील के ईर्द-गिर्द के गाँवों में भी निर्मित होते थे। वहाँ पर जल के जार और खाना पकाने का कटोरा, भंडारण के बरतन और पानी पीने के बर्तन प्राप्त हुए थे।

धातुकर्मकार खुले साँचों में साधारण कुल्हाड़ियों को ढालते थे और छेनी, चाकू, छूरा (उस्तरा), बरछी और मछली पकड़ने के काँटो का निर्माण करते थे। केवल कुछेक विशेषज्ञ कारीगर ही 'डांसिंग गर्ल' जैसी अधिक सुपरिष्कृत वस्तुएं बनाते थे। वे छकड़े (कार्ट) का मोम-प्रतिरूप बनाते थे, और इस पर मृत्तिका का आवरण चढाते थे, मोम को पिघलाने के लिए जिसे आग में सेकते थे। साँचे में पिघला हुआ ताँबा या कांस्य की ढलाई की जाती थी। यह 'लॉस्ट-वैक्स' पद्धति आज भी भारतीय कारीगरों द्वारा प्रयुक्त की जाती है। हड़प्पाकालीन शहरों में प्रयुक्त तकनीतियाँ सदियों पूर्व छोटे-छोटे गाँवों में विकसित हुई थी और बिना किसी परिवर्तन के शहरों में आई।

The Harappan pots were produced at :

1. Workshops in villages only
2. Workshops in both villages and cities
3. Workshops in cities only
4. Workshops located outside Harappa

(1) 1

(2) 2

(3) 3

(4) 4

हड़प्पाकालीन बरतन कहाँ बनाये जाते थे?

1. केवल गाँवों की कार्यशालाओं में
2. गाँवों और शहरों दोनों की कार्यशालाओं में
3. केवल शहरों की कार्यशालाओं में
4. बरतन अन्यत्र से आयातित किये जाते थे

(1) 1

(2) 2

(3) 3

(4) 4

1[Option ID=13789]

2[Option ID=13790]

3[Option ID=13791]

4[Option ID=13792]

SI. No.99

QBID:17099

Some areas of Harappa and Mohenjodaro served as bazaars, complete with shops. Archaeologists have inventoried the finds from artisans' quarters where bead makers, coppersmiths, cotton weavers, and other specialists manufactured and sold their wares. The potters' workshops were filled with painted pots decorated with animal figures and plain, ordinary wheel-made vessel manufactured not only in the cities but also in villages for hundreds of miles around. There were water jars and cooking bowls, storage pots and drinking vessels. Metal workers cast simple axes in open molds and manufactured chisels, knives, razors, spears and fishhooks. Only a few expert artisans made more elaborate objects like 'dancing girl' evidenced at Mohenjodaro. They would make a wax model of the cart and encast it in clay, which was fired to melt the wax. The molten copper or bronze was poured into the mould. This 'lost-wax' method is still used by Indian artists. The technologies used in Harappan cities had been developed centuries earlier in small villages and transferred to the cities without change.

निम्नलिखित गद्यांश को पढ़िये और उससे संबंधित प्रश्नों के उत्तर दीजिए:

हड़प्पा और मोहनजोदड़ो के कुछ क्षेत्र दुकानों से भरे-पूरे बाजार के रूप में पाये गये हैं। पुरातत्वविदों ने कारीगरों के निवास स्थलों से प्राप्त सामानों की समान-सूची बनाई है जहाँ मनका-निर्माताओं, ताम्रकारों, जुलाहों एवं अन्य विशेषज्ञों ने अपने माल का निर्माण तथा बिक्री की। कुम्हारों की कार्यशालाओं में पशु-चित्रों से अलंकृत चित्रित बरतन भरे पड़े थे और सादे, साधारण चाक-निर्मित भांड न केवल शहरों में अपितु सैकड़ों भील के ईर्द-गिर्द के गाँवों में भी निर्मित होते थे। वहाँ पर जल के जार और खाना पकाने का कटोरा, भंडारण के बरतन और पानी पीने के बर्तन प्राप्त हुए थे।

धुतुकर्मकार खुले साँचों में साधारण कुल्हाड़ियों को ढालते थे और छेनी, चाकू, छूरा (उस्तरा), बरछी और मछली पकड़ने के काँटो का निर्माण करते थे। केवल कुछेक विशेषज्ञ कारीगर ही 'डांसिंग गर्ल' जैसी अधिक सुपरिष्कृत वस्तुएं बनाते थे। वे छकड़े (कार्ट) का मोम-प्रतिरूप बनाते थे, और इस पर मृत्तिका का आवरण चढ़ाते थे, मोम को पिघलाने के लिए जिसे आग में सेकते थे। साँचे में पिघला हुआ ताँबा या कांस्य की ढलाई की जाती थी। यह 'लॉस्ट-वैक्स' पद्धति आज भी भारतीय कारीगरों द्वारा प्रयुक्त की जाती है। हड़प्पाकालीन शहरों में प्रयुक्त तकनीतियाँ सदियों पूर्व छोटे-छोटे गाँवों में विकसित हुई थी और बिना किसी परिवर्तन के शहरों में आई।

The Harappan products were :

1. Exported to neighbourhood cities
2. Sold in the local bazaars
3. Exported overseas
4. Sold in the weekly markets

(1) 1

(2) 2

(3) 3

(4) 4

हड़प्पाकालीन उत्पादों को:

1. पड़ोसी शहरों में निर्यात किया जाता था
2. स्थानीय बाजारों में बेचा जाता था
3. विदेश में निर्यात किया जाता था
4. साप्ताहिक बाजारों में बेचा जाता था

(1) 1

(2) 2

(3) 3

(4) 4

1[Option ID=13793]

2[Option ID=13794]

3[Option ID=13795]

4[Option ID=13796]

Sl. No.100

QBID:17100

Some areas of Harappa and Mohenjodaro served as bazaars, complete with shops. Archaeologists have inventoried the finds from artisans' quarters where bead makers, coppersmiths, cotton weavers, and other specialists manufactured and sold their wares. The potters' workshops were filled with painted pots decorated with animal figures and plain, ordinary wheel-made vessel manufactured not only in the cities but also in villages for hundreds of miles around. There were water jars and cooking bowls, storage pots and drinking vessels. Metal workers cast simple axes in open molds and manufactured chisels, knives, razors, spears and fishhooks. Only a few expert artisans made more elaborate objects like 'dancing girl' evidenced at Mohenjodaro. They would make a wax model of the cart and encast it in clay, which was fired to melt the wax. The molten copper or bronze was poured into the mould. This 'lost-wax' method is still used by Indian artists. The technologies used in Harappan cities had been developed centuries earlier in small villages and transferred to the cities without change.

निम्नलिखित गद्यांश को पढ़िये और उससे संबंधित प्रश्नों के उत्तर दीजिए:

हड़प्पा और मोहनजोदड़ो के कुछ क्षेत्र दुकानों से भरे-पूरे बाजार के रूप में पाये गये हैं। पुरातत्वविदों ने कारीगरों के निवास स्थलों से प्राप्त सामानों की समान-सूची बनाई है जहाँ मनका-निर्माताओं, ताम्रकारों, जुलाहों एवं अन्य विशेषज्ञों ने अपने माल का निर्माण तथा बिक्री की। कुम्हारों की कार्यशालाओं में पशु-चित्रों से अलंकृत चित्रित बरतन भरे पड़े थे और सादे, साधारण चाक-निर्मित भांड न केवल शहरों में अपितु सैकड़ों मील के ईर्द-गिर्द के गाँवों में भी निर्मित होते थे। वहाँ पर जल के जार और खाना पकाने का कटोरा, भंडारण के बरतन और पानी पीने के बर्तन प्राप्त हुए थे।

धातुकर्मकार खुले साँचों में साधारण कुल्हाड़ियों को ढालते थे और छेनी, चाकू, छूरा (उस्तरा), बरछी और मछली पकड़ने के काँटों का निर्माण करते थे। केवल कुछेक विशेषज्ञ कारीगर ही 'डांसिंग गर्ल' जैसी अधिक सुपरिष्कृत वस्तुएं बनाते थे। वे छकड़े (कार्ट) का मोम-प्रतिरूप बनाते थे, और इस पर मृत्तिका का आवरण चढ़ाते थे, मोम को पिघलाने के लिए जिसे आग में सेकते थे। साँचे में पिघला हुआ ताँबा या कांस्य की ढलाई की जाती थी। यह 'लॉस्ट-वैक्स' पद्धति आज भी भारतीय कारीगरों द्वारा प्रयुक्त की जाती है। हड़प्पाकालीन शहरों में प्रयुक्त तकनीतियाँ सदियों पूर्व छोटे-छोटे गाँवों में विकसित हुई थी और बिना किसी परिवर्तन के शहरों में आई।

The artistic crafts of Harappa were :

1. Developed in the citadles of Harappa and Mohenjodaro
2. Developed in the lower cities
3. Developed centuries earlier in villages and transferred to cities
4. An independent development at particular point of time.

(1) 1

(2) 2

(3) 3

(4) 4

हड़प्पा के कलात्मक शिल्प है:

1. हड़प्पा और मोहनजोदड़ो के नगर-दुर्ग में विकसित
2. निम्न शहरों में विकसित
3. सदियों पूर्व गाँवों में विकसित एवं शहरों में भेजे गये
4. विशिष्ट समय-काल में स्वतंत्ररूप से विकसित

(1) 1

(2) 2

(3) 3

(4) 4

1[Option ID=13797]

2[Option ID=13798]

3[Option ID=13799]

4[Option ID=13800]

Sl. No.101

QBID:7201001

The following table shows population of five villages A-E and percentage distribution of males (M), females (F) and transgenders (T) among them. Based on the data in the table, answer the questions :

Village - wise Distribution of Population

Village	Total Population	Distribution (%)		
		M	F	T
A	12,000	46%	(-)	22%
B	16,000	(-)	33%	27%
C	18,000	32%	36%	(-)
D	24,000	36%	(-)	20%
E	25,000	(-)	30%	25%

Note : In table (-) denotes missing value (%), which is to be computed whenever required.

निम्नलिखित तालिका A-E पाँच गाँवों की आबादी और उनमें पुरुष (M), महिला (F) और ट्रांसजेंडर के प्रतिशत वितरण को दर्शाती है। इस तालिका में दिए गए आंकड़ों के आधार पर प्रश्न का उत्तर दीजिए:

आबादी का ग्रामवार वितरण

गाँव	कुल आबादी	वितरण प्रतिशत (%)		
		M	F	T
A	12,000	46%	(-)	22%
B	16,000	(-)	33%	27%
C	18,000	32%	36%	(-)
D	24,000	36%	(-)	20%
E	25,000	(-)	30%	25%

नोट: तालिका में रिक्त मान को (-) द्वारा दर्शाया गया है जिसका परिकलन आवश्यकतानुसार किया जाना है।

Transgender population in Village - A is _____% of the female population in Village - B.

1. 75
2. 50
3. 33.33
4. 66.66

- (1) 1
(2) 2
(3) 3
(4) 4

गाँव A में ट्रांसजेंडर की आबादी गाँव B में महिलाओं की आबादी का _____% है।

1. 75
2. 50
3. 33.33
4. 66.66

- (1) 1
(2) 2
(3) 3
(4) 4

1[Option ID=16401]

2[Option ID=16402]

3[Option ID=16403]

4[Option ID=16404]

Sl. No.102

QBID:7201002

The following table shows population of five villages A-E and percentage distribution of males (M), females (F) and transgenders (T) among them. Based on the data in the table, answer the questions :

Village - wise Distribution of Population

Village	Total Population	Distribution (%)		
		M	F	T
A	12,000	46%	(-)	22%
B	16,000	(-)	33%	27%
C	18,000	32%	36%	(-)
D	24,000	36%	(-)	20%
E	25,000	(-)	30%	25%

Note : In table (-) denotes missing value (%), which is to be computed whenever required.

निम्नलिखित तालिका A-E पाँच गाँवों की आबादी और उनमें पुरुष (M), महिला (F) और ट्रांसजेंडर के प्रतिशत वितरण को दर्शाती है। इस तालिका में दिए गए आंकड़ों के आधार पर प्रश्न का उत्तर दीजिए:

आबादी का ग्रामवार वितरण

गाँव	कुल आबादी	वितरण प्रतिशत (%)		
		M	F	T
A	12,000	46%	(-)	22%
B	16,000	(-)	33%	27%
C	18,000	32%	36%	(-)
D	24,000	36%	(-)	20%
E	25,000	(-)	30%	25%

नोट: तालिका में रिक्त मान को (-) द्वारा दर्शाया गया है जिसका परिकलन आवश्यकतानुसार किया जाना है।

Find the difference between male population in Village - E and female population in Village - D.

1. 890
2. 830
3. 690
4. 610

- (1) 1
(2) 2
(3) 3
(4) 4

गाँव E में पुरुषों की आबादी और गाँव D में महिलाओं की आबादी के बीच का अन्तर कितना है?

1. 890
2. 830
3. 690
4. 610

- (1) 1
(2) 2
(3) 3
(4) 4

1[Option ID=16405]

2[Option ID=16406]

3[Option ID=16407]

4[Option ID=16408]

Sl. No.103

QBID:7201003

The following table shows population of five villages A-E and percentage distribution of males (M), females (F) and transgenders (T) among them. Based on the data in the table, answer the questions :

Village - wise Distribution of Population

Village	Total Population	Distribution (%)		
		M	F	T
A	12,000	46%	(-)	22%
B	16,000	(-)	33%	27%
C	18,000	32%	36%	(-)
D	24,000	36%	(-)	20%
E	25,000	(-)	30%	25%

Note : In table (-) denotes missing value (%), which is to be computed whenever required.

निम्नलिखित तालिका A-E पाँच गाँवों की आबादी और उनमें पुरुष (M), महिला (F) और ट्रांसजेंडर के प्रतिशत वितरण को दर्शाती है। इस तालिका में दिए गए आंकड़ों के आधार पर प्रश्न का उत्तर दीजिए:

आबादी का ग्रामवार वितरण

गाँव	कुल आबादी	वितरण प्रतिशत (%)		
		M	F	T
A	12,000	46%	(-)	22%
B	16,000	(-)	33%	27%
C	18,000	32%	36%	(-)
D	24,000	36%	(-)	20%
E	25,000	(-)	30%	25%

नोट: तालिका में रिक्त मान को (-) द्वारा दर्शाया गया है जिसका परिकलन आवश्यकतानुसार किया जाना है।

Find the ratio of population of transgenders in Village - C to population of males in Village - B.

1. 9:10
2. 7:8
3. 3:4
4. 27:32

- (1) 1
(2) 2
(3) 3
(4) 4

गाँव C में ट्रांसजेंडर और गाँव B में पुरुषों की आबादी का अनुपात ज्ञात कीजिये।

1. 9 : 10
2. 7 : 8
3. 3 : 4
4. 27 : 32

- (1) 1
(2) 2
(3) 3
(4) 4

1[Option ID=16409]

2[Option ID=16410]

3[Option ID=16411]

4[Option ID=16412]

Sl. No.104

QBID:7201004

The following table shows population of five villages A-E and percentage distribution of males (M), females (F) and transgenders (T) among them. Based on the data in the table, answer the questions :

Village - wise Distribution of Population

Village	Total Population	Distribution (%)		
		M	F	T
A	12,000	46%	(-)	22%
B	16,000	(-)	33%	27%
C	18,000	32%	36%	(-)
D	24,000	36%	(-)	20%
E	25,000	(-)	30%	25%

Note : In table (-) denotes missing value (%), which is to be computed whenever required.

निम्नलिखित तालिका A-E पाँच गाँवों की आबादी और उनमें पुरुष (M), महिला (F) और ट्रांसजेंडर के प्रतिशत वितरण को दर्शाती है। इस तालिका में दिए गए आंकड़ों के आधार पर प्रश्न का उत्तर दीजिए:

आबादी का ग्रामवार वितरण

गाँव	कुल आबादी	वितरण प्रतिशत (%)		
		M	F	T
A	12,000	46%	(-)	22%
B	16,000	(-)	33%	27%
C	18,000	32%	36%	(-)
D	24,000	36%	(-)	20%
E	25,000	(-)	30%	25%

नोट: तालिका में रिक्त मान को (-) द्वारा दर्शाया गया है जिसका परिकलन आवश्यकतानुसार किया जाना है।

What is the difference between number of males and females in Village - A ?

1. 480
2. 1920
3. 1120
4. 1680

- (1) 1
(2) 2
(3) 3
(4) 4

गाँव A में पुरुषों और महिलाओं की संख्या के बीच का अन्तर कितना है?

1. 480
2. 1920
3. 1120
4. 1680

- (1) 1
(2) 2
(3) 3
(4) 4

1[Option ID=16413]

2[Option ID=16414]

3[Option ID=16415]

4[Option ID=16416]

Sl. No.105

QBID:7201005

The following table shows population of five villages A-E and percentage distribution of males (M), females (F) and transgenders (T) among them. Based on the data in the table, answer the questions :

Village - wise Distribution of Population

Village	Total Population	Distribution (%)		
		M	F	T
A	12,000	46%	(-)	22%
B	16,000	(-)	33%	27%
C	18,000	32%	36%	(-)
D	24,000	36%	(-)	20%
E	25,000	(-)	30%	25%

Note : In table (-) denotes missing value (%), which is to be computed whenever required.

निम्नलिखित तालिका A-E पाँच गाँवों की आबादी और उनमें पुरुष (M), महिला (F) और ट्रांसजेंडर के प्रतिशत वितरण को दर्शाती है। इस तालिका में दिए गए आंकड़ों के आधार पर प्रश्न का उत्तर दीजिए:

आबादी का ग्रामवार वितरण

गाँव	कुल आबादी	वितरण प्रतिशत (%)		
		M	F	T
A	12,000	46%	(-)	22%
B	16,000	(-)	33%	27%
C	18,000	32%	36%	(-)
D	24,000	36%	(-)	20%
E	25,000	(-)	30%	25%

नोट: तालिका में रिक्त मान को (-) द्वारा दर्शाया गया है जिसका परिकलन आवश्यकतानुसार किया जाना है।

Total number of females in Villages B and D together is _____% more than the number of males in Village - C.

1. 275
2. 225
3. 125
4. 175

- (1) 1
- (2) 2
- (3) 3
- (4) 4

गाँव B और D दोनों में एक साथ महिलाओं की कुल संख्या गाँव C में पुरुषों की संख्या से कितना प्रतिशत अधिक है?

1. 275
2. 225
3. 125
4. 175

- (1) 1
- (2) 2
- (3) 3
- (4) 4

- 1[Option ID=16417]
2[Option ID=16418]
3[Option ID=16419]
4[Option ID=16420]

Sl. No.106
QBID:7201006

In ADDIE model of instructional design framework, the letters I and E in the acronym ADDIE pertain to

1. Identification and Evaluation
2. Implementation and Evaluation
3. Identification and Examination
4. Implementation and Examination

- (1) 1
- (2) 2
- (3) 3
- (4) 4

अनुदेशी डिजाइन रूपरेखा के ADDIE (एडीडीआईई) मॉडल में परिवर्णी शब्द ADDIE के अक्षर I और E किससे संबंधित हैं?

1. चिह्नीकरण और मूल्यांकन
2. कार्यान्वयन और मूल्यांकन
3. चिह्नीकरण और परीक्षा
4. कार्यान्वयन और परीक्षा

- (1) 1
- (2) 2
- (3) 3
- (4) 4

- 1[Option ID=16421]
2[Option ID=16422]
3[Option ID=16423]
4[Option ID=16424]

Sl. No.107
QBID:7201007

Students participating in online classes are taught by an instructor. Following the lesson, the instructor intends to incorporate reading materials (e-content, Power point presentation, etc.) that can be viewed by the students. What option would instructor choose ?

1. Content creation tools
2. Networking tools
3. Learning Management System (LMS)
4. Links of the websites

(1) 1

(2) 2

(3) 3

(4) 4

आनलाइन कक्षाओं में भाग ले रहे विद्यार्थियों को एक अनुदेशक पढ़ाता है। पाठ के बाद अनुदेशक पठन-सामग्री (e-विषय सामग्री, पावर प्वाइंट प्रस्तुति आदि) इस उद्देश्य से संलग्न करता है कि विद्यार्थी इनके अवलोकन कर सकें। इसके लिए अनुदेशक कौन-से विकल्प का चयन करेगा?

1. विषयवस्तु निर्माण उपकरण
2. नेटवर्किंग उपकरण
3. अधिगम प्रबंधन प्रणाली (एलएमएल)
4. वेबसाइट्स के लिंक

(1) 1

(2) 2

(3) 3

(4) 4

1[Option ID=16425]

2[Option ID=16426]

3[Option ID=16427]

4[Option ID=16428]

Sl. No.108

QBID:7201008

Which of the following does not come under primary laws of learning ?

1. Law of effect
2. Law of Readiness
3. Law of Multiple response
4. Law of exercise

(1) 1

(2) 2

(3) 3

(4) 4

निम्नलिखित में कौन-सा नियम अधिगम के प्राथमिक नियमों के अंतर्गत नहीं आता है?

1. प्रभाव का नियम
2. तत्परता का नियम
3. बहु प्रत्युत्तर का नियम
4. अभ्यास का नियम

(1) 1

(2) 2

(3) 3

(4) 4

1[Option ID=16429]

2[Option ID=16430]

3[Option ID=16431]
4[Option ID=16432]

Sl. No.109
QBID:7201009

Given below are two statements :

Statement I : Project method is best associated with the Philosophy of John Dewey.

Statement II : The strength of Project method lies in social participation.

In the light of the above statements, choose the most appropriate answer from the options given below :

1. Both Statement I and Statement II are correct.
2. Both Statement I and Statement II are incorrect.
3. Statement I is correct but Statement II is incorrect.
4. Statement I is incorrect but statement II is correct.

- (1) 1
(2) 2
(3) 3
(4) 4

नीचे दो कथन दिए गए हैं:

कथन I : परियोजना विधि जॉन डेवी के दर्शन से सर्वाधिक रूप से संबंधित है।

कथन II : परियोजना विधि की प्रबलता सामाजिक प्रतिभागिता में निहित है।

उपरोक्त कथन के आलोक में, नीचे दिए गए विकल्पों में से सबसे उपयुक्त उत्तर का चयन कीजिए:

1. कथन I और II दोनों सही हैं।
2. कथन I और II दोनों गलत हैं।
3. कथन I सही है, लेकिन कथन II गलत है।
4. कथन I गलत है, लेकिन कथन II सही है।

- (1) 1
(2) 2
(3) 3
(4) 4

1[Option ID=16433]
2[Option ID=16434]
3[Option ID=16435]
4[Option ID=16436]

Sl. No.110
QBID:7201010

For Undergraduate educational programmes, courses on SWAYAM Platform have been developed by :

- A. NPTEL
- B. IIM Ahmedabad
- C. AICTE
- D. CEC
- E. IIM Bangalore
- F. UGC

Choose the most appropriate answer from the options given below :

1. A, C, D and E Only
2. B, D, and F Only
3. A, D, E and F Only
4. C, E and F Only

(1) 1

(2) 2

(3) 3

(4) 4

पूर्व स्नातक शैक्षिक कार्यक्रमों के लिए स्वयं (SWAYAM) पर शैक्षणिक प्रोग्राम और पाठ्यक्रम किसके द्वारा विकसित किये गये हैं।

- A. एनपीटीईएल
- B. आईआईएम, अहमदाबाद
- C. एआईसीटीई
- D. सीईसी
- E. आईआईएम, बैंगलोर
- F. वि.अ.आ.

नीचे दिए गए विकल्पों में से सबसे उपयुक्त उत्तर का चयन कीजिए:

- 1. केवल A, C, D और E
- 2. केवल B, D और F
- 3. केवल A, D, E और F
- 4. केवल C, E और F

(1) 1

(2) 2

(3) 3

(4) 4

1[Option ID=16437]

2[Option ID=16438]

3[Option ID=16439]

4[Option ID=16440]

Sl. No.111

QBID:7201011

While reading research paper or research reports, often one comes across the abbreviation 'viz', which means

- 1. for example
- 2. namely
- 3. against
- 4. refer to

(1) 1

(2) 2

(3) 3

(4) 4

शोध आलेख या शोध प्रतिवेदन (रिपोर्ट) पढ़ते समय प्रायः संक्षिप्ताक्षर 'viz' आता है, इसका अर्थ है:

- 1. उदाहरणार्थ
- 2. नामतः/अर्थात्
- 3. के विरुद्ध
- 4. के संदर्भ में

(1) 1

(2) 2

(3) 3

(4) 4

1[Option ID=16441]

2[Option ID=16442]

3[Option ID=16443]
4[Option ID=16444]

Sl. No.112
QBID:7201012

A student submits Ph.D. thesis in a university. Upon scrutiny, it is found that his/her thesis has a similarity content of 35%. This would fall in which of the following categories of plagiarism according to UGC regulations ?

1. Level 0
2. Level 1
3. Level 2
4. Level 3

- (1) 1
(2) 2
(3) 3
(4) 4

एक विद्यार्थी एक विश्वविद्यालय में अपना पी-एच.डी. शोध प्रबंध जमा करता है। उसके शोध प्रबंध की संवीक्षा करने पर उसकी विषयवस्तु के 35% भाग में समरूपता पाई जाती है। विश्वविद्यालय अनुदान आयोग के विनियमों के अनुसार निम्नलिखित में से यह साहित्य चोरी के किस स्तर में आता है?

1. स्तर 0
2. स्तर 1
3. स्तर 2
4. स्तर 3

- (1) 1
(2) 2
(3) 3
(4) 4

1[Option ID=16445]
2[Option ID=16446]
3[Option ID=16447]
4[Option ID=16448]

Sl. No.113
QBID:7201013

The part of research paper that gives an overview of the field to be investigated and the investigator's hypotheses about the research outcome, is called

1. Abstract
2. Introduction
3. Results
4. Method

- (1) 1
(2) 2
(3) 3
(4) 4

शोध आलेख का वह भाग जिसमें शोध के विषय क्षेत्र का विहंगावलोकन और शोध के निष्कर्ष के बारे में अन्वेषक की परिकल्पनाओं का उल्लेख किया जाता है, उसे कहा जाता है:

1. सारांश
2. प्रस्तावना
3. परिणाम
4. विधि

- (1) 1
(2) 2

(3) 3

(4) 4

1[Option ID=16449]

2[Option ID=16450]

3[Option ID=16451]

4[Option ID=16452]

Sl. No.114

QBID:7201014

A study in which a group of participants is observed and measured over a period of time, refers to

1. Longitudinal Research
2. Archival Research
3. Cross-sectional Research
4. Correlational Research

(1) 1

(2) 2

(3) 3

(4) 4

एक अध्ययन जिसमें प्रतिभागियों के एक समूह का एक काल अवधि में प्रेक्षण और मापन किया जाता है, उसे कहा जाता है:

1. अनुदैर्घ्य शोध
2. पुरालेख शोध
3. अनुप्रस्थ शोध
4. सह संबंध शोध

(1) 1

(2) 2

(3) 3

(4) 4

1[Option ID=16453]

2[Option ID=16454]

3[Option ID=16455]

4[Option ID=16456]

Sl. No.115

QBID:7201015

Given below are two statements :

Statement I : In case of qualitative phenomena, we have data on the basis of presence or absence of an attribute or more than one attribute.

Statement II : With such data as mentioned in Statement I above the sampling distribution may take the form of a Binomial probability distribution.

In the light of the above statements, choose the correct answer from the options given below :

1. Both Statement I and Statement II are true.
2. Both Statement I and Statement II are false.
3. Statement I is true but Statement II is false.
4. Statement I is false but Statement II is true.

(1) 1

(2) 2

(3) 3

(4) 4

नीचे दो कथन दिए गए हैं:

कथन I : गुणात्मक परिघटना के दृष्टांत/केस में, हम एक या एक से अधिक विशेषताओ/लक्षणों की उपस्थिति अथवा अनुपस्थिति के आधार पर आंकड़ा संग्रहित करते हैं।

कथन II : उपर्युक्त कथन-I में उल्लिखित आंकड़ों का प्रतिदर्श वितरण द्विपदीय प्रायिकता वितरण के रूप में हो सकता है।

उपरोक्त कथन के आलोक में नीचे दिए गए विकल्पों में से सही उत्तर का चयन कीजिए:

1. कथन I और II दोनों सत्य हैं ।
2. कथन I और II दोनों असत्य हैं ।
3. कथन I सत्य है, लेकिन कथन II असत्य है ।
4. कथन I असत्य है, लेकिन कथन II सत्य है ।

(1) 1

(2) 2

(3) 3

(4) 4

1[Option ID=16457]

2[Option ID=16458]

3[Option ID=16459]

4[Option ID=16460]

Sl. No.116

QBID:7201016

Every society, because of communication, reflects a sense of _____ to most extent.

1. Commonality
2. Doubt
3. Indifference
4. Animus

(1) 1

(2) 2

(3) 3

(4) 4

प्रत्येक समाज संप्रेषण के कारण बहुत हद तक _____ की भावना को प्रतिबिम्बित करता है ।

1. सामान्यता
2. संदेह
3. तटस्थता
4. विद्वेष

(1) 1

(2) 2

(3) 3

(4) 4

1[Option ID=16461]

2[Option ID=16462]

3[Option ID=16463]

4[Option ID=16464]

Sl. No.117

QBID:7201017

On the negative side, communicative language is used to :

- A. Extend democratic debates
- B. Suppress truth
- C. Divide the society
- D. Permeate ethnocentrism
- E. Support global peace efforts

Choose the correct answer from the options given below :

- 1. A, B, C Only
- 2. B, C, D Only
- 3. C, D, E Only
- 4. A, C, E Only

(1) 1

(2) 2

(3) 3

(4) 4

नकारात्मक पक्ष की बात करें तो संप्रेषणीय भाषा का प्रयोग किया जाता है:

- A. लोकतांत्रिक वाद-विवाद को बढ़ाने के लिए
- B. सत्य का दमन करने के लिए
- C. समाज को बांटने के लिए
- D. प्रजाति-केन्द्रीयता को पारगमित करने के लिए
- E. वैश्विक शांति प्रयासों के समर्थन के लिये

नीचे दिए गए विकल्पों में से सही उत्तर चुनिए:

- 1. केवल A, B, C
- 2. केवल B, C, D
- 3. केवल C, D, E
- 4. केवल A, C, E

(1) 1

(2) 2

(3) 3

(4) 4

1[Option ID=16465]

2[Option ID=16466]

3[Option ID=16467]

4[Option ID=16468]

Sl. No.118

QBID:7201018

Given below are two statements :

Statement I : Communication, culture and power are inter-related.

Statement II : Socio-cultural values when communicated do not have any weightage of power.

In the light of the above statements, choose the correct answer from the options given below :

- 1. Both Statement I and Statement II are true.
- 2. Both Statement I and Statement II are false.
- 3. Statement I is true but Statement II is false.
- 4. Statement I is false but Statement II is true.

(1) 1

(2) 2

(3) 3

(4) 4

नीचे दो कथन दिए गए हैं:

कथन I : संप्रेषण, संस्कृति और शक्ति अन्तः संबंधित होते हैं।

कथन II : संप्रेषण के पश्चात सामाजिक-सांस्कृतिक मूल्यों में शक्ति का कोई वजन नहीं रह जाता है।

उपरोक्त कथन के आलोक में, नीचे दिए गए विकल्पों में से सही उत्तर का चयन कीजिए:

1. कथन I और II दोनों सत्य हैं ।
2. कथन I और II दोनों असत्य हैं ।
3. कथन I सत्य है, लेकिन कथन II असत्य है ।
4. कथन I असत्य है, लेकिन कथन II सत्य है ।

(1) 1

(2) 2

(3) 3

(4) 4

1[Option ID=16469]

2[Option ID=16470]

3[Option ID=16471]

4[Option ID=16472]

Sl. No.119

QBID:7201019

Modern communication technology has converted words into

- A. A tool of equality
- B. Time
- C. A tool of unwarranted peace
- D. Money
- E. Power

Choose the correct answer from the options given below :

1. A, B, C Only
2. B, C, D Only
3. C, D, E Only
4. B, D, E Only

(1) 1

(2) 2

(3) 3

(4) 4

आधुनिक संचार प्रौद्योगिकी ने शब्दों को संपरिवर्तित कर दिया है:

- A. समानता के साधन के रूप में
- B. समय में
- C. अनापेक्षित शांति की युक्ति के रूप में
- D. धन के रूप में
- E. शक्ति के रूप में

नीचे दिए गए विकल्पों में से सही उत्तर का चयन कीजिए:

- 1. केवल A, B, C
- 2. केवल B, C, D
- 3. केवल C, D, E
- 4. केवल B, D, E

(1) 1

(2) 2

(3) 3

(4) 4

1[Option ID=16473]

2[Option ID=16474]

3[Option ID=16475]

4[Option ID=16476]

SI. No.120

QBID:7201020

Given below are two statements :

Statement I : The semantic code in communication deals with character and characterisation.

Statement II : Roland Barthes describes this code as the voice of the person.

In the light of the above statements, choose the correct answer from the options given below :

- 1. Both Statement I and Statement II are true.
- 2. Both Statement I and Statement II are false.
- 3. Statement I is true but Statement II is false.
- 4. Statement I is false but Statement II is true.

(1) 1

(2) 2

(3) 3

(4) 4

नीचे दो कथन दिए गए हैं:

कथन I : संप्रेषण में अर्थसंकेत का कूट पात्र और चित्रण से संबंधित होता है।

कथन II : रोला बार्थ ने इस कूट को व्यक्ति की आवाज की संज्ञा दी है।

उपरोक्त कथन के आलोक में, नीचे दिए गए विकल्पों में से सही उत्तर का चयन कीजिए:

- 1. कथन I और II दोनों सत्य हैं ।
- 2. कथन I और II दोनों असत्य हैं ।
- 3. कथन I सत्य है, लेकिन कथन II असत्य है ।
- 4. कथन I असत्य है, लेकिन कथन II सत्य है ।

(1) 1

(2) 2

(3) 3

(4) 4

1[Option ID=16477]

2[Option ID=16478]

3[Option ID=16479]

4[Option ID=16480]

Sl. No.121

QBID:7201021

A shopkeeper purchases a packet of 60 pens at Rs. 10 per pen. He sells a part of the packet at a profit of 40%. On the remaining part, he bears a loss of 20%. If his overall profit on the whole packet is 20% of , find the number of pens he sold at profit.

1. 40

2. 30

3. 20

4. 35

(1) 1

(2) 2

(3) 3

(4) 4

एक दुकानदार 10 रुपए प्रति कलम की दर से 60 कलम के एक पैकेट को खरीदता है। वह पैकेट के एक भाग को 40% के लाभ पर बेचता है। शेष भाग पर उसे 20% की हानि होती है। यदि उसे सम्पूर्ण पैकेट पर कुल लाभ 20% होता है, तब कलम की वह संख्या ज्ञात कीजिए जिसे उसने लाभ पर बेचा है।

1. 40

2. 30

3. 20

4. 35

(1) 1

(2) 2

(3) 3

(4) 4

1[Option ID=16481]

2[Option ID=16482]

3[Option ID=16483]

4[Option ID=16484]

Sl. No.122

QBID:7201022

A batsman scored 98 runs in his 17th match . As a result his average runs per match increased by 2.5. What was his average before playing 17th match ?

1. 55.5

2. 60.5

3. 58.5

4. 61.5

(1) 1

(2) 2

(3) 3

(4) 4

एक बल्लेबाज (क्रिकेट खिलाड़ी) 17वें मैच में 98 रन बनाता है। इसके परिणाम स्वरूप उसके प्रतिमैच औसत रन में 2.5 रन की वृद्धि हो जाती है। तो 17वें मैच खेलने के पहले उसका औसत कितना था?

1. 55.5
2. 60.5
3. 58.5
4. 61.5

- (1) 1
- (2) 2
- (3) 3
- (4) 4

1[Option ID=16485]

2[Option ID=16486]

3[Option ID=16487]

4[Option ID=16488]

SI. No.123

QBID:7201023

Water level of a river increases and decreases by 10% on alternate days in the rainy season. What shall be the increase or decrease in the water level at the end of second day, as compared to the initial water level ?

1. 1% of increase
2. 1% decrease
3. 1.5% increase
4. 1.5% decrease

- (1) 1
- (2) 2
- (3) 3
- (4) 4

वर्षाऋतु के समय एक नदी के जलस्तर में एक दिन 10% की वृद्धि होती है एवं दूसरे दिन 10% की कमी होती है। आरंभिक जलस्तर की तुलना में दूसरे दिन के अंत में जलस्तर में कितने प्रतिशत की वृद्धि अथवा कमी हो जाएगी?

1. 1% की वृद्धि
2. 1% की कमी
3. 1.5% की वृद्धि
4. 1.5% की कमी

- (1) 1
- (2) 2
- (3) 3
- (4) 4

1[Option ID=16489]

2[Option ID=16490]

3[Option ID=16491]

4[Option ID=16492]

SI. No.124

QBID:7201024

There are two numbers such that the sum of twice the first number and thrice the 2nd number is 39. Also the sum of thrice the first number and twice the 2nd number is 36. The largest of the two numbers is ?

1. 21
2. 15
3. 9
4. 6

- (1) 1
- (2) 2

(3) 3

(4) 4

दो संख्याएं इस प्रकार दी गयी है जिसमें प्रथम संख्या के दोगुने और दूसरी संख्या के तिगुने का योग 39 है तथा पहली संख्या के तिगुने और दूसरी संख्या के दोगुने का योग 36 है। दोनों संख्याओं में से बड़ी संख्या कौन-सी है?

1. 21

2. 15

3. 9

4. 6

(1) 1

(2) 2

(3) 3

(4) 4

1[Option ID=16493]

2[Option ID=16494]

3[Option ID=16495]

4[Option ID=16496]

Sl. No.125

QBID:7201025

If SEARCH is coded as 214673 and CHART is coded as 73465, then what will be the code for TEACHER ?

1. 5147316

2. 5174136

3. 5143716

4. 5413716

(1) 1

(2) 2

(3) 3

(4) 4

यदि SEARCH को 214673 के रूप में कूटबद्ध किया गया है और CHART को 73465 के रूप में कूटबद्ध किया गया है। तब TEACHER को किस तरह से कूटबद्ध किया जाएगा?

1. 5147316

2. 5174136

3. 5143716

4. 5413716

(1) 1

(2) 2

(3) 3

(4) 4

1[Option ID=16497]

2[Option ID=16498]

3[Option ID=16499]

4[Option ID=16500]

Sl. No.126

QBID:7201026

"Today on average we can look forward to a longer life span than the generation before us. It is obvious that it has been possible only and only because of the millions of dedicated doctors who have ensured our good health". Identify the fallacy committee in the above argument from the following options ?

1. Hasty Generation

2. False Cause

3. Slippery slope

4. Appeal to unqualified authority

(1) 1

(2) 2

(3) 3

(4) 4

सामान्यतः आज हम अपने पूर्व पीढ़ी की अपेक्षा लंबी जीवन-अवधि की प्रत्याशा कर सकते हैं। यह स्पष्ट है कि ऐसा केवल लाखों समर्पित डाक्टरों के कारण संभव हुआ है। जिन्होंने हमारे अच्छे स्वास्थ्य को सुनिश्चित किया है। उपर्युक्त तर्क में निम्नलिखित विकल्पों से तर्क दोष की पहचान कीजिए।

1. अविचारित सामान्यीकरण
2. मिथ्याकरण
3. फिसलनयुक्त प्रवणता
4. अयोग्य प्राधिकार आग्रह

(1) 1

(2) 2

(3) 3

(4) 4

1[Option ID=16501]

2[Option ID=16502]

3[Option ID=16503]

4[Option ID=16504]

Sl. No.127

QBID:7201027

If the statement 'All cricketers are rich persons' is given as true which of the following statements can be inferred to be false ?

- A. No cricketers are rich persons.
- B. Some cricketers are rich persons.
- C. Some cricketers are not rich persons.
- D. Some rich persons are cricketers.

Choose the correct answer from the options given below :

1. B and C Only
2. A and C Only
3. B and D Only
4. A, B and C Only

(1) 1

(2) 2

(3) 3

(4) 4

यदि कथन "सभी क्रिकेटर धनी व्यक्ति हैं।" सही है तो निम्नलिखित में से कौन-सा कथन गलत अनुमानित किया जा सकता है।

- A. कोई क्रिकेटर धनी व्यक्ति नहीं हैं।
- B. कुछ क्रिकेटर धनी व्यक्ति हैं।
- C. कुछ क्रिकेटर धनी व्यक्ति नहीं हैं।
- D. कुछ धनी व्यक्ति क्रिकेटर हैं।

नीचे दिए गए विकल्पों में से सही उत्तर का चयन कीजिए:

1. केवल B और C
2. केवल A और C
3. केवल B और D
4. केवल A, B और C

- (1) 1
- (2) 2
- (3) 3
- (4) 4

1[Option ID=16505]
2[Option ID=16506]
3[Option ID=16507]
4[Option ID=16508]

Sl. No.128
QBID:7201028

Which of the following propositions are so related that they cannot both be true, although they both may be false ?

- A. All football players are rich persons.
- B. No football players are rich persons.
- C. Some football players are rich persons.
- D. Some football players are not rich persons.

Choose the correct answer from the options given below :

1. A and B Only
2. A and D Only
3. C and D Only
4. B and C Only

- (1) 1
- (2) 2
- (3) 3
- (4) 4

निम्नलिखित में कौन-सी प्रतिज्ञप्तियाँ इस प्रकार से सह संबंधित हैं कि दोनों सही नहीं हो सकते हैं, यद्यपि वे दोनों गलत हो सकते हैं।

- A. सभी फुटबाल खिलाड़ी धनी व्यक्ति हैं।
- B. कोई फुटबाल खिलाड़ी धनी व्यक्ति नहीं हैं।
- C. कुछ फुटबाल खिलाड़ी धनी व्यक्ति हैं।
- D. कुछ फुटबाल खिलाड़ी धनी व्यक्ति नहीं हैं।

नीचे दिए गए विकल्पों में से सही उत्तर का चयन कीजिए:

1. केवल A और B
2. केवल A और D
3. केवल C और D
4. केवल B और C

- (1) 1
- (2) 2
- (3) 3
- (4) 4

1[Option ID=16509]
2[Option ID=16510]
3[Option ID=16511]
4[Option ID=16512]

Sl. No.129
QBID:7201029

Which of the following propositions are logically equivalent ?

- A. No dogs are aggressive animals.
- B. No aggressive animals are dogs.
- C. All dogs are non-aggressive.
- D. Some dogs are not aggressive animals.

Choose the correct answer from the options given below :

- 1. C and D Only
- 2. A and D Only
- 3. A, B and C Only
- 4. B and D Only

(1) 1

(2) 2

(3) 3

(4) 4

निम्नलिखित में कौन-सी प्रतिज्ञप्तियाँ तार्किक रूप से समतुल्य हैं।

- A. कोई भी कुत्ते आक्रामक जानवर नहीं हैं।
- B. कोई भी आक्रामक जानवर कुत्ते नहीं हैं।
- C. सभी कुत्ते गैर-आक्रामक हैं।
- D. कुछ कुत्ते आक्रामक जानवर नहीं हैं।

नीचे दिए गए विकल्पों में से सही उत्तर का चयन कीजिए:

- 1. केवल C और D
- 2. केवल A और D
- 3. केवल A, B और C
- 4. केवल B और D

(1) 1

(2) 2

(3) 3

(4) 4

1[Option ID=16513]

2[Option ID=16514]

3[Option ID=16515]

4[Option ID=16516]

Sl. No.130

QBID:7201030

Given below are two Statements :

Statement I :According to classical Indian school of Logic, namely ,Nyaya, we ascertain the relation of universal concomitance between x and y by perceiving that in all cases the presence of x is accompanied by presence of y, and not perceiving any instances to the contrary.

Statement II : Classical Indian materialists argue that universal relation between two events cannot be established, there being always a room for doubt about the unobserved cases.

In the light of the above statements, choose the correct answer from the options given below :

- 1. Both Statement I and Statement II are true.
- 2. Both statement I and Statement II are false.
- 3. Statement is true but Statement II is false.
- 4. Statement I is false but Statement II is true.

- (1) 1
- (2) 2
- (3) 3
- (4) 4

नीचे दो कथन दिए गए हैं:

कथन I : शास्त्रीय भारतीय तर्कशास्त्र न्याय मत के अनुसार हम x और y के बीच सार्वभौम सहवर्तितता निश्चित करते हैं जहां सभी प्रकरणों में x की उपस्थिति के साथ y की उपस्थिति होती है, और इसके विपरीत कोई दृष्टांत नहीं है।

कथन II : शास्त्रीय भारतीय भौतिकवादी तर्क देते हैं कि किन्हीं दो परिघटनाओं के बीच सार्वभौमिक संबंध स्थापित नहीं किया जा सकता है क्योंकि अपेक्षित विषयों के बारे में सदैव संदेह की संभावना होती है।

उपरोक्त कथन के आलोक में नीचे दिए गए विकल्पों में से सही उत्तर का चयन कीजिए:

1. कथन I और II दोनों सत्य हैं।
2. कथन I और II दोनों असत्य हैं।
3. कथन I सत्य हैं, लेकिन कथन II असत्य है।
4. कथन I असत्य है, लेकिन कथन II सत्य है।

- (1) 1
- (2) 2
- (3) 3
- (4) 4

- 1[Option ID=16517]
2[Option ID=16518]
3[Option ID=16519]
4[Option ID=16520]

Sl. No.131
QBID:7201031

Which of the following applications A-C are built on top of open-source digital platforms ?

- A. Aadhar
- B. Adobe Reader
- C. COWIN

Choose the correct answer from the options given below :

1. A, B and C
2. A and B Only
3. B and C Only
4. A and C Only

- (1) 1
- (2) 2
- (3) 3
- (4) 4

निम्नलिखित अनुप्रयोगों A-C में से कौन-कौन से मुक्त स्रोत अंकीय प्लेटफॉर्म पर निर्मित किए गए हैं?

- A. आधार
- B. एडोब रीडर
- C. कोविन

नीचे दिए गए विकल्पों में से सही उत्तर का चयन कीजिए:

- 1. A, B और C
- 2. केवल A और B
- 3. केवल B और C
- 4. केवल A और C

(1) 1

(2) 2

(3) 3

(4) 4

1[Option ID=16521]

2[Option ID=16522]

3[Option ID=16523]

4[Option ID=16524]

Sl. No.132

QBID:7201032

Given below are two statements :

Statement I : IBM was the most valuable worldwide IT brand in 2022.

Statement II : TCS and Infosys were the second and the third most valuable Indian brands respectively in the IT services sector globally in 2022.

In the light of the above statements, choose the correct answer from the options given below :

- 1. Both Statement I and Statement II are true
- 2. Both Statement I and Statement II is false
- 3. Statement I is true but Statement II is false
- 4. Statement I false but Statement II is true

(1) 1

(2) 2

(3) 3

(4) 4

नीचे दो कथन दिए गए हैं:

कथन I : आईबीएम वर्ष 2022 में विश्व भर में सर्वाधिक मूल्यवान आईटी ब्रांड थी।

कथन II : वर्ष 2022 में आईटी सेवाओं के क्षेत्र में विश्व में टीसीएस और इन्फोसिस क्रमशः दूसरे और तीसरे सर्वाधिक मूल्यवान आईटी भारतीय ब्रांड थे।

उपरोक्त कथन के आलोक में, नीचे दिए गए विकल्पों में से सही उत्तर का चयन कीजिए:

- 1. कथन I और II दोनों सत्य हैं।
- 2. कथन I और II दोनों असत्य हैं।
- 3. कथन I सत्य है, लेकिन कथन II असत्य है।
- 4. कथन I असत्य है, लेकिन कथन II सत्य है।

(1) 1

(2) 2

(3) 3

(4) 4

1[Option ID=16525]

2[Option ID=16526]

3[Option ID=16527]

4[Option ID=16528]

Sl. No.133

QBID:7201033

Which of the following statements (A-C) are correct with reference to "Software as a Service (SaaS)" in cloud computing ?

- A. SaaS users can access their data from any Internet-Connected computer on mobile device.
- B. A web-based email service such as Outlook, Hotmail or Yahoo! Mail is a form of SaaS.
- C. SaaS buyers can customize the user interface to change the look and feel of the software, as well as modify specific areas, such as a data fields.

Choose the correct answer from the options given below :

- 1. A and B Only
- 2. A and C Only
- 3. B and C Only
- 4. A, B and C

(1) 1

(2) 2

(3) 3

(4) 4

क्लाउड कंप्यूटिंग में 'साफ्टवेयर एज ए सर्विस (सास)' के संदर्भ में निम्नलिखित कथनों में से कौन-कौन से कथन सही हैं?

- A. सास प्रयोक्ता इंटरनेट से जुड़े किसी भी कंप्यूटर अथवा मोबाईल उपकरण से अपने डेटा तक पहुंच सकते हैं।
- B. आउटलुक, हॉटमेल अथवा याहू मेल जैसी वेब आधारित ईमेल सेवा सास का एक रूप हैं।
- C. सास क्रेता साफ्टवेयर का रूप और अनुभूति परिवर्तित करने और डेटा क्षेत्रों जैसे विशिष्ट क्षेत्रों को रूपांतरित करने के लिये प्रयोक्ता अंतरापृष्ठ को अपनी आवश्यकतानुसार बना सकते हैं।

नीचे दिए गए विकल्पों में से सही उत्तर का चयन कीजिए:

- 1. केवल A और B
- 2. केवल A और C
- 3. केवल B और C
- 4. A, B और C

(1) 1

(2) 2

(3) 3

(4) 4

1[Option ID=16529]

2[Option ID=16530]

3[Option ID=16531]

4[Option ID=16532]

Sl. No.134

QBID:7201034

Which of the following communication technologies A-C are considered as short-range devices/technologies ?

- A. CCTV
- B. RFID
- C. WLAN

Choose the correct answer from the options given below :

- 1. A and B Only
- 2. A and C Only
- 3. B and C Only
- 4. A, B and C

(1) 1

(2) 2

(3) 3

(4) 4

निम्न संप्रेषण प्रौद्योगिकियों A-C में से किन्हें लघु रेंज उपकरण/प्रौद्योगिकी माना जाता है?

- A. सीसीटीवी
- B. आरएफआईडी
- C. डबल्युएलएन

नीचे दिए गए विकल्पों में से सही उत्तर का चयन कीजिए:

- 1. केवल A और B
- 2. केवल A और C
- 3. केवल B और C
- 4. A, B और C

(1) 1

(2) 2

(3) 3

(4) 4

1[Option ID=16533]

2[Option ID=16534]

3[Option ID=16535]

4[Option ID=16536]



SI. No.135

QBID:7201035

In India, the term "Public Key Infrastructure" is used in the context of

- 1. Digital security infrastructure
- 2. Food security infrastructure
- 3. Health care and education infrastructure
- 4. Telecommunication and transportation infrastructure

(1) 1

(2) 2

(3) 3

(4) 4

भारत में 'सार्वजनिक महत्वपूर्ण अवसंरचना' (पब्लिक की इन्फ्रास्ट्रक्चर) निम्नलिखित में किसके संदर्भ में प्रयोग किया जाता है?

1. अंकीय सुरक्षा अवसंरचना
2. खाद्य सुरक्षा अवसंरचना
3. स्वास्थ्य देखभाल व शिक्षा अवसंरचना
4. दूर संचार और परिवहन अवसंरचना

(1) 1

(2) 2

(3) 3

(4) 4

1[Option ID=16537]

2[Option ID=16538]

3[Option ID=16539]

4[Option ID=16540]

Sl. No.136

QBID:7201036

What is the correct sequence of steps in Risk assessment related to environmental hazards ?

- A. Risk characterization
- B. Exposure assessment
- C. Hazard Identification
- D. Risk Management

Choose the correct answer from the options given below :

1. C, B, A, D
2. C, A, B, D
3. A, C, B, D
4. B, C, D, A

(1) 1

(2) 2

(3) 3

(4) 4

पर्यावरणीय खतरों से संबंधित जोखिम मूल्यांकन के निम्नलिखित कदमों का सही अनुक्रम क्या है?

- A. जोखिम विशेषीकरण
- B. उदभासन मूल्यांकन
- C. खतरों की पहचान
- D. जोखिम प्रबंधन

नीचे दिए गए विकल्पों में से सही उत्तर का चयन कीजिए:

1. C, B, A, D
2. C, A, B, D
3. A, C, B, D
4. B, C, D, A

(1) 1

(2) 2

(3) 3

(4) 4

1[Option ID=16541]

2[Option ID=16542]

3[Option ID=16543]
4[Option ID=16544]

SI. No.137
QBID:7201037

National Solar Mission, one of the missions of National Action Plan on Climate Change (NAPCC) was launched in the year

1. 2009
2. 2010
3. 2011
4. 2012

- (1) 1
(2) 2
(3) 3
(4) 4

जलवायु परिवर्तन संबंधी राष्ट्रीय कार्य योजना (एनएपीसीसी) के मिशनों में से एक राष्ट्रीय सौर मिशन को निम्न में से किस वर्ष आरंभ किया गया था?

1. 2009
2. 2010
3. 2011
4. 2012

- (1) 1
(2) 2
(3) 3
(4) 4

1[Option ID=16545]
2[Option ID=16546]
3[Option ID=16547]
4[Option ID=16548]

SI. No.138
QBID:7201038

Which one of the following has contributed maximum in sea level rise so far in the context of climate change ?

1. Melting of Antarctic Ice-sheets
2. Melting of Glaciers
3. Thermal expansion of oceanic waters
4. Melting of Greenland Ice sheets

- (1) 1
(2) 2
(3) 3
(4) 4

जलवायु परिवर्तन के संदर्भ में समुद्र स्तर के ऊपर उठने में अभी तक निम्नलिखित में से किसका योगदान अधिकतम रहा है?

1. दक्षिण ध्रुवीय हिम चादर का पिघलना
2. हिम खण्डों का पिघलना
3. महासागरीय जल का तापीय प्रसार
4. ग्रीनलैण्ड की हिम चादरों का पिघलना

- (1) 1
(2) 2
(3) 3
(4) 4

1[Option ID=16549]

2[Option ID=16550]
3[Option ID=16551]
4[Option ID=16552]

Sl. No.139
QBID:7201039

Out of different oxides of nitrogen which of the following are considered as Air Pollutants and known as NO_x ?

- A. NO (Nitric Oxide)
- B. NO₂ (Nitrogen dioxide)
- C. NO₃ (Nitrogen trioxide)
- D. N₂O (Nitrous oxide)

Choose the correct answer from the options given below :

- 1. A and B Only
- 2. B and C Only
- 3. C and D Only
- 4. A, B and D Only

(1) 1

(2) 2

(3) 3

(4) 4

नाइट्रोजन के विभिन्न आक्साइडों में से निम्न में से किन्हें वायु प्रदूषक माना जाता है और NO_x के रूप में जाना जाता है।

- A. NO (नाइट्रिक आक्साइड)
- B. NO₂ (नाइट्रोजन डाई आक्साइड)
- C. NO₃ (नाइट्रोजन ट्राई आक्साइड)
- D. N₂O (नाइट्रस आक्साइड)

नीचे दिए गए विकल्पों में से सही उत्तर का चयन कीजिए:

- 1. केवल A और B
- 2. केवल B और C
- 3. केवल C और D
- 4. केवल A, B और D

(1) 1

(2) 2

(3) 3

(4) 4

1[Option ID=16553]
2[Option ID=16554]
3[Option ID=16555]
4[Option ID=16556]

Sl. No.140
QBID:7201040

The advantages of biodiesel over conventional petro diesel are :

- A. Biodiesel produces significantly lesser CO₂ and SO₂.
- B. It is non-renewable
- C. It has higher octane number
- D. It can be used in any ratio with petro-diesel
- E. It has lower flash point.

Choose the most appropriate answer from the options given below :

- 1. A, B and C Only
- 2. B, C and D Only
- 3. A, C and D Only
- 4. C, D and E Only

(1) 1

(2) 2

(3) 3

(4) 4

पारंपरिक पेट्रोडीजल की अपेक्षा जैव-डीजल के निम्न में से क्या-क्या लाभ हैं?

- A. जैव-डीजल काफी कम CO₂ और SO₂ उत्पन्न करता है।
- B. यह गैर नवीकरणीय है।
- C. इसकी आक्टेन संख्या उच्चतर है।
- D. इसे पेट्रो डीजल के साथ किसी भी अनुपात में प्रयोग किया जा सकता है।
- E. इसका निम्न ज्वलनांक (फ्लैश प्वाइंट) है।

नीचे दिए गए विकल्पों में से सबसे उपयुक्त उत्तर का चयन कीजिए:

- 1. केवल A, B और C
- 2. केवल B, C और D
- 3. केवल A, C और D
- 4. केवल C, D और E

(1) 1

(2) 2

(3) 3

(4) 4

1[Option ID=16557]

2[Option ID=16558]

3[Option ID=16559]

4[Option ID=16560]

Sl. No.141

QBID:7201041

Which of the following names of technology platforms has been mentioned in NEP-2020 through which online training of teachers will be encouraged ?

- A. SWAYAM
- B. AYUSH
- C. PARAKH
- D. DIKSHA
- E. NIT

Choose the correct answer from the options given below :

- 1. B and C Only
- 2. A and D Only
- 3. A, C and D Only
- 4. A, B and E Only

(1) 1

(2) 2

(3) 3

(4) 4

नई शिक्षा नीति में निम्नलिखित कौन-से प्रौद्योगिकीय मंचों के नाम का उल्लेख किया गया है जिनके माध्यम से शिक्षकों के ऑनलाइन प्रशिक्षण को प्रोत्साहित किया जाएगा?

- A. स्वयं
- B. आयुष
- C. परख
- D. दीक्षा
- E. एनआईटी

नीचे दिए गए विकल्पों में से सही उत्तर का चयन कीजिए:

- 1. केवल B और C
- 2. केवल A और D
- 3. केवल A, C और D
- 4. केवल A, B और E

(1) 1

(2) 2

(3) 3

(4) 4

1[Option ID=16561]

2[Option ID=16562]

3[Option ID=16563]

4[Option ID=16564]

Sl. No.142

QBID:7201042

In 1904, Curzon was the moving force behind the enactment of the Indian University Act which intended to introduce radical changes into which of the following universities :

- A. Calcutta
- B. Bombay
- C. Madras
- D. Punjab (in Lahore)
- E. Allahabad

Choose the most appropriate answer from the options given below :

- 1. A, B and C Only
- 2. C, D and E Only
- 3. A, C, D and E Only
- 4. A, B, C, D and E

(1) 1

(2) 2

(3) 3

(4) 4

वर्ष 1904 में भारतीय विश्वविद्यालय अधिनियम के अधिनियमन के लिए प्रेरणास्रोत कर्जन था जिसका उद्देश्य निम्नलिखित किन विश्वविद्यालयों में आमूल-चूल परिवर्तनों की शुरुआत करना था?

- A. कलकत्ता
- B. बॉम्बे
- C. मद्रास
- D. पंजाब (लाहौर में)
- E. इलाहाबाद

नीचे दिए गए विकल्पों में से सबसे उपयुक्त उत्तर का चयन कीजिए:

- 1. केवल A, B और C
- 2. केवल C, D और E
- 3. केवल A, C, D और E
- 4. A, B, C, D और E

(1) 1

(2) 2

(3) 3

(4) 4

1[Option ID=16565]

2[Option ID=16566]

3[Option ID=16567]

4[Option ID=16568]

SI. No.143

QBID:7201043

Given below are two statements :

Statement I : UGC is a central government organization established by an Act of Parliament in 1956.

Statement II : UGC has established five regional centres in order to ensure proper functioning.

In the light of the above statements, choose the most appropriate answer from the options given below :

1. Both Statement I and Statement II are correct.
2. Both Statement I and Statement II are incorrect.
3. Statement I is correct but Statement II is incorrect.
4. Statement I is incorrect but statement II is correct.

(1) 1

(2) 2

(3) 3

(4) 4

नीचे दो कथन दिए गए हैं:

कथन I : यूजीसी, 1956 में संसद में अधिनियम द्वारा स्थापित किया गया एक केंद्रीय सरकारी संगठन है।

कथन II : यूजीसी ने समुचित संचालन को सुनिश्चित करने के क्रम में पाँच क्षेत्रीय केन्द्रों को स्थापित किया है।

उपरोक्त कथन के आलोक में, नीचे दिए गए विकल्पों में से सबसे उपयुक्त उत्तर का चयन कीजिए:

1. कथन I और II दोनों सही हैं ।
2. कथन I और II दोनों गलत हैं ।
3. कथन I सही है, लेकिन कथन II गलत है ।
4. कथन I गलत है, लेकिन कथन II सही है ।

(1) 1

(2) 2

(3) 3

(4) 4

1[Option ID=16569]

2[Option ID=16570]

3[Option ID=16571]

4[Option ID=16572]

Sl. No.144

QBID:7201044

Ministry of Environment and Forests, Govt. of India with the help of centre for Environment Education (CEE), _____ launched a National Environmental Awareness campaign (NEAC) in 1986 to increase awareness about the environment in various target groups in the country.

1. Chennai
2. Ahmedabad
3. Delhi
4. Hyderabad

(1) 1

(2) 2

(3) 3

(4) 4

भारत सरकार के पर्यावरण एवं वन मंत्रालय ने पर्यावरण शिक्षा हेतु केन्द्र (सीसीई) _____, की सहायता से देश में विविध लक्षित समूहों के मध्य पर्यावरण के बारे में जागरुकता में वृद्धि हेतु वर्ष 1986 में राष्ट्रीय पर्यावरणीय जागरुकता अभियान की (एनईएसी) का शुरुआत की।

1. चेन्नई
2. अहमदाबाद
3. दिल्ली
4. हैदराबाद

(1) 1

(2) 2

(3) 3

(4) 4

1[Option ID=16573]

2[Option ID=16574]

3[Option ID=16575]

4[Option ID=16576]

Sl. No.145

QBID:7201045

Which of the following is an important archaeological site declared by UNESCO as a world Heritage site in 1980 ?

1. Takshshila
2. Mithila
3. Vallabhi
4. Nalanda

(1) 1

(2) 2

(3) 3

(4) 4

निम्नलिखित में से कौन एक महत्वपूर्ण पुरातात्विक स्थल है जिसको यूनेस्को द्वारा वर्ष 1980 में विश्व धरोहर स्थल घोषित किया गया?

1. तक्षशिला
2. मिथिला
3. वल्लभी
4. नालन्दा

(1) 1

(2) 2

(3) 3

(4) 4

1[Option ID=16577]

2[Option ID=16578]

3[Option ID=16579]

4[Option ID=16580]

Sl. No.146

QBID:7201046

Read the following passage and answer the question.

Gordon Childe used the term urban revolution to describe the change in society marked by the emergence of the first cities some 5500 years ago. The areas that first witnessed this profound social economic change were :

- Mesopotamia - the valleys of the Tigris and Euphrates rivers
- The lower Nile valley.
- The plains of the river Indus.

Later, urban civilisations developed around the Mediterranean, in the Yellow River valley of China, in South East Asia and in the Americas. Thus the first cities mainly emerged in areas that are now considered to be LICs.

The catalyst for this period of rapid change was the Neolithic Revolution, which occurred about 8000 BCE. This was when sedentary agriculture, based on the domestication of animals and cereal farming, steadily replaced a nomadic way of life. As farming advanced, irrigation techniques were developed. Other major advances that followed were the ox-drawn plough, the wheeled cart, the sailing boat and metallurgy. However, arguably the most important development was the invention of writing in about 4000 BCE, for it was in the millennium after this that some of the villages on the alluvial plains between the Tigris and Euphrates rivers increased in size and changed in function so as to merit the classification of urban.

Considerably later than the first cities, trading centres began to develop. The Minoan civilisation cities of Knossos and Phaistos, which flourished in Crete during the first half of the second millennium BCE, derived their wealth from maritime trade. Next it was the turn of the Greeks and then the Romans to develop urban and trading systems on a scale larger than ever before.

निम्नलिखित गद्यांश को पढ़िए और प्रश्न का उत्तर दीजिए।

गोर्डन चाइल्ड ने शहरी क्रांति पद का प्रयोग लगभग 5500 वर्ष पूर्व प्रथम शहरों के आविर्भाव से चिह्नित समाज में परिवर्तनों के वर्णन के लिए किया था। जिन क्षेत्रों में सर्वप्रथम ये गहरे सामाजिक-आर्थिक परिवर्तन हुए, वे थे :

- मेसोपोटामिया - दजला और फुरात नदियों की घाटियां
- निम्न नील घाटी
- सिंधु नदी के मैदानी क्षेत्र

बाद में भूमध्य सागरीय क्षेत्र के इर्द-गिर्द, चीन की येलो नदी घाटी, दक्षिण पूर्व एशिया और अमरीका में शहरी सभ्यताएं विकसित हुईं। इस प्रकार पहले शहरों का मुख्यतः उन क्षेत्रों में आविर्भाव हुआ जिन्हें आज एलआईसी माना जाता है।

द्रुतगामी परिवर्तनों की इस अवधि के लिए उत्प्रेरक नवपाषाण कालीन क्रांति थी जो लगभग 8,000 ई. पू. हुई। यह तब हुआ जब पशुओं के पालतू बनाए जाने और खाद्यान्न कृषि पर आधारित स्थानवृद्धि कृषिने स्थिर गति से यायावरी जीवनशैली को प्रतिस्थापित कर दिया। कृषि में प्रगति के साथ सिंचाई प्रविधियां विकसित हुईं। इसके बाद अन्य प्रमुख प्रगति थी बैलों से खींचा जाने वाला हल, पहिेवाली गाड़ी, पाल नौका और धातु-विज्ञान। तथापि लगभग 4,000 ई.पू. हुआ लेखनी का अविष्कार संभवतया सर्वाधिक महत्वपूर्ण अविष्कार था क्योंकि इसी के बाद की सहस्राब्दी में दजला और फुरात नदियों के बीज के जलोढ मैदानी क्षेत्र में कुछ गाँवों के आकार में वृद्धि हुई और प्रकार्य में परिवर्तन हुए जिनके कारण शहर में वर्गीकरण योग्य बने।

प्रथम शहरों के काफी बाद में व्यापारिक केन्द्र विकसित होने आरंभ हुए। द्वितीय सहस्राब्दी ई.पू. के प्रथमार्द्ध के दौरान क्रीट में समुन्नत मिनोयाई सभ्यता के क्नोस और फैस्टास शहरों की संपदा समुद्री व्यापार से आई थी। पूर्व की तुलना में कहीं बड़े पैमाने पर शहरी और व्यापारिक प्रणालियों के विकास की अगली बारी यूनानी और रोमन लोगों की थी।

Based on the information given in the passage, arrange the following events in correct chronological order.

- A. Emergence of the first cities
- B. Neolithic Revolution
- C. Invention of writing
- D. The Minoan civilisation cities which flourished in Crete

Choose the correct answer from the options given below :

- 1. A, B, C, D
- 2. B, C, D, A
- 3. C, A, B, D
- 4. B, A, C, D

(1) 1

(2) 2

(3) 3

(4) 4

गद्यांश में प्रदत्त सूचना के आधार पर निम्न घटनाओं को सही कालक्रमानुसार व्यवस्थित कीजिए:

- A. प्रथम शहरों का आविर्भाव
- B. नवपाषाण कालीन क्रांति
- C. लेखन का आविष्कार
- D. क्रीट में समुन्नत मिनोयाई सभ्यता के शहर

नीचे दिए गए विकल्पों में सही उत्तर का चयन कीजिए:

- 1. A, B, C, D
- 2. B, C, D, A
- 3. C, A, B, D
- 4. B, A, C, D

(1) 1

(2) 2

(3) 3

(4) 4

1[Option ID=16581]

2[Option ID=16582]

3[Option ID=16583]

4[Option ID=16584]

Sl. No.147

QBID:7201047

Read the following passage and answer the question.

Gordon Childe used the term urban revolution to describe the change in society marked by the emergence of the first cities some 5500 years ago. The areas that first witnessed this profound social economic change were :

- Mesopotamia - the valleys of the Tigris and Euphrates rivers
- The lower Nile valley.
- The plains of the river Indus.

Later, urban civilisations developed around the Mediterranean, in the Yellow River valley of China, in South East Asia and in the Americas. Thus the first cities mainly emerged in areas that are now considered to be LICs.

The catalyst for this period of rapid change was the Neolithic Revolution, which occurred about 8000 BCE. This was when sedentary agriculture, based on the domestication of animals and cereal farming, steadily replaced a nomadic way of life. As farming advanced, irrigation techniques were developed. Other major advances that followed were the ox-drawn plough, the wheeled cart, the sailing boat and metallurgy. However, arguably the most important development was the invention of writing in about 4000 BCE, for it was in the millennium after this that some of the villages on the alluvial plains between the Tigris and Euphrates rivers increased in size and changed in function so as to merit the classification of urban.

Considerably later than the first cities, trading centres began to develop. The Minoan civilisation cities of Knossos and Phaistos, which flourished in Crete during the first half of the second millennium BCE, derived their wealth from maritime trade. Next it was the turn of the Greeks and then the Romans to develop urban and trading systems on a scale larger than ever before.

निम्नलिखित गद्यांश को पढ़िए और प्रश्न का उत्तर दीजिए।

गोर्डन चाइल्ड ने शहरी क्रांति पद का प्रयोग लगभग 5500 वर्ष पूर्व प्रथम शहरों के आविर्भाव से चिह्नित समाज में परिवर्तनों के वर्णन के लिए किया था। जिन क्षेत्रों में सर्वप्रथम ये गहरे सामाजिक-आर्थिक परिवर्तन हुए, वे थे :

- मेसोपोटामिया - दजला और फुरात नदियों की घाटियां
- निम्न नील घाटी
- सिंधु नदी के मैदानी क्षेत्र

बाद में भूमध्य सागरीय क्षेत्र के इर्द-गिर्द, चीन की येलो नदी घाटी, दक्षिण पूर्व एशिया और अमरीका में शहरी सभ्यताएं विकसित हुईं। इस प्रकार पहले शहरों का मुख्यतः उन क्षेत्रों में आविर्भाव हुआ जिन्हें आज एलआईसी माना जाता है।

द्रुतगामी परिवर्तनों की इस अवधि के लिए उत्प्रेरक नवपाषाण कालीन क्रांति थी जो लगभग 8,000 ई. पू. हुई। यह तब हुआ जब पशुओं के पालतू बनाए जाने और खाद्यान्न कृषि पर आधारित स्थानवृद्धि कृषिने स्थिर गति से यायावरी जीवनशैली को प्रतिस्थापित कर दिया। कृषि में प्रगति के साथ सिंचाई प्रविधियां विकसित हुईं। इसके बाद अन्य प्रमुख प्रगति थी बैलों से खींचा जाने वाला हल, पहिएवाली गाड़ी, पाल नौका और धातु-विज्ञान। तथापि लगभग 4,000 ई.पू. हुआ लेखनी का अविष्कार संभवतया सर्वाधिक महत्वपूर्ण अविष्कार था क्योंकि इसी के बाद की सहस्राब्दी में दजला और फुरात नदियों के बीज के जलोढ मैदानी क्षेत्र में कुछ गाँवों के आकार में वृद्धि हुई और प्रकार्य में परिवर्तन हुए जिनके कारण शहर में वर्गीकरण योग्य बने।

प्रथम शहरों के काफी बाद में व्यापारिक केन्द्र विकसित होने आरंभ हुए। द्वितीय सहस्राब्दी ई.पू. के प्रथमार्द्ध के दौरान क्रीट में समुन्नत मिनोयाई सभ्यता के क्नोस और फैस्तास शहरों की संपदा समुद्री व्यापार से आई थी। पूर्व की तुलना में कहीं बड़े पैमाने पर शहरी और व्यापारिक प्रणालियों के विकास की अगली बारी यूनानी और रोमन लोगों की थी।

The term LICs in the passage most likely represents

1. Lower Indo-China
2. Later Indus and China
3. Low Income Countries
4. Laos India and China

- (1) 1
- (2) 2
- (3) 3
- (4) 4

गद्यांश में प्रयुक्त पद एलआईसी का निम्न में से सर्वाधिक संभवतया किसको प्रदर्शित करता है ?

1. लोअर इंडो-चाइना
2. लेटर इंडस एंड चाइना
3. लो इनकम कंट्रीज
4. लाओस इंडिया एंड चाइना

(1) 1

(2) 2

(3) 3

(4) 4

1[Option ID=16585]

2[Option ID=16586]

3[Option ID=16587]

4[Option ID=16588]

Sl. No.148

QBID:7201048



Read the following passage and answer the question.

Gordon Childe used the term urban revolution to describe the change in society marked by the emergence of the first cities some 5500 years ago. The areas that first witnessed this profound social economic change were :

- Mesopotamia - the valleys of the Tigris and Euphrates rivers
- The lower Nile valley.
- The plains of the river Indus.

Later, urban civilisations developed around the Mediterranean, in the Yellow River valley of China, in South East Asia and in the Americas. Thus the first cities mainly emerged in areas that are now considered to be LICs.

The catalyst for this period of rapid change was the Neolithic Revolution, which occurred about 8000 BCE. This was when sedentary agriculture, based on the domestication of animals and cereal farming, steadily replaced a nomadic way of life. As farming advanced, irrigation techniques were developed. Other major advances that followed were the ox-drawn plough, the wheeled cart, the sailing boat and metallurgy. However, arguably the most important development was the invention of writing in about 4000 BCE, for it was in the millennium after this that some of the villages on the alluvial plains between the Tigris and Euphrates rivers increased in size and changed in function so as to merit the classification of urban.

Considerably later than the first cities, trading centres began to develop. The Minoan civilisation cities of Knossos and Phaistos, which flourished in Crete during the first half of the second millennium BCE, derived their wealth from maritime trade. Next it was the turn of the Greeks and then the Romans to develop urban and trading systems on a scale larger than ever before.

निम्नलिखित गद्यांश को पढ़िए और प्रश्न का उत्तर दीजिए।

गोर्डन चाइल्ड ने शहरी क्रांति पद का प्रयोग लगभग 5500 वर्ष पूर्व प्रथम शहरों के आविर्भाव से चिह्नित समाज में परिवर्तनों के वर्णन के लिए किया था। जिन क्षेत्रों में सर्वप्रथम ये गहरे सामाजिक-आर्थिक परिवर्तन हुए, वे थे :

- मेसोपोटामिया - दजला और फुरात नदियों की घाटियां
- निम्न नील घाटी
- सिंधु नदी के मैदानी क्षेत्र

बाद में भूमध्य सागरीय क्षेत्र के इर्द-गिर्द, चीन की येलो नदी घाटी, दक्षिण पूर्व एशिया और अमरीका में शहरी सभ्यताएं विकसित हुईं। इस प्रकार पहले शहरों का मुख्यतः उन क्षेत्रों में आविर्भाव हुआ जिन्हें आज एलआईसी माना जाता है।

द्रुतगामी परिवर्तनों की इस अवधि के लिए उत्प्रेरक नवपाषाण कालीन क्रांति थी जो लगभग 8,000 ई. पू. हुई। यह तब हुआ जब पशुओं के पालतू बनाए जाने और खाद्यान्न कृषि पर आधारित स्थानवृद्धि कृषिने स्थिर गति से यायावरी जीवनशैली को प्रतिस्थापित कर दिया। कृषि में प्रगति के साथ सिंचाई प्रविधियां विकसित हुईं। इसके बाद अन्य प्रमुख प्रगति थी बैलों से खींचा जाने वाला हल, पहिएवाली गाड़ी, पाल नौका और धातु-विज्ञान। तथापि लगभग 4,000 ई.पू. हुआ लेखनी का अविष्कार संभवतया सर्वाधिक महत्वपूर्ण अविष्कार था क्योंकि इसी के बाद की सहस्राब्दी में दजला और फुरात नदियों के बीज के जलोढ मैदानी क्षेत्र में कुछ गाँवों के आकार में वृद्धि हुई और प्रकार्य में परिवर्तन हुए जिनके कारण शहर में वर्गीकरण योग्य बने।

प्रथम शहरों के काफी बाद में व्यापारिक केन्द्र विकसित होने आरंभ हुए। द्वितीय सहस्राब्दी ई.पू. के प्रथमार्द्ध के दौरान क्रीट में समुन्नत मिनोयाई सभ्यता के क्नोस और फैस्तास शहरों की संपदा समुद्री व्यापार से आई थी। पूर्व की तुलना में कहीं बड़े पैमाने पर शहरी और व्यापारिक प्रणालियों के विकास की अगली बारी यूनानी और रोमन लोगों की थी।

Which major development led to the transformation of villages in the plains between Euphrates and Tigris, into urban centres ?

1. The Emergence of wheeled cart
2. Neolithic Revolution
3. Metallurgy
4. Invention of Writing

(1) 1

(2) 2

(3) 3

(4) 4

निम्नलिखित में से किस प्रमुख परिघटना के चलते फुरात और दजला के बीच के मैदानी क्षेत्रों के गाँवों का शहरी केन्द्रों में रूपांतरण हुआ?

1. पहिएदार गाडी का आविर्भाव
2. नवपाषाण कालीन क्रांति
3. धातु-विज्ञान
4. लेखन का आविष्कार

(1) 1

(2) 2

(3) 3

(4) 4

1[Option ID=16589]

2[Option ID=16590]

3[Option ID=16591]

4[Option ID=16592]

Sl. No.149

QBID:7201049



Read the following passage and answer the question.

Gordon Childe used the term urban revolution to describe the change in society marked by the emergence of the first cities some 5500 years ago. The areas that first witnessed this profound social economic change were :

- Mesopotamia - the valleys of the Tigris and Euphrates rivers
- The lower Nile valley.
- The plains of the river Indus.

Later, urban civilisations developed around the Mediterranean, in the Yellow River valley of China, in South East Asia and in the Americas. Thus the first cities mainly emerged in areas that are now considered to be LICs.

The catalyst for this period of rapid change was the Neolithic Revolution, which occurred about 8000 BCE. This was when sedentary agriculture, based on the domestication of animals and cereal farming, steadily replaced a nomadic way of life. As farming advanced, irrigation techniques were developed. Other major advances that followed were the ox-drawn plough, the wheeled cart, the sailing boat and metallurgy. However, arguably the most important development was the invention of writing in about 4000 BCE, for it was in the millennium after this that some of the villages on the alluvial plains between the Tigris and Euphrates rivers increased in size and changed in function so as to merit the classification of urban.

Considerably later than the first cities, trading centres began to develop. The Minoan civilisation cities of Knossos and Phaistos, which flourished in Crete during the first half of the second millennium BCE, derived their wealth from maritime trade. Next it was the turn of the Greeks and then the Romans to develop urban and trading systems on a scale larger than ever before.

निम्नलिखित गद्यांश को पढ़िए और प्रश्न का उत्तर दीजिए।

गोर्डन चाइल्ड ने शहरी क्रांति पद का प्रयोग लगभग 5500 वर्ष पूर्व प्रथम शहरों के आविर्भाव से चिह्नित समाज में परिवर्तनों के वर्णन के लिए किया था। जिन क्षेत्रों में सर्वप्रथम ये गहरे सामाजिक-आर्थिक परिवर्तन हुए, वे थे :

- मेसोपोटामिया - दजला और फुरात नदियों की घाटियां
- निम्न नील घाटी
- सिंधु नदी के मैदानी क्षेत्र

बाद में भूमध्य सागरीय क्षेत्र के इर्द-गिर्द, चीन की येलो नदी घाटी, दक्षिण पूर्व एशिया और अमरीका में शहरी सभ्यताएं विकसित हुईं। इस प्रकार पहले शहरों का मुख्यतः उन क्षेत्रों में आविर्भाव हुआ जिन्हें आज एलआईसी माना जाता है।

द्रुतगामी परिवर्तनों की इस अवधि के लिए उत्प्रेरक नवपाषाण कालीन क्रांति थी जो लगभग 8,000 ई. पू. हुई। यह तब हुआ जब पशुओं के पालतू बनाए जाने और खाद्यान्न कृषि पर आधारित स्थानवृद्धि कृषिने स्थिर गति से यायावरी जीवनशैली को प्रतिस्थापित कर दिया। कृषि में प्रगति के साथ सिंचाई प्रविधियां विकसित हुईं। इसके बाद अन्य प्रमुख प्रगति थी बैलों से खींचा जाने वाला हल, पहिेवाली गाड़ी, पाल नौका और धातु-विज्ञान। तथापि लगभग 4,000 ई.पू. हुआ लेखनी का अविष्कार संभवतया सर्वाधिक महत्वपूर्ण अविष्कार था क्योंकि इसी के बाद की सहस्राब्दी में दजला और फुरात नदियों के बीज के जलोढ मैदानी क्षेत्र में कुछ गाँवों के आकार में वृद्धि हुई और प्रकार्य में परिवर्तन हुए जिनके कारण शहर में वर्गीकरण योग्य बने।

प्रथम शहरों के काफी बाद में व्यापारिक केन्द्र विकसित होने आरंभ हुए। द्वितीय सहस्राब्दी ई.पू. के प्रथमार्द्ध के दौरान क्रीट में समुन्नत मिनोयाई सभ्यता के क्नोस और फैस्टास शहरों की संपदा समुद्री व्यापार से आई थी। पूर्व की तुलना में कहीं बड़े पैमाने पर शहरी और व्यापारिक प्रणालियों के विकास की अगली बारी यूनानी और रोमन लोगों की थी।

Arrange the following places where urban centres developed, in correct chronological order.

- A. Greece
- B. Crete
- C. Rome
- D. The plains of river Indus

Choose the correct answer from the options given below :

- 1. D, B, A, C
- 2. D, C, B, A
- 3. A, D, B, C
- 4. A, D, C, B

(1) 1

(2) 2

(3) 3

(4) 4

निम्नलिखित स्थानों को जहां शहरी केन्द्र विकसित हुए, सही कालक्रमानुसार व्यवस्थित कीजिए:

- A. यूनान
- B. क्रीट
- C. रोम
- D. सिंधु नदी के मैदानी क्षेत्र

नीचे दिए गए विकल्पों में से सही उत्तर का चयन कीजिए:

- 1. D, B, A, C
- 2. D, C, B, A
- 3. A, D, B, C
- 4. A, D, C, B

(1) 1

(2) 2

(3) 3

(4) 4

1[Option ID=16593]

2[Option ID=16594]

3[Option ID=16595]

4[Option ID=16596]

Sl. No.150

QBID:7201050



Read the following passage and answer the question.

Gordon Childe used the term urban revolution to describe the change in society marked by the emergence of the first cities some 5500 years ago. The areas that first witnessed this profound social economic change were :

- Mesopotamia - the valleys of the Tigris and Euphrates rivers
- The lower Nile valley.
- The plains of the river Indus.

Later, urban civilisations developed around the Mediterranean, in the Yellow River valley of China, in South East Asia and in the Americas. Thus the first cities mainly emerged in areas that are now considered to be LICs.

The catalyst for this period of rapid change was the Neolithic Revolution, which occurred about 8000 BCE. This was when sedentary agriculture, based on the domestication of animals and cereal farming, steadily replaced a nomadic way of life. As farming advanced, irrigation techniques were developed. Other major advances that followed were the ox-drawn plough, the wheeled cart, the sailing boat and metallurgy. However, arguably the most important development was the invention of writing in about 4000 BCE, for it was in the millennium after this that some of the villages on the alluvial plains between the Tigris and Euphrates rivers increased in size and changed in function so as to merit the classification of urban.

Considerably later than the first cities, trading centres began to develop. The Minoan civilisation cities of Knossos and Phaistos, which flourished in Crete during the first half of the second millennium BCE, derived their wealth from maritime trade. Next it was the turn of the Greeks and then the Romans to develop urban and trading systems on a scale larger than ever before.

निम्नलिखित गद्यांश को पढ़िए और प्रश्न का उत्तर दीजिए।

गोर्डन चाइल्ड ने शहरी क्रांति पद का प्रयोग लगभग 5500 वर्ष पूर्व प्रथम शहरों के आविर्भाव से चिह्नित समाज में परिवर्तनों के वर्णन के लिए किया था। जिन क्षेत्रों में सर्वप्रथम ये गहरे सामाजिक-आर्थिक परिवर्तन हुए, वे थे :

- मेसोपोटामिया - दजला और फुरात नदियों की घाटियां
- निम्न नील घाटी
- सिंधु नदी के मैदानी क्षेत्र

बाद में भूमध्य सागरीय क्षेत्र के इर्द-गिर्द, चीन की येलो नदी घाटी, दक्षिण पूर्व एशिया और अमरीका में शहरी सभ्यताएं विकसित हुईं। इस प्रकार पहले शहरों का मुख्यतः उन क्षेत्रों में आविर्भाव हुआ जिन्हें आज एलआईसी माना जाता है।

द्रुतगामी परिवर्तनों की इस अवधि के लिए उत्प्रेरक नवपाषाण कालीन क्रांति थी जो लगभग 8,000 ई. पू. हुई। यह तब हुआ जब पशुओं के पालतू बनाए जाने और खाद्यान्न कृषि पर आधारित स्थानवृद्धि कृषिने स्थिर गति से यायावरी जीवनशैली को प्रतिस्थापित कर दिया। कृषि में प्रगति के साथ सिंचाई प्रविधियां विकसित हुईं। इसके बाद अन्य प्रमुख प्रगति थी बैलों से खींचा जाने वाला हल, पहिेवाली गाड़ी, पाल नौका और धातु-विज्ञान। तथापि लगभग 4,000 ई.पू. हुआ लेखनी का अविष्कार संभवतया सर्वाधिक महत्वपूर्ण अविष्कार था क्योंकि इसी के बाद की सहस्राब्दी में दजला और फुरात नदियों के बीज के जलोढ मैदानी क्षेत्र में कुछ गाँवों के आकार में वृद्धि हुई और प्रकार्य में परिवर्तन हुए जिनके कारण शहर में वर्गीकरण योग्य बने।

प्रथम शहरों के काफी बाद में व्यापारिक केन्द्र विकसित होने आरंभ हुए। द्वितीय सहस्राब्दी ई.पू. के प्रथमार्द्ध के दौरान क्रीट में समुन्नत मिनोयाई सभ्यता के क्नोस और फैस्टास शहरों की संपदा समुद्री व्यापार से आई थी। पूर्व की तुलना में कहीं बड़े पैमाने पर शहरी और व्यापारिक प्रणालियों के विकास की अगली बारी यूनानी और रोमन लोगों की थी।

Given below are two statements :

Statement I : Urban centres in China developed before they developed in the plains of Indus river.

Statement II : Trading centres developed much later than the first cities.

In the light of the above statements, choose the correct answer from the options given below :

1. Both Statement I and Statement II are true
2. Both Statement I and Statement II are false
3. Statement I is true but Statement II is false
4. Statement I is false but Statement II is true

(1) 1

(2) 2

(3) 3

(4) 4

नीचे दो कथन दिए गए हैं:

कथन I : चीन के शहरी केन्द्र सिंधु नदी के मैदानी क्षेत्रों के शहरी केन्द्रों से बहुत पहले विकसित हुए।

कथन II : व्यापारिक केन्द्र प्रथम शहरों की अपेक्षा बहुत बाद में विकसित हुए।

उपरोक्त कथन के आलोक में, नीचे दिए गए विकल्पों में से सही उत्तर का चयन कीजिए:

1. कथन I और II दोनों सत्य हैं ।
2. कथन I और II दोनों असत्य हैं ।
3. कथन I सत्य है, लेकिन कथन II असत्य है ।
4. कथन I असत्य है, लेकिन कथन II सत्य है ।

(1) 1

(2) 2

(3) 3

(4) 4

1[Option ID=16597]

2[Option ID=16598]

3[Option ID=16599]

4[Option ID=16600]