

Test Date : 09 Jul 2022

Test Slot : Slot 1

Subject : Social Medicine & Community Health

SI. No.1  
QBID:1501001

Consider the following table that embodies details about the percentage distribution of population of five states A-E on the basis of poverty line and gender. In accordance with the data in the table, answer the questions 1-5:

State-wise Distribution of Population

State	Percentage (%) of Population Below Poverty Line	Proportion of Males (M) and Females (F)	
		Below Poverty Line	Above Poverty Line
		M : F	M : F
A	35	5 : 6	6 : 7
B	25	3 : 5	4 : 5
C	24	1 : 2	2 : 3
D	19	3 : 2	5 : 3
E	15	5 : 3	3 : 2

निम्नलिखित तालिका पर ध्यान दीजिए, जिसमें गरीबी-रेखा और जेन्डर (लिंग) के आधार पर A से E तक के पाँच राज्यों की जनसंख्या के प्रतिशत वितरण के बारे में विवरण दिया गया है। इस तालिका के आंकड़ों (डेटा) के अनुसार प्रश्न 1 से 5 तक के उत्तर दीजिए:

जनसंख्या का राज्य-वार वितरण :

राज्य	गरीबी-रेखा के नीचे जनसंख्या का प्रतिशत (%)	पुरुषों (M) और महिलाओं (F) का अनुपात	
		गरीबी रेखा से नीचे	गरीबी रेखा से ऊपर
		M : F	M : F
A	35	5 : 6	6 : 7
B	25	3 : 5	4 : 5
C	24	1 : 2	2 : 3
D	19	3 : 2	5 : 3
E	15	5 : 3	3 : 2

What will be the number of females above poverty line in the state 'D', if it is known that the population of the state 'D' is 8 million?

- (1) 3 million
- (2) 2.83 million
- (3) 2.63 million
- (4) 2.43 million

राज्य - 'D' में गरीबी-रेखा से ऊपर महिलाओं की संख्या क्या होगी, यदि यह ज्ञात है कि राज्य 'D' की जनसंख्या 8 मिलियन है?

- (1) 3 मिलियन
- (2) 2.83 मिलियन
- (3) 2.63 मिलियन
- (4) 2.43 मिलियन

1[Option ID=10001]  
 2[Option ID=10002]  
 3[Option ID=10003]  
 4[Option ID=10004]

SI. No.2  
QBID:1501002

Consider the following table that embodies details about the percentage distribution of population of five states A-E on the basis of poverty line and gender. In accordance with the data in the table, answer the questions 1-5:

State-wise Distribution of Population

State	Percentage (%) of Population Below Poverty Line	Proportion of Males (M) and Females (F)	
		Below Poverty Line	Above Poverty Line
		M : F	M : F
A	35	5 : 6	6 : 7
B	25	3 : 5	4 : 5
C	24	1 : 2	2 : 3
D	19	3 : 2	5 : 3
E	15	5 : 3	3 : 2

निम्नलिखित तालिका पर ध्यान दीजिए, जिसमें गरीबी-रेखा और जेन्डर (लिंग) के आधार पर A से E तक के पाँच राज्यों की जनसंख्या के प्रतिशत वितरण के बारे में विवरण दिया गया है। इस तालिका के आंकड़ों (डेटा) के अनुसार प्रश्न 1 से 5 तक के उत्तर दीजिए:

जनसंख्या का राज्य-वार वितरण :

राज्य	गरीबी-रेखा के नीचे जनसंख्या का प्रतिशत (%)	पुरुषों (M) और महिलाओं (F) का अनुपात	
		गरीबी रेखा से नीचे	गरीबी रेखा से ऊपर
		M : F	M : F
A	35	5 : 6	6 : 7
B	25	3 : 5	4 : 5
C	24	1 : 2	2 : 3
D	19	3 : 2	5 : 3
E	15	5 : 3	3 : 2

If the male population above poverty line for state 'C' is 1.9 million, then what is the total population of state 'C'?

- (1) 6.25 million
- (2) 5.35 million
- (3) 4.85 million
- (4) 4.5 million

यदि राज्य - 'सी' की गरीबी-रेखा से ऊपर पुरुषों की जनसंख्या 1.9 मिलियन है तो राज्य - 'सी' की कुल जनसंख्या कितनी है?

- (1) 6.25 मिलियन
- (2) 5.35 मिलियन
- (3) 4.85 मिलियन
- (4) 4.5 मिलियन

1[Option ID=10005]  
2[Option ID=10006]  
3[Option ID=10007]  
4[Option ID=10008]

SI. No.3  
QBID:1501003

Consider the following table that embodies details about the percentage distribution of population of five states A-E on the basis of poverty line and gender. In accordance with the data in the table, answer the questions 1-5:

**State-wise Distribution of Population**

State	Percentage (%) of Population Below Poverty Line	Proportion of Males (M) and Females (F)	
		Below Poverty Line	Above Poverty Line
		M : F	M : F
A	35	5 : 6	6 : 7
B	25	3 : 5	4 : 5
C	24	1 : 2	2 : 3
D	19	3 : 2	5 : 3
E	15	5 : 3	3 : 2

निम्नलिखित तालिका पर ध्यान दीजिए, जिसमें गरीबी-रेखा और जेन्डर (लिंग) के आधार पर A से E तक के पाँच राज्यों की जनसंख्या के प्रतिशत वितरण के बारे में विवरण दिया गया है। इस तालिका के आंकड़ों (डेटा) के अनुसार प्रश्न 1 से 5 तक के उत्तर दीजिए:

जनसंख्या का राज्य-वार वितरण :

राज्य	गरीबी-रेखा के नीचे जनसंख्या का प्रतिशत (%)	पुरुषों (M) और महिलाओं (F) का अनुपात	
		गरीबी रेखा से नीचे	गरीबी रेखा से ऊपर
		M : F	M : F
A	35	5 : 6	6 : 7
B	25	3 : 5	4 : 5
C	24	1 : 2	2 : 3
D	19	3 : 2	5 : 3
E	15	5 : 3	3 : 2

What will be the male population above poverty line for state 'A' if the female population below poverty line for state 'A' is 2.1 million?

- (1) 2.3 million
- (2) 3.3 million
- (3) 4.4 million
- (4) 6.6 million

राज्य - 'A' की गरीबी-रेखा से ऊपर पुरुषों की जनसंख्या क्या होगी, यदि राज्य 'A' की गरीबी-रेखा से नीचे महिलाओं की जनसंख्या 2.1 मिलियन है?

- (1) 2.3 मिलियन
- (2) 3.3 मिलियन
- (3) 4.4 मिलियन
- (4) 6.6 मिलियन

- 1[Option ID=10009]
- 2[Option ID=10010]
- 3[Option ID=10011]
- 4[Option ID=10012]

Sl. No.4  
QBID:1501004

Consider the following table that embodies details about the percentage distribution of population of five states A-E on the basis of poverty line and gender. In accordance with the data in the table, answer the questions 1-5:

**State-wise Distribution of Population**

State	Percentage (%) of Population Below Poverty Line	Proportion of Males (M) and Females (F)	
		Below Poverty Line	Above Poverty Line
		M : F	M : F
A	35	5 : 6	6 : 7
B	25	3 : 5	4 : 5
C	24	1 : 2	2 : 3
D	19	3 : 2	5 : 3
E	15	5 : 3	3 : 2

निम्नलिखित तालिका पर ध्यान दीजिए, जिसमें गरीबी-रेखा और जेन्डर (लिंग) के आधार पर A से E तक के पाँच राज्यों की जनसंख्या के प्रतिशत वितरण के बारे में विवरण दिया गया है। इस तालिका के आंकड़ों (डेटा) के अनुसार प्रश्न 1 से 5 तक के उत्तर दीजिए:

जनसंख्या का राज्य-वार वितरण :

राज्य	गरीबी-रेखा के नीचे जनसंख्या का प्रतिशत (%)	पुरुषों (M) और महिलाओं (F) का अनुपात	
		गरीबी रेखा से नीचे	गरीबी रेखा से ऊपर
		M : F	M : F
A	35	5 : 6	6 : 7
B	25	3 : 5	4 : 5
C	24	1 : 2	2 : 3
D	19	3 : 2	5 : 3
E	15	5 : 3	3 : 2

If the population of males below poverty line for state 'B' is 2.4 million and that for state 'E' is 6 million, the total population of states 'B' and 'E' is in the ratio of \_\_\_\_\_.

- (1) 2 : 5
- (2) 2 : 7
- (3) 3 : 7
- (4) 4 : 9

यदि राज्य - B की गरीबी-रेखा से नीचे पुरुषों की जनसंख्या 2.4 मिलियन और राज्य - 'E' की 6 मिलियन है तो राज्य 'B' और 'E' की कुल जनसंख्या किस अनुपात में होगी?

- (1) 2 : 5
- (2) 2 : 7
- (3) 3 : 7
- (4) 4 : 9

1[Option ID=10013]  
 2[Option ID=10014]  
 3[Option ID=10015]  
 4[Option ID=10016]

Sl. No.5  
 QBID:1501005

Consider the following table that embodies details about the percentage distribution of population of five states A-E on the basis of poverty line and gender. In accordance with the data in the table, answer the questions 1-5:

**State-wise Distribution of Population**

State	Percentage (%) of Population Below Poverty Line	Proportion of Males (M) and Females (F)	
		Below Poverty Line	Above Poverty Line
		M : F	M : F
A	35	5 : 6	6 : 7
B	25	3 : 5	4 : 5
C	24	1 : 2	2 : 3
D	19	3 : 2	5 : 3
E	15	5 : 3	3 : 2

निम्नलिखित तालिका पर ध्यान दीजिए, जिसमें गरीबी-रेखा और जेन्डर (लिंग) के आधार पर A से E तक के पाँच राज्यों की जनसंख्या के प्रतिशत वितरण के बारे में विवरण दिया गया है। इस तालिका के आंकड़ों (डेटा) के अनुसार प्रश्न 1 से 5 तक के उत्तर दीजिए:

जनसंख्या का राज्य-वार वितरण :

राज्य	गरीबी-रेखा के नीचे जनसंख्या का प्रतिशत (%)	पुरुषों (M) और महिलाओं (F) का अनुपात	
		गरीबी रेखा से नीचे	गरीबी रेखा से ऊपर
		M : F	M : F
A	35	5 : 6	6 : 7
B	25	3 : 5	4 : 5
C	24	1 : 2	2 : 3
D	19	3 : 2	5 : 3
E	15	5 : 3	3 : 2

If the total population of state 'C' and state 'D' is 5 million and 7 million, respectively, then what is the difference in the population below poverty line in these two states?

- (1) 0.30 million
- (2) 0.23 million
- (3) 0.13 million
- (4) 0.11 million

यदि राज्य - 'C' और राज्य - 'D' की कुल जनसंख्या क्रमशः 5 मिलियन और 7 मिलियन है, तो इन दोनों राज्यों में गरीबी-रेखा से नीचे की जनसंख्या में अंतर क्या है?

- (1) 0.30 मिलियन
- (2) 0.23 मिलियन
- (3) 0.13 मिलियन
- (4) 0.11 मिलियन

1[Option ID=10017]  
 2[Option ID=10018]  
 3[Option ID=10019]  
 4[Option ID=10020]

Sl. No.6  
 QBID:1501006

Which of the following are correct regarding the process of learning?

- (A) Remembering the information and reproducing it in examination.
- (B) Synthesis and organisation of the old and new experiences resulting in a novel pattern
- (C) Carrying out activities which leave permanent effect on the learner.
- (D) Learning means acquisition, retention and modification of experience.
- (E) Preparing only for scoring good marks.

Choose the correct answer from the options given below :

- (1) (A), (B) and (C) only
- (2) (B), (C) and (D) only
- (3) (C), (D) and (E) only
- (4) (B), (C), (D) and (E) only

अधिगम की प्रक्रिया के संबंध में निम्नलिखित में से कौन से सही हैं?

- (A) सूचना को याद करना और उसे परीक्षा में पुनःप्रस्तुत करना
- (B) पुराने और नये अनुभवों के संश्लेषण और संगठन के परिणाम स्वरूप अभिनव पैटर्न
- (C) अधिगमकर्ता पर स्थायी प्रभाव छोड़ने वाले कार्य कलापों को आगे बढ़ाना
- (D) अधिगम का आशय अनुभव का अधिग्रहण, प्रतिधारण और परिष्करण है
- (E) केवल अच्छे अंक प्राप्त करने के लिए तैयारी करना

नीचे दिए गए विकल्पों में से सही उत्तर का चयन कीजिए :

- (1) केवल (A), (B) और (C)
- (2) केवल (B), (C) और (D)
- (3) केवल (C), (D) और (E)
- (4) केवल (B), (C), (D) और (E)

1[Option ID=10021]  
2[Option ID=10022]  
3[Option ID=10023]  
4[Option ID=10024]

Sl. No.7  
QBID:1501007

What is the full form of MOODLE, an open source Learning Management System (LMS)?

- (1) Modular Object Oriented Digital Learning Environment
- (2) Modular Object Oriented Dynamic Learning Environment
- (3) MOOCs Oriented Digital Learning Environment
- (4) Multiple Object Oriented Dynamic Learning Environment

मुक्त स्रोत अधिगम प्रबंधन प्रणाली (एल एम एस) मूडल (एम ओ ओ डी एल ई) का पूर्ण रूप क्या है?

- (1) मॉड्यूलर ऑब्जेक्ट ओरियन्टेड डिजिटल लर्निंग एन्वायरन्मेंट
- (2) मॉड्यूलर ऑब्जेक्ट ओरियन्टेड डायनेमिक लर्निंग एन्वायरन्मेंट
- (3) मूक्स ओरियन्टेड डिजिटल लर्निंग एन्वायरन्मेंट

(4) मल्टीपल ऑब्जेक्ट ओरियन्टेड डाइनेमिक लर्निंग एन्वायर्नमेंट

- 1[Option ID=10025]  
2[Option ID=10026]  
3[Option ID=10027]  
4[Option ID=10028]

Sl. No.8  
QBID:1501008

Given below are two statements :

Statement I : Assesment drives learning.

Statement II : No feedback is required to be given in formative assessments.

In the light of the above statements, choose the most appropriate answer from the options given below:

- (1) Both Statement I and Statement II are correct  
(2) Both Statement I and Statement II are incorrect  
(3) Statement I is correct but Statement II is incorrect  
(4) Statement I is incorrect but Statement II is correct

नीचे दो कथन दिए गए हैं :

कथन (I) : आकलन अधिगम को प्रेरित करता है।

कथन (II) : रचनात्मक आकलनों में प्रतिपुष्टि देने की आवश्यकता नहीं है।

उपरोक्त कथन के आलोक में, नीचे दिए गए विकल्पों में से सबसे उपयुक्त उत्तर का चयन कीजिए :

- (1) कथन I और II दोनों सही हैं।  
(2) कथन I और II दोनों गलत हैं।  
(3) कथन I सही है, लेकिन कथन II गलत है।  
(4) कथन I गलत है, लेकिन कथन II सही है।

- 1[Option ID=10029]  
2[Option ID=10030]  
3[Option ID=10031]  
4[Option ID=10032]

Sl. No.9  
QBID:1501009

According to Dewry, education is a

- (1) Social need  
(2) Personal need  
(3) Status need  
(4) Financial need

ड्योरी के अनुसार शिक्षा है:

- (1) सामाजिक आवश्यकता  
(2) व्यक्तिगत आवश्यकता  
(3) स्थिति (स्टेटस) आवश्यकता  
(4) वित्तीय आवश्यकता

- 1[Option ID=10033]  
2[Option ID=10034]  
3[Option ID=10035]  
4[Option ID=10036]

Sl. No.10  
QBID:1501010

Pandit Madan Mohan Malaviya National Mission on Teachers and Teaching has various components. Which of the following is not a component under this scheme?

- (1) Inter University Centres of UGC
- (2) Faculty Development Centers (FDCs)
- (3) Teaching Learning Centres (TLCs)
- (4) School Of Education (SOE)

शिक्षकों एवं शिक्षण पर पंडित मदन मोहन मालवीय राष्ट्रीय मिशन के विभिन्न घटक हैं। निम्नलिखित में से कौन सा इस योजना का घटक नहीं है

- (1) यू जी सी के अन्तर्विश्वविद्यालय केन्द्र
- (2) फेकल्टी विकास केन्द्र (एफ डी सी)
- (3) शिक्षण अधिगम केन्द्र (टी एल सी)
- (4) शिक्षा संकाय (एस ओ ई)

1[Option ID=10037]  
2[Option ID=10038]  
3[Option ID=10039]  
4[Option ID=10040]

Sl. No.11  
QBID:1501011

Which of the following are the features of case study method?

- (A) It is appreciative
- (B) It is particularistic
- (C) It is descriptive
- (D) It is inductive
- (E) It is mechanical

Choose the most appropriate answer from the options given below :

- (1) (A), (B), (C) only
- (2) (B), (C), (D) only
- (3) (C), (D), (E) only
- (4) (A), (D), (E) only



प्रकरण (केस) अध्ययन पद्धति की विशेषताएँ निम्नलिखित में से कौन सी हैं?

- (A) यह प्रशंसनात्मक है।
- (B) यह विशिष्टतापरक है।
- (C) यह विवरणात्मक है।
- (D) यह आगमनात्मक है।
- (E) यह यांत्रिक है।

नीचे दिए गए विकल्पों में से सबसे उपयुक्त का चयन कीजिए :

- (1) केवल (A), (B), (C)
- (2) केवल (B), (C), (D)
- (3) केवल (C), (D), (E)
- (4) केवल (A), (D), (E)

1[Option ID=10041]  
2[Option ID=10042]  
3[Option ID=10043]  
4[Option ID=10044]

Sl. No.12  
QBID:1501012

Which of the following are remote data collection procedures?

- (A) Third party interview
- (B) Pop-ups
- (C) Data base e-mail
- (D) Instant messaging
- (E) Panel discussions

Choose the correct answer from the options given below :

- (1) (A), (B), (C) only
- (2) (B), (C), (D) only
- (3) (C), (D), (E) only
- (4) (A), (B), (E) only

निम्नलिखित में से दूरस्थ आँकड़ा संग्रहण की प्रक्रियाएँ कौन सी हैं?

- (A) थर्ड पार्टी इंटरव्यू (तृतीय पक्ष साक्षात्कार)
- (B) पाप-अप्स
- (C) डाटा बेस ईमेल
- (D) इंस्टैंट मैसेजिंग (तात्कालिक संदेशन)
- (E) पैनल डिस्कशन (नामिका परिचर्चा)

नीचे दिए गए विकल्पों में से सही उत्तर का चयन कीजिए :

- (1) केवल (A), (B), (C)
- (2) केवल (B), (C), (D)

(3) केवल (C), (D), (E)

(4) केवल (A), (D), (E)

1[Option ID=10045]

2[Option ID=10046]

3[Option ID=10047]

4[Option ID=10048]

Sl. No.13

QBID:1501013

To perform t-test which of the following softwares can be utilized?

- (A) MS Excel
- (B) Unix
- (C) SPSS
- (D) MS Equations

Choose the most appropriate answer from the options given below :

- (1) (A) and (B) only
- (2) (B), (C) and (D) only
- (3) (A) and (C) only
- (4) (A), (C) and (D) only

टी-परीक्षण करने हेतु निम्नलिखित में से कौन सा सॉफ्टवेयर प्रयुक्त किया जा सकता है?

- (A) एम. एस. एक्सेल
- (B) यूनिक्स
- (C) एस पी एस एस
- (D) एम. एस. इक्वेशन्स

नीचे दिए गए विकल्पों में से सही उत्तर का चयन कीजिए :

- (1) केवल (A) और (B)
- (2) केवल (B), (C) और (D)
- (3) केवल (A) और (C)
- (4) केवल (A), (C) और (D)

1[Option ID=10049]

2[Option ID=10050]

3[Option ID=10051]

4[Option ID=10052]

Sl. No.14

QBID:1501014

Match List I with List II

List I Types of Research	List II Research Characteristic
(A) Cohort analysis	(I) Study of a specific population as it undergoes change over time.
(B) Cultivation analysis	(II) Simultaneous analysis of two or more data tables.
(C) Factor analysis	(III) Analysis of perceptions of social world.
(D) Canonical analysis	(IV) A multivariate statistical test used for data reduction.

Choose the correct answer from the options given below :

- (1) (A)-(I), (B)-(II), (C)-(III), (D)-(IV)

- (2) (A)-(II), (B)-(III), (C)-(IV), (D)-(I)  
 (3) (A)-(IV), (B)-(I), (C)-(II), (D)-(III)  
 (4) (A)-(I), (B)-(III), (C)-(IV), (D)-(II)

सूची-I के साथ सूची-II का मिलान कीजिए :

सूची-I शोध के प्रकार	सूची-II शोध की विशेषताएं
(A) सहगण विश्लेषण	(I) समय के साथ बदलती हुई, एक विशेष जनसँख्या का अध्ययन
(B) कल्टीवेशन (संस्कृति) विश्लेषण	(II) दो या अधिक आँकड़ा सारणियों का साथ-साथ विश्लेषण
(C) कारक विश्लेषण	(III) सामाजिक जगत के प्रत्यक्षण का विश्लेषण
(D) प्रामाणिक विश्लेषण	(IV) आँकड़ों के लघुकरण हेतु बहुचर साँख्यिकीय परीक्षण

नीचे दिए गए विकल्पों में से सही उत्तर का चयन कीजिए :

- (1) (A)-(I), (B)-(II), (C)-(III), (D)-(IV)  
 (2) (A)-(II), (B)-(III), (C)-(IV), (D)-(I)  
 (3) (A)-(IV), (B)-(I), (C)-(II), (D)-(III)  
 (4) (A)-(I), (B)-(III), (C)-(IV), (D)-(II)

1[Option ID=10053]  
 2[Option ID=10054]  
 3[Option ID=10055]  
 4[Option ID=10056]

Sl. No.15  
 QBID:1501015

The measures of inter-coder reliability are employed in research related to

- (1) Discourse analysis  
 (2) Narrative analysis  
 (3) Path analysis  
 (4) Content analysis

इंटर-कोडर विश्वसनीयता के मानदंडों का प्रयोग निम्न से संबंधित शोध में होता है:

- (1) विमर्श विश्लेषण  
 (2) वृत्तान्त विश्लेषण  
 (3) पथ विश्लेषण  
 (4) विषय-वस्तु विश्लेषण

1[Option ID=10057]  
 2[Option ID=10058]  
 3[Option ID=10059]  
 4[Option ID=10060]

Sl. No.16  
 QBID:1501016

Transforming ideas, thoughts and messages into verbal and non-verbal signs and symbols is known as

- (1) Channelisation

(2) Controlled communication

(3) Encoding

(4) Decoding

धारणाओं, विचारों और संदेशों का मौखिक एवं गैर-मौखिक प्रतीकों में रूपांतरण किस नाम से जाना जाता है ?

(1) मार्गीकरण (चैनेलाइजेशन)

(2) नियंत्रित सम्प्रेषण

(3) कूटलेखन

(4) विकूटन

1[Option ID=10061]

2[Option ID=10062]

3[Option ID=10063]

4[Option ID=10064]

Sl. No.17

QBID:1501017

Which of the following are the effects of oral communication?

(A) Fragmented information

(B) Personal connect

(C) Feed back

(D) Objectivity

(E) Absence of interpretation

Choose the correct answer from the options given below :

(1) (A) and (B) only

(2) (A), (B) and (C) only

(3) (B) and (C) only

(4) (C), (D) and (E) only

निम्नलिखित में से कौन से मौखिक सम्प्रेषण के प्रभाव हैं?

(A) खंडात्मक सूचना

(B) वैयक्तिक संबंध

(C) प्रतिपुष्टि (फीडबैक)

(D) वस्तुनिष्ठता

(E) व्याख्या का अभाव

नीचे दिए गए विकल्पों में से सही उत्तर का चयन कीजिए :

(1) केवल (A) और (B)

(2) केवल (A), (B) और (C)

(3) केवल (B) और (C)

(4) केवल (C), (D) और (E)

1[Option ID=10065]

2[Option ID=10066]

3[Option ID=10067]

4[Option ID=10068]

Sl. No.18

QBID:1501018

Given below are two statements :

Statement I : The psychological obstacle in communication can be seen when the receiver fails to refer language to reality and experience.

Statement II : The stereotypes held by one also contribute to the failure of language to reflect social reality.

In the light of the above statements, choose the correct answer from the options given below:

- (1) Both Statement I and Statement II are true
- (2) Both Statement I and Statement II are false
- (3) Statement I is true but Statement II is false
- (4) Statement I is false but Statement II is true

नीचे दो कथन दिए गए हैं :

कथन (I) : सम्प्रेषण में मनोवैज्ञानिक बाधा तब देखी जा सकती है, जब ग्रहणकर्ता यथार्थ एवं अनुभव को भाषा का संदर्भ देने में विफल रहता है।

कथन (II) : किसी व्यक्ति के रूढ़ प्ररूप सामाजिक यथार्थता को प्रतिबिंबित करने में भाषा की विफलता में भी योगदान करते हैं।

उपरोक्त कथन के आलोक में, नीचे दिए गए विकल्पों में से सही उत्तर का चयन कीजिए :

- (1) कथन I और II दोनों सत्य हैं।
- (2) कथन I और II दोनों असत्य हैं।
- (3) कथन I सत्य है, लेकिन कथन II असत्य है।
- (4) कथन I असत्य है, लेकिन कथन II सत्य है।

1[Option ID=10069]  
2[Option ID=10070]  
3[Option ID=10071]  
4[Option ID=10072]

Sl. No.19  
QBID:1501019

Identify the correct sequence of the elements of communication set by Aristotle:

- (A) Speech
- (B) Speaker
- (C) Audience
- (D) Occasion
- (E) Effect

Choose the correct answer from the options given below :

- (1) (A), (D), (B), (C), (E)
- (2) (D), (B), (A), (E), (C)
- (3) (C), (D), (A), (E), (B)
- (4) (B), (A), (D), (C), (E)

अरस्तू द्वारा निर्धारित सम्प्रेषण के तत्वों के सही क्रम की पहचान कीजिए :

- (A) भाषण
- (B) वक्ता
- (C) श्रोता
- (D) अवसर
- (E) प्रभाव

नीचे दिए गए विकल्पों में से सही उत्तर का चयन कीजिए :

- (1) (A), (D), (B), (C), (E)
- (2) (D), (B), (A), (E), (C)

(3) (C), (D), (A), (E), (B)

(4) (B), (A), (D), (C), (E)

1[Option ID=10073]  
2[Option ID=10074]  
3[Option ID=10075]  
4[Option ID=10076]

Sl. No.20  
QBID:1501020

Match List I with List II :

List I	List II
Types of Communication Effects	Source of Service
(A) Instrumental	(I) Author's observation
(B) Prestige	(II) A range of special requests
(C) Reinforcement	(III) Sentimental fiction
(D) Aesthetic	(IV) Factual reports

Choose the correct answer from the options given below:

(1) (A)-(II), (B)-(III), (C)-(IV), (D)-(I)

(2) (A)-(III), (B)-(IV), (C)-(II), (D)-(I)

(3) (A)-(IV), (B)-(III), (C)-(II), (D)-(I)

(4) (A)-(I), (B)-(IV), (C)-(II), (D)-(III)

सूची I के साथ सूची II का मिलान कीजिए।

सूची I
सम्प्रेषण के प्रभाव के प्रकार
(A) सहायक
(B) प्रतिष्ठा
(C) पुनर्बलन
(D) सौंदर्यपरक

सूची II
सेवा का स्रोत
(I) लेखक का अवलोकन
(II) विशेष अनुरोधों की एक रेन्ज
(III) भावपूर्ण कथा-साहित्य
(IV) तथ्यात्मक रिपोर्टें

दिए गए विकल्पों में से सही उत्तर का चयन कीजिए :

(1) (A)-(II), (B)-(III), (C)-(IV), (D)-(I)

(2) (A)-(III), (B)-(IV), (C)-(II), (D)-(I)

(3) (A)-(IV), (B)-(III), (C)-(II), (D)-(I)

(4) (A)-(I), (B)-(IV), (C)-(II), (D)-(III)

1[Option ID=10077]  
2[Option ID=10078]  
3[Option ID=10079]  
4[Option ID=10080]

Sl. No.21  
QBID:1501021

Find the wrong term in the series given below:

16, 22, 30, 45, 52, 66, .....

(1) 22

(2) 30

(3) 66

(4) 45

नीचे दी गई श्रृंखला में गलत पद का पता लगाइए?

16, 22, 30, 45, 52, 66, .....

(1) 22

(2) 30

(3) 66

(4) 45

1[Option ID=10081]

2[Option ID=10082]

3[Option ID=10083]

4[Option ID=10084]

SI. No.22

QBID:1501022

If the word EARTH be written as QPMZS in coded form, how can the word HEART be written in the same code?

(1) SPMZQ

(2) SQMPZ

(3) SPMQZ

(4) SQPMZ

यदि शब्द - EARTH को कूट रूप में QPMZS लिखा जाता है तो HEART को उसी कूट में किस प्रकार लिखा जा सकता है?

(1) SPMZQ

(2) SQMPZ

(3) SPMQZ

(4) SQPMZ

1[Option ID=10085]

2[Option ID=10086]

3[Option ID=10087]

4[Option ID=10088]

SI. No.23

QBID:1501023

Compute the value of  $\frac{(0.35)^2 - (0.03)^2}{0.19}$  upto 3 decimal places:

(1) 0.064

(2) 0.64

(3) 0.006

(4) 0.694

$\frac{(0.35)^2 - (0.03)^2}{0.19}$  के मान की दशमलव के तीन स्थानों तक गणना कीजिए।

(1) 0.064

(2) 0.64

(3) 0.006

(4) 0.694

1[Option ID=10089]

2[Option ID=10090]

3[Option ID=10091]

4[Option ID=10092]

SI. No.24

QBID:1501024

10 chairs and 5 tables were purchased for Rs. 17,500. If the average cost of a chair is Rs.1000, What is the average cost of a table?

(1) Rs. 1,400

(2) Rs. 1,200

(3) Rs. 1,100

(4) Rs. 1,500

10 कुर्सियाँ और 5 मेजों को रु 17,500 में खरीदा गया। यदि एक कुर्सी की औसत कीमत 1000 रु है; तब एक मेज की कीमत औसत क्या है?

(1) रु. 1,400

(2) रु. 1,200

(3) रु. 1,100

(4) रु. 1,500

1[Option ID=10093]

2[Option ID=10094]

3[Option ID=10095]

4[Option ID=10096]

SI. No.25

QBID:1501025

An Aeroplane started 30 minutes later than the scheduled time from a place 1500 km away from its destination. To reach the destination at the scheduled time the pilot needed to increase the speed by 250 km/hr. What was the speed of the Aeroplane during journey? (in km/hr).

(1) 750

(2) 1000

(3) 800

(4) 900

एक हवाई जहाज ने अपने गंतव्य से 1500 कि.मी. की दूरी पर किसी स्थान से अपने निर्धारित समय से 30 मिनट की देरी से उड़ना प्रारंभ किया। अपने गंतव्य पर निर्धारित समय से पहुँचने हेतु पायलट को गति में 250 किमी. प्रति घंटे की दर से वृद्धि करनी आवश्यक हुयी। यात्रा के दौरान हवाई जहाज की गति कितनी थी (किमी./घंटा में)?

(1) 750

(2) 1000

(3) 800

(4)



1[Option ID=10097]  
 2[Option ID=10098]  
 3[Option ID=10099]  
 4[Option ID=10100]

Sl. No.26  
 QBID:1501026

In classical square of opposition if 'No S is P' is given as false then which of the following could be immediately inferred from it?

- (A) 'Some S is not P' is true
- (B) 'All S is P' is undetermined
- (C) 'Some S is not P' is undetermined
- (D) 'Some S is P' is true
- (E) 'Some S is not P' is false

Choose the correct answer from the options given below :

- (1) (B), (D) and (E) only
- (2) (A), (B) and (D) only
- (3) (A), (D) and (E) only
- (4) (B), (C) and (D) only

वियुति के क्लासिकीय वर्ग में यदि 'कोई S, P नहीं है', असल के रूप में दिया हो तब निम्नलिखित में से इससे कौन-सा सीधे तौर पर अनुमान लगाया जा सकता है।

- (A) 'कुछ S, P नहीं है', सत्य है
- (B) 'सभी S, P है', अनिर्धारित है।
- (C) 'कुछ S, P नहीं है', अनिर्धारित है।
- (D) 'कुछ S, P है', सही है
- (E) 'कुछ S, P नहीं है', गलत है

नीचे दिए गए विकल्पों में से सही उत्तर का चयन कीजिए :

- (1) केवल (B), (D) और (E)
- (2) केवल (A), (B) और (D)
- (3) केवल (A), (D) और (E)
- (4) केवल (B), (C) और (D)

1[Option ID=10101]

2[Option ID=10102]  
3[Option ID=10103]  
4[Option ID=10104]

SI. No.27  
QBID:1501027

Which Fallacy is committed in the following argument?

“Smooth Sailing is all that’s there to LIFE with ABC Insurance Policy.”

- (1) The Appeal to Emotion
- (2) The Appeal to Pity
- (3) The Appeal to Force
- (4) Irrelevant Conclusion

निम्नलिखित युक्ति में कौन-सा दोष व्याप्त है?

“ए बी सी बीमा पॉलिसी के साथ जीवन-यापन सुगम होता है”

- (1) भावना के लिए आग्रह
- (2) दया के लिए आग्रह
- (3) बल के लिए आग्रह
- (4) अप्रासंगिक निष्कर्ष

1[Option ID=10105]  
2[Option ID=10106]  
3[Option ID=10107]  
4[Option ID=10108]

SI. No.28  
QBID:1501028

Given below are two statements :

Statement I : To draw an analogy between two or more entities is to indicate one or more respects in which they are similar.

Statement II : Every analogical inference proceeds from the similarity of two or more things in one or more respects to the similarity of those things in some further respect.

In the light of the above statements, choose the most appropriate answer from the options given below:

- (1) Both Statement I and Statement II are correct
- (2) Both Statement I and Statement II are incorrect
- (3) Statement I is correct but Statement II is incorrect
- (4) Statement I is incorrect but Statement II is correct

नीचे दो कथन दिए गए हैं :

कथन (I) : दो या अधिक सत्ताओं के मध्य अनुरूपता को बनाना एक या अधिक पहलुओं में उनकी समानता की तरफ इंगित करता है।

कथन (II) : प्रत्येक सादृश्यमूलक अनुमान एक या उससे अधिक पहलुओं में दो या उससे अधिक वस्तुओं की समानता से उन वस्तुओं के किसी अतिरिक्त पहलू की समानता की ओर अग्रसर होता है।

उपरोक्त कथन के आलोक में, नीचे दिए गए विकल्पों में से सबसे उपयुक्त उत्तर का चयन कीजिए :

- (1) कथन I और II दोनों सही हैं।

- (2) कथन I और II दोनों गलत हैं ।  
(3) कथन I सही है, लेकिन कथन II गलत है ।  
(4) कथन I गलत है, लेकिन कथन II सही है ।

1[Option ID=10109]  
2[Option ID=10110]  
3[Option ID=10111]  
4[Option ID=10112]

Sl. No.29  
QBID:1501029

Given below are two statements :

Statement I : For the Classical Indian thinkers, inference (anumāna) means only syllogistic inference.

Statement II : Unlike Aristotelian Syllogism, anumāna involves four steps instead of three.

In the light of the above statements, choose the correct answer from the options given below:

- (1) Both Statement I and Statement II are true  
(2) Both Statement I and Statement II are false  
(3) Statement I is true but Statement II is false  
(4) Statement I is false but Statement II is true

नीचे दो कथन दिए गए हैं :

कथन (I) : क्लासिकी भारतीय चिंतको के लिए अनुमान का अर्थ केवल न्यायबद्ध अनुमान से है ।

कथन (II) : अरस्तूवादी न्यायवाक्य से विपरीत अनुमान में तीन के बजाय चार चरण शामिल होते हैं ।

उपरोक्त कथन के आलोक में, नीचे दिए गए विकल्पों में से सही उत्तर का चयन कीजिए :

- (1) कथन I और II दोनों सत्य हैं ।  
(2) कथन I और II दोनों असत्य हैं ।  
(3) कथन I सत्य है, लेकिन कथन II असत्य है ।  
(4) कथन I असत्य है, लेकिन कथन II सत्य है ।

1[Option ID=10113]  
2[Option ID=10114]  
3[Option ID=10115]  
4[Option ID=10116]

Sl. No.30  
QBID:1501030

Which of the following means of knowledge involves positing of something for making any unit of cognition self-complete?

- (1) Comparison (Upamāna)  
(2) Postulation (Arthāpatti)  
(3) Non-Cognition (Anupalabdhi)  
(4) Verbal Testimony (Śabda)

ज्ञान के निम्नलिखित साधनों में से किस में बोध की कोई भी ईकाई की स्वपूर्णता निर्मित करने हेतु कुछ मान लेना शामिल होता है?

- (1)

उपमान

- (2) अर्थापत्ति
- (3) अनुपलब्धि
- (4) शब्द

1[Option ID=10117]  
2[Option ID=10118]  
3[Option ID=10119]  
4[Option ID=10120]

Sl. No.31  
QBID:1501031

With respect to data communication, which of the following statements is true about fibre optic cable?

- (1) Fibre optic cable carries data in pulses of light and is prone to interference.
- (2) Fibre optic cable carries data as electronic signals and is not prone to interference.
- (3) Fibre optic cable carries data as electronic signals and is prone to interference.
- (4) Fibre optic cable carries data in pulses of light and is not prone to interference.

डाटा (आँकड़ा) संचार के संदर्भ में, फाइबर ऑप्टिक केबल के बारे में निम्नलिखित में से कौन-सा कथन सही है?

- (1) फाइबर ऑप्टिक केबल प्रकाश स्पंद में आँकड़े ले जाता है और यह व्याघात उन्मुख है।
- (2) फाइबर ऑप्टिक केबल इलैक्ट्रॉनिक संकेतकों के रूप में आँकड़े ले जाता है और यह व्याघात उन्मुख है।
- (3) फाइबर ऑप्टिक केबल इलैक्ट्रॉनिक संकेतकों के रूप में आँकड़े ले जाता है और यह व्याघात उन्मुख है।
- (4) फाइबर ऑप्टिक केबल प्रकाश स्पंद में आँकड़े ले जाता है और यह व्याघात उन्मुख नहीं है।

1[Option ID=10121]  
2[Option ID=10122]  
3[Option ID=10123]  
4[Option ID=10124]

Sl. No.32  
QBID:1501032

Arrange the following computer memory types from fastest to slowest speed:

- (A) Hard Disk
- (B) Main Memory (RAM)
- (C) CD-ROM
- (D) CPU Registers
- (E) Cache Memory

Choose the correct answer from the options given below :

- (1) (D), (E), (A), (B), (C)
- (2) (A), (C), (B), (D), (E)
- (3) (E), (D), (B), (A), (C)
- (4) (D), (E), (B), (A), (C)

कंप्यूटर स्मृति के निम्नलिखित प्रकारों को तीव्रतम से मंदगति के क्रम में लिखिए :

- (A) हार्ड डिस्क
- (B) मुख्य स्मृति (आर ए एम)
- (C) सी डी - आर ओ एम
- (D) सी पी यू रजिस्टर
- (E) काशे स्मृति (काशे मेमोरी)

नीचे दिए गए विकल्पों में से सही उत्तर का चयन कीजिए :

- (1) (D), (E), (A), (B), (C)
- (2) (A), (C), (B), (D), (E)
- (3) (E), (D), (B), (A), (C)
- (4) (D), (E), (B), (A), (C)

1[Option ID=10125]  
2[Option ID=10126]  
3[Option ID=10127]  
4[Option ID=10128]

Sl. No.33  
QBID:1501033

Which of the following statements about malware are true?

- (A) A Trojan Horse is malware disguised as legitimate software.
- (B) A Virus inserts itself into another program. It runs and spreads itself when the program is opened.
- (C) A worm is similar to a virus except that it does not need a program in order to run. It spreads by itself.

Choose the correct answer from the options given below :

- (1) (A) and (B) only
- (2) (A) and (C) only
- (3) (B) and (C) only
- (4) (A), (B) and (C)

मालवेयर के संदर्भ में निम्नलिखित कथनों में से कौन सा कथन सही है?

- (A) ट्रोजन हॉर्स एक मालवेयर है जो वैध सॉफ्टवेयर के छद्मवेश में होता है।
- (B) वाइरस किसी दूसरे प्रोग्राम में स्वयं घुस जाता है। जब प्रोग्राम खोला जाता है तो यह इसमें चलने और फैलने लगता है।
- (C) कृमि एक वायरस के समान होता है। इसमें अंतर सिर्फ यह होता है कि इसको चलने के लिए प्रोग्राम की आवश्यकता नहीं होती। यह स्वयं फैलता है।

नीचे दिए गए विकल्पों में से सही उत्तर का चयन कीजिए :

- (1) केवल (A) और (B)
- (2) केवल (A) और (C)
- (3) केवल (B) और (C)
- (4) केवल (A), (B) और (C)

1[Option ID=10129]  
2[Option ID=10130]  
3[Option ID=10131]  
4[Option ID=10132]

Sl. No.34  
QBID:1501034

Match List I with List II

List I (File)	List II (File Format)
(A) Video	(I) .xlsx
(B) Podcast	(II) .jpg
(C) Photograph	(III) .mp4
(D) Spreadsheet	(IV) .mp3

Choose the correct answer from the options given below :

- (1) (A)-(III), (B)-(II), (C)-(IV), (D)-(I)
- (2) (A)-(II), (B)-(IV), (C)-(III), (D)-(I)
- (3) (A)-(III), (B)-(IV), (C)-(II), (D)-(I)
- (4) (A)-(I), (B)-(IV), (C)-(II), (D)-(III)

सूची-I के साथ सूची-II का मिलान कीजिए :

सूची-I फाइल	सूची-II फाइल फॉर्मेट
(A) वीडियो	(I) .एक्सएलएसएक्स
(B) पॉडकास्ट	(II) .जेपीजी
(C) फोटोग्राफ	(III) .एमपी4
(D) स्प्रेडशीट	(IV) .एमपी3

नीचे दिए गए विकल्पों में से सही उत्तर का चयन कीजिए :

- (1) (A)-(III), (B)-(II), (C)-(IV), (D)-(I)
- (2) (A)-(II), (B)-(IV), (C)-(III), (D)-(I)
- (3) (A)-(III), (B)-(IV), (C)-(II), (D)-(I)
- (4) (A)-(I), (B)-(IV), (C)-(II), (D)-(III)

1[Option ID=10133]  
2[Option ID=10134]  
3[Option ID=10135]  
4[Option ID=10136]

Sl. No.35  
QBID:1501035

In the following spreadsheet, which of the formulae below would be best for cell C2? Note that the formula must be able to be copied down from C2 to both C3 and C4.

	A	B	C
1	Lunch Cost (Rs.)	Dinner Cost (Rs.)	Total Cost (Rs.)
2	15	27	42
3	23	35	58
4	10	35	45

- (1) = A\$2 + \$B2
- (2) = \$A\$2 + B2
- (3) = \$A\$2 + \$B\$2
- (4) = \$A2 + \$B2

निम्नलिखित विस्तार शीट (स्प्रेडशीट) में, निम्नलिखित में कौन-सा सूत्र (फॉर्मूला) सेल सी 2 के लिए सर्वोत्तम रहेगा ? नोट करें कि फॉर्मूला, सी 2 से सी 3 और सी 4 दोनों में कॉपी हो सके।

	ए	बी	सी
1	मध्यान्ह भोजन लागत (रु.)	रात्रि भोजन लागत (रु.)	कुल लागत (रु.)
2	15	27	42
3	23	35	58
4	10	35	45

(1) = ए\$2 + \$बी\$2

(2) = \$ए\$2 + बी\$2

(3) = \$ए\$2 + \$बी\$2

(4) = \$ए2 + \$बी\$2

1[Option ID=10137]  
2[Option ID=10138]  
3[Option ID=10139]  
4[Option ID=10140]

Sl. No.36

QBID:1501036

Given below are two statements : One is labelled as Assertion (A) and the other is labelled as Reason (R) :

Assertion (A) : Soil Pollution due to detergents affects the root growth of the plants and depresses the growth of soil micro-organisms.

Reason (R) : Presence of detergents in soil makes the soil more acidic.

In the light of the above statements, choose the most appropriate answer from the options given below :

- (1) Both (A) and (R) are correct and (R) is the correct explanation of (A)
- (2) Both (A) and (R) are correct but (R) is NOT the correct explanation of (A)
- (3) (A) is correct but (R) is not correct
- (4) (A) is not correct but (R) is correct



नीचे दो कथन दिए गए हैं : एक अभिकथन (Assertion A) के रूप में लिखित है तो दूसरा उसके कारण (Reason R) के रूप में :

अभिकथन (A) : अपमार्जकों (डिटर्जेंट) के कारण हुए मृदा प्रदूषण से पौधों के मूल विकास पर प्रभाव पड़ता है और मृदा की सूक्ष्म जीवों के विकास को भी कम कर देता है।

कारण (R) : मृदा में डिटर्जेंट की उपस्थिति मृदा को अधिक अम्लीय बना देता है।

उपरोक्त कथन के आलोक में, नीचे दिए गए विकल्पों में से सबसे उपयुक्त उत्तर का चयन कीजिए :

- (1) (A) और (R) दोनों सही हैं और (R), (A) की सही व्याख्या है।
- (2) (A) और (R) दोनों सही हैं, लेकिन (R), (A) की सही व्याख्या नहीं है।
- (3) (A) सही है, लेकिन (R) सही नहीं है।
- (4) (A) सही नहीं है, लेकिन (R) सही है।

1[Option ID=10141]  
2[Option ID=10142]  
3[Option ID=10143]  
4[Option ID=10144]

Sl. No.37  
QBID:1501037

Examples of Persistent Organic Pollutants (POPs) are:

- (A) Dioxins
- (B) PAN
- (C) VOC
- (D) FURANS
- (E) PCB

Choose the correct answer from the options given below :

- (1) (A), (D), (E) only
- (2) (A), (B), (D) only
- (3) (B), (C), (E) only
- (4) (C), (D), (E) only

सतत जैव प्रदूषकों (POPs) के उदाहरण हैं :

- (A) डायोक्सिन्स
- (B) पीएन (PAN)
- (C) वी ओ सी (VOC)
- (D) फ्यूरांस
- (E) पी सी बी

नीचे दिए गए विकल्पों में से सही उत्तर का चयन कीजिए :

- (1) केवल (A), (D), (E)
- (2) केवल (A), (B), (D)
- (3) केवल (B), (C), (E)
- (4) केवल (C), (D), (E)

1[Option ID=10145]  
2[Option ID=10146]  
3[Option ID=10147]  
4[Option ID=10148]

Sl. No.38  
QBID:1501038

In the first commitment period of Kyoto Protocol, how many green house gases were covered for reducing their emissions?

- (1) 4
- (2) 5
- (3) 6
- (4) 7

क्योटो प्रोटोकॉल की प्रथम प्रतिबद्धता अवधि में कितने ग्रीन हाउस गैसों के उत्सर्जन को कम करने के लिए आवरित किया गया था ?

- (1) 4
- (2) 5
- (3) 6
- (4) 7

1[Option ID=10149]  
2[Option ID=10150]  
3[Option ID=10151]  
4[Option ID=10152]

Sl. No.39  
QBID:1501039

Given below are two statements : One is labelled as Assertion (A) and the other is labelled as Reason (R) :

Assertion (A) : Green hydrogen production will be critical for world community to achieve carbon neutrality by the year 2050.

Reason (R) : The energy content of hydrogen gas is much higher than that of coal.

In the light of the above statements, choose the correct answer from the options given below :

- (1) Both (A) and (R) are true and (R) is the correct explanation of (A)
- (2) Both (A) and (R) are true but (R) is NOT the correct explanation of (A)
- (3) (A) is true but (R) is false
- (4) (A) is false but (R) is true

नीचे दो कथन दिए गए हैं : एक अभिकथन (Assertion A) के रूप में लिखित है तो दूसरा उसके कारण (Reason R) के रूप में :

अभिकथन (A) : विश्व समुदाय के लिए 2050 तक कार्बन निरपेक्षता प्राप्त करने हेतु हरित हाइड्रोजन का उत्पादन निर्णायक होगा।

कारण (R) : हाइड्रोजन गैस की ऊर्जा मात्रा कोयले की अपेक्षा बहुत अधिक होती है।

उपरोक्त कथन के आलोक में, नीचे दिए गए विकल्पों में से सही उत्तर का चयन कीजिए :

- (1) (A) और (R) दोनों सत्य हैं और (R), (A) की सही व्याख्या है।
- (2) (A) और (R) दोनों सत्य हैं, लेकिन (R), (A) की सही व्याख्या नहीं है।
- (3) (A) सत्य है, लेकिन (R) असत्य नहीं है।
- (4) (A) असत्य है, लेकिन (R) सत्य है।

1[Option ID=10153]  
2[Option ID=10154]  
3[Option ID=10155]  
4[Option ID=10156]

SI. No.40  
QBID:1501040

Since the start of industrial revolution, the acidity of ocean's surface water has

- (1) increased by ~10%
- (2) remained constant
- (3) decreased by ~25%
- (4) increased by ~30%

औद्योगिक क्रांति की शुरुआत से समुद्र के सतही जल की अम्लता-

- (1) ~10% बढ़ गयी है
- (2) यथावत है
- (3) ~25% कम हो गयी है
- (4)

~30% बढ़ गयी है

- 1[Option ID=10157]  
2[Option ID=10158]  
3[Option ID=10159]  
4[Option ID=10160]

SI. No.41  
QBID:1501041

A Government University with Institute of Eminence status can have foreign faculty upto a maximum of

- (1) 20% of total faculty strength  
(2) 25% of total faculty strength  
(3) 30% of total faculty strength  
(4) 35% of total faculty strength

लब्ध प्रतिष्ठित संस्थान की स्थिति प्राप्त शासकीय विश्वविद्यालय में अधिकतम कितने विदेशी शिक्षक रखे जा सकते हैं?

- (1) कुल शिक्षकों की संख्या का 20%  
(2) कुल शिक्षकों की संख्या का 25%  
(3) कुल शिक्षकों की संख्या का 30%  
(4) कुल शिक्षकों की संख्या का 35%

- 1[Option ID=10161]  
2[Option ID=10162]  
3[Option ID=10163]  
4[Option ID=10164]

SI. No.42  
QBID:1501042

Credits earned by a student and stored in Academic Bank of Credit, after the date of earning such credits, will have validity upto a maximum of

- (1) 7 years  
(2) 10 years  
(3) 12 years  
(4) 15 years

किसी छात्र द्वारा अर्जित और अकादमिक क्रेडिट बैंक में जमा क्रेडिट, प्राप्त करने की तिथि के पश्चात, अधिकतम कब तक के लिये वैध होंगे?

- (1) 7 वर्षों के लिए  
(2) 10 वर्षों के लिए  
(3) 12 वर्षों के लिए  
(4) 15 वर्षों के लिए

- 1[Option ID=10165]  
2[Option ID=10166]  
3[Option ID=10167]  
4[Option ID=10168]

SI. No.43  
QBID:1501043

Identify the statutory bodies of a University:

- (A) Board of studies
- (B) Academic Council
- (C) Executive Council
- (D) Finance Committee
- (E) University Court

Choose the correct answer from the options given below :

- (1) (A), (B), (C), (D) only
- (2) (A), (C) only
- (3) (A), (C), (E) only
- (4) (B), (C), (D), (E) only

विश्वविद्यालय के सांविधिक निकायों को चिन्हित कीजिए :

- (A) अध्ययन मंडल
- (B) शैक्षिक परिषद
- (C) कार्यकारी परिषद
- (D) वित्त समिति
- (E) विश्वविद्यालय कोर्ट



नीचे दिए गए विकल्पों में से सही उत्तर का चयन कीजिए :

- (1) केवल (A), (B), (C), (D)
- (2) केवल (A), (C)
- (3) केवल (A), (C), (E)
- (4) केवल (B), (C), (D), (E)

1[Option ID=10169]  
2[Option ID=10170]  
3[Option ID=10171]  
4[Option ID=10172]

Sl. No.44  
QBID:1501044

Environmental education must be integral to all academic programmes as students need to be mainly sensitized about

- (1) its interdisciplinary and multidisciplinary nature
- (2) its emergence as a specialized field
- (3) relationship between culture and environment

(4) environmental degradation and its consequences for life on earth

पर्यावरणी शिक्षा आवश्यक रूप से सभी शैक्षिक कार्यक्रमों का अनिवार्य अंग होना चाहिए जिससे छात्रों को निम्न के बारे में मुख्यतः जागरूक बनाया जा सके:

- (1) इसकी अंतर्विषयी और बहुविषयी प्रकृति
- (2) इसका विशेष क्षेत्र के रूप में आविर्भाव
- (3) संस्कृति और पर्यावरण के मध्य संबंध
- (4) पर्यावरणी निम्नीकरण और पृथ्वी पर जीवन के लिए इसका परिणाम

1[Option ID=10173]  
2[Option ID=10174]  
3[Option ID=10175]  
4[Option ID=10176]

Sl. No.45  
QBID:1501045

'How could a lamp, which does not keep on burning, light another lamp?' This statement is from the book titled 'Siksha (learning). Who among the following is the author of this book?

- (1) Rabindranath Tagore
- (2) Sarvapalli Radhakrishnan
- (3) Jyoti Phule
- (4) Savitribai Phule

'कोई दीपक जब स्वयं नहीं जल रहा है, किसी अन्य दीपक को कैसे जला सकता है?' यह कथन शिक्षा (सीखना) शीर्षक पुस्तक से है। निम्नलिखित में से इस पुस्तक के लेखक कौन हैं?

- (1) रबीन्द्रनाथ टैगार
- (2) सर्वपल्ली राधाकृष्णन
- (3) ज्योतिबा फुले
- (4) सावित्री बाई फुले

1[Option ID=10177]  
2[Option ID=10178]  
3[Option ID=10179]  
4[Option ID=10180]

Sl. No.46  
QBID:1501046

Read the following passage and answer the questions :

An essential function of hegemony involves convincing people to support the existence of a social system that does not support them in return. Marginalised groups do not often protest or revolt against ideologies that overwhelmingly support privileged groups because, on some level, they consent to being dominated. This statement prompts an immediate question: Why would anyone consent to such an arrangement? While dominant ideologies may reflect the desires and interests of socially powerful groups, for these ideologies to remain dormant or hegemonic, they must also feature an additional promise. It is in the best interest of the marginalized groups to accept these beliefs as well. Put another way, members of socially powerful groups act to have their world view accepted as the universal way of thinking, and members outside these groups come to accept some of these ideologies because they appear beneficial in some way. This is referred to as a process of spontaneous consent because it is typically informal or unnoticed. The best way to understand the spontaneous consent of hegemony is through an example. A number of ideological components within a nation's higher education system may not be in the best interests of students. One dominant belief suggests that college students should pay for their own education. Despite being affected by the belief, they accept it, and the ideology survives. When such consent fails, however, the concept of hegemony also explains how dominant ideologies evolve to contain this failure through a process of flexible appropriation. In such a situation, it is likely that dominant cultural institutions will absorb any challenging beliefs, integrate them into the hegemonic matrix, and re-establish the previous norm. As a result, hegemonic systems never go away. They simply change form through a process of constant give and take between social group. Hegemonic ideological structures maintain control in part through the never-ending process of integration and appropriation of marginalised ideologies.

निम्नलिखित गद्यांश को पढ़ें और प्रश्न संख्या 46 से 50 तक के उत्तर दीजिए :

आधिपत्य के एक आवश्यक कार्य में एक सामाजिक व्यवस्था के अस्तित्व के प्रति समर्थन देने के लिए लोगों को आश्वस्त करना शामिल है, जो बदले में उनका समर्थन नहीं करती है। सीमांत समूह प्रायः उन विचारधाराओं का विरोध या उनके प्रति विद्रोह नहीं करते, जो विशेषाधिकार-प्राप्त समूहों का अत्याधिक समर्थन करती हैं, क्योंकि वे किसी स्तर पर आधिपत्य जमाने देने पर सहमत होने दे रहे होते हैं। इस कथन से तत्काल प्रश्न खड़ा होता है। कोई भी व्यक्ति क्यों इस प्रकार की व्यवस्था के प्रति सहमत होता है? जबकि वर्चस्वकारी विचारधाराएं सामाजिक रूप से शक्तिशाली समूहों की इच्छाओं और हितों को प्रतिबिंबित करती हैं, इन विचारधाराओं के प्रसुप्त या आधिपत्यवादी बने रहने के लिए उनमें एक अतिरिक्त वचन देने की विशेषता भी आवश्यक है। सीमांत समूहों का श्रेष्ठ हित इन धारणाओं को स्वीकार करने में भी है। अन्य तरीके से कहा जाए तो सामाजिक रूप से शक्तिशाली समूह उनके वैश्विक दृष्टिकोण को सार्वभौमिक चिंतन के तरीके के रूप में स्वीकार करने के लिए कार्य करते हैं और इन समूहों के बाहर के सदस्य इन विचारधाराओं को स्वीकार करने लगते हैं क्योंकि ये उन्हें किसी तरीके से लाभप्रद लगती हैं। इसे स्वतः स्फूर्त सहमति की एक प्रक्रिया के रूप में संदर्भित किया जाता है क्योंकि यह विशिष्ट रूप से अनौपचारिक है या उस पर ध्यान नहीं जाता। आधिपत्य के प्रति स्वतः स्फूर्त सहमति को एक उदाहरण के माध्यम से श्रेष्ठ तरीके से समझा जा सकता है। किसी देश की उच्च शिक्षा प्रणाली के भीतर अनेक वैचारिक घटक विद्यार्थियों के सर्वोत्तम हितों में नहीं हो सकते हैं। एक वर्चस्वकारी धारणा सुझाती है कि कॉलेज के विद्यार्थियों को अपनी स्वयं की शिक्षा का भुगतान करना चाहिए। इस धारणा से प्रभावित होने के बावजूद वे इसे स्वीकार कर लेते हैं और यह विचारधारा बनी रहती है। लेकिन, जब इस प्रकार की सहमति विफल हो जाती है तो आधिपत्य की अवधारणा स्पष्ट करती है कि किस प्रकार वर्चस्वकारी विचारधाराएं लचीले विनियोजन की प्रक्रिया के माध्यम से इस विफलता को रोकने के लिए विकसित होती हैं। इस तरह की स्थिति में यह संभावना है कि वर्चस्वकारी सांस्कृतिक संस्थाएं किसी चुनौतीपूर्ण धारणा को आत्मसात करेंगी उन्हें आधिपत्यवादी मैट्रिक्स में एकीकृत करेंगी और पूर्ववर्ती मानक को पुनः स्थापित करेंगी। परिणामस्वरूप आधिपत्यवादी प्रणालियाँ कभी भी लुप्त नहीं होतीं। वे सामाजिक समूहों के बीच निरंतर लेन-देन की प्रक्रिया के माध्यम से केवल रूप बदलती हैं। आधिपत्यवादी वैचारिक संरचनाएं आंशिक रूप से सीमांत विचारधाराओं के एकीकरण और विनियोजन की कभी भी न समाप्त होने वाली प्रक्रिया के माध्यम से नियंत्रण बनाए रखती हैं।

Despite hegemony, why marginalised people do not protest?

- (1) Because they are too weak.
- (2) They are not bothered being dominated.
- (3) Privileged groups forcefully suppress them.
- (4) Because of the promise that the dominant ideology is in their best interest.

सीमांत लोग आधिपत्य के बावजूद विरोध क्यों नहीं करते हैं?

- (1) क्योंकि वे अत्यधिक कमजोर हैं।
- (2)

उन्हें आधिपत्य में रहने के बारे में चिंता नहीं है।

(3) विशेषाधिकार-प्राप्त समूह बलपूर्वक उनका दमन करते हैं।

(4) इस वचन के कारण से कि वर्चस्वकारी विचार धारा उनके सर्वोत्तम हित में है।

- 1[Option ID=10181]  
2[Option ID=10182]  
3[Option ID=10183]  
4[Option ID=10184]

Sl. No.47  
QBID:1501047

Read the following passage and answer the questions :

An essential function of hegemony involves convincing people to support the existence of a social system that does not support them in return. Marginalised groups do not often protest or revolt against ideologies that overwhelmingly support privileged groups because, on some level, they consent to being dominated. This statement prompts an immediate question: Why would anyone consent to such an arrangement? While dominant ideologies may reflect the desires and interests of socially powerful groups, for these ideologies to remain dormant or hegemonic, they must also feature an additional promise. It is in the best interest of the marginalized groups to accept these beliefs as well. Put another way, members of socially powerful groups act to have their world view accepted as the universal way of thinking, and members outside these groups come to accept some of these ideologies because they appear beneficial in some way. This is referred to as a process of spontaneous consent because it is typically informal or unnoticed. The best way to understand the spontaneous consent of hegemony is through an example. A number of ideological components within a nation's higher education system may not be in the best interests of students. One dominant belief suggests that college students should pay for their own education. Despite being affected by the belief, they accept it, and the ideology survives. When such consent fails, however, the concept of hegemony also explains how dominant ideologies evolve to contain this failure through a process of flexible appropriation. In such a situation, it is likely that dominant cultural institutions will absorb any challenging beliefs, integrate them into the hegemonic matrix, and re-establish the previous norm. As a result, hegemonic systems never go away. They simply change form through a process of constant give and take between social group. Hegemonic ideological structures maintain control in part through the never-ending process of integration and appropriation of marginalised ideologies.

निम्नलिखित गद्यांश को पढ़ें और प्रश्न संख्या 46 से 50 तक के उत्तर दीजिए :

आधिपत्य के एक आवश्यक कार्य में एक सामाजिक व्यवस्था के अस्तित्व के प्रति समर्थन देने के लिए लोगों को आश्वस्त करना शामिल है, जो बदले में उनका समर्थन नहीं करती है। सीमांत समूह प्रायः उन विचारधाराओं का विरोध या उनके प्रति विद्रोह नहीं करते, जो विशेषाधिकार-प्राप्त समूहों का अत्याधिक समर्थन करती हैं, क्योंकि वे किसी स्तर पर आधिपत्य जमाने देने पर सहमत होने दे रहे होते हैं। इस कथन से तत्काल प्रश्न खड़ा होता है। कोई भी व्यक्ति क्यों इस प्रकार की व्यवस्था के प्रति सहमत होता है? जबकि वर्चस्वकारी विचारधाराएं सामाजिक रूप से शक्तिशाली समूहों की इच्छाओं और हितों को प्रतिबिंबित करती हैं, इन विचारधाराओं के प्रसुप्त या आधिपत्यवादी बने रहने के लिए उनमें एक अतिरिक्त वचन देने की विशेषता भी आवश्यक है। सीमांत समूहों का श्रेष्ठ हित इन धारणाओं को स्वीकार करने में भी है। अन्य तरीके से कहा जाए तो सामाजिक रूप से शक्तिशाली समूह उनके वैश्विक दृष्टिकोण को सार्वभौमिक चिंतन के तरीके के रूप में स्वीकार करने के लिए कार्य करते हैं और इन समूहों के बाहर के सदस्य इन विचारधाराओं को स्वीकार करने लगते हैं क्योंकि ये उन्हें किसी तरीके से लाभप्रद लगती हैं। इसे स्वतः स्फूर्त सहमति की एक प्रक्रिया के रूप में संदर्भित किया जाता है क्योंकि यह विशिष्ट रूप से अनौपचारिक है या उस पर ध्यान नहीं जाता। आधिपत्य के प्रति स्वतः स्फूर्त सहमति को एक उदाहरण के माध्यम से श्रेष्ठ तरीके से समझा जा सकता है। किसी देश की उच्च शिक्षा प्रणाली के भीतर अनेक वैचारिक घटक विद्यार्थियों के सर्वोत्तम हितों में नहीं हो सकते हैं। एक वर्चस्वकारी धारणा सुझाती है कि कॉलेज के विद्यार्थियों को अपनी स्वयं की शिक्षा का भुगतान करना चाहिए। इस धारणा से प्रभावित होने के बावजूद वे इसे स्वीकार कर लेते हैं और यह विचारधारा बनी रहती है। लेकिन, जब इस प्रकार की सहमति विफल हो जाती है तो आधिपत्य की अवधारणा स्पष्ट करती है कि किस प्रकार वर्चस्वकारी विचारधाराएं लचीले विनियोजन की प्रक्रिया के माध्यम से इस विफलता को रोकने के लिए विकसित होती हैं। इस तरह की स्थिति में यह संभावना है कि वर्चस्वकारी सांस्कृतिक संस्थाएं किसी चुनौतीपूर्ण धारणा को आत्मसात करेंगी उन्हें आधिपत्यवादी मैट्रिक्स में एकीकृत करेंगी और पूर्ववर्ती मानक को पुनः स्थापित करेंगी। परिणामस्वरूप आधिपत्यवादी प्रणालियाँ कभी भी लुप्त नहीं होतीं। वे सामाजिक समूहों के बीच निरंतर लेन-देन की प्रक्रिया के माध्यम से केवल रूप बदलती हैं। आधिपत्यवादी वैचारिक संरचनाएं आंशिक रूप से सीमांत विचारधाराओं के एकीकरण और विनियोजन की कभी भी न समाप्त होने वाली प्रक्रिया के माध्यम से नियंत्रण बनाए रखती हैं।

What is the acceptance of domination called?

(1)



Hegemony

- (2) Marginalisation
- (3) Spontaneous consent
- (4) Reflective desire

वर्चस्व की स्वीकार्यता को क्या कहा जाता है?

- (1) आधिपत्य
- (2) सीमांतीकरण
- (3) स्वतः स्फूर्त सहमति
- (4) प्रतिबिंबिक इच्छा

1[Option ID=10185]  
2[Option ID=10186]  
3[Option ID=10187]  
4[Option ID=10188]

Sl. No.48  
QBID:1501048



Read the following passage and answer the questions :

An essential function of hegemony involves convincing people to support the existence of a social system that does not support them in return. Marginalised groups do not often protest or revolt against ideologies that overwhelmingly support privileged groups because, on some level, they consent to being dominated. This statement prompts an immediate question: Why would anyone consent to such an arrangement? While dominant ideologies may reflect the desires and interests of socially powerful groups, for these ideologies to remain dormant or hegemonic, they must also feature an additional promise. It is in the best interest of the marginalized groups to accept these beliefs as well. Put another way, members of socially powerful groups act to have their world view accepted as the universal way of thinking, and members outside these groups come to accept some of these ideologies because they appear beneficial in some way. This is referred to as a process of spontaneous consent because it is typically informal or unnoticed. The best way to understand the spontaneous consent of hegemony is through an example. A number of ideological components within a nation's higher education system may not be in the best interests of students. One dominant belief suggests that college students should pay for their own education. Despite being affected by the belief, they accept it, and the ideology survives. When such consent fails, however, the concept of hegemony also explains how dominant ideologies evolve to contain this failure through a process of flexible appropriation. In such a situation, it is likely that dominant cultural institutions will absorb any challenging beliefs, integrate them into the hegemonic matrix, and re-establish the previous norm. As a result, hegemonic systems never go away. They simply change form through a process of constant give and take between social group. Hegemonic ideological structures maintain control in part through the never-ending process of integration and appropriation of marginalised ideologies.

निम्नलिखित गद्यांश को पढ़ें और प्रश्न संख्या 46 से 50 तक के उत्तर दीजिए :

आधिपत्य के एक आवश्यक कार्य में एक सामाजिक व्यवस्था के अस्तित्व के प्रति समर्थन देने के लिए लोगों को आश्वस्त करना शामिल है, जो बदले में उनका समर्थन नहीं करती है। सीमांत समूह प्रायः उन विचारधाराओं का विरोध या उनके प्रति विद्रोह नहीं करते, जो विशेषाधिकार-प्राप्त समूहों का अत्याधिक समर्थन करती हैं, क्योंकि वे किसी स्तर पर आधिपत्य जमाने देने पर सहमत होने दे रहे होते हैं। इस कथन से तत्काल प्रश्न खड़ा होता है। कोई भी व्यक्ति क्यों इस प्रकार की व्यवस्था के प्रति सहमत होता है? जबकि वर्चस्वकारी विचारधाराएं सामाजिक रूप से शक्तिशाली समूहों की इच्छाओं और हितों को प्रतिबिंबित करती हैं, इन विचारधाराओं के प्रसुप्त या आधिपत्यवादी बने रहने के लिए उनमें एक अतिरिक्त वचन देने की विशेषता भी आवश्यक है। सीमांत समूहों का श्रेष्ठ हित इन धारणाओं को स्वीकार करने में भी है। अन्य तरीके से कहा जाए तो सामाजिक रूप से शक्तिशाली समूह उनके वैश्विक दृष्टिकोण को सार्वभौमिक चिंतन के तरीके के रूप में स्वीकार करने के लिए कार्य करते हैं और इन समूहों के बाहर के सदस्य इन विचारधाराओं को स्वीकार करने लगते हैं क्योंकि ये उन्हें किसी तरीके से लाभप्रद लगती हैं। इसे स्वतः स्फूर्त सहमति की एक प्रक्रिया के रूप में संदर्भित किया जाता है क्योंकि यह विशिष्ट रूप से अनौपचारिक है या उस पर ध्यान नहीं जाता। आधिपत्य के प्रति स्वतः स्फूर्त सहमति को एक उदाहरण के माध्यम से श्रेष्ठ तरीके से समझा जा सकता है। किसी देश की उच्च शिक्षा प्रणाली के भीतर अनेक वैचारिक घटक विद्यार्थियों के सर्वोत्तम हितों में नहीं हो सकते हैं। एक वर्चस्वकारी धारणा सुझाती है कि कॉलेज के विद्यार्थियों को अपनी स्वयं की शिक्षा का भुगतान करना चाहिए। इस धारणा से प्रभावित होने के बावजूद वे इसे स्वीकार कर लेते हैं और यह विचारधारा बनी रहती है। लेकिन, जब इस प्रकार की सहमति विफल हो जाती है तो आधिपत्य की अवधारणा स्पष्ट करती है कि किस प्रकार वर्चस्वकारी विचारधाराएं लचीले विनियोजन की प्रक्रिया के माध्यम से इस विफलता को रोकने के लिए विकसित होती हैं। इस तरह की स्थिति में यह संभावना है कि वर्चस्वकारी सांस्कृतिक संस्थाएं किसी चुनौतीपूर्ण धारणा को आत्मसात करेंगी उन्हें आधिपत्यवादी मैट्रिक्स में एकीकृत करेंगी और पूर्ववर्ती मानक को पुनः स्थापित करेंगी। परिणामस्वरूप आधिपत्यवादी प्रणालियाँ कभी भी लुप्त नहीं होतीं। वे सामाजिक समूहों के बीच निरंतर लेन-देन की प्रक्रिया के माध्यम से केवल रूप बदलती हैं। आधिपत्यवादी वैचारिक संरचनाएं आंशिक रूप से सीमांत विचारधाराओं के एकीकरण और विनियोजन की कभी भी न समाप्त होने वाली प्रक्रिया के माध्यम से नियंत्रण बनाए रखती हैं।

The dominant ideology survives because of its

- (1) Social Power
- (2) Flexible appropriation
- (3) Beneficial features
- (4) Ideological components

वर्चस्वकारी विचारधारा किस कारण से बनी रहती है?

- (1) सामाजिक शक्ति
- (2)

(3) लाभप्रद विशेषताएं

(4) वैचारिक घटक

1[Option ID=10189]

2[Option ID=10190]

3[Option ID=10191]

4[Option ID=10192]

Sl. No.49

QBID:1501049

Read the following passage and answer the questions :

An essential function of hegemony involves convincing people to support the existence of a social system that does not support them in return. Marginalised groups do not often protest or revolt against ideologies that overwhelmingly support privileged groups because, on some level, they consent to being dominated. This statement prompts an immediate question: Why would anyone consent to such an arrangement? While dominant ideologies may reflect the desires and interests of socially powerful groups, for these ideologies to remain dormant or hegemonic, they must also feature an additional promise. It is in the best interest of the marginalized groups to accept these beliefs as well. Put another way, members of socially powerful groups act to have their world view accepted as the universal way of thinking, and members outside these groups come to accept some of these ideologies because they appear beneficial in some way. This is referred to as a process of spontaneous consent because it is typically informal or unnoticed. The best way to understand the spontaneous consent of hegemony is through an example. A number of ideological components within a nation's higher education system may not be in the best interests of students. One dominant belief suggests that college students should pay for their own education. Despite being affected by the belief, they accept it, and the ideology survives. When such consent fails, however, the concept of hegemony also explains how dominant ideologies evolve to contain this failure through a process of flexible appropriation. In such a situation, it is likely that dominant cultural institutions will absorb any challenging beliefs, integrate them into the hegemonic matrix, and re-establish the previous norm. As a result, hegemonic systems never go away. They simply change form through a process of constant give and take between social group. Hegemonic ideological structures maintain control in part through the never-ending process of integration and appropriation of marginalised ideologies.

निम्नलिखित गद्यांश को पढ़ें और प्रश्न संख्या 46 से 50 तक के उत्तर दीजिए :

आधिपत्य के एक आवश्यक कार्य में एक सामाजिक व्यवस्था के अस्तित्व के प्रति समर्थन देने के लिए लोगों को आश्वस्त करना शामिल है, जो बदले में उनका समर्थन नहीं करती है। सीमांत समूह प्रायः उन विचारधाराओं का विरोध या उनके प्रति विद्रोह नहीं करते, जो विशेषाधिकार-प्राप्त समूहों का अत्याधिक समर्थन करती हैं, क्योंकि वे किसी स्तर पर आधिपत्य जमाने देने पर सहमत होने दे रहे होते हैं। इस कथन से तत्काल प्रश्न खड़ा होता है। कोई भी व्यक्ति क्यों इस प्रकार की व्यवस्था के प्रति सहमत होता है? जबकि वर्चस्वकारी विचारधाराएं सामाजिक रूप से शक्तिशाली समूहों की इच्छाओं और हितों को प्रतिबिंबित करती हैं, इन विचारधाराओं के प्रसुप्त या आधिपत्यवादी बने रहने के लिए उनमें एक अतिरिक्त वचन देने की विशेषता भी आवश्यक है। सीमांत समूहों का श्रेष्ठ हित इन धारणाओं को स्वीकार करने में भी है। अन्य तरीके से कहा जाए तो सामाजिक रूप से शक्तिशाली समूह उनके वैश्विक दृष्टिकोण को सार्वभौमिक चिंतन के तरीके के रूप में स्वीकार करने के लिए कार्य करते हैं और इन समूहों के बाहर के सदस्य इन विचारधाराओं को स्वीकार करने लगते हैं क्योंकि ये उन्हें किसी तरीके से लाभप्रद लगती हैं। इसे स्वतः स्फूर्त सहमति की एक प्रक्रिया के रूप में संदर्भित किया जाता है क्योंकि यह विशिष्ट रूप से अनौपचारिक है या उस पर ध्यान नहीं जाता। आधिपत्य के प्रति स्वतः स्फूर्त सहमति को एक उदाहरण के माध्यम से श्रेष्ठ तरीके से समझा जा सकता है। किसी देश की उच्च शिक्षा प्रणाली के भीतर अनेक वैचारिक घटक विद्यार्थियों के सर्वोत्तम हितों में नहीं हो सकते हैं। एक वर्चस्वकारी धारणा सुझाती है कि कॉलेज के विद्यार्थियों को अपनी स्वयं की शिक्षा का भुगतान करना चाहिए। इस धारणा से प्रभावित होने के बावजूद वे इसे स्वीकार कर लेते हैं और यह विचारधारा बनी रहती है। लेकिन, जब इस प्रकार की सहमति विफल हो जाती है तो आधिपत्य की अवधारणा स्पष्ट करती है कि किस प्रकार वर्चस्वकारी विचारधाराएं लचीले विनियोजन की प्रक्रिया के माध्यम से इस विफलता को रोकने के लिए विकसित होती हैं। इस तरह की स्थिति में यह संभावना है कि वर्चस्वकारी सांस्कृतिक संस्थाएं किसी चुनौतीपूर्ण धारणा को आत्मसात करेंगी उन्हें आधिपत्यवादी मैट्रिक्स में एकीकृत करेंगी और पूर्ववर्ती मानक को पुनः स्थापित करेंगी। परिणामस्वरूप आधिपत्यवादी प्रणालियाँ कभी भी लुप्त नहीं होतीं। वे सामाजिक समूहों के बीच निरंतर लेन-देन की प्रक्रिया के माध्यम से केवल रूप बदलती हैं। आधिपत्यवादी वैचारिक संरचनाएं आंशिक रूप से सीमांत विचारधाराओं के एकीकरण और विनियोजन की कभी भी न समाप्त होने वाली प्रक्रिया के माध्यम से नियंत्रण बनाए रखती हैं।

The dominant cultural institutions have the power to

- (A) Absorb challenges
- (B) Maintain relations with social groups
- (C) Destroy opposition
- (D) Re-establish the previous norms

Choose the most appropriate answer from the options given below :

- (1) (A) and (B) only
- (2) (B), and (C) only
- (3) (C) and (D) only
- (4) (A) and (D) only

वर्चस्वकारी सांस्कृतिक संस्थाओं में क्या शक्ति होती है?


- (A) चुनौतियों को आत्मसात करना
- (B) सामाजिक समूहों के साथ संबंध बनाए रखना
- (C) विरोध को नष्ट करना
- (D) पूर्ववर्ती मानकों को पुनः स्थापित करना

सही विकल्प चुनिए :

- (1) केवल (A) और (B)
- (2) केवल (B) और (C)
- (3) केवल (C) और (D)
- (4) केवल (A) और (D)

- 1[Option ID=10193]
- 2[Option ID=10194]
- 3[Option ID=10195]
- 4[Option ID=10196]

Sl. No.50  
QBID:1501050



Read the following passage and answer the questions :

An essential function of hegemony involves convincing people to support the existence of a social system that does not support them in return. Marginalised groups do not often protest or revolt against ideologies that overwhelmingly support privileged groups because, on some level, they consent to being dominated. This statement prompts an immediate question: Why would anyone consent to such an arrangement? While dominant ideologies may reflect the desires and interests of socially powerful groups, for these ideologies to remain dormant or hegemonic, they must also feature an additional promise. It is in the best interest of the marginalized groups to accept these beliefs as well. Put another way, members of socially powerful groups act to have their world view accepted as the universal way of thinking, and members outside these groups come to accept some of these ideologies because they appear beneficial in some way. This is referred to as a process of spontaneous consent because it is typically informal or unnoticed. The best way to understand the spontaneous consent of hegemony is through an example. A number of ideological components within a nation's higher education system may not be in the best interests of students. One dominant belief suggests that college students should pay for their own education. Despite being affected by the belief, they accept it, and the ideology survives. When such consent fails, however, the concept of hegemony also explains how dominant ideologies evolve to contain this failure through a process of flexible appropriation. In such a situation, it is likely that dominant cultural institutions will absorb any challenging beliefs, integrate them into the hegemonic matrix, and re-establish the previous norm. As a result, hegemonic systems never go away. They simply change form through a process of constant give and take between social group. Hegemonic ideological structures maintain control in part through the never-ending process of integration and appropriation of marginalised ideologies.

निम्नलिखित गद्यांश को पढ़ें और प्रश्न संख्या 46 से 50 तक के उत्तर दीजिए :

आधिपत्य के एक आवश्यक कार्य में एक सामाजिक व्यवस्था के अस्तित्व के प्रति समर्थन देने के लिए लोगों को आश्वस्त करना शामिल है, जो बदले में उनका समर्थन नहीं करती है। सीमांत समूह प्रायः उन विचारधाराओं का विरोध या उनके प्रति विद्रोह नहीं करते, जो विशेषाधिकार-प्राप्त समूहों का अत्याधिक समर्थन करती हैं, क्योंकि वे किसी स्तर पर आधिपत्य जमाने देने पर सहमत होने दे रहे होते हैं। इस कथन से तत्काल प्रश्न खड़ा होता है। कोई भी व्यक्ति क्यों इस प्रकार की व्यवस्था के प्रति सहमत होता है? जबकि वर्चस्वकारी विचारधाराएं सामाजिक रूप से शक्तिशाली समूहों की इच्छाओं और हितों को प्रतिबिंबित करती हैं, इन विचारधाराओं के प्रसुप्त या आधिपत्यवादी बने रहने के लिए उनमें एक अतिरिक्त वचन देने की विशेषता भी आवश्यक है। सीमांत समूहों का श्रेष्ठ हित इन धारणाओं को स्वीकार करने में भी है। अन्य तरीके से कहा जाए तो सामाजिक रूप से शक्तिशाली समूह उनके वैश्विक दृष्टिकोण को सार्वभौमिक चिंतन के तरीके के रूप में स्वीकार करने के लिए कार्य करते हैं और इन समूहों के बाहर के सदस्य इन विचारधाराओं को स्वीकार करने लगते हैं क्योंकि ये उन्हें किसी तरीके से लाभप्रद लगती हैं। इसे स्वतः स्फूर्त सहमति की एक प्रक्रिया के रूप में संदर्भित किया जाता है क्योंकि यह विशिष्ट रूप से अनौपचारिक है या उस पर ध्यान नहीं जाता। आधिपत्य के प्रति स्वतः स्फूर्त सहमति को एक उदाहरण के माध्यम से श्रेष्ठ तरीके से समझा जा सकता है। किसी देश की उच्च शिक्षा प्रणाली के भीतर अनेक वैचारिक घटक विद्यार्थियों के सर्वोत्तम हितों में नहीं हो सकते हैं। एक वर्चस्वकारी धारणा सुझाती है कि कॉलेज के विद्यार्थियों को अपनी स्वयं की शिक्षा का भुगतान करना चाहिए। इस धारणा से प्रभावित होने के बावजूद वे इसे स्वीकार कर लेते हैं और यह विचारधारा बनी रहती है। लेकिन, जब इस प्रकार की सहमति विफल हो जाती है तो आधिपत्य की अवधारणा स्पष्ट करती है कि किस प्रकार वर्चस्वकारी विचारधाराएं लचीले विनियोजन की प्रक्रिया के माध्यम से इस विफलता को रोकने के लिए विकसित होती हैं। इस तरह की स्थिति में यह संभावना है कि वर्चस्वकारी सांस्कृतिक संस्थाएं किसी चुनौतीपूर्ण धारणा को आत्मसात करेंगी उन्हें आधिपत्यवादी मैट्रिक्स में एकीकृत करेंगी और पूर्ववर्ती मानक को पुनः स्थापित करेंगी। परिणामस्वरूप आधिपत्यवादी प्रणालियाँ कभी भी लुप्त नहीं होतीं। वे सामाजिक समूहों के बीच निरंतर लेन-देन की प्रक्रिया के माध्यम से केवल रूप बदलती हैं। आधिपत्यवादी वैचारिक संरचनाएं आंशिक रूप से सीमांत विचारधाराओं के एकीकरण और विनियोजन की कभी भी न समाप्त होने वाली प्रक्रिया के माध्यम से नियंत्रण बनाए रखती हैं।

The passage explains

- (1) The forced absorption of the marginalized into the mainstream
- (2) The establishment of the ideology of the marginalised
- (3) The defects of spontaneous consent
- (4) The survival of dominant ideology against the challenges

उपरोक्त गद्यांश क्या स्पष्ट करता है?

- (1) सीमांतीकृत का मुख्य धारा में बलात् आत्मसात करना
- (2) सीमांतीकृत की विचारधारा की स्थापना

- (3) स्वतः स्फूर्त सहमति के दोष  
(4) चुनौतियों के विरुद्ध वर्चस्वकारी विचारधारा का बने रहना

1[Option ID=10197]  
2[Option ID=10198]  
3[Option ID=10199]  
4[Option ID=10200]

SI. No.51  
QBID:811001

Attributable Risk is

- (1) Incidence amongst exposed minus incidence amongst unexposed  
(2) Incidence amongst unexposed minus incidence amongst exposed  
(3)  $\frac{\text{Incidence amongst exposed}}{\text{Incidence amongst unexposed}}$   
(4)  $\frac{\text{Incidence amongst unexposed}}{\text{Incidence amongst exposed}}$

आरोप्य जोखिम (एट्रिब्यूटेबल रिस्क) है :

- (1) संपर्क में आने से संक्रमण होने के मामलों की संख्या और संपर्क में आए बगैर संक्रमण होने के मामलों की संख्या का अन्तर।  
(2) संपर्क में आए बगैर संक्रमण होने के मामलों की संख्या और संपर्क में आने से संक्रमण होने के मामलों की संख्या का अन्तर।  
(3)  $\frac{\text{संपर्क में आने से संक्रमण होने के मामलों की संख्या}}{\text{संपर्क में आए बगैर संक्रमण होने के मामलों की संख्या}}$   
(4)  $\frac{\text{संपर्क में आए बगैर संक्रमण होने के मामलों की संख्या}}{\text{संपर्क में आने से संक्रमण होने के मामलों की संख्या}}$

1[Option ID=16801]  
2[Option ID=16802]  
3[Option ID=16803]  
4[Option ID=16804]

SI. No.52  
QBID:811002

The relation between the incidence and prevalence is

- (1) Prevalence is always higher than incidence  
(2) Incidence is always higher than prevalence  
(3) Prevalence = Incidence  $\times$  duration  
(4) Incidence = Prevalence  $\times$  duration

इंसीडेंस और प्रवेलेंस के बीच संबंध है :

- (1) प्रवेलेंस हमेशा इंसीडेंस से अधिक होता है  
(2) इंसीडेंस हमेशा प्रवेलेंस से अधिक होता है  
(3) प्रवेलेंस = इंसीडेंस  $\times$  अवधि  
(4) इंसीडेंस = प्रवेलेंस  $\times$  अवधि

1[Option ID=16805]  
2[Option ID=16806]  
3[Option ID=16807]  
4[Option ID=16808]

SI. No.53  
QBID:811003

Population based approach to prevention includes the following EXCEPT

- (1) Widely applied to all populations  
(2) Screening of school children for visual acuity  
(3) Screening of school children for diabetes  
(4) Advocating healthy diet and exercise

रोगों की रोकथाम के लिए जनसंख्या आधारित दृष्टिकोण में निम्नलिखित में से क्या शामिल नहीं है?

- (1) सभी जन समूहों पर व्यापक रूप से लागू होता है।  
(2) स्कूली बच्चों में दृष्टि दोष की जांच करना।  
(3)

स्कूली बच्चों में डायबिटीज थी जांच करना।

- (4) पौष्टिक आहार और व्यायाम करनेवाली सलाह देना।

1[Option ID=16809]  
2[Option ID=16810]  
3[Option ID=16811]  
4[Option ID=16812]

Sl. No.54  
QBID:811004

Secondary prevention includes

- (1) Immunization  
(2) Reducing exposure to a risk factor  
(3) Screening for cancer  
(4) Rehabilitation for stroke.

द्वितीयक निवारण में शामिल है :

- (1) प्रतिरक्षण  
(2) जोखिम कारकों के संपर्क को कम करना  
(3) कैंसर हेतु छानबीन  
(4) आघात के लिए स्वास्थ्य लाभ

1[Option ID=16813]  
2[Option ID=16814]  
3[Option ID=16815]  
4[Option ID=16816]

Sl. No.55  
QBID:811005

In which type of epidemic logical study the epidemiologists starts by picking up cases who have already developed a particular disease?

- (1) Ecological study  
(2) Descriptive study  
(3) Case control study  
(4) Cohort study

महामरी के किस प्रकार में महामारी विशेषज्ञों द्वारा, पूर्व में जिन मरीजों में वह विकसित हो चुकी है, के चयन द्वारा तर्क संगत अध्ययन आरंभ किया जाता है?

- (1) पारिस्थितिक अध्ययन  
(2) वर्णनात्मक अध्ययन  
(3) रोग नियंत्रण (केस कंट्रोल) अध्ययन  
(4) कोहर्ट अध्ययन

1[Option ID=16817]  
2[Option ID=16818]  
3[Option ID=16819]  
4[Option ID=16820]

Sl. No.56  
QBID:811006

A particular blood test is 100% sensitive. The result is positive in an individual. What is your inference/action:

- (1) The person is suffering from the disease  
(2) The person is not suffering from the disease  
(3) The person may be suffering from the disease  
(4) You will start treatment for the disease

एक विशिष्ट रक्त परीक्षण 100% संवेदनशील है। उसका परिणाम किसी व्यक्ति में पुष्टिकारक (पोसिटिव) है। इस पर आपका अनुमान। कार्रवाई क्या है:

- (1) व्यक्ति रोग से ग्रसित है

- (2) व्यक्ति रोग से ग्रसित नहीं है  
(3) व्यक्ति रोग से ग्रसित हो सकता है  
(4) आप रोग का उपचार आरंभ करेंगे

1[Option ID=16821]  
2[Option ID=16822]  
3[Option ID=16823]  
4[Option ID=16824]

Sl. No.57  
QBID:811007

Which of the following is most affected by extreme values?

- (1) Mean  
(2) Mode  
(3) Median  
(4) Range

निम्नलिखित में से कौन सा चरम मानों में सर्वाधिक प्रभावी कौन सा है?

- (1) माध्य  
(2) बहुलक  
(3) माध्यिका  
(4) परास

1[Option ID=16825]  
2[Option ID=16826]  
3[Option ID=16827]  
4[Option ID=16828]

Sl. No.58  
QBID:811008

Secondary attack rate is highest for one of the following diseases:

- (1) Measles  
(2) Tuberculosis  
(3) Diphtheria  
(4) Whooping cough

निम्नलिखित रोगों में से किस में द्वितीयक प्रकोप (अटैक) दर

- (1) खसरा  
(2) यक्ष्मा (ट्यूबरकुलोसिस)  
(3) कंठरोग (डिफ्थीरिया)  
(4) कुकुर खाँसी (हूपिंग कफ)

1[Option ID=16829]  
2[Option ID=16830]  
3[Option ID=16831]  
4[Option ID=16832]

Sl. No.59  
QBID:811009

Which of the following diseases are not spread by sand fly?

- (1) Kala Azar  
(2) Oriental Sore  
(3) Scrub typhus  
(4) Sand fly fever

निम्नलिखित रोगों में से कौन सा सैंड फ्लाई द्वारा नहीं फैलता है :

- (1) काला आजार  
(2) ओरिएंटल सोर



(3) स्क्रब टाइफस

(4) सैंड फ्लाई

1[Option ID=16833]

2[Option ID=16834]

3[Option ID=16835]

4[Option ID=16836]

SI. No.60

QBID:811010

Under IDSP, data pertaining to epidemic prone diseases are collected on a weekly basis, which of the following forms is Not filled?

(1) "L" form

(2) "K" form

(3) "S" form

(4) "P" form

आई डी एस पी के अंतर्गत साप्ताहिक आधार पर महामारी संभावित रोगों से संबंधित आकड़े एकत्र किये जाते हैं। निम्नलिखित में से कौन सा फार्म नहीं भरा जाता है?

(1) 'एल' फार्म

(2) 'के' फार्म

(3) 'एस' फार्म

(4) 'पी' फार्म

1[Option ID=16837]

2[Option ID=16838]

3[Option ID=16839]

4[Option ID=16840]

SI. No.61

QBID:811011

Sampling method utilized for comparing weighted results in community survey

(1) Lot quality assurance sampling

(2) Judgement sampling

(3) Snowball sampling

(4) Purposive sampling

सामुदायिक सर्वेक्षण में भारित परिणामों की तुलना हेतु प्रति: (सैंपलिंग) पद्धति प्रयुक्त होती है:

(1) लॉट क्वालिटी आश्वासन प्रतिचयन

(2) मूल्यांकन विर्णय

(3) स्नोबॉल प्रतिचयन

(4) सोद्देश्य प्रतिचयन

1[Option ID=16841]

2[Option ID=16842]

3[Option ID=16843]

4[Option ID=16844]

SI. No.62

QBID:811012

Under Home based Neonatal care the number of home visits that the ASHA worker is expected to make within 6 weeks of institutional delivery is:

(1) 5

(2) 6

(3) 7

(4) 8

गृह आधारित नवजात देखभाल के अंतर्गत आशाकार्यकर्ता को सांस्थानिक प्रसव (अस्पताल में प्रसव) के 6 सप्ताह के भीतर कितनी बार घर का दौरा करने की अपेक्षा की जाती है:

- (1) 5
- (2) 6
- (3) 7
- (4) 8

1[Option ID=16845]  
2[Option ID=16846]  
3[Option ID=16847]  
4[Option ID=16848]

SI. No.63  
QBID:811013

The birth rate in a subcentre catchment area was 21 per thousand population in 2020. The total number of expected pregnancies in 2021 is approximately

- (1) 95
- (2) 105
- (3) 115
- (4) 125

किसी सीमाक्षेत्र के उपकेन्द्र में 2020 में प्रति हजार जनसँख्या पर जन्मदर 21 थी। 2021 में अनुमानित गर्भधारण की कुल संख्या लगभग कितनी है?

- (1) 95
- (2) 105
- (3) 115
- (4) 125

1[Option ID=16849]  
2[Option ID=16850]  
3[Option ID=16851]  
4[Option ID=16852]

SI. No.64  
QBID:811014

The 'best obstetric estimate' for assessment of gestational age includes which of the following:

- (1) Ultrasound
- (2) Last menstrual period (LMP) and ultrasound
- (3) LMP
- (4) Pelvic examination and ultrasound

गर्भावधि के आकलन के लिए 'सर्वोत्तम प्रासविक अनुमान' में निम्नलिखित में से कौन सा शामिल है:

- (1) अल्ट्रासाउंड
- (2) पिछले ऋतुस्राव की अवधि (एल एम पी) और अल्ट्रासाउंड
- (3) एल एम पी
- (4) पेल्विक जांच और अल्ट्रासाउंड

1[Option ID=16853]  
2[Option ID=16854]  
3[Option ID=16855]  
4[Option ID=16856]

SI. No.65  
QBID:811015

Which of the following is the correct site and time to collect blood sample required for neonatal hypothyroidism screening by measuring T4 and TSH:

- (1) Heel prick method within 7 days of birth
- (2) Heel prick method within 10 days of birth
- (3) Cord blood from newborn
- (4) Blood drawn from antecubital vein of the newborn

नवजात अवहु अल्पक्रियता (हाइपोथाइरॉइडिज्म) की जाँच, टी 4 और टी.एस.एच. नाप कर करने के लिए आवश्यक खून का नमूना इकट्ठा करने के लिए सही स्थान और समय निम्नलिखित में से कौन सा है?

- (1) जन्म के सात दिन के अन्दर, एड़ी में चुभाने की विधि
- (2) जन्म के दस दिन के अन्दर, एड़ी में चुभाने की विधि
- (3) नवजात से रज्जु रक्त (कॉर्ड ब्लड) लेना
- (4) नवजात के एन्टेक्यूबिटल नस से खून निकालना

1[Option ID=16857]  
2[Option ID=16858]  
3[Option ID=16859]  
4[Option ID=16860]

SI. No.66  
QBID:811016

Which of the following is the low dose oral contraceptive pill provided free by the Department of Family Welfare in India?

- (1) MALA N
- (2) ANTARA
- (3) TODAY
- (4) MALA D

भारत में परिवार कल्याण मंत्रालय द्वारा मुफ्त में उपलब्ध कराई जाने वाली मुँह से लेने वाली अल्प खुराक गर्भनिरोधक गोली निम्न में से कौन सी है?

- (1) माला एन
- (2) अंतरा
- (3) टुडे
- (4) माला डी

1[Option ID=16861]  
2[Option ID=16862]  
3[Option ID=16863]  
4[Option ID=16864]

SI. No.67  
QBID:811017

Which of the following periods is the best description of Demographic Bonus?

- (1) Dependency ratio declines because of decline in fertility until it starts to rise again due to increasing longevity.
- (2) Dependency ratio declines because of increased all age mortality until it starts to rise again due to increasing fertility.
- (3) Dependency ratio declines because of increased old age mortality until it starts to rise again due to increasing longevity.
- (4) Dependency ratio declines because of increased old age mortality until it starts to rise again due to increasing fertility.

‘जनसांख्यिकीय बोनस’ का सर्वोत्तम वर्णन निम्नलिखित में से किस अवधि में है?

- (1) प्रजनन दर में गिरावट के कारण निर्भरता-अनुपात में तब तक कमी आना जब तक वह दीर्घायुता में वृद्धि की वजह से दुबारा न बढ़ने लगे।
- (2) सभी आयु वर्गों में मृत्यु दर की बढ़ोतरी के कारण निर्भरता-अनुपात में तब तक कमी आना जब तक कि वह बढ़ती प्रजनन दर की वजह से दुबारा न बढ़ने लगे।
- (3) वृद्ध लोगों में मृत्यु दर की बढ़ोतरी के कारण निर्भरता-अनुपात में तब तक कमी आना जब तक कि वह दीर्घायुता में बढ़ोतरी के कारण दुबारा न बढ़ने लगे।
- (4) वृद्ध लोगों की मृत्यु-दर में वृद्धि के कारण निर्भरता-अनुपात में तब तक कमी आना जब तक कि वह प्रजनन दर में वृद्धि की वजह से दुबारा न बढ़ने लगे।

1[Option ID=16865]  
2[Option ID=16866]  
3[Option ID=16867]  
4[Option ID=16868]

SI. No.68  
QBID:811018

The Sustainable Development Goals (SDG's) have been given as part of the ‘X’ agenda for Sustainable Development, and most of them are set as goals and targets to be achieved by the year ‘X’. Identify the year ‘X’?

- (1)

2025

- (2) 2030
- (3) 2035
- (4) 2040

सतत विकास लक्ष्य सतत विकास के लिए 'X' एजेंडा के हिस्से के रूप में निर्धारित किए गए हैं और उनमें से अधिकांशतः वर्ष 'X' तक प्राप्त किए जाने वाले उद्देश्यों और लक्ष्यों के रूप में निर्धारित किए गए हैं। वर्ष 'X' को चिह्नित किजिए?

- (1) 2025
- (2) 2030
- (3) 2035
- (4) 2040

1[Option ID=16869]  
2[Option ID=16870]  
3[Option ID=16871]  
4[Option ID=16872]

Sl. No.69  
QBID:811019

All of the following are types of biological transmission of arthropod-borne diseases, except

- (1) Cycle-developmental
- (2) Cyclo-propogative
- (3) Developmental
- (4) Propogative

निम्नलिखित में से सभी किसे छोड़कर आर्थ्रोपॉड - जनित रोगों के जीवविज्ञानी संचरण के प्रकार हैं :

- (1) साइक्लो विकासात्मक
- (2) साइक्लो प्रोपोगेटिव
- (3) विकासात्मक
- (4) प्रोपोगेटिव

1[Option ID=16873]  
2[Option ID=16874]  
3[Option ID=16875]  
4[Option ID=16876]

Sl. No.70  
QBID:811020

The World Health Organization has defined 'X' as "the control of all those factors in man's physical environment which exercise or may exercise a deleterious effect on his physical development, health and survival".

- (1) Environmental sanitation
- (2) Environmental sustainability
- (3) Personal hygiene
- (4) Sustaibable development

विश्व स्वास्थ्य संगठन ने 'X' को "मनुष्य के भौतिक परिवेश में उन सभी कारकों के नियंत्रण जो उसके शारीरिक विकास, स्वास्थ्य और उत्तरजीविता पर हानिकारक प्रभाव डालता है, या डाल सकता है" के रूप में परिभाषित किया है।

'X' को निम्नलिखित में से किसके द्वारा अभिहित किया जाता है।

- (1) पर्यावरणीय स्वच्छता
- (2) पर्यावरणीय संधारणीयता
- (3) वैयक्तिक स्वास्थ्य
- (4) सतत विकास

1[Option ID=16877]

2[Option ID=16878]  
3[Option ID=16879]  
4[Option ID=16880]

Sl. No.71  
QBID:811021

The main sources of water include rain water, surface water and ground water. The surface water sources include all of the following, except?

- (1) Impounding reservoirs
- (2) Rivers and streams
- (3) Springs
- (4) Tanks, ponds and lakes

जल के प्रमुख स्रोतों में वर्षा का जल, सतही जल और भूजल शामिल है। सतही जल के स्रोतों में किसके अतिरिक्त निम्नलिखित में से सभी शामिल हैं?

- (1) अवरुद्ध जलाशय
- (2) नदी और जलधाराएं
- (3) झरने
- (4) तालाब, सरोवर और झील

1[Option ID=16881]  
2[Option ID=16882]  
3[Option ID=16883]  
4[Option ID=16884]

Sl. No.72  
QBID:811022

Which among the following can be regarded as the most important essential fatty acid?

- (1) Lauric acid
- (2) Oleic acid
- (3) Palmitic acid
- (4) Linoleic acid

निम्नलिखित में से किसे सर्वाधिक महत्वपूर्ण अत्यावश्यक फैटी अम्ल के रूप में जाना जाता है?

- (1) लॉरिक अम्ल
- (2) ओलिक अम्ल
- (3) पॉमिटिक अम्ल
- (4) लिनोलिक अम्ल

1[Option ID=16885]  
2[Option ID=16886]  
3[Option ID=16887]  
4[Option ID=16888]

Sl. No.73  
QBID:811023

Which among the following statistical methods is used in the calculation of Glycaemic index of a food?

- (1) Area undercurve
- (2) Inter quartile range
- (3) Receiver operator characteristic curve
- (4) Standard deviation

निम्नलिखित सांख्यिकीय विधियों में से किसका प्रयोग खाद्य में शर्करा रक्तता सूचकों के परिकलन में होता है :

- (1) वक्र के अंतर्गत क्षेत्र
- (2)

अन्तर चतुर्थक सीमा

(3) ग्राह्यकर्ता संचालित अभिलक्षण वक्र

(4) मानक विचालन

1[Option ID=16889]

2[Option ID=16890]

3[Option ID=16891]

4[Option ID=16892]

SI. No.74

QBID:811024

The director of tertiary care hospital usually utilizes which style of leadership?

(1) Directing

(2) Coaching

(3) Supporting

(4) Delegating

तृतीयक अनुरक्षण अस्पताल के निदेशक साभान्यता: किस प्रकार की नेतृत्व शैली का उपयोग करते हैं :

(1) निर्देश देना

(2) अनुशिक्षण

(3) समर्थन करना

(4) प्रतिनिधायन करना

1[Option ID=16893]

2[Option ID=16894]

3[Option ID=16895]

4[Option ID=16896]

SI. No.75

QBID:811025

Niti Aayog does all of the following except

(1) Making five year plan

(2) Collecting problems from rural and urban bodies

(3) Fostering cooperative federalism

(4) Developing 15 yr vision document

नीति आयोग निम्नलिखित में से सब कुछ करता है सिवाय इसके :

(1) पंचवर्षीय योजना बनाना

(2) ग्रामीण एवं नगरीय निकायों से समस्याओं को एकत्र करना

(3) सहकारी संघवाद को प्रोत्साहित करना

(4) 15 वर्षीय संदृश्य प्रलेख विकसित करना

1[Option ID=16897]

2[Option ID=16898]

3[Option ID=16899]

4[Option ID=16900]

SI. No.76

QBID:811026

The reported nurse population ratio per thousand population for the year 2018 in India

(1) 14

(2) 10

(3) 6

(4) 2

भारत में वर्ष 2018 के प्रति हजार जनसंख्या पर नियुक्त नर्सों का अनुपात है :

(1) 14

(2) 10

(3) 6

(4) 2

- 1[Option ID=16901]  
2[Option ID=16902]  
3[Option ID=16903]  
4[Option ID=16904]

SI. No.77  
QBID:811027

For control of rising lung cancer cases in a state, the Government Committee has to choose between strategies for a screening programme for lung cancer and a tobacco control programme. The most appropriate economic evaluation to compare two strategies is:

- (1) Cost Minimisation Analysis
- (2) Cost Effectiveness Analysis
- (3) Cost Utility Analysis
- (4) Cost Benefit Analysis

किसी राज्य में लंग कैंसर (lung cancer) के बढ़ते हुए मामलों के नियंत्रण के लिए सरकारी समिति को लंग कैंसर के स्क्रीनिंग कार्यक्रम तथा तम्बाकू नियंत्रण कार्यक्रम की रणनीतियों में से निर्धारण करने होंगे : दो रणनीतियों में से तुलनात्मक दृष्टि के यथोचित आर्थिक मूल्यांकन ये हैं :

- (1) लागत न्यूनीकरण विश्लेषण
- (2) लागत प्रभाव्यता विश्लेषण
- (3) लागत उपयोग्यता विश्लेषण
- (4) लागत लाभप्रवृत्ता विश्लेषण

- 1[Option ID=16905]  
2[Option ID=16906]  
3[Option ID=16907]  
4[Option ID=16908]

SI. No.78  
QBID:811028

Market value of all final goods of services produced in country, after depreciation, is expressed as

- (1) Gross Domestic Product at Market price
- (2) Gross National Product at Market price
- (3) Net National Product
- (4) Net Domestic Product

देश में उत्पादित प्रत्येक तैयार माल एवं सेवाओं के बाजार मूल्य को मूल्य ह्रास के पश्चात निम्नानुसार व्यक्त किया जाता है:

- (1) बाजार मूल्य पर सकल घरेलू उत्पाद
- (2) बाजार मूल्य पर सकल राष्ट्रीय उत्पाद
- (3) निवल राष्ट्रीय उत्पाद
- (4) निवल घरेलू उत्पाद

- 1[Option ID=16909]  
2[Option ID=16910]  
3[Option ID=16911]  
4[Option ID=16912]

SI. No.79  
QBID:811029

Under National Rural Health Mission, standards for health care delivery points that are followed are developed by

- (1) Indian Public Health Standards
- (2) NICE guidelines
- (3) National Accreditation Board for Hospitals and Health Care Providers
- (4) National Quality Assurance Standards

राष्ट्रीय ग्रामीण स्वास्थ्य मिशन के अंतर्गत जिन स्वास्थ्य सेवा वितरक बिन्दुओं का अनुसरण किया जाता है उनका निर्माण निम्नलिखित द्वारा किया गया है :

- (1) भारतीय जन स्वास्थ्य मानक

- (2) एन आई सी ई दिशानिर्देश
- (3) अस्पतालों एवं स्वास्थ्य सेवा प्रदाताओं के लिए राष्ट्रीय प्रत्यायन बोर्ड
- (4) राष्ट्रीय गुणवत्ता आश्वासन मानक

1[Option ID=16913]  
2[Option ID=16914]  
3[Option ID=16915]  
4[Option ID=16916]

Sl. No.80  
QBID:811030

Health research team approaches sarpanch, aanganwadi worker, school teachers in a village and prepares a rough map depicting public facilities and community resources. This process of spatial data gathering is most appropriately defined as:

- (1) Transact walk
- (2) Rapid rural appraisal
- (3) Participatory research
- (4) Focus group discussion

स्वास्थ्य शोध दल ग्राम में सरपंच, आंगनवाड़ी सेवक, अध्यापक से सम्पर्क करके जन सुविधाओं एवं सामुदायिक संसाधनों की प्रस्तुति का एक खाका तैयार करते हैं। स्थानिक डेटा एकत्र करने की इस प्रक्रिया को सही स्वरूप में निम्नानुसार परिभाषित किया गया है :

- (1) ट्रांसैक्ट वॉक (कार्य निष्पादन प्रक्रिया)
- (2) त्वरित ग्रामीण मूल्यांकन
- (3) सहभागिता अनुसंधान
- (4) ध्यानकेंद्रण समूह चर्चा

1[Option ID=16917]  
2[Option ID=16918]  
3[Option ID=16919]  
4[Option ID=16920]

Sl. No.81  
QBID:811031

Household Consumer Expenditure in the country is provided by

- (1) Sample Registration System
- (2) National Sample Survey
- (3) National Family Health Survey
- (4) District Level Household Surveys

देश में घरेलू उपभोक्त व्यय की उपलब्धि निम्नलिखित द्वारा की जाती है :

- (1) नमूना पंजीकरण प्रणाली
- (2) राष्ट्रीय नमूना सर्वेक्षण
- (3) राष्ट्रीय परिवार स्वास्थ्य सर्वेक्षण
- (4) जिला स्तरीय घरेलू सर्वेक्षण

1[Option ID=16921]  
2[Option ID=16922]  
3[Option ID=16923]  
4[Option ID=16924]

Sl. No.82  
QBID:811032

Who is generally called the Founder of occupational medicine?

- (1) Bernadino Ramazzini
- (2) Hippocrates
- (3) Andreas Versallus
- (4) John Graunt

सामान्य तौर पर व्यावृत्तिक औषधि के संस्थापक किसे कहा जाता है?

- (1)



बर्नाडिनो रमाज्जिनी

- (2) हिप्पोक्रेटस
- (3) एंड्रियाज वसेलस
- (4) जॉन ग्रांट

1[Option ID=16925]  
2[Option ID=16926]  
3[Option ID=16927]  
4[Option ID=16928]

Sl. No.83  
QBID:811033

Crude Birth Rate of a country X starts decreasing but Crude death rate is already low. Country lies in which stage of Demographic Cycle?

- (1) Late Expanding Stage
- (2) Early Expanding Stage
- (3) Low Stationary
- (4) High Stationary

किसी देश X की अशोधित जन्म दर घटनी शुरू हो गयी है, किन्तु अशोधित मृत्यु दर पहले से ही कम है। तो देश जनसंख्या विषयक चक्र की किस अवस्था में है?

- (1) उत्तर प्रसरणशील अवस्था
- (2) पूर्व प्रसरणशील अवस्था
- (3) निम्न स्थिरता
- (4) उच्च स्थिरता

1[Option ID=16929]  
2[Option ID=16930]  
3[Option ID=16931]  
4[Option ID=16932]

Sl. No.84  
QBID:811034

DALY is

- (1) Disease Adjusted Life Year
- (2) Disability Adjusted Life Year
- (3) Disease Associated Life Year
- (4) Disability Associated Life Year

डी ए एल वाई है:

- (1) डिजीज एडजस्टेड लाइफ ईयर
- (2) डिसेबिलिटी एडजस्टेड लाइफ ईयर
- (3) डिजीज एसोसिएटेड लाइफ ईयर
- (4) डिसेबिलिटी एसोसिएटेड लाइफ ईयर

1[Option ID=16933]  
2[Option ID=16934]  
3[Option ID=16935]  
4[Option ID=16936]

Sl. No.85  
QBID:811035

Silent Epidemic of the century as per World Health Organization is

- (1) Coronary Heart Disease
- (2) Stroke
- (3) Rheumatic Heart Disease
- (4) Alzheimer's Disease

विश्व स्वास्थ्य संगठन के अनुसार सदी का नीरव (साइलेंट) महामारी है :

- (1) परिद्ध हृदय रोग

- (2) आघात
- (3) आभवात (स्मैटी) हृदय रोग
- (4) अल्जाइमर रोग

1[Option ID=16937]  
2[Option ID=16938]  
3[Option ID=16939]  
4[Option ID=16940]

Sl. No.86  
QBID:811036

Which is the leading cause of global deaths due to injuries and violence?

- (1) Interpersonal violence
- (2) Road Traffic Accidents
- (3) Suicide
- (4) Poisoning

अभिघात एवं हिंसा के कारण वैश्विक मौतों का प्रमुख कारण कौन सा है ?

- (1) अंतरव्यैयक्तिक हिंसा
- (2) सड़क यातायात दुर्घटना
- (3) आत्महत्या
- (4) विषाक्तता

1[Option ID=16941]  
2[Option ID=16942]  
3[Option ID=16943]  
4[Option ID=16944]

Sl. No.87  
QBID:811037

Who first mooted the concept of multifactorial causation of disease?

- (1) Louis Pasteur
- (2) Robert Koch
- (3) Pettenkofer
- (4) Bruce

रोग के बहुघटकीय कार्योंत्पादन संकल्पना को सर्वप्रथम किसने प्रस्तुत किया ?

- (1) लुईस पाश्चर
- (2) राबर्ट कोच
- (3) पेटेन्कोफर
- (4) ब्रूस

1[Option ID=16945]  
2[Option ID=16946]  
3[Option ID=16947]  
4[Option ID=16948]

Sl. No.88  
QBID:811038

The major mortality rates influencing improved health outcome are

- (1) IMR, MMR, under five mortality rate
- (2) Crude death rate, age specific death rate, sex specific death rate
- (3) Proportional mortality rate, Infant mortality rate, Maternal mortality rate
- (4) Standardized rates, under five mortality rate

उन्नत स्वास्थ्य परिणाम से प्रभावित प्रमुख मृत्यु दरें हैं -

- (1) आई. एम. आर, एम.एम.आर, पाँच वर्ष के भीतर मृत्यु दर
- (2) अशोधित मृत्यु दर, आयु विशेष मृत्युदर, यौन विशेष मृत्यु दर
- (3) समानुपातिक मृत्यु दर, नवजात: शिशु मृत्युदर, मातृ मृत्यु दर
- (4) मानकीकृत दर, पाँच वर्ष के भीतर मृत्यु दर

1[Option ID=16949]

2[Option ID=16950]  
3[Option ID=16951]  
4[Option ID=16952]

SI. No.89  
QBID:811039

All of the following countries are members of the World Health Organization South East Asia Region, except

- (1) Bhutan
- (2) Myanmar
- (3) India
- (4) Pakistan

दक्षिण पूर्व एशिया क्षेत्र का निम्नलिखित में से कौन सा देश विश्व स्वास्थ्य संगठन का सदस्य नहीं है?

- (1) भूटान
- (2) म्यांमार
- (3) भारत
- (4) पाकिस्तान

1[Option ID=16953]  
2[Option ID=16954]  
3[Option ID=16955]  
4[Option ID=16956]

SI. No.90  
QBID:811040

The temperature in the Ice Lined Refrigerator (ILR) should be

- (1) Below  $-10^{\circ}\text{C}$
- (2) Between  $-4^{\circ}\text{C}$  to  $4^{\circ}\text{C}$
- (3) Between  $-2^{\circ}\text{C}$  to  $8^{\circ}\text{C}$
- (4) Between  $-2^{\circ}\text{C}$  to  $6^{\circ}\text{C}$

आइस लाइंड रेफ्रिजरेटर (आई एल आर) में तापमान कितना होना चाहिए ?

- (1)  $-10^{\circ}\text{C}$  से कम
- (2)  $-4^{\circ}\text{C}$  से  $4^{\circ}\text{C}$  तक
- (3)  $-2^{\circ}\text{C}$  से  $8^{\circ}\text{C}$  तक
- (4)  $-2^{\circ}\text{C}$  से  $6^{\circ}\text{C}$  तक

1[Option ID=16957]  
2[Option ID=16958]  
3[Option ID=16959]  
4[Option ID=16960]

SI. No.91  
QBID:811041

Following statements are observations from Health Financing Profile in India (2016), WHO:

- (A) About half the outpatient treatment is provided by private sector.
- (B) About 70% of total health expenditure is out of pocket expenditure.
- (C) Almost 70% of hospitalization related treatment in urban area is financed by borrowing and sale of assets.
- (D) Almost 60% of hospitalization related treatment in rural areas is financed by borrowing and sale of assets.

Choose the correct answer from the options given below :

- (1) About half the outpatient treatment is provided by private sector.
- (2) (A) and (D) only
- (3) (B) and (D) only
- (4) (B) and (C) only

विश्व स्वास्थ्य संगठन द्वारा भारत की स्वास्थ्य वित्तीय प्रोफाइल के संबंध में निम्नलिखित प्रेक्षण किया गया है?

- (A) लगभग आधि से भी अधिक बहिरंग उपचार (आउटपैशेंट) प्राइवेट सेक्टर द्वारा किया जाता है।
- (B) कुल स्वास्थ्य व्यय का लगभग 70% व्यय उपरी व्यय (आउट आफ पॉकेट) होता है।
- (C) शहरी क्षेत्रों में लगभग 70% से अधिक अस्पताल में उपचार के व्यय की पूर्ति ऋण प्राप्त करके अथवा सम्पति बेचकर की जाती है।
- (D) ग्रामीण क्षेत्रों में लगभग 60% अस्पताल में उपचार के व्यय की पूर्ति ऋण प्राप्त करके अथवा सम्पति बेचकर की जाती है।

नीचे दिए गए विकल्पों में से सही उत्तर का चयन कीजिए :

- (1) केवल (A) और (C)
- (2) केवल (A) और (D)
- (3) केवल (B) और (D)
- (4) केवल (B) और (C)

1[Option ID=16961]  
2[Option ID=16962]  
3[Option ID=16963]  
4[Option ID=16964]

Sl. No.92  
QBID:811042

The central purpose of antenatal care is to identify "high risk" cases. These cases comprise the following:

- (A) Elderly grand multipara.
- (B) Elderly primi (30 years and above)
- (C) Past history of tuberculosis
- (D) Prolonged pregnancy (even a single day beyond the expected date of delivery)

Choose the correct answer from the options given below :

- (1) (A) and (B) only
- (2) (B) and (C) only
- (3) (A) and (D) only
- (4) (B) and (D) only

प्रसव-पूर्व देखभाल का केन्द्रीय उद्देश्य "उच्च जोखिम वाले मामलों की पहचान करना है। इन मामलों में निम्नलिखित शामिल है।

- (A) अधिक उम्र में अधिक प्रसव (ग्रैंड मल्टीपैरा)
- (B) अधिक उम्र में (30 वर्ष या उससे अधिक) प्रथम प्रसव
- (C) क्षय रोग का पूर्व इतिहास
- (D) लम्बी गर्भवस्था (प्रसव की प्रत्याशित तारीख के बाद केवल एक दिन भी) अधिक

नीचे दिए गए विकल्पों में से सही उत्तर का चयन कीजिए :

- (1) केवल (A) और (B)
- (2) केवल (B) और (C)
- (3) केवल (A) और (D)
- (4) केवल (B) और (D)

1[Option ID=16965]  
2[Option ID=16966]  
3[Option ID=16967]  
4[Option ID=16968]

Sl. No.93  
QBID:811043

Hypocupremia – deficiency of copper in the body, can occur in which of the following?

- (A) Leukaemia
- (B) Nephrosis
- (C) Hyperthyroidism
- (D) Wilson's disease

Choose the correct answer from the options given below :

- (1) (A) and (B) only
- (2) (B) and (C) only

(3) (C) and (D) only

(4) (B) and (D) only

शरीर में हाइपोकुपरीमिया - ताँबे की अल्पता, निम्नलिखित में से किसमें हो सकती है?

- (A) लुकेमिया
- (B) नेफ्रोसिस
- (C) हाइपरथायरोइडिज्म
- (D) विल्सन'स रोग

नीचे दिए गए विकल्पों में से सही उत्तर का चयन कीजिए :

- (1) केवल (A) और (B)
- (2) केवल (B) और (C)
- (3) केवल (C) और (D)
- (4) केवल (B) और (D)

1[Option ID=16969]

2[Option ID=16970]

3[Option ID=16971]

4[Option ID=16972]

Sl. No.94

QBID:811044

Which of the following are correct about 'completed family size'?

- (A) Total number of children borne by a woman during her child bearing age (15-45 years)
- (B) Total number of girl children borne by a woman during her child bearing age (15-45 years)
- (C) Number of children borne by a woman in a given year.
- (D) Total Fertility Rate (TFR) gives an approximate magnitude of the completed family size.

Choose the correct answer from the options given below :

- (1) (A) and (D) only
- (2) (B) and (D) only
- (3) (A), (C) and (D) only
- (4) (A), (B) and (C) only

“पूर्ण कुटुम्ब आकार (कम्प्लीटेड फैमिली साइज)” के बारे में निम्नलिखित में से कौन-सा सही है?

- (A) किसी महिला द्वारा उसकी प्रजनन अवधि (15-45 वर्ष) के दौरान जन्म दिए गए बच्चों की कुल संख्या
- (B) किसी महिला द्वारा उसकी प्रजनन अवधि (15-45 वर्ष) के दौरान जन्म दी गई बालिकाओं की कुल संख्या
- (C) किसी दिए गए वर्ष में किसी महिला द्वारा जन्में गए बच्चों की संख्या
- (D) कुल जनन दर (टी एफ आर) पूर्ण कुटुम्ब आकार की समुचित संख्या बताती है।

नीचे दिए गए विकल्पों में से सही उत्तर का चयन कीजिए :

- (1) केवल (A) और (D)
- (2) केवल (B) और (D)
- (3) केवल (A), (C) और (D)
- (4) केवल (A), (B) और (C)

1[Option ID=16973]

2[Option ID=16974]

3[Option ID=16975]

4[Option ID=16976]

Sl. No.95

QBID:811045

Specific recommendations for individuals committee and public health officials to reduce burn risk are:

- (A) In chemical burns remove or dilute the chemical agent by irrigating with large volumes of water.
- (B) Prolonged cooling with water.
- (C) Application of ice.
- (D) Wrap the patient in clean cloth or sheet.

Choose the most appropriate answer from the options given below :

- (1) (A) and (B) only
- (2) (A) and (D) only
- (3) (B) and (C) only

(4) (C) and (D) only

दूध जोखिम (बर्न रिस्क) को कम करने के लिए वैयक्तिक समुदायों एवं सार्वजनिक स्वास्थ्य कर्मियों हेतु विशिष्ट अनुशंसाएँ हैं:

- (A) रासायनिक दाह में रासायनिक कारक को पानी की बहुत ज्यादा मात्रा के प्रयोग द्वारा हटाना।
- (B) जल द्वारा अधिक समय तक ठंडा रखना।
- (C) बर्फ का उपयोग करना
- (D) मरीज को साफ कपड़े अथवा चादर में लपेटना

नीचे दिए गए विकल्पों में से सबसे उपयुक्त उत्तर का चयन कीजिए :

- (1) केवल (A) और (B)
- (2) केवल (A) और (D)
- (3) केवल (B) और (C)
- (4) केवल (C) और (D)

1[Option ID=16977]

2[Option ID=16978]

3[Option ID=16979]

4[Option ID=16980]

Sl. No.96

QBID:811046

Which of the following are correct about antimicrobial resistance?

- (A) It is a new major public health problem only in developing countries.
- (B) Result of uncontrolled and inappropriate use of antibiotic drug.
- (C) It is making a growing number of infections virtually untreatable.
- (D) It has impact only on diseases such as tuberculosis but not on malaria, cholera.

Choose the most appropriate answer from the options given below :

- (1) (A) and (D) only
- (2) (A) and (B) only
- (3) (B) and (C) only
- (4) (C) and (D) only

निम्नलिखित में प्रतिरोगाणु प्रतिरोध के बारे में कौन से सही हैं?

- (A) यह केवल विकासशील देशों की एक नयी प्रमुख सार्वजनिक स्वास्थ्य समस्या है
- (B) एंटीबायोटिक औषधि के अनियंत्रित एवं अनुपयुक्त प्रयोग का परिणाम है
- (C) इसके कारण बढ़ते हुए संक्रमण का असल में उपचार नहीं हो पा रहा है।
- (D) इसका प्रभाव केवल यक्ष्मा (ट्यूबरकुलोसिस) जैसे रोगों पर होता है, लेकिन मलेरिया, कोलरा पर नहीं।

नीचे दिए गए विकल्पों में से सबसे उपयुक्त उत्तर का चयन कीजिए :

- (1) केवल (A) और (D)
- (2) केवल (A) और (B)
- (3) केवल (B) और (C)
- (4) केवल (C) और (D)

1[Option ID=16981]

2[Option ID=16982]

3[Option ID=16983]

4[Option ID=16984]

Sl. No.97

QBID:811047

Which among the following are parts of Physical Components of health?

- (A) Plant life
- (B) Radiation
- (C) Income
- (D) Housing

Choose the correct answer from the options given below :

- (1) (A) and (B) only
- (2) (B) and (C) only
- (3) (B) and (D) only

(4) (A) and (D) only

स्वास्थ्य के भौतिक घटकों के भागों में निम्नलिखित में से कौन-कौन से शामिल हैं ?

- (A) जीवत पौधे
- (B) विकिरण
- (C) आय
- (D) आवास

नीचे दिए गए विकल्पों में से सबसे उपयुक्त उत्तर का चयन कीजिए :

(1) केवल (A) और (B)

(2) केवल (B) और (C)

(3) केवल (B) और (D)

(4) केवल (A) और (D)

1[Option ID=16985]

2[Option ID=16986]

3[Option ID=16987]

4[Option ID=16988]

Sl. No.98

QBID:811048

In places where sea water is only source of water available, which two processes requiring heavy expenditure are needed to be done for using the sea water as a source of water?

- (A) De alkanization
- (B) Decolorization
- (C) Demineralization
- (D) Desalination

Choose the correct answer from the options given below :

(1) (A) and (B) only

(2) (B) and (C) only

(3) (A) and (D) only

(4) (C) and (D) only

ऐसे स्थानों में जहाँ समुद्री जल ही जल का एकमात्र उपलब्ध स्रोत होता है, समुद्री जल को जल के स्रोत में प्रयाग करने के लिए अत्यधिक खर्च वाली कौन-सी दो प्रक्रियाएँ करने की आवश्यकता होती है ?

- (A) डि-एल्केनाइजेशन
- (B) डि-कलराइजेशन
- (C) डि-मिनरलाइजेशन
- (D) डि-सेलिनेशन

नीचे दिए गए विकल्पों में से सही उत्तर का चयन कीजिए :

(1) केवल (A) और (B)

(2) केवल (B) और (C)

(3) केवल (A) और (D)

(4) केवल (C) और (D)

1[Option ID=16989]

2[Option ID=16990]

3[Option ID=16991]

4[Option ID=16992]

Sl. No.99

QBID:811049

A sanitary well is one which is properly located, well constructed and protected against contamination. The following points are taken into consideration while constructing sanitary wells:

- (A) The well should be located not less than 15 m (50 feet) from likely sources of contamination.
- (B) The lining of the well should be built of bricks or stones set in cement upto a depth of atleast 3m (10 feet)
- (C) A parapet wall upto a height of atleast, 15-20 cms (6 inches) above the ground.
- (D) A cement, concrete platform round the well extending atleast 1 m (3 feet) in all directions.

Choose the correct answer from the options given below :

(1) (A) and (B) only

(2) (A) and (C) only

(3) (B) and (D) only

(4) (C) and (D) only

सेनिटरी वेल वह होता है जो उचित ढंग से स्थित, सुनिर्मित और संदूषण से संरक्षित हो। सेनिटरी वेल में निर्माण के समय निम्नलिखित बातों का ध्यान रखा जाता है:

- (A) कुएं को संदूषण के संभावित स्रोत से 15 मीटर (50 फीट) से अधिक दूरी पर स्थित होना चाहिए।
  - (B) कुएं की मुंडेर कम से कम 3 मीटर (10 फीट) की गहराई तक ईटो या सीमेंट से जोड़े गए पत्थरों से निर्मित होनी चाहिए।
  - (C) चौहद्दी दीवार जमीन से ऊपर कम से कम 15-20 से.मी. (6 इंच) की ऊँचाई तक होनी चाहिए।
  - (D) एक सीमेंट-कंक्रीट चबूतरा सभी दिशाओं में कम से कम 1 मीटर (3 फीट) तक कुएं की चारों ओर होना चाहिए।
- नीचे दिए गए विकल्पों में से सही उत्तर का चयन कीजिए :

- (1) केवल (A) और (B)
- (2) केवल (A) और (C)
- (3) केवल (B) और (D)
- (4) केवल (C) और (D)

1[Option ID=16993]  
2[Option ID=16994]  
3[Option ID=16995]  
4[Option ID=16996]

Sl. No.100  
QBID:811050

Which of the two findings of whole blood which indicates impaired glucose tolerance according to WHO guidelines?

- (A) Fasting < 110 mg/100 ml
- (B) Fasting < 126 mg/100
- (C) pp  $\geq$  120 mg/100 ml but less than 180 mg/100 ml
- (D) pp  $\geq$  140 mg/100 ml but less than 180 mg/100 ml

Choose the correct answer from the options given below :

- (1) (A), (C) only
- (2) (A), (D) only
- (3) (B), (C) only
- (4) (B), (D) only

पूर्ण रक्त के कौन से दो जाँच-निष्कर्ष हैं जो डब्लू एच ओ दिशानिर्देशों के अनुसार (ग्लूकोज टॉलरेंस) के अल्प-स्तर को दर्शाता है :

- (A) फास्टिंग < 110 मि.ग्रा./100 मि.ली.
- (B) फास्टिंग < 126 मि.ग्रा./100
- (C) पीपी  $\geq$  120 मि.ग्रा./100 मि.ली परन्तु 180 मि.ग्रा./100 मि.ली से कम
- (D) पीपी  $\geq$  140 मि.ग्रा./100 मि.ली परन्तु 180 मि.ग्रा./100 मि.ली से कम

नीचे दिए गए विकल्पों में से सही उत्तर का चयन कीजिए :

- (1) केवल (A) और (C)
- (2) केवल (A) और (D)
- (3) केवल (B) और (C)
- (4) केवल (B) और (D)

1[Option ID=16997]  
2[Option ID=16998]  
3[Option ID=16999]  
4[Option ID=17000]

Sl. No.101  
QBID:811051

Which of the following statements about communicable diseases are true:

- (A) Specific single infection agent can be identified.
- (B) There is an inter action between the agent host and environment.
- (C) Life style plays a major role in the occurrence of communicable diseases.
- (D) Slowly evolving secular trend.

Choose the correct answer from the options given below :

- (1) (A), (B) only
- (2) (B), (C) only
- (3) (C), (D) only
- (4) (D), (A) only



संचारी रोगों के बारे में निम्नलिखित में से कौन-से कथन सही हैं?

- (A) विशिष्ट एकल संक्रमण एजेंट की पहचान की जा सकती है।
- (B) संक्रमण स्रोत (एजेंट होस्ट) और माहौल के बीच परस्पर क्रिया होती है।
- (C) संचारी रोगों की प्रस्तता में जीवन शैली-महत्वपूर्ण भूमिका निभाती है।
- (D) धीरे-धीरे बढ़ता हुआ दीर्घावधिक रुझान (सेकुलर ट्रेड)

नीचे दिए गए विकल्पों में से सबसे उपयुक्त उत्तर का चयन कीजिए :

- (1) केवल (A) और (B)
- (2) केवल (B) और (C)
- (3) केवल (C) और (D)
- (4) केवल (D) और (A)

1[Option ID=17001]  
2[Option ID=17002]  
3[Option ID=17003]  
4[Option ID=17004]

Sl. No.102  
QBID:811052

The chi square table is given below

df	Level of Significance (p value)			
	0.1	0.05	0.01	.001
1	2.71	3.84	6.64	10.83
2	4.61	5.99	9.21	13.82

There are 3 rows and 2 columns of items on which chi square test is applied:

- (A) At level of significance 0.05 the value should be  $\geq 3.84$ .
- (B) At level of significance 0.001 the value is  $\geq 13.82$ .
- (C) At level of significance the value is  $\geq 5.99$ .
- (D) At level of significance 0.1 the value should be  $\geq 2.7$ .

Choose the correct answer from the options given below :

- (1) (A), (B) only
- (2) (B), (C) only
- (3) (C), (D) only
- (4) (A), (D) only

नीचे कोई स्क्वायर तालिका दी गई है:

df	महत्व का स्तर तालिका दी गई है (पी मूल्य)			
	0.1	0.05	0.01	.001
1	2.71	3.84	6.64	10.83
2	4.61	5.99	9.21	13.82

मदों की ऐसी 3 लाइनें और 2 कॉलम हैं जिनपर कोई स्क्वायर परीक्षण लागू होता है।

- (A) महत्व के स्तर 0.05 पर, मूल्य  $\geq 3.84$  होना चाहिए।
- (B) महत्व के स्तर 0.001 पर, मूल्य  $\geq 13.82$  है।
- (C) महत्व के स्तर पर मूल्य  $\geq 5.99$  है।
- (D) महत्व के स्तर 0.1 पर, मूल्य  $\geq 2.7$  होना चाहिए।

नीचे दिए गए विकल्पों में से सही उत्तर का चयन कीजिए :

- (1) केवल (A), (B)
- (2) केवल (B), (C)
- (3) केवल (C), (D)
- (4) केवल (A), (D)

1[Option ID=17005]  
2[Option ID=17006]

3[Option ID=17007]  
4[Option ID=17008]

SI. No.103  
QBID:811053

If p value > 0.05 is more than 5% means:

- (A) We accept the null hypothesis.
- (B) The difference we have observed between the two sample is by chance.
- (C) The difference we have observed is real.
- (D) We do not reject the null hypothesis.

Choose the correct answer from the options given below :

- (1) (A), (B) only
- (2) (C), (D) only
- (3) (A), (C) only
- (4) (B), (D) only

यदि पी का मान > 0.05 अर्थात् 5% से अधिक है, तो इसका अर्थ है:

- (A) हम शून्य परिकल्पना को स्वीकार करते हैं
- (B) दो प्रतिदर्शों के बीच हमारे द्वारा देखा गया अंतर संयोगवश है
- (C) हमारे द्वारा देखा गया अंतर वास्तविक है
- (D) हम शून्य परिकल्पना को अस्वीकार नहीं करते हैं

नीचे दिए गए विकल्पों में से सही उत्तर का चयन कीजिए :

- (1) केवल (A), (B)
- (2) केवल (C), (D)
- (3) केवल (A), (C)
- (4) केवल (B), (D)

1[Option ID=17009]  
2[Option ID=17010]  
3[Option ID=17011]  
4[Option ID=17012]

SI. No.104  
QBID:811054

Deprivation index by Government of India (2008) uses following indicators:

- (A) Missing dinner atleast twice a week.
- (B) Children going for work.
- (C) Lack of access to electric connection.
- (D) Not owning bank/post office account.

Choose the correct answer from the options given below :

- (1) (A) and (B) only
- (2) (B) and (C) only
- (3) (A) and (C) only
- (4) (B) and (D) only

भारत सरकार वंचन सूचकांक (2008) में निम्नलिखित सूचकों का उपयोग किया गया है :

- (A) सप्ताह में कम से कम दो बार रात का भोजन न कर पाना
- (B) कामकाजी बच्चे
- (C) बिजली का कनेक्शन प्राप्त न कर पाना।
- (D) बैंक/डाक घर में कोई खाता न होना।

नीचे दिए गए विकल्पों में से सही उत्तर का चयन कीजिए :

- (1) केवल (A) और (B)
- (2) केवल (B) और (C)
- (3) केवल (A) और (C)
- (4) केवल (B) और (D)

1[Option ID=17013]  
2[Option ID=17014]

3[Option ID=17015]  
4[Option ID=17016]

Sl. No.105  
QBID:811055

'90 – 90 – 90' is mentioned with reference to following disease:

- (A) Tuberculosis
- (B) Hypertension
- (C) HIV
- (D) Cancer

Choose the correct answer from the options given below :

- (1) (A) and (B) only
- (2) (A) and (C) only
- (3) (B) and (C) only
- (4) (C) and (D) only

'90 – 90 – 90' का उल्लेख निम्नलिखित रोग के संबंध में किया जाता है

- (A) क्षय रोग
- (B) उच्च रक्तचाप
- (C) एच आई वी
- (D) कैंसर

नीचे दिए गए विकल्पों में से सबसे सही उत्तर का चयन कीजिए :

- (1) केवल (A) और (B)
- (2) केवल (A) और (C)
- (3) केवल (B) और (C)
- (4) केवल (C) और (D)

1[Option ID=17017]  
2[Option ID=17018]  
3[Option ID=17019]  
4[Option ID=17020]

Sl. No.106  
QBID:811056

Which of the following is the channel of transmission of communicable disease by indirect method?

- (A) By droplet nuclei
- (B) By droplet infection
- (C) Contact of skin on mucus membrane with the agent contained in inanimate environment
- (D) Through food or water

Choose the correct answer from the options given below :

- (1) (A), (B) only
- (2) (B), (C) only
- (3) (C), (D) only
- (4) (A), (D) only

निम्नलिखित में से कौन-से अप्रत्यक्ष पद्धति द्वारा संचारी रोग के प्रसार का माध्यम है :

- (A) ड्रॉपलेट न्यूक्लीआई द्वारा
- (B) ड्रॉपलेट संक्रमण द्वारा
- (C) म्यूकस मेम्ब्रेन पर त्वचा का संपर्क जिसमें एजेंट निर्जीव माहौल में अंतर्विष्ट होता है
- (D) भोजन या जल के माध्यम से

नीचे दिए गए विकल्पों में से सही उत्तर का चयन कीजिए :

- (1) केवल (A), (B)
- (2) केवल (B), (C)
- (3) केवल (C), (D)
- (4) केवल (A), (D)

1[Option ID=17021]  
2[Option ID=17022]  
3[Option ID=17023]  
4[Option ID=17024]

Sl. No.107  
QBID:811057

Which of the following statements about quarantine are true?

- (A) Done for persons who have some in contact with a diseased person or has passed through an endemic place.
- (B) Done for persons who have clinical (sign/symptom) or laboratory confirmation/suspicious of disease.
- (C) Done for a period which is equal to the maximum known period of communicability.
- (D) Done for a period which is equal to the maximum known incubation period to the disease.

Choose the most appropriate answer from the options given below :

- (1) (A), (C) only
- (2) (A), (D) only
- (3) (B), (C) only
- (4) (B), (D) only

संगरोध (क्वारेन्टाइन) के बारे में निम्न में से कौन सा वक्तव्य सही है ?

- (A) संगरोध में ऐसे व्यक्तियों को रखना जो किसी रोगी व्यक्ति के संपर्क में आए हों या किसी रोग-प्रभावित स्थान से गुजरे हों।
- (B) संगरोध में ऐसे व्यक्तियों को रखना जिनमें क्लिनिकीय (चिन्ह/लक्षण) हों या प्रयोगशाला ने बीमारी के बारे में संदेह/पुष्टि की हो।
- (C) ऐसी अवधि के लिए संगरोध करना जो संचारी रोग के लिए ज्ञात अधिकतम अवधि के बराबर हो।
- (D) ऐसी अवधि के लिए संगरोध करना जो रोग के अधिकतम ज्ञात उद्भवन काल के बराबर हो।

नीचे दिए गए विकल्पों में से सही उत्तर का चयन कीजिए :

- (1) केवल (A), (C)
- (2) केवल (A), (D)
- (3) केवल (B), (C)
- (4) केवल (B), (D)

1[Option ID=17025]  
2[Option ID=17026]  
3[Option ID=17027]  
4[Option ID=17028]

Sl. No.108  
QBID:811058

Which of the following statements are true for Societal Dependency Ratio:

- (A) Reflects need of society to provide for younger and older population groups.
- (B) Includes dependant women and children only.
- (C) It is also called 'Total dependancy ratio'.
- (D) Includes young age and old age dependency ratios.

Choose the correct answer from the options given below :

- (1) (B), (C), (D) only
- (2) (B), (C) only
- (3) (A), (C), (D) only
- (4) (C), (D) only

'सामाजिक निर्भरता अनुपात' के सम्बन्ध में निम्नलिखित में से कौन सा वक्तव्य सही है ?

- (A) समाज में युवा और वृद्ध जनसंख्या समूहों के भरण-पोषण संबंधी आवश्यकताओं को प्रतिबिम्बित करता है
- (B) सिर्फ निर्भर महिलाओं और बच्चों को शामिल करता है
- (C) इसका एक और नाम 'कुल निर्भरता अनुपात' भी है
- (D) उसमें युवा और वृद्ध आयु वर्गों के निर्भरता-अनुपात शामिल है

नीचे दिए गए विकल्पों में से सही उत्तर का चयन कीजिए :

- (1) केवल (B), (C), (D)
- (2) केवल (B), (C)
- (3) केवल (A), (C), (D)
- (4) केवल (C), (D)

1[Option ID=17029]  
2[Option ID=17030]  
3[Option ID=17031]  
4[Option ID=17032]

Sl. No.109  
QBID:811059

Kayakalp award scheme initiated by G01 to enhance excellence in patient care. Identify correct statements:

- (A) Initiated to address long waiting time and poor quality of healthcare.
- (B) Emphasis on white washing of building and distribution of uniform.
- (C) To award health facilities by citation and cash prize.
- (D) Monitored by National Accreditation Board of Hospitals.

Choose the correct answer from the options given below :

- (1) (A), (B) only
- (2) (A), (C) only
- (3) (C), (D) only
- (4) (A), (D) only

भारत-सरकार द्वारा रोगी-परिचर्या के क्षेत्र में उत्कृष्टता बढ़ाने के लिए शुरू की गई कायाकल्प पुरस्कार योजना के सन्दर्भ में सही वक्तव्य की पहचानी कीजिए।

- (A) लम्बे प्रतीक्षा-समय और स्वास्थ्य-सेवाओं की खराब गुणवत्ता की समस्या को हल करने के लिए शुरू की गई।
- (B) इमारतों की सफेदी कराने और वर्दी-वितरण पर जोर देती है।
- (C) स्वास्थ्य-सुविधाओं को प्रशस्ति-पत्र और नकद पुरस्कार देने के लिए।
- (D) योजना की निगरानी अस्पतालों के राष्ट्रीय प्रत्यायन बोर्ड द्वारा होती है।

नीचे दिए गए विकल्पों में से सही उत्तर का चयन कीजिए :

- (1) केवल (A), (B)
- (2) केवल (A), (C)
- (3) केवल (C), (D)
- (4) केवल (A), (D)

1[Option ID=17033]  
2[Option ID=17034]  
3[Option ID=17035]  
4[Option ID=17036]

Sl. No.110  
QBID:811060

Village Health Nutrition Sanitation Committee refers to following:

- (A) Seven member committee chaired by medical officer.
- (B) 15000/- rupees untied grant sanctioned per annum.
- (C) Flexible decentralized participatory planning.
- (D) Develop best practice based action plans.

Choose the correct answer from the options given below :

- (1) (A), (B) only
- (2) (B), (C) only
- (3) (C), (D) only
- (4) (A), (D) only

ग्राम स्वास्थ्य पोषण एवं स्वच्छता समिति का सम्बन्ध निम्न से है -

- (A) चिकित्सा-अधिकारी की अध्यक्षता में सात सदस्यीय समिति
- (B) प्रतिवर्ष पन्द्रह हजार रुपये का विमुक्त अनुदान
- (C) लचीला विकेंद्रित और सहभागी योजना निर्माण
- (D) पूर्व-विकसित प्रयोगों पर आधारित कार्य-योजनाएं

नीचे दिए गए विकल्पों में से सही उत्तर का चयन कीजिए :

- (1) केवल (A), (B)
- (2) केवल (B), (C)
- (3) केवल (C), (D)
- (4) केवल (A), (D)

1[Option ID=17037]  
2[Option ID=17038]  
3[Option ID=17039]  
4[Option ID=17040]

Sl. No.111  
QBID:811061

Following statements are observations from Health Financing Profile in India (2016), WHO:

- (A) Almost half the out patient treatment is provided by private sector.
- (B) About 80% of Private hospitals in country are in urban areas.
- (C) Private health services provide almost entirely only curative services.
- (D) Almost 70% of all hospitals in country are in Government sector.

Choose the correct answer from the options given below :

- (1) (A) and (B) only
- (2) (A) and (C) only
- (3) (B) and (C) only
- (4) (B) and (D) only

विश्व स्वास्थ्य संगठन द्वारा भारत की स्वास्थ्य वित्तीय प्रोफाइल के संबंध में निम्नलिखित प्रेक्षण किया गया है:

- (A) लगभग आधे से अधिक बहिरंग उपचार (आउटपेशेंट) प्राइवेट सेक्टर द्वारा किया जाता है।
- (B) देश में 80% से भी अधिक निजी अस्पताल शहरी क्षेत्र में हैं।
- (C) निजी स्वास्थ्य सेवाएं लगभग पूर्ण रूप से केवल उपचारात्मक सेवाएँ ही प्रदान करते हैं।
- (D) देश में लगभग 70% अस्पताल सरकारी क्षेत्र में हैं।

नीचे दिए गए विकल्पों में से सही उत्तर का चयन कीजिए :

- (1) केवल (A) और (B)
- (2) केवल (A) और (C)
- (3) केवल (B) और (C)
- (4) केवल (B) और (D)

- 1[Option ID=17041]
- 2[Option ID=17042]
- 3[Option ID=17043]
- 4[Option ID=17044]

Sl. No.112  
QBID:811062

Numerator in Global Hunger Index includes

- (A) Proportion of undernourished population
- (B) Proportion of underweight under five children
- (C) Proportion of low birth weight babies
- (D) Under five child mortality rate.

Choose the most appropriate answer from the options given below :

- (1) (A) and (B) only
- (2) (A), (B) and (C) only
- (3) (A), (B) and (D) only
- (4) (B), (C) and (D) only

वैश्विक भूख सूचकांक में निम्नलिखित शामिल हैं :

- (A) न्यून पोषित जनसंख्या का अनुपात
- (B) पांच वर्ष से कम आयु के कम वजन वाले बच्चों का अनुपात
- (C) जन्म पर कम वजन वाले शिशुओं का अनुपात
- (D) पांच वर्ष से कम आयु के बच्चों की मृत्यु दर

नीचे दिए गए विकल्पों में से सबसे उपयुक्त उत्तर का चयन कीजिए :

- (1) केवल (A) और (B)
- (2) केवल (A), (B) और (C)
- (3) केवल (A), (B) और (D)
- (4) केवल (B), (C) और (D)

- 1[Option ID=17045]
- 2[Option ID=17046]
- 3[Option ID=17047]
- 4[Option ID=17048]

Sl. No.113  
QBID:811063

The correct chronological order for legislations related to social security measures, from oldest to most recent is:

- (A) Employees State Insurance Act
- (B) Family Pension Scheme
- (C) Central Maternity Benefit Act
- (D) Workman's Compensation Act

Choose the correct answer from the options given below :

- (1) (A), (D), (C), (B)
- (2) (D), (A), (C), (B)
- (3) (D), (C), (A), (B)
- (4) (C), (D), (A), (B)

सामाजिक सुरक्षा उपायों से संबंधित विधि व्यवस्था का वर्णन कालक्रमानुसार सबसे पुराने से सबसे नए के सही क्रम में करें:

- (A) कर्मचारी राज्य बीमा अधिनियम
- (B) परिवार पेंशन योजना
- (C) केंद्रीय मातृत्व लाभ अधिनियम
- (D) कामगार मुआवजा अधिनियम

नीचे दिए गए विकल्पों में से सही उत्तर का चयन कीजिए :

- (1) (A), (D), (C), (B)
- (2) (D), (A), (C), (B)
- (3) (D), (C), (A), (B)
- (4) (C), (D), (A), (B)

1[Option ID=17049]

2[Option ID=17050]

3[Option ID=17051]

4[Option ID=17052]

Sl. No.114

QBID:811064

Arrange the following National Policies in chronological order from oldest to most recent one:

- (A) National Health Policy (latest).
- (B) National Population Policy.
- (C) National Policy for Children.
- (D) National Policy on Older Persons.

Choose the correct answer from the options given below :

- (1) (A), (B), (C), (D)
- (2) (B), (C), (D), (A)
- (3) (C), (D), (A), (B)
- (4) (D), (A), (B), (C)

निम्नलिखित राष्ट्रीय नीतियों को कालक्रमानुसार सबसे पुरानी से सबसे नई के क्रम में व्यवस्थित करें :

- (A) राष्ट्रीय स्वास्थ्य नीति (अधुनातन)
- (B) राष्ट्रीय जनसंख्या नीति
- (C) राष्ट्रीय बाल नीति
- (D) राष्ट्रीय वृद्धयजन नीति

नीचे दिए गए विकल्पों में से सही उत्तर का चयन कीजिए :

- (1) (A), (B), (C), (D)
- (2) (B), (C), (D), (A)
- (3) (C), (D), (A), (B)
- (4) (D), (A), (B), (C)

1[Option ID=17053]

2[Option ID=17054]

3[Option ID=17055]

4[Option ID=17056]

Sl. No.115

QBID:811065

The correct sequence for burden of disability in increasing order, in India (2016).

- (A) Blindness
- (B) Hearing Disability
- (C) Mentally Challenged
- (D) Orthopaedically Handicapped

Choose the correct answer from the options given below :

- (1) (A), (D), (C), (B)
- (2) (B), (C), (D), (A)
- (3) (C), (A), (B), (D)
- (4) (D), (C), (B), (A)

भारत (2016) में विकलांगता के भार का वृद्धि के क्रम में सही क्रम क्या है ?

- (A) अंधापन
- (B) श्रवण विकलांगता
- (C) मनोरोग
- (D) अस्थि विकलांग

नीचे दिए गए विकल्पों में से सही उत्तर का चयन कीजिए :

- (1) (A), (D), (C), (B)
- (2) (B), (C), (D), (A)
- (3) (C), (A), (B), (D)
- (4) (D), (C), (B), (A)



- 1[Option ID=17057]
- 2[Option ID=17058]
- 3[Option ID=17059]
- 4[Option ID=17060]

Sl. No.116  
QBID:811066

Match List I with List II :

- | List I                              | List II                       |
|-------------------------------------|-------------------------------|
| (A) Donovanosis                     | (I) Haemophilus ducreyi       |
| (B) Chancroid                       | (II) Chlamydi trachomatis     |
| (C) Syphilis                        | (III) Klebsiella granulomatis |
| (D) Lympho Granuloma Venereum (LGV) | (IV) Treponema palladium      |

Choose the correct answer from the options given below:

- (1) (A)-(I), (B)-(II), (C)-(IV), (D)-(III)
- (2) (A)-(I), (B)-(II), (C)-(III), (D)-(IV)
- (3) (A)-(II), (B)-(IV), (C)-(I), (D)-(III)
- (4) (A)-(I), (B)-(III), (C)-(IV), (D)-(II)



सूची I के साथ सूची II का मिलान कीजिए।

सूची I – अंतर्राष्ट्रीय व्यापार सिद्धांत

- (A) डोनोवानोसिस
- (B) शैकराइड
- (C) सिफलीस
- (D) लिंफोग्रेनुलोमा वेनीरियम (एल जी वी)

सूची II – प्रतिपादक

- (I) हेमोफीलस डुक्रियाई
- (II) क्लामाइडिया ट्रेकोमैटिस
- (III) क्लेबसिएला ग्रेनुलोमेटिस
- (IV) ट्रेपोनीमा पैलीडियम

दिए गए विकल्पों में से सही उत्तर का चयन कीजिए :

- (1) (A)-(I), (B)-(II), (C)-(IV), (D)-(III)
- (2) (A)-(I), (B)-(II), (C)-(III), (D)-(IV)
- (3) (A)-(II), (B)-(IV), (C)-(I), (D)-(III)
- (4) (A)-(I), (B)-(III), (C)-(IV), (D)-(II)

1[Option ID=17061]

2[Option ID=17062]

3[Option ID=17063]

4[Option ID=17064]

Sl. No.117

QBID:811067

Match List I with List II :

List I

- (A) Sandfly
- (B) Hard tick
- (C) Aedes mosquito
- (D) Rat flea

List II

- (I) Chikungunya fever
- (II) Endemic typhus
- (III) Oriental sore
- (IV) Tularemia

Choose the correct answer from the options given below:

- (1) (A)-(I), (B)-(II), (C)-(IV), (D)-(III)
- (2) (A)-(III), (B)-(IV), (C)-(I), (D)-(II)
- (3) (A)-(IV), (B)-(II), (C)-(I), (D)-(III)
- (4) (A)-(III), (B)-(I), (C)-(II), (D)-(IV)

सूची I के साथ सूची II का मिलान कीजिए।

सूची I

- (A) सैंड फ्लाय
- (B) हार्ड टिक
- (C) एडिस मच्छर
- (D) रैट फ्ली

सूची II

- (I) चिकनगुनिया ज्वर
- (II) एंडेमिक टाइफस
- (III) ओरिएंटल सोर
- (IV) तुलारेमिआ

दिए गए विकल्पों में से सही उत्तर का चयन कीजिए :

- (1) (A)-(I), (B)-(II), (C)-(IV), (D)-(III)
- (2) (A)-(III), (B)-(IV), (C)-(I), (D)-(II)
- (3) (A)-(IV), (B)-(II), (C)-(I), (D)-(III)
- (4) (A)-(III), (B)-(I), (C)-(II), (D)-(IV)

1[Option ID=17065]

2[Option ID=17066]

3[Option ID=17067]  
4[Option ID=17068]

Sl. No.118  
QBID:811068

Match List I with List II :

List I	List II
(A) Adult lifetime risk of maternal death	(I) Probability of dying from a maternal cause during a woman's reproductive lifespan.
(B) Maternal mortality ratio	(II) Number of maternal deaths in a given time period per 1,00,000 women of reproductive age during the same time period.
(C) Maternal mortality rate	(III) Number of maternal deaths in a given time period divided by the total deaths, among women aged 14-49 years.
(D) Proportion of maternal deaths of women of reproductive age group	(IV) Number of maternal deaths during a given time period per 1,00,000 live births during the same time period.

Choose the correct answer from the options given below:

- (1) (A)-(I), (B)-(II), (C)-(IV), (D)-(III)
- (2) (A)-(III), (B)-(I), (C)-(II), (D)-(IV)
- (3) (A)-(I), (B)-(IV), (C)-(II), (D)-(III)
- (4) (A)-(III), (B)-(IV), (C)-(I), (D)-(II)

सूची I के साथ सूची II का मिलान कीजिए।

सूची I	सूची II
(A) वयस्क, मातृत्व मृत्यु का जीवनभर जोखिम	(I) महिला के प्रजनन काल के दौरान मातृत्व के कारण मृत्यु की संभाव्यता
(B) मातृत्व मृत्यु अनुपात	(II) प्रजनन आयु की प्रति 1,00,000 महिलाओं में उसी अवधि के दौरान दी गई अवधि में मातृत्व मृत्यु की संख्या
(C) मातृत्व मृत्यु दर	(III) 15-49 वर्ष आयु वर्ग की महिलाओं के बीच किसी दी गई अवधि में कुल मृत्यु से विभाजित मातृत्व मृत्यु की संख्या
(D) प्रजनन आयु समूह की महिलाओं की मातृत्व मृत्यु का अनुपात	(IV) किसी दी गई अवधि में उसी समयावधि के दौरान प्रति 1,00,000 जीवित जन्मों में मातृत्व मृत्यु की संख्या

दिए गए विकल्पों में से सही उत्तर का चयन कीजिए :

- (1) (A)-(I), (B)-(II), (C)-(IV), (D)-(III)
- (2) (A)-(III), (B)-(I), (C)-(II), (D)-(IV)
- (3) (A)-(I), (B)-(IV), (C)-(II), (D)-(III)
- (4) (A)-(III), (B)-(IV), (C)-(I), (D)-(II)

1[Option ID=17069]  
2[Option ID=17070]  
3[Option ID=17071]  
4[Option ID=17072]

Sl. No.119  
QBID:811069

Match List I with List II :

List I	List II
(A) Shallow trench latrine	(I) Water-tight, masonry tank
(B) Septic tank	(II) Transportation in "night soil carts"
(C) Service type latrine	(III) Special equipment known as "auger" is required
(D) Bore hole latrine	(IV) Suitable for camps and temporary use

Choose the correct answer from the options given below:

- (1) (A)-(II), (B)-(III), (C)-(IV), (D)-(I)
- (2) (A)-(IV), (B)-(I), (C)-(II), (D)-(III)
- (3)

(A)-(III), (B)-(II), (C)-(I), (D)-(IV)

(4) (A)-(I), (B)-(IV), (C)-(III), (D)-(II)

सूची I के साथ सूची II का मिलान कीजिए।

सूची I – विष्णु निपटान की पद्धतें

सूची II – विशेषता

(A) शैलो टूँच लेट्रिन

(I) वाटर टाइट, मेसनरी टैंक

(B) सेप्टिक टैंक

(II) 'नाइट स्याइल कार्ट' में ट्रांसपोरटेशन

(C) सर्विस टाईप लेट्रिन

(III) "आउगर" नामक विशेष उपकरण की आवश्यकता

(D) बोर-होल लेट्रिन

(IV) शिविरों और अस्थायी प्रयोग के लिए उपयुक्त

नीचे दिये गये विकल्पों में से सही उत्तर का चयन कीजिए :

(1) (A)-(II), (B)-(III), (C)-(IV), (D)-(I)

(2) (A)-(IV), (B)-(I), (C)-(II), (D)-(III)

(3) (A)-(III), (B)-(II), (C)-(I), (D)-(IV)

(4) (A)-(I), (B)-(IV), (C)-(III), (D)-(II)

1[Option ID=17073]

2[Option ID=17074]

3[Option ID=17075]

4[Option ID=17076]

Sl. No.120  
QBID:811070

Match List I with List II :

List I

- (A) Hepato cellular carcinoma  
(B) Lung cancer  
(C) Gastric cancer  
(D) Bladder cancer

List II

- (I) Aflatoxin  
(II) H. Pylori  
(III) Schistosoma haematobium  
(IV) Silica

Choose the correct answer from the options given below:

(1) (A)-(II), (B)-(III), (C)-(I), (D)-(IV)

(2) (A)-(I), (B)-(IV), (C)-(II), (D)-(III)

(3) (A)-(III), (B)-(II), (C)-(IV), (D)-(I)

(4) (A)-(II), (B)-(IV), (C)-(I), (D)-(III)

सूची I के साथ सूची II का मिलान कीजिए।

सूची I

सूची II

(A) हेपैटो सेल्युलर कार्सिनोमा

(I) एफ्लाटोक्सिन

(B) फेफड़ों का कैंसर

(II) एच. पाइलोरॉई

(C) पेट का कैंसर

(III) सिस्टोसोमा हिमेटोबियम

(D) मूत्राशय (ब्लेडर) कैंसर

(IV) सिलिका

दिए गए विकल्पों में से सही उत्तर का चयन कीजिए :

(1) (A)-(II), (B)-(III), (C)-(I), (D)-(IV)

(2) (A)-(I), (B)-(IV), (C)-(II), (D)-(III)

(3) (A)-(III), (B)-(II), (C)-(IV), (D)-(I)

(4) (A)-(II), (B)-(IV), (C)-(I), (D)-(III)

1[Option ID=17077]  
2[Option ID=17078]  
3[Option ID=17079]  
4[Option ID=17080]

Sl. No.121  
QBID:811071

Match List I with List II :

List I – Social Security Schemes	List II – Funding Source
(A) Indira Gandhi National Old Age Pension Scheme	(I) Voluntary
(B) Old Age Pension	(II) Legislation based, employer funded
(C) Pradhan Mantri Suraksha Bima Yojana	(III) States/Local bodies
(D) Maternity Benefit (Amendment) Act 2017	(IV) Tax payer funded

Choose the correct answer from the options given below:

- (1) (A)-(III), (B)-(IV), (C)-(I), (D)-(II)  
(2) (A)-(IV), (B)-(III), (C)-(I), (D)-(II)  
(3) (A)-(I), (B)-(II), (C)-(III), (D)-(IV)  
(4) (A)-(II), (B)-(I), (C)-(IV), (D)-(III)

सूची I के साथ सूची II का मिलान कीजिए।

सूची I – सामाजिक सुरक्षा स्कीमें

- (A) इंदिरा गाँधी राष्ट्रीय वृद्धावस्था पेंशन स्कीम  
(B) वृद्धा वस्था पेंशन  
(C) प्रधान मंत्री सुरक्षा बीमा योजना  
(D) मातृत्व लाभ (संशोधन) अधिनियम, 2017

सूची II – वित्तपोषण का स्रोत

- (I) स्वैच्छिक  
(II) विधान आधारित नियोजक वित्तपोषित  
(III) राज्य/स्थानीय निकाय  
(IV) करदाताओं द्वारा वित्तपोषित

दिए गए विकल्पों में से सही उत्तर का चयन कीजिए :

- (1) (A)-(III), (B)-(IV), (C)-(I), (D)-(II)  
(2) (A)-(IV), (B)-(III), (C)-(I), (D)-(II)  
(3) (A)-(I), (B)-(II), (C)-(III), (D)-(IV)  
(4) (A)-(II), (B)-(I), (C)-(IV), (D)-(III)

1[Option ID=17081]  
2[Option ID=17082]  
3[Option ID=17083]  
4[Option ID=17084]

Sl. No.122  
QBID:811072

Match List I with List II :

List I	List II
(A) Autosomal Dominant Trait	(I) Vitamin D resistant rickets
(B) Autosomal Recessive Trait	(II) Retinoblastoma
(C) Recessive Sex linked Trait	(III) Phenylketonuria
(D) Dominant X linked Trait	(IV) Retinitis Pigmentosa

Choose the correct answer from the options given below:

- (1) (A)-(I), (B)-(IV), (C)-(III), (D)-(II)  
(2) (A)-(II), (B)-(III), (C)-(IV), (D)-(I)  
(3) (A)-(III), (B)-(II), (C)-(I), (D)-(IV)  
(4) (A)-(II), (B)-(IV), (C)-(III), (D)-(I)

सूची I के साथ सूची II का मिलान कीजिए।

सूची I

सूची II

- |                                |  |
|--------------------------------|--|
| (A) ऑटोसोमल प्रभावी विशेषक     | (I) विटामिन डी प्रतिरोधी रिकेट्स                   |
| (B) आटोसोमल अप्रभावी विशेषक    | (II) रेटिनोब्लास्टोमा                              |
| (C) अप्रभावी यौन संबद्ध विशेषक | (III) फेनिलकीटोनयूरिया                             |
| (D) प्रभावी X संबद्ध विशेषक    | (IV) दृष्टिपटलशोथ वर्णकित (रेटिनाइटिस पिगमेन्टोसा) |

दिए गए विकल्पों में से सही उत्तर का चयन कीजिए :

- (1) (A)-(I), (B)-(IV), (C)-(III), (D)-(II)  
(2) (A)-(II), (B)-(III), (C)-(IV), (D)-(I)  
(3) (A)-(III), (B)-(II), (C)-(I), (D)-(IV)  
(4) (A)-(II), (B)-(IV), (C)-(III), (D)-(I)

1[Option ID=17085]  
2[Option ID=17086]  
3[Option ID=17087]  
4[Option ID=17088]

Sl. No.123  
QBID:811073

Match List I with List II :

List I

- (A) Needles  
(B) Empty glass vials  
(C) Catheters  
(D) Human anatomical waste

List II

- (I) Red  
(II) Yellow  
(III) White  
(IV) Blue

Choose the correct answer from the options given below:

- (1) (A)-(I), (B)-(II), (C)-(III), (D)-(IV)  
(2) (A)-(III), (B)-(IV), (C)-(II), (D)-(I)  
(3) (A)-(IV), (B)-(III), (C)-(II), (D)-(I)  
(4) (A)-(III), (B)-(IV), (C)-(I), (D)-(II)

सूची I के साथ सूची II का मिलान कीजिए।

सूची I

सूची II

- |                          |            |
|--------------------------|------------|
| (A) सुईयां               | (I) लाल    |
| (B) काँच की खाली शीशी    | (II) पीला  |
| (C) नाल शलाका (केथेटर)   | (III) सफेद |
| (D) मानव शारीरिक अपशिष्ट | (IV) नीला  |

दिए गए विकल्पों में से सही उत्तर का चयन कीजिए :

- (1) (A)-(I), (B)-(II), (C)-(III), (D)-(IV)  
(2) (A)-(III), (B)-(IV), (C)-(II), (D)-(I)  
(3) (A)-(IV), (B)-(III), (C)-(II), (D)-(I)  
(4) (A)-(III), (B)-(IV), (C)-(I), (D)-(II)

1[Option ID=17089]  
2[Option ID=17090]  
3[Option ID=17091]  
4[Option ID=17092]

Sl. No.124  
QBID:811074

Match List I with List II :

List I – Chairman of Health  
Committee

- (A) Shanti Lal Shah  
(B) J.B. Shrivastav  
(C) Banwari Lal Mehta  
(D) N. Jungalwalla

List II – Issue addressed by committee

- (I) Medical Education and Support  
manpower  
(II) Three tier Panchayati Raj  
(III) Legalising abortions  
(IV) Integration of Health Services

Choose the correct answer from the options given below:

- (1) (A)-(II), (B)-(IV), (C)-(III), (D)-(I)  
(2) (A)-(III), (B)-(I), (C)-(II), (D)-(IV)  
(3) (A)-(I), (B)-(III), (C)-(II), (D)-(IV)  
(4) (A)-(IV), (B)-(II), (C)-(I), (D)-(III)

सूची I के साथ सूची II का मिलान कीजिए।

सूची I – स्वास्थ्य समिति के अध्यक्ष

- (A) शांतिलाल शाह  
(B) जे. बी. श्रीवास्तव  
(C) बन्वारी लाल मेहता  
(D) एन. जंगलवाला

सूची II – समिति से संबंधित मामले

- (I) चिकित्सा शिक्षा एवं जनशक्ति सहायता  
(II) श्री टायर पंचायती राज  
(III) गर्भपात की विधि परकला  
(IV) स्वास्थ्य सेवाओं का एकीकरण

नीचे दिए गए विकल्पों में से सही उत्तर का चयन कीजिए :

- (1) (A)-(II), (B)-(IV), (C)-(III), (D)-(I)  
(2) (A)-(III), (B)-(I), (C)-(II), (D)-(IV)  
(3) (A)-(I), (B)-(III), (C)-(II), (D)-(IV)  
(4) (A)-(IV), (B)-(II), (C)-(I), (D)-(III)

1[Option ID=17093]  
2[Option ID=17094]  
3[Option ID=17095]  
4[Option ID=17096]

Sl. No.125  
QBID:811075

Match List I with List II :

List I

- (A) Decentralization  
(B) Team building  
(C) Supportive supervision  
(D) Convergence

List II

- (I) Strengthening Panchayati Raj  
Institution  
(II) Community Participation  
(III) Facilitate and participate in activities  
(IV) Village level

Choose the correct answer from the options given below:

- (1) (A)-(I), (B)-(II), (C)-(III), (D)-(IV)  
(2) (A)-(IV), (B)-(I), (C)-(II), (D)-(III)  
(3) (A)-(III), (B)-(II), (C)-(I), (D)-(IV)  
(4) (A)-(II), (B)-(IV), (C)-(III), (D)-(I)

सूची I के साथ सूची II का मिलान कीजिए।

सूची I	सूची II
(A) विकेन्द्रीकरण	(I) पंचायती राज संस्थाओं को सुदृढ़ बनाना
(B) टीम का गणन	(II) सामुदायिक भागीदारी
(C) सहायक पर्यवेक्षण	(III) कार्यकलापों को सुगम बनाना और भागीदारी करना
(D) अभिसरण	(IV) ग्राम स्तर

दिए गए विकल्पों में से सही उत्तर का चयन कीजिए :

- (1) (A)-(I), (B)-(II), (C)-(III), (D)-(IV)
- (2) (A)-(IV), (B)-(I), (C)-(II), (D)-(III)
- (3) (A)-(III), (B)-(II), (C)-(I), (D)-(IV)
- (4) (A)-(II), (B)-(IV), (C)-(III), (D)-(I)

1[Option ID=17097]

2[Option ID=17098]

3[Option ID=17099]

4[Option ID=17100]

Sl. No.126  
QBID:811076

Arrange the following as per increasing order of daily intake of Vitamin A recommended by Indian Council of Medical Research (ICMR), in terms of Retinol (mcg) per day:

- (A) Pregnant women
- (B) Lactating women
- (C) Adult men
- (D) Child 1-6 years

Choose the correct answer from the options given below :

- (1) (C), (D), (B), (A)
- (2) (D), (B), (C), (A)
- (3) (B), (C), (A), (D)
- (4) (D), (C), (A), (B)

निम्नलिखित को भारतीय चिकित्सा अनुसंधान परिषद (आई सी एम आर) द्वारा रेटीनॉल (एम सी जी) प्रति दिन के संदर्भ में अनुशंसित विटामिन ए की प्रतिदिन पूर्ति के बढ़ते क्रमानुसार व्यवस्थित कीजिए:

- (A) गर्भवती महिलाएं
- (B) स्तनपान कराने वाली महिलाएं
- (C) वयस्क पुरुष
- (D) 1 – 6 वर्ष के बच्चे

नीचे दिए गए विकल्पों में से सही उत्तर का चयन कीजिए :

- (1) (C), (D), (B), (A)
- (2) (D), (B), (C), (A)
- (3) (B), (C), (A), (D)
- (4) (D), (C), (A), (B)

1[Option ID=17101]

2[Option ID=17102]

3[Option ID=17103]

4[Option ID=17104]

Sl. No.127  
QBID:811077

Arrange the following as per increasing order of daily requirement of dietary iron (in mg/day) that should be absorbed for meeting daily needs, as per the Indian Council of Medical Research (ICMR).

- (A) Adolescent girl 10-12 years
- (B) Children 1-3 years
- (C) Adult man
- (D) Pregnant woman

Choose the correct answer from the options given below :

- (1) (A), (B), (C), (D)

(2) (B), (C), (A), (D)

(3) (C), (B), (D), (A)

(4) (C), (D), (B), (A)

निम्नलिखित को भारतीय चिकित्सा अनुसंधान परिषद् (आई सी एम आर) के अनुसार भोजन में लौह (mg/दिन) की आवश्यकता के बढ़ते क्रम में व्यवस्थित कीजिए :

- (A) किशोर कन्याएं 10 – 12 वर्ष
- (B) बच्चे 1 – 3 वर्ष
- (C) वयस्क पुरुष
- (D) गर्भवती महिलाएं

नीचे दिए गए विकल्पों में से सही उत्तर का चयन कीजिए :

(1) (A), (B), (C), (D)

(2) (B), (C), (A), (D)

(3) (C), (B), (D), (A)

(4) (C), (D), (B), (A)

1[Option ID=17105]

2[Option ID=17106]

3[Option ID=17107]

4[Option ID=17108]

Sl. No.128  
QBID:811078

Arrange the following in the correct order of stages of sewage treatment in a modern sewage treatment plant, from earlier to later stage.

- (A) Grit chamber
- (B) Disposal of effluent
- (C) Screening
- (D) Primary sedimentation

Choose the correct answer from the options given below :

(1) (D), (A), (B), (C)

(2) (A), (D), (C), (B)

(3) (C), (A), (D), (B)

(4) (D), (C), (B), (A)

एक आधुनिक मल शोधन संयंत्र में मल शोधन के निम्नलिखित चरणों को आरंभिक से शुरु कर बाद के चरणों तक के सही क्रम में व्यवस्थित कीजिए:

- (A) ग्रिट चेंबर
- (B) बहिष्काव का निपटान
- (C) छानना (स्क्रीनिंग)
- (D) प्राथमिक अवसादन (सेडिमेंटेशन)

नीचे दिए गए विकल्पों में से सही उत्तर का चयन कीजिए :

(1) (D), (A), (B), (C)

(2) (A), (D), (C), (B)

(3) (C), (A), (D), (B)

(4) (D), (C), (B), (A)

1[Option ID=17109]

2[Option ID=17110]

3[Option ID=17111]

4[Option ID=17112]

Sl. No.129  
QBID:811079

Arrange the following in sequence of new infectious diseases which emerged globally:

- (A) H1N1
- (B) Rotavirus
- (C) Human Immunodeficiency Virus
- (D) H5N1

Choose the correct answer from the options given below :

(1) (B) – (D) – (A) – (C)

(2) (D) – (B) – (C) – (A)



(3) (A) – (B) – (C) – (D)

(4) (C), (B), (D), (A)

वैश्विक रूप से आविर्भूत निम्नलिखित को नये संक्रामक रोग के अनुक्रम में व्यवस्थित कीजिए :

- (A) एच 1 एन 1
- (B) रोटावायरस
- (C) मानव प्रतिरक्षा न्यूनता विषाणु
- (D) एच 5 एन 1

नीचे दिए गए विकल्पों में से सही उत्तर का चयन कीजिए :

- (1) (B), (D), (A), (C)
- (2) (D), (B), (C), (A)
- (3) (A), (B), (C), (D)
- (4) (B), (C), (D), (A)

1[Option ID=17113]

2[Option ID=17114]

3[Option ID=17115]

4[Option ID=17116]

Sl. No.130

QBID:811080

Arrange the distinct phases of public health from its emergence:

- (A) Health for All
- (B) Social Engineering Phase
- (C) Disease Control Phase
- (D) Health Promotional Phase

Choose the correct answer from the options given below :

- (1) (D), (A), (B), (C)
- (2) (C), (B), (D), (A)
- (3) (A), (B), (C), (D)
- (4) (C), (D), (B), (A)

सार्वजनिक स्वास्थ्य की विभिन्न अवस्थाओं को उनके आविर्भाव के क्रम में व्यवस्थित कीजिए:

- (A) सभी के लिए स्वास्थ्य
- (B) सामाजिक अभियांत्रिकी (सोशल इंजीनियरिंग) अवस्था
- (C) रोग नियंत्रण अवस्था
- (D) स्वास्थ्य प्रवर्तन अवस्था

नीचे दिए गए विकल्पों में से सही उत्तर का चयन कीजिए :

- (1) (D), (A), (B), (C)
- (2) (C), (B), (D), (A)
- (3) (A), (B), (C), (D)
- (4) (C), (D), (B), (A)

1[Option ID=17117]

2[Option ID=17118]

3[Option ID=17119]

4[Option ID=17120]

Sl. No.131

QBID:811081

Arrange the steps of investigation of an epidemic concurrently

- (A) Rapid search of all cases and their characteristics
- (B) Evaluation of ecological factors
- (C) Confirmation of existence of an epidemic
- (D) Verification of diagnosis

Choose the correct answer from the options given below :

- (1) (A), (B), (D), (C)
- (2) (D), (C), (A), (B)
- (3) (C), (D), (A), (B)
- (4) (A), (B), (C), (D)

किसी महामारी की, संगामी जाँच के सोपानों को व्यवस्थित कीजिए:

- (A) सभी मरीजों और उनके अभिलक्षणों की तत्काल पड़ताल करना
- (B) परिस्थितिककारकों का मूल्यांकन करना
- (C) किसी महामारी के अस्तित्व की पुष्टि करना
- (D) निदान का सत्यापन

नीचे दिए गए विकल्पों में से सही उत्तर का चयन कीजिए :

- (1) (A), (B), (D), (C)
- (2) (D), (C), (A), (B)
- (3) (C), (D), (A), (B)
- (4) (A), (B), (C), (D)

1[Option ID=17121]

2[Option ID=17122]

3[Option ID=17123]

4[Option ID=17124]

Sl. No.132

QBID:811082

Arrange the following in chronological order from the oldest to the most recent:

- (A) National children fund
- (B) Commission for the protection of child rights.
- (C) National policy for children
- (D) National charter for children

Choose the correct answer from the options given below :

- (1) (B), (C), (D), (A)
- (2) (A), (B), (C), (D)
- (3) (C), (A), (D), (B)
- (4) (D), (C), (A), (B)

निम्नलिखित को प्राचीनतम से सबसे हाल तक कालक्रमानुसार व्यवस्थित कीजिए :

- (A) राष्ट्रीय बाल निधि
- (B) बाल अधिकार संरक्षण आयोग
- (C) राष्ट्रीय बाल नीति
- (D) नेशनल चार्टर फॉर चिल्ड्रेन

नीचे दिए गए विकल्पों में से सही उत्तर का चयन कीजिए :

- (1) (B), (C), (D), (A)
- (2) (A), (B), (C), (D)
- (3) (C), (A), (D), (B)
- (4) (D), (C), (A), (B)

1[Option ID=17125]

2[Option ID=17126]

3[Option ID=17127]

4[Option ID=17128]

Sl. No.133

QBID:811083

Arrange the causes of Infant mortality in India from most common one to least common one:

- (A) Diarrhoeal diseases
- (B) Respiratory infections including pneumonia
- (C) Birth asphyxia and birth trauma
- (D) Prematurity and low birth weight

Choose the correct answer from the options given below :

- (1) (A), (B), (C), (D)
- (2) (B), (C), (D), (A)
- (3) (D), (B), (C), (A)
- (4) (C), (D), (B), (A)

भारत में शिशु मृत्यु के कारणों को सबसे सामान्य से सबसे कम सामान्य के क्रम में लगाइये :

- (A) अतिसार रोग
- (B) निमोनिया सहित श्वसन संबंधी संक्रमण
- (C) जन्म श्वासरोध और जन्म अभिघात
- (D) समय-पूर्व प्रसव और जन्म के समय कम वजन

नीचे दिए गए विकल्पों में से सही उत्तर का चयन कीजिए :

- (1) (A), (B), (C), (D)
- (2) (B), (C), (D), (A)
- (3) (D), (B), (C), (A)
- (4) (C), (D), (B), (A)

1[Option ID=17129]

2[Option ID=17130]

3[Option ID=17131]

4[Option ID=17132]

Sl. No.134


QBID:811084

Sequence the steps of approach to counseling about contraceptive diseases:

- (A) Greet client
- (B) History taking
- (C) Explain about various methods
- (D) Assist client in selection
- (E) Follow up

Choose the correct answer from the options given below :

- (1) (A), (B), (C), (D), (E)
- (2) (A), (C), (D), (E), (B)
- (3) (A), (C), (B), (E), (D)
- (4) (A), (E), (B), (C), (D)



गर्भनिरोधक तरीकों के संबंध में परामर्श के उपागम के कदमों को क्रमबद्ध कीजिए :

- (A) सेवार्थी का अभिवादन करना
- (B) इतिहास जानना
- (C) विभिन्न तरीकों के बारे में समझाना
- (D) चयन में सेवार्थी की सहायत करना
- (E) अनुवर्तन (फॉलो-अप)

नीचे दिए गए विकल्पों में से सही उत्तर का चयन कीजिए :

- (1) (A), (B), (C), (D), (E)
- (2) (A), (C), (D), (E), (B)
- (3) (A), (C), (B), (E), (D)
- (4) (A), (E), (B), (C), (D)

1[Option ID=17133]

2[Option ID=17134]

3[Option ID=17135]

4[Option ID=17136]

Sl. No.135  
QBID:811085

Arrange the steps of planning cycle:

- (A) Prioritisation of problems
- (B) Define program objective
- (C) Orient and train personnel
- (D) Collect data for evaluation
- (E) Formulate health problems

Choose the correct answer from the options given below :

- (1) (E), (A), (B), (C), (D)
- (2) (A), (B), (C), (D), (E)
- (3) (B), (C), (D), (A), (E)
- (4) (C), (D), (E), (A), (B)

योजना चक्र के सोपानों को व्यवस्थित कीजिए:

- (A) समस्या का प्राथमिकताकरण
- (B) कार्यक्रम के उद्देश्यों को निरूपित करना
- (C) कार्मिकों को अनुकूलित करना एवं प्रशिक्षित करना
- (D) मूल्यांकन हेतु आँकड़े एकत्र करना
- (E) स्वास्थ्य समस्याओं को सूत्रबद्ध करना

नीचे दिए गए विकल्पों में से सही उत्तर का चयन कीजिए :

- (1) (E), (A), (B), (C), (D)
- (2) (A), (B), (C), (D), (E)
- (3) (B), (C), (D), (A), (E)
- (4) (C), (D), (E), (A), (B)

1[Option ID=17137]  
2[Option ID=17138]  
3[Option ID=17139]  
4[Option ID=17140]

Sl. No.136  
QBID:811086

Given below are two statements :

Statement I : Health Management Informations System is developed by NHM to monitor the performance of programs.

Statement II : Health Management Information System is a periodic paper based reporting system.

In the light of the above Statements, choose the most appropriate answer from the options given below :

- (1) Both Statement I and Statement II are correct
- (2) Both Statement I and Statement II are incorrect
- (3) Statement I is correct but Statement II is incorrect
- (4) Statement I is incorrect but Statement II is correct

नीचे दो कथन दिए गए हैं :

कथन (I) : स्वास्थ्य प्रबंधन सूचना प्रणाली प्रोग्रामों के कार्य निष्पादन की निगरानी करने के लिए एन एच एम द्वारा विकसित की जाती है।

कथन (II) : स्वास्थ्य प्रबंधन सूचना प्रणाली सावधिक पत्र आधारित रिपोर्टिंग सिस्टम है।

उपरोक्त कथन के आलोक में, नीचे दिए गए विकल्पों में से सबसे उपयुक्त उत्तर का चयन कीजिए :

- (1) कथन (I) और (II) दोनों सही हैं।
- (2) कथन (I) और (II) दोनों गलत हैं।
- (3) कथन (I) सही है, लेकिन कथन (II) गलत है।
- (4) कथन (I) गलत है, लेकिन कथन (II) सही है।

1[Option ID=17141]

2[Option ID=17142]

3[Option ID=17143]

4[Option ID=17144]

Sl. No.137

QBID:811087

Given below are two statements :

Statement I : Chronic non communicable diseases are increasing among adult population in both developed and developing countries.

Statement II : Cardiovascular diseases and cancer are leading causes of death in developed countries.

In the light of the above Statements, choose the correct answer from the options given below :

- (1) Both Statement I and Statement II are true
- (2) Both Statement I and Statement II are false
- (3) Statement I is true but Statement II is false
- (4) Statement I is false but Statement II is true

नीचे दो कथन दिए गए हैं :

कथन (I) : विकसित और विकासशील देशों में वयस्क आबादी में जीर्ण गैर-संक्रमणीय रोग बढ़ रहे हैं।

कथन (II) : हृद्वाहिका रोग और कैंसर विकसित देशों में मौत के कारण बन रहे हैं।

उपरोक्त कथन के आलोक में, नीचे दिए गए विकल्पों में से सबसे उपयुक्त उत्तर का चयन कीजिए :

- (1) कथन (I) और (II) दोनों सत्य हैं।
- (2) कथन (I) और (II) दोनों असत्य हैं।
- (3) कथन (I) सत्य है, लेकिन कथन (II) असत्य है।
- (4) कथन (I) असत्य है, लेकिन कथन (II) सत्य है।

1[Option ID=17145]

2[Option ID=17146]

3[Option ID=17147]

4[Option ID=17148]

Sl. No.138

QBID:811088

Given below are two statements : One is labelled as Assertion (A) and the other is labelled as Reason (R) :

Assertion (A) : Micronutrient deficiency is a form of undernutrition that is called 'hidden hunger'.

Reasons (R) : Even when micro nutrient deficiency is present in widespread population, clinical signs are usually not seen in a large population.

In the light of the above Statements, choose the most appropriate answer from the options given below :

- (1) Both (A) and (R) are correct and (R) is the correct explanation of (A)
- (2) Both (A) and (R) are correct but (R) is NOT the correct explanation of (A)
- (3) (A) is correct but (R) is not correct
- (4) (A) is not correct but (R) is correct

नीचे दो कथन दिए गए हैं : एक अभिकथन (Assertion A) के रूप में लिखित है तो दूसरा उसके कारण (Reason R) के रूप में :

अभिकथन (A) : सूक्ष्म पोषक तत्वों की कमी अल्पपोषण का प्रकार है जिसे 'प्रच्छन्न भूख' कहा जाता है।

कारण (R) : जब एक बड़ी आबादी में सूक्ष्म पोषक तत्वों की कमी पायी जाती है, नैदानिक लक्षण सामान्यतः बड़ी आबादी में नहीं दिखाई देते हैं।

उपरोक्त कथन के आलोक में, नीचे दिए गए विकल्पों में से सबसे उपयुक्त उत्तर का चयन कीजिए :

- (1) (A) और (R) दोनों सही हैं और (R), (A) की सही व्याख्या है।
- (2) (A) और (R) दोनों सही हैं, लेकिन (R), (A) की सही व्याख्या नहीं है।
- (3) (A) सही है, लेकिन (R) सही नहीं है।
- (4) (A) सही नहीं है, लेकिन (R) सही है।

1[Option ID=17149]  
2[Option ID=17150]  
3[Option ID=17151]  
4[Option ID=17152]

Sl. No.139  
QBID:811089

Given below are two statements : One is labelled as Assertion (A) and the other is labelled as Reason (R) :

Assertion (A) : Kerala can be considered a yardstick for judging health status in the country.

Reasons (R) : Kerala has demonstrated that in a demographic system with a strong political commitment to equitable socio-economic development, high levels of health can be achieved even on modest levels of income.

In the light of the above statements, choose the correct answer from the options given below :

- (1) Both (A) and (R) are true and (R) is the correct explanation of (A)
- (2) Both (A) and (R) are true but (R) is NOT the correct explanation of (A)
- (3) (A) is true but (R) is false
- (4) (A) is false but (R) is true

नीचे दो कथन दिए गए हैं : एक अभिकथन (Assertion A) के रूप में लिखित है तो दूसरा उसके कारण (Reason R) के रूप में :

अभिकथन (A) : देश में स्वास्थ्य स्थिति के मूल्यांकन हेतु केरल को मानदंड के रूप में मानना चाहिए।

कारण (R) : केरल ने प्रदर्शित किया है कि जनसांख्यिकीय व्यवस्था में दृढ़ राजनैतिक इच्छाशक्ति के द्वारा यहाँ तक कि आय के साधारण स्रोत के बावजूद उचित सामाजिक-आर्थिक विकास उच्चस्तरीय स्वास्थ्य अर्जित किया जा सकता है।

उपरोक्त कथन के आलोक में, नीचे दिए गए विकल्पों में से सही उत्तर का चयन कीजिए :

- (1) (A) और (R) दोनों सत्य हैं और (R), (A) की सही व्याख्या है।
- (2) (A) और (R) दोनों सत्य हैं, लेकिन (R), (A) की सही व्याख्या नहीं है।
- (3) (A) सत्य है, लेकिन (R) असत्य है।
- (4) (A) असत्य है, लेकिन (R) सत्य है।

1[Option ID=17153]  
2[Option ID=17154]  
3[Option ID=17155]  
4[Option ID=17156]

Sl. No.140  
QBID:811090

Given below are two statements :

Statement I : Sexually transmitted infection with HPU is fundamental to the development of carcinoma of cervix.

Statement II : HPV vaccination is recommended to be given to the children of both sexes.

In the light of the above Statements, choose the correct answer from the options given below :

- (1) Both Statement I and Statement II are true
- (2) Both Statement I and Statement II are false
- (3) Statement I is true but Statement II is false
- (4) Statement I is false but Statement II is true

नीचे दो कथन दिए गए हैं :

कथन (I) : एच पी वी के साथ यौन संबंधों से होने वाले संक्रमण सर्विक्स के कार्सिनोमा विकसित होने के मूल में होते हैं ।

कथन (II) : दोनों लिंगों के बच्चों को एच पी वी टीका लगाने की सिफारिश की जाती है ।

उपरोक्त कथन के आलोक में, नीचे दिए गए विकल्पों में से सही उत्तर का चयन कीजिए :

- (1) कथन (I) और (II) दोनों सत्य हैं ।
- (2) कथन (I) और (II) दोनों असत्य हैं ।
- (3) कथन (I) सत्य है, लेकिन कथन (II) असत्य है ।
- (4) कथन (I) असत्य है, लेकिन कथन (II) सत्य है ।

- 1[Option ID=17157]  
2[Option ID=17158]  
3[Option ID=17159]  
4[Option ID=17160]

Sl. No.141  
QBID:811091

Instruction: Read the following passage and answer the questions.

The National Rural Health Mission launched by Government of India in 2005 to combat maternal and child health related (MCH) deals, hygiene, nutrition, sanitation, regional inequalities and safe water, National Health Mission (NHM) headed by mission director and team of joint secretaries. The NHM provides an opportunity to build on past work and renew the emphasis on strategies for improving MCH through continuous of care and life cycle approach. Govt. of India launched many m-health initiatives like TB detects, new born care etc.

भारत सरकार ने मातृ और बाल स्वास्थ्य से संबंधित (एम सी एच) मौतों को रोकने, स्वच्छता पोषण, साफ-सफाई से संबंधित क्षेत्रीय असमानताओं तथा स्वच्छ जल भी समस्या को दूर करने के उद्देश्य से 2005 में राष्ट्रीय ग्रामीण स्वास्थ्य मिशन की शुरुआत की थी। राष्ट्रीय स्वास्थ्य मिशन (एन एच एम) का प्रमुख मिशन निदेशक होता है और इसमें संयुक्त सचिव स्तर के अधिकारी शामिल होते हैं। राष्ट्रीय स्वास्थ्य मिशन सतत देखभाल और जीवन चक्र दृष्टिकोण के माध्यम से मातृ एवं बाल स्वास्थ्य में सुधार करने के लिए पहले से किए गए कार्यों को आगे बढ़ाने और कार्यनीतियों पर नए सिरे से जोर देने का अवसर प्रदान करता है। भारत सरकार ने मातृ स्वास्थ्य से संबंधित अनेक पहल जैसे कि टी बी जांच और नवजात देखभाल आदि शुरू की हैं।

NHM implemented in which year

- (1) 1997
- (2) 2005
- (3) 2013
- (4) 2021

एन एच एम किस वर्ष लागू किया गया ?

- (1) 1997
- (2) 2005
- (3) 2013
- (4) 2021

- 1[Option ID=17161]  
2[Option ID=17162]  
3[Option ID=17163]  
4[Option ID=17164]

Sl. No.142  
QBID:811092

Instruction: Read the following passage and answer the questions.

The National Rural Health Mission launched by Government of India in 2005 to combat maternal and child health related (MCH) deals, hygiene, nutrition, sanitation, regional inequalities and safe water, National Health Mission (NHM) headed by mission director and team of joint secretaries. The NHM provides an opportunity to build on past work and renew the emphasis on strategies for improving MCH through continuous of care and life cycle approach. Govt. of India launched many m-health initiatives like TB detects, new born care etc.

भारत सरकार ने मातृ और बाल स्वास्थ्य से संबंधित (एम सी एच) मौतों को रोकने, स्वच्छता पोषण, साफ-सफाई से संबंधित क्षेत्रीय असमानताओं तथा स्वच्छ जल भी समस्या को दूर करने के उद्देश्य से 2005 में राष्ट्रीय ग्रामीण स्वास्थ्य मिशन की शुरुआत की थी। राष्ट्रीय स्वास्थ्य मिशन (एन एच एम) का प्रमुख मिशन निदेशक होता है और इसमें संयुक्त सचिव स्तर के अधिकारी शामिल होते हैं। राष्ट्रीय स्वास्थ्य मिशन सतत देखभाल और जीवन चक्र दृष्टिकोण के माध्यम से मातृ एवं बाल स्वास्थ्य में सुधार करने के लिए पहले से किए गए कार्यों को आगे बढ़ाने और कार्यनीतियों पर नए सिरे से जोर देने का अवसर प्रदान करता है। भारत सरकार ने मातृ स्वास्थ्य से संबंधित अनेक पहल जैसे कि टी बी जांच और नवजात देखभाल आदि शुरू की हैं।

Identify m-health initiatives under MCH program of Govt. of India:

- (A) e – Aushadhi
- (B) e – Mamta
- (C) e – Olakh
- (D) MEEDS

Choose the correct answer from the options given below :

- (1) (A), (B) only
- (2) (B), (C) only
- (3) (C), (D) only
- (4) (A), (D) only

भारत सरकार के सभी सी एच कार्यक्रम के अंतर्गत मातृ-स्वास्थ्य (एम-हेल्थ) पहलों की पहचान कीजिए :

- (A) ई – औषधि
- (B) ई – ममता
- (C) ई – ओलाख
- (D) एम ई ई डी एस

दिए गए विकल्पों में से सही उत्तर का चयन कीजिए :

- (1) केवल (A), (B)
- (2) केवल (B), (C)
- (3) केवल (C), (D)
- (4) केवल (A), (D)

- 1[Option ID=17165]
- 2[Option ID=17166]
- 3[Option ID=17167]
- 4[Option ID=17168]

Sl. No.143  
QBID:811093

Instruction: Read the following passage and answer the questions.

The National Rural Health Mission launched by Government of India in 2005 to combat maternal and child health related (MCH) deals, hygiene, nutrition, sanitation, regional inequalities and safe water, National Health Mission (NHM) headed by mission director and team of joint secretaries. The NHM provides an opportunity to build on past work and renew the emphasis on strategies for improving MCH through continuous of care and life cycle approach. Govt. of India launched many m-health initiatives like TB detects, new born care etc.

भारत सरकार ने मातृ और बाल स्वास्थ्य से संबंधित (एम सी एच) मौतों को रोकने, स्वच्छता पोषण, साफ-सफाई से संबंधित क्षेत्रीय असमानताओं तथा स्वच्छ जल भी समस्या को दूर करने के उद्देश्य से 2005 में राष्ट्रीय ग्रामीण स्वास्थ्य मिशन की शुरुआत की थी। राष्ट्रीय स्वास्थ्य मिशन (एन एच एम) का प्रमुख मिशन निदेशक होता है और इसमें संयुक्त सचिव स्तर के अधिकारी शामिल होते हैं। राष्ट्रीय स्वास्थ्य मिशन सतत देखभाल और जीवन चक्र दृष्टिकोण के माध्यम से मातृ एवं बाल स्वास्थ्य में सुधार करने के लिए पहले से किए गए कार्यों को आगे बढ़ाने और कार्यनीतियों पर नए सिरे से जोर देने का अवसर प्रदान करता है। भारत सरकार ने मातृ स्वास्थ्य से संबंधित अनेक पहल जैसे कि टी बी जांच और नवजात देखभाल आदि शुरू की हैं।

Maximum population covered by ASHA in urban and rural area respectively is

- (1) 2500 and 1000
- (2) 5000 and 1000
- (3) 5000 and 2500
- (4) 1000 in both area



शहरी और ग्रामीण क्षेत्र में 'आशा' द्वारा कवर की गई अधिकतम जनसंख्या क्रमशः है -

- (1) 2500 और 1000
- (2) 5000 और 1000
- (3) 5000 और 2500
- (4) दोनों क्षेत्रों में 1000

1[Option ID=17169]

2[Option ID=17170]

3[Option ID=17171]

4[Option ID=17172]

Sl. No.144

QBID:811094

Instruction: Read the following passage and answer the questions.

The National Rural Health Mission launched by Government of India in 2005 to combat maternal and child health related (MCH) deals, hygiene, nutrition, sanitation, regional inequalities and safe water, National Health Mission (NHM) headed by mission director and team of joint secretaries. The NHM provides an opportunity to build on past work and renew the emphasis on strategies for improving MCH through continuous of care and life cycle approach. Govt. of India launched many m-health initiatives like TB detects, new born care etc.

भारत सरकार ने मातृ और बाल स्वास्थ्य से संबंधित (एम सी एच) मौतों को रोकने, स्वच्छता पोषण, साफ-सफाई से संबंधित क्षेत्रीय असमानताओं तथा स्वच्छ जल भी समस्या को दूर करने के उद्देश्य से 2005 में राष्ट्रीय ग्रामीण स्वास्थ्य मिशन की शुरुआत की थी। राष्ट्रीय स्वास्थ्य मिशन (एन एच एम) का प्रमुख मिशन निदेशक होता है और इसमें संयुक्त सचिव स्तर के अधिकारी शामिल होते हैं। राष्ट्रीय स्वास्थ्य मिशन सतत देखभाल और जीवन चक्र दृष्टिकोण के माध्यम से मातृ एवं बाल स्वास्थ्य में सुधार करने के लिए पहले से किए गए कार्यों को आगे बढ़ाने और कार्यनीतियों पर नए सिरे से जोर देने का अवसर प्रदान करता है। भारत सरकार ने मातृ स्वास्थ्य से संबंधित अनेक पहल जैसे कि टी बी जांच और नवजात देखभाल आदि शुरू की हैं।

Generally population covered under one Primary Health Center (PHC) in urban of rural area is

- (1) 25000 and 30000
- (2) 50000 and 40000
- (3) 50000 and 30000
- (4) 30000 in each area

शहरी और ग्रामीण क्षेत्र में एक प्राथमिक स्वास्थ्य केन्द्र द्वारा सामान्यतः कवर की जाने वाली जनसंख्या है

- (1) 25000 और 30000
- (2) 50000 और 40000
- (3) 50000 और 30000
- (4) प्रत्येक क्षेत्र में 30000

1[Option ID=17173]

2[Option ID=17174]

3[Option ID=17175]

4[Option ID=17176]

Sl. No.145

QBID:811095

Instruction: Read the following passage and answer the questions.

The National Rural Health Mission launched by Government of India in 2005 to combat maternal and child health related (MCH) deals, hygiene, nutrition, sanitation, regional inequalities and safe water, National Health Mission (NHM) headed by mission director and team of joint secretaries. The NHM provides an opportunity to build on past work and renew the emphasis on strategies for improving MCH through continuous of care and life cycle approach. Govt. of India launched many m-health initiatives like TB detects, new born care etc.

भारत सरकार ने मातृ और बाल स्वास्थ्य से संबंधित (एम सी एच) मौतों को रोकने, स्वच्छता पोषण, साफ-सफाई से संबंधित क्षेत्रीय असमानताओं तथा स्वच्छ जल भी समस्या को दूर करने के उद्देश्य से 2005 में राष्ट्रीय ग्रामीण स्वास्थ्य मिशन की शुरुआत की थी। राष्ट्रीय स्वास्थ्य मिशन (एन एच एम) का प्रमुख मिशन निदेशक होता है और इसमें संयुक्त सचिव स्तर के अधिकारी शामिल होते हैं। राष्ट्रीय स्वास्थ्य मिशन सतत देखभाल और जीवन चक्र दृष्टिकोण के माध्यम से मातृ एवं बाल स्वास्थ्य में सुधार करने के लिए पहले से किए गए कार्यों को आगे बढ़ाने और कार्यनीतियों पर नए सिरे से जोर देने का अवसर प्रदान करता है। भारत सरकार ने मातृ स्वास्थ्य से संबंधित अनेक पहल जैसे कि टी बी जांच और नवजात देखभाल आदि शुरू की हैं।

The outreach services of maternal care and child health are provided through following functionaries in rural area:

- (1) AWW, ANM, ASHA
- (2) ASHA
- (3) ASHA and AWW
- (4) ANM and PHC – Medical Officer

ग्रामीण क्षेत्र में मातृ देखभाल और बाल स्वास्थ्य की आउटरीच सेवाएं निम्नलिखित में से किन कार्यकर्ताओं के माध्यम से प्रदान की जाती है?

- (1) आगनवाडी कार्यकर्ता (AWW), ए एन एम, आशा
- (2) आशा
- (3) आशा और आगनवाडी कार्यकर्ता (AWW)
- (4) ए एन एम और पी एच सी – चिकित्सा अधिकारी

1[Option ID=17177]  
2[Option ID=17178]  
3[Option ID=17179]  
4[Option ID=17180]

Sl. No.146  
QBID:811096

Instruction: Read the given passage and answer the questions 96 – 100.

There was a wedding reception in a village, within 10 days of attending the wedding reception an outbreak occurred among those who attended the wedding reception. Out of 83 guest who attended the wedding reception, 79 guests were interviewed, 54 met with case definition of food poisoning. It was found that 53 of them ate wedding cake of which 50 people met the case definition of food poisoning. It was found that 50 of them ate ice cream of which 24 were meeting the case definition. You are the medical officer sent to investigate the outbreak.

निम्नलिखित गद्यांश को पढ़िए और उसके बाद पूछे गए प्रश्नों के उत्तर दीजिए :

किसी गाँव में एक विवाह समारोह था। विवाह समारोह में भाग लेने थे दस दिनों के अन्दर ही विवाह समारोह में भाग लेने वालों के बीच बीमारी फैल गई। विवाह समारोह में भाग लेने वाले 83 अतिथियों में से, 79 अतिथियों से बात-चीत की गई। उनमें से 54 मामले भोजन के विषाक्तकरण की परिभाषा के हिसाब से निकले।

53 लोगों के बारे में पता चला कि उन्होंने विवाह समारोह का केक खाया था। इनमें से 50 मामलों के लक्षण विषाक्त भोजन करने की केस-परिभाषा के अनुरूप पाए गए। यह भी पाया गया कि उनमें से 50 लोगों ने आइसक्रीम खाया था जिनमें 24 मामले केस परिभाषा के अनुरूप थे। संक्रमण की इस घटना की जाँच करने के लिए आप चिकित्सा-अधिकारी के रूप में भेजे गए हैं।

Calculate the risk ratios for the cake.

- (1) 6
- (2) 5
- (3) 8
- (4) 4

केक के जोखिम-अनुपात की गणना कीजिए :

- (1) 6
- (2) 5
- (3) 8
- (4) 4

1[Option ID=17181]  
2[Option ID=17182]  
3[Option ID=17183]  
4[Option ID=17184]

Sl. No.147  
QBID:811097

Instruction: Read the given passage and answer the questions 96 – 100.

There was a wedding reception in a village, within 10 days of attending the wedding reception an outbreak occurred among those who attended the wedding reception. Out of 83 guests who attended the wedding reception, 79 guests were interviewed, 54 met with case definition of food poisoning. It was found that 53 of them ate wedding cake of which 50 people met the case definition of food poisoning. It was found that 50 of them ate ice cream of which 24 were meeting the case definition. You are the medical officer sent to investigate the outbreak.

निम्नलिखित गद्यांश को पढ़िए और उसके बाद पूछे गए प्रश्नों के उत्तर दीजिए :

किसी गाँव में एक विवाह समारोह था। विवाह समारोह में भाग लेने थे दस दिनों के अन्दर ही विवाह समारोह में भाग लेने वालों के बीच बीमारी फैल गई। विवाह समारोह में भाग लेने वाले 83 अतिथियों में से, 79 अतिथियों से बात-चीत की गई। उनमें से 54 मामले भोजन के विषाक्तकरण की परिभाषा के हिसाब से निकले।

53 लोगों के बारे में पता चला कि उन्होंने विवाह समारोह का केक खाया था। इनमें से 50 मामलों के लक्षण विषाक्त भोजन करने की केस-परिभाषा के अनुरूप पाए गए। यह भी पाया गया कि उनमें से 50 लोगों ने आइसक्रीम खाया था जिनमें 24 मामले केस परिभाषा के अनुरूप थे। संक्रमण की इस घटना की जाँच करने के लिए आप चिकित्सा-अधिकारी के रूप में भेजे गए हैं।

What is the attributable proportion of food poisoning among those who ate the cake?

- (1) 87
- (2) 84
- (3) 90
- (4) 95

जिन लोगों ने केक खाया उनमें भोजन-विषाक्तता का आरेप्य अनुपात क्या है?

- (1) 87
- (2) 84
- (3) 90
- (4) 95

1[Option ID=17185]  
2[Option ID=17186]  
3[Option ID=17187]  
4[Option ID=17188]

Sl. No.148  
QBID:811098

Instruction: Read the given passage and answer the questions 96 – 100.

There was a wedding reception in a village, within 10 days of attending the wedding reception an outbreak occurred among those who attended the wedding reception. Out of 83 guests who attended the wedding reception, 79 guests were interviewed, 54 met with case definition of food poisoning. It was found that 53 of them ate wedding cake of which 50 people met the case definition of food poisoning. It was found that 50 of them ate ice cream of which 24 were meeting the case definition. You are the medical officer sent to investigate the outbreak.

निम्नलिखित गद्यांश को पढ़िए और उसके बाद पूछे गए प्रश्नों के उत्तर दीजिए :

किसी गाँव में एक विवाह समारोह था। विवाह समारोह में भाग लेने थे दस दिनों के अन्दर ही विवाह समारोह में भाग लेने वालों के बीच बीमारी फैल गई। विवाह समारोह में भाग लेने वाले 83 अतिथियों में से, 79 अतिथियों से बात-चीत की गई। उनमें से 54 मामले भोजन के विषाक्तकरण की परिभाषा के हिसाब से निकले।

53 लोगों के बारे में पता चला कि उन्होंने विवाह समारोह का केक खाया था। इनमें से 50 मामलों के लक्षण विषाक्त भोजन करने की केस-परिभाषा के अनुरूप पाए गए। यह भी पाया गया कि उनमें से 50 लोगों ने आइसक्रीम खाया था जिनमें 24 मामले केस परिभाषा के अनुरूप थे। संक्रमण की इस घटना की जाँच करने के लिए आप चिकित्सा-अधिकारी के रूप में भेजे गए हैं।

What is true about relative risk?

- (1) It is not important in aetiological enquiries
- (2) Relative risk of 1 indicates positive association
- (3) Size of attributable risk is better index than size of relative risk for assessing the aetiological role of a factor in disease
- (4) Direct measure of strength of association between suspected cause and effect

सापेक्ष जोखिम के बारे में क्या सही है?

- (1) हेतुनिरूपी (एटिओलॉजिकल) जाँच में यह महत्वपूर्ण नहीं है
- (2) सापेक्ष जोखिम 1 का अर्थ है सकारात्मक साहचर्य
- (3) बीमारी में किसी कारक की हेतुनिरूपी भूमिका का मूल्यांकन करने के लिए सापेक्ष जोखिम का मूल्य की तुलना में आरोग्य जोखिम का मूल्य एक बेहतर सूचक है
- (4)

- 1[Option ID=17189]  
2[Option ID=17190]  
3[Option ID=17191]  
4[Option ID=17192]

Sl. No.149  
QBID:811099

Instruction: Read the given passage and answer the questions 96 – 100.

There was a wedding reception in a village, within 10 days of attending the wedding reception an outbreak occurred among those who attended the wedding reception. Out of 83 guests who attended the wedding reception, 79 guests were interviewed, 54 met with case definition of food poisoning. It was found that 53 of them ate wedding cake of which 50 people met the case definition of food poisoning. It was found that 50 of them ate ice cream of which 24 were meeting the case definition. You are the medical officer sent to investigate the outbreak.

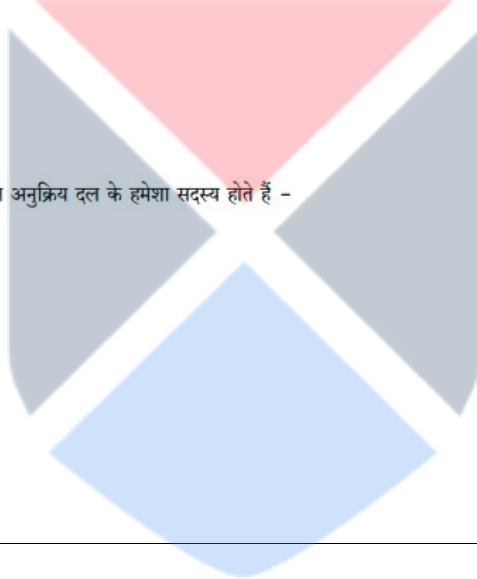
निम्नलिखित गद्यांश को पढ़िए और उसके बाद पूछे गए प्रश्नों के उत्तर दीजिए :

किसी गाँव में एक विवाह समारोह था। विवाह समारोह में भाग लेने थे दस दिनों के अन्दर ही विवाह समारोह में भाग लेने वालों के बीच बीमारी फैल गई। विवाह समारोह में भाग लेने वाले 83 अतिथियों में से, 79 अतिथियों से बात-चीत की गई। उनमें से 54 मामले भोजन के विषाक्तिकरण की परिभाषा के हिसाब से निकले।

53 लोगों के बारे में पता चला कि उन्होंने विवाह समारोह का केक खाया था। इनमें से 50 मामलों के लक्षण विषाक्त भोजन करने की केस-परिभाषा के अनुरूप पाए गए। यह भी पाया गया कि उनमें से 50 लोगों ने आइसक्रीम खाया था जिनमें 24 मामले केस परिभाषा के अनुरूप थे। संक्रमण की इस घटना की जाँच करने के लिए आप चिकित्सा-अधिकारी के रूप में भेजे गए हैं।

All of the following are usually always members of Rapid Response team except

- (1) Microbiologist
- (2) Epidemiologist
- (3) Pharmacist
- (4) Clinician



किस एक के सिवाय, प्रायः निम्न में से सभी किसी भी त्वरित अनुक्रिय दल के हमेशा सदस्य होते हैं -

- (1) सूक्ष्मजैविकीदिव
- (2) महामारी रोग वैज्ञानिक
- (3) फार्मैसिस्ट
- (4) चिकित्सक

- 1[Option ID=17193]  
2[Option ID=17194]  
3[Option ID=17195]  
4[Option ID=17196]

Sl. No.150  
QBID:811100

Instruction: Read the given passage and answer the questions 96 – 100.

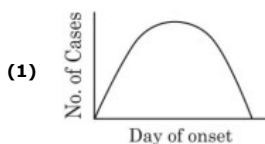
There was a wedding reception in a village, within 10 days of attending the wedding reception an outbreak occurred among those who attended the wedding reception. Out of 83 guest who attended the wedding reception, 79 guests were interviewed, 54 met with case definition of food poisoning. It was found that 53 of them ate wedding cake of which 50 people met the case definition of food poisoning. It was found that 50 of them ate ice cream of which 24 were meeting the case definition. You are the medical officer sent to investigate the outbreak.

निम्नलिखित गद्यांश को पढ़िए और उसके बाद पूछे गए प्रश्नों के उत्तर दीजिए :

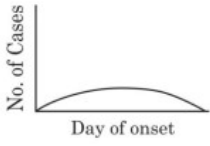
किसी गाँव में एक विवाह समारोह था। विवाह समारोह में भाग लेने थे दस दिनों के अन्दर ही विवाह समारोह में भाग लेने वालों के बीच बीमारी फैल गई। विवाह समारोह में भाग लेने वाले 83 अतिथियों में से, 79 अतिथियों से बात-चीत की गई। उनमें से 54 मामले भोजन के विषाक्तिकरण की परिभाषा के हिसाब से निकले।

53 लोगों के बारे में पता चला कि उन्होंने विवाह समारोह का केक खाया था। इनमें से 50 मामलों के लक्षण विषाक्त भोजन करने की केस-परिभाषा के अनुरूप पाए गए। यह भी पाया गया कि उनमें से 50 लोगों ने आइसक्रीम खाया था जिनमें 24 मामले केस परिभाषा के अनुरूप थे। संक्रमण की इस घटना की जाँच करने के लिए आप चिकित्सा-अधिकारी के रूप में भेजे गए हैं।

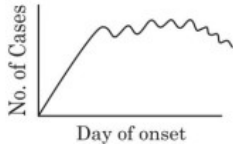
When you plot the number of cases that occurred with respect to time to understand the distribution of cases in the above outbreak, which shape is most likely to be observed:



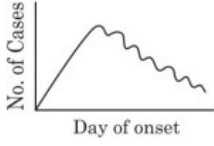
(2)



(3)

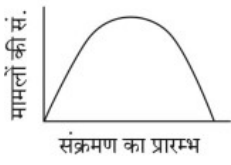


(4)

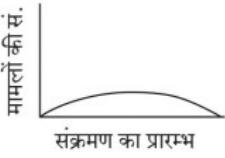


अगर आप समय के संदर्भ में मामलों की संख्या को अंकित करें ताकि ऊपर-वर्णित बीमारी फैलने के बारे में मामलों के वितरण को समझा सके, तो ज्यादा संभावना किस तरह के ग्राफ की आकृति मिलने की है?

(1)



(2)



(3)



(4)



- 1[Option ID=17197]  
 2[Option ID=17198]  
 3[Option ID=17199]  
 4[Option ID=17200]