

Test Date : 09 Jul 2022

Test Slot : Slot 1

Subject : Archaeology

Sl. No.1

QBID:1501001

Consider the following table that embodies details about the percentage distribution of population of five states A-E on the basis of poverty line and gender. In accordance with the data in the table, answer the questions 1-5:

State-wise Distribution of Population

State	Percentage (%) of Population Below Poverty Line	Proportion of Males (M) and Females (F)	
		Below Poverty Line	Above Poverty Line
		M : F	M : F
A	35	5 : 6	6 : 7
B	25	3 : 5	4 : 5
C	24	1 : 2	2 : 3
D	19	3 : 2	5 : 3
E	15	5 : 3	3 : 2

निम्नलिखित तालिका पर ध्यान दीजिए, जिसमें गरीबी-रेखा और जेन्डर (लिंग) के आधार पर A से E तक के पाँच राज्यों की जनसंख्या के प्रतिशत वितरण के बारे में विवरण दिया गया है। इस तालिका के आंकड़ों (डेटा) के अनुसार प्रश्न 1 से 5 तक के उत्तर दीजिए:

जनसंख्या का राज्य-वार वितरण :

राज्य	गरीबी-रेखा के नीचे जनसंख्या का प्रतिशत (%)	पुरुषों (M) और महिलाओं (F) का अनुपात	
		गरीबी रेखा से नीचे	गरीबी रेखा से ऊपर
		M : F	M : F
A	35	5 : 6	6 : 7
B	25	3 : 5	4 : 5
C	24	1 : 2	2 : 3
D	19	3 : 2	5 : 3
E	15	5 : 3	3 : 2

What will be the number of females above poverty line in the state 'D', if it is known that the population of the state 'D' is 8 million?

- (1) 3 million
- (2) 2.83 million
- (3) 2.63 million
- (4) 2.43 million

राज्य - 'D' में गरीबी-रेखा से ऊपर महिलाओं की संख्या क्या होगी, यदि यह ज्ञात है कि राज्य 'D' की जनसंख्या 8 मिलियन है?

- (1) 3 मिलियन
- (2) 2.83 मिलियन
- (3) 2.63 मिलियन
- (4) 2.43 मिलियन

1[Option ID=10001]
 2[Option ID=10002]
 3[Option ID=10003]
 4[Option ID=10004]

SI. No.2
QBID:1501002

Consider the following table that embodies details about the percentage distribution of population of five states A-E on the basis of poverty line and gender. In accordance with the data in the table, answer the questions 1-5:

State-wise Distribution of Population

State	Percentage (%) of Population Below Poverty Line	Proportion of Males (M) and Females (F)	
		Below Poverty Line	Above Poverty Line
		M : F	M : F
A	35	5 : 6	6 : 7
B	25	3 : 5	4 : 5
C	24	1 : 2	2 : 3
D	19	3 : 2	5 : 3
E	15	5 : 3	3 : 2

निम्नलिखित तालिका पर ध्यान दीजिए, जिसमें गरीबी-रेखा और जेन्डर (लिंग) के आधार पर A से E तक के पाँच राज्यों की जनसंख्या के प्रतिशत वितरण के बारे में विवरण दिया गया है। इस तालिका के आंकड़ों (डेटा) के अनुसार प्रश्न 1 से 5 तक के उत्तर दीजिए:

जनसंख्या का राज्य-वार वितरण :

राज्य	गरीबी-रेखा के नीचे जनसंख्या का प्रतिशत (%)	पुरुषों (M) और महिलाओं (F) का अनुपात	
		गरीबी रेखा से नीचे	गरीबी रेखा से ऊपर
		M : F	M : F
A	35	5 : 6	6 : 7
B	25	3 : 5	4 : 5
C	24	1 : 2	2 : 3
D	19	3 : 2	5 : 3
E	15	5 : 3	3 : 2

If the male population above poverty line for state 'C' is 1.9 million, then what is the total population of state 'C'?

- (1) 6.25 million
- (2) 5.35 million
- (3) 4.85 million
- (4) 4.5 million

यदि राज्य - 'सी' की गरीबी-रेखा से ऊपर पुरुषों की जनसंख्या 1.9 मिलियन है तो राज्य - 'सी' की कुल जनसंख्या कितनी है?

- (1) 6.25 मिलियन
- (2) 5.35 मिलियन
- (3) 4.85 मिलियन
- (4) 4.5 मिलियन

1[Option ID=10005]
2[Option ID=10006]
3[Option ID=10007]
4[Option ID=10008]

SI. No.3
QBID:1501003

Consider the following table that embodies details about the percentage distribution of population of five states A-E on the basis of poverty line and gender. In accordance with the data in the table, answer the questions 1-5:

State-wise Distribution of Population

State	Percentage (%) of Population Below Poverty Line	Proportion of Males (M) and Females (F)	
		Below Poverty Line	Above Poverty Line
		M : F	M : F
A	35	5 : 6	6 : 7
B	25	3 : 5	4 : 5
C	24	1 : 2	2 : 3
D	19	3 : 2	5 : 3
E	15	5 : 3	3 : 2

निम्नलिखित तालिका पर ध्यान दीजिए, जिसमें गरीबी-रेखा और जेन्डर (लिंग) के आधार पर A से E तक के पाँच राज्यों की जनसंख्या के प्रतिशत वितरण के बारे में विवरण दिया गया है। इस तालिका के आंकड़ों (डेटा) के अनुसार प्रश्न 1 से 5 तक के उत्तर दीजिए:

जनसंख्या का राज्य-वार वितरण :

राज्य	गरीबी-रेखा के नीचे जनसंख्या का प्रतिशत (%)	पुरुषों (M) और महिलाओं (F) का अनुपात	
		गरीबी रेखा से नीचे	गरीबी रेखा से ऊपर
		M : F	M : F
A	35	5 : 6	6 : 7
B	25	3 : 5	4 : 5
C	24	1 : 2	2 : 3
D	19	3 : 2	5 : 3
E	15	5 : 3	3 : 2

What will be the male population above poverty line for state 'A' if the female population below poverty line for state 'A' is 2.1 million?

- (1) 2.3 million
- (2) 3.3 million
- (3) 4.4 million
- (4) 6.6 million

राज्य - 'A' की गरीबी-रेखा से ऊपर पुरुषों की जनसंख्या क्या होगी, यदि राज्य 'A' की गरीबी-रेखा से नीचे महिलाओं की जनसंख्या 2.1 मिलियन है?

- (1) 2.3 मिलियन
- (2) 3.3 मिलियन
- (3) 4.4 मिलियन
- (4) 6.6 मिलियन

- 1[Option ID=10009]
- 2[Option ID=10010]
- 3[Option ID=10011]
- 4[Option ID=10012]

Sl. No.4
QBID:1501004

Consider the following table that embodies details about the percentage distribution of population of five states A-E on the basis of poverty line and gender. In accordance with the data in the table, answer the questions 1-5:

State-wise Distribution of Population

State	Percentage (%) of Population Below Poverty Line	Proportion of Males (M) and Females (F)	
		Below Poverty Line	Above Poverty Line
		M : F	M : F
A	35	5 : 6	6 : 7
B	25	3 : 5	4 : 5
C	24	1 : 2	2 : 3
D	19	3 : 2	5 : 3
E	15	5 : 3	3 : 2

निम्नलिखित तालिका पर ध्यान दीजिए, जिसमें गरीबी-रेखा और जेन्डर (लिंग) के आधार पर A से E तक के पाँच राज्यों की जनसंख्या के प्रतिशत वितरण के बारे में विवरण दिया गया है। इस तालिका के आंकड़ों (डेटा) के अनुसार प्रश्न 1 से 5 तक के उत्तर दीजिए:

जनसंख्या का राज्य-वार वितरण :

राज्य	गरीबी-रेखा के नीचे जनसंख्या का प्रतिशत (%)	पुरुषों (M) और महिलाओं (F) का अनुपात	
		गरीबी रेखा से नीचे	गरीबी रेखा से ऊपर
		M : F	M : F
A	35	5 : 6	6 : 7
B	25	3 : 5	4 : 5
C	24	1 : 2	2 : 3
D	19	3 : 2	5 : 3
E	15	5 : 3	3 : 2

If the population of males below poverty line for state 'B' is 2.4 million and that for state 'E' is 6 million, the total population of states 'B' and 'E' is in the ratio of _____.

- (1) 2 : 5
- (2) 2 : 7
- (3) 3 : 7
- (4) 4 : 9

यदि राज्य - B की गरीबी-रेखा से नीचे पुरुषों की जनसंख्या 2.4 मिलियन और राज्य - 'E' की 6 मिलियन है तो राज्य 'B' और 'E' की कुल जनसंख्या किस अनुपात में होगी?

- (1) 2 : 5
- (2) 2 : 7
- (3) 3 : 7
- (4) 4 : 9

1[Option ID=10013]
 2[Option ID=10014]
 3[Option ID=10015]
 4[Option ID=10016]

Sl. No.5
 QBID:1501005

Consider the following table that embodies details about the percentage distribution of population of five states A-E on the basis of poverty line and gender. In accordance with the data in the table, answer the questions 1-5:

State-wise Distribution of Population

State	Percentage (%) of Population Below Poverty Line	Proportion of Males (M) and Females (F)	
		Below Poverty Line	Above Poverty Line
		M : F	M : F
A	35	5 : 6	6 : 7
B	25	3 : 5	4 : 5
C	24	1 : 2	2 : 3
D	19	3 : 2	5 : 3
E	15	5 : 3	3 : 2

निम्नलिखित तालिका पर ध्यान दीजिए, जिसमें गरीबी-रेखा और जेन्डर (लिंग) के आधार पर A से E तक के पाँच राज्यों की जनसंख्या के प्रतिशत वितरण के बारे में विवरण दिया गया है। इस तालिका के आंकड़ों (डेटा) के अनुसार प्रश्न 1 से 5 तक के उत्तर दीजिए:

जनसंख्या का राज्य-वार वितरण :

राज्य	गरीबी-रेखा के नीचे जनसंख्या का प्रतिशत (%)	पुरुषों (M) और महिलाओं (F) का अनुपात	
		गरीबी रेखा से नीचे	गरीबी रेखा से ऊपर
		M : F	M : F
A	35	5 : 6	6 : 7
B	25	3 : 5	4 : 5
C	24	1 : 2	2 : 3
D	19	3 : 2	5 : 3
E	15	5 : 3	3 : 2

If the total population of state 'C' and state 'D' is 5 million and 7 million, respectively, then what is the difference in the population below poverty line in these two states?

- (1) 0.30 million
- (2) 0.23 million
- (3) 0.13 million
- (4) 0.11 million

यदि राज्य - 'C' और राज्य - 'D' की कुल जनसंख्या क्रमशः 5 मिलियन और 7 मिलियन है, तो इन दोनों राज्यों में गरीबी-रेखा से नीचे की जनसंख्या में अंतर क्या है?

- (1) 0.30 मिलियन
- (2) 0.23 मिलियन
- (3) 0.13 मिलियन
- (4) 0.11 मिलियन

1[Option ID=10017]
2[Option ID=10018]
3[Option ID=10019]
4[Option ID=10020]

Sl. No.6
QBID:1501006

Which of the following are correct regarding the process of learning?

- (A) Remembering the information and reproducing it in examination.
- (B) Synthesis and organisation of the old and new experiences resulting in a novel pattern
- (C) Carrying out activities which leave permanent effect on the learner.
- (D) Learning means acquisition, retention and modification of experience.
- (E) Preparing only for scoring good marks.

Choose the correct answer from the options given below :

- (1) (A), (B) and (C) only
- (2) (B), (C) and (D) only
- (3) (C), (D) and (E) only
- (4) (B), (C), (D) and (E) only

अधिगम की प्रक्रिया के संबंध में निम्नलिखित में से कौन से सही हैं?

- (A) सूचना को याद करना और उसे परीक्षा में पुनःप्रस्तुत करना
- (B) पुराने और नये अनुभवों के संश्लेषण और संगठन के परिणाम स्वरूप अभिनव पैटर्न
- (C) अधिगमकर्ता पर स्थायी प्रभाव छोड़ने वाले कार्य कलापों को आगे बढ़ाना
- (D) अधिगम का आशय अनुभव का अधिग्रहण, प्रतिधारण और परिष्करण है
- (E) केवल अच्छे अंक प्राप्त करने के लिए तैयारी करना

नीचे दिए गए विकल्पों में से सही उत्तर का चयन कीजिए :

- (1) केवल (A), (B) और (C)
- (2) केवल (B), (C) और (D)
- (3) केवल (C), (D) और (E)
- (4) केवल (B), (C), (D) और (E)

1[Option ID=10021]
2[Option ID=10022]
3[Option ID=10023]
4[Option ID=10024]

Sl. No.7
QBID:1501007

What is the full form of MOODLE, an open source Learning Management System (LMS)?

- (1) Modular Object Oriented Digital Learning Environment
- (2) Modular Object Oriented Dynamic Learning Environment
- (3) MOOCs Oriented Digital Learning Environment
- (4) Multiple Object Oriented Dynamic Learning Environment

मुक्त स्रोत अधिगम प्रबंधन प्रणाली (एल एम एस) मूडल (एम ओ ओ डी एल ई) का पूर्ण रूप क्या है?

- (1) मॉड्यूलर ऑब्जेक्ट ओरियन्टेड डिजिटल लर्निंग एन्वायरन्मेंट
- (2) मॉड्यूलर ऑब्जेक्ट ओरियन्टेड डायनेमिक लर्निंग एन्वायरन्मेंट
- (3) मूक्स ओरियन्टेड डिजिटल लर्निंग एन्वायरन्मेंट

(4) मल्टीपल ऑब्जेक्ट ओरियन्टेड डाइनेमिक लर्निंग एन्वायर्नमेंट

- 1[Option ID=10025]
2[Option ID=10026]
3[Option ID=10027]
4[Option ID=10028]

Sl. No.8
QBID:1501008

Given below are two statements :

Statement I : Assesment drives learning.

Statement II : No feedback is required to be given in formative assessments.

In the light of the above statements, choose the most appropriate answer from the options given below:

- (1) Both Statement I and Statement II are correct
(2) Both Statement I and Statement II are incorrect
(3) Statement I is correct but Statement II is incorrect
(4) Statement I is incorrect but Statement II is correct

नीचे दो कथन दिए गए हैं :

कथन (I) : आकलन अधिगम को प्रेरित करता है।

कथन (II) : रचनात्मक आकलनों में प्रतिपुष्टि देने की आवश्यकता नहीं है।

उपरोक्त कथन के आलोक में, नीचे दिए गए विकल्पों में से सबसे उपयुक्त उत्तर का चयन कीजिए :

- (1) कथन I और II दोनों सही हैं।
(2) कथन I और II दोनों गलत हैं।
(3) कथन I सही है, लेकिन कथन II गलत है।
(4) कथन I गलत है, लेकिन कथन II सही है।

- 1[Option ID=10029]
2[Option ID=10030]
3[Option ID=10031]
4[Option ID=10032]

Sl. No.9
QBID:1501009

According to Dewry, education is a

- (1) Social need
(2) Personal need
(3) Status need
(4) Financial need

ड्योरी के अनुसार शिक्षा है:

- (1) सामाजिक आवश्यकता
(2) व्यक्तिगत आवश्यकता
(3) स्थिति (स्टेटस) आवश्यकता
(4) वित्तीय आवश्यकता

- 1[Option ID=10033]
2[Option ID=10034]
3[Option ID=10035]
4[Option ID=10036]

Sl. No.10
QBID:1501010

Pandit Madan Mohan Malaviya National Mission on Teachers and Teaching has various components. Which of the following is not a component under this scheme?

- (1) Inter University Centres of UGC
- (2) Faculty Development Centers (FDCs)
- (3) Teaching Learning Centres (TLCs)
- (4) School Of Education (SOE)

शिक्षकों एवं शिक्षण पर पंडित मदन मोहन मालवीय राष्ट्रीय मिशन के विभिन्न घटक हैं। निम्नलिखित में से कौन सा इस योजना का घटक नहीं है

- (1) यू जी सी के अन्तर्विश्वविद्यालय केन्द्र
- (2) फेकल्टी विकास केन्द्र (एफ डी सी)
- (3) शिक्षण अधिगम केन्द्र (टी एल सी)
- (4) शिक्षा संकाय (एस ओ ई)

1[Option ID=10037]
2[Option ID=10038]
3[Option ID=10039]
4[Option ID=10040]

Sl. No.11
QBID:1501011

Which of the following are the features of case study method?

- (A) It is appreciative
- (B) It is particularistic
- (C) It is descriptive
- (D) It is inductive
- (E) It is mechanical

Choose the most appropriate answer from the options given below :

- (1) (A), (B), (C) only
- (2) (B), (C), (D) only
- (3) (C), (D), (E) only
- (4) (A), (D), (E) only

प्रकरण (केस) अध्ययन पद्धति की विशेषताएँ निम्नलिखित में से कौन सी हैं?

- (A) यह प्रशंसनात्मक है।
- (B) यह विशिष्टतापरक है।
- (C) यह विवरणात्मक है।
- (D) यह आगमनात्मक है।
- (E) यह यांत्रिक है।

नीचे दिए गए विकल्पों में से सबसे उपयुक्त का चयन कीजिए :

- (1) केवल (A), (B), (C)
- (2) केवल (B), (C), (D)
- (3) केवल (C), (D), (E)
- (4) केवल (A), (D), (E)

1[Option ID=10041]
2[Option ID=10042]
3[Option ID=10043]
4[Option ID=10044]

Sl. No.12
QBID:1501012

Which of the following are remote data collection procedures?

- (A) Third party interview
- (B) Pop-ups
- (C) Data base e-mail
- (D) Instant messaging
- (E) Panel discussions

Choose the correct answer from the options given below :

- (1) (A), (B), (C) only
- (2) (B), (C), (D) only
- (3) (C), (D), (E) only
- (4) (A), (B), (E) only

निम्नलिखित में से दूरस्थ आँकड़ा संग्रहण की प्रक्रियाएँ कौन सी हैं?

- (A) थर्ड पार्टी इंटरव्यू (तृतीय पक्ष साक्षात्कार)
- (B) पाप-अप्स
- (C) डाटा बेस ईमेल
- (D) इंस्टैंट मैसेजिंग (तात्कालिक संदेशन)
- (E) पैनल डिस्कशन (नामिका परिचर्चा)

नीचे दिए गए विकल्पों में से सही उत्तर का चयन कीजिए :

- (1) केवल (A), (B), (C)
- (2) केवल (B), (C), (D)

(3) केवल (C), (D), (E)

(4) केवल (A), (D), (E)

1[Option ID=10045]

2[Option ID=10046]

3[Option ID=10047]

4[Option ID=10048]

Sl. No.13

QBID:1501013

To perform t-test which of the following softwares can be utilized?

- (A) MS Excel
- (B) Unix
- (C) SPSS
- (D) MS Equations

Choose the most appropriate answer from the options given below :

- (1) (A) and (B) only
- (2) (B), (C) and (D) only
- (3) (A) and (C) only
- (4) (A), (C) and (D) only

टी-परीक्षण करने हेतु निम्नलिखित में से कौन सा सॉफ्टवेयर प्रयुक्त किया जा सकता है?

- (A) एम. एस. एक्सेल
- (B) यूनिक्स
- (C) एस पी एस एस
- (D) एम. एस. इक्वेशन्स

नीचे दिए गए विकल्पों में से सही उत्तर का चयन कीजिए :

- (1) केवल (A) और (B)
- (2) केवल (B), (C) और (D)
- (3) केवल (A) और (C)
- (4) केवल (A), (C) और (D)

1[Option ID=10049]

2[Option ID=10050]

3[Option ID=10051]

4[Option ID=10052]

Sl. No.14

QBID:1501014

Match List I with List II

List I Types of Research	List II Research Characteristic
(A) Cohort analysis	(I) Study of a specific population as it undergoes change over time.
(B) Cultivation analysis	(II) Simultaneous analysis of two or more data tables.
(C) Factor analysis	(III) Analysis of perceptions of social world.
(D) Canonical analysis	(IV) A multivariate statistical test used for data reduction.

Choose the correct answer from the options given below :

- (1) (A)-(I), (B)-(II), (C)-(III), (D)-(IV)

- (2) (A)-(II), (B)-(III), (C)-(IV), (D)-(I)
 (3) (A)-(IV), (B)-(I), (C)-(II), (D)-(III)
 (4) (A)-(I), (B)-(III), (C)-(IV), (D)-(II)

सूची-I के साथ सूची-II का मिलान कीजिए :

सूची-I शोध के प्रकार	सूची-II शोध की विशेषताएं
(A) सहगण विश्लेषण	(I) समय के साथ बदलती हुई, एक विशेष जनसँख्या का अध्ययन
(B) कल्टीवेशन (संस्कृति) विश्लेषण	(II) दो या अधिक आँकड़ा सारणियों का साथ-साथ विश्लेषण
(C) कारक विश्लेषण	(III) सामाजिक जगत के प्रत्यक्षण का विश्लेषण
(D) प्रामाणिक विश्लेषण	(IV) आँकड़ों के लघुकरण हेतु बहुचर साँख्यिकीय परीक्षण

नीचे दिए गए विकल्पों में से सही उत्तर का चयन कीजिए :

- (1) (A)-(I), (B)-(II), (C)-(III), (D)-(IV)
 (2) (A)-(II), (B)-(III), (C)-(IV), (D)-(I)
 (3) (A)-(IV), (B)-(I), (C)-(II), (D)-(III)
 (4) (A)-(I), (B)-(III), (C)-(IV), (D)-(II)

1[Option ID=10053]
 2[Option ID=10054]
 3[Option ID=10055]
 4[Option ID=10056]

Sl. No.15
 QBID:1501015

The measures of inter-coder reliability are employed in research related to

- (1) Discourse analysis
 (2) Narrative analysis
 (3) Path analysis
 (4) Content analysis

इंटर-कोडर विश्वसनीयता के मानदंडों का प्रयोग निम्न से संबंधित शोध में होता है:

- (1) विमर्श विश्लेषण
 (2) वृत्तांत विश्लेषण
 (3) पथ विश्लेषण
 (4) विषय-वस्तु विश्लेषण

1[Option ID=10057]
 2[Option ID=10058]
 3[Option ID=10059]
 4[Option ID=10060]

Sl. No.16
 QBID:1501016

Transforming ideas, thoughts and messages into verbal and non-verbal signs and symbols is known as

- (1) Channelisation

(2) Controlled communication

(3) Encoding

(4) Decoding

धारणाओं, विचारों और संदेशों का मौखिक एवं गैर-मौखिक प्रतीकों में रूपांतरण किस नाम से जाना जाता है ?

(1) मार्गीकरण (चैनेलाइजेशन)

(2) नियंत्रित सम्प्रेषण

(3) कूटलेखन

(4) विकूटन

1[Option ID=10061]

2[Option ID=10062]

3[Option ID=10063]

4[Option ID=10064]

Sl. No.17

QBID:1501017

Which of the following are the effects of oral communication?

(A) Fragmented information

(B) Personal connect

(C) Feed back

(D) Objectivity

(E) Absence of interpretation

Choose the correct answer from the options given below :

(1) (A) and (B) only

(2) (A), (B) and (C) only

(3) (B) and (C) only

(4) (C), (D) and (E) only

निम्नलिखित में से कौन से मौखिक सम्प्रेषण के प्रभाव हैं?

(A) खंडात्मक सूचना

(B) वैयक्तिक संबंध

(C) प्रतिपुष्टि (फीडबैक)

(D) वस्तुनिष्ठता

(E) व्याख्या का अभाव

नीचे दिए गए विकल्पों में से सही उत्तर का चयन कीजिए :

(1) केवल (A) और (B)

(2) केवल (A), (B) और (C)

(3) केवल (B) और (C)

(4) केवल (C), (D) और (E)

1[Option ID=10065]

2[Option ID=10066]

3[Option ID=10067]

4[Option ID=10068]

Sl. No.18

QBID:1501018

Given below are two statements :

Statement I : The psychological obstacle in communication can be seen when the receiver fails to refer language to reality and experience.

Statement II : The stereotypes held by one also contribute to the failure of language to reflect social reality.

In the light of the above statements, choose the correct answer from the options given below:

- (1) Both Statement I and Statement II are true
- (2) Both Statement I and Statement II are false
- (3) Statement I is true but Statement II is false
- (4) Statement I is false but Statement II is true

नीचे दो कथन दिए गए हैं :

कथन (I) : सम्प्रेषण में मनोवैज्ञानिक बाधा तब देखी जा सकती है, जब ग्रहणकर्ता यथार्थ एवं अनुभव को भाषा का संदर्भ देने में विफल रहता है।

कथन (II) : किसी व्यक्ति के रूढ़ प्ररूप सामाजिक यथार्थता को प्रतिबिंबित करने में भाषा की विफलता में भी योगदान करते हैं।

उपरोक्त कथन के आलोक में, नीचे दिए गए विकल्पों में से सही उत्तर का चयन कीजिए :

- (1) कथन I और II दोनों सत्य हैं।
- (2) कथन I और II दोनों असत्य हैं।
- (3) कथन I सत्य है, लेकिन कथन II असत्य है।
- (4) कथन I असत्य है, लेकिन कथन II सत्य है।

1[Option ID=10069]
2[Option ID=10070]
3[Option ID=10071]
4[Option ID=10072]

Sl. No.19
QBID:1501019

Identify the correct sequence of the elements of communication set by Aristotle:

- (A) Speech
- (B) Speaker
- (C) Audience
- (D) Occasion
- (E) Effect

Choose the correct answer from the options given below :

- (1) (A), (D), (B), (C), (E)
- (2) (D), (B), (A), (E), (C)
- (3) (C), (D), (A), (E), (B)
- (4) (B), (A), (D), (C), (E)

अरस्तू द्वारा निर्धारित सम्प्रेषण के तत्वों के सही क्रम की पहचान कीजिए :

- (A) भाषण
- (B) वक्ता
- (C) श्रोता
- (D) अवसर
- (E) प्रभाव

नीचे दिए गए विकल्पों में से सही उत्तर का चयन कीजिए :

- (1) (A), (D), (B), (C), (E)
- (2) (D), (B), (A), (E), (C)

(3) (C), (D), (A), (E), (B)

(4) (B), (A), (D), (C), (E)

1[Option ID=10073]

2[Option ID=10074]

3[Option ID=10075]

4[Option ID=10076]

Sl. No.20

QBID:1501020

Match List I with List II :

List I	List II
Types of Communication Effects	Source of Service
(A) Instrumental	(I) Author's observation
(B) Prestige	(II) A range of special requests
(C) Reinforcement	(III) Sentimental fiction
(D) Aesthetic	(IV) Factual reports

Choose the correct answer from the options given below:

(1) (A)-(II), (B)-(III), (C)-(IV), (D)-(I)

(2) (A)-(III), (B)-(IV), (C)-(II), (D)-(I)

(3) (A)-(IV), (B)-(III), (C)-(II), (D)-(I)

(4) (A)-(I), (B)-(IV), (C)-(II), (D)-(III)

सूची I के साथ सूची II का मिलान कीजिए।

सूची I
सम्प्रेषण के प्रभाव के प्रकार
(A) सहायक
(B) प्रतिष्ठा
(C) पुनर्बलन
(D) सौंदर्यपरक

सूची II
सेवा का स्रोत
(I) लेखक का अवलोकन
(II) विशेष अनुरोधों की एक रेन्ज
(III) भावपूर्ण कथा-साहित्य
(IV) तथ्यात्मक रिपोर्टें

दिए गए विकल्पों में से सही उत्तर का चयन कीजिए :

(1) (A)-(II), (B)-(III), (C)-(IV), (D)-(I)

(2) (A)-(III), (B)-(IV), (C)-(II), (D)-(I)

(3) (A)-(IV), (B)-(III), (C)-(II), (D)-(I)

(4) (A)-(I), (B)-(IV), (C)-(II), (D)-(III)

1[Option ID=10077]

2[Option ID=10078]

3[Option ID=10079]

4[Option ID=10080]

Sl. No.21

QBID:1501021

Find the wrong term in the series given below:

16, 22, 30, 45, 52, 66,

(1) 22

(2) 30

(3) 66

(4) 45

नीचे दी गई श्रृंखला में गलत पद का पता लगाइए?

16, 22, 30, 45, 52, 66,

(1) 22

(2) 30

(3) 66

(4) 45

1[Option ID=10081]

2[Option ID=10082]

3[Option ID=10083]

4[Option ID=10084]

SI. No.22

QBID:1501022

If the word EARTH be written as QPMZS in coded form, how can the word HEART be written in the same code?

(1) SPMZQ

(2) SQMPZ

(3) SPMQZ

(4) SQPMZ

यदि शब्द - EARTH को कूट रूप में QPMZS लिखा जाता है तो HEART को उसी कूट में किस प्रकार लिखा जा सकता है?

(1) SPMZQ

(2) SQMPZ

(3) SPMQZ

(4) SQPMZ

1[Option ID=10085]

2[Option ID=10086]

3[Option ID=10087]

4[Option ID=10088]

SI. No.23

QBID:1501023

Compute the value of $\frac{(0.35)^2 - (0.03)^2}{0.19}$ upto 3 decimal places:

(1) 0.064

(2) 0.64

(3) 0.006

(4) 0.694

$\frac{(0.35)^2 - (0.03)^2}{0.19}$ के मान की दशमलव के तीन स्थानों तक गणना कीजिए।

(1) 0.064

(2) 0.64

(3) 0.006

(4) 0.694

1[Option ID=10089]

2[Option ID=10090]

3[Option ID=10091]

4[Option ID=10092]

Sl. No.24

QBID:1501024

10 chairs and 5 tables were purchased for Rs. 17,500. If the average cost of a chair is Rs.1000, What is the average cost of a table?

(1) Rs. 1,400

(2) Rs. 1,200

(3) Rs. 1,100

(4) Rs. 1,500

10 कुर्सियाँ और 5 मेजों को रु 17,500 में खरीदा गया। यदि एक कुर्सी की औसत कीमत 1000 रु है; तब एक मेज की कीमत औसत क्या है?

(1) रु. 1,400

(2) रु. 1,200

(3) रु. 1,100

(4) रु. 1,500

1[Option ID=10093]

2[Option ID=10094]

3[Option ID=10095]

4[Option ID=10096]

Sl. No.25

QBID:1501025

An Aeroplane started 30 minutes later than the scheduled time from a place 1500 km away from its destination. To reach the destination at the scheduled time the pilot needed to increase the speed by 250 km/hr. What was the speed of the Aeroplane during journey? (in km/hr).

(1) 750

(2) 1000

(3) 800

(4) 900

एक हवाई जहाज ने अपने गंतव्य से 1500 कि.मी. की दूरी पर किसी स्थान से अपने निर्धारित समय से 30 मिनट की देरी से उड़ना प्रारंभ किया। अपने गंतव्य पर निर्धारित समय से पहुँचने हेतु पायलट को गति में 250 किमी. प्रति घंटे की दर से वृद्धि करनी आवश्यक हुयी। यात्रा के दौरान हवाई जहाज की गति कितनी थी (किमी./घंटा में)?

(1) 750

(2) 1000

(3) 800

(4)

1[Option ID=10097]
 2[Option ID=10098]
 3[Option ID=10099]
 4[Option ID=10100]

Sl. No.26
 QBID:1501026

In classical square of opposition if 'No S is P' is given as false then which of the following could be immediately inferred from it?

- (A) 'Some S is not P' is true
- (B) 'All S is P' is undetermined
- (C) 'Some S is not P' is undetermined
- (D) 'Some S is P' is true
- (E) 'Some S is not P' is false

Choose the correct answer from the options given below :

- (1) (B), (D) and (E) only
- (2) (A), (B) and (D) only
- (3) (A), (D) and (E) only
- (4) (B), (C) and (D) only

वियुति के क्लासिकीय वर्ग में यदि 'कोई S, P नहीं है', असल के रूप में दिया हो तब निम्नलिखित में से इससे कौन-सा सीधे तौर पर अनुमान लगाया जा सकता है।

- (A) 'कुछ S, P नहीं है', सत्य है
- (B) 'सभी S, P है', अनिर्धारित है।
- (C) 'कुछ S, P नहीं है', अनिर्धारित है।
- (D) 'कुछ S, P है', सही है
- (E) 'कुछ S, P नहीं है', गलत है

नीचे दिए गए विकल्पों में से सही उत्तर का चयन कीजिए :

- (1) केवल (B), (D) और (E)
- (2) केवल (A), (B) और (D)
- (3) केवल (A), (D) और (E)
- (4) केवल (B), (C) और (D)

1[Option ID=10101]

2[Option ID=10102]
3[Option ID=10103]
4[Option ID=10104]

SI. No.27
QBID:1501027

Which Fallacy is committed in the following argument?

“Smooth Sailing is all that’s there to LIFE with ABC Insurance Policy.”

- (1) The Appeal to Emotion
- (2) The Appeal to Pity
- (3) The Appeal to Force
- (4) Irrelevant Conclusion

निम्नलिखित युक्ति में कौन-सा दोष व्याप्त है?

“ए बी सी बीमा पॉलिसी के साथ जीवन-यापन सुगम होता है”

- (1) भावना के लिए आग्रह
- (2) दया के लिए आग्रह
- (3) बल के लिए आग्रह
- (4) अप्रासंगिक निष्कर्ष

1[Option ID=10105]
2[Option ID=10106]
3[Option ID=10107]
4[Option ID=10108]

SI. No.28
QBID:1501028

Given below are two statements :

Statement I : To draw an analogy between two or more entities is to indicate one or more respects in which they are similar.

Statement II : Every analogical inference proceeds from the similarity of two or more things in one or more respects to the similarity of those things in some further respect.

In the light of the above statements, choose the most appropriate answer from the options given below:

- (1) Both Statement I and Statement II are correct
- (2) Both Statement I and Statement II are incorrect
- (3) Statement I is correct but Statement II is incorrect
- (4) Statement I is incorrect but Statement II is correct

नीचे दो कथन दिए गए हैं :

कथन (I) : दो या अधिक सत्ताओं के मध्य अनुरूपता को बनाना एक या अधिक पहलुओं में उनकी समानता की तरफ इंगित करता है।

कथन (II) : प्रत्येक सादृश्यमूलक अनुमान एक या उससे अधिक पहलुओं में दो या उससे अधिक वस्तुओं की समानता से उन वस्तुओं के किसी अतिरिक्त पहलू की समानता की ओर अग्रसर होता है।

उपरोक्त कथन के आलोक में, नीचे दिए गए विकल्पों में से सबसे उपयुक्त उत्तर का चयन कीजिए :

- (1) कथन I और II दोनों सही हैं।

- (2) कथन I और II दोनों गलत हैं ।
(3) कथन I सही है, लेकिन कथन II गलत है ।
(4) कथन I गलत है, लेकिन कथन II सही है ।

1[Option ID=10109]
2[Option ID=10110]
3[Option ID=10111]
4[Option ID=10112]

Sl. No.29
QBID:1501029

Given below are two statements :

Statement I : For the Classical Indian thinkers, inference (anumāna) means only syllogistic inference.

Statement II : Unlike Aristotelian Syllogism, anumāna involves four steps instead of three.

In the light of the above statements, choose the correct answer from the options given below:

- (1) Both Statement I and Statement II are true
(2) Both Statement I and Statement II are false
(3) Statement I is true but Statement II is false
(4) Statement I is false but Statement II is true

नीचे दो कथन दिए गए हैं :

कथन (I) : क्लासिकी भारतीय चिंतको के लिए अनुमान का अर्थ केवल न्यायबद्ध अनुमान से है ।

कथन (II) : अरस्तूवादी न्यायवाक्य से विपरीत अनुमान में तीन के बजाय चार चरण शामिल होते हैं ।

उपरोक्त कथन के आलोक में, नीचे दिए गए विकल्पों में से सही उत्तर का चयन कीजिए :

- (1) कथन I और II दोनों सत्य हैं ।
(2) कथन I और II दोनों असत्य हैं ।
(3) कथन I सत्य है, लेकिन कथन II असत्य है ।
(4) कथन I असत्य है, लेकिन कथन II सत्य है ।

1[Option ID=10113]
2[Option ID=10114]
3[Option ID=10115]
4[Option ID=10116]

Sl. No.30
QBID:1501030

Which of the following means of knowledge involves positing of something for making any unit of cognition self-complete?

- (1) Comparison (Upamāna)
(2) Postulation (Arthāpatti)
(3) Non-Cognition (Anupalabdhi)
(4) Verbal Testimony (Śabda)

ज्ञान के निम्नलिखित साधनों में से किस में बोध की कोई भी ईकाई की स्वपूर्णता निर्मित करने हेतु कुछ मान लेना शामिल होता है?

- (1)

उपमान

- (2) अर्थापत्ति
- (3) अनुपलब्धि
- (4) शब्द

1[Option ID=10117]
2[Option ID=10118]
3[Option ID=10119]
4[Option ID=10120]

Sl. No.31
QBID:1501031

With respect to data communication, which of the following statements is true about fibre optic cable?

- (1) Fibre optic cable carries data in pulses of light and is prone to interference.
- (2) Fibre optic cable carries data as electronic signals and is not prone to interference.
- (3) Fibre optic cable carries data as electronic signals and is prone to interference.
- (4) Fibre optic cable carries data in pulses of light and is not prone to interference.

डाटा (आँकड़ा) संचार के संदर्भ में, फाइबर ऑप्टिक केबल के बारे में निम्नलिखित में से कौन-सा कथन सही है?

- (1) फाइबर ऑप्टिक केबल प्रकाश स्पंद में आँकड़े ले जाता है और यह व्याघात उन्मुख है।
- (2) फाइबर ऑप्टिक केबल इलैक्ट्रॉनिक संकेतकों के रूप में आँकड़े ले जाता है और यह व्याघात उन्मुख है।
- (3) फाइबर ऑप्टिक केबल इलैक्ट्रॉनिक संकेतकों के रूप में आँकड़े ले जाता है और यह व्याघात उन्मुख है।
- (4) फाइबर ऑप्टिक केबल प्रकाश स्पंद में आँकड़े ले जाता है और यह व्याघात उन्मुख नहीं है।

1[Option ID=10121]
2[Option ID=10122]
3[Option ID=10123]
4[Option ID=10124]

Sl. No.32
QBID:1501032

Arrange the following computer memory types from fastest to slowest speed:

- (A) Hard Disk
- (B) Main Memory (RAM)
- (C) CD-ROM
- (D) CPU Registers
- (E) Cache Memory

Choose the correct answer from the options given below :

- (1) (D), (E), (A), (B), (C)
- (2) (A), (C), (B), (D), (E)
- (3) (E), (D), (B), (A), (C)
- (4) (D), (E), (B), (A), (C)

कंप्यूटर स्मृति के निम्नलिखित प्रकारों को तीव्रतम से मंदगति के क्रम में लिखिए :

- (A) हार्ड डिस्क
- (B) मुख्य स्मृति (आर ए एम)
- (C) सी डी - आर ओ एम
- (D) सी पी यू रजिस्टर
- (E) काशे स्मृति (काशे मेमोरी)

नीचे दिए गए विकल्पों में से सही उत्तर का चयन कीजिए :

- (1) (D), (E), (A), (B), (C)
- (2) (A), (C), (B), (D), (E)
- (3) (E), (D), (B), (A), (C)
- (4) (D), (E), (B), (A), (C)

1[Option ID=10125]
2[Option ID=10126]
3[Option ID=10127]
4[Option ID=10128]

Sl. No.33
QBID:1501033

Which of the following statements about malware are true?

- (A) A Trojan Horse is malware disguised as legitimate software.
- (B) A Virus inserts itself into another program. It runs and spreads itself when the program is opened.
- (C) A worm is similar to a virus except that it does not need a program in order to run. It spreads by itself.

Choose the correct answer from the options given below :

- (1) (A) and (B) only
- (2) (A) and (C) only
- (3) (B) and (C) only
- (4) (A), (B) and (C)

मालवेयर के संदर्भ में निम्नलिखित कथनों में से कौन सा कथन सही है?

- (A) ट्रोजन हॉर्स एक मालवेयर है जो वैध सॉफ्टवेयर के छद्मवेश में होता है।
- (B) वाइरस किसी दूसरे प्रोग्राम में स्वयं घुस जाता है। जब प्रोग्राम खोला जाता है तो यह इसमें चलने और फैलने लगता है।
- (C) कृमि एक वायरस के समान होता है। इसमें अंतर सिर्फ यह होता है कि इसको चलने के लिए प्रोग्राम की आवश्यकता नहीं होती। यह स्वयं फैलता है।

नीचे दिए गए विकल्पों में से सही उत्तर का चयन कीजिए :

- (1) केवल (A) और (B)
- (2) केवल (A) और (C)
- (3) केवल (B) और (C)
- (4) केवल (A), (B) और (C)

1[Option ID=10129]
2[Option ID=10130]
3[Option ID=10131]
4[Option ID=10132]

Sl. No.34
QBID:1501034

Match List I with List II

List I (File)	List II (File Format)
(A) Video	(I) .xlsx
(B) Podcast	(II) .jpg
(C) Photograph	(III) .mp4
(D) Spreadsheet	(IV) .mp3

Choose the correct answer from the options given below :

- (1) (A)-(III), (B)-(II), (C)-(IV), (D)-(I)
- (2) (A)-(II), (B)-(IV), (C)-(III), (D)-(I)
- (3) (A)-(III), (B)-(IV), (C)-(II), (D)-(I)
- (4) (A)-(I), (B)-(IV), (C)-(II), (D)-(III)

सूची-I के साथ सूची-II का मिलान कीजिए :

सूची-I फाइल	सूची-II फाइल फॉर्मेट
(A) वीडियो	(I) .एक्सएलएसएक्स
(B) पॉडकास्ट	(II) .जेपीजी
(C) फोटोग्राफ	(III) .एमपी4
(D) स्प्रेडशीट	(IV) .एमपी3

नीचे दिए गए विकल्पों में से सही उत्तर का चयन कीजिए :

- (1) (A)-(III), (B)-(II), (C)-(IV), (D)-(I)
- (2) (A)-(II), (B)-(IV), (C)-(III), (D)-(I)
- (3) (A)-(III), (B)-(IV), (C)-(II), (D)-(I)
- (4) (A)-(I), (B)-(IV), (C)-(II), (D)-(III)

1[Option ID=10133]
2[Option ID=10134]
3[Option ID=10135]
4[Option ID=10136]

Sl. No.35
QBID:1501035

In the following spreadsheet, which of the formulae below would be best for cell C2? Note that the formula must be able to be copied down from C2 to both C3 and C4.

	A	B	C
1	Lunch Cost (Rs.)	Dinner Cost (Rs.)	Total Cost (Rs.)
2	15	27	42
3	23	35	58
4	10	35	45

- (1) = A\$2 + \$B2
- (2) = \$A\$2 + B2
- (3) = \$A\$2 + \$B\$2
- (4) = \$A2 + \$B2

निम्नलिखित विस्तार शीट (स्प्रेडशीट) में, निम्नलिखित में कौन-सा सूत्र (फॉर्मूला) सेल सी 2 के लिए सर्वोत्तम रहेगा ? नोट करें कि फॉर्मूला, सी 2 से सी 3 और सी 4 दोनों में कॉपी हो सके।

	ए	बी	सी
1	मध्यान्ह भोजन लागत (रु.)	रात्रि भोजन लागत (रु.)	कुल लागत (रु.)
2	15	27	42
3	23	35	58
4	10	35	45

(1) = ए\$2 + \$बी\$2

(2) = \$ए\$2 + बी\$2

(3) = \$ए\$2 + \$बी\$2

(4) = \$ए2 + \$बी\$2

1[Option ID=10137]
2[Option ID=10138]
3[Option ID=10139]
4[Option ID=10140]

Sl. No.36

QBID:1501036

Given below are two statements : One is labelled as Assertion (A) and the other is labelled as Reason (R) :

Assertion (A) : Soil Pollution due to detergents affects the root growth of the plants and depresses the growth of soil micro-organisms.

Reason (R) : Presence of detergents in soil makes the soil more acidic.

In the light of the above statements, choose the most appropriate answer from the options given below :

- (1) Both (A) and (R) are correct and (R) is the correct explanation of (A)
- (2) Both (A) and (R) are correct but (R) is NOT the correct explanation of (A)
- (3) (A) is correct but (R) is not correct
- (4) (A) is not correct but (R) is correct

नीचे दो कथन दिए गए हैं : एक अभिकथन (Assertion A) के रूप में लिखित है तो दूसरा उसके कारण (Reason R) के रूप में :

अभिकथन (A) : अपमार्जकों (डिटर्जेंट) के कारण हुए मृदा प्रदूषण से पौधों के मूल विकास पर प्रभाव पड़ता है और मृदा की सूक्ष्म जीवों के विकास को भी कम कर देता है।

कारण (R) : मृदा में डिटर्जेंट की उपस्थिति मृदा को अधिक अम्लीय बना देता है।

उपरोक्त कथन के आलोक में, नीचे दिए गए विकल्पों में से सबसे उपयुक्त उत्तर का चयन कीजिए :

- (1) (A) और (R) दोनों सही हैं और (R), (A) की सही व्याख्या है।
- (2) (A) और (R) दोनों सही हैं, लेकिन (R), (A) की सही व्याख्या नहीं है।
- (3) (A) सही है, लेकिन (R) सही नहीं है।
- (4) (A) सही नहीं है, लेकिन (R) सही है।

1[Option ID=10141]
2[Option ID=10142]
3[Option ID=10143]
4[Option ID=10144]

Sl. No.37
QBID:1501037

Examples of Persistent Organic Pollutants (POPs) are:

- (A) Dioxins
- (B) PAN
- (C) VOC
- (D) FURANS
- (E) PCB

Choose the correct answer from the options given below :

- (1) (A), (D), (E) only
- (2) (A), (B), (D) only
- (3) (B), (C), (E) only
- (4) (C), (D), (E) only

सतत जैव प्रदूषकों (POPs) के उदाहरण हैं :

- (A) डायोक्सिन्स
- (B) पीएन (PAN)
- (C) वी ओ सी (VOC)
- (D) फ्यूरांस
- (E) पी सी बी

नीचे दिए गए विकल्पों में से सही उत्तर का चयन कीजिए :

- (1) केवल (A), (D), (E)
- (2) केवल (A), (B), (D)
- (3) केवल (B), (C), (E)
- (4) केवल (C), (D), (E)

1[Option ID=10145]
2[Option ID=10146]
3[Option ID=10147]
4[Option ID=10148]

Sl. No.38
QBID:1501038

In the first commitment period of Kyoto Protocol, how many green house gases were covered for reducing their emissions?

- (1) 4
- (2) 5
- (3) 6
- (4) 7

क्योटो प्रोटोकॉल की प्रथम प्रतिबद्धता अवधि में कितने ग्रीन हाउस गैसों के उत्सर्जन को कम करने के लिए आवरित किया गया था ?

- (1) 4
- (2) 5
- (3) 6
- (4) 7

1[Option ID=10149]
2[Option ID=10150]
3[Option ID=10151]
4[Option ID=10152]

Sl. No.39
QBID:1501039

Given below are two statements : One is labelled as Assertion (A) and the other is labelled as Reason (R) :

Assertion (A) : Green hydrogen production will be critical for world community to achieve carbon neutrality by the year 2050.

Reason (R) : The energy content of hydrogen gas is much higher than that of coal.

In the light of the above statements, choose the correct answer from the options given below :

- (1) Both (A) and (R) are true and (R) is the correct explanation of (A)
- (2) Both (A) and (R) are true but (R) is NOT the correct explanation of (A)
- (3) (A) is true but (R) is false
- (4) (A) is false but (R) is true

नीचे दो कथन दिए गए हैं : एक अभिकथन (Assertion A) के रूप में लिखित है तो दूसरा उसके कारण (Reason R) के रूप में :

अभिकथन (A) : विश्व समुदाय के लिए 2050 तक कार्बन निरपेक्षता प्राप्त करने हेतु हरित हाइड्रोजन का उत्पादन निर्णायक होगा।

कारण (R) : हाइड्रोजन गैस की ऊर्जा मात्रा कोयले की अपेक्षा बहुत अधिक होती है।

उपरोक्त कथन के आलोक में, नीचे दिए गए विकल्पों में से सही उत्तर का चयन कीजिए :

- (1) (A) और (R) दोनों सत्य हैं और (R), (A) की सही व्याख्या है।
- (2) (A) और (R) दोनों सत्य हैं, लेकिन (R), (A) की सही व्याख्या नहीं है।
- (3) (A) सत्य है, लेकिन (R) असत्य नहीं है।
- (4) (A) असत्य है, लेकिन (R) सत्य है।

1[Option ID=10153]
2[Option ID=10154]
3[Option ID=10155]
4[Option ID=10156]

SI. No.40
QBID:1501040

Since the start of industrial revolution, the acidity of ocean's surface water has

- (1) increased by ~10%
- (2) remained constant
- (3) decreased by ~25%
- (4) increased by ~30%

औद्योगिक क्रांति की शुरुआत से समुद्र के सतही जल की अम्लता-

- (1) ~10% बढ़ गयी है
- (2) यथावत है
- (3) ~25% कम हो गयी है
- (4)

~30% बढ़ गयी है

- 1[Option ID=10157]
- 2[Option ID=10158]
- 3[Option ID=10159]
- 4[Option ID=10160]

SI. No.41
QBID:1501041

A Government University with Institute of Eminence status can have foreign faculty upto a maximum of

- (1) 20% of total faculty strength
- (2) 25% of total faculty strength
- (3) 30% of total faculty strength
- (4) 35% of total faculty strength

लब्ध प्रतिष्ठित संस्थान की स्थिति प्राप्त शासकीय विश्वविद्यालय में अधिकतम कितने विदेशी शिक्षक रखे जा सकते हैं?

- (1) कुल शिक्षकों की संख्या का 20%
- (2) कुल शिक्षकों की संख्या का 25%
- (3) कुल शिक्षकों की संख्या का 30%
- (4) कुल शिक्षकों की संख्या का 35%

- 1[Option ID=10161]
- 2[Option ID=10162]
- 3[Option ID=10163]
- 4[Option ID=10164]

SI. No.42
QBID:1501042

Credits earned by a student and stored in Academic Bank of Credit, after the date of earning such credits, will have validity upto a maximum of

- (1) 7 years
- (2) 10 years
- (3) 12 years
- (4) 15 years

किसी छात्र द्वारा अर्जित और अकादमिक क्रेडिट बैंक में जमा क्रेडिट, प्राप्त करने की तिथि के पश्चात, अधिकतम कब तक के लिये वैध होंगे?

- (1) 7 वर्षों के लिए
- (2) 10 वर्षों के लिए
- (3) 12 वर्षों के लिए
- (4) 15 वर्षों के लिए

- 1[Option ID=10165]
- 2[Option ID=10166]
- 3[Option ID=10167]
- 4[Option ID=10168]

SI. No.43
QBID:1501043

Identify the statutory bodies of a University:

- (A) Board of studies
- (B) Academic Council
- (C) Executive Council
- (D) Finance Committee
- (E) University Court

Choose the correct answer from the options given below :

- (1) (A), (B), (C), (D) only
- (2) (A), (C) only
- (3) (A), (C), (E) only
- (4) (B), (C), (D), (E) only

विश्वविद्यालय के सांविधिक निकायों को चिन्हित कीजिए :

- (A) अध्ययन मंडल
- (B) शैक्षिक परिषद
- (C) कार्यकारी परिषद
- (D) वित्त समिति
- (E) विश्वविद्यालय कोर्ट



नीचे दिए गए विकल्पों में से सही उत्तर का चयन कीजिए :

- (1) केवल (A), (B), (C), (D)
- (2) केवल (A), (C)
- (3) केवल (A), (C), (E)
- (4) केवल (B), (C), (D), (E)

1[Option ID=10169]
2[Option ID=10170]
3[Option ID=10171]
4[Option ID=10172]

Sl. No.44
QBID:1501044

Environmental education must be integral to all academic programmes as students need to be mainly sensitized about

- (1) its interdisciplinary and multidisciplinary nature
- (2) its emergence as a specialized field
- (3) relationship between culture and environment

(4) environmental degradation and its consequences for life on earth

पर्यावरणी शिक्षा आवश्यक रूप से सभी शैक्षिक कार्यक्रमों का अनिवार्य अंग होना चाहिए जिससे छात्रों को निम्न के बारे में मुख्यतः जागरूक बनाया जा सके:

- (1) इसकी अंतर्विषयी और बहुविषयी प्रकृति
- (2) इसका विशेष क्षेत्र के रूप में आविर्भाव
- (3) संस्कृति और पर्यावरण के मध्य संबंध
- (4) पर्यावरणी निम्नीकरण और पृथ्वी पर जीवन के लिए इसका परिणाम

1[Option ID=10173]
2[Option ID=10174]
3[Option ID=10175]
4[Option ID=10176]

Sl. No.45
QBID:1501045

'How could a lamp, which does not keep on burning, light another lamp?' This statement is from the book titled 'Siksha (learning). Who among the following is the author of this book?

- (1) Rabindranath Tagore
- (2) Sarvapalli Radhakrishnan
- (3) Jyoti Phule
- (4) Savitribai Phule

'कोई दीपक जब स्वयं नहीं जल रहा है, किसी अन्य दीपक को कैसे जला सकता है?' यह कथन शिक्षा (सीखना) शीर्षक पुस्तक से है। निम्नलिखित में से इस पुस्तक के लेखक कौन हैं?

- (1) रबीन्द्रनाथ टैगार
- (2) सर्वपल्ली राधाकृष्णन
- (3) ज्योतिबा फुले
- (4) सावित्री बाई फुले

1[Option ID=10177]
2[Option ID=10178]
3[Option ID=10179]
4[Option ID=10180]

Sl. No.46
QBID:1501046

Read the following passage and answer the questions :

An essential function of hegemony involves convincing people to support the existence of a social system that does not support them in return. Marginalised groups do not often protest or revolt against ideologies that overwhelmingly support privileged groups because, on some level, they consent to being dominated. This statement prompts an immediate question: Why would anyone consent to such an arrangement? While dominant ideologies may reflect the desires and interests of socially powerful groups, for these ideologies to remain dormant or hegemonic, they must also feature an additional promise. It is in the best interest of the marginalized groups to accept these beliefs as well. Put another way, members of socially powerful groups act to have their world view accepted as the universal way of thinking, and members outside these groups come to accept some of these ideologies because they appear beneficial in some way. This is referred to as a process of spontaneous consent because it is typically informal or unnoticed. The best way to understand the spontaneous consent of hegemony is through an example. A number of ideological components within a nation's higher education system may not be in the best interests of students. One dominant belief suggests that college students should pay for their own education. Despite being affected by the belief, they accept it, and the ideology survives. When such consent fails, however, the concept of hegemony also explains how dominant ideologies evolve to contain this failure through a process of flexible appropriation. In such a situation, it is likely that dominant cultural institutions will absorb any challenging beliefs, integrate them into the hegemonic matrix, and re-establish the previous norm. As a result, hegemonic systems never go away. They simply change form through a process of constant give and take between social group. Hegemonic ideological structures maintain control in part through the never-ending process of integration and appropriation of marginalised ideologies.

निम्नलिखित गद्यांश को पढ़ें और प्रश्न संख्या 46 से 50 तक के उत्तर दीजिए :

आधिपत्य के एक आवश्यक कार्य में एक सामाजिक व्यवस्था के अस्तित्व के प्रति समर्थन देने के लिए लोगों को आश्वस्त करना शामिल है, जो बदले में उनका समर्थन नहीं करती है। सीमांत समूह प्रायः उन विचारधाराओं का विरोध या उनके प्रति विद्रोह नहीं करते, जो विशेषाधिकार-प्राप्त समूहों का अत्याधिक समर्थन करती हैं, क्योंकि वे किसी स्तर पर आधिपत्य जमाने देने पर सहमत होने दे रहे होते हैं। इस कथन से तत्काल प्रश्न खड़ा होता है। कोई भी व्यक्ति क्यों इस प्रकार की व्यवस्था के प्रति सहमत होता है? जबकि वर्चस्वकारी विचारधाराएं सामाजिक रूप से शक्तिशाली समूहों की इच्छाओं और हितों को प्रतिबिंबित करती हैं, इन विचारधाराओं के प्रसुप्त या आधिपत्यवादी बने रहने के लिए उनमें एक अतिरिक्त वचन देने की विशेषता भी आवश्यक है। सीमांत समूहों का श्रेष्ठ हित इन धारणाओं को स्वीकार करने में भी है। अन्य तरीके से कहा जाए तो सामाजिक रूप से शक्तिशाली समूह उनके वैश्विक दृष्टिकोण को सार्वभौमिक चिंतन के तरीके के रूप में स्वीकार करने के लिए कार्य करते हैं और इन समूहों के बाहर के सदस्य इन विचारधाराओं को स्वीकार करने लगते हैं क्योंकि ये उन्हें किसी तरीके से लाभप्रद लगती हैं। इसे स्वतः स्फूर्त सहमति की एक प्रक्रिया के रूप में संदर्भित किया जाता है क्योंकि यह विशिष्ट रूप से अनौपचारिक है या उस पर ध्यान नहीं जाता। आधिपत्य के प्रति स्वतः स्फूर्त सहमति को एक उदाहरण के माध्यम से श्रेष्ठ तरीके से समझा जा सकता है। किसी देश की उच्च शिक्षा प्रणाली के भीतर अनेक वैचारिक घटक विद्यार्थियों के सर्वोत्तम हितों में नहीं हो सकते हैं। एक वर्चस्वकारी धारणा सुझाती है कि कॉलेज के विद्यार्थियों को अपनी स्वयं की शिक्षा का भुगतान करना चाहिए। इस धारणा से प्रभावित होने के बावजूद वे इसे स्वीकार कर लेते हैं और यह विचारधारा बनी रहती है। लेकिन, जब इस प्रकार की सहमति विफल हो जाती है तो आधिपत्य की अवधारणा स्पष्ट करती है कि किस प्रकार वर्चस्वकारी विचारधाराएं लचीले विनियोजन की प्रक्रिया के माध्यम से इस विफलता को रोकने के लिए विकसित होती हैं। इस तरह की स्थिति में यह संभावना है कि वर्चस्वकारी सांस्कृतिक संस्थाएं किसी चुनौतीपूर्ण धारणा को आत्मसात करेंगी उन्हें आधिपत्यवादी मैट्रिक्स में एकीकृत करेंगी और पूर्ववर्ती मानक को पुनः स्थापित करेंगी। परिणामस्वरूप आधिपत्यवादी प्रणालियाँ कभी भी लुप्त नहीं होतीं। वे सामाजिक समूहों के बीच निरंतर लेन-देन की प्रक्रिया के माध्यम से केवल रूप बदलती हैं। आधिपत्यवादी वैचारिक संरचनाएं आंशिक रूप से सीमांत विचारधाराओं के एकीकरण और विनियोजन की कभी भी न समाप्त होने वाली प्रक्रिया के माध्यम से नियंत्रण बनाए रखती हैं।

Despite hegemony, why marginalised people do not protest?

- (1) Because they are too weak.
- (2) They are not bothered being dominated.
- (3) Privileged groups forcefully suppress them.
- (4) Because of the promise that the dominant ideology is in their best interest.

सीमांत लोग आधिपत्य के बावजूद विरोध क्यों नहीं करते हैं?

- (1) क्योंकि वे अत्यधिक कमजोर हैं।
- (2)

उन्हें आधिपत्य में रहने के बारे में चिंता नहीं है।

(3) विशेषाधिकार-प्राप्त समूह बलपूर्वक उनका दमन करते हैं।

(4) इस वचन के कारण से कि वर्चस्वकारी विचार धारा उनके सर्वोत्तम हित में है।

- 1[Option ID=10181]
2[Option ID=10182]
3[Option ID=10183]
4[Option ID=10184]

Sl. No.47
QBID:1501047

Read the following passage and answer the questions :

An essential function of hegemony involves convincing people to support the existence of a social system that does not support them in return. Marginalised groups do not often protest or revolt against ideologies that overwhelmingly support privileged groups because, on some level, they consent to being dominated. This statement prompts an immediate question: Why would anyone consent to such an arrangement? While dominant ideologies may reflect the desires and interests of socially powerful groups, for these ideologies to remain dormant or hegemonic, they must also feature an additional promise. It is in the best interest of the marginalized groups to accept these beliefs as well. Put another way, members of socially powerful groups act to have their world view accepted as the universal way of thinking, and members outside these groups come to accept some of these ideologies because they appear beneficial in some way. This is referred to as a process of spontaneous consent because it is typically informal or unnoticed. The best way to understand the spontaneous consent of hegemony is through an example. A number of ideological components within a nation's higher education system may not be in the best interests of students. One dominant belief suggests that college students should pay for their own education. Despite being affected by the belief, they accept it, and the ideology survives. When such consent fails, however, the concept of hegemony also explains how dominant ideologies evolve to contain this failure through a process of flexible appropriation. In such a situation, it is likely that dominant cultural institutions will absorb any challenging beliefs, integrate them into the hegemonic matrix, and re-establish the previous norm. As a result, hegemonic systems never go away. They simply change form through a process of constant give and take between social group. Hegemonic ideological structures maintain control in part through the never-ending process of integration and appropriation of marginalised ideologies.

निम्नलिखित गद्यांश को पढ़ें और प्रश्न संख्या 46 से 50 तक के उत्तर दीजिए :

आधिपत्य के एक आवश्यक कार्य में एक सामाजिक व्यवस्था के अस्तित्व के प्रति समर्थन देने के लिए लोगों को आश्वस्त करना शामिल है, जो बदले में उनका समर्थन नहीं करती है। सीमांत समूह प्रायः उन विचारधाराओं का विरोध या उनके प्रति विद्रोह नहीं करते, जो विशेषाधिकार-प्राप्त समूहों का अत्याधिक समर्थन करती हैं, क्योंकि वे किसी स्तर पर आधिपत्य जमाने देने पर सहमत होने दे रहे होते हैं। इस कथन से तत्काल प्रश्न खड़ा होता है। कोई भी व्यक्ति क्यों इस प्रकार की व्यवस्था के प्रति सहमत होता है? जबकि वर्चस्वकारी विचारधाराएं सामाजिक रूप से शक्तिशाली समूहों की इच्छाओं और हितों को प्रतिबिंबित करती हैं, इन विचारधाराओं के प्रसुप्त या आधिपत्यवादी बने रहने के लिए उनमें एक अतिरिक्त वचन देने की विशेषता भी आवश्यक है। सीमांत समूहों का श्रेष्ठ हित इन धारणाओं को स्वीकार करने में भी है। अन्य तरीके से कहा जाए तो सामाजिक रूप से शक्तिशाली समूह उनके वैश्विक दृष्टिकोण को सार्वभौमिक चिंतन के तरीके के रूप में स्वीकार करने के लिए कार्य करते हैं और इन समूहों के बाहर के सदस्य इन विचारधाराओं को स्वीकार करने लगते हैं क्योंकि ये उन्हें किसी तरीके से लाभप्रद लगती हैं। इसे स्वतः स्फूर्त सहमति की एक प्रक्रिया के रूप में संदर्भित किया जाता है क्योंकि यह विशिष्ट रूप से अनौपचारिक है या उस पर ध्यान नहीं जाता। आधिपत्य के प्रति स्वतः स्फूर्त सहमति को एक उदाहरण के माध्यम से श्रेष्ठ तरीके से समझा जा सकता है। किसी देश की उच्च शिक्षा प्रणाली के भीतर अनेक वैचारिक घटक विद्यार्थियों के सर्वोत्तम हितों में नहीं हो सकते हैं। एक वर्चस्वकारी धारणा सुझाती है कि कॉलेज के विद्यार्थियों को अपनी स्वयं की शिक्षा का भुगतान करना चाहिए। इस धारणा से प्रभावित होने के बावजूद वे इसे स्वीकार कर लेते हैं और यह विचारधारा बनी रहती है। लेकिन, जब इस प्रकार की सहमति विफल हो जाती है तो आधिपत्य की अवधारणा स्पष्ट करती है कि किस प्रकार वर्चस्वकारी विचारधाराएं लचीले विनियोजन की प्रक्रिया के माध्यम से इस विफलता को रोकने के लिए विकसित होती हैं। इस तरह की स्थिति में यह संभावना है कि वर्चस्वकारी सांस्कृतिक संस्थाएं किसी चुनौतीपूर्ण धारणा को आत्मसात करेंगी उन्हें आधिपत्यवादी मैट्रिक्स में एकीकृत करेंगी और पूर्ववर्ती मानक को पुनः स्थापित करेंगी। परिणामस्वरूप आधिपत्यवादी प्रणालियाँ कभी भी लुप्त नहीं होतीं। वे सामाजिक समूहों के बीच निरंतर लेन-देन की प्रक्रिया के माध्यम से केवल रूप बदलती हैं। आधिपत्यवादी वैचारिक संरचनाएं आंशिक रूप से सीमांत विचारधाराओं के एकीकरण और विनियोजन की कभी भी न समाप्त होने वाली प्रक्रिया के माध्यम से नियंत्रण बनाए रखती हैं।

What is the acceptance of domination called?

(1)

Hegemony

- (2) Marginalisation
- (3) Spontaneous consent
- (4) Reflective desire

वर्चस्व की स्वीकार्यता को क्या कहा जाता है?

- (1) आधिपत्य
- (2) सीमांतीकरण
- (3) स्वतः स्फूर्त सहमति
- (4) प्रतिबिंबिक इच्छा

1[Option ID=10185]
2[Option ID=10186]
3[Option ID=10187]
4[Option ID=10188]

Sl. No.48
QBID:1501048



Read the following passage and answer the questions :

An essential function of hegemony involves convincing people to support the existence of a social system that does not support them in return. Marginalised groups do not often protest or revolt against ideologies that overwhelmingly support privileged groups because, on some level, they consent to being dominated. This statement prompts an immediate question: Why would anyone consent to such an arrangement? While dominant ideologies may reflect the desires and interests of socially powerful groups, for these ideologies to remain dormant or hegemonic, they must also feature an additional promise. It is in the best interest of the marginalized groups to accept these beliefs as well. Put another way, members of socially powerful groups act to have their world view accepted as the universal way of thinking, and members outside these groups come to accept some of these ideologies because they appear beneficial in some way. This is referred to as a process of spontaneous consent because it is typically informal or unnoticed. The best way to understand the spontaneous consent of hegemony is through an example. A number of ideological components within a nation's higher education system may not be in the best interests of students. One dominant belief suggests that college students should pay for their own education. Despite being affected by the belief, they accept it, and the ideology survives. When such consent fails, however, the concept of hegemony also explains how dominant ideologies evolve to contain this failure through a process of flexible appropriation. In such a situation, it is likely that dominant cultural institutions will absorb any challenging beliefs, integrate them into the hegemonic matrix, and re-establish the previous norm. As a result, hegemonic systems never go away. They simply change form through a process of constant give and take between social group. Hegemonic ideological structures maintain control in part through the never-ending process of integration and appropriation of marginalised ideologies.

निम्नलिखित गद्यांश को पढ़ें और प्रश्न संख्या 46 से 50 तक के उत्तर दीजिए :

आधिपत्य के एक आवश्यक कार्य में एक सामाजिक व्यवस्था के अस्तित्व के प्रति समर्थन देने के लिए लोगों को आश्वस्त करना शामिल है, जो बदले में उनका समर्थन नहीं करती है। सीमांत समूह प्रायः उन विचारधाराओं का विरोध या उनके प्रति विद्रोह नहीं करते, जो विशेषाधिकार-प्राप्त समूहों का अत्याधिक समर्थन करती हैं, क्योंकि वे किसी स्तर पर आधिपत्य जमाने देने पर सहमत होने दे रहे होते हैं। इस कथन से तत्काल प्रश्न खड़ा होता है। कोई भी व्यक्ति क्यों इस प्रकार की व्यवस्था के प्रति सहमत होता है? जबकि वर्चस्वकारी विचारधाराएं सामाजिक रूप से शक्तिशाली समूहों की इच्छाओं और हितों को प्रतिबिंबित करती हैं, इन विचारधाराओं के प्रसुप्त या आधिपत्यवादी बने रहने के लिए उनमें एक अतिरिक्त वचन देने की विशेषता भी आवश्यक है। सीमांत समूहों का श्रेष्ठ हित इन धारणाओं को स्वीकार करने में भी है। अन्य तरीके से कहा जाए तो सामाजिक रूप से शक्तिशाली समूह उनके वैश्विक दृष्टिकोण को सार्वभौमिक चिंतन के तरीके के रूप में स्वीकार करने के लिए कार्य करते हैं और इन समूहों के बाहर के सदस्य इन विचारधाराओं को स्वीकार करने लगते हैं क्योंकि ये उन्हें किसी तरीके से लाभप्रद लगती हैं। इसे स्वतः स्फूर्त सहमति की एक प्रक्रिया के रूप में संदर्भित किया जाता है क्योंकि यह विशिष्ट रूप से अनौपचारिक है या उस पर ध्यान नहीं जाता। आधिपत्य के प्रति स्वतः स्फूर्त सहमति को एक उदाहरण के माध्यम से श्रेष्ठ तरीके से समझा जा सकता है। किसी देश की उच्च शिक्षा प्रणाली के भीतर अनेक वैचारिक घटक विद्यार्थियों के सर्वोत्तम हितों में नहीं हो सकते हैं। एक वर्चस्वकारी धारणा सुझाती है कि कॉलेज के विद्यार्थियों को अपनी स्वयं की शिक्षा का भुगतान करना चाहिए। इस धारणा से प्रभावित होने के बावजूद वे इसे स्वीकार कर लेते हैं और यह विचारधारा बनी रहती है। लेकिन, जब इस प्रकार की सहमति विफल हो जाती है तो आधिपत्य की अवधारणा स्पष्ट करती है कि किस प्रकार वर्चस्वकारी विचारधाराएं लचीले विनियोजन की प्रक्रिया के माध्यम से इस विफलता को रोकने के लिए विकसित होती हैं। इस तरह की स्थिति में यह संभावना है कि वर्चस्वकारी सांस्कृतिक संस्थाएं किसी चुनौतीपूर्ण धारणा को आत्मसात करेंगी उन्हें आधिपत्यवादी मैट्रिक्स में एकीकृत करेंगी और पूर्ववर्ती मानक को पुनः स्थापित करेंगी। परिणामस्वरूप आधिपत्यवादी प्रणालियाँ कभी भी लुप्त नहीं होतीं। वे सामाजिक समूहों के बीच निरंतर लेन-देन की प्रक्रिया के माध्यम से केवल रूप बदलती हैं। आधिपत्यवादी वैचारिक संरचनाएं आंशिक रूप से सीमांत विचारधाराओं के एकीकरण और विनियोजन की कभी भी न समाप्त होने वाली प्रक्रिया के माध्यम से नियंत्रण बनाए रखती हैं।

The dominant ideology survives because of its

- (1) Social Power
- (2) Flexible appropriation
- (3) Beneficial features
- (4) Ideological components

वर्चस्वकारी विचारधारा किस कारण से बनी रहती है?

- (1) सामाजिक शक्ति
- (2)

(3) लाभप्रद विशेषताएं

(4) वैचारिक घटक

1[Option ID=10189]

2[Option ID=10190]

3[Option ID=10191]

4[Option ID=10192]

Sl. No.49

QBID:1501049

Read the following passage and answer the questions :

An essential function of hegemony involves convincing people to support the existence of a social system that does not support them in return. Marginalised groups do not often protest or revolt against ideologies that overwhelmingly support privileged groups because, on some level, they consent to being dominated. This statement prompts an immediate question: Why would anyone consent to such an arrangement? While dominant ideologies may reflect the desires and interests of socially powerful groups, for these ideologies to remain dormant or hegemonic, they must also feature an additional promise. It is in the best interest of the marginalized groups to accept these beliefs as well. Put another way, members of socially powerful groups act to have their world view accepted as the universal way of thinking, and members outside these groups come to accept some of these ideologies because they appear beneficial in some way. This is referred to as a process of spontaneous consent because it is typically informal or unnoticed. The best way to understand the spontaneous consent of hegemony is through an example. A number of ideological components within a nation's higher education system may not be in the best interests of students. One dominant belief suggests that college students should pay for their own education. Despite being affected by the belief, they accept it, and the ideology survives. When such consent fails, however, the concept of hegemony also explains how dominant ideologies evolve to contain this failure through a process of flexible appropriation. In such a situation, it is likely that dominant cultural institutions will absorb any challenging beliefs, integrate them into the hegemonic matrix, and re-establish the previous norm. As a result, hegemonic systems never go away. They simply change form through a process of constant give and take between social group. Hegemonic ideological structures maintain control in part through the never-ending process of integration and appropriation of marginalised ideologies.

निम्नलिखित गद्यांश को पढ़ें और प्रश्न संख्या 46 से 50 तक के उत्तर दीजिए :

आधिपत्य के एक आवश्यक कार्य में एक सामाजिक व्यवस्था के अस्तित्व के प्रति समर्थन देने के लिए लोगों को आश्वस्त करना शामिल है, जो बदले में उनका समर्थन नहीं करती है। सीमांत समूह प्रायः उन विचारधाराओं का विरोध या उनके प्रति विद्रोह नहीं करते, जो विशेषाधिकार-प्राप्त समूहों का अत्याधिक समर्थन करती हैं, क्योंकि वे किसी स्तर पर आधिपत्य जमाने देने पर सहमत होने दे रहे होते हैं। इस कथन से तत्काल प्रश्न खड़ा होता है। कोई भी व्यक्ति क्यों इस प्रकार की व्यवस्था के प्रति सहमत होता है? जबकि वर्चस्वकारी विचारधाराएं सामाजिक रूप से शक्तिशाली समूहों की इच्छाओं और हितों को प्रतिबिंबित करती हैं, इन विचारधाराओं के प्रसुप्त या आधिपत्यवादी बने रहने के लिए उनमें एक अतिरिक्त वचन देने की विशेषता भी आवश्यक है। सीमांत समूहों का श्रेष्ठ हित इन धारणाओं को स्वीकार करने में भी है। अन्य तरीके से कहा जाए तो सामाजिक रूप से शक्तिशाली समूह उनके वैश्विक दृष्टिकोण को सार्वभौमिक चिंतन के तरीके के रूप में स्वीकार करने के लिए कार्य करते हैं और इन समूहों के बाहर के सदस्य इन विचारधाराओं को स्वीकार करने लगते हैं क्योंकि ये उन्हें किसी तरीके से लाभप्रद लगती हैं। इसे स्वतः स्फूर्त सहमति की एक प्रक्रिया के रूप में संदर्भित किया जाता है क्योंकि यह विशिष्ट रूप से अनौपचारिक है या उस पर ध्यान नहीं जाता। आधिपत्य के प्रति स्वतः स्फूर्त सहमति को एक उदाहरण के माध्यम से श्रेष्ठ तरीके से समझा जा सकता है। किसी देश की उच्च शिक्षा प्रणाली के भीतर अनेक वैचारिक घटक विद्यार्थियों के सर्वोत्तम हितों में नहीं हो सकते हैं। एक वर्चस्वकारी धारणा सुझाती है कि कॉलेज के विद्यार्थियों को अपनी स्वयं की शिक्षा का भुगतान करना चाहिए। इस धारणा से प्रभावित होने के बावजूद वे इसे स्वीकार कर लेते हैं और यह विचारधारा बनी रहती है। लेकिन, जब इस प्रकार की सहमति विफल हो जाती है तो आधिपत्य की अवधारणा स्पष्ट करती है कि किस प्रकार वर्चस्वकारी विचारधाराएं लचीले विनियोजन की प्रक्रिया के माध्यम से इस विफलता को रोकने के लिए विकसित होती हैं। इस तरह की स्थिति में यह संभावना है कि वर्चस्वकारी सांस्कृतिक संस्थाएं किसी चुनौतीपूर्ण धारणा को आत्मसात करेंगी उन्हें आधिपत्यवादी मैट्रिक्स में एकीकृत करेंगी और पूर्ववर्ती मानक को पुनः स्थापित करेंगी। परिणामस्वरूप आधिपत्यवादी प्रणालियाँ कभी भी लुप्त नहीं होतीं। वे सामाजिक समूहों के बीच निरंतर लेन-देन की प्रक्रिया के माध्यम से केवल रूप बदलती हैं। आधिपत्यवादी वैचारिक संरचनाएं आंशिक रूप से सीमांत विचारधाराओं के एकीकरण और विनियोजन की कभी भी न समाप्त होने वाली प्रक्रिया के माध्यम से नियंत्रण बनाए रखती हैं।

The dominant cultural institutions have the power to

- (A) Absorb challenges
- (B) Maintain relations with social groups
- (C) Destroy opposition
- (D) Re-establish the previous norms

Choose the most appropriate answer from the options given below :

- (1) (A) and (B) only
- (2) (B), and (C) only
- (3) (C) and (D) only
- (4) (A) and (D) only

वर्चस्वकारी सांस्कृतिक संस्थाओं में क्या शक्ति होती है?

- (A) चुनौतियों को आत्मसात करना
- (B) सामाजिक समूहों के साथ संबंध बनाए रखना
- (C) विरोध को नष्ट करना
- (D) पूर्ववर्ती मानकों को पुनः स्थापित करना

सही विकल्प चुनिए :

- (1) केवल (A) और (B)
- (2) केवल (B) और (C)
- (3) केवल (C) और (D)
- (4) केवल (A) और (D)

- 1[Option ID=10193]
- 2[Option ID=10194]
- 3[Option ID=10195]
- 4[Option ID=10196]

Sl. No.50
QBID:1501050



Read the following passage and answer the questions :

An essential function of hegemony involves convincing people to support the existence of a social system that does not support them in return. Marginalised groups do not often protest or revolt against ideologies that overwhelmingly support privileged groups because, on some level, they consent to being dominated. This statement prompts an immediate question: Why would anyone consent to such an arrangement? While dominant ideologies may reflect the desires and interests of socially powerful groups, for these ideologies to remain dormant or hegemonic, they must also feature an additional promise. It is in the best interest of the marginalized groups to accept these beliefs as well. Put another way, members of socially powerful groups act to have their world view accepted as the universal way of thinking, and members outside these groups come to accept some of these ideologies because they appear beneficial in some way. This is referred to as a process of spontaneous consent because it is typically informal or unnoticed. The best way to understand the spontaneous consent of hegemony is through an example. A number of ideological components within a nation's higher education system may not be in the best interests of students. One dominant belief suggests that college students should pay for their own education. Despite being affected by the belief, they accept it, and the ideology survives. When such consent fails, however, the concept of hegemony also explains how dominant ideologies evolve to contain this failure through a process of flexible appropriation. In such a situation, it is likely that dominant cultural institutions will absorb any challenging beliefs, integrate them into the hegemonic matrix, and re-establish the previous norm. As a result, hegemonic systems never go away. They simply change form through a process of constant give and take between social group. Hegemonic ideological structures maintain control in part through the never-ending process of integration and appropriation of marginalised ideologies.

निम्नलिखित गद्यांश को पढ़ें और प्रश्न संख्या 46 से 50 तक के उत्तर दीजिए :

आधिपत्य के एक आवश्यक कार्य में एक सामाजिक व्यवस्था के अस्तित्व के प्रति समर्थन देने के लिए लोगों को आश्वस्त करना शामिल है, जो बदले में उनका समर्थन नहीं करती है। सीमांत समूह प्रायः उन विचारधाराओं का विरोध या उनके प्रति विद्रोह नहीं करते, जो विशेषाधिकार-प्राप्त समूहों का अत्याधिक समर्थन करती हैं, क्योंकि वे किसी स्तर पर आधिपत्य जमाने देने पर सहमत होने दे रहे होते हैं। इस कथन से तत्काल प्रश्न खड़ा होता है। कोई भी व्यक्ति क्यों इस प्रकार की व्यवस्था के प्रति सहमत होता है? जबकि वर्चस्वकारी विचारधाराएं सामाजिक रूप से शक्तिशाली समूहों की इच्छाओं और हितों को प्रतिबिंबित करती हैं, इन विचारधाराओं के प्रसुप्त या आधिपत्यवादी बने रहने के लिए उनमें एक अतिरिक्त वचन देने की विशेषता भी आवश्यक है। सीमांत समूहों का श्रेष्ठ हित इन धारणाओं को स्वीकार करने में भी है। अन्य तरीके से कहा जाए तो सामाजिक रूप से शक्तिशाली समूह उनके वैश्विक दृष्टिकोण को सार्वभौमिक चिंतन के तरीके के रूप में स्वीकार करने के लिए कार्य करते हैं और इन समूहों के बाहर के सदस्य इन विचारधाराओं को स्वीकार करने लगते हैं क्योंकि ये उन्हें किसी तरीके से लाभप्रद लगती हैं। इसे स्वतः स्फूर्त सहमति की एक प्रक्रिया के रूप में संदर्भित किया जाता है क्योंकि यह विशिष्ट रूप से अनौपचारिक है या उस पर ध्यान नहीं जाता। आधिपत्य के प्रति स्वतः स्फूर्त सहमति को एक उदाहरण के माध्यम से श्रेष्ठ तरीके से समझा जा सकता है। किसी देश की उच्च शिक्षा प्रणाली के भीतर अनेक वैचारिक घटक विद्यार्थियों के सर्वोत्तम हितों में नहीं हो सकते हैं। एक वर्चस्वकारी धारणा सुझाती है कि कॉलेज के विद्यार्थियों को अपनी स्वयं की शिक्षा का भुगतान करना चाहिए। इस धारणा से प्रभावित होने के बावजूद वे इसे स्वीकार कर लेते हैं और यह विचारधारा बनी रहती है। लेकिन, जब इस प्रकार की सहमति विफल हो जाती है तो आधिपत्य की अवधारणा स्पष्ट करती है कि किस प्रकार वर्चस्वकारी विचारधाराएं लचीले विनियोजन की प्रक्रिया के माध्यम से इस विफलता को रोकने के लिए विकसित होती हैं। इस तरह की स्थिति में यह संभावना है कि वर्चस्वकारी सांस्कृतिक संस्थाएं किसी चुनौतीपूर्ण धारणा को आत्मसात करेंगी उन्हें आधिपत्यवादी मैट्रिक्स में एकीकृत करेंगी और पूर्ववर्ती मानक को पुनः स्थापित करेंगी। परिणामस्वरूप आधिपत्यवादी प्रणालियाँ कभी भी लुप्त नहीं होतीं। वे सामाजिक समूहों के बीच निरंतर लेन-देन की प्रक्रिया के माध्यम से केवल रूप बदलती हैं। आधिपत्यवादी वैचारिक संरचनाएं आंशिक रूप से सीमांत विचारधाराओं के एकीकरण और विनियोजन की कभी भी न समाप्त होने वाली प्रक्रिया के माध्यम से नियंत्रण बनाए रखती हैं।

The passage explains

- (1) The forced absorption of the marginalized into the mainstream
- (2) The establishment of the ideology of the marginalised
- (3) The defects of spontaneous consent
- (4) The survival of dominant ideology against the challenges

उपरोक्त गद्यांश क्या स्पष्ट करता है?

- (1) सीमांतीकृत का मुख्य धारा में बलात् आत्मसात करना
- (2) सीमांतीकृत की विचारधारा की स्थापना

- (3) स्वतः स्फूर्त सहमति के दोष
(4) चुनौतियों के विरुद्ध वर्चस्वकारी विचारधारा का बने रहना

1[Option ID=10197]
2[Option ID=10198]
3[Option ID=10199]
4[Option ID=10200]

Sl. No.51
QBID:671001

“Archaeology is a study of human behaviour and cultural changes happened in the past through material remains.”

Which scholar has given the above definition of Archaeology?

- (1) V. Gordon Childe
(2) Graham Clark
(3) Daniel
(4) Cunningham

“पुरातत्त्व सुस्पष्ट भौतिक अवशेषों के माध्यम से मानव के क्रिया-कलापों के अध्ययन को कहा जाता है।”
उपर्युक्त पुरातत्त्व की परिभाषा किस विद्वान द्वारा दी गयी है?

- (1) वी. गार्डन चाइल्ड
(2) ग्राहम क्लार्क
(3) डेनियल
(4) कर्निंगम

1[Option ID=15201]
2[Option ID=15202]
3[Option ID=15203]
4[Option ID=15204]

Sl. No.52
QBID:671002

Who is the author of 'History of Warwickshire'?

- (1) Faulkner
(2) William Tangley
(3) William Dagdale
(4) Darwin

“हिस्ट्री ऑफ वार्विक शायर” के लेखक कौन हैं?

- (1) फॉकनर
(2) विलियम टैंगले
(3) विलियम डगडेल
(4) डार्विन

1[Option ID=15205]
2[Option ID=15206]
3[Option ID=15207]
4[Option ID=15208]

Sl. No.53
QBID:671003

The classification of archaeological remains according to the 'Three -Age System' was done for the first time by

- (1)

C. J. Thomsen

- (2) William Crook
- (3) John Marshall
- (4) H. Cole

त्रिकाल-पद्धति के अनुसार पुरावशेषों के वर्गीकरण का कार्य सर्व प्रथम किसने किया?

- (1) सी. जे. थॉमसन
- (2) विलियम क्रुक
- (3) जॉन मार्शल
- (4) एच. कोले

1[Option ID=15209]
2[Option ID=15210]
3[Option ID=15211]
4[Option ID=15212]

Sl. No.54
QBID:671004

The "Treasure Trove Act" was implemented in the year.

- (1) 1878
- (2) 1879
- (3) 1880
- (4) 1881

“पुरानिधि निखात अधिनियम” किस वर्ष अस्तित्व में आया?

- (1) 1878
- (2) 1879
- (3) 1880
- (4) 1881

1[Option ID=15213]
2[Option ID=15214]
3[Option ID=15215]
4[Option ID=15216]

Sl. No.55
QBID:671005

Which method can be effectively used for the excavation of a 'stupa'?

- (1) Horizontal
- (2) Quadrant
- (3) Vertical
- (4) Open

स्तूपों के उत्खनन में निम्न में से कौन सी पद्धति उपयोग में लाई जाती है?

- (1) क्षैतिज उत्खनन
- (2) चतुष्पाद विधि
- (3) लम्बवत् उत्खनन
- (4) खुला (ओपेन)

1[Option ID=15217]
2[Option ID=15218]
3[Option ID=15219]
4[Option ID=15220]

SI. No.56
QBID:671006

Who established a training school at Taxila to give systematic field training to Indian archaeologists/historians?

- (1) John Marshall
- (2) Alexander Cunningham
- (3) James Burgers
- (4) Mortimer Wheeler

निम्न में किसके द्वारा भारतीय इतिहासकारों/पुराविदों को पुरातत्व सम्बन्धी शिक्षा हेतु तक्षशिला में प्रशिक्षण केन्द्र की स्थापना की गयी थी?

- (1) जॉन मार्शल
- (2) अलेक्जेंडर कनिंघम
- (3) जेम्स बर्जेस
- (4) मार्टीमर व्हीलर

1[Option ID=15221]
2[Option ID=15222]
3[Option ID=15223]
4[Option ID=15224]

SI. No.57
QBID:671007

Which of the following year, Rai Bahadur Dayaram Sahni was appointed as the Director General of the Archaeological Survey of India?

- (1) July, 29th, 1931
- (2) July 30th, 1931
- (3) July, 27th, 1932
- (4) August, 1st, 1934

निम्नलिखित में किस वर्ष राय बहादुर दयाराम साहनी को भारतीय पुरातत्व सर्वेक्षण का महानिदेशक नियुक्त किया गया?

- (1) 29 जुलाई 1931
- (2) 30 जुलाई 1931
- (3) 27 जुलाई 1932
- (4) 01 अगस्त 1934

1[Option ID=15225]
2[Option ID=15226]
3[Option ID=15227]
4[Option ID=15228]

SI. No.58
QBID:671008

Fossil of Lucy was discovered from

- (1) Tanzania
- (2) India
- (3) Ethiopia
- (4) South Africa

“लूसी” का जीवाश्म कहाँ से खोजा गया था?

- (1) तंजानिया
- (2) भारत
- (3) इथोपिया
- (4) दक्षिण अफ्रीका

1[Option ID=15229]
2[Option ID=15230]
3[Option ID=15231]
4[Option ID=15232]

Sl. No.59
QBID:671009

The first fossil representative of the Homoerectus group was found in Java by Dubois in the year

- (1) 1891
- (2) 1892
- (3) 1930
- (4) 1942

प्रथम जीवाश्म जो होमो इरेक्टस परिवार का प्रतिनिधित्व करता है इसे डुबोय ने किस वर्ष प्रतिवेदित किया ?

- (1) 1891
- (2) 1892
- (3) 1930
- (4) 1942

1[Option ID=15233]
2[Option ID=15234]
3[Option ID=15235]
4[Option ID=15236]

Sl. No.60
QBID:671010

Which continent is called as the 'Cradle of the Human kind'?

- (1) Asia
- (2) Africa
- (3) South America
- (4) Europe

कौन सा महाद्वीप “मानव की जन्म स्थली” के रूप में जाना जाता है?

- (1) एशिया
- (2) अफ्रीका
- (3) दक्षिण अमेरिका
- (4) यूरोप

1[Option ID=15237]
2[Option ID=15238]
3[Option ID=15239]
4[Option ID=15240]

Sl. No.61
QBID:671011

The African Eve Theory of recent African Origin of modern Humans was formulated by which of the following teams?

- (1) Rebecca and others
- (2) Allen Wilson and others
- (3) Ralph, M. and Foley, R.
- (4) Stoneking and others

निम्नलिखित में से किस समूह द्वारा अफ्रीकी इव सिद्धांत जो आधुनिक मानव की अफ्रीकीय मूल उत्पत्ति से सम्बन्धित है, संस्थापित किया गया?

- (1) रिबेका एवं अन्य
- (2) एलेन विल्सन एवं अन्य
- (3) रॉल्फ, एम. एवं फॉले, आर
- (4) स्टोनकिंग एवं अन्य

1[Option ID=15241]
2[Option ID=15242]
3[Option ID=15243]
4[Option ID=15244]

Sl. No.62
QBID:671012

Venus figurines are associated with the

- (1) Lower Palaeolithic period
- (2) Middle Palaeolithic period
- (3) Upper Palaeolithic period
- (4) Mesolithic period

मातृ देवी (वीनस) प्रतिमा किस काल से सम्बन्धित है?

- (1) निम्न पुरा पाषाण काल
- (2) मध्य पुरा पाषाण काल
- (3) उच्च पुरा पाषाण काल
- (4) मध्य पाषाण काल

1[Option ID=15245]
2[Option ID=15246]
3[Option ID=15247]
4[Option ID=15248]

Sl. No.63
QBID:671013

The Archaeological site of Jericho is associated with

- (1) Upper Palaeolithic period
- (2) Mesolithic period
- (3) Neolithic Period
- (4) Chalcolithic Period

प्रसिद्ध पुरास्थल 'जेरिको' किस काल से सम्बन्धित है?

- (1) उच्च पुरा पाषाण काल

- (2) मध्य पाषाण काल
- (3) नव पाषाण काल
- (4) ताम्र पाषाण काल

1[Option ID=15249]
2[Option ID=15250]
3[Option ID=15251]
4[Option ID=15252]

Sl. No.64
QBID:671014

Glacial deposits are known as

- (1) Moraines
- (2) Dunes
- (3) Terraces
- (4) Corals

हिमायन जमावो को जाना जाता है-

- (1) मोरेन्स
- (2) ड्यून्स
- (3) टेरेसेस
- (4) कोरल्स

1[Option ID=15253]
2[Option ID=15254]
3[Option ID=15255]
4[Option ID=15256]

Sl. No.65
QBID:671015

Which of the following site is not a Mesolithic site?

- (1) Bagor
- (2) Tilwara
- (3) Sarai-Nahar-Rai
- (4) Attirampakkam

निम्नलिखित में कौन सा पुरास्थल मध्य पाषाण काल से सम्बन्धित नहीं है?

- (1) बागोर
- (2) तिलवारा
- (3) सराय-नाहार-राय
- (4) अतिरमपक्कम

1[Option ID=15257]
2[Option ID=15258]
3[Option ID=15259]
4[Option ID=15260]

Sl. No.66
QBID:671016

'Leptolithic' is known as

- (1) Upper Palaeolithic period
- (2) Mesolithic period
- (3)

Neolithic period

(4) Chalcolithic period

श्रेष्ठ पाषाण कालीन संस्कृति को अन्य किस और नाम से भी जाना जाता है?

- (1) उच्च पुरा पाषाण काल
- (2) मध्य पाषाण काल
- (3) नव पाषाण काल
- (4) ताम्र पाषाण काल

1[Option ID=15261]

2[Option ID=15262]

3[Option ID=15263]

4[Option ID=15264]

Sl. No.67


QBID:671017

Which of the following crop was domesticated first in the world?

- (1) Wheat
- (2) Paddy
- (3) Maize
- (4) Lentils

वैश्विक सन्दर्भ में निम्नलिखित फसलों में सर्व प्रथम किसका उत्पादन किया गया?

- (1) गेहूँ
- (2) धान
- (3) ज्वार
- (4) मसूर



1[Option ID=15265]

2[Option ID=15266]

3[Option ID=15267]

4[Option ID=15268]

Sl. No.68

QBID:671018

Thirty Six long barrel/cylindrical carnelian beads are found from which of the following Harrappan sites?

- (1) Harappa
- (2) Mohenjadarro
- (3) Ahladino
- (4) Surkotda

निम्नलिखित में से किस हड़प्पीय पुरास्थल से छीस लंबी नलिका युक्त कार्नेलियन मनके सर्वप्रथम प्राप्त हुये थे?

- (1) हड़प्पा
- (2) मोहनजोदड़ो
- (3) अल्हादिनो
- (4) सुरकोटदा

1[Option ID=15269]
2[Option ID=15270]
3[Option ID=15271]
4[Option ID=15272]

SI. No.69
QBID:671019

A seal depicting a plant coming out of womb of a woman, suggesting a close association between woman and fertility, has been found from which of the following Harappan sites?

- (1) Harappa
- (2) Lothal
- (3) Banawali
- (4) Mehargarh

निम्नलिखित में किस हड़प्पीय स्थल से ऐसी मुहर पायी गयी है जिस पर स्त्री के गर्भ से निकलता हुआ पौधा अंकित है और जो स्त्री और उर्वरता के बीच निकट साहचर्य दर्शाता है?

- (1) हड़प्पा
- (2) लोथल
- (3) बनावली
- (4) मेहरगढ़

1[Option ID=15273]
2[Option ID=15274]
3[Option ID=15275]
4[Option ID=15276]

SI. No.70
QBID:671020

Which of the following sites is called as 'Metropolitan' city of the Harappan civilization?

- (1) BhirRana
- (2) Kunal
- (3) Rakhigarhi
- (4) Farmana

निम्नलिखित में से किस हड़प्पीय पुरास्थल को हड़प्पा सभ्यता का महानगर कहा जाता है?

- (1) भिरड़ाना
- (2) कुणाल
- (3) राखीगढ़ी
- (4) फरमाना

1[Option ID=15277]
2[Option ID=15278]
3[Option ID=15279]
4[Option ID=15280]

SI. No.71
QBID:671021

Dihar Chalcolithic site is situated in which of the following states?

- (1) West Bengal
- (2) Odisha
- (3) Haryana
- (4) Madhya Pradesh

‘दिहर’ ताम्रपाषाणिक संस्कृति किस प्रदेश से संबंधित है?

- (1) पश्चिम बंगाल
- (2) ओडिशा
- (3) हरियाणा
- (4) मध्यप्रदेश

1[Option ID=15281]
2[Option ID=15282]
3[Option ID=15283]
4[Option ID=15284]

SI. No.72
QBID:671022

Ramie (A quality fiber for fishing thread, *Boehmeria nivea*) has been found from the Archaeological context from which site?

- (1) Koldihwa
- (2) Lahuradeva
- (3) Sohagaura
- (4) Narhan

किस पुरास्थल के पुरातत्त्वीय संदर्भ से रमी (मत्स्य काँटा, बोहमेरिया निविया के लिए गुणवत्तायुक्त फाइबर) पाया जाता है?

- (1) कौलडिहवा
- (2) लहुरादेव
- (3) सोहगौरा
- (4) नरहन

1[Option ID=15285]
2[Option ID=15286]
3[Option ID=15287]
4[Option ID=15288]

SI. No.73
QBID:671023

Who gave the ‘Flood theory’ for the decline of the Harappan civilization?

- (1) Mortimer Wheeler
- (2) E. J. Mackay
- (3) G. L. Possehl
- (4) R. L. Rikes

हड़प्पा सभ्यता के पतन के लिए किसने ‘बाढ़ के सिद्धांत’ का प्रतिपादन किया?

- (1) मार्टीमर व्हीलर
- (2) ई. जे. मैके
- (3) जी. एल. पॉशेल
- (4) आर. एल. राइक्स

1[Option ID=15289]
2[Option ID=15290]
3[Option ID=15291]
4[Option ID=15292]

Sl. No.74
QBID:671024

The Chalcolithic site of Ojyana is situated in.

- (1) Gujrat
- (2) Punjab
- (3) Maharashtra
- (4) Rajasthan

ताम्रपाषाणिक पुरास्थल, 'ओजियाना' स्थित है-

- (1) गुजरात
- (2) पंजाब
- (3) महाराष्ट्र
- (4) राजस्थान

1[Option ID=15293]
2[Option ID=15294]
3[Option ID=15295]
4[Option ID=15296]

Sl. No.75
QBID:671025

Name the capital and the port city of the chief Veliyan which has been mentioned in the Sangam literature.

- (1) Uraiyur
- (2) Karur
- (3) Arikamedu
- (4) Korkai

संगम साहित्य में वर्णित मुख्य वेलियन की राजधानी और पत्तन शहर का नाम क्या है?

- (1) उरड्यूर
- (2) करूर
- (3) अरिकामेडु
- (4) कोरकई

1[Option ID=15297]
2[Option ID=15298]
3[Option ID=15299]
4[Option ID=15300]

Sl. No.76
QBID:671026

The Archaeological site Chandraketugarh's first period is related with the following culture?

- (1) P G W
- (2) O C P
- (3) Pre- NBPW
- (4) Post-Kushana

पुरातत्वीय स्थल 'चन्द्रकेतुगढ़' की प्रथम काल निम्नलिखित में से किस संस्कृति से संबंधित है?

- (1)

पी जी डब्ल्यू

- (2) ओ सी पी
- (3) प्राक्-एन बी पी डब्ल्यू
- (4) परा- कुषाण

1[Option ID=15301]
2[Option ID=15302]
3[Option ID=15303]
4[Option ID=15304]

Sl. No.77
QBID:671027

The example of houses made of burnt bricks in the PGW level has been reported from which of the following sites?

- (1) Katpalon
- (2) Manda
- (3) Bhagwanpura
- (4) Dadheri

चित्रित धूसर मृदभांड (पी जी डब्ल्यू) स्तर की पक्की ईंटों से बने घरों के उदाहरण निम्नलिखित में से किस पुरास्थल से प्राप्त हुए हैं?

- (1) कटपालों
- (2) मांडा
- (3) भगवानपुरा
- (4) दधेरी

1[Option ID=15305]
2[Option ID=15306]
3[Option ID=15307]
4[Option ID=15308]

Sl. No.78
QBID:671028

Sickle and ploughshare are the earliest examples of its own type in Iron age in India found from which site?

- (1) Malhar
- (2) Raja-Nal-Ka-Tila
- (3) Watgal
- (4) Jhunsi

भारत में लौह युग के अपनी तरह के सबसे प्रारंभिक उदाहरण हँसिया और हल का फाल किस पुरास्थल से पाए गए हैं?

- (1) मल्हर
- (2) राजा नल का टीला
- (3) वटगल
- (4) झंसी

1[Option ID=15309]
2[Option ID=15310]
3[Option ID=15311]
4[Option ID=15312]

Sl. No.79
QBID:671029

Which of the following animal motif has been found on the silver seal discovered from Mohenjodaro?

- (1) Elephant
- (2) Bull
- (3) Unicorn
- (4) Rhinoceros

निम्नलिखित में से कौन-सा पशु चित्रण मोहनजोदड़ो से प्राप्त रजत मुहरों पर अंकित है?

- (1) हाथी
- (2) सांड
- (3) एकश्रृंगी पशु
- (4) गैंडा

1[Option ID=15313]
2[Option ID=15314]
3[Option ID=15315]
4[Option ID=15316]

Sl. No.80
QBID:671030

Tigwa temple, known as Kankali temple, of the Gupta period, is dedicated to

- (1) Shiva
- (2) Vishnu
- (3) Sun
- (4) Durga

गुप्त काल का तिगवा मंदिर जिसे कंकाली मंदिर के रूप में जाना जाता है, किसे समर्पित है?

- (1) शिव
- (2) विष्णु
- (3) सूर्य
- (4) दुर्गा

1[Option ID=15317]
2[Option ID=15318]
3[Option ID=15319]
4[Option ID=15320]

Sl. No.81
QBID:671031

The Draupadi ratha at Mahabalipuram is of

- (1) Ektala type
- (2) Dvitala type
- (3) Tritala type
- (4) Panchatala type

महाबलीपुरम का द्रौपदी रथ किस प्रकार का है?

- (1) एक तल प्रकार

(2) द्वितल प्रकार

(3) तृतल प्रकार

(4) पंचतल प्रकार

1[Option ID=15321]

2[Option ID=15322]

3[Option ID=15323]

4[Option ID=15324]

SI. No.82

QBID:671032

The Bahubali monolith at Shravanabelgola is carved out of

(1) Granite

(2) Sandstone

(3) Chloritic Schist

(4) Basalt

श्रावणबेलगोला में बाहुबली एकाशम किससे निर्मित है?

(1) ग्रेनाइट

(2) बलुआ पत्थर

(3) क्लोराईट शिस्ट

(4) बसाल्ट

1[Option ID=15325]

2[Option ID=15326]

3[Option ID=15327]

4[Option ID=15328]

SI. No.83

QBID:671033

The Udayagiri and Khandagiri caves related to Jaina monasticism are located in

(1) Bihar

(2) Odisha

(3) Maharashtra

(4) Madhya Pradesh

जैन मठ से संबंधित उदयगिरि और खण्डगिरि गुफाएँ अवस्थित हैं -

(1) बिहार

(2) ओडिशा

(3) महाराष्ट्र

(4) मध्यप्रदेश

1[Option ID=15329]

2[Option ID=15330]

3[Option ID=15331]

4[Option ID=15332]

SI. No.84

QBID:671034

The Buddhist relic casket with the name of Kanishka has been reported from which of the following sites?

(1) Shah-ji-ki-dheri

- (2) Kapisha
- (3) Sarnath
- (4) Anuradhapura

कनिष्क के नाम के साथ बौद्ध धातु मंजूषा निम्नलिखित किस पुरास्थलों से प्राप्त हुआ है?

- (1) शाह-डी-की-ढेरी
- (2) कपिशा
- (3) सारनाथ
- (4) अनुराधापुर

1[Option ID=15333]
2[Option ID=15334]
3[Option ID=15335]
4[Option ID=15336]

Sl. No.85
QBID:671035

The Sitabenga and Jogimara caves are located in

- (1) Chhattisgarh
- (2) Odisha
- (3) Jharkhand
- (4) Bihar

सीताबेंगा और जोगीमारा गुफाएं अवस्थित हैं-

- (1) छत्तीसगढ़
- (2) ओडिशा
- (3) झारखंड
- (4) बिहार



1[Option ID=15337]
2[Option ID=15338]
3[Option ID=15339]
4[Option ID=15340]

Sl. No.86
QBID:671036

The three caves in the Nagarjuni hills have inscriptions of

- (1) Ashoka
- (2) Dashratha
- (3) Samprati
- (4) Brihadratha

नागार्जुनी पहाड़ियों की तीन गुफाओं में किसके अभिलेख हैं?

- (1) अशोक
- (2) दशरथ
- (3) सम्प्रति
- (4) बृहद्रथ

1[Option ID=15341]

2[Option ID=15342]
3[Option ID=15343]
4[Option ID=15344]

SI. No.87
QBID:671037

What is the full form of APA in reference system?

- (1) American Psychological Association
- (2) American Philosophical Association
- (3) Academic Philosophical Association
- (4) Academic Psychological Association

संदर्भ प्रणाली में एपीए से अभिप्राय है?

- (1) अमेरिकन साइकोलॉजिकल एसोसिएशन
- (2) अमेरिकन फिलॉसोफिकल एसोसिएशन
- (3) ऐकेडेमिक फिलॉसोफिकल एसोसिएशन
- (4) ऐकेडेमिक साइकोलॉजिकल एसोसिएशन

1[Option ID=15345]
2[Option ID=15346]
3[Option ID=15347]
4[Option ID=15348]

SI. No.88
QBID:671038

Which Kushana ruler issued gold coin with legend BODDO?

- (1) Kanishka - I
- (2) Huvishka
- (3) Vima Kadphises
- (4) Vasudeva

किस कुषाण शासक ने ऐतिहासिक बुद्धों के साथ सोने का सिक्का जारी किया?

- (1) कनिष्क I
- (2) हुविष्क
- (3) विम कडफिसिस
- (4) वासुदेव

1[Option ID=15349]
2[Option ID=15350]
3[Option ID=15351]
4[Option ID=15352]

SI. No.89
QBID:671039

'Apratirathah' epithet appear on the coins of

- (1) Chandragupta - I
- (2) Samudragupta
- (3) Chandragupta - II
- (4) Kumaragupta -I

'अप्रतिरथ' विशेषण किसके सिक्के पर अंकित है?

- (1)

चन्द्रगुप्त-I

- (2) समुद्रगुप्त
- (3) चन्द्रगुप्त-II
- (4) कुमारगुप्त-I

1[Option ID=15353]
2[Option ID=15354]
3[Option ID=15355]
4[Option ID=15356]

Sl. No.90
QBID:671040

In which of the following year, the Maski edict was discovered?

- (1) 1915
- (2) 1916
- (3) 1917
- (4) 1918

निम्नलिखित में से किस वर्ष मास्की अभिलेख की खोज हुई?

- (1) 1915
- (2) 1916
- (3) 1917
- (4) 1918

1[Option ID=15357]
2[Option ID=15358]
3[Option ID=15359]
4[Option ID=15360]

Sl. No.91
QBID:671041

Three Age system is related to

- (A) Stone Age
- (B) Copper Age
- (C) Bronze Age
- (D) Iron Age

Choose the *most appropriate answer* from the options given below :

- (1) A, C & D Only
- (2) A, B & D Only
- (3) A, B & C Only
- (4) B, C & D Only

त्रिकाल पद्धति किससे संबंधित है:

- (A) पाषाण काल
- (B) ताम्र काल
- (C) कांस्य काल
- (D) लौह काल

नीचे दिए गए विकल्पों में से सबसे उपयुक्त उत्तर का चयन कीजिए :

- (1) केवल A, C और D
- (2) केवल A, B और D
- (3) केवल A, B और C
- (4) केवल B, C और D

1[Option ID=15361]
2[Option ID=15362]
3[Option ID=15363]
4[Option ID=15364]

Sl. No.92
QBID:671042

Calcium Sulphate is used for treatment of

- (A) Bone
- (B) Wood
- (C) Steatite
- (D) Limestone

Choose the *correct answer* from the options given below :

- (1) A & B Only
- (2) B & C Only
- (3) C & D Only
- (4) A & D Only

कैल्सियम सल्फेट का उपयोग किसके संरक्षण के लिए किया जाता है:

- (A) अस्थि
- (B) लकड़ी
- (C) स्टीएटाइट
- (D) चूना पत्थर

नीचे दिए गए विकल्पों में से सही उत्तर का चयन कीजिए :

- (1) केवल A और B
- (2) केवल B और C

(3) केवल C और D

(4) केवल A और D

1[Option ID=15365]

2[Option ID=15366]

3[Option ID=15367]

4[Option ID=15368]

Sl. No.93

QBID:671043

Wet Blotting paper is useful for the treatment of

- (A) Wood
- (B) Stone
- (C) Copper plate
- (D) Paper

Choose the *correct answer* from the options given below :

- (1) A & B Only
- (2) B & C Only
- (3) C & D Only
- (4) A & D Only



सोखता पेपर किसके संरक्षण के लिए प्रयुक्त होता है-

- (A) लकड़ी
- (B) पाषाण
- (C) ताम्र पत्र
- (D) पेपर

नीचे दिए गए विकल्पों में से सही उत्तर का चयन कीजिए :

- (1) केवल A और B
- (2) केवल B और C
- (3) केवल C और D
- (4) केवल A और D

1[Option ID=15369]

2[Option ID=15370]

3[Option ID=15371]

4[Option ID=15372]

Sl. No.94

QBID:671044

Which of the following tools are related to the OCP culture?

- (A) Hatchet
- (B) Ring
- (C) Harpoon
- (D) Ploughshare

Choose the *correct answer* from the options given below :


- (1) A, B & C Only
- (2) B, C & D Only
- (3) A, C & D Only
- (4) A, B & D Only

निम्नलिखित में से कौन-से उपकरण गैरिक मृदभाण्ड संस्कृति से संबंधित है?

- (A) परशु
- (B) वलय
- (C) मत्स्यभाला
- (D) बाणाग्र

नीचे दिए गए विकल्पों में से सही उत्तर का चयन कीजिए :

- (1) केवल A, B और C
- (2) केवल B, C और D
- (3) केवल A, C और D
- (4) केवल A, B और D



- 1[Option ID=15373]
- 2[Option ID=15374]
- 3[Option ID=15375]
- 4[Option ID=15376]

Sl. No.95
QBID:671045

Name the types of megaliths are:

- (A) Multiple - hood
- (B) Menhir
- (C) Extended Burial
- (D) Sarcophagus

Choose the *correct answer* from the options given below :

- (1) A, B & C Only
- (2) B, C & D Only
- (3) A, B & D Only
- (4)

A, C & D Only

महापाषाण के प्रकार हैं-

- (A) फणशिला
- (B) मेनहिर
- (C) विस्तारित शवाधान
- (D) शवपेटिका

नीचे दिए गए विकल्पों में से सही उत्तर का चयन कीजिए :

- (1) केवल A, B और C
- (2) केवल B, C और D
- (3) केवल A, B और D
- (4) केवल A, C और D

1[Option ID=15377]
2[Option ID=15378]
3[Option ID=15379]
4[Option ID=15380]

Sl. No.96
QBID:671046

The PGW level has been found to overlap with Late Harappan level of this/these sites :

- (A) Dadheri
- (B) Katpalon
- (C) Bhagwanpura
- (D) Alamgirpur

Choose the *correct answer* from the options given below :

- (1) A, B & C Only
- (2) B, C & D Only
- (3) A, C & D Only
- (4) A, B & D Only

किस पुरास्थल से परवर्ती हड़प्पा एवं चित्रित धूसर मृहभाण्ड संस्कृति के अवशेष एक ही धरातल से साथ-साथ प्राप्त होते हैं?

- (A) दधेदी
- (B) कटपालों
- (C) भगवानपुर
- (D) आलमगीरपुर

नीचे दिए गए विकल्पों में से सही उत्तर का चयन कीजिए :

- (1) केवल A, B और C

- (2) केवल B, C और D
(3) केवल A, C और D
(4) केवल A, B और D

1[Option ID=15381]
2[Option ID=15382]
3[Option ID=15383]
4[Option ID=15384]

SI. No.97
QBID:671047

NBPW appears in following regions located out of India :

- (A) Bhutan
(B) Terai region of Nepal
(C) Sri Lanka
(D) Thailand

Choose the *correct answer* from the options given below :

- (1) A & B Only
(2) B & C Only
(3) C & D Only
(4) A & C Only



एन.बी.पी.डब्ल्यू पात्र भारत के अलावा अन्य किन देशों से प्राप्त होते हैं ?

- (A) भूटान
(B) नेपाल की तराई का क्षेत्र
(C) श्रीलंका
(D) थाइलैंड

नीचे दिए गए विकल्पों में से सही उत्तर का चयन कीजिए :

- (1) केवल A और B
(2) केवल B और C
(3) केवल C और D
(4) केवल A और C

1[Option ID=15385]
2[Option ID=15386]
3[Option ID=15387]
4[Option ID=15388]

SI. No.98
QBID:671048

Which sites are located on the bank of the Kali a tributary of the Ganga river.

- (A) Atranjikhera
- (B) Saipai
- (C) Bahadarabad
- (D) Lal Qila

Choose the *correct answer* from the options given below :


- (1) A & B Only
- (2) B & C Only
- (3) C & D Only
- (4) A & D Only

निम्नलिखित में से कौन-सा/से पुरास्थल गंगा नदी की सहायक काली नदी के किनारे अवस्थित है:

- (A) अतरंजीखेड़ा
- (B) सेफई
- (C) बहदराबाद
- (D) लाल किला

नीचे दिए गए विकल्पों में से सही उत्तर का चयन कीजिए :

- (1) केवल A और B
- (2) केवल B और C
- (3) केवल C और D
- (4) केवल A और D



- 1[Option ID=15389]
- 2[Option ID=15390]
- 3[Option ID=15391]
- 4[Option ID=15392]

Sl. No.99
QBID:671049

Which of the following sites are located in Quetta valley?

- (A) Kile gul Muhammad
- (B) Dumb Sadat
- (C) Dera Ismail Khan
- (D) Dera Gazi Khan

Choose the *most appropriate answer* from the options given below :

- (1) A & B Only
- (2) B & C Only
- (3)

C & D Only

(4) A & C Only

निम्नलिखित में से कौन से पुरास्थल केटा घाटी में स्थित हैं?

- (A) किले गुल मुहम्मद
- (B) दम्ब सादात
- (C) डेरा इस्माइल खान
- (D) डेरा गाजी खान

नीचे दिए गए विकल्पों में से सबसे उपयुक्त उत्तर का चयन कीजिए :

- (1) केवल A और B
- (2) केवल B और C
- (3) केवल C और D
- (4) केवल A और C

1[Option ID=15393]
2[Option ID=15394]
3[Option ID=15395]
4[Option ID=15396]

Sl. No.100
QBID:671050

The evolution of Ashokan pillars can be observed through transition in

- (A) Animal forms
- (B) Abacus pattern
- (C) Inscriptions
- (D) Surface decoration

Choose the *most appropriate answer* from the options given below :

- (1) A & B Only
- (2) B & C Only
- (3) C & D Only
- (4) A & D Only

अशोक स्तम्भ का विकास निम्नलिखित में किन परिवर्तनों के माध्यम से देखा जा सकता है

- (A) पशु रूप
- (B) शीर्षफलक के प्रारूप
- (C) अभिलेख
- (D) फर्श की सजावट

नीचे दिए गए विकल्पों में से सबसे उपयुक्त उत्तर का चयन कीजिए :

(1)

केवल A और B

- (2) केवल C और D
(3) केवल C और D
(4) केवल A और D

1[Option ID=15397]
2[Option ID=15398]
3[Option ID=15399]
4[Option ID=15400]

SI. No.101
QBID:671051

The Allahabad Pillar has inscriptions of the following rulers :

- (A) Ashoka
(B) Samudragupta
(C) Jahangir
(D) Akbar

Choose the *most appropriate answer* from the options given below :

- (1) A & B Only
(2) B & C Only
(3) A, B & C Only
(4) A, B & D Only

इलाहाबाद स्तंभ पर निम्नलिखित किन शासकों के अभिलेख हैं:

- (A) अशोक
(B) समुद्रगुप्त
(C) जहांगीर
(D) अकबर

नीचे दिए गए विकल्पों में से सबसे उपयुक्त उत्तर का चयन कीजिए :

- (1) केवल A और B
(2) केवल B और C
(3) केवल A, B और C
(4) केवल A, B और D

1[Option ID=15401]
2[Option ID=15402]
3[Option ID=15403]
4[Option ID=15404]

SI. No.102
QBID:671052

Early tribal republics who issued 'die-type' coins were

- (A) Yaudheya
- (B) Arjunayana
- (C) Panchala
- (D) Audumbar

Choose the *most appropriate answer* from the options given below :

- (1) A & B Only
- (2) B & C Only
- (3) B & D Only
- (4) A, B & D Only

आरंभिक जनजातीय गणतंत्र जिन्होंने 'ठप्पांकित सिक्के' जारी किए:

- (A) यौधेय
- (B) अर्जुनायन
- (C) पांचाल
- (D) औदुम्बर

नीचे दिए गए विकल्पों में से सबसे उपयुक्त उत्तर का चयन कीजिए :

- (1) केवल A और B
- (2) केवल B और C
- (3) केवल B और D
- (4) केवल A, B और D



- 1[Option ID=15405]
- 2[Option ID=15406]
- 3[Option ID=15407]
- 4[Option ID=15408]

Sl. No.103
QBID:671053

The term 'Urbanization' has been Variously defined but perhaps the most clear Statement was offered by V.G.Childe as following criterion:

- (A) Size
- (B) Monumental Architecture
- (C) Internal Trade
- (D) A Ruling Class

Choose the *most appropriate answer* from the options given below :

- (1) A B & C Only
- (2) B, C & D Only
- (3) A, B, & D Only

(4) A, C & D Only

‘नागरीकरण’ पद को विभिन्न आधार पर परिभाषित किया गया है लेकिन संभवतः वी.जी. चाइल्ड द्वारा व्यवहृत कथन/तथ्य सर्वाधिक उपयुक्त है:

- (A) आकृति/आकार (पुरास्थल का)
- (B) स्मारक स्थापत्य
- (C) आंतरिक व्यापार
- (D) शासक वर्ग

नीचे दिए गए विकल्पों में से सबसे उपयुक्त उत्तर का चयन कीजिए :

- (1) केवल A, B और C
- (2) केवल B, C और D
- (3) केवल A, B और D
- (4) केवल A, C और D

1[Option ID=15409]
2[Option ID=15410]
3[Option ID=15411]
4[Option ID=15412]

Sl. No.104
QBID:671054

The evidence of scale has been found from the following sites.

- (A) Mohanjodaro
- (B) Lothal
- (C) Kalibangan
- (D) Dholavira

Choose the *most appropriate answer* from the options given below :

- (1) A & B Only
- (2) C & D Only
- (3) A & D Only
- (4) B & D Only

स्केल के साक्ष्य निम्नलिखित किन पुरास्थलों से पाए गए हैं:

- (A) मोहनजोदड़ो
- (B) लोथल
- (C) कालीबंगा
- (D) धौलावीरा

नीचे दिए गए विकल्पों में से सबसे उपयुक्त उत्तर का चयन कीजिए :

- (1) केवल A और B
- (2)

केवल C और D

(3) केवल A और D

(4) केवल B और D

1[Option ID=15413]

2[Option ID=15414]

3[Option ID=15415]

4[Option ID=15416]

Sl. No.105

QBID:671055

With relation to the Absolute dating methods, which of the options are correct?

- (A) Fluorine Test
- (B) Carbon-14 Dating
- (C) Stratigraphy
- (D) Dendrochronology

Choose the *most appropriate answer* from the options given below :

- (1) A, B & C Only
- (2) A, B & D Only
- (3) B & D Only
- (4) C & D Only

तिथि निर्धारण की निरपेक्ष विधि के संबंध में कौन-से/सा विकल्प सही हैं:

- (A) फ्लोरीन टेस्ट
- (B) कार्बन-14 तिथि निर्धारण
- (C) स्तरीकरण
- (D) वृक्षवलयपरीक्षण



नीचे दिए गए विकल्पों में से सबसे उपयुक्त उत्तर का चयन कीजिए :

- (1) केवल A, B और C
- (2) केवल A, B और D
- (3) केवल B और D
- (4) केवल C और D

1[Option ID=15417]

2[Option ID=15418]

3[Option ID=15419]

4[Option ID=15420]

Sl. No.106

QBID:671056

Which of the following sites are excavated by Arun Kumar Sharma?

- (A) Sirpur
- (B) Rajim
- (C) Malhar
- (D) Gufkral

Choose the *correct answer* from the options given below :

- (1) A, B & C Only
- (2) A, B & D Only
- (3) B & C Only
- (4) B & D Only

निम्नलिखित में से किन पुरास्थलों की खुदाई अरुण कुमार शर्मा द्वारा की गई है:

- (A) सिरपुर
- (B) राजिम
- (C) मल्हर
- (D) गुफकराल

नीचे दिए गए विकल्पों में से सही उत्तर का चयन कीजिए :

- (1) केवल A, B और C
- (2) केवल A, B और D
- (3) केवल B और C
- (4) केवल B और D

1[Option ID=15421]
2[Option ID=15422]
3[Option ID=15423]
4[Option ID=15424]

Sl. No.107
QBID:671057

Which of the following sites are related to the Mahabharata?

- (A) Hastinapur
- (B) Panipat
- (C) Tilpat
- (D) Bagpat

Choose the *most appropriate answer* from the options given below :

- (1) A, C & D Only
- (2) A, D & C Only
- (3)

A, B & D Only

(4) A, B, C, D All

निम्नलिखित में से कौन से पुरास्थल महाभारत से संबंधित है?

- (A) हस्तिनापुर
- (B) पानीपत
- (C) तिलपत
- (D) बागपत

नीचे दिए गए विकल्पों में से सबसे उपयुक्त उत्तर का चयन कीजिए :

- (1) केवल A, C और D
- (2) केवल A, D और C
- (3) केवल A, B और D
- (4) सभी A, B, C और D

1[Option ID=15425]

2[Option ID=15426]

3[Option ID=15427]

4[Option ID=15428]

Sl. No.108

QBID:671058

Which of the following is not true about the Ashokan pillars?

- (A) Monolithic Shaft
- (B) Tapering
- (C) Made of Granite
- (D) Crowned with mythical animals

Choose the *correct answer* from the options given below :

- (1) A & C Only
- (2) A & B Only
- (3) C & D Only
- (4) B & C Only

निम्नलिखित में से कौन-से अशोक स्तंभ के संबंध में सही नहीं हैं?

- (A) एकाक्षर
- (B) शृंङाकार (टैपरिंग)
- (C) ग्रेनाइट से निर्मित
- (D) काल्पनिक पशुओं के शीर्षवाले

नीचे दिए गए विकल्पों में से सबसे उपयुक्त उत्तर का चयन कीजिए :

- (1) केवल A और C
- (2) केवल A और B
- (3) केवल C और D
- (4) केवल B और C

1[Option ID=15429]
2[Option ID=15430]
3[Option ID=15431]
4[Option ID=15432]

Sl. No.109
QBID:671059

The Ashvamedha type of coins were issued by

- (A) Samudragupta
- (B) Chandragupta-II
- (C) Kumargupta-I
- (D) Skanda Gupta

Choose the *correct answer* from the options given below :

- (1) A & D Only
- (2) A & B Only
- (3) A & C Only
- (4) C & D Only

अश्वमेध प्रकार के सिक्कों को किसने जारी किया:

- (A) समुद्रगुप्त
- (B) चंद्रगुप्त- II
- (C) कुमारगुप्त I
- (D) स्कंदगुप्त

दिए गए विकल्पों में से सही उत्तर का चयन कीजिए:

- (1)

केवल A और D

- (2) केवल A और B
(3) केवल A और C
(4) केवल C और D

1[Option ID=15433]
2[Option ID=15434]
3[Option ID=15435]
4[Option ID=15436]

Sl. No.110
QBID:671060

Hathigumpha inscription mentions the names of

- (A) Satakarni
(B) Nanda
(C) Dimita
(D) Pushyamitra

Choose the *most appropriate answer* from the options given below :

- (1) A & B Only
(2) A & C Only
(3) A, B & C Only
(4) A, C & D Only

हाथीगुम्फा अभिलेख पर किनके नाम अंकित हैं-

- (A) सातकर्णी
(B) नन्द
(C) दिमित
(D) पुष्यमित्र



दिए गए विकल्पों में से सही उत्तर का चयन कीजिए:

- (1) केवल A और B
(2) केवल A और C
(3) केवल A, B, और C
(4) केवल A, C और D

1[Option ID=15437]
2[Option ID=15438]
3[Option ID=15439]
4[Option ID=15440]

Sl. No.111
QBID:671061

The Aihole Inscription mentions the victory of Kirtivarman against

- (A) Nalas
- (B) Mauryas
- (C) Kadambas
- (D) Alupas

Choose the *most appropriate answer* from the options given below :

- (1) A, B & C Only
- (2) A, B & D Only
- (3) B & C Only
- (4) A, C & D Only

ऐहोल अभिलेख कीर्तिवर्मन द्वारा विजित किन शासकों का विवरण प्रस्तुत करता है।

- (A) नल
- (B) मौर्य
- (C) कदम्ब
- (D) अलुप

दिए गए विकल्पों में से सबसे उपयुक्त उत्तर का चयन कीजिए:

- (1) केवल A, B, और C
- (2) केवल A, B और D
- (3) केवल B और C
- (4) केवल A, C और D



- 1[Option ID=15441]
- 2[Option ID=15442]
- 3[Option ID=15443]
- 4[Option ID=15444]

Sl. No.112
QBID:671062

Which of the following officials are mentioned in the Rudradaman's Junagarh Inscription?

- (A) Pushyagupta Vaishya
- (B) Tushaspha
- (C) Suvishakha
- (D) Harishena

Choose the *most appropriate answer* from the options given below :

- (1) A, B, C & D Only
- (2) A, B & C Only
- (3) A, B & D Only

(4) B & C Only

रुद्रामन के जूनागढ़ अभिलेख में निम्न में से किन अधिकारियों का उल्लेख है:

- (A) पुष्यगुप्त वैश्य
- (B) तुषास्य
- (C) सुविशाख
- (D) हरिषेण

दिए गए विकल्पों में से सबसे उपयुक्त उत्तर का चयन कीजिए:

- (1) केवल A, B, C और D
- (2) केवल A, B और C
- (3) केवल A, B, और D
- (4) केवल B और C

1[Option ID=15445]
2[Option ID=15446]
3[Option ID=15447]
4[Option ID=15448]

SI. No.113
QBID:671063

Which of the following are not the editors of Corpus Inscriptionum Indicarum volumes?

- (A) H. Luders
- (B) V.V. Mirashi
- (C) B.L. Rice
- (D) Francis Buchanan

Choose the *most appropriate answer* from the options given below :

- (1) A, B & C Only
- (2) A, B, C & D Only
- (3) A & B Only
- (4) B & D Only

निम्न में से कौन कार्पस इंसक्रिप्सनम इंडीकेरम के संपादक नहीं रहे हैं।

- (A) एच. ल्यूडर्स
- (B) वी.वी. मिराशी
- (C) बी.एल. राइस
- (D) फ्रांसिस बुकानन

दिए गए विकल्पों में से सबसे उपयुक्त उत्तर का चयन कीजिए:

(1)

केवल A, B, और C

- (2) केवल A, B, C और D
(3) केवल A और B
(4) केवल B और D

1[Option ID=15449]
2[Option ID=15450]
3[Option ID=15451]
4[Option ID=15452]

Sl. No.114
QBID:671064

Mauryan Yaksha sculptures has been reported from

- (A) Parkham
(B) Lohanipur
(C) Sannati
(D) Sarnath

Choose the *correct answer* from the options given below :

- (1) A, B & D Only
(2) A, B & C Only
(3) B & C Only
(4) A & B Only

मौर्य कालीन यक्ष प्रतिमा निम्न में से कहाँ प्राप्त हुयी है-

- (A) परखम्
(B) लोहनीपुर
(C) सन्नति
(D) सारनाथ

दिए गए विकल्पों में से सबसे उपयुक्त उत्तर का चयन कीजिए:

- (1) केवल A, B और D
(2) केवल A, B और C
(3) केवल B और C
(4) केवल A और B

1[Option ID=15453]
2[Option ID=15454]
3[Option ID=15455]
4[Option ID=15456]

Sl. No.115
QBID:671065

Which of the following sites have yielded PGW deposits?

- (A) Noh
- (B) Ahhichhatra
- (C) Bahadarabad
- (D) Sannauli

Choose the *correct answer* from the options given below :


- (1) A & B Only
- (2) A, B & C Only
- (3) A, B, C & D Only
- (4) A & D Only

निम्नलिखित में से किस पुरास्थल से चित्रित धूसर मृद्भाण्ड संस्कृति के जमाव प्राप्त हुए हैं:

- (A) नोह
- (B) अहिच्छत्र
- (C) बहादराबाद
- (D) सनौली

दिए गए विकल्पों में से सबसे उपयुक्त उत्तर का चयन कीजिए:

- (1) केवल A और B
- (2) केवल A, B और C
- (3) केवल A, B, C और D
- (4) केवल A और D



- 1[Option ID=15457]
- 2[Option ID=15458]
- 3[Option ID=15459]
- 4[Option ID=15460]

Sl. No.116
QBID:671066

Match List I with List II :

List I	List II
Term	Description
(A) Virgin soil	(I) Unproductive layer
(B) Ceiling layer	(II) Free from human intervention
(C) Sterile layer	(III) Section bearing Portion
(D) Baulk	(IV) Concealing the proceeding one

Choose the correct answer from the options given below :

- (1) (A)-(I), (B)-(II), (C)-(III), (D)-(IV)
- (2) (A)-(II), (B)-(IV), (C)-(I), (D)-(III)
- (3) (A)-(III), (B)-(IV), (C)-(II), (D)-(I)
- (4)

(A)-(IV), (B)-(III), (C)-(I), (D)-(II)

सूची-I के साथ का सूची-II मिलान कीजिए :

सूची-I

- (A) प्राकृतिक मृदा
- (B) छत परत
- (C) अनुर्वर
- (D) पगडंडी

सूची-II

- (I) अनुत्पादक परत
- (II) मानवीय हस्तक्षेपमुक्त
- (III) अनुभाग धारक भाग
- (IV) पहले को छिपाते हुये परत

नीचे दिए गए विकल्पों में से सही उत्तर का चयन कीजिए :

- (1) (A)-(I), (B)-(II), (C)-(III), (D)-(IV)
- (2) (A)-(II), (B)-(IV), (C)-(I), (D)-(III)
- (3) (A)-(III), (B)-(IV), (C)-(II), (D)-(I)
- (4) (A)-(IV), (B)-(III), (C)-(I), (D)-(II)

1[Option ID=15461]

2[Option ID=15462]

3[Option ID=15463]

4[Option ID=15464]

Sl. No.117

QBID:671067

Match List I with List II :

List I

(Site)

- (A) Sisupalgarh
- (B) Satanikota
- (C) Chandraketugarh
- (D) Adam

List II

(Excavator)

- (I) K.G. Goswami
- (II) N.C. Ghosh
- (III) Amrendra Nath
- (IV) B.B. Lal

Choose the correct answer from the options given below :

- (1) (A)-(IV), (B)-(II), (C)-(I), (D)-(III)
- (2) (A)-(II), (B)-(IV), (C)-(I), (D)-(III)
- (3) (A)-(I), (B)-(III), (C)-(IV), (D)-(II)
- (4) (A)-(III), (B)-(IV), (C)-(II), (D)-(I)

सूची- I के साथ का सूची- II मिलान कीजिए :

सूची-I

- (A) शिशुपालगढ़
- (B) सतनीकोटा
- (C) चन्द्रकेतुगढ़
- (D) अदम

सूची-II

- (I) के.जी.गोस्वामी
- (II) एन.सी.घोष
- (III) अमरेन्द्र नाथ
- (IV) बी.बी.लाल

नीचे दिए गए विकल्पों में से सही उत्तर का चयन कीजिए :

- (1) (A)-(IV), (B)-(II), (C)-(I), (D)-(III)
- (2) (A)-(II), (B)-(I), (C)-(III), (D)-(IV)
- (3) (A)-(I), (B)-(III), (C)-(IV), (D)-(II)
- (4) (A)-(III), (B)-(IV), (C)-(II), (D)-(I)

- 1[Option ID=15465]
2[Option ID=15466]
3[Option ID=15467]
4[Option ID=15468]

Sl. No.118
QBID:671068

Match List I with List II :

List I (Temple)	List II (Location)
(A) Varaha temple	(I) Deogarh
(B) Parvati temple	(II) Eran
(C) Shiva temple	(III) Nachna-Kuthara
(D) Dasavatara temple	(IV) Bhumra

Choose the correct answer from the options given below :

- (1) (A)-(I), (B)-(II), (C)-(III), (D)-(IV)
(2) (A)-(II), (B)-(III), (C)-(IV), (D)-(I)
(3) (A)-(III), (B)-(IV), (C)-(II), (D)-(I)
(4) (A)-(IV), (B)-(I), (C)-(III), (D)-(II)

सूची-I के साथ का सूची-II मिलान कीजिए :

सूची-I	सूची-II
(A) वराह मंदिर	(I) देवगढ़
(B) पार्वती मंदिर	(II) एरण
(C) शिव मंदिर	(III) नचना-कुठारा
(D) दशावतार मंदिर	(IV) भूमरा

नीचे दिए गए विकल्पों में से सही उत्तर का चयन कीजिए :

- (1) (A)-(I), (B)-(II), (C)-(III), (D)-(IV)
(2) (A)-(II), (B)-(III), (C)-(IV), (D)-(I)
(3) (A)-(III), (B)-(IV), (C)-(II), (D)-(I)
(4) (A)-(IV), (B)-(I), (C)-(III), (D)-(II)

- 1[Option ID=15469]
2[Option ID=15470]
3[Option ID=15471]
4[Option ID=15472]

Sl. No.119
QBID:671069

Match List I with List II :

List I (Era)	List II (Established year)
(A) Vikram Era	(I) 824 CE
(B) Shaka Era	(II) 248 CE
(C) Kalachuri-Chedi Era	(III) 58 BCE
(D) Kollam Era	(IV) 78 CE

Choose the correct answer from the options given below :

- (1) (A)-(I), (B)-(II), (C)-(III), (D)-(IV)
(2) (A)-(II), (B)-(III), (C)-(IV), (D)-(I)
(3) (A)-(III), (B)-(IV), (C)-(II), (D)-(I)
(4)

(A)-(IV), (B)-(I), (C)-(III), (D)-(II)

सूची-I के साथ का सूची-II मिलान कीजिए :

सूची-I	सूची-II
संवत्	सुव्यवस्थित वर्ष
(A) विक्रम संवत्	(I) 824 ईस्वी
(B) शक संवत्	(II) 248 ईस्वी
(C) कलचुरि-चेदि संवत्	(III) 58 ईसा पूर्व
(D) कोल्लम संवत्	(IV) 78 ईस्वी

नीचे दिए गए विकल्पों में से सही उत्तर का चयन कीजिए :

- (1) (A)-(I), (B)-(II), (C)-(III), (D)-(IV)
- (2) (A)-(II), (B)-(III), (C)-(IV), (D)-(I)
- (3) (A)-(III), (B)-(IV), (C)-(II), (D)-(I)
- (4) (A)-(IV), (B)-(I), (C)-(III), (D)-(II)

1[Option ID=15473]
2[Option ID=15474]
3[Option ID=15475]
4[Option ID=15476]

Sl. No.120
QBID:671070

Match List I with List II :

List I	List II
(Temple)	(Location)
(A) Modhera Sun temple	(I) Jammu & Kashmir
(B) Martand Sun temple	(II) Odisha
(C) Konark Sun temple	(III) Tamil Nadu
(D) Suryakovil	(IV) Gujarat

Choose the correct answer from the options given below :

- (1) (A)-(I), (B)-(II), (C)-(III), (D)-(IV)
- (2) (A)-(IV), (B)-(I), (C)-(II), (D)-(III)
- (3) (A)-(III), (B)-(IV), (C)-(I), (D)-(II)
- (4) (A)-(I), (B)-(II), (C)-(IV), (D)-(III)

सूची-I के साथ का सूची-II मिलान कीजिए :

सूची-I	सूची-II
मंदिर	स्थान
(A) मोदहरा सूर्य मंदिर	(I) जम्मू एवं कश्मीर
(B) मार्तण्ड सूर्य मंदिर	(II) उड़ीसा
(C) कोणार्क सूर्य मंदिर	(III) तमिलनाडु
(D) सूर्य कोविल	(IV) गुजरात

नीचे दिए गए विकल्पों में से सही उत्तर का चयन कीजिए :

- (1) (A)-(I), (B)-(II), (C)-(III), (D)-(IV)
- (2) (A)-(IV), (B)-(I), (C)-(II), (D)-(III)
- (3) (A)-(III), (B)-(IV), (C)-(I), (D)-(II)

(4) (A)-(I), (B)-(II), (C)-(IV), (D)-(III)

1[Option ID=15477]

2[Option ID=15478]

3[Option ID=15479]

4[Option ID=15480]

Sl. No.121

QBID:671071

Match List I with List II :

List I (Site)	List II (Location)
(A) Arikamedu	(I) Maharashtra
(B) Adam	(II) Kerala
(C) Chandraketugarh	(III) West Bengal
(D) Pattanam	(IV) Tamil Nadu

Choose the correct answer from the options given below :

- (1) (A)-(I), (B)-(II), (C)-(III), (D)-(IV)
(2) (A)-(II), (B)-(III), (C)-(I), (D)-(IV)
(3) (A)-(IV), (B)-(I), (C)-(III), (D)-(II)
(4) (A)-(IV), (B)-(III), (C)-(II), (D)-(I)

सूची-I के साथ का सूची-II मिलान कीजिए :

सूची-I स्थल	सूची-II स्थान
(A) अरिकामेडु	(I) महाराष्ट्र
(B) अदम	(II) केरल
(C) चंद्रकेतुगढ़	(III) पं. बंगाल
(D) पट्टनम	(IV) तमिलनाडु

नीचे दिए गए विकल्पों में से सही उत्तर का चयन कीजिए :

- (1) (A)-(I), (B)-(II), (C)-(III), (D)-(IV)
(2) (A)-(II), (B)-(III), (C)-(I), (D)-(IV)
(3) (A)-(IV), (B)-(I), (C)-(III), (D)-(II)
(4) (A)-(IV), (B)-(III), (C)-(II), (D)-(I)

1[Option ID=15481]

2[Option ID=15482]

3[Option ID=15483]

4[Option ID=15484]

Sl. No.122

QBID:671072

Match List I with List II :

List I (Book)	List II (Author)
(A) The Harappan Civilization and Its Writing	(I) G.L. Possehl
(B) Indus Script Deciphered	(II) S.R. Rao
(C) Indus Age : The Writing System	(III) M.V.N. Krishna Rao
(D) The Decipherment of Indus Script	(IV) W.A. Fairervis

Choose the correct answer from the options given below :

- (1) (A)-(II), (B)-(I), (C)-(IV), (D)-(III)

(2) (A)-(I), (B)-(II), (C)-(III), (D)-(IV)

(3) (A)-(IV), (B)-(III), (C)-(I), (D)-(II)

(4) (A)-(III), (B)-(IV), (C)-(II), (D)-(I)

सूची-I के साथ का सूची-II मिलान कीजिए :

सूची-I पुस्तक	सूची-II लेखक
(A) द हड़प्पन सिविलाइजेशन एण्ड इट्स राइटिंग	(I) जी.एल. पॉसेल
(B) इण्डस स्क्रिप्ट डिसहाइफर्ड	(II) एस.आर. राव
(C) इंडस ऐज: द राइटिंग सिस्टम	(III) एम.वी.एन. कृष्ण राव
(D) द डिसहाइफरमेंट ऑफ इंडस स्क्रिप्ट	(IV) डब्ल्यू.ए.फेयर सर्विस

नीचे दिए गए विकल्पों में से सही उत्तर का चयन कीजिए :

(1) (A)-(II), (B)-(I), (C)-(IV), (D)-(III)

(2) (A)-(I), (B)-(II), (C)-(III), (D)-(IV)

(3) (A)-(IV), (B)-(III), (C)-(I), (D)-(II)

(4) (A)-(III), (B)-(IV), (C)-(II), (D)-(I)

1[Option ID=15485]
2[Option ID=15486]
3[Option ID=15487]
4[Option ID=15488]

Sl. No.123
QBID:671073

Match List I with List II :

List I (Site)	List II (Excavator)
(A) Kunal	(I) L.S. Rao
(B) Bhirrana	(II) R.C. Thakran
(C) Badli	(III) V. Shinde
(D) Farmana	(IV) B.R. Mani

Choose the correct answer from the options given below :

(1) (A)-(I), (B)-(II), (C)-(III), (D)-(IV)

(2) (A)-(IV), (B)-(I), (C)-(II), (D)-(III)

(3) (A)-(IV), (B)-(II), (C)-(I), (D)-(III)

(4) (A)-(IV), (B)-(III), (C)-(I), (D)-(II)

सूची-I के साथ का सूची-II मिलान कीजिए :

सूची-I (पुरास्थल)	सूची-II उत्खननकर्ता
(A) कुणाल	(I) एल.एस.राव
(B) भीरराना	(II) आर.सी. ठाकरान
(C) बादली	(III) वी. शिन्दे
(D) फरमाना	(IV) बी.आर. मणि

नीचे दिए गए विकल्पों में से सही उत्तर का चयन कीजिए :

(1) (A)-(I), (B)-(II), (C)-(III), (D)-(IV)

(2) (A)-(IV), (B)-(I), (C)-(II), (D)-(III)

(3) (A)-(IV), (B)-(II), (C)-(I), (D)-(III)

(4) (A)-(IV), (B)-(III), (C)-(I), (D)-(II)

1[Option ID=15489]

2[Option ID=15490]

3[Option ID=15491]

4[Option ID=15492]

Sl. No.124

QBID:671074

Match List I with List II :

List I (Stone Tools)	List II (Period)
(A) Hand-axe, Cleaver	(I) Upper Palaeolithic
(B) Flake	(II) Middle Palaeolithic
(C) Blade-Burin	(III) Lower Palaeolithic
(D) Microliths	(IV) Mesolithic

Choose the correct answer from the options given below :

(1) (A)-(I), (B)-(II), (C)-(III), (D)-(IV)

(2) (A)-(III), (B)-(II), (C)-(I), (D)-(IV)

(3) (A)-(I), (B)-(III), (C)-(II), (D)-(IV)

(4) (A)-(II), (B)-(I), (C)-(III), (D)-(IV)

सूची-I के साथ का सूची-II मिलान कीजिए :

सूची-I प्रस्तर उपकरण	सूची-II काल
(A) हस्तकुठार और क्लीवर	(I) उच्च पुरा पाषाण काल
(B) फलक उपकरण	(II) मध्य पुरा पाषाण काल
(C) ब्लेड और ब्यूरिन	(III) निम्न पुरा पाषाण काल
(D) सूक्ष्म पाषाण उपकरण	(IV) मध्य पाषाण काल

नीचे दिए गए विकल्पों में से सही उत्तर का चयन कीजिए :

(1) (A)-(I), (B)-(II), (C)-(III), (D)-(IV)

(2) (A)-(III), (B)-(II), (C)-(I), (D)-(IV)

(3) (A)-(I), (B)-(III), (C)-(II), (D)-(IV)

(4) (A)-(II), (B)-(I), (C)-(III), (D)-(IV)

1[Option ID=15493]

2[Option ID=15494]

3[Option ID=15495]

4[Option ID=15496]

Sl. No.125

QBID:671075

Match List I with List II :

List I (Temple)	List II (Location)
(A) Koranganatha temple	(I) Tirukattalai
(B) Brihadishwara temple	(II) Darasuram
(C) Sundareshwara temple	(III) Gangaikondacholapuram
(D) Airavateshwara temple	(IV) Srinivasanallur

Choose the correct answer from the options given below :

(1) (A)-(I), (B)-(II), (C)-(III), (D)-(IV)

- (2) (A)-(IV), (B)-(III), (C)-(I), (D)-(II)
(3) (A)-(IV), (B)-(I), (C)-(III), (D)-(II)
(4) (A)-(I), (B)-(III), (C)-(IV), (D)-(II)

सूची-I के साथ का सूची-II मिलान कीजिए :

सूची-I	सूची-II
मंदिर	अवस्थिति
(A) कोरंग नाथ मंदिर	(I) तिरुकतालेई
(B) बृहदेश्वर मंदिर	(II) दारासुरम
(C) सुंदरेश्वर मंदिर	(III) गंगैकोण्डचोलपुरम
(D) ऐर्वेत्वशर मंदिर	(IV) श्रीनिवासनाल्लुर

नीचे दिए गए विकल्पों में से सही उत्तर का चयन कीजिए :

- (1) (A)-(I), (B)-(II), (C)-(III), (D)-(IV)
(2) (A)-(IV), (B)-(III), (C)-(I), (D)-(II)
(3) (A)-(IV), (B)-(I), (C)-(III), (D)-(II)
(4) (A)-(I), (B)-(III), (C)-(IV), (D)-(II)

1[Option ID=15497]
2[Option ID=15498]
3[Option ID=15499]
4[Option ID=15500]

Sl. No.126
QBID:671076

Re-arrange the following stylistic categories central Indian rock paintings.

- (A) Historical
(B) Conventionalized
(C) Stylized
(D) Naturalistic

Choose the correct answer from the options given below :

- (1) (A), (B), (C), (D)
(2) (D), (C), (B), (A)
(3) (C), (B), (A), (D)
(4) (D), (A), (B), (C)

मध्य भारत के निम्नलिखित शिलाचित्रकला प्रकारों को व्यवस्थित कीजिए:

- (A) ऐतिहासिक
- (B) रूढ़िगत
- (C) शैलीगत
- (D) प्रकृतिजन्य

नीचे दिए गए विकल्पों में से सही उत्तर का चयन कीजिए :

- (1) (A), (B), (C), (D)
- (2) (D), (C), (B), (A)
- (3) (C), (B), (A), (D)
- (4) (D), (A), (B), (C)

1[Option ID=15501]
2[Option ID=15502]
3[Option ID=15503]
4[Option ID=15504]

Sl. No.127
QBID:671077

Arrange the following tool-making process of Neolithic period.

- (A) Pecking
- (B) Flaking
- (C) Grinding
- (D) Polishing

Choose the correct answer from the options given below :

- (1) (A), (B), (C), (D)
- (2) (B), (A), (C), (D)
- (3) (C), (D), (A), (B)
- (4) (D), (C), (B), (A)

निम्नलिखित नवपाषाण कालीन उपकरण निर्माण प्रक्रिया को व्यवस्थित कीजिए:

- (A) पैकिंग
- (B) फ्लेकिंग
- (C) ग्राइंडिंग
- (D) पॉलिशिंग

नीचे दिए गए विकल्पों में से सही उत्तर का चयन कीजिए :

- (1) (A), (B), (C), (D)
- (2) (B), (A), (C), (D)

(3) (C), (D), (A), (B)

(4) (D), (C), (B), (A)

1[Option ID=15505]

2[Option ID=15506]

3[Option ID=15507]

4[Option ID=15508]

Sl. No.128

QBID:671078

Sven Neilsson divided respectively the human society in following phases :

- (A) Savagery
- (B) Nomad
- (C) Settled Agriculture
- (D) Civilization

Choose the correct answer from the options given below :

- (1) (A), (B), (C), (D)
- (2) (B), (C), (D), (A)
- (3) (C), (D), (A), (B)
- (4) (D), (A), (B), (C)

मानव समाज को स्वेन नेल्सन ने क्रमशः निम्न लिखित अनुक्रम में विभाजित किया:

- (A) वन्यता
- (B) यायावर पशुचारण
- (C) स्थायी कृषि
- (D) सभ्यता

नीचे दिए गए विकल्पों में से सही उत्तर का चयन कीजिए :

- (1) (A), (B), (C), (D)
- (2) (B), (C), (D), (A)
- (3) (C), (D), (A), (B)
- (4) (D), (A), (B), (C)

1[Option ID=15509]

2[Option ID=15510]

3[Option ID=15511]

4[Option ID=15512]

Sl. No.129

QBID:671079

Arrange the following archaeological sites from west to east direction:

- (A) Tarkhanwala dera
- (B) Baror
- (C) Sothi
- (D) Kalibangan

Choose the correct answer from the options given below :


- (1) (A), (B), (C), (D)
- (2) (A), (B), (D), (C)
- (3) (A), (C), (B), (D)
- (4) (A), (D), (B), (C)

निम्नलिखित पुरास्थलों को पूरब से पश्चिम दिशा के क्रम में व्यवस्थित कीजिए:

- (A) तरखुन वाला डेरा
- (B) बरोर
- (C) सोथी
- (D) कालीबंगा

नीचे दिए गए विकल्पों में से सही उत्तर का चयन कीजिए :

- (1) (A), (B), (C), (D)
- (2) (A), (B), (D), (C)
- (3) (A), (C), (B), (D)
- (4) (A), (D), (B), (C)



- 1[Option ID=15513]
- 2[Option ID=15514]
- 3[Option ID=15515]
- 4[Option ID=15516]

Sl. No.130
QBID:671080

Re-arrange the following Director-Generals of the Archaeological Survey of India in ascending order

- (A) R.E.M. Wheeler
- (B) A. Cunningham
- (C) John Marshall
- (D) A. Ghosh

Choose the correct answer from the options given below :

- (1) (A), (B), (C), (D)
- (2) (C), (A), (D), (B)
- (3) (B), (A), (C), (D)

(4) (B), (C), (A), (D)

भारतीय पुरातत्व सर्वेक्षण के निम्नलिखित महानिदेशकों को उनके कालक्रम में क्रमशः व्यवस्थित कीजिए:

- (A) आर.ई. एम. व्हीलर
- (B) ए. कनिंघम
- (C) जॉन मार्शल
- (D) ए. घोष

नीचे दिए गए विकल्पों में से सही उत्तर का चयन कीजिए :

- (1) (A), (B), (C), (D)
- (2) (C), (A), (D), (B)
- (3) (B), (A), (C), (D)
- (4) (B), (C), (A), (D)

1[Option ID=15517]
2[Option ID=15518]
3[Option ID=15519]
4[Option ID=15520]

Sl. No.131
QBID:671081

Arrange the following in a chronological order from earliest to latest:

- (A) Steatite seals
- (B) Punch-marked coins
- (C) PGW
- (D) Copper Hoards

Choose the correct answer from the options given below :

- (1) (A), (B), (C), (D)
- (2) (A), (D), (C), (B)
- (3) (A), (C), (B), (D)
- (4) (A), (D), (B), (C)

निम्नलिखित को प्रारंभ से बाद के अनक्रम में कालक्रमानुसार व्यवस्थित कीजिए:

- (A) कांचल मिट्टी की मुहर
- (B) आहत सिक्के
- (C) चित्रित धूसर पात्र
- (D) ताम्रनिधि

नीचे दिए गए विकल्पों में से सही उत्तर का चयन कीजिए :

- (1) (A), (B), (C), (D)
- (2) (A), (D), (C), (B)

(3) (A), (C), (B), (D)

(4) (A), (D), (B), (C)

1[Option ID=15521]

2[Option ID=15522]

3[Option ID=15523]

4[Option ID=15524]

Sl. No.132

QBID:671082

Re-arrange the following ancient temples in chronological order from earliest to latest:

- (A) Jagannath temple
- (B) Parashurameshwar temple
- (C) Raja Rani temple
- (D) Lakshmaneshwar group of temples

Choose the correct answer from the options given below :

(1) (A), (B), (C), (D)

(2) (D), (B), (C), (A)

(3) (D), (C), (B), (A)

(4) (C), (D), (B), (A)

निम्नलिखित प्राचीन मंदिरों को प्रारंभ से बाद के अनुक्रम में क्रमशः कालक्रमानुसार व्यवस्थित कीजिए:

- (A) जगन्नाथ मंदिर
- (B) परशुरामेश्वर मंदिर
- (C) राजा रानी मंदिर
- (D) लक्ष्मणेश्वर मंदिर समूह

नीचे दिए गए विकल्पों में से सही उत्तर का चयन कीजिए :

(1) (A), (B), (C), (D)

(2) (D), (B), (C), (A)

(3) (D), (C), (B), (A)

(4) (C), (D), (B), (A)

1[Option ID=15525]

2[Option ID=15526]

3[Option ID=15527]

4[Option ID=15528]

Sl. No.133

QBID:671083



Re-arrange the following events in chronological order from earliest to latest:

- (A) First Urbanization
- (B) Jorwe Culture
- (C) Hunter-Gatherers
- (D) NBPW

Choose the correct answer from the options given below :


- (1) (A), (B), (C), (D)
- (2) (C), (A), (B), (D)
- (3) (C), (B), (A), (D)
- (4) (D), (C), (B), (A)

निम्नलिखित घटनाओं को पहले से बाद के अनुक्रम में क्रमशः काल क्रमानुसार व्यवस्थित कीजिए

- (A) प्रथम नगरीकरण
- (B) जोरवे संस्कृति
- (C) शिकारी-संग्राहक
- (D) एन.बी.पी.डब्ल्यू

नीचे दिए गए विकल्पों में से सही उत्तर का चयन कीजिए :

- (1) (A), (B), (C), (D)
- (2) (C), (A), (B), (D)
- (3) (C), (B), (A), (D)
- (4) (D), (C), (B), (A)



- 1[Option ID=15529]
- 2[Option ID=15530]
- 3[Option ID=15531]
- 4[Option ID=15532]

Sl. No.134
QBID:671084

Re-arrange the following inscriptions in chronological order from earliest to latest :

- (A) Hathigumpha
- (B) Aihole
- (C) Dhauri
- (D) Gwalior

Choose the correct answer from the options given below :

- (1) (A), (B), (C), (D)
- (2) (C), (B), (A), (D)
- (3) (C), (A), (B), (D)
- (4) (B), (A), (C), (D)

निम्नलिखित अभिलेखों को पहले से बाद के अनुक्रम, कालक्रमानुसार व्यवस्थित कीजिए:

- (A) हाथी गुम्फा
- (B) ऐहोल
- (C) धौली
- (D) खालियर

नीचे दिए गए विकल्पों में से सही उत्तर का चयन कीजिए :

- (1) (A), (B), (C), (D)
- (2) (C), (B), (A), (D)
- (3) (C), (A), (B), (D)
- (4) (B), (A), (C), (D)

1[Option ID=15533]
2[Option ID=15534]
3[Option ID=15535]
4[Option ID=15536]

Sl. No.135
QBID:671085

Re-arrange the following coins in chronological Manner :

- (A) Repoussie coins
- (B) Uninscribed cast coins
- (C) Punch marked coins
- (D) Uninscribed Die-struck coins

Choose the correct answer from the options given below :

- (1) (A), (B), (C), (D)
- (2) (C), (B), (D), (A)
- (3) (B), (C), (D), (A)
- (4) (C), (A), (B), (D)

निम्नलिखित सिक्कों को उनके प्रचालन के अनुक्रम में पहले से बाद के आधार पर कालक्रमानुसार व्यवस्थित कीजिए:

- (A) रिपोजे सिक्के
- (B) अलिखित ढलुआ सिक्के
- (C) आहत सिक्के
- (D) अलिखित ठप्पांकित सिक्के

नीचे दिए गए विकल्पों में से सही उत्तर का चयन कीजिए :

- (1) (A), (B), (C), (D)
- (2) (C), (B), (D), (A)
- (3)

(B), (C), (D), (A)

(4) (C), (A), (B), (D)

1[Option ID=15537]
2[Option ID=15538]
3[Option ID=15539]
4[Option ID=15540]

Sl. No.136
QBID:671086

Given below are two statements : One is labelled as Assertion A and the other is labelled as Reason R.

Assertion (A) : In ancient India, the site of Mathura was famous as the main cultural and economic center from 2nd century BC to 3rd century AD.

Reasons (R) : Mathura was the main capital city of the Kushana rulers.

In the light of the above statements, choose the *most appropriate answer* from the options given below :

- (1) Both (A) and (R) are correct and (R) is the correct explanation of (A)
- (2) Both (A) and (R) are correct but (R) is NOT the correct explanation of (A)
- (3) (A) is correct but (R) is not correct
- (4) (A) is not correct but (R) is correct

नीचे दो कथन दिए गए हैं : एक अभिकथन (Assertion (A)) के रूप में लिखित है तो दूसरा उसके कारण (Reasons (R)) के रूप में :

अभिकथन (A) : प्राचीन भारत में मथुरा द्वितीय शताब्दी ईसा पूर्व से तृतीय शताब्दी ईस्वी तक मुख्य सांस्कृतिक एवं आर्थिक केन्द्र के रूप में प्रसिद्ध था:

कारण (R) : मथुरा नगर कुषाण शासकों की मुख्य राजधानी थी।

उपरोक्त कथन के आलोक में, नीचे दिए गए विकल्पों में से सबसे उपयुक्त उत्तर का चयन कीजिए

- (1) (A) और (R) दोनों सही हैं और (R), (A) की सही व्याख्या है
- (2) (A) और (R) दोनों सही हैं, लेकिन (R), (A) की सही व्याख्या नहीं है
- (3) (A) सही है, लेकिन (R) सही नहीं है
- (4) (A) सही नहीं है, लेकिन (R) सही है

1[Option ID=15541]
2[Option ID=15542]
3[Option ID=15543]
4[Option ID=15544]

Sl. No.137
QBID:671087

Given below are two statements : One is labelled as Assertion A and the other is labelled as Reason R.

Assertion (A) : The cultural deposit of the Belan, valley has been termed as the text book section by the archaeologists.

Reasons (R) : Because there is continuous deposits of early human cultures.

In the light of the above statements, choose the *most appropriate answer* from the options given below :

- (1) Both (A) and (R) are correct and (R) is the correct explanation of (A)
- (2) Both (A) and (R) are correct but (R) is NOT the correct explanation of (A)
- (3) (A) is correct but (R) is not correct
- (4) (A) is not correct but (R) is correct

नीचे दो कथन दिए गए हैं : एक अभिकथन (Assertion (A)) के रूप में लिखित है तो दूसरा उसके कारण (Reasons (R)) के रूप में :

अभिकथन (A) : बेलन घाटी के सांस्कृतिक जमाव को पुराविदों के द्वारा “पाठ्य पुस्तक सेक्सन” कहा गया है-

कारण (R) : क्योंकि यहाँ मानव संस्कृति के प्रारम्भिक विकास का अविच्छिन्न अनुक्रम प्राप्त होता है

उपरोक्त कथन के आलोक में, नीचे दिए गए विकल्पों में से सबसे उपयुक्त उत्तर का चयन कीजिए

- (1) (A) और (R) दोनों सही हैं और (R), (A) की सही व्याख्या है
- (2) (A) और (R) दोनों सही हैं, लेकिन (R), (A) की सही व्याख्या नहीं है
- (3) (A) सही है, लेकिन (R) सही नहीं है
- (4) (A) सही नहीं है, लेकिन (R) सही है

1[Option ID=15545]
2[Option ID=15546]
3[Option ID=15547]
4[Option ID=15548]

Sl. No.138
QBID:671088

Given below are two statements : One is labelled as Assertion A and the other is labelled as Reason R.

Assertion (A) : Amphora and Arrentine ware were reported from Arikamedu.

Reasons (R) : Perhaps they were brought by Roman traveller to India.

In the light of the above statements, choose the *most appropriate correct answer* from the options given below :

- (1) Both (A) and (R) are correct and (R) is the correct explanation of (A)
- (2) Both (A) and (R) are correct but (R) is NOT the correct explanation of (A)
- (3) (A) is correct but (R) is not correct

(4) (A) is not correct but (R) is correct

नीचे दो कथन दिए गए हैं : एक अभिकथन (Assertion (A)) के रूप में लिखित है तो दूसरा उसके कारण (Reasons (R)) के रूप में :

अभिकथन (A) : एम्फोरा और एनेटाइन पात्रों की प्राप्ति अरिकामेडु से हुयी है:

कारण (R) : बहुत संभव है इसे रोमन यात्रियों द्वारा भारत लाया गया था।

उपरोक्त कथन के आलोक में, नीचे दिए गए विकल्पों में से सबसे उपयुक्त उत्तर का चयन कीजिए :

- (1) (A) और (R) दोनों सही हैं और (R), (A) की सही व्याख्या है
- (2) (A) और (R) दोनों सही हैं लेकिन (R), (A) की सही व्याख्या नहीं है
- (3) (A) सही है लेकिन (R) सही नहीं है
- (4) (A) सही नहीं है लेकिन (R) सही है

1[Option ID=15549]
2[Option ID=15550]
3[Option ID=15551]
4[Option ID=15552]

Sl. No.139
QBID:671089

Given below are two statements :

Statement I : The first long Sanskrit inscription is Junagarh rock inscription of the Western Kshatrap king Ruradaman.

Statement II : Between the 4th and 6th centuries A. D. Sanskrit emerged as the premier language of royal inscriptions all over India.

In the light of the above statements, choose the *correct answer* from the options given below :

- (1) Both Statement I and Statement II are true
- (2) Both Statement I and Statement II are false
- (3) Statement I is true but Statement II is false
- (4) Statement I is false but Statement II is true

नीचे दो कथन दिए गए हैं :

कथन I : प्रथम बृहद् संस्कृत का अभिलेख पश्चिमी क्षत्रप राजा रुद्रदामन का जूनागढ़ शिलालेख है:

कथन II : चौथी से छठी शताब्दी ईस्वी के मध्य संस्कृत महत्वपूर्ण रूप से सभी राजकीय अभिलेखों में प्राप्त होती है-

उपरोक्त कथन के आलोक में, नीचे दिए गए विकल्पों में से सही उत्तर का चयन कीजिए :

- (1) कथन I और II दोनों सत्य हैं
- (2)

कथन I और II दोनों असत्य हैं

- (3) कथन I सत्य है, लेकिन कथन II असत्य है
- (4) कथन I असत्य है, लेकिन कथन II सत्य है

1[Option ID=15553]
2[Option ID=15554]
3[Option ID=15555]
4[Option ID=15556]

Sl. No.140
QBID:671090

Given below are two statements :

Statement (I) : The Nagara style of temple architecture is mainly centralized in the northern India.

Statement (II) : The Vesara style of temple architecture was mainly centralized in middle India.

In the light of the above statements, choose the *correct answer* from the options given below :

- (1) Both Statement I and Statement II are true
- (2) Both Statement I and Statement II are false
- (3) Statement I is true but Statement II is false
- (4) Statement I is false but Statement II is true

नीचे दो कथन दिए गए हैं :

कथन (I) : नागर शैली के मंदिर मुख्यतः उत्तरभारत में संकेन्द्रित है।

कथन (II) : बेसर शैली के मंदिर मुख्यतः मध्य-भारत में संकेन्द्रित हैं।

उपरोक्त कथन के आलोक में, नीचे दिए गए विकल्पों में से सही उत्तर का चयन कीजिए

- (1) कथन I और II दोनों सत्य है
- (2) कथन I और II दोनों असत्य है
- (3) कथन I सत्य है, लेकिन कथन II असत्य है
- (4) कथन I असत्य है, लेकिन कथन II सत्य है

1[Option ID=15557]
2[Option ID=15558]
3[Option ID=15559]
4[Option ID=15560]

Sl. No.141
QBID:671091

Read the given passage and answer the questions that follow :

The evidence of the transition from the hunter-gatherer economy to the producer economy in the Indian subcontinent comes from many archaeological sites. Man started to involve himself in agricultural activities. The evidences from excavations have revealed sites related to early farming communities from Mehrgarh in North, Budihal and Paiyampalli from south, Daojali Hading from eastern India along with sites such as Lahuradeva, Tokwa, Jhusi, Koldihawa etc. Paddy is the earliest crop obtained from these sites.

भारतीय उप महाद्वीप में शिकारी और संग्राहक अर्थव्यवस्था से उत्पादक अर्थ व्यवस्था के चरण में प्रवेश के प्रमाण अनेक पुरास्थलों से प्राप्त होते हैं। इस चरण में मानव ने कृषिगत कार्य की ओर अपने को लगाना प्रारम्भ किया। उत्तर में मेहरगढ़, दक्षिण में बुधीहाल और पैय्यमपल्ली, पूर्वी भारत में दाओजली हार्डिंग के साथ ही लहुरादेवा टोकवा, झूँसी कोलडिहवा, इत्यादि ऐसे पुरास्थल हैं जहाँ से उत्खनन से प्राप्त प्रमाणों के आधार पर इन्हें प्रारम्भिक कृषक समुदाय के स्थल के रूप में चिन्हित किया जा सकता है। इन स्थलों से प्राप्त प्राचीनतम अन्न धान है।

उपर्युक्त परिच्छेद के आधार पर प्रश्न सं 91 से 95 तक का उत्तर दीजिये।

Where is Tokwa?

- (1) Bihar
- (2) West Bengal
- (3) Uttar Pradesh
- (4) Karnataka



पुरास्थल टोकवा वर्तमान में भारत के किस राज्य में अवस्थित है।

- (1) बिहार
- (2) पं. बंगाल
- (3) उत्तर प्रदेश
- (4) कर्नाटक

1[Option ID=15561]
2[Option ID=15562]
3[Option ID=15563]
4[Option ID=15564]

Sl. No.142
QBID:671092

Read the given passage and answer the questions that follow :

The evidence of the transition from the hunter-gatherer economy to the producer economy in the Indian subcontinent comes from many archaeological sites. Man started to involve himself in agricultural activities. The evidences from excavations have revealed sites related to early farming communities from Mehrgarh in North, Budihal and Paiyampalli from south, Daojali Hading from eastern India along with sites such as Lahuradeva, Tokwa, Jhusi, Koldihawa etc. Paddy is the earliest crop obtained from these sites.

भारतीय उप महाद्वीप में शिकारी और संग्राहक अर्थव्यवस्था से उत्पादक अर्थ व्यवस्था के चरण में प्रवेश के प्रमाण अनेक पुरास्थलों से प्राप्त होते हैं। इस चरण में मानव ने कृषिगत कार्य की ओर अपने को लगाना प्रारम्भ किया। उत्तर में मेहरगढ़, दक्षिण में बुधीहाल और पैय्यमपल्ली, पूर्वी भारत में दाओजली हार्डिंग के साथ ही लहुरादेवा टोकवा, झूँसी कोलडिहवा, इत्यादि ऐसे पुरास्थल हैं जहाँ से उत्खनन से प्राप्त प्रमाणों के आधार पर इन्हें प्रारम्भिक कृषक समुदाय के स्थल के रूप में चिन्हित किया जा सकता है। इन स्थलों से प्राप्त प्राचीनतम अन्न धान है।

उपर्युक्त परिच्छेद के आधार पर प्रश्न सं 91 से 95 तक का उत्तर दीजिये।

Who excavated the site of Budihal?

- (1) K. Paddayya
- (2) K. Rajan
- (3) V. Shinde
- (4) Sheila Mishra



बुधीहाल पुरास्थल का उत्खनन किसने किया था?

- (1) के. पदैय्या
- (2) के. राजन
- (3) वी. शिन्दे
- (4) शीला मिश्रा

1[Option ID=15565]
2[Option ID=15566]
3[Option ID=15567]
4[Option ID=15568]

Sl. No.143
QBID:671093

Read the given passage and answer the questions that follow :

The evidence of the transition from the hunter-gatherer economy to the producer economy in the Indian subcontinent comes from many archaeological sites. Man started to involve himself in agricultural activities. The evidences from excavations have revealed sites related to early farming communities from Mehrgarh in North, Budihal and Paiyampalli from south, Daojali Hading from eastern India along with sites such as Lahuradeva, Tokwa, Jhusi, Koldihawa etc. Paddy is the earliest crop obtained from these sites.

भारतीय उप महाद्वीप में शिकारी और संग्राहक अर्थव्यवस्था से उत्पादक अर्थ व्यवस्था के चरण में प्रवेश के प्रमाण अनेक पुरास्थलों से प्राप्त होते हैं। इस चरण में मानव ने कृषिगत कार्य की ओर अपने को लगाना प्रारम्भ किया। उत्तर में मेहरगढ़, दक्षिण में बुधीहाल और पैय्यमपल्ली, पूर्वी भारत में दाओजली हार्डिंग के साथ ही लहुरादेवा टोकवा, झूसी कोलडिहवा, इत्यादि ऐसे पुरास्थल हैं जहाँ से उत्खनन से प्राप्त प्रमाणों के आधार पर इन्हें प्रारम्भिक कृषक समुदाय के स्थल के रूप में चिन्हित किया जा सकता है। इन स्थलों से प्राप्त प्राचीनतम अन्न धान है।

उपर्युक्त परिच्छेद के आधार पर प्रश्न सं 91 से 95 तक का उत्तर दीजिये।

When the earliest evidence of farming communities appear in the Indian Sub-continent?

- (1) 12,000 BC to 10,000 BC
- (2) 10,000 BC to 9,000 BC
- (3) 9,000 BC to 8,000 BC
- (4) 8,000 BC to 7,000 BC

भारतीय उपमहाद्वीप में प्राचीनतम कृषक समुदाय अस्तित्व में आया ?

- (1) 12,000 - 10,000 ई.पू.
- (2) 10,000 - 9,000 ई.पू.
- (3) 9,000 - 8,000 ई.पू.
- (4) 8,000 - 7,000 ई.पू.

1[Option ID=15569]
2[Option ID=15570]
3[Option ID=15571]
4[Option ID=15572]

Sl. No.144
QBID:671094

Read the given passage and answer the questions that follow :

The evidence of the transition from the hunter-gatherer economy to the producer economy in the Indian subcontinent comes from many archaeological sites. Man started to involve himself in agricultural activities. The evidences from excavations have revealed sites related to early farming communities from Mehrgarh in North, Budihal and Paiyampalli from south, Daojali Hading from eastern India along with sites such as Lahuradeva, Tokwa, Jhusi, Koldihawa etc. Paddy is the earliest crop obtained from these sites.

भारतीय उप महाद्वीप में शिकारी और संग्राहक अर्थव्यवस्था से उत्पादक अर्थ व्यवस्था के चरण में प्रवेश के प्रमाण अनेक पुरास्थलों से प्राप्त होते हैं। इस चरण में मानव ने कृषिगत कार्य की ओर अपने को लगाना प्रारम्भ किया। उत्तर में मेहरगढ़, दक्षिण में बुधीहाल और पैय्यमपल्ली, पूर्वी भारत में दाओजली हार्डिंग के साथ ही लहुरादेवा टोकवा, झूँसी कोलडिहवा, इत्यादि ऐसे पुरास्थल हैं जहाँ से उत्खनन से प्राप्त प्रमाणों के आधार पर इन्हें प्रारम्भिक कृषक समुदाय के स्थल के रूप में चिन्हित किया जा सकता है। इन स्थलों से प्राप्त प्राचीनतम अन्न धान है।

उपर्युक्त परिच्छेद के आधार पर प्रश्न सं 91 से 95 तक का उत्तर दीजिये।

The site of Daojali Hading is located in which region of India?

- (1) Assam
- (2) Meghalaya
- (3) Arunachal Pradesh
- (4) Tripura



पुरास्थल “दाओ जली हेडिंग” भारत के किस प्रदेश में अवस्थित है?

- (1) आसाम
- (2) मेघालय
- (3) अरुणांचल प्रदेश
- (4) त्रिपुरा

1[Option ID=15573]
2[Option ID=15574]
3[Option ID=15575]
4[Option ID=15576]

Sl. No.145
QBID:671095

Read the given passage and answer the questions that follow :

The evidence of the transition from the hunter-gatherer economy to the producer economy in the Indian subcontinent comes from many archaeological sites. Man started to involve himself in agricultural activities. The evidences from excavations have revealed sites related to early farming communities from Mehrgarh in North, Budihal and Paiyampalli from south, Daojali Hading from eastern India along with sites such as Lahuradeva, Tokwa, Jhusi, Koldihawa etc. Paddy is the earliest crop obtained from these sites.

भारतीय उप महाद्वीप में शिकारी और संग्राहक अर्थव्यवस्था से उत्पादक अर्थ व्यवस्था के चरण में प्रवेश के प्रमाण अनेक पुरास्थलों से प्राप्त होते हैं। इस चरण में मानव ने कृषिगत कार्य की ओर अपने को लगाना प्रारम्भ किया। उत्तर में मेहरगढ़, दक्षिण में बुधीहाल और पैय्यमपल्ली, पूर्वी भारत में दाओजली हार्डिंग के साथ ही लहुरादेवा टोकवा, झूँसी कोलडिहवा, इत्यादि ऐसे पुरास्थल हैं जहाँ से उत्खनन से प्राप्त प्रमाणों के आधार पर इन्हें प्रारम्भिक कृषक समुदाय के स्थल के रूप में चिन्हित किया जा सकता है। इन स्थलों से प्राप्त प्राचीनतम अन्न धान है।

उपर्युक्त परिच्छेद के आधार पर प्रश्न सं 91 से 95 तक का उत्तर दीजिये।

Lahuradevo site is situated at?

- (1) On the bank of horse-shoe lake.
- (2) On the bank of river Sharada.
- (3) On the bank of river Budhi Gandak.
- (4) On the bank of river Ganga.



पुरास्थल “लहुरादेवा” अवस्थित है?

- (1) गोगुर झील के किनारे
- (2) शारदा नदी के किनारे
- (3) बूड़ी गण्डक नदी के तट पर
- (4) गंगा नदी के किनारे

1[Option ID=15577]

2[Option ID=15578]

3[Option ID=15579]

4[Option ID=15580]

Sl. No.146
QBID:671096

Read the following passage and answer the questions that follow :

The ancient Indian inscriptions are classified on the basis of their content and purpose. A long tradition of commendatory inscriptions is visible in the inscriptions of ancient India. The first example of this tradition is the Hathigumpha inscription of the Kalinga king Kharavela. The Prayag Prashasti of Samudragupta and the Aihole prashasti of the Chalukyan king Pulakeshin – II are considered important among the major evlogical inscriptions. It is not proper for historians to accept the facts mentioned in the evlogical inscriptions as they are. It would be appropriate to examine them on the basis of contemporary and subsequent evidences.

प्राचीन भारतीय अभिलेखों को उनकी विषय वस्तु और प्रयोजन के आधार पर वर्गीकृत किया जाता है। प्रशस्ति परक अभिलेखों की एक सुदीर्घ परंपरा प्राचीन भारत के अभिलेखों में दिखायी पड़ती है। इस परंपरा का प्रथम उदाहरण कलिंग राजा खारवेल का हाथी गुम्फा अभिलेख है। समुद्रगुप्त की प्रयाग प्रशस्ति और चालुक्य शासक पुलकेशिन द्वितीय की ऐहोल प्रशस्ति प्रमुख प्रशस्ति परक अभिलेखों में महत्वपूर्ण माने जाते हैं। प्रशस्ति मूलक अभिलेखों में वर्णित तथ्यों को यथावत स्वीकार करना इतिहासकारों के लिये उचित नहीं है। उनका समकालीन और परवर्ती साक्ष्यों के आधार पर परीक्षण उचित होगा।

उपर्युक्त परिच्छेद के आधार पर प्रश्न सं 96 से 100 तक का उत्तर दीजिये-

Which of the following is not a type of inscription?

- (1) Donative inscriptions
- (2) Royal inscriptions
- (3) Coin inscriptions
- (4) Commemorative inscriptions

निम्नलिखित में से कौन अभिलेखों का वर्गीकरण नहीं है

- (1) दान अभिलेख
- (2) राजकीय अभिलेख
- (3) मुद्रा अभिलेख
- (4) स्मृति अभिलेख

1[Option ID=15581]
2[Option ID=15582]
3[Option ID=15583]
4[Option ID=15584]

Sl. No.147
QBID:671097

Read the following passage and answer the questions that follow :

The ancient Indian inscriptions are classified on the basis of their content and purpose. A long tradition of commendatory inscriptions is visible in the inscriptions of ancient India. The first example of this tradition is the Hathigumpha inscription of the Kalinga king Kharavela. The Prayag Prashasti of Samudragupta and the Aihole prashasti of the Chalukyan king Pulakeshin – II are considered important among the major evlogical inscriptions. It is not proper for historians to accept the facts mentioned in the evlogical inscriptions as they are. It would be appropriate to examine them on the basis of contemporary and subsequent evidences.

प्राचीन भारतीय अभिलेखों को उनकी विषय वस्तु और प्रयोजन के आधार पर वर्गीकृत किया जाता है। प्रशस्ति परक अभिलेखों की एक सुदीर्घ परंपरा प्राचीन भारत के अभिलेखों में दिखायी पड़ती है। इस परंपरा का प्रथम उदाहरण कलिंग राजा खारवेल का हाथी गुम्फा अभिलेख है। समुद्रगुप्त की प्रयाग प्रशस्ति और चालुक्य शासक पुलकेशिन द्वितीय की ऐहोल प्रशस्ति प्रमुख प्रशस्ति परक अभिलेखों में महत्वपूर्ण माने जाते हैं। प्रशस्ति मूलक अभिलेखों में वर्णित तथ्यों को यथावत स्वीकार करना इतिहासकारों के लिये उचित नहीं है। उनका समकालीन और परवर्ती साक्ष्यों के आधार पर परीक्षण उचित होगा।

उपर्युक्त परिच्छेद के आधार पर प्रश्न सं 96 से 100 तक का उत्तर दीजिये-

Rummendei inscription is

- (1) Royal inscription
- (2) Royal commemorative inscription
- (3) Commemorative inscription
- (4) Royal Donative inscription

रुम्मिन्देई अभिलेख है:

- (1) राजकीय अभिलेख
- (2) राजकीय स्मृति अभिलेख
- (3) स्मृति अभिलेख
- (4) राजकीय दान अभिलेख

1[Option ID=15585]
2[Option ID=15586]
3[Option ID=15587]
4[Option ID=15588]

Read the following passage and answer the questions that follow :

The ancient Indian inscriptions are classified on the basis of their content and purpose. A long tradition of commendatory inscriptions is visible in the inscriptions of ancient India. The first example of this tradition is the Hathigumpha inscription of the Kalinga king Kharavela. The Prayag Prashasti of Samudragupta and the Aihole prashasti of the Chalukyan king Pulakeshin – II are considered important among the major evlogical inscriptions. It is not proper for historians to accept the facts mentioned in the evlogical inscriptions as they are. It would be appropriate to examine them on the basis of contemporary and subsequent evidences.

प्राचीन भारतीय अभिलेखों को उनकी विषय वस्तु और प्रयोजन के आधार पर वर्गीकृत किया जाता है। प्रशस्ति परक अभिलेखों की एक सुदीर्घ परंपरा प्राचीन भारत के अभिलेखों में दिखायी पड़ती है। इस परंपरा का प्रथम उदाहरण कलिंग राजा खारवेल का हाथी गुम्फा अभिलेख है। समुद्रगुप्त की प्रयाग प्रशस्ति और चालुक्य शासक पुलकेशिन द्वितीय की ऐहोल प्रशस्ति प्रमुख प्रशस्ति परक अभिलेखों में महत्वपूर्ण माने जाते हैं। प्रशस्ति मूलक अभिलेखों में वर्णित तथ्यों को यथावत स्वीकार करना इतिहासकारों के लिये उचित नहीं है। उनका समकालीन और परवर्ती साक्ष्यों के आधार पर परीक्षण उचित होगा।

उपर्युक्त परिच्छेद के आधार पर प्रश्न सं 96 से 100 तक का उत्तर दीजिये-

Foot print inscriptions are found from which of the following states?

- (1) Bihar
- (2) Uttar Pradesh
- (3) Madhya Pradesh
- (4) Himachal Pradesh



निम्नलिखित में किस राज्य में पदचिन्ह अभिलेख प्राप्त हुये हैं।

- (1) बिहार
- (2) उत्तर प्रदेश
- (3) मध्य प्रदेश
- (4) हिमांचल प्रदेश

- 1[Option ID=15589]
2[Option ID=15590]
3[Option ID=15591]
4[Option ID=15592]

Read the following passage and answer the questions that follow :

The ancient Indian inscriptions are classified on the basis of their content and purpose. A long tradition of commendatory inscriptions is visible in the inscriptions of ancient India. The first example of this tradition is the Hathigumpha inscription of the Kalinga king Kharavela. The Prayag Prashasti of Samudragupta and the Aihole prashasti of the Chalukyan king Pulakeshin – II are considered important among the major evlogical inscriptions. It is not proper for historians to accept the facts mentioned in the evlogical inscriptions as they are. It would be appropriate to examine them on the basis of contemporary and subsequent evidences.

प्राचीन भारतीय अभिलेखों को उनकी विषय वस्तु और प्रयोजन के आधार पर वर्गीकृत किया जाता है। प्रशस्ति परक अभिलेखों की एक सुदीर्घ परंपरा प्राचीन भारत के अभिलेखों में दिखायी पड़ती है। इस परंपरा का प्रथम उदाहरण कलिंग राजा खारवेल का हाथी गुम्फा अभिलेख है। समुद्रगुप्त की प्रयाग प्रशस्ति और चालुक्य शासक पुलकेशिन द्वितीय की ऐहोल प्रशस्ति प्रमुख प्रशस्ति परक अभिलेखों में महत्वपूर्ण माने जाते हैं। प्रशस्ति मूलक अभिलेखों में वर्णित तथ्यों को यथावत स्वीकार करना इतिहासकारों के लिये उचित नहीं है। उनका समकालीन और परवर्ती साक्ष्यों के आधार पर परीक्षण उचित होगा।

उपर्युक्त परिच्छेद के आधार पर प्रश्न सं 96 से 100 तक का उत्तर दीजिये-

The language of the earliest panegyric inscription is :

- (1)

Prakrit

- (2) Ardha Magadhi
- (3) Sanskrit
- (4) Tamil

प्राचीनतम् प्रशस्तिपरक अभिलेख की भाषा है-

- (1) प्राकृत
- (2) अर्द्धमागधी
- (3) संस्कृत
- (4) तमिल

1[Option ID=15593]
2[Option ID=15594]
3[Option ID=15595]
4[Option ID=15596]

Sl. No.150
QBID:671100

Read the following passage and answer the questions that follow :

The ancient Indian inscriptions are classified on the basis of their content and purpose. A long tradition of commendatory inscriptions is visible in the inscriptions of ancient India. The first example of this tradition is the Hathigumpha inscription of the Kalinga king Kharavela. The Prayag Prashasti of Samudragupta and the Aihole prashasti of the Chalukyan king Pulakeshin – II are considered important among the major evlogical inscriptions. It is not proper for historians to accept the facts mentioned in the evlogical inscriptions as they are. It would be appropriate to examine them on the basis of contemporary and subsequent evidences.

प्राचीन भारतीय अभिलेखों को उनकी विषय वस्तु और प्रयोजन के आधार पर वर्गीकृत किया जाता है। प्रशस्ति परक अभिलेखों की एक सुदीर्घ परंपरा प्राचीन भारत के अभिलेखों में दिखायी पड़ती है। इस परंपरा का प्रथम उदाहरण कलिंग राजा खारवेल का हाथी गुम्फा अभिलेख है। समुद्रगुप्त की प्रयाग प्रशस्ति और चालुक्य शासक पुलकेशिन द्वितीय की ऐहोल प्रशस्ति प्रमुख प्रशस्ति परक अभिलेखों में महत्वपूर्ण माने जाते हैं। प्रशस्ति मूलक अभिलेखों में वर्णित तथ्यों को यथावत स्वीकार करना इतिहासकारों के लिये उचित नहीं है। उनका समकालीन और परवर्ती साक्ष्यों के आधार पर परीक्षण उचित होगा।

उपर्युक्त परिच्छेद के आधार पर प्रश्न सं 96 से 100 तक का उत्तर दीजिये-

Who of the following is not an ancient composer?

- (1) Ravikirti
- (2) Chakrapalit
- (3) Tushasph
- (4) Harishena

निम्नलिखित में से कौन एक प्रशस्तिकार नहीं है?

- (1) रविकीर्ति
- (2) चक्रपालित
- (3) तुषास्य
- (4) हरिषेण

1[Option ID=15597]
2[Option ID=15598]
3[Option ID=15599]
4[Option ID=15600]