

Suppose good 1 is taken on horizontal axis and good 2 on vertical axis, then what happens to the budget line if the price of good 1 double and price of good 2 triples?

1. The budget line becomes steeper
2. The budget line becomes flatter
3. The budget line become vertical
4. The budget line remains unchanged

मान लीजिए वस्तु 1 को क्षैतिज रेखा और वस्तु 2 को लंबतः रेखा पर दर्शाया गया है, तो बजट रेखा में क्या परिवर्तन होगा यदि वस्तु 1 की कीमत दुगुनी और वस्तु 2 की कीमत तिगुनी हो जाए

1. बजट रेखा अधिक खड़ी हो जाती है
2. बजट रेखा अधिक समतल हो जाती है
3. बजट रेखा लम्बवत हो जाती है
4. बजट रेखा में कोई परिवर्तन नहीं होता है

A1  
:

1

1

A2  
:

2

2

A3  
:

3

3

A4  
:

4

4

#### Objective Question

52 901002

Suppose that a scarce resource, facing a constant demand, will be exhausted in 10 years. If an alternative resource will be available at a price of \$40 and if the interest rate is 10%, what must be the price of the scarce resource today -

1. \$55.50
2. \$35.60
3. \$24.40
4. \$15.42

मान लीजिए कि सतत मांग वाला कोई दुर्लभ संसाधन 10 वर्षों में समाप्त हो जाएगा। यदि कोई वैकल्पिक संसाधन \$ 40 की कीमत पर उपलब्ध होगा अं ब्याज दर 10% है तो दुर्लभ संसाधन की आज की कीमत क्या होगी

1. \$ 55.50
2. \$ 35.60
3. \$24.40
4. \$ 15.42

A1  
:

1

1

A2  
:

2

2

A3  
:

3

3

A4  
:

4

4

#### Objective Question

53 901003 Which one of the following is not a characteristic of market structure?

1. Degree of buyers' concentration
2. Degree of Sellers' concentration
3. Conditions of entry
4. Vertical integration

निम्नलिखित में से कौन- सी विशेषता बाजार ढांचे की नहीं है

1. क्रेताओं की संख्या
2. विक्रेताओं की संख्या
3. प्रवेश की शर्तें
4. लंबवत एकीकरण

A1

:

1

A2

:

2

A3

:

3

A4

:

4

Objective Question

54 901004 Which of the following is not true in the case of second theorem of welfare economics?

1. If consumers exhibit convex preferences, every pareto efficient allocation is a possible competitive equilibrium in a pure exchange economy.
2. In an economy involving production, the convexity of production sets ensures that a pareto efficient allocation can be achieved as a market equilibrium.
3. It holds when there are increasing returns to scale.
4. It implies that in the market system, the allocative role and the distributive role can be separated from each other.

कल्याणकारी अर्थशास्त्र के दूसरे सिद्धांत के मामले में निम्नलिखित में से कौन-सा सही नहीं है।

1. यदि उपभोक्ता उत्तम विकल्प प्रदर्शित करते हैं तो प्रत्येक पैरिटो दक्ष आबंटन विशुद्ध विनिमय अर्थव्यवस्था में संभव प्रतिस्पर्धा संतुलन होता है।
2. किसी उत्पादन वाली अर्थव्यवस्था में उत्पादन सेट की उत्तलता यह सुनिश्चित करती है कि पैरिटो दक्ष आबंटन को बाजार संतुलन के रूप में प्राप्त किया जा सकता है
3. यह लागू होता है जब पैमाने के अनुसार उत्तरोत्तर प्रतिफल प्राप्त हो
4. इसका अर्थ- है की बाजार प्रणाली में आबंटन भूमिका और वितरण भूमिका को परस्पर पृथक किया जा सकता है

A1

:

1

A2

:

2

A3

:

3

A4

:

4

Objective Question

55	901005	<p>Taylor's Rule tells,</p> <ol style="list-style-type: none"> <li>1. how monetary authority sets interest rate in response to economic activity</li> <li>2. how monetary authority maintains bank rate</li> <li>3. how monetary authority maintains exchange rate</li> <li>4. how government decides the tax rate to increase the tax base.</li> </ol> <p>टैलर नियम क्या बताता है</p> <ol style="list-style-type: none"> <li>1. आर्थिक गतिविधि की प्रतिक्रिया में मौद्रिक प्रधिकरण ब्याज दर कैसे निर्धारित करता है</li> <li>2. मौद्रिक प्रधिकरण बैंक दर कैसे कायम रखता है</li> <li>3. मौद्रिक प्रधिकरण विनिमय दर कैसे कायम रखता है</li> <li>4. कर आधार में वृद्धि करने के लिए सरकार कर दर कैसे निर्धारित करती है</li> </ol> <p>A1 : 1</p> <p>A2 : 2</p> <p>A3 : 3</p> <p>A4 : 4</p>
----	--------	--

## Objective Question

56	901006	<p>Monetary base of an economy is,</p> <ol style="list-style-type: none"> <li>1. Amount of currency held by public and by the banks as reserves.</li> <li>2. Amount of currency held by public and demand deposits.</li> <li>3. Amount of currency held by public and time deposits.</li> <li>4. Currency deposit ratio.</li> </ol> <p>अर्थव्यवस्था का मौद्रिक आधार क्या है?</p> <ol style="list-style-type: none"> <li>1. जनता और बैंको द्वारा भंडार के रूप में धारित मुद्रा की राशि</li> <li>2. जनता द्वारा धारित मुद्रा राशि और मांग निक्षेप</li> <li>3. जनता द्वारा धारित मुद्रा राशि और समय निक्षेप</li> <li>4. मुद्रा निक्षेप अनुपात</li> </ol> <p>A1 : 1</p> <p>A2 : 2</p> <p>A3 : 3</p> <p>A4 : 4</p>
----	--------	---

## Objective Question

57	901007	
----	--------	--

Given the income multiplier formula  $m = \frac{1}{1 - MPC}$ , lower the marginal propensity to save,

1. Higher will be the multiplier effect
2. Lower will be the multiplier effect
3. Multiplier will become infinite
4. Multiplier will become zero

दिए गए आय गुणांक सूत्र में  $m = \frac{1}{1 - MPC}$ , बचत की सीमान्त प्रवृत्ति कम होने पर,

1. गुणांक प्रभाव उच्चतर होगा।
2. गुणांक प्रभाव निम्नतर होगा।
3. गुणांक अपरिमित होगा।
4. गुणांक शून्य होगा।

A1  
:

1

A2  
:

2

A3  
:

3

A4  
:

4

Objective Question

58 901008

In the national income identity  $Y = C + I + G$ , investment (I) is a function of,

1. Real Income
2. Nominal Income
3. Real Interest Rate
4. Nominal Interest Rate

राष्ट्रीय आय समता में  $Y = C + I + G$ , निवेश (I) किसका फलन होगा

1. वास्तविक आय
2. नामिक आय
3. वास्तविक ब्याज दर
4. नामिक ब्याज दर

A1  
:

1

A2  
:

2

A3  
:

3

A4  
:

4

Objective Question

59 901009

Which one of the following is not correct about LM schedule?

1. The LM schedule slopes upward to the right.
2. The LM schedule will be relatively flat (steep) if the interest elasticity of money demand is relatively high (low).
3. The LM schedule will shift downward (upward) to the right (left) with an increase (decrease) in the quantity of money.
4. The LM schedule is the schedule giving the combinations of values of investment and interest rate that produce equilibrium in the money market.

एल. एम. शेड्यूल के बारे में निम्नलिखित में से कौन-सा सही है?

1. एल. एम. शेड्यूल दायीं ओर ऊपर की ओर खिसकती है।
2. यदि धन की मांग की ब्याज लोच सापेक्ष रूप में अधिक (कम) होती है तो एल.एम. शेड्यूल सापेक्ष रूप से समतल (खड़ी) होगी।
3. धन की मात्रा में वृद्धि होने पर एल.एम. शेड्यूल दायीं (बायीं) ओर नीचे (ऊपर) की ओर खिसकती है।
4. एल.एम. शेड्यूल वह शेड्यूल होते हैं जिसमें निवेश के मान और ब्याज दर का संयोजन होना है जिसकी वजह से मुद्रा बाजार में संतुलन पैदा होता है।

A1  
:

1

A2  
:

2

A3  
:

3

A4  
:

4

Objective Question

60 901010

The merchant's file of 20 accounts contains 6 delinquent and 14 non-delinquent accounts. An auditor randomly selects 5 of these accounts for examination. What is the probability that the auditor finds exactly 2 delinquent cases?

1. 0.2562
2. 0.3
3. 0.3087
4. 0.4526

एक व्यापारी के 20 खातों में 6 बकाया और 14 गैर-बकाया खाते हैं। एक लेखापरीक्षक औचक रूप से 5 खातों की जाँच के लिए चयन करता है। इसकी क्या प्रायिकता है कि लेखापरीक्षक को 2 बकाया खाते ही प्राप्त हों?

1. 0.2562
2. 0.3
3. 0.3087
4. 0.4526

A1  
:

1

A2  
:

2

A3  
:

3

A4  
:

4

Objective Question

61	901011	<p>A company has 140 employees, of which 30 are supervisors, 80 of the employees are married, and 20% of the married employee are supervisors. If a company employee is randomly selected, what is the probability that the employee is married and is a supervisor?</p> <p>1. 0.1531 2. 0.1253 3. 0.0923 4. 0.1143</p> <p>किसी कंपनी में 140 कर्मचारी हैं। जिनमें से 30 सुपरवाइजर हैं। 80 कर्मचारी विवाहित हैं और 20% विवाहित कर्मचारी सुपरवाइजर हैं। यदि कंपनी के एक कर्मचारी का औचक रूप से चयन है तो क्या प्रायिकता है कि कर्मचारी विवाहित हो और सुपरवाइजर हो?</p> <p>1. 0.1531 2. 0.1253 3. 0.0923 4. 0.1143</p> <p>A1 : 1 1 A2 : 2 2 A3 : 3 3 A4 : 4 4</p>
----	--------	---

## Objective Question

62	901012	<p>The Hausman's specification error test is used to test whether</p> <p>1. An exogenous variable is correlated with the error term. 2. An endogenous variable is correlated with the error term. 3. Both an exogenous variable is correlated with the error term and an endogenous variable is correlated with the error term. 4. OLS method is appropriate to estimate the SEM.</p> <p>हौसमैन का विनिर्देशन त्रुटि परीक्षण का प्रयोग किसका परीक्षण करने के लिए किया जाता है?</p> <p>1. बहिर्जात चर त्रुटि पद से सह संबंधित है। 2. अंतर्जात चर त्रुटि पद से सह संबंधित है। 3. दोनों बहिर्जात चर त्रुटि पद से सह संबंधित है, और अन्तर्जात चर त्रुटि पद से सह संबंधित है। 4. एस. ई. एस. का अनुमान लगाने के लिए ओ. एल. एस. तरीका उपयुक्त है।</p> <p>A1 : 1 1 A2 : 2 2 A3 : 3 3 A4 : 4 4</p>
----	--------	---

## Objective Question

63 901013

In random walk without drift,

1. The effect of shock persists throughout the time period.
2. The effect of shock in the past dies out over time.
3. The effect of shock drifts away quickly.
4. There is no effect of past shock.

रैनडम वॉक बिना ड्रिफ्ट के में

1. प्रघात का प्रभाव पूरी समयावधि में बना रहता है।
2. प्रघात का प्रभाव समयांतर में समाप्त हो जाता है।
3. प्रघात का प्रभाव तत्काल समाप्त हो जाता है।
4. पिछले प्रघात का कोई प्रभाव नहीं होता है।

A1  
:

1

1

A2  
:

2

2

A3  
:

3

3

A4  
:

4

4

Objective Question

64 901014

Given below are the alternative formulae for F-test statistics. We are interested in testing the statistical significance of the incremental contribution of  $X_3$  at 5% level of significance to  $Y = \beta_0 + \beta_1 X_1 + \beta_2 X_2 + U$ . Which of these is not appropriate? Where  $RSS$  is residual sum of square and  $ESS$  is explained sum of square.

1.  $F = \frac{R_{UR}^2 - R_R^2 / d.f.}{(1 - R_{UR}^2) / d.f.}$
2.  $F = \frac{ESS / d.f.}{RSS / d.f.}$
3.  $F = \frac{ESS_{new} - ESS_{old} / d.f.}{ESS_{new} / d.f.}$
4.  $F = \frac{R^2 / d.f.}{(1 - R^2) / d.f.}$

F-test के सांख्यिकीय के लिए वैकल्पिक फार्मूले नीचे दिए गए हैं। हम  $Y = \beta_0 + \beta_1 X_1 + \beta_2 X_2 + U$  में 5% महत्त्व स्तर पर  $X_3$  के उत्तरोत्तर योगदान सांख्यिकीय महत्त्व की जाँच करना चाहते हैं। इसमें कौन-सा उपयुक्त नहीं है? जहाँ  $RSS$  - का मतलब रेजिडुअल सम ऑफ़ स्क्वायर है और  $ESS$  का मतलब एक्सप्लैन्ड सम ऑफ़ स्क्वायर है।

1.  $F = \frac{R_{UR}^2 - R_R^2 / d.f.}{(1 - R_{UR}^2) / d.f.}$
2.  $F = \frac{ESS / d.f.}{RSS / d.f.}$
3.  $F = \frac{ESS_{new} - ESS_{old} / d.f.}{ESS_{new} / d.f.}$
4.  $F = \frac{R^2 / d.f.}{(1 - R^2) / d.f.}$

A1  
:

1

1

A2 2  
:  
2  
A3 3  
:  
3  
A4 4  
:  
4

## Objective Question

65 901015

Integrate :  $\int x\sqrt{x^2+1} dx \quad x > 0$ 

1.  $\frac{1}{2}(x^2+1)^{\frac{3}{2}} + C$
2.  $\frac{1}{3}(x^2+1)^{\frac{3}{2}} + C$
3.  $\frac{1}{3}(x^3+1)^{\frac{2}{3}} + C$
4.  $\frac{1}{2}(x^3+1)^{\frac{2}{3}} + C$

समाकलन करें :  $\int x\sqrt{x^2+1} dx \quad x > 0$ 

1.  $\frac{1}{2}(x^2+1)^{\frac{3}{2}} + C$
2.  $\frac{1}{3}(x^2+1)^{\frac{3}{2}} + C$
3.  $\frac{1}{3}(x^3+1)^{\frac{2}{3}} + C$
4.  $\frac{1}{2}(x^3+1)^{\frac{2}{3}} + C$

A1 1  
:  
1  
A2 2  
:  
2  
A3 3  
:  
3  
A4 4  
:  
4



## Objective Question

66 901016

Find the extremum of  $u = x^2 + y^2 + z^2$  subject to  $x + y + z = 1$ .

1.  $(\bar{x}, \bar{y}, \bar{z}) = \left(\frac{1}{3}, \frac{1}{2}, \frac{1}{2}\right)$
2.  $(\bar{x}, \bar{y}, \bar{z}) = \left(\frac{1}{2}, \frac{1}{2}, \frac{1}{3}\right)$
3.  $(\bar{x}, \bar{y}, \bar{z}) = \left(\frac{1}{2}, \frac{1}{2}, \frac{1}{2}\right)$
4.  $(\bar{x}, \bar{y}, \bar{z}) = \left(\frac{1}{3}, \frac{1}{3}, \frac{1}{3}\right)$



यदि  $x + y + z = 1$  है तो  $u = x^2 + y^2 + z^2$  का इष्टतम मान ज्ञात करें

1.  $(\bar{x}, \bar{y}, \bar{z}) = \left(\frac{1}{3}, \frac{1}{2}, \frac{1}{2}\right)$

2.  $(\bar{x}, \bar{y}, \bar{z}) = \left(\frac{1}{2}, \frac{1}{2}, \frac{1}{3}\right)$

3.  $(\bar{x}, \bar{y}, \bar{z}) = \left(\frac{1}{2}, \frac{1}{2}, \frac{1}{2}\right)$

4.  $(\bar{x}, \bar{y}, \bar{z}) = \left(\frac{1}{3}, \frac{1}{3}, \frac{1}{3}\right)$

A1  
:

1

A2  
:

2

A3  
:

3

A4  
:

4

#### Objective Question

67 901017

The utility function of a consumer is given by  $U = f(q_1, q_2) = q_1 \cdot q_2$ , suppose the price of  $q_1$  is  $p_{q_1} = 1$  and price of  $q_2$  is  $p_{q_2} = 2$ . The consumer wants to spend amount of  $k$  units only what will be his demand for  $q_1$  and  $q_2$ ?

1.  $(q_1, q_2) = \left(k, \frac{k}{2}\right)$

2.  $(q_1, q_2) = \left(\frac{k}{4}, \frac{k}{6}\right)$

3.  $(q_1, q_2) = \left(\frac{k}{2}, \frac{k}{4}\right)$

4.  $(q_1, q_2) = \left(\frac{k}{2}, \frac{k}{3}\right)$

किसी उपभोक्ता का उपयोगिता फलन  $U = f(q_1, q_2) = q_1 \cdot q_2$  दिया गया है। मान लीजिए  $q_1$  की कीमत  $P_{q_1} = 1$  और  $q_2$  का मूल्य  $P_{q_2} = 2$  है। उपभोक्ता  $k$  यूनिट की ही राशि खर्च करना चाहता है।  $q_1$  और  $q_2$  के लिए उसकी मांग कितनी होगी?

1.  $(q_1, q_2) = \left(k, \frac{k}{2}\right)$

2.  $(q_1, q_2) = \left(\frac{k}{4}, \frac{k}{6}\right)$

3.  $(q_1, q_2) = \left(\frac{k}{2}, \frac{k}{4}\right)$

4.  $(q_1, q_2) = \left(\frac{k}{2}, \frac{k}{3}\right)$

A1  
:

1

A2  
:

2

A3  
:

3

A4  
:

4

## Objective Question

68 901018 A tariff ridden offer curve will bend towards,

1. Import good axis
2. Export good axis
3. Origin
4. Any of the above is possible

कोई प्रशुल्क अधीन प्रस्ताववक्र किस ओर झुकेगा?

1. आयात वस्तु अक्ष
2. निर्यात वस्तु अक्ष
3. मूल (उत्पत्ति)
4. उपरोक्त में से किसी भी एक की ओर

A1  
:

1

1

A2  
:

2

2

A3  
:

3

3

A4  
:

4

4

## Objective Question

69 901019 Factor price equalization theorem is given by,

1. David Ricardo
2. J. S. Mill
3. Paul Samuelson
4. Adam Smith

कारक कीमत समकरण प्रमेय किसने प्रस्तुत किया था?

1. डेविड रिकार्डो
2. जे. एस. मिल
3. पॉल सैम्युएलसन
4. एडम स्मिथ

A1  
:

1

1

A2  
:

2

2

A3  
:

3

3

A4  
:

4

4

## Objective Question

70 901020

In which of the following year IMF has set up the Extended Fund Facility (EFF) to support member's structural reforms to address balan of payment difficulties of a long term character.

1. 1974
2. 1997
3. 1963
4. 2009

निम्नलिखित किस वर्ष में, आई. एम. एफ. ने दीर्घकालीन विशेषता (प्रकृति) वाली भुगतान संतुलन कठिनाइयों में संरचनात्मक सुधारों का समाधान करने हेतु सदस्यों की सहायता के लिए विस्तारित कोष सुविधा (ई एफ एफ) की स्थापना की थी?

1. 1974
2. 1997
3. 1963
4. 2009

A1  
:

1

1

A2  
:

2

2

A3  
:

3

3

A4  
:

4

4

Objective Question

71 901021

The book entitled, "Why Nations Fail: The Origin of Power, Prosperity and Poverty" has been written by,

1. Abhijit Banerjee
2. Daron Acemoglu and James A. Robinson
3. Amartya Sen
4. Joseph Stiglitz

"व्हाई नेशन्स फेल, द ओरिजिन ऑफ़ पॉवर, प्रॉस्पेरिटी, एण्ड पावर्टी" नाम शीर्षक वाली पुस्तक को किसके द्वारा लिखा गया है?

1. अभिजित बनर्जी
2. दारोन एकमोग्लु और जेम्स ए. रॉबिन्सन
3. अमर्त्य सेन
4. जोसेफ़ स्टिगलिज

A1  
:

1

1

A2  
:

2

2

A3  
:

3

3

A4  
:

4

4

Objective Question

72 901022

A foreign exchange swap is

1. a spot purchase of a currency combined with a forward repurchase of that currency.
2. a spot sale of a currency combined with a forward repurchase of that currency.
3. sale and purchase of a currency in forward market.
4. purchase of a currency in spot market.

विदेशी विनिमय स्वेप क्या है?

1. मुद्रा का तत्काल क्रय और उसके साथ उस मुद्रा का अग्र-पुनर्क्रम
2. मुद्रा का तत्काल विक्रय और उसके साथ उस मुद्रा का अग्र-पुनर्क्रम
3. वायदा (फॉरवर्ड) में मुद्रा की विक्रय एवं क्रय
4. तत्काल बाजार में मुद्रा का क्रय

A1  
:

1

1

A2  
:

2

2

A3  
:

3

3

A4  
:

4

4

Objective Question

73 901023

Which of following is a correct measure of gross fiscal deficit of the state government.

1. Revenue Expenditure (RE) + Capital disbursement – Revenue Receipts (RR)
2. RE + Repayment of loans to the Centre – RR
3. Revenue Deficit + Capital Outlays + Net Lending
4. RE + Discharge of Internal Debt – RR

निम्नलिखित में से कौन-सा राज्य सरकार के सकल राजकोषीय घाटे का सही मापन है :

1. राजस्व व्यय + पूंजीगत संवितरण - राजस्व प्राप्ति
2. राजस्व व्यय + केंद्र को ऋणों का प्रतिदान - राजस्व प्राप्ति
3. राजस्व घाटा + पूंजीगत परिव्यय + शुद्ध ऋणद
4. राजस्व व्यय + आंतरिक ऋण अदा करना - राजस्व प्राप्ति

A1  
:

1

1

A2  
:

2

2

A3  
:

3

3

A4  
:

4

4

Objective Question

74 901024

Which of the following is not true in case of incidence of tax :

1. Imposition of tax raises price and lowers quantity.
2. The resulting price increase of tax rise will be dampened if the tax is imposed in monopolistic market.
3. One would be in a better position to avoid the tax and leave the seller with a larger part if demand is inelastic while supply is elastic.
4. A unit tax enters through a parallel upward shift in the supply schedule.

कर भार के मामले में निम्नलिखित में से कौन-सा सही नहीं है :

1. कर लगाने से कीमत बढ़ जाती है और गुणवत्ता में कमी आती है।
2. एकाधिकारी बाजार में यदि कर लगाया जाता है तो परिणामी कर-वार मूल्य वृद्धि निरुत्साहित होगी।
3. यदि मांग गैर-लचीली और आपूर्ति लचीली हो तो व्यक्ति कर से बचने के लिए बेहतर स्थिति में होगा और क्रेता के पास बड़ा हिस्सा बचा जाएगा।
4. आपूर्ति शेड्यूल में एकक कर समानांतर उच्चवर्गीय शिफ्ट में प्रवेश करता है।

A1  
:

1

1

A2  
:

2

2

A3  
:

3

3

A4  
:

4

4

Objective Question

75 901025

When MPS is 0.25 and initial increase in autonomous spending is Rs. 100, then the expenditure multiplier and resultant increase in GDP respectively are :

1. 1, Rs. 100
2. 0.75, Rs. 75
3. 4, Rs. 400
4. 1.33, Rs. 133

जब एम् पी एस 0.25 और स्वायत्त खर्च में प्रारम्भिक वृद्धि 100 रु. है तो खर्च गुणांक और जी डी पी में परिणामी वृद्धि क्रमशः होगी:

1. 1, 100 रु.
2. 0.75, 75 रु.
3. 4, 400 रु.
4. 1.33, 133 रु.

A1  
:

1

1

A2  
:

2

2

A3  
:

3

3

A4  
:

4

4

Objective Question

76 901026

In the extreme case of liquidity trap

1. There will be tendency to buy bonds
2. Most of the investors will show bearish behaviour
3. Cash will be less preferred
4. Price of the bond will be low

तरलता जाल की अत्याधिक स्थिति में,

1. बंध (बाँडों) को खरीदने की प्रवृत्ति होगी।
2. अधिकांश निवेशक मंदडिया व्यवहार दर्शाते हैं।
3. नकदी (रोकड़) को कम पसंद (वरीय) किया जाएगा।
4. बंध-पत्र (बाँड) की कीमत कम होगी।

A1 : 1  
1  
A2 : 2  
2  
A3 : 3  
3  
A4 : 4  
4

Objective Question

77 901027

Which of the following can be an equation representing the money market

1.  $300 = 2Y - 1.5i$
2.  $i = 150 - Y$
3.  $Y = 100 - i$
4.  $i = (150 - 2Y)/2$

निम्नलिखित में से कौन-सा एक मुद्रा बाजार का निरूपण (प्रतिनिधित्व) करने वाला एक समीकरण हो सकता है?

1.  $300 = 2Y - 1.5i$
2.  $i = 150 - Y$
3.  $Y = 100 - i$
4.  $i = (150 - 2Y)/2$

A1 : 1  
1  
A2 : 2  
2  
A3 : 3  
3  
A4 : 4  
4

Objective Question

78 901028

With the same monetary base, which of the following will lead to an increase in broad money?

1. High transaction cost of converting deposit into cash
2. Higher investment under SLR
3. Higher use of cash
4. Increase in financial literacy and banking habit

सामान मौद्रिक आधार के साथ, निम्नलिखित कौन-सा एक व्यापक मुद्रा में वृद्धि के ओर प्रेरित करेगा?

1. जमा नकदी के रूप में परिवर्तन करने संबंधी उच्च संव्यवहार लागत (मूल्य)
2. एस एल आर के अंतर्गत उच्चतर (बड़ी मात्रा में) निवेश
3. नकदी का बड़े (उच्च) पैमाने पर प्रयोग
4. वित्तीय साक्षरता एवं बैंकिंग आदत (व्यवहार) में वृद्धि

A1  
:

1

1

A2  
:

2

2

A3  
:

3

3

A4  
:

4

4



Objective Question

79 901029

According to Robinson the term 'Golden Age' in the context of Harrod-Domar model is used to emphasize

1. Its mythical nature
2. Its superiority
3. Natural growth rate
4. Warranted growth rate

रॉबिन्सन के अनुसार हैरॉल्ड-डोमर मॉडल के संदर्भ में 'स्वर्ण युग' (गोल्डेन एज) शब्द का निम्नलिखित किस पर बल देने हेतु प्रयुक्त होता है?

1. इसके मिथकीय (काल्पनिक) प्रकृति पर
2. इसकी श्रेष्ठता पर
3. प्राकृतिक संवृद्धि दर पर
4. अपेक्षित संवृद्धि दर पर

A1  
:

1

1

A2  
:

2

2

A3  
:

3

3

A4  
:

4

4

Objective Question

80 901030

Which is not a dimension of Human Development Index (HDI)?

1. Ability to lead a long and healthy life
2. Ability to acquire knowledge
3. Ability to achieve decent standard of living
4. Ability to access clean environment

मानव विकास सूचकांक (एच डी आई) का निम्नलिखित में से कौन-सा एक आयाम नहीं है?

1. लंबा एवं स्वस्थ जीवन जीने की क्षमता
2. ज्ञानार्जन की क्षमता
3. शानदार जीवनस्तर प्राप्त करने की क्षमता
4. स्वच्छ पर्यावरण की प्राप्ति (पहुँच) हेतु योग्यता

A1  
:

1

1

A2  
:

2

2

A3  
:


3

3

A4  
:

4

4



Objective Question

81 901031

The idea of creative destruction is associated with

1. Marx
2. Adam Smith
3. Ricardo
4. Schumpeter

सृजनात्मक विनाश (ध्वंस) का विचार निम्नलिखित में से किस से संबंधित है?

1. मार्क्स
2. एडम स्मिथ
3. रिकार्डो
4. शुम्पिटर

A1  
:

1

1

A2  
:

2

2

A3  
:

3

3

A4  
:

4

4

Objective Question

82 901032



Normalized Poverty Gap (NPG) is measured as a ratio of

1. Average Poverty Gap to poverty line
2. Total Poverty Gap to poverty line
3. Total Poverty Gap to total population
4. Average Poverty Gap to total population

सामान्यीकृत निर्धनता अंतराल (एन पी जी) को निम्नलिखित में से किस एक के अनुपात के रूप में मापा जाता है?

1. निर्धनता रेखा तथा औसत निर्धनता अंतराल का अनुपात
2. निर्धनता रेखा तथा कुल निर्धनता अंतराल का अनुपात
3. कुल जनसंख्या तथा कुल निर्धनता अंतराल का अनुपात
4. कुल जनसंख्या तथा औसत निर्धनता अंतराल का अनुपात

A1  
:

1

1

A2  
:

2

2

A3  
:

3

3

A4  
:

4

4

Objective Question

83 901033

Which of the following defines ambient standards in an environmental policy

1. a standard that specifies a pollution limit to be achieved but does not stipulate the technology.
2. a standard that designates the equipment or method to be used to achieve some abatement level.
3. a standard that designates the quality level of some element of the environment to be achieved.
4. none of the above.

निम्नलिखित में कौन-सा किसी पर्यावरण नीति में परिवेश मानकों को परिभाषित करता है?

1. वह मानक जो प्राप्त की जाने वाले प्रदूषण सीमा को निर्दिष्ट करता है लेकिन प्रौद्योगिकी को नहीं।
2. वह मानक जो कुछ कठौती स्तर को प्राप्त करने के लिए प्रयोग किए जाने वाले उपकरण या तरीके को इंगित करता हो।
3. वह मानक जो प्राप्त किए जाने वाले पर्यावरण के कुछ तत्वों के गुणवत्ता स्तर को इंगित करता हो।
4. उपर्युक्त में से कोई नहीं।

A1  
:

1

1

A2  
:

2

2

A3  
:

3

3

A4  
:

4

4

Objective Question

84 901034

Which of the following applies to the physical linkage approach for the valuation of environmental benefits

1. methods that assess responses immediately related to environmental changes.
2. methods that examine responses not about the environmental good itself but some set of market conditions related to it.
3. methods that estimate benefits using observations of behavior in actual markets.
4. methods that estimate benefits based on a technical relationship between an environmental resource and the user of that resource.

निम्नलिखित में से कौन-सा पर्यावरणीय फायदों के मूल्यांकन के लिए भौतिक संयोजन अवधारणा पर लागू होता है?

1. वे तरीके जो पर्यावरणीय परिवर्तनों से संबंधित स्तरों का तत्काल मूल्यांकन करें।
2. वे तरीके जो पर्यावरण से जुड़ी वस्तुओं का नहीं बल्कि इससे संबद्ध बाजार परिस्थितियों के बारे में प्रतिक्रियाओं की जाँच करें।
3. वे तरीके जो यथार्थ बाजारों में बरताव की टिप्पणियों की सहायता से फायदों का अनुमान लगाते हों।
4. वे तरीके जो किसी पर्यावरणीय संसाधन और उस संसाधन के प्रयोक्ता के बीच के तकनीकी संबंध के आधार पर फायदों का अनुमान लगाते हों।

A1  
:

1

1

A2  
:

2

2

A3  
:

3

3

A4  
:

4

4

Objective Question

85 901035

Why subsidies are not an effective policy instrument in the long-run for internalizing externalities under competitive output markets?

1. a subsidy that is equal to marginal damages translates to a de facto decrease in firm's fixed costs.
2. subsidy payments are available to all firms and can induce excessive market entry.
3. the level of industrial production in the sector would exceed the socially desired level.
4. All of the above

प्रतिस्पर्धी उत्पाद बाजारों के अंतर्गत बाह्यताओं को अंतः समावेश करने के लिए दीर्घावधि में सब्सिडी प्रभावी नीतिगत क्यों नहीं हैं?

1. सब्सिडी सीमान्त नुकसान के बराबर होती है जो वास्तव में फर्म की निर्धारित लागतों में कमी करती है।
2. सब्सिडी भुगतान सभी फर्मों के लिए उपलब्ध होते हैं जो अतिशय बाजार प्रवेश को प्रेरित कर सकते हैं।
3. इस क्षेत्र में औद्योगिक उत्पाद को स्तर सामाजिक रूप से वांछित स्तर को पार कर जाएगा।
4. उपर्युक्त सभी

A1  
:

1

1

A2  
:

2

2

A3  
:

3

3

A4  
:

4

4

Objective Question

86 901036

According to Sample Registration System, which of the following Indian States has the highest level of life time risk during 2018-2020.

1. Bihar
2. Uttar Pradesh
3. Madhya Pradesh
4. Chhatisgarh

प्रतिदर्श पंजीकरण प्रणाली के अनुसार निम्नलिखित में से भारत के कौन से राज्य का 2018-2020 के दौरान आजीवन जोखिम स्तर सबसे ऊंचा है?

1. बिहार
2. उत्तर प्रदेश
3. मध्य प्रदेश
4. छत्तीसगढ़

A1  
:

1

1

A2  
:

2

2

A3  
:

3

3

A4  
:

4

4



Objective Question

87 901037

The Intensive Agriculture District Programme (IADP) was launched in the year

1. 1960-61
2. 1961-62
3. 1962-63
4. 1963-64

गहन जिला कृषि कार्यक्रम (आई ए डी पी) को किस वर्ष में प्रारम्भ किया गया था?

1. 1960-61
2. 1961-62
3. 1962-63
4. 1963-64

A1  
:

1

1

A2  
:

2

2

A3  
:

3

3

A4  
:

4

4

Objective Question

88 901038

Allocation of budget for Ministry of Agriculture and Farmers' Welfare in the Union Budget 2023-24 is

1. 2.25 lakh crores
2. 1.25 lakh crores
3. 1.78 lakh crores
4. 1.68 lakh crores

केन्द्रीय बजट 2023-24 में कृषि एवं किसान कल्याण मंत्रालय हेतु आवंटित की गई राशि है?

1. 2.25 लाख करोड़
2. 1.25 लाख करोड़
3. 1.78 लाख करोड़
4. 1.68 लाख करोड़

A1  
:

1

A2  
:

2

A3  
:

3

A4  
:

4

Objective Question

89 901039

What is the motto of G-20 18<sup>th</sup> meeting?

1. One Earth, One Family, One Future
2. One Earth, One Nature, One Life
3. One World, One Family, One Life
4. One Earth, One Nature, One Future

जी-20 के 18 वें सम्मेलन का आदर्श वाक्य (मोटो) क्या है?

1. एक पृथ्वी, एक परिवार, एक भविष्य
2. एक पृथ्वी, एक प्रकृति, एक जीवन
3. एक विश्व, एक परिवार, एक जीवन
4. एक पृथ्वी, एक प्रकृति, एक भविष्य

A1  
:

1

A2  
:

2

A3  
:

3

A4  
:

4

Objective Question

90 901040

Prevention of Money Laundering Act was enacted in the year

1. 2001
2. 2002
3. 2003
4. 2004

अवैध धन की रोकथाम (प्रिवेंशन ऑफ़ मनी लांड्रिंग) अधिनियम को किस वर्ष में अधिनियमित किया गया था?

1. 2001
2. 2002
3. 2003
4. 2004

A1  
:

1

A2  
:

1

A3  
:

2

A4  
:

2

A5  
:

3

A6  
:

3

A7  
:

4

A8  
:

4

#### Objective Question

91 901041

Which of the following holds for Bertrand's Duopoly model.

- A. The reaction curves are derived from isoprofit maps which are convex to the axes.
- B. The point of intersection of the two reaction curves reflects a stable equilibrium.
- C. The reaction curves are derived from isoprofit maps which are concave to the axes.
- D. The point of intersection of the two reaction curves reflects an unstable equilibrium.
- E. Firm's behavioral pattern is such that they learn from past experience.

Choose the correct answer from the option given below :

1. A and B only
2. C and D only
3. A, D and E only
4. B, C and E only

निम्नलिखित में से कौन-सा बर्ट्रेड ध्रुवीय मॉडल के लिए सही है

- A. प्रतिक्रिया वर्क रेखाएं समलाभ मानचित्रों से प्राप्त होती हैं जो अक्ष के प्रतिकूल होते हैं।
- B. दो प्रतिक्रिया वर्क रेखाओं का प्रतिच्छेद बिंदु संतुलन की दशा को दर्शाता है।
- C. प्रतिक्रिया वर्क रेखाएं समलाभ मानचित्रों से प्राप्त होती हैं जो अक्षों के प्रतिकूल होती हैं।
- D. दो प्रतिक्रिया वर्क रेखाओं का प्रतिच्छेद बिंदु अस्थिर संतुलन को दर्शाता है।
- E. फर्म का व्यवहार संबंधी पैटर्न ऐसा कि वे विगत अनुभव से सीखते हैं।

नीचे दिए गए विकल्पों में से सही उत्तर का चयन कीजिए :

1. केवल A और B
2. केवल C और D
3. केवल A, D और E
4. केवल B, C और E

A1  
:

1

A2  
:

1

A2 2  
:  
2  
A3 3  
:  
3  
A4 4  
:  
4

## Objective Question

92 901042

Which of the following is true for the Clark-Wicksteed-Walras product exhaustion theorem

- A. The assumption of a homogeneous production function is necessary.
- B. It is an identity that holds for all values of the variables.
- C. The assumption of a homogeneous production function is not necessary.
- D. It is not an identity since it holds only for the values of the variables in the long-run equilibrium.
- E. It holds for all types of production functions.

Choose the correct answer from the option given below :

- 1. A and B only
- 2. A and D only
- 3. B, C and E only
- 4. C, D and E only

क्लार्क-विकस्टीड-वालरस के उत्पाद क्षाय थ्योरम के बारे में निम्नलिखित में से कौन-सा सही है?

- A. समरूपी उत्पादन प्रकार्य की अवधारणा आवश्यक है।
- B. यह एक पहचान है जो चरों के समस्त प्रतिमानों के लिए सही है।
- C. समरूपी उत्पादन प्रकार्य की अवधारणा आवश्यक नहीं है।
- D. यह एक पहचान नहीं है क्योंकि यह दीर्घावधिक संतुलन के प्रतिमानों के लिए ही सही है।
- E. यह सभी प्रकार के उत्पादन प्रकार्यों के लिए सही है।

नीचे दिए गए विकल्पों में से सही उत्तर का चयन कीजिए : ।

- 1. केवल A और B
- 2. केवल A और D
- 3. केवल B, C और E
- 4. केवल C, D और E

A1 1  
:  
1  
A2 2  
:  
2  
A3 3  
:  
3  
A4 4  
:  
4

## Objective Question

93 901043

Properties of expenditure function are (in the context of utility theory),

- A. Homogeneous of degree one in price, P
- B. Strictly increasing in utility,  $u$  and non-decreasing in price, P for any good 1.
- C. Concave in P
- D. Continuous in P and  $u$
- E. Strictly convex in P

Choose the correct answer from the option given below :

- 1. A, C, D, E only
- 2. A, B, D, E only
- 3. A, B, C, D only
- 4. B, C, D, E only

व्यय प्रकार्यो (उपयोगिता सिद्धांत के सन्दर्भ में) के गुण हैं :

- A. कीमत P में समरूपता की श्रेणी एक
- B. किसी वस्तु 1 के लिए उपयोगिता  $u$  में पूर्णतः बढ़ते क्रम में और कीमत P में न घटने वाली
- C. P में अवतल
- D. P और  $u$  में निरंतरता
- E. P में पूर्णतः उत्तल

नीचे दिए गए विकल्पों में से सही उत्तर का चयन कीजिए : ।

- 1. केवल A, C, D, E
- 2. केवल A, B, D, E
- 3. केवल A, B, C, D
- 4. केवल B, C, D, E

A1 : 1  
1  
A2 : 2  
2  
A3 : 3  
3  
A4 : 4  
4



Objective Question

94 901044

The concept of "excess sensitivity" and "excess smoothness" are explained by following statement(s).

- A. 'Excess sensitivity' refers to a situation where consumption over responds to temporary income shocks.
- B. 'Excess smoothness' refers to a situation where consumption under responds to temporary income changes.
- C. With excess sensitivity, anticipated rise in income is associated with relatively small change in consumption.
- D. With excess smoothness, changes in aggregate income are associated with relatively large changes in aggregate consumption.
- E. 'Excess sensitivity' and 'Excess smoothness' are related to the empirical evidences of permanent income hypothesis.

Choose the correct answer from the option given below :

- 1. A, B, C, D only
- 2. A, B, C, E only
- 3. A, B, D only
- 4. A, B, E only

निम्नलिखित में से किन कथनों द्वारा "बहुल संवेदनशीलता" और "बहुल सुगमता" की अवधारणाओं का आभास होता है

- 'बहुल संवेदनशीलता' वह अवस्था है जहाँ खपत अस्थायी आय परिवर्तनों से अधिक प्रभावित होती है।
- 'बहुल सुगमता' वह अवस्था है जहाँ खपत अस्थायी आय परिवर्तनों से कम प्रभावित होती है।
- बहुल संवेदनशीलता आय में प्रत्याशित वृद्धि का संबंध खपत में सापेक्ष रूप से होने वाला मामूली परिवर्तन है।
- बहुल सुगमता के कारण औसत आय में होने वाले परिवर्तनों का संबंध खपत में सापेक्ष रूप से होने वाले व्यापक परिवर्तनों से है।
- 'बहुल संवेदनशीलता' और 'बहुल सुगमता' का संबंध स्थायी आय प्राक्कल्पना के प्रयोगाश्रित साक्ष्यों से है।

नीचे दिए गए विकल्पों में से सही उत्तर का चयन कीजिए :

- केवल A, B, C, D
- केवल A, B, C, E
- केवल A, B, D
- केवल A, B, E

A1  
:

1

A2  
:

2

A3  
:

3

A4  
:

4

#### Objective Question

95 901045 According to Tobin's Q theory of investment, when should a firm invest?

- there is increase in the price of output
- there is an increase in marginal product of capital
- there is an increase in rate of interest
- there is a decrease in rate of depreciation
- marginal benefit of investment exceeds marginal cost

Choose the correct answer from the option given below :

- B, C, D, E only
- A, C, D, E only
- A, B, D, E only
- A, B, C, D only

निवेश के टोबिन Q सिद्धांत के अनुसार, किसी फर्म को निवेश कब करना चाहिए ?

- जब उत्पाद की कीमत में वृद्धि हो
- जब पूँजी के सीमान्त उत्पादन में वृद्धि हो
- जब ब्याज दर में वृद्धि हो
- जब मूल्य हास दर में कमी हो
- जब निवेश का सीमांत लाभ सीमांत लागत से अधिक हो

नीचे दिए गए विकल्पों में से सही उत्तर का चयन कीजिए : ।

- केवल B, C, D, E
- केवल A, C, D, E
- केवल A, B, D, E
- केवल A, B, C, D



A1 1  
:  
1  
A2 2  
:  
2  
A3 3  
:  
3  
A4 4  
:  
4

## Objective Question

96 901046 Which of the following is/are true about paradox of thrift?

- A. Paradox of thrift was popularized by J. M. Keynes.  
 B. It states that personal savings can be detrimental to overall economic growth.  
 C. It shows the relationship between output growth and rate of unemployment.  
 D. It shows the relationship between inflation and rate of interest.  
 E. It states that individuals saving during an economic recession leads to fall in aggregate demand.

Choose the correct answer from the option given below :

1. A, B, C only  
 2. B, C, D only  
 3. C, D, E only  
 4. A, B, E only

मितव्यय-विरोधाभास के बारे में निम्नलिखित में से कौन-से सही हैं?

- A. मितव्यय-विरोधाभास को जे.एम. कीन्स ने लोकप्रिय बनाया था।  
 B. इसमें उल्लेख है कि व्यक्तिगत बचतें समग्र आर्थिक विकास के लिए बाधक हैं।  
 C. इसमें उत्पाद वृद्धि और बेरोजगारी दर के बीच के संबंध को दर्शाया जाता है।  
 D. इसमें मुद्रा स्फीति और ब्याज दर के बीच के संबंध को दर्शाया जाता है।  
 E. इसमें उल्लेख है कि आर्थिक मंदी के दौरान व्यक्तिगत बचत के कारण औसत मांग में कमी आती है।

नीचे दिए गए विकल्पों में से सही उत्तर का चयन कीजिए :

1. केवल A, B, C  
 2. केवल B, C, D  
 3. केवल C, D, E  
 4. केवल A, B, E

A1 1  
:  
1  
A2 2  
:  
2  
A3 3  
:  
3  
A4 4  
:  
4

## Objective Question

97 901047

The BOP crisis of early 1990s made India borrow from the IMF which came on following conditions

- A. Devaluation of rupee by 22%
- B. Drastic custom cut to a peak duty of 30% from the erstwhile level of 130% for all goods
- C. Consolidation of all indirect taxes into one tax
- D. Excise duty to be increased by 20% to neutralize the loss of revenue due to custom cut
- E. Government expenditure to be cut by 10% per annum.

Choose the correct answer from the option given below :

1. A, B, C, E only
2. B, C, D, E only
3. C, D, E, A only
4. A, B, D, E only

1990 के दशक के पूर्वार्ध में भुगतान संतुलन (BOP) संकट के चलते भारत को निम्नलिखित शर्तों पर अंतरराष्ट्रीय मुद्राकोष से उधार लेना पड़ा

- A. रुपये का 22% अवमूल्यन
- B. सभी वस्तुओं के लिए 130% के तत्कालीन स्तर से 30% पर उच्चतम शुल्क में सीमा शुल्क में भरी कटौती
- C. सभी अप्रत्यक्ष करों का एक कर में आमेदन
- D. सीमा शुल्क कटौती के कारण राजस्व घाटे को निष्क्रिय करने के लिए उत्पाद शुल्क में 20% की वृद्धि की जायेगी।
- E. सरकारी व्यय में 10% वार्षिक की कटौती की जायेगी।

नीचे दिए गए विकल्पों में से सही उत्तर का चयन कीजिए :

1. केवल A, B, C, E
2. केवल B, C, D, E
3. केवल C, D, E, A
4. केवल A, B, D, E

A1

:

1

A2

:

2

A3

:

3

A4

:

4



Objective Question

98 901048

The Uruguay Round of trade negotiations called for

- A. the reduction of average tariffs on industrial goods
- B. quotas to be replaced by tariffs
- C. the reduction in agriculture export subsidies
- D. the reduction in industrial subsidies
- E. antidumping and safeguards to be relaxed

Choose the correct answer from the option given below :

1. A, B, C, D only
2. B, C, D, E only
3. C, D, E, A only
4. D, E, A, B only

व्यापार वार्ताओं के उरुग्वे दौर में क्या मांग की गई थी?

- औद्योगिक सामान पर औसत प्रशुल्क में कटौती।
- प्रशुल्कों के स्थान पर कोटा तय किया जाए।
- कृषि निर्यात सब्सिडी में कटौती
- औद्योगिक सब्सिडी में कटौती।
- एंटी डम्पिंग और सुरक्षा उपायों में ढील दी जाए।

नीचे दिए गए विकल्पों में से सही उत्तर का चयन कीजिए :।

- केवल A, B, C, D
- केवल B, C, D, E
- केवल C, D, E, A
- केवल D, E, A, B

A1  
:

1

1

A2  
:

2

2

A3  
:


3

3

A4  
:

4

4



Objective Question

99 901049

Pillar 1 of Basel III norms focus on

- Quality and level of capital
- Risk Coverage
- Containing leverage
- Risk management and supervision
- Market discipline

Choose the correct answer from the option given below :

- A and B only
- B and C only
- C and D only
- D and E only

बैसल III प्रतिमानों के पिल्लर 1 में किस पर ध्यान दिया गया

- पूँजी की गुणवत्ता और स्तर
- जोखिम आच्छादन
- उत्तोलन पर लगाम लगाना
- जोखिम प्रबन्धन और पर्यवेक्षण
- बाजार अनुशासन

नीचे दिए गए विकल्पों में से सही उत्तर का चयन कीजिए :

- केवल A और B
- केवल B और C
- केवल C और D
- केवल D और E

A1 1  
:  
1  
A2 2  
:  
2  
A3 3  
:  
3  
A4 4  
:  
4

## Objective Question

100 901050

Which of the following statements are correct about trilemma in monetary policy

- A. It is related to closed economy model.
- B. It involves exchange rate, capital mobility and monetary policy.
- C. It arises because perfect capital mobility aligns the domestic interest rate to the world interest rate.
- D. Flexible exchange rate is not compatible with independent monetary policy.
- E. It is related to capital immobility and flexible exchange rate.

Choose the correct answer from the option given below :

- 1. B and C only
- 2. C and D only
- 3. A and D only
- 4. B and E only

मौद्रिक नीति में त्रिविद्या के बारे में निम्नलिखित में से कौन-सा कथन सही है

- A. यह बंद अर्थव्यवस्था मॉडल से संबंधित है।
- B. इसमें मुद्रा दर पूंजीगत संघटन और मौद्रिक नीति शामिल है।
- C. इसके उत्पन्न होने के कारण यह है कि पूंजीगत संघटन घरेलू ब्याजदर और विश्व ब्याज दर से मेल खाता है।
- D. लचीली विनिमय दर का स्वतंत्र मौद्रिक नीति के साथ सामंजस्य नहीं है।
- E. यह पूंजीगत असंवरनता और लचीली विनिमय दर से संबंधित है।

नीचे दिए गए विकल्पों में से सही उत्तर का चयन कीजिए :

- 1. केवल B और C
- 2. केवल C और D
- 3. केवल A और D
- 4. केवल B और E

A1 1  
:  
1  
A2 2  
:  
2  
A3 3  
:  
3  
A4 4  
:  
4

## Objective Question

101 901051

Based on the NITI Aayog estimate of poverty for the year 2011-12, the states with above 30 percent rural poverty are

- A. Manipur
- B. Bihar
- C. Sikkim
- D. Uttar Pradesh
- E. Nagaland

Choose the correct answer from the option given below :

- 1. A and B only
- 2. B and D only
- 3. B, C and D only
- 4. A, B and D only

वर्ष 2011-12के लिए नीति आयोग के गरीबी रेखा अनुमान के आधार पर 30 % से अधिक ग्रामीण गरीबी रेखा वाले राज्य कौन-कौन से हैं?

- A. मणिपुर
- B. बिहार
- C. सिक्किम
- D. उत्तर प्रदेश
- E. नागालैंड

नीचे दिए गए विकल्पों में से सही उत्तर का चयन कीजिए : ।

- 1. केवल A और B
- 2. केवल B और D
- 3. केवल B, C और D
- 4. केवल A, B और D

A1  
:

1

A2  
:

2

A3  
:

3

A4  
:

4



Objective Question

102 901052 Adam Smith contributions are

- A. Division of labour
- B. Notion of increasing returns
- C. Notion of diminishing returns
- D. Dialectical Materialism
- E. Socially necessary abstract labour time

Choose the correct answer from the option given below :

- 1. A and B only
- 2. A and C only
- 3. A and D only
- 4. A and E only

एडम स्मिथ का योगदान क्या-क्या है?

- श्रम विभाजन
- बढ़ते प्रतिफलों का सिद्धांत
- घटते प्रतिफलों का सिद्धांत
- भाषाई भौतिकवाद
- सामाजिक रूप से आवश्यक सारगर्भित श्रम समय

नीचे दिए गए विकल्पों में से सही उत्तर का चयन कीजिए :

- केवल A और B
- केवल A और C
- केवल A और D
- केवल A और E

A1  
:

1

A2  
:

2

A3  
:

3

A4  
:

4

Objective Question

103 901053

The components of services sector in Gross Value Added (GVA) are

- Construction
- Trade, Hotels, Transport and Communication related to Broadcasting
- Electricity, Gas, Water supply and other utility services
- Public Administration, Defense and other services
- Financial, Real Estate and Professional services

Choose the correct answer from the option given below :

- B, C and E only
- A, B and C only
- A, B, D and E only
- A, B, C and E only

ग्रॉस वैल्यू एडेड (जी वी ए) में सेवा क्षेत्र के घटक कौन-कौन से हैं?

- निर्माण
- व्यापार, होटल, परिवहन और प्रसारण संबंधी संचार
- बिजली, गैस जल आपूर्ति तथा अन्य उपयोगिता सेवाएँ
- लोक प्रशासन, प्रतिरक्षा तथा अन्य सेवाएँ
- वित्तीय, स्थावर संपदा और व्यावसायिक सेवाएँ

नीचे दिए गए विकल्पों में से सही उत्तर का चयन कीजिए :

- केवल B, C और E
- केवल A, B और C
- केवल A, B, D और E
- केवल A, B, C और E

A1 1  
:  
1  
A2 2  
:  
2  
A3 3  
:  
3  
A4 4  
:  
4

## Objective Question

104 901054

Gunnar Myrdal is author of

- A. Asian Drama
- B. An American Dilemma
- C. Theory of Economic Development
- D. Principles of Political Economy
- E. Economic Theory and underdeveloped regions

Choose the correct answer from the option given below :

1. A, B and C only
2. A, C and D only
3. A, B and D only
4. A, B and E only

गुन्नार मृदल किस-किसके लेखक हैं?

- A. एशियन ड्रामा
- B. एन अमेरिकन डिलेमा
- C. थ्योरी ऑफ़ इकोनोमिक डेवलपमेंट
- D. प्रिंसिपल ऑफ़ पोलिटिकल इकोनोमी
- E. इकोनोमिक थ्योरे एण्ड अंडरडबलपड रीज़नस

नीचे दिए गए विकल्पों में से सही उत्तर का चयन कीजिए :

1. केवल A, B और C
2. केवल A, C और D
3. केवल A, B और D
4. केवल A, B और E

A1 1  
:  
1  
A2 2  
:  
2  
A3 3  
:  
3  
A4 4  
:  
4

## Objective Question

105 901055

Which of the following are correct in case of theory of sets.

- A.  $(A \cup B') \cap (A' \cup C) \cap (B \cup C') = (A \cap B \cap C) \cup (A \cup B \cup C)$   
 B.  $(A \cup B') \cap (A' \cup C) \cap (B \cup C') = (A \cap B \cap C) \cup (A \cup B \cup C)'$   
 C.  $A \cup (B \cap C) = (A \cup B) \cap (A \cup C)$   
 D.  $A \cap (B \cup C) = (A \cup B) \cap (A \cup C)$   
 E.  $(A \cup B') \cap (A' \cup C) \cap (B \cup C') = (A \cap B \cap C) \cup (A' \cap B' \cap C')$

Choose the correct answer from the option given below :

1. A, C, E only
2. B, D, E only
3. B, C, E only
4. A, B, D only

समुच्चय सिद्धांत के मामले में निम्नलिखित में से कौन-सा सही है?

- A.  $(A \cup B') \cap (A' \cup C) \cap (B \cup C') = (A \cap B \cap C) \cup (A \cup B \cup C)$   
 B.  $(A \cup B') \cap (A' \cup C) \cap (B \cup C') = (A \cap B \cap C) \cup (A \cup B \cup C)'$   
 C.  $A \cup (B \cap C) = (A \cup B) \cap (A \cup C)$   
 D.  $A \cap (B \cup C) = (A \cup B) \cap (A \cup C)$   
 E.  $(A \cup B') \cap (A' \cup C) \cap (B \cup C') = (A \cap B \cap C) \cup (A' \cap B' \cap C')$

नीचे दिए गए विकल्पों में से सही उत्तर का चयन कीजिए :

1. केवल A, C, E
2. केवल B, D, E
3. केवल B, C, E
4. केवल A, B, D

A1 1  
:  
1  
A2 2  
:  
2  
A3 3  
:  
3  
A4 4  
:  
4



Objective Question

106 901056



If  $S$  is a sample space and  $E$  is an event then the probability axioms can be written as

- A.  $P(A) \geq 0$   
 B.  $P(S) = 1$   
 C.  $P\left(\bigcup_{i=1}^{\infty} A_i\right) = \sum_{i=1}^{\infty} P(A_i)$   
 D.  $P(A) \leq 0$   
 E.  $P\left(\bigcup_{i=1}^{\infty} S_i\right) = \sum_{i=1}^{\infty} P(S_i)$

Choose the correct answer from the option given below :

1. A and B only
2. A, B and D only
3. A, B and E only
4. A, B and C only

यदि  $S$  सैम्पल स्पेस और  $E$  कार्य का प्रतीक है तो प्रायिकता नियम को किस रूप में लिखा जा सकता है :

- A.  $P(A) \geq 0$   
 B.  $P(S) = 1$   
 C.  $P\left(\bigcup_{i=1}^{\infty} A_i\right) = \sum_{i=1}^{\infty} P(A_i)$   
 D.  $P(A) \leq 0$   
 E.  $P\left(\bigcup_{i=1}^{\infty} S_i\right) = \sum_{i=1}^{\infty} P(S_i)$

नीचे दिए गए विकल्पों में से सही उत्तर का चयन कीजिए :

1. केवल A और B
2. केवल A, B और D
3. केवल A, B और E
4. केवल A, B और C

A1 1  
 :  
 1  
 A2 2  
 :  
 2  
 A3 3  
 :  
 3  
 A4 4  
 :  
 4



Objective Question

107 901057

Properties of sufficient estimators are

- A. It may not be unbiased
- B. It may be unbiased
- C. It is always consistent
- D. It is not always consistent
- E. Minimum variance unbiased estimator

Choose the correct answer from the option given below :

- 1. A, B and C only
- 2. A, C and E only
- 3. A, B, C and D only
- 4. A, B, C and E only

यथेष्ट आकलको के क्या-क्या गुण होते हैं?

- A. यह गैर-पूर्वाग्रही नहीं होता है
- B. यह गैर-पूर्वाग्रही होता है
- C. यह सदैव सुसंगत होता है
- D. यह सदैव सुसंगत नहीं होता है
- E. न्यूनतम विसंगत गैर-पूर्वाग्रही आकलक

नीचे दिए गए विकल्पों में से सही उत्तर का चयन कीजिए :

- 1. केवल A, B और C
- 2. केवल A, C और E
- 3. केवल A, B, C और D
- 4. केवल A, B, C और E

A1

:

1

A2

:

2

A3

:

3

A4

:

4



Objective Question

108 901058

Which of the following are true in case of social goods :

- A. Public goods are non-rivalry in nature.
- B. Efficient provision of social goods needs a political process of budget determination.
- C. Efficient provision of social goods involve horizontal rather than vertical addition of individual pseudo-demand-lines.
- D. Among purely private and purely social goods, there are mixed cases which generate benefit or cost externalities
- E. Individual consumers will not bid for social good, but will act as free-riders.

Choose the correct answer from the option given below :

- 1. A, C, D and E only
- 2. A, B, C and E only
- 3. A and B only
- 4. A, B, D and E only

सामाजिक वस्तुओं के मामले में निम्नलिखित में से कौन-कौन से कथन सही हैं?

- सामाजिक वस्तुएं गैर-विरोधी प्रकृति की होती हैं।
- सामाजिक वस्तुओं के सफल प्रावधान के लिए बजट निर्धारण की राजनितिक प्रक्रिया की आवश्यकता होती है।
- सामाजिक वस्तुओं के सफल प्रावधान में व्यक्ति की आभासी मांग रेखाओं में लम्बवत की बजट क्षैतिज योग शामिल है।
- विशुद्ध रूप से निजी और विशुद्ध सामाजिक वस्तुओं में मिश्रित मामले होते हैं जो लागत बाध्यताओं या लाभ का सृजन करते हैं।
- व्यक्ति उपभोक्ता सामाजिक वस्तुओं के लिए बोली नहीं लगायेंगे बल्कि मुफ्तखोर की तरह व्यवहार करेंगे।

नीचे दिए गए विकल्पों में से सही उत्तर का चयन कीजिए :

- केवल A, C, D और E
- केवल A, B, C और E
- केवल A और B
- केवल A, B, D और E

A1

:

1

A2

:

2

A3

:

3

A4

:

4

Objective Question

109 901059

Which of the following are true in case of Ramsey Rule for efficient taxation -

- Tax rate should be higher on the good that has lower price elasticity of demand.
- If the demand elasticity in a market is zero, taxes should be imposed only in that markets.
- Ramsey rule applies to taxation of goods, but not to taxation of income.
- Ramsey rule minimises the excess burden of taxation across markets.
- Ramsey rule does not necessarily result in social justice.

Choose the most appropriate answer from the option given below :

- A, C, D and E only
- A, B, D and E only
- A, B, C and D only
- A, C and D only

सफल कराधान के लिए रामसेस नियम के मामले में निम्नलिखित में से कौन-कौन से कथन सही हैं?

- जिन वस्तुओं की मांग लोच कम हो उन पर कर-दर अधिक होनी चाहिए।
- यदि बाजार में मांग लोच शून्य है तो उसी बाजार में कर लगाए जाने चाहिए।
- रामसेस नियम, वस्तुओं के कराधान पर लागू होता है लेकिन आय कराधान पर नहीं।
- रामसेस नियम सभी बाजारों के कराधान के अत्यधिक भार को न्यूनतम करता है।
- रामसेस नियम की वजह से अनिवार्य रूप से सामाजिक न्याय का मार्ग प्रशस्त नहीं होता है।

नीचे दिए गए विकल्पों में से सही उत्तर का चयन कीजिए :

- केवल A, C, D और E
- केवल A, B, D और E
- केवल A, B, C और D
- केवल A, C और D

A1

:

1

1  
A2 2  
:  
2  
A3 3  
:  
3  
A4 4  
:  
4

## Objective Question

110 901060

Which of the following are not symptoms of multicollinearity in a regression model.

- A. High  $R^2$  with few significant  $t$  ratio for coefficients.
- B. High pair-wise correlations among regressors.
- C. The closer the Tolerance (TOL<sub>j</sub>) is to zero.
- D. Variance Inflation Factor (VIF) of a variable is below 10.
- E. The closer the Tolerance (TOL<sub>j</sub>) is to 1.

Choose the correct answer from the option given below :

- 1. C and D only
- 2. D and E only
- 3. A and C only
- 4. B and D only

निम्नलिखित में से कौन-कौन से प्रतिगमन मॉडल में भू संरेखितता के लक्षण नहीं हैं?

- A. हाई  $R^2$  के साथ कुछ आकलन के महत्वपूर्ण  $t$  अनुपात
- B. प्रतिगमनकर्ताओं में उच्च पैरावार सहसंबंध
- C. टोलरेंस (TOL<sub>j</sub>) शून्य के करीब होता है।
- D. चर के भिन्नता मुद्रास्फीति कारक (VIF) 10 से कम होता है।
- E. टोलरेंस (TOL<sub>j</sub>) एक के करीब होता है।

नीचे दिए गए विकल्पों में से सही उत्तर का चयन कीजिए :

- 1. केवल C और D
- 2. केवल D और E
- 3. केवल A और C
- 4. केवल B और D

A1 1  
:  
1  
A2 2  
:  
2  
A3 3  
:  
3  
A4 4  
:  
4

## Objective Question

111 901061

Which of the following are recommendations of the Narasimham Committee, 1991.

- A. Deregulation of the interest rate structure.
- B. Need for greater use of information technology.
- C. Permitting only private sector banks to access the capital market.
- D. Freedom to appoint chief executive and officers of the banks.
- E. Capital adequacy norms were implemented in stages.

Choose the correct answer from the option given below :

1. A, B and E only
2. A, C and D only
3. A, D and E only
4. C, D and E only

नरसिंहम समिति, 1991 की निम्नलिखित में से कौन-कौन सी सिफारिशें हैं? .

- A. ब्याजदर ढाँचे का अविनियमन
- B. सूचना प्रौद्योगिकी का अधिक प्रयोग की आवश्यकता
- C. केवल निजी क्षेत्र के बैंकों को पूँजी सुविधा प्रदान की जाए।
- D. बैंकों के मुख्य कार्यकारी और अधिकारी नियुक्त करने की आजादी
- E. पूँजीगत पर्याप्तता प्रतिमानों को चरणों में कार्यान्वित किया जाए।

नीचे दिए गए विकल्पों में से सही उत्तर का चयन कीजिए :

1. केवल A, B और E
2. केवल A, C और D
3. केवल A, D और E
4. केवल C, D और E

A1

:

1

A2

:

2

A3

:

3

A4

:

4



Objective Question

112 901062

Defensive expenditure method is based on the understanding that

- A. the consumer spends money to ameliorate the damaging effects of the bad.
- B. the defensive expenditure undertaken reflects the consumer's willingness to pay to reduce the level of the bad.
- C. the observed defensive expenditure is an upper bound on the willingness to pay to avoid the bad.
- D. the defensive expenditure provide no additional services other than provisioning the desired environmental quality.
- E. the observed defensive expenditure is a lower bound on the willingness to pay to avoid the bad.

Choose the correct answer from the option given below :

1. A, B and C only
2. C, D and E only
3. A, B, C and D only
4. A, B, D and E only

सुरक्षात्मक व्यय पद्धति इस समझ पर आधारित है कि -

- उपभोक्ता बुरी चीजों के हानिकारक प्रभावों को दूर करने के लिए धन व्यय करता है।
- किया गया सुरक्षात्मक व्यय बुरी चीजों के स्तर में कमी करने के लिए उपभोक्ता की भुगतान करने की तत्परता को दर्शाता है।
- किया गया सुरक्षात्मक व्यय बुरी चीजों से बचने के लिए तत्परता की उपरी सीमा है।
- सुरक्षात्मक व्यय में वांछित पर्यावरणीय गुणवत्ता का प्रावधान करने के अलावा कोई अतिरिक्त सेवाओं का प्रावधान नहीं होता है।
- किया गया सुरक्षात्मक व्यय बुरी चीजों से बचने के लिए तत्परता की निचली सीमा है।

नीचे दिए गए विकल्पों में से सही उत्तर का चयन कीजिए :

- केवल A, B और C
- केवल C, D और E
- केवल A, B, C और D
- केवल A, B, D और E

A1

:

1

A2

:

2

A3

:

3

A4

:

4

#### Objective Question

113 901063

Which of the following constitutes India's strategy to combat climate change in the backdrop of its stand at the 26<sup>th</sup> session of the conference of the Parties (COP 26) to the UNFCCC held in Glasgow, U.K.

- phasing out of coal-based thermal power generation by 2030.
- reduction of the carbon intensity of Indian economy by 45 percent by 2030, over 2005 levels.
- capping Indian economy total final energy consumption in absolute levels.
- achieving the target of net zero emissions for India by 2070.
- promoting lifestyle for environment to combat climate change.

Choose the correct answer from the option given below :

- A, B, D only
- B, C, D only
- B, D, E only
- C, D, E only

ग्लासगोव, यूनाइटेड किंगडम में आयोजित UNFCCC के पक्षकारों के सम्मेलन (COP 26) के 26 वें सत्र में लिए गए निर्णय की पृष्ठभूमि में निम्नलिखित कौन-कौन से कथन जलवायु परिवर्तन से लड़ने की भारत की रणनीति का हिस्सा हैं?

- 2030 तक कोयला आधारित तापीय ऊर्जा उत्पादन को बंद करना।
- भारतीय अर्थव्यवस्था के कार्बन घनत्व में 2005 के स्तरों की तुलना में 2030 तक 45% तक की कटौती करना।
- भारतीय अर्थव्यवस्था के कुल अंतिम ऊर्जा खपत को निरपेक्ष स्तरों पर रोकना।
- भारत के लिए 2070 तक निबल शून्य उत्सर्जन का लक्ष्य प्राप्त करना।
- जलवायु परिवर्तन से लड़ने के लिए पर्यावरण हेतु जीवन शैली को बढ़ाना।

नीचे दिए गए विकल्पों में से सही उत्तर का चयन कीजिए :

- केवल A, B, D
- केवल B, C, D
- केवल B, D, E
- केवल C, D, E

A1 1  
:  
1  
A2 2  
:  
2  
A3 3  
:  
3  
A4 4  
:  
4

## Objective Question

114 901064

Here is given international organisations and their headquarters. Which of the following are correct combinations of the institutions and their headquarters.

- A. GATT : Geneva
- B. IMF : Washington DC
- C. World Bank : Washington DC
- D. International Development Association (IDA) : New York
- E. Asian Development Bank : Mandaluyong

Choose the correct answer from the option given below :

- 1. A, B and C only
- 2. A and B only
- 3. C and D only
- 4. A, B, C and E only

यहाँ अंतर्राष्ट्रीय संगठन और उनके मुख्यालय दिए गए हैं। निम्नलिखित में से कौन-कौन से संस्थाओं और उनके मुख्यालयों के सही संयोजन हैं :

- A. GATT : जेनेवा
- B. IMF : वाशिंगटन डी सी
- C. विश्व बैंक : वाशिंगटन डी सी
- D. अंतर्राष्ट्रीय विकास संघ (IDA) : न्यू यॉर्क
- E. एशियन विकास बैंक : मंडालुयांग

नीचे दिए गए विकल्पों में से सही उत्तर का चयन कीजिए :

- 1. केवल A, B और C
- 2. केवल A और B
- 3. केवल C और D
- 4. केवल A, B, C और E

A1 1  
:  
1  
A2 2  
:  
2  
A3 3  
:  
3  
A4 4  
:  
4

## Objective Question

115 901065

Which of the following is/are correct about Walrasian demand function?

- The Walrasian demand function  $X(P, W)$  is homogenous of degree zero if  $X(\alpha P, \alpha W) = X(P, W)$  for any  $P, W$  and  $\alpha > 0$ .
- The Walrasian demand function  $X(P, W)$  is homogenous of degree one if  $X(\alpha P, \alpha W) = \alpha X(P, W)$  for any  $P, W$  and  $\alpha > 0$ .
- The Walrasian demand function  $X(P, W)$  satisfies Walras' law if for every  $P \gg 0$  and  $W > 0$ , we have  $P \cdot X = W$  for all  $X \in X(P, W)$ .
- Walras' law says consumer fully expends his wealth.
- If price and wealth both change in same proportion, then individual consumption choice does not change.

Choose the correct answer from the option given below :

- A, B, C, D only
- B, C, D, E only
- A, B, C, E only
- A, C, D, E only

वालरैसियन प्रकार्य के बारे में निम्नलिखित में कौन-कौन सा / से सही है / हैं ?

- यदि किसी  $P, W$  और  $\alpha > 0$  के लिए  $X(\alpha P, \alpha W) = X(P, W)$  है तो वालरैसियन मांग प्रकार्य  $X(P, W)$  शून्य डिग्री के सजातीय है।
- यदि किसी  $P, W$  और  $\alpha > 0$  के लिए  $X(\alpha P, \alpha W) = \alpha X(P, W)$  है तो वालरैसियन प्रकार्य  $X(P, W)$  डिग्री एक के सजातीय है।
- यदि प्रत्येक  $p \gg 0$  और  $w > 0$  के लिए हमारे पास सभी  $X \in X(P, W)$  के लिए  $P \cdot X = W$  है तो वालरैसियन मांग प्रकार्य वालरैसियन नियम को संतु करता है।
- वालरस का नियम कहता है उपभोक्ता अपनी संपदा पूरे तरह खर्च करता है।
- यदि कीमत और संपदा दोनों में सामान अनुपात में परिवर्तन होता है तो व्यक्तिगत खपत विकल्प में कोई परिवर्तन नहीं होता है।

नीचे दिए गए विकल्पों में से सही उत्तर का चयन कीजिए :

- केवल A, B, C, D
- केवल B, C, D, E
- केवल A, B, C, E
- केवल A, C, D, E

A1 : 1  
A2 : 2  
A3 : 3  
A4 : 4



Objective Question

116 901066

Match List I with List II

LIST I		LIST II	
A.	Cost-effectiveness	I.	a policy that directly regulates polluters through the use of standards.
B.	Pollution permit trading system	II.	an incentive based policy that encourages conservation practices or pollution reduction technologies.
C.	Market approach	III.	Requires that the least amount of resources be used to achieve an objective.
D.	Command-and-control approach	IV.	A market instrument that establishes a market for rights to pollute.

Choose the correct answer from the options given below:

- A-I, B-II, C-III, D-IV
- A-III, B-IV, C-I, D-II
- A-IV, B-III, C-II, D-I
- A-III, B-IV, C-II, D-I



सूची I का सूची II से मिलान कीजिए

सूची I		सूची II	
A.	लागत प्रभावी (किफायती)	I.	मानकों के प्रयोग द्वारा प्रदूषकों को प्रत्यक्ष रूप से विनियमित करने वाली नीति
B.	प्रदूषण परमित व्यापार प्रणाली	II.	प्रोत्साहन आधारित नीति जो संरक्षण प्रथाओं या प्रदूषण कटौती प्रौद्योगिकियों को प्रोत्साहित करते हो।
C.	बाजार अवधारणा	III.	जो यह अपेक्षा करती हो कि लक्ष्य प्राप्त करने के लिए कम से कम संसाधनों का प्रयोग किया जाए।
D.	कमांड और कंट्रोल अवधारणा	IV.	वह बाजार उपाय जो प्रदूषकों के अधिकारों के लिए बाजार स्थापित करे।

निम्नलिखित विकल्पों में से सही उत्तर का चयन कीजिए :

1. A-I, B-II, C-III, D-IV
2. A-III, B-IV, C-I, D-II
3. A-IV, B-III, C-II, D-I
4. A-III, B-IV, C-II, D-I

A1  
:  
1  
A2  
:  
2  
A3  
:  
3  
A4  
:  
4



Objective Question

117 901067

Match List I with List II

LIST I		LIST II	
A.	Kleins rule of thumb	I.	Structural break
B.	Ljung Box (LB) statistic	II.	Unit Root
C.	KPSS	III.	Significance of autocorrelation coefficients
D.	Bai-Perron	IV.	Multicollinearity

Choose the correct answer from the options given below:

1. A-IV, B-III, C-II, D-I
2. A-IV, B-III, C-I, D-II
3. A-II, B-IV, C-I, D-III
4. A-II, B-III, C-IV, D-I

सूची I का सूची II से मिलान कीजिए

सूची I		सूची II	
A.	कलेन्स का व्यावहारिक सिद्धांत	I.	ढाँचागत विभाजन
B.	लुंग बॉक्स (एल बी) स्टैटिस्टिक	II.	यूनिट रूट
C.	KPSS (के पी एस एस)	III.	स्व सहसंबंध गुणांक का साँख्रिकी महत्व
D.	बाई-पेरोन	IV.	मल्टीकोलिनियरिटी (बहुसंरेखीयता)

निम्नलिखित विकल्पों में से सही उत्तर का चयन कीजिए :

1. A-IV, B-III, C-II, D-I
2. A-IV, B-III, C-I, D-II
3. A-II, B-IV, C-I, D-III
4. A-II, B-III, C-IV, D-I

A1 1  
:  
1  
A2 2  
:  
2  
A3 3  
:  
3  
A4 4  
:  
4

Objective Question

118 901068

Match List I with List II

LIST I		LIST II	
A.	J. M. Keynes	I.	Inventory theoretic approach to transaction demand for money
B.	Kydland-Prescott	II.	Liquidity Preference
C.	Baumol-Tobin	III.	Time inconsistency Problem
D.	Friedman-Schwartz	IV.	Monetary History of United States

Choose the correct answer from the options given below:

1. A-II, B-III, C-IV, D-I
2. A-III, B-II, C-I, D-IV
3. A-III, B-I, C-II, D-IV
4. A-II, B-III, C-I, D-IV

सूची I का सूची II से मिलान कीजिए

सूची I		सूची II	
A.	जे. एम. केन्स	I.	धन के लिए लेन-देन मांग की सामान सूची सैद्धांतिक अवधारणा
B.	केडलैण्ड प्रिसकोट	II.	तरलता अधिमान
C.	बौमल टोबिन	III.	समय की असंगतता की समस्या
D.	फ्रीडमैन स्वार्च	IV.	अमरीका का मौद्रिक इतिहास

निम्नलिखित विकल्पों में से सही उत्तर का चयन कीजिए :

1. A-II, B-III, C-IV, D-I
2. A-III, B-II, C-I, D-IV
3. A-III, B-I, C-II, D-IV
4. A-II, B-III, C-I, D-IV

A1 1  
:  
1  
A2 2  
:  
2  
A3 3  
:  
3  
A4 4  
:  
4

Objective Question

119 901069

Match List I with List II

LIST I		LIST II	
A.	Kuznet	I.	Innovation and Entrepreneurship
B.	Nurkse	II.	Balanced growth theory
C.	Leibenstein	III.	Inverted U-curve hypothesis
D.	Schumpeter	IV.	Critical minimum effort thesis

Choose the correct answer from the options given below:

1. A-I, B-IV, C-III, D-II
2. A-III, B-II, C-IV, D-I
3. A-IV, B-III, C-II, D-I
4. A-II, B-I, C-IV, D-III

सूची I का सूची II से मिलान कीजिए

सूची I		सूची II	
A.	कुजनेट	I.	नवीनता और उद्यमशीलता
B.	नर्कसे	II.	संतुलित वृद्धि सिद्धांत
C.	लेबेन्सटीन	III.	उल्टा U वक्र प्राक्कल्पना
D.	शुम्पीटर	IV.	क्रांतिक न्यूनतम प्रयास सिद्धांत

निम्नलिखित विकल्पों में से सही उत्तर का चयन कीजिए :

1. A-I, B-IV, C-III, D-II
2. A-III, B-II, C-IV, D-I
3. A-IV, B-III, C-II, D-I
4. A-II, B-I, C-IV, D-III

A1 : 1  
A2 : 2  
A3 : 3  
A4 : 4



Objective Question

120 901070

Match List I with List II

LIST I (States)		LIST II (Food grain production (2021-22) Thousand Tonnes)	
A.	Telangana	I.	11266.0
B.	Jharkhand	II.	4984.2
C.	Chhattisgarh	III.	8897.0
D.	Andhra Pradesh	IV.	15095.4

Choose the correct answer from the options given below:

1. A-I, B-II, C-III, D-IV
2. A-IV, B-III, C-II, D-I
3. A-I, B-III, C-IV, D-II
4. A-IV, B-II, C-III, D-I

सूची I का सूची II से मिलान कीजिए

सूची I राज्य	सूची II खाद्यान्न उत्पादन (2021-22) (हजार टन)
A. तेलंगाना	I. 11266.0
B. झारखण्ड	II. 4984.2
C. छत्तीसगढ़	III. 8897.0
D. आंध्रप्रदेश	IV. 15095.4

निम्नलिखित विकल्पों में से सही उत्तर का चयन कीजिए :

1. A-I, B-II, C-III, D-IV
2. A-IV, B-III, C-II, D-I
3. A-I, B-III, C-IV, D-II
4. A-IV, B-II, C-III, D-I

A1

: 1

A2

: 2

A3

: 3

A4

: 4

Objective Question

121 901071

Match List I with List II

LIST I		LIST II	
A. Tax Evasion	I.	Bond Financing	
B. Effective incidence of tax	II.	Illegal free riding	
C. Legal incidence of tax	III.	Obligated to deliver tax revenue to Government	
D. Fiscal Illusion	IV.	Not necessarily correspond to on whom tax is imposed	

Choose the correct answer from the options given below:

1. A-II, B-III, C-IV, D-I
2. A-III, B-I, C-II, D-IV
3. A-II, B-IV, C-III, D-I
4. A-IV, B-III, C-II, D-I

सूची I का सूची II से मिलान कीजिए

सूची I	सूची II
A. कर चोरी	I. बॉन्ड वित्त प्रबन्धन
B. प्रभावी कर भार	II. अनधिकृत मुफ्तखोर
C. विधि कर भार	III. सरकार को कर राजस्व प्रदान करने के लिए बाध्य
D. राजकोषीय विभ्रम	IV. यह आवश्यक नहीं कि जिस पर कर लगाया गया है वह उसके अनुरूप हो

निम्नलिखित विकल्पों में से सही उत्तर का चयन कीजिए :

1. A-II, B-III, C-IV, D-I
2. A-III, B-I, C-II, D-IV
3. A-II, B-IV, C-III, D-I
4. A-IV, B-III, C-II, D-I

A1 1  
:  
1  
A2 2  
:  
2  
A3 3  
:  
3  
A4 4  
:  
4

Objective Question

122 901072

Match List I with List II

LIST I (Type of India's population growth rate)	LIST II (Period)
A. Rapid High Growth	I. 1981-2011
B. Stagnant Population	II. 1921-1951
C. High growth with definite signs of slowing down	III. 1951-1981
D. Steady Growth	IV. 1891-1921

Choose the correct answer from the options given below:

1. A-IV, B-II, C-III, D-I
2. A-III, B-IV, C-I, D-II
3. A-III, B-IV, C-II, D-I
4. A-IV, B-III, C-II, D-I

सूची I का सूची II से मिलान कीजिए

सूची I भारत के जनसंख्या वृद्धि दर का प्रकार	सूची II अवधि
A. तीव्र उच्च वृद्धि	I. 1981-2011
B. स्थिर जनसंख्या	II. 1921-1951
C. उच्च वृद्धि धीमी गति के निश्चित संकेतों के साथ	III. 1951-1981
D. सतत वृद्धि	IV. 1891-1921

निम्नलिखित विकल्पों में से सही उत्तर का चयन कीजिए :

1. A-IV, B-II, C-III, D-I
2. A-III, B-IV, C-I, D-II
3. A-III, B-IV, C-II, D-I
4. A-IV, B-III, C-II, D-I

A1 1  
:  
1  
A2 2  
:  
2  
A3 3  
:  
3  
A4 4  
:  
4

Objective Question

123 901073

Match List I with List II

LIST I (Policy)		LIST II (Year)	
A.	National Forest Policy	I.	2000
B.	Marine Fishing Policy	II.	1994
C.	New Mineral Policy	III.	2004
D.	National Population Policy	IV.	1988

Choose the correct answer from the options given below:

1. A-IV, B-III, C-II, D-I
2. A-IV, B-II, C-III, D-I
3. A-II, B-IV, C-III, D-I
4. A-II, B-III, C-IV, D-I

सूची I का सूची II से मिलान कीजिए

सूची I नीति		सूची II वर्ष	
A.	राष्ट्रीय वन नीति	I.	2000
B.	समुद्र मत्स्य ग्रहण नीति	II.	1994
C.	नई खनिज लवण नीति	III.	2004
D.	राष्ट्रीय जनसंख्या नीति	IV.	1988

निम्नलिखित विकल्पों में से सही उत्तर का चयन कीजिए :

1. A-IV, B-III, C-II, D-I
2. A-IV, B-II, C-III, D-I
3. A-II, B-IV, C-III, D-I
4. A-II, B-III, C-IV, D-I

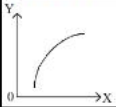
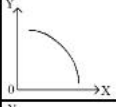
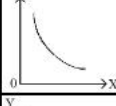

A1  
:  
1  
A2  
:  
2  
A3  
:  
3  
A4  
:  
4



Objective Question

124 901074

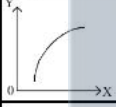
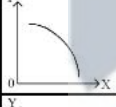
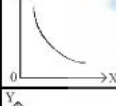

Match List I with List II

LIST I		LIST II	
A.	$f'(x) > 0$ and $f''(x) > 0$	I.	
B.	$f'(x) > 0$ and $f''(x) < 0$	II.	
C.	$f'(x) < 0$ and $f''(x) < 0$	III.	
D.	$f'(x) < 0$ and $f''(x) > 0$	IV.	

Choose the correct answer from the options given below:

1. A-I, B-IV, C-III, D-II
2. A-I, B-III, C-II, D-IV
3. A-IV, B-I, C-II, D-III
4. A-IV, B-II, C-III, D-I

सूची I का सूची II से मिलान कीजिए

सूची I		सूची II	
A.	$f'(x) > 0$ and $f''(x) > 0$	I.	
B.	$f'(x) > 0$ and $f''(x) < 0$	II.	
C.	$f'(x) < 0$ and $f''(x) < 0$	III.	
D.	$f'(x) < 0$ and $f''(x) > 0$	IV.	

निम्नलिखित विकल्पों में से सही उत्तर का चयन कीजिए :

1. A-I, B-IV, C-III, D-II
2. A-I, B-III, C-II, D-IV
3. A-IV, B-I, C-II, D-III
4. A-IV, B-II, C-III, D-I

A1  
:

1

A2  
:

2

A3  
:

3

A4  
:

4

## Objective Question

125 901075 Match List I with List II

LIST I		LIST II	
A.	Central Bank Loss Function	I.	$y_t = A - ar_{t-1}$
B.	Monetary Rule (MR)	II.	$\pi_t = \pi_{t-1} + \alpha(y_t - y_e)$
C.	Phillips Curve (PC)	III.	$(y_t - y_e) = -\alpha\beta(\pi_t - \pi^T)$
D.	Dynamic IS Curve	IV.	$L = (y_t - y_e)^2 + \beta(\pi_t - \pi^T)^2$

Choose the correct answer from the options given below:

1. A-II, B-III, C-IV, D-I
2. A-III, B-II, C-IV, D-I
3. A-IV, B-III, C-II, D-I
4. A-IV, B-III, C-I, D-II

सूची I का सूची II से मिलान कीजिए

सूची I		सूची II	
A.	सेंट्रल बैंक लॉस फंक्शन	I.	$y_t = A - ar_{t-1}$
B.	मौद्रिक नियम (MR)	II.	$\pi_t = \pi_{t-1} + \alpha(y_t - y_e)$
C.	फिलिप्स वर्क रेखा (PC)	III.	$(y_t - y_e) = -\alpha\beta(\pi_t - \pi^T)$
D.	डायनेमिक IS वर्क रेखा	IV.	$L = (y_t - y_e)^2 + \beta(\pi_t - \pi^T)^2$

नीचे दिए गए विकल्पों में से सही उत्तर का चयन कीजिए :

1. A-II, B-III, C-IV, D-I
2. A-III, B-II, C-IV, D-I
3. A-IV, B-III, C-II, D-I
4. A-IV, B-III, C-I, D-II

A1 1  
:  
1  
A2 2  
:  
2  
A3 3  
:  
3  
A4 4  
:  
4

## Objective Question

126 901076



Arrange the relative weights in percentage assigned to following criteria by the XIV finance commission in ascending order.

- A. Income distance
- B. Area
- C. Population (1971)
- D. Demographic Change (2011 population)
- E. Forest Cover

Choose the correct answer from the option given below :

1. B, E, D, C, A
2. E, D, B, C, A
3. A, C, D, B, E
4. E, B, D, C, A

चौदहवें वित्त आयोग द्वारा समनुदेशित निम्नलिखित मापदंड के सापेक्षिक भारों को प्रतिशत में आरोही क्रम में व्यवस्थित कीजिए :

- A. आय दूरी
- B. क्षेत्रफल
- C. जनसंख्या(1971)
- D. जननांकीय परिवर्तन (2011 की जनसंख्या)
- E. वन क्षेत्र

नीचे दिए गए विकल्पों में से सही उत्तर का चयन कीजिए :

1. B, E, D, C, A
2. E, D, B, C, A
3. A, C, D, B, E
4. E, B, D, C, A

A1 : 1  
A2 : 2  
A3 : 3  
A4 : 4



#### Objective Question

127 901077

Arrange the following in ascending order on the basis of degree of economic integration.

- A. Custom Union
- B. Free Trade Area
- C. Economic Union
- D. Common Market
- E. Preferential Trade Arrangements

Choose the correct answer from the option given below :

1. A, B, C, D, E
2. B, C, D, A, E
3. E, A, B, C, D
4. E, B, A, D, C

आर्थिक समेकन की मात्रा (डिग्री) के आधार पर निम्नलिखित को आरोही क्रम में व्यवस्थित कीजिए :

- A. सीमा संघ
- B. मुक्त व्यापार क्षेत्र
- C. आर्थिक संघ
- D. समान बाजार
- E. अधिमान्य व्यापार व्यवस्थाक्रम

नीचे दिए गए विकल्पों में से सही उत्तर का चयन कीजिए :

1. A, B, C, D, E
2. B, C, D, A, E
3. E, A, B, C, D
4. E, B, A, D, C

A1  
:

1

A2  
:


2

A3  
:

3

A4  
:

4



Objective Question

128 901078

Arrange states in ascending order based on loans from the central government for the year 2020-21

- A. Karnataka
- B. Madhya Pradesh
- C. Tamil Nadu
- D. Gujarat
- E. Maharashtra

Choose the correct answer from the option given below :

1. C, B, D, A, E
2. B, C, D, A, E
3. C, B, A, D, E
4. B, C, A, D, E

वर्ष 2020-21 में केंद्र सरकार से प्राप्त ऋणों के आधार पर राज्यों को आरोही क्रम में व्यवस्थित कीजिए:

- A. कर्नाटक
- B. मध्य प्रदेश
- C. तमिल नाडु
- D. गुजरात
- E. महाराष्ट्र

नीचे दिए गए विकल्पों में से सही उत्तर का चयन कीजिए :

1. C, B, D, A, E
2. B, C, D, A, E
3. C, B, A, D, E
4. B, C, A, D, E

A1  
:

1

A2 2  
:  
2  
A3 3  
:  
3  
A4 4  
:  
4

## Objective Question

129 901079

Arrange the following Acts in chronological order of their year of enactment starting from the oldest :

- A. Foreign Exchange Regulation Act
- B. Competition Act
- C. MRTP Act
- D. Foreign Regulation Act
- E. Foreign Exchange Management Act

Choose the correct answer from the option given below :

- 1. C, B, A, D, E
- 2. C, A, B, E, D
- 3. B, A, D, E, C
- 4. A, B, C, D, E

निम्नलिखित अधिनियमों को उनके अधिनियमन के वर्ष के आधार पर पुरातन से आरम्भ करके कालक्रम में व्यवस्थित कीजिए :

- A. विदेश विनियमन अधिनियम
- B. प्रतिस्पर्धा अधिनियम
- C. एम आर टी पी अधिनियम
- D. विदेश विनियमन अधिनियम
- E. विदेश विनियमन प्रबन्धन अधिनियम

नीचे दिए गए विकल्पों में से सही उत्तर का चयन कीजिए :

- 1. C, B, A, D, E
- 2. C, A, B, E, D
- 3. B, A, D, E, C
- 4. A, B, C, D, E

A1 1  
:  
1  
A2 2  
:  
2  
A3 3  
:  
3  
A4 4  
:  
4

## Objective Question

130 901080

Arrange the following in order to their year of establishment starting from oldest

- A. The Industrial Credit and Investment Corporation of India (ICICI)
- B. National Bank for Agricultural and Rural Development (NABARD)
- C. The Industrial Finance Corporation of India (IFCI)
- D. The Industrial Reconstruction Bank of India (IRBI)
- E. Export-Import Bank of India

Choose the correct answer from the option given below :

1. A, C, E, B, D
2. C, A, D, E, B
3. E, C, A, B, D
4. A, D, C, B, E

निम्नलिखित को उनके स्थापना वर्ष के आधार पर पुरातन से आरंभ करके अनुक्रम में व्यवस्थित कीजिए :

- A. भारतीय औद्योगिकीय ऋण और निवेश निगम (आई सी आई सी आई )
- B. राष्ट्रीय कृषि और ग्रामीण विकास बैंक (नाबार्ड)
- C. भारतीय औद्योगिकीय वित्त निगम (आई एफ सी आई)
- D. भारतीय औद्योगिकीय पुनर्गठन बैंक (आई आर बी)
- E. भारतीय निर्यात-आयत बैंक

नीचे दिए गए विकल्पों में से सही उत्तर का चयन कीजिए :

1. A, C, E, B, D
2. C, A, D, E, B
3. E, C, A, B, D
4. A, D, C, B, E

A1

:

1

A2

:

2

A3

:

3

A4

:

4



Objective Question

131 901081

Arrange the following chronologically in order of their publication starting from the oldest:

- A. General Theory of Employment, Interest and Money
- B. A Treatise on probability
- C. Essays in Persuasion
- D. The End of Laissez Faire
- E. A Tract on Monetary Reform

Choose the correct answer from the option given below :

1. B, C, D, A, E
2. B, E, D, C, A
3. E, B, D, C, A
4. D, E, B, A, C

निम्नलिखित को उनके प्रकाशन के आधार पर पुरातन से आरम्भ करके कालक्रम में व्यवस्थित कीजिए:

- A. जनरल थियरी ऑफ़ एमप्लायमेंट, इंटररेस्ट एण्ड मनी
- B. ए ट्रिटिज ऑन प्रॉबेबिलिटी
- C. एसेज इन परसुएशन
- D. दि एण्ड ऑफ़ लैसेज फेयर
- E. ए ट्रेक्ट ऑन मोनेटरी रिफार्म

नीचे दिए गए विकल्पों में से सही उत्तर का चयन कीजिए :

1. B, C, D, A, E
2. B, E, D, C, A
3. E, B, D, C, A
4. D, E, B, A, C

A1  
:

1

A2  
:

2

A3  
:

3

A4  
:

4

Objective Question

132 901082

Arrange the following events of equity trading in India starting from the oldest :

- A. The BSE introduced screen-based trading.
- B. Foreign Institutional Investors (FIIs) are permitted to invest in the Indian Securities Market.
- C. NSE commenced operations in wholesale debt market segment.
- D. The SEBI banned badla trading on the BSE.
- E. The NSE overtook the BSE as the largest stock exchange in terms of volume trading.

Choose the correct answer from the option given below :

1. A, B, D, E, C
2. B, D, C, E, A
3. D, B, E, C, A
4. C, B, D, E, A

भारत में एकिकी व्यापार की निम्नलिखित घटनाओं को पुरातन से आरम्भ करके सही अनुक्रम में व्यवस्थित कीजिए :

- A. बी एस ई ने स्क्रीन आधारित व्यापार आरम्भ किया।
- B. विदेश संस्थागत निवेशकों (एफ आई आई) को भारतीय प्रतिभूति बाजार में निवेश की अनुमति दी गई।
- C. एन एस ई ने थोक ऋण बाजार में कार्य संचालन आरम्भ किया।
- D. एस इ बी आई (सेबी) ने बी एस ई के बदलाव व्यापार को प्रतिबंधित किया।
- E. एन एस ई ने व्यापार के परिमाण की ही अधिक रूप से बड़े बी एस ई स्टॉक एक्चेंज का अधिग्रहण किया।

नीचे दिए गए विकल्पों में से सही उत्तर का चयन कीजिए :

1. A, B, D, E, C
2. B, D, C, E, A
3. D, B, E, C, A
4. C, B, D, E, A

A1  
:

1

A2 2  
:  
2  
A3 3  
:  
3  
A4 4  
:  
4

## Objective Question

133 901083

Sequence of steps followed in the estimation of Indirect Least Square (ILS) starting from the beginning :

- Identification of the structural equations
- Application of OLS
- Obtaining structural coefficients
- Obtaining reduced form equation
- Use the model for policy

Choose the correct answer from the option given below :

- A, D, B, C and E
- A, B, D, C and E
- B, D, A, E and C
- B, A, C, D and E

अप्रत्यक्ष न्यूनतम वर्ग (आई एल एस) के आकलन अनुमान के निम्नलिखित चरणों को आरंभिक चरण से आरम्भ करके सही अनुक्रम में व्यवस्थित कीजिए

- संरचनात्मक समीकरणों की पहचान
- ओ एल एस का अनुप्रयोग
- संरचनात्मक गुणांक प्राप्त करना
- समीकरण का न्यून रूप प्राप्त करना
- नीति हेतु मॉडल / प्रारूप का प्रयोग करना

नीचे दिए गए विकल्पों में से सही उत्तर का चयन कीजिए :

- A, D, B, C and E
- A, B, D, C and E
- B, D, A, E and C
- B, A, C, D and E

A1 1  
:  
1  
A2 2  
:  
2  
A3 3  
:  
3  
A4 4  
:  
4

## Objective Question

134 901084

As per the total revenue received by the government under the head of GST on the domestic supply of goods and services for 2021-22, arrange the following states in ascending order :

- A. Odisha
- B. Rajasthan
- C. Delhi
- D. West Bengal
- E. Madhya Pradesh

Choose the correct answer from the option given below :

- 1. D, C, E, B, A
- 2. E, B, A, C, D
- 3. B, E, C, A, D
- 4. C, E, A, D, B

वर्ष 2021-22 में वस्तुओं के घरेलू आपूर्ति और सेवाओं पर जी एस टी के शीर्ष के अंतर्गत भारत सरकार से राज्यों को प्राप्त कुल राजस्व के आधार पर राज्यों को आरोही क्रम में व्यवस्थित कीजिए:

- A. ओड़िसा
- B. राजस्थान
- C. दिल्ली
- D. पश्चिम बंगाल
- E. मध्य प्रदेश

नीचे दिए गए विकल्पों में से सही उत्तर का चयन कीजिए :

- 1. D, C, E, B, A
- 2. E, B, A, C, D
- 3. B, E, C, A, D
- 4. C, E, A, D, B

A1  
:

1

A2  
:

2

A3  
:

3

A4  
:

4



Objective Question

135 901085

According to the Census, 2011 arrange the states in the descending order based on the literacy rate (aged group 7 year and above) :

- A. Nagaland
- B. Tripura
- C. Sikkim
- D. Manipur
- E. Meghalaya

Choose the correct answer from the option given below :

- 1. D, C, B, E, A
- 2. C, B, D, A, E
- 3. B, C, A, D, E
- 4. A, C, B, E, D

जनगणना 2011 के अनुसार साक्षरता दर (7 वर्ष और अधिक आयु) के आधार पर निम्नलिखित राज्यों को अवरोही क्रम में व्यवस्थित कीजिए:

- A. नागालैंड
- B. त्रिपुरा
- C. सिक्किम
- D. मणिपुर
- E. मेघालय

नीचे दिए गए विकल्पों में से सही उत्तर का चयन कीजिए :

1. D, C, B, E, A
2. C, B, D, A, E
3. B, C, A, D, E
4. A, C, B, E, D

A1  
:

1

A2  
:

2

A3  
:

3

A4  
:

4

Objective Question

136/901086

Give below are two statements : One is labelled as Assertion A and the other is labelled as Reason R :

Assertion A : If governments do not care about protectionists' rents, they would replace all import duties with sales taxes.

Reason R : Sales tax is more efficient means of raising revenue than import tariff.

In the light of the above statements, choose the correct answer from the options given below :

1. Both A and R are true and R is the correct explanation of A.
2. Both A and R are true but R is NOT the correct explanation of A.
3. A is true but R is false.
4. A is false but R is true.

नीचे दो कथन दिए गए हैं, एक अभिकथन (Assertion A) के रूप में लिखित है तो दूसरा उसके कारण (Reason R) के रूप में

अभिकथन A: यदि सरकार संरक्षणवादियों के लगान का ध्यान नहीं रखती है, तो वे सभी आयात शुल्कों के स्थान पर बिक्री कर लगा देंगी।

कारण R: बिक्री कर आयात प्रशुल्क की बनिस्पत राजस्व जुटाने का अधिक कारगर साधन है।

उपरोक्त कथन के आलोक में, नीचे दिए गए विकल्पों में से सबसे उपयुक्त उत्तर का चयन कीजिए

1. A और R दोनों सत्य हैं और R, A की सही व्याख्या है
2. A और R दोनों सत्य हैं और R, A की सही व्याख्या नहीं है
3. A सही है लेकिन R सही नहीं है
4. A सही नहीं है लेकिन R सही है

A1  
:

1

A2  
:

2



A3 3  
:  
3  
A4 4  
:  
4

## Objective Question

137 901087

Give below are two statements :

Statement - I : Friedman's theory of the demand for money is partly Keynesian and partly non-Keynesian.

Statement - II : It is non-Keynesian in that Friedman neglects completely Keynes' clarification of the motives for holding money and the corresponding components of demand for money.

In the light of the above statements, choose the correct answer from the options given below:

1. Both Statement I and Statement II are true.
2. Both Statement I and Statement II are false.
3. Statement I is true but Statement II is false.
4. Statement I is false but Statement II is true.

नीचे दो कथन दिए गए हैं, एक अभिकथन (Assertion A) के रूप में लिखित है तो दूसरा उसके कारण (Reason R) के रूप में

अभिकथन A: फ्रीडमैन का धन की मांग का सिद्धांत आंशिक रूप से कीन्स समर्थकों और आंशिक रूप से गैर-कीन्स समर्थकों का सिद्धांत है।

कारण R: गैर-कीन्स समर्थकों में फ्रीडमैन कीन्स के धन रखने के प्रयोजनों के वर्गीकरण और धन की तदनुसूची घटक मांगों को पूरे तरह नकारता है।

उपरोक्त कथन के आलोक में, नीचे दिए गए विकल्पों में से सबसे उपयुक्त उत्तर का चयन कीजिए

1. A और R दोनों सही हैं और R, A की सही व्याख्या है
2. A और R दोनों सही हैं और R, A की सही व्याख्या नहीं है
3. A सही है लेकिन R सही नहीं है
4. A सही नहीं है लेकिन R सही है

A1 1  
:  
1  
A2 2  
:  
2  
A3 3  
:  
3  
A4 4  
:  
4

## Objective Question

138 901088

Give below are two statements :

Statement - I : Under first degree price discrimination, monopolist sells different units of output for different prices and these prices may differ from person to person.

Statement - II : Under third degree price discrimination, monopolist sells different units of output for different prices, but every individual who buys the same amount of the good pays the same price.

In the light of the above statements, choose the correct answer from the options given below:

1. Both Statement I and Statement II are true.
2. Both Statement I and Statement II are false.
3. Statement I is true but Statement II is false.
4. Statement I is false but Statement II is true.

नीचे दो कथन दिए गए हैं:

कथन I: प्रथम डिग्री मूल्य अंतर के अंतर्गत एकाधिकारवादी उत्पाद की अलग-अलग इकाइयों को अलग-अलग मूल्यों पर बेचना है और ये मूल्य व्यक्ति दर-व्यक्ति भिन्न हो सकता है।

कथन II: तृतीय डिग्री मूल्य अंतर के अंतर्गत एकाधिकारवादी उत्पाद की अलग-अलग इकाइयों को अलग-अलग मूल्यों पर बेचना है लेकिन उत्पाद की सामान मात्रा खरीदने वाला प्रत्येक व्यक्ति सामान मूल्य अदा करता है।

उपरोक्त कथन के आलोक में, नीचे दिए गए विकल्पों में से सबसे उपयुक्त उत्तर का चयन कीजिए:

1. कथन I और II दोनों सही हैं
2. कथन I और II दोनों गलत हैं
3. कथन I सही है, लेकिन कथन II गलत है
4. कथन I गलत है, लेकिन कथन II सही है

A1  
:

1

A2  
:

2

A3  
:

3

A4  
:

4

#### Objective Question

139/901089

Give below are two statements :

Statement - I : The terms of trade of a nation are defined as the ratio of the cost of its export commodity to the price of its import commodity.

Statement - II : The terms of trade of the trade partner are equal to the inverse of the terms of trade of the other nation.

In the light of the above statements, choose the correct answer from the options given below:

1. Both Statement I and Statement II are true.
2. Both Statement I and Statement II are false.
3. Statement I is true but Statement II is false.
4. Statement I is false but Statement II is true.

नीचे दो कथन दिए गए हैं:

कथन I: किसी देश के व्यापार की शर्तें उसकी निर्यात वस्तुओं की लागत और उसकी आयात वस्तुओं के मूल्य के अनुरूप में परिभाषित की जाती हैं।

कथन II: व्यापारिक साझेदार की व्यापार शर्तें, अन्य देश की व्यापार शर्तों के प्रतिलोम के बराबर होती हैं।

उपरोक्त कथन के आलोक में, नीचे दिए गए विकल्पों में से सबसे उपयुक्त उत्तर का चयन कीजिए:

उपरोक्त कथन के आलोक में, नीचे दिए गए विकल्पों में से सबसे उपयुक्त उत्तर का चयन कीजिए:

1. कथन I और II दोनों सही हैं
2. कथन I और II दोनों गलत हैं
3. कथन I सही है, लेकिन कथन II गलत है
4. कथन I गलत है, लेकिन कथन II सही है

A1  
:

1

A2 2  
:  
2  
A3 3  
:  
3  
A4 4  
:  
4

## Objective Question

140 901090

Give below are two statements :

Statement - I : Division of labour is the starting point of Smith's theory of economic growth.

Statement - II : It is division of labour that results in the greatest improvement in the productive power of labour.

In the light of the above statements, choose the correct answer from the options given below:

1. Both Statement I and Statement II are true.
2. Both Statement I and Statement II are false.
3. Statement I is true but Statement II is false.
4. Statement I is false but Statement II is true.

नीचे दो कथन दिए गए हैं:

कथन I: श्रम का विभाजन स्मिथ के आर्थिक वृद्धि सिद्धांत का आरंभिक बिंदु है।

कथन II: यह श्रम का विभाजन है जिससे श्रम के उत्पादनकारी अधिकार में अधिकतम सुधार होता है।

उपरोक्त कथन के आलोक में, नीचे दिए गए विकल्पों में से सबसे उपयुक्त उत्तर का चयन कीजिए:

1. कथन I और II दोनों सत्य हैं
2. कथन I और II दोनों असत्य हैं
3. कथन I सत्य है, लेकिन कथन II असत्य है
4. कथन I असत्य है, लेकिन कथन II सत्य है

A1 1  
:  
1  
A2 2  
:  
2  
A3 3  
:  
3  
A4 4  
:  
4

## Objective Question

141 901091

Read the passage below and answer the question :

The government of India's fiscal policy response to the covid crises comprised of a judicious mix of increasing food and fertilizer subsidies on the one hand and a reduction in taxes on fuel and certain imported products on the other. Despite these additional fiscal pressures the union govt. is back on track. The resilience in the fiscal performance of the union government has been facilitated by the recovery in economic activity buoyancy in revenues from direct taxes and goods and services tax (GST) and realistic assumptions in the budget. The gross tax revenue registered a YoY growth of 15.5% from April to November 2022, driven by robust growth in the direct taxes and GST. The gross GST-collection has increased at 24.8% on YoY during the same period. The Union Government's emphasis on capital expenditure (capex) has continued despite higher revenue expenditure requirements during the year. The center's capex has steadily increased from a long term average of 1.7 percent of GDP (FY09 to FY20) to 2.5% of GDP in FY22 PA. The center has also incentivized the state governments through interest free loans and enhanced borrowing ceilings to prioritize their spending on capex. Government has boosted allocations on infrastructure intensive sectors such as roads and highways, railways and housing and urban affairs, which has bearing on capex. This increase in capex will have implication for medium term growth and sustainable government debt to GDP ratio.

Which of the following strategies was not comprised India's Fiscal Policy response to Covid crises :

1. Increasing of food subsidy
2. Increasing of fertilizer subsidy
3. Reduction in taxes on certain imported products.
4. Increase in taxes on fuel.

नीचे दिए गद्यांश को पढ़िए और प्रश्नों के उत्तर दीजिए: (91-95)

कोविड संकट के प्रति भारत सरकार की मौद्रिक नीति प्रतिक्रिया में एक ओर खाद्य एवं ऊर्षरकों पर बढ़ती सब्सिडी और दूसरी ओर ईंधन एवं कुछ आयातित उत्पादों पर करों में कटौती का न्यायसंगत मिश्रण शामिल है। इन अतिरिक्त मौद्रिक दबावों के बावजूद, संघ सरकार पटरी पर लौट आयी है। गतिविधि में प्रतिप्राप्ति, प्रत्यक्ष करों, सामान और सेवा-कर (जी एस टी) से राजस्व में प्रफुल्लता और बजट में यथार्थवादी पूर्वानुमानों की वजह से संघ सरकार के मौद्रिक कार्य निष्पादन में नव शक्ति का संचार हुआ है। प्रत्यक्ष करों और जी एस टी में जबरदस्त वृद्धि के चलते अप्रैल से नवम्बर 2022 से सकल कर राजस्व में वर्ष-दर-वर्ष 15.5% की वृद्धि दर्ज हुई। इसी अवधि के दौरान सकल जी एस टी समाहरण में वर्ष-दर-वर्ष 24.8% की वृद्धि हुई है। उच्च राजस्व व्यय के बावजूद पूंजीगत व्यय पर वर्ष के दौरान संघ सरकार का बल जारी रहा है। केंद्र के पूंजीगत व्यय में सकल घरेलू उत्पाद में 1.7 प्रतिशत के दीर्घावधिक औसत (वित्तीय वर्ष 2009 से वित्तीय वर्ष 2020) से वित्तीय वर्ष 2022 में सकल घरेलू उत्पाद में 2.5% तक सतत रूप से बढ़ोत्तरी है। केंद्र ने ब्याज मुक्त ऋण प्रदान करके और उधार लेने की अधिक सीमा तय कर के राज्य सरकारों को प्रोत्साहित किया ताकि वे पूंजीगत व्यय पर अप्रत्यक्ष करों की प्राथमिकताएं तय कर सकें। सरकार ने पूंजीगत व्यय को प्रभावित करने वाले बुनियादी सुविधाओं की बहुलता वाले क्षेत्रों जैसे सड़क और राजमार्ग, आवासन एवं शहरी कार्यों पर नियतनों को भी प्रोत्साहन दिया है। पूंजीगत व्यय में इस वृद्धि के मध्यावधि वृद्धि जीडीपी अनुपात में सतत सरकार के प्रति निहितार्थ होंगे।

निम्नलिखित में से कौन-सी रणनीतियां कोविड संकट के प्रति भारत की मौद्रिक नीति की प्रतिक्रिया का हिस्सा नहीं है :

1. खाद्य सब्सिडी में वृद्धि करना।
2. उर्षरक सब्सिडी में वृद्धि करना।
3. कुछ आयातित उत्पादों पर करों में कटौती करना।
4. ईंधन पर करों में वृद्धि करना

A1  
:

1

A2  
:

2

A3  
:

3

A4  
:

4

Objective Question

142 901092

Read the passage below and answer the question :

The government of India's fiscal policy response to the covid crises comprised of a judicious mix of increasing food and fertilizer subsidies on the one hand and a reduction in taxes on fuel and certain imported products on the other. Despite these additional fiscal pressures the union govt. is back on track. The resilience in the fiscal performance of the union government has been facilitated by the recovery in economic activity buoyancy in revenues from direct taxes and goods and services tax (GST) and realistic assumptions in the budget. The gross tax revenue registered a YoY growth of 15.5% from April to November 2022, driven by robust growth in the direct taxes and GST. The gross GST-collection has increased at 24.8% on YoY during the same period. The Union Government's emphasis on capital expenditure (capex) has continued despite higher revenue expenditure requirements during the year. The center's capex has steadily increased from a long term average of 1.7 percent of GDP (FY09 to FY20) to 2.5% of GDP in FY22 PA. The center has also incentivized the state governments through interest free loans and enhanced borrowing ceilings to prioritize their spending on capex. Government has boosted allocations on infrastructure intensive sectors such as roads and highways, railways and housing and urban affairs, which has bearing on capex. This increase in capex will have implication for medium term growth and sustainable government debt to GDP ratio.

Which of the following is not correct with respect to facilitation of resilience in fiscal performance of the union government :

1. Recovery in Economic activity
2. Buoyant GST revenues
3. Expenditure austerity measures pertaining to food and fertilizer subsidy
4. Realistic assumptions in budget

नीचे दिए गद्यांश को पढ़िए और प्रश्नों के उत्तर दीजिए: (91-95)

कोविड संकट के प्रति भारत सरकार की मौद्रिक नीति प्रतिक्रिया में एक ओर खाद्य एवं ऊर्षकों पर बढ़ती सब्सिडी और दूसरी ओर ईंधन एवं कुछ आयातित उत्पादों पर करों में कटौती का न्यायसंगत मिश्रण शामिल है। इन अतिरिक्त मौद्रिक दबावों के बावजूद, संघ सरकार पटरी पर लौट आयी है। गतिविधि में प्रतिप्राप्ति, प्रत्यक्ष करों, सामान और सेवा-कर (जी एस टी) से राजस्व में प्रफुल्लता और बजट में यथार्थवादी पूर्वानुमानों की वजह से संघ सरकार के मौद्रिक कार्य निष्पादन में नव शक्ति का संचार हुआ है। प्रत्यक्ष करों और जी एस टी में जबरदस्त वृद्धि के चलते अप्रैल से नवम्बर 2022 से सकल कर राजस्व में वर्ष-दर-वर्ष 15.5% की वृद्धि दर्ज हुई। इसी अवधि के दौरान सकल जी एस टी समाहरण में वर्ष-दर-वर्ष 24.8% की वृद्धि हुई है। उच्च राजस्व व्यय के बावजूद पूंजीगत व्यय पर वर्ष के दौरान संघ सरकार का बल जारी रहा है। केंद्र के पूंजीगत व्यय में सकल घरेलू उत्पाद में 1.7 प्रतिशत के दीर्घावधिक औसत (वित्तीय वर्ष 2009 से वित्तीय वर्ष 2020) से वित्तीय वर्ष 2022 में सकल घरेलू उत्पाद में 2.5% तक सतत रूप से बढ़ोत्तरी हुई है। केंद्र ने ब्याज मुक्त ऋण प्रदान करके और उधार लेने की अधिक सीमा तय कर के राज्य सरकारों को प्रोत्साहित किया ताकि वे पूंजीगत व्यय पर आ व्यय की प्राथमिकताएं तय कर सकें। सरकार ने पूंजीगत व्यय को प्रभावित करने वाले बुनियादी सुविधाओं की बहुलता वाले क्षेत्रों जैसे सड़क और राजमार्ग, आवासन एवं शहरी कार्यों पर नियतनों को भी प्रोत्साहन दिया है। पूंजीगत व्यय में इस वृद्धि के मध्यावधि वृद्धि जीडीपी अनुपात में सतत सरकार ऋण के प्रति निहितार्थ होंगे।

संघ सरकार के मौद्रिक कार्य निष्पादन में नवशक्ति के संचार को लेकर निम्नलिखित में से कौन-सा सही नहीं है :

1. आर्थिक गतिविधियों में प्रतिप्राप्ति।
2. उत्साहवर्धक जी एस टी राजस्व।
3. खाद्य एवं उर्षक सब्सिडी से संबंधित व्यय मित्तव्ययता उपाय।
4. बजट में यथार्थवादी पूर्वानुमान।

A1 : 1  
1  
A2 : 2  
2  
A3 : 3  
3  
A4 : 4  
4

Objective Question

143 901093

Read the passage below and answer the question :

The government of India's fiscal policy response to the covid crises comprised of a judicious mix of increasing food and fertilizer subsidies on the one hand and a reduction in taxes on fuel and certain imported products on the other. Despite these additional fiscal pressures the union govt. is back on track. The resilience in the fiscal performance of the union government has been facilitated by the recovery in economic activity buoyancy in revenues from direct taxes and goods and services tax (GST) and realistic assumptions in the budget. The gross tax revenue registered a YoY growth of 15.5% from April to November 2022, driven by robust growth in the direct taxes and GST. The gross GST-collection has increased at 24.8% on YoY during the same period. The Union Government's emphasis on capital expenditure (capex) has continued despite higher revenue expenditure requirements during the year. The center's capex has steadily increased from a long term average of 1.7 percent of GDP (FY09 to FY20) to 2.5% of GDP in FY22 PA. The center has also incentivized the state governments through interest free loans and enhanced borrowing ceilings to prioritize their spending on capex. Government has boosted allocations on infrastructure intensive sectors such as roads and highways, railways and housing and urban affairs, which has bearing on capex. This increase in capex will have implication for medium term growth and sustainable government debt to GDP ratio.

Which of the following strategy is adopted by Union Government to prioritise States' spending on capex.

1. Incentivizing for higher revenue expenditure
2. Incentivizing for interest free loans and enhance borrowing ceilings
3. Incentivizing for higher interest payment
4. Incentivizing for large spending on tax

नीचे दिए गद्यांश को पढ़िए और प्रश्नों के उत्तर दीजिए: (91-95)

कोविड संकट के प्रति भारत सरकार की मौद्रिक नीति प्रतिक्रिया में एक ओर खाद्य एवं ऊर्ध्वकों पर बढ़ती सब्सिडी और दूसरी ओर ईंधन एवं कुछ आयातित उत्पादों पर करों में कटौती का न्यायसंगत मिश्रण शामिल है। इन अतिरिक्त मौद्रिक दबावों के बावजूद, संघ सरकार पटरी पर लौट आयी है। गतिविधि में प्रतिप्राप्ति, प्रत्यक्ष करों, सामान और सेवा-कर (जी एस टी) से राजस्व में प्रफुल्लता और बजट में यथार्थवादी पूर्वानुमानों की वजह से संघ सरकार के मौद्रिक कार्य निष्पादन में नव शक्ति का संचार हुआ है। प्रत्यक्ष करों और जी एस टी में जबरदस्त वृद्धि के चलते अप्रैल से नवम्बर 2022 से सकल कर राजस्व में वर्ष-दर-वर्ष 15.5% की वृद्धि दर्ज हुई। इसी अवधि के दौरान सकल जी एस टी समाहरण में वर्ष-दर-वर्ष 24.8% की वृद्धि हुई है। उच्च राजस्व व्यय के बावजूद पूंजीगत व्यय पर वर्ष के दौरान संघ सरकार का बल जारी रहा है। केंद्र के पूंजीगत व्यय में सकल घरेलू उत्पाद में 1.7 प्रतिशत के दीर्घावधिक औसत (वित्तीय वर्ष 2009 से वित्तीय वर्ष 2020) से वित्तीय वर्ष 2022 में सकल घरेलू उत्पाद में 2.5% तक सतत रूप से बढ़ोत्तरी हुई है। केंद्र ने ब्याज मुक्त ऋण प्रदान करके और उधार लेने की अधिक सीमा तय कर के राज्य सरकारों को प्रोत्साहित किया ताकि वे पूंजीगत व्यय पर आ व्यय की प्राथमिकताएं तय कर सकें। सरकार ने पूंजीगत व्यय को प्रभावित करने वाले बुनियादी सुविधाओं की बहुलता वाले क्षेत्रों जैसे सड़क और राजमार्ग, आवासन एवं शहरी कार्यों पर नियतनों को भी प्रोत्साहन दिया है। पूंजीगत व्यय में इस वृद्धि के मध्यावधि वृद्धि जीडीपी अनुपात में सतत सरकार ऋण के प्रति निहितार्थ होंगे।

पूंजीगत व्यय पर राज्यों के व्यय की प्राथमिकताओं को तय करने के लिए संघ सरकार द्वारा निम्नलिखित में से कौन-सी रणनीतियां अपनायी गई थी :

1. उच्चतर राजस्व व्यय के लिए प्रोत्साहन देना।
2. ब्याज रहित ऋणों और अधिक कर्ज सीमा
3. उच्चतर ब्याज के भुगतान को प्रोत्साहित करना।
4. कर समाहरण पर अधिक व्यय को प्रोत्साहित करना।

A1 : 1  
1  
A2 : 2  
2  
A3 : 3  
3  
A4 : 4  
4

Objective Question

144 901094

Read the passage below and answer the question :

The government of India's fiscal policy response to the covid crises comprised of a judicious mix of increasing food and fertilizer subsidies on the one hand and a reduction in taxes on fuel and certain imported products on the other. Despite these additional fiscal pressures the union govt. is back on track. The resilience in the fiscal performance of the union government has been facilitated by the recovery in economic activity buoyancy in revenues from direct taxes and goods and services tax (GST) and realistic assumptions in the budget. The gross tax revenue registered a YoY growth of 15.5% from April to November 2022, driven by robust growth in the direct taxes and GST. The gross GST-collection has increased at 24.8% on YoY during the same period. The Union Government's emphasis on capital expenditure (capex) has continued despite higher revenue expenditure requirements during the year. The center's capex has steadily increased from a long term average of 1.7 percent of GDP (FY09 to FY20) to 2.5% of GDP in FY22 PA. The center has also incentivized the state governments through interest free loans and enhanced borrowing ceilings to prioritize their spending on capex. Government has boosted allocations on infrastructure intensive sectors such as roads and highways, railways and housing and urban affairs, which has bearing on capex. This increase in capex will have implication for medium term growth and sustainable government debt to GDP ratio.

The Capex of the union government for the period FY 09 to FY 20 on an average was \_\_\_\_\_.

1. 2.5 percent of GDP
2. 15.5 percent of revenue receipts
3. 24.8 percent of GST revenue
4. 1.7 percent of GDP

नीचे दिए गद्यांश को पढ़िए और प्रश्नों के उत्तर दीजिए: (91-95)

कोविड संकट के प्रति भारत सरकार की मौद्रिक नीति प्रतिक्रिया में एक ओर खाद्य एवं ऊर्जा पर बढ़ती सब्सिडी और दूसरी ओर ईंधन एवं कुछ आयातित उत्पादों पर करों में कटौती का न्यायसंगत मिश्रण शामिल है। इन अतिरिक्त मौद्रिक दबावों के बावजूद, संघ सरकार पटरी पर लौट आयी है। गतिविधि में प्रतिप्राप्ति, प्रत्यक्ष करों, सामान और सेवा-कर (जी एस टी) से राजस्व में प्रफुल्लता और बजट में यथार्थवादी पूर्वानुमानों की वजह से संघ सरकार के मौद्रिक कार्य निष्पादन में नव शक्ति का संचार हुआ है। प्रत्यक्ष करों और जी एस टी में जबरदस्त वृद्धि के चलते अप्रैल से नवम्बर 2022 से सकल कर राजस्व में वर्ष-दर-वर्ष 15.5% की वृद्धि दर्ज हुई। इसी अवधि के दौरान सकल जी एस टी समाहरण में वर्ष-दर-वर्ष 24.8% की वृद्धि हुई है। उच्च राजस्व व्यय के बावजूद पूंजीगत व्यय पर वर्ष के दौरान संघ सरकार का बल जारी रहा है। केंद्र के पूंजीगत व्यय में सकल घरेलू उत्पाद में 1.7 प्रतिशत के दीर्घावधिक औसत (वित्तीय वर्ष 2009 से वित्तीय वर्ष 2020) से वित्तीय वर्ष 2022 में सकल घरेलू उत्पाद में 2.5% तक सतत रूप से बढ़ोत्तरी हुई है। केंद्र ने ब्याज मुक्त ऋण प्रदान करके और उधार लेने की अधिक सीमा तय कर के राज्य सरकारों को प्रोत्साहित किया ताकि वे पूंजीगत व्यय पर आ व्यय की प्राथमिकताएं तय कर सकें। सरकार ने पूंजीगत व्यय को प्रभावित करने वाले बुनियादी सुविधाओं की बहुलता वाले क्षेत्रों जैसे सड़क और राजमार्ग, आवासन एवं शहरी कार्यों पर नियतनों को भी प्रोत्साहन दिया है। पूंजीगत व्यय में इस वृद्धि के मध्यावधि वृद्धि जीडीपी अनुपात में सतत सरकार ऋण के प्रति निहितार्थ होंगे।

वित्तीय वर्ष 2009 से वित्तीय वर्ष 2020 के संघ सरकार का पूंजीगत व्यय औसतन कितना था

1. सकल घरेलू उत्पाद का 2.5 प्रतिशत।
2. राजस्व प्राप्ति का 15.5 प्रतिशत।
3. जी एस टी राजस्व का 24.8 प्रतिशत।
4. सकल घरेलू उत्पाद का 1.7 प्रतिशत।

A1 : 1  
1  
A2 : 2  
2  
A3 : 3  
3  
A4 : 4  
4

Objective Question

145 901095

Read the passage below and answer the question :

The government of India's fiscal policy response to the covid crises comprised of a judicious mix of increasing food and fertilizer subsidies on the one hand and a reduction in taxes on fuel and certain imported products on the other. Despite these additional fiscal pressures the union govt. is back on track. The resilience in the fiscal performance of the union government has been facilitated by the recovery in economic activity buoyancy in revenues from direct taxes and goods and services tax (GST) and realistic assumptions in the budget. The gross tax revenue registered a YoY growth of 15.5% from April to November 2022, driven by robust growth in the direct taxes and GST. The gross GST-collection has increased at 24.8% on YoY during the same period. The Union Government's emphasis on capital expenditure (capex) has continued despite higher revenue expenditure requirements during the year. The center's capex has steadily increased from a long term average of 1.7 percent of GDP (FY09 to FY20) to 2.5% of GDP in FY22 PA. The center has also incentivized the state governments through interest free loans and enhanced borrowing ceilings to prioritize their spending on capex. Government has boosted allocations on infrastructure intensive sectors such as roads and highways, railways and housing and urban affairs, which has bearing on capex. This increase in capex will have implication for medium term growth and sustainable government debt to GDP ratio.

In order to further enhance capex, allocation for which of the following infrastructure sector is not increased :

1. Ports and Waterways
2. Roads and Highways
3. Railways
4. Housing and Urban affairs

नीचे दिए गद्यांश को पढ़िए और प्रश्नों के उत्तर दीजिए: (91-95)

कोविड संकट के प्रति भारत सरकार की मौद्रिक नीति प्रतिक्रिया में एक ओर खाद्य एवं ऊर्जा पर बढ़ती सब्सिडी और दूसरी ओर ईंधन एवं कुछ आयातित उत्पादों पर करों में कटौती का न्यायसंगत मिश्रण शामिल है। इन अतिरिक्त मौद्रिक दबावों के बावजूद, संघ सरकार पटरी पर लौट आयी है। गतिविधि में प्रतिप्राप्ति, प्रत्यक्ष करों, सामान और सेवा-कर (जी एस टी) से राजस्व में प्रफुल्लता और बजट में यथार्थवादी पूर्वानुमानों की वजह से संघ सरकार के मौद्रिक कार्य निष्पादन में नव शक्ति का संचार हुआ है। प्रत्यक्ष करों और जी एस टी में जबरदस्त वृद्धि के चलते अप्रैल से नवम्बर 2022 से सकल कर राजस्व में वर्ष-दर-वर्ष 15.5% की वृद्धि दर्ज हुई। इसी अवधि के दौरान सकल जी एस टी समाहरण में वर्ष-दर-वर्ष 24.8% की वृद्धि हुई है। उच्च राजस्व व्यय के बावजूद पूंजीगत व्यय पर वर्ष के दौरान संघ सरकार का बल जारी रहा है। केंद्र के पूंजीगत व्यय में सकल घरेलू उत्पाद में 1.7 प्रतिशत के दीर्घावधिक औसत (वित्तीय वर्ष 2009 से वित्तीय वर्ष 2020) से वित्तीय वर्ष 2022 में सकल घरेलू उत्पाद में 2.5% तक सतत रूप से बढ़ोत्तरी हुई है। केंद्र ने ब्याज मुक्त ऋण प्रदान करके और उधार लेने की अधिक सीमा तय कर के राज्य सरकारों को प्रोत्साहित किया ताकि वे पूंजीगत व्यय पर आ व्यय की प्राथमिकताएं तय कर सकें। सरकार ने पूंजीगत व्यय को प्रभावित करने वाले बुनियादी सुविधाओं की बहुलता वाले क्षेत्रों जैसे सड़क और राजमार्ग, आवासन एवं शहरी कार्यों पर नियतनों को भी प्रोत्साहन दिया है। पूंजीगत व्यय में इस वृद्धि के मध्यावधि वृद्धि जीडीपी अनुपात में सतत सरक ऋण के प्रति निहितार्थ होंगे।

पूंजीगत व्यय अधिक वृद्धि करने के लिए निम्नलिखित में से किस बुनियादी क्षेत्र के नियतन में वृद्धि नहीं हुई :

1. बन्दरगाह और जलमार्ग
2. सड़क और राजमार्ग
3. रेलवे
4. आवासन और शहरी कार्य

A1 : 1  
1  
A2 : 2  
2  
A3 : 3  
3  
A4 : 4  
4

Objective Question

146 901096



GDP growth is the most widely used macroeconomic indicator for adjudicating broad economic progress. The outcomes from decisions made on the basis of such an indicator have been repeatedly disappointing because of failures to detect resource uses that turn out to be unsustainable. Adjusted Net Savings (ANS) provides a complementary indicator to help in understanding the changes in wealth and not per capita wealth, by capturing some of the important policy-induced dynamics. Based on the conventions of the System of National Accounts (SNA), ANS is measured as Gross National Saving minus depreciation of produced capital, depletion of subsoil assets and timber resources, and air pollution damages to human health, plus a credit for expenditures on education. If ANS is negative, the country running down its capital stocks and possibly reducing future material well-being. If ANS is positive the country is adding to wealth and future material well-being. When natural resource depletion is not used to invest in other assets in the wealth portfolio, countries gross saving might not be enough to compensate this depletion resulting in negative net savings. However, nations with higher GDP are far less likely to obtain negative ANS. It is argued that, if not a superior indicator of sustainability, ANS is useful to the extent that it can serve as an indicator of unsustainability. Hence, the estimates and conceptualization of ANS are not free from limitations.

Adjusted Net Saving (ANS) is

1. a proxy for change in per capita wealth
2. a stock variable
3. a flow variable
4. unable to capture policy-induced dynamics

निम्नलिखित गद्यांश को सावधानी पूर्वक पढ़िए और दिए गए प्रश्नों के उत्तर दीजिए :

सकल घरेलू उत्पाद वृद्धि का व्यापक रूप से सर्वाधिक प्रयोग विस्तृत आर्थिक प्रगति के निर्णय हेतु सूक्ष्म आर्थिक संकेतक के रूप में किया जाता है। ऐ संकेतक के आधार पर किए गए निर्णय के निष्कर्ष बार-बार निराश करते रहे हैं क्योंकि संसाधनों के प्रयोग की पहचान के असफलताओं के कारण वे अपोषणीय हो जाते हैं। समायोजित निवल बचत (ए एन एस) नीति-प्रभावित गतिकी के कुछ महत्वपूर्ण प्रश्नों को ग्रहण करते हुए संपदा में परिवर्तनों को कि प्रति व्यक्ति संपदा को समझने में सहायता के लिए एक पूरक संकेतक प्रदान करती है। राष्ट्रीय लेखा प्रणाली (एस.एन.ए.) की प्रचलित प्रथाओं पर आधारित विधियों के अनुसार, ए एन एस की माप सकल राष्ट्रीय बचत से पूंजीगत उत्पाद के अवमूल्यन, उप भू-परिसंपत्तियों और टिम्बर संसाधनों के अपक्षय और मानव स्वास्थ्य को क्षति पहुँचाने वाले वायु प्रदूषण को घटाकर और शिक्षा व्यय जमा को योजित करके की जाती है। यदि ए. एन.एस ऋणात्मक है तो देश का पूंजी भंडार कम हो रहा है और संभवतः भावी भौतिक कल्याण भी घटा रहा है। जब ए एन एस धनात्मक है तो देश की संपदा और भौतिक कल्याण का संवर्धन होता है। जब प्राकृतिक संसाधन क्षीणता को संपदा पोर्टफोलियो के अन्य परिसंपत्तियों में निवेश नहीं किया जाता है तो इस क्षीणता की प्रतिपूर्ति करने में देशों की सकल बचत पर्याप्त नहीं हो सकती है जिसके कारण निवल बचत ऋणात्मक होती है। यद्यपि, उच्चतर सकल घरेलू उत्पाद वाले देशों में ऋणात्मक ए एन एस प्राप्त करने की संभावना कम होती है। यह तर्क दिया जाता है कि यदि सततता के संकेतक उच्च नहीं हैं ए. एन. एस अपोषणीयता के एक संकेतक के रूप में उपयोगी होगा। अतः ए.एन. एस. के अनुमान और संकल्पना निर्माण सीमाओं से मुक्त नहीं हैं।

समायोजित निवल बचत (ए एन एस) है:

1. प्रति व्यक्ति संपदा में परिवर्तन का परोक्षी
2. स्टॉक चर
3. प्रवाह चर
4. नीति-प्रभावित गतिशीलता को अभिग्रहण करने में असमर्थता

A1  
:

1

1

A2  
:

2

2

A3  
:

3

3

A4  
:

4

4

Objective Question

147 901097

GDP growth is the most widely used macroeconomic indicator for adjudicating broad economic progress. The outcomes from decisions made on the basis of such an indicator have been repeatedly disappointing because of failures to detect resource uses that turn out to be unsustainable. Adjusted Net Savings (ANS) provides a complementary indicator to help in understanding the changes in wealth and not per capita wealth, by capturing some of the important policy-induced dynamics. Based on the conventions of the System of National Accounts (SNA), ANS is measured as Gross National Saving minus depreciation of produced capital, depletion of subsoil assets and timber resources, and air pollution damages to human health, plus a credit for expenditures on education. If ANS is negative, the country running down its capital stocks and possibly reducing future material well-being. If ANS is positive the country is adding to wealth and future material well-being. When natural resource depletion is not used to invest in other assets in the wealth portfolio, countries gross saving might not be enough to compensate this depletion resulting in negative net savings. However, nations with higher GDP are far less likely to obtain negative ANS. It is argued that, if not a superior indicator of sustainability, ANS is useful to the extent that it can serve as an indicator of unsustainability. Hence, the estimates and conceptualization of ANS are not free from limitations.

Which of the following is not the constituent of ANS?

1. Public expenditures on education
2. Air pollution damage
3. Depletion of metals and minerals
4. Loss of biodiversity

निम्नलिखित गद्यांश को सावधानी पूर्वक पढ़िए और दिए गए प्रश्नों के उत्तर दीजिए :

सकल घरेलू उत्पाद वृद्धि का व्यापक रूप से सर्वाधिक प्रयोग विस्तृत आर्थिक प्रगति के निर्णय हेतु सूक्ष्म आर्थिक संकेतक के रूप में किया जाता है। ऐ संकेतक के आधार पर किए गए निर्णय के निष्कर्ष बार-बार निराश करते रहे हैं क्योंकि संसाधनों के प्रयोग की पहचान के असफलताओं के कारण वे अपोषणीय हो जाते हैं। समायोजित निवल बचत (ए एन एस) नीति-प्रभावित गतिकी के कुछ महत्वपूर्ण प्रश्नों को ग्रहण करते हुए संपदा में परिवर्तनों को कि प्रति व्यक्ति संपदा को समझने में सहायता के लिए एक पूरक संकेतक प्रदान करती है। राष्ट्रीय लेखा प्रणाली (एस.एन.ए.) की प्रचलित प्रथाओं पर आधारित विधियों के अनुसार, ए एन एस की माप सकल राष्ट्रीय बचत से पूंजीगत उत्पाद के अवमूल्यन, उप भू-परिसंपत्तियों और टिम्बर संसाधनों के अपक्षय और मानव स्वास्थ्य को क्षति पहुँचाने वाले वायु प्रदूषण को घटाकर और शिक्षा व्यय जमा को योजित करके की जाती है। यदि ए. एन.एस ऋणात्मक है तो देश का पूंजी भंडार कम हो रहा है और संभवतः भावी भौतिक कल्याण भी घटा रहा है। जब ए एन एस धनात्मक है तो देश की संपदा और भौतिक कल्याण का संवर्धन होता है। जब प्राकृतिक संसाधन क्षीणता को संपदा पोर्टफोलियो के अन्य परिसंपत्तियों में निवेश नहीं किया जाता है तो इस क्षीणता की प्रतिपूर्ति करने में देशों की सकल बचत पर्याप्त नहीं हो सकती है जिसके कारण निवल बचत ऋणात्मक होती है। यद्यपि, उच्चतर सकल घरेलू उत्पाद वाले देशों में ऋणात्मक ए एन एस प्राप्त करने की संभावना कम होती है। यह तर्क दिया जाता है कि यदि सततता के संकेतक उच्च नहीं हैं ए. एन. एस अपोषणीयता के एक संकेतक के रूप में उपयोगी होगा। अतः ए.एन. एस. के अनुमान और संकल्पना निर्माण सीमाओं से मुक्त नहीं हैं।

निम्नलिखित में कौन ए एन एस का संघटक नहीं है?

1. शिक्षा पर लोक व्यय
2. वायु प्रदूषण क्षति
3. धातुओं और खनिजों का अपक्षय
4. जैव विविधता का हास

A1  
:

1

1

A2  
:

2

2

A3  
:

3

3

A4  
:

4

4

Objective Question

148 901098

GDP growth is the most widely used macroeconomic indicator for adjudicating broad economic progress. The outcomes from decisions made on the basis of such an indicator have been repeatedly disappointing because of failures to detect resource uses that turn out to be unsustainable. Adjusted Net Savings (ANS) provides a complementary indicator to help in understanding the changes in wealth and not per capita wealth, by capturing some of the important policy-induced dynamics. Based on the conventions of the System of National Accounts (SNA), ANS is measured as Gross National Saving minus depreciation of produced capital, depletion of subsoil assets and timber resources, and air pollution damages to human health, plus a credit for expenditures on education. If ANS is negative, the country running down its capital stocks and possibly reducing future material well-being. If ANS is positive the country is adding to wealth and future material well-being. When natural resource depletion is not used to invest in other assets in the wealth portfolio, countries gross saving might not be enough to compensate this depletion resulting in negative net savings. However, nations with higher GDP are far less likely to obtain negative ANS. It is argued that, if not a superior indicator of sustainability, ANS is useful to the extent that it can serve as an indicator of unsustainability. Hence, the estimates and conceptualization of ANS are not free from limitations.

Which of the following explains the decline in ANS in countries with increasing GDP per capita?

1. Increasing proportion of private investment in an economy
2. Depleted assets not offset by sufficient investment in human and physical capital
3. Increasing gross saving rates
4. Increasing production of renewable natural capital

निम्नलिखित गद्यांश को सावधानी पूर्वक पढ़िए और दिए गए प्रश्नों के उत्तर दीजिए :

सकल घरेलू उत्पाद वृद्धि का व्यापक रूप से सर्वाधिक प्रयोग विस्तृत आर्थिक प्रगति के निर्णय हेतु सूक्ष्म आर्थिक संकेतक के रूप में किया जाता है। ऐ संकेतक के आधार पर किए गए निर्णय के निष्कर्ष बार-बार निराश करते रहे हैं क्योंकि संसाधनों के प्रयोग की पहचान के असफलताओं के कारण वे अपोषणीय हो जाते हैं। समायोजित निवल बचत (ए एन एस) नीति-प्रभावित गतिकी के कुछ महत्वपूर्ण प्रश्नों को ग्रहण करते हुए संपदा में परिवर्तनों को कि प्रति व्यक्ति संपदा को समझने में सहायता के लिए एक पूरक संकेतक प्रदान करती है। राष्ट्रीय लेखा प्रणाली (एस.एन.ए.) की प्रचलित प्रथाओं पर आधारित विधियों के अनुसार, ए एन एस की माप सकल राष्ट्रीय बचत से पूंजीगत उत्पाद के अवमूल्यन, उप भू-परिसंपत्तियों और टिम्बर संसाधनों के अपक्षय और मानव स्वास्थ्य को क्षति पहुँचाने वाले वायु प्रदूषण को घटाकर और शिक्षा व्यय जमा को योजित करके की जाती है। यदि ए. एन.एस ऋणात्मक है तो देश का पूँजी भंडार कम हो रहा है और संभवतः भावी भौतिक कल्याण भी घटा रहा है। जब ए एन एस धनात्मक है तो देश की संपदा और भौतिक कल्याण का संवर्धन होता है। जब प्राकृतिक संसाधन क्षीणता को संपदा पोर्टफोलियो के अन्य परिसंपत्तियों में निवेश नहीं किया जाता है तो इस क्षीणता की प्रतिपूर्ति करने में देशों की सकल बचत पर्याप्त नहीं हो सकती है जिसके कारण निवल बचत ऋणात्मक होती है। यद्यपि, उच्चतर सकल घरेलू उत्पाद वाले देशों में ऋणात्मक ए एन एस प्राप्त करने की संभावना कम होती है। यह तर्क दिया जाता है कि यदि सततता के संकेतक उच्च नहीं हैं ए. एन. एस अपोषणीयता के एक संकेतक के रूप में उपयोगी होगा। अतः ए.एन. एस. के अनुमान और संकल्पना निर्माण सीमाओं से मुक्त नहीं हैं।

प्रति व्यक्ति सकल घरेलू उत्पाद में सतत वृद्धि कर रहे देशों में ए एन एस में हास की व्याख्या निम्नलिखित में कौन करता है?

1. किसी अर्थव्यवस्था में निजी निवेश का बढ़ता समानुपात
2. अप क्षयित परिसंपत्तियाँ जो मानव तथा भौतिक पूँजी में पर्याप्त निवेश द्वारा अनुचित्रित न हो
3. सकल बचत दरों में वृद्धि
4. नवीकरणीय प्राकृतिक पूँजी के उत्पादन में वृद्धि

A1  
:

1

1

A2  
:

2

2

A3  
:

3

3

A4  
:

4

4

Objective Question

149 901099

GDP growth is the most widely used macroeconomic indicator for adjudicating broad economic progress. The outcomes from decisions made on the basis of such an indicator have been repeatedly disappointing because of failures to detect resource uses that turn out to be unsustainable. Adjusted Net Savings (ANS) provides a complementary indicator to help in understanding the changes in wealth and not per capita wealth, by capturing some of the important policy-induced dynamics. Based on the conventions of the System of National Accounts (SNA), ANS is measured as Gross National Saving minus depreciation of produced capital, depletion of subsoil assets and timber resources, and air pollution damages to human health, plus a credit for expenditures on education. If ANS is negative, the country is running down its capital stocks and possibly reducing future material well-being. If ANS is positive the country is adding to wealth and future material well-being. When natural resource depletion is not used to invest in other assets in the wealth portfolio, countries' gross saving might not be enough to compensate this depletion resulting in negative net savings. However, nations with higher GDP are far less likely to obtain negative ANS. It is argued that, if not a superior indicator of sustainability, ANS is useful to the extent that it can serve as an indicator of unsustainability. Hence, the estimates and conceptualization of ANS are not free from limitations.

Which of the following reflects the shortcomings of ANS?

1. It allows substitution between different forms of capital.
2. It is not a comprehensive indicator of per capita wealth.
3. It is influenced by the level of GDP of an economy.
4. All of the above

निम्नलिखित गद्यांश को सावधानी पूर्वक पढ़िए और दिए गए प्रश्नों के उत्तर दीजिए :

सकल घरेलू उत्पाद वृद्धि का व्यापक रूप से सर्वाधिक प्रयोग विस्तृत आर्थिक प्रगति के निर्णय हेतु सूक्ष्म आर्थिक संकेतक के रूप में किया जाता है। ऐ संकेतक के आधार पर किए गए निर्णय के निष्कर्ष बार-बार निराश करते रहे हैं क्योंकि संसाधनों के प्रयोग की पहचान के असफलताओं के कारण वे अपोषणीय हो जाते हैं। समायोजित निवल बचत (ए एन एस) नीति-प्रभावित गतिकी के कुछ महत्वपूर्ण प्रश्नों को ग्रहण करते हुए संपदा में परिवर्तनों को कि प्रति व्यक्ति संपदा को समझने में सहायता के लिए एक पूरक संकेतक प्रदान करती है। राष्ट्रीय लेखा प्रणाली (एस.एन.ए.) की प्रचलित प्रथाओं पर आधारित विधियों के अनुसार, ए एन एस की माप सकल राष्ट्रीय बचत से पूंजीगत उत्पाद के अवमूल्यन, उपभू-परिसंपत्तियों और टिम्बर संसाधनों के अपक्षय और मानव स्वास्थ्य को क्षति पहुँचाने वाले वायु प्रदूषण को घटाकर और शिक्षा व्यय जमा को योजित करके की जाती है। यदि ए. एन.एस ऋणात्मक है तो देश का पूंजी भंडार कम हो रहा है और संभवतः भावी भौतिक कल्याण भी घटा रहा है। जब ए एन एस धनात्मक है तो देश की संपदा और भौतिक कल्याण का संवर्धन होता है। जब प्राकृतिक संसाधन क्षीणता को संपदा पोर्टफोलियो के अन्य परिसंपत्तियों में निवेश नहीं किया जाता है तो इस क्षीणता की प्रतिपूर्ति करने में देशों की सकल बचत पर्याप्त नहीं हो सकती है जिसके कारण निवल बचत ऋणात्मक होती है। यद्यपि, उच्चतर सकल घरेलू उत्पाद वाले देशों में ऋणात्मक ए एन एस प्राप्त करने की संभावना कम होती है। यह तर्क दिया जाता है कि यदि सततता के संकेतक उच्च नहीं हैं ए. एन. एस अपोषणीयता के एक संकेतक के रूप में उपयोगी होगा। अतः ए.एन. एस. के अनुमान और संकल्पना निर्माण सीमाओं से मुक्त नहीं हैं।

निम्नलिखित में कौन ए एन एस की कमियों को प्रतिबिंबित करता है?

1. यह पूँजी के विभिन्न रूपों के बीच पूरक की अनुमति देता है।
2. यह प्रति व्यक्ति संपदा का एक व्यापक संकेतक नहीं है।
3. यह किसी अर्थव्यवस्था के सकल घरेलू उत्पाद के स्तर से प्रभावित होता है।
4. उपर्युक्त सभी

A1  
:

1

1

A2  
:

2

2

A3  
:

3

3

A4  
:

4

4

Objective Question

150 901100

GDP growth is the most widely used macroeconomic indicator for adjudicating broad economic progress. The outcomes from decisions made on the basis of such an indicator have been repeatedly disappointing because of failures to detect resource uses that turn out to be unsustainable. Adjusted Net Savings (ANS) provides a complementary indicator to help in understanding the changes in wealth and not per capita wealth, by capturing some of the important policy-induced dynamics. Based on the conventions of the System of National Accounts (SNA), ANS is measured as Gross National Saving minus depreciation of produced capital, depletion of subsoil assets and timber resources, and air pollution damages to human health, plus a credit for expenditures on education. If ANS is negative, the country is running down its capital stocks and possibly reducing future material well-being. If ANS is positive the country is adding to wealth and future material well-being. When natural resource depletion is not used to invest in other assets in the wealth portfolio, countries' gross saving might not be enough to compensate this depletion resulting in negative net savings. However, nations with higher GDP are far less likely to obtain negative ANS. It is argued that, if not a superior indicator of sustainability, ANS is useful to the extent that it can serve as an indicator of unsustainability. Hence, the estimates and conceptualization of ANS are not free from limitations.

The concept of ANS should at best be used to

1. guide ecologically optimal sustainable scale
2. serve as an indicator of unsustainability
3. replace GDP as a measure of economic progress
4. None of the above

निम्नलिखित गद्यांश को सावधानी पूर्वक पढ़िए और दिए गए प्रश्नों के उत्तर दीजिए :

सकल घरेलू उत्पाद वृद्धि का व्यापक रूप से सर्वाधिक प्रयोग विस्तृत आर्थिक प्रगति के निर्णय हेतु सूक्ष्म आर्थिक संकेतक के रूप में किया जाता है। ऐ संकेतक के आधार पर किए गए निर्णय के निष्कर्ष बार-बार निराश करते रहे हैं क्योंकि संसाधनों के प्रयोग की पहचान के असफलताओं के कारण वे अपोषणीय हो जाते हैं। समायोजित निवल बचत (ए एन एस) नीति-प्रभावित गतिकी के कुछ महत्वपूर्ण प्रश्नों को ग्रहण करते हुए संपदा में परिवर्तनों को कि प्रति व्यक्ति संपदा को समझने में सहायता के लिए एक पूरक संकेतक प्रदान करती है। राष्ट्रीय लेखा प्रणाली (एस.एन.ए.) की प्रचलित प्रथाओं पर आधारित विधियों के अनुसार, ए एन एस की माप सकल राष्ट्रीय बचत से पूंजीगत उत्पाद के अवमूल्यन, उपभू-परिसंपत्तियों और टिम्बर संसाधनों के अपक्षय और मानव स्वास्थ्य को क्षति पहुँचाने वाले वायु प्रदूषण को घटाकर और शिक्षा व्यय जमा को योजित करके की जाती है। यदि ए. एन.एस ऋणात्मक है तो देश का पूंजी भंडार कम हो रहा है और संभवतः भावी भौतिक कल्याण भी घटा रहा है। जब ए एन एस धनात्मक है तो देश की संपदा और भौतिक कल्याण का संवर्धन होता है। जब प्राकृतिक संसाधन क्षीणता को संपदा पोर्टफोलियो के अन्य परिसंपत्तियों में निवेश नहीं किया जाता है तो इस क्षीणता की प्रतिपूर्ति करने में देशों की सकल बचत पर्याप्त नहीं हो सकती है जिसके कारण निवल बचत ऋणात्मक होती है। यद्यपि, उच्चतर सकल घरेलू उत्पाद वाले देशों में ऋणात्मक ए एन एस प्राप्त करने की संभावना कम होती है। यह तर्क दिया जाता है कि यदि सततता के संकेतक उच्च नहीं हैं ए. एन. एस अपोषणीयता के एक संकेतक के रूप में उपयोगी होगा। अतः ए.एन. एस. के अनुमान और संकल्पना निर्माण सीमाओं से मुक्त नहीं हैं।

ए एन एस की अवधारण को किसके लिए सर्वोत्तम रूप में प्रयोग करना चाहिए

1. पारिस्थितिकीय इष्टतम सतत मापन का मार्गदर्शन
2. असततता के संकेतक के रूप में प्रयोग
3. आर्थिक प्रगति के माप के रूप में सकल घरेलू उत्पाद का प्रतिस्थापन
4. उपर्युक्त में कोई भी नहीं

A1

:

1

1

A2

:

2

2

A3

:

3

3

A4

:

4

4