

Test Date : 02 Mar 2023

Test Slot : Slot 2

Subject : 1-Economics / Rural Economics / Co-operation / Demography / Development Planning / Development Studies / Econometrics/ Applied Economics/Development Eco./Business Economics

**Paper I : 201-General Paper**

Sl. No.1

QBID:25201001

The following table shows the percentage distribution of people in a city working in the night shift, and the percentage distribution of females among them in six different industries, namely, IT, Sports, Call centre, Sales, Banking and Chemicals, respectively.

Total number of people in a city working in night shift is 80500. Based on the data in the table, answer the question :

**Industry-wise Percentage of People working in Night shift**

Industry	Distribution (%) of people working in the Night Shift (out of 80500)	Distribution (%) of females among the people working in the Night Shift.
IT	12%	20%
Sports	18%	20%
Call centre	32%	45%
Sales	8%	60%
Banking	14%	40%
Chemicals	16%	15%

निम्नलिखित तालिका में एक शहर में आईटी, खेल, काल सेंटर, विक्रय, बैंकिंग व रसायन नामक छह भिन्न-भिन्न उद्योगों में रात्रि पाली में कार्यरत व्यक्तियों का प्रतिशत वितरण और उनमें महिलाओं का प्रतिशत वितरण दर्शाया गया है। शहर में रात्रि पाली में कार्यरत व्यक्तियों की कुल संख्या 80500 है। तालिका में प्रदत्त आंकड़ों के आधार पर प्रश्न का उत्तर दीजिए :

रात्रि पाली में कार्यरत व्यक्तियों का उद्योगवार प्रतिशत

उद्योग	रात्रि पाली में कार्यरत व्यक्तियों का (80500 में से) वितरण (%)	रात्रि पाली में कार्यरत व्यक्तियों में महिलाओं का वितरण (%)
आईटी	12%	20%
खेल	18%	20%
काल सेंटर	32%	45%
विक्रय	8%	60%
बैंकिंग	14%	40%
रसायन	16%	15%

What is the ratio of the number of males to the number of females working in the night shift from the Call Centre industry ?

1. 9:11
2. 11:9
3. 11:7
4. 7:11

- (1) 1
- (2) 2
- (3) 3
- (4) 4

काल सेंटर उद्योग में रात्रि पाली में कार्यरत पुरुषों की संख्या का रात्रि पाली में कार्यरत महिलाओं की संख्या से क्या अनुपात है ?

1. 9:11
2. 11:9
3. 11:7
4. 7:11

- (1) 1
- (2) 2
- (3) 3
- (4) 4

1[Option ID=30501]  
 2[Option ID=30502]  
 3[Option ID=30503]  
 4[Option ID=30504]

Question Description : general\_paper\_genarel paper\_set 25\_english\_q1

Sl. No.2

QBID:25201002

The following table shows the percentage distribution of people in a city working in the night shift, and the percentage distribution of females among them in six different industries, namely, IT, Sports, Call centre, Sales, Banking and Chemicals, respectively.

Total number of people in a city working in night shift is 80500. Based on the data in the table, answer the question :

**Industry-wise Percentage of People working in Night shift**

Industry	Distribution (%) of people working in the Night Shift (out of 80500)	Distribution (%) of females among the people working in the Night Shift.
IT	12%	20%
Sports	18%	20%
Call centre	32%	45%
Sales	8%	60%
Banking	14%	40%
Chemicals	16%	15%

निम्नलिखित तालिका में एक शहर में आईटी, खेल, काल सेंटर, विक्रय, बैंकिंग व रसायन नामक छह भिन्न-भिन्न उद्योगों में रात्रि पाली में कार्यरत व्यक्तियों का प्रतिशत वितरण और उनमें महिलाओं का प्रतिशत वितरण दर्शाया गया है। शहर में रात्रि पाली में कार्यरत व्यक्तियों की कुल संख्या 80500 है। तालिका में प्रदत्त आंकड़ों के आधार पर प्रश्न का उत्तर दीजिए :

रात्रि पाली में कार्यरत व्यक्तियों का उद्योगवार प्रतिशत

उद्योग	रात्रि पाली में कार्यरत व्यक्तियों का (80500 में से) वितरण (%)	रात्रि पाली में कार्यरत व्यक्तियों में महिलाओं का वितरण (%)
आईटी	12%	20%
खेल	18%	20%
काल सेंटर	32%	45%
विक्रय	8%	60%
बैंकिंग	14%	40%
रसायन	16%	15%

What is the approximate average number of females working in the night shift from all the industries together ?

1. 4454
2. 8962
3. 6652
4. 5646

- (1) 1  
(2) 2  
(3) 3  
(4) 4

सभी उद्योगों को मिलाकर रात्रि पाली में कार्यरत महिलाओं की अनुमानित औसत संख्या कितनी है ?

1. 4454
2. 8962
3. 6652
4. 5646

- (1) 1  
(2) 2  
(3) 3  
(4) 4

1[Option ID=30505]  
2[Option ID=30506]  
3[Option ID=30507]  
4[Option ID=30508]

Question Description : general\_paper\_genarel paper\_set 25\_english\_q2

Sl. No.3

QBID:25201003

The following table shows the percentage distribution of people in a city working in the night shift, and the percentage distribution of females among them in six different industries, namely, IT, Sports, Call centre, Sales, Banking and Chemicals, respectively.

Total number of people in a city working in night shift is 80500. Based on the data in the table, answer the question :

**Industry-wise Percentage of People working in Night shift**

Industry	Distribution (%) of people working in the Night Shift (out of 80500)	Distribution (%) of females among the people working in the Night Shift.
IT	12%	20%
Sports	18%	20%
Call centre	32%	45%
Sales	8%	60%
Banking	14%	40%
Chemicals	16%	15%

निम्नलिखित तालिका में एक शहर में आईटी, खेल, काल सेंटर, विक्रय, बैंकिंग व रसायन नामक छह भिन्न-भिन्न उद्योगों में रात्रि पाली में कार्यरत व्यक्तियों का प्रतिशत वितरण और उनमें महिलाओं का प्रतिशत वितरण दर्शाया गया है। शहर में रात्रि पाली में कार्यरत व्यक्तियों की कुल संख्या 80500 है। तालिका में प्रदत्त आंकड़ों के आधार पर प्रश्न का उत्तर दीजिए :

रात्रि पाली में कार्यरत व्यक्तियों का उद्योगवार प्रतिशत

उद्योग	रात्रि पाली में कार्यरत व्यक्तियों का (80500 में से) वितरण (%)	रात्रि पाली में कार्यरत व्यक्तियों में महिलाओं का वितरण (%)
आईटी	12%	20%
खेल	18%	20%
काल सेंटर	32%	45%
विक्रय	8%	60%
बैंकिंग	14%	40%
रसायन	16%	15%

What is the total number of males working in the night shift from all the industries together ?

1. 56594
2. 51576
3. 57356
4. 53774

- (1) 1  
(2) 2  
(3) 3  
(4) 4

सभी उद्योगों को मिलाकर रात्रि पाली में कार्यरत पुरुषों की कुल संख्या कितनी है ?

1. 56594
2. 51576
3. 57356
4. 53774

- (1) 1  
(2) 2  
(3) 3  
(4) 4

1[Option ID=30509]  
2[Option ID=30510]  
3[Option ID=30511]  
4[Option ID=30512]

Question Description : general\_paper\_genarel paper\_set 25\_english\_q3

SI. No.4  
QBID:25201004

The following table shows the percentage distribution of people in a city working in the night shift, and the percentage distribution of females among them in six different industries, namely, IT, Sports, Call centre, Sales, Banking and Chemicals, respectively.

Total number of people in a city working in night shift is 80500. Based on the data in the table, answer the question :

**Industry-wise Percentage of People working in Night shift**

Industry	Distribution (%) of people working in the Night Shift (out of 80500)	Distribution (%) of females among the people working in the Night Shift.
IT	12%	20%
Sports	18%	20%
Call centre	32%	45%
Sales	8%	60%
Banking	14%	40%
Chemicals	16%	15%

निम्नलिखित तालिका में एक शहर में आईटी, खेल, काल सेंटर, विक्रय, बैंकिंग व रसायन नामक छह भिन्न-भिन्न उद्योगों में रात्रि पाली में कार्यरत व्यक्तियों का प्रतिशत वितरण और उनमें महिलाओं का प्रतिशत वितरण दर्शाया गया है। शहर में रात्रि पाली में कार्यरत व्यक्तियों की कुल संख्या 80500 है। तालिका में प्रदत्त आंकड़ों के आधार पर प्रश्न का उत्तर दीजिए :

रात्रि पाली में कार्यरत व्यक्तियों का उद्योगवार प्रतिशत

उद्योग	रात्रि पाली में कार्यरत व्यक्तियों का (80500 में से) वितरण (%)	रात्रि पाली में कार्यरत व्यक्तियों में महिलाओं का वितरण (%)
आईटी	12%	20%
खेल	18%	20%
काल सेंटर	32%	45%
विक्रय	8%	60%
बैंकिंग	14%	40%
रसायन	16%	15%

The number of females working in the night shift form the sports industry is \_\_\_\_\_% of the total number of people working in the night shift from all the industries together ?

1. 5.6
2. 3.6
3. 3.2
4. 4.4

- (1) 1  
(2) 2  
(3) 3  
(4) 4

खेल उद्योग में रात्रि पाली में कार्यरत महिलाओं की संख्या सभी उद्योगों में मिलाकर रात्रि पाली में कार्यरत व्यक्तियों की कुल संख्या का कितने प्रतिशत है ?

1. 5.6
2. 3.6
3. 3.2
4. 4.4

- (1) 1  
(2) 2  
(3) 3  
(4) 4

1[Option ID=30513]  
2[Option ID=30514]  
3[Option ID=30515]  
4[Option ID=30516]

Question Description : general\_paper\_genarel paper\_set 25\_english\_q4

Sl. No.5  
QBID:25201005

The following table shows the percentage distribution of people in a city working in the night shift, and the percentage distribution of females among them in six different industries, namely, IT, Sports, Call centre, Sales, Banking and Chemicals, respectively.

Total number of people in a city working in night shift is 80500. Based on the data in the table, answer the question :

**Industry-wise Percentage of People working in Night shift**

Industry	Distribution (%) of people working in the Night Shift (out of 80500)	Distribution (%) of females among the people working in the Night Shift.
IT	12%	20%
Sports	18%	20%
Call centre	32%	45%
Sales	8%	60%
Banking	14%	40%
Chemicals	16%	15%

निम्नलिखित तालिका में एक शहर में आईटी, खेल, काल सेंटर, विक्रय, बैंकिंग व रसायन नामक छह भिन्न-भिन्न उद्योगों में रात्रि पाली में कार्यरत व्यक्तियों का प्रतिशत वितरण और उनमें महिलाओं का प्रतिशत वितरण दर्शाया गया है। शहर में रात्रि पाली में कार्यरत व्यक्तियों की कुल संख्या 80500 है। तालिका में प्रदत्त आंकड़ों के आधार पर प्रश्न का उत्तर दीजिए :

रात्रि पाली में कार्यरत व्यक्तियों का उद्योगवार प्रतिशत

उद्योग	रात्रि पाली में कार्यरत व्यक्तियों का (80500 में से) वितरण (%)	रात्रि पाली में कार्यरत व्यक्तियों में महिलाओं का वितरण (%)
आईटी	12%	20%
खेल	18%	20%
काल सेंटर	32%	45%
विक्रय	8%	60%
बैंकिंग	14%	40%
रसायन	16%	15%

What is the difference between the total number of males and the total number of females working in the night shift from all the industries together ?

1. 26508
2. 27084
3. 27048
4. 26726

- (1) 1  
(2) 2  
(3) 3  
(4) 4

सभी उद्योगों में मिलाकर रात्रि पाली में कार्यरत पुरुषों की कुल संख्या व महिलाओं की कुल संख्या के बीच का अंतर कितना है ?

1. 26508
2. 27084
3. 27048
4. 26726

- (1) 1  
(2) 2  
(3) 3  
(4) 4

1[Option ID=30517]  
2[Option ID=30518]  
3[Option ID=30519]  
4[Option ID=30520]

Question Description : general\_paper\_genarel paper\_set 25\_english\_q5

Sl. No.6  
QBID:25201006

In which of the following ways Padlet (online tool) can be used ?

- A. For creating virtual wall
- B. For uploading the files
- C. For collaborative work
- D. For posting the pictures and texts

Choose the most appropriate answer from the options given below :

- 1. A and D Only
- 2. B and C Only
- 3. C and D Only
- 4. A, B, C and D

(1) 1

(2) 2

(3) 3

(4) 4

निम्नलिखित में से किन तरीकों के लिए पैडलेट (आनलाइन उपकरण) का प्रयोग किया जा सकता है ?

- A. आभासी दीवार निर्मित करने के लिए
- B. फाइलों को अपलोड करने के लिए
- C. सहयोगात्मक कार्य के लिए
- D. चित्रों एवं पाठों (टेक्स्ट) को पोस्ट (भेजने) करने के लिए

नीचे दिए गए विकल्पों में सबसे उपयुक्त उत्तर का चयन कीजिए:

- 1. केवल A और D
- 2. केवल B और C
- 3. केवल C और D
- 4. A, B, C और D

(1) 1

(2) 2

(3) 3

(4) 4

1[Option ID=30521]  
2[Option ID=30522]  
3[Option ID=30523]  
4[Option ID=30524]

Question Description : general\_paper\_genarel paper\_set 25\_english\_q6

Sl. No.7

QBID:25201007

Given below are two statements :

**Statement I :** GSAT-30 satellite is used by Swayamprabha for the programme telecasts on the DTH channels.

**Statement II :** The Programs of Swayamprabha are available on 24×7 basis.

In the light of the above statements, choose the most appropriate answer from the options given below :

- 1. Both Statement I and Statement II are correct.
- 2. Both Statement I and Statement II are incorrect.
- 3. Statement I is correct but Statement II is incorrect.
- 4. Statement I is incorrect but Statement II is correct.

(1) 1

(2) 2

(3) 3

(4) 4

नीचे दो कथन दिए गए हैं:

**कथन I :** जी सैट (GSAT)-30 सैटलाइट का प्रयोग स्वयंप्रभा द्वारा डीटीएच चैनलों पर कार्यक्रमों को प्रसारित करने के लिए किया जाता है ।

**कथन II :** स्वयंप्रभा के कार्यक्रम 24×7 के आधार पर उपलब्ध हैं ।

उपरोक्त कथन के आलोक में, नीचे दिए गए विकल्पों में से सबसे उपयुक्त उत्तर का चयन कीजिए:

- 1. कथन I और II दोनों सही हैं ।
- 2. कथन I और II दोनों गलत हैं ।
- 3. कथन I सही है, लेकिन कथन II गलत है ।
- 4. कथन I गलत है, लेकिन कथन II सही है ।

(1) 1

(2) 2

(3) 3

(4) 4

1[Option ID=30525]  
2[Option ID=30526]  
3[Option ID=30527]  
4[Option ID=30528]

Question Description : general\_paper\_genarel paper\_set 25\_english\_q7

Sl. No.8

QBID:25201008

Which period of learning shows no improvement in learning curve?

1. Irregular progress
2. Spurts
3. Plateau
4. Initial Stage

(1) 1

(2) 2

(3) 3

(4) 4

अधिगम वक्र में निम्नलिखित में से कौन सा काल उन्नति का काल नहीं है ?

1. अनियमित प्रगति
2. लहर (स्पर्ट)
3. प्लेट्यू
4. आरंभिक अवस्था

(1) 1

(2) 2

(3) 3

(4) 4

1[Option ID=30529]  
2[Option ID=30530]  
3[Option ID=30531]  
4[Option ID=30532]

Question Description : general\_paper\_genarel paper\_set 25\_english\_q8

Sl. No.9

QBID:25201009

According to Herbart, arrange the elements of Pedagogy of teaching and learning in a sequence ?

- A. Preparation
- B. Association
- C. Presentation
- D. Application
- E. Generalisation

Choose the correct answer from the options given below :

1. B, A, C, D, E
2. C, A, E, B, D
3. A, C, B, E, D
4. B, A, C, E, D

(1) 1

(2) 2

(3) 3

(4) 4

हर्बर्ट के अनुसार, शिक्षण एवं अधिगम के शिक्षाशास्त्र संबंधी तत्वों को अनुक्रम में व्यवस्थित कीजिए :

- A. तैयारी
- B. साहचर्य
- C. प्रस्तुतिकरण
- D. अनुप्रयोग
- E. सामान्यीकरण

नीचे दिए गए विकल्पों में से सही उत्तर का चयन कीजिए :

1. B, A, C, D, E
2. C, A, E, B, D
3. A, C, B, E, D
4. B, A, C, E, D

(1) 1

(2) 2

(3) 3

(4) 4

1[Option ID=30533]  
2[Option ID=30534]  
3[Option ID=30535]  
4[Option ID=30536]

Question Description : general\_paper\_genarel paper\_set 25\_english\_q9

Sl. No.10

QBID:25201010

Given below are two Statements :

**Statement I :** Entry behaviour implies the activities and responses of the learners after the completion of the teaching -learning process.

**Statement II :** Terminal behaviour implies the activities of the learners prior to the teaching-learning process.

In the light of the above statements, choose the most appropriate answer from the options given below :

1. Both Statement I and Statement II are correct.
2. Both Statement I and Statement II are incorrect.
3. Statement I is correct but Statement II is incorrect.
4. Statement I is incorrect but Statement II is correct.

(1) 1

(2) 2

(3) 3

(4) 4

नीचे दो कथन दिए गए हैं:

**कथन I :** प्रविष्टि व्यवहार का आशय शिक्षण-अधिगम प्रक्रिया पूर्ण करने के उपरांत अधिगमकर्ताओं के कार्यकलापों एवं अनुक्रियाओं से है।

**कथन II :** अंतस्थ व्यवहार का आशय शिक्षण - अधिगम प्रक्रिया के पूर्व अधिगमकर्ताओं द्वारा की जाने वाली गतिविधियों से है।

उपरोक्त कथन के आलोक में, नीचे दिए गए विकल्पों में से सबसे उपयुक्त उत्तर का चयन कीजिए:

1. कथन I और II दोनों सही हैं।
2. कथन I और II दोनों गलत हैं।
3. कथन I सही है, लेकिन कथन II गलत है।
4. कथन I गलत है, लेकिन कथन II सही है।

(1) 1

(2) 2

(3) 3

(4) 4

1[Option ID=30537]  
2[Option ID=30538]  
3[Option ID=30539]  
4[Option ID=30540]

Question Description : general\_paper\_genarel paper\_set 25\_english\_q10

Sl. No.11

QBID:25201011

When in a process of reasoning observation is followed by theory, hypotheses and interpretation, that approach to research is known as

1. Formulative
2. Standardised
3. Inductive
4. Deductive

(1) 1

(2) 2

(3) 3

(4) 4

जब तर्कणा की एक प्रक्रिया में प्रेक्षण के बाद सिद्धांत, प्राक्कल्पना और व्याख्या आते हैं तो शोध के प्रति इस उपागम को किस रूप में जाना जाता है ?

1. निर्माणात्मक
2. मानकीकृत
3. आगमनात्मक
4. निगमनात्मक

(1) 1

(2) 2

(3) 3

(4) 4

1[Option ID=30541]  
2[Option ID=30542]

Question Description : general\_paper\_genarel paper\_set 25\_english\_q11



3[Option ID=30543]  
4[Option ID=30544]

Sl. No.12  
QBID:25201012

If research is done to find out behaviours and attitudes by analysing existing records and other materials, it is known as

1. Past research
2. Non-observational research
3. Non-participant research
4. Archival research

- (1) 1  
(2) 2  
(3) 3  
(4) 4

यदि विद्यमान अभिलेखों और अन्य सामग्री के विश्लेषण द्वारा व्यवहार और अभिवृत्तियों का पता लगाने के लिए शोध किया जाता है तो यह किस रूप में जाना जाता है ?

1. विगत शोध
2. गैर-प्रेक्षणात्मक शोध
3. गैर-प्रतिभागी शोध
4. पुरालेखीय शोध

- (1) 1  
(2) 2  
(3) 3  
(4) 4

1[Option ID=30545] Question Description : general\_paper\_genarel paper\_set 25\_english\_q12  
2[Option ID=30546]  
3[Option ID=30547]  
4[Option ID=30548]

Sl. No.13  
QBID:25201013

If the dress of a person does not reflect or predict his voting behaviour, the assumption is of

1. Positive correlation
2. Zero correlation
3. Partial correlation
4. Fragmented correlation

- (1) 1  
(2) 2  
(3) 3  
(4) 4

यदि एक व्यक्ति की पोशाक उसके मतदान व्यवहार को प्रतिबिम्बित या पूर्वानुमित नहीं करती है तो यह किसके बारे में पूर्वधारणा है ?

1. सकारात्मक सहसंबंध
2. शून्य सहसंबंध
3. आंशिक सहसंबंध
4. खंडित सहसंबंध

- (1) 1  
(2) 2  
(3) 3  
(4) 4

1[Option ID=30549] Question Description : general\_paper\_genarel paper\_set 25\_english\_q13  
2[Option ID=30550]  
3[Option ID=30551]  
4[Option ID=30552]

Sl. No.14  
QBID:25201014

Which of the following are advantages of web-based research ?

- A. It saves time.
- B. The participant can engage in the task at his /her convenience.
- C. The data collection is automatic and accurate.
- D. It demands a small sample.
- E. The participants are heavily paid.

Choose the correct answer from the options given below :

- 1. A, B, C Only
- 2. B, C, D Only
- 3. C, D, E Only
- 4. A, D, E Only

- (1) 1
- (2) 2
- (3) 3
- (4) 4

वेब - आधारित शोध के निम्नलिखित में से कौन से लाभ हैं ?

- A. इसमें समय की बचत होती है ।
- B. इसमें प्रतिभागी अपनी सुविधानुसार कार्य में जुट सकता है ।
- C. इसमें दत्त संग्रह स्वतः और यथातथ्य होता है ।
- D. इसमें लघु प्रतिचयन आवश्यक हैं ।
- E. प्रतिभागियों को अत्याधिक भुगतान किया जाता है ।

नीचे दिए गए विकल्पों में से सही उत्तर का चयन कीजिए :

- 1. केवल A, B, C
- 2. केवल B, C, D
- 3. केवल C, D, E
- 4. केवल A, D, E

- (1) 1
- (2) 2
- (3) 3
- (4) 4

1[Option ID=30553]  
2[Option ID=30554]  
3[Option ID=30555]  
4[Option ID=30556]

Question Description : general\_paper\_genarel paper\_set 25\_english\_q14

Sl. No.15  
QBID:25201015

Given below are two statements :

**Statement I :** Survey research has the advantage of sampling a large number of respondents who are selected for research.

**Statement II :** Researchers, to administer their own surveys, do not have many options except to do it themselves.

In the light of the above statements, choose the correct answer from the options given below :

- 1. Both Statement I and Statement II are true.
- 2. Both Statement I and Statement II are false.
- 3. Statement I is true but Statement II is false.
- 4. Statement I is false but Statement II is true.

- (1) 1
- (2) 2
- (3) 3
- (4) 4

नीचे दो कथन दिए गए हैं:

**कथन I :** सर्वेक्षण शोध में उन जवाबदाताओं की अधिक बड़ी संख्या में प्रतिचयन का लाभ होता है, जिनका शोध के लिए चयन किया जाता है।

**कथन II :** अपने स्वयं के सर्वेक्षण का प्रबंधन करने वाले शोधकर्ताओं के समक्ष स्वयं द्वारा इसे करने को छोड़ कर अनेक विकल्प नहीं होते हैं।

उपरोक्त कथन के आलोक में, नीचे दिए गए विकल्पों में सही उत्तर का चयन कीजिए:

1. कथन I और II दोनों सत्य हैं।
2. कथन I और II दोनों असत्य हैं।
3. कथन I सत्य है, लेकिन कथन II असत्य है।
4. कथन I असत्य है, लेकिन कथन II सत्य है।

(1) 1

(2) 2

(3) 3

(4) 4

1[Option ID=30557]

Question Description : general\_paper\_genarel paper\_set 25\_english\_q15

2[Option ID=30558]

3[Option ID=30559]

4[Option ID=30560]

Sl. No.16

QBID:25201016

People perceive the communicated messages according to their

1. Official status
2. Cultural values
3. Imagined influences
4. Semantic gaps

(1) 1

(2) 2

(3) 3

(4) 4

लोग सम्प्रेषित संदेशों को निम्नलिखित में से किसके अनुसार देखते हैं ?

1. अधिकारिक प्रस्थिति
2. सांस्कृतिक मूल्य
3. कल्पित प्रभाव (इमेजिन्ड इनफ्लुएंस)
4. शब्दार्थ अंतर (सेमान्टिक गैप्स)

(1) 1

(2) 2

(3) 3

(4) 4

1[Option ID=30561]

Question Description : general\_paper\_genarel paper\_set 25\_english\_q16

2[Option ID=30562]

3[Option ID=30563]

4[Option ID=30564]

Sl. No.17

QBID:25201017

The doctrine of individualism, a political concept in communication, is identified as a/an

1. Formula
2. Economic indicator
3. Institutional background
4. Ideology

(1) 1

(2) 2

(3) 3

(4) 4

सम्प्रेषण में एक राजनीतिक अवधारणा - व्यक्तिवाद के सिद्धांत की किस रूप में पहचान की जाती है ?

1. फॉर्मूला (सूत्र)
2. आर्थिक संकेतक
3. संस्थानिक पृष्ठभूमि
4. विचारधारा

(1) 1

(2) 2

(3) 3

(4) 4

1[Option ID=30565]

Question Description : general\_paper\_genarel paper\_set 25\_english\_q17

2[Option ID=30566]

3[Option ID=30567]

4[Option ID=30568]

SI. No.18

QBID:25201018

The behaviouristic model of communication asserts that

- A. Behaviours are learnt in social situations
- B. Behaviours are learnt in external situations only
- C. The mental state of individual is important
- D. The mental state of individual is unimportant
- E. Communication techniques for cultural change include both verbal and non-verbal messages.

Choose the most appropriate answer from the options given below :

1. A, B, C Only
2. B, C, D Only
3. A, C, E Only
4. C, D, E Only

(1) 1

(2) 2

(3) 3

(4) 4

सम्प्रेषण में व्यवहारवादी मॉडल (निदर्श) किन पर बल देता है ?

- A. व्यवहार सामाजिक स्थितियों में सीखे जाते हैं ।
- B. व्यवहार केवल बाह्य स्थितियों में सीखे जाते हैं ।
- C. व्यक्ति की मानसिक स्थिति महत्वपूर्ण है ।
- D. व्यक्ति की मानसिक स्थिति अमहत्वपूर्ण है ।
- E. सांस्कृतिक परिवर्तन के लिए सम्प्रेषण तकनीकों में मौखिक और अमौखिक संदेश दोनों सम्मिलित हैं ।

नीचे दिए गए विकल्पों में से सबसे उपयुक्त उत्तर का चयन कीजिए :

1. केवल A, B, C
2. केवल B, C, D
3. केवल A, C, E
4. केवल C, D, E

(1) 1

(2) 2

(3) 3

(4) 4

1[Option ID=30569]

Question Description : general\_paper\_genarel paper\_set 25\_english\_q18

2[Option ID=30570]

3[Option ID=30571]

4[Option ID=30572]

SI. No.19

QBID:25201019

The elements as related to communication in the ancient paradigm of everyday life are

- A. Physiological
- B. Economic
- C. Ethical
- D. Self-realisation
- E. Ego clashes

Choose the most appropriate answer from the options given below :

- 1. A, B, C, D Only
- 2. B, C, D, E Only
- 3. A, C, D, E Only
- 4. A, B, D, E Only

(1) 1

(2) 2

(3) 3

(4) 4

दैनिक जीवन के प्राचीन प्रतिमान (पैराडाइम) में सम्प्रेषण से संबंधित कौन से तत्व हैं ?

- A. शरीर क्रियात्मक
- B. आर्थिक
- C. नीतिपरक (एथिकल)
- D. आत्म-सिद्धि
- E. अहम् के टकराव

नीचे दिए गए विकल्पों में सबसे उपयुक्त उत्तर का चयन कीजिए :

- 1. केवल A, B, C, D
- 2. केवल B, C, D, E
- 3. केवल A, C, D, E
- 4. केवल A, B, D, E

(1) 1

(2) 2

(3) 3

(4) 4

1[Option ID=30573]  
2[Option ID=30574]  
3[Option ID=30575]  
4[Option ID=30576]

Question Description : general\_paper\_genarel paper\_set 25\_english\_q19

Sl. No.20

QBID:25201020

Given below are two statements :

**Statement I :** By supplying facts and opinions, mass media enable the audience to make decisions.

**Statement II :** Mass media should suppress facts and opinions in order to influence the government decisions.

In the light of the above statements, choose the correct answer from the options given below :

- 1. Both Statement I and Statement II are true.
- 2. Both Statement I and Statement II are false.
- 3. Statement I is true but Statement II is false.
- 4. Statement I is false but Statement II is true.

(1) 1

(2) 2

(3) 3

(4) 4

नीचे दो कथन दिए गए हैं:

**कथन I :** जनसंचार माध्यम (मास मीडिया) तथ्यों और अभिमतों की आपूर्ति कर आग्राहकों (ऑडियंस) को निर्णय लेने में सक्षम बनाते हैं ।

**कथन II :** मास मीडिया द्वारा सरकारी निर्णयों को प्रभावित करने के लिए तथ्यों और अभिमतों को दबाया छिपाया (सप्रेस) जाना चाहिए ।

उपरोक्त कथन के आलोक में, नीचे दिए गए विकल्पों में सही उत्तर का चयन कीजिए:

- 1. कथन I और II दोनों सत्य हैं ।
- 2. कथन I और II दोनों असत्य हैं ।
- 3. कथन I सत्य है, लेकिन कथन II असत्य है ।
- 4. कथन I असत्य है, लेकिन कथन II सत्य है ।

- (1) 1
- (2) 2
- (3) 3
- (4) 4

1[Option ID=30577] Question Description : general\_paper\_genarel paper\_set 25\_english\_q20  
2[Option ID=30578]  
3[Option ID=30579]  
4[Option ID=30580]

SI. No.21  
QBID:25201021

A, B, C and D are all distinct individuals. The details of their relationships are given as :

- i. A is the daughter of B
- ii. B is the son of C
- iii. C is the Father of D

Which of the following statements is true ?

1. C is the Uncle of A
2. D and B are cousins
3. A is the daughter of D
4. If P is the daughter of B, then A and P are sisters.

- (1) 1
- (2) 2
- (3) 3
- (4) 4

A, B, C और D सभी पृथक - पृथक व्यक्ति हैं। उनके संबंधों का विवरण निम्नानुसार हैं :

- i. B की पुत्री A है
- ii. C का पुत्र B है
- iii. D का पिता C है

निम्नलिखित में से कौन सा कथन सही है ?

1. A का अंकल C है।
2. D और B कज़िन हैं।
3. D की पुत्री A है।
4. यदि B की पुत्री P है, तो A और P बहनें हैं।

- (1) 1
- (2) 2
- (3) 3
- (4) 4

1[Option ID=30581] Question Description : general\_paper\_genarel paper\_set 25\_english\_q21  
2[Option ID=30582]  
3[Option ID=30583]  
4[Option ID=30584]

SI. No.22  
QBID:25201022

In a group of 2100 persons comprising of players and their coaches, there is a coach for every fourteen players. How many coaches are there in the group ?

1. 145
2. 120
3. 140
4. 150

- (1) 1
- (2) 2
- (3) 3
- (4) 4

2100 व्यक्तियों के एक समूह में खिलाड़ी और उनके प्रशिक्षक (कोच) हैं। प्रत्येक चौदह खिलाड़ियों पर एक प्रशिक्षक है। समूह में कुल कितने प्रशिक्षक हैं ?

1. 145
2. 120
3. 140
4. 150

- (1) 1
- (2) 2
- (3) 3
- (4) 4

1[Option ID=30585] Question Description : general\_paper\_genarel paper\_set 25\_english\_q22  
2[Option ID=30586]  
3[Option ID=30587]  
4[Option ID=30588]

Sl. No.23  
QBID:25201023

What number would replace question mark (?) in the series given below ?  
1, 5, 11, 19, 29, 41, 55, ?

- 1. 71
- 2. 96
- 3. 69
- 4. 67

- (1) 1
- (2) 2
- (3) 3
- (4) 4

नीचे दी गई श्रृंखला में कौन सी संख्या प्रश्नवाचक चिन्ह (?) को प्रतिस्थापित करेगी ?

1, 5, 11, 19, 29, 41, 55, ?

- 1. 71
- 2. 96
- 3. 69
- 4. 67

- (1) 1
- (2) 2
- (3) 3
- (4) 4

1[Option ID=30589] Question Description : general\_paper\_genarel paper\_set 25\_english\_q23  
2[Option ID=30590]  
3[Option ID=30591]  
4[Option ID=30592]

Sl. No.24  
QBID:25201024

Karan was born 3 years after his parent's marriage. His father is 6 years older than his mother but 26 years older than Karan who is 12 years of age as on today. At what age did his mother get married ?

- 1. 20 years
- 2. 19 years
- 3. 17 years
- 4. 18 years

- (1) 1
- (2) 2
- (3) 3
- (4) 4

करन का जन्म उसके माता-पिता के विवाह के 3 वर्ष पश्चात हुआ था । उसके पिता उसकी माता से 6 वर्ष बड़े हैं परन्तु वे करन से, 26 वर्ष बड़े हैं, जो आज की तारीख में 12 वर्ष की आयु का है । उसकी माता का विवाह किस आयु में हुआ था ?

- 1. 20 वर्ष
- 2. 19 वर्ष
- 3. 17 वर्ष
- 4. 18 वर्ष

- (1) 1
- (2) 2
- (3) 3
- (4) 4

1[Option ID=30593] Question Description : general\_paper\_genarel paper\_set 25\_english\_q24  
2[Option ID=30594]

3[Option ID=30595]  
4[Option ID=30596]

Sl. No.25  
QBID:25201025

A student was asked to divide half of a number by 5 and the other half by 3 and then add the two quantities. Instead of doing all this the student divides the given number by 4 which results into 5 short of the correct value. What is the initial number ?

1. 300
2. 400
3. 350
4. 450

- (1) 1  
(2) 2  
(3) 3  
(4) 4

एक विद्यार्थी से एक संख्या के आधे भाग को 5 से विभाजित करने और दूसरे अर्ध भाग को 3 से विभाजित कर तत्पश्चात दोनों मात्राओं का योग करने के लिए कहा गया। यह सब करने के स्थान पर विद्यार्थी ने प्रदत्त संख्या को 4 से विभाजित किया जिसका परिणाम सही मूल्य से 5 कम था। आरंभिक संख्या कौन सी हैं ?

1. 300
2. 400
3. 350
4. 450

- (1) 1  
(2) 2  
(3) 3  
(4) 4

1[Option ID=30597]  
2[Option ID=30598]  
3[Option ID=30599]  
4[Option ID=30600]

Question Description : general\_paper\_genarel paper\_set 25\_english\_q25

Sl. No.26  
QBID:25201026

Which logical fallacy is committed in the following argument - "Atheists have not proven that God does not exist. Therefore we can conclude that God exists".

1. Ad hominem
2. Appeal to Ignorance
3. Hasty Generalisation
4. Slippery Slope

- (1) 1  
(2) 2  
(3) 3  
(4) 4

निम्नलिखित युक्ति में कौन सा तार्किक दोष है - "नास्तिकवादियों ने यह प्रमाणित नहीं किया है कि ईश्वर का अस्तित्व नहीं है। इसलिए, हम निष्कर्ष निकाल सकते हैं कि ईश्वर का अस्तित्व है।"

1. व्यक्ति विशेष के लिए (एड होमिनेम)
2. पराज्ञानमूलक युक्ति (अपील टू ईग्नोरेंस)
3. अविचारी सामान्यीकरण
4. फिसलनयुक्त ढलान

- (1) 1  
(2) 2  
(3) 3  
(4) 4

1[Option ID=30601]  
2[Option ID=30602]  
3[Option ID=30603]  
4[Option ID=30604]

Question Description : general\_paper\_genarel paper\_set 25\_english\_q26

Sl. No.27  
QBID:25201027



"Since all professors are competent, and no competent people are underpaid. Therefore no professors are underpaid". Which formal fallacy is committed in the above argument ?

1. Undistributed middle
2. Affirming the consequent
3. Denying the antecedent
4. Existential fallacy

(1) 1

(2) 2

(3) 3

(4) 4

“चूंकी सभी प्रोफेसर समक्ष हैं, और कोई भी समक्ष व्यक्ति अल्पवैतनिक नहीं है। इसलिए, कोई भी प्रोफेसर अल्पवैतनिक नहीं है।” उपर्युक्त युक्ति में कौन सा तर्क-दोष है ?

1. अव्याप्त हेतु
2. फलवाक्य - विधान
3. हेतुवाक्य-निषेध
4. अस्तित्वपरक तर्क-दोष

(1) 1

(2) 2

(3) 3

(4) 4

1[Option ID=30605]

Question Description : general\_paper\_genarel paper\_set 25\_english\_q27

2[Option ID=30606]

3[Option ID=30607]

4[Option ID=30608]

Sl. No.28

QBID:25201028

Which of the following statements are logically equivalent ?

- A. No philosophers are underpaid scholars.
- B. All Philosophers are non-underpaid scholars.
- C. No underpaid scholars are philosophers.
- D. All non-underpaid scholars are non-philosophers.

Choose the correct answer from the options given below :

1. A, B, and C Only
2. C and D Only
3. B and D Only
4. A, B and D Only

(1) 1

(2) 2

(3) 3

(4) 4

निम्नलिखित में से कौन से कथन तार्किक रूप से समतुल्य हैं ?

- A. कोई भी दर्शनशास्त्री अल्पवैतनिक अध्येता नहीं हैं।
- B. सभी दर्शनशास्त्री गैर-अल्पवैतनिक अध्येता हैं।
- C. कोई भी अल्प-वैतनिक अध्येता दर्शनशास्त्री नहीं है।
- D. सभी गैर-अल्पवैतनिक अध्येता गैर-दर्शनशास्त्री हैं।

नीचे दिए गए विकल्पों में से सही उत्तर का चयन कीजिए :

1. केवल A, B और C
2. केवल C और D
3. केवल B और D
4. केवल A, B और D

(1) 1

(2) 2

(3) 3

(4) 4

1[Option ID=30609]

Question Description : general\_paper\_genarel paper\_set 25\_english\_q28

2[Option ID=30610]

3[Option ID=30611]

4[Option ID=30612]

Sl. No.29

QBID:25201029

Which of the following statements can neither be both true, nor can they both be together false ?

- A. All bread is nutritious.
- B. Some bread is nutritious.
- C. Some bread is not nutritious.
- D. No bread is nutritious.

Choose the correct answer from the options given below :

1. A and B Only
2. A and C Only
3. A and D Only
4. C and D Only

(1) 1

(2) 2

(3) 3

(4) 4

निम्नलिखित में से कौन से कथन न तो दोनों एकसाथ सत्य हो सकते हैं और न ही वे दोनों एक साथ असत्य हो सकते हैं ?

- A. सभी ब्रेड पोषक हैं ।
- B. कुछ ब्रेड पोषक हैं ।
- C. कुछ ब्रेड पोषक नहीं हैं ।
- D. कोई भी ब्रेड पोषक नहीं है ।

नीचे दिए गए विकल्पों में से सही उत्तर का चयन कीजिए :

1. केवल A और B
2. केवल A और C
3. केवल A और D
4. केवल C और D

(1) 1

(2) 2

(3) 3

(4) 4

1[Option ID=30613]

Question Description : general\_paper\_genarel paper\_set 25\_english\_q29

2[Option ID=30614]

3[Option ID=30615]

4[Option ID=30616]

Sl. No.30

QBID:25201030

According to classical Indian school of Logic (Nyāya) which of the following statements commits the fallacy of viruddha ?

1. Sound is eternal, because it is produced.
2. Wherever there is fire, there is smoke.
3. The hill has fire because it is knowable.
4. Sound is eternal because it is audible.

(1) 1

(2) 2

(3) 3

(4) 4

शास्त्रीय भारतीय तर्क-मत (न्याय) के अनुसार निम्नलिखित में से किस कथन में विरुद्ध तर्क-दोष है ?

1. ध्वनि शाश्वत है क्योंकि यह उत्पन्न होती है ।
2. जहां कहीं अग्नि है, वहां धुआं है ।
3. पहाड़ी में अग्नि है क्योंकि यह ज्ञेय है ।
4. ध्वनि शाश्वत है क्योंकि यह श्रव्य है ।

(1) 1

(2) 2

(3) 3

(4) 4

1[Option ID=30617]

Question Description : general\_paper\_genarel paper\_set 25\_english\_q30

2[Option ID=30618]

3[Option ID=30619]

4[Option ID=30620]

Sl. No.31

QBID:25201031

Given below are two statements :

**Statement I :** ASCII, a character -encoding scheme, is an acronym for American Standard Code for Intelligent Information.

**Statement II :**  $(37.25)_{10} = (100101.01)_2$

In the light of the above statements, choose the correct answer from the options given below :

1. Both Statement I and Statement II are true.
2. Both Statement I and Statement II are false.
3. Statement I is true but Statement II is false.
4. Statement I is false but Statement II is true.

(1) 1

(2) 2

(3) 3

(4) 4

नीचे दो कथन दिए गए हैं:

**कथन I :** ए एस सी आई आई (ASCII), चिह्न कूटबद्ध करने की योजना है, जो अमेरिकन स्टैंडर्ड कोड फॉर इन्टेलिजेंट इन्फार्मेशन का परिवर्णी शब्द है।

**कथन II :**  $(37.25)_{10} = (100101.01)_2$

उपरोक्त कथन के आलोक में, नीचे दिए गए विकल्पों में सही उत्तर का चयन कीजिए:

1. कथन I और II दोनों सत्य हैं।
2. कथन I और II दोनों असत्य हैं।
3. कथन I सत्य है, लेकिन कथन II असत्य है।
4. कथन I असत्य है, लेकिन कथन II सत्य है।

(1) 1

(2) 2

(3) 3

(4) 4

1[Option ID=30621]

Question Description : general\_paper\_genarel paper\_set 25\_english\_q31

2[Option ID=30622]

3[Option ID=30623]

4[Option ID=30624]

Sl. No.32

QBID:25201032

Given below are two statements :

**Statement I :** An Operating System controls peripherals and provides protection against viruses.

**Statement II :** In word processing and desktop publishing, the terms portrait and landscape refer to Page Layout.

In the light of the above statements, choose the correct answer from the options given below :

1. Both Statement I and Statement II are true.
2. Both Statement I and Statement II are false.
3. Statement I is true but Statement II is false.
4. Statement I is false but Statement II is true.

(1) 1

(2) 2

(3) 3

(4) 4

नीचे दो कथन दिए गए हैं:

**कथन I :** आपरेटिंग सिस्टम बाह्ययुक्तियाँ नियन्त्रित करता है और वायरसों से सुरक्षा प्रदान करता है।

**कथन II :** वर्ड प्रोसेसिंग और डेस्कटॉप पब्लिशिंग में पोर्ट्रेट और लैंडस्केप पद पेज लेआउट से संबंधित हैं।

उपरोक्त कथन के आलोक में, नीचे दिए गए विकल्पों में सही उत्तर का चयन कीजिए:

1. कथन I और II दोनों सत्य हैं।
2. कथन I और II दोनों असत्य हैं।
3. कथन I सत्य है, लेकिन कथन II असत्य है।
4. कथन I असत्य है, लेकिन कथन II सत्य है।

(1) 1

(2) 2

(3) 3

(4) 4

1[Option ID=30625]

Question Description : general\_paper\_genarel paper\_set 25\_english\_q32

2[Option ID=30626]  
3[Option ID=30627]  
4[Option ID=30628]

SI. No.33  
QBID:25201033

In computers, which of the following file formats contains exclusively the text file formats ?

- A. PDF
- B. CSV
- C. GIF
- D. RTF
- E. TXT

Choose the correct answer from the options given below :

- 1. A, B, and E Only
- 2. B, D and E Only
- 3. B, C and D Only
- 4. A and C Only

- (1) 1
- (2) 2
- (3) 3
- (4) 4

कंप्यूटरों में, निम्नलिखित में से कौन से फाइल फार्मेट केवल टेक्स्ट फाइल फार्मेट को अंतर्विष्ट करते हैं ?

- A. पीडीएफ (PDF)
- B. सीएसवी (CSV)
- C. जीआईएफ (GIF)
- D. आरटीएफ (RTF)
- E. टीएक्सटी (TXT)

नीचे दिए गए विकल्पों में से सही उत्तर का चयन कीजिए :

- 1. केवल A, B और E
- 2. केवल B, D और E
- 3. केवल B, C और D
- 4. केवल A और C

- (1) 1
- (2) 2
- (3) 3
- (4) 4

1[Option ID=30629]  
2[Option ID=30630]  
3[Option ID=30631]  
4[Option ID=30632]

Question Description : general\_paper\_genarel paper\_set 25\_english\_q33



SI. No.34  
QBID:25201034

In the context of MS-PowerPoint, a presentation software, which of the following statements are true ?

- A. Objects on the slide that hold text, pictures and more are called Placeholders.
- B. MS-PowerPoint automatically opens with Windows Operating System
- C. A view that displays the slides of a presentation as miniature representations of the slides is called Slide Sorter view.

Choose the correct answer from the options given below :

- 1. A and B Only
- 2. A and C Only
- 3. B and C Only
- 4. A, B and C

- (1) 1
- (2) 2
- (3) 3
- (4) 4

प्रस्तुतिकरण साफ्टवेयर एम एस-पावर प्वाइंट के संदर्भ में, निम्नलिखित में से कौन से कथन सही हैं ?

- स्लाइड पर वस्तु, जिनमें पाठ, चित्र एवं अधिक वस्तुएँ होती हैं, वे प्लेसहोल्डर्स कहलाती हैं ।
- विंडोज आपरेटिंग सिस्टम के साथ एम एस - पावरप्वाइंट स्वतः खुल जाता है ।
- वह व्यू जो स्लाइडों के लघुरूप प्रदर्शन के रूप में प्रस्तुतिकरण की स्लाइडों को प्रदर्शित करता है, उसे स्लाइड सार्टर व्यू कहते हैं ।

नीचे दिए गए विकल्पों में से सही उत्तर का चयन कीजिए :

- केवल A और B
- केवल A और C
- केवल B और C
- A, B और C

- 1
- 2
- 3
- 4

1[Option ID=30633] Question Description : general\_paper\_genarel paper\_set 25\_english\_q34  
2[Option ID=30634]  
3[Option ID=30635]  
4[Option ID=30636]

Sl. No.35

QBID:25201035

Given below are two statements :

**Statement I :** Fibre-optic cable makes use of light pulses to transmit data and is most appropriate to connect computers in a small building.

**Statement II :** URL is the text used by web browsers to locate a web address on the Internet.

In the light of the above statements, choose the correct answer from the options given below :

- Both Statement I and Statement II are True.
- Both Statement I and Statement II are False.
- Statement I is true but Statement II is false.
- Statement I is false but Statement II is true.

- 1
- 2
- 3
- 4

नीचे दो कथन दिए गए हैं:

**कथन I :** फाइबर-ऑप्टिक केवल, डाटा संप्रेषण के लिए प्रकाशस्यंद का प्रयोग करती है और छोटे भवन में कंप्यूटरों को जोड़ने (कनेक्ट) के लिए सर्वाधिक उपयुक्त होती है ।

**कथन II :** यूआरएल(URL) इंटरनेट पर वेब एड्रेस का पता लगाने के लिए वेब ब्राउजर्स द्वारा प्रयुक्त पाठ (टेक्स्ट) होता है । उपरोक्त कथन के आलोक में, नीचे दिए गए विकल्पों में सही उत्तर का चयन कीजिए:

- कथन I और II दोनों सत्य हैं ।
- कथन I और II दोनों असत्य हैं ।
- कथन I सत्य है, लेकिन कथन II असत्य है ।
- कथन I असत्य है, लेकिन कथन II सत्य है ।

- 1
- 2
- 3
- 4

1[Option ID=30637] Question Description : general\_paper\_genarel paper\_set 25\_english\_q35  
2[Option ID=30638]  
3[Option ID=30639]  
4[Option ID=30640]

Sl. No.36

QBID:25201036

What is the correct sequence of Biomagnification due to contaminated water body?

- A. Humans
- B. Zooplanktons
- C. Bacteria
- D. Fish

Choose the correct answer from the options given below :

- 1. A, C, D, B
- 2. C, B, D, A
- 3. A, D, B, C
- 4. B, C, D, A

(1) 1

(2) 2

(3) 3

(4) 4

संदूषित जलाशयों के कारण जैव आवर्धन का सही अनुक्रम कौन सा है ?

- A. मानव
- B. प्राणिप्लवक
- C. बैक्टीरिया (जीवाणु)
- D. मछली

नीचे दिए गए विकल्पों में से सही उत्तर का चयन कीजिए :

- 1. A, C, D, B
- 2. C, B, D, A
- 3. A, D, B, C
- 4. B, C, D, A

(1) 1

(2) 2

(3) 3

(4) 4

1[Option ID=30641]

Question Description : general\_paper\_genarel paper\_set 25\_english\_q36

2[Option ID=30642]

3[Option ID=30643]

4[Option ID=30644]

Sl. No.37

QBID:25201037

Aeration technique of water treatment is used for the removal of

- 1. Persistent Organic Pollutants (POPs)
- 2. Volatile Organic Compounds (VOCs)
- 3. Hardness
- 4. Metals

(1) 1

(2) 2

(3) 3

(4) 4

जलशोधन की वातन प्रविधि का प्रयोग निम्नलिखित में से किसे हटाने के लिए किया जाता है ?

- 1. चिरस्थायी कार्बनिक प्रदूषक (पीओपी)
- 2. अस्थिर कार्बनिक यौगिक (वीओसी)
- 3. कठोरता
- 4. धातु

(1) 1

(2) 2

(3) 3

(4) 4

1[Option ID=30645]

Question Description : general\_paper\_genarel paper\_set 25\_english\_q37

2[Option ID=30646]

3[Option ID=30647]

4[Option ID=30648]

Sl. No.38

QBID:25201038

Given below are two statements :

**Statement I :** Air Quality Index (AQI) is used to report to the public an overall assessment of a given day's air quality.

**Statement II :** Air Quality Index integrates air quality data for any two of the criteria pollutants into a single number that represents the air quality of urban area.

In the light of the above statements, choose the most appropriate answer from the options given below :

1. Both Statement I and Statement II are correct.
2. Both Statement I and Statement II are incorrect.
3. Statement I is correct but Statement II is incorrect.
4. Statement I is incorrect but Statement II is correct.

(1) 1

(2) 2

(3) 3

(4) 4

नीचे दो कथन दिए गए हैं:

**कथन I :** वायु गुणवत्ता सूचकांक को एक दिए गए दिन की वायुगुणवत्ता के समग्र मूल्यांकन के बारे में जनता को विवरण बताने के लिए प्रयुक्त किया जाता है ।

**कथन II :** वायु गुणवत्ता सूचकांक उस एक एकज संख्या में मापदण्ड संबंधी किन्हीं दो प्रदूषकों की वायु गुणवत्ता के दत्त (डेटा) को समाकलित करता है, जो नगरीय क्षेत्र की वायु गुणवत्ता का प्रतिनिधित्व करती है ।

उपरोक्त कथन के आलोक में, नीचे दिए गए विकल्पों में सबसे उपयुक्त उत्तर का चयन कीजिए:

1. कथन I और II दोनों सही हैं ।
2. कथन I और II दोनों गलत हैं ।
3. कथन I सही है, लेकिन कथन II गलत है ।
4. कथन I गलत है, लेकिन कथन II सही है ।

(1) 1

(2) 2

(3) 3

(4) 4

1[Option ID=30649]

Question Description : general\_paper\_genarel paper\_set 25\_english\_q38

2[Option ID=30650]

3[Option ID=30651]

4[Option ID=30652]

SI. No.39

QBID:25201039

Which of the following are examples of solar cells?

- A. Organic solar cell
- B. Nanoparticle solar cell
- C. Elemental solar cell
- D. Plastic solar cell
- E. Molecular solar cell

Choose the most appropriate answer from the options given below :

1. A, B and C Only
2. A, B and D Only
3. B, C and D Only
4. C, D and E Only

(1) 1

(2) 2

(3) 3

(4) 4

सौर सेलों के उदाहरण निम्नलिखित में से कौन से हैं ?

- A. कार्बनिक सौर सेल
- B. नैनोकण सौर सेल
- C. तात्विक सौर सेल
- D. प्लास्टिक सौर सेल
- E. आण्विक सौर सेल

नीचे दिए गए विकल्पों में से सबसे उपयुक्त उत्तर का चयन कीजिए :

- 1. केवल A, B और C
- 2. केवल A, B और D
- 3. केवल B, C और D
- 4. केवल C, D और E

(1) 1

(2) 2

(3) 3

(4) 4

1[Option ID=30653]

Question Description : general\_paper\_genarel paper\_set 25\_english\_q39

2[Option ID=30654]

3[Option ID=30655]

4[Option ID=30656]

Sl. No.40

QBID:25201040

When little rivulets of running water gather together and cut small channels in the soil, the process is called as ?

- 1. gully erosion
- 2. Sheet erosion
- 3. Channel erosion
- 4. Rill erosion

(1) 1

(2) 2

(3) 3

(4) 4

जब प्रवाही जल की छोटी नदिकायें एक साथ इकट्ठा हो जाती हैं और मृदा में कटाव से छोटे जलमार्ग बनाती हैं, इस प्रक्रिया को क्या कहा जाता है ?

- 1. अवनालिका अपरदन
- 2. परत अपरदन
- 3. प्रणाल (चैनल) अपरदन
- 4. क्षुद्र सरिता अपरदन

(1) 1

(2) 2

(3) 3

(4) 4

1[Option ID=30657]

Question Description : general\_paper\_genarel paper\_set 25\_english\_q40

2[Option ID=30658]

3[Option ID=30659]

4[Option ID=30660]

Sl. No.41

QBID:25201041

As per NEP 2020 Gross Enrolment Ratio (GER) is sought to be achieved to the extent of 50% by

- 1. 2030
- 2. 2035
- 3. 2040
- 4. 2047

(1) 1

(2) 2

(3) 3

(4) 4



राष्ट्रीय शिक्षा नीति 2020 के अनुसार निम्नलिखित में से किस वर्ष तक सकल नामांकन अनुपात (जी ई आर) को 50% की सीमा तक प्राप्त करने का लक्ष्य तय किया गया है ?

1. 2030
2. 2035
3. 2040
4. 2047

- (1) 1  
(2) 2  
(3) 3  
(4) 4

1[Option ID=30661] Question Description : general\_paper\_genarel paper\_set 25\_english\_q41  
2[Option ID=30662]  
3[Option ID=30663]  
4[Option ID=30664]

Sl. No.42  
QBID:25201042

The Universities of Calcutta, Bombay and Madras were to be set up on the model of

1. Oxford University
2. Cambridge University
3. University of London
4. University of Edinburgh

- (1) 1  
(2) 2  
(3) 3  
(4) 4

निम्नांकित किस मॉडल (प्रतिमान) पर कलकत्ता बांबे और मद्रास विश्वविद्यालय को स्थापित किया जाना था ?

1. ऑक्सफोर्ड विश्वविद्यालय
2. कैम्ब्रिज विश्वविद्यालय
3. लंदन - विश्वविद्यालय
4. एडिनबर्ग - विश्व विद्यालय

- (1) 1  
(2) 2  
(3) 3  
(4) 4

1[Option ID=30665] Question Description : general\_paper\_genarel paper\_set 25\_english\_q42  
2[Option ID=30666]  
3[Option ID=30667]  
4[Option ID=30668]

Sl. No.43  
QBID:25201043

Given below are two statements :

**Statement I :** NITI Aayog is neither a constitution body not a statutory body.

**Statement II :** NITI Aayog is a policy think-tank of Government of India.

In the light of the above statements, choose the correct answer from the options given below :

1. Both Statement I and Statement II are True.
2. Both Statement I and Statement II are False.
3. Statement I is true but Statement II is false.
4. Statement I is false but Statement II is true.

- (1) 1  
(2) 2  
(3) 3  
(4) 4

नीचे दो कथन दिए गए हैं:

**कथन I :** एन आई टी आई आयोग न तो संवैधानिक निकाय है नहीं सांविधिक निकाय हैं ।

**कथन II :** एन आई टी आई भारत सरकार का एक नीति विचारक-मंडल हैं ।

उपरोक्त कथन के आलोक में, नीचे दिए गए विकल्पों में सही उत्तर का चयन कीजिए:

1. कथन I और II दोनों सत्य हैं ।
2. कथन I और II दोनों असत्य हैं ।
3. कथन I सत्य है, लेकिन कथन II असत्य है ।
4. कथन I असत्य है, लेकिन कथन II सत्य है ।

- (1) 1

- (2) 2  
(3) 3  
(4) 4

1[Option ID=30669] Question Description : general\_paper\_genarel paper\_set 25\_english\_q43  
2[Option ID=30670]  
3[Option ID=30671]  
4[Option ID=30672]

Sl. No.44  
QBID:25201044

Given below are two statements :

**Statement I** : UGC-CARE List I includes journals found qualified through CARE protocols.

**Statement II** : UGC-CARE List II includes journals indexed in globally recognized data bases.

In the light of the above statements, choose the correct answer from the options given below :

1. Both Statement I and Statement II are true.
2. Both Statement I and Statement II are false.
3. Statement I is true but Statement II is false.
4. Statement I is false but Statement II is true.

- (1) 1  
(2) 2  
(3) 3  
(4) 4

नीचे दो कथन दिए गए हैं:

**कथन I** : यूजीसी - सीएआरई सूची I में वे जर्नल सम्मिलित हैं जिन्हें सीएआरई प्रोटोकाल के माध्यम से अर्हक पाया गया है।

**कथन II** : यूजीसी- सीएआरई सूची II में वैश्विक रूप से मान्य डेटा बेसों में सूचीबद्ध जर्नल सम्मिलित हैं।  
उपरोक्त कथन के आलोक में, नीचे दिए गए विकल्पों में सही उत्तर का चयन कीजिए:

1. कथन I और II दोनों सत्य हैं।
2. कथन I और II दोनों असत्य हैं।
3. कथन I सत्य है, लेकिन कथन II असत्य है।
4. कथन I असत्य है, लेकिन कथन II सत्य है।

- (1) 1  
(2) 2  
(3) 3  
(4) 4

1[Option ID=30673] Question Description : general\_paper\_genarel paper\_set 25\_english\_q44  
2[Option ID=30674]  
3[Option ID=30675]  
4[Option ID=30676]

Sl. No.45  
QBID:25201045

Which of the following are the logical steps for an instruction design system under MOOCs ?

- A. Policy analysis
- B. Need analysis
- C. Content analysis
- D. Learner analysis
- E. Assignment analysis

Choose the correct answer from the options given below :

1. A, B, C Only
2. B, C, D Only
3. C, D, E Only
4. A, D, E Only

- (1) 1  
(2) 2  
(3) 3  
(4) 4

मूक्स (MOOCs) के अंतर्गत अनुदेश अभिकल्पन प्रणाली के तर्कसंगत सोपान निम्नलिखित में से कौन से हैं ?

- A. नीति विश्लेषण
- B. आवश्यकता विश्लेषण
- C. विषय - वस्तु विश्लेषण
- D. अधिगमकर्ता विश्लेषण
- E. नियतकार्य विश्लेषण

नीचे दिए गए विकल्पों में से सही उत्तर का चयन कीजिए :

- 1. केवल A, B, C
- 2. केवल B, C, D
- 3. केवल C, D, E
- 4. केवल A, D, E

(1) 1

(2) 2

(3) 3

(4) 4

1[Option ID=30677]  
2[Option ID=30678]  
3[Option ID=30679]  
4[Option ID=30680]

Question Description : general\_paper\_genarel paper\_set 25\_english\_q45

Sl. No.46

QBID:25201046

Read the following passage and answer question :

The global financial crisis that began in 2008 hit Europe almost immediately with a major debt crisis. Borrowers in a number of Eurozone countries had built up large debts and appeared to be unable to service them.

The four principal Eurozone debtors were Greece, Ireland, Portugal, and Spain. In Spain and Ireland, house holds had borrowed heavily to finance a major housing and construction boom. When housing prices collapsed, the two national governments started borrowing heavily from abroad to finance national bank bailouts and to stimulate their economies. Greece, however, had been running budget deficits ever since the creation of the Eurozone, with the government relying heavily on foreign borrowing to cover the shortfalls. Portugal was somewhere in between; both households and the government had been borrowing heavily.

The difficulties of the Eurozone debtors were not just a problem for them, since major northern European financial institutions and investors were the one that had made most of these loans. If the debtors defaulted, trillions of dollars in loans on the books of northern European banks, investors and pension funds would go bad. The weight of so many bad loans and investments endangered the very integrity of the financial systems of even the richest European countries, especially Germany and France. The sovereign debt crisis threatened both the sovereign debtors and their creditors- and, in fact, the entire European economy.

निम्नलिखित गद्यांश को पढ़ें और प्रश्न का उत्तर दीजिए ।

वर्ष 2008 में प्रारम्भ हुए वैश्विक वित्तीय संकट ने एक प्रमुख ऋण संकट से लगभग शीघ्र ही यूरोप को आघात पहुंचाया । यूरोजोन के अनेक देशों के कर्जदारों ने बड़े पैमाने पर ऋण लिए थे और उन्हें चुकाने में असमर्थ प्रतीत हो रहे थे ।

यूरोजोन के चार मुख्य कर्जदार यूनान (ग्रीस), आयरलैंड, पुर्तगाल और स्पेन थे । स्पेन और आयरलैंड में घर परिवारों ने आवासीय और निर्माण क्षेत्र के बाजार में आई तेजी (बूम) के वित्तपोषण के लिए भारी मात्रा में ऋण प्राप्त किए । जब आवासों की कीमतें ढह गईं तो इन दोनों राष्ट्रों की सरकारों ने अपने राष्ट्रीय बैंकों को बचाने हेतु वित्तपोषण और अपनी अर्थव्यवस्थाओं में उद्दीपन के लिए विदेश से बड़े पैमाने पर ऋण लेना प्रारम्भ किया । लेकिन, यूरोजोन के निर्माण के बाद से ही यूनान बजटीय घाटे का सामना कर रहा था और उसकी सरकार इस कमी की पूर्ति के लिए विदेशी ऋण पर अत्याधिक आश्रित हो रही थी । पुर्तगाल इसमें कहीं बीच की स्थिति में था । दोनों घर परिवार और सरकार भारी मात्रा में ऋण ले रही थीं । यूरोजोन के कर्जदारों की कठिनाईयां न केवल उनकी एक समस्या थी क्योंकि प्रमुख उत्तरी यूरोपीय वित्तीय संस्थाओं और निवेशकों ने अधिकांशतः ये ऋण दिए थे । यदि कर्जदार अपनी अदागियां नहीं कर पाते तो उत्तरी यूरोपीय बैंकों, निवेशकों द्वारा प्रदत्त खरबों डालर के ऋणों और पेंशन फंड की बुरी स्थिति हो गई होती । अनेक डूबते ऋणों और निवेशों के बोझ ने सर्वाधिक धनाढ्य यूरोपीय देशों, विशेषकर जर्मनी और फ्रांस तक की वित्तीय व्यवस्थाओं की अक्षतता को गंभीर खतरे में डाल दिया था । इस संप्रभु ऋण संकट से संप्रभु कर्जदारों और उनके ऋणदाताओं दोनों और, वास्तव में सम्पूर्ण यूरोपीय अर्थव्यवस्था के लिए खतरा उत्पन्न हो गया था ।

Which countries among the following had very high household borrowings ?

- A. Portugal
- B. Ireland
- C. Greece
- D. Spain

Choose the most appropriate answer from the options given below :

- 1. A, B and C Only
- 2. B, C and D Only
- 3. A, C and D Only
- 4. A, B and D Only

(1) 1

(2) 2

(3) 3

(4) 4

निम्नलिखित में से किन देशों में घर परिवारों पर अत्याधिक उच्च उधारियां थीं ?

- A. पुर्तगाल
- B. आयरलैंड
- C. यूनान (ग्रीस)
- D. स्पेन

नीचे दिए गए विकल्पों में से सबसे उपयुक्त उत्तर का चयन कीजिए :

- 1. केवल A, B और C
- 2. केवल B, C और D
- 3. केवल A, C और D
- 4. केवल A, B और D

(1) 1

(2) 2

(3) 3

(4) 4

1[Option ID=30681]  
2[Option ID=30682]  
3[Option ID=30683]  
4[Option ID=30684]

Question Description : general\_paper\_genarel paper\_set 25\_english\_q46

Sl. No.47  
QBID:25201047

Read the following passage and answer question :

The global financial crisis that began in 2008 hit Europe almost immediately with a major debt crisis. Borrowers in a number of Eurozone countries had built up large debts and appeared to be unable to service them.

The four principal Eurozone debtors were Greece, Ireland, Portugal, and Spain. In Spain and Ireland, house holds had borrowed heavily to finance a major housing and construction boom. When housing prices collapsed, the two national governments started borrowing heavily from abroad to finance national bank bailouts and to stimulate their economies. Greece, however, had been running budget deficits ever since the creation of the Eurozone, with the government relying heavily on foreign borrowing to cover the shortfalls. Portugal was somewhere in between; both households and the government had been borrowing heavily.

The difficulties of the Eurozone debtors were not just a problem for them, since major northern European financial institutions and investors were the one that had made most of these loans. If the debtors defaulted, trillions of dollars in loans on the books of northern European banks, investors and pension funds would go bad. The weight of so many bad loans and investments endangered the very integrity of the financial systems of even the richest European countries, especially Germany and France. The sovereign debt crisis threatened both the sovereign debtors and their creditors- and , in fact, the entire European economy.

निम्नलिखित गद्यांश को पढ़ें और प्रश्न का उत्तर दीजिए ।

वर्ष 2008 में प्रारम्भ हुए वैश्विक वित्तीय संकट ने एक प्रमुख ऋण संकट से लगभग शीघ्र ही यूरोप को आघात पहुंचाया । यूरोजोन के अनेक देशों के कर्जदारों ने बड़े पैमाने पर ऋण लिए थे और उन्हें चुकाने में असमर्थ प्रतीत हो रहे थे ।

यूरोजोन के चार मुख्य कर्जदार यूनान (ग्रीस), आयरलैंड, पुर्तगाल और स्पेन थे । स्पेन और आयरलैंड में घर परिवारों ने आवासीय और निर्माण क्षेत्र के बाजार में आई तेजी (बूम) के वित्तपोषण के लिए भारी मात्रा में ऋण प्राप्त किए । जब आवासों की कीमतें ढह गईं तो इन दोनों राष्ट्रों की सरकारों ने अपने राष्ट्रीय बैंकों को बचाने हेतु वित्तपोषण और अपनी अर्थव्यवस्थाओं में उद्दीपन के लिए विदेश से बड़े पैमाने पर ऋण लेना प्रारम्भ किया । लेकिन, यूरोजोन के निर्माण के बाद से ही यूनान बजटीय घाटे का सामना कर रहा था और उसकी सरकार इस कमी की पूर्ति के लिए विदेशी ऋण पर अत्याधिक आश्रित हो रही थी । पुर्तगाल इसमें कहीं बीच की स्थिति में था । दोनों घर परिवार और सरकार भारी मात्रा में ऋण ले रही थीं । यूरोजोन के कर्जदारों की कठिनाईयां न केवल उनकी एक समस्या थी क्योंकि प्रमुख उत्तरी यूरोपीय वित्तीय संस्थाओं और निवेशकों ने अधिकांशतः ये ऋण दिए थे । यदि कर्जदार अपनी अदागियां नहीं कर पाते तो उत्तरी यूरोपीय बैंकों, निवेशकों द्वारा प्रदत्त खरबों डालर के ऋणों और पेंशन फंड की बुरी स्थिति हो गई होती । अनेक डूबते ऋणों और निवेशों के बोझ ने सर्वाधिक धनाढ्य यूरोपीय देशों, विशेषकर जर्मनी और फ्रांस तक की वित्तीय व्यवस्थाओं की अक्षतता को गंभीर खतरे में डाल दिया था । इस संप्रभु ऋण संकट से संप्रभु कर्जदारों और उनके ऋणदाताओं दोनों और, वास्तव में सम्पूर्ण यूरोपीय अर्थव्यवस्था के लिए खतरा उत्पन्न हो गया था ।

Given below are two statements :

**Statement I :** The debt crisis did not affect the richest European countries.

**Statement II :** The debt crisis threatened only the debtors.

In the light of the above statements, choose the correct answer from the options given below :

1. Both Statement I and Statement II are true.
2. Both Statement I and Statement II are false.
3. Statement I is true but Statement II is false.
4. Statement I is false but Statement II is true.

(1) 1

(2) 2

(3) 3

(4) 4

नीचे दो कथन दिए गए हैं:

**कथन I :** ऋण संकट ने सर्वाधिक धनाढ्य यूरोपीय देशों को प्रभावित नहीं किया ।

**कथन II :** ऋण संकट ने केवल कर्जदारों के लिए खतरा उत्पन्न किया ।

उपरोक्त कथन के आलोक में, नीचे दिए गए विकल्पों में सही उत्तर का चयन कीजिए:

1. कथन I और II दोनों सत्य हैं ।
2. कथन I और II दोनों असत्य हैं ।
3. कथन I सत्य है, लेकिन कथन II असत्य है ।
4. कथन I असत्य है, लेकिन कथन II सत्य है ।

(1) 1

(2) 2

(3) 3

(4) 4

1[Option ID=30685]

2[Option ID=30686]

3[Option ID=30687]

4[Option ID=30688]

Question Description : general\_paper\_genarel paper\_set 25\_english\_q47

Sl. No.48

QBID:25201048

Read the following passage and answer question :

The global financial crisis that began in 2008 hit Europe almost immediately with a major debt crisis. Borrowers in a number of Eurozone countries had built up large debts and appeared to be unable to service them.

The four principal Eurozone debtors were Greece, Ireland, Portugal, and Spain. In Spain and Ireland, house holds had borrowed heavily to finance a major housing and construction boom. When housing prices collapsed, the two national governments started borrowing heavily from abroad to finance national bank bailouts and to stimulate their economies. Greece, however, had been running budget deficits ever since the creation of the Eurozone, with the government relying heavily on foreign borrowing to cover the shortfalls. Portugal was somewhere in between; both households and the government had been borrowing heavily.

The difficulties of the Eurozone debtors were not just a problem for them, since major northern European financial institutions and investors were the one that had made most of these loans. If the debtors defaulted, trillions of dollars in loans on the books of northern European banks, investors and pension funds would go bad. The weight of so many bad loans and investments endangered the very integrity of the financial systems of even the richest European countries, especially Germany and France. The sovereign debt crisis threatened both the sovereign debtors and their creditors- and, in fact, the entire European economy.

निम्नलिखित गद्यांश को पढ़ें और प्रश्न का उत्तर दीजिए ।

वर्ष 2008 में प्रारम्भ हुए वैश्विक वित्तीय संकट ने एक प्रमुख ऋण संकट से लगभग शीघ्र ही यूरोप को आघात पहुंचाया । यूरोजोन के अनेक देशों के कर्जदारों ने बड़े पैमाने पर ऋण लिए थे और उन्हें चुकाने में असमर्थ प्रतीत हो रहे थे ।

यूरोजोन के चार मुख्य कर्जदार यूनान (ग्रीस), आयरलैंड, पुर्तगाल और स्पेन थे । स्पेन और आयरलैंड में घर परिवारों ने आवासीय और निर्माण क्षेत्र के बाजार में आई तेजी (बूम) के वित्तपोषण के लिए भारी मात्रा में ऋण प्राप्त किए । जब आवासों की कीमतें ढह गईं तो इन दोनों राष्ट्रों की सरकारों ने अपने राष्ट्रीय बैंकों को बचाने हेतु वित्तपोषण और अपनी अर्थव्यवस्थाओं में उद्दीपन के लिए विदेश से बड़े पैमाने पर ऋण लेना प्रारम्भ किया । लेकिन, यूरोजोन के निर्माण के बाद से ही यूनान बजटीय घाटे का सामना कर रहा था और उसकी सरकार इस कमी की पूर्ति के लिए विदेशी ऋण पर अत्याधिक आश्रित हो रही थी । पुर्तगाल इसमें कहीं बीच की स्थिति में था । दोनों घर परिवार और सरकार भारी मात्रा में ऋण ले रही थीं । यूरोजोन के कर्जदारों की कठिनाईयां न केवल उनकी एक समस्या थी क्योंकि प्रमुख उत्तरी यूरोपीय वित्तीय संस्थाओं और निवेशकों ने अधिकांशतः ये ऋण दिए थे । यदि कर्जदार अपनी अदागियां नहीं कर पाते तो उत्तरी यूरोपीय बैंकों, निवेशकों द्वारा प्रदत्त खरबों डालर के ऋणों और पेंशन फंड की बुरी स्थिति हो गई होती । अनेक डूबते ऋणों और निवेशों के बोझ ने सर्वाधिक धनाढ्य यूरोपीय देशों, विशेषकर जर्मनी और फ्रांस तक की वित्तीय व्यवस्थाओं की अक्षतता को गंभीर खतरे में डाल दिया था । इस संप्रभु ऋण संकट से संप्रभु कर्जदारों और उनके ऋणदाताओं दोनों और, वास्तव में सम्पूर्ण यूरोपीय अर्थव्यवस्था के लिए खतरा उत्पन्न हो गया था ।

Which countries among the following were the main Eurozone debtors in 2008 ?

- A. Germany
- B. Spain
- C. France
- D. Greece
- E. Portugal

Choose the most appropriate answer from the options given below :

1. A, B and C Only
2. B, C and D Only
3. B, D and E Only
4. A, B, C, D and E

(1) 1

(2) 2

(3) 3

(4) 4

निम्नलिखित में से कौन से देश 2008 में मुख्य यूरोजोन कर्जदार थे ?

- A. जर्मनी
- B. स्पेन
- C. फ्रांस
- D. यूनान
- E. पुर्तगाल

नीचे दिए गए विकल्पों में से सबसे उपयुक्त उत्तर का चयन कीजिए :

1. केवल A, B और C
2. केवल B, C और D
3. केवल B, D और E
4. A, B, C, D और E

(1) 1

(2) 2

(3) 3

(4) 4

1[Option ID=30689]  
2[Option ID=30690]  
3[Option ID=30691]  
4[Option ID=30692]

Question Description : general\_paper\_genarel paper\_set 25\_english\_q48

Sl. No.49

QBID:25201049

Read the following passage and answer question :

The global financial crisis that began in 2008 hit Europe almost immediately with a major debt crisis. Borrowers in a number of Eurozone countries had built up large debts and appeared to be unable to service them.

The four principal Eurozone debtors were Greece, Ireland, Portugal, and Spain. In Spain and Ireland, house holds had borrowed heavily to finance a major housing and construction boom. When housing prices collapsed, the two national governments started borrowing heavily from abroad to finance national bank bailouts and to stimulate their economies. Greece, however, had been running budget deficits ever since the creation of the Eurozone, with the government relying heavily on foreign borrowing to cover the shortfalls. Portugal was somewhere in between; both households and the government had been borrowing heavily.

The difficulties of the Eurozone debtors were not just a problem for them, since major northern European financial institutions and investors were the one that had made most of these loans. If the debtors defaulted, trillions of dollars in loans on the books of northern European banks, investors and pension funds would go bad. The weight of so many bad loans and investments endangered the very integrity of the financial systems of even the richest European countries, especially Germany and France. The sovereign debt crisis threatened both the sovereign debtors and their creditors- and , in fact, the entire European economy.

निम्नलिखित गद्यांश को पढ़ें और प्रश्न का उत्तर दीजिए ।

वर्ष 2008 में प्रारम्भ हुए वैश्विक वित्तीय संकट ने एक प्रमुख ऋण संकट से लगभग शीघ्र ही यूरोप को आघात पहुंचाया । यूरोजोन के अनेक देशों के कर्जदारों ने बड़े पैमाने पर ऋण लिए थे और उन्हें चुकाने में असमर्थ प्रतीत हो रहे थे ।

यूरोजोन के चार मुख्य कर्जदार यूनान (ग्रीस), आयरलैंड, पुर्तगाल और स्पेन थे । स्पेन और आयरलैंड में घर परिवारों ने आवासीय और निर्माण क्षेत्र के बाजार में आई तेजी (बूम) के वित्तपोषण के लिए भारी मात्रा में ऋण प्राप्त किए । जब आवासों की कीमतें ढह गईं तो इन दोनों राष्ट्रों की सरकारों ने अपने राष्ट्रीय बैंकों को बचाने हेतु वित्तपोषण और अपनी अर्थव्यवस्थाओं में उद्दीपन के लिए विदेश से बड़े पैमाने पर ऋण लेना प्रारम्भ किया । लेकिन, यूरोजोन के निर्माण के बाद से ही यूनान बजटीय घाटे का सामना कर रहा था और उसकी सरकार इस कमी की पूर्ति के लिए विदेशी ऋण पर अत्याधिक आश्रित हो रही थी । पुर्तगाल इसमें कहीं बीच की स्थिति में था । दोनों घर परिवार और सरकार भारी मात्रा में ऋण ले रही थीं । यूरोजोन के कर्जदारों की कठिनाईयां न केवल उनकी एक समस्या थी क्योंकि प्रमुख उत्तरी यूरोपीय वित्तीय संस्थाओं और निवेशकों ने अधिकांशतः ये ऋण दिए थे । यदि कर्जदार अपनी अदागियां नहीं कर पाते तो उत्तरी यूरोपीय बैंकों, निवेशकों द्वारा प्रदत्त खरबों डालर के ऋणों और पेंशन फंड की बुरी स्थिति हो गई होती । अनेक डूबते ऋणों और निवेशों के बोझ ने सर्वाधिक धनाढ्य यूरोपीय देशों, विशेषकर जर्मनी और फ्रांस तक की वित्तीय व्यवस्थाओं की अक्षतता को गंभीर खतरे में डाल दिया था । इस संप्रभु ऋण संकट से संप्रभु कर्जदारों और उनके ऋणदाताओं दोनों और, वास्तव में सम्पूर्ण यूरोपीय अर्थव्यवस्था के लिए खतरा उत्पन्न हो गया था ।

Given below are two statements : One is labelled as Assertion A and the other is labelled as Reason R.

**Assertion A :** In 2008 , Europe was quite susceptible to the global financial crisis.

**Reason R :** The global financial crisis immediately led to a major debt crisis in Europe.

In the light of the above statements, choose the most appropriate answer from the options given below :

1. Both A and R are correct and R is the correct explanation of A.
2. Both A and R are correct but R is NOT the correct explanation of A.
3. A is correct but R is not correct.
4. A is not correct but R is correct.

(1) 1

(2) 2

(3) 3

(4) 4

नीचे दो कथन दिए गए हैं: एक अभिकथन (**Assertion A**) के रूप में लिखित है तो दूसरा उसके कारण (**Reason R**) के रूप में;

**अभिकथन A :** वर्ष 2008 में यूरोप वैश्विक वित्तीय संकट के प्रति काफी शीघ्र प्रभाव - प्रवण (ससेप्टिबल) था ।

**कारण R :** इस वैश्विक वित्तीय संकट ने यूरोप में तत्काल ही एक प्रमुख ऋण संकट का मार्ग प्रशस्त किया ।

उपरोक्त कथन के आलोक में, नीचे दिए गए विकल्पों में से सबसे उपयुक्त उत्तर का चयन कीजिए

1. A और R दोनों सही हैं और R, A की सही व्याख्या है ।
2. A और R दोनों सही हैं, लेकिन R, A की सही व्याख्या नहीं है ।
3. A सही है लेकिन R सही नहीं है ।
4. A सही नहीं है लेकिन R सही है ।

(1) 1

(2) 2

(3) 3

(4) 4

1[Option ID=30693]  
2[Option ID=30694]  
3[Option ID=30695]  
4[Option ID=30696]

Question Description : general\_paper\_genarel paper\_set 25\_english\_q49

Sl. No.50

QBID:25201050

Read the following passage and answer question :

The global financial crisis that began in 2008 hit Europe almost immediately with a major debt crisis. Borrowers in a number of Eurozone countries had built up large debts and appeared to be unable to service them.

The four principal Eurozone debtors were Greece, Ireland, Portugal, and Spain. In Spain and Ireland, house holds had borrowed heavily to finance a major housing and construction boom. When housing prices collapsed, the two national governments started borrowing heavily from abroad to finance national bank bailouts and to stimulate their economies. Greece, however, had been running budget deficits ever since the creation of the Eurozone, with the government relying heavily on foreign borrowing to cover the shortfalls. Portugal was somewhere in between; both households and the government had been borrowing heavily.

The difficulties of the Eurozone debtors were not just a problem for them, since major northern European financial institutions and investors were the one that had made most of these loans. If the debtors defaulted, trillions of dollars in loans on the books of northern European banks, investors and pension funds would go bad. The weight of so many bad loans and investments endangered the very integrity of the financial systems of even the richest European countries, especially Germany and France. The sovereign debt crisis threatened both the sovereign debtors and their creditors- and , in fact, the entire European economy.

निम्नलिखित गद्यांश को पढ़ें और प्रश्न का उत्तर दीजिए ।

वर्ष 2008 में प्रारम्भ हुए वैश्विक वित्तीय संकट ने एक प्रमुख ऋण संकट से लगभग शीघ्र ही यूरोप को आघात पहुंचाया । यूरोजोन के अनेक देशों के कर्जदारों ने बड़े पैमाने पर ऋण लिए थे और उन्हें चुकाने में असमर्थ प्रतीत हो रहे थे ।

यूरोजोन के चार मुख्य कर्जदार यूनान (ग्रीस), आयरलैंड, पुर्तगाल और स्पेन थे । स्पेन और आयरलैंड में घर परिवारों ने आवासीय और निर्माण क्षेत्र के बाजार में आई तेजी (बूम) के वित्तपोषण के लिए भारी मात्रा में ऋण प्राप्त किए । जब आवासों की कीमतें ढह गईं तो इन दोनों राष्ट्रों की सरकारों ने अपने राष्ट्रीय बैंकों को बचाने हेतु वित्तपोषण और अपनी अर्थव्यवस्थाओं में उद्दीपन के लिए विदेश से बड़े पैमाने पर ऋण लेना प्रारम्भ किया । लेकिन, यूरोजोन के निर्माण के बाद से ही यूनान बजटीय घाटे का सामना कर रहा था और उसकी सरकार इस कमी की पूर्ति के लिए विदेशी ऋण पर अत्याधिक आश्रित हो रही थी । पुर्तगाल इसमें कहीं बीच की स्थिति में था । दोनों घर परिवार और सरकार भारी मात्रा में ऋण ले रही थीं । यूरोजोन के कर्जदारों की कठिनाईयां न केवल उनकी एक समस्या थी क्योंकि प्रमुख उत्तरी यूरोपीय वित्तीय संस्थाओं और निवेशकों ने अधिकांशतः ये ऋण दिए थे । यदि कर्जदार अपनी अदागियां नहीं कर पाते तो उत्तरी यूरोपीय बैंकों, निवेशकों द्वारा प्रदत्त खरबों डालर के ऋणों और पेंशन फंड की बुरी स्थिति हो गई होती । अनेक डूबते ऋणों और निवेशों के बोझ ने सर्वाधिक धनाढ्य यूरोपीय देशों, विशेषकर जर्मनी और फ्रांस तक की वित्तीय व्यवस्थाओं की अक्षतता को गंभीर खतरे में डाल दिया था । इस संप्रभु ऋण संकट से संप्रभु कर्जदारों और उनके ऋणदाताओं दोनों और, वास्तव में सम्पूर्ण यूरोपीय अर्थव्यवस्था के लिए खतरा उत्पन्न हो गया था ।

Failure on part of the debtors to pay loans would have risked

- A. pension funds
- B. investors
- C. northern European banks

Choose the most appropriate answer from the options given below :

- 1. A and B Only
- 2. B and C Only
- 3. A and C Only
- 4. A, B and C

(1) 1

(2) 2

(3) 3

(4) 4



कर्जदारों द्वारा ऋण अदायगी में विफलता से किनके लिए जोखिम उत्पन्न किया होता ?

- A. पेंशन फंड्स के लिये
- B. निवेशकों के लिये
- C. उत्तरी यूरोपीय बैंको के लिये

नीचे दिए गए विकल्पों में से सबसे उपयुक्त उत्तर का चयन कीजिए :

- 1. केवल A और B
- 2. केवल B और C
- 3. केवल A और C
- 4. A, B और C

- (1) 1
- (2) 2
- (3) 3
- (4) 4

1[Option ID=30697]  
2[Option ID=30698]  
3[Option ID=30699]  
4[Option ID=30700]

Question Description : general\_paper\_genarel paper\_set 25\_english\_q50

**Paper II : 1-Economics / Rural Economics / Co-operation / Demography / Development Planning / Development Studies / Econometrics / Applied Economics / Development Eco./Business Economics**

Sl. No.1  
QBID:11001

In case of two goods for which the MRS is zero or infinite, then the nature of goods is :

- 1. Perfect substitutes
- 2. Normal goods
- 3. Perfect compliments
- 4. Close substitutes

- (1) 1
- (2) 2
- (3) 3
- (4) 4

दो वस्तुओं के संदर्भ में जिसका एम.आर.एस शून्य अथवा अनन्त होता हो तब उन वस्तुओं की प्रकृति होती है :

- 1. पूर्ण स्थानापन्न
- 2. सामान्य वस्तु
- 3. पूर्ण अनुपूरक
- 4. निकट स्थानापन्न

- (1) 1
- (2) 2
- (3) 3
- (4) 4

1[Option ID=29701]  
2[Option ID=29702]  
3[Option ID=29703]  
4[Option ID=29704]

Question Description : economics\_economics\_set1\_english\_q1

Sl. No.2  
QBID:11002

Which of the following is not true?

- 1. Total effect of price change on consumption of a good is a combination of income effect and substitution effect
- 2. For inferior goods, income effect is always larger than substitution effect, in absolute terms.
- 3. For corner solution  $MRS_{xy} \neq \frac{P_x}{P_y}$
- 4. For a normal good both the income and substitution effect hold

- (1) 1
- (2) 2
- (3) 3
- (4) 4

निम्नलिखित में से कौन सही नहीं हैं ?

1. किसी वस्तु के उपभोग करने संबंधी कीमत परिवर्तन का समग्र प्रभाव, आय प्रभाव और प्रतिस्थापन प्रभाव का एक सम्मिश्रण है ।
2. निम्नस्तरीय (घटिया) वस्तु के लिए आय प्रभाव, प्रतिस्थापन प्रभाव की तुलना में सदैव अधिक होता है ।
3. Corner solution के लिए  $MRS_{xy} \neq \frac{P_x}{P_y}$
4. सामान्य वस्तु के संदर्भ में, आय और प्रतिस्थापन प्रभाव दोनों लागू होते हैं।

- (1) 1
- (2) 2
- (3) 3
- (4) 4

1[Option ID=29705] Question Description : economics\_economics\_set1\_english\_q2  
2[Option ID=29706]  
3[Option ID=29707]  
4[Option ID=29708]

Sl. No.3  
QBID:11003

The negative network externality in which a consumer wishes to own an exclusive or unique good such as specially designed sports car is:

1. Bandwagon effect
2. Tequila effect
3. Snob effect
4. Pigou effect

- (1) 1
- (2) 2
- (3) 3
- (4) 4

नकारात्मक नेटवर्क बाह्यता, जिसमें कोई उपभोक्ता विशेष रूप से डिजाइन की गई स्पोर्ट्स कार जैसी किसी अनन्य या अद्वितीय वस्तु का स्वामी बनने की इच्छा रखता है, उस को क्या कहा जाता है ?

1. बैंडवेगन प्रभाव
2. टेकिला प्रभाव
3. स्नोब प्रभाव
4. पीगू प्रभाव

- (1) 1
- (2) 2
- (3) 3
- (4) 4

1[Option ID=29709] Question Description : economics\_economics\_set1\_english\_q3  
2[Option ID=29710]  
3[Option ID=29711]  
4[Option ID=29712]

Sl. No.4  
QBID:11004

When each player has chosen his or her optimal strategy given the strategy chosen by other player, the situation is referred to as:

1. Nash Equilibrium
2. Wicksel's Equilibrium
3. Prisoner's dilemma
4. Co-operative Game

- (1) 1
- (2) 2
- (3) 3
- (4) 4

जब प्रत्येक खिलाड़ी अन्य खिलाड़ी द्वारा चुनी गई रणनीति को ध्यान में रखकर अपनी स्वयं की इष्टतम रणनीति का चयन करता है, तो इस स्थिति को क्या कहा जाता है ?

1. नैश संतुलन
2. विकसेल का संतुलन
3. कैदी की दुविधा
4. सहयोगात्मक खेल

(1) 1

(2) 2

(3) 3

(4) 4

1[Option ID=29713]

Question Description : economics\_economics\_set1\_english\_q4

2[Option ID=29714]

3[Option ID=29715]

4[Option ID=29716]

Sl. No.5

QBID:11005

A firm has the following total cost and demand functions:  $C = \frac{1}{3}Q^3 - 7Q^2 + 111Q + 50$ ,  $Q = 100 - P$ , then find the profit maximizing level of output ( $Q^*$ ) and maximum profit of the firm.

1. 50 and 100
2. 111 and 2150
3. 11 and  $111\frac{1}{3}$
4. 7 and 84

(1) 1

(2) 2

(3) 3

(4) 4

किसी कंपनी की निम्नलिखित कुल लागत और मांग फलन दिया गए हैं :

$$C = \frac{1}{3}Q^3 - 7Q^2 + 111Q + 50,$$

$Q = 100 - P$  हो, तो उत्पादन (निर्गत) ( $Q^*$ ) के अधिकतम लाभकारी स्तर और कंपनी का अधिकतम लाभ ज्ञात कीजिए।

1. 50 और 100
2. 111 और 2150
3. 11 और  $111\frac{1}{3}$
4. 7 और 84

(1) 1

(2) 2

(3) 3

(4) 4

1[Option ID=29717]

Question Description : economics\_economics\_set1\_english\_q5

2[Option ID=29718]

3[Option ID=29719]

4[Option ID=29720]

Sl. No.6

QBID:11006

The condition of preferring a certain income to a risky income with same expected value is referred to as;

1. Risk neutral
2. Risk loving
3. Risk averse
4. Risk Premium

(1) 1

(2) 2

(3) 3

(4) 4

समान अपेक्षित मूल्य वाली जोखिम आय की तुलना में किसी निश्चित आय को वरीयता देने वाली स्थिति को इस रूप में जाना जाता है :

1. जोखिम निरपेक्ष
2. जोखिम इच्छुक
3. जोखिम अनिच्छुक
4. जोखिम प्रीमियम

- (1) 1  
(2) 2  
(3) 3  
(4) 4

1[Option ID=29721] Question Description : economics\_economics\_set1\_english\_q6  
2[Option ID=29722]  
3[Option ID=29723]  
4[Option ID=29724]

Sl. No.7  
QBID:11007

Which one of the following is not a component of  $M_1$  ?

1. Currency
2. Traveler's cheque
3. Commercial paper
4. Demand deposits

- (1) 1  
(2) 2  
(3) 3  
(4) 4

निम्नलिखित में कौन एक  $M_1$  का घटक नहीं है ?

1. मुद्रा
2. यात्रीचेक
3. वाणिज्यिक पेपर (कागज)
4. माँग जमाएँ

- (1) 1  
(2) 2  
(3) 3  
(4) 4

1[Option ID=29725] Question Description : economics\_economics\_set1\_english\_q7  
2[Option ID=29726]  
3[Option ID=29727]  
4[Option ID=29728]

Sl. No.8  
QBID:11008

The Keynes's animal spirits are closely associated with

1. Past investment
2. Current investment
3. Aggregate income
4. Aggregate expenditure

- (1) 1  
(2) 2  
(3) 3  
(4) 4

कीन्स की पशु-भावना (एनिमलस्परिट) निम्नांकित में से किससे निकटतम रूप से संबंधित है ?

1. अतीत कालीन निवेश
2. वर्तमान निवेश
3. समग्र आय
4. समग्र व्यय

- (1) 1  
(2) 2  
(3) 3  
(4) 4

1[Option ID=29729]  
2[Option ID=29730]  
3[Option ID=29731]  
4[Option ID=29732]

Question Description : economics\_economics\_set1\_english\_q8

Sl. No.9  
QBID:11009

In the Mundell-Fleming model, the monetary policy will be more effective when there is

1. Perfect capital mobility and flexible exchange rate
2. Perfect capital mobility and fixed exchange rate
3. Imperfect capital mobility and flexible exchange rate
4. Imperfect capital mobility and fixed exchange rate

- (1) 1  
(2) 2  
(3) 3  
(4) 4

मुंडेल-फ्लेमिंग मॉडल (प्रतिरूप) में, मौद्रिक नीति और अधिक प्रभावी होगी जिसमें यह हों :

1. पूँजी की पूर्ण गतिशीलता और लोचदार विनिमय दर
2. पूँजी की पूर्ण गतिशीलता और स्थिर विनिमय दर
3. पूँजी की अपूर्ण गतिशीलता और लोचदार विनिमय दर
4. पूँजी की अपूर्ण गतिशीलता और स्थिर विनिमय दर

- (1) 1  
(2) 2  
(3) 3  
(4) 4

1[Option ID=29733]  
2[Option ID=29734]  
3[Option ID=29735]  
4[Option ID=29736]

Question Description : economics\_economics\_set1\_english\_q9

Sl. No.10  
QBID:11010

If the two events A and B are not independent then which of the following is correct?

1.  $P(A \cap B) = P(A) \cdot P(B)$
2.  $P(A \cap B) = P(A) \cdot P(B/A)$
3.  $P(A \cap B) = P(A) \cdot P(A/B)$
4.  $P(A \cap B) = 1 - P(A \cup B)$

- (1) 1  
(2) 2  
(3) 3  
(4) 4

यदि दो घटनाएँ A and B स्वतंत्र नहीं है तो निम्नलिखित में कौन सही है ।

1.  $P(A \cap B) = P(A) \cdot P(B)$
2.  $P(A \cap B) = P(A) \cdot P(B/A)$
3.  $P(A \cap B) = P(A) \cdot P(A/B)$
4.  $P(A \cap B) = 1 - P(A \cup B)$

- (1) 1  
(2) 2  
(3) 3  
(4) 4

1[Option ID=29737]  
2[Option ID=29738]  
3[Option ID=29739]  
4[Option ID=29740]

Question Description : economics\_economics\_set1\_english\_q10

Sl. No.11  
QBID:11011

The chain-weighted index is

1. The total market value of goods and services produced in each year
2. The percentage growth in real GDP
3. A method for calculating changes in prices that used an average of base year from neighbouring years
4. An Index that measures how the prices of goods and services included in GDP change.

- (1) 1

(2) 2

(3) 3

(4) 4

शृंखला भारित (चेन वेटेड) सूचकांक है :

1. प्रत्येक वर्ष में उत्पादित वस्तुओं एवं सेवाओं का कुल बाजार मूल्य
2. वास्तविक सकल घरेलू उत्पाद में प्रतिशत विकास
3. किमतों में हुए परिवर्तनों के परिकलन हेतु एक ऐसी विधि जिसमें बीते हुए वर्षों से संबंधित आधारवर्ष के औसत का प्रयोग किया जाता है।
4. एक ऐसा सूचकांक जिसमें यह मापा जाता है कि सकल घरेलू उत्पाद में वस्तुओं एवं सेवाओं की कीमतों में कैसे परिवर्तन होता है।

(1) 1

(2) 2

(3) 3

(4) 4

1[Option ID=29741] Question Description : economics\_economics\_set1\_english\_q11

2[Option ID=29742]

3[Option ID=29743]

4[Option ID=29744]

Sl. No.12

QBID:11012

If the consumption function passes through the origin and  $APC = MPC$  then it must be:

1. Linear without any intercept
2. Non linear without any intercept
3. Linear with a negative intercept on the income axis
4. Linear with a positive intercept on the consumption axis

(1) 1

(2) 2

(3) 3

(4) 4

यदि उपभोग फलन मूल से गुजरता है और  $APC = MPC$ , तब यह अवश्य होगा :

1. बिना किसी अंतरोध के रेखिक
2. बिना किसी अंतरोध के गैर-रेखिक
3. आय अक्ष (घुरी) पर ऋणात्मक अंतरोध के साथ रेखिक
4. उपभोग अक्ष (घुरी) घनात्मक अंतरोध के साथ रेखिक

(1) 1

(2) 2

(3) 3

(4) 4

1[Option ID=29745] Question Description : economics\_economics\_set1\_english\_q12

2[Option ID=29746]

3[Option ID=29747]

4[Option ID=29748]

Sl. No.13

QBID:11013

Find the producer's surplus when

$$P_d = 3x^2 - 20x + 5$$

$$P_s = 15 + 9x \text{ (x is the quantity)}$$

1. 400

2. 350

3. 450

4. 500

(1) 1

(2) 2

(3) 3

(4) 4

यह उत्पादक अधिशेष (बचत) को ज्ञात कीजिए जिसमें यह दिया गया हो कि :

$$P_d = 3x^2 - 20x + 5$$

$$P_s = 15 + 9x \text{ (x मात्रा है)}$$

1. 400
2. 350
3. 450
4. 500

- (1) 1
- (2) 2
- (3) 3
- (4) 4

1[Option ID=29749]  
2[Option ID=29750]  
3[Option ID=29751]  
4[Option ID=29752]

Question Description : economics\_economics\_set1\_english\_q13

Sl. No.14  
QBID:11014

The demand function for good A is given by  $Q_A = 100 - 2P_A + 0.2 Y + 0.3 P_B$ . Find the income elasticities of demand  $P_A = 6$ ,  $Y = 500$ ,  $P_B = 10$

1. 0.06
2. 0.02
3. 0.52
4. -0.06

- (1) 1
- (2) 2
- (3) 3
- (4) 4

किसी वस्तु A हेतु मांग प्रकार्य / फलन,  $Q_A = 100 - 2P_A + 0.2 Y + 0.3 P_B$  दिया गया है,

$P_A = 6$ ,  $Y = 500$ ,  $P_B = 10$  पर मांग की आय-लोचता (प्रत्यास्थता) ज्ञात कीजिए ।

1. 0.06
2. 0.02
3. 0.52
4. -0.06

- (1) 1
- (2) 2
- (3) 3
- (4) 4

1[Option ID=29753]  
2[Option ID=29754]  
3[Option ID=29755]  
4[Option ID=29756]

Question Description : economics\_economics\_set1\_english\_q14

Sl. No.15  
QBID:11015

Find the substitution parameter  $\rho$ (rho) of constant elasticity of substitution (CES) production function when the elasticity of substitution ( $\sigma$ ) is greater than one

1.  $\rho = 0$
2.  $\rho = 1$
3.  $-1 < \rho < 0$
4.  $0 < \rho < \infty$

- (1) 1
- (2) 2
- (3) 3
- (4) 4

प्रतिस्थापन की स्थिर लोच (सी ई एस) संबंधी उत्पादन प्रकार्य / फलन के उस प्रतिस्थापन मानदण्ड को ज्ञात कीजिए जिसमें प्रतिस्थापन ( $\sigma$ ) की लोच 1 से अधिक है ?

1.  $\rho = 0$
2.  $\rho = 1$
3.  $-1 < \rho < 0$
4.  $0 < \rho < \infty$

- (1) 1
- (2) 2
- (3) 3
- (4) 4

1[Option ID=29757] Question Description : economics\_economics\_set1\_english\_q15  
2[Option ID=29758]  
3[Option ID=29759]  
4[Option ID=29760]

Sl. No.16  
QBID:11016

In logit model, as the odds ratio decreases from 1 to 0, the logit becomes

1. Negative
2. Equal to 0
3. Positive
4. Fraction

- (1) 1
- (2) 2
- (3) 3
- (4) 4

लॉजिट मॉडल (प्रतिरूप) में, यदि संयोगानुपात 1 से 0 हो जाता है, तब लॉजिट हो जाता है :

1. ऋणात्मक
2. शून्य के बराबर
3. घनात्मक
4. भिन्न

- (1) 1
- (2) 2
- (3) 3
- (4) 4

1[Option ID=29761] Question Description : economics\_economics\_set1\_english\_q16  
2[Option ID=29762]  
3[Option ID=29763]  
4[Option ID=29764]

Sl. No.17  
QBID:11017

Given regression model as  $Y_i = \alpha_1 + \beta_1 X_i + \beta_2 (X_i - X^*) D_i + U_i$  such a model is used to:

1. Deseasonalise a quarterly time series data
2. Seasonally adjust a monthly time series data
3. To conduct chow test for structural break in time series data
4. Test piecewise linear relationship in the data

- (1) 1
- (2) 2
- (3) 3
- (4) 4

यदि  $Y_i = \alpha_1 + \beta_1 X_i + \beta_2 (X_i - X^*) D_i + U_i$  के रूप में प्रतिगमन मॉडल दिया गया हो तो इस प्रकार के मॉडल का प्रयोग निम्नांकित में से किस हेतु किया जाता है ?

1. किसी चतुर्थांशक समय (काल) श्रेणी आंकड़ों को वे (गैर) मौसमीकृत बनाना ।
2. मासिक समय (काल) श्रेणी आंकड़ों का मौसमी समायोजन करना ।
3. समय (काल) श्रेणी - आंकड़ों में संरचनात्मक विराम हेतु चाऊ परीक्षण करने हेतु ।
4. आंकड़ों में खंडवार रेखिक संबंध हेतु परीक्षण ।

- (1) 1
- (2) 2



(3) 3

(4) 4

1[Option ID=29765] Question Description : economics\_economics\_set1\_english\_q17  
2[Option ID=29766]  
3[Option ID=29767]  
4[Option ID=29768]

Sl. No.18  
QBID:11018

A player tosses two fair coins. He wins Rs. 5 if 2 heads occur, Rs 2 if 1 head occurs and Rs. 1 if no head occurs. Find his expected gain.

1. Rs. 2
2. Rs. 2.25
3. Rs. 2.75
4. Rs. 2.50

(1) 1

(2) 2

(3) 3

(4) 4

कोई खिलाड़ी दो सिक्के उछालता है। यह सिक्के के 2 बार हेड आने पर 5 रुपए, 1 बार हेड आने पर 2 रुपए और बिना हेड आए 1 रुपए जीत (प्राप्त) जाता है। उसे प्राप्त होने वाले (अपेक्षित) लाभ को ज्ञात कीजिए।

1. 2.00 रुपए
2. 2.25 रुपए
3. 2.75 रुपए
4. 2.50 रुपए

(1) 1

(2) 2

(3) 3

(4) 4

1[Option ID=29769] Question Description : economics\_economics\_set1\_english\_q18  
2[Option ID=29770]  
3[Option ID=29771]  
4[Option ID=29772]

Sl. No.19  
QBID:11019

A card is thrown from a well shuffled pack of playing cards. Find the probability that it is either a diamond or a king.

1.  $\frac{17}{52}$
2.  $\frac{16}{52}$
3.  $\frac{18}{52}$
4.  $\frac{15}{52}$

(1) 1

(2) 2

(3) 3

(4) 4

ताश के पत्तों की किसी अच्छी तरह से फेंटी गयी गड्डी (पैकेट) से एक पत्ता निकाला जाता है। इसके एक ईंट का पत्ता होने अथवा बादशाह (किंग) होने की प्रायिकता ज्ञात कीजिए।

1.  $\frac{17}{52}$
2.  $\frac{16}{52}$
3.  $\frac{18}{52}$
4.  $\frac{15}{52}$

(1) 1

(2) 2

(3) 3

(4) 4

1[Option ID=29773] Question Description : economics\_economics\_set1\_english\_q19

2[Option ID=29774]  
3[Option ID=29775]  
4[Option ID=29776]

Sl. No.20  
QBID:11020

In simultaneous equation models, OLS can be applied directly if

1. It is a recursive model
2. Order condition is satisfied
3. Rank condition is satisfied
4. Both order and rank conditions are satisfied

- (1) 1  
(2) 2  
(3) 3  
(4) 4

युगपत् समीकरण मॉडल (प्रतिरूपों) में, ओ एल एस (OLS) को प्रत्यक्ष प्रयुक्त किया जा सकता है यदि :

1. यह एक पुनरावर्तन मॉडल (प्रतिरूप) है।
2. क्रम-शर्त सन्तुष्ट (पूरी) होती हों।
3. रैंक (कोटि) शर्त सन्तुष्ट (पूरी) होती हों।
4. क्रम और रैंक (कोटि) दोनों शर्तें सन्तुष्ट (पूरी) होती हैं।

- (1) 1  
(2) 2  
(3) 3  
(4) 4

1[Option ID=29777] Question Description : economics\_economics\_set1\_english\_q20  
2[Option ID=29778]  
3[Option ID=29779]  
4[Option ID=29780]

Sl. No.21  
QBID:11021

The Rural Landless Employment guarantee Programme (RLEGP) was launched on :

1. 15th August 1947
2. 15th August 1950
3. 15th August 1983
4. 15th August 2000

- (1) 1  
(2) 2  
(3) 3  
(4) 4

ग्रामीण भूमिहीन रोजगार गारंटी कार्यक्रम (आर एल ई जी पी) कब शुरू किया गया था ?

1. 15 अगस्त 1947
2. 15 अगस्त 1950
3. 15 अगस्त 1983
4. 15 अगस्त 2000

- (1) 1  
(2) 2  
(3) 3  
(4) 4

1[Option ID=29781] Question Description : economics\_economics\_set1\_english\_q21  
2[Option ID=29782]  
3[Option ID=29783]  
4[Option ID=29784]

Sl. No.22  
QBID:11022

The Foreign Trade Policy (2015-2020) was announced on which date ?

1. 1 August 2015
2. 1 April 2015
3. 30 August 2015
4. 30 April 2015

- (1) 1  
(2) 2

(3) 3

(4) 4

विदेश व्यापार नीति (2015-2020) की घोषणा किस तारीख को की गई थी ?

1. 1 अगस्त, 2015
2. 1 अप्रैल, 2015
3. 30 अगस्त, 2015
4. 30 अप्रैल, 2015

(1) 1

(2) 2

(3) 3

(4) 4

1[Option ID=29785]  
2[Option ID=29786]  
3[Option ID=29787]  
4[Option ID=29788]

Question Description : economics\_economics\_set1\_english\_q22

Sl. No.23

QBID:11023

Who was the chairman of 14th Finance Commission in India ?

1. Dr. Vijay Kelkar
2. Dr Y.V. Reddy
3. Dr. C. Rangarajan
4. Dr. N.K. Singh

(1) 1

(2) 2

(3) 3

(4) 4

भारत के 14वें वित्त आयोग के अध्यक्ष कौन थे ?

1. डॉ. विजय केलकर
2. डॉ. वाई. वी. रेड्डी
3. डॉ. सी. रंगराजन
4. डॉ. एन. के. सिंह

(1) 1

(2) 2

(3) 3

(4) 4

1[Option ID=29789]  
2[Option ID=29790]  
3[Option ID=29791]  
4[Option ID=29792]

Question Description : economics\_economics\_set1\_english\_q23

Sl. No.24

QBID:11024

Zamindari Tenure was introduced by :

1. Thomas Munro
2. Lord Cornwallis
3. H. Venkatasubbiah
4. G. Myrdal

(1) 1

(2) 2

(3) 3

(4) 4

जमींदारी प्रथा की शुरुआत किसने की थी ?

1. थॉमस मुनरो
2. लॉर्ड कार्नवालिस
3. एच. वेंकटसुबैया
4. जी. मिरडाल

(1) 1

(2) 2

(3) 3

(4) 4

1[Option ID=29793]  
2[Option ID=29794]  
3[Option ID=29795]  
4[Option ID=29796]

Question Description : economics\_economics\_set1\_english\_q24

Sl. No.25  
QBID:11025

Which of the following is true in case of the non-marketed environmental resources?

1. Non excludable and non-rival in consumption
2. Excludable but not rival in consumption
3. Excludable and rival in consumption
4. Non-excludable but rival in consumption

(1) 1  
(2) 2  
(3) 3  
(4) 4

गैर-विपणित पर्यावरणीय संसाधनों के मामले में निम्नलिखित में से कौन सा विकल्प सही है स

1. उपभोग में गैर-अपवर्जनीय और गैर-प्रतिस्पर्धी ।
2. उपभोग में अपवर्जनीय, लेकिन प्रतिस्पर्धी नहीं।
3. उपभोग में अपवर्जनीय और प्रतिस्पर्धी ।
4. उपभोग में गैर-अपवर्जनीय, लेकिन प्रतिस्पर्धी ।

(1) 1  
(2) 2  
(3) 3  
(4) 4

1[Option ID=29797]  
2[Option ID=29798]  
3[Option ID=29799]  
4[Option ID=29800]

Question Description : economics\_economics\_set1\_english\_q25

Sl. No.26  
QBID:11026

Suppose 'X' places Rs. 8 value on one bread packet and 'Y' places Rs. 6 value on it. If there is no tax on bread, then price of bread packet is Rs. 5. so both X and Y choose to buy one packet each. Now suppose government levies a tax of Rs.. 2 per unit, the price of bread rises to Rs. 7. Then the deadweight loss and tax revenue collected respectively are:

1. Rs. 1 and Rs. 2
2. Rs. 2 and Rs. 4
3. Rs. 2 and Rs. 2
4. Rs. 1 and Rs. 4

(1) 1  
(2) 2  
(3) 3  
(4) 4

मान लीजिए 'X' एक ब्रेड के पैकेट का मूल्य 8 रुपये निर्धारित करता है और 'Y' उसका मूल्य 6 रुपये निर्धारित करता है । यदि ब्रेड पर कोई कर नहीं लगाया जाता है तो ब्रेड के पैकेट का मूल्य 5 रुपये है । इसलिए 'X' और 'Y' एक-एक पैकेट खरीदते हैं। अब यदि सरकार 2 रुपये प्रति यूनिट कर लगा देती है तो ब्रेड का मूल्य बढ़कर 7 रुपये हो जाता है । तो कुल भार हानि और संग्रहीत कर राजस्व क्रमशः होंगे -

1. 1 रुपया और 2 रुपये
2. 2 रुपया और 4 रुपये
3. 2 रुपया और 2 रुपये
4. 1 रुपया और 4 रुपये

(1) 1  
(2) 2  
(3) 3  
(4) 4

1[Option ID=29801]  
2[Option ID=29802]  
3[Option ID=29803]  
4[Option ID=29804]

Question Description : economics\_economics\_set1\_english\_q26

Sl. No.27  
QBID:11027

The component which distinguishes primary deficit from fiscal deficit is :

1. Non-debt component of capital receipt
2. Interest payment
3. Debt component of capital receipt
4. Revenue deficit

(1) 1

(2) 2

(3) 3

(4) 4

निम्नलिखित में से कौन सा घटक प्राथमिक घाटे को राजकोषीय घाटे से अलग करता है ?

1. पूँजीगत प्राप्ति का गैर-ऋण घटक
2. ब्याज भुगतान
3. पूँजीगत प्राप्ति का ऋण घटक
4. राजस्व घाटा

(1) 1

(2) 2

(3) 3

(4) 4

1[Option ID=29805]

Question Description : economics\_economics\_set1\_english\_q27

2[Option ID=29806]

3[Option ID=29807]

4[Option ID=29808]

Sl. No.28

QBID:11028

Which of the following is not an assumption or conclusion of the inflation targeting approach ?

1. Interest rate is the major instrument of monetary policy
2. Higher interest rate controls aggregate demand
3. Inflation is a supply side phenomenon
4. Quantity of money supply is not very effective in controlling inflation

(1) 1

(2) 2

(3) 3

(4) 4

निम्नलिखित में से कौन-सा 'इनफ्लेशन फारगेटिंग एप्रोच' का पूर्वानुमान या निष्कर्ष नहीं है ?

1. ब्याज दर, मौद्रिक नीति का प्रमुख साधन है ।
2. उच्च ब्याज दर समग्र माँग को नियंत्रित करती है ।
3. मुद्रास्फीति आपूर्ति पक्ष से संबंधित परिदृश्य होता है ।
4. मुद्रा आपूर्ति की मात्रा, मुद्रास्फीति को नियंत्रित करने में बहुत प्रभावी नहीं होती है ।

(1) 1

(2) 2

(3) 3

(4) 4

1[Option ID=29809]

Question Description : economics\_economics\_set1\_english\_q28

2[Option ID=29810]

3[Option ID=29811]

4[Option ID=29812]

Sl. No.29

QBID:11029

In context of monetary policy, the sacrifice ratio refers to the\_\_\_\_\_

1. Interest cost arising because of crowding out effect
2. Loss of real value of money at the face of increasing inflation
3. Output cost of reducing inflation
4. Labour cost raising minimum wage

(1) 1

(2) 2

(3) 3

(4) 4

मौद्रिक नीति के परिप्रेक्ष्य में घाटे के अनुपात से तात्पर्य है -

1. हासकारी प्रभाव के कारण ब्याज-लागत में वृद्धि होना
2. बढ़ती मुद्रास्फीति के सापेक्ष मुद्रा के वास्तविक मूल्य में कमी
3. मुद्रास्फीति में कमी लाने की उत्पादन लागत
4. श्रम लागत के कारण न्यूनतम मजदूरी में वृद्धि

(1) 1

(2) 2

(3) 3

(4) 4

1[Option ID=29813]

Question Description : economics\_economics\_set1\_english\_q29

2[Option ID=29814]

3[Option ID=29815]

4[Option ID=29816]

Sl. No.30

QBID:11030

Which of the following formula is used to calculate the yield of treasury bills (T-bills) where

Y = Discounted yield

P = Price

D = Days to maturity

1.  $Y = \frac{P \times 365 \times 100}{P \times D}$
2.  $Y = \frac{D \times 365 \times 100}{P \times D}$
3.  $Y = \frac{(100 - P) \times 365 \times 100}{P \times D}$
4.  $Y = \frac{(100 - D) \times 365 \times 100}{P \times D}$

(1) 1

(2) 2

(3) 3

(4) 4

निम्नलिखित में से किस फार्मूले का प्रयोग राजकोषीय बिलों (री-बिलों) के प्रतिफल की गणना करने के लिए किया जाता है जहाँ

Y = बट्टागत उत्पादन

P = मूल्य

D = परिपक्वता अवधि

1.  $Y = \frac{P \times 365 \times 100}{P \times D}$
2.  $Y = \frac{D \times 365 \times 100}{P \times D}$
3.  $Y = \frac{(100 - P) \times 365 \times 100}{P \times D}$
4.  $Y = \frac{(100 - D) \times 365 \times 100}{P \times D}$

(1) 1

(2) 2

(3) 3

(4) 4

1[Option ID=29817]

Question Description : economics\_economics\_set1\_english\_q30

2[Option ID=29818]

3[Option ID=29819]

4[Option ID=29820]

Sl. No.31

QBID:11031

The faster growth and more equal distribution of income can be examined simultaneously by

1. Gini ratio
2. Poverty-weighted growth rate
3. Kuznet curve
4. None of the above

- (1) 1
- (2) 2
- (3) 3
- (4) 4

निम्नलिखित किसके द्वारा सहकालिक रूप से तीव्र विकास (संवृद्धि) और आय के अधिक समान वितरण की जाँच की जा सकती है

1. गिनी अनुपात
2. निर्धनता भारत वृद्धि दर
3. कुजनेट चक्र
4. उपरोक्त में से कोई नहीं

- (1) 1
- (2) 2
- (3) 3
- (4) 4

1[Option ID=29821] Question Description : economics\_economics\_set1\_english\_q31  
2[Option ID=29822]  
3[Option ID=29823]  
4[Option ID=29824]

Sl. No.32  
QBID:11032

Marx refers to the concept of organic composition of capital. Which one of the following ratios is used for this (where C is constant capital, V is variable capital and S is surplus value)?

1.  $\frac{C}{V+S}$
2.  $\frac{C}{V}$
3.  $\frac{C}{(C+V)}$
4.  $\frac{(C+V)}{V}$

- (1) 1
- (2) 2
- (3) 3
- (4) 4

मार्क्स ने पूँजी के जैविक संघटन की संकल्पना का उल्लेख (संदर्भ) किया है। इसके लिए निम्नलिखित कौन सा एक अनुपात है (जहाँ C, स्थिर पूँजी है, V, चर पूँजी है और S, अधिशेष मूल्य है) ?

1.  $\frac{C}{V+S}$
2.  $\frac{C}{V}$
3.  $\frac{C}{(C+V)}$
4.  $\frac{(C+V)}{V}$

- (1) 1
- (2) 2
- (3) 3
- (4) 4

1[Option ID=29825] Question Description : economics\_economics\_set1\_english\_q32  
2[Option ID=29826]  
3[Option ID=29827]  
4[Option ID=29828]

Sl. No.33  
QBID:11033

Which of the following is not true in the case of externality?

1. It is related to human interactions
2. It is tied to consumer sovereignty
3. It is based on higher order judgements of right and wrong
4. It is an amoral concept

- (1) 1
- (2) 2
- (3) 3
- (4) 4

वाद्यता के संबंध में निम्नलिखित में से कौन सही नहीं है ?

1. यह मानव-अन्योन्य क्रियाओं से संबंधित है।
2. यह उपभोक्ता संप्रभुता से सहबद्ध है।
3. यह सही और गलत संबंधी उच्च स्तरीय निर्णयों पर आधारित है।
4. यह एक अनैतिक संकल्पना है।

- (1) 1  
(2) 2  
(3) 3  
(4) 4

1[Option ID=29829] Question Description : economics\_economics\_set1\_english\_q33  
2[Option ID=29830]  
3[Option ID=29831]  
4[Option ID=29832]

Sl. No.34  
QBID:11034

Compensating variation for a price decrease of a good can be interpreted as :

1. Willingness to pay
2. Willingness to accept
3. Both 1 and 2
4. None

- (1) 1  
(2) 2  
(3) 3  
(4) 4

वस्तु के मूल्य में कमी हेतु प्रतिपूरककारी प्रसरण को इस रूप में व्याख्यायित किया जा सकता है।

1. भुगतान करने के प्रतित्परता
2. स्वीकार करने के प्रति तत्परता
3. 1 और 2 दोनों
4. कोई भी नहीं

- (1) 1  
(2) 2  
(3) 3  
(4) 4

1[Option ID=29833] Question Description : economics\_economics\_set1\_english\_q34  
2[Option ID=29834]  
3[Option ID=29835]  
4[Option ID=29836]

Sl. No.35  
QBID:11035

Which of the following is an example of depreciation of natural capital?

1. Restoring rivers rendered unusable due to dumping of industrial effluents
2. Representation of areas that have been cleared for years of open-cut mining
3. Pollution-control activities by the public sector such as municipal waste treatment
4. Detoxifying unusable soils for urban or rural development

- (1) 1  
(2) 2  
(3) 3  
(4) 4

निम्नलिखित में से कौन प्राकृतिक पूँजी के मूल्यहास का एक उदाहरण है ?

1. औद्योगिक कचरों को फेंकने के कारण अप्रयोज्य बन गयी नदियों का जीर्णोद्धार।
2. मुक्त (विवृत) खनन के कारण वर्षों से खाली पड़ गए क्षेत्रों का पुनर्वनीकरण।
3. नगरीय अपशिष्ट निपटान के जैसे सार्वजनिक क्षेत्र द्वारा प्रदूषण - नियंत्रण गतिविधियाँ।
4. शहरी अथवा ग्रामीण विकास हेतु अप्रयोज्य मृदा का उपचार (निर्विषीकरण) करना।

- (1) 1  
(2) 2  
(3) 3  
(4) 4



1[Option ID=29837]  
2[Option ID=29838]  
3[Option ID=29839]  
4[Option ID=29840]

Question Description : economics\_economics\_set1\_english\_q35

Sl. No.36  
QBID:11036

Equivalent variation for a price increase of a good can be interpreted as:

1. Willingness to pay
2. Willingness to accept
3. Both 1 and 2
4. None

(1) 1

(2) 2

(3) 3

(4) 4

किसी वस्तु के मूल्य-वृद्धि हेतु, समतुल्य प्रसरण को इस रूप में व्याख्यायित किया जा सकता है ?

1. भुगतान करने के प्रति तत्परता
2. स्वीकार करने के प्रति तत्परता
3. भुगतान करने के प्रति तत्परता और स्वीकार करने के प्रति तत्परता दोनों
4. कोई भी नहीं

(1) 1

(2) 2

(3) 3

(4) 4

1[Option ID=29841]  
2[Option ID=29842]  
3[Option ID=29843]  
4[Option ID=29844]

Question Description : economics\_economics\_set1\_english\_q36

Sl. No.37  
QBID:11037

According to the specific factors model, which of the following is correct?

1. Trade benefits the factor specific to the export sector of each country but hurts the factor specific to the import-competing sectors with ambiguous effects on mobile factors
2. Trade hurts the factor specific to the export sector of each country and also hurts the factor specific to the import-competing sectors, with ambiguous effects on mobile factors
3. Trade benefits the factor specific to the import sector of each country but hurts the factor specific to the export-competing sectors, with ambiguous effects on mobile factors
4. Trade benefits the factor specific to the export sector as well as import-competing sector of each country, with ambiguous effects on mobile factors.

(1) 1

(2) 2

(3) 3

(4) 4

विशिष्ट कारक (साधन) मॉडल के अनुसार निम्नलिखित में से कौन-सा सही है ?

1. व्यापार, प्रत्येक देश के निर्यात क्षेत्र में संबंधित कारक (साधन) विशिष्ट को लाभ पहुँचाता है किन्तु चल (गतिशील) कारकों पर द्वयर्थक (अस्पष्ट) प्रभावों वाले आयात प्रतिस्पर्धाकारी क्षेत्रों से संबंधित कारक विशिष्ट को नुकसान पहुँचाता है ।
2. व्यापार, प्रत्येक देश के निर्यात क्षेत्र से संबंधित कारक विशिष्ट को नुकसान पहुँचाता है और चल (गतिशील) कारकों पर द्वयर्थक (अस्पष्ट) प्रभावों वाले आयात - प्रतिस्पर्धाकारी क्षेत्रों से संबंधित कारक विशिष्ट को नुकसान पहुँचाता है ।
3. व्यापार, प्रत्येक देश के आयात क्षेत्र से संबंधित कारक विशिष्ट को लाभ पहुँचाता है किन्तु चल (गतिशील) कारकों पर द्वयर्थक (अस्पष्ट) प्रभावों वाले निर्यात-प्रतिस्पर्धाकारी क्षेत्रों से संबंधित कारक विशिष्ट को नुकसान पहुँचाता है ।
4. व्यापार, प्रत्येक देश के चल कारकों पर द्वयर्थक प्रभावों वाले आयात-प्रतिस्पर्धाकारी क्षेत्र एवं निर्यात क्षेत्र से संबंधित कारक विशिष्ट को लाभ पहुँचाता है ।

(1) 1

(2) 2

(3) 3

(4) 4

1[Option ID=29845]  
2[Option ID=29846]  
3[Option ID=29847]  
4[Option ID=29848]

Question Description : economics\_economics\_set1\_english\_q37

Sl. No.38  
QBID:11038

What does 'immiserising growth' argued?

1. Export-biased growth by poor nations would worsen their terms of trade so much that they would be worse off than if they had not grown at all
2. Export-biased growth by rich nations would worsen their terms of trade so much that they would be worse off than if they had not grown at all
3. Import-biased growth by poor nations would worsen their terms of trade so much that they would be worse off than if they had not grown at all
4. Import-biased growth by Rich nations would worsen their terms of trade so much that they would be worsen off than if had not grown at all.

- (1) 1  
(2) 2  
(3) 3  
(4) 4

'इम्मिजरिंग ग्रोथ' (विमोहित संवृद्धि) का तर्क क्या है ?

1. गैर-संपन्न (कमजोर) राष्ट्रों द्वारा निर्यात आधारित विकास, वृद्धि व्यापार की शर्तों को अत्यधिक प्रतिकूल (खराब) बना देगा, फिर वे और भी प्रतिकूल (बुरी) हालत वाली हो जाएंगी, अगर उनका बिल्कुल भी विकास नहीं किया गया।
2. संपन्न देशों द्वारा निर्यात आधारित विकास, व्यापार की शर्तों को इतना अधिक प्रतिकूल बना देगा, कि वे और भी प्रतिकूल (बुरी) हालत वाली हो जाएंगी, अगर उनका बिल्कुल भी विकास नहीं किया गया।
3. गैर-संपन्न देशों द्वारा आयात आधारित विकास, व्यापार की शर्तों को इतना अधिक प्रतिकूल बना देगा, कि वे और भी प्रतिकूल (बुरी) हालत वाली हो जाएंगी, अगर उनका बिल्कुल भी विकास नहीं किया गया।
4. संपन्न देशों द्वारा आयात आधारित विकास, व्यापार की शर्तों को इतना अधिक प्रतिकूल बना देगा, कि वे और भी प्रति कूल (बुरी) हालत वाली हो जाएंगी, अगर उनका बिल्कुल भी विकास नहीं किया गया।

- (1) 1  
(2) 2  
(3) 3  
(4) 4

1[Option ID=29849]  
2[Option ID=29850]  
3[Option ID=29851]  
4[Option ID=29852]

Question Description : economics\_economics\_set1\_english\_q38

Sl. No.39  
QBID:11039

Which of the following postulates the Gravity Model correctly ?

1. The smaller and the closer the two countries are, the smaller the volume of trade between them is expected to be
2. The larger and the closer the two countries are, the larger the volume of trade between them is expected to be.
3. The larger and the closer the two countries are, the smaller the volume of trade between them is expected to be
4. The smaller and farther the two countries are, the larger the volume of trade between them is expected to be.

- (1) 1  
(2) 2  
(3) 3  
(4) 4

निम्नलिखित में से कौन ग्रेविटी मॉडल को सही ढंग से अभिगृहीत करता है ?

1. दो देश जितने लघु स्तर के और निकटतर होते हैं, उनके मध्य व्यापार की मात्रा उतनी ही लघुतर (कम) स्तर पर होने की अपेक्षा (प्रत्याशा) होती।
2. दो देश जितने बड़े (वृहत) और निकतर होते हैं, उनके मध्य व्यापार की मात्रा उतने ही व्यापक (बड़ी) स्तर पर होने की अपेक्षा (प्रत्याशा) होगी।
3. दो, देश जितने बड़े (वृहत) और निकटतर होते हैं, उनके मध्य वापार (की मात्रा उतने ही लघुतर (कम) स्तर पर होने की अपेक्षा (प्रत्याशा) होगी।
4. दो देश जितने लघुस्तर के और दूर होते हैं, उनके मध्य व्यापार की मात्रा उतने ही व्यापक (बड़े) स्तर पर होने की अपेक्षा (प्रत्याशा) होगी।

- (1) 1  
(2) 2  
(3) 3  
(4) 4

1[Option ID=29853]  
2[Option ID=29854]  
3[Option ID=29855]  
4[Option ID=29856]

Question Description : economics\_economics\_set1\_english\_q39

Sl. No.40  
QBID:11040

If the nominal tariff rate ( $t$ ) on consumers of the final commodity is 10 per cent, the ratio of the cost of the imported input to the price of the final commodity in the absence of tariffs ( $a_i$ ) is = 0.8, and the nominal tariff rate on the imported input ( $t_i$ ) = 0, then find the rate of effective protection.

1. 5%
2. 8%
3. 50%
4. 10%

- (1) 1  
(2) 2  
(3) 3  
(4) 4

यदि अंतिम पण्य (वस्तु) के उपभोक्ताओं पर आंशिक प्रशुल्क दर ( $t$ ) 10 प्रतिशत है, प्रशुल्कों के अभाव की स्थिति में अंतिम पण्य की कीमत के लिए आयातित निवेश (आगत) की लागत का अनुपात ( $a_i$ ) = 0.8 प्रतिशत है, और आयातित निवेश (आगत) ( $t_i$ ) पर आंशिक प्रशुल्क दर = 0 है, तब प्रभावी संरक्षण की दर ज्ञात कीजिए।

1. 5%
2. 8%
3. 50%
4. 10%

- (1) 1  
(2) 2  
(3) 3  
(4) 4

1[Option ID=29857] Question Description : economics\_economics\_set1\_english\_q40  
2[Option ID=29858]  
3[Option ID=29859]  
4[Option ID=29860]

Sl. No.41  
QBID:11041

Which of the followings are true for ridge lines?

- A. they separate the relevant from the irrelevant portions of the isoquants
- B. along the ridge lines, the slope of the isoquants is either zero or infinite
- C. The relevant segment of the isoquants enclosed pertains to the stage II of production for labour and capital
- D. Producers will never want to operate outside the region enclosed within the ridge lines.
- E. The marginal product of both inputs-labour and capital is positive but declines for the portion of the isoquants within the ridge lines.

Choose the correct answer from the options given below:

1. A, C and D only
2. B, C and E only
3. A, C, D and E only
4. A, B, C, D and E only

- (1) 1  
(2) 2  
(3) 3  
(4) 4

रिज लाइन के संबंध में निम्नलिखित में से कौन से कथन सही हैं ?

- A. वे सम उत्पादों के प्रासंगिक अंशों को अप्रासंगिक अंशों से अलग करती है ।
- B. रिज लाइनों पर सम उत्पादों का ढाल या तो शून्य होता है या अनंत होता है ।
- C. संलग्न समउत्पादों का प्रासंगिक घटक श्रम और पूँजी के लिए उत्पादन के द्वितीय चरण से संबंधित होता है ।
- D. उत्पादक कभी भी रिजलाइनों से घिरे क्षेत्र के बाहर प्रचालन करना नहीं चाहेंगे ।
- E. श्रम और पूँजी, दोनों आदानों का सीमांत उत्पाद घनात्मक होता है, लेकिन रिज लाइनों के भीतर समउत्पादनों के अंश के लिए घटता है ।

नीचे दिए गए विकल्पों में से सही उत्तर का चयन कीजिए :

- 1. केवल A, C और D
- 2. केवल B, C और E
- 3. केवल A, C, D और E
- 4. केवल A, B, C, D और E

(1) 1

(2) 2

(3) 3

(4) 4

1[Option ID=29861] Question Description : economics\_economics\_set1\_english\_q41  
2[Option ID=29862]  
3[Option ID=29863]  
4[Option ID=29864]

Sl. No.42  
QBID:11042

Which of the followings are true about a fair game or fair bet ?

- A. The entry of a fair bet is zero
- B. The person who accepts fair bet is said to be risk lover
- C. expected value of income from the bet is equal to the same amount of income with certainty
- D. The person who refuses a fair bet is said to be risk neutral
- E. The person who refuses a fair bet is said to be risk averse.

Choose the correct answer from the options given below:

- 1. A and C only
- 2. B and E only
- 3. C and D only
- 4. C and E only

(1) 1

(2) 2

(3) 3

(4) 4

उचित खेल और उचित बाजी के बारे में निम्नलिखित में से कौन से कथन सही हैं ?

- A. उचित बाजी की प्रविष्टि शून्य होती है ।
- B. उचित बाजी को स्वीकार करने वाले व्यक्ति को जोखिम-इच्छुक कहा जाता है ।
- C. बाजी से प्रत्याशित आय सुनिश्चित आय के बराबर होती है ।
- D. उचित बाजी को अस्वीकार करने वाले व्यक्ति को जोखिम तटस्थ कहाँ जाता है ।
- E. उचित बाजी को अस्वीकार करने वाले व्यक्ति को जोखिम - अनिच्छुक कहाँ जाता है ।

नीचे दिए गए विकल्पों में से सही उत्तर का चयन कीजिए :

- 1. केवल A और C
- 2. केवल B और E
- 3. केवल C और D
- 4. केवल C और E

(1) 1

(2) 2

(3) 3

(4) 4

1[Option ID=29865] Question Description : economics\_economics\_set1\_english\_q42  
2[Option ID=29866]  
3[Option ID=29867]  
4[Option ID=29868]

Sl. No.43  
QBID:11043

According to the modern theory of rent

- A. All the factors may earn rent
- B. Rent can only be earned in long-run
- C. Transfer earning of an unused factor is zero
- D. Only land can earn rent
- E. Entire earning of an unused factor is economic rent.

Choose the correct answer from the options given below:

- 1. A, B and C only
- 2. A, C and E only
- 3. B, C and E only
- 4. A, C and D only

- (1) 1
- (2) 2
- (3) 3
- (4) 4

आधुनिक लगान सिद्धांत के अनुसार

- A. सभी कारक लगान अर्जित कर सकते हैं।
- B. लगान केवल दीर्घकाल में अर्जित किया जा सकता है।
- C. अप्रयुक्त कारक की अंतरण आय शून्य होती है।
- D. केवल भूमि लगान अर्जित कर सकती है।
- E. किसी अप्रयुक्त कारक की संपूर्ण आय तो आर्थिक लगान कहा जाता है।

नीचे दिए गए विकल्पों में से सही उत्तर का चयन कीजिए :

- 1. केवल A, B, और C
- 2. केवल A, C और E
- 3. केवल B, C और E
- 4. केवल A, C और D

- (1) 1
- (2) 2
- (3) 3
- (4) 4

1[Option ID=29869] Question Description : economics\_economics\_set1\_english\_q43  
2[Option ID=29870]  
3[Option ID=29871]  
4[Option ID=29872]

Sl. No.44  
QBID:11044

Rational expectations views include :

- A. The market clearing rational expectations do not approach to the Phillips curve
- B. Rational expectation as a theory of expectations
- C. An emphasis on the credibility of policy makers
- D. A preference for policy making rules rather than discretion
- E. Generally insists that markets do not clear rapidly.

Choose the most appropriate answer from the options given below:

- 1. B, C and D only
- 2. A and E only
- 3. A, B, C, D and E
- 4. A, D and E only

- (1) 1
- (2) 2
- (3) 3

(4) 4

युक्तिपूर्ण प्रत्याशाओं के विचार में शामिल हैं -

- A. बाजार समाशोधन संबंधी युक्तिपूर्ण प्रत्याशाएँ फिलिप वक्र के अनुरूप नहीं होती हैं ।
- B. प्रत्याशाओं के सिद्धांत के रूप में युक्तिपूर्ण प्रत्याशा
- C. नीति निर्माताओं की विश्वसनीयता पर बल
- D. विवेक (समझ) की अपेक्षा नीतिनिर्माणकारी नियमों हेतु वरीयता
- E. सामान्यतः इस पर बलदिया जाता है कि बाजार द्रुतगामी तरीके से शोधित नहीं होती हैं ।

नीचे दिए गए विकल्पों में से सही उत्तर का चयन कीजिए :

- 1. केवल B, C और D
- 2. केवल A और E
- 3. केवल A, B, C, D और E
- 4. केवल A, D और E

(1) 1

(2) 2

(3) 3

(4) 4

1[Option ID=29873]

Question Description : economics\_economics\_set1\_english\_q44

2[Option ID=29874]

3[Option ID=29875]

4[Option ID=29876]

Sl. No.45

QBID:11045

In the budget at glance, which of the following items are included ?

- A. budget estimate of the current year
- B. Revised estimate of the current year
- C. Actuals of the current year
- D. Actuals for the preceding year
- E. Budget estimate for the forthcoming year.

Choose the most appropriate answer from the options given below:

- 1. A and D only
- 2. A, B, D and E only
- 3. A, B and C only
- 4. C and D only

(1) 1

(2) 2

(3) 3

(4) 4

बजट आट ग्लांस में, निम्नलिखित कौन-सी मद को सम्मिलित करते हैं ?

- A. वर्तमान वर्ष का बजट प्राक्कलन
- B. वर्तमान वर्ष का संशोधित प्राक्कलन
- C. वर्तमान वर्ष का वास्तविक प्राक्कलन
- D. पिछले वर्ष के लिए वास्तविक प्राक्कलन
- E. अगले वर्ष के लिए बजट प्राक्कलन

नीचे दिए गए विकल्पों में से सही उत्तर का चयन कीजिए :

- 1. केवल A और D
- 2. केवल A, B, D और E
- 3. केवल A, B और C
- 4. केवल C और D

(1) 1

(2) 2

(3) 3

(4) 4

1[Option ID=29877]  
2[Option ID=29878]  
3[Option ID=29879]  
4[Option ID=29880]

Question Description : economics\_economics\_set1\_english\_q45

Sl. No.46  
QBID:11046

How do adverse technology shocks affect labour demand and supply?

- A. Decrease the demand for labour
- B. Both real wage and employment fall
- C. Real wage increases and employment falls
- D. Real wage falls and employment increases
- E. Adverse effect on market equilibrium.

Choose the correct answer from the options given below:

- 1. A, C and D only
- 2. B, D and E only
- 3. A, B, C and D only
- 4. A, B and E only

- (1) 1
- (2) 2
- (3) 3
- (4) 4

कोई प्रतिकूल प्रौद्योगिकी आघात, श्रम-माँग और आपूर्ति को कैसे प्रभावित करती है ?

- A. श्रम हेतु माँग में कमी
- B. वास्तविक मजदूरी और रोजगार दोनों में कमी
- C. वास्तविक मजदूरी में वृद्धि और रोजगार में गिरावट
- D. वास्तविक मजदूरी में गिरावट और रोजगार में वृद्धि
- E. बाजार साम्य (संतुलन) पर प्रतिकूल प्रभाव

नीचे दिए गए विकल्पों में से सही उत्तर का चयन कीजिए :

- 1. केवल A, C और D
- 2. केवल B, D और E
- 3. केवल A, B, C और D
- 4. केवल A, B और E

- (1) 1
- (2) 2
- (3) 3
- (4) 4

1[Option ID=29881]  
2[Option ID=29882]  
3[Option ID=29883]  
4[Option ID=29884]

Question Description : economics\_economics\_set1\_english\_q46

Sl. No.47  
QBID:11047

Which of the followings are correct in case of Poisson distribution ?

- A. 'n' the number of trials is indefinitely large i.e.  $n \rightarrow \infty$
- B. 'p', the constant probability of success for each trial is indefinitely large
- C.  $np = m$  is finite
- D.  $\mu_3 = m+2$
- E.  $\mu_4 = m + 3m^2$

Choose the correct answer from the options given below:

- 1. A, C and D only
- 2. A, C and E only
- 3. B, C and E only
- 4. B, C and D only

- (1) 1
- (2) 2
- (3) 3

(4) 4

प्लाइसन वितरण के संदर्भ में निम्नलिखित कौन से सही हैं ?

- A. परीक्षणों की संख्या  $n$ , अनन्त होती है अर्थात्  $n \rightarrow \infty$
- B. प्रत्येक परीक्षण हेतु सफलता की निर्यात संभाव्यता,  $p$ , अनन्त होती है ।
- C.  $np = m$  सीमित होता है ।
- D.  $\mu_3 = m + 2$
- E.  $\mu_4 = m + 3m^2$

नीचे दिए गए विकल्पों में से सही उत्तर का चयन कीजिए ०:

- 1. केवल A, C और D
- 2. केवल A, C और E
- 3. केवल B, C और E
- 4. केवल B, C और D

(1) 1

(2) 2

(3) 3

(4) 4

1[Option ID=29885] Question Description : economics\_economics\_set1\_english\_q47  
2[Option ID=29886]  
3[Option ID=29887]  
4[Option ID=29888]

Sl. No.48  
QBID:11048

Which of the followings are correct conclusions without error in case of testing of Hypothesis ?

- A. Reject null hypothesis ( $H_0$ ), when it is true
- B. Accept  $H_0$ , when it is true
- C. Accept  $H_0$ , when Alternate hypothesis ( $H_1$ ) is true.
- D. Reject  $H_0$  when  $H_1$  is true.
- E. Accept  $H_0$  when  $H_1$  is false.

Choose the correct answer from the options given below:

- 1. A, B and D only
- 2. B, D and E only
- 3. B, C and E only
- 4. A, C and E only

(1) 1

(2) 2

(3) 3

(4) 4

प्राक्कल्पना के परीक्षण के संदर्भ में निम्नलिखित कौन से बीना त्रुटि से सत्य निष्कर्ष हैं ?

- A. शून्य प्राक्कल्पना ( $H_0$ ) के सत्य होने पर भी इसे अस्वीकार करना ।
- B.  $H_0$  के सत्य होने पर स्वीकार करना ।
- C.  $H_0$  के असत्य होने पर इसे स्वीकार करना, जब (Alternative) प्राक्कल्पना ( $H_1$ ) सत्य हो।
- D.  $H_1$  के सत्य होने पर,  $H_0$  को अस्वीकार करे ।
- E.  $H_1$  के असत्य होने पर,  $H_0$  को स्वीकार करना ।

नीचे दिए गए विकल्पों में से सही उत्तर का चयन कीजिए :

- 1. केवल A, B और D
- 2. केवल B, D और E
- 3. केवल B, C और E
- 4. केवल A, C और E

(1) 1

(2) 2

(3) 3

(4) 4

1[Option ID=29889] Question Description : economics\_economics\_set1\_english\_q48



2[Option ID=29890]  
3[Option ID=29891]  
4[Option ID=29892]

Sl. No.49  
QBID:11049

Which of the followings are correct for OLS estimation in the presence of Heteroscedasticity ?

- A. The estimated coefficients are linear
- B. The estimated coefficients are unbiased
- C. The estimated coefficients are biased
- D. The estimated coefficients are consistent
- E. The estimated coefficients are efficient.

Choose the correct answer from the options given below:

- 1. A, C and D only
- 2. A, B and D only
- 3. A, C and E only
- 4. A, C and D only

- (1) 1
- (2) 2
- (3) 3
- (4) 4

विषमविसारिता की उपस्थिति में किए हुए ओ एल एस अनुमान के बारे में निम्नलिखित कौन से सही हैं ?

- A. प्राक्कलित गुणांक रेखिक होते हैं ।
- B. प्राक्कलित गुणांक निष्पक्ष होते हैं ।
- C. प्राक्कलित गुणांक निष्पक्ष नहीं होते हैं ।
- D. प्राक्कलित गुणांक संगत होते हैं ।
- E. प्राक्कलित गुणांक दक्ष होते हैं ।

नीचे दिए गए विकल्पों में से सही उत्तर का चयन कीजिए :

- 1. केवल A, C और D
- 2. केवल A, B और D
- 3. केवल A, C और E
- 4. केवल A, C और D

- (1) 1
- (2) 2
- (3) 3
- (4) 4

1[Option ID=29893] Question Description : economics\_economics\_set1\_english\_q49  
2[Option ID=29894]  
3[Option ID=29895]  
4[Option ID=29896]

Sl. No.50  
QBID:11050

Which of the followings satisfy the assumptions of the classical linear regression model ?

- A. Zero mean value of disturbance  $U_i$
- B. The explanatory variables and the error terms are not independent
- C. Homoscedasticity or constant variance of  $U_i$
- D. No auto correlation between the disturbances
- E. There is more than one exact linear relationship between explanatory variables.

Choose the most appropriate answer from the options given below:

- 1. A, B, C and D only
- 2. A, C, D and E only
- 3. A, C and D only
- 4. C, D and E only

- (1) 1
- (2) 2
- (3) 3
- (4) 4

निम्नलिखित में से कौन क्लासकीय रैखिक प्रतिगमन मॉडल की पूर्वधारणा की संपुष्टि करते हैं ?

- A. डिस्ट्रिब्यून्स  $u_i$  का शून्य माध्य मूल्य
- B. व्याख्यात्मक चर और तुष्टिपूर्ण पद स्वतंत्र नहीं होते हैं ।
- C.  $u_i$  की विषम विसारिता अथवा नियत प्रसरण।
- D. डिस्ट्रिब्यून्सों के मध्य कोई स्व-सहसंबंध नहीं होता ।
- E. इसमें व्याख्यात्मक चरों के मध्य एक से अधिक सटीक रैखिक संबंध होता है ।

नीचे दिए गए विकल्पों में से सही उत्तर का चयन कीजिए :

- 1. केवल A, B, C और D
- 2. केवल A, C, D और E
- 3. केवल A, C और D
- 4. केवल C, D और E

(1) 1

(2) 2

(3) 3

(4) 4

1[Option ID=29897] Question Description : economics\_economics\_set1\_english\_q50

2[Option ID=29898]

3[Option ID=29899]

4[Option ID=29900]

Sl. No.51

QBID:11051

If A, B and C are three different non-empty sets, then find which of the following are correct in laws of set operations ?

- A.  $(A')' = A$
- B.  $(A \cup B) = 1 - (A \cap B)$
- C.  $A \cup (B \cap C) = (A \cup B) \cap C$
- D.  $A \cup (B \cap C) = (A \cap B) \cup (A \cap C)$
- E.  $A - B = A \cap B'$

Choose the correct answer from the options given below:

- 1. A, C and D only
- 2. A, C and E only
- 3. A, B and C only
- 4. C, D and E only

(1) 1

(2) 2

(3) 3

(4) 4

यदि A, B और C तीन भिन्न गैर-खाली (भरे हुए) समुच्चय हों, तो समुच्चय की संक्रिया के नियम में निम्नलिखित कौन-से सही हैं ?

- A.  $(A')' = A$
- B.  $(A \cup B) = 1 - (A \cap B)$
- C.  $A \cup (B \cap C) = (A \cup B) \cap C$
- D.  $A \cup (B \cap C) = (A \cap B) \cup (A \cap C)$
- E.  $A - B = A \cap B'$

नीचे दिए गए विकल्पों में से सही उत्तर का चयन कीजिए :

- 1. केवल A, C और D
- 2. केवल A, C और E
- 3. केवल A, B और C
- 4. केवल C, D और E

(1) 1

(2) 2

(3) 3

(4) 4

1[Option ID=29901] Question Description : economics\_economics\_set1\_english\_q51

2[Option ID=29902]

3[Option ID=29903]  
4[Option ID=29904]

Sl. No.52  
QBID:11052

In multiple regression model, a hypothesis such as  $H_0 : \beta_2 = \beta_3 = 0$  can be tested using

1. t-test
2. Chi-square test
3. ANOVA test
4. F-test

- (1) 1  
(2) 2  
(3) 3  
(4) 4

बहुचल प्रतिगमन मॉडल में, निम्नलिखित में से कौन प्राक्कल्पना जैसे  $H_0 : \beta_2 = \beta_3 = 0$  कि जाँच में उपयुक्त है।

1. t-टैस्ट
2. कार्ई - सक्यर टैस्ट
3. ANOVA टैस्ट
4. F-टैस्ट

- (1) 1  
(2) 2  
(3) 3  
(4) 4

1[Option ID=29905] Question Description : economics\_economics\_set1\_english\_q52  
2[Option ID=29906]  
3[Option ID=29907]  
4[Option ID=29908]

Sl. No.53  
QBID:11053

Which of the followings are the indicators of Human Development Index ?

- A. Real GDP per capita
- B. Adult literacy rate combined with enrolment ratio
- C. Life expectancy at birth
- D. Malnutrition under five
- E. IMR under five.

Choose the correct answer from the options given below:

1. A, B and E only
2. B, C and D only
3. A, B and C only
4. C, D and E only

- (1) 1  
(2) 2  
(3) 3  
(4) 4

मानव विकास रिपोर्ट के निम्नलिखित कौन-कौन से संकेतक हैं ?

- A. प्रतिव्यक्ति आधारित वास्तविक एकल घरेलू उत्पाद (जीडीपी)
- B. नामांकन अनुपात सहित प्रौढ़ साक्षरता दर
- C. जन्म के समय जीवन प्रत्याशा
- D. पाँच वर्ष की आयु के नीचे के बच्चों में कुपोषण
- E. पाँच वर्ष की आयु के नीचे के बच्चों की शिशु मृत्यु दर

नीचे दिए गए विकल्पों में से सही उत्तर का चयन कीजिए :

1. केवल A, B और E
2. केवल B, C और D
3. केवल A, B और C
4. केवल C, D और E

- (1) 1

- (2) 2  
(3) 3  
(4) 4

1[Option ID=29909] Question Description : economics\_economics\_set1\_english\_q53  
2[Option ID=29910]  
3[Option ID=29911]  
4[Option ID=29912]

Sl. No.54  
QBID:11054

Which of the following are correct for the Finance Commission ?

- A. It is constituted under Article 380 of the Constitution  
B. It is a statutory body  
C. It is constituted under Article 280 of the Constitution  
D. Prof. K C Pant was Chairman of 10th Finance Commission  
E. Dr. Vijay Kelkar was Chairman of 14th Finance Commission.

Choose the most appropriate answer from the options given below.

1. B, C and D only  
2. A, B and D only  
3. C, D and E only  
4. A, C and E only

- (1) 1  
(2) 2  
(3) 3  
(4) 4

निम्नलिखित में से कौन से वित्त आयोग के संबंध में सही हैं ?

- A. इसका गुठन संविधान के अनुच्छेद 380 के अन्तर्गत किया जाता है ।  
B. यह एक सांविधिक निकाय है ।  
C. यह संविधान के अनुच्छेद 280 के अन्तर्गत गठित किया जाता है ।  
D. प्रोफेसर के.सी. पन्त वित्त आयोग 10 वें अध्यक्ष थे ।  
E. डा. विजय केलकर वित्त आयोग 14 वें अध्यक्ष थे ।

नीचे दिए गए विकल्पों में से सही उत्तर का चयन कीजिए :

1. केवल B, C और D  
2. केवल A, B और D  
3. केवल C, D और E  
4. केवल A, C और E

- (1) 1  
(2) 2  
(3) 3  
(4) 4

1[Option ID=29913] Question Description : economics\_economics\_set1\_english\_q54  
2[Option ID=29914]  
3[Option ID=29915]  
4[Option ID=29916]

Sl. No.55  
QBID:11055

Which of the following are true ?

- A. Product taxes will raise prices less under monopoly than under competition  
B. A tax on capital income tends to be progressive, whereas tax on wage income tends to be regressive  
C. The burden of tax will be distributed between sellers and buyers in the ratio of elasticity of demand to that of supply.  
D. A unit tax enters through a parallel downward shift in the supply schedule  
E. Imposition of tax raises price and quantity.

Choose the most appropriate answer from the options given below:

1. A and B only  
2. A, B and C only  
3. A, B, C and D only  
4. A, B, C and E only

- (1) 1
- (2) 2
- (3) 3
- (4) 4

निम्नलिखित में से कौन सही हैं ?

- A. उत्पाद कर प्रतिस्पर्धा की स्थिति की अपेक्षा एकाधिकार की स्थिति में कीमतों में कम वृद्धि करेंगे ।
- B. पूँजीगत आय पर कर प्रगतिशील होने की ओर प्रवृत्त होता है जबकि मजदूरी से प्राप्त आय पर कर हासमान होने की ओर प्रवृत्त होता है ।
- C. आपूर्ति की माँग की लोच के अनुपात में कर दायित्व विक्रेता एवं क्रेता के मध्य विभाजित हो जाएगा ।
- D. आपूर्ति सारणी में कोई इकाई कर, समानान्तर अधोगामी अंतरण के माध्यम से प्रविष्ट करता है ।
- E. करारोपण से कीमत और मात्रा में वृद्धि हो जाती है ।

नीचे दिए गए विकल्पों में से सबसे उपयुक्त उत्तर का चयन कीजिए:

- 1. केवल A और B
- 2. केवल A, B और C
- 3. केवल A, B, C और D
- 4. केवल A, B, C और E

- (1) 1
- (2) 2
- (3) 3
- (4) 4

1[Option ID=29917]  
2[Option ID=29918]  
3[Option ID=29919]  
4[Option ID=29920]

Question Description : economics\_economics\_set1\_english\_q55

Sl. No.56  
QBID:11056

Which of the following are correct ?

- A. A competitive market can secure efficient resource use in the provision of private goods, but market failure occurs in that of social goods
- B. Efficient provision of social goods involves horizontal rather than vertical addition of Individual pseudo-demand schedules
- C. To seek efficient provision of social goods, a political process of budget determination is needed
- D. Corrective action may be needed when consumer choice is based on false advertising
- E. There are mixed cases between the extremes of purely private and purely social goods.

Choose the most appropriate answer from the options given below:

- 1. A, B and C only
- 2. A, B and E only
- 3. A, B, C and D only
- 4. A, C, D and E only

- (1) 1
- (2) 2
- (3) 3
- (4) 4

निम्नलिखित में से कौन से कथन सही है ?

- A. प्रतिस्पर्धी बाजार निजी वस्तुओं के प्रबंध के मामले में संसाधनों का दक्षतापूर्ण उपयोग सुनिश्चित कर सकता है, लेकिन सामाजिक वस्तुओं के मामले में बाजार विफलता दिखाई पड़ती है।
- B. सामाजिक वस्तुओं के दक्षतापूर्ण प्रबंध में अलग-अलग छद्म-मांग समय-सारणियों का विषम स्तरीय जुड़ाव के बजाय समस्तरीय जुड़ाव शामिल होता है।
- C. सामाजिक वस्तुओं के दक्षतापूर्ण प्रबंध के लिए बजट निर्धारण की राजनीतिक प्रक्रिया आवश्यक होती है।
- D. जब उपभोक्ता की पसंद झूठे विज्ञापन पर आधारित होती है तो सुघातात्मक कार्यवाई की आवश्यकता हो सकती है।
- E. पूर्णतः निजी और पूर्णतः सामाजिक वस्तुओं की चरमस्थितियों के बीच मिले-जुले मामले होते हैं।

नीचे दिए गए विकल्पों में से सबसे उपयुक्त उत्तर का चयन कीजिए:

- 1. केवल A, B और C
- 2. केवल A, B और E
- 3. केवल A, B, C और D
- 4. केवल A, C, D और E

- (1) 1
- (2) 2
- (3) 3
- (4) 4

1[Option ID=29921]  
2[Option ID=29922]  
3[Option ID=29923]  
4[Option ID=29924]

Question Description : economics\_economics\_set1\_english\_q56

Sl. No.57  
QBID:11057

Which of the following monetary measure is used to control inflation ?

- A. The Central Bank purchases government securities from Commercial Banks
- B. The Central Bank sells the government securities to the Commercial Banks
- C. The bank rate may be raised
- D. The bank rate may be reduced
- E. Raising of cash reserve ratio.

Choose the correct answer from the options given below"

- 1. A, C and E only
- 2. B, C and E only
- 3. A, D and E only
- 4. A and D only

- (1) 1
- (2) 2
- (3) 3
- (4) 4

मुद्रास्फीति को नियंत्रित करने के लिए निम्नलिखित में से किस मौद्रिक का प्रयोग किय जाता।

- A. केन्द्रीय बैंक, वाणिज्यिक बैंकों से सरकारी प्रतिमूतियाँ खरीदते हैं।
- B. केन्द्रीय बैंक, वाणिज्यिक बैंकों से सरकारी प्रतिमूतियाँ बेचते हैं।
- C. बैंक की दर बढ़ाई जा सकती है।
- D. बैंक की दर घटाई जा सकती है।
- E. नकद रिजर्व अनुपात को बढ़ाना।

नीचे दिए गए विकल्पों में से सही उत्तर का चयन कीजिए :

- 1. केवल A, C और E
- 2. केवल B, C और E
- 3. केवल A, D और E
- 4. केवल A और D

- (1) 1
- (2) 2
- (3) 3
- (4) 4

1[Option ID=29925]  
2[Option ID=29926]  
3[Option ID=29927]  
4[Option ID=29928]

Question Description : economics\_economics\_set1\_english\_q57

Sl. No.58  
QBID:11058

Which of the followings are correct in case of money market in India?

- A. Commercial bill is a short-term instrument with high risk
- B. Treasury bill is an instrument of short-term borrowing by the government with absence of default risk
- C. RBI uses refinance to relieve liquidity shortages in the system
- D. The RBI has switched over from daily fixed rate repos auction system to discriminatory price auction repos.
- E. SLR enables to impose secondary and supplementary reserve requirements on the banking system.

Choose the correct answer from the options given below :

- 1. A, B and D only
- 2. B, C and D only
- 3. B, C and E only
- 4. C, D and E only

- (1) 1
- (2) 2
- (3) 3
- (4) 4

भारत में धन (मुद्रा) बाजार के मामले में निम्नलिखित में से कौन-सा कथन सही है ?

- A. वाणिज्यिक बिच एक अल्पकालिका लिखत है जिसमें बड़ा जोखिम होता है ।
- B. राजकोषीय बिल, सरकार द्वारा अल्पकालिक उधारी का लिखत है जिसमें चूक जोखिम नहीं होता ।
- C. प्रणाली में तरलता की कमियों से बचने के लिए भारतीय रिजर्व बैंक पुनर्वित्तपोषण का प्रयोग करता है ।
- D. भारतीय रिजर्व बैंक के दैनिक निश्चित दर रेपो नीलामी प्रणाली के स्थान पर निमेदमूलक मूल्य नीलामी रेपो अपनाई है ।
- E. एस एल आर, बैंकिंग प्रणाली पर गौण और पूरक आरक्षिती आवश्यकताएँ अधिशेषित करने योग्य बनाता है ।

नीचे दिए गए विकल्पों में से सही उत्तर का चयन कीजिए:

- 1. केवल A, B और D
- 2. केवल B, C और D
- 3. केवल B, C और E
- 4. केवल C, D और E

- (1) 1
- (2) 2
- (3) 3
- (4) 4

1[Option ID=29929]  
2[Option ID=29930]  
3[Option ID=29931]  
4[Option ID=29932]

Question Description : economics\_economics\_set1\_english\_q58

Sl. No.59  
QBID:11059

The causes and consequences of poverty include:

- A. Unemployment
- B. Low wages
- C. Poor health
- D. Low Population Growth
- E. Low Literacy rates.

Choose the most appropriate answer from the options given below:

- 1. A and C only
- 2. B, D and E only
- 3. B, C, D and E only
- 4. A, B, C and E only

- (1) 1
- (2) 2
- (3) 3

(4) 4

निर्धनतर के कारणों और परिणामों में शामिल हैं

- A. बेरोजगारी
- B. कम मद्रूरी
- C. खराब स्वास्थ्य
- D. कम जनसंख्या वृद्धि
- E. कम साक्षरता दर

नीचे दिए गए विकल्पों में से सही उत्तर का चयन कीजिए:

- 1. केवल A और C
- 2. केवल B, D और E
- 3. केवल B, C, D और E
- 4. केवल A, B, C और E

(1) 1

(2) 2

(3) 3

(4) 4

1[Option ID=29933]

Question Description : economics\_economics\_set1\_english\_q59

2[Option ID=29934]

3[Option ID=29935]

4[Option ID=29936]

Sl. No.60  
QBID:11060

Measurement of income inequality is done by :

- A. Gini coefficient
- B. Lorenz curve
- C. Palma Ratio
- D. Deprivation ratio
- E. Phillips Curve

Choose the correct answer from the options given below:

- 1. B and E only
- 2. A and B only
- 3. A, B and C only
- 4. C and A only

(1) 1

(2) 2

(3) 3

(4) 4

आय में असमानता को निम्नलिखित के द्वारा मापा जाता है ।

- A. गिनी गुणांक
- B. लारेंज वक्र
- C. पालमा अनुपात
- D. वंचन अनुपात
- E. फिलिप्स वक्र

नीचे दिए गए विकल्पों में से सही उत्तर का चयन कीजिए:

- 1. केवल B और E
- 2. केवल A और B
- 3. केवल A, B और C
- 4. केवल C और A

(1) 1

(2) 2

(3) 3

(4) 4



1[Option ID=29937]  
2[Option ID=29938]  
3[Option ID=29939]  
4[Option ID=29940]

Question Description : economics\_economics\_set1\_english\_q60

Sl. No.61  
QBID:11061

Choose the correct statement for Schumpeter's theory of development.

- A. Development is financed by real saving.
- B. Capitalism keeps its character intact overtime
- C. Development is evolutionary
- D. Development creates inflation
- E. Unlimited Supply of labour.

Choose the correct answer from the options given below:

- 1. A and B only
- 2. C and D only
- 3. A, B, C and D only
- 4. None of the above

(1) 1

(2) 2

(3) 3

(4) 4

शुम्पीटर के विकास सिद्धांत के लिए सही कथन चुनें :

- A. विकास का वित्तपोषण वास्तविक बचत द्वारा होता है ।
- B. पूँजीवाद हमेशा अपना चरित्र अपरिवर्तित बनाए रखता है ।
- C. विकास, विकासमान होता है ।
- D. विकास से मुद्रास्फीति का सृजन होता है ।
- E. श्रम की असीमित आपूर्ति

नीचे दिए गए विकल्पों में से सही उत्तर का चयन कीजिए:

- 1. केवल A और B
- 2. केवल C और D
- 3. केवल A, B, C और D
- 4. इनमें से कोई नहीं

(1) 1

(2) 2

(3) 3

(4) 4

1[Option ID=29941]  
2[Option ID=29942]  
3[Option ID=29943]  
4[Option ID=29944]

Question Description : economics\_economics\_set1\_english\_q61

Sl. No.62  
QBID:11062

Which of the following are the features of Environmental Economics as a field of study ?

- A. It has its roots in the theory of externalities and public goods.
- B. It is based on neoclassical welfare theory
- C. It envisions human economy as a sub-system of the biosphere
- D. It engages with the law of transformations of matter and energy
- E. It focuses on finding the most efficient ways to reducing environmental damages.

Choose the correct answer from the options given below:

- 1. A, B and C only
- 2. B, C and D only
- 3. A, B and E only
- 4. C, D and E only

(1) 1

(2) 2

(3) 3

(4) 4

अध्यपन के क्षेत्र के रूप में निम्नलिखित में से कौन-सी पर्यावरणीय अर्थशास्त्र की विशेषताएँ हैं :

- A. इसका मूल बाह्यता और लोक हित सिद्धांत में निहित है ।
- B. यह नव क्लासिकल कल्याणकारी सिद्धांत पर आधारित है ।
- C. इसमें मानव अर्थव्यवस्था को जलमंडल की उप-प्रणाली के रूप में माना जाता है ।
- D. यह पदार्थ और ऊर्जा के रूपांतरण के नियम से संलग्न है ।
- E. यह पर्यावरणीय नुकसानियों को कम करने के सर्वोत्तम कार्यकुशल तरीकों को प्राप्त करने पर ध्यान केंद्रित करता है ।

नीचे दिए गए विकल्पों में से सही उत्तर का चयन कीजिए:

- 1. केवल A, B और C
- 2. केवल B, C और D
- 3. केवल A, B और E
- 4. केवल C, D और E

(1) 1

(2) 2

(3) 3

(4) 4

1[Option ID=29945]

Question Description : economics\_economics\_set1\_english\_q62

2[Option ID=29946]

3[Option ID=29947]

4[Option ID=29948]

Sl. No.63

QBID:11063

Which of the following are the essential features of weak sustainability ?

- A. It considers human-made capital and natural capital as close substitutes.
- B. It puts emphasis on the initial size of an economy since the size of the initial capital stock is considered relevant.
- C. It requires from each generation to ensure that their actions do not compromise the productive capacity of the generations to follow
- D. the composition of the capital stock of an economy does not hold great significance
- E. It renders natural capital as an absolute necessity for sustaining net national income over an indefinite period.

Choose the most appropriate answer from the options given below:

- 1. A, C and D only
- 2. A, B and C only
- 3. C, D and E only
- 4. A, B and E only

(1) 1

(2) 2

(3) 3

(4) 4

निम्नलिखित में से कौन कमजोर प्रकार की धारणीयता की अनिवार्य विशेषताएँ हैं ?

- A. यह मानवनिर्मित पूँजी और प्राकृतिक पूँजी को निकट स्थानापन्न के रूप में मानता है ।
- B. यह अर्थव्यवस्था के आरंभिक आकार पर बल देता है । क्योंकि आरंभिक पूँजी स्टॉक के आकार को प्रासंगिक माना जाता है ।
- C. यह प्रत्येक पीढ़ी से यह सुनिश्चित करने की माँग करता है कि उनके कार्यों से भावी पीढ़ियों की उत्पादक क्षमता से समझौता (प्रभावित होना) न करना पड़े ।
- D. अर्थव्यवस्था के पूँजी स्टॉक की संरचना (संघटन) अधिक महत्वपूर्ण नहीं होती है ।
- E. यह प्राकृतिक पूँजी को अनंतकाल तक के लिए निवल राष्ट्रीय आय को बनाए रखने हेतु नितान्त आवश्यकता के रूप में प्रस्तुत करता है ।

नीचे दिए गए विकल्पों में से सही उत्तर का चयन कीजिए:

- 1. केवल A, C और D
- 2. केवल A, B और C
- 3. केवल C, D और E
- 4. केवल A, B और E

(1) 1

- (2) 2  
(3) 3  
(4) 4

1[Option ID=29949] Question Description : economics\_economics\_set1\_english\_q63  
2[Option ID=29950]  
3[Option ID=29951]  
4[Option ID=29952]

Sl. No.64  
QBID:11064

Which of the following are part of non-tariff barriers ?

- A. Import quotas  
B. Voluntary export restraint  
C. Export subsidy  
D. Compound tariff  
E. Ad Valorem tariff.

Choose the correct answer from the options given below:

1. A, B and D only  
2. A, B and E only  
3. A, B and C only  
4. B, C and D only

- (1) 1  
(2) 2  
(3) 3  
(4) 4

निम्नलिखित में से कौन गैर-प्रशुल्क बाधाओं का भाग है ?

- A. आयात कोटा  
B. स्वैच्छिक निर्यात अवरोध  
C. निर्यात सब्सिडी (सहायिकी)  
D. चक्रवृद्धि प्रशुल्क  
E. मूल्यानुसार प्रशुल्क

नीचे दिए गए विकल्पों में से सही उत्तर का चयन कीजिए:

1. केवल A, B और D  
2. केवल A, B और E  
3. केवल A, B और C  
4. केवल B, C और D

- (1) 1  
(2) 2  
(3) 3  
(4) 4

1[Option ID=29953] Question Description : economics\_economics\_set1\_english\_q64  
2[Option ID=29954]  
3[Option ID=29955]  
4[Option ID=29956]

Sl. No.65  
QBID:11065

Marshall-Lerner condition states that:

- A. Devaluation will improve the country's balance of payments if the sum of price elasticities of demand for exports and imports in absolute terms is greater than one.
- B. Devaluation will increase the balance of payments deficit if the sum of the price elasticities of demand for exports and imports is less than one.
- C. Devaluation will have no effect on the balance of payment situation if the sum of the price elasticities of demand for exports and imports is equal to one
- D. In no case, devaluation can improve the balance of payment disequilibrium if either the price elasticities of demand for export or that of import is zero.
- E. Marshall-Lerner condition has no relation with BOP situation.

Choose the correct answer from the options given below:

- 1. A, B and E only
- 2. B, C and D only
- 3. C, D and A only
- 4. A, B and C only

(1) 1

(2) 2

(3) 3

(4) 4

मार्शल-लर्नर स्थिति यह दर्शाती है कि -

- A. अवमूल्यन से देश के भुगतान संतुलन में सुधार होगा, बशर्ते कि निरपेक्ष दृष्टि से निर्यात और आयात के लिए मांग की कीमतों में लोच का योग एक (यूनिट) से अधिक हो।
- B. अवमूल्यन से भुगतान संतुलन के घाटे में वृद्धि होगी, शर्तें कि निर्यात और आयात के लिए मांग की कीमतों में लोच का योग यूनिट (एक) से कम हो।
- C. अवमूल्यन का भुगतान संतुलन की स्थिति पर कोई प्रभाव नहीं पड़ेगा, बशर्ते कि निर्यात और आयात के लिए मांग की कीमतों में लोच का योग एक के बराबर हो।
- D. यदि निर्यात के लिए या आयात के लिए मांग की कीमतों में लोच शून्य है तो अवमूल्यन किसी स्थिति में भुगतान संतुलन में सुधार नहीं करेगा।
- E. मार्शल लर्नर स्थिति का बी ओ पी स्थिति से कोई संबंध नहीं है।

नीचे दिए गए विकल्पों में से सही उत्तर का चयन कीजिए:

- 1. केवल A, B और E
- 2. केवल B, C और D
- 3. केवल C, D और A
- 4. केवल A, B और C

(1) 1

(2) 2

(3) 3

(4) 4

1[Option ID=29957]  
2[Option ID=29958]  
3[Option ID=29959]  
4[Option ID=29960]

Question Description : economics\_economics\_set1\_english\_q65

Sl. No.66  
QBID:11066

Match List I with List II

LIST I		LIST II	
A.	One firm sets its output before other firms do.	I.	Cournot Model
B.	Each firm correctly assumes how much its competitor will produce and sets its own production level	II.	Bertrand Model
C.	Firms are reluctant to change price even if costs or demand change	III.	Stackelberg Model
D.	Each firm treats the price of its competitors as fixed and all firms decide simultaneously what price to change.	IV.	Sweezy Model

Choose the correct answer from the options given below:

1. A-III, B-II, C-IV, D-I
2. A-II, B-III, C-IV, D-I
3. A-III, B-I, C-IV, D-II
4. A-II, B-IV, C-III, D-I

(1) 1

(2) 2

(3) 3

(4) 4

सूची I के साथ सूची II का मिलान कीजिए

सूची I		सूची II	
A.	कोई फर्म अन्य फर्मों से पहले अपने उत्पादन का निर्धारण करती है।	I.	कॉर्नॉट मॉडल
B.	प्रत्येक फर्म इस बारे में सही अनुमान लगाती है कि उसकी प्रतिस्पर्धी फर्म कितना उत्पादन करेगी और फिर अपने उत्पादन का स्तर निर्धारित करती है।	II.	बेर्ट्रेण्ड मॉडल
C.	फर्म किसी उत्पादन की लागत का मांग में परिवर्तन करना नहीं चाहती है।	III.	स्टैकलबर्ग मॉडल
D.	प्रत्येक फर्म अपनी प्रतिस्पर्धी फर्मों की कीमत को स्थिर मानती है और फिर सभी फर्म एक साथ यह निर्धारित करती हैं कि कीमत में कितना परिवर्तन किया जाए।	IV.	स्वीजी मॉडल

निम्नलिखित विकल्पों में से सही उत्तर का चयन कीजिए :

1. A-III, B-II, C-IV, D-I
2. A-II, B-III, C-IV, D-I
3. A-III, B-I, C-IV, D-II
4. A-II, B-IV, C-III, D-I

(1) 1

(2) 2

(3) 3

(4) 4

1[Option ID=29961]

Question Description : economics\_economics\_set1\_english\_q66

2[Option ID=29962]

3[Option ID=29963]

4[Option ID=29964]

Sl. No.67

QBID:11067

Match List I with List II

LIST I		LIST II	
A.	Robert Solow	I.	Neoclassical growth theory
B.	Paul Romer and Robert Lucas	II.	Unemployment - Output
C.	Paul Samuelson	III.	Endogenous growth theory
D.	Okun	IV.	Foundation of Economic growth.

Choose the correct answer from the options given below:

1. A-II, B-III, C-I, D-IV
2. A-I, B-II, C-III, D-IV
3. A-I, B-III, C-IV, D-II
4. A-III, B-I, C-II, D-IV

(1) 1

(2) 2

(3) 3

(4) 4

सूची I के साथ सूची II का मिलान कीजिए

सूची I		सूची II	
A.	रोबर्ट सोलो	I.	नवक्लासिकी वृद्धि सिद्धांत
B.	पॉल रोमर और रॉबर्ट ल्युकस	II.	बेरोजगारी - उत्पादन
C.	पॉल सेमल्सन	III.	अंतर्जात वृद्धि सिद्धांत
D.	ओकुन 'स	IV.	आर्थिक वृद्धि की नींव

निचे दिए गए विकल्पों में से सही उत्तर का चयन कीजिए:

1. A-II, B-III, C-I, D-IV
2. A-I, B-II, C-III, D-IV
3. A-I, B-III, C-IV, D-II
4. A-III, B-I, C-II, D-IV

(1) 1

(2) 2

(3) 3

(4) 4

1[Option ID=29965] Question Description : economics\_economics\_set1\_english\_q67

2[Option ID=29966]

3[Option ID=29967]

4[Option ID=29968]

Sl. No.68

QBID:11068

Match List I with List II

LIST I		LIST II	
A.	Detecting Serial Correlation	I.	Goldfeld - Quandt test
B.	Detection of Heteroscedasticity	II.	The Run's test
C.	Detection of Multicollinearity	III.	Ramsay's RESET test
D.	Test of specification error	IV.	Condition Index

Choose the correct answer from the options given below:

1. A-III, B-I, C-IV, D-II
2. A-II, B-IV, C-I, D-III
3. A-II, B-I, C-IV, D-III
4. A-IV, B-I, C-III, D-II

(1) 1

(2) 2

(3) 3

(4) 4

सूची I के साथ सूची II का मिलान कीजिए

सूची I		सूची II	
A.	क्रमिक सहसंबंध का पता लगाना	I.	गोल्डफेल्ड - क्रांट परीक्षण
B.	विषमविसारिता का पता लगाना	II.	रन का परीक्षण
C.	बहुसरेखीयता का पता लगाना	III.	रिम्से का आर ई एस ई टी परीक्षण
D.	विनिर्देशन त्रुटि का परीक्षण	IV.	कंडीशन इंडेक्स

निचे दिए गए विकल्पों में से सही उत्तर का चयन कीजिए:

1. A-III, B-I, C-IV, D-II
2. A-II, B-IV, C-I, D-III
3. A-II, B-I, C-IV, D-III
4. A-IV, B-I, C-III, D-II

(1) 1

(2) 2

(3) 3

(4) 4

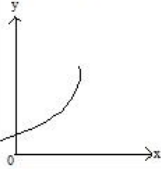
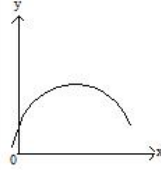
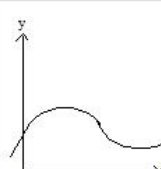
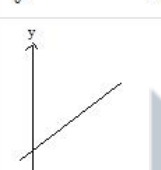
1[Option ID=29969] Question Description : economics\_economics\_set1\_english\_q68

2[Option ID=29970]

3[Option ID=29971]

4[Option ID=29972]

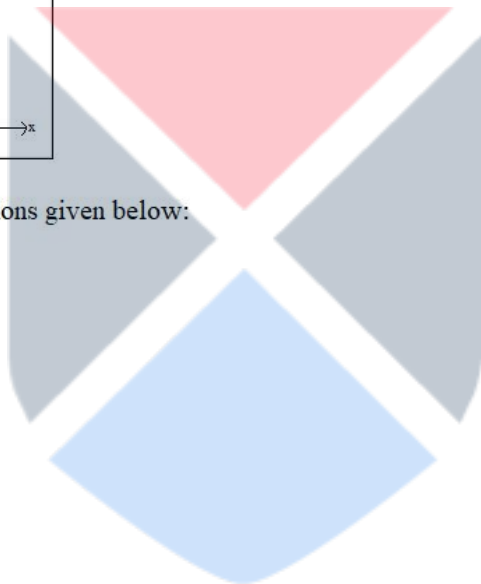
Match List I with List II

LIST I	LIST II
A. Linear function	I. 
B. Exponential function	II. 
C. Quadratic function	III. 
D. Cubic function	IV. 

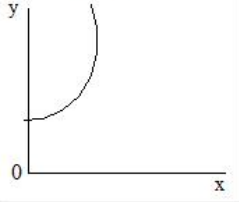
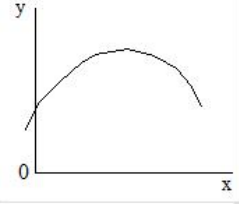
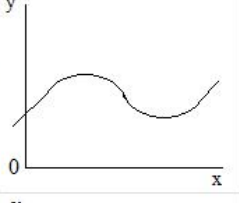
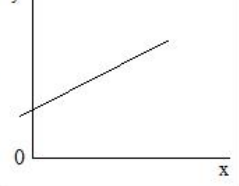
Choose the correct answer from the options given below:

1. A-IV, B-II, C-I, D-III
2. A-I, B-IV, C-III, D-II
3. A-IV, B-I, C-II D-III
4. A-IV, B-III, C-II, D-I

- (1) 1
- (2) 2
- (3) 3
- (4) 4



सूची I के साथ सूची II का मिलान कीजिए

सूची I	सूची II
A. रेखीय फलन	I. 
B. चर घातांक फलन	II. 
C. द्विघात फलन	III. 
D. त्रिघात फन	IV. 

निचे दिए गए विकल्पों में से सही उत्तर का चयन कीजिए:

1. A-IV, B-II, C-I, D-III
2. A-I, B-IV, C-III, D-II
3. A-IV, B-I, C-II, D-III
4. A-IV, B-III, C-II, D-I

- (1) 1  
(2) 2  
(3) 3  
(4) 4

1[Option ID=29973]  
2[Option ID=29974]  
3[Option ID=29975]  
4[Option ID=29976]

Question Description : economics\_economics\_set1\_english\_q69

Sl. No.70  
QBID:11070

Match List I with List II

LIST I	LIST II
A. Metzler Paradox	I. Violation of Stolper-Samuelson theorem
B. Beachhead Effect	II. Exporters may be reluctant to increase prices by the full amount of the dollar depreciation
C. Dutch disease	III. Loss of relative competitiveness in its traditional industrial sector
D. J Curve	IV. Nation's trade balance may actually worsen soon after devaluation or depreciation.

Choose the correct answer from the options given below:

1. A-II, B-III, C-IV, D-I
2. A-III, B-IV, C-II, D-I
3. A-I, B-II, C-III D-IV
4. A-IV, B-III, C-II, D-I

- (1) 1  
(2) 2  
(3) 3  
(4) 4



सूची I के साथ सूची II का मिलान कीजिए

सूची I	सूची II
A. मैजलर विरोधाभास	I. स्टॉपलर-सैम्युलसन प्रमेय का अतिक्रमण
B. बिच्छेद प्रभाव	II. निर्यातक डॉलर मूल्यहास की पूर्ण मात्रा (राशि) से कीमतों में वृद्धि के प्रति अनिच्छुक हो सकते हैं।
C. डच रोग	III. अपने परंपरागत औद्योगिक क्षेत्रों में सापेक्षिक प्रतिस्पर्धात्मकता की कमी
D. जे वक्र	IV. देश का व्यापार संतुलन, अवमूल्यन अथवा मूल्यहास के ठीक बाद में वास्तव में और बदतर हो सक

निचे दिए गए विकल्पों में से सही उत्तर का चयन कीजिए:

1. A-II, B-III, C-IV, D-I
2. A-III, B-IV, C-II, D-I
3. A-I, B-II, C-III, D-IV
4. A-IV, B-III, C-II, D-I

- (1) 1
- (2) 2
- (3) 3
- (4) 4

1[Option ID=29977] Question Description : economics\_economics\_set1\_english\_q70  
 2[Option ID=29978]  
 3[Option ID=29979]  
 4[Option ID=29980]

Sl. No.71  
 QBID:11071  
 Match List I with List II

LIST I	LIST II
A. Principal agent problem	I. Use of resources are more than desirable
B. Moral Hazard Problem	II. One's actions are unobserved but it can affect the magnitude of payment
C. Tragedy of commons	III. An individual pursue his/her own goal rather than the goal of the employer
D. Problem of Lemons	IV. Sellers have better information about the product quality than buyers.

Choose the correct answer from the options given below:

1. A-III, B-II, C-I, D-IV
2. A-III, B-II, C-IV, D-I
3. A-IV, B-III, C-I D-II
4. A-I, B-II, C-IV, D-III

- (1) 1
- (2) 2
- (3) 3
- (4) 4

सूची I के साथ सूची II का मिलान कीजिए

सूची I	सूची II
A. प्रिंसिपल एजेंट प्रॉब्लम	I. संसाधनों का बांधनीय उपयोग से अधिक उपयोग करना
B. मोरल हैजर्ड प्रोब्लम	II. किसी व्यक्ति के कार्यों पर ध्यान नहीं दिया जाता है लेकिन इससे भुगतान की मात्रा प्रभावित हो सकती है।
C. ट्रेजडी ओफ कॉमन्स	III. कोई व्यक्ति नियोक्ता के लक्ष्य के बजाय स्वयं के लक्ष्य को प्राप्त करने का प्रयास करता है।
D. प्रॉब्लम ओफ लेमन्स	IV. क्रेताओं की तुलना में विक्रेताओं के पास उत्पाद की गुणवत्ता के बारे में बेहतर जानकारी होती है।

निचे दिए गए विकल्पों में से सही उत्तर का चयन कीजिए:

1. A-III, B-II, C-I, D-IV
2. A-III, B-II, C-IV, D-I
3. A-IV, B-III, C-I, D-II
4. A-I, B-II, C-IV, D-III

- (1) 1
- (2) 2
- (3) 3
- (4) 4

1[Option ID=29981] Question Description : economics\_economics\_set1\_english\_q71  
 2[Option ID=29982]  
 3[Option ID=29983]  
 4[Option ID=29984]

Sl. No.72  
QBID:11072

Match List I with List II

LIST I		LIST II	
A.	Launch of S&P CNX Nifty	I.	July 1995
B.	Establishment of Investor Protection Fund in NSE	II.	May 1998
C.	Launch of NSE's website: www.nseindia.com	III.	April 1996
D.	NSE recognized as a stock exchange.	IV.	April 1993

Choose the correct answer from the options given below:

1. A-III, B-II, C-I, D-IV
2. A-III, B-I, C-II, D-IV
3. A-II, B-IV, C-III, D-I
4. A-III, B-II, C-IV, D-I

(1) 1

(2) 2

(3) 3

(4) 4

सूची I के साथ सूची II का मिलान कीजिए

सूची I		सूची II	
A.	एस एंड पी सी एन एक्स निफ्टी का शुभारंभ	I.	जुलाई 1995
B.	एन एस ई में निवेशक संरक्षण कोष की स्थापना	II.	मई 1998
C.	एन एस ई की वेबसाइट www.nseindia.com का शुभारंभ	III.	अप्रैल 1996
D.	एन एस ई को स्टॉक एक्सचेंज के रूप में मान्यता प्रदान की गई	IV.	अप्रैल 1993

निचे दिए गए विकल्पों में से सही उत्तर का चयन कीजिए:

1. A-III, B-II, C-I, D-IV
2. A-III, B-I, C-II, D-IV
3. A-II, B-IV, C-III, D-I
4. A-III, B-II, C-IV, D-I

(1) 1

(2) 2

(3) 3

(4) 4

1[Option ID=29985] Question Description : economics\_economics\_set1\_english\_q72  
2[Option ID=29986]  
3[Option ID=29987]  
4[Option ID=29988]

Sl. No.73  
QBID:11073

Match List I with List II

LIST I		LIST II	
A.	Karl Marx	I.	Division of Labour
B.	Adam Smith	II.	Big Push Theory
C.	R. Rodan	III.	Traditional Society
D.	W.W. Rostow	IV.	Reserve army.

Choose the correct answer from the options given below:

1. A-III, B-II, C-I, D-IV
2. A-IV, B-I, C-III, D-II
3. A-I, B-III, C-IV, D-II
4. A-IV, B-I, C-II, D-III

(1) 1

(2) 2

(3) 3

(4) 4

सूची I के साथ सूची II का मिलान कीजिए

सूची I		सूची II	
A.	कार्ल मार्क्स	I.	श्रम का विभाजन
B.	एडम स्मिथ	II.	बिग पुश थ्योरी
C.	आर. रोडान	III.	परम्परागत समाज
D.	डब्ल्यू. डब्ल्यू. रोस्टोव	IV.	रिजर्व आर्मी

निचे दिए गए विकल्पों में से सही उत्तर का चयन कीजिए:

1. A-III, B-II, C-I, D-IV
2. A-IV, B-I, C-III, D-II
3. A-I, B-III, C-IV, D-I
4. A-IV, B-I, C-II, D-III

(1) 1

(2) 2

(3) 3

(4) 4

1[Option ID=29989] Question Description : economics\_economics\_set1\_english\_q73  
2[Option ID=29990]  
3[Option ID=29991]  
4[Option ID=29992]

Sl. No.74

QBID:11074

Match List I with List II

LIST I (States)		LIST II 2011 Population (in thousands)	
A.	Rajasthan	I.	91,276
B.	Tamil Nadu	II.	68,548
C.	West Bengal	III.	72,627
D.	Madhya Pradesh	IV.	72,147

Choose the correct answer from the options given below:

1. A-II, B-IV, C-I, D-III
2. A-IV, B-II, C-I, D-III
3. A-II, B-I, C-IV, D-III
4. A-III, B-I, C-IV, D-II

(1) 1

(2) 2

(3) 3

(4) 4

सूची I के साथ सूची II का मिलान कीजिए

सूची I (राज्य)		सूची II (2011 में जनसंख्या हजार में)	
A.	राजस्थान	I.	91,276
B.	तमिलनाडु	II.	68,548
C.	पश्चिम बंगाल	III.	72,627
D.	मध्य प्रदेश	IV.	72,147

निचे दिए गए विकल्पों में से सही उत्तर का चयन कीजिए:

1. A-II, B-IV, C-I, D-III
2. A-IV, B-II, C-I, D-III
3. A-II, B-I, C-IV, D-III
4. A-III, B-I, C-IV, D-II

(1) 1

(2) 2

(3) 3

(4) 4

1[Option ID=29993] Question Description : economics\_economics\_set1\_english\_q74  
2[Option ID=29994]  
3[Option ID=29995]  
4[Option ID=29996]

Sl. No.75

QBID:11075

Match List I with List II

LIST I Organization	LIST II Year of Establishment
A. NABARD	I. 1964
B. IFCI	II. 1955
C. IDBI	III. 1948
D. ICICI	IV. 1982

Choose the correct answer from the options given below:

1. A-I, B-IV, C-III, D-II
2. A-II, B-I, C-IV, D-III
3. A-IV, B-III, C-I, D-II
4. A-III, B-II, C-I, D-IV

- (1) 1  
(2) 2  
(3) 3  
(4) 4

सूची I के साथ सूची II का मिलान कीजिए

सूची I (संस्था)	सूची II (स्थापना वर्ष)
A. नाबार्ड	I. 1964
B. आई एफ सी आई	II. 1955
C. आई डी बी आई	III. 1948
D. आई सी आई सी आई	IV. 1982

निचे दिए गए विकल्पों में से सही उत्तर का चयन कीजिए:

1. A-I, B-IV, C-III, D-II
2. A-II, B-I, C-IV, D-III
3. A-IV, B-III, C-I, D-II
4. A-III, B-II, C-I, D-IV

- (1) 1  
(2) 2  
(3) 3  
(4) 4

1[Option ID=29997]  
2[Option ID=29998]  
3[Option ID=29999]  
4[Option ID=30000]

Question Description : economics\_economics\_set1\_english\_q75

Sl. No.76  
QBID:11076

According to the IMF's World Economic Outlook report, arrange the estimated real GDP Growth rate (YOY) of the following countries for the year 2021 in descending order.

- A. USA
- B. Germany
- C. United Kingdom
- D. China
- E. India

Choose the correct answer from the options given below:

1. D, E, C, B, A
2. E, D, C, A, B
3. E, C, D, A, B
4. D, E, B, C, A

- (1) 1  
(2) 2  
(3) 3  
(4) 4

आई एम एफ की वर्ल्ड इकॉनॉमिक आउटलुक रिपोर्ट के अनुसार निम्नलिखित देशों को वर्ष 2021 की प्राक्कलित वास्तविक जीडीपी वृद्धि दर (वर्ष वार) के अवरोही क्रम में रखें ।

- A. संयुक्त राज्य अमेरिका
- B. जर्मनी
- C. यूनाइटेड किंगडम
- D. चीन
- E. भारत

नीचे दिए गए विकल्पों में से सही उत्तर का चयन कीजिए:

- 1. D, E, C, B, A
- 2. E, D, C, A, B
- 3. E, C, D, A, B
- 4. D, E, B, C, A

- (1) 1
- (2) 2
- (3) 3
- (4) 4

1[Option ID=30001] Question Description : economics\_economics\_set1\_english\_q76  
2[Option ID=30002]  
3[Option ID=30003]  
4[Option ID=30004]

Sl. No.77  
QBID:11077

Arrange the Nobel laureates in Economics as per their year of receiving award in descending order.

- A. Amartya Sen
- B. Paul Krugman
- C. James Tobin
- D. Friedrich Hayek
- E. Milton Friedman

Choose the correct answer from the options given below:

- 1. A, B, D, C, E
- 2. E, C, A, B, D
- 3. A, C, E, D, B
- 4. B, A, C, E, D

- (1) 1
- (2) 2
- (3) 3
- (4) 4

निम्नलिखित अर्थशास्त्रीयों को अर्थशास्त्र का नोबेल पुरस्कार प्राप्त होने के वर्ष के अनुसार अवरोही क्रम में रखें ।

- A. अमर्त्य सेन
- B. पॉल क्रुगमैन
- C. जेम्स टोबिन
- D. फ्रेडरिक हायक
- E. मिल्टन फ्राइडमैन

नीचे दिए गए विकल्पों में से सही उत्तर का चयन कीजिए:

- 1. A, B, D, C, E
- 2. E, C, A, B, D
- 3. A, C, E, D, B
- 4. B, A, C, E, D

- (1) 1
- (2) 2
- (3) 3
- (4) 4

1[Option ID=30005] Question Description : economics\_economics\_set1\_english\_q77  
2[Option ID=30006]

3[Option ID=30007]  
4[Option ID=30008]

Sl. No.78  
QBID:11078

Arrange the following in descending order on the basis of year of starting the scheme

- A. Jal Jeevan mission
- B. Swachh Bharat Mission (Gramin)
- C. Pradhan Mantri Awas Yojana (Gramin)
- D. Pradhan Mantri Sadak Yojana (Gramin)
- E. Pradhan Mantri Koushal VikashYojana

Choose the correct answer from the options given below:

- 1. B, C, E, D, A
- 2. C, A, D, B, E
- 3. B, E, C, A, D
- 4. C, D, B, E, A

- (1) 1
- (2) 2
- (3) 3
- (4) 4

निम्नलिखित को उनके शुभारंभ के वर्ष के अनुसार अवरोही (बाद से पहले) के क्रम में रखें ?

- A. जल जीवन मिशन
- B. स्वच्छ भारत मिशन (ग्रामीण)
- C. प्रधान मन्त्री आवास योजना (ग्रामीण)
- D. प्रधान मन्त्री सड़क योजना (ग्रामीण)
- E. प्रधान मन्त्री कौशल विकास योजना

नीचे दिए गए विकल्पों में से सही उत्तर का चयन कीजिए:

- 1. B, C, E, D, A
- 2. C, A, D, B, E
- 3. B, E, C, A, D
- 4. C, D, B, E, A

- (1) 1
- (2) 2
- (3) 3
- (4) 4

1[Option ID=30009]  
2[Option ID=30010]  
3[Option ID=30011]  
4[Option ID=30012]

Question Description : economics\_economics\_set1\_english\_q78

Sl. No.79  
QBID:11079

Arrange the followings in ascending order on the basis of Fund Allocation (Budget 2022-23)

- A. Ministry of Railways
- B. Ministry of Defence
- C. Ministry of Agriculture and Farmers Welfare
- D. Ministry of Road Transport and Highways
- E. Ministry of Rural Development.

Choose the correct answer from the options given below:

- 1. A, C, D, B, E
- 2. E, B, C, D, A
- 3. C, E, A, D, B
- 4. B, C, D, E, A

- (1) 1
- (2) 2
- (3) 3
- (4) 4

निम्नलिखित को निधि आवंटन (बजट 2022-23) के आधार पर आरोही क्रम में रखें :

- A. रेल मंत्रालय
- B. रक्षा मंत्रालय
- C. कृषि और किसान कल्याण मंत्रालय
- D. सड़क परिवहन और राजमार्ग मंत्रालय
- E. ग्रामीण विकास मंत्रालय

नीचे दिए गए विकल्पों में से सही उत्तर का चयन कीजिए:

- 1. A, C, D, B, E
- 2. E, B, C, D, A
- 3. C, E, A, D, B
- 4. B, C, D, E, A

- (1) 1
- (2) 2
- (3) 3
- (4) 4

1[Option ID=30013]  
2[Option ID=30014]  
3[Option ID=30015]  
4[Option ID=30016]

Question Description : economics\_economics\_set1\_english\_q79

Sl. No.80  
QBID:11080

Arrange the following sources of revenue as per their share of contribution to total revenue in Union Budget 2022-23 in descending order.

- A. Custom Duty
- B. Income Tax
- C. GST
- D. Union Excise Duty
- E. Non debt capital receipts.

Choose the correct answer from the options given below:

- 1. E, B, C, D, A
- 2. E, C, B, D, A
- 3. C, B, D, A, E
- 4. C, B, A, D, E

- (1) 1
- (2) 2
- (3) 3
- (4) 4

वर्ष 2022-23 केन्द्र के बजट के अनुसार, राजस्व के निम्नलिखित स्रोतों को उनके कुल राजस्व में योगदाब के अंश के अनुसार अवरोही क्रम में रखें ।

- A. सीमा शुल्क
- B. आय कर
- C. जी एस टी
- D. केन्द्रीय उत्पाद शुल्क
- E. गैर-ऋण पूँजीगत प्राप्तियाँ

नीचे दिए गए विकल्पों में से सही उत्तर का चयन कीजिए:

- 1. E, B, C, D, A
- 2. E, C, B, D, A
- 3. C, B, D, A, E
- 4. C, B, A, D, E

- (1) 1
- (2) 2
- (3) 3
- (4) 4

1[Option ID=30017]

Question Description : economics\_economics\_set1\_english\_q80

2[Option ID=30018]  
3[Option ID=30019]  
4[Option ID=30020]

Sl. No.81  
QBID:11081

According to CMIE data (September 2022), arrange the states in descending order based on unemployment rate

- A. Haryana
- B. Rajasthan
- C. Jammu Kashmir
- D. Jharkhand
- E. Tripura.

Choose the correct answer from the options given below:

- 1. A, C, D, E, B
- 2. B, C, A, D, E
- 3. A, B, C, D, E
- 4. B, C, A, E, D

- (1) 1
- (2) 2
- (3) 3
- (4) 4

सी एम आई ई के आँकड़ों (सितम्बर, 2022) के अनुसार निम्नलिखित राज्यों को बेरोजगारी दर के आधार पर अवरोही क्रम में रखें :

- A. हरियाणा
- B. राजस्थान
- C. जम्मू-कश्मीर
- D. झारखण्ड
- E. त्रिपुरा

नीचे दिए गए विकल्पों में से सही उत्तर का चयन कीजिए:

- 1. A, C, D, E, B
- 2. B, C, A, D, E
- 3. A, B, C, D, E
- 4. B, C, A, E, D

- (1) 1
- (2) 2
- (3) 3
- (4) 4

1[Option ID=30021]  
2[Option ID=30022]  
3[Option ID=30023]  
4[Option ID=30024]

Question Description : economics\_economics\_set1\_english\_q81

Sl. No.82  
QBID:11082

Arrange the states in ascending order based on population who are multidimensionally poor as per NITI Aayog Report 2021.

- A. Punjab
- B. Kerala
- C. Sikkim
- D. Goa
- E. Tamil Nadu.

Choose the correct answer from the options given below:

- 1. B,D,C,E,A
- 2. D, E, B, C, A
- 3. A, E, D, B, C
- 4. C, B, A, D, E

- (1) 1
- (2) 2
- (3) 3
- (4) 4



2021 की नीति आयोग की रिपोर्ट के अनुसार निम्नलिखित राज्यों को बहुआयामी गरीबी गली जनसंख्या के आधार आरोही क्रम में रखें :

- A. पंजाब
- B. केरल
- C. सिक्किम
- D. गोवा
- E. तमिलनाडु

नीचे दिए गए विकल्पों में से सही उत्तर का चयन कीजिए:

- 1. B, D, C, E, A
- 2. D, E, B, C, A
- 3. A, E, D, B, C
- 4. C, B, A, D, E

- (1) 1
- (2) 2
- (3) 3
- (4) 4

1[Option ID=30025]  
2[Option ID=30026]  
3[Option ID=30027]  
4[Option ID=30028]

Question Description : economics\_economics\_set1\_english\_q82

Sl. No.83  
QBID:11083

Arrange the following policy rate (as on 31-12-2022) of the RBI in the descending order of their magnitude.

- A. Repo rate
- B. Bank rate
- C. CRR
- D. SLR
- E. Reserve repo Rate.

Choose the correct answer from the options given below:

- 1. A, B, D, C, E
- 2. D, A, B, C, E
- 3. B, D, A, E, C
- 4. D, B, A, C, E

- (1) 1
- (2) 2
- (3) 3
- (4) 4

आर बी आई की निम्नलिखित नीतिगत दरों (31/12/2022 के अनुसार) को अवरोही क्रम में रखें :

- A. रेपो दर
- B. बैंक दर
- C. सी आर आर
- D. एस एल आर
- E. रिवर्स रेपो दर

नीचे दिए गए विकल्पों में से सही उत्तर का चयन कीजिए:

- 1. A, B, D, C, E
- 2. D, A, B, C, E
- 3. B, D, A, E, C
- 4. D, B, A, C, E

- (1) 1
- (2) 2
- (3) 3
- (4) 4

1[Option ID=30029]  
2[Option ID=30030]  
3[Option ID=30031]  
4[Option ID=30032]

Question Description : economics\_economics\_set1\_english\_q83

Sl. No.84  
QBID:11084

Arrange the following chronologically in order to their year of first occurrence starting from oldest:

- A. Liquidity Preference Theory
- B. Multiplier by R.F. Kahn
- C. Division of Labour, Adam Smith
- D. Quantity theory of Money, Fisher
- E. Great Depression.

Choose the correct answer from the options given below:

- 1. C, E, B, A, D
- 2. E, D, C, B, A
- 3. B, C, D, E, A
- 4. B, A, D, C, E

(1) 1

(2) 2

(3) 3

(4) 4

निम्नलिखित को प्राचीनतम से प्रारंभ करते हुए उनके प्रथम बार प्रतिपादित (उद्घाटित) होने के वर्ष के अनुसार उन्हें कालक्रमानुसार व्यवस्थित कीजिए :

- A. तरलता वरीयता सिद्धांत
- B. आर. एफ. कान द्वारा दिया गया गुणक
- C. एडमस्मिथ का श्रम-विभाजन
- D. फिशर का मुद्रा की मात्रा (परिमाण) सिद्धांत
- E. महामंदी

नीचे दिए गए विकल्पों में से सही उत्तर का चयन कीजिए:

- 1. C, E, B, A, D
- 2. E, D, C, B, A
- 3. B, C, D, E, A
- 4. B, A, D, C, E

(1) 1

(2) 2

(3) 3

(4) 4

1[Option ID=30033]  
2[Option ID=30034]  
3[Option ID=30035]  
4[Option ID=30036]

Question Description : economics\_economics\_set1\_english\_q84

Sl. No.85  
QBID:11085

Arrange the following organizations as per their years of establishment starting from the oldest.

- A. WTO
- B. ADB
- C. UNCTAD
- D. World Bank
- E. WIPO.

Choose the correct answer from the options given below:

- 1. D, C, B, E, A
- 2. D, B, C, E, A
- 3. D, B, C, A, E
- 4. D, B, A, C, E

(1) 1

(2) 2

(3) 3

(4) 4

निम्नलिखित सगठनों को उनके स्थापना वर्ष के अनुसार प्राचीनतम से प्रारंभ करते हुए उन्हें व्यवस्थित कीजिए।

- A. डब्ल्यू टी ओ
- B. ए डी बी
- C. अंकटाड
- D. विश्व बैंक
- E. डबल्यू आई पी ओ

नीचे दिए गए विकल्पों में से सही उत्तर का चयन कीजिए :

- 1. D, C, B, E, A
- 2. D, B, C, E, A
- 3. D, B, C, A, E
- 4. D, B, A, C, E

- (1) 1
- (2) 2
- (3) 3
- (4) 4

1[Option ID=30037] Question Description : economics\_economics\_set1\_english\_q85  
2[Option ID=30038]  
3[Option ID=30039]  
4[Option ID=30040]

Sl. No.86  
QBID:11086

Given below are two statements: One is labelled as Assertion A and the other is labelled as Reason R.

Assertion A: A form of market failure results when products of different qualities are sold at a single price.

Reason R : A buyer and a seller possess different information about the product transacted.

In the light of the above statements, choose the most appropriate answer from the options given below:

- 1. Both A and R are true and R is the correct explanation of A
- 2. Both A and R are true but R is not the correct explanation of A
- 3. A is true but R is false
- 4. A is false but R is true

- (1) 1
- (2) 2
- (3) 3
- (4) 4

नीचे दो कथन दिए गए हैं :

एक अभिकथन (Assertion A) के रूप में लिखित है तो दूसरा उसके कारण (Reason R) के रूप में :

अभिकथन A : जब अलग-अलग गुणवत्ता वाले उत्पादों को एक ही कीमत पर बेचा जाता है तो एक प्रकार की बाजार विफलता उत्पन्न होती है ।

कारण R : क्रेता और विक्रेता के पास लेन-देन किए जाने वाले उत्पाद के बारे में अलग-अलग जानकारी होती है ।

उपरोक्त कथन के आलोक में, नीचे दिए गए विकल्पों में से सही उत्तर का चयन कीजिए :

- 1. A और R दोनों सत्य हैं और R, A की सही व्याख्या है
- 2. A और R दोनों सत्य हैं, लेकिन R, A की सही व्याख्या नहीं है
- 3. A सत्य है, लेकिन R असत्य है
- 4. A असत्य है, लेकिन R सत्य है

- (1) 1
- (2) 2
- (3) 3
- (4) 4

1[Option ID=30041] Question Description : economics\_economics\_set1\_english\_q86  
2[Option ID=30042]

3[Option ID=30043]  
4[Option ID=30044]

Sl. No.87  
QBID:11087

Given below are two statements :

Statement I : When the level of investment is itself determined within the system then the effectiveness of monetary policy is enhanced by an elastic investment and inelastic liquidity preference schedule, whereas the opposite holds for the effectiveness of fiscal policy.

Statement II : Monetary policy, by accommodating fiscal policy may forestall the crowding out effect.

In the light of the above statements, choose the correct answer from the options given below:

1. Both Statement I and Statement II are true
2. Both Statement I and Statement II are false
3. Statement I is true but Statement II is false
4. Statement I is false but Statement II is true

(1) 1

(2) 2

(3) 3

(4) 4

नीचे दो कथन दिए गए हैं :

कथन I : जब निवेश का स्तर व्यवस्था के अंतर्गत ही स्वयं निर्धारित होता है, तो मौद्रिक नीति की प्रभावशीलता को लोचदार निवेश और गैर-लोचदार तरलता संबंधी तटीयता अनुसूची द्वारा बढ़ाया जाता है, जबकि इसकी विपरीत स्थिति मौद्रिक नीति की प्रभावशीलता के लिए उपयुक्त होती है।

कथन II : राजकोषीय नीति को ध्यान में रखकर बनाई गई मौद्रिक नीति 'हासकारी' प्रभाव का पहले से ही निवारण कर देती है।

उपरोक्त कथन के आलोक में, नीचे दिए गए विकल्पों में से सही उत्तर का चयन कीजिए :

1. कथन I और II दोनों सत्य हैं
2. कथन I और II दोनों असत्य हैं
3. कथन I सत्य है, लेकिन कथन II असत्य हैं
4. कथन I असत्य है, लेकिन कथन II सत्य हैं

(1) 1

(2) 2

(3) 3

(4) 4

1[Option ID=30045] Question Description : economics\_economics\_set1\_english\_q87  
2[Option ID=30046]  
3[Option ID=30047]  
4[Option ID=30048]

Sl. No.88  
QBID:11088

Given below are two statements :

Statement I : Capital deepening is the process by which capital grows at a faster rate than labour and the capital labour ratio rises.

Statement II : The growth of output per worker is result of technological change which decreases output per worker for a given capital/labour ratio.

In the light of the above statements, choose the most appropriate answer from the options given below:

1. Both Statement I and Statement II are correct
2. Both Statement I and Statement II are incorrect
3. Statement I is correct but Statement II is incorrect
4. Statement I is incorrect but Statement II is correct

(1) 1

(2) 2

(3) 3

(4) 4

नीचे दो कथन दिए गए है :

कथन I : पूँजी सघनीकरण वह प्रक्रिया है जिसके द्वारा श्रम की तुलना में पूँजी में तेज दर से वृद्धि होती है और पूँजी श्रम अनुपात बढ़ता है ।

कथन II : प्रति श्रमिक उत्पादन में वृद्धि तकनीकी परिवर्तन के परिणाम स्वरूप होती है जो किसी दिए गए पूँजी / श्रम अनुपात के लिए प्रति श्रमिक उत्पादन को घटाता है ।

उपरोक्त कथन के आलोक में, नीचे दिए गए विकल्पों में से सबसे उपयुक्त उत्तर का चयन कीजिए :

1. कथन I और II दोनों सही हैं
2. कथन I और II दोनों गलत हैं
3. कथन I सही है, लेकिन कथन II गलत हैं
4. कथन I गलत है, लेकिन कथन II सही हैं

(1) 1

(2) 2

(3) 3

(4) 4

1[Option ID=30049]

Question Description : economics\_economics\_set1\_english\_q88

2[Option ID=30050]

3[Option ID=30051]

4[Option ID=30052]

Sl. No.89

QBID:11089

Given below are two statements :

Statement I : Countries always want to have foreign markets open for their exporters. But if a country limits access to its own market, foreign countries may take action to limit access to their own market.

Statement II : Trade agreement can help lower barrier to international commerce, but countries still have to believe that other countries are "playing fair".

In the light of the above statements, choose the correct answer from the options given below:

1. Both Statement I and Statement II are true
2. Both Statement I and Statement II are false
3. Statement I is true but Statement II is false
4. Statement I is false but Statement II is true

(1) 1

(2) 2

(3) 3

(4) 4

नीचे दो कथन दिए गए है :

कथन I : देश सदैव यह चाहते है कि विदेशी बाजार उनके निर्यातकों के लिए खुले रहें । लेकिन यदि कोई देश अपने स्वयं के बाजार तक पहुँच के सीमित कर देता है तो अन्य देश अपने बाजार को सीमित करने के लिए कार्यवाही कर सकते हैं ।

कथन II : व्यापार समझौता अंतरराष्ट्रीय वाणिज्य की बाधाओं को कम करने में मदद कर सकता है, लेकिन फिर भी देशों को यह विश्वास करना होगा कि अन्य देश 'उचित कार्यवाही' कर रहे हैं ।

उपरोक्त कथन के आलोक में, नीचे दिए गए विकल्पों में से सही उत्तर का चयन कीजिए :

1. कथन I और II दोनों सत्य हैं
2. कथन I और II दोनों असत्य हैं
3. कथन I सत्य है, लेकिन कथन II असत्य हैं
4. कथन I असत्य है, लेकिन कथन II सत्य हैं

(1) 1

(2) 2

(3) 3

(4) 4

1[Option ID=30053]  
2[Option ID=30054]  
3[Option ID=30055]  
4[Option ID=30056]

Question Description : economics\_economics\_set1\_english\_q89

Sl. No.90  
QBID:11090

Given below are two statements :

Statement I : The IS curve is negatively sloped because an increase in the interest rate reduces planned investment spending and therefore reduces the equilibrium level of income.

Statement II : The smaller the multiplier and the less sensitive investment spending is to changes in the interest rate, the steeper is the IS curve.

In the light of the above statements, choose the correct answer from the options given below:

1. Both Statement I and Statement II are correct
2. Both Statement I and Statement II are incorrect
3. Statement I is correct but Statement II is incorrect
4. Statement I is incorrect but Statement II is correct

(1) 1

(2) 2

(3) 3

(4) 4

नीचे दो कथन दिए गए हैं :

कथन I : आईएस वक्र ऋणात्मक ढाल वाला होता है क्योंकि ब्याज दर में वृद्धि होने पर भोजनागत निवेश व्यय घटता है और इसके परिणाम स्वरूप आय संतुलन स्तर घटता है ।

कथन II : गुणक जितना छोटा होगा और निवेश व्यय ब्याज दरों में परिवर्तनों के प्रति जितना कम संवेदनशील होगा, आई एस वक्र उतनी ही अधिक खड़ी ढाल वाला होगा ।

उपरोक्त कथन के आलोक में, नीचे दिए गए विकल्पों में से सबसे उपयुक्त उत्तर का चयन कीजिए :

1. कथन I और II दोनों सही हैं
2. कथन I और II दोनों गलत हैं
3. कथन I सही है, लेकिन कथन II गलत हैं
4. कथन I गलत है, लेकिन कथन II सही हैं

(1) 1

(2) 2

(3) 3

(4) 4

1[Option ID=30057]  
2[Option ID=30058]  
3[Option ID=30059]  
4[Option ID=30060]

Question Description : economics\_economics\_set1\_english\_q90

Sl. No.91  
QBID:11091

Read the following passage and answer the questions.

The Nobel Prize in Economics in 2022 has been awarded to Ben S. Bernanke, Douglas, W. Diamond and Philip H Dybvig "for research on banks and financial crises". One of the important findings in their research is why avoiding bank collapses is vital. Saving must be channelled to investments for the functioning and growth of any economy. But there arises a conflict - while the savers want instant access to their money for unexpected outlays, the borrowers need to know they will not be forced to repay their loans prematurely. Diamond and Dybvig, show how banks offer an optimal solution to this problem. Banks may act as intermediaries, who accept deposits from savers and allow access to their money, when they wish and also offer long term loans to borrowers. But the analysis of these authors also shows banks are vulnerable to rumours and they may lead to their imminent collapse, when a large number of savers simultaneously, run to a bank to withdraw their money- a bank run occurs and the bank collapses. such dangerous dynamics can be prevented through the government by providing deposit insurance and acting as a leader of last resort to banks. Dimond demonstrated another societally important function by a bank. Banks as intermediaries between savers and borrowers, are in a better position to assess a borrower's creditworthiness and ensure that loans are used for good investments. "The laureates insights have improved our ability to avoid both serious crises and expensive bailouts."

“बैंको और वित्तीय संकट” पर अनुसंधान करने के लिए बेन एस बर्नान्के, डगलस डब्ल्यू डाइजमैंड और फिलिप एच डायबोजी का वर्ष 2022 में अर्थशास्त्र में नोबल पुरस्कार प्रदान किया गया। उनके अनुसंधान का एक महत्वपूर्ण निष्कर्ष है कि बैंकों के असफल होने को नजरंदाज करना अहम क्यों है। किसी भी अर्थाशास्त्र के कार्यकारण और विकास के लिए बचतों को निवेश में लगाया जाना चाहिए। परंतु एक अन्तर्विरोध उत्पन्न होता है – जबकि बचतकर्ता अनपेक्षित परिव्ययों के लिए अपना धन तुरंत प्राप्त करना चाहते हैं, उधार लेने वाले जानना चाहते हैं कि लिए गए ऋण की समय से पूर्व अदायगी करने के लिए उन पर दबाव नहीं डाला जाएगा। डाइमैंड और डायबोजी यह स्पष्ट करते हैं कि किस प्रकार बैंक इस समस्या का इष्टतम समाधान प्रस्तुत करते हैं। बैंक ऐसे मध्यस्थ के रूप में काम कर सकते हैं जो बचतकर्ताओं से जमा स्वीकार करते हैं उची जमाकर्ताओं की जरूरत पड़ने पर उन्हें उनका धन उपलब्ध करवाते हैं तथा उन्हें दीर्घकालिक ऋण की पेशकम करते हैं। परंतु इन लेखकों के विश्लेषण से यह भी स्पष्ट होता है कि – बैंकों पर अपवादों से प्रतिकूल प्रभाव पड़ता है और निकट भविष्य में उनका दिवाला निकल सकता है। जब बड़ी संख्या में बचतकर्ता एक साथ अपना धन निकलने के लिए बैंक के पास जाते हैं तो बैंक तक की दौड़ शुरु हो जाती है और बैंक का दिवाला निकल जाता है। जमा धनराशि की बीमा सुविधा देकी और बैंकों में जमा पैसों की देनदार बनकर सरकार ऐसे खतरनाक डायनामिक्स को रोक सकती है। डाइमैंड ने सामाजिक दृष्टि से महत्वपूर्ण बैंक के अन्य कार्य को प्रदर्शित किया। बचत कर्ताओं और उधार लेने वालों के बीच मध्यस्थ की भूमिका निभाने वाले के रूप में बैंक, उधार लेने वालों की ऋण चुकाने की क्षमता का आँकलन करने और ऋणों का उपयोग अच्छे निवेश के लिए सुनिश्चित करने के लिए बेहतर स्थिति में होते हैं। इन पुरस्कार प्राप्तकर्ताओं की अन्तर्दृष्टि से गंभीर संकटों की खर्चीले राहत पैकेजों से बचने की हमारी योग्यता में सुधार हुआ है।

What conflict do the bankers face while channelizing saving into investment?

1. While the borrowers want instant closing of the loan, the savers wants systematic withdrawals.
2. While the savers want instant access to their money, the borrowers want to repay their loans, only when it matures.
3. While the savers want instant closing of the loan, the borrowers demand more loan than their credit worthiness.
4. Both the savers and borrowers want to close the loan immediately.

- (1) 1  
(2) 2  
(3) 3  
(4) 4

बचतों को निवेश के लिए प्रयोग में जाने में बैंकों के लिए अन्तर्विरोध का सामना करना पड़ता है

1. जबकि उधार लेनेवाले ऋण को तुरंत बंद करना चाहते हैं, बचतकर्ता व्यवस्थित रूप में धन आहरित करना चाहते हैं
2. जबकि बचतकर्ता अपने धन को तुरंत प्राप्त करना चाहते हैं, उधार लेने वाले परिपक्व होने पर ही धन चुकाना चाहते हैं
3. जबकि उधार लेने वाले ऋण को तुरंत बंद करना चाहते हैं, उधार लेने वाले अपनी चुकाने की क्षमता से अधिक ऋण की माँग करते हैं
4. बचतकर्ता उधार लेने वाले दोनों ऋण को तुरंत बंद करना चाहते हैं।

- (1) 1  
(2) 2  
(3) 3  
(4) 4

1[Option ID=30061] Question Description : economics\_economics\_set1\_english\_q91  
2[Option ID=30062]  
3[Option ID=30063]  
4[Option ID=30064]

Sl. No.92  
QBID:11092

Read the following passage and answer the questions.

The Nobel Prize in Economics in 2022 has been awarded to Ben S. Bernanke, Douglas, W. Diamond and Philip H. Dybvig "for research on banks and financial crises". One of the important findings in their research is why avoiding bank collapses is vital. Saving must be channelled to investments for the functioning and growth of any economy. But there arises a conflict - while the savers want instant access to their money for unexpected outlays, the borrowers need to know they will not be forced to repay their loans prematurely. Diamond and Dybvig, show how banks offer an optimal solution to this problem. Banks may act as intermediaries, who accept deposits from savers and allow access to their money, when they wish and also offer long term loans to borrowers. But the analysis of these authors also shows banks are vulnerable to rumours and they may lead to their imminent collapse, when a large number of savers simultaneously, run to a bank to withdraw their money- a bank run occurs and the bank collapses. such dangerous dynamics can be prevented through the government by providing deposit insurance and acting as a lender of last resort to banks. Diamond demonstrated another societally important function by a bank. Banks as intermediaries between savers and borrowers, are in a better position to assess a borrower's creditworthiness and ensure that loans are used for good investments. "The laureates insights have improved our ability to avoid both serious crises and expensive bailouts."

“बैंको और वित्तीय संकट” पर अनुसंधान करने के लिए बेन एस बर्नान्के, डगलस डब्ल्यू डायजमैंड और फिलिप एच डायबोजी का वर्ष 2022 में अर्थशास्त्र में नोबल पुरस्कार प्रदान किया गया। उनके अनुसंधान का एक महत्वपूर्ण निष्कर्ष है कि बैंकों के असफल होने को नजरंदाज करना अहम क्यों है। किसी भी अर्थशास्त्र के कार्यकारण और विकास के लिए बचतों को निवेश में लगाया जाना चाहिए। परंतु एक अन्तर्विरोध उत्पन्न होता है – जबकि बचतकर्ता अनपेक्षित परिव्ययों के लिए अपना धन तुरंत प्राप्त करना चाहते हैं, उधार लेने वाले जानना चाहते हैं कि लिए गए ऋण की समय से पूर्व अदायगी करने के लिए उन पर दबाव नहीं डाला जाएगा। डायमैंड और डायबोजी यह स्पष्ट करते हैं कि किस प्रकार बैंक इस समस्या का इष्टतम समाधान प्रस्तुत करते हैं। बैंक ऐसे मध्यस्थ के रूप में काम कर सकते हैं जो बचतकर्ताओं से जमा स्वीकार करते हैं उची जमाकर्ताओं की जरूरत पड़ने पर उन्हें उनका धन उपलब्ध करवाते हैं तथा उन्हें दीर्घकालिक ऋण की पेशकम करते हैं। परंतु इन लेखकों के विश्लेषण से यह भी स्पष्ट होता है कि – बैंकों पर अपवादों से प्रतिकूल प्रभाव पड़ता है और निकट भविष्य में उनका दिवाला निकल सकता है। जब बड़ी संख्या में बचतकर्ता एक साथ अपना धन निकलने के लिए बैंक के पास जाते हैं तो बैंक तक की दौड़ शुरू हो जाती है और बैंक का दिवाला निकल जाता है। जमा धनराशि की बीमा सुविधा देकी और बैंकों में जमा पैसों की देनदार बनकर सरकार ऐसे खतरनाक डायनामिक्स को रोक सकती है। डायमैंड ने सामाजिक दृष्टि से महत्वपूर्ण बैंक के अन्य कार्य को प्रदर्शित किया। बचत कर्ताओं और उधार लेने वालों के बीच मध्यस्थ की भूमिका निभाने वाले के रूप में बैंक, उधार लेने वालों की ऋण चुकाने की क्षमता का आँकलन करने और ऋणों का उपयोग अच्छे निवेश के लिए करना सुनिश्चित करने के लिए बेहतर स्थिति में होते हैं। इन पुरस्कार प्राप्तकर्ताओं की अन्तर्दृष्टि से गंभीर संकटों की खर्चीले राहत पैकेजों से बचने की हमारी योग्यता में सुधार हुआ है।

What solution does the Diamond and Dybvig's theory offer to the conflict faced by the bankers while channelizing savings into investments?

1. Banks assure instant access to money to the savers and terminate long term project of borrowers
2. Banks assure long-term finance to borrowers and terminate the savers' accounts
3. Banks act as intermediaries that accept deposits from savers and allow them access to their money when they wish, while also offering long term loans to borrowers
4. All the above options were offered by Diamond and Dybvig's theory

- (2) 1  
(2) 2  
(2) 3  
(2) 4

बचतों को निवेश के लिए प्रयोग में लाने में बैंकों द्वारा सामना किए जाने वाले अन्तर्विरोध के लिए डिजमैंड और डायबिज सिद्धांत में क्या समाधान दिया गया है

1. बैंक बचतकर्ताओं को धन तक तुरंत पहुँच आश्वस्त करें और उधार लेने वाले द्वारा दीर्घकालिक परियोजना को समाप्त करे
2. बैंक, उधार लेने वालों को दीर्घकालिक वित्त आश्वस्त करे और बचत कर्ताओं का खाता समाप्त करे
3. बैंक ऐसे मध्यस्थ की भूमिका निभाए जो बचतकर्ताओं से जमा धनराशि स्वीकार को और उनकी इच्छा होने पर उनके धन तक उनकी पहुँचे सुनिश्चित करे साथ उधार लेने वालों को दीर्घकालिक ऋण की पेशकम करें
4. उपरोक्त सभी विकल्प डिजमैंड और डायबिज सिद्धांत में प्रस्तुत लिए गए थे

- (2) 1  
(2) 2  
(2) 3  
(2) 4

1[Option ID=30065]  
2[Option ID=30066]  
3[Option ID=30067]  
4[Option ID=30068]

Question Description : economics\_economics\_set1\_english\_q92

Sl. No.93  
QBID:11093



Read the following passage and answer the questions.

The Nobel Prize in Economics in 2022 has been awarded to Ben S. Bernanke, Douglas, W. Diamond and Philip H. Dybvig "for research on banks and financial crises". One of the important findings in their research is why avoiding bank collapses is vital. Saving must be channelled to investments for the functioning and growth of any economy. But there arises a conflict - while the savers want instant access to their money for unexpected outlays, the borrowers need to know they will not be forced to repay their loans prematurely. Diamond and Dybvig, show how banks offer an optimal solution to this problem. Banks may act as intermediaries, who accept deposits from savers and allow access to their money, when they wish and also offer long term loans to borrowers. But the analysis of these authors also shows banks are vulnerable to rumours and they may lead to their imminent collapse, when a large number of savers simultaneously, run to a bank to withdraw their money- a bank run occurs and the bank collapses. such dangerous dynamics can be prevented through the government by providing deposit insurance and acting as a lender of last resort to banks. Diamond demonstrated another societally important function by a bank. Banks as intermediaries between savers and borrowers, are in a better position to assess a borrower's creditworthiness and ensure that loans are used for good investments. "The laureates insights have improved our ability to avoid both serious crises and expensive bailouts."

“बैंको और वित्तीय संकट” पर अनुसंधान करने के लिए बेन एस बर्नान्के, डगलस डब्ल्यू डायजमैंड और फिलिप एच डायबोजी का वर्ष 2022 में अर्थशास्त्र में नोबल पुरस्कार प्रदान किया गया। उनके अनुसंधान का एक महत्वपूर्ण निष्कर्ष है कि बैंकों के असफल होने को नजरंदाज करना अहम क्यों है। किसी भी अर्थशास्त्र के कार्यकारण और विकास के लिए बचतों को निवेश में लगाया जाना चाहिए। परंतु एक अन्तर्विरोध उत्पन्न होता है – जबकि बचतकर्ता अनपेक्षित परिव्ययों के लिए अपना धन तुरंत प्राप्त करना चाहते हैं, उधार लेने वाले जानना चाहते हैं कि लिए गए ऋण की समय से पूर्व अदायगी करने के लिए उन पर दबाव नहीं डाला जाएगा। डायमैंड और डायबोजी यह स्पष्ट करते हैं कि किस प्रकार बैंक इस समस्या का इष्टतम समाधान प्रस्तुत करते हैं। बैंक ऐसे मध्यस्थ के रूप में काम कर सकते हैं जो बचतकर्ताओं से जमा स्वीकार करते हैं उची जमाकर्ताओं की जरूरत पड़ने पर उन्हें उनका धन उपलब्ध करवाते हैं तथा उन्हें दीर्घकालिक ऋण की पेशकम करते हैं। परंतु इन लेखकों के विश्लेषण से यह भी स्पष्ट होता है कि – बैंकों पर अपवादों से प्रतिकूल प्रभाव पड़ता है और निकट भविष्य में उनका दिवाला निकल सकता है। जब बड़ी संख्या में बचतकर्ता एक साथ अपना धन निकलने के लिए बैंक के पास जाते हैं तो बैंक तक की दौड़ शुरू हो जाती है और बैंक का दिवाला निकल जाता है। जमा धनराशि की बीमा सुविधा देकी और बैंकों में जमा पैसों की देनदार बनकर सरकार ऐसे खतरनाक डायनामिक्स को रोक सकती है। डायमैंड ने सामाजिक दृष्टि से महत्वपूर्ण बैंक के अन्य कार्य को प्रदर्शित किया। बचत कर्ताओं और उधार लेने वालों के बीच मध्यस्थ की भूमिका निभाने वाले के रूप में बैंक, उधार लेने वालों की ऋण चुकाने की क्षमता का आँकलन करने और ऋणों का उपयोग अच्छे निवेश के लिए करना सुनिश्चित करने के लिए बेहतर स्थिति में होते हैं। इन पुरस्कार प्राप्तकर्ताओं की अन्तर्दृष्टि से गंभीर संकटों की खर्चीले राहत पैकेजों से बचने की हमारी योग्यता में सुधार हुआ है।

According to the laureates, what leads to imminent collapse of banks?

1. Fraudulent behaviour of the borrowers
2. Increasing competition in the banking sector
3. When a large number of savers simultaneously withdraw their money
4. When a large number of borrowers simultaneously borrow money from the bank

- (1) 1  
(2) 2  
(3) 3  
(4) 4

पुरस्कार प्राप्त कर्ताओं के अनुसार किन कारणों के बैंकों का दिवाला निकलना सन्निकट होता है

1. उधार लेनेवालों का कपटपूर्व व्यवहार
2. बैंकिंग क्षेत्रों में प्रतिस्पर्धा में वृद्धि होना
3. जब बड़ी संख्या में बचतकर्ता एक साथ अपना पैसा आरक्षित करते हैं
4. जब बड़ी संख्या में उधार लेनेवाले एक साथ बैंक के ऋण लेते हैं

- (1) 1  
(2) 2  
(3) 3  
(4) 4

1[Option ID=30069]  
2[Option ID=30070]  
3[Option ID=30071]  
4[Option ID=30072]

Question Description : economics\_economics\_set1\_english\_q93

Sl. No.94  
QBID:11094

Read the following passage and answer the questions.

The Nobel Prize in Economics in 2022 has been awarded to Ben S. Bernanke, Douglas, W. Diamond and Philip H Dybvig "for research on banks and financial crises". One of the important findings in their research is why avoiding bank collapses is vital. Saving must be channelled to investments for the functioning and growth of any economy. But there arises a conflict - while the savers want instant access to their money for unexpected outlays, the borrowers need to know they will not be forced to repay their loans prematurely. Diamond and Dybvig, show how banks offer an optimal solution to this problem. Banks may act as intermediaries, who accept deposits from savers and allow access to their money, when they wish and also offer long term loans to borrowers. But the analysis of these authors also shows banks are vulnerable to rumours and they may lead to their imminent collapse, when a large number of savers simultaneously, run to a bank to withdraw their money- a bank run occurs and the bank collapses. such dangerous dynamics can be prevented through the government by providing deposit insurance and acting as a lender of last resort to banks. Diamond demonstrated another societally important function by a bank. Banks as intermediaries between savers and borrowers, are in a better position to assess a borrower's creditworthiness and ensure that loans are used for good investments. "The laureates insights have improved our ability to avoid both serious crises and expensive bailouts."

“बैंको और वित्तीय संकट” पर अनुसंधान करने के लिए बेन एस बर्नान्के, डगलस डब्ल्यू डाइजमैंड और फिलिप एच डायबोजी का वर्ष 2022 में अर्थशास्त्र में नोबल पुरस्कार प्रदान किया गया। उनके अनुसंधान का एक महत्वपूर्ण निष्कर्ष है कि बैंकों के असफल होने को नजरंदाज करना अहम क्यों है। किसी भी अर्थशास्त्र के कार्यकारण और विकास के लिए बचतों को निवेश में लगाया जाना चाहिए। परंतु एक अन्तर्विरोध उत्पन्न होता है – जबकि बचतकर्ता अनपेक्षित परिव्ययों के लिए अपना धन तुरंत प्राप्त करना चाहते हैं, उधार लेने वाले जानना चाहते हैं कि लिए गए ऋण की समय से पूर्व अदायगी करने के लिए उन पर दबाव नहीं डाला जाएगा। डाइमैंड और डायबोजी यह स्पष्ट करते हैं कि किस प्रकार बैंक इस समस्या का इष्टतम समाधान प्रस्तुत करते हैं। बैंक ऐसे मध्यस्थ के रूप में काम कर सकते हैं जो बचतकर्ताओं से जमा स्वीकार करते हैं उची जमाकर्ताओं की जरूरत पड़ने पर उन्हें उनका धन उपलब्ध करवाते हैं तथा उन्हें दीर्घकालिक ऋण की पेशकम करते हैं। परंतु इन लेखकों के विश्लेषण से यह भी स्पष्ट होता है कि – बैंकों पर अपवादों से प्रतिकूल प्रभाव पड़ता है और निकट भविष्य में उनका दिवाला निकल सकता है। जब बड़ी संख्या में बचतकर्ता एक साथ अपना धन निकलने के लिए बैंक के पास जाते हैं तो बैंक तक की दौड़ शुरु हो जाती है और बैंक का दिवाला निकल जाता है। जमा धनराशि की बीमा सुविधा देकी और बैंकों में जमा पैसों की देनदार बनकर सरकार ऐसे खतरनाक डायनामिक्स को रोक सकती है। डाइमैंड ने सामाजिक दृष्टि से महत्वपूर्ण बैंक के अन्य कार्य को प्रदर्शित किया। बचत कर्ताओं और उधार लेने वालों के बीच मध्यस्थ की भूमिका निभाने वाले के रूप में बैंक, उधार लेने वालों की ऋण चुकाने की क्षमता का आँकलन करने और ऋणों का उपयोग अच्छे निवेश के लिए करना सुनिश्चित करने के लिए बेहतर स्थिति में होते हैं। इन पुरस्कार प्राप्तकर्ताओं की अन्तर्दृष्टि से गंभीर संकटों की खर्चीले राहत पैकेजों से बचने की हमारी योग्यता में सुधार हुआ है।

What do the laureates suggest to prevent rumours-led bank collapses ?

1. Reduce lending
2. Increase lending
3. Collaboration with other banks
4. Government should provide deposit insurance and act as lender of last resort.

- (1) 1  
(2) 2  
(3) 3  
(4) 4

अफवाहों के कारण बैंकों को दिवाला निकलने से बचाने के लिए पुरस्कार कर्ताओं के क्या सुझाव दिए

1. ऋण देने में कमी लाकर
2. ऋण देने वृद्धि कर
3. अन्य बैंकों के साथ सहयोग कर
4. सरकार द्वारा जमा राशि को बीमा सुरक्षा देकर उसी बैंकों के पास जमा धन का देनदार बनकर

- (1) 1  
(2) 2  
(3) 3  
(4) 4

1[Option ID=30073]  
2[Option ID=30074]  
3[Option ID=30075]  
4[Option ID=30076]

Question Description : economics\_economics\_set1\_english\_q94

Sl. No.95  
QBID:11095

Read the following passage and answer the questions.

The Nobel Prize in Economics in 2022 has been awarded to Ben S. Bernanke, Douglas, W. Diamond and Philip H Dybvig "for research on banks and financial crises". One of the important findings in their research is why avoiding bank collapses is vital. Saving must be channelled to investments for the functioning and growth of any economy. But there arises a conflict - while the savers want instant access to their money for unexpected outlays, the borrowers need to know they will not be forced to repay their loans prematurely. Diamond and Dybvig, show how banks offer an optimal solution to this problem. Banks may act as intermediaries, who accept deposits from savers and allow access to their money, when they wish and also offer long term loans to borrowers. But the analysis of these authors also shows banks are vulnerable to rumours and they may lead to their imminent collapse, when a large number of savers simultaneously, run to a bank to withdraw their money- a bank run occurs and the bank collapses. such dangerous dynamics can be prevented through the government by providing deposit insurance and acting as a leader of last resort to banks. Diamond demonstrated another societally important function by a bank. Banks as intermediaries between savers and borrowers, are in a better position to assess a borrower's creditworthiness and ensure that loans are used for good investments. "The laureates insights have improved our ability to avoid both serious crises and expensive bailouts."

“बैंको और वित्तीय संकट” पर अनुसंधान करने के लिए बेन एस बर्नान्के, डगलस डब्ल्यू डाइजमैंड और फिलिप एच डायबोजी का वर्ष 2022 में अर्थशास्त्र में नोबल पुरस्कार प्रदान किया गया। उनके अनुसंधान का एक महत्वपूर्ण निष्कर्ष है कि बैंकों के असफल होने को नजरंदाज करना अहम क्यों है। किसी भी अर्थशास्त्र के कार्यकारण और विकास के लिए बचतों को निवेश में लगाया जाना चाहिए। परंतु एक अन्तर्विरोध उत्पन्न होता है – जबकि बचतकर्ता अनपेक्षित परिव्ययों के लिए अपना धन तुरंत प्राप्त करना चाहते हैं, उधार लेने वाले जानना चाहते हैं कि लिए गए ऋण की समय से पूर्व अदायगी करने के लिए उन पर दबाव नहीं डाला जाएगा। डाइमैंड और डायबोजी यह स्पष्ट करते हैं कि किस प्रकार बैंक इस समस्या का इष्टतम समाधान प्रस्तुत करते हैं। बैंक ऐसे मध्यस्थ के रूप में काम कर सकते हैं जो बचतकर्ताओं से जमा स्वीकार करते हैं उची जमाकर्ताओं की जरूरत पड़ने पर उन्हें उनका धन उपलब्ध करवाते हैं तथा उन्हें दीर्घकालिक ऋण की पेशकम करते हैं। परंतु इन लेखकों के विश्लेषण से यह भी स्पष्ट होता है कि – बैंकों पर अपवादों से प्रतिकूल प्रभाव पड़ता है और निकट भविष्य में उनका दिवाला निकल सकता है। जब बड़ी संख्या में बचतकर्ता एक साथ अपना धन निकलने के लिए बैंक के पास जाते हैं तो बैंक तक की दौड़ शुरू हो जाती है और बैंक का दिवाला निकल जाता है। जमा धनराशि की बीमा सुविधा देकी और बैंकों में जमा पैसों की देनदार बनकर सरकार ऐसे खतरनाक डायनामिक्स को रोक सकती है। डाइमैंड ने सामाजिक दृष्टि से महत्वपूर्ण बैंक के अन्य कार्य को प्रदर्शित किया। बचत कर्ताओं और उधार लेने वालों के बीच मध्यस्थ की भूमिका निभाने वाले के रूप में बैंक, उधार लेने वालों की ऋण चुकाने की क्षमता का आँकलन करने और ऋणों का उपयोग अच्छे निवेश के लिए करना सुनिश्चित करने के लिए बेहतर स्थिति में होते हैं। इन पुरस्कार प्राप्तकर्ताओं की अन्तर्दृष्टि से गंभीर संकटों की खर्चीले राहत पैकेजों से बचने की हमारी योग्यता में सुधार हुआ है।

According to Diamond, how do banks ensure that loans are used for good investments?

1. Since banks act as intermediaries between savers and borrowers, they have better idea about the creditworthiness of the borrowers and hence can ensure loans are used for good investments.
2. Since banks want to maximize profits, it can ensure loans are used for good investments
3. Since bank want to benefit their customers, they can ensure that loans are used for good investment.
4. Banks do not have enough information to ensure loans are used for good investment

- (1) 1  
(2) 2  
(3) 3  
(4) 4

डायमंड के अनुसार बैंक अच्छे निवेश के लिए धन का उपयोग कैसे सुनिश्चित करें

1. चूँकी बैंक, बचत कर्ताओं और उधार लेने वालों के बीच मध्यस्थ के रूप में काम करते हैं, इसलिए उन्हें उधार लेने वालों की ऋण चुकाने की क्षमता के बारे में अच्छी जानकारी होती है, इसलिए वे अच्छे निवेश के लिए धन का उपयोग सुनिश्चित कर सकते हैं
2. चूँकी बैंक अपना मुनाफा अधिकतम करना चाहते हैं, इसलिए वे अच्छे निवेश के लिए ऋण का उपयोग सुनिश्चित कर सकते हैं
3. चूँकी बैंक अनपे ग्राहकों को लाभ पहुँचाना चाहते हैं, इसलिए वे अच्छे निवेश के लिए ऋण का उपयोग सुनिश्चित कर सकते हैं
4. बैंकों के पास यह सुनिश्चित करने के लिए पर्याप्त जानकारी नहीं देती कि अच्छे निवेश के लिए ऋण का उपयोग कैसे करे।

- (1) 1  
(2) 2  
(3) 3  
(4) 4

1[Option ID=30077]  
2[Option ID=30078]  
3[Option ID=30079]  
4[Option ID=30080]

Question Description : economics\_economics\_set1\_english\_q95

Sl. No.96  
QBID:11096

India's Presidency of the Group Twenty (G-20) is a matter of great pride for all Indians. The G-20 is an intergovernmental forum consisting of 19 countries such as Argentina, Australia, Brazil, Canada, China, France, Germany, India, Indonesia, Italy, Japan, Republic of Korea, Mexico, Russia, Saudi Arabia, South Africa, Turkey, United Kingdom and United States and the European Union. The G-20 was founded in 1999 after the Asian financial crises as a forum for international economic cooperation. The size of G-20 indicates its relevance in the global economy. The G-20 members represent around 85% of the global GDP, over 75% of the global trade and 67% of world population. The G-20 summit is held annually under the leadership of a rotating presidency. India assumed the G-20 presidency from Indonesia on December 1, 2022 and will convene the G-20 leaders' summit for the first time in the country in 2023. The theme of India's G-20 presidency is "Vasudhaiva Kutumbakam", that is, "One Earth, One family and One future" closely ties with LIFE (Lifestyle for Environment). The G-20 presidency steers the G-20 agenda for one year and hosts the summit. The G-20 consists of two parallel tracks : the Finance track and the Sherpa track. Finance ministers and Central Bank Governors lead the finance track, while Sherpas lead the Sherpa track. India's G-20 priorities are Green Development, Climate finance and life; Accelerated inclusive and resilient growth; Accelerating progress on SDGs; Technological transformation and Digital public infrastructure; Multilateral institutions for the 21st century; and Women Led development. India kickstarted its presidency term agenda with a series of initiatives and meetings. As a part of this, India will host over 200 meetings in over 50 cities across 32 different work streams before conducting the annual G-20 summit in Delhi in September 2023. The 43 Heads of Delegations, the largest ever in G-20 will be participating in the final summit. Conducting of this summit definitely increases India's standing in the global order. It is a great opportunity to showcase India's cultural heritage, culture and achievements to global leaders and India's commitment for global sustainable development.

भारत द्वारा ग्रुप ट्वेन्टी (जी-20) की अध्यक्षता ग्रहण करना सभी भारतीयों के लिए गर्व की बात है। जी-20 एक अंतर सरकारी मंच है जिसमें 19 देश जैसे कि अर्जेंटीना, ओस्ट्रेलिया, ब्राजील, कनाडा, चीन, फ्रांस, जर्मनी, भारत, इंडोनेशिया, इटली, जापान, कोरिया गणराज्य, मेक्सिको, रूस, सऊदी अरब, दक्षिण अफ्रीका, तुर्की, यूनाइटेड किंगडम और यूनाइटेड स्टेट्स तथा यूरोपीय संघ शामिल हैं। एशियाई वित्तीय संकट के बाद, जी-20 की स्थापना एक अंतरराष्ट्रीय आर्थिक सहयोग के मंच के रूप में 1999 में हुई थी। जी-20 का आकार विश्व अर्थव्यवस्था में इसकी प्रासंगिकता के दर्शाता है। जी-20 के सदस्य 85% विश्वका जीडीपी 75% से अधिक विश्विक व्यापार और विश्व की 67% जनसंख्या का प्रतिनिधित्व करते हैं। जी-20 शिखर सम्मेलन चक्रानुक्रम आधार पर बने अध्यक्ष के नेतृत्व में वार्षिक रूप से आयोजित होता है। भारत ने 1 दिसम्बर, 2022 के इंडोनेशिया से जी-20 की अध्यक्षता ग्रहण की है और वह 2023 में देश में पहली बार जी-20 के नेताओं का शिखर सम्मेलन आयोजित करेगा। भारत की जी-20 की अध्यक्षता का मूल विषय है- "वसुधैव कुटुम्बकम्" अर्थात् "एक धरती, एक परिवार और एक भविष्य" जिसका लाइफ (Life) (पर्यावरण के लिए जीवन शैली) से निकट संबंध है। जी-20 की अध्यक्षता एक वर्ष के लिए जी-20 का एजेंडा निर्धारित करती है और शिखर सम्मेलन की मेजबानी करती है। जी-20 में दो समानांतर मार्ग शामिल हैं जो वित्त मार्ग और शेरपा मार्ग हैं। वित्त मंत्री और केन्द्रीय बैंक के गवर्नर वित्त मार्ग का नेतृत्व करते हैं जबकि शेरपा मार्ग का नेतृत्व शेरपा करते हैं। भारत की जी-20 प्राथमिकताएं हैं – ग्रीन विकास, जलवायु वित्त और जीवन; त्वरित समावेशी और प्रत्यासी विकास; सतत विकास सदस्यों (एसडीजी) पर प्रगति में तीजी लाना; प्रौद्योगिकीय परिवर्तन और डिजिटल सार्वजनिक अवसंरचना; 21 वीं सदी के लिए बहुपक्षीय संस्थाएं, और महिलाओं के नेतृत्व में विकास। भारत ने अनेक पहलों और बैठकों के साथ अपनी अध्यक्षता के कार्य काल के एजेंडा की शुरुआत कर दी है। इस एजेंडा के एक भाग के रूप में, भारत सितम्बर 2023 में दिल्ली में जी-20 का वार्षिक शिखर सम्मेलन आयोजित करने से पहले 32 विभिन्न कार्य शाखाओं के संबंध में 50 से अधिक शहरों में 200 से अधिक बैठकों की मेजबानी करेगा। इस शिखर सम्मेलन में जी-20 के अब तक के सर्वाधिक 43 शिष्ट मंडलों के प्रमुख भाग लेंगे। इस शिखर सम्मेलन को आयोजित करने से विश्व व्यवस्था में भारत का कद निश्चित रूप से बढ़ेगा और यह विश्व के नेताओं के समक्ष भारत की सांस्कृतिक विरासत, संस्कृति और उपलब्धियों के प्रस्तुत करने तथा वैश्विक सतत विकास के लिए भारत की प्रतिबद्धता को दर्शाने का एक बड़ा अवसर है।

For which purpose G-20 was originally founded ?

1. to discuss international peace and counter-terrorism issues
2. to discuss global economic and financial issues
3. to discuss climate change and environmental issues
4. to discuss resolving the war between Russia and Ukraine

- (1) 1  
(2) 2  
(3) 3  
(4) 4

जी-20 की स्थापना प्रारंभ के किस उद्देश्य के लिए हुई थी ?

1. अंतरराष्ट्रीय शांति और आतंकवाद – सेबी मुद्दों पर चर्चा करने के लिए।
2. वैश्विक आर्थिक और वित्तीय मुद्दों पर चर्चा करने के लिए।
3. जलवायु परिवर्तन और पर्यावरण से संबंधित मुद्दों पर चर्चा करने के लिए।
4. रूस और यूक्रेन के बीच युद्ध रोकने के संबंध में चर्चा करने के लिए।

- (1) 1  
(2) 2  
(3) 3  
(4) 4

Sl. No.97  
QBID:11097

India's Presidency of the Group Twenty (G-20) is a matter of great pride for all Indians. The G-20 is an intergovernmental forum consisting of 19 countries such as Argentina, Australia, Brazil, Canada, China, France, Germany, India, Indonesia, Italy, Japan, Republic of Korea, Mexico, Russia, Saudi Arabia, South Africa, Turkey, United Kingdom and United States and the European Union. The G-20 was founded in 1999 after the Asian financial crises as a forum for international economic cooperation. The size of G-20 indicates its relevance in the global economy. The G-20 members represent around 85% of the global GDP, over 75% of the global trade and 67% of world population. The G-20 summit is held annually under the leadership of a rotating presidency. India assumed the G-20 presidency from Indonesia on December 1, 2022 and will convene the G-20 leaders' summit for the first time in the country in 2023. The theme of India's G-20 presidency is "Vasudhaiva Kutumbakam", that is, "One Earth, One family and One future" closely ties with LIFE (Lifestyle for Environment). The G-20 presidency steers the G-20 agenda for one year and hosts the summit. The G-20 consists of two parallel tracks : the Finance track and the Sherpa track. Finance ministers and Central Bank Governors lead the finance track, while Sherpas lead the Sherpa track. India's G-20 priorities are Green Development, Climate finance and life; Accelerated inclusive and resilient growth; Accelerating progress on SDGs; Technological transformation and Digital public infrastructure; Multilateral institutions for the 21st century; and Women Led development. India kickstarted its presidency term agenda with a series of initiatives and meetings. As a part of this, India will host over 200 meetings in over 50 cities across 32 different work streams before conducting the annual G-20 summit in Delhi in September 2023. The 43 Heads of Delegations, the largest ever in G-20 will be participating in the final summit. Conducting of this summit definitely increases India's standing in the global order. It is a great opportunity to showcase India's cultural heritage, culture and achievements to global leaders and India's commitment for global sustainable development.

भारत द्वारा ग्रुप ट्वेन्टी (जी-20) की अध्यक्षता ग्रहण करना सभी भारतीयों के लिए गर्व की बात है। जी-20 एक अंतर सरकारी मंच है जिसमें 19 देश जैसे कि अर्जेंटीना, ओस्ट्रेलिया, ब्राजील, कनाडा, चीन, फ्रांस, जर्मनी, भारत, इंडोनेशिया, इटली, जापान, कोरिया गणराज्य, मेक्सिको, रूस, सऊदी अरब, दक्षिण अफ्रीका, तुर्की, यूनाइटेड किंगडम और यूनाइटेड स्टेट्स तथा यूरोपीय संघ शामिल हैं। एशियाई वित्तीय संकट के बाद, जी-20 की स्थापना एक अंतरराष्ट्रीय आर्थिक सहयोग के मंच के रूप में 1999 में हुई थी। जी-20 का आकार विश्व अर्थव्यवस्था में इसकी प्रासंगिकता के दर्शाता है। जी-20 के सदस्य 85% विश्वका जीडीपी 75% से अधिक विश्विक व्यापार और विश्व की 67% जनसंख्या का प्रतिनिधित्व करते हैं। जी-20 शिखर सम्मेलन चक्रानुक्रम आधार पर बने अध्यक्ष के नेतृत्व में वार्षिक रूप से आयोजित होता है। भारत ने 1 दिसम्बर, 2022 के इंडोनेशिया से जी-20 की अध्यक्षता ग्रहण की है और वह 2023 में देश में पहली बार जी-20 के नेताओं का शिखर सम्मेलन आयोजित करेगा। भारत की जी-20 की अध्यक्षता का मूल विषय है- "वसुधैव कुटुम्बकम्" अर्थात् "एक धरती, एक परिवार और एक भविष्य" जिसका लाइफ (Life) (पर्यावरण के लिए जीवन शैली) से निकट संबंध है। जी-20 की अध्यक्षता एक वर्ष के लिए जी-20 का एजेंडा निर्धारित करती है और शिखर सम्मेलन की मेजबानी करती है। जी-20 में दो समानांतर मार्ग शामिल हैं जो वित्त मार्ग और शेरपा मार्ग हैं। वित्त मंत्री और केन्द्रीय बैंक के गवर्नर वित्त मार्ग का नेतृत्व करते हैं जबकि शेरपा मार्ग का नेतृत्व शेरपा करते हैं। भारत की जी-20 प्राथमिकताएं हैं – ग्रीन विकास, जलवायु वित्त और जीवन; त्वरित समावेशी और प्रत्यासी विकास; सतत विकास सदस्यों (एसडीजी) पर प्रगति में तीजी लाना; प्रौद्योगिकीय परिवर्तन और डिजिटल सार्वजनिक अवसंरचना; 21 वीं सदी के लिए बहुपक्षीय संस्थाएं, और महिलाओं के नेतृत्व में विकास। भारत ने अनेक पहलों और बैठकों के साथ अपनी अध्यक्षता के कार्य काल के एजेंडा की शुरुआत कर दी है। इस एजेंडा के एक भाग के रूप में, भारत सितम्बर 2023 में दिल्ली में जी-20 का वार्षिक शिखर सम्मेलन आयोजित करने से पहले 32 विभिन्न कार्य शाखाओं के संबंध में 50 से अधिक शहरों में 200 से अधिक बैठकों की मेजबानी करेगा। इस शिखर सम्मेलन में जी-20 के अब तक के सर्वाधिक 43 शिष्ट मंडलों के प्रमुख भाग लेंगे। इस शिखर सम्मेलन को आयोजित करने से विश्व व्यवस्था में भारत का कद निश्चित रूप से बढ़ेगा और यह विश्व के नेताओं के समक्ष भारत की सांस्कृतिक विरासत, संस्कृति और उपलब्धियों के प्रस्तुत करने तथा वैश्विक सतत विकास के लिए भारत की प्रतिबद्धता को दर्शाने का एक बड़ा अवसर है।

Which one of the followings is not India's G-20 priorities?

1. Multilateral Institutions for 21st century
2. Women-led development
3. Development and sustained border
4. Technological transformation and digital public infrastructure.

(1) 1

(2) 2

(3) 3

(4) 4

निम्नलिखित में से कौन सी भारत की जी-20 प्राथमिकता नहीं है ?

1. 21वीं सदी के लिए बहुपक्षीय संस्थाएं
2. महिलाओं के नेतृत्व में विकास
3. सीमा पर सतत विकास
4. प्रौद्योगिकीय परिवर्तन और डिजिटल सार्वजनिक अवसंरचना

(1) 1

(2) 2

(3) 3

1[Option ID=30085]  
2[Option ID=30086]  
3[Option ID=30087]  
4[Option ID=30088]

Question Description : economics\_economics\_set1\_english\_q97

Sl. No.98

QBID:11098

India's Presidency of the Group Twenty (G-20) is a matter of great pride for all Indians. The G-20 is an intergovernmental forum consisting of 19 countries such as Argentina, Australia, Brazil, Canada, China, France, Germany, India, Indonesia, Italy, Japan, Republic of Korea, Mexico, Russia, Saudi Arabia, South Africa, Turkey, United Kingdom and United States and the European Union. The G-20 was founded in 1999 after the Asian financial crises as a forum for international economic cooperation. The size of G-20 indicates its relevance in the global economy. The G-20 members represent around 85% of the global GDP, over 75% of the global trade and 67% of world population. The G-20 summit is held annually under the leadership of a rotating presidency. India assumed the G-20 presidency from Indonesia on December 1, 2022 and will convene the G-20 leaders' summit for the first time in the country in 2023. The theme of India's G-20 presidency is "Vasudhaiva Kutumbakam", that is, "One Earth, One family and One future" closely ties with LIFE (Lifestyle for Environment). The G-20 presidency steers the G-20 agenda for one year and hosts the summit. The G-20 consists of two parallel tracks : the Finance track and the Sherpa track. Finance ministers and Central Bank Governors lead the finance track, while Sherpas lead the Sherpa track. India's G-20 priorities are Green Development, Climate finance and life; Accelerated inclusive and resilient growth; Accelerating progress on SDGs; Technological transformation and Digital public infrastructure; Multilateral institutions for the 21st century; and Women Led development. India kickstarted its presidency term agenda with a series of initiatives and meetings. As a part of this, India will host over 200 meetings in over 50 cities across 32 different work streams before conducting the annual G-20 summit in Delhi in September 2023. The 43 Heads of Delegations, the largest ever in G-20 will be participating in the final summit. Conducting of this summit definitely increases India's standing in the global order. It is a great opportunity to showcase India's cultural heritage, culture and achievements to global leaders and India's commitment for global sustainable development.

भारत द्वारा ग्रुप ट्वेन्टी (जी-20) की अध्यक्षता ग्रहण करना सभी भारतीयों के लिए गर्व की बात है। जी-20 एक अंतर सरकारी मंच है जिसमें 19 देश जैसे कि अर्जेंटीना ओस्ट्रेलिया, ब्राजील, कनाडा, चीन, फ्रांस, जर्मनी, भारत, इंडोनेशिया, इटली जापान, कोरिया गणराज्य, मेक्सिको, रूस, सऊदी अरब, दक्षिण अफ्रीका, तुर्की, यूनाइटेड किंगडम और यूनाइटेड स्टेट्स तथा यूरोपीय संघ शामिल हैं। एशियाई वित्तीय संकट के बाद, जी-20 की स्थापना एक अंतरराष्ट्रीय आर्थिक सहयोग के मंच के रूप में 1999 में हुई थी। जी-20 का आकार विश्व अर्थव्यवस्था में इसकी प्रासंगिकता के दर्शाता है। जी-20 के सदस्य 85% विश्वका जीडीपी 75% से अधिक विश्विक व्यापार और विश्व की 67% जनसंख्या का प्रतिनिधित्व करते हैं। जी-20 शिखर सम्मेलन चक्रानुक्रम आधार पर बने अध्यक्ष के नेतृत्व में वार्षिक रूप से आयोजित होता है। भारत ने 1 दिसम्बर, 2022 के इंडोनेशिया से जी-20 की अध्यक्षता ग्रहण की है और वह 2023 में देश में पहली बार जी-20 के नेताओं का शिखर सम्मेलन आयोजित करेगा। भारत की जी-20 की अध्यक्षता का मूल विषय है- "वसुधैव कुटुम्बकम्" अर्थात् "एक धरती, एक परिवार और एक भविष्य" जिसका लाइफ (Life) (पर्यावरण के लिए जीवन शैली) से निकट संबंध है। जी-20 की अध्यक्षता एक वर्ष के लिए जी-20 का एजेंडा निर्धारित करती है और शिखर सम्मेलन की मेजबानी करती है। जी-20 में दो समानांतर मार्ग शामिल हैं जो वित्त मार्ग और शेरपा मार्ग हैं। वित्त मंत्री और केन्द्रीय बैंक के गवर्नर वित्त मार्ग का नेतृत्व करते हैं जबकि शेरपा मार्ग का नेतृत्व शेरपा करते हैं। भारत की जी-20 प्राथमिकताएं हैं – ग्रीन विकास, जलवायु वित्त और जीवन; त्वरित समावेशी और प्रत्यासी विकास; सतत विकास सदस्यों (एसडीजी) पर प्रगति में तीजी लाना; प्रौद्योगिकीय परिवर्तन और डिजिटल सार्वजनिक अवसंरचना; 21 वीं सदी के लिए बहुपक्षीय संस्थाएं, और महिलाओं के नेतृत्व में विकास। भारत ने अनेक पहलों और बैठकों के साथ अपनी अध्यक्षता के कार्य काल के एजेंडा की शुरुआत कर दी है। इस एजेंडा के एक भाग के रूप में, भारत सितम्बर 2023 में दिल्ली में जी-20 का वार्षिक शिखर सम्मेलन आयोजित करने से पहले 32 विभिन्न कार्य शाखाओं के संबंध में 50 से अधिक शहरों में 200 से अधिक बैठकों की मेजबानी करेगा। इस शिखर सम्मेलन में जी-20 के अब तक के सर्वाधिक 43 शिष्ट मंडलों के प्रमुख भाग लेंगे। इस शिखर सम्मेलन को आयोजित करने से विश्व व्यवस्था में भारत का कद निश्चित रूप से बढ़ेगा और यह विश्व के नेताओं के समक्ष भारत की सांस्कृतिक विरासत, संस्कृति और उपलब्धियों के प्रस्तुत करने तथा वैश्विक सतत विकास के लिए भारत की प्रतिबद्धता को दर्शाने का एक बड़ा अवसर है।

The size of G-20 in terms of world population, global GDP and global trade respectively is:

1. 85%, 75% and 85%
2. 67%, 75% and 85%
3. 85%, 67% and 75%
4. 67%, 85% and 75%

(1) 1

(2) 2

(3) 3

(4) 4

विश्व की जनसंख्या वैश्विक जीडीपी और वैश्विक व्यापार की दृष्टि से जी-20 का आदार क्रमशः है

1. 85%, 75% और 85%
2. 67%, 75% और 85%
3. 85%, 67% और 75%
4. 67%, 85% और 75%

- (1) 1
- (2) 2
- (3) 3
- (4) 4

1[Option ID=30089] Question Description : economics\_economics\_set1\_english\_q98  
2[Option ID=30090]  
3[Option ID=30091]  
4[Option ID=30092]

Sl. No.99  
QBID:11099

India's Presidency of the Group Twenty (G-20) is a matter of great pride for all Indians. The G-20 is an intergovernmental forum consisting of 19 countries such as Argentina, Australia, Brazil, Canada, China, France, Germany, India, Indonesia, Italy, Japan, Republic of Korea, Mexico, Russia, Saudi Arabia, South Africa, Turkey, United Kingdom and United States and the European Union. The G-20 was founded in 1999 after the Asian financial crises as a forum for international economic cooperation. The size of G-20 indicates its relevance in the global economy. The G-20 members represent around 85% of the global GDP, over 75% of the global trade and 67% of world population. The G-20 summit is held annually under the leadership of a rotating presidency. India assumed the G-20 presidency from Indonesia on December 1, 2022 and will convene the G-20 leaders' summit for the first time in the country in 2023. The theme of India's G-20 presidency is "Vasudhaiva Kutumbakam", that is, "One Earth, One family and One future" closely ties with LIFE (Lifestyle for Environment). The G-20 presidency steers the G-20 agenda for one year and hosts the summit. The G-20 consists of two parallel tracks : the Finance track and the Sherpa track. Finance ministers and Central Bank Governors lead the finance track, while Sherpas lead the Sherpa track. India's G-20 priorities are Green Development, Climate finance and life; Accelerated inclusive and resilient growth; Accelerating progress on SDGs; Technological transformation and Digital public infrastructure; Multilateral institutions for the 21st century; and Women Led development. India kickstarted its presidency term agenda with a series of initiatives and meetings. As a part of this, India will host over 200 meetings in over 50 cities across 32 different work streams before conducting the annual G-20 summit in Delhi in September 2023. The 43 Heads of Delegations, the largest ever in G-20 will be participating in the final summit. Conducting of this summit definitely increases India's standing in the global order. It is a great opportunity to showcase India's cultural heritage, culture and achievements to global leaders and India's commitment for global sustainable development.

भारत द्वारा ग्रुप ट्वेन्टी (जी-20) की अध्यक्षता ग्रहण करना सभी भारतीयों के लिए गर्व की बात है। जी-20 एक अंतर सरकारी मंच है जिसमें 19 देश जैसे कि अर्जेंटीना, ऑस्ट्रेलिया, ब्राजील, कनाडा, चीन, फ्रांस, जर्मनी, भारत, इंडोनेशिया, इटली, जापान, कोरिया गणराज्य, मेक्सिको, रूस, सऊदी अरब, दक्षिण अफ्रीका, तुर्की, यूनाइटेड किंगडम और यूनाइटेड स्टेट्स तथा यूरोपीय संघ शामिल हैं। एशियाई वित्तीय संकट के बाद, जी-20 की स्थापना एक अंतरराष्ट्रीय आर्थिक सहयोग के मंच के रूप में 1999 में हुई थी। जी-20 का आकार विश्व अर्थव्यवस्था में इसकी प्रासंगिकता के दर्शाता है। जी-20 के सदस्य 85% विश्वका जीडीपी 75% से अधिक विश्विक व्यापार और विश्व की 67% जनसंख्या का प्रतिनिधित्व करते हैं। जी-20 शिखर सम्मेलन चक्रानुक्रम आधार पर बने अध्यक्ष के नेतृत्व में वार्षिक रूप से आयोजित होता है। भारत ने 1 दिसम्बर, 2022 के इंडोनेशिया से जी-20 की अध्यक्षता ग्रहण की है और वह 2023 में देश में पहली बार जी-20 के नेताओं का शिखर सम्मेलन आयोजित करेगा। भारत की जी-20 की अध्यक्षता का मूल विषय है- "वसुधैव कुटुम्बकम्" अर्थात् "एक धरती, एक परिवार और एक भविष्य" जिसका लाइफ (Life) (पर्यावरण के लिए जीवन शैली) से निकट संबंध है। जी-20 की अध्यक्षता एक वर्ष के लिए जी-20 का एजेंडा निर्धारित करती है और शिखर सम्मेलन की मेजबानी करती है। जी-20 में दो समानांतर मार्ग शामिल हैं जो वित्त मार्ग और शेरपा मार्ग हैं। वित्त मंत्री और केन्द्रीय बैंक के गवर्नर वित्त मार्ग का नेतृत्व करते हैं जबकि शेरपा मार्ग का नेतृत्व शेरपा करते हैं। भारत की जी-20 प्राथमिकताएं हैं – ग्रीन विकास, जलवायु वित्त और जीवन; त्वरित समावेशी और प्रत्यासी विकास; सतत विकास सदस्यों (एसडीजी) पर प्रगति में तीजी लाना; प्रौद्योगिकीय परिवर्तन और डिजिटल सार्वजनिक अवसंरचना; 21 वीं सदी के लिए बहुपक्षीय संस्थाएं, और महिलाओं के नेतृत्व में विकास। भारत ने अनेक पहलों और बैठकों के साथ अपनी अध्यक्षता के कार्य काल के एजेंडा की शुरुआत कर दी है। इस एजेंडा के एक भाग के रूप में, भारत सितम्बर 2023 में दिल्ली में जी-20 का वार्षिक शिखर सम्मेलन आयोजित करने से पहले 32 विभिन्न कार्य शाखाओं के संबंध में 50 से अधिक शहरों में 200 से अधिक बैठकों की मेजबानी करेगा। इस शिखर सम्मेलन में जी-20 के अब तक के सर्वाधिक 43 शिष्ट मंडलों के प्रमुख भाग लेंगे। इस शिखर सम्मेलन को आयोजित करने से विश्व व्यवस्था में भारत का कद निश्चित रूप से बढ़ेगा और यह विश्व के नेताओं के समक्ष भारत की सांस्कृतिक विरासत, संस्कृति और उपलब्धियों के प्रस्तुत करने तथा वैश्विक सतत विकास के लिए भारत की प्रतिबद्धता को दर्शाने का एक बड़ा अवसर है।

The theme of India's G-20 presidency is tied closely with –

1. Vasudhaiva Kutumbakam
2. One earth, one family and one future
3. Technology, Infrastructure and SDG
4. Life style for environment

- (1) 1
- (2) 2
- (3) 3
- (4) 4

भारत की जी-20 अध्यक्षता के मूल विषयका निम्नलिखित में से किसके साथ निकट संबंध है

1. वसुधैव कुटुम्बकम्
2. एक घटती, एक परिवार और एक भविष्य
3. प्रौद्योगिकी, अवसंरचना और एसडीजी
4. पर्यावरण के लिए जीवन शैली

- (1) 1  
(2) 2  
(3) 3  
(4) 4

1[Option ID=30093] Question Description : economics\_economics\_set1\_english\_q99  
2[Option ID=30094]  
3[Option ID=30095]  
4[Option ID=30096]

Sl. No.100  
QBID:11100

India's Presidency of the Group Twenty (G-20) is a matter of great pride for all Indians. The G-20 is an intergovernmental forum consisting of 19 countries such as Argentina, Australia, Brazil, Canada, China, France, Germany, India, Indonesia, Italy, Japan, Republic of Korea, Mexico, Russia, Saudi Arabia, South Africa, Turkey, United Kingdom and United States and the European Union. The G-20 was founded in 1999 after the Asian financial crises as a forum for international economic cooperation. The size of G-20 indicates its relevance in the global economy. The G-20 members represent around 85% of the global GDP, over 75% of the global trade and 67% of world population. The G-20 summit is held annually under the leadership of a rotating presidency. India assumed the G-20 presidency from Indonesia on December 1, 2022 and will convene the G-20 leaders' summit for the first time in the country in 2023. The theme of India's G-20 presidency is "Vasudhaiva Kutumbakam", that is, "One Earth, One family and One future" closely ties with LIFE (Lifestyle for Environment). The G-20 presidency steers the G-20 agenda for one year and hosts the summit. The G-20 consists of two parallel tracks : the Finance track and the Sherpa track. Finance ministers and Central Bank Governors lead the finance track, while Sherpas lead the Sherpa track. India's G-20 priorities are Green Development, Climate finance and life; Accelerated inclusive and resilient growth; Accelerating progress on SDGs; Technological transformation and Digital public infrastructure; Multilateral institutions for the 21st century; and Women Led development. India kickstarted its presidency term agenda with a series of initiatives and meetings. As a part of this, India will host over 200 meetings in over 50 cities across 32 different work streams before conducting the annual G-20 summit in Delhi in September 2023. The 43 Heads of Delegations, the largest ever in G-20 will be participating in the final summit. Conducting of this summit definitely increases India's standing in the global order. It is a great opportunity to showcase India's cultural heritage, culture and achievements to global leaders and India's commitment for global sustainable development.

भारत द्वारा ग्रुप ट्वेन्टी (जी-20) की अध्यक्षता ग्रहण करना सभी भारतीयों के लिए गर्व की बात है। जी-20 एक अंतर सरकारी मंच है जिसमें 19 देश जैसे कि अर्जेंटीना, ऑस्ट्रेलिया, ब्राजील, कनाडा, चीन, फ्रांस, जर्मनी, भारत, इंडोनेशिया, इटली, जापान, कोरिया गणराज्य, मेक्सिको, रूस, सऊदी अरब, दक्षिण अफ्रीका, तुर्की, यूनाइटेड किंगडम और यूनाइटेड स्टेट्स तथा यूरोपीय संघ शामिल हैं। एशियाई वित्तीय संकट के बाद, जी-20 की स्थापना एक अंतरराष्ट्रीय आर्थिक सहयोग के मंच के रूप में 1999 में हुई थी। जी-20 का आकार विश्व अर्थव्यवस्था में इसकी प्रासंगिकता के दर्शाता है। जी-20 के सदस्य 85% विश्वका जीडीपी 75% से अधिक विश्विक व्यापार और विश्व की 67% जनसंख्या का प्रतिनिधित्व करते हैं। जी-20 शिखर सम्मेलन चक्रानुक्रम आधार पर बने अध्यक्ष के नेतृत्व में वार्षिक रूप से आयोजित होता है। भारत ने 1 दिसम्बर, 2022 के इंडोनेशिया से जी-20 की अध्यक्षता ग्रहण की है और वह 2023 में देश में पहली बार जी-20 के नेताओं का शिखर सम्मेलन आयोजित करेगा। भारत की जी-20 की अध्यक्षता का मूल विषय है- "वसुधैव कुटुम्बकम्" अर्थात् "एक धरती, एक परिवार और एक भविष्य" जिसका लाइफ (Life) (पर्यावरण के लिए जीवन शैली) से निकट संबंध है। जी-20 की अध्यक्षता एक वर्ष के लिए जी-20 का एजेंडा निर्धारित करती है और शिखर सम्मेलन की मेजबानी करती है। जी-20 में दो समानांतर मार्ग शामिल हैं जो वित्त मार्ग और शेरपा मार्ग हैं। वित्त मंत्री और केन्द्रीय बैंक के गवर्नर वित्त मार्ग का नेतृत्व करते हैं जबकि शेरपा मार्ग का नेतृत्व शेरपा करते हैं। भारत की जी-20 प्राथमिकताएँ हैं – ग्रीन विकास, जलवायु वित्त और जीवन; त्वरित समावेशी और प्रत्यासी विकास; सतत विकास सदस्यों (एसडीजी) पर प्रगति में तीजी लाना; प्रौद्योगिकीय परिवर्तन और डिजिटल सार्वजनिक अवसंरचना; 21 वीं सदी के लिए बहुपक्षीय संस्थाएँ, और महिलाओं के नेतृत्व में विकास। भारत ने अनेक पहलों और बैठकों के साथ अपनी अध्यक्षता के कार्य काल के एजेंडा की शुरुआत कर दी है। इस एजेंडा के एक भाग के रूप में, भारत सितम्बर 2023 में दिल्ली में जी-20 का वार्षिक शिखर सम्मेलन आयोजित करने से पहले 32 विभिन्न कार्य शाखाओं के संबंध में 50 से अधिक शहरों में 200 से अधिक बैठकों की मेजबानी करेगा। इस शिखर सम्मेलन में जी-20 के अब तक के सर्वाधिक 43 शिष्ट मंडलों के प्रमुख भाग लेंगे। इस शिखर सम्मेलन को आयोजित करने से विश्व व्यवस्था में भारत का कद निश्चित रूप से बढ़ेगा और यह विश्व के नेताओं के समक्ष भारत की सांस्कृतिक विरासत, संस्कृति और उपलब्धियों के प्रस्तुत करने तथा वैश्विक सतत विकास के लिए भारत की प्रतिबद्धता को दर्शाने का एक बड़ा अवसर है।

The tracks in G-20 are :

1. Finance track and Sherpa track
2. Sherpa track and Economics track
3. Climate track and Sherpa track
4. Sherpa track and SDGs track

- (1) 1



(2) 2

(3) 3

(4) 4

जी-20 में निम्नलिखित में से कौन से मार्ग सामिल हैं ?

1. वित्त मार्ग और शेरपा मार्ग
2. शेरपा मार्ग और अर्थशास्त्र मार्ग
3. जलवायु मार्ग और शेरपा मार्ग
4. शेरपा मार्ग और एसडीजी मार्ग

(1) 1

(2) 2

(3) 3

(4) 4

1[Option ID=30097]

2[Option ID=30098]

3[Option ID=30099]

4[Option ID=30100]

Question Description : economics\_economics\_set1\_english\_q100

