

Test Date : 22 Feb 2023

Test Slot : Slot 2

Subject : 15-Population Studies

Sl. No.1

QBID:115001

Where was the United Nation's climate change conference 2022 (COP 27) organized?

1. Montreal
2. Sharm-El-Sheikh
3. Nairobi
4. Cairo

(1) 1

(2) 2

(3) 3

(4) 4

संयुक्त राष्ट्र का जलवायु परिवर्तन सम्मलेन, 2022 (सी.ओ.पी. 27) कहाँ आयोजित हुआ था ?

1. मॉन्ट्रियल
2. शर्म-अल-शेख
3. नैरोबी
4. काहिरा

(1) 1

(2) 2

(3) 3

(4) 4

1[Option ID=13801]

2[Option ID=13802]

3[Option ID=13803]

4[Option ID=13804]

Sl. No.2

QBID:115002

Which of the following measures the net migration?

1. In-migration – Out-migration
2. Out-migration + In-migration
3. In-migration + Total population
4. Total population + Out migration

(1) 1

(2) 2

(3) 3

(4) 4

निवल पलायन (प्रवसन) दर को मापने के कौन से उपाय है ?

1. अन्तः प्रवसन – बाह्य प्रवसन
2. बाह्य प्रवसन + अंतः प्रवसन
3. अन्तः प्रवसन + कुल जनसंख्या
4. कुल जनसंख्या + बाह्य प्रवसन

(1) 1

(2) 2

(3) 3

(4) 4

1[Option ID=13805]

2[Option ID=13806]

3[Option ID=13807]

4[Option ID=13808]

Sl. No.3

QBID:115003

What is the legal age for voting and marriage for females in India ?

1. 14 and 18
2. 18 and 18
3. 21 and 18
4. 18 and 21

(1) 1

(2) 2

(3) 3

(4) 4

भारत में महिलाओं की वोट देने एवं विवाह की वैध आयु क्या है ?

1. 14 एवं 18
2. 18 एवं 18
3. 21 एवं 18
4. 18 एवं 21

(1) 1

(2) 2

(3) 3

(4) 4

1[Option ID=13809]

2[Option ID=13810]

3[Option ID=13811]

4[Option ID=13812]

Sl. No.4

QBID:115004

What was the sex ratio of Haryana in 2011 census ?

1. 935
2. 940
3. 869
4. 933

(1) 1

(2) 2

(3) 3

(4) 4

हरियाणा में 2011 की जनगणना के अनुसार महिला पुरुष अनुपात क्या था ?

1. 935
2. 940
3. 869
4. 933

(1) 1

(2) 2

(3) 3

(4) 4

1[Option ID=13813]

2[Option ID=13814]

3[Option ID=13815]

4[Option ID=13816]

Sl. No.5

QBID:115005

Who among the following has introduced the explanation of agricultural intensification due to population growth?

1. Julian Simon
2. Condorcet
3. Simon Kuznets
4. Ester Boserup

(1) 1

(2) 2

(3) 3

(4) 4

निम्नलिखित में से किसने जनसंख्या वृद्धि के कारण कृषि सघटना/गहनता की व्याख्या प्रस्तावित की है ?

1. जुलियन सिमॉन
2. कंडोर्सेट
3. सिमॉन कुजनेस
4. इस्टर बोसरुप

(1) 1

(2) 2

(3) 3

(4) 4

1[Option ID=13817]

2[Option ID=13818]

3[Option ID=13819]

4[Option ID=13820]

Sl. No.6

QBID:115006

Since when has China adopted a two child population policy ?

1. 2015
2. 2016
3. 2017
4. 2018

(1) 1

(2) 2

(3) 3

(4) 4

चीन ने कब से दो बच्चों की जनसंख्या नीति को अंगीकार किया है ?

1. 2015
2. 2016
3. 2017
4. 2018

(1) 1

(2) 2

(3) 3

(4) 4

1[Option ID=13821]

2[Option ID=13822]

3[Option ID=13823]

4[Option ID=13824]

Sl. No.7

QBID:115007

Which among the following is the full form of 'ADL' in relation to the health and well being of the elderly?

1. Activities of Daily Living
2. Assisted Daily Living
3. Associated Daily Living
4. Assimilated Daily Living

(1) 1

(2) 2

(3) 3

(4) 4

वयोवृद्ध व्यक्तियों के स्वास्थ्य एवं कल्याण के संबंध में 'एडीएल' का पूर्ण रूप क्या है ?

1. दैनिक जीविका के क्रिया कलाप
2. दैनिक जीविका में सहयोग करना
3. संबंधित दैनिक जीविका
4. समीकृत दैनिक जीविका

- (1) 1
- (2) 2
- (3) 3
- (4) 4

1[Option ID=13825]
2[Option ID=13826]
3[Option ID=13827]
4[Option ID=13828]

Sl. No.8
QBID:115008

Which among the following age group has shown the highest growth rate in India during 2001 and 2011?

- 1. 0-4 years
- 2. 10-14 years
- 3. 15-59 years
- 4. 60 and above

- (1) 1
- (2) 2
- (3) 3
- (4) 4

भारत में 2001 से 2011 तक किस आयु समूह में सर्वोच्च वृद्धि दर प्रदर्शित की है ?

- 1. 0-4 वर्ष
- 2. 10-14 वर्ष
- 3. 15-59 वर्ष
- 4. 60 एवं उससे ऊपर

- (1) 1
- (2) 2
- (3) 3
- (4) 4

1[Option ID=13829]
2[Option ID=13830]
3[Option ID=13831]
4[Option ID=13832]

Sl. No.9
QBID:115009

According to Census of India, what was the population growth from 2001 to 2011?

- 1. 9.4%
- 2. 17.7%
- 3. 22.5%
- 4. 26.6%

- (1) 1
- (2) 2
- (3) 3
- (4) 4

भारत की जनगणना, के अनुसार, 2001 से 2011 के दौरान जनसंख्या वृद्धि का क्या प्रतिशत था ?

- 1. 9.4%
- 2. 17.7%
- 3. 22.5%
- 4. 26.6%

- (1) 1
- (2) 2
- (3) 3
- (4) 4

1[Option ID=13833]
2[Option ID=13834]
3[Option ID=13835]
4[Option ID=13836]

Sl. No.10
QBID:115010

Which one of the following Ministries conducts the Census operation in India?

1. Ministry of Statistics and Programme Implementation (MOSPI)
2. Ministry of Home Affairs (MHA)
3. Ministry of Health and Family Welfare (MHFW)
4. Ministry of Labour and Employment (MLE)

(1) 1

(2) 2

(3) 3

(4) 4

भारत में किस मंत्रालय द्वारा जनगणना प्रक्रिया की जाती है ?

1. सांख्यिकीय एवं कार्यक्रम कार्यान्वयन मंत्रालय (एमओएसपीआई)
2. गृह मंत्रालय (एमएचए)
3. स्वास्थ्य एवं परिवार कल्याण मंत्रालय (एमएचएफडब्ल्यू)
4. श्रम एवं रोजगार मंत्रालय (एमएलई)

(1) 1

(2) 2

(3) 3

(4) 4

1[Option ID=13837]

2[Option ID=13838]

3[Option ID=13839]

4[Option ID=13840]

Sl. No.11

QBID:115011

Which stream of migration is more dominant in India 2011?

1. Rural to Rural
2. Rural to Urban
3. Urban to Rural
4. Urban to Urban

(1) 1

(2) 2

(3) 3

(4) 4

भारत (2011) में किस प्रकार का पलायन की धारा प्रधानतः प्रचलित है ?

1. ग्रामीण से ग्रामीण
2. ग्रामीण से शहरी
3. शहरी से ग्रामीण
4. शहरी से शहरी

(1) 1

(2) 2

(3) 3

(4) 4

1[Option ID=13841]

2[Option ID=13842]

3[Option ID=13843]

4[Option ID=13844]

Sl. No.12

QBID:115012

Which of the following state of India reported highest Infant Mortality Rate (IMR) in the year 2020?

1. Uttar Pradesh
2. Madhya Pradesh
3. Bihar
4. Odisha

(1) 1

(2) 2

(3) 3

(4) 4

निम्नलिखित में से भारत के किस राज्य ने 2020 में उच्च शिशु मृत्यु दर सूचित किया है ?

1. उत्तर प्रदेश
2. मध्य प्रदेश
3. बिहार
4. ओडिसा

(1) 1

(2) 2

(3) 3

(4) 4

1[Option ID=13845]

2[Option ID=13846]

3[Option ID=13847]

4[Option ID=13848]

Sl. No.13

QBID:115013

According to the World Cities Data Booklet, 2018 published by United Nations which among the following Indian cities have more than 20 million population.

1. Mumbai
2. Chennai
3. Kolkata
4. Delhi

(1) 1

(2) 2

(3) 3

(4) 4

विश्व शहर डाटा बुकलेट-2018 के अनुसार, भारत का कौन सा शहर है जिसकी जनसंख्या 20 मिलियन है ?

1. मुंबई
2. चेन्नई
3. कोलकता
4. दिल्ली

(1) 1

(2) 2

(3) 3

(4) 4

1[Option ID=13849]

2[Option ID=13850]

3[Option ID=13851]

4[Option ID=13852]

Sl. No.14

QBID:115014

What is the level of institutional delivery in India, as per NFHS-5?

1. 79 per cent
2. 74 per cent
3. 89 per cent
4. 91 per cent

(1) 1

(2) 2

(3) 3

(4) 4

एन एफ एच एस - 5 के अनुसार भारत में संस्थागत डिलिवरी का स्तर क्या है ?

1. 79 प्रतिशत
2. 74 प्रतिशत
3. 89 प्रतिशत
4. 91 प्रतिशत

(1) 1

- (2) 2
- (3) 3
- (4) 4

1[Option ID=13853]
2[Option ID=13854]
3[Option ID=13855]
4[Option ID=13856]

Sl. No.15
QBID:115015

What is correct about the following statements?

1. Early Neo-natal mortality > Late neo-natal mortality
2. Early neo-natal mortality < Late neo-natal mortality
3. Both are almost same
4. Nothing can be said with certainty

- (1) 1
- (2) 2
- (3) 3
- (4) 4

निम्नलिखित कथनों के बारे में कौनसा एक सही है ?

1. आरम्भिक नवजात शिशु मर्त्यता > देर से नवजात शिशु मर्त्यता
2. आरम्भिक नवजात शिशु मर्त्यता < देर से नवजात शिशु मर्त्यता
3. दोनों लगभग एक समान है ।
4. निश्चितता के साथ कुछ भी नहीं कहा जा सकता ।

- (1) 1
- (2) 2
- (3) 3
- (4) 4

1[Option ID=13857]
2[Option ID=13858]
3[Option ID=13859]
4[Option ID=13860]

Sl. No.16
QBID:115016

As per the Sample Registration System (SRS) Statistical Report 2020, which birth interval has highest percentage of live births?

1. 36+
2. 30 – 36
3. 24 – 30
4. 18 – 24

- (1) 1
- (2) 2
- (3) 3
- (4) 4

नमूना पंजीकरण प्रणाली (एस.आर.एस.) सांख्यिकीय रिपोर्ट, 2020 के अनुसार निम्नलिखित में से कौन से जन्म अंतराल का जीवित जन्मों का सर्वाधिक प्रतिशत है ?

1. 36+
2. 30 – 36
3. 24 – 30
4. 18 – 24

- (1) 1
- (2) 2
- (3) 3
- (4) 4

1[Option ID=13861]
2[Option ID=13862]
3[Option ID=13863]
4[Option ID=13864]

Sl. No.17
QBID:115017

A new cadre of Community Health Officers (CHOs) is trained by Government of India in Comprehensive primary health care and posted at:

1. Sub-Health Centers
2. Primary Health Centers
3. Health and Wellness Centers
4. Community Health Centers

- (1) 1
(2) 2
(3) 3
(4) 4

भारत सरकार द्वारा सामुदायिक स्वास्थ्य अधिकारियों (सी.एच.ओ.) के एक नए कैडर को व्यापक प्राथमिक स्वास्थ्य देखभाल में प्रशिक्षित किया जाता है और उन्हें कहाँ नियुक्त किया जाता है ?

1. उप-स्वास्थ्य केन्द्र
2. प्राथमिक स्वास्थ्य केन्द्र
3. स्वास्थ्य एवं कल्याण केन्द्र
4. सामुदायिक स्वास्थ्य केन्द्र

- (1) 1
(2) 2
(3) 3
(4) 4

1[Option ID=13865]
2[Option ID=13866]
3[Option ID=13867]
4[Option ID=13868]

Sl. No.18
QBID:115018

As per the Sample Registration System (SRS) Report 2020, which of the following is the correct percentage of neonatal deaths to infant deaths?

1. 62%
2. 72%
3. 78%
4. 80%

- (1) 1
(2) 2
(3) 3
(4) 4

नमूना पंजीकरण प्रणाली (एस.आर.एस.) रिपोर्ट, 2020 के अनुसार शिशु मृत्यु की तुलना में नवजात शिशु मृत्यु का कौनसा प्रतिशत हिस्सा सही है ?

1. 62%
2. 72%
3. 78%
4. 80%

- (1) 1
(2) 2
(3) 3
(4) 4

1[Option ID=13869]
2[Option ID=13870]
3[Option ID=13871]
4[Option ID=13872]

Sl. No.19
QBID:115019

In the following table presence of lung cancer in smokers and non smokers is given :

Smoker	Lung Cancer		Total
	Present	Absent	
Yes	90	10	100
No	20	80	100
Total	110	90	200

Find odds of lung cancer among smokers than non smokers :

1. 40
2. 36
3. 30
4. 25

- (1) 1
(2) 2
(3) 3
(4) 4

निम्नलिखित तालिका में धूम्रपानकर्ताओं और गैर-धूम्रपानकर्ताओं में फेफड़े के कैंसर की विद्यमानता दी गई है ?

धूम्रपानकर्ता	फेफड़े का कैंसर		कुल
	अविद्यमान	विद्यमान	
हां	90	10	100
नहीं	20	80	100
कुल	110	90	200

धूम्रपान करने और न करने वालों में कैंसर विषम का पता लगाइए ?

1. 40
2. 36
3. 30
4. 25

- (1) 1
(2) 2
(3) 3
(4) 4

- 1[Option ID=13873]
2[Option ID=13874]
3[Option ID=13875]
4[Option ID=13876]

Sl. No.20
QBID:115020

Fertility transition occurs when wealth flow is from parents to children: which among the following concept explains the phenomenon?

1. Quality-Quantity Trade Off
2. Intergenerational Wealth Flows
3. Income and Consumption Utility
4. Relative Income Hypothesis

- (1) 1
(2) 2
(3) 3
(4) 4

प्रजननता संक्रमण तब घटित (उत्पन्न) होता है जब धन-संपदा-प्रवाह अभिभावकों (माता-पिता) से बच्चों की होता है । निम्नलिखित कौन-सी अवधारणा इस परिघटना की व्याख्या करती है ?

1. गुणवत्ता – मात्रात्मक ट्रेड ऑफ
2. अंतपीढ़ीगत धन-संपत्ति-प्रवाह
3. आय और उपभोग उपयोगिता
4. सापेक्षिक आय प्राक्कल्पना




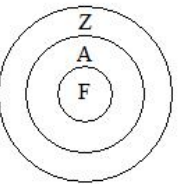
- (1) 1
(2) 2
(3) 3

(4) 4

1[Option ID=13877]
2[Option ID=13878]
3[Option ID=13879]
4[Option ID=13880]



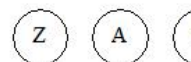
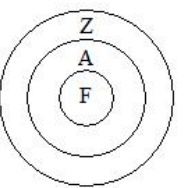
Sl. No.21
QBID:115021

Which among the following venn diagram describes the relationship between zoonotic disease (Z), avian influenza (A) and common flu (F) ?

1. 
2. 
3. 
4. 

- (1) 1
(2) 2
(3) 3
(4) 4

निम्नलिखित में से कौन-सा वेन आरेख (डायग्राम) जानवरों से होने वाली बीमारी (जोनेटिक) (Z), एवियन इंप्लुएंजा (A) और सामान्य फ्लू (F) के मध्य संबंध का वर्णन करता है ?

1. 
2. 
3. 
4. 

- (1) 1
(2) 2
(3) 3
(4) 4

1[Option ID=13881]
2[Option ID=13882]
3[Option ID=13883]
4[Option ID=13884]

Sl. No.22
QBID:115022

Which of the following is correct regarding design effect in sample size calculation?

1. Design effect is used to multiply calculated sample size when systematic random sampling is used
2. Design effect is ratio of sample size to population size x 100 so that sample becomes statistically valid
3. Design effect is used in stratified random sampling
4. Design effect is used in simple random sampling without replacement.

(1) 1

- (2) 2
(3) 3
(4) 4

सैंपल आकार गणना में डिजाइन प्रभाव के संबंध में निम्नलिखित में से कौन सा सही है ?

1. प्रणालीबद्ध सैंपलिंग अपनाने पर डिजाइन प्रभाव को सैंपल आकार को बढ़ाने हेतु प्रयोग किया जाता है ।
2. डिजाइन प्रभाव सैंपल आकार और जनसंख्या आकार का अनुपात 100 है जिससे नमूना संतोषजनक रूप से वैध हो जाता है ।
3. डिजाइन प्रभाव को स्ट्रेटीफाइड रैंडम सैंपलिंग में प्रयोग होता है ।
4. डिजाइन प्रभाव को बिना प्रतिस्थापन के सैंपल रैंडम सैंपलिंग में प्रयोग किया जाता है ।

- (1) 1
(2) 2
(3) 3
(4) 4

1[Option ID=13885]
2[Option ID=13886]
3[Option ID=13887]
4[Option ID=13888]

Sl. No.23
QBID:115023

From which language the term census is derived ?

1. German
2. French
3. Latin
4. English

- (1) 1
(2) 2
(3) 3
(4) 4

सेन्सस (जनगणना) शब्द किस भाषा से व्युत्पन्न है ?

1. जर्मन
2. फ्रेंच
3. लैटिन
4. अंग्रेजी

- (1) 1
(2) 2
(3) 3
(4) 4

1[Option ID=13889]
2[Option ID=13890]
3[Option ID=13891]
4[Option ID=13892]

Sl. No.24
QBID:115024

Which of the following is most populous country in the Middle East and North Africa (MENA) region in 2022-23 ?

1. Iraq
2. Iran
3. Egypt
4. Turkey

- (1) 1
(2) 2
(3) 3
(4) 4

2022-23 में, मध्य पूर्व एवं उत्तरी अफ्रीका क्षेत्र में सर्वाधिक आबादी वाला देश निम्नलिखित में से कौन सा है ?

1. इराक
2. ईरान
3. मिस्र
4. तुर्की

- (1) 1
(2) 2
(3) 3
(4) 4

1[Option ID=13893]
2[Option ID=13894]
3[Option ID=13895]
4[Option ID=13896]

Sl. No.25
QBID:115025

Which of the following is the correct equation of component method of population projection ?

1. $P_{t+1} = P_t + (\text{Births-Deaths})$
2. $P_{t+1} = P_t \times (\text{Births-Deaths})$
3. $P_{t+1} = P_t + (\text{Births-Deaths}) \times (\text{Emigration} - \text{Immigration})$
4. $P_{t+1} = P_t + (\text{Births-Deaths}) + (\text{Immigration} - \text{Emigration})$

- (1) 1
(2) 2
(3) 3
(4) 4

निम्न में से कौन सा समीकरण जन-संख्या प्रक्षेपण की घटक पद्धति को दर्शाता है?

1. $P_{t+1} = P_t + (\text{जन्म} - \text{मृत्यु})$
2. $P_{t+1} = P_t \times (\text{जन्म-मृत्यु})$
3. $P_{t+1} = P_t + (\text{जन्म-मृत्यु}) \times (\text{ई-प्रवसन} - \text{आप्रवसन})$
4. $P_{t+1} = P_t + (\text{जन्म-मृत्यु}) + (\text{आप्रवसन} - \text{ई-प्रवसन})$

- (1) 1
(2) 2
(3) 3
(4) 4

1[Option ID=13897]
2[Option ID=13898]
3[Option ID=13899]
4[Option ID=13900]

Sl. No.26
QBID:115026

Sudden unprecedented fertility rate after World War II is called:

1. Baby Boom
2. Baby Burst Syndrome
3. Demographic dividend
4. Age Heaping

- (1) 1
(2) 2
(3) 3
(4) 4

द्वितीय विश्व युद्ध के बाद प्रजनन दर में अचानक अभूतपूर्व वृद्धि को क्या कहा जाता है ?

1. बेबी बूम
2. बेबी बर्स्ट सिन्ड्रोम
3. जनसांख्यिकीय लाभांश
4. एज हीपिंग

- (1) 1
(2) 2
(3) 3
(4) 4

1[Option ID=13901]

2[Option ID=13902]
3[Option ID=13903]
4[Option ID=13904]

Sl. No.27
QBID:115027

How many districts were covered under NFHS-5?

1. 717
2. 606
3. 707
4. 548

- (1) 1
(2) 2
(3) 3
(4) 4

एन.एफ.एच.एस-5 के अंतर्गत कितने जिलों को सम्मिलित किया गया था ?

1. 717
2. 606
3. 707
4. 548

- (1) 1
(2) 2
(3) 3
(4) 4

1[Option ID=13905]
2[Option ID=13906]
3[Option ID=13907]
4[Option ID=13908]

Sl. No.28
QBID:115028

Which of the following States has the lowest child sex ratio according to Census, 2011?

1. Punjab
2. Haryana
3. Gujarat
4. Uttar Pradesh

- (1) 1
(2) 2
(3) 3
(4) 4

जनगणना 2011 के अनुसार निम्नलिखित में से किस राज्य में निम्नतम बाल लिंगानुपात है ?

1. पंजाब
2. हरियाणा
3. गुजरात
4. उत्तर प्रदेश

- (1) 1
(2) 2
(3) 3
(4) 4

1[Option ID=13909]
2[Option ID=13910]
3[Option ID=13911]
4[Option ID=13912]

Sl. No.29
QBID:115029

In which of the following states we find matrilineal family?

1. Maharashtra
2. Odisha
3. Nagaland
4. Meghalaya

- (1) 1
- (2) 2
- (3) 3
- (4) 4

हम निम्नलिखित में से किस राज्य में मातृवंशीय परिवार (मैट्रिलिनियल फैमिली) पाते हैं ?

- 1. महाराष्ट्र
- 2. ओडिशा
- 3. नागालैंड
- 4. मेघालय

- (1) 1
- (2) 2
- (3) 3
- (4) 4

1[Option ID=13913]

2[Option ID=13914]

3[Option ID=13915]

4[Option ID=13916]

Sl. No.30

QBID:115030

What is the level of unmet need of contraception in India according to NFHS-5?

- 1. 12%
- 2. 9%
- 3. 6%
- 4. 16%

- (1) 1
- (2) 2
- (3) 3
- (4) 4

एन.एफ.एच.एस.-5 के अनुसार गर्भनिरोध की आवश्यकता की पूर्ति न किए जाने का स्तर क्या है ?

- 1. 12%
- 2. 9%
- 3. 6%
- 4. 16%

- (1) 1
- (2) 2
- (3) 3
- (4) 4

1[Option ID=13917]

2[Option ID=13918]

3[Option ID=13919]

4[Option ID=13920]

Sl. No.31

QBID:115031

Which among the following is the least populated State in India?

- 1. Sikkim
- 2. Goa
- 3. Manipur
- 4. Mizoram

- (1) 1
- (2) 2
- (3) 3
- (4) 4

भारत में निम्नलिखित में कौनसा न्यूनतम जनसंख्या वाला राज्य है ?

1. सिक्किम
2. गोवा
3. मणिपुर
4. मिज़ोरम

(1) 1

(2) 2

(3) 3

(4) 4

1[Option ID=13921]

2[Option ID=13922]

3[Option ID=13923]

4[Option ID=13924]

Sl. No.32

QBID:115032

Which of the following is referring to cohort study?

1. Survey of Under-weight children from January 2022 to March 2023 in India
2. Survey of children on Immunization in 2022
3. Survey of 100 children from birth to death
4. Survey of maternal mortality from 2015 to 2020

(1) 1

(2) 2

(3) 3

(4) 4

निम्नलिखित में से किसको कोहार्ट अध्ययन के संबंध में संदर्भित किया जाता है ?

1. भारत में जनवरी 2023 से मार्च 2023 तक कमवज़नी बच्चों का सर्वेक्षण
2. 2022 में प्रतिरक्षण के बारे बच्चों का सर्वेक्षण
3. जन्म से मृत्यु तक 100 बच्चों का सर्वेक्षण
4. 2015 से 2022 तक मातृ-मृत्यु का सर्वेक्षण

(1) 1

(2) 2

(3) 3

(4) 4

1[Option ID=13925]

2[Option ID=13926]

3[Option ID=13927]

4[Option ID=13928]

Sl. No.33

QBID:115033

How many patterns of Model Life Tables were prepared by Coale-Demeney?

1. 3
2. 2
3. 5
4. 4

(1) 1

(2) 2

(3) 3

(4) 4

कोल-डेमनी ने तालिकाओं जैसे मॉडल के कितने पैटर्न्स तैयार किए थे ?

1. 3
2. 2
3. 5
4. 4

(1) 1

(2) 2

(3) 3

(4) 4

1[Option ID=13929]
2[Option ID=13930]
3[Option ID=13931]
4[Option ID=13932]

Sl. No.34
QBID:115034

According to Forest Survey of India Report 2021, how much geographical area is covered under forest in India?

1. 16%
2. 34%
3. 24%
4. 19%

- (1) 1
(2) 2
(3) 3
(4) 4

भारत का वन-सर्वेक्षण रिपोर्ट, 2021 के अनुसार भारत में वन के अंतर्गत कितना भौगोलिक क्षेत्र सम्मिलित किया गया ?

1. 16%
2. 34%
3. 24%
4. 19%

- (1) 1
(2) 2
(3) 3
(4) 4

1[Option ID=13933]
2[Option ID=13934]
3[Option ID=13935]
4[Option ID=13936]

Sl. No.35
QBID:115035

For which among the following purposes Whipple's index is used?

1. To estimate the extent of digit preference
2. To estimate undercounting
3. To smooth population distribution
4. To estimate sampling bias

- (1) 1
(2) 2
(3) 3
(4) 4

निम्नलिखित में कौनसा उद्देश्य हेतु व्हीपल्स इन्डेक्स का प्रयोग होता है ?

1. डिजिट प्रीफरेंस के माप के लिए
2. निम्न गणना की जाँच के लिए
3. जनसंख्या के सरल वितरण के लिये
4. सैम्पलिंग बायस के आंकलन हेतु

- (1) 1
(2) 2
(3) 3
(4) 4

1[Option ID=13937]
2[Option ID=13938]
3[Option ID=13939]
4[Option ID=13940]

Sl. No.36
QBID:115036

Who among the following has proposed the concept of mobility transition?

1. Wilbur Zelinsky
2. Robert Malthus
3. Everette Lee
4. Stouffer

(1) 1

(2) 2

(3) 3

(4) 4

निम्न में से किसने मोबिलिटी ट्रांज़िशन का सिद्धान्त दिया था ?

1. विल्बर जेलिन्सकी
2. रोबर्ट माल्थस
3. ऐवरेट ली
4. स्टौफर

(1) 1

(2) 2

(3) 3

(4) 4

1[Option ID=13941]

2[Option ID=13942]

3[Option ID=13943]

4[Option ID=13944]

Sl. No.37

QBID:115037

Which among the following conferences has coined the term 'Development is the best contraceptive' ?

1. New York
2. Cairo
3. Bucharest
4. Mexico

(1) 1

(2) 2

(3) 3

(4) 4

विकास एक अच्छा गर्भनिरोधक है, ये कथन किस जगह के सम्मेलन प्रयोग किया गया था ?

1. न्यू यॉर्क
2. काहिरा
3. बुखारेस्ट
4. मेक्सिको

(1) 1

(2) 2

(3) 3

(4) 4

1[Option ID=13945]

2[Option ID=13946]

3[Option ID=13947]

4[Option ID=13948]

Sl. No.38

QBID:115038

Which among the following country has introduced ban on abortion in 2022?

1. U.S.A.
2. India
3. Japan
4. Sri Lanka

(1) 1

(2) 2

(3) 3

(4) 4

निम्न में किस देश ने वर्ष 2022 गर्भपात में रोक लगा दिया ?

1. अमेरिका
2. भारत
3. जापान
4. श्रीलंका

(1) 1

(2) 2

(3) 3

(4) 4

1[Option ID=13949]

2[Option ID=13950]

3[Option ID=13951]

4[Option ID=13952]

Sl. No.39

QBID:115039

Who has propounded social capillarity theory in fertility?

1. Arsene Dumont
2. Gary Becker
3. John Bongaarth
4. Harvey Leibenstein

(1) 1

(2) 2

(3) 3

(4) 4

निम्न में किसने प्रजनन में सोशल कैपिलेरीटी थ्योरी प्रतिपादित किया था ?

1. अर्सेन डुमोन्ट
2. गैरी बेकर
3. जॉन बोन्गार्थ
4. हार्वे लेबिन्स्टीन

(1) 1

(2) 2

(3) 3

(4) 4

1[Option ID=13953]

2[Option ID=13954]

3[Option ID=13955]

4[Option ID=13956]

Sl. No.40

QBID:115040

Which among the following stages of Demographic Transition Model observed stationary stage of population?

1. I and II
2. II and III
3. III and IV
4. I and IV

(1) 1

(2) 2

(3) 3

(4) 4

निम्नलिखित में स्थिर जनसंख्या की दशा डेमोग्राफिक ट्रान्जिशन मॉडल में देखी जा सकती है ?

1. I और II
2. II और III
3. III और IV
4. I और IV

(1) 1

(2) 2

(3) 3

(4) 4

1[Option ID=13957]
2[Option ID=13958]
3[Option ID=13959]
4[Option ID=13960]

Sl. No.41
QBID:115041

Which among the following statements are true for Bucharest population conference?

- A. Conference was held in 1984
- B. India was represented by Dr. Karan Singh
- C. It coined the term 'Development is the best contraceptive'
- D. It was the first international population conference.

Choose the correct answer from the options given below :

- 1. A, B, C and D only
- 2. A, B and C only
- 3. B, C and D only
- 4. A, C and D only

- (1) 1
- (2) 2
- (3) 3
- (4) 4

बुखारेस्ट जनसंख्या सम्मेलन के बारे में निम्नलिखित में से कौनसे कथन सही हैं ?

- A. यह सम्मेलन 1984 में आयोजित हुआ था ।
- B. डॉ. करण सिंह ने इसमें भारत का प्रतिनिधित्व किया था ।
- C. इसने 'विकास सर्वोत्तम गर्भनिरोधक है' स्लोगन की रचना की थी ।
- D. यह प्रथम अंतर्राष्ट्रीय जनसंख्या सम्मेलन था ।

नीचे दिए गए विकल्पों में से सही उत्तर का चयन कीजिए :

- 1. केवल A, B, C और D
- 2. केवल A, B और C
- 3. केवल B, C और D
- 4. केवल A, C और D

- (1) 1
- (2) 2
- (3) 3
- (4) 4

1[Option ID=13961]
2[Option ID=13962]
3[Option ID=13963]
4[Option ID=13964]

Sl. No.42
QBID:115042

Which among the following demographic processes are influencing factors of ageing in a geographical region?

- A. Birth Rate
- B. Death Rate
- C. Age-selective migration
- D. Sex Ratio
- E. Marriage Rate

Choose the correct answer from the options given below :

- 1. A, B, C, D, E
- 2. A, B, C and D only
- 3. A, B and C only
- 4. A and B only

- (1) 1
- (2) 2

(3) 3

(4) 4

एक भौगोलिक क्षेत्र में वृद्धावस्था की ओर बढ़ने (एजिंग) के कारकों को प्रभावित करने वाली निम्नलिखित में से कौन-सी जनसांख्यिकीय प्रक्रियाएँ हैं ?

- A. जन्म दर
- B. मृत्यु दर
- C. आयु-चयनात्मक प्रवसन
- D. लिंगानुपात
- E. विवाह दर

नीचे दिए गए विकल्पों में से सही उत्तर का चयन कीजिए :

- 1. A, B, C, D, E
- 2. केवल A, B, C और D
- 3. केवल A, B और C
- 4. केवल A और B

(1) 1

(2) 2

(3) 3

(4) 4

1[Option ID=13965]

2[Option ID=13966]

3[Option ID=13967]

4[Option ID=13968]

Sl. No.43

QBID:115043

According to the definition of United Nations, which of the following option correctly represents the Census?

- A. Publication
- B. Evaluation
- C. Analysis
- D. Compilation
- E. Mapping

Choose the correct answer from the options given below :

- 1. D, C and E only
- 2. A, C and D only
- 3. A, B, C and D only
- 4. A, C, D and E only

(1) 1

(2) 2

(3) 3

(4) 4

संयुक्त राष्ट्र की परिभाषा के अनुसार निम्नलिखित में से कौन से विकल्प जनगणना को सही रूप से प्रस्तुत करते हैं ?

- A. प्रकाशन
- B. मूल्यांकन
- C. विश्लेषण
- D. संकलन
- E. मानचित्रण

नीचे दिए गए विकल्पों में से सही उत्तर का चयन कीजिए :

- 1. केवल D, C और E
- 2. केवल A, C और D
- 3. केवल A, B, C और D
- 4. केवल A, C, D और E

(1) 1

(2) 2

(3) 3

(4) 4

1[Option ID=13969]

2[Option ID=13970]

3[Option ID=13971]

4[Option ID=13972]

Sl. No.44

QBID:115044

Which among the following information are available from NFHS 5?

- A. Nutrition
- B. Domestic violence
- C. Household income
- D. Death due to accidents
- E. Antenatal check up

Choose the correct answer from the options given below :

- 1. A, B and C only
- 2. B, C and E only
- 3. A, B and E only
- 4. A, B and D only

(1) 1

(2) 2

(3) 3

(4) 4

निम्नलिखित में से कौन सी सूचनाएँ एन.एफ.एच.एस.-5 से उपलब्ध हैं ?

- A. पोषण
- B. घरेलू हिंसा
- C. परिवार की आय
- D. दुर्घटनाओं के कारण मृत्यु
- E. प्रसव-पूर्व जांच

नीचे दिए गए विकल्पों में से सही उत्तर का चयन कीजिए :

- 1. केवल A, B और C
- 2. केवल B, C और E
- 3. केवल A, B और E
- 4. केवल A, B और D

(1) 1

(2) 2

(3) 3

(4) 4

1[Option ID=13973]

2[Option ID=13974]

3[Option ID=13975]

4[Option ID=13976]

Sl. No.45

QBID:115045

Health and Wellness Centers (HWCs) are envisaged to deliver which of the following services?

- A. Maternal and Child Health
- B. Mental Health
- C. Eye and ENT care
- D. Non-communicable diseases
- E. Palliative and Rehabilitative Care

Choose the correct answer from the options given below:

- 1. A and B only
- 2. A and D only
- 3. A, B and C only
- 4. A, B, C, D and E

(1) 1

(2) 2

(3) 3

(4) 4

स्वास्थ्य एवं कल्याण केन्द्रों (एच.डब्ल्यू.सी.) की निम्न किन सेवाओं की प्रदायगी के लिए परिकल्पना की गई थी ?

- A. मातृत्व एवं बाल स्वास्थ्य
- B. मानसिक स्वास्थ्य
- C. नेत्र एवं ई.एन.टी. देखभाल
- D. गैर-संचारी बीमारियाँ
- E. उपशामक एवं स्वास्थ्य लाभ संबंधी देखभाल

नीचे दिए गए विकल्पों में से सही उत्तर का चयन कीजिए :

- 1. केवल A और B
- 2. केवल A और D
- 3. केवल A, B और C
- 4. केवल A, B, C, D और E

(1) 1

(2) 2

(3) 3

(4) 4

1[Option ID=13977]

2[Option ID=13978]

3[Option ID=13979]

4[Option ID=13980]

Sl. No.46

QBID:115046

Which of the following elements are related to Bongaart's proximate determinants of fertility?

- A. Proportion married
- B. Proportion using contraceptives
- C. Incidence of abortion
- D. Coital frequency
- E. Involuntary infecundity

Choose the most appropriate answer from the options given below:

- 1. A,B, C and D only
- 2. B, C, D and E only
- 3. A, C, D and E only
- 4. A, B, C and E only

(1) 1

(2) 2

(3) 3

(4) 4

निम्नलिखित में से कौन से तत्व बोगार्ट्स के प्रजनन शक्ति के समीपस्थ निर्धारकों से संबंधित हैं ?

- A. विवाहित समानुपात
- B. गर्भनिरोधकों के उपयोग का समानुपात
- C. गर्भापात की घटना
- D. कोइटल (संयोग) की बारम्बारिता
- E. अनैच्छिक बांझपन

नीचे दिए गए विकल्पों में से सबसे उपयुक्त उत्तर का चयन कीजिए :

- 1. केवल A, B, C और D
- 2. केवल B, C, D और E
- 3. केवल A, C, D और E
- 4. केवल A, B, C और E

(1) 1

(2) 2

(3) 3

(4) 4

1[Option ID=13981]

2[Option ID=13982]

3[Option ID=13983]

4[Option ID=13984]

Sl. No.47

QBID:115047

Which among the following are required to calculate labour force participation rate?

- A. Age wise distribution
- B. Workers by age
- C. Non-workers by age
- D. Persons seeking work by age
- E. Persons not available for work by age.

Choose the correct answer from the options given below:

- 1. A, B, C, D and E
- 2. B, C, D and E only
- 3. B, C and D only
- 4. A, B and D only

(1) 1

(2) 2

(3) 3

(4) 4

श्रमशक्ति सहभागिता दर की गणना में निम्नलिखित में से किनकी आवश्यकता होती है ?

- A. आयुवार वितरण
- B. श्रमिक का आयु वर्ग
- C. गैर-श्रमिक (वर्कर) का आयु वर्ग
- D. कार्य के इच्छुक व्यक्ति का आयु वर्ग
- E. कार्य हेतु आयु के अनुसार व्यक्तियों की अनुपलब्धता

नीचे दिए गए विकल्पों में से सही उत्तर का चयन कीजिए :

- 1. A, B, C, D और E
- 2. केवल B, C, D और E
- 3. केवल B, C और D
- 4. केवल A, B और D

(1) 1

(2) 2

(3) 3

(4) 4

1[Option ID=13985]

2[Option ID=13986]

3[Option ID=13987]

4[Option ID=13988]

Sl. No.48

QBID:115048

Who among the following are optimistic population thinkers?

- A. Malthus
- B. Ester Boserup
- C. Julion Simon
- D. Enke
- E. Simon Kuznets

Choose the most appropriate answer from the options given below:

- 1. A only
- 2. B and C only
- 3. A and D only
- 4. E only

(1) 1

(2) 2

(3) 3

(4) 4

निम्नलिखित में से किन्हें आशावादी जनसंख्या चिन्तक माना जाता है ?

- A. माल्थस
- B. ईस्टर बोसरप
- C. जुलियन सिमोन
- D. ईके
- E. सिमोन कुजनेट्स

नीचे दिए गए विकल्पों में से सही उत्तर का चयन कीजिए :

- 1. केवल A
- 2. केवल B और C
- 3. केवल A और D
- 4. केवल E

(1) 1

(2) 2

(3) 3

(4) 4

1[Option ID=13989]

2[Option ID=13990]

3[Option ID=13991]

4[Option ID=13992]

SI. No.49

QBID:115049

Which of the following is not part of census enumeration of marital status in India?

- A. Never married
- B. Widowed
- C. Love marriage
- D. Live in Relation
- E. Divorced/separated

Choose the correct answer from the options given below:

- 1. A and E only
- 2. B and E only
- 3. C and D only
- 4. D only

(1) 1

(2) 2

(3) 3

(4) 4

भारत में विवाहिक स्थिति की जनगणना में निम्नलिखित में से कौन उसका हिस्सा **नहीं** होता है ?

- A. कभी विवाह नहीं किया
- B. विधवा
- C. प्रेम विवाह
- D. लिव इन रिलेशन
- E. तलाक/पृथक रहना

नीचे दिए गए विकल्पों में से सही उत्तर का चयन कीजिए :

- 1. केवल A और E
- 2. केवल B और E
- 3. केवल C और D
- 4. केवल D

- (1) 1
- (2) 2
- (3) 3
- (4) 4

1[Option ID=13993]
2[Option ID=13994]
3[Option ID=13995]
4[Option ID=13996]

Sl. No.50

QBID:115050

Which of the following components are required for measuring Body Mass Index (BMI) ?

- A. Blood Test
- B. Height
- C. Weight
- D. Waist circumference
- E. Upper arm circumference.

Choose the correct answer from the options given below :

- 1. A and D only
- 2. C and E only
- 3. B and C only
- 4. D and E only

- (1) 1
- (2) 2
- (3) 3
- (4) 4

बॉडी मॉस इंडेक्स (बीएमआई) के मापने हेतु निम्नलिखित में से किन घटकों की जरूरत होती है ?

- A. रक्त परीक्षण
- B. लम्बाई
- C. भार
- D. कमर की परिधि
- E. ऊपर के बाजुओं की परिधि

नीचे दिए गए विकल्पों में से सही उत्तर का चयन कीजिए :

- 1. केवल A और D
- 2. केवल C और E
- 3. केवल B और C
- 4. केवल D और E

- (1) 1
- (2) 2
- (3) 3
- (4) 4

1[Option ID=13997]
2[Option ID=13998]
3[Option ID=13999]
4[Option ID=14000]

Sl. No.51
QBID:115051

Who among the following are pessimistic thinkers in Population studies?

- A. Robert Malthus
- B. Karl Marx
- C. Ester Boserup
- D. Machiavelli
- E. Botero

Choose the correct answer from the options given below:

- 1. A, B, C and D only
- 2. B, C and D only
- 3. A, D and E only
- 4. A, B, C, D and E

- (1) 1
- (2) 2
- (3) 3
- (4) 4

निम्नलिखित में से कौन जनसंख्या अध्ययन संबंध में निराशावादी चिंतक हैं ?

- A. राबर्ट माल्थस
- B. कार्ल मार्क्स
- C. एस्टर बोसेरप
- D. मैकियावेली
- E. बोटेरो

नीचे दिए गए विकल्पों में से सही उत्तर का चयन कीजिए :

- 1. केवल A, B, C और D
- 2. केवल B, C और D
- 3. केवल A, D और E
- 4. केवल A, B, C, D और E

- (1) 1
- (2) 2
- (3) 3
- (4) 4

1[Option ID=14001]
2[Option ID=14002]
3[Option ID=14003]
4[Option ID=14004]

Sl. No.52
QBID:115052

Which among the following are probability sampling?

- A. Simple Random
- B. Snowball
- C. Stratified Random
- D. Convenience
- E. Quota

Choose the correct answer from the options given below :

- 1. A, C and B only
- 2. B and C only
- 3. B, C and E only
- 4. A and C only

(1) 1

(2) 2

(3) 3

(4) 4

निम्नलिखित में से कौन-से प्रायिकता प्रतिचयन हैं ?

- A. साधारण यादृच्छिक
- B. स्नोबॉल
- C. स्तरीकृत यादृच्छिक
- D. सुविधाजनक
- E. कोटा (नियतांश)

नीचे दिए गए विकल्पों में से सही उत्तर का चयन कीजिए :

- 1. केवल A, C और B
- 2. केवल B और C
- 3. केवल B, C और E
- 4. केवल A और C

(1) 1

(2) 2

(3) 3

(4) 4

1[Option ID=14005]

2[Option ID=14006]

3[Option ID=14007]

4[Option ID=14008]

Sl. No.53

QBID:115053

Global Hunger Index (GHI) score for each country is calculated by combining which of the following indicators ?

- A. Under nourishment in population
- B. Child stunting
- C. Child wasting
- D. Child mortality
- E. Under weight

Choose the correct answer from the options given below:

- 1. A and E only
- 2. A and B only
- 3. A, B and C only
- 4. A, B, C and D only

(1) 1

(2) 2

(3) 3

(4) 4

प्रत्येक देश के ग्लोबल हंगर इंडेक्स (जीएमआई) स्कोर को निम्नलिखित किस सूचकों के संमिश्रण से गणना की जाती है ?

- A. जनसंख्या में कुपोषण
- B. बालक का अविकसित होना
- C. बालक का दुबला होना
- D. बालक मर्त्यता
- E. कम वजन होना

नीचे दिए गए विकल्पों में से सही उत्तर का चयन कीजिए :

- 1. केवल A और E
- 2. केवल A और B
- 3. केवल A, B और C
- 4. केवल A, B, C, और D

(1) 1

(2) 2

(3) 3

(4) 4

1[Option ID=14009]

2[Option ID=14010]

3[Option ID=14011]

4[Option ID=14012]

Sl. No.54

QBID:115054

Which of the following characteristics are associated with linear regression model?

- A. The errors have a normal distribution for each set of values of the independent variables
- B. Correlation among independent variables should not be high.
- C. Variance of errors is constant for all values of independent variables
- D. Errors are independent of one another
- E. The errors have the expected (mean) value of non-zero.

Choose the correct answer from the options given below:

- 1. A, C, D and E only
- 2. B, C, D and E only
- 3. A, B, C and E only
- 4. A, B, C and D only

(1) 1

(2) 2

(3) 3

(4) 4

निम्नलिखित में से कौन सी विशेषताएँ रेखिक प्रतिगमन निदर्श (मॉडल) से संबंधित है ?

- A. त्रुटियों का स्वतंत्र चरों के मान के प्रत्येक समुच्चय के लिए एक सामान्य वितरण होता है ।
- B. स्वतंत्र चरों के बीच सहसंबंध उच्च नहीं होना चाहिए ।
- C. त्रुटियों का प्रसरण स्वतंत्र चरों के सभी मान के लिए निरंतर होता है ।
- D. त्रुटियाँ एक-दूसरे से स्वतंत्र होती हैं ?
- E. त्रुटियों का प्रत्याशित गैर-शून्य मान होता है ।

नीचे दिए गए विकल्पों में से सही उत्तर का चयन कीजिए :

- 1. केवल A, C, D और E
- 2. केवल B, C, D और E
- 3. केवल A, B, C और E
- 4. केवल A, B, C और D

(1) 1

(2) 2

(3) 3

(4) 4

1[Option ID=14013]
2[Option ID=14014]
3[Option ID=14015]
4[Option ID=14016]

Sl. No.55
QBID:115055

Which of the following is **not** part of the Gross National Income (GNI)?

- A. Depletion and degradation of national resources
- B. Depreciation of manufactured assets
- C. Value of unpaid domestic labour
- D. Accounting for regional or national differences in purchasing power
- E. Net receipts of income from abroad.

Choose the correct answer from the options given below:

- 1. A, B, D and E only
- 2. A, C, D and E only
- 3. A, B, C and E only
- 4. A, B and C only

- (1) 1
- (2) 2
- (3) 3
- (4) 4

निम्नलिखित में से कौन से सकल राष्ट्रीय आय (जी.एन.आई.) के अंग **नहीं** हैं ?

- A. राष्ट्रीय संसाधनों की क्षीणता और अवक्रमण
- B. निर्मित परिसम्पत्तियों का हास
- C. घरेलू श्रमिक का मूल्य
- D. क्रय शक्ति में क्षेत्रीय या राष्ट्रीय अंतरों के लिए लेखांकन
- E. विदेश से आय की निवल प्राप्तियां

नीचे दिए गए विकल्पों में से सही उत्तर का चयन कीजिए :

- 1. केवल A, B, D और E
- 2. केवल A, C, D और E
- 3. केवल A, B, C और E
- 4. केवल A, B और C

- (1) 1
- (2) 2
- (3) 3
- (4) 4

1[Option ID=14017]
2[Option ID=14018]
3[Option ID=14019]
4[Option ID=14020]

Sl. No.56
QBID:115056

Which of the following option correctly defines Infant Mortality Rate?

- 1. The number of deaths below one year of age per 1000 live births
- 2. The number of deaths per 1000 live births of children under the age of 5 years
- 3. Death of infants before the age of 6 months
- 4. Death of children under age of 2 years

- (1) 1
- (2) 2
- (3) 3
- (4) 4

निम्नलिखित में कौन सा विकल्प शिशु मृत्युदर की सही परिभाषा है ?

1. एक वर्ष की आयु से कम शिशुओं की मृत्यु संख्या का प्रति 1000 जीवित पैदा बच्चों की संख्या से अनुपात
2. प्रति 1000 पाँच वर्ष से कम बच्चों की संख्या से मृतकों का अनुपात
3. छह माह से पूर्व कुल शिशु मृत्यु की संख्या
4. दो वर्ष से कम मृत बच्चों की संख्या

- (1) 1
(2) 2
(3) 3
(4) 4

1[Option ID=14021]
2[Option ID=14022]
3[Option ID=14023]
4[Option ID=14024]

Sl. No.57
QBID:115057

Which among the following are considered for the anthropometric measurement of 0-4 years children according to the comprehensive National Nutrition Survey (NNS)?

- A. Height
- B. Weight
- C. Mid arm circumference
- D. Upper-arm circumference
- E. Waist circumference

Choose the correct answer from the options given below:

1. A, B and C only
2. B, C and D only
3. A, B and D only
4. A, B, C, D and E

- (1) 1
(2) 2
(3) 3
(4) 4

निम्नलिखित में से किसे 0-4 वर्ष के बच्चों के शारीरिक माप (एंथ्रोपोमेट्रिक मिजरमेंट) हेतु विचार किया जाता है -

- A. लंबाई
- B. भार (वजन)
- C. मिड आर्म परिधि
- D. उच्च आर्म परिधि
- E. कमर की परिधि

नीचे दिए गए विकल्पों में से सही उत्तर का चयन कीजिए :

1. केवल A, B और C
2. केवल B, C और D
3. केवल A, B और D
4. A, B, C, D और E

- (1) 1
(2) 2
(3) 3
(4) 4

1[Option ID=14025]
2[Option ID=14026]
3[Option ID=14027]
4[Option ID=14028]

Sl. No.58
QBID:115058

What are the components of Civil Registration System (CRS)?

- A. Birth
- B. Death
- C. Morbidity
- D. Migration
- E. Employment

Choose the most appropriate answer from the options given below:

- 1. A and B only
- 2. B and C only
- 3. A and D only
- 4. D and E only

(1) 1

(2) 2

(3) 3

(4) 4

सिविल पंजीकरण प्रणाली (सीआर एस) के घटक कौन से हैं ?

- A. जन्म
- B. मृत्यु
- C. बिमारी
- D. प्रवासन
- E. रोजगार

नीचे दिए गए विकल्पों में से सही उत्तर का चयन कीजिए :

- 1. केवल A और B
- 2. केवल B और C
- 3. केवल A और D
- 4. केवल D और E

(1) 1

(2) 2

(3) 3

(4) 4

1[Option ID=14029]

2[Option ID=14030]

3[Option ID=14031]

4[Option ID=14032]

Sl. No.59

QBID:115059

Which of the following concepts are related with morbidity measures?

- A. Case-fatality rate
- B. Age-specific death rate
- C. Cause-specific death rate
- D. Incidence rate
- E. Prevalence rate

Choose the most appropriate answer from the options given below:

- 1. A, D and B only
- 2. A, D and E only
- 3. D, E and B only
- 4. D, E and C only

(1) 1

(2) 2

(3) 3

(4) 4

निम्नलिखित में से कौन तथ्य रुग्णता उपायों से संबंधित है ?

- A. प्रकरण अपमृत्यु दर
- B. आयु विशिष्ट मृत्यु दर
- C. कारण विशिष्ट मृत्यु दर
- D. आपात दर (इंसिडेन्स रेट)
- E. प्रचलित दर

नीचे दिए गए विकल्पों में से सही उत्तर का चयन कीजिए :

- 1. केवल A, D और B
- 2. केवल A, D और E
- 3. केवल D, E और B
- 4. केवल D, E और C

(1) 1

(2) 2

(3) 3

(4) 4

1[Option ID=14033]

2[Option ID=14034]

3[Option ID=14035]

4[Option ID=14036]

Sl. No.60

QBID:115060

Health Management Information System under National Health Mission (NHM) is used for which of the following purposes?

- A. For performance assessment of activities
- B. For calculation of adverse effect of immunization
- C. For preparation of monthly progress report
- D. For ranking of health facilities
- E. For assessing training load in the district.

Choose the correct answer from the options given below :

- 1. A and B only
- 2. A, B and C only
- 3. A, B C and D only
- 4. A, B, C, D and E

(1) 1

(2) 2

(3) 3

(4) 4

राष्ट्रीय स्वास्थ्य मिशन (एनएचएम) के अन्तर्गत निम्नलिखित किस उद्देश्यों हेतु स्वास्थ्य प्रबंधन सूचना प्रणाली का प्रयोग किया जाता है ?

- A. क्रियाकालाओं के निष्पादन आकलन हेतु
- B. प्रतिरक्षण के प्रतिकूल प्रभाव की गणना करने हेतु
- C. मासिक प्रगति रिपोर्ट को तैयार करने हेतु
- D. स्वास्थ्य सुविधाओं की रैंकिंग हेतु
- E. जिला में प्रशिक्षण भार के आकलन करने हेतु

नीचे दिए गए विकल्पों में से सही उत्तर का चयन कीजिए :

- 1. केवल A और B
- 2. केवल A, B और C
- 3. केवल A, B, C और D
- 4. A, B, C, D और E

(1) 1

(2) 2

(3) 3

(4) 4

1[Option ID=14037]

2[Option ID=14038]

3[Option ID=14039]

4[Option ID=14040]

Sl. No.61

QBID:115061

Which of the following are continuous variables?

- A. Height in meters
- B. Weight in kg
- C. Income in Rupees.
- D. Age in years
- E. Caste group

Choose the correct answer from the options given below:

- 1. A and B only
- 2. A,B and C only
- 3. A, B, C and D only
- 4. A, B and E only

(1) 1

(2) 2

(3) 3

(4) 4

निम्नलिखित में से कौन अनवरत चर(वैरियबल) हैं ?

- A. मीटरों में ऊंचाई
- B. भार किलोग्राम में
- C. रुपयों में आय
- D. वर्ष में आयु
- E. जाति समूह

नीचे दिए गए विकल्पों में से सबसे उपयुक्त उत्तर का चयन कीजिए :

- 1. केवल A एवं B
- 2. केवल A, B एवं C
- 3. केवल A, B, C एवं D
- 4. केवल A, B, एवं E

(1) 1

(2) 2

(3) 3

(4) 4

1[Option ID=14041]

2[Option ID=14042]

3[Option ID=14043]

4[Option ID=14044]

Sl. No.62

QBID:115062

Which of the following are part of Mathematical method of population projection?

- A. Exponential growth rate
- B. Arithmetic growth rate
- C. Geometric growth rate
- D. Lexis diagram
- E. Gompertz Curve

Choose the most appropriate answer from the options given below:

- 1. B, C and D only
- 2. A, B, C and D only
- 3. A, B, C and E only
- 4. A, B, D and E only

- (1) 1
- (2) 2
- (3) 3
- (4) 4

निम्नलिखित में से कौन जनसंख्या प्रक्षेपण के गणितीय पद्धति के भाग हैं ?

- A. विस्तारण वृद्धि दर
- B. अंकगणितीय वृद्धि दर
- C. ज्यामितीय वृद्धि दर
- D. लेक्सेस डायग्राम
- E. गोमपर्टज़ वक्र

नीचे दिए गए विकल्पों में से सबसे उपयुक्त उत्तर का चयन कीजिए :

- 1. केवल B, C और D
- 2. केवल A, B, C और D
- 3. केवल A, B, C और E
- 4. केवल A, B, D और E

- (1) 1
- (2) 2
- (3) 3
- (4) 4

1[Option ID=14045]
2[Option ID=14046]
3[Option ID=14047]
4[Option ID=14048]

Sl. No.63
QBID:115063

Which of the following elements are considered as proximate determinants of urban transition?

- A. Reclassification
- B. Natural increase
- C. International urbanward migration
- D. Internal rural to urban migration
- E. Delimitation

Choose the correct answer from the options given below:

- 1. B, C, D and E only
- 2. A, C, D and E only
- 3. A, B, D and E only
- 4. A, B, C and D only

- (1) 1
- (2) 2
- (3) 3
- (4) 4

शहरी संक्रमण के लिए निम्नलिखित तत्वों को उच्च निर्धारक माना जाता है -

- A. पुनर्वर्गीकरण
- B. प्राकृतिक बढ़ोतरी
- C. अंतरराष्ट्रीय शहरी प्रवास
- D. आंतरिक ग्रामीण से शहरी प्रवास
- E. सीमांकन/ सीमा निर्धारण

नीचे दिए गए विकल्पों में से सही उत्तर का चयन कीजिए :

- 1. केवल B, C, D और E
- 2. केवल A, C, D और E
- 3. केवल A, B, D और E
- 4. केवल A, B, C और D

- (1) 1
- (2) 2
- (3) 3
- (4) 4

1[Option ID=14049]
2[Option ID=14050]
3[Option ID=14051]
4[Option ID=14052]

Sl. No.64
QBID:115064

Which among the following are quantitative methods of data collection?

- A. Focus group discussion
- B. In-depth interviews
- C. Household interview
- D. House listing
- E. Case study.

Choose the most appropriate answer from the options given below:

- 1. A, C and D only
- 2. B, C and D only
- 3. C and D only
- 4. A, B and C only

- (1) 1
- (2) 2
- (3) 3
- (4) 4

निम्नलिखित में से कौन सी डेटा-संग्रहण की मात्रात्मक पद्धतियाँ हैं ?

- A. फोकस समूह चर्चा
- B. गहन साक्षात्कार
- C. परिवार का साक्षात्कार
- D. घर का सूचीकरण
- E. केस-अध्ययन

नीचे दिए गए विकल्पों में से सबसे उपयुक्त उत्तर का चयन कीजिए :

- 1. केवल A, C और D
- 2. केवल B, C और D
- 3. केवल C और D
- 4. केवल A, B और C

- (1) 1

- (2) 2
(3) 3
(4) 4

1[Option ID=14053]
2[Option ID=14054]
3[Option ID=14055]
4[Option ID=14056]

Sl. No.65
QBID:115065

Which of the following elements are related to the impact equation proposed by Ehrlich and Ehrlich (1990)?

- A. Resource base
B. Technology
C. Emission of Greenhouse gases
D. Population
E. Affluence

Choose the most appropriate answer from the options given below:

1. B, C, D and E only
2. A, B, D and E only
3. A, B, C and D only
4. B, D and E only

- (1) 1
(2) 2
(3) 3
(4) 4

एहलिच और एहलिच (1990) द्वारा प्रस्तावित प्रभाव समीकरण के संबंध में निम्नलिखित में से कौन से तत्व संबंधित नहीं है ?

- A. संसाधन आधार
B. प्रौद्योगिकी
C. ग्रीनहाउस गैसों का उत्सर्जन
D. जनसंख्या
E. प्राचुर्य

नीचे दिए गए विकल्पों में से सबसे उपयुक्त उत्तर का चयन कीजिए :

1. केवल B, C, D और E
2. केवल A, B, D और E
3. केवल A, B, C और D
4. केवल B, D और E

- (1) 1
(2) 2
(3) 3
(4) 4

1[Option ID=14057]
2[Option ID=14058]
3[Option ID=14059]
4[Option ID=14060]

Sl. No.66
QBID:115066

Match List I with List II

LIST I		LIST II	
A.	Theory of Density	I.	Pearl and Reed
B.	Theory of Logistic Curve	II.	Boserup
C.	Agricultural intensification	III.	Thomas Sadler
D.	Surplus army of labour	IV.	Karl Marx

Choose the correct answer from the options given below:

1. A-IV, B-III, C-II, D-I
2. A-III, B-I, C-II, D-IV
3. A-I, B-II, C-III, D-IV
4. A-II, B-III, C-I, D-IV

- (1) 1
(2) 2
(3) 3
(4) 4

सूची I का सूची II से मिलान कीजिए

सूची I		सूची II	
A.	घनत्व (सघनता) सिद्धांत	I.	पर्ल एवं रीड
B.	लाजिस्टिक-वक्र का सिद्धांत	II.	बोसेरप
C.	कृषि गहनता	III.	थॉमस सैडलर
D.	श्रमिकों की अधिशेष मात्रा	IV.	कार्ल-मार्क्स

निम्नलिखित विकल्पों में से सही उत्तर का चयन कीजिए :

1. A-IV, B-III, C-II, D-I
2. A-III, B-I, C-II, D-IV
3. A-I, B-II, C-III, D-IV
4. A-II, B-III, C-I, D-IV

- (1) 1
(2) 2
(3) 3
(4) 4

- 1[Option ID=14061]
2[Option ID=14062]
3[Option ID=14063]
4[Option ID=14064]

Sl. No.67
QBID:115067

Match List I with List II

LIST I		LIST II	
A.	Tuberculosis	I.	DTP
B.	Pertussis	II.	MMR
C.	COVID 19	III.	BCG
D.	Measles	IV.	Covaxine

Choose the correct answer from the options given below:

1. A-I, B-III, C-IV, D-II
2. A-II, B-IV, C-III, D-I
3. A-III, B-I, C-IV, D-II
4. A-IV, B-I, C-III, D-II

- (1) 1
(2) 2
(3) 3
(4) 4

सूची I का सूची II से मिलान कीजिए

सूची I		सूची II	
A.	तपेदिक (क्षयरोग)	I.	डीटीपी
B.	कालीखांसी (कुकुरखांसी)	II.	एमएमआर
C.	कोविड-19	III.	बीसीजी
D.	खसरा	IV.	कोवेक्सीन

निम्नलिखित विकल्पों में से सही उत्तर का चयन कीजिए :

1. A-I, B-III, C-IV, D-I
2. A-II, B-IV, C-III, D-I
3. A-III, B-I, C-IV, D-II
4. A-IV, B-I, C-III, D-II

- (1) 1
(2) 2
(3) 3
(4) 4

1[Option ID=14065]
2[Option ID=14066]
3[Option ID=14067]
4[Option ID=14068]

Sl. No.68
QBID:115068

Match List I with List II

LIST I		LIST II	
A.	Coale-Demeney North Patterns Model Life Table	I.	Average mortality pattern
B.	South Pattern Model Life Table	II.	Low infant and old-age mortality but by high adult mortality
C.	East Patterns Model Life Table	III.	High mortality under 5 years of age, particularly among infants, low adult mortality and high mortality over age 60.
D.	West Pattern Model Life Table	IV.	High infant and high old-age mortality relative to childhood and adult rates.

Choose the correct answer from the options given below :

1. A-II, B-III, C-IV, D-I
2. A-I, B-III, C-IV, D-II
3. A-III, B-IV, C-I, D-II
4. A-IV, B-III, C-II, D-I

- (1) 1
(2) 2
(3) 3
(4) 4

सूची I का सूची II से मिलान कीजिए

सूची I		सूची II	
A.	कोले डेमिनी उत्तर प्रतिरूप मॉडल जीवन सारिणी	I.	औसत मृत्युदर प्रतिरूप
B.	दक्षिण प्रतिरूप मॉडल जीवन सारिणी	II.	निम्न शिशु और वृद्ध-आयु के व्यक्तियों की मृत्युदर किंतु उच्च वयस्क मृत्युदर
C.	पूर्व प्रतिरूप मॉडल जीवन सारिणी	III.	5 वर्ष की आयु के नीचे विशेष कर शिशुओं में उच्च मृत्यु दर 60 वर्ष की आयु के उपर के व्यक्तियों और वयस्कों में निम्न मृत्यु दर
D.	पश्चिम प्रतिरूप मॉडल जीवन सारिणी	IV.	बाल्यावस्था और वयस्क व्यक्ति की अपेक्षा शिशुओं और वृद्धों में उच्च मृत्युदर का होना

निम्नलिखित विकल्पों में से सही उत्तर का चयन कीजिए :

1. A-II, B-III, C-IV, D-I
2. A-I, B-III, C-IV, D-II
3. A-III, B-IV, C-I, D-II
4. A-IV, B-III, C-II, D-I

- (1) 1

- (2) 2
(3) 3
(4) 4

1[Option ID=14069]
2[Option ID=14070]
3[Option ID=14071]
4[Option ID=14072]

Sl. No.69
QBID:115069

Match List I with List II

LIST I		LIST II	
A.	$d(x, n)$	I.	Number of deaths in age interval $(x$ to $x+n)$
B.	$L(x, n)$	II.	Number of person-years lived in age interval $(x$ to $x+n)$
C.	$T(x)$	III.	Expectation of life at age x and older
D.	$e(x)$	IV.	Number of person-years lived at age x and older.

Choose the correct answer from the options given below :

1. A-I, B-II, C-IV, D-III
2. A-I, B-III, C-II, D-IV
3. A-I, B-II, C-III, D-IV
4. A-IV, B-III, C-I, D-II

- (1) 1
(2) 2
(3) 3
(4) 4

सूची I का सूची II से मिलान कीजिए

सूची I		सूची II	
A.	$d(x, n)$	I.	आयु अन्तराल $(x$ से $x+n$ वें तक में होने वाली मौतों की संख्या
B.	$L(x, n)$	II.	आयु अन्तराल $(x$ से $x+n$ तक) में व्यक्ति-वर्षों जीवित की संख्या
C.	$T(x)$	III.	आयु x और इसके आगे की जीवन-प्रत्याश
D.	$e(x)$	IV.	आयु x और इससे आगे के वर्षों तक जीवित व्यक्ति-वर्षों की संख्या

निम्नलिखित विकल्पों में से सही उत्तर का चयन कीजिए :

1. A-I, B-II, C-IV, D-III
2. A-I, B-III, C-II, D-IV
3. A-I, B-II, C-III, D-IV
4. A-IV, B-III, C-I, D-II

- (1) 1
(2) 2
(3) 3
(4) 4

1[Option ID=14073]
2[Option ID=14074]
3[Option ID=14075]
4[Option ID=14076]

Sl. No.70
QBID:115070

Match List I with List II

LIST I		LIST II	
A.	I_f	I.	Index of proportion married
B.	I_g	II.	Index of non-marital fertility
C.	I_h	III.	Index of marital fertility
D.	I_m	IV.	Index of overall fertility

Choose the correct answer from the options given below :

1. A-II, B-I, C-III, D-IV
2. A-IV, B-III, C-II, D-I
3. A-III, B-II, C-IV, D-I
4. A-I, B-II, C-III, D-IV

(1) 1

(2) 2

(3) 3

(4) 4

सूची I का सूची II से मिलान कीजिए

सूची I		सूची II	
A.	I_f	I.	वैवाहिक व्यक्तियों का अनुपात सूचकांक
B.	I_g	II.	गैर-वैवाहिक प्रजनन दर सूचकांक
C.	I_h	III.	वैवाहिक प्रजनन-दर सूचकांक
D.	I_m	IV.	समग्र प्रजनन-दर सूचकांक

निम्नलिखित विकल्पों में से सही उत्तर का चयन कीजिए :

1. A-II, B-I, C-III, D-IV
2. A-IV, B-III, C-II, D-I
3. A-III, B-II, C-IV, D-I
4. A-I, B-II, C-III, D-IV

(1) 1

(2) 2

(3) 3

(4) 4

1[Option ID=14077]

2[Option ID=14078]

3[Option ID=14079]

4[Option ID=14080]

Sl. No.71

QBID:115071

Match List I with List II

LIST I		LIST II	
A.	Fertility Measures	I.	SMAM
B.	Mortality Measures	II.	Case-fatality rate
C.	Morbidity Measures	III.	ASDR
D.	Nuptiality Measures	IV.	Child-women ratio (CWR)

Choose the correct answer from the options given below:

1. A-IV, B-III, C-II, D-I
2. A-II, B-I, C-IV, D-III
3. A-I, B-II, C-III, D-IV
4. A-I, B-III, C-II, D-IV

(1) 1

(2) 2

(3) 3

(4) 4

सूची I का सूची II से मिलान कीजिए

सूची I		सूची II	
A.	प्रजननता मापक	I.	एसएमएम
B.	मृत्युता मापक	II.	रोग मृत्यु दर
C.	रुग्णता मापक	III.	एसडीआर
D.	वैवाहिकता मापक	IV.	बाल-महिला अनुपात(सी डब्ल्यू आर)

निम्नलिखित विकल्पों में से सही उत्तर का चयन कीजिए :

1. A-IV, B-III, C-II, D-I
2. A-II, B-I, C-IV, D-III
3. A-I, B-II, C-III, D-IV
4. A-I, B-III, C-II, D-IV

(1) 1

(2) 2

(3) 3

(4) 4

1[Option ID=14081]

2[Option ID=14082]

3[Option ID=14083]

4[Option ID=14084]

Sl. No.72

QBID:115072

Match List I with List II

LIST I		LIST II	
A.	IMR	I.	Measure of infant deaths
B.	Neo-natal mortality	II.	Measure of infant death of less than 29 days
C.	General Marital Fertility Rate	III.	Measure of the number of stillbirths and infant death less than 7 days
D.	Peri-natal Mortality Rate	IV.	Measure of the number of live births in a year to married women

Choose the correct answer from the options given below :

1. A-I, B-II, C-IV, D-III
2. A-I, B-II, C-III, D-IV
3. A-II, B-III, C-I, D-IV
4. A-IV, B-I, C-II, D-III

(1) 1

(2) 2

(3) 3

(4) 4

सूची I का सूची II से मिलान कीजिए

सूची I		सूची II	
A.	आई एम आर	I.	शिशु मृत्यु का मापन
B.	नवजात मृत्यु दर	II.	29 दिन से कम के शिशु-मृत्यु
C.	सामान्य वैवाहिक प्रजनन दर	III.	मृत जन्म एवं 7 दिन से कम के शिशु मृत्यु की संख्या का मापन
D.	पेरी-नटल मृत्युदर	IV.	विवाहित महिलाओं में एक वर्ष की अवधि में जीवित जन्म (लाइव बर्थ) की संख्या

निम्नलिखित विकल्पों में से सही उत्तर का चयन कीजिए :

1. A-I, B-II, C-IV, D-III
2. A-I, B-II, C-III, D-IV
3. A-II, B-III, C-I, D-IV
4. A-IV, B-I, C-II, D-III

(1) 1

(2) 2

(3) 3

(4) 4

1[Option ID=14085]

2[Option ID=14086]

3[Option ID=14087]
4[Option ID=14088]

Sl. No.73
QBID:115073

Match List I with List II

LIST I (Demographic Perspective)		LIST II (Proponents)	
A.	Increasing national wealth depends on a growing population that stimulate export trade.	I.	Marnian
B.	Wealth of nation is in land, not people	II.	Ibn Khaldun
C.	Poverty is not the natural result of population growth	III.	Mercantilism
D.	Population growth is inherently good as it increases occupational specialization and raises income.	IV.	Physiocrats

Choose the correct answer from the options given below :

1. A-IV, B-III, C-I, D-II
2. A-III, B-IV, C-II, D-I
3. A-III, B-IV, C-I, D-II
4. A-IV, B-I, C-III, D-II

- (1) 1
(2) 2
(3) 3
(4) 4

सूची I का सूची II से मिलान कीजिए

सूची I (जनांकिकीय परिप्रेक्ष्य)		सूची II (प्रतिपादक)	
A.	राष्ट्रीय संपत्ति में वृद्धि जनसंख्या की वृद्धि पर निर्भर करता है जो निर्यात व्यापार को प्रेरित करता है	I.	मार्नियन
B.	राष्ट्र की संपत्ति देश के भीतर निहित होती है न कि लोगों में।	II.	इब्र खल्दून
C.	निर्धनता जनसंख्या वृद्धि का नैसर्गिक परिणाम नहीं है	III.	वाणिज्यवाद
D.	जनसंख्या वृद्धि स्वाभाविक रूप से अच्छी होती है क्योंकि यह व्यावसायिक विशिष्टता में वृद्धि करती है और आय बढ़ाती है।	IV.	प्रकृतितंत्रवादी

निम्नलिखित विकल्पों में से सही उत्तर का चयन कीजिए :

1. A-IV, B-III, C-I, D-II
2. A-III, B-IV, C-II, D-I
3. A-III, B-IV, C-I, D-II
4. A-IV, B-I, C-III, D-II

- (1) 1
(2) 2
(3) 3
(4) 4

1[Option ID=14089]
2[Option ID=14090]
3[Option ID=14091]
4[Option ID=14092]

Sl. No.74
QBID:115074

Match List I with List II

LIST I		LIST II	
A.	RMNCHA	I.	Mental Health and Substance Abuse
B.	Janani Shishu Suraksha Karyakram	II.	Screening for defects at birth, diseases, deficiencies and development delays
C.	Rashtriya Bal Swasthya Karyakram	III.	Continuum of care
D.	Rashtriya Kishore Swasthya Karyakram	IV.	Free and cashless delivery

Choose the correct answer from the options given below :

1. A-III, B-IV, C-I, D-II
2. A-IV, B-III, C-I, D-II
3. A-IV, B-III, C-II, D-I
4. A-III, B-IV, C-II, D-I

(1) 1

(2) 2

(3) 3

(4) 4

सूची I का सूची II से मिलान कीजिए

सूची I		सूची II	
A.	आर.एम.एन.सी.एच.ए.	I.	मानसिक स्वास्थ्य एवं मादक पदार्थों का दुरुपयोग
B.	जननी शिशु सुरक्षा कार्यक्रम	II.	जन्म पर दोष (डिफेक्ट्स), बीमारियों, कमियों और विकास में देरी की जांच
C.	राष्ट्रीय बाल स्वास्थ्य कार्यक्रम	III.	देखभाल की सातत्यक
D.	राष्ट्रीय किशोर स्वास्थ्य कार्यक्रम	IV.	निःशुल्क एवं नकदरहित प्रदायगी

निम्नलिखित विकल्पों में से सही उत्तर का चयन कीजिए :

1. A-III, B-IV, C-I, D-II
2. A-IV, B-III, C-I, D-II
3. A-IV, B-III, C-II, D-I
4. A-III, B-IV, C-II, D-I

(1) 1

(2) 2

(3) 3

(4) 4

1[Option ID=14093]

2[Option ID=14094]

3[Option ID=14095]

4[Option ID=14096]

Sl. No.75

QBID:115075

Match List I with List II

LIST I		LIST II	
A.	Dispersion	I.	Analysis of variance
B.	Change in outcome variable	II.	Regression analysis
C.	Association of variables	III.	Standard deviation
D.	Measure relationship	IV.	Chi-square test

Choose the correct answer from the options given below :

1. A-III, B-II, C-IV, D-I
2. A-III, B-II, C-I, D-IV
3. A-II, B-III, C-I, D-IV
4. A-II, B-III, C-IV, D-I

(1) 1

(2) 2

(3) 3

(4) 4

सूची I का सूची II से मिलान कीजिए

सूची I		सूची II	
A.	प्रकीर्णन (डिस्पर्सन)	I.	प्रसरण का विश्लेषण
B.	परिणामी चरों में परिवर्तन	II.	प्रतिगमन विश्लेषण
C.	चरों में साहचर्य	III.	मानक विश्लेषण
D.	संबंध मापन	IV.	काई स्क्वेयर टेस्ट

निम्नलिखित विकल्पों में से सही उत्तर का चयन कीजिए :

1. A-III, B-II, C-IV, D-I
2. A-III, B-II, C-I, D-IV
3. A-II, B-III, C-I, D-IV
4. A-II, B-III, C-IV, D-I

- (1) 1
(2) 2
(3) 3
(4) 4

1[Option ID=14097]
2[Option ID=14098]
3[Option ID=14099]
4[Option ID=14100]

Sl. No.76
QBID:115076

Arrange the following measures from higher to lower value.

- A. GRR
- B. TFR
- C. TMFR
- D. NRR

Choose the correct answer from the options given below:

1. B, D, C, A
2. B, C, A, D
3. B, D, A, C
4. A, B, C, D

- (1) 1
(2) 2
(3) 3
(4) 4

निम्नलिखित मापन को उच्चतर से निम्नतर मान तक में व्यवस्थित कीजिए ।

- A. जी.आर.आर.
- B. टी.एफ.आर.
- C. टी.एम.एफ.आर.
- D. एन. आर. आर.

नीचे दिए गए विकल्पों में से सही उत्तर का चयन कीजिए :

1. B, D, C, A
2. B, C, A, D
3. B, D, A, C
4. A, B, C, D

- (1) 1
(2) 2
(3) 3
(4) 4

1[Option ID=14101]
2[Option ID=14102]

3[Option ID=14103]
4[Option ID=14104]

Sl. No.77
QBID:115077

Arrange the following countries in descending order (higher to lower) according to per capita emission of Carbon-dioxide.

- A. United States of America
- B. Russia
- C. Saudi Arabia
- D. Qatar
- E. Norway

Choose the correct answer from the options given below:

- 1. D, C, A, B, E
- 2. D, A, C, B, E
- 3. D, C, E, B, A
- 4. A, D, C, B, E

- (1) 1
- (2) 2
- (3) 3
- (4) 4

निम्नलिखित देशों को प्रति व्यक्ति कार्बन डाई ऑक्साइड के अनुसार अवरोही (उच्च से निम्न) क्रम में व्यवस्थित कीजिए ।

- A. संयुक्त राज्य अमेरिका
- B. रूस
- C. सऊदी अरब
- D. कतर
- E. नॉर्वे

नीचे दिए गए विकल्पों में से सही उत्तर का चयन कीजिए :

- 1. D, C, A, B, E
- 2. D, A, C, B, E
- 3. D, C, E, B, A
- 4. A, D, C, B, E

- (1) 1
- (2) 2
- (3) 3
- (4) 4

1[Option ID=14105]
2[Option ID=14106]
3[Option ID=14107]
4[Option ID=14108]

Sl. No.78
QBID:115078

According to SRS-2020, arrange the following states in descending order (higher to lower) of Crude Birth Rate (CBR) :

- A. Uttar Pradesh
- B. Bihar
- C. Tamil Nadu
- D. Rajasthan
- E. Kerala

Choose the correct answer from the options given below:

- 1. A, B, C, D, E
- 2. B, A, D, C, E
- 3. B, A, D, E, C
- 4. A, B, C, E, D

(1) 1

(2) 2

(3) 3

(4) 4

एस.आर.एस.2020 के अनुसार निम्नलिखित राज्यों को अशोधित जन्म दर (सी.बी.आर.) के संदर्भ में अवरोही क्रम (उच्चतर से निम्नतर तक) में व्यवस्थित कीजिए ।

- A. उत्तर प्रदेश
- B. बिहार
- C. तमिलनाडु
- D. राजस्थान
- E. केरल

नीचे दिए गए विकल्पों में से सही उत्तर का चयन कीजिए :

- 1. A, B, C, D, E
- 2. B, A, D, C, E
- 3. B, A, D, E, C
- 4. A, B, C, E, D

(1) 1

(2) 2

(3) 3

(4) 4

1[Option ID=14109]

2[Option ID=14110]

3[Option ID=14111]

4[Option ID=14112]

Sl. No.79

QBID:115079

Arrange the different columns of Life Table from beginning to end.

- A. n^Lx
- B. e^ox
- C. lx
- D. Tx

Choose the correct answer from the options given below:

- 1. A, C, D, B
- 2. C, A, D, B
- 3. C, A, B, D
- 4. C, D, A, B

(1) 1

(2) 2

(3) 3

(4) 4

जीवन तालिका के विभिन्न कालमों को प्रारंभ से अंत तक में व्यवस्थित कीजिए ।

- A. n^Lx
- B. $e^{\circ}x$
- C. lx
- D. Tx

नीचे दिए गए विकल्पों में से सही उत्तर का चयन कीजिए :

- 1. A, C, D, B
- 2. C, A, D, B
- 3. C, A, B, D
- 4. C, D, A, B

- (1) 1
- (2) 2
- (3) 3
- (4) 4

1[Option ID=141113]
2[Option ID=141114]
3[Option ID=141115]
4[Option ID=141116]

Sl. No.80
QBID:115080

Arrange the following National Health Programme in chronological order.

- A. NHM
- B. RCH
- C. NRHM
- D. Ayushman Bharat

Choose the correct answer from the options given below:

- 1. A, C, B, D
- 2. A, B, D, C
- 3. B, C, A, D
- 4. B, A, C, D

- (1) 1
- (2) 2
- (3) 3
- (4) 4

निम्नलिखित राष्ट्रीय स्वास्थ्य कार्यक्रमों को कालक्रमानुसार व्यवस्थित कीजिए ।

- A. एन.एच.एम.
- B. आर.सी.एच.
- C. एन.आर.एच.एम.
- D. आयुष्मान भारत

नीचे दिए गए विकल्पों में से सही उत्तर का चयन कीजिए :

- 1. A, C, B, D
- 2. A, B, D, C
- 3. B, C, A, D
- 4. B, A, C, D

- (1) 1
- (2) 2
- (3) 3
- (4) 4

1[Option ID=141117]
2[Option ID=141118]
3[Option ID=141119]
4[Option ID=14120]

Sl. No.81
QBID:115081

Arrange the following from the most recent to oldest one.

- A. Reproductive and Child Health (RCH) programme
- B. The clinic approach in family planning
- C. Extension approach in family planning
- D. Child survival and Safe Motherhood (CSSM) programme

Choose the correct answer from the options given below:

- 1. C, D, B, A
- 2. B, C, D, A
- 3. A, B, C, D
- 4. A, D, C, B

(1) 1

(2) 2

(3) 3

(4) 4

भारतीय परिवार कल्याण कार्यक्रम के निम्नलिखित उपागमों को नवीनतम से प्राचीनतम तक में व्यवस्थित कीजिए ।

- A. प्रजनक और बाल स्वास्थ्य (आर.सी.एच.) कार्यक्रम
- B. क्लिनिक (निदानिका) उपागम
- C. विस्तार उपागम
- D. बाल उत्तरजीविता और सुरक्षित मातृत्व कार्यक्रम
- E. उच्च जन्म एवं मृत्यु दरों द्वारा निर्दिष्ट उच्च स्थिर अवस्था

नीचे दिए गए विकल्पों में से सही उत्तर का चयन कीजिए :

- 1. C, D, B, A
- 2. B, C, D, A
- 3. A, B, C, D
- 4. A, D, C, B

(1) 1

(2) 2

(3) 3

(4) 4

1[Option ID=14121]

2[Option ID=14122]

3[Option ID=14123]

4[Option ID=14124]

Sl. No.82

QBID:115082

Arrange the following in the correct order of demographic evolution.

- A. The declining stage with low mortality, lower natality and deaths exceeds births
- B. The late expanding stage with falling birth rates but more rapidly decreasing mortality
- C. The early expanding stage with high birth rates and high but decreasing mortality rates
- D. The low stationary stage, with low birth rates balanced by equally low mortality
- E. The high stationary stage characterized by high birth and death rates.

Choose the correct answer from the options given below:

- 1. E, C, B, A, D
- 2. E, D, B, A, C
- 3. E, C, B, D, A
- 4. E, D, B, C, A

(1) 1

(2) 2

(3) 3

(4) 4

निम्नलिखित को जनांकिकीय विकास के सही कर्म में व्यवस्थित कीजिए -

- A. निम्न मृत्युदर निम्नतर जन्मदर एवं जन्म से अधिक मृत्यु की हासमान अवस्था
- B. गिरती जन्मदरों किन्तु तीव्र गति से घटती मृत्युदर की जीवन विस्तार अवस्था
- C. समान रूप से निम्न मृत्युदर द्वारा संतुलित निम्न जन्मदर की निम्न स्थिर अवस्था
- D. उच्च जन्म एवं मृत्यु दरों द्वारा निर्दिष्ट उच्च स्थिर अवस्था
- E. उच्चजन्म एवं मृत्युदरों उच्चस्थिर अवस्था

नीचे दिए गए विकल्पों में से सही उत्तर का चयन कीजिए :

- 1. E, C, B, A, D
- 2. E, D, B, A, C
- 3. E, C, B, D, A
- 4. E, D, B, C, A

(1) 1

(2) 2

(3) 3

(4) 4

1[Option ID=14125]

2[Option ID=14126]

3[Option ID=14127]

4[Option ID=14128]

Sl. No.83

QBID:115083

Arrange the states of India, in ascending order (lower to higher) by origin of out migrants as per census 2011.

- A. Andhra Pradesh
- B. Odisha
- C. Rajasthan
- D. Bihar
- E. Uttar Pradesh

Choose the correct answer from the options given below:

- 1. E, D, C, B, A
- 2. A, B, C, D, E
- 3. A, B, C, E, D
- 4. E, A, B, C, D

(1) 1

(2) 2

(3) 3

(4) 4

जनगणना 2011 के अनुसार भारत के निम्नलिखित राज्यों को बाह्य प्रवासियों (आउट माइग्रेन्ट्स) के रूप में उद्गम की दृष्टि से आरोही क्रम (निम्नतर से उच्चतर तक) में व्यवस्थित कीजिए ।

- A. आंध्रप्रदेश
- B. ओडिशा
- C. राजस्थान
- D. बिहार
- E. उत्तर प्रदेश

नीचे दिए गए विकल्पों में से सही उत्तर का चयन कीजिए :

- 1. E, D, C, B, A
- 2. A, B, C, D, E
- 3. A, B, C, E, D
- 4. E, A, B, C, D

(1) 1

- (2) 2
(3) 3
(4) 4

1[Option ID=14129]
2[Option ID=14130]
3[Option ID=14131]
4[Option ID=14132]

Sl. No.84
QBID:115084

Arrange the following data sources in India from oldest to recent, according to their inception.

- A. Sample Registration System (SRS)
B. National Family Health Survey
C. National Sample Survey
D. Population Census

Choose the correct answer from the options given below:

1. A, B, C, D
2. D, A, B, C
3. D, A, C, B
4. D, C, A, B

- (1) 1
(2) 2
(3) 3
(4) 4

भारत के निम्नलिखित डाटा (आंकडा) स्रोतों को उनके प्रवर्तन के अनुसार प्राचीनतम् से नवीनतम के क्रम में व्यवस्थित कीजिए ।

- A. नमूना पंजीकरण प्रणाली (एस आर एस)
B. राष्ट्रीय परिवार स्वास्थ्य सर्वेक्षण (एन एफ एच एस)
C. राष्ट्रीय प्रतिदर्श सर्वेक्षण (एन एस एस)
D. जनसंख्या जनगणना

नीचे दिए गए विकल्पों में से सही उत्तर का चयन कीजिए :

1. A, B, C, D
2. D, A, B, C
3. D, A, C, B
4. D, C, A, B

- (1) 1
(2) 2
(3) 3
(4) 4

1[Option ID=14133]
2[Option ID=14134]
3[Option ID=14135]
4[Option ID=14136]

Sl. No.85
QBID:115085

Arrange the following approaches from oldest to newest, according to their inception.

- A. Gender and Development (GAD)
B. Women in Development (WID)
C. Women and Development (WAD)
D. Gender, Law and Development (GLAD)

Choose the correct answer from the options given below:

1. B, C, A, D
2. D, A, B, C
3. C, B, A, D
4. A, B, C, D

- (1) 1
(2) 2
(3) 3
(4) 4

निम्नलिखित उपागमों उनके प्रारंभ होने के अनुसार प्राचीनतम से नवीनतम के क्रम में व्यवस्थित कीजिए -

- A. जेंडर और विकास (जी ए डी)
- B. विकास में महिला (डब्ल्यू आई डी)
- C. महिला और विकास (डब्ल्यू ए डी)
- D. जेंडर, विधि (नियम) और विकास (जी एल ए डी)

नीचे दिए गए विकल्पों में से सही उत्तर का चयन कीजिए :

- 1. B, C, A, D
- 2. D, A, B, C
- 3. C, B, A, D
- 4. A, B, C, D

- (1) 1
- (2) 2
- (3) 3
- (4) 4

1[Option ID=14137]
2[Option ID=14138]
3[Option ID=14139]
4[Option ID=14140]

Sl. No.86
QBID:115086

Given below are two statements : One is labelled as Assertion A and the other is labelled as Reason R.

Assertion-A: City primacy does not exist in India at the national level.

Reason-R: It is explained by the large size of the country, its colonial heritage, weak economic growth and weakness in the forces of nationalism.

In the light of the above statements, choose the most appropriate answer from the options given below :

- 1. Both A and R are correct and R is the correct explanation of A
- 2. Both A and R are correct but R is not the correct explanation of A
- 3. A is correct but R is not correct
- 4. A is not correct but R is correct

- (1) 1
- (2) 2
- (3) 3
- (4) 4

नीचे दो कथन दिये गये हैं: एक अभिकथन (Assertion A) के रूप में लिखा है तो दूसरा उसके कारण (Reason R) के रूप में-

अभिकथन-A: भारत में राष्ट्रीय स्तर पर शहर की प्रमुखता विद्यमान नहीं है।

कारण-R: इसकी व्याख्या देश के बड़े आकार औपनिवेशिक विरासत, कमजोर आर्थिक संवृद्धि और कमजोर राष्ट्रवाद से की गयी है।

उपरोक्त कथन के आलोक में नीचे दिये गये विकल्पों में से सबसे उपयुक्त उत्तर का चयन कीजिये।

- 1. A और R दोनों सही है और R, A की सही व्याख्या है
- 2. A और R दोनों सही है लेकिन R, A की सही व्याख्या नहीं है
- 3. A सही है लेकिन R सही नहीं है
- 4. A सही नहीं है लेकिन R सही है

- (1) 1
- (2) 2
- (3) 3
- (4) 4

1[Option ID=14141]
2[Option ID=14142]
3[Option ID=14143]
4[Option ID=14144]

Sl. No.87
QBID:115087

Given below are two statements : One is labelled as Assertion A and the other is labelled as Reason R :

Assertion-A: Indian census has shifted its operational approach from *De facto* to *De jure*.

Reason-R: Deployment of a large number of enumerators and supervisors often result into poor quality of data in *De facto* census.

In the light of the above statements, choose the most appropriate answer from the options given below

1. Both A and R are correct and R is the correct explanation of A
2. Both A and R are correct but R is not the correct explanation of A
3. A is correct but R is not correct
4. A is not correct but R is correct

- (1) 1
(2) 2
(3) 3
(4) 4

नीचे दो कथन दिए गए हैं : एक अभिकथन (Assertion A) के रूप में लिखित है तो दूसरा उसके कारण (Reason R) के रूप में:

अभिकथन A : भारतीय जनगणना ने अपने प्रचालनात्मक उपागम को वस्तुतः से विधितः में परिवर्तित कर दिया है।

कारण R : एक बड़ी संख्या में परिगणकों और पर्यवेक्षकों की तैनाती का परिणाम प्रायः वस्तुतः जनगणना में डेटा (आंकड़ों) की कमजोर गुणवत्ता के रूप में होता है।

उपरोक्त कथन के आलोक में, नीचे दिए गए विकल्पों में से सबसे उपयुक्त उत्तर का चयन कीजिए -

1. A और R दोनों सही हैं और R, A की सही व्याख्या है
2. A और R दोनों सही हैं, लेकिन R, A की सही व्याख्या नहीं है
3. A सही है लेकिन R सही नहीं है
4. A सही नहीं है लेकिन R सही है

- (1) 1
(2) 2
(3) 3
(4) 4

1[Option ID=14145]
2[Option ID=14146]
3[Option ID=14147]
4[Option ID=14148]

Sl. No.88
QBID:115088

Given below are two statements : One is labelled as Assertion A and the other is labelled as Reason R :

Assertion A : Around 20% of maternal deaths are due to anaemia alone.

Reason R : In India, over 80% of pregnant women are anaemic/severely anaemic exposed to the risk of toxaeimias, pre-eclampsia and post delivery haemorrhage.

In the light of the above statements, choose the most appropriate answer from the options given below :

1. Both A and R are true and R is the correct explanation of A
2. Both A and R are true but R is not the correct explanation of A
3. A is true but R is false
4. A is false but R is true

- (1) 1
(2) 2
(3) 3
(4) 4

नीचे दो कथन दिए गए हैं : एक अभिकथन (Assertion A) के रूप में लिखित है तो दूसरा उसके कारण (Reason R) के रूप में;

अभिकथन A : अकेले एनीसिया (रक्ताल्पता) के कारण लगभग 20 प्रतिशत मातृ-मृत्यु होती हैं।

कारण R : भारत में 80 प्रतिशत से अधिक गर्भवती महिलाएँ रक्ताल्पतक/अत्यधिक रक्ताल्पतक हैं, जो विषाक्तता, उच्च रक्तचाप (गर्भावस्था) और प्रसव के बाद रक्तस्राव के जोखिम के प्रति उद्दासित हैं।

उपरोक्त कथन के आलोक में, नीचे दिए गए विकल्पों में से सबसे उपयुक्त उत्तर का चयन कीजिए -

1. A और R दोनों सही हैं और R, A की सही व्याख्या है
2. A और R दोनों सही हैं, लेकिन R, A की सही व्याख्या नहीं है
3. A सही है लेकिन R सही नहीं है
4. A सही नहीं है लेकिन R सही है

(1) 1

(2) 2

(3) 3

(4) 4

1[Option ID=14149]

2[Option ID=14150]

3[Option ID=14151]

4[Option ID=14152]

Sl. No.89

QBID:115089

Given below are two statements : One is labelled as Assertion A and the other is labelled as Reason R.

Assertion-A : A large section of female headed households in India are poor.

Reason-R: Poor are better empowered to become family head.

In the light of the above statements, choose the most appropriate answer from the options given below :

1. Both A and R are correct and R is the correct explanation of A
2. Both A and R are correct but R is not the correct explanation of A
3. A is correct but R is not correct
4. A is not correct but R is correct

(1) 1

(2) 2

(3) 3

(4) 4

नीचे दो कथन दिए गए हैं : एक अभिकथन (Assertion A) के रूप में लिखित है तो दूसरा उसके कारण (Reason R) के रूप में;

अभिकथन A : भारत में महिला-मुखिया परिवारों का एक बड़ा वर्ग गरीब है।

कारण R : परिवार का मुखिया बनने के लिये गरीब बेहतर ढंग से सशक्त होते हैं।

उपरोक्त कथन के आलोक में, नीचे दिए गए विकल्पों में से सही उत्तर का चयन कीजिए -

1. A और R दोनों सत्य हैं और R, A की सही व्याख्या है
2. A और R दोनों सत्य हैं, लेकिन R, A की सही व्याख्या नहीं है
3. A सत्य है लेकिन R असत्य है
4. A असत्य है, लेकिन R सत्य है

(1) 1

(2) 2

(3) 3

(4) 4

1[Option ID=14153]

2[Option ID=14154]
3[Option ID=14155]
4[Option ID=14156]

Sl. No.90
QBID:115090

Given below are two statements : One is labelled as Assertion A and the other is labelled as Reason R.

Assertion A : Open defecation is a key causative factor behind the high prevalence of soil and water borne diseases in rural India.

Reason R: A very high percentage of rural population defecate in open, leaving the excreta to seep through the soil and contaminate the water table and water bodies.

In the light of the above statements, choose the most appropriate answer from the options given below:

1. Both A and R are true and R is the correct explanation of A
2. Both A and R are true but R is not the correct explanation of A
3. A is true but R is false
4. A is false but R is true

- (1) 1
(2) 2
(3) 3
(4) 4

नीचे दो कथन दिए गए हैं : एक अभिकथन (Assertion A) के रूप में लिखित है तो दूसरा उसके कारण (Reason R) के रूप में;

अभिकथन A : ग्रामीण भारत में मृदा और जल-जनित बीमारियों के उच्च प्रचलन के पीछे खुले में शौच एक प्रमुख कारण-वाचक कारक है ।

कारण R : ग्रामीण जनसंख्या का एक अति-उच्च प्रतिशत खुले में शौच करता है और मल-मूत्र को मृदा के माध्यम से रिसते को छोड़ देता है तथा इससे जल स्तर और जलाशय संदूषित होते हैं ।

उपरोक्त कथन के आलोक में, नीचे दिए गए विकल्पों में से सही उत्तर का चयन कीजिए -

1. A और R दोनों सत्य हैं और R, A की सही व्याख्या है
2. A और R दोनों सत्य हैं, लेकिन R, A की सही व्याख्या नहीं है
3. A सही है लेकिन R सही असत्य है
4. A असत्य नहीं है लेकिन R सत्य है

- (1) 1
(2) 2
(3) 3
(4) 4

1[Option ID=14157]
2[Option ID=14158]
3[Option ID=14159]
4[Option ID=14160]

Sl. No.91
QBID:115091

Age specific, marital fertility rates (ASFMR) of India and select bigger states, 2020 given in the table below. Go through the table and answer following questions :

S.No	India & Bigger States	15-19	20-24	25-29	30-34	35-39	40-44	45-49
1	India	353.0	339.1	199.3	95.1	38.1	12.6	5.2
2	Assam	554.9	289.7	185.4	116.6	57.3	17.1	6.4
3	Bihar	402.1	397.1	250.7	155.0	73.9	28.7	11.1
4	Gujarat	421.2	355.3	203.5	92.3	27.7	5.8	3.6
5	Haryana	247.0	339.4	210.7	82.0	25.0	8.0	3.4
6	J & K	423.6	292.6	244.7	147.3	58.9	29.8	12.7
7	Karnataka	217.6	237.7	157.1	78.3	25.0	5.0	4.2
8	Maharashtra	250.3	350.0	171.9	62.7	19.6	4.4	2.0
9	Kerala	420.2	249.6	143.0	77.6	24.3	5.0	0.6
10	Tamil Nadu	255.0	290.9	176.8	61.5	16.2	3.8	0.6
11	Uttar Pradesh	450.5	450.6	268.1	153.9	71.6	27.8	9.1
12	West Bengal	467.2	275.2	114.8	47.5	14.6	3.2	2.6

Source : SRS Statistical Report 2020

नीचे दी गई तालिका में वर्ष 2020 में भारत और उसके चुनिंदा अधिक बड़े राज्यों का आयु-विशिष्ट प्रजनन दर (ए.एस.एफ.एम.आर.) दर्शाई गई है। तालिका को देखें और उसके बाद दिए गए प्रश्नों के उत्तर दीजिए -

क्र.स.	भारत और अधिक बड़े राज्य	15-19	20-24	25-29	30-34	35-39	40-44	45-49
1	भारत	353.0	339.1	199.3	95.1	38.1	12.6	5.2
2	असम	554.9	289.7	185.4	116.6	57.3	17.1	6.4
3	बिहार	402.1	397.1	250.7	155.0	73.9	28.7	11.1
4	गुजरात	421.2	355.3	203.5	92.3	27.7	5.8	3.6
5	हरियाणा	247.0	339.4	210.7	82.0	25.0	8.0	3.4
6	जम्मू एवं कश्मीर	423.6	292.6	244.7	147.3	58.9	29.8	12.7
7	कर्नाटक	217.6	237.7	157.1	78.3	25.0	5.0	4.2
8	महाराष्ट्र	250.3	350.0	171.9	62.7	19.6	4.4	2.0
9	केरल	420.2	249.6	143.0	77.6	24.3	5.0	0.6
10	तमिलनाडु	255.0	290.9	176.8	61.5	16.2	3.8	0.6
11	उत्तर प्रदेश	450.5	450.6	268.1	153.9	71.6	27.8	9.1
12	पश्चिम बंगाल	467.2	275.2	114.8	47.5	14.6	3.2	2.6

स्रोत : एस.आर.एस. स्टैटिस्टिकल रिपोर्ट, 2022

Which state has consistently higher ASFMR in all age-groups than Assam except in 15-19 years?

1. West Bengal
2. J & K
3. Uttar Pradesh
4. Bihar

- (1) 1
(2) 2
(3) 3
(4) 4

निम्नलिखित में से किस राज्य की सभी आयु-समूहों में (15-19 वर्ष छोड़कर) असम की अपेक्षा निरंतर रूप से उच्च ए.एस.एफ.एम.आर. है ?

1. पश्चिम बंगाल
2. जम्मू एवं कश्मीर
3. उत्तर प्रदेश
4. बिहार

- (1) 1
(2) 2
(3) 3
(4) 4

1[Option ID=14161]
2[Option ID=14162]
3[Option ID=14163]
4[Option ID=14164]

Sl. No.92
QBID:115092

Age specific, marital fertility rates (ASFMR) of India and select bigger states, 2020 given in the table below. Go through the table and answer following questions :

S.No	India & Bigger States	15-19	20-24	25-29	30-34	35-39	40-44	45-49
1	India	353.0	339.1	199.3	95.1	38.1	12.6	5.2
2	Assam	554.9	289.7	185.4	116.6	57.3	17.1	6.4
3	Bihar	402.1	397.1	250.7	155.0	73.9	28.7	11.1
4	Gujarat	421.2	355.3	203.5	92.3	27.7	5.8	3.6
5	Haryana	247.0	339.4	210.7	82.0	25.0	8.0	3.4
6	J & K	423.6	292.6	244.7	147.3	58.9	29.8	12.7
7	Karnataka	217.6	237.7	157.1	78.3	25.0	5.0	4.2
8	Maharashtra	250.3	350.0	171.9	62.7	19.6	4.4	2.0
9	Kerala	420.2	249.6	143.0	77.6	24.3	5.0	0.6
10	Tamil Nadu	255.0	290.9	176.8	61.5	16.2	3.8	0.6
11	Uttar Pradesh	450.5	450.6	268.1	153.9	71.6	27.8	9.1
12	West Bengal	467.2	275.2	114.8	47.5	14.6	3.2	2.6

Source : SRS Statistical Report 2020

नीचे दी गई तालिका में वर्ष 2020 में भारत और उसके चुनिंदा अधिक बड़े राज्यों का आयु-विशिष्ट प्रजनन दर (ए.एस.एफ.एम.आर.) दर्शाई गई है। तालिका को देखें और उसके बाद दिए गए प्रश्नों के उत्तर दीजिए -

क्र.स.	भारत और अधिक बड़े राज्य	15-19	20-24	25-29	30-34	35-39	40-44	45-49
1	भारत	353.0	339.1	199.3	95.1	38.1	12.6	5.2
2	असम	554.9	289.7	185.4	116.6	57.3	17.1	6.4
3	बिहार	402.1	397.1	250.7	155.0	73.9	28.7	11.1
4	गुजरात	421.2	355.3	203.5	92.3	27.7	5.8	3.6
5	हरियाणा	247.0	339.4	210.7	82.0	25.0	8.0	3.4
6	जम्मू एवं कश्मीर	423.6	292.6	244.7	147.3	58.9	29.8	12.7
7	कर्नाटक	217.6	237.7	157.1	78.3	25.0	5.0	4.2
8	महाराष्ट्र	250.3	350.0	171.9	62.7	19.6	4.4	2.0
9	केरल	420.2	249.6	143.0	77.6	24.3	5.0	0.6
10	तमिलनाडु	255.0	290.9	176.8	61.5	16.2	3.8	0.6
11	उत्तर प्रदेश	450.5	450.6	268.1	153.9	71.6	27.8	9.1
12	पश्चिम बंगाल	467.2	275.2	114.8	47.5	14.6	3.2	2.6

स्रोत : एस.आर.एस. स्टैटिस्टिकल रिपोर्ट, 2022

Which state has highest ASFMR during 40 years and above?

1. Kerala
2. Karnataka
3. Maharashtra
4. J&K

- (1) 1
(2) 2
(3) 3
(4) 4

निम्नलिखित में से किस राज्य की 40 वर्ष और इससे अधिक के दौरान उच्चतम ए.एस.एम.एफ.आर. है ?

1. केरल
2. कर्नाटक
3. महाराष्ट्र
4. जम्मू एवं कश्मीर

- (1) 1
(2) 2
(3) 3
(4) 4

- 1[Option ID=14165]
2[Option ID=14166]
3[Option ID=14167]
4[Option ID=14168]

Age specific, marital fertility rates (ASFMR) of India and select bigger states, 2020 given in the table below. Go through the table and answer following questions :

S.No	India & Bigger States	15-19	20-24	25-29	30-34	35-39	40-44	45-49
1	India	353.0	339.1	199.3	95.1	38.1	12.6	5.2
2	Assam	554.9	289.7	185.4	116.6	57.3	17.1	6.4
3	Bihar	402.1	397.1	250.7	155.0	73.9	28.7	11.1
4	Gujarat	421.2	355.3	203.5	92.3	27.7	5.8	3.6
5	Haryana	247.0	339.4	210.7	82.0	25.0	8.0	3.4
6	J & K	423.6	292.6	244.7	147.3	58.9	29.8	12.7
7	Karnataka	217.6	237.7	157.1	78.3	25.0	5.0	4.2
8	Maharastra	250.3	350.0	171.9	62.7	19.6	4.4	2.0
9	Kerala	420.2	249.6	143.0	77.6	24.3	5.0	0.6
10	Tamil Nadu	255.0	290.9	176.8	61.5	16.2	3.8	0.6
11	Uttar Pradesh	450.5	450.6	268.1	153.9	71.6	27.8	9.1
12	West Bengal	467.2	275.2	114.8	47.5	14.6	3.2	2.6

Source : SRS Statistical Report 2020

नीचे दी गई तालिका में वर्ष 2020 में भारत और उसके चुनिंदा अधिक बड़े राज्यों का आयु-विशिष्ट प्रजनन दर (ए.एस.एफ.एम.आर.) दर्शाई गई है। तालिका को देखें और उसके बाद दिए गए प्रश्नों के उत्तर दीजिए -

क्र.स.	भारत और अधिक बड़े राज्य	15-19	20-24	25-29	30-34	35-39	40-44	45-49
1	भारत	353.0	339.1	199.3	95.1	38.1	12.6	5.2
2	असम	554.9	289.7	185.4	116.6	57.3	17.1	6.4
3	बिहार	402.1	397.1	250.7	155.0	73.9	28.7	11.1
4	गुजरात	421.2	355.3	203.5	92.3	27.7	5.8	3.6
5	हरियाणा	247.0	339.4	210.7	82.0	25.0	8.0	3.4
6	जम्मू एवं कश्मीर	423.6	292.6	244.7	147.3	58.9	29.8	12.7
7	कर्नाटक	217.6	237.7	157.1	78.3	25.0	5.0	4.2
8	महाराष्ट्र	250.3	350.0	171.9	62.7	19.6	4.4	2.0
9	केरल	420.2	249.6	143.0	77.6	24.3	5.0	0.6
10	तमिलनाडु	255.0	290.9	176.8	61.5	16.2	3.8	0.6
11	उत्तर प्रदेश	450.5	450.6	268.1	153.9	71.6	27.8	9.1
12	पश्चिम बंगाल	467.2	275.2	114.8	47.5	14.6	3.2	2.6

स्रोत : एस.आर.एस. स्टैटिस्टिकल रिपोर्ट, 2022

Which state has highest ASMFMRs in all age group except in 15-19 years.

1. Uttar Pradesh
2. Bihar
3. Assam
4. West Bengal

- (1) 1
(2) 2
(3) 3
(4) 4

निम्नलिखित में किस राज्य की 15 से 19 वर्ष तक को छोड़ कर सभी आयु-समूहों में उच्चतम ए.एस.एम.एफ.आर. है ?

1. उत्तर प्रदेश
2. बिहार
3. असम
4. पश्चिम बंगाल

- (1) 1
(2) 2
(3) 3
(4) 4

- 1[Option ID=14169]
2[Option ID=14170]
3[Option ID=14171]
4[Option ID=14172]

Age specific, marital fertility rates (ASFMR) of India and select bigger states, 2020 given in the table below. Go through the table and answer following questions :

S.No	India & Bigger States	15-19	20-24	25-29	30-34	35-39	40-44	45-49
1	India	353.0	339.1	199.3	95.1	38.1	12.6	5.2
2	Assam	554.9	289.7	185.4	116.6	57.3	17.1	6.4
3	Bihar	402.1	397.1	250.7	155.0	73.9	28.7	11.1
4	Gujarat	421.2	355.3	203.5	92.3	27.7	5.8	3.6
5	Haryana	247.0	339.4	210.7	82.0	25.0	8.0	3.4
6	J & K	423.6	292.6	244.7	147.3	58.9	29.8	12.7
7	Karnataka	217.6	237.7	157.1	78.3	25.0	5.0	4.2
8	Maharashtra	250.3	350.0	171.9	62.7	19.6	4.4	2.0
9	Kerala	420.2	249.6	143.0	77.6	24.3	5.0	0.6
10	Tamil Nadu	255.0	290.9	176.8	61.5	16.2	3.8	0.6
11	Uttar Pradesh	450.5	450.6	268.1	153.9	71.6	27.8	9.1
12	West Bengal	467.2	275.2	114.8	47.5	14.6	3.2	2.6

Source : SRS Statistical Report 2020

नीचे दी गई तालिका में वर्ष 2020 में भारत और उसके चुनिंदा अधिक बड़े राज्यों का आयु-विशिष्ट प्रजनन दर (ए.एस.एफ.एम.आर.) दर्शाई गई है। तालिका को देखें और उसके बाद दिए गए प्रश्नों के उत्तर दीजिए -

क्र.स.	भारत और अधिक बड़े राज्य	15-19	20-24	25-29	30-34	35-39	40-44	45-49
1	भारत	353.0	339.1	199.3	95.1	38.1	12.6	5.2
2	असम	554.9	289.7	185.4	116.6	57.3	17.1	6.4
3	बिहार	402.1	397.1	250.7	155.0	73.9	28.7	11.1
4	गुजरात	421.2	355.3	203.5	92.3	27.7	5.8	3.6
5	हरियाणा	247.0	339.4	210.7	82.0	25.0	8.0	3.4
6	जम्मू एवं कश्मीर	423.6	292.6	244.7	147.3	58.9	29.8	12.7
7	कर्नाटक	217.6	237.7	157.1	78.3	25.0	5.0	4.2
8	महाराष्ट्र	250.3	350.0	171.9	62.7	19.6	4.4	2.0
9	केरल	420.2	249.6	143.0	77.6	24.3	5.0	0.6
10	तमिलनाडु	255.0	290.9	176.8	61.5	16.2	3.8	0.6
11	उत्तर प्रदेश	450.5	450.6	268.1	153.9	71.6	27.8	9.1
12	पश्चिम बंगाल	467.2	275.2	114.8	47.5	14.6	3.2	2.6

स्रोत : एस.आर.एस. स्टैटिस्टिकल रिपोर्ट, 2022

Which state has lowest ASFMR after 40 years?

1. Tamil Nadu
2. Kerala
3. Karnataka
4. Haryana

- (1) 1
(2) 2
(3) 3
(4) 4

निम्नलिखित में से किस राज्य की 40 वर्ष के बाद निम्नतम ए.एस.एम.एफ.आर. है ?

1. तमिलनाडु
2. केरल
3. कर्नाटक
4. हरियाणा

- (1) 1
(2) 2
(3) 3
(4) 4

1[Option ID=14173]
2[Option ID=14174]
3[Option ID=14175]
4[Option ID=14176]

Sl. No.95
QBID:115095

Age specific, marital fertility rates (ASFMR) of India and select bigger states, 2020 given in the table below. Go through the table and answer following questions :

S.No	India & Bigger States	15-19	20-24	25-29	30-34	35-39	40-44	45-49
1	India	353.0	339.1	199.3	95.1	38.1	12.6	5.2
2	Assam	554.9	289.7	185.4	116.6	57.3	17.1	6.4
3	Bihar	402.1	397.1	250.7	155.0	73.9	28.7	11.1
4	Gujarat	421.2	355.3	203.5	92.3	27.7	5.8	3.6
5	Haryana	247.0	339.4	210.7	82.0	25.0	8.0	3.4
6	J & K	423.6	292.6	244.7	147.3	58.9	29.8	12.7
7	Karnataka	217.6	237.7	157.1	78.3	25.0	5.0	4.2
8	Maharastra	250.3	350.0	171.9	62.7	19.6	4.4	2.0
9	Kerala	420.2	249.6	143.0	77.6	24.3	5.0	0.6
10	Tamil Nadu	255.0	290.9	176.8	61.5	16.2	3.8	0.6
11	Uttar Pradesh	450.5	450.6	268.1	153.9	71.6	27.8	9.1
12	West Bengal	467.2	275.2	114.8	47.5	14.6	3.2	2.6

Source : SRS Statistical Report 2020

नीचे दी गई तालिका में वर्ष 2020 में भारत और उसके चुनिंदा अधिक बड़े राज्यों का आयु-विशिष्ट प्रजनन दर (ए.एस.एफ.एम.आर.) दर्शाई गई है। तालिका को देखें और उसके बाद दिए गए प्रश्नों के उत्तर दीजिए -

क्र.स.	भारत और अधिक बड़े राज्य	15-19	20-24	25-29	30-34	35-39	40-44	45-49
1	भारत	353.0	339.1	199.3	95.1	38.1	12.6	5.2
2	असम	554.9	289.7	185.4	116.6	57.3	17.1	6.4
3	बिहार	402.1	397.1	250.7	155.0	73.9	28.7	11.1
4	गुजरात	421.2	355.3	203.5	92.3	27.7	5.8	3.6
5	हरियाणा	247.0	339.4	210.7	82.0	25.0	8.0	3.4
6	जम्मू एवं कश्मीर	423.6	292.6	244.7	147.3	58.9	29.8	12.7
7	कर्नाटक	217.6	237.7	157.1	78.3	25.0	5.0	4.2
8	महाराष्ट्र	250.3	350.0	171.9	62.7	19.6	4.4	2.0
9	केरल	420.2	249.6	143.0	77.6	24.3	5.0	0.6
10	तमिलनाडु	255.0	290.9	176.8	61.5	16.2	3.8	0.6
11	उत्तर प्रदेश	450.5	450.6	268.1	153.9	71.6	27.8	9.1
12	पश्चिम बंगाल	467.2	275.2	114.8	47.5	14.6	3.2	2.6

स्रोत : एस.आर.एस. स्टैटिस्टिकल रिपोर्ट, 2022

How many states have ASFMR higher in age-group 15-24 years than India?

1. 5
2. 4
3. 6
4. 3

- (1) 1
- (2) 2
- (3) 3
- (4) 4

भारत की तुलना में किन राज्यों में 15 से 24 वर्ष तक के आयु समूह में ए.एस.एम.एफ.आर. उच्चतर है ?

1. 5
2. 4
3. 6
4. 3

- (1) 1
- (2) 2
- (3) 3
- (4) 4

- 1[Option ID=14177]
2[Option ID=14178]
3[Option ID=14179]
4[Option ID=14180]

Answer a question on the basis of the following paragraph :

Asia is a major region of origin for international female migration. The principle stream is the migration of women workers from South and South East Asia to Gulf countries. The second stream is from Sri Lanka, Thailand, Indonesia and Philippines to Brunei, Hong Kong, Singapore and Malaysia. The third stream is of those moving to Canada the US and Europe. The first and second stream of migration generally consist of workers in the lower end of manufacturing and services, while the third stream of migrants consists of those in medium and high skilled categories, such as IT professional and health care workers. A gender differentiated demand for labour seems to determine the migration flow of international female workers. The majority of male migrants are engaged in production and construction, females are disproportionately engaged in care and entertainment services. In the South Asian context, the feminization of migration is observed in the migration of women from Sri Lanka. As per statistics in 2009, 52 per cent of the total Sri Lankan emigrant were women, of which 90 per cent migrated as housemaids. The composition of female migrants provides clues about the factors that trigger migration at the micro level.

निम्नलिखित गद्यांश के आधार पर उत्तर दीजिए ।

एशिया अंतर्राष्ट्रीय प्रवासन का एक प्रमुख उद्गम क्षेत्र है । महिला श्रमिकों के प्रवासन का मुख्य प्रवाह दक्षिण एशिया और दक्षिण पूर्व एशिया से खाड़ी देशों की ओर है । दूसरा प्रवाह श्रीलंका, थाईलैंड, इंडोनेशिया और फिलीपींस से ब्रुनई, हांग कांग, सिंगापुर और मलेशिया की ओर है । तीसरा प्रवाह उनका है, जो कनाडा, अमेरिका और यूरोप की ओर होता है । प्रवासन के पहले और दूसरे प्रवाह में सामान्यतः निम्नश्रेणी की मैनुफैक्चरिंग और सेवाएँ का निम्नतर पायदान सम्मिलित है, जबकि प्रवासन के तीसरे प्रवाह में मझोली और उच्च कुशल श्रेणियाँ, जैसे- आई.टी. प्रोफेशनल और देखभालकर्ता श्रमिक सम्मिलित हैं । श्रमिकों की एक जेन्डर-विभेदित मांग अंतर्राष्ट्रीय महिला श्रमिकों के प्रवासन का प्रवाह निर्धारित करने वाली प्रतीत होती है । बहुसंख्यक पुरुष प्रवासी उत्पादन एवं विनिर्माण में लगे हुए हैं, जबकि महिलाएँ अननुपाती रूप से देखभाल और मनोरंजन सेवाओं में कार्यरत हैं । दक्षिण एशियाई संदर्भ में प्रवासन का महिलाकरण श्रीलंका से महिलाओं के प्रवासन को देखा गया है । वर्ष 2009 के आंकड़ों के अनुसार श्रीलंका की कुल 52 प्रतिशत उत्प्रवासी महिलाएँ थीं, जिसमें से 90 प्रतिशत ने घरेलू नौकरानियों के रूप में उत्प्रवास किया । महिला उत्प्रवासियों की संरचना उन कारणों का संकेत प्रदान करती है, जो सूक्ष्म स्तर पर प्रवासन को उत्प्रेरित करते हैं ।

Which among the following group of countries attract high skilled women migrants?

1. Gulf countries
2. European countries
3. South Asian countries
4. East Asian countries

- (1) 1
(2) 2
(3) 3
(4) 4

निम्नलिखित में से किन देशों का समूह उच्च कुशल महिला उत्प्रवासियों को आकर्षित करता है ?

1. खाड़ी देश
2. यूरोपियन देश
3. दक्षिण एशियाई देश
4. पूर्व एशियाई देश

- (1) 1
(2) 2
(3) 3
(4) 4

1[Option ID=14181]
2[Option ID=14182]
3[Option ID=14183]
4[Option ID=14184]

Sl. No.97
QBID:115097

Answer a question on the basis of the following paragraph :

Asia is a major region of origin for international female migration. The principle stream is the migration of women workers from South and South East Asia to Gulf countries. The second stream is from Sri Lanka, Thailand, Indonesia and Philippines to Brunei, Hong Kong, Singapore and Malaysia. The third stream is of those moving to Canada the US and Europe. The first and second stream of migration generally consist of workers in the lower end of manufacturing and services, while the third stream of migrants consists of those in medium and high skilled categories, such as IT professional and health care workers. A gender differentiated demand for labour seems to determine the migration flow of international female workers. The majority of male migrants are engaged in production and construction, females are disproportionately engaged in care and entertainment services. In the South Asian context, the feminization of migration is observed in the migration of women from Sri Lanka. As per statistics in 2009, 52 per cent of the total Sri Lankan emigrant were women, of which 90 per cent migrated as housemaids. The composition of female migrants provides clues about the factors that trigger migration at the micro level.

निम्नलिखित गद्यांश के आधार पर उत्तर दीजिए ।

एशिया अंतर्राष्ट्रीय प्रवासन का एक प्रमुख उद्गम क्षेत्र है । महिला श्रमिकों के प्रवासन का मुख्य प्रवाह दक्षिण एशिया और दक्षिण पूर्व एशिया से खाड़ी देशों की ओर है । दूसरा प्रवाह श्रीलंका, थाईलैंड, इंडोनेशिया और फिलीपींस से ब्रुनई, हांग कांग, सिंगापुर और मलेशिया की ओर है । तीसरा प्रवाह उनका है, जो कनाडा, अमेरिका और यूरोप की ओर होता है । प्रवासन के पहले और दूसरे प्रवाह में सामान्यतः निम्नश्रेणी की मैनुफैक्चरिंग और सेवाएँ का निम्नतर पायदान सम्मिलित है, जबकि प्रवासन के तीसरे प्रवाह में मझोली और उच्च कुशल श्रेणियाँ, जैसे- आई.टी. प्रोफेशनल और देखभालकर्ता श्रमिक सम्मिलित हैं । श्रमिकों की एक जेन्डर-विभेदित मांग अंतर्राष्ट्रीय महिला श्रमिकों के प्रवासन का प्रवाह निर्धारित करने वाली प्रतीत होती है । बहुसंख्यक पुरुष प्रवासी उत्पादन एवं विनिर्माण में लगे हुए हैं, जबकि महिलाएँ अननुपाती रूप से देखभाल और मनोरंजन सेवाओं में कार्यरत हैं । दक्षिण एशियाई संदर्भ में प्रवासन का महिलाकरण श्रीलंका से महिलाओं के प्रवासन को देखा गया है । वर्ष 2009 के आंकड़ों के अनुसार श्रीलंका की कुल 52 प्रतिशत उत्प्रवासी महिलाएँ थीं, जिसमें से 90 प्रतिशत ने घरेलू नौकरानियों के रूप में उत्प्रवास किया । महिला उत्प्रवासियों की संरचना उन कारणों का संकेत प्रदान करती है, जो सूक्ष्म स्तर पर प्रवासन को उत्प्रेरित करते हैं ।

How many principal streams of migration of women from Asia could be identified?

1. One
2. Two
3. Three
4. Four

- (1) 1
(2) 2
(3) 3
(4) 4

एशिया से प्रवासन के कितने मुख्य प्रवाहों की पहचान की जा सकती है ?

1. एक
2. दो
3. तीन
4. चार

- (1) 1
(2) 2
(3) 3
(4) 4

1[Option ID=14185]
2[Option ID=14186]
3[Option ID=14187]
4[Option ID=14188]

Sl. No.98
QBID:115098

Answer a question on the basis of the following paragraph :

Asia is a major region of origin for international female migration. The principle stream is the migration of women workers from South and South East Asia to Gulf countries. The second stream is from Sri Lanka, Thailand, Indonesia and Philippines to Brunei, Hong Kong, Singapore and Malaysia. The third stream is of those moving to Canada the US and Europe. The first and second stream of migration generally consist of workers in the lower end of manufacturing and services, while the third stream of migrants consists of those in medium and high skilled categories, such as IT professional and health care workers. A gender differentiated demand for labour seems to determine the migration flow of international female workers. The majority of male migrants are engaged in production and construction, females are disproportionately engaged in care and entertainment services. In the South Asian context, the feminization of migration is observed in the migration of women from Sri Lanka. As per statistics in 2009, 52 per cent of the total Sri Lankan emigrant were women, of which 90 per cent migrated as housemaids. The composition of female migrants provides clues about the factors that trigger migration at the micro level.

निम्नलिखित गद्यांश के आधार पर उत्तर दीजिए ।

एशिया अंतर्राष्ट्रीय प्रवासन का एक प्रमुख उद्गम क्षेत्र है । महिला श्रमिकों के प्रवासन का मुख्य प्रवाह दक्षिण एशिया और दक्षिण पूर्व एशिया से खाड़ी देशों की ओर है । दूसरा प्रवाह श्रीलंका, थाईलैंड, इंडोनेशिया और फिलीपींस से ब्रुनई, हांग कांग, सिंगापुर और मलेशिया की ओर है । तीसरा प्रवाह उनका है, जो कनाडा, अमेरिका और यूरोप की ओर होता है । प्रवासन के पहले और दूसरे प्रवाह में सामान्यतः निम्नश्रेणी की मैन्यूफैक्चरिंग और सेवाएँ का निम्नतर पायदान सम्मिलित है, जबकि प्रवासन के तीसरे प्रवाह में मझोली और उच्च कुशल श्रेणियाँ, जैसे- आई.टी. प्रोफेशनल और देखभालकर्ता श्रमिक सम्मिलित हैं । श्रमिकों की एक जेन्डर-विभेदित मांग अंतर्राष्ट्रीय महिला श्रमिकों के प्रवासन का प्रवाह निर्धारित करने वाली प्रतीत होती है । बहुसंख्यक पुरुष प्रवासी उत्पादन एवं विनिर्माण में लगे हुए हैं, जबकि महिलाएँ अननुपाती रूप से देखभाल और मनोरंजन सेवाओं में कार्यरत हैं । दक्षिण एशियाई संदर्भ में प्रवासन का महिलाकरण श्रीलंका से महिलाओं के प्रवासन को देखा गया है । वर्ष 2009 के आंकड़ों के अनुसार श्रीलंका की कुल 52 प्रतिशत उत्प्रवासी महिलाएँ थीं, जिसमें से 90 प्रतिशत ने घरेलू नौकरानियों के रूप में उत्प्रवास किया । महिला उत्प्रवासियों की संरचना उन कारणों का संकेत प्रदान करती है, जो सूक्ष्म स्तर पर प्रवासन को उत्प्रेरित करते हैं ।

Which among the following describes the phenomenon of international women migration for care and entertainment services?

1. Gender stereotype
2. Gender neutral
3. Gender sensitive
4. Gender prototype

(1) 1

(2) 2

(3) 3

(4) 4

निम्नलिखित में से कौन देखभाल और मनोरंजन सेवाओं के लिए अंतर्राष्ट्रीय महिला प्रवासन की परिघटना का वर्णन करता है ?

1. जेन्डर स्टीरियोटाइप
2. जेन्डर न्यूट्रल
3. जेन्डर-संवेदनशील
4. जेन्डर प्रोटोटाइप

(1) 1

(2) 2

(3) 3

(4) 4

1[Option ID=14189]

2[Option ID=14190]

3[Option ID=14191]

4[Option ID=14192]

Sl. No.99

QBID:115099

Answer a question on the basis of the following paragraph :

Asia is a major region of origin for international female migration. The principle stream is the migration of women workers from South and South East Asia to Gulf countries. The second stream is from Sri Lanka, Thailand, Indonesia and Philippines to Brunei, Hong Kong, Singapore and Malaysia. The third stream is of those moving to Canada the US and Europe. The first and second stream of migration generally consist of workers in the lower end of manufacturing and services, while the third stream of migrants consists of those in medium and high skilled categories, such as IT professional and health care workers. A gender differentiated demand for labour seems to determine the migration flow of international female workers. The majority of male migrants are engaged in production and construction, females are disproportionately engaged in care and entertainment services. In the South Asian context, the feminization of migration is observed in the migration of women from Sri Lanka. As per statistics in 2009, 52 per cent of the total Sri Lankan emigrant were women, of which 90 per cent migrated as housemaids. The composition of female migrants provides clues about the factors that trigger migration at the micro level.

निम्नलिखित गद्यांश के आधार पर उत्तर दीजिए ।

एशिया अंतर्राष्ट्रीय प्रवासन का एक प्रमुख उद्गम क्षेत्र है । महिला श्रमिकों के प्रवासन का मुख्य प्रवाह दक्षिण एशिया और दक्षिण पूर्व एशिया से खाड़ी देशों की ओर है । दूसरा प्रवाह श्रीलंका, थाईलैंड, इंडोनेशिया और फिलीपींस से ब्रुनई, हांग कांग, सिंगापुर और मलेशिया की ओर है । तीसरा प्रवाह उनका है, जो कनाडा, अमेरिका और यूरोप की ओर होता है । प्रवासन के पहले और दूसरे प्रवाह में सामान्यतः निम्नश्रेणी की मैनुफैक्चरिंग और सेवाएँ का निम्नतर पायदान सम्मिलित है, जबकि प्रवासन के तीसरे प्रवाह में मझोली और उच्च कुशल श्रेणियाँ, जैसे- आई.टी. प्रोफेशनल और देखभालकर्ता श्रमिक सम्मिलित हैं । श्रमिकों की एक जेन्डर-विभेदित मांग अंतर्राष्ट्रीय महिला श्रमिकों के प्रवासन का प्रवाह निर्धारित करने वाली प्रतीत होती है । बहुसंख्यक पुरुष प्रवासी उत्पादन एवं विनिर्माण में लगे हुए हैं, जबकि महिलाएँ अननुपाती रूप से देखभाल और मनोरंजन सेवाओं में कार्यरत हैं । दक्षिण एशियाई संदर्भ में प्रवासन का महिलाकरण श्रीलंका से महिलाओं के प्रवासन को देखा गया है । वर्ष 2009 के आंकड़ों के अनुसार श्रीलंका की कुल 52 प्रतिशत उत्प्रवासी महिलाएँ थीं, जिसमें से 90 प्रतिशत ने घरेलू नौकरानियों के रूप में उत्प्रवास किया । महिला उत्प्रवासियों की संरचना उन कारणों का संकेत प्रदान करती है, जो सूक्ष्म स्तर पर प्रवासन को उत्प्रेरित करते हैं ।

What percentage of men are emigrant from Sri Lanka as labour?

1. 45%
2. 46%
3. 47%
4. 48%

- (1) 1
(2) 2
(3) 3
(4) 4

श्रीलंका से श्रमिक के रूप में कितने प्रतिशत उत्प्रवासी हैं ?

1. 45%
2. 46%
3. 47%
4. 48%

- (1) 1
(2) 2
(3) 3
(4) 4

1[Option ID=14193]

2[Option ID=14194]

3[Option ID=14195]

4[Option ID=14196]

Sl. No.100
QBID:115100

Answer a question on the basis of the following paragraph :

Asia is a major region of origin for international female migration. The principle stream is the migration of women workers from South and South East Asia to Gulf countries. The second stream is from Sri Lanka, Thailand, Indonesia and Philippines to Brunei, Hong Kong, Singapore and Malaysia. The third stream is of those moving to Canada the US and Europe. The first and second stream of migration generally consist of workers in the lower end of manufacturing and services, while the third stream of migrants consists of those in medium and high skilled categories, such as IT professional and health care workers. A gender differentiated demand for labour seems to determine the migration flow of international female workers. The majority of male migrants are engaged in production and construction, females are disproportionately engaged in care and entertainment services. In the South Asian context, the feminization of migration is observed in the migration of women from Sri Lanka. As per statistics in 2009, 52 per cent of the total Sri Lankan emigrant were women, of which 90 per cent migrated as housemaids. The composition of female migrants provides clues about the factors that trigger migration at the micro level.

निम्नलिखित गद्यांश के आधार पर उत्तर दीजिए ।

एशिया अंतर्राष्ट्रीय प्रवासन का एक प्रमुख उद्गम क्षेत्र है । महिला श्रमिकों के प्रवासन का मुख्य प्रवाह दक्षिण एशिया और दक्षिण पूर्व एशिया से खाड़ी देशों की ओर है । दूसरा प्रवाह श्रीलंका, थाईलैंड, इंडोनेशिया और फिलीपींस से ब्रुनई, हांग कांग, सिंगापुर और मलेशिया की ओर है । तीसरा प्रवाह उनका है, जो कनाडा, अमेरिका और यूरोप की ओर होता है । प्रवासन के पहले और दूसरे प्रवाह में सामान्यतः निम्नश्रेणी की मैन्यूफैक्चरिंग और सेवाएँ का निम्नतर पायदान सम्मिलित है, जबकि प्रवासन के तीसरे प्रवाह में मझोली और उच्च कुशल श्रेणियाँ, जैसे- आई.टी. प्रोफेशनल और देखभालकर्ता श्रमिक सम्मिलित हैं । श्रमिकों की एक जेन्डर-विभेदित मांग अंतर्राष्ट्रीय महिला श्रमिकों के प्रवासन का प्रवाह निर्धारित करने वाली प्रतीत होती है । बहुसंख्यक पुरुष प्रवासी उत्पादन एवं विनिर्माण में लगे हुए हैं, जबकि महिलाएँ अननुपाती रूप से देखभाल और मनोरंजन सेवाओं में कार्यरत हैं । दक्षिण एशियाई संदर्भ में प्रवासन का महिलाकरण श्रीलंका से महिलाओं के प्रवासन को देखा गया है । वर्ष 2009 के आंकड़ों के अनुसार श्रीलंका की कुल 52 प्रतिशत उत्प्रवासी महिलाएँ थीं, जिसमें से 90 प्रतिशत ने घरेलू नौकरानियों के रूप में उत्प्रवास किया । महिला उत्प्रवासियों की संरचना उन कारणों का संकेत प्रदान करती है, जो सूक्ष्म स्तर पर प्रवासन को उत्प्रेरित करते हैं ।

If there are 100 women emigrant from Sri Lanka, how many of them have migrated as housemaids?

1. 45%
2. 47%
3. 49%
4. 50%

- (1) 1
- (2) 2
- (3) 3
- (4) 4

यदि श्रीलंका से 100 महिला उत्प्रवासी हैं तो उनमें से कितने ने घरेलू नौकरानियों के रूप में प्रवासन किया है ?

1. 45%
2. 47%
3. 49%
4. 50%

- (1) 1
- (2) 2
- (3) 3
- (4) 4

1[Option ID=14197]

2[Option ID=14198]

3[Option ID=14199]

4[Option ID=14200]

Sl. No.101

QBID:7201001

The following table shows population of five villages A-E and percentage distribution of males (M), females (F) and transgenders (T) among them. Based on the data in the table, answer the questions :

Village - wise Distribution of Population

Village	Total Population	Distribution (%)		
		M	F	T
A	12,000	46%	(-)	22%
B	16,000	(-)	33%	27%
C	18,000	32%	36%	(-)
D	24,000	36%	(-)	20%
E	25,000	(-)	30%	25%

Note : In table (-) denotes missing value (%), which is to be computed whenever required.

निम्नलिखित तालिका A-E पाँच गाँवों की आबादी और उनमें पुरुष (M), महिला (F) और ट्रांसजेंडर के प्रतिशत वितरण को दर्शाती है। इस तालिका में दिए गए आंकड़ों के आधार पर प्रश्न का उत्तर दीजिए:

आबादी का ग्रामवार वितरण

गाँव	कुल आबादी	वितरण प्रतिशत (%)		
		M	F	T
A	12,000	46%	(-)	22%
B	16,000	(-)	33%	27%
C	18,000	32%	36%	(-)
D	24,000	36%	(-)	20%
E	25,000	(-)	30%	25%

नोट: तालिका में रिक्त मान को (-) द्वारा दर्शाया गया है जिसका परिकलन आवश्यकतानुसार किया जाना है।

Transgender population in Village - A is _____% of the female population in Village - B.

1. 75
2. 50
3. 33.33
4. 66.66

- (1) 1
- (2) 2
- (3) 3
- (4) 4

गाँव A में ट्रांसजेंडर की आबादी गाँव B में महिलाओं की आबादी का _____% है।

1. 75
2. 50
3. 33.33
4. 66.66

- (1) 1
- (2) 2
- (3) 3
- (4) 4

1[Option ID=16401]

2[Option ID=16402]

3[Option ID=16403]

4[Option ID=16404]

Sl. No.102

QBID:7201002

The following table shows population of five villages A-E and percentage distribution of males (M), females (F) and transgenders (T) among them. Based on the data in the table, answer the questions :

Village - wise Distribution of Population

Village	Total Population	Distribution (%)		
		M	F	T
A	12,000	46%	(-)	22%
B	16,000	(-)	33%	27%
C	18,000	32%	36%	(-)
D	24,000	36%	(-)	20%
E	25,000	(-)	30%	25%

Note : In table (-) denotes missing value (%), which is to be computed whenever required.

निम्नलिखित तालिका A-E पाँच गाँवों की आबादी और उनमें पुरुष (M), महिला (F) और ट्रांसजेंडर के प्रतिशत वितरण को दर्शाती है। इस तालिका में दिए गए आंकड़ों के आधार पर प्रश्न का उत्तर दीजिए:

आबादी का ग्रामवार वितरण

गाँव	कुल आबादी	वितरण प्रतिशत (%)		
		M	F	T
A	12,000	46%	(-)	22%
B	16,000	(-)	33%	27%
C	18,000	32%	36%	(-)
D	24,000	36%	(-)	20%
E	25,000	(-)	30%	25%

नोट: तालिका में रिक्त मान को (-) द्वारा दर्शाया गया है जिसका परिकलन आवश्यकतानुसार किया जाना है।

Find the difference between male population in Village - E and female population in Village - D.

1. 890
2. 830
3. 690
4. 610

- (1) 1
- (2) 2
- (3) 3
- (4) 4

गाँव E में पुरुषों की आबादी और गाँव D में महिलाओं की आबादी के बीच का अन्तर कितना है?

1. 890
2. 830
3. 690
4. 610

- (1) 1
- (2) 2
- (3) 3
- (4) 4

1[Option ID=16405]

2[Option ID=16406]

3[Option ID=16407]

4[Option ID=16408]

Sl. No.103

QBID:7201003

The following table shows population of five villages A-E and percentage distribution of males (M), females (F) and transgenders (T) among them. Based on the data in the table, answer the questions :

Village - wise Distribution of Population

Village	Total Population	Distribution (%)		
		M	F	T
A	12,000	46%	(-)	22%
B	16,000	(-)	33%	27%
C	18,000	32%	36%	(-)
D	24,000	36%	(-)	20%
E	25,000	(-)	30%	25%

Note : In table (-) denotes missing value (%), which is to be computed whenever required.

निम्नलिखित तालिका A-E पाँच गाँवों की आबादी और उनमें पुरुष (M), महिला (F) और ट्रांसजेंडर के प्रतिशत वितरण को दर्शाती है। इस तालिका में दिए गए आंकड़ों के आधार पर प्रश्न का उत्तर दीजिए:

आबादी का ग्रामवार वितरण

गाँव	कुल आबादी	वितरण प्रतिशत (%)		
		M	F	T
A	12,000	46%	(-)	22%
B	16,000	(-)	33%	27%
C	18,000	32%	36%	(-)
D	24,000	36%	(-)	20%
E	25,000	(-)	30%	25%

नोट: तालिका में रिक्त मान को (-) द्वारा दर्शाया गया है जिसका परिकलन आवश्यकतानुसार किया जाना है।

Find the ratio of population of transgenders in Village - C to population of males in Village - B.

1. 9:10
2. 7:8
3. 3:4
4. 27:32

- (1) 1
- (2) 2
- (3) 3
- (4) 4

गाँव C में ट्रांसजेंडर और गाँव B में पुरुषों की आबादी का अनुपात ज्ञात कीजिये।

1. 9 : 10
2. 7 : 8
3. 3 : 4
4. 27 : 32

- (1) 1
- (2) 2
- (3) 3
- (4) 4

1[Option ID=16409]

2[Option ID=16410]

3[Option ID=16411]

4[Option ID=16412]

Sl. No.104

QBID:7201004

The following table shows population of five villages A-E and percentage distribution of males (M), females (F) and transgenders (T) among them. Based on the data in the table, answer the questions :

Village - wise Distribution of Population

Village	Total Population	Distribution (%)		
		M	F	T
A	12,000	46%	(-)	22%
B	16,000	(-)	33%	27%
C	18,000	32%	36%	(-)
D	24,000	36%	(-)	20%
E	25,000	(-)	30%	25%

Note : In table (-) denotes missing value (%), which is to be computed whenever required.

निम्नलिखित तालिका A-E पाँच गाँवों की आबादी और उनमें पुरुष (M), महिला (F) और ट्रांसजेंडर के प्रतिशत वितरण को दर्शाती है। इस तालिका में दिए गए आंकड़ों के आधार पर प्रश्न का उत्तर दीजिए:

आबादी का ग्रामवार वितरण

गाँव	कुल आबादी	वितरण प्रतिशत (%)		
		M	F	T
A	12,000	46%	(-)	22%
B	16,000	(-)	33%	27%
C	18,000	32%	36%	(-)
D	24,000	36%	(-)	20%
E	25,000	(-)	30%	25%

नोट: तालिका में रिक्त मान को (-) द्वारा दर्शाया गया है जिसका परिकलन आवश्यकतानुसार किया जाना है।

What is the difference between number of males and females in Village - A ?

1. 480
2. 1920
3. 1120
4. 1680

- (1) 1
- (2) 2
- (3) 3
- (4) 4

गाँव A में पुरुषों और महिलाओं की संख्या के बीच का अन्तर कितना है?

1. 480
2. 1920
3. 1120
4. 1680

- (1) 1
- (2) 2
- (3) 3
- (4) 4

1[Option ID=16413]

2[Option ID=16414]

3[Option ID=16415]

4[Option ID=16416]

Sl. No.105

QBID:7201005

The following table shows population of five villages A-E and percentage distribution of males (M), females (F) and transgenders (T) among them. Based on the data in the table, answer the questions :

Village - wise Distribution of Population

Village	Total Population	Distribution (%)		
		M	F	T
A	12,000	46%	(-)	22%
B	16,000	(-)	33%	27%
C	18,000	32%	36%	(-)
D	24,000	36%	(-)	20%
E	25,000	(-)	30%	25%

Note : In table (-) denotes missing value (%), which is to be computed whenever required.

निम्नलिखित तालिका A-E पाँच गाँवों की आबादी और उनमें पुरुष (M), महिला (F) और ट्रांसजेंडर के प्रतिशत वितरण को दर्शाती है। इस तालिका में दिए गए आंकड़ों के आधार पर प्रश्न का उत्तर दीजिए:

आबादी का ग्रामवार वितरण

गाँव	कुल आबादी	वितरण प्रतिशत (%)		
		M	F	T
A	12,000	46%	(-)	22%
B	16,000	(-)	33%	27%
C	18,000	32%	36%	(-)
D	24,000	36%	(-)	20%
E	25,000	(-)	30%	25%

नोट: तालिका में रिक्त मान को (-) द्वारा दर्शाया गया है जिसका परिकलन आवश्यकतानुसार किया जाना है।

Total number of females in Villages B and D together is _____% more than the number of males in Village - C.

1. 275
2. 225
3. 125
4. 175

- (1) 1
- (2) 2
- (3) 3
- (4) 4

गाँव B और D दोनों में एक साथ महिलाओं की कुल संख्या गाँव C में पुरुषों की संख्या से कितना प्रतिशत अधिक है?

1. 275
2. 225
3. 125
4. 175

- (1) 1
- (2) 2
- (3) 3
- (4) 4

- 1[Option ID=16417]
 2[Option ID=16418]
 3[Option ID=16419]
 4[Option ID=16420]

Sl. No.106
 QBID:7201006

In ADDIE model of instructional design framework, the letters I and E in the acronym ADDIE pertain to

1. Identification and Evaluation
2. Implementation and Evaluation
3. Identification and Examination
4. Implementation and Examination

- (1) 1
- (2) 2
- (3) 3
- (4) 4

अनुदेशी डिजाइन रूपरेखा के ADDIE (एडीडीआई) मॉडल में परिवर्णी शब्द ADDIE के अक्षर I और E किससे संबंधित हैं?

1. चिह्नीकरण और मूल्यांकन
2. कार्यान्वयन और मूल्यांकन
3. चिह्नीकरण और परीक्षा
4. कार्यान्वयन और परीक्षा

(1) 1

(2) 2

(3) 3

(4) 4

1[Option ID=16421]

2[Option ID=16422]

3[Option ID=16423]

4[Option ID=16424]

Sl. No.107

QBID:7201007

Students participating in online classes are taught by an instructor. Following the lesson, the instructor intends to incorporate reading materials (e-content, Power point presentation, etc.) that can be viewed by the students. What option would instructor choose ?

1. Content creation tools
2. Networking tools
3. Learning Management System (LMS)
4. Links of the websites

(1) 1

(2) 2

(3) 3

(4) 4

आनलाइन कक्षाओं में भाग ले रहे विद्यार्थियों को एक अनुदेशक पढ़ाता है। पाठ के बाद अनुदेशक पठन-सामग्री (e-विषय सामग्री, पावर प्वाइंट प्रस्तुति आदि) इस उद्देश्य से संलग्न करता है कि विद्यार्थी इनके अवलोकन कर सकें। इसके लिए अनुदेशक कौन-से विकल्प का चयन करेगा?

1. विषयवस्तु निर्माण उपकरण
2. नेटवर्किंग उपकरण
3. अधिगम प्रबंधन प्रणाली (एलएमएल)
4. वेबसाइट्स के लिंक

(1) 1

(2) 2

(3) 3

(4) 4

1[Option ID=16425]

2[Option ID=16426]

3[Option ID=16427]

4[Option ID=16428]

Sl. No.108

QBID:7201008

Which of the following does not come under primary laws of learning ?

1. Law of effect
2. Law of Readiness
3. Law of Multiple response
4. Law of exercise

(1) 1

(2) 2

(3) 3

(4) 4

निम्नलिखित में कौन-सा नियम अधिगम के प्राथमिक नियमों के अंतर्गत नहीं आता है?

1. प्रभाव का नियम
2. तत्परता का नियम
3. बहु प्रत्युत्तर का नियम
4. अभ्यास का नियम

(1) 1

(2) 2

(3) 3

(4) 4

1[Option ID=16429]
2[Option ID=16430]
3[Option ID=16431]
4[Option ID=16432]

Sl. No.109

QBID:7201009

Given below are two statements :

Statement I : Project method is best associated with the Philosophy of John Dewey.

Statement II : The strength of Project method lies in social participation.

In the light of the above statements, choose the most appropriate answer from the options given below :

1. Both Statement I and Statement II are correct.
2. Both Statement I and Statement II are incorrect.
3. Statement I is correct but Statement II is incorrect.
4. Statement I is incorrect but statement II is correct.

(1) 1

(2) 2

(3) 3

(4) 4

नीचे दो कथन दिए गए हैं:

कथन I : परियोजना विधि जॉन डेवी के दर्शन से सर्वाधिक रूप से संबंधित है।

कथन II : परियोजना विधि की प्रबलता सामाजिक प्रतिभागिता में निहित है।

उपरोक्त कथन के आलोक में, नीचे दिए गए विकल्पों में से सबसे उपयुक्त उत्तर का चयन कीजिए:

1. कथन I और II दोनों सही हैं।
2. कथन I और II दोनों गलत हैं।
3. कथन I सही है, लेकिन कथन II गलत है।
4. कथन I गलत है, लेकिन कथन II सही है।

(1) 1

(2) 2

(3) 3

(4) 4

1[Option ID=16433]
2[Option ID=16434]
3[Option ID=16435]
4[Option ID=16436]

Sl. No.110

QBID:7201010

For Undergraduate educational programmes, courses on SWAYAM Platform have been developed by :

- A. NPTEL
- B. IIM Ahmedabad
- C. AICTE
- D. CEC
- E. IIM Bangalore
- F. UGC

Choose the most appropriate answer from the options given below :

1. A, C, D and E Only
2. B, D, and F Only
3. A, D, E and F Only
4. C, E and F Only

(1) 1

(2) 2

(3) 3

(4) 4

पूर्व स्नातक शैक्षिक कार्यक्रमों के लिए स्वयं (SWAYAM) पर शैक्षणिक प्रोग्राम और पाठ्यक्रम किसके द्वारा विकसित किये गये हैं।

- A. एनपीटीईएल
- B. आईआईएम, अहमदाबाद
- C. एआईसीटीई
- D. सीईसी
- E. आईआईएम, बैंगलोर
- F. वि.अ.आ.

नीचे दिए गए विकल्पों में से सबसे उपयुक्त उत्तर का चयन कीजिए:

- 1. केवल A, C, D और E
- 2. केवल B, D और F
- 3. केवल A, D, E और F
- 4. केवल C, E और F

(1) 1

(2) 2

(3) 3

(4) 4

1[Option ID=16437]

2[Option ID=16438]

3[Option ID=16439]

4[Option ID=16440]

Sl. No.111

QBID:7201011

While reading research paper or research reports, often one comes across the abbreviation 'viz', which means

- 1. for example
- 2. namely
- 3. against
- 4. refer to

(1) 1

(2) 2

(3) 3

(4) 4

शोध आलेख या शोध प्रतिवेदन (रिपोर्ट) पढ़ते समय प्रायः संक्षिप्ताक्षर 'viz' आता है, इसका अर्थ है:

- 1. उदाहरणार्थ
- 2. नामतः/अर्थात्
- 3. के विरुद्ध
- 4. के संदर्भ में

(1) 1

(2) 2

(3) 3

(4) 4

1[Option ID=16441]

2[Option ID=16442]

3[Option ID=16443]

4[Option ID=16444]

Sl. No.112

QBID:7201012

A student submits Ph.D. thesis in a university. Upon scrutiny, it is found that his/her thesis has a similarity content of 35%. This would fall in which of the following categories of plagiarism according to UGC regulations ?

- 1. Level 0
- 2. Level 1
- 3. Level 2
- 4. Level 3

(1) 1

(2) 2

(3) 3

(4) 4

एक विद्यार्थी एक विश्वविद्यालय में अपना पी-एच.डी. शोध प्रबंध जमा करता है। उसके शोध प्रबंध की संवीक्षा करने पर उसकी विषयवस्तु के 35% भाग में समरूपता पाई जाती है। विश्वविद्यालय अनुदान आयोग के विनियमों के अनुसार निम्नलिखित में से यह साहित्य चोरी के किस स्तर में आता है?

1. स्तर 0
2. स्तर 1
3. स्तर 2
4. स्तर 3

- (1) 1
(2) 2
(3) 3
(4) 4

1[Option ID=16445]
2[Option ID=16446]
3[Option ID=16447]
4[Option ID=16448]

Sl. No.113
QBID:7201013

The part of research paper that gives an overview of the field to be investigated and the investigator's hypotheses about the research outcome, is called

1. Abstract
2. Introduction
3. Results
4. Method

- (1) 1
(2) 2
(3) 3
(4) 4

शोध आलेख का वह भाग जिसमें शोध के विषय क्षेत्र का विहंगावलोकन और शोध के निष्कर्ष के बारे में अन्वेषक की परिकल्पनाओं का उल्लेख किया जाता है, उसे कहा जाता है:

1. सारांश
2. प्रस्तावना
3. परिणाम
4. विधि

- (1) 1
(2) 2
(3) 3
(4) 4

1[Option ID=16449]
2[Option ID=16450]
3[Option ID=16451]
4[Option ID=16452]

Sl. No.114
QBID:7201014

A study in which a group of participants is observed and measured over a period of time, refers to

1. Longitudinal Research
2. Archival Research
3. Cross-sectional Research
4. Correlational Research

- (1) 1
(2) 2
(3) 3
(4) 4

एक अध्ययन जिसमें प्रतिभागियों के एक समूह का एक काल अवधि में प्रेक्षण और मापन किया जाता है, उसे कहा जाता है:

1. अनुदैर्घ्य शोध
2. पुरालेख शोध
3. अनुप्रस्थ शोध
4. सह संबंध शोध

- (1) 1
(2) 2
(3) 3
(4) 4

1[Option ID=16453]
2[Option ID=16454]
3[Option ID=16455]
4[Option ID=16456]

Sl. No.115
QBID:7201015

Given below are two statements :

Statement I : In case of qualitative phenomena, we have data on the basis of presence or absence of an attribute or more than one attribute.

Statement II : With such data as mentioned in Statement I above the sampling distribution may take the form of a Binomial probability distribution.

In the light of the above statements, choose the correct answer from the options given below :

1. Both Statement I and Statement II are true.
2. Both Statement I and Statement II are false.
3. Statement I is true but Statement II is false.
4. Statement I is false but Statement II is true.

- (1) 1
(2) 2
(3) 3
(4) 4

नीचे दो कथन दिए गए हैं:

कथन I : गुणात्मक परिघटना के दृष्टांत/केस में, हम एक या एक से अधिक विशेषताओं/लक्षणों की उपस्थिति अथवा अनुपस्थिति के आधार पर आंकड़ा संग्रहित करते हैं।

कथन II : उपर्युक्त कथन-I में उल्लिखित आंकड़ों का प्रतिदर्श वितरण द्विपदीय प्रायिकता वितरण के रूप में हो सकता है।

उपरोक्त कथन के आलोक में नीचे दिए गए विकल्पों में से सही उत्तर का चयन कीजिए:

1. कथन I और II दोनों सत्य हैं।
2. कथन I और II दोनों असत्य हैं।
3. कथन I सत्य है, लेकिन कथन II असत्य है।
4. कथन I असत्य है, लेकिन कथन II सत्य है।

- (1) 1
(2) 2
(3) 3
(4) 4

1[Option ID=16457]
2[Option ID=16458]
3[Option ID=16459]
4[Option ID=16460]

Sl. No.116
QBID:7201016

Every society, because of communication, reflects a sense of _____ to most extent.

1. Commonality
2. Doubt
3. Indifference
4. Animus

- (1) 1
(2) 2
(3) 3
(4) 4

प्रत्येक समाज संप्रेषण के कारण बहुत हद तक _____ की भावना को प्रतिबिम्बित करता है।

1. सामान्यता
2. संदेह
3. तटस्थता
4. विद्वेष

- (1) 1
(2) 2
(3) 3
(4) 4

1[Option ID=16461]
2[Option ID=16462]
3[Option ID=16463]
4[Option ID=16464]

Sl. No.117
QBID:7201017

On the negative side, communicative language is used to :

- A. Extend democratic debates
- B. Suppress truth
- C. Divide the society
- D. Permeate ethnocentrism
- E. Support global peace efforts

Choose the correct answer from the options given below :

- 1. A, B, C Only
- 2. B, C, D Only
- 3. C, D, E Only
- 4. A, C, E Only

- (1) 1
- (2) 2
- (3) 3
- (4) 4

नकारात्मक पक्ष की बात करें तो संप्रेषणीय भाषा का प्रयोग किया जाता है:

- A. लोकतांत्रिक वाद-विवाद को बढ़ाने के लिए
- B. सत्य का दमन करने के लिए
- C. समाज को बांटने के लिए
- D. प्रजाति-केन्द्रीयता को पारगमित करने के लिए
- E. वैश्विक शांति प्रयासों के समर्थन के लिये

नीचे दिए गए विकल्पों में से सही उत्तर चुनिए:

- 1. केवल A, B, C
- 2. केवल B, C, D
- 3. केवल C, D, E
- 4. केवल A, C, E

- (1) 1
- (2) 2
- (3) 3
- (4) 4

1[Option ID=16465]
2[Option ID=16466]
3[Option ID=16467]
4[Option ID=16468]

Sl. No.118
QBID:7201018

Given below are two statements :

Statement I : Communication, culture and power are inter-related.

Statement II : Socio-cultural values when communicated do not have any weightage of power.

In the light of the above statements, choose the correct answer from the options given below :

- 1. Both Statement I and Statement II are true.
- 2. Both Statement I and Statement II are false.
- 3. Statement I is true but Statement II is false.
- 4. Statement I is false but Statement II is true.

- (1) 1
- (2) 2
- (3) 3
- (4) 4

नीचे दो कथन दिए गए हैं:

कथन I : संप्रेषण, संस्कृति और शक्ति अन्तः संबंधित होते हैं।

कथन II : संप्रेषण के पश्चात सामाजिक-सांस्कृतिक मूल्यों में शक्ति का कोई वजन नहीं रह जाता है।

उपरोक्त कथन के आलोक में, नीचे दिए गए विकल्पों में से सही उत्तर का चयन कीजिए:

1. कथन I और II दोनों सत्य हैं ।
2. कथन I और II दोनों असत्य हैं ।
3. कथन I सत्य है, लेकिन कथन II असत्य है ।
4. कथन I असत्य है, लेकिन कथन II सत्य है ।

- (1) 1
(2) 2
(3) 3
(4) 4

1[Option ID=16469]

2[Option ID=16470]

3[Option ID=16471]

4[Option ID=16472]

Sl. No.119

QBID:7201019

Modern communication technology has converted words into

- A. A tool of equality
- B. Time
- C. A tool of unwarranted peace
- D. Money
- E. Power

Choose the correct answer from the options given below :

1. A, B, C Only
2. B, C, D Only
3. C, D, E Only
4. B, D, E Only

- (1) 1
(2) 2
(3) 3
(4) 4

आधुनिक संचार प्रौद्योगिकी ने शब्दों को संपरिवर्तित कर दिया है:

- A. समानता के साधन के रूप में
- B. समय में
- C. अनापेक्षित शांति की युक्ति के रूप में
- D. धन के रूप में
- E. शक्ति के रूप में

नीचे दिए गए विकल्पों में से सही उत्तर का चयन कीजिए:

1. केवल A, B, C
2. केवल B, C, D
3. केवल C, D, E
4. केवल B, D, E

- (1) 1
(2) 2
(3) 3
(4) 4

1[Option ID=16473]

2[Option ID=16474]

3[Option ID=16475]

4[Option ID=16476]

Sl. No.120

QBID:7201020

Given below are two statements :

Statement I : The semantic code in communication deals with character and characterisation.

Statement II : Roland Barthes describes this code as the voice of the person.

In the light of the above statements, choose the correct answer from the options given below :

1. Both Statement I and Statement II are true.
2. Both Statement I and Statement II are false.
3. Statement I is true but Statement II is false.
4. Statement I is false but Statement II is true.

(1) 1

(2) 2

(3) 3

(4) 4

नीचे दो कथन दिए गए हैं:

कथन I : संप्रेषण में अर्थसंकेत का कूट पात्र और चित्रण से संबंधित होता है।

कथन II : रोला बार्थ ने इस कूट को व्यक्ति की आवाज की संज्ञा दी है।

उपरोक्त कथन के आलोक में, नीचे दिए गए विकल्पों में से सही उत्तर का चयन कीजिए:

1. कथन I और II दोनों सत्य हैं।
2. कथन I और II दोनों असत्य हैं।
3. कथन I सत्य है, लेकिन कथन II असत्य है।
4. कथन I असत्य है, लेकिन कथन II सत्य है।

(1) 1

(2) 2

(3) 3

(4) 4

1[Option ID=16477]
2[Option ID=16478]
3[Option ID=16479]
4[Option ID=16480]

Sl. No.121
QBID:7201021

A shopkeeper purchases a packet of 60 pens at Rs. 10 per pen. He sells a part of the packet at a profit of 40%. On the remaining part, he bears a loss of 20%. If his overall profit on the whole packet is 20% of , find the number of pens he sold at profit.

1. 40
2. 30
3. 20
4. 35

(1) 1

(2) 2

(3) 3

(4) 4

एक दुकानदार 10 रुपए प्रति कलम की दर से 60 कलम के एक पैकेट को खरीदता है। वह पैकेट के एक भाग को 40% के लाभ पर बेचता है। शेष भाग पर उसे 20% की हानि होती है। यदि उसे सम्पूर्ण पैकेट पर कुल लाभ 20% होता है, तब कलम की वह संख्या ज्ञात कीजिए जिसे उसने लाभ पर बेचा है।

1. 40
2. 30
3. 20
4. 35

(1) 1

(2) 2

(3) 3

(4) 4

1[Option ID=16481]
2[Option ID=16482]
3[Option ID=16483]
4[Option ID=16484]

Sl. No.122
QBID:7201022

A batsman scored 98 runs in his 17th match . As a result his average runs per match increased by 2.5. What was his average before playing 17th match ?

1. 55.5
2. 60.5
3. 58.5
4. 61.5

- (1) 1
(2) 2
(3) 3
(4) 4

एक बल्लेबाज (क्रिकेट खिलाड़ी) 17वें मैच में 98 रन बनाता है। इसके परिणाम स्वरूप उसके प्रतिमैच औसत रन में 2.5 रन की वृद्धि हो जाती है। तो 17वें मैच खेलने के पहले उसका औसत कितना था?

1. 55.5
2. 60.5
3. 58.5
4. 61.5

- (1) 1
(2) 2
(3) 3
(4) 4

1[Option ID=16485]
2[Option ID=16486]
3[Option ID=16487]
4[Option ID=16488]

Sl. No.123
QBID:7201023

Water level of a river increases and decreases by 10% on alternate days in the rainy season. What shall be the increase or decrease in the water level at the end of second day, as compared to the initial water level ?

1. 1% of increase
2. 1% decrease
3. 1.5% increase
4. 1.5% decrease

- (1) 1
(2) 2
(3) 3
(4) 4

वर्षाऋतु के समय एक नदी के जलस्तर में एक दिन 10% की वृद्धि होती है एवं दूसरे दिन 10% की कमी होती है। आरंभिक जलस्तर की तुलना में दूसरे दिन के अंत में जलस्तर में कितने प्रतिशत की वृद्धि अथवा कमी हो जाएगी?

1. 1% की वृद्धि
2. 1% की कमी
3. 1.5% की वृद्धि
4. 1.5% की कमी

- (1) 1
(2) 2
(3) 3
(4) 4

1[Option ID=16489]
2[Option ID=16490]
3[Option ID=16491]
4[Option ID=16492]

Sl. No.124
QBID:7201024

There are two numbers such that the sum of twice the first number and thrice the 2nd number is 39. Also the sum of thrice the first number and twice the 2nd number is 36. The largest of the two numbers is ?

1. 21
2. 15
3. 9
4. 6

- (1) 1
(2) 2
(3) 3
(4) 4

दो संख्याएं इस प्रकार दी गयी है जिसमें प्रथम संख्या के दोगुने और दूसरी संख्या के तिगुने का योग 39 है तथा पहली संख्या के तिगुने और दूसरी संख्या के दोगुने का योग 36 है। दोनों संख्याओं में से बड़ी संख्या कौन-सी है?

1. 21
2. 15
3. 9
4. 6

- (1) 1
- (2) 2
- (3) 3
- (4) 4

1[Option ID=16493]
2[Option ID=16494]
3[Option ID=16495]
4[Option ID=16496]

Sl. No.125
QBID:7201025

If SEARCH is coded as 214673 and CHART is coded as 73465, then what will be the code for TEACHER ?

1. 5147316
2. 5174136
3. 5143716
4. 5413716

- (1) 1
- (2) 2
- (3) 3
- (4) 4

यदि SEARCH को 214673 के रूप में कूटबद्ध किया गया है और CHART को 73465 के रूप में कूटबद्ध किया गया है। तब TEACHER को किस तरह से कूटबद्ध किया जाएगा?

1. 5147316
2. 5174136
3. 5143716
4. 5413716

- (1) 1
- (2) 2
- (3) 3
- (4) 4

1[Option ID=16497]
2[Option ID=16498]
3[Option ID=16499]
4[Option ID=16500]

Sl. No.126
QBID:7201026

"Today on average we can look forward to a longer life span than the generation before us. It is obvious that it has been possible only and only because of the millions of dedicated doctors who have ensured our good health". Identify the fallacy committee in the above argument from the following options ?

1. Hasty Generation
2. False Cause
3. Slippery slope
4. Appeal to unqualified authority

- (1) 1
- (2) 2
- (3) 3
- (4) 4

सामान्यतः आज हम अपने पूर्व पीढ़ी की अपेक्षा लंबी जीवन-अवधि की प्रत्याशा कर सकते हैं। यह स्पष्ट है कि ऐसा केवल लाखों समर्पित डाक्टरों के कारण संभव हुआ है। जिन्होंने हमारे अच्छे स्वास्थ्य को सुनिश्चित किया है। उपर्युक्त तर्क में निम्नलिखित विकल्पों से तर्क दोष की पहचान कीजिए।

1. अविचारित सामान्यीकरण
2. मिथ्याकरण
3. फिसलनयुक्त प्रवणता
4. अयोग्य प्राधिकार आग्रह

- (1) 1
- (2) 2
- (3) 3

(4) 4

1[Option ID=16501]
2[Option ID=16502]
3[Option ID=16503]
4[Option ID=16504]

Sl. No.127
QBID:7201027

If the statement 'All cricketers are rich persons' is given as true which of the following statements can be inferred to be false ?

- A. No cricketers are rich persons.
- B. Some cricketers are rich persons.
- C. Some cricketers are not rich persons.
- D. Some rich persons are cricketers.

Choose the correct answer from the options given below :

- 1. B and C Only
- 2. A and C Only
- 3. B and D Only
- 4. A, B and C Only

(1) 1

(2) 2

(3) 3

(4) 4

यदि कथन "सभी क्रिकेटर धनी व्यक्ति हैं।" सही है तो निम्नलिखित में से कौन-सा कथन गलत अनुमानित किया जा सकता है।

- A. कोई क्रिकेटर धनी व्यक्ति नहीं है।
- B. कुछ क्रिकेटर धनी व्यक्ति हैं।
- C. कुछ क्रिकेटर धनी व्यक्ति नहीं हैं।
- D. कुछ धनी व्यक्ति क्रिकेटर हैं।

नीचे दिए गए विकल्पों में से सही उत्तर का चयन कीजिए:

- 1. केवल B और C
- 2. केवल A और C
- 3. केवल B और D
- 4. केवल A, B और C

(1) 1

(2) 2

(3) 3

(4) 4

1[Option ID=16505]
2[Option ID=16506]
3[Option ID=16507]
4[Option ID=16508]

Sl. No.128
QBID:7201028

Which of the following propositions are so related that they cannot both be true, although they both may be false ?

- A. All football players are rich persons.
- B. No football players are rich persons.
- C. Some football players are rich persons.
- D. Some football players are not rich persons.

Choose the correct answer from the options given below :

- 1. A and B Only
- 2. A and D Only
- 3. C and D Only
- 4. B and C Only

(1) 1

(2) 2

(3) 3

(4) 4

निम्नलिखित में कौन-सी प्रतिज्ञप्तियाँ इस प्रकार से सह संबंधित हैं कि दोनों सही नहीं हो सकते हैं, यद्यपि वे दोनों गलत हो सकते हैं।

- A. सभी फुटबाल खिलाड़ी धनी व्यक्ति हैं।
- B. कोई फुटबाल खिलाड़ी धनी व्यक्ति नहीं हैं।
- C. कुछ फुटबाल खिलाड़ी धनी व्यक्ति हैं।
- D. कुछ फुटबाल खिलाड़ी धनी व्यक्ति नहीं हैं।

नीचे दिए गए विकल्पों में से सही उत्तर का चयन कीजिए:

- 1. केवल A और B
- 2. केवल A और D
- 3. केवल C और D
- 4. केवल B और C

- (1) 1
- (2) 2
- (3) 3
- (4) 4

1[Option ID=16509]
2[Option ID=16510]
3[Option ID=16511]
4[Option ID=16512]

Sl. No.129

QBID:7201029

Which of the following propositions are logically equivalent ?

- A. No dogs are aggressive animals.
- B. No aggressive animals are dogs.
- C. All dogs are non-aggressive.
- D. Some dogs are not aggressive animals.

Choose the correct answer from the options given below :

- 1. C and D Only
- 2. A and D Only
- 3. A, B and C Only
- 4. B and D Only

- (1) 1
- (2) 2
- (3) 3
- (4) 4

निम्नलिखित में कौन-सी प्रतिज्ञप्तियाँ तार्किक रूप से समतुल्य हैं।

- A. कोई भी कुत्ते आक्रामक जानवर नहीं हैं।
- B. कोई भी आक्रामक जानवर कुत्ते नहीं हैं।
- C. सभी कुत्ते गैर-आक्रामक हैं।
- D. कुछ कुत्ते आक्रामक जानवर नहीं हैं।

नीचे दिए गए विकल्पों में से सही उत्तर का चयन कीजिए:

- 1. केवल C और D
- 2. केवल A और D
- 3. केवल A, B और C
- 4. केवल B और D

- (1) 1
- (2) 2
- (3) 3
- (4) 4

1[Option ID=16513]
2[Option ID=16514]
3[Option ID=16515]
4[Option ID=16516]

Sl. No.130

QBID:7201030

Given below are two Statements :

Statement I : According to classical Indian school of Logic, namely ,Nyaya, we ascertain the relation of universal concomitance between x and y by perceiving that in all cases the presence of x is accompanied by presence of y, and not perceiving any instances to the contrary.

Statement II : Classical Indian materialists argue that universal relation between two events cannot be established, there being always a room for doubt about the unobserved cases.

In the light of the above statements, choose the correct answer from the options given below :

1. Both Statement I and Statement II are true.
2. Both statement I and Statement II are false.
3. Statement is true but Statement II is false.
4. Statement I is false but Statement II is true.

- (1) 1
(2) 2
(3) 3
(4) 4

नीचे दो कथन दिए गए हैं:

कथन I : शास्त्रीय भारतीय तर्कशास्त्र न्याय मत के अनुसार हम x और y के बीच सार्वभौम सहवर्तितता निश्चित करते हैं जहां सभी प्रकरणों में x की उपस्थिति के साथ y की उपस्थिति होती है, और इसके विपरीत कोई दृष्टांत नहीं है।

कथन II : शास्त्रीय भारतीय भौतिकवादी तर्क देते हैं कि किन्हीं दो परिघटनाओं के बीच सार्वभौमिक संबंध स्थापित नहीं किया जा सकता है क्योंकि अपेक्षित विषयों के बारे में सदैव संदेह की संभावना होती है।

उपरोक्त कथन के आलोक में नीचे दिए गए विकल्पों में से सही उत्तर का चयन कीजिए:

1. कथन I और II दोनों सत्य हैं ।
2. कथन I और II दोनों असत्य हैं ।
3. कथन I सत्य हैं, लेकिन कथन II असत्य है ।
4. कथन I असत्य है, लेकिन कथन II सत्य है ।

- (1) 1
(2) 2
(3) 3
(4) 4

1[Option ID=16517]
2[Option ID=16518]
3[Option ID=16519]
4[Option ID=16520]

Sl. No.131

QBID:7201031

Which of the following applications A-C are built on top of open-source digital platforms ?

- A. Aadhar
- B. Adobe Reader
- C. COWIN

Choose the correct answer from the options given below :

1. A, B and C
2. A and B Only
3. B and C Only
4. A and C Only

- (1) 1
(2) 2
(3) 3
(4) 4

निम्नलिखित अनुप्रयोगों A-C में से कौन-कौन से मुक्त स्रोत अंकीय प्लेटफॉर्म पर निर्मित किए गए हैं?

- A. आधार
- B. एडोब रीडर
- C. कोविन

नीचे दिए गए विकल्पों में से सही उत्तर का चयन कीजिए:

- 1. A, B और C
- 2. केवल A और B
- 3. केवल B और C
- 4. केवल A और C

- (1) 1
- (2) 2
- (3) 3
- (4) 4

1[Option ID=16521]
2[Option ID=16522]
3[Option ID=16523]
4[Option ID=16524]

Sl. No.132
QBID:7201032

Given below are two statements :

Statement I : IBM was the most valuable worldwide IT brand in 2022.

Statement II : TCS and Infosys were the second and the third most valuable Indian brands respectively in the IT services sector globally in 2022.

In the light of the above statements, choose the correct answer from the options given below :

- 1. Both Statement I and Statement II are true
- 2. Both Statement I and Statement II is false
- 3. Statement I is true but Statement II is false
- 4. Statement I false but Statement II is true

- (1) 1
- (2) 2
- (3) 3
- (4) 4

नीचे दो कथन दिए गए हैं:

कथन I : आईबीएम वर्ष 2022 में विश्व भर में सर्वाधिक मूल्यवान आईटी ब्रांड थी।

कथन II : वर्ष 2022 में आईटी सेवाओं के क्षेत्र में विश्व में टीसीएस और इन्फोसिस क्रमशः दूसरे और तीसरे सर्वाधिक मूल्यवान आईटी भारतीय ब्रांड थे।

उपरोक्त कथन के आलोक में, नीचे दिए गए विकल्पों में से सही उत्तर का चयन कीजिए:

- 1. कथन I और II दोनों सत्य हैं ।
- 2. कथन I और II दोनों असत्य हैं ।
- 3. कथन I सत्य है, लेकिन कथन II असत्य है ।
- 4. कथन I असत्य है, लेकिन कथन II सत्य है ।

- (1) 1
- (2) 2
- (3) 3
- (4) 4

1[Option ID=16525]
2[Option ID=16526]
3[Option ID=16527]
4[Option ID=16528]

Sl. No.133
QBID:7201033

Which of the following statements (A-C) are correct with reference to "Software as a Service (SaaS)" in cloud computing ?

- A. SaaS users can access their data from any Internet-Connected computer on mobile device.
- B. A web-based email service such as Outlook, Hotmail or Yahoo! Mail is a form of SaaS.
- C. SaaS buyers can customize the user interface to change the look and feel of the software, as well as modify specific areas, such as a data fields.

Choose the correct answer from the options given below :

- 1. A and B Only
- 2. A and C Only
- 3. B and C Only
- 4. A, B and C

- (1) 1
- (2) 2
- (3) 3
- (4) 4

क्लाउड कंप्यूटिंग में 'साफ्टवेयर एज़ ए सर्विस (सास)' के संदर्भ में निम्नलिखित कथनों में से कौन-कौन से कथन सही हैं?

- A. सास प्रयोक्ता इंटरनेट से जुड़े किसी भी कंप्यूटर अथवा मोबाईल उपकरण से अपने डेटा तक पहुंच सकते हैं।
- B. आउटलुक, हॉटमेल अथवा याहू मेल जैसी वेब आधारित ईमेल सेवा सास का एक रूप हैं।
- C. सास क्रेता साफ्टवेयर का रूप और अनुभूति परिवर्तित करने और डेटा क्षेत्रों जैसे विशिष्ट क्षेत्रों को रूपांतरित करने के लिये प्रयोक्ता अंतरापृष्ठ को अपनी आवश्यकतानुसार बना सकते हैं।

नीचे दिए गए विकल्पों में से सही उत्तर का चयन कीजिए:

- 1. केवल A और B
- 2. केवल A और C
- 3. केवल B और C
- 4. A, B और C

- (1) 1
- (2) 2
- (3) 3
- (4) 4

1[Option ID=16529]
2[Option ID=16530]
3[Option ID=16531]
4[Option ID=16532]

Sl. No.134
QBID:7201034

Which of the following communication technologies A-C are considered as short-range devices/technologies ?

- A. CCTV
- B. RFID
- C. WLAN

Choose the correct answer from the options given below :

- 1. A and B Only
- 2. A and C Only
- 3. B and C Only
- 4. A, B and C

- (1) 1
- (2) 2
- (3) 3
- (4) 4

निम्न संप्रेषण प्रौद्योगिकियों A-C में से किन्हें लघु रेंज उपकरण/प्रौद्योगिकी माना जाता है?

- A. सीसीटीवी
- B. आरएफआईडी
- C. डबल्युएलएन

नीचे दिए गए विकल्पों में से सही उत्तर का चयन कीजिए:

- 1. केवल A और B
- 2. केवल A और C
- 3. केवल B और C
- 4. A, B और C

- (1) 1
- (2) 2
- (3) 3
- (4) 4

1[Option ID=16533]
2[Option ID=16534]
3[Option ID=16535]
4[Option ID=16536]

Sl. No.135

QBID:7201035

In India, the term "Public Key Infrastructure" is used in the context of

- 1. Digital security infrastructure
- 2. Food security infrastructure
- 3. Health care and education infrastructure
- 4. Telecommunication and transportation infrastructure

- (1) 1
- (2) 2
- (3) 3
- (4) 4

भारत में 'सार्वजनिक महत्वपूर्ण अवसंरचना' (पब्लिक की इन्फ्रास्ट्रक्चर) निम्नलिखित में किसके संदर्भ में प्रयोग किया जाता है?

- 1. अंकीय सुरक्षा अवसंरचना
- 2. खाद्य सुरक्षा अवसंरचना
- 3. स्वास्थ्य देखभाल व शिक्षा अवसंरचना
- 4. दूर संचार और परिवहन अवसंरचना

- (1) 1
- (2) 2
- (3) 3
- (4) 4

1[Option ID=16537]
2[Option ID=16538]
3[Option ID=16539]
4[Option ID=16540]

Sl. No.136

QBID:7201036

What is the correct sequence of steps in Risk assessment related to environmental hazards ?

- A. Risk characterization
- B. Exposure assessment
- C. Hazard Identification
- D. Risk Management

Choose the correct answer from the options given below :

- 1. C, B, A, D
- 2. C, A, B, D
- 3. A, C, B, D
- 4. B, C, D, A

- (1) 1
- (2) 2
- (3) 3
- (4) 4

पर्यावरणीय खतरों से संबंधित जोखिम मूल्यांकन के निम्नलिखित कदमों का सही अनुक्रम क्या है?

- A. जोखिम विशेषीकरण
- B. उदभासन मूल्यांकन
- C. खतरों की पहचान
- D. जोखिम प्रबंधन

नीचे दिए गए विकल्पों में से सही उत्तर का चयन कीजिए:

1. C, B, A, D
2. C, A, B, D
3. A, C, B, D
4. B, C, D, A

- (1) 1
- (2) 2
- (3) 3
- (4) 4

1[Option ID=16541]
2[Option ID=16542]
3[Option ID=16543]
4[Option ID=16544]

Sl. No.137

QBID:7201037

National Solar Mission, one of the missions of National Action Plan on Climate Change (NAPCC) was launched in the year

1. 2009
2. 2010
3. 2011
4. 2012

- (1) 1
- (2) 2
- (3) 3
- (4) 4

जलवायु परिवर्तन संबंधी राष्ट्रीय कार्य योजना (एनएपीसीसी) के मिशनों में से एक राष्ट्रीय सौर मिशन को निम्न में से किस वर्ष आरंभ किया गया था?

1. 2009
2. 2010
3. 2011
4. 2012

- (1) 1
- (2) 2
- (3) 3
- (4) 4

1[Option ID=16545]
2[Option ID=16546]
3[Option ID=16547]
4[Option ID=16548]

Sl. No.138

QBID:7201038

Which one of the following has contributed maximum in sea level rise so far in the context of climate change ?

1. Melting of Antarctic Ice-sheets
2. Melting of Glaciers
3. Thermal expansion of oceanic waters
4. Melting of Greenland Ice sheets

- (1) 1
- (2) 2
- (3) 3
- (4) 4

जलवायु परिवर्तन के संदर्भ में समुद्र स्तर के ऊपर उठने में अभी तक निम्नलिखित में से किसका योगदान अधिकतम रहा है?

1. दक्षिण ध्रुवीय हिम चादर का पिघलना
2. हिम खण्डों का पिघलना
3. महासागरीय जल का तापीय प्रसार
4. ग्रीनलैण्ड की हिम चादरों का पिघलना

(1) 1

(2) 2

(3) 3

(4) 4

1[Option ID=16549]

2[Option ID=16550]

3[Option ID=16551]

4[Option ID=16552]

Sl. No.139

QBID:7201039

Out of different oxides of nitrogen which of the following are considered as Air Pollutants and known as NO_x ?

- A. NO (Nitric Oxide)
- B. NO₂ (Nitrogen dioxide)
- C. NO₃ (Nitrogen trioxide)
- D. N₂O (Nitrous oxide)

Choose the correct answer from the options given below :

1. A and B Only
2. B and C Only
3. C and D Only
4. A, B and D Only

(1) 1

(2) 2

(3) 3

(4) 4

नाइट्रोजन के विभिन्न आक्साइडों में से निम्न में से किन्हें वायु प्रदूषक माना जाता है और NO_x के रूप में जाना जाता है।

- A. NO (नाइट्रिक आक्साइड)
- B. NO₂ (नाइट्रोजन डाई आक्साइड)
- C. NO₃ (नाइट्रोजन ट्राई आक्साइड)
- D. N₂O (नाइट्रस आक्साइड)

नीचे दिए गए विकल्पों में से सही उत्तर का चयन कीजिए:

1. केवल A और B
2. केवल B और C
3. केवल C और D
4. केवल A, B और D

(1) 1

(2) 2

(3) 3

(4) 4

1[Option ID=16553]

2[Option ID=16554]

3[Option ID=16555]

4[Option ID=16556]

Sl. No.140

QBID:7201040

The advantages of biodiesel over conventional petro diesel are :

- A. Biodiesel produces significantly lesser CO₂ and SO₂.
- B. It is non-renewable
- C. It has higher octane number
- D. It can be used in any ratio with petro-diesel
- E. It has lower flash point.

Choose the most appropriate answer from the options given below :

- 1. A, B and C Only
- 2. B, C and D Only
- 3. A, C and D Only
- 4. C, D and E Only

(1) 1

(2) 2

(3) 3

(4) 4

पारंपरिक पेट्रोडीजल की अपेक्षा जैव-डीजल के निम्न में से क्या-क्या लाभ हैं?

- A. जैव-डीजल काफी कम CO₂ और SO₂ उत्पन्न करता है।
- B. यह गैर नवीकरणीय है।
- C. इसकी आक्टेन संख्या उच्चतर है।
- D. इसे पेट्रो डीजल के साथ किसी भी अनुपात में प्रयोग किया जा सकता है।
- E. इसका निम्न ज्वलनांक (फ्लैश प्वाइंट) है।

नीचे दिए गए विकल्पों में से सबसे उपयुक्त उत्तर का चयन कीजिए:

- 1. केवल A, B और C
- 2. केवल B, C और D
- 3. केवल A, C और D
- 4. केवल C, D और E

(1) 1

(2) 2

(3) 3

(4) 4

1[Option ID=16557]

2[Option ID=16558]

3[Option ID=16559]

4[Option ID=16560]

Sl. No.141

QBID:7201041

Which of the following names of technology platforms has been mentioned in NEP-2020 through which online training of teachers will be encouraged ?

- A. SWAYAM
- B. AYUSH
- C. PARAKH
- D. DIKSHA
- E. NIT

Choose the correct answer from the options given below :

- 1. B and C Only
- 2. A and D Only
- 3. A, C and D Only
- 4. A, B and E Only

(1) 1

(2) 2

(3) 3

(4) 4

नई शिक्षा नीति में निम्नलिखित कौन-से प्रौद्योगिकीय मंचों के नाम का उल्लेख किया गया है जिनके माध्यम से शिक्षकों के ऑनलाइन प्रशिक्षण को प्रोत्साहित किया जाएगा?

- A. स्वयं
- B. आयुष
- C. परख
- D. दीक्षा
- E. एनआईटी

नीचे दिए गए विकल्पों में से सही उत्तर का चयन कीजिए:

- 1. केवल B और C
- 2. केवल A और D
- 3. केवल A, C और D
- 4. केवल A, B और E

(1) 1

(2) 2

(3) 3

(4) 4

1[Option ID=16561]

2[Option ID=16562]

3[Option ID=16563]

4[Option ID=16564]

Sl. No.142

QBID:7201042

In 1904, Curzon was the moving force behind the enactment of the Indian University Act which intended to introduce radical changes into which of the following universities :

- A. Calcutta
- B. Bombay
- C. Madras
- D. Punjab (in Lahore)
- E. Allahabad

Choose the most appropriate answer from the options given below :

- 1. A, B and C Only
- 2. C, D and E Only
- 3. A, C, D and E Only
- 4. A, B, C, D and E

(1) 1

(2) 2

(3) 3

(4) 4

वर्ष 1904 में भारतीय विश्वविद्यालय अधिनियम के अधिनियमन के लिए प्रेरणास्रोत कर्जन था जिसका उद्देश्य निम्नलिखित किन विश्वविद्यालयों में आमूल-चूल परिवर्तनों की शुरुआत करना था?

- A. कलकत्ता
- B. बॉम्बे
- C. मद्रास
- D. पंजाब (लाहौर में)
- E. इलाहाबाद

नीचे दिए गए विकल्पों में से सबसे उपयुक्त उत्तर का चयन कीजिए:

- 1. केवल A, B और C
- 2. केवल C, D और E
- 3. केवल A, C, D और E
- 4. A, B, C, D और E

(1) 1

(2) 2

(3) 3

(4) 4

1[Option ID=16565]

2[Option ID=16566]

3[Option ID=16567]

4[Option ID=16568]

Sl. No.143
QBID:7201043

Given below are two statements :

Statement I : UGC is a central government organization established by an Act of Parliament in 1956.

Statement II : UGC has established five regional centres in order to ensure proper functioning.

In the light of the above statements, choose the most appropriate answer from the options given below :

1. Both Statement I and Statement II are correct.
2. Both Statement I and Statement II are incorrect.
3. Statement I is correct but Statement II is incorrect.
4. Statement I is incorrect but statement II is correct.

(1) 1

(2) 2

(3) 3

(4) 4

नीचे दो कथन दिए गए हैं:

कथन I : यूजीसी, 1956 में संसद में अधिनियम द्वारा स्थापित किया गया एक केंद्रीय सरकारी संगठन है।

कथन II : यूजीसी ने समुचित संचालन को सुनिश्चित करने के क्रम में पाँच क्षेत्रीय केन्द्रों को स्थापित किया है।

उपरोक्त कथन के आलोक में, नीचे दिए गए विकल्पों में से सबसे उपयुक्त उत्तर का चयन कीजिए:

1. कथन I और II दोनों सही हैं।
2. कथन I और II दोनों गलत हैं।
3. कथन I सही है, लेकिन कथन II गलत है।
4. कथन I गलत है, लेकिन कथन II सही है।

(1) 1

(2) 2

(3) 3

(4) 4

1[Option ID=16569]
2[Option ID=16570]
3[Option ID=16571]
4[Option ID=16572]

Sl. No.144
QBID:7201044

Ministry of Environment and Forests, Govt. of India with the help of centre for Environment Education (CEE), _____ launched a National Environmental Awareness campaign (NEAC) in 1986 to increase awareness about the environment in various target groups in the country.

1. Chennai
2. Ahmedabad
3. Delhi
4. Hyderabad

(1) 1

(2) 2

(3) 3

(4) 4

भारत सरकार के पर्यावरण एवं वन मंत्रालय ने पर्यावरण शिक्षा हेतु केन्द्र (सीसीई) _____ की सहायता से देश में विविध लक्षित समूहों के मध्य पर्यावरण के बारे में जागरुकता में वृद्धि हेतु वर्ष 1986 में राष्ट्रीय पर्यावरणीय जागरुकता अभियान की (एनईएसी) का शुरुआत की।

1. चेन्नई
2. अहमदाबाद
3. दिल्ली
4. हैदराबाद

(1) 1

(2) 2

(3) 3

(4) 4

1[Option ID=16573]
2[Option ID=16574]
3[Option ID=16575]
4[Option ID=16576]

Sl. No.145
QBID:7201045

Which of the following is an important archaeological site declared by UNESCO as a world Heritage site in 1980 ?

1. Takshshila
2. Mithila
3. Vallabhi
4. Nalanda

(1) 1

(2) 2

(3) 3

(4) 4

निम्नलिखित में से कौन एक महत्त्वपूर्ण पुरातात्विक स्थल है जिसको यूनेस्को द्वारा वर्ष 1980 में विश्व धरोहर स्थल घोषित किया गया?

1. तक्षशिला
2. मिथिला
3. वल्लभी
4. नालन्दा

(1) 1

(2) 2

(3) 3

(4) 4

1[Option ID=16577]
2[Option ID=16578]
3[Option ID=16579]
4[Option ID=16580]

Sl. No.146
QBID:7201046



Read the following passage and answer the question.

Gordon Childe used the term urban revolution to describe the change in society marked by the emergence of the first cities some 5500 years ago. The areas that first witnessed this profound social economic change were :

- Mesopotamia - the valleys of the Tigris and Euphrates rivers
- The lower Nile valley.
- The plains of the river Indus.

Later, urban civilisations developed around the Mediterranean, in the Yellow River valley of China, in South East Asia and in the Americas. Thus the first cities mainly emerged in areas that are now considered to be LICs.

The catalyst for this period of rapid change was the Neolithic Revolution, which occurred about 8000 BCE. This was when sedentary agriculture, based on the domestication of animals and cereal farming, steadily replaced a nomadic way of life. As farming advanced, irrigation techniques were developed. Other major advances that followed were the ox-drawn plough, the wheeled cart, the sailing boat and metallurgy. However, arguably the most important development was the invention of writing in about 4000 BCE, for it was in the millennium after this that some of the villages on the alluvial plains between the Tigris and Euphrates rivers increased in size and changed in function so as to merit the classification of urban.

Considerably later than the first cities, trading centres began to develop, The Minoan civilisation cities of Knossos and Phaistos, which flourished in Crete during the first half of the second millennium BCE, derived their wealth from maritime trade. Next it was the turn of the Greeks and then the Romans to develop urban and trading systems on a scale larger than ever before.

निम्नलिखित गद्यांश को पढ़िए और प्रश्न का उत्तर दीजिए।

गोर्डन चाइल्ड ने शहरी क्रांति पद का प्रयोग लगभग 5500 वर्ष पूर्व प्रथम शहरों के आविर्भाव से चिन्हित समाज में परिवर्तनों के वर्णन के लिए किया था। जिन क्षेत्रों में सर्वप्रथम ये गहरे सामाजिक-आर्थिक परिवर्तन हुए, वे थे :

- मेसोपोटामिया - दजला और फुरात नदियों की घाटियां
- निम्न नील घाटी
- सिंधु नदी के मैदानी क्षेत्र

बाद में भूमध्य सागरीय क्षेत्र के इर्द-गिर्द, चीन की येलो नदी घाटी, दक्षिण पूर्व एशिया और अमरीका में शहरी सभ्यताएं विकसित हुईं। इस प्रकार पहले शहरों का मुख्यतः उन क्षेत्रों में आविर्भाव हुआ जिन्हें आज एलआईसी माना जाता है।

द्रुतगामी परिवर्तनों की इस अवधि के लिए उत्प्रेरक नवपाषाण कालीन क्रांति थी जो लगभग 8,000 ई. पू. हुई। यह तब हुआ जब पशुओं के पालतू बनाए जाने और खाद्यान्न कृषि पर आधारित स्थानवृद्धि कृषिने स्थिर गति से यायावरी जीवनशैली को प्रतिस्थापित कर दिया। कृषि में प्रगति के साथ सिंचाई प्रविधियां विकसित हुईं। इसके बाद अन्य प्रमुख प्रगति थी बैलों से खींचा जाने वाला हल, पहिँएवाली गाड़ी, पाल नौका और धातु-विज्ञान। तथापि लगभग 4,000 ई. पू. हुआ लेखनी का अविष्कार संभवतया सर्वाधिक महत्वपूर्ण अविष्कार था क्योंकि इसी के बाद की सहस्राब्दी में दजला और फुरात नदियों के बीज के जलोढ मैदानी क्षेत्र में कुछ गाँवों के आकार में वृद्धि हुई और प्रकार्य में परिवर्तन हुए जिनके कारण शहर में वर्गीकरण योग्य बने।

प्रथम शहरों के काफी बाद में व्यापारिक केन्द्र विकसित होने आरंभ हुए। द्वितीय सहस्राब्दी ई.पू. के प्रथमार्द्ध के दौरान क्रीट में समुन्नत मिनोयाई सभ्यता के क्नोस और फेस्तास शहरों की संपदा समुद्री व्यापार से आई थी। पूर्व की तुलना में कहीं बड़े पैमाने पर शहरी और व्यापारिक प्रणालियों के विकास की अगली बारी यूनानी और रोमन लोगों की थी।

Based on the information given in the passage, arrange the following events in correct chronological order.

- A. Emergence of the first cities
- B. Neolithic Revolution
- C. Invention of writing
- D. The Minoan civilisation cities which flourished in Crete

Choose the correct answer from the options given below :

1. A, B, C, D
2. B, C, D, A
3. C, A, B, D
4. B, A, C, D

- (1) 1
- (2) 2
- (3) 3
- (4) 4

गद्यांश में प्रदत्त सूचना के आधार पर निम्न घटनाओं को सही कालक्रमानुसार व्यवस्थित कीजिए:

- प्रथम शहरों का आविर्भाव
- नवपाषाण कालीन क्रांति
- लेखन का आविष्कार
- क्रीट में समुन्नत मिनोयाई सभ्यता के शहर

नीचे दिए गए विकल्पों में सही उत्तर का चयन कीजिए:

- A, B, C, D
- B, C, D, A
- C, A, B, D
- B, A, C, D

- 1
- 2
- 3
- 4

1[Option ID=16581]
2[Option ID=16582]
3[Option ID=16583]
4[Option ID=16584]

Sl. No.147

QBID:7201047

Read the following passage and answer the question.

Gordon Childe used the term urban revolution to describe the change in society marked by the emergence of the first cities some 5500 years ago. The areas that first witnessed this profound social economic change were :

- Mesopotamia - the valleys of the Tigris and Euphrates rivers
- The lower Nile valley.
- The plains of the river Indus.

Later, urban civilisations developed around the Mediterranean, in the Yellow River valley of China, in South East Asia and in the Americas. Thus the first cities mainly emerged in areas that are now considered to be LICs.

The catalyst for this period of rapid change was the Neolithic Revolution, which occurred about 8000 BCE. This was when sedentary agriculture, based on the domestication of animals and cereal farming, steadily replaced a nomadic way of life. As farming advanced, irrigation techniques were developed. Other major advances that followed were the ox-drawn plough, the wheeled cart, the sailing boat and metallurgy. However, arguably the most important development was the invention of writing in about 4000 BCE, for it was in the millennium after this that some of the villages on the alluvial plains between the Tigris and Euphrates rivers increased in size and changed in function so as to merit the classification of urban.

Considerably later than the first cities, trading centres began to develop. The Minoan civilisation cities of Knossos and Phaistos, which flourished in Crete during the first half of the second millennium BCE, derived their wealth from maritime trade. Next it was the turn of the Greeks and then the Romans to develop urban and trading systems on a scale larger than ever before.

निम्नलिखित गद्यांश को पढ़िए और प्रश्न का उत्तर दीजिए।

गोर्डन चाइल्ड ने शहरी क्रांति पद का प्रयोग लगभग 5500 वर्ष पूर्व प्रथम शहरों के आविर्भाव से चिह्नित समाज में परिवर्तनों के वर्णन के लिए किया था। जिन क्षेत्रों में सर्वप्रथम ये गहरे सामाजिक-आर्थिक परिवर्तन हुए, वे थे :

- मेसोपोटामिया - दजला और फुरात नदियों की घाटियां
- निम्न नील घाटी
- सिंधु नदी के मैदानी क्षेत्र

बाद में भूमध्य सागरीय क्षेत्र के इर्द-गिर्द, चीन की येलो नदी घाटी, दक्षिण पूर्व एशिया और अमरीका में शहरी सभ्यताएं विकसित हुईं। इस प्रकार पहले शहरों का मुखरतः उन क्षेत्रों में आविर्भाव हुआ जिन्हें आज एलआईसी माना जाता है।

द्रुतगामी परिवर्तनों की इस अवधि के लिए उत्प्रेरक नवपाषाण कालीन क्रांति थी जो लगभग 8,000 ई. पू. हुई। यह तब हुआ जब पशुओं के पालतू बनाए जाने और खाद्यान्न कृषि पर आधारित स्थानवृद्धि कृषिने स्थिर गति से यायावरी जीवनशैली को प्रतिस्थापित कर दिया। कृषि में प्रगति के साथ सिंचाई प्रविधियां विकसित हुईं। इसके बाद अन्य प्रमुख प्रगति थी बैलों से खींचा जाने वाला हल, पहिएवाली गाड़ी, पाल नौका और धातु-विज्ञान। तथापि लगभग 4,000 ई. पू. हुआ लेखनी का आविष्कार संभवतया सर्वाधिक महत्वपूर्ण आविष्कार था क्योंकि इसी के बाद की सहस्राब्दी में दजला और फुरात नदियों के बीज के जलोढ मैदानी क्षेत्र में कुछ गाँवों के आकार में वृद्धि हुई और प्रकार्य में परिवर्तन हुए जिनके कारण शहर में वर्गीकरण योग्य बने।

प्रथम शहरों के काफी बाद में व्यापारिक केन्द्र विकसित होने आरंभ हुए। द्वितीय सहस्राब्दी ई.पू. के प्रथमार्द्ध के दौरान क्रीट में समुन्नत मिनोयाई सभ्यता के क्नोस और फैस्तास शहरों की संपदा समुद्री व्यापार से आई थी। पूर्व की तुलना में कहीं बड़े पैमाने पर शहरी और व्यापारिक प्रणालियों के विकास की अगली बारी यूनानी और रोमन लोगों की थी।

The term LICs in the passage most likely represents

1. Lower Indo-China
2. Later Indus and China
3. Low Income Countries
4. Laos India and China

(1) 1

(2) 2

(3) 3

(4) 4

गद्यांश में प्रयुक्त पद एलआईसी का निम्न में से सर्वाधिक संभवतया किसको प्रदर्शित करता है ?

1. लोअर इंडो-चाइना
2. लेटर इंडस एंड चाइना
3. लो इनकम कंट्रीज
4. लाओस इंडिया एंड चाइना

(1) 1

(2) 2

(3) 3

(4) 4

1[Option ID=16585]

2[Option ID=16586]

3[Option ID=16587]

4[Option ID=16588]

Sl. No.148

QBID:7201048



Read the following passage and answer the question.

Gordon Childe used the term urban revolution to describe the change in society marked by the emergence of the first cities some 5500 years ago. The areas that first witnessed this profound social economic change were :

- Mesopotamia - the valleys of the Tigris and Euphrates rivers
- The lower Nile valley.
- The plains of the river Indus.

Later, urban civilisations developed around the Mediterranean, in the Yellow River valley of China, in South East Asia and in the Americas. Thus the first cities mainly emerged in areas that are now considered to be LICs.

The catalyst for this period of rapid change was the Neolithic Revolution, which occurred about 8000 BCE. This was when sedentary agriculture, based on the domestication of animals and cereal farming, steadily replaced a nomadic way of life. As farming advanced, irrigation techniques were developed. Other major advances that followed were the ox-drawn plough, the wheeled cart, the sailing boat and metallurgy. However, arguably the most important development was the invention of writing in about 4000 BCE, for it was in the millennium after this that some of the villages on the alluvial plains between the Tigris and Euphrates rivers increased in size and changed in function so as to merit the classification of urban.

Considerably later than the first cities, trading centres began to develop, The Minoan civilisation cities of Knossos and Phaistos, which flourished in Crete during the first half of the second millennium BCE, derived their wealth from maritime trade. Next it was the turn of the Greeks and then the Romans to develop urban and trading systems on a scale larger than ever before.

निम्नलिखित गद्यांश को पढ़िए और प्रश्न का उत्तर दीजिए।

गोर्डन चाइल्ड ने शहरी क्रांति पद का प्रयोग लगभग 5500 वर्ष पूर्व प्रथम शहरों के आविर्भाव से चिन्हित समाज में परिवर्तनों के वर्णन के लिए किया था। जिन क्षेत्रों में सर्वप्रथम ये गहरे सामाजिक-आर्थिक परिवर्तन हुए, वे थे :

- मेसोपोटामिया - दजला और फुरात नदियों की घाटियां
- निम्न नील घाटी
- सिंधु नदी के मैदानी क्षेत्र

बाद में भूमध्य सागरीय क्षेत्र के इर्द-गिर्द, चीन की येलो नदी घाटी, दक्षिण पूर्व एशिया और अमरीका में शहरी सभ्यताएं विकसित हुईं। इस प्रकार पहले शहरों का मुख्यतः उन क्षेत्रों में आविर्भाव हुआ जिन्हें आज एलआईसी माना जाता है।

द्रुतगामी परिवर्तनों की इस अवधि के लिए उत्प्रेरक नवपाषाण कालीन क्रांति थी जो लगभग 8,000 ई. पू. हुई। यह तब हुआ जब पशुओं के पालतू बनाए जाने और खाद्यान्न कृषि पर आधारित स्थानवृद्धि कृषिने स्थिर गति से यायावरी जीवनशैली को प्रतिस्थापित कर दिया। कृषि में प्रगति के साथ सिंचाई प्रविधियां विकसित हुईं। इसके बाद अन्य प्रमुख प्रगति थी बैलों से खींचा जाने वाला हल, पहिएवाली गाड़ी, पाल नौका और धातु-विज्ञान। तथापि लगभग 4,000 ई. पू. हुआ लेखनी का आविष्कार संभवतया सर्वाधिक महत्वपूर्ण आविष्कार था क्योंकि इसी के बाद की सहस्राब्दी में दजला और फुरात नदियों के बीच के जलोढ मैदानी क्षेत्र में कुछ गाँवों के आकार में वृद्धि हुई और प्रकार्य में परिवर्तन हुए जिनके कारण शहर में वर्गीकरण योग्य बने।

प्रथम शहरों के काफी बाद में व्यापारिक केन्द्र विकसित होने आरंभ हुए। द्वितीय सहस्राब्दी ई.पू. के प्रथमार्द्ध के दौरान क्रीट में समुन्नत मिनोयाई सभ्यता के क्नोस और फेस्तास शहरों की संपदा समुद्री व्यापार से आई थी। पूर्व की तुलना में कहीं बड़े पैमाने पर शहरी और व्यापारिक प्रणालियों के विकास की अगली बारी यूनानी और रोमन लोगों की थी।

Which major development led to the transformation of villages in the plains between Euphrates and Tigris, into urban centres ?

1. The Emergence of wheeled cart
2. Neolithic Revolution
3. Metallurgy
4. Invention of Writing

- (1) 1
(2) 2
(3) 3
(4) 4

निम्नलिखित में से किस प्रमुख परिघटना के चलते फुरात और दजला के बीच के मैदानी क्षेत्रों के गाँवों का शहरी केन्द्रों में रूपांतरण हुआ?

1. पहिएदार गाड़ी का आविर्भाव
2. नवपाषाण कालीन क्रांति
3. धातु-विज्ञान
4. लेखन का आविष्कार

- (1) 1
(2) 2
(3) 3
(4) 4

- 1[Option ID=16589]
2[Option ID=16590]
3[Option ID=16591]
4[Option ID=16592]

Sl. No.149

QBID:7201049

Read the following passage and answer the question.

Gordon Childe used the term urban revolution to describe the change in society marked by the emergence of the first cities some 5500 years ago. The areas that first witnessed this profound social economic change were :

- Mesopotamia - the valleys of the Tigris and Euphrates rivers
- The lower Nile valley.
- The plains of the river Indus.

Later, urban civilisations developed around the Mediterranean, in the Yellow River valley of China, in South East Asia and in the Americas. Thus the first cities mainly emerged in areas that are now considered to be LICs.

The catalyst for this period of rapid change was the Neolithic Revolution, which occurred about 8000 BCE. This was when sedentary agriculture, based on the domestication of animals and cereal farming, steadily replaced a nomadic way of life. As farming advanced, irrigation techniques were developed. Other major advances that followed were the ox-drawn plough, the wheeled cart, the sailing boat and metallurgy. However, arguably the most important development was the invention of writing in about 4000 BCE, for it was in the millennium after this that some of the villages on the alluvial plains between the Tigris and Euphrates rivers increased in size and changed in function so as to merit the classification of urban.

Considerably later than the first cities, trading centres began to develop, The Minoan civilisation cities of Knossos and Phaistos, which flourished in Crete during the first half of the second millennium BCE, derived their wealth from maritime trade. Next it was the turn of the Greeks and then the Romans to develop urban and trading systems on a scale larger than ever before.

निम्नलिखित गद्यांश को पढ़िए और प्रश्न का उत्तर दीजिए।

गोर्डन चाइल्ड ने शहरी क्रांति पद का प्रयोग लगभग 5500 वर्ष पूर्व प्रथम शहरों के आविर्भाव से चिन्हित समाज में परिवर्तनों के वर्णन के लिए किया था। जिन क्षेत्रों में सर्वप्रथम ये गहरे सामाजिक-आर्थिक परिवर्तन हुए, वे थे :

- मेसोपोटामिया - दजला और फुरात नदियों की घाटियां
- निम्न नील घाटी
- सिंधु नदी के मैदानी क्षेत्र

बाद में भूमध्य सागरीय क्षेत्र के इर्द-गिर्द, चीन की येलो नदी घाटी, दक्षिण पूर्व एशिया और अमरीका में शहरी सभ्यताएं विकसित हुईं। इस प्रकार पहले शहरों का मुख्यतः उन क्षेत्रों में आविर्भाव हुआ जिन्हें आज एलआईसी माना जाता है।

द्रुतगामी परिवर्तनों की इस अवधि के लिए उत्प्रेरक नवपाषाण कालीन क्रांति थी जो लगभग 8,000 ई. पू. हुई। यह तब हुआ जब पशुओं के पालतू बनाए जाने और खाद्यान्न कृषि पर आधारित स्थानवृद्धि कृषिने स्थिर गति से यायावरी जीवनशैली को प्रतिस्थापित कर दिया। कृषि में प्रगति के साथ सिंचाई प्रविधियां विकसित हुईं। इसके बाद अन्य प्रमुख प्रगति थी बैलों से खींचा जाने वाला हल, पहिएवाली गाड़ी, पाल नौका और धातु-विज्ञान। तथापि लगभग 4,000 ई.पू. हुआ लेखनी का अविष्कार संभवतया सर्वाधिक महत्वपूर्ण अविष्कार था क्योंकि इसी के बाद की सहस्राब्दी में दजला और फुरात नदियों के बीच के जलोढ मैदानी क्षेत्र में कुछ गाँवों के आकार में वृद्धि हुई और प्रकार्य में परिवर्तन हुए जिनके कारण शहर में वर्गीकरण योग्य बने।

प्रथम शहरों के काफी बाद में व्यापारिक केन्द्र विकसित होने आरंभ हुए। द्वितीय सहस्राब्दी ई.पू. के प्रथमार्द्ध के दौरान क्रीट में समुन्नत मिनोयाई सभ्यता के क्नोस और फेस्तास शहरों की संपदा समुद्री व्यापार से आई थी। पूर्व की तुलना में कहीं बड़े पैमाने पर शहरी और व्यापारिक प्रणालियों के विकास की अगली बारी यूनानी और रोमन लोगों की थी।

Arrange the following places where urban centres developed, in correct chronological order.

- A. Greece
- B. Crete
- C. Rome
- D. The plains of river Indus

Choose the correct answer from the options given below :

1. D, B, A, C
2. D, C, B, A
3. A, D, B, C
4. A, D, C, B

- (1) 1
(2) 2
(3) 3
(4) 4

निम्नलिखित स्थानों को जहां शहरी केन्द्र विकसित हुए, सही कालक्रमानुसार व्यवस्थित कीजिए:

- यूनान
- क्रीट
- रोम
- सिंधु नदी के मैदानी क्षेत्र

नीचे दिए गए विकल्पों में से सही उत्तर का चयन कीजिए:

- D, B, A, C
- D, C, B, A
- A, D, B, C
- A, D, C, B

- 1
- 2
- 3
- 4

1[Option ID=16593]
2[Option ID=16594]
3[Option ID=16595]
4[Option ID=16596]

Sl. No.150

QBID:7201050

Read the following passage and answer the question.

Gordon Childe used the term urban revolution to describe the change in society marked by the emergence of the first cities some 5500 years ago. The areas that first witnessed this profound social economic change were :

- Mesopotamia - the valleys of the Tigris and Euphrates rivers
- The lower Nile valley.
- The plains of the river Indus.

Later, urban civilisations developed around the Mediterranean, in the Yellow River valley of China, in South East Asia and in the Americas. Thus the first cities mainly emerged in areas that are now considered to be LICs.

The catalyst for this period of rapid change was the Neolithic Revolution, which occurred about 8000 BCE. This was when sedentary agriculture, based on the domestication of animals and cereal farming, steadily replaced a nomadic way of life. As farming advanced, irrigation techniques were developed. Other major advances that followed were the ox-drawn plough, the wheeled cart, the sailing boat and metallurgy. However, arguably the most important development was the invention of writing in about 4000 BCE, for it was in the millennium after this that some of the villages on the alluvial plains between the Tigris and Euphrates rivers increased in size and changed in function so as to merit the classification of urban.

Considerably later than the first cities, trading centres began to develop. The Minoan civilisation cities of Knossos and Phaistos, which flourished in Crete during the first half of the second millennium BCE, derived their wealth from maritime trade. Next it was the turn of the Greeks and then the Romans to develop urban and trading systems on a scale larger than ever before.

निम्नलिखित गद्यांश को पढ़िए और प्रश्न का उत्तर दीजिए।

गोर्डन चाइल्ड ने शहरी क्रांति पद का प्रयोग लगभग 5500 वर्ष पूर्व प्रथम शहरों के आविर्भाव से चिन्हित समाज में परिवर्तनों के वर्णन के लिए किया था। जिन क्षेत्रों में सर्वप्रथम ये गहरे सामाजिक-आर्थिक परिवर्तन हुए, वे थे :

- मेसोपोटामिया - दजला और फुरात नदियों की घाटियां
- निम्न नील घाटी
- सिंधु नदी के मैदानी क्षेत्र

बाद में भूमध्य सागरीय क्षेत्र के इर्द-गिर्द, चीन की येलो नदी घाटी, दक्षिण पूर्व एशिया और अमरीका में शहरी सभ्यताएं विकसित हुईं। इस प्रकार पहले शहरों का मुखरतः उन क्षेत्रों में आविर्भाव हुआ जिन्हें आज एलआईसी माना जाता है।

द्रुतगामी परिवर्तनों की इस अवधि के लिए उत्प्रेरक नवपाषाण कालीन क्रांति थी जो लगभग 8,000 ई. पू. हुई। यह तब हुआ जब पशुओं के पालतू बनाए जाने और खाद्यान्न कृषि पर आधारित स्थानवृद्धि कृषिने स्थिर गति से यायावरी जीवनशैली को प्रतिस्थापित कर दिया। कृषि में प्रगति के साथ सिंचाई प्रविधियां विकसित हुईं। इसके बाद अन्य प्रमुख प्रगति थी बैलों से खींचा जाने वाला हल, पहिँएवाली गाड़ी, पाल नौका और धातु-विज्ञान। तथापि लगभग 4,000 ई. पू. हुआ लेखनी का अविष्कार संभवतया सर्वाधिक महत्वपूर्ण अविष्कार था क्योंकि इसी के बाद की सहस्राब्दी में दजला और फुरात नदियों के बीज के जलोढ मैदानी क्षेत्र में कुछ गाँवों के आकार में वृद्धि हुई और प्रकार्य में परिवर्तन हुए जिनके कारण शहर में वर्गीकरण योग्य बने।

प्रथम शहरों के काफी बाद में व्यापारिक केन्द्र विकसित होने आरंभ हुए। द्वितीय सहस्राब्दी ई.पू. के प्रथमार्द्ध के दौरान क्रीट में समुन्नत मिनोयाई सभ्यता के क्नोस और फैस्तास शहरों की संपदा समुद्री व्यापार से आई थी। पूर्व की तुलना में कहीं बड़े पैमाने पर शहरी और व्यापारिक प्रणालियों के विकास की अगली बारी यूनानी और रोमन लोगों की थी।

Given below are two statements :

Statement I : Urban centres in China developed before they developed in the plains of Indus river.

Statement II : Trading centres developed much later than the first cities.

In the light of the above statements, choose the correct answer from the options given below :

1. Both Statement I and Statement II are true
2. Both Statement I and Statement II are false
3. Statement I is true but Statement II is false
4. Statement I is false but Statement II is true

(1) 1

(2) 2

(3) 3

(4) 4

नीचे दो कथन दिए गए हैं:

कथन I : चीन के शहरी केन्द्र सिंधु नदी के मैदानी क्षेत्रों के शहरी केन्द्रों से बहुत पहले विकसित हुए।

कथन II : व्यापारिक केन्द्र प्रथम शहरों की अपेक्षा बहुत बाद में विकसित हुए।

उपरोक्त कथन के आलोक में, नीचे दिए गए विकल्पों में से सही उत्तर का चयन कीजिए:

1. कथन I और II दोनों सत्य हैं ।
2. कथन I और II दोनों असत्य हैं ।
3. कथन I सत्य है, लेकिन कथन II असत्य है ।
4. कथन I असत्य है, लेकिन कथन II सत्य है ।

(1) 1

(2) 2

(3) 3

(4) 4

- 1[Option ID=16597]
2[Option ID=16598]
3[Option ID=16599]
4[Option ID=16600]

