

## PREVIEW QUESTION BANK(Dual)

Module Name : Commerce  
Exam Date : 13-Jun-2023 Batch : 15:00-18:00

Sr. No.	Client Question ID	Question Body and Alternatives	Marks	Negativ Marks																																				
Objective Question																																								
1	908501	<p>The following table shows the percentage distribution of five different Models (A-E) of Mobile Phones produced by a company during the years 2021 and 2022. Total number of Mobile Phones produced by the company in 2021 and 2022 is 4,50,000 and 5,20,000, respectively. Based on the data in the table, answer the questions 1-5</p> <p>Year-wise Percentage (%) Distribution of Model of Mobile Phones.</p> <table border="1"> <thead> <tr> <th>Model/Year</th> <th>A</th> <th>B</th> <th>C</th> <th>D</th> <th>E</th> </tr> </thead> <tbody> <tr> <td>2021</td> <td>15%</td> <td>25%</td> <td>30%</td> <td>10%</td> <td>20%</td> </tr> <tr> <td>2022</td> <td>10%</td> <td>30%</td> <td>25%</td> <td>25%</td> <td>10%</td> </tr> </tbody> </table> <p>What is the difference between the number of Model-C Mobile phones produced by the company in the years 2021 and 2022 ?</p> <ol style="list-style-type: none"> <li>5000</li> <li>7500</li> <li>10000</li> <li>2500</li> </ol> <p>नीचे दी गई तालिका में एक कंपनी द्वारा वर्ष 2021 और वर्ष 2022 के दौरान उत्पादित मोबाइल फोन के पाँच विभिन्न मॉडलों (A-E) का प्रतिशत वितरण दर्शाया गया है। कंपनी द्वारा वर्ष 2021 और 2022 में उत्पादित मोबाइल फोन की कुल संख्या क्रमशः 4,50,000 और 5,20,000 है। तालिका में दिए गए आंकड़ों के आधार पर प्रश्न संख्या 1 से 5 के उत्तर दे :</p> <p>मोबाइल फोन के मॉडलों का वर्ष-वार प्रतिशत (%) वितरण</p> <table border="1"> <thead> <tr> <th>मॉडल/ वर्ष</th> <th>A</th> <th>B</th> <th>C</th> <th>D</th> <th>E</th> </tr> </thead> <tbody> <tr> <td>2021</td> <td>15%</td> <td>25%</td> <td>30%</td> <td>10%</td> <td>20%</td> </tr> <tr> <td>2022</td> <td>10%</td> <td>30%</td> <td>25%</td> <td>25%</td> <td>10%</td> </tr> </tbody> </table> <p>वर्ष 2021 और 2022 में कंपनी द्वारा उत्पादित मॉडल-C के मोबाइल फोन की संख्या के बीच कितना अंतर है?</p> <ol style="list-style-type: none"> <li>5000</li> <li>7500</li> <li>10000</li> <li>2500</li> </ol> <p>A1 : 1</p> <p>A2 : 2</p> <p>A3 : 3</p>	Model/Year	A	B	C	D	E	2021	15%	25%	30%	10%	20%	2022	10%	30%	25%	25%	10%	मॉडल/ वर्ष	A	B	C	D	E	2021	15%	25%	30%	10%	20%	2022	10%	30%	25%	25%	10%		
Model/Year	A	B	C	D	E																																			
2021	15%	25%	30%	10%	20%																																			
2022	10%	30%	25%	25%	10%																																			
मॉडल/ वर्ष	A	B	C	D	E																																			
2021	15%	25%	30%	10%	20%																																			
2022	10%	30%	25%	25%	10%																																			

3  
A4 4  
:  
4

## Objective Question

2 908502 The following table shows the percentage distribution of five different Models (A-E) of Mobile Phones produced by a company during the years 2021 and 2022. Total number of Mobile Phones produced by the company in 2021 and 2022 is 4,50,000 and 5,20,000, respectively. Based on the data in the table, answer the questions 1-5

Year-wise Percentage (%) Distribution of Model of Mobile Phones.

Model/Year	A	B	C	D	E
2021	15%	25%	30%	10%	20%
2022	10%	30%	25%	25%	10%

If 85% of the number of Model-E Mobile phones produced by the company during 2021 and 2022 were sold, then how many Model-E Mobile phones were left unsold by the company?

1. 142800
2. 21300
3. 29100
4. 25200

नीचे दी गई तालिका में एक कंपनी द्वारा वर्ष 2021 और वर्ष 2022 के दौरान उत्पादित मोबाइल फोन के पाँच विभिन्न मॉडलों (A-E) का प्रतिशत वितरण दर्शाया गया है। कंपनी द्वारा वर्ष 2021 और 2022 में उत्पादित मोबाइल फोन की कुल संख्या क्रमशः 4,50,000 और 5,20,000 है। तालिका में दिए गए आंकड़ों के आधार पर प्रश्न संख्या 1 से 5 के उत्तर दे :

मोबाइल फोन के मॉडलों का वर्ष-वार प्रतिशत (%) वितरण

मॉडल/ वर्ष	A	B	C	D	E
2021	15%	25%	30%	10%	20%
2022	10%	30%	25%	25%	10%

यदि कंपनी द्वारा वर्ष 2021 और 2022 के दौरान उत्पादित मॉडल-E के मोबाइल फोन में से 85% बिक गए तो कंपनी के पास मॉडल -E के कितने मोबाइल फोन बिना बिके रह गए?

1. 142800
2. 21300
3. 29100
4. 25200

A1 1  
:  
1  
A2 2  
:  
2  
A3 3  
:  
3  
A4 4  
:  
4

## Objective Question

3 908503 The following table shows the percentage distribution of five different Models (A-E) of Mobile Phones produced by a company during the years 2021 and 2022. Total number of Mobile Phones produced by the company in 2021 and 2022 is 4,50,000 and 5,20,000, respectively. Based on the data in the table, answer the questions 1-5

Year-wise Percentage (%) Distribution of Model of Mobile Phones.

Model/Year	A	B	C	D	E
2021	15%	25%	30%	10%	20%
2022	10%	30%	25%	25%	10%

If the number of Model-A Mobile phones produced by the company in 2022 was the same as that in 2021, then what would have been its approximate percentage share in the total production of 2022 ?

1. 11%
2. 13%
3. 15%
4. 9%

नीचे दी गई तालिका में एक कंपनी द्वारा वर्ष 2021 और वर्ष 2022 के दौरान उत्पादित मोबाइल फोन के पाँच विभिन्न मॉडलों (A-E) का प्रतिशत वितरण दर्शाया गया है। कंपनी द्वारा वर्ष 2021 और 2022 में उत्पादित मोबाइल फोन की कुल संख्या क्रमशः 4,50,000 और 5,20,000 है। तालिका में दिए गए आंकड़ों के आधार पर प्रश्न संख्या 1 से 5 के उत्तर दे :

मोबाइल फोन के मॉडलों का वर्ष-वार प्रतिशत (%) वितरण

मॉडल/ वर्ष	A	B	C	D	E
2021	15%	25%	30%	10%	20%
2022	10%	30%	25%	25%	10%

यदि कंपनी द्वारा वर्ष 2022 में उत्पादित मॉडल-E के मोबाइल फोन की संख्या वर्ष 2021 में उत्पादित मॉडल-A के मोबाइल फोन की संख्या के बराबर थी तो यह वर्ष 2022 के कुल उत्पादन का लगभग कितने प्रतिशत हुई होगी?

1. 11%
2. 13%
3. 15%
4. 9%

A1  
:

1

1

A2  
:

2

2

A3  
:

3

3

A4  
:

4

4

## Objective Question

4 908504

The following table shows the percentage distribution of five different Models (A-E) of Mobile Phones produced by a company during the years 2021 and 2022. Total number of Mobile Phones produced by the company in 2021 and 2022 is 4,50,000 and 5,20,000, respectively. Based on the data in the table, answer the questions 1-5

Year-wise Percentage (%) Distribution of Model of Mobile Phones.

Model/Year	A	B	C	D	E
2021	15%	25%	30%	10%	20%
2022	10%	30%	25%	25%	10%

The number of Mobile phones of Model-B in the year 2022 is approximately \_\_\_\_\_% more than the number of Model-D Mobile phones in the year 2021.

1. 240
2. 92
3. 128
4. 247

नीचे दी गई तालिका में एक कंपनी द्वारा वर्ष 2021 और वर्ष 2022 के दौरान उत्पादित मोबाइल फोन के पाँच विभिन्न मॉडलों (A-E) का प्रतिशत वितरण दर्शाया गया है। कंपनी द्वारा वर्ष 2021 और 2022 में उत्पादित मोबाइल फोन की कुल संख्या क्रमशः 4,50,000 और 5,20,000 है। तालिका में दिए गए आंकड़ों के आधार पर प्रश्न संख्या 1 से 5 के उत्तर दे :

मोबाइल फोन के मॉडलों का वर्ष-वार प्रतिशत (%) वितरण

मॉडल/ वर्ष	A	B	C	D	E
2021	15%	25%	30%	10%	20%
2022	10%	30%	25%	25%	10%

वर्ष 2022 में मॉडल-B के मोबाइल फोन की संख्या वर्ष 2021 में मॉडल-D के मोबाइल फोन की संख्या से लगभग \_\_\_\_\_% अधिक है।

1. 240
2. 92
3. 128
4. 247

A1 1

:

1

A2 2

:

2

A3 3

:

3

A4 4

:

4

Objective Question

5 908505

The following table shows the percentage distribution of five different Models (A-E) of Mobile Phones produced by a company during the years 2021 and 2022. Total number of Mobile Phones produced by the company in 2021 and 2022 is 4,50,000 and 5,20,000, respectively. Based on the data in the table, answer the questions 1-5

Year-wise Percentage (%) Distribution of Model of Mobile Phones.

Model/Year	A	B	C	D	E
2021	15%	25%	30%	10%	20%
2022	10%	30%	25%	25%	10%

What is the ratio of the number of Mobile phones of Model-C,D and E in the year 2022 to the number of Mobile phones of Models B, C and D in the year 2021?

1. 18:17
2. 25:19
3. 16:15
4. 14:15

नीचे दी गई तालिका में एक कंपनी द्वारा वर्ष 2021 और वर्ष 2022 के दौरान उत्पादित मोबाइल फोन के पाँच विभिन्न मॉडलों (A-E) का प्रतिशत वितरण दर्शाया गया है। कंपनी द्वारा वर्ष 2021 और 2022 में उत्पादित मोबाइल फोन की कुल संख्या क्रमशः 4,50,000 और 5,20,000 है। तालिका में दिए गए आंकड़ों के आधार पर प्रश्न संख्या 1 से 5 के उत्तर दे :

मोबाइल फोन के मॉडलों का वर्ष-वार प्रतिशत (%) वितरण

मॉडल/ वर्ष	A	B	C	D	E
2021	15%	25%	30%	10%	20%
2022	10%	30%	25%	25%	10%

वर्ष 2022 में मॉडल-C, D और E के मोबाइल फोन की संख्या तथा वर्ष 2021 में मॉडल-B, C और D के मोबाइल फोन की संख्या का अनुपात कितना है?

1. 18:17
2. 25:19
3. 16:15
4. 14:15

A1 1

:

1

A2 2

:

2

A3 3

:

3

A4 4

:

4

Objective Question

6 908506

If Ram is not able to understand certain concept in a particular subject and is continuously performing poorly in that subject, which evaluation test will have to be conducted to know the cause of his difficulties?

1. Placement Evaluation
2. Diagnostic Evaluation
3. Summative Evaluation
4. Formative Evaluation

यदि राम एक विशेष विषय में कुछ संकल्पनाओं को समझने में समर्थ नहीं है और वह उस विषय में सतत रूप से निम्न कार्य निष्पादन कर रहा है, तो उसकी कठिनाइयों के कारणों का पता लगाने हेतु कौन-सा मूल्यांकन परीक्षण संचालित करना होगा?

1. स्थानन मूल्यांकन
2. निदानात्मक मूल्यांकन
3. संकलनात्मक मूल्यांकन
4. निर्माणात्मक मूल्यांकन

A1  
:

1

A2  
:

2

A3  
:

3

A4  
:

4

Objective Question

7 908507 Which of the following levels of teaching involves the highest order thinking skills?

1. Memory level
2. Understanding level
3. Reflective level
4. All levels involve similar thinking skills

शिक्षण के निम्नलिखित स्तरों में से किसमें उच्चतम चिंतन कौशल क्रम समाविष्ट है?

1. स्मरण स्तर
2. बोध स्तर
3. प्रतिवर्त स्तर
4. सभी स्तरों में समान चिन्तन कौशल समाविष्ट होते हैं।

A1  
:

1

A2  
:

2

A3  
:

3

A4  
:

4

Objective Question

8 908508

Which of the following are the online tools used for creating and sharing mind maps?

- A. Coogle
- B. Flipgrid
- C. Mindmeister
- D. Google forms
- E. Miro

Choose the correct answer from the options given below:

- 1. A, C & E only
- 2. B, D E only
- 3. A & C only
- 4. B & D only

निम्नलिखित में से कौन-से ऑनलाइन उपकरण मन चित्रण के सृजन और साझा करने में प्रयोग किए जाते हैं?

- A. कूगल
- B. फ्लिपग्रिड
- C. माइंडमीस्टर
- D. गूगल फार्म
- E. माइरो

नीचे दिए गए विकल्पों में से सही उत्तर का चयन कीजिए :

- 1. केवल A, C और E
- 2. केवल B, D E
- 3. केवल A और C
- 4. केवल B और D

A1  
:

1

A2  
:

2

A3  
:

3

A4  
:

4



Objective Question

9 908509

Which of the following is an example of an inclusive learning environment?

- 1. A classroom where students are expected to conform to strict set of rules and regulation.
- 2. A classroom where only students of a certain ethnicity are allowed to participate in class discussion.
- 3. A classroom where students are discouraged from asking questions or challenging the teacher's authority.
- 4. A classroom where all the students are encouraged to share their unique experiences and perspectives.

निम्नलिखित में से कौन समावेशी अधिगम वातावरण का एक उदाहरण है?

1. एक कक्षा जहाँ विद्यार्थियों से नियमों और विनियमों के कठोर सेट का पालन करने की अपेक्षा की जाती है।
2. एक कक्षा जहाँ केवल कुछ जातीयता के विद्यार्थियों को कक्षा चर्चा में भागीदारी की अनुमति प्रदान की जाती है।
3. एक कक्षा जहाँ विद्यार्थियों को प्रश्न पूछने या अध्यापक के प्राधिकार को चुनौती देने से हतोत्साहित किया जाता है।
4. एक कक्षा जहाँ सभी विद्यार्थियों को अपने विशिष्ट अनुभवों और दृष्टिकोणों को साझा करने हेतु प्रोत्साहित किया जाता है।

A1  
:

1

1

A2  
:

2

2

A3  
:

3

3

A4  
:

4

4

Objective Question

10 908510

Given below are two statements:

Statement I: Teaching at the understanding level involves encouraging students to think critically and reflect on their learning experience

Statement II: Teaching at the memory level involves rote memorization and does not encourage critical thinking.

In the light of the above statements, choose the correct answer from the options given below

1. Both Statement I and Statement II are true
2. Both Statement I and Statement II are false
3. Statement I is true but Statement II is false
4. Statement I is false but Statement II is true

नीचे दो कथन दिए गए हैं:

कथन I: बोधगम्य स्तर पर शिक्षण में विद्यार्थियों को समीक्षात्मक रूप से चिन्तन और उनके अधिगम अनुभवों के अनुचिंतन को प्रोत्साहित करना समाविष्ट होता है।

कथन II: स्मरण स्तर पर शिक्षण में रटन स्मरण समाविष्ट होता है और आलोचनात्मक चिंतन को प्रोत्साहित नहीं करता है।

उपरोक्त कथन के आलोक में, नीचे दिए गए विकल्पों में से सबसे उपयुक्त उत्तर का चयन कीजिए:

1. कथन I और II दोनों सही हैं
2. कथन I और II दोनों गलत हैं
3. कथन I सही है, लेकिन कथन II गलत है
4. कथन I गलत है, लेकिन कथन II सही है

A1  
:

1



1  
A2 2  
:  
2  
A3 3  
:  
3  
A4 4  
:  
4

## Objective Question

11 908511

Given below are two statements:

Statement I: In observational research, the variables are actively manipulated and the environment is as controlled as possible.

Statement II: Observational research allows you to eliminate the influence of many extraneous factors.

In the light of the above statements, choose the correct answer from the options given below

1. Both Statement I and Statement II are true
2. Both Statement I and Statement II are false
3. Statement I is true but Statement II is false
4. Statement I is false but Statement II is true

नीचे दो कथन दिए गए हैं:

कथन I: अवलोकनात्मक अनुसंधान में चरों में सक्रिय रूप से हेर-फेर किया जाता है और वातावरण को यथा संभव नियंत्रित किया जाता है।

कथन II: अवलोकनात्मक अनुसंधान आपको कई बाह्य कारणों के प्रभाव को दूर करने की अनुमति देता है।

उपरोक्त कथन के आलोक में, नीचे दिए गए विकल्पों में से सबसे उपयुक्त उत्तर का चयन कीजिए:

1. कथन I और II दोनों सही हैं
2. कथन I और II दोनों गलत हैं
3. कथन I सही है, लेकिन कथन II गलत है
4. कथन I गलत है, लेकिन कथन II सही है

A1 1  
:  
1  
A2 2  
:  
2  
A3 3  
:  
3  
A4 4  
:  
4

## Objective Question

12 908512

When the researcher's sex affect the behaviour of a participant in a study, it refers to

1. Psychosocial Effect
2. Psychological Effect
3. Biosocial Effect
4. Environmental Effect

जब अनुसंधानकर्ता का लिंग अध्ययन के प्रतिभागी के व्यवहार को प्रभावित करता है तो इसे कहा जाता है-

1. मनोसामाजिक प्रभाव
2. मनोवैज्ञानिक प्रभाव
3. जैवसामाजिक प्रभाव
4. पर्यावरणीय प्रभाव

A1 : 1

A2 : 2

A3 : 3

A4 : 4

Objective Question

13 908513

Arrange the following scales of measurement from the simplest to the most evolved.

- A. Ordinal
- B. Nominal
- C. Ratio
- D. Interval

Choose the correct answer from the options given below:

1. A, B, C, D
2. B, C, A, D
3. C, D, B, A
4. B, A, D, C

मापन की निम्नलिखित मापनियों को सबसे अधिक सरल से सबसे अधिक विकसित के क्रम में रखें।

- A. क्रमिक
- B. नामिक
- C. अनुपात
- D. अंतराल

नीचे दिए गए विकल्पों में से सही उत्तर का चयन कीजिए :

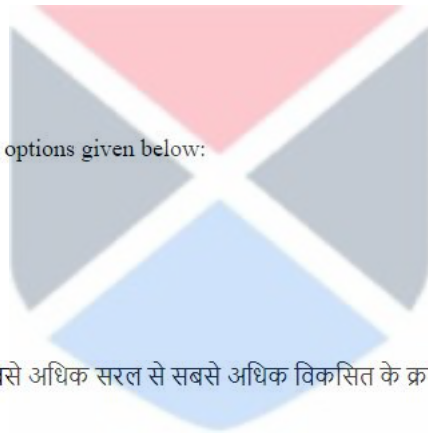
1. A, B, C, D
2. B, C, A, D
3. C, D, B, A
4. B, A, D, C

A1 : 1

A2 : 2

A3 : 3

A4 : 4



4

## Objective Question

14 908514 When studies on a given topic lead to similar conclusions, the measurements show

1. Convergent Validity
2. Criterion Validity
3. Divergent Validity
4. Construct Validity

जब किसी दिए गए विषय पर अनेक अध्ययनों के एक सामान निष्कर्ष होते हैं, तो मापन दर्शाते हैं-

1. अभिसारी वैधता
2. निकष वैधता
3. अपसारी वैधता
4. निर्मित वैधता

A1  
:

1

A2  
:

2

A3  
:

3

A4  
:

4

## Objective Question

15 908515 Which of the following p-values would signify that a sample correlation coefficient is significant at 1% level of significance?

1. 0.005
2. 0.02
3. 0.99
4. 0.95

निम्नलिखित में से कौन-सा p- मान यह दर्शायेगा कि कोई प्रतिदर्श सहसंबंध गुणांक 1% सार्थकता स्तर पर सार्थक है?

1. 0.005
2. 0.02
3. 0.99
4. 0.95

A1  
:

1

A2  
:

2

A3  
:

3

A4  
:

4

## Objective Question

16 908516

Soaps, sit-coms and comics are part of

1. High-brow culture
2. Middle-brow culture
3. Restrictive culture
4. Popular culture

टेलीविजन धारावाहिक स्थिति परक-सुखांतिकी और कॉमिक्स निम्नलिखित में से किसके अंश है?

1. कुलीन संस्कृति
2. मध्यम वर्गीय संस्कृति
3. प्रतिबंधात्मक संस्कृति
4. लोकप्रिय संस्कृति

A1  
:

1

1

A2  
:

2

2

A3  
:

3

3

A4  
:

4

4



Objective Question

17 908517 The first highway of information is

1. Newssheets
2. Telegraph
3. Films
4. Internet

सूचना का प्रथम राजमार्ग है :

1. समाचार पत्रक
2. तार (टेलीग्राफ)
3. फिल्मस्
4. इंटरनेट

A1  
:

1

1

A2  
:

2

2

A3  
:

3

3

A4  
:

4

4

Objective Question

18 908518

The main functions of mass media are to:

- A. Make a society static
- B. Inform
- C. Educate
- D. Persuade
- E. Entertain

Choose the correct answer from the options given below:

1. A, B, C only
2. A, C, E only
3. B, C, D, E only
4. A, B, D only

जनसंचार माध्यम के मुख्य कार्य हैं:

- A. समाज को स्थिर बनाना
- B. सूचना देना
- C. शिक्षित करना
- D. अनुनय करना
- E. मनोरंजन करना

नीचे दिए गए विकल्पों में से सही उत्तर का चयन कीजिए :

1. केवल A, B, C
2. केवल A, C, E
3. केवल B, C, D, E
4. केवल A, B, D

A1

:

1

A2

:

2

A3

:

3

A4

:

4



#### Objective Question

19 908519

Given below are two statements:

Statement I: The digital technology has enabled increase in media consumption.

Statement II: Analog media are superior in quality, but do not have popular demand.

In the light of the above statements, choose the correct answer from the options given below

1. Both Statement I and Statement II are true
2. Both Statement I and Statement II are false
3. Statement I is true but Statement II is false
4. Statement I is false but Statement II is true

नीचे दो कथन दिए गए हैं:

कथन I: डिजिटल प्रौद्योगिकी के फलस्वरूप जनसंचार माध्यम के उपभोग में वृद्धि हुई है।

कथन II: सहधर्मी (एनालोग) जनसंचार माध्यम की गुणवत्ता अपेक्षाकृत अधिक उत्तम होती है किन्तु इसकी अधिक मांग नहीं है।

उपरोक्त कथन के आलोक में, नीचे दिए गए विकल्पों में से सबसे उपयुक्त उत्तर का चयन कीजिए:

1. कथन I और II दोनों सत्य हैं
2. कथन I और II दोनों असत्य हैं
3. कथन I सत्य है, लेकिन कथन II असत्य है
4. कथन I असत्य है, लेकिन कथन II सत्य है

A1  
:

1

1

A2  
:

2

2

A3  
:

3

3

A4  
:

4

4

Objective Question

20 908520

Given below are two statements:

Statement I: Communication can be a path to seek truth.

Statement II: Communication can also be used to suppress truth.

In the light of the above statements, choose the correct answer from the options given below

1. Both Statement I and Statement II are true
2. Both Statement I and Statement II are false
3. Statement I is true but Statement II is false
4. Statement I is false but Statement II is true

नीचे दो कथन दिए गए हैं:

कथन I: संप्रेषण सत्य जानने का मार्ग हो सकता है।

कथन II: संप्रेषण का प्रयोग सत्य को दबाने के लिए भी किया जा सकता है।

उपरोक्त कथन के आलोक में, नीचे दिए गए विकल्पों में से सबसे उपयुक्त उत्तर का चयन कीजिए:

1. कथन I और II दोनों सत्य हैं
2. कथन I और II दोनों असत्य हैं
3. कथन I सत्य है, लेकिन कथन II असत्य है
4. कथन I असत्य है, लेकिन कथन II सत्य है

A1  
:

1

1

A2 2  
:  
2  
A3 3  
:  
3  
A4 4  
:  
4

## Objective Question

21 908521 What number would replace question mark (?) in the series given below?

11,13,17,19,23, ?, 31, 37

1. 28
2. 25
3. 27
4. 29

कौन-सी संख्या नीचे दी गई श्रृंखला में प्रश्न चिह्न को प्रतिस्थापित करेगी?

11,13,17,19,23, ?, 31, 37

1. 28
2. 25
3. 27
4. 29

A1 1  
:  
1  
A2 2  
:  
2  
A3 3  
:  
3  
A4 4  
:  
4



## Objective Question

22 908522 The present age of the father of a boy is twice the age of the boy. Six years later the ratio of their ages will be 11:6. Find the present age of the boy?

1. 30 years
2. 28 years
3. 25 years
4. 23 years

एक लड़के के पिता की वर्तमान आयु उस लड़के की आयु की दोगुनी है। छः वर्ष बाद दोनों की आयु का अनुपात 11:6 हो जाएगा। तो लड़के की वर्तमान आयु कितनी है?

1. 30 वर्ष
2. 28 वर्ष
3. 25 वर्ष
4. 23 वर्ष

A1 1  
:  
1  
A2 2  
:  
2  
A3 3  
:  
3  
A4 4  
:  
4

## Objective Question

23 908523

An amount of ₹ 2040 is to be divided among three friends x, y and z. The friend z is to be given  $\frac{2}{3}$ rd of what y has to be given and y has to be given  $\frac{1}{4}$ th of that of x. How much money will y receive?

1. ₹360
2. ₹1440
3. ₹240
4. ₹600

तीन मित्रों x, y और z में 2040 रुपये को विभाजित किया जाना है। z को y का  $\frac{2}{3}$  भाग दिया जाना है और y को x का  $\frac{1}{4}$  भाग दिया जाना है, तो y को कितने रुपये मिलेंगे?

1. ₹360
2. ₹1440
3. ₹240
4. ₹600

A1 1  
:  
1  
A2 2  
:  
2  
A3 3  
:  
3  
A4 4  
:  
4



## Objective Question

24 908524

If in a certain coding language, PAINT is coded as 93546 and EXCEL is coded as 78271, then how will ACCEPT be coded in that language?

1. 322769
2. 322976
3. 232796
4. 322796

यदि किसी कूट भाषा में PAINT को 93546 और EXCEL को 78271 के रूप में कूटबद्ध किया जाता है, तो, ACCEPT को किस प्रकार कूटबद्ध किया जाएगा?

1. 322769
2. 322976
3. 232796
4. 322796



A1 1  
:  
1  
A2 2  
:  
2  
A3 3  
:  
3  
A4 4  
:  
4

## Objective Question

25 908525 A sum of money doubles in 14 years. In how many years would it tripple if the rate of interest is considered as simple?

1. 25 years
2. 28 years
3. 18 years
4. 23 years

कोई धनराशि 14 वर्षों में दोगुनी हो जाती है। यदि ब्याज दर साधारण माना जाए, तो कितने वर्षों में यह राशि तीन गुनी हो जाएगी?

1. 25 वर्ष
2. 28 वर्ष
3. 18 वर्ष
4. 23 वर्ष

A1 1  
:  
1  
A2 2  
:  
2  
A3 3  
:  
3  
A4 4  
:  
4



## Objective Question

26 908526 Identify the common pattern of deductive reasoning in the following argument:

"If we don't stop for gas soon, then we will run out of gas. If we run out of gas, then we will be late for the wedding. Therefore, if we do stop for gas soon we will be late for wedding"

1. Denying the consequent
2. Affirming the consequent
3. Denying the antecedent
4. Chain argument

निम्नलिखित युक्ति में निगमनात्मक तर्क के सामान्य पैटर्न को पहचानिए :

"यदि हम गैस भरवाने के लिए जल्दी नहीं रुकेंगे तो हमारी गैस खत्म हो जायेगी। यदि हमारी गैस खत्म हो जायेगी तो हम शादी में देर से पहुंचेंगे। अतः, यदि हम गैस भरवाने के लिए जल्दी नहीं रुकेंगे तो हम शादी में देर से पहुंचेंगे।

1. फलवाक्य निषेध
2. फलवाक्य विधान
3. हेतुवाक्य निषेध
4. श्रृंखला-युक्ति

A1  
:

1

A2  
:

2

A3  
:

3

A4  
:

4

Objective Question

27 908527

Match List I with List II

LIST I (Hetvabhasa)	LIST II(Example)
A. Ashrayāsiddha	I. Sound is eternal because it is audible
B. Vyāptarvāsiddha	II. Sky lotus is fragrant because it a lotus like the lotus of lake
C. Svārūpāsiddha	III. Wherever there is fire there is smoke
D. Asādhāraṇa Savyābhichāra	IV. Sound is a quality because it is visible

Choose the correct answer from the options given below:

1. A-IV, B-I, C-II, D-III
2. A-I, B-II, C-III, D-IV
3. A-III, B-II, C-I, D-IV
4. A-II, B-III, C-IV, D-I

सूची I का सूची II से मिलान कीजिए

सूची I हेत्वाभास	सूची II उदाहरण
A. आश्रय सिद्ध	I. ध्वनि शाश्वत है क्योंकि यह श्रव्य है।
B. व्याप्तवासिद्ध	II. आकाश कमल सुगंधित है क्योंकि यह झील के कमल के सामान कमल है।
C. स्वरूपसिद्ध	III. जहाँ आग है वहाँ धुँआ है।
D. असाधारण सव्यभिचार	IV. ध्वनि एक गुण है क्योंकि यह दृश्य है।

निम्नलिखित विकल्पों में से सही उत्तर का चयन कीजिए :

1. A-IV, B-I, C-II, D-III
2. A-I, B-II, C-III, D-IV
3. A-III, B-II, C-I, D-IV
4. A-II, B-III, C-IV, D-I

A1  
:

1

1  
A2 2  
:  
2  
A3 3  
:  
3  
A4 4  
:  
4

## Objective Question

28 908528

Observe the following argument and pick the correct answer.

"All pigs are sheep

All sheep are goat

Therefore, all pigs are goats"

- A. A valid argument because if the premises were true the conclusion would have been true.
- B. An invalid argument because the conclusion does not follow from the premises.
- C. The conclusion is probably true.
- D. It is a weak argument.

Choose the correct answer from the options given below:

- 1. A only
- 2. B & D only
- 3. C & D only
- 4. D only

निम्नलिखित युक्ति का अवलोकन करें और सही उत्तर का चयन करें।

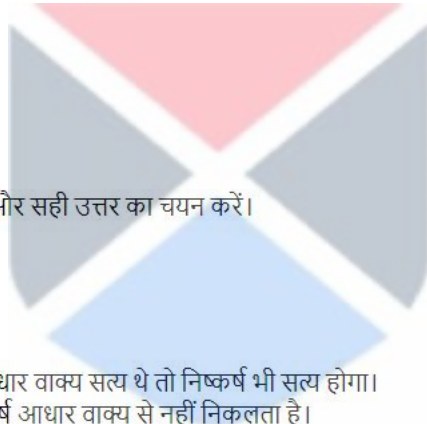
"सभी सूअर भेड़ें हैं  
सभी भेड़ें बकरियाँ हैं  
अतः सभी सूअर बकरियाँ हैं "

- A. एक वैध युक्ति है क्योंकि यदि आधार वाक्य सत्य थे तो निष्कर्ष भी सत्य होगा।
- B. एक अवैध युक्ति है क्योंकि निष्कर्ष आधार वाक्य से नहीं निकलता है।
- C. निष्कर्ष संभवतः सत्य है।
- D. यह एक कमजोर युक्ति है।

नीचे दिए गए विकल्पों में से सही उत्तर का चयन कीजिए :

- 1. केवल A
- 2. केवल B और D
- 3. केवल C और D
- 4. केवल D

A1 1  
:  
1  
A2 2  
:  
2  
A3 3  
:  
3  
A4 4  
:  
4



## Objective Question

29 908529

Given below are two statements: one is labelled as Assertion A and other is labelled as Reason R

Assertion A: Atyantābhava is eternal.

Reason R: If a particular thing does not exist in a particular locus at any time, then it is said that there is Atyantābhava of that thing.

In the light of the above statements, Choose the correct answer from the options given below:

1. Both A and R are true and R is the correct explanation of A
2. Both A and R are true and R is NOT the correct explanation of A
3. A is true but R is false
4. A is false but R is true

नीचे दो कथन दिए गए हैं, एक अभिकथन (Assertion A) के रूप में लिखित है तो दूसरा उसके कारण (Reason R) के रूप में

अभिकथन A: अत्यन्ताभाव शाश्वत है।

कारण R: यदि कोई विशिष्ट चीज किसी समय किसी विशिष्ट स्थान पर अस्तित्व में नहीं है, तो यह कहा जाता है कि अत्यन्ताभाव है।

उपरोक्त कथन के आलोक में, नीचे दिए गए विकल्पों में से सबसे उपयुक्त उत्तर का चयन कीजिए

1. A और R दोनों सत्य हैं और R, A की सही व्याख्या है
2. A और R दोनों सत्य हैं और R, A की सही व्याख्या नहीं है
3. A सही है लेकिन R सही नहीं है
4. A सही नहीं है लेकिन R सही है

A1

:

1

A2

:

2

A3

:

3

A4

:

4

## Objective Question

30 908530

'Fire is cold because it is a substance' represents which of the following Hetvābhāsa?

1. Viruddha
2. Bādhitā
3. Asiddha
4. Savyābhichāra



'आग ठंडी है क्योंकि यह एक द्रव्य है'  
यह निम्नलिखित में से कौन-सा हेत्वाभास दर्शाता है?

1. विरुद्ध
2. बाधित
3. असिद्ध
4. सव्यभिचार

A1  
:

1

A2  
:

2

A3  
:

3

A4  
:

4

Objective Question

31 908531

Computers have evolved from the early mainframe computers to the relatively small smart devices with high computing power being us today. Which of the following inventions contributed to reduce the physical size of computers?

1. Vacuum Tubes
2. Transistors
3. Integrated Circuits
4. Cathode Ray Tube

कम्प्यूटरों का विकास प्रारम्भिक मेनफ्रेम कम्प्यूटरों से अपेक्षा कृत स्मार्ट उपकरणों तक हुआ है जिनमें वर्तमान उच्च परिकलन शक्ति का प्रयोग किया रहा है। निम्नलिखित में से किस के आविष्कार ने कम्प्यूटरों के भौतिक आकार को छोटा बनाने में योगदान दिया

1. निर्वात नलिका (वैक्यूम ट्यूब्स)
2. ट्रांजिस्टर
3. एकीकृत सर्किट (इंटीग्रेटेड सर्किट)
4. कैथोड रे ट्यूब

A1  
:

1

A2  
:

2

A3  
:

3

A4  
:

4

Objective Question

32 908532

Consider two binary numbers  $P=10110001$  and  $Q=01001110$ . If  $X=P$  or  $Q$  and  $Y=P$  and  $Q$ , then what will be the values of  $X$  and  $Y$  respectively?

1. 01001110,10110001
2. 10110001,00000000
3. 10110001,11111111
4. 11111111,00000000

द्वि-आधारी संख्याओं  $P=10110001$  और  $Q=01001110$  पर विचार करें। यदि  $X=P$  या  $Q$  और  $Y=P$  और  $Q$  तो क्रमशः  $X$  और  $Y$  का मान क्या होगा ?

1. 01001110,10110001
2. 10110001,00000000
3. 10110001,11111111
4. 11111111,00000000

A1  
:

1

1

A2  
:

2

2

A3  
:

3

3

A4  
:

4

4

Objective Question

33 908533

Given below are two statements:

Statement I: Using 3D printers, prosthetic limbs can be made to exactly fit the recipient.

Statement II: OLEDs consume more power than LCD/LED formats and thus produce more heat.

In the light of the above statements, choose the correct answer from the options given below

1. Both Statement I and Statement II are true
2. Both Statement I and Statement II are false
3. Statement I is true but Statement II is false
4. Statement I is false but Statement II is true

नीचे दो कथन दिए गए हैं:

कथन I: 3 -डी प्रिंटरों का इस्तेमाल करके प्राप्तकर्ता में कृत्रिम अंगों को बिलकुल फिट रूप में लगाया जा सकता है।

कथन II: ओ एल ई डी एस (OLEDs) में एल सी डी / एल ई डी फार्मेटों की तुलना अधिक बिजली की खपत होती है और इस प्रकार अधिक ऊष्मा का उत्पादन होता है।

उपरोक्त कथन के आलोक में, नीचे दिए गए विकल्पों में से सही उत्तर का चयन कीजिए:

1. कथन I और II दोनों सत्य हैं
2. कथन I और II दोनों असत्य हैं
3. कथन I सत्य है, लेकिन कथन II असत्य है
4. कथन I असत्य है, लेकिन कथन II सत्य है

A1  
:

1

A2  
:

2

A3  
:

3

A4  
:

4

#### Objective Question

34 908534

Which of the following statements are valid?

- A. Providing the personal information of customers stored in a computer to an insurance agent by the vehicle servicing centre is an issue related to the privacy of customer.
- B. Providing a copy of a single-user licensed software to another party is a piracy issue related to the ownership of the software.
- C. Unauthorized access to another person's computer is both illegal and unethical.
- D. The 'right to use' a piece of software is termed as Copyright

Choose the correct answer from the options given below:

1. A & D only
2. B & C only
3. B & D only
4. A, B & C only

निम्नलिखित में कौन से कथन मान्य हैं?

- A. किसी कम्प्यूटर में भंडारित ग्राहकों की व्यक्तिगत सूचनाओं को वाहन सेवा केंद्र के माध्यम से किसी बीमा एजेंट को प्रदान करना ग्राहकों की निजता से संबंधित है।
- B. एकल प्रयोक्ता लाइसेंस युक्त सॉफ्टवेयर (सिंगल यूजर लाइसेंस सॉफ्टवेयर) की एक प्रति दूसरे पक्षकार को देना सॉफ्टवेयर के स्वामित्व से जुड़ा मुद्दा है।
- C. किसी अन्य व्यक्ति के कम्प्यूटर तक अनधिकृत पहुँच अवैध और अनैतिक दोनों होता है।
- D. किसी सॉफ्टवेयर को उपयोग करने का अधिकार प्रतिलिप्याधिकार (कॉपीराइट) कहलाता है।

नीचे दिए गए विकल्पों में से सही उत्तर का चयन कीजिए :

1. केवल A और D
2. केवल B और C
3. केवल B और D
4. केवल A, B और C

A1 1  
:  
1  
A2 2  
:  
2  
A3 3  
:  
3  
A4 4  
:  
4

## Objective Question

35 908535

Match List I with List II

LIST I (Internet Term)		LIST II (Description)	
A. Browser	I.	Protocol that is used to send data for web pages across the internet	
B. HTTPS	II.	A text-file (stored by web browser) that contains data about a user's browsing preferences	
C. URL	III.	Software that allows users to view web page	
D. Cookie	IV.	A text-based version of a web address	

Choose the correct answer from the options given below:

1. A-II, B-I, C-IV, D-III
2. A-III, B-IV, C-I, D-II
3. A-I, B-III, C-II, D-IV
4. A-III, B-I, C-IV, D-II

सूची I का सूची II से मिलान कीजिए

सूची I (इंटरनेट शब्द)		सूची II (विवरण)	
A. ब्राउजर	I.	वह प्रोटोकॉल जिसका उपयोग पूरे इंटरनेट पर वेब पेजों के लिए आंकड़े भेजने हेतु किया जाता है।	
B. एच टी टी पी एस (HTTPS)	II.	वह टेक्स्ट फ़ाइल (वेब ब्राउजर द्वारा भंडारित) जिसमें किसी प्रयोगकर्ता की ब्राउजिंग अभिरुचियों के बारे में आंकड़े होते हैं।	
C. यू आर एल (URL)	III.	वह सॉफ्टवेयर जिसमें प्रयोगकर्ता वेब पेज देख पाता है।	
D. कुकी	IV.	वेब पते का टेक्स्ट आधारित संस्करण	

निम्नलिखित विकल्पों में से सही उत्तर का चयन कीजिए :

1. A-II, B-I, C-IV, D-III
2. A-III, B-IV, C-I, D-II
3. A-I, B-III, C-II, D-IV
4. A-III, B-I, C-IV, D-II

A1 1  
:  
1  
A2 2  
:  
2  
A3 3  
:  
3



A4 4  
:  
4

## Objective Question

36 908536 Air Quality Index (AQI) is represented in

1. Unit of  $\mu\text{g}/\text{m}^3$  (microgram per meter cube)
2. Unit of ppm
3. Percentage (%)
4. Numbers

वायु गुणवत्ता सूचकांक (ए. क्यू आई) को प्रदर्शित किया जाता है

1.  $\mu\text{g}/\text{m}^3$  (माइक्रो ग्राम प्रति मीटरघन) की इकाई में
2. ppm की इकाई में
3. प्रतिशत (%) में
4. संख्या में

A1 1  
:

1

A2 2  
:

2

A3 3  
:

3

A4 4  
:

4

## Objective Question

37 908537 Given below are two statements:

Statement I: Concentration of Formaldehyde in indoor environment can be thousand times higher than outdoor environment.

Statement II: Formaldehyde is a known carcinogen.

In the light of the above statements, choose the correct answer from the options given below

1. Both Statement I and Statement II are true
2. Both Statement I and Statement II are false
3. Statement I is true but Statement II is false
4. Statement I is false but Statement II is true



नीचे दो कथन दिए गए हैं:

कथन I: कमरे के भीतर के वातावरण में फार्मल्डिहाइड का सांद्रण कमरे के बाहर के वातावरण की तुलना में हजार गुना होता है।

कथन II: फार्मल्डिहाइड एक ज्ञात कैसरजन है।

उपरोक्त कथन के आलोक में, नीचे दिए गए विकल्पों में से सबसे उपयुक्त उत्तर का चयन कीजिए:

1. कथन I और II दोनों सही हैं
2. कथन I और II दोनों सही नहीं हैं
3. कथन I सही है, लेकिन कथन II गलत है
4. कथन I गलत है, लेकिन कथन II सही है

A1

:

1

A2

:

2

A3

:

3

A4

:

4

Objective Question

38 908538

In water treatment Aeration is the process which

1. Removes excess and objectionable gases
2. Readjusts the pH of water
3. Removes the large particles of floc from water
4. Removes the solid particles

जल शोधन में वातन (एरेशन) एक प्रक्रिया है जिसमें -

1. अतिरिक्त और आपत्तिजनक गैसों को निकाला जाता है।
2. पानी के pH मान को पुनः समंजित किया जाता है।
3. पानी से गुच्छों (फ्लॉक) के बड़े कणों को दूर किया जाता है।
4. ठोस कणों को दूर किया जाता है।

A1

:

1

A2

:

2

A3

:

3

A4

:

4

Objective Question

39 908539

Which of the following are classified as hazardous substances?

- A. Activated substances
- B. Ignitable substances
- C. Corrosive substances
- D. Reactive substances
- E. Toxic substances

Choose the correct answer from the options given below:

- 1. A, B, C, D only
- 2. B, C, D, E only
- 3. A, C, D, E only
- 4. A, B, D, E only

निम्नलिखित में से किन्हें खतरनाक पदार्थ के रूप में वर्गीकृत किया गया है?

- A. सक्रिय पदार्थ
- B. देहनीय पदार्थ
- C. संक्षारक पदार्थ
- D. प्रतिक्रियात्मक पदार्थ
- E. विषैले पदार्थ

नीचे दिए गए विकल्पों में से सही उत्तर का चयन कीजिए :

- 1. केवल A, B, C, D
- 2. केवल B, C, D, E
- 3. केवल A, C, D, E
- 4. केवल A, B, D, E

A1

:

1

A2

:

2

A3

:

3

A4

:

4



Objective Question

40 908540

What is the limit of water availability for a region to be classified as water-stressed region?

- 1. Less than 1700 m<sup>3</sup>/ person/year
- 2. Less than 2000 m<sup>3</sup>/ person/year
- 3. Less than 2300 m<sup>3</sup>/ person/year
- 4. Less than 2500 m<sup>3</sup>/ person/year

जल की कमी वाले किसी क्षेत्र (वाटर स्ट्रेस रीजन) के रूप में वर्गीकृत किसी क्षेत्र के लिए जल की उपलब्धता की सीमा क्या है?

- 1. 1700 m<sup>3</sup>/ व्यक्ति / वर्ष से कम
- 2. 2000 m<sup>3</sup>/ व्यक्ति / वर्ष से कम
- 3. 2300 m<sup>3</sup>/ व्यक्ति / वर्ष से कम
- 4. 2500 m<sup>3</sup>/ व्यक्ति / वर्ष से कम

A1 1  
:  
1  
A2 2  
:  
2  
A3 3  
:  
3  
A4 4  
:  
4

## Objective Question

41 908541 Among the following skills, which are considered as soft skills?

- A. Decision making
- B. Marketing
- C. Communication
- D. Conflict resolution
- E. Leadership

Choose the correct answer from the options given below:

- 1. B & E only
- 2. A, C & E only
- 3. A, C, D & E only
- 4. B & D only

निम्नलिखित में से किन कौशलों को मृदु कौशल (सॉफ्ट स्किल) कहा जाता है?

- A. निर्णयन
- B. विपणन
- C. संचार
- D. मतभेद समाधान
- E. नेतृत्व

नीचे दिए गए विकल्पों में से सही उत्तर का चयन कीजिए :

- 1. केवल B और E
- 2. केवल A, C और E
- 3. केवल A, C, D और E
- 4. केवल B और D

A1 1  
:  
1  
A2 2  
:  
2  
A3 3  
:  
3  
A4 4  
:  
4

## Objective Question

42 908542

Which of the following are recommendations of the NEP2020 for improving the quality of higher education in India?

- A. Introduction of National Research Foundation.
- B. Accreditation of all higher education institutions
- C. Integration of Vocational education into mainstream education.
- D. Establishment of National Higher Education Qualification Framework.

Choose the correct answer from the options given below:

1. A & B only
2. C & D only
3. A, B & D only
4. A, B, C & D

निम्नलिखित में से कौन भारत में उच्चतर शिक्षा की गुणवत्ता में सुधार हेतु नई शिक्षा पद्धति (एन ई पी) 2020 की सिफारिशें हैं?

- A. राष्ट्रीय शोध संस्थान
- B. सभी उच्चतर शिक्षा संस्थानों का प्रत्यायन
- C. व्यावसायिक शिक्षा का मुख्यधारा शिक्षा में समाकलन
- D. राष्ट्रीय उच्चतर शिक्षा अर्हता फ्रेमवर्क की स्थापना

नीचे दिए गए विकल्पों में से सही उत्तर का चयन कीजिए :

1. केवल A और B
2. केवल C और D
3. केवल A, B और D
4. A, B, C और D

A1  
:

1

A2  
:

2

A3  
:

3

A4  
:

4



#### Objective Question

43 908543 UGC was established on the recommendation of-

1. University Education Commission
2. Higher Education Commission
3. Ministry of Education
4. Planning Commission

यू जी सी की स्थापना \_\_\_\_\_ की सिफारिश पर की गई थी।

1. विश्वविद्यालय शिक्षा आयोग
2. उच्च शिक्षा आयोग
3. शिक्षा मंत्रालय
4. योजना आयोग

A1  
:

1

A2 2  
:  
2  
A3 3  
:  
3  
A4 4  
:  
4

## Objective Question

44 908544

Which of the following is incorrect in the light of the effects of the expansion of higher education from the mid 1850s.

- A. Curzon's universities reform were a high point in the development of the official attitude towards the spread of higher education.
- B. The attempts were part of the wider programme of reforming Indian society and purging out of evils such as sati etc.
- C. Two universities in Calcutta and Madras were established in 1857 and colleges became an integrate part of higher education.
- D. Only those students were admitted to the colleges who had passed the entrance.

Choose the correct answer from the options given below:

- 1. A & B
- 2. B & C
- 3. C & D
- 4. B & D

निम्नलिखित में से कौन वर्ष 1850 के मध्य दशक से उच्चतर शिक्षा के विस्तार के प्रभावों के आलोक में गलत है?

- A. कर्जन का विश्वविद्यालय सुधार उच्चतर शिक्षा के प्रसार की दिशा में सरकारी अभिवृत्ति के विकास में एक उच्च बिंदु था।
- B. ये प्रयास भारतीय समाज के सुधार तथा सती प्रथा जैसी बुराइयों को समाज से दूर करने संबंधी व्यापक कार्यक्रम का एक भाग थे।
- C. वर्ष 1857 में दो विश्वविद्यालय कलकत्ता तथा मद्रास में स्थापित किए गए तथा महाविद्यालय उच्चतर शिक्षा का एक अभिन्न भाग बन गए।
- D. महाविद्यालयों में उन्ही विद्यार्थियों को प्रवेश मिलता था जो प्रवेश परीक्षा में उत्तीर्ण होते थे।

नीचे दिए गए विकल्पों में से सही उत्तर का चयन कीजिए :

- 1. A और B
- 2. B और C
- 3. C और D
- 4. B और D

A1 1  
:  
1  
A2 2  
:  
2  
A3 3  
:  
3  
A4 4  
:  
4

## Objective Question

45 908545

Given below are two statements:

Statement I: In the Vedic age both men and women had access to education.

Statement II: Woods Despatch (1854) recognised for the first time that the Government should give 'frank and cordial support' to female education.

In the light of the above statements, choose the correct answer from the options given below

1. Both Statement I and Statement II are true
2. Both Statement I and Statement II are false
3. Statement I is true but Statement II is false
4. Statement I is false but Statement II is true

नीचे दो कथन दिए गए हैं:

कथन I: वैदिक काल में पुरुष और महिला दोनों को शिक्षा अभिगम्य थी।

कथन II: वुड्स डिस्पैच (1854) में पहली बार इस बात को मान्यता दी गई कि सरकार को नारी शिक्षा के लिए 'खुलकर तथा स्नेहपूर्ण सहायता' प्रदान करनी चाहिए।

उपरोक्त कथन के आलोक में, नीचे दिए गए विकल्पों में से सबसे उपयुक्त उत्तर का चयन कीजिए:

1. कथन I और II दोनों सही हैं
2. कथन I और II दोनों गलत हैं
3. कथन I सही है, लेकिन कथन II गलत है
4. कथन I गलत है, लेकिन कथन II सही है

A1  
:

1

A2  
:

2

A3  
:

3

A4  
:

4



Objective Question

46 908546

**Read the passage and answer the questions that follow:**

Violence against women comes in many forms and from various sources. One that is not highlighted enough is the violence they face from their birth family or natal kin—parents, siblings or close relatives. New Delhi based non-governmental organisation (NGO) Shakti Shalini recently brought out an incisive report, *Unkahi-the Unspoken*, documenting the rise of violence against women from natal families during the pandemic.

Normally, the natal family is the one a woman turns to for help, but during the pandemic, staying at home did not always mean staying safe for many women. A woman complaining about violence from a partner is more easily believable than one who makes such a allegations against her family conditioned as we are to the concept that elders and immediate kin offer protection and physical and emotional safety. So, to name and shame them is not easy.

Shakti Shalini's study was based on women who approached the NGO for help during the pandemic and encompassed those between 18 and 27 years, with 65% of them belonging to the 22-27 age group. A majority of these women belong to the working and lower middle classes.

Media reports during the pandemic highlighted the increase in the incidence of marital violence, but single women living with their natal families had similar experiences. The honorary secretary of Shakti Shalini, says, "Natal family violence is a phenomenon which is structurally based in our society and therefore, needs a structural approach. Though our society lays a claim on the integrity of 'family as a cohesive unit', it equally needs to be accepted that family is as much an environment of abuse of its vulnerable members especially girls and women."

The women spoke of abusive and coercive behaviour from their natal families and all of them reported emotional abuse and psychological trauma. Fifteen out of 20 women in the study faced physical and verbal violence that included being slapped. Three women reported physical abuse while one was threatened with forced marriage. In terms of the identity of the person who caused harm, in 60% of the cases, it was both male and female relatives.

In the passage 'natal kin' refers to

- A. Stranger
- B. Parents
- C. Neighbours
- D. Close relatives
- E. Brother and Sister

Choose the correct answer from the options given below:

1. A, B & D only
2. C, D & E only
3. B, D & E only
4. A, B & E only





निम्नलिखित गद्यांश को पढ़िए और दिए गए प्रश्नों के उत्तर दीजिए :

महिलाओं के विरुद्ध हिंसा अनेक रूपों में तथा अनेक स्रोतों से होती रहती है। महिलाओं के विरुद्ध हिंसा की जो घटनाएँ उनके जन्म संबंधी परिवार अथवा उनके रिश्तेदारों विशेषकर माता-पिता, भाई-बहन अथवा नजदीकी रिश्तेदारों द्वारा घटती है उनको उजागर नहीं किया जाता है। नई दिल्ली स्थित गैर-सरकारी संगठन (एन जी ओ) शक्ति शालिनी ने हाल में एक सनसनीखेज रिपोर्ट 'अनकही' प्रकाशित की है जिसमें महामारी के दौरान परिवारों से महिलाओं के विरुद्ध हिंसा में वृद्धि का उल्लेख किया गया है। सामान्यतः जन्म से जुड़े परिवार से ही महिलाओं को सहायता की आशा रहती है, परन्तु महामारी के दौरान घर पर टिका रहना अनेक महिलाओं के लिए सदैव सुरक्षित महसूस नहीं हुआ। अपने साथी से हिंसा की शिकायत की तुलना में परिवार में किसी नजदीकी रिश्तेदार से ऐसे आरोपों पर जल्दी विश्वास नहीं किया जाता क्योंकि हमारी अवधारणा है की घर के बड़े-बूढ़े तथा निकट संबंधी शारीरिक तथा भावनात्मक सुरक्षा प्रदान करते हैं। अतः उन पर आरोप लगाना तथा उन्हें बदनाम करना आसान नहीं होता है। शक्ति शालिनी का अध्ययन उन महिलाओं की सूचना पर आधारित था जो 18 से 27 वर्षों के आयु वर्ग की थीं और उनमें 65% महिलायें 22-27 आयु वर्ग की थीं जो महामारी के दौरान एन जी ओ की सहायता की शरण में आयी थीं। इनमें से अधिकांश महिलायें कामकाजी तथा निम्न मध्य वर्ग की थीं। महामारी के दौरान मीडिया की रिपोर्ट में वैवाहिक हिंसा की घटनाओं में वृद्धि की खबर तो थी परन्तु जन्म से जुड़े परिवार में अविवाहित महिलाओं को भी इसी प्रकार के अनुभव से गुजरना पड़ा। शक्ति शालिनी की मानद सचिव ने कहा, "जन्म से जुड़े परिवार से हिंसा की घटनाएँ समाज में संरचनात्मक विधि से पैठ बना चुकी है अतः इसके लिए एक संरचनात्मक दृष्टिकोण की आवश्यकता है। यद्यपि हमारा समाज परिवार को एक सुसंबद्ध इकाई के रूप में इसकी निष्ठा का दावा करता है पर यहाँ यह स्वीकार करने की आवश्यकता है की परिवार में भी इसके कमजोर सदस्यों, विशेषकर लड़कियों और महिलाओं के लिए दुर्व्यवहार का शिकार होने का वातावरण है"। उन महिलाओं ने जन्म से जुड़े परिवार से दुर्व्यवहार तथा बलात् व्यवहार के बारे में बताया तथा सबने भावनात्मक दुर्व्यवहार तथा मनोवैज्ञानिक सदमों की बातें बताईं। इस अध्ययन की 20 से 15 महिलाओं को शारीरिक तथा वाचिक हिंसा, जिसमें थप्पड़ मारना भी शामिल है, का समाना करना पड़ा। तीन महिलाओं ने शारीरिक दुर्व्यवहार तथा एक ने जबरन विवाह की धमकी की शिकायत की। जहाँ तक उन्हें नुकसान पहुंचाने वाले व्यक्ति की पहचान की बात है, 60 मामलों में पुरुष तथा महिला, दोनों प्रकार के रिश्तेदार थे।

इस गद्यांश में 'जन्म से जुड़े रिश्तेदार' का अर्थ है

- अजनबी
- माता-पिता
- पड़ोसी
- नजदीकी रिश्तेदार
- भाई-बहन

नीचे दिए गए विकल्पों में से सही उत्तर का चयन कीजिए :

- केवल A, B और D
- केवल C, D और E
- केवल B, D और E
- केवल A, B और E

A1  
:

1

A2  
:

2

A3  
:

3

A4  
:

4



Objective Question

47 908547

Read the passage and answer the questions that follow:

Violence against women comes in many forms and from various sources. One that is not highlighted enough is the violence they face from their birth family or natal kin-parents, siblings or close relatives. New Delhi based non-governmental organisation (NGO) Shakti Shalini recently brought out an incisive report, Unkahi-the Unspoken, documenting the rise of violence against women from natal families during the pandemic.

Normally, the natal family is the one a woman turns to for help, but during the pandemic, staying at home did not always mean staying safe for many women. A woman complaining about violence from a partner is more easily believable than one who makes such allegations against her family conditioned as we are to the concept that elders and immediate kin offer protection and physical and emotional safety. So, to name and shame them is not easy.

Shakti Shalini's study was based on women who approached the NGO for help during the pandemic and encompassed those between 18 and 27 years, with 65% of them belonging to the 22-27 age group. A majority of these women belong to the working and lower middle classes.

Media reports during the pandemic highlighted the increase in the incidence of marital violence, but single women living with their natal families had similar experiences. The honorary secretary of Shakti Shalini, says, "Natal family violence is a phenomenon which is structurally based in our society and therefore, needs a structural approach. Though our society lays a claim on the integrity of 'family as a cohesive unit', it equally needs to be accepted that family is as much an environment of abuse of its vulnerable members especially girls and women."

The women spoke of abusive and coercive behaviour from their natal families and all of them reported emotional abuse and psychological trauma. Fifteen out of 20 women in the study faced physical and verbal violence that included being slapped. Three women reported physical abuse while one was threatened with forced marriage. In terms of the identity of the person who caused harm, in 60% of the cases, it was both male and female relatives.

Shakti Shalini is

1. A Government Organization
2. A Trust
3. A Research Institute
4. A Non-Governmental Organization



निम्नलिखित गद्यांश को पढ़िए और दिए गए प्रश्नों के उत्तर दीजिए :

महिलाओं के विरुद्ध हिंसा अनेक रूपों में तथा अनेक स्रोतों से होती रहती है। महिलाओं के विरुद्ध हिंसा की जो घटनाएँ उनके जन्म संबंधी परिवार अथवा उनके रिश्तेदारों विशेषकर माता-पिता, भाई-बहन अथवा नजदीकी रिश्तेदारों द्वारा घटती है उनको उजागर नहीं किया जाता है। नई दिल्ली स्थित गैर-सरकारी संगठन (एन जी ओ) शक्ति शालिनी ने हाल में एक सनसनीखेज रिपोर्ट 'अनकही' प्रकाशित की है जिसमें महामारी के दौरान परिवारों से महिलाओं के विरुद्ध हिंसा में वृद्धि का उल्लेख किया गया है। सामान्यतः जन्म से जुड़े परिवार से ही महिलाओं को सहायता की आशा रहती है, परन्तु महामारी के दौरान घर पर टिका रहना अनेक महिलाओं के लिए सदैव सुरक्षित महसूस नहीं हुआ। अपने साथी से हिंसा की शिकायत की तुलना में परिवार में किसी नजदीकी रिश्तेदार से ऐसे आरोपों पर जल्दी विश्वास नहीं किया जाता क्योंकि हमारी अवधारणा है की घर के बड़े-बूढ़े तथा निकट संबंधी शारीरिक तथा भावनात्मक सुरक्षा प्रदान करते हैं। अतः उन पर आरोप लगाना तथा उन्हें बदनाम करना आसान नहीं होता है। शक्ति शालिनी का अध्ययन उन महिलाओं की सूचना पर आधारित था जो 18 से 27 वर्षों के आयु वर्ग की थीं और उनमें 65% महिलायें 22-27 आयु वर्ग की थीं जो महामारी के दौरान एन जी ओ की सहायता की शरण में आयी थीं। इनमें से अधिकांश महिलायें कामकाजी तथा निम्न मध्य वर्ग की थीं। महामारी के दौरान मीडिया की रिपोर्ट में वैवाहिक हिंसा की घटनाओं में वृद्धि की खबर तो थी परन्तु जन्म से जुड़े परिवार में अविवाहित महिलाओं को भी इसी प्रकार के अनुभव से गुजरना पड़ा। शक्ति शालिनी की मानद सचिव ने कहा, "जन्म से जुड़े परिवार से हिंसा की घटनाएँ समाज में संरचनात्मक विधि से पैठ बना चुकी है अतः इसके लिए एक संरचनात्मक दृष्टिकोण की आवश्यकता है। यद्यपि हमारा समाज 'परिवार को एक सुसंबद्ध इकाई के रूप में' इसकी निष्ठा का दावा करता है पर यहाँ यह स्वीकार करने की आवश्यकता है की परिवार में भी इसके कमजोर सदस्यों, विशेषकर लड़कियों और महिलाओं के लिए दुर्व्यवहार का शिकार होने का वातावरण है"। उन महिलाओं ने जन्म से जुड़े परिवार से दुर्व्यवहार तथा बलात् व्यवहार के बारे में बताया तथा सबसे भावनात्मक दुर्व्यवहार तथा मनोविज्ञानिक सदमों की बातें बताईं। इस अध्ययन की 20 से 15 महिलाओं को शारीरिक तथा वाचिक हिंसा, जिसमें थप्पड़ मारना भी शामिल है, का समाना करना पड़ा। तीन महिलाओं ने शारीरिक दुर्व्यवहार तथा एक ने जबरन विवाह की धमकी की शिकायत की। जहाँ तक उन्हें नुकसान पहुंचाने वाले व्यक्ति की पहचान की बात है, 60 मामलों में पुरुष तथा महिला, दोनों प्रकार के रिश्तेदार थे।

शक्ति शालिनी क्या है?

1. एक सरकारी संगठन
2. एक न्यास (ट्रस्ट)
3. एक शोध संस्थान
4. एक गैर सरकारी संगठन

A1  
:

1

A2  
:

2

A3 3  
:  
3  
A4 4  
:  
4

## Objective Question

48 908548 **Read the passage and answer the questions that follow:**

Violence against women comes in many forms and from various sources. One that is not highlighted enough is the violence they face from their birth family or natal kin-parents, siblings or close relatives. New Delhi based non-governmental organisation (NGO) Shakti Shalini recently brought out an incisive report, Unkahi-the Unspoken, documenting the rise of violence against women from natal families during the pandemic.

Normally, the natal family is the one a woman turns to for help, but during the pandemic, staying at home did not always mean staying safe for many women. A woman complaining about violence from a partner is more easily believable than one who makes such allegations against her family conditioned as we are to the concept that elders and immediate kin offer protection and physical and emotional safety. So, to name and shame them is not easy.

Shakti Shalini's study was based on women who approached the NGO for help during the pandemic and encompassed those between 18 and 27 years, with 65% of them belonging to the 22-27 age group. A majority of these women belong to the working and lower middle classes.

Media reports during the pandemic highlighted the increase in the incidence of marital violence, but single women living with their natal families had similar experiences. The honorary secretary of Shakti Shalini, says, "Natal family violence is a phenomenon which is structurally based in our society and therefore, needs a structural approach. Though our society lays a claim on the integrity of 'family as a cohesive unit', it equally needs to be accepted that family is as much an environment of abuse of its vulnerable members especially girls and women."

The women spoke of abusive and coercive behaviour from their natal families and all of them reported emotional abuse and psychological trauma. Fifteen out of 20 women in the study faced physical and verbal violence that included being slapped. Three women reported physical abuse while one was threatened with forced marriage. In terms of the identity of the person who caused harm, in 60% of the cases, it was both male and female relatives.

All statements related to Shakti Shalini study are true except

1. It was based on violence against women from natal families during the pandemic.
2. It was the result of women approaching Shakti Shalini for help.
3. It concluded that 75% women faced physical and verbal violence.
4. It found that person responsible for violence were only men.

निम्नलिखित गद्यांश को पढ़िए और दिए गए प्रश्नों के उत्तर दीजिए :

महिलाओं के विरुद्ध हिंसा अनेक रूपों में तथा अनेक स्रोतों से होती रहती है। महिलाओं के विरुद्ध हिंसा की जो घटनाएँ उनके जन्म संबंधी परिवार अथवा उनके रिश्तेदारों विशेषकर माता-पिता, भाई-बहन अथवा नजदीकी रिश्तेदारों द्वारा घटती है उनको उजागर नहीं किया जाता है। नई दिल्ली स्थित गैर-सरकारी संगठन (एन जी ओ) शक्ति शालिनी ने हाल में एक सनसनीखेज रिपोर्ट 'अनकही' प्रकाशित की है जिसमें महामारी के दौरान परिवारों से महिलाओं के विरुद्ध हिंसा में वृद्धि का उल्लेख किया गया है। सामान्यतः जन्म से जुड़े परिवार से ही महिलाओं को सहायता की आशा रहती है, परन्तु महामारी के दौरान घर पर टिका रहना अनेक महिलाओं के लिए सदैव सुरक्षित महसूस नहीं हुआ। अपने साथी से हिंसा की शिकायत की तुलना में परिवार में किसी नजदीकी रिश्तेदार से ऐसे आरोपों पर जल्दी विश्वास नहीं किया जाता क्योंकि हमारी अवधारणा है की घर के बड़े-बूढ़े तथा निकट संबंधी शारीरिक तथा भावनात्मक सुरक्षा प्रदान करते हैं। अतः उन पर आरोप लगाना तथा उन्हें बदनाम करना आसान नहीं होता है। शक्ति शालिनी का अध्ययन उन महिलाओं की सूचना पर आधारित था जो 18 से 27 वर्षों के आयु वर्ग की थीं और उनमें 65% महिलायें 22-27 आयु वर्ग की थीं जो महामारी के दौरान एन जी ओ की सहायता की शरण में आयी थीं। इनमें से अधिकांश महिलायें कामकाजी तथा निम्न मध्य वर्ग की थीं। महामारी के दौरान मीडिया की रिपोर्ट में वैवाहिक हिंसा की घटनाओं में वृद्धि की खबर तो थी परन्तु जन्म से जुड़े परिवार में अविवाहित महिलाओं को भी इसी प्रकार के अनुभव से गुजरना पड़ा। शक्ति शालिनी की मानद सचिव ने कहा, "जन्म से जुड़े परिवार से हिंसा की घटनाएँ समाज में संरचनात्मक विधि से पैठ बना चुकी है अतः इसके लिए एक संरचनात्मक दृष्टिकोण की आवश्यकता है। यद्यपि हमारा समाज परिवार को एक सुसंबद्ध इकाई के रूप में इसकी निष्ठा का दावा करता है पर यहाँ यह स्वीकार करने की आवश्यकता है की परिवार में भी इसके कमजोर सदस्यों, विशेषकर लड़कियों और महिलाओं के लिए दुर्व्यवहार का शिकार होने का वातावरण है।" उन महिलाओं ने जन्म से जुड़े परिवार से दुर्व्यवहार तथा बलात् व्यवहार के बारे में बताया तथा सबसे भावनात्मक दुर्व्यवहार तथा मनोवैज्ञानिक सदमों की बातें बताईं। इस अध्ययन की 20 से 15 महिलाओं को शारीरिक तथा वाचिक हिंसा, जिसमें थप्पड़ मारना भी शामिल है, का सामना करना पड़ा। तीन महिलाओं ने शारीरिक दुर्व्यवहार तथा एक ने जबरन विवाह की धमकी की शिकायत की। जहाँ तक उन्हें नुकसान पहुंचाने वाले व्यक्ति की पहचान की बात है, 60 मामलों में पुरुष तथा महिला, दोनों प्रकार के रिश्तेदार थे।

शक्ति शालिनी अध्ययन से संबंधित सभी कथन सही हैं सिवाय निम्नलिखित के :

1. यह महामारी के दौरान जन्म से जुड़े परिवार से महिलाओं के विरुद्ध हिंसा पर आधारित है।
2. यह शक्ति शालिनी के पास मदद के लिए आनेवाली महिलाओं के परिणामस्वरूप हुआ।
3. इसने निष्कर्ष निकाला कि 75% महिलाओं का शारीरिक तथा वाचिक हिंसा का सामना करना पड़ता है।
4. इसने पाया कि हिंसा के लिए केवल पुरुष जिम्मेदार थे।

A1  
:  
1  
A2  
:  
2  
A3  
:  
3  
A4  
:  
4



Objective Question

49 908549

**Read the passage and answer the questions that follow:**

Violence against women comes in many forms and from various sources. One that is not highlighted enough is the violence they face from their birth family or natal kin—parents, siblings or close relatives. New Delhi based non-governmental organisation (NGO) Shakti Shalini recently brought out an incisive report, *Unkahi-the Unspoken*, documenting the rise of violence against women from natal families during the pandemic.

Normally, the natal family is the one a woman turns to for help, but during the pandemic, staying at home did not always mean staying safe for many women. A woman complaining about violence from a partner is more easily believable than one who makes such a allegations against her family conditioned as we are to the concept that elders and immediate kin offer protection and physical and emotional safety. So, to name and shame them is not easy.

Shakti Shalini's study was based on women who approached the NGO for help during the pandemic and encompassed those between 18 and 27 years, with 65% of them belonging to the 22-27 age group. A majority of these women belong to the working and lower middle classes.

Media reports during the pandemic highlighted the increase in the incidence of marital violence, but single women living with their natal families had similar experiences. The honorary secretary of Shakti Shalini, says, "Natal family violence is a phenomenon which is structurally based in our society and therefore, needs a structural approach. Though our society lays a claim on the integrity of 'family as a cohesive unit', it equally needs to be accepted that family is as much an environment of abuse of its vulnerable members especially girls and women."

The women spoke of abusive and coercive behaviour from their natal families and all of them reported emotional abuse and psychological trauma. Fifteen out of 20 women in the study faced physical and verbal violence that included being slapped. Three women reported physical abuse while one was threatened with forced marriage. In terms of the identity of the person who caused harm, in 60% of the cases, it was both male and female relatives.

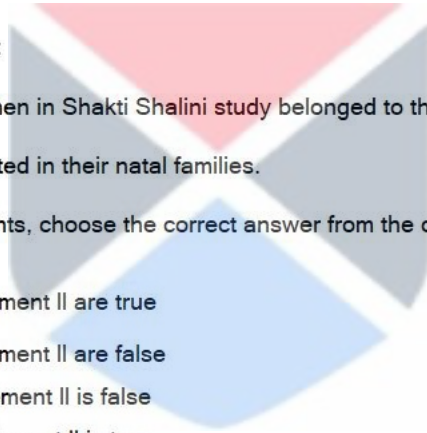
Given below are two statements:

Statement I: The majority of women in Shakti Shalini study belonged to the working and lower middle classes.

Statement II: Women are protected in their natal families.

In the light of the above statements, choose the correct answer from the options given below

1. Both Statement I and Statement II are true
2. Both Statement I and Statement II are false
3. Statement I is true but Statement II is false
4. Statement I is false but Statement II is true



निम्नलिखित गद्यांश को पढ़िए और दिए गए प्रश्नों के उत्तर दीजिए :

महिलाओं के विरुद्ध हिंसा अनेक रूपों में तथा अनेक स्रोतों से होती रहती है। महिलाओं के विरुद्ध हिंसा की जो घटनाएँ उनके जन्म संबंधी परिवार अथवा उनके रिश्तेदारों विशेषकर माता-पिता, भाई-बहन अथवा नजदीकी रिश्तेदारों द्वारा घटती है उनको उजागर नहीं किया जाता है। नई दिल्ली स्थित गैर-सरकारी संगठन (एन जी ओ) शक्ति शालिनी ने हाल में एक सनसनीखेज रिपोर्ट 'अनकही' प्रकाशित की है जिसमें महामारी के दौरान परिवारों से महिलाओं के विरुद्ध हिंसा में वृद्धि का उल्लेख किया गया है। सामान्यतः जन्म से जुड़े परिवार से ही महिलाओं को सहायता की आशा रहती है, परन्तु महामारी के दौरान घर पर टिका रहना अनेक महिलाओं के लिए सदैव सुरक्षित महसूस नहीं हुआ। अपने साथी से हिंसा की शिकायत की तुलना में परिवार में किसी नजदीकी रिश्तेदार से ऐसे आरोपों पर जल्दी विश्वास नहीं किया जाता क्योंकि हमारी अवधारणा है की घर के बड़े-बूढ़े तथा निकट संबंधी शारीरिक तथा भावनात्मक सुरक्षा प्रदान करते हैं। अतः उन पर आरोप लगाना तथा उन्हें बदनाम करना आसान नहीं होता है। शक्ति शालिनी का अध्ययन उन महिलाओं की सूचना पर आधारित था जो 18 से 27 वर्षों के आयु वर्ग की थीं और उनमें 65% महिलायें 22-27 आयु वर्ग की थीं जो महामारी के दौरान एन जी ओ की सहायता की शरण में आयी थीं। इनमें से अधिकांश महिलायें कामकाजी तथा निम्न मध्य वर्ग की थीं। महामारी के दौरान मीडिया की रिपोर्ट में वैवाहिक हिंसा की घटनाओं में वृद्धि की खबर तो थी परन्तु जन्म से जुड़े परिवार में अविवाहित महिलाओं को भी इसी प्रकार के अनुभव से गुजरना पड़ा। शक्ति शालिनी की मानद सचिव ने कहा, "जन्म से जुड़े परिवार से हिंसा की घटनाएँ समाज में संरचनात्मक विधि से पैठ बना चुकी है अतः इसके लिए एक संरचनात्मक दृष्टिकोण की आवश्यकता है। यद्यपि हमारा समाज 'परिवार को एक सुसंबद्ध इकाई के रूप में' इसकी निष्ठा का दावा करता है पर यहाँ यह स्वीकार करने की आवश्यकता है की परिवार में भी इसके कमजोर सदस्यों, विशेषकर लड़कियों और महिलाओं के लिए दुर्व्यवहार का शिकार होने का वातावरण है"। उन महिलाओं ने जन्म से जुड़े परिवार से दुर्व्यवहार तथा बलात् व्यवहार के बारे में बताया तथा सबने भावनात्मक दुर्व्यवहार तथा मनोवैज्ञानिक सदमों की बातें बताईं। इस अध्ययन की 20 से 15 महिलाओं को शारीरिक तथा वाचिक हिंसा, जिसमें थप्पड़ मारना भी शामिल है, का समाना करना पड़ा। तीन महिलाओं ने शारीरिक दुर्व्यवहार तथा एक ने जबरन विवाह की धमकी की शिकायत की। जहाँ तक उन्हें नुकसान पहुंचाने वाले व्यक्ति की पहचान की बात है, 60 मामलों में पुरुष तथा महिला, दोनों प्रकार के रिश्तेदार थे।

नीचे दो कथन दिए गए हैं:

कथन I: शक्ति शालिनी अध्ययन में अधिकांश महिलाएं कामकाजी तथा निम्न मध्य वर्ग की थीं।

कथन II: महिलाएं जन्म से जुड़े परिवार में सुरक्षित हैं।

उपरोक्त कथन के आलोक में, नीचे दिए गए विकल्पों में से सबसे उपयुक्त उत्तर का चयन कीजिए:

1. कथन I और II दोनों सही हैं
2. कथन I और II दोनों गलत हैं
3. कथन I सही है, लेकिन कथन II गलत है
4. कथन I गलत है, लेकिन कथन II सही है

A1

: 1

1

A2

: 2

2

A3

: 3

3

A4

: 4

4



Objective Question

50 908550

**Read the passage and answer the questions that follow:**

Violence against women comes in many forms and from various sources. One that is not highlighted enough is the violence they face from their birth family or natal kin—parents, siblings or close relatives. New Delhi based non-governmental organisation (NGO) Shakti Shalini recently brought out an incisive report, *Unkahi-the Unspoken*, documenting the rise of violence against women from natal families during the pandemic.

Normally, the natal family is the one a woman turns to for help, but during the pandemic, staying at home did not always mean staying safe for many women. A woman complaining about violence from a partner is more easily believable than one who makes such a allegations against her family conditioned as we are to the concept that elders and immediate kin offer protection and physical and emotional safety. So, to name and shame them is not easy.

Shakti Shalini's study was based on women who approached the NGO for help during the pandemic and encompassed those between 18 and 27 years, with 65% of them belonging to the 22-27 age group. A majority of these women belong to the working and lower middle classes.

Media reports during the pandemic highlighted the increase in the incidence of marital violence, but single women living with their natal families had similar experiences. The honorary secretary of Shakti Shalini, says, "Natal family violence is a phenomenon which is structurally based in our society and therefore, needs a structural approach. Though our society lays a claim on the integrity of 'family as a cohesive unit', it equally needs to be accepted that family is as much an environment of abuse of its vulnerable members especially girls and women."

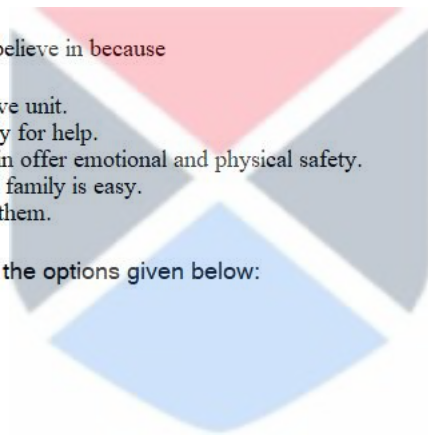
The women spoke of abusive and coercive behaviour from their natal families and all of them reported emotional abuse and psychological trauma. Fifteen out of 20 women in the study faced physical and verbal violence that included being slapped. Three women reported physical abuse while one was threatened with forced marriage. In terms of the identity of the person who caused harm, in 60% of the cases, it was both male and female relatives.

Natal family violence is difficult to believe in because

- A. The family is seen as a cohesive unit.
- B. Women turn to the natal family for help.
- C. It is believed that elders and kin offer emotional and physical safety.
- D. Naming and shaming the natal family is easy.
- E. Women in the family support them.

Choose the correct answer from the options given below:

- 1. A, D & E only
- 2. B & C only
- 3. A, B & C only
- 4. B, D & E only



निम्नलिखित गद्यांश को पढ़िए और दिए गए प्रश्नों के उत्तर दीजिए :

महिलाओं के विरुद्ध हिंसा अनेक रूपों में तथा अनेक स्रोतों से होती रहती है। महिलाओं के विरुद्ध हिंसा की जो घटनाएँ उनके जन्म संबंधी परिवार अथवा उनके रिश्तेदारों विशेषकर माता-पिता, भाई-बहन अथवा नजदीकी रिश्तेदारों द्वारा घटती है उनको उजागर नहीं किया जाता है। नई दिल्ली स्थित गैर-सरकारी संगठन (एन जी ओ) शक्ति शालिनी ने हाल में एक सनसनीखेज रिपोर्ट 'अनकही' प्रकाशित की है जिसमें महामारी के दौरान परिवारों से महिलाओं के विरुद्ध हिंसा में वृद्धि का उल्लेख किया गया है। सामान्यतः जन्म से जुड़े परिवार से ही महिलाओं को सहायता की आशा रहती है, परन्तु महामारी के दौरान घर पर टिका रहना अनेक महिलाओं के लिए सदैव सुरक्षित महसूस नहीं हुआ। अपने साथी से हिंसा की शिकायत की तुलना में परिवार में किसी नजदीकी रिश्तेदार से ऐसे आरोपों पर जल्दी विश्वास नहीं किया जाता क्योंकि हमारी अवधारणा है की घर के बड़े-बूढ़े तथा निकट संबंधी शारीरिक तथा भावनात्मक सुरक्षा प्रदान करते हैं। अतः उन पर आरोप लगाना तथा उन्हें बदनाम करना आसान नहीं होता है। शक्ति शालिनी का अध्ययन उन महिलाओं की सूचना पर आधारित था जो 18 से 27 वर्षों के आयु वर्ग की थीं और उनमें 65% महिलायें 22-27 आयु वर्ग की थीं जो महामारी के दौरान एन जी ओ की सहायता की शरण में आयी थीं। इनमें से अधिकांश महिलायें कामकाजी तथा निम्न मध्य वर्ग की थीं। महामारी के दौरान मीडिया की रिपोर्ट में वैवाहिक हिंसा की घटनाओं में वृद्धि की खबर तो थी परन्तु जन्म से जुड़े परिवार में अविवाहित महिलाओं को भी इसी प्रकार के अनुभव से गुजरना पड़ा। शक्ति शालिनी की मानद सचिव ने कहा, "जन्म से जुड़े परिवार से हिंसा की घटनाएँ समाज में संरचनात्मक विधि से पैठ बना चुकी है अतः इसके लिए एक संरचनात्मक दृष्टिकोण की आवश्यकता है। यद्यपि हमारा समाज परिवार को एक सुसंबद्ध इकाई के रूप में इसकी निष्ठा का दावा करता है पर यहाँ यह स्वीकार करने की आवश्यकता है की परिवार में भी इसके कमजोर सदस्यों, विशेषकर लड़कियों और महिलाओं के लिए दुर्व्यवहार का शिकार होने का वातावरण है।" उन महिलाओं ने जन्म से जुड़े परिवार से दुर्व्यवहार तथा बलात् व्यवहार के बारे में बताया तथा सबने भावनात्मक दुर्व्यवहार तथा मनोवैज्ञानिक सदमों की बातें बताईं। इस अध्ययन की 20 से 15 महिलाओं को शारीरिक तथा वाचिक हिंसा, जिसमें धप्पड़ मारना भी शामिल है, का समाना करना पड़ा। तीन महिलाओं ने शारीरिक दुर्व्यवहार तथा एक ने जबरन विवाह की धमकी की शिकायत की। जहाँ तक उन्हें नुकसान पहुंचाने वाले व्यक्ति की पहचान की बात है, 60 मामलों में पुरुष तथा महिला, दोनों प्रकार के रिश्तेदार थे।

जन्म से जुड़े परिवार में होने वाली हिंसा पर विश्वास करना कठिन होता है क्योंकि -

- ऐसे परिवार को सुसंबद्ध इकाई माना जाता है।
- महिलाएं अपने जन्म से जुड़े परिवार से सहायता की उम्मीद करती हैं।
- यह माना जाता है कि घर के बड़े-बूढ़े तथा रिश्तेदार भावनात्मक तथा शारीरिक सुरक्षा प्रदान करते हैं।
- जन्म से जुड़े परिवार पर हिंसा का आरोप लगाना तथा उन्हें बदनाम करना आसान है।
- परिवार में महिलाएं उनका समर्थन करती हैं।

नीचे दिए गए विकल्पों में से सही उत्तर का चयन कीजिए :

- केवल A, D और E
- केवल B और C
- केवल A, B और C
- केवल B, D और E

A1  
:

1

A2  
:

2

A3  
:

3

A4  
:

4



Objective Question

51 908551

Which of the following economic narratives relates the trade between any two countries to the sign of their economics?

- Phillips Curve
- Fisher effect
- Gravity model
- Kuznets Curve

निम्नलिखित में से कौन सा आर्थिक विवरण किन्हीं दो अर्थव्यवस्थाओं के आकर व पारस्परिक व्यापार से संबंधित है?

- फिलिप्स वक्र
- फिशर प्रभाव
- गुरुत्व (ग्रेविटी) मॉडल
- कुजनेट्स वक्र

A1  
:

1



1  
A2 2  
:  
2  
A3 3  
:  
3  
A4 4  
:  
4

## Objective Question

52 908552 Brewing financial stress endangering economic stability in developed economics is the immediate consequence of which of the following

1. Fiscal indispline
2. Rising price level
3. Over leverage
4. Increased interest rates

विकसित अर्थव्यवस्थाओं की आर्थिक स्थिरता को संकट में डालने वाला उभरता हुआ आर्थिक तनाव निम्नलिखित में से किसका तात्कालीन परिणाम है?

1. राजकोषीय गैर अनुशासन
2. बढ़ते हुए कीमत स्तर
3. अति उत्तोलन
4. बढ़ी हुई ब्याज दरें

A1 1  
:  
1  
A2 2  
:  
2  
A3 3  
:  
3  
A4 4  
:  
4



## Objective Question

53 908553 Published by the UNDP, the HDI is summary measure of human development. It measures the average achievements of a country in three basic dimensions of human development and include the following.

1. Standard of living, Income and Occupation
2. Education, Occupation and Health
3. Health, Education and Standard of living
4. Poverty, Health and Standard of living

यू एन डी पी द्वारा प्रकाशित होने वाला एच डी आई (मानव विकास सूचकांक) विकास को मापन करने वाला एक सार-संक्षेप है। यह किसी देश की औसत उपलब्धियों का मापन मानव विकास के तीन प्रमुख आयामों में करता है और इसमें निम्नलिखित को शामिल किया जाता है?

1. जीवन स्तर, आय और व्यवसाय
2. शिक्षा, व्यवसाय और स्वास्थ्य
3. स्वास्थ्य, शिक्षा और जीवन स्तर
4. निर्धनता, स्वास्थ्य और जीवन स्तर

A1 1  
:  
1

A2 2  
:  
2  
A3 3  
:  
3  
A4 4  
:  
4

## Objective Question

54 908554

A.T Kearney foreign Policy Globalization Index (2007) is a comprehensive framework to measure globalisation. It is based in 12 variables, grouped into which the following four baskets?

1. Economic integration, Political integration, Knowledge Integration, Social Integration
2. Personal Integration, Technological integration, Economic integration, Political integration
3. Social integration, Political integration, Personal integration, Technological Integration
4. Knowledge integration, Economic integration, Political integration Technological integration

ए टी कीयर्नी विदेश नीति वैश्वीकरण सूचकांक (2007) वैश्वीकरण के मापन हेतु एक व्यापक रूपरेखा है यह 12 चर समूहों पर आधारित हैं जो कि निम्नलिखित किन चार समुच्चयों में संयोजित है ?

1. आर्थिक एकीकरण, राजनीतिक एकीकरण, ज्ञान एकीकरण, सामाजिक एकीकरण
2. निजी एकीकरण, प्रौद्योगिकीय एकीकरण, आर्थिक एकीकरण, राजनीतिक एकीकरण
3. सामाजिक एकीकरण, राजनीतिक एकीकरण, निजी एकीकरण, प्रौद्योगिकीय एकीकरण
4. ज्ञान एकीकरण, आर्थिक एकीकरण, राजनीतिक एकीकरण, प्रौद्योगिकीय एकीकरण

A1 1  
:  
1  
A2 2  
:  
2  
A3 3  
:  
3  
A4 4  
:  
4

## Objective Question

55 908555

Which one of the below mentioned transaction is not a non-cash transaction?

1. The acquisition of assets by assuming directly related liabilities
2. Conversion of debt into equity
3. Interest on dividend received from investing activities
4. The acquisition of an enterprise by means of issue of share

निम्नांकित क्रियायों में कौनसी क्या रोकड़ रहित संव्यवहार नहीं है :

1. प्रत्यक्षतः संबद्ध देनदारियां प्राप्त कर परिसम्पत्ति (आस्तियों) का अर्जन
2. ऋण का इक्विटी में संपरिवर्तन
3. निवेश कार्यकलापो से प्राप्त लाभांश का ब्याज
4. शेयर जारी करने के माध्यम से उद्यम का अधिग्रहण

A1 1  
:  
1

A2 2  
:  
2  
A3 3  
:  
3  
A4 4  
:  
4

## Objective Question

56 908556 In a situation where the holding and subsidiary companies own shares in each other is known as-

1. Partly owned subsidiary
2. Cross holding
3. Subsidiary company
4. Wholly owned subsidiary

ऐसी स्थिति में जहाँ धारक कंपनी और अनुषंगी कंपनियों का एक दूसरे में शेयर होता है, कहलाता है :

1. आंशिक स्वामित्व वाली अनुषंगी
2. प्रति धारिता (अन्योन्य धारिता)
3. अनुषंगी कंपनी
4. पूर्ण स्वामित्व वाली अनुषंगी

A1 1  
:  
1  
A2 2  
:  
2  
A3 3  
:  
3  
A4 4  
:  
4



## Objective Question

57 908557 P, R and M are Partners in a firm. They shared profit and losses in the ratio of 3:2:1. On 1st April, R retired. The goodwill of the firm was valued at two years purchase based on the average of last three years profits. The Profits of the last three year were as under:

2020-21 Profit Rs 2,48,000  
2021-22 Loss Rs 36,000  
2022-23 Profit Rs 1,48,000

It was decided that share of goodwill be adjusted in the capital Accounts of P and M. What will be the amount of Goodwill of P and M?

1. Rs 40,000, Rs 60,000
2. Rs 30,000, Rs 50,000
3. Rs 30,000, Rs 60,000
4. Rs 40,000, Rs 70,000

P, R और M किसी प्रतिष्ठान में साझेदार हैं। उनकी लाभ और हानि का शेयर 3:2:1 के अनुपात में था। 1 अप्रैल को R सेवानिवृत्त हो गया। प्रतिष्ठान की ख्याति का मूल्यांकन पिछले तीन वर्ष के लाभ के औसत के आधार पर दो वर्ष की खरीद पर किया गया। पिछले तीन वर्षों में हुए लाभ का ब्यौरा निम्नवत् था :

वर्ष 2020-21 लाभ Rs 2,48,000 रु.

वर्ष 2021-22 हानि Rs 36,000 रु.

वर्ष 2022-23 लाभ Rs 1,48,000 रु.

निर्णय लिया गया कि R की ख्याति (गुडविल) का शेयर P और M के पूंजीगत खाते में समायोजित किया जाए तो P और M की ख्याति रकम क्या होगी?

1. रु. 40,000 रु. 60,000
2. रु. 30,000 रु. 50,000
3. रु. 30,000 रु. 60,000
4. रु. 40,000 रु. 70,000

A1 1

:

1

A2 2

:

2

A3 3

:

3

A4 4

:

4

#### Objective Question

58 908558 According to which concept, the life of the business is divided into appropriate segments for studying the results shown by the business each of the segment?

1. Periodic Matching Cost and Revenue Concept
2. Dual Aspect Concept
3. Accounting Period Concept
4. Money Measurement Concept

किस अवधारणा के अनुसार व्यवसाय की समयावधि प्रत्येक कालखंडों के व्यवसाय के परिणाम (नतीजे) का अध्ययन करने के लिए समुपयुक्त कालखंड में विभक्त की जाती है:

1. सावधिक तुलन लागत और आय संकल्पना
2. द्वैध पक्षीय संकल्पना
3. लेखांकन अवधि संकल्पना
4. धन मापन संकल्पना

A1 1

:

1

A2 2

:

2

A3 3

:

3

A4 4

:

4

#### Objective Question

59 908559

Which of the following notions objectivity define an industry?

1. Homogeneity of products
2. High cross price elasticity of demand
3. Use and consumption pattern
4. Convention and market practices

निम्नलिखित कौन सी अवधारणा किसी उद्योग को वस्तुगत दृष्टि से परिभाषित करती है?

1. उत्पादों की एकरूपता
2. माँग की उच्च प्रति कीमत लोच
3. प्रयोग एवं उपभोग प्रतिरूप
4. परंपरा एवं बाजार व्यवहार

A1  
:

1

1

A2  
:

2

2

A3  
:

3

3

A4  
:

4

4



Objective Question

60 908560

In order to protect domestic industries, trade restrictions are often been allowed and justified to counteract which of the following dumping practices?

1. Persistant dumping
2. Predatory dumping
3. Sporading dumping
4. Reverse dumping

घरेलू उद्योगों को बचाने के क्रम में व्यापार प्रतिबंधों को निम्नलिखित कौन सी पाटन पद्धति से रक्षोपाय प्रतिक्रिया हेतु प्रायः अनुमत किया जाता है एवं न्य संगत ठहराया जाता है?

1. निरंतर (सतत) डंपिंग (पाटन)
2. लोलुपता (लूटमार) डंपिंग (पाटन)
3. कदाचनिक यदा-कदा डंपिंग (पाटन)
4. पतिवार्ती डंपिंग (पाटन)

A1  
:

1

1

A2  
:

2

2

A3  
:

3

3

A4  
:

4

4

Objective Question

61 908561

Based on the relationship between marginal revenue product (MRP) and marginal resource cost (MRC), when it pays for the firm to expand the use of variable factor input?

1.  $MRP > MRC$
2.  $MRP < MRC$
3.  $MRP = MRC$
4.  $MRP = MRC=1$

सीमान्त राजस्व उत्पाद (एम आर पी) और सीमान्त संसाधन लागत (एम आर सी) के मध्य संबंध के दृष्टिगत परिवर्त्यकारक आगत के प्रयोग में वृद्धि कि व्यवसाय के लिए कब लाभदायक होता है?

1.  $MRP > MRC$
2.  $MRP < MRC$
3.  $MRP = MRC$
4.  $MRP = MRC=1$

A1  
:

1

1

A2  
:

2

2

A3  
:


3

3

A4  
:

4

4



Objective Question

62 908562

When technology allows many firms to operate efficiently in the markets, which market structure represents a better use of society's resources?

1. Perfect competition
2. Monopoly
3. Monopolistic Competition
4. Oligopoly

जब प्रौद्योगिकी अनेकों कंपनियों को बाजार में कुशलतापूर्वक संचालन हेतु अनुमति (स्वीकृति) देती है, तो निम्नलिखित कौन-से बाजार संरचना समाज के संसाधनों के अधिक उपयोग को प्रस्तुत (निरूपित) करता है?

1. पूर्ण प्रतियोगिता
2. एकाधिकार
3. एकाधिकारिक प्रतिस्पर्धा
4. अल्पाधिकार

A1  
:

1

1

A2  
:

2

2

A3  
:

3

3

A4  
:

4

4

Objective Question

63	908563	<p>A company's stock sells for ₹ 63. The company pays annual dividend of ₹ 3 per share and has long established record of increasing its dividend by a context 5 % annually. For this company, the cost of equity ( <math>K_e</math> ) is _____.</p> <p>1. 13%</p> <p>2. 14%</p> <p>3. 10%</p> <p>4. 8%</p> <p>किसी कंपनी शेयर ₹ 63 में बेचा जाता है। कंपनी वार्षिक रूप से प्रतिशेयर (अंश) 3 रूपए का लाभांश अदा करती है और इसका वार्षिक रूप में 5 % लाभांश बढ़ा देने का स्थापित रिकार्ड रहा है। इस कंपनी के इक्विटी ( <math>K_e</math> ) की लागत (कीमत) है :</p> <p>1. 13%</p> <p>2. 14%</p> <p>3. 10%</p> <p>4. 8%</p> <p>A1 : 1</p> <p>A2 : 2</p> <p>A3 : 3</p> <p>A4 : 4</p>
----	--------	---

## Objective Question

64	908564	<p>Which one of the following is an operational technique of hedging transaction exposure.</p> <p>1. Hedging through money market</p> <p>2. Hedging through forward</p> <p>3. Hedging through swap</p> <p>4. Hedging through leading &amp; lagging</p> <p>निम्नलिखित में से कौन एक प्रतिरक्षण संव्यवहार विगोपन (निवेश)की एक परिचालन प्राविधि है?</p> <p>1. मुद्रा बाजार के माध्यम से प्रतिरक्षण</p> <p>2. अग्रिम के माध्यम से प्रतिरक्षण</p> <p>3. स्वैप के माध्यम से प्रतिरक्षण</p> <p>4. अग्रपश्चाभिमुख (लीडिंग एंड लैगिंग) के माध्यम से प्रतिरक्षण</p> <p>A1 : 1</p> <p>A2 : 2</p> <p>A3 : 3</p> <p>A4 : 4</p>
----	--------	---

## Objective Question

65 908565

The adjusted present value model used by MNCs to evaluate capital budgeting decision is based on

1. Gresham's principle
2. Value additivity approach
3. Law of one price
4. Multilateral Netting approach

एन सी सी कंपनियों द्वारा पूंजी बजटन निर्णयों के मूल्यानाकन हेतु प्रयुक्त किया जाने वाला समायोजित वर्तमान मूल्य मॉडल निम्नलिखित किस पर आधारित है?

1. ग्रेशम का सिद्धांत
2. मूल्य वर्धनीयता उपागम
3. एकल कीमत का नियम
4. बहुपक्षीय तंत्रीय (नेटिंग) उपागम

A1  
:

1

1

A2  
:

2

2

A3  
:

3

3

A4  
:

4

4

Objective Question

66 908566

The dividend-irrelevance theory of Miller and Modigliani depends on which one of the following relationships between investment policy and dividend policy.

1. Since dividend policy is irrelevant, there is no relationship between investment policy and dividend policy
2. The level of investment does not influence or matter to the dividend decision
3. Once dividend policy is set, the investment decision are residuals
4. The investment policy is set ahead of time and not altered by change in dividend policy

मिलर और मोदीगिलानी का लाभांश अप्रासंगिकता सिद्धांत निवेश नीति और लाभांश नीति के बीच निम्नलिखित में से किन संबंधों पर निर्भर करता है?

1. चूंकि लाभांश नीति अप्रासंगिक है निवेश नीति और लाभांश नीति के बीच कोई सम्बन्ध नहीं है।
2. निवेश के स्तर का लाभांश संबंधी निर्णय के लिए कोई मायने नहीं रखता।
3. एक बार लाभांश नीति के तय हो जाने पर निवेश संबंधी निर्णय अवशिष्ट होते हैं।
4. निवेश नीति समय से पूर्व तय हो जाती है और लाभांश नीति में परिवर्तन से इसमें कोई परिवर्तन नहीं होता है।

A1  
:

1

1

A2  
:

2

2

A3  
:

3

3

A4  
:

4

4

Objective Question

67 908567



\_\_\_\_\_ is a most useful type of non probability sampling method when individuals with the desired characteristics experience or attitudes are difficult to identify or reach.

1. Purposive Sampling
2. Convenience Sampling
3. Snowball Sampling
4. Quota Sampling

अपेक्षित अभिलाक्षणिक गुण, अनुभवों अथवा अभिवृत्ति शील युक्त व्यक्तियों की पहचान करना अथवा उन तक पहुँच कठिन होने की दशा में \_\_\_\_\_ प्रायिकता प्रतिचयन विधि का एक सर्वाधिक उपयोगी प्रकार है।

1. सोद्देश्यपूर्ण प्रतिचयन
2. सुविधापरक प्रतिचयन
3. स्नोबॉल प्रतिचयन
4. कोटा (नियतांश) प्रतिचयन

A1  
:

1

A2  
:

2

A3  
:

3

A4  
:

4



Objective Question

68 908568

Which of the following non-parametric test has no corresponding parametric test?

1. Spearman rank correlation test
2. Kruskal Wallis test
3. Mann-Whitney test
4. Ward-Walfowitz one sample runs test

निम्नलिखित कौन-सा गैर प्राचलिक परीक्षण सांगत (अनुरूप) प्राचलिक परीक्षण नहीं होता है?

1. स्पीयरमैन रैंक सहसंबंध परीक्षण
2. कुसकल वालिस परीक्षण
3. मान-व्हिटनी परीक्षण
4. वाल्ड -वोल्फविट्ज वन सैम्पल रन्स परीक्षण

A1  
:

1

A2  
:

2

A3  
:

3

A4  
:

4

Objective Question

69 908569

The coefficient of variation for a Poisson distribution with  $\lambda(\text{mean})=5$  is \_\_\_\_\_ .

1. 31.1 percent
2. 44.7 percent
3. 35.2 percent
4. 58.9 percent

$\lambda$  (माध्य) =5 वाले किसी प्वॉइसन बंटन प्रसरण का गुणांक होता है :

1. 31.1 प्रतिशत
2. 44.7 प्रतिशत
3. 35.2 प्रतिशत
4. 58.9 प्रतिशत

A1  
:

1

A2  
:

2

A3  
:

3

A4  
:

4

Objective Question

70 908570

One factor Analysis of Variance (ANOVA) \_\_\_\_\_ .

1. is a perfect generalization of the t-test for paired observations.
2. requires that the number of observations in each group be identical
3. has less power when the number observations in each group is not identical
4. is extremally sensitive to slight departure from normality

प्रसरण (एनोवा) का एक घटक विश्लेषण \_\_\_\_\_ ।

1. युग्मित प्रेक्षणों हेतु t- परीक्षण का पूर्ण सामान्यिकरण है।
2. इसमें यह आवश्यकता है कि प्रत्येक समूह में प्रेक्षणों की संख्या समरूप (समान) हो।
3. इसका तब कम प्रभाव होता है जब प्रत्येक समूह में प्रेक्षणों की संख्या समरूप (समान) होती है।
4. प्रसामान्यतया से थोड़ा सा भी अलग होने के प्रति अत्यधिक संवेदनशील होता है।

A1  
:

1

A2  
:

2

A3  
:

3

A4  
:

4

Objective Question

71 908571