

Test Date : 24 Feb 2023

Test Slot : Slot 1

Subject : 32-Chinese

Paper I : 201-General Paper

Sl. No.1

QBID:13201001

The following table shows the percentage (%) distribution of number of doctors and number of female doctors working in seven different cities A-G. Number of doctors working in all the seven cities is 2400 and the ratio of male to female among them is 5:3. Based on the data in the table, answer the question.

City-wise Distribution of Doctors.

City	Distribution (%)	
	Doctors (%)	Female Doctors (%)
A	19	24
B	21	16
C	9	11
D	12	8
E	17	16
F	14	19
G	8	6

निम्नलिखित तालिका में सात विभिन्न शहरों A-G में कार्यरत चिकित्सकों और महिला चिकित्सकों की संख्या का प्रतिशत वितरण दर्शाया गया है। सभी सात शहरों में कार्यरत चिकित्सकों की संख्या 2400 है और इनमें पुरुष और महिला का अनुपात 5:3 है। इस तालिका में दिए गए आंकड़ों के आधार पर प्रश्न का उत्तर दीजिए :

चिकित्सकों का शहरवार वितरण

शहर	वितरण (%)	
	चिकित्सक (%)	महिला चिकित्सक (%)
A	19	24
B	21	16
C	9	11
D	12	8
E	17	16
F	14	19
G	8	6

Number of female doctors is more than the average number of female doctors (taking all seven cities together) in exactly _____ cities.

1. 2
2. 3
3. 4
4. 6

- (1) 1
- (2) 2
- (3) 3
- (4) 4

कुल _____ शहरों में महिला चिकित्सकों की संख्या महिला चिकित्सकों की औसत संख्या (सभी सात शहरों को एक साथ मिलाकर) से अधिक है।

1. 2
2. 3
3. 4
4. 6

- (1) 1
- (2) 2
- (3) 3
- (4) 4

2[Option ID=25102]
3[Option ID=25103]
4[Option ID=25104]

SI. No.2

QBID:13201002

The following table shows the percentage (%) distribution of number of doctors and number of female doctors working in seven different cities A-G. Number of doctors working in all the seven cities is 2400 and the ratio of male to female among them is 5:3. Based on the data in the table, answer the question.

City-wise Distribution of Doctors.

City	Distribution (%)	
	Doctors (%)	Female Doctors (%)
A	19	24
B	21	16
C	9	11
D	12	8
E	17	16
F	14	19
G	8	6

निम्नलिखित तालिका में सात विभिन्न शहरों A-G में कार्यरत चिकित्सकों और महिला चिकित्सकों की संख्या का प्रतिशत वितरण दर्शाया गया है। सभी सात शहरों में कार्यरत चिकित्सकों की संख्या 2400 है और इनमें पुरुष और महिला का अनुपात 5:3 है। इस तालिका में दिए गए आंकड़ों के आधार पर प्रश्न का उत्तर दीजिए :

चिकित्सकों का शहरवार वितरण

शहर	वितरण (%)	
	चिकित्सक (%)	महिला चिकित्सक (%)
A	19	24
B	21	16
C	9	11
D	12	8
E	17	16
F	14	19
G	8	6

In which of the following cities is the number of male doctors less than the number of female doctors?

1. B
2. D
3. E
4. F

- (1) 1
- (2) 2
- (3) 3
- (4) 4

निम्नलिखित में से किस शहर में पुरुष चिकित्सकों की संख्या महिला चिकित्सकों की संख्या से कम है ?

1. B
2. D
3. E
4. F

- (1) 1
- (2) 2
- (3) 3
- (4) 4

1[Option ID=25105]
2[Option ID=25106]
3[Option ID=25107]
4[Option ID=25108]

Question Description : general_paper_genarel paper_set 13_english_q2

SI. No.3

QBID:13201003

The following table shows the percentage (%) distribution of number of doctors and number of female doctors working in seven different cities A-G. Number of doctors working in all the seven cities is 2400 and the ratio of male to female among them is 5:3. Based on the data in the table, answer the question.

City-wise Distribution of Doctors.

City	Distribution (%)	
	Doctors (%)	Female Doctors (%)
A	19	24
B	21	16
C	9	11
D	12	8
E	17	16
F	14	19
G	8	6

निम्नलिखित तालिका में सात विभिन्न शहरों A-G में कार्यरत चिकित्सकों और महिला चिकित्सकों की संख्या का प्रतिशत वितरण दर्शाया गया है। सभी सात शहरों में कार्यरत चिकित्सकों की संख्या 2400 है और इनमें पुरुष और महिला का अनुपात 5:3 है। इस तालिका में दिए गए आंकड़ों के आधार पर प्रश्न का उत्तर दीजिए :

चिकित्सकों का शहरवार वितरण

शहर	वितरण (%)	
	चिकित्सक (%)	महिला चिकित्सक (%)
A	19	24
B	21	16
C	9	11
D	12	8
E	17	16
F	14	19
G	8	6

In city A, the number of female doctors is _____ % of the number of male doctors.

1. 90
2. 96
3. 64
4. 80

- (1) 1
- (2) 2
- (3) 3
- (4) 4

शहर A में महिला चिकित्सकों की संख्या पुरुष चिकित्सकों की संख्या का _____ % है।

1. 90
2. 96
3. 64
4. 80

- (1) 1
- (2) 2
- (3) 3
- (4) 4

1[Option ID=25109]
2[Option ID=25110]
3[Option ID=25111]
4[Option ID=25112]

Question Description : general_paper_genarel paper_set 13_english_q3

Sl. No.4
QBID:13201004

The following table shows the percentage (%) distribution of number of doctors and number of female doctors working in seven different cities A-G. Number of doctors working in all the seven cities is 2400 and the ratio of male to female among them is 5:3. Based on the data in the table, answer the question.

City-wise Distribution of Doctors.

City	Distribution (%)	
	Doctors (%)	Female Doctors (%)
A	19	24
B	21	16
C	9	11
D	12	8
E	17	16
F	14	19
G	8	6

निम्नलिखित तालिका में सात विभिन्न शहरों A-G में कार्यरत चिकित्सकों और महिला चिकित्सकों की संख्या का प्रतिशत वितरण दर्शाया गया है। सभी सात शहरों में कार्यरत चिकित्सकों की संख्या 2400 है और इनमें पुरुष और महिला का अनुपात 5:3 है। इस तालिका में दिए गए आंकड़ों के आधार पर प्रश्न का उत्तर दीजिए :

चिकित्सकों का शहरवार वितरण

शहर	वितरण (%)	
	चिकित्सक (%)	महिला चिकित्सक (%)
A	19	24
B	21	16
C	9	11
D	12	8
E	17	16
F	14	19
G	8	6

What is the difference between the average number of male doctors of cities A, B and C together and the average number of male doctors of cities E, F and G together?

1. 48
2. 50
3. 54
4. 56

- (1) 1
- (2) 2
- (3) 3
- (4) 4

A, B और C तीनों शहरों के पुरुष चिकित्सकों की औसत संख्या तथा E, F और G तीनों शहरों के पुरुष चिकित्सकों की औसत संख्या का अंतर कितना है ?

1. 48
2. 50
3. 54
4. 56

- (1) 1
- (2) 2
- (3) 3
- (4) 4

1[Option ID=25113]
2[Option ID=25114]
3[Option ID=25115]
4[Option ID=25116]

Question Description : general_paper_genarel paper_set 13_english_q4

Sl. No.5
QBID:13201005

The following table shows the percentage (%) distribution of number of doctors and number of female doctors working in seven different cities A-G. Number of doctors working in all the seven cities is 2400 and the ratio of male to female among them is 5:3. Based on the data in the table, answer the question.

City-wise Distribution of Doctors.

City	Distribution (%)	
	Doctors (%)	Female Doctors (%)
A	19	24
B	21	16
C	9	11
D	12	8
E	17	16
F	14	19
G	8	6

निम्नलिखित तालिका में सात विभिन्न शहरों A-G में कार्यरत चिकित्सकों और महिला चिकित्सकों की संख्या का प्रतिशत वितरण दर्शाया गया है। सभी सात शहरों में कार्यरत चिकित्सकों की संख्या 2400 है और इनमें पुरुष और महिला का अनुपात 5:3 है। इस तालिका में दिए गए आंकड़ों के आधार पर प्रश्न का उत्तर दीजिए :

चिकित्सकों का शहरवार वितरण

शहर	वितरण (%)	
	चिकित्सक (%)	महिला चिकित्सक (%)
A	19	24
B	21	16
C	9	11
D	12	8
E	17	16
F	14	19
G	8	6

What is the ratio of the number of female doctors in city D to the number of male doctors in City B?

1. 2:5
2. 1:5
3. 3:5
4. 4:7

- (1) 1
- (2) 2
- (3) 3
- (4) 4

शहर D में महिला चिकित्सकों और शहर B में पुरुष चिकित्सकों की संख्या का अनुपात क्या है ?

1. 2:5
2. 1:5
3. 3:5
4. 4:7

- (1) 1
- (2) 2
- (3) 3
- (4) 4

1[Option ID=25117]
2[Option ID=25118]
3[Option ID=25119]
4[Option ID=25120]

Question Description : general_paper_genarel paper_set 13_english_q5

Sl. No.6
QBID:13201006

Given below are two statements:

Statement-I : In learning, law of multiple response means an individual responds to a new situation on the basis of the responses made by him in similar situations in the past.

Statement-II: In learning, law of analogy implies when an individual is confronted with a new situation, he responds in a variety of ways before arriving at the correct response.

In the light of the above statements, choose the correct answer from the options given below:

1. Both Statement I and Statement II are true.
2. Both Statement I and Statement II are false.
3. Statement I is true but Statement II is false.
4. Statement I is false but Statement II is true.

- (1) 1
(2) 2
(3) 3
(4) 4

नीचे दो कथन दिए गए हैं:

कथन I : अधिगम में बहुविध अनुक्रिया नियम से किसी व्यक्ति का भूतकाल में सदृश स्थितियों में उसकी अनुक्रियाओं के आधार पर नई स्थिति में प्रत्योत्तर अभिप्रेत है ।

कथन II : अधिगम में अनुरूपता नियम का तात्पर्य किसी व्यक्ति का नई स्थिति से सामना होने पर उसके सही अनुक्रिया देने से पूर्व उसके द्वारा विभिन्न तरीकों से दिये गये प्रत्योत्तर से है ।

उपरोक्त कथन के आलोक में, नीचे दिए गए विकल्पों में से सही उत्तर का चयन कीजिए:

1. कथन I और II दोनों सत्य हैं।
2. कथन I और II दोनों असत्य हैं।
3. कथन I सत्य है, लेकिन कथन II असत्य है।
4. कथन I असत्य है, लेकिन कथन II सत्य है।

- (1) 1
(2) 2
(3) 3
(4) 4

1[Option ID=25121]
2[Option ID=25122]
3[Option ID=25123]
4[Option ID=25124]

Question Description : general_paper_genarel paper_set 13_english_q6

Sl. No.7

QBID:13201007

In ASSURE model of learning, ABCD stands for well-stated learning objectives. What does 'C' stands for?

1. Conditioner
2. Conditions
3. Creativity
4. Confusion

- (1) 1
(2) 2
(3) 3
(4) 4

अधिगम के ऐशयोर प्रतिरूप में एबीसीडी सु-वर्णित अधिगम के उद्देश्यो का निरूपक है । इसमें 'सी' किसका द्योतक है :

1. कंडीशनर
2. कंडीशन्स
3. क्रिएटिविटी
4. कंफ्यूजन

- (1) 1
- (2) 2
- (3) 3
- (4) 4

1[Option ID=25125] Question Description : general_paper_genarel paper_set 13_english_q7
2[Option ID=25126]
3[Option ID=25127]
4[Option ID=25128]

SI. No.8
QBID:13201008

The field of study concerned with the construction of thought processes, including remembering, problem solving and decision-making is called:

- 1. Cognitive development
- 2. Pedagogy
- 3. Epistemology
- 4. Connectivism

- (1) 1
- (2) 2
- (3) 3
- (4) 4

स्मरण, समस्या समाधान और निर्णयन सहित विचार प्रक्रिया निर्माण से संबंधित अध्ययन का क्षेत्र कहलाता है :

- 1. संज्ञानात्मक विकास
- 2. शिक्षाशास्त्र
- 3. ज्ञानमीमांसा
- 4. संबंधन

- (1) 1
- (2) 2
- (3) 3
- (4) 4

1[Option ID=25129] Question Description : general_paper_genarel paper_set 13_english_q8
2[Option ID=25130]
3[Option ID=25131]
4[Option ID=25132]

SI. No.9
QBID:13201009

Given below are two statements:

Statement-I: The current SWAYAM platform has been developed by Ministry of Education and IIT, Delhi.

Statement-II: SWAYAM is designed to achieve the five cardinal principles of education.

In the light of the above statements, choose the most appropriate answer from the options given below:

- 1. Both Statement I and Statement II are correct.
- 2. Both Statement I and Statement II are incorrect.
- 3. Statement I is correct but Statement II is incorrect.
- 4. Statement I is incorrect but Statement II is correct.

- (1) 1
- (2) 2
- (3) 3
- (4) 4

नीचे दो कथन दिए गए हैं:

कथन I : स्वयम का वर्तमान प्लेटफॉर्म शिक्षा मंत्रालय और भारतीय प्रौद्योगिकी संस्थान, दिल्ली द्वारा बनाया गया है ।

कथन II : स्वयम का अभिकल्प शिक्षा के पांच मुख्य सिद्धांतों की प्राप्ति हेतु तैयार किया गया है ।

उपरोक्त कथन के आलोक में, नीचे दिए गए विकल्पों में से सबसे उपयुक्त उत्तर का चयन कीजिए:

1. कथन I और II दोनों सही हैं।
2. कथन I और II दोनों गलत हैं।
3. कथन I सही है, लेकिन कथन II गलत है।
4. कथन I गलत है, लेकिन कथन II सही है।

(1) 1

(2) 2

(3) 3

(4) 4

1[Option ID=25133] Question Description : general_paper_genarel paper_set 13_english_q9
2[Option ID=25134]
3[Option ID=25135]
4[Option ID=25136]

Sl. No.10

QBID:13201010

Match List I with List II :

LIST I (Channels of SWAYAM Prabha)		LIST II (Subjects Covered)	
A.	Channel 03 : PRABODH	I.	Social Science-3, Management, Library science, Information Science and related subjects.
B.	Channel 04 : SAARASWAT	II.	Social science-1, Social and Behavioural sciences
C.	Channel 05 : PRABANDHAN	III.	Social science-4, Law, Legal studies, Human rights and related subjects.
D.	Channel 06 : VIDHIK	IV.	Social science-2, Education, Psychology, Home science and related subjects.

Choose the correct answer from the options given below:

1. A-II, B-IV, C-I, D-III
2. A-IV, B-I, C-II, D-III
3. A-IV, B-II, C-III, D-I
4. A-III, B-II, C-IV, D-I

(1) 1

(2) 2

(3) 3

(4) 4

सूची I के साथ सूची II का मिलान कीजिए :

सूची I (स्वयम प्रभा के चैनल)		सूची II (शामिल विषय)	
A.	चैनल 03: प्रबोध	I.	सामाजिक विज्ञान-3, प्रबंधन, पुस्तकालय विज्ञान, सूचना विज्ञान और संबद्ध विषय
B.	चैनल 04: सारस्वत	II.	सामाजिक विज्ञान-1, सामाजिक और व्यावहारिक विज्ञान
C.	चैनल 05: प्रबंधन	III.	सामाजिक विज्ञान-4, विधि विधिक अध्ययन, मानवाधिकार और संबद्ध विषय
D.	चैनल 06: विधिक	IV.	सामाजिक विज्ञान-2, शिक्षा, मनोविज्ञान, ग्रह विज्ञान और सम्बद्ध विषय

नीचे दिए गए विकल्पों में से सही उत्तर का चयन कीजिए :

1. A-II, B-IV, C-I, D-III
2. A-IV, B-I, C-II, D-III
3. A-IV, B-II, C-III, D-I
4. A-III, B-II, C-IV, D-I

- (1) 1
(2) 2
(3) 3
(4) 4

1[Option ID=25137]
2[Option ID=25138]
3[Option ID=25139]
4[Option ID=25140]

Question Description : general_paper_genarel paper_set 13_english_q10

Sl. No.11
QBID:13201011

One of the commonly used abbreviations in report writing by researchers is 'vide' which means.

1. refer to
2. example
3. after
4. against

- (1) 1
(2) 2
(3) 3
(4) 4

शोधकर्ता के द्वारा रिपोर्ट (प्रतिवेदन) लेखन में सामान्यतः प्रयुक्त किए जाने वाले संक्षिप्ताक्षरों में से एक 'vide' (वाइड) का आशय है :

1. से संदर्भित
2. उदाहरण
3. बाद
4. विरुद्ध

- (1) 1
(2) 2
(3) 3
(4) 4

1[Option ID=25141]
2[Option ID=25142]
3[Option ID=25143]
4[Option ID=25144]

Question Description : general_paper_genarel paper_set 13_english_q11

Sl. No.12
QBID:13201012

Given below are two statements:

Statement-I: Non-parametric tests are often more efficient compared to tests of significance or parametric tests.

Statement-II: Non-parametric tests can be applicable to ordinal or nominal scale data.

In the light of the above statements, choose the correct answer from the options given below:

1. Both Statement I and Statement II are true.
2. Both Statement I and Statement II are false.
3. Statement I is true but Statement II is false.
4. Statement I is false but Statement II is true.

(1) 1

(2) 2

(3) 3

(4) 4

नीचे दो कथन दिए गए हैं:

कथन I : गैर-प्राचलिक परीक्षण, सार्थकता के परीक्षण अथवा प्राचलिक परीक्षणों की तुलना में प्रायः अधिक प्रभावोत्पादक (दक्ष) होते हैं।

कथन II : गैर-प्राचलिक परीक्षण, क्रम सूचक अथवा नामिक स्केल (पैमाने के) आंकड़ों पर अनुप्रयोज्य हो सकते हैं।

उपरोक्त कथन के आलोक में, नीचे दिए गए विकल्पों में से सही उत्तर का चयन कीजिए:

1. कथन I और II दोनों सत्य हैं।
2. कथन I और II दोनों असत्य हैं।
3. कथन I सत्य है, लेकिन कथन II असत्य है।
4. कथन I असत्य है, लेकिन कथन II सत्य है।

(1) 1

(2) 2

(3) 3

(4) 4

1[Option ID=25145]

2[Option ID=25146]

3[Option ID=25147]

4[Option ID=25148]

Question Description : general_paper_genarel paper_set 13_english_q12

Sl. No.13

QBID:13201013

Given below are two statements:

Statement-I: Ethical violations occur when researchers engage in plagiarism or falsifying data.

Statement-II: A researcher cannot cite a well known and established fact without providing citation (reference), otherwise it will be termed as unethical.

In the light of the above statements, choose the correct answer from the options given below:

1. Both Statement I and Statement II are true.
2. Both Statement I and Statement II are false.
3. Statement I is true but Statement II is false.
4. Statement I is false but Statement II is true.

(1) 1

(2) 2

(3) 3

(4) 4

नीचे दो कथन दिए गए हैं:

कथन I : नैतिक उल्लंघन तब घटित होते हैं जब शोधकर्ता साहित्यिक चोरी अथवा आंकड़े को अयथार्थ रूप में प्रस्तुत करने में भाग लेता है।

कथन II : कोई शोधकर्ता किसी सुविख्यात और स्थापित तथ्य को बिना उद्धरण (संदर्भ) प्रदान किए इसे उद्धृत नहीं कर सकता, अन्यथा यह अनैतिक के रूप में अभिहित किया जाएगा।

उपरोक्त कथन के आलोक में, नीचे दिए गए विकल्पों में से सही उत्तर का चयन कीजिए:

1. कथन I और II दोनों सत्य हैं।
2. कथन I और II दोनों असत्य हैं।
3. कथन I सत्य है, लेकिन कथन II असत्य है।
4. कथन I असत्य है, लेकिन कथन II सत्य है।

(1) 1

(2) 2

(3) 3

(4) 4

1[Option ID=25149] Question Description : general_paper_genarel paper_set 13_english_q13
2[Option ID=25150]
3[Option ID=25151]
4[Option ID=25152]

Sl. No.14
QBID:13201014

An approach to research in which the investigator creates an environment similar to one of interest in order to study behaviours in a realistic way, refers to:

1. Naturalistic observation
2. Simulation
3. Longitudinal research
4. Correlational research

(1) 1

(2) 2

(3) 3

(4) 4

शोध करने के एक उपागम जिसमें कोई अनुसंधानकर्ता वास्तविक तरीके से व्यवहार - अध्ययन के क्रम में किसी रुचि अनुरूप एक परिवेश निर्मित करता है, यह किससे संबंधित है

1. प्राकृतिक प्रेक्षण
2. अनुरूपण (सिमुलेशन)
3. अनुदैर्घ्य शोध
4. सहसंबंधिक शोध

(1) 1

(2) 2

(3) 3

(4) 4

1[Option ID=25153] Question Description : general_paper_genarel paper_set 13_english_q14
2[Option ID=25154]
3[Option ID=25155]
4[Option ID=25156]

Sl. No.15
QBID:13201015

Identify the rules that you would follow while designing questions for a questionnaire.

- A. Avoid ambiguous terms in questions.
- B. Avoid long questions.
- C. Ask some leading questions.
- D. Avoid double-barrelled questions.
- E. Avoid very specific questions.

Choose the correct answer from the options given below:

- 1. A, B and C only
- 2. B, C and D only
- 3. A, B and D only
- 4. B, C and E only

(1) 1

(2) 2

(3) 3

(4) 4

उन नियमों के बारे में बताइए जिनका किसी प्रश्नावली हेतु प्रश्नों को बनाते समय आप पालन करेंगे ।

- A. प्रश्नों में द्वयार्थी पदों से बचना ।
- B. लंबे प्रश्नों से बचना
- C. कुछ मुख्य प्रश्नों को पूछना
- D. डबल-बैरेल प्रश्नों से बचना
- E. बहुत विशिष्ट प्रश्नों से बचना

नीचे दिए गए विकल्पों में से सबसे उपयुक्त उत्तर का चयन कीजिए:

- 1. केवल A, B और C
- 2. केवल B, C और D
- 3. केवल A, B और D
- 4. केवल B, C और E

(1) 1

(2) 2

(3) 3

(4) 4

1[Option ID=25157]
2[Option ID=25158]
3[Option ID=25159]
4[Option ID=25160]

Question Description : general_paper_genarel paper_set 13_english_q15

Sl. No.16

QBID:13201016

The Shannon and Weaver mathematical model of communication was based on a linear system of:

- 1. Print communication
- 2. Electronic communication
- 3. New communication
- 4. Traditional communication

(1) 1

(2) 2

(3) 3

(4) 4

शैन्न और वीवर गणितीय संप्रेषण निदर्श निम्नांकित में से किसकी रेखीय प्रणाली पर आधारित था ?

- 1. मुद्रण संचार
- 2. इलेक्ट्रॉनिक संचार
- 3. नूतन संचार
- 4. परंपरागत संचार

(1) 1

(2) 2

(3) 3

(4) 4

1[Option ID=25161] Question Description : general_paper_genarel paper_set 13_english_q16
2[Option ID=25162]
3[Option ID=25163]
4[Option ID=25164]

Sl. No.17

QBID:13201017

Real time communication media are known as:

1. Vertical media
2. Asynchronous media
3. Synchronous media
4. Grapevine media

(1) 1

(2) 2

(3) 3

(4) 4

रियल टाइम संचार माध्यम कहलाते हैं :

1. उर्ध्वस्तर माध्यम
2. असमकालिक माध्यम
3. समकालिक माध्यम
4. जनप्रवाद माध्यम

(1) 1

(2) 2

(3) 3

(4) 4

1[Option ID=25165] Question Description : general_paper_genarel paper_set 13_english_q17
2[Option ID=25166]
3[Option ID=25167]
4[Option ID=25168]

Sl. No.18

QBID:13201018

The simplified communication model created by Wilbur Schramm initially had the elements of :

- A. An encoding source
- B. A noise breaker
- C. A noise marker
- D. A message for transmission
- E. A decoder to decode the message.

Choose the correct answer from the options given below:

1. A, B, C only
2. B, C, D only
3. C, D, E only
4. A, D, E only

(1) 1

(2) 2

(3) 3

(4) 4

विल्बर स्कैम द्वारा बनाए गए सरलीकृत संचार प्रतिरूप में आरंभ में निम्नांकित अवयव थे :

- A. कूटबद्ध करने का स्रोत
- B. ध्वनि भंजक
- C. ध्वनि चिह्नक
- D. पारेषण के लिए संदेश
- E. संदेश के विकूटन हेतु विकोडक

नीचे दिए गए विकल्पों में से सही उत्तर चुनिए :

- 1. केवल A, B, C
- 2. केवल B, C, D
- 3. केवल C, D, E
- 4. केवल A, D, E

(1) 1

(2) 2

(3) 3

(4) 4

1[Option ID=25169]

Question Description : general_paper_genarel paper_set 13_english_q18

2[Option ID=25170]

3[Option ID=25171]

4[Option ID=25172]

Sl. No.19

QBID:13201019

Which of the following are referred to as net ideologists?

- A. Harold Innis
- B. Marshall McLuhan
- C. Algore
- D. Nicholas Negroponte
- E. Manuel Castells

Choose the correct answer from the options given below:

- 1. A, B, C only
- 2. B, C, D only
- 3. C, D, E only
- 4. A, D, E only

(1) 1

(2) 2

(3) 3

(4) 4

निम्नांकित में से किन्हें नेट सिद्धांतवादी कहा जाता है :

- A. हेरल्ड इनिस
- B. मार्शल मैकलुहन
- C. अलगोरे
- D. निकोलस नेग्रोपांट
- E. मैन्यूल कैस्टेल्स

नीचे दिए गए विकल्पों में से सही उत्तर चुनिए :

- 1. केवल A, B, C
- 2. केवल B, C, D
- 3. केवल C, D, E
- 4. केवल A, D, E

(1) 1

(2) 2

(3) 3

(4) 4

1[Option ID=25173]
2[Option ID=25174]
3[Option ID=25175]
4[Option ID=25176]

Question Description : general_paper_genarel paper_set 13_english_q19

Sl. No.20

QBID:13201020

Given below are two statements:

Statement-I: New communication media have made the privatization of public spaces possible.

Statement-II: The above tendency has led to the emergence of cyber sphere in the world.

In the light of the above statements, choose the correct answer from the options given below:

1. Both Statement I and Statement II are true.
2. Both Statement I and Statement II are false.
3. Statement I is true but Statement II is false.
4. Statement I is false but Statement II is true.

(1) 1

(2) 2

(3) 3

(4) 4

नीचे दो कथन दिए गए हैं:

कथन I : नए संचार माध्यमों के कारण सार्वजनिक स्थानों का निजीकरण संभव हो पाया है ।

कथन II : उपर्युक्त प्रवृत्ति के परिणामस्वरूप विश्व में साइबर क्षेत्र उद्दीयमान हुआ है ।

उपरोक्त कथन के आलोक में, नीचे दिए गए विकल्पों में से सही उत्तर का चयन कीजिए:

1. कथन I और II दोनों सही हैं।
2. कथन I और II दोनों गलत हैं।
3. कथन I सही है, लेकिन कथन II गलत है।
4. कथन I गलत है, लेकिन कथन II सही है।

(1) 1

(2) 2

(3) 3

(4) 4

1[Option ID=25177]
2[Option ID=25178]
3[Option ID=25179]
4[Option ID=25180]

Question Description : general_paper_genarel paper_set 13_english_q20

Sl. No.21

QBID:13201021

A man lends out an amount of Rs.25,000 into two parts. The first part of the money is lent out at 8% simple interest and the second part of the money is lent out at 8.5% simple interest. If total annual income of the man is Rs.2031.25, then find how much money is lent out at the rate of 8.5% ?

1. Rs. 9,000
2. Rs. 15,000
3. Rs. 18,750
4. Rs. 6,250

(1) 1

(2) 2

(3) 3

(4) 4

कोई व्यक्ति 25,000 रुपए की धनराशि को दो हिस्सों में उधार देता है। धनराशि के पहले हिस्से को 8% के साधारण व्याज की दर पर और धनराशि के दूसरे हिस्से को 8.5% के साधारण व्याज की दर पर उधार दिया जाता है। यदि व्यक्ति की कुल वार्षिक आय 2031.25 रुपए है तो 8.5% की दर पर उधार दी गयी धनराशि ज्ञात कीजिए।

1. 9000 रुपए
2. 15000 रुपए
3. 18750 रुपए
4. 6250 रुपए

- (1) 1
(2) 2
(3) 3
(4) 4

1[Option ID=25181] Question Description : general_paper_genarel paper_set 13_english_q21
2[Option ID=25182]
3[Option ID=25183]
4[Option ID=25184]

Sl. No.22
QBID:13201022

In a certain coded language the word MEDICINE is called as: EOJDJEFM. How the word COMPUTER will be coded in the same coded language?

1. RFVUNQPC
2. RFUVQNPC
3. CPNQVUFR
4. CPQNUVFR

- (1) 1
(2) 2
(3) 3
(4) 4

किसी निश्चित कूटबद्ध भाषा में MEDICINE को EOJDJEFM के रूप में कूटबद्ध किया जाता है। तब COMPUTER शब्द को उसी प्रकार से कूटबद्ध की जाने वाली भाषा में कैसे कूटबद्ध किया जाएगा ?

1. RFVUNQPC
2. RFUVQNPC
3. CPNQVUFR
4. CPQNUVFR

- (1) 1
(2) 2
(3) 3
(4) 4

1[Option ID=25185] Question Description : general_paper_genarel paper_set 13_english_q22
2[Option ID=25186]
3[Option ID=25187]
4[Option ID=25188]

Sl. No.23
QBID:13201023

The sum of first n even natural numbers is 1560. Find the value of n.

1. 41
2. 39
3. 40
4. 38

- (1) 1
(2) 2
(3) 3
(4) 4

प्रथम n सम प्राकृतिक संख्याओं का योगफल 1560 है। n का मान ज्ञात कीजिए।

1. 41
2. 39
3. 40
4. 38

- (1) 1
- (2) 2
- (3) 3
- (4) 4

1[Option ID=25189] Question Description : general_paper_genarel paper_set 13_english_q23
2[Option ID=25190]
3[Option ID=25191]
4[Option ID=25192]

SI. No.24
QBID:13201024

In a two digit number, if it is known that the digit at the unit's place in the number exceeds the digit at the ten's place by 2 and that the product of the given number and the sum of the digits of the number is 280. Find the number.

1. 24
2. 46
3. 35
4. 53

- (1) 1
- (2) 2
- (3) 3
- (4) 4

किसी दो अंक की संख्या में, यदि यह ज्ञात है कि इकाई के स्थान की संख्या दहाई स्थान की संख्या से दो अधिक है और दी गयी संख्या और उस संख्या के अंको के योग का गुणनफल 280 है, तो वह संख्या ज्ञात कीजिए।

1. 24
2. 46
3. 35
4. 53

- (1) 1
- (2) 2
- (3) 3
- (4) 4

1[Option ID=25193] Question Description : general_paper_genarel paper_set 13_english_q24
2[Option ID=25194]
3[Option ID=25195]
4[Option ID=25196]

SI. No.25
QBID:13201025

Sum of the cost price of two articles A and B is Rs.26,000. Both the articles are sold at a profit of 20% and 40%, respectively. However, the selling price of the two articles remains the same. Find the difference in the cost price of A and B.

1. Rs. 2,500
2. Rs. 2,000
3. Rs. 1,000
4. Rs. 3,000

- (1) 1
- (2) 2
- (3) 3
- (4) 4

दो वस्तुओं A और B के लागत मूल्य का योग 26000 रुपए है। दोनों वस्तुओं को क्रमशः 20% और 40% के लाभ पर बेचा जाता है, फिर भी दोनों वस्तुओं का बिक्री मूल्य वही रहता है। A और B के लागत मूल्य में अंतर को ज्ञात कीजिए।

1. 2500 रुपए
2. 2000 रुपए
3. 1000 रुपए
4. 3000 रुपए

- (1) 1
(2) 2
(3) 3
(4) 4

1[Option ID=25197] Question Description : general_paper_genarel paper_set 13_english_q25
2[Option ID=25198]
3[Option ID=25199]
4[Option ID=25200]

Sl. No.26

QBID:13201026

An informal fallacy where something is assumed as a fact because the contrary of that is not yet proven to be true is called:

1. Begging the question
2. Appeal to Ignorance
3. Complex Question
4. Red Herring

- (1) 1
(2) 2
(3) 3
(4) 4

एक अनाकारिक दोष, जहां किसी चीज को एक तथ्य के रूप में माना जाता है क्योंकि उसका विपरीत अभी तक सही सिद्ध नहीं हुआ है, इसको क्या कहा जाता है ?

1. आत्माश्रयता
2. पराज्ञानमूलक युक्ति
3. छल प्रश्न
4. रेड हेरिंग (Red Herring)

- (1) 1
(2) 2
(3) 3
(4) 4

1[Option ID=25201] Question Description : general_paper_genarel paper_set 13_english_q26
2[Option ID=25202]
3[Option ID=25203]
4[Option ID=25204]

Sl. No.27

QBID:13201027

Which of the following propositions are logically equivalent?

- A. Some men are arrogant human beings.
- B. Some non-arrogant human beings are not non-men.
- C. Some men are not non-arrogant human beings.
- D. Some arrogant human beings are men.

Choose the most appropriate answer from the options given below:

1. B and D only
2. A and C only
3. A, B and C only
4. A, C and D only

- (1) 1
(2) 2

(3) 3

(4) 4

निम्नलिखित में से कौनसी प्रतिज्ञप्तियां तार्किक रूप से समतुल्य हैं ?

- A. कुछ पुरुष अहंकारी मनुष्य हैं ।
- B. कुछ गैर-अहंकारी मनुष्य गैर-पुरुष नहीं हैं ।
- C. कुछ पुरुष गैर-अहंकारी मनुष्य नहीं हैं ।
- D. कुछ अहंकारी मनुष्य पुरुष हैं ।

नीचे दिए गए विकल्पों में से सबसे उपयुक्त उत्तर का चयन कीजिए:

1. केवल B और D
2. केवल A और C
3. केवल A, B और C
4. केवल A, C और D

(1) 1

(2) 2

(3) 3

(4) 4

1[Option ID=25205]

Question Description : general_paper_genarel paper_set 13_english_q27

2[Option ID=25206]

3[Option ID=25207]

4[Option ID=25208]

Sl. No.28

QBID:13201028

If the statement 'some cricketers are fast bowlers' is given as false then which of the following statements could be immediately inferred to be false?

1. All cricketers are fast bowlers.
2. No cricketers are fast bowlers.
3. Some cricketers are not fast bowlers.
4. Some non-fast bowlers are not non-cricketers.

(1) 1

(2) 2

(3) 3

(4) 4

यदि इस कथन - 'कुछ क्रिकेट खिलाड़ी तेज गेंदबाज हैं' को गलत के रूप में दिया गया है तो निम्नलिखित में से किस कथन के गलत होने का तात्कालिक रूप से अनुमान किया जा सकता है ?

1. सभी क्रिकेट खिलाड़ी तेज गेंदबाज हैं ।
2. कोई भी क्रिकेट खिलाड़ी तेज गेंदबाज नहीं है ।
3. कुछ क्रिकेट खिलाड़ी तेज गेंदबाज नहीं हैं ।
4. कुछ गैर-तेज गेंदबाज गैर-क्रिकेट खिलाड़ी नहीं हैं ।

(1) 1

(2) 2

(3) 3

(4) 4

1[Option ID=25209]

Question Description : general_paper_genarel paper_set 13_english_q28

2[Option ID=25210]

3[Option ID=25211]

4[Option ID=25212]

Sl. No.29

QBID:13201029

Which of the following statements are so related that they cannot both be true, although both may be false?

- A. All sports persons are athletes.
- B. No sports persons are athletes.
- C. Some sports persons are athletes.
- D. Some sports persons are not athletes.

Choose the most appropriate answer from the options given below:

- 1. A and B only
- 2. C and D only
- 3. A and D only
- 4. B and C only

(1) 1

(2) 2

(3) 3

(4) 4

निम्नलिखित में से कौन से कथन इस तरह संबंधित है कि वे दोनों सही नहीं हो सकते, यद्यपि दोनों गलत हो सकते हैं ?

- A. सभी खिलाड़ी एथलीट्स हैं ।
- B. कोई भी खिलाड़ी एथलीट नहीं है ।
- C. कुछ खिलाड़ी एथलीट हैं ।
- D. कुछ खिलाड़ी एथलीट नहीं हैं ।

नीचे दिए गए विकल्पों में से सबसे उपयुक्त उत्तर का चयन कीजिए:

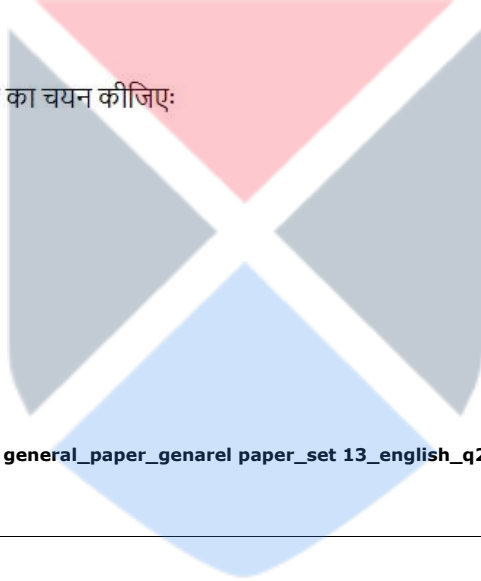
- 1. केवल A और B
- 2. केवल C और D
- 3. केवल A और D
- 4. केवल B और C

(1) 1

(2) 2

(3) 3

(4) 4



1[Option ID=25213]

2[Option ID=25214]

3[Option ID=25215]

4[Option ID=25216]

Question Description : general_paper_genarel paper_set 13_english_q29

SI. No.30

QBID:13201030

According to classical Indian school of logic (Nyāya) which of the following steps of inference (anumāna) corresponds to Upanaya (application of the universal concomitance to the presented case)?

- 1. Socrates is mortal.
- 2. Because he is a man.
- 3. Whoever is a man is a mortal, e.g. Plato.
- 4. Socrates is a man who is invariably a mortal.

(1) 1

(2) 2

(3) 3

(4) 4

भारतीय शास्त्रीय तर्कशास्त्र मत (न्याय) के अनुसार अनुमान का निम्नलिखित में से कौनसा चरण उपनय (प्रस्तुत किए गए मामले के प्रति सार्वभौमिक सहवर्तिता का अनुप्रयोग) के अनुरूप है ?

- 1. सुकरात नश्वर है ।
- 2. क्योंकि वह मनुष्य है ।
- 3. जो कोई भी मनुष्य है, वह नश्वर है, जैसे - प्लेटो ।
- 4. सुकरात एक मनुष्य है, जो निरपवाद रूप से नश्वर है ।

(1) 1

(2) 2

(3) 3

(4) 4

1[Option ID=25217] Question Description : general_paper_genarel paper_set 13_english_q30
2[Option ID=25218]
3[Option ID=25219]
4[Option ID=25220]

SI. No.31
QBID:13201031

In ICT, which one of the following pairs of acronyms and its expansion is incompatible?

1. .csv - Comma Separated Variables
2. .rtf - Rich Text Format
3. .pdf - Portable Document Format
4. .png - Portable Network Graphics

(1) 1

(2) 2

(3) 3

(4) 4

आईसीटी में, निम्नलिखित में से कौन-सा परिवर्णी और उसके विस्तार का युग्म असंगत है ?

1. .csv - कॉमा सेपरेटेड वैरिएबल्स
2. .rtf - रिच टेक्स्ट फॉरमैट
3. .pdf - पोर्टेबल डॉक्यूमेंट फॉरमैट
4. .png - पोर्टेबल नेटवर्क ग्राफिक्स

(1) 1

(2) 2

(3) 3

(4) 4

1[Option ID=25221] Question Description : general_paper_genarel paper_set 13_english_q31
2[Option ID=25222]
3[Option ID=25223]
4[Option ID=25224]

SI. No.32
QBID:13201032

Identify the correct order of the words A-D given below to complete the following sentences about College Registration Systems: _____ is a type of registration system that uses finger prints or retina scans to register students. A type of registration that uses a form that has been completed with a pencil and is then scanned by a machine after being completed is called _____ registration. A tag that uses microchips and radio signals worn by all students that registers them when they enter the classroom is called _____ registration. _____ are made of plastic and contain a chip that can be swiped through a machine to register the student.

- A. Smart Cards
- B. OMR
- C. Biometric
- D. RFID

Choose the correct answer from the options given below:

1. A, B, D, C
2. B, C, A, D
3. D, A, C, B
4. C, B, D, A

(1) 1

(2) 2

(3) 3

(4) 4

महाविद्यालय-पंजीयन प्रणाली के बारे में निम्नलिखित कथन (वाक्य) को पूर्ण करने हेतु नीचे दिए गए शब्दों A-D के सही क्रम को पहचानिए :

_____ पंजीयन प्रणाली का एक प्रकार है जो विद्यार्थियों के पंजीयन हेतु अंगुलिछापों अथवा रेटिना स्कैन करने का प्रयोग करता है । पंजीयन का एक प्रकार जिसमें एक ऐसे फार्म का उपयोग किया जाता है जिसे पेंसिल से पूरा भरा गया होता है और पूर्ण भरे जाने के बाद मशीन द्वारा स्कैन किया जाता है तो वह _____ पंजीयन कहलाता है । एक टैग जिसमें सभी विद्यार्थियों द्वारा धारित माइक्रोचिप और रेडियों सिग्नल के प्रयोग से उनका पंजीयन होता है जब वे कक्षा में प्रविष्ट होते हैं, यह _____ पंजीयन कहलाता है । _____ प्लास्टिक का बना होता है जिसमें एक चिप डाली गयी होती है और जिसको विद्यार्थी के पंजीयन हेतु मशीन के माध्यम से स्वाइप किया जा सकता है ।

- A. स्मार्ट कार्ड
- B. ओएमआर
- C. बायोमेट्रिक
- D. आरएफआईडी

नीचे दिए गए विकल्पों में से सही उत्तर का चयन कीजिए:

- 1. A, B, D, C
- 2. B, C, A, D
- 3. D, A, C, B
- 4. C, B, D, A

- (1) 1
- (2) 2
- (3) 3
- (4) 4

1[Option ID=25225]
2[Option ID=25226]
3[Option ID=25227]
4[Option ID=25228]

Question Description : general_paper_genarel paper_set 13_english_q32

Sl. No.33
QBID:13201033

Given below are two statements: (1 KB = 1024 bytes)

Statement-I: 0.2 terabytes (TB) is equal to 204.8 gigabytes (GB)

Statement-II: 1 petabyte (PB) is equal to 2^{53} bits.

In the light of the above statements, choose the correct answer from the options given below:

- 1. Both Statement I and Statement II are true.
- 2. Both Statement I and Statement II are false.
- 3. Statement I is true but Statement II is false.
- 4. Statement I is false but Statement II is true.

- (1) 1
- (2) 2
- (3) 3
- (4) 4

नीचे दो कथन दिए गए हैं: (1 KB = 1024 बाइट्स)

कथन I : 0.2 टेराबाइट (टीबी), 204.8 गीगाबाइट (जीबी) के बराबर होता है ।

कथन II : 1 पेटाबाइट (पीबी), 2^{53} बिट्स के बराबर होता है ।

उपरोक्त कथन के आलोक में, नीचे दिए गए विकल्पों में से सही उत्तर का चयन कीजिए:

1. कथन I और II दोनों सत्य हैं।
2. कथन I और II दोनों असत्य हैं।
3. कथन I सत्य है, लेकिन कथन II असत्य है।
4. कथन I असत्य है, लेकिन कथन II सत्य है।

(1) 1

(2) 2

(3) 3

(4) 4

1[Option ID=25229]

Question Description : general_paper_genarel paper_set 13_english_q33

2[Option ID=25230]

3[Option ID=25231]

4[Option ID=25232]

Sl. No.34

QBID:13201034

Which of the following statements are true?

- A. WWW is a collection of multimedia web pages stored on a website.
- B. URLs specify the location of all web pages.
- C. Web resources are accessed by Windows Operating System.

Choose the correct answer from the options given below:

1. A and B only
2. A and C only
3. B and C only
4. A, B and C

(1) 1

(2) 2

(3) 3

(4) 4

निम्नलिखित कौन-से कथन सही हैं ?

- A. WWW किसी वेबसाइट पर संग्रहित मल्टीमीडिया वेब पेजों का एक संग्रह है ।
- B. URL सभी वेब पेजों की अवस्थिति को विनिर्दिष्ट करता है ।
- C. विंडोज ऑपरेटिंग सिस्टम से वेब संसाधन प्राप्त होते हैं ।

नीचे दिए गए विकल्पों में से सबसे उपयुक्त उत्तर का चयन कीजिए:

1. केवल A और B
2. केवल A और C
3. केवल B और C
4. A, B और C

(1) 1

(2) 2

(3) 3

(4) 4

1[Option ID=25233]

Question Description : general_paper_genarel paper_set 13_english_q34

2[Option ID=25234]

3[Option ID=25235]

4[Option ID=25236]

Match List I with List II

LIST I (Storage Device or Media)		LIST II (Description)	
A.	Blue-ray disc	I.	Non-volatile memory that can only be read from and not written to
B.	SSD	II.	Optical storage media that allows very high storage capacity by using blue/violet laser technology.
C.	ROM	III.	Volatile memory that stores data, programs, and the parts of the operating system that are currently in use.
D.	RAM	IV.	Device that stores data by controlling the movement of electrons within a microchip; there are no moving parts.

Choose the correct answer from the options given below:

1. A-I, B-IV, C-II, D-III
2. A-III, B-I, C-IV, D-II
3. A-IV, B-II, C-I, D-III
4. A-II, B-IV, C-I, D-III

- (1) 1
(2) 2
(3) 3
(4) 4

सूची I के साथ सूची II का मिलान कीजिए :

सूची I (भण्डारण युक्ति अथवा मीडिया)		सूची II (वर्णन)	
A.	ब्लू-रे डिस्क	I.	गैर-अस्थायी मेमोरी जिसे केवल पढ़ा जा सकता है और उस पर लिखा नहीं जा सकता ।
B.	SSD	II.	प्रकाशिक भंडारण (ऑप्टिकल डिवाइस) माध्यम से ब्लू-वायलेट लेजर तकनीकी का प्रयोग करके बहुत अधिक भंडारण क्षमता प्राप्त की जाती है ।
C.	ROM	III.	अस्थायी मेमोरी जो वर्तमान में प्रयुक्त डाटा, प्रोग्राम और आपरेटिंग सिस्टम के भागों का भंडारण करती हैं ।
D.	RAM	IV.	वह युक्ति जो किसी माइक्रोचिप जिसमें कोई सचल (गतिशील) हिस्सा नहीं होते हैं, उनमें इलेक्ट्रॉनों की गति को नियंत्रित करते हुए डाटा का संग्रह करती है ।

नीचे दिए गए विकल्पों में से सही उत्तर का चयन कीजिए :

1. A-I, B-IV, C-II, D-III
2. A-III, B-I, C-IV, D-II
3. A-IV, B-II, C-I, D-III
4. A-II, B-IV, C-I, D-III

- (1) 1
(2) 2
(3) 3
(4) 4

SI. No.36
QBID:13201036

How many national missions are there in the National Action Plan on climate change?

1. 6
2. 7
3. 8
4. 9

(1) 1

(2) 2

(3) 3

(4) 4

जलवायु परिवर्तन संबंधी राष्ट्रीय कार्य योजना में कितने राष्ट्रीय मिशन हैं ?

1. 6
2. 7
3. 8
4. 9

(1) 1

(2) 2

(3) 3

(4) 4

1[Option ID=25241] Question Description : general_paper_genarel paper_set 13_english_q36
2[Option ID=25242]
3[Option ID=25243]
4[Option ID=25244]

SI. No.37
QBID:13201037

Given below are two statements:

Statement-I: Hydro chlorofluorocarbons (HCFCs) were introduced as ozone-safe replacement for chlorofluorocarbons (CFCs)

Statement-II: Hydro chlorofluorocarbons (HCFCs) do not contribute to green house warming.

In the light of the above statements, choose the most appropriate answer from the options given below:

1. Both Statement I and Statement II are correct.
2. Both Statement I and Statement II are incorrect.
3. Statement I is correct but Statement II is incorrect.
4. Statement I is incorrect but Statement II is correct.

(1) 1

(2) 2

(3) 3

(4) 4

नीचे दो कथन दिए गए हैं:

कथन I : हाइड्रोक्लोरोफ्लूरोकार्बनों (एचसीएफसी) को क्लोरोफ्लूरोकार्बनों (सीएफसी) के ओजोन मुक्त प्रतिस्थापकों के रूप में प्रस्तुत किया गया था ।

कथन II : हाइड्रोक्लोरोफ्लूरोकार्बन (एचसीएफसी) पादप-गृह तापन में अंशदान नहीं करते हैं ।

उपरोक्त कथन के आलोक में, नीचे दिए गए विकल्पों में से सबसे उपयुक्त उत्तर का चयन कीजिए:

1. कथन I और II दोनों सही हैं।
2. कथन I और II दोनों गलत हैं।
3. कथन I सही है, लेकिन कथन II गलत है।
4. कथन I गलत है, लेकिन कथन II सही है।

(1) 1

- (2) 2
(3) 3
(4) 4

1[Option ID=25245] Question Description : general_paper_genarel paper_set 13_english_q37
2[Option ID=25246]
3[Option ID=25247]
4[Option ID=25248]

Sl. No.38
QBID:13201038

Which of the following play a role during formation of photochemical smog?

- A. NO₂ (Nitrogen dioxide)
B. Black Carbon
C. Sun light
D. VOCs (Volatile Organic Compounds)
E. CO (Carbon monoxide)

Choose the correct answer from the options given below:

1. A, B and C only
2. A, C and D only
3. A, D and E only
4. B, C, D and E only

- (1) 1
(2) 2
(3) 3
(4) 4

प्रकाश रासायनिक धूम कोहरे के बनने में निम्न में से किनकी भूमिका होती है ?

- A. NO₂ (नाइट्रोजन डाईआक्साइड)
B. ब्लैक कार्बन
C. सूर्य का प्रकाश
D. VOCs (लोपशील जैव यौगिक)
E. CO (कार्बन मोनोआक्साइड)

नीचे दिए गए विकल्पों में से सही उत्तर का चयन कीजिए:

1. केवल A, B और C
2. केवल A, C और D
3. केवल A, D और E
4. केवल B, C, D और E

- (1) 1
(2) 2
(3) 3
(4) 4

1[Option ID=25249] Question Description : general_paper_genarel paper_set 13_english_q38
2[Option ID=25250]
3[Option ID=25251]
4[Option ID=25252]

Sl. No.39
QBID:13201039

In which of the following types of electricity power plants, turbines are not required?

1. Geothermal
2. Nuclear
3. Hydro
4. Solar

- (1) 1
(2) 2
(3) 3
(4) 4

निम्नलिखित में से किस प्रकार के विद्युत ऊर्जा संयंत्रों में टरबाइनों की आवश्यकता नहीं होती है ?

1. भूतापीय
2. नाभिकीय
3. जल
4. सौर

- (1) 1
(2) 2
(3) 3
(4) 4

1[Option ID=25253]
2[Option ID=25254]
3[Option ID=25255]
4[Option ID=25256]

Question Description : general_paper_genarel paper_set 13_english_q39

Sl. No.40
QBID:13201040

Given below are two statements: one is labelled Assertion A and other is labelled as Reason R.

Assertion-A : Rise in water temperature from normal levels, due to thermal pollution, can adversely affect water quality and aquatic life.

Reason-R : Oxygen solubility in water increases as temperature increases.

In the light of the above statements, choose the most appropriate answer from the options given below:

1. Both A and R are correct and R is the correct explanation of A.
2. Both A and R are correct but R is NOT the correct explanation of A.
3. A is correct but R is not correct.
4. A is not correct but R is correct.

- (1) 1
(2) 2
(3) 3
(4) 4

नीचे दो कथन दिए गए हैं: एक अभिकथन (Assertion A) के रूप में लिखित है तो दूसरा उसके कारण (Reason R) के रूप में:

अभिकथन A : तापीय प्रदूषण के कारण जल के तापमान का सामान्य स्तर से बढ़ना जल की गुणवत्ता और जलीय जीवन पर प्रतिकूल प्रभाव डाल सकता है।

कारण R : तापमान में वृद्धि के साथ जल में आक्सीजन की घुलनशीलता में वृद्धि होती है।

उपरोक्त कथन के आलोक में, नीचे दिए गए विकल्पों में से सबसे उपयुक्त उत्तर का चयन कीजिए।

1. A और R दोनों सही हैं और R, A की सही व्याख्या है।
2. A और R दोनों सही हैं, लेकिन R, A की सही व्याख्या नहीं है।
3. A सही है लेकिन R सही नहीं है।
4. A सही नहीं है लेकिन R सही है।

- (1) 1
(2) 2
(3) 3
(4) 4

1[Option ID=25257]
2[Option ID=25258]
3[Option ID=25259]
4[Option ID=25260]

Question Description : general_paper_genarel paper_set 13_english_q40

Sl. No.41
QBID:13201041

University of Mithila was famous for

- A. Astronomy
- B. Nyaya Sutra
- C. Archaeology
- D. Logical sciences
- E. Medicine

Choose the most appropriate answer from the options given below:

- 1. A and B only
- 2. B and D only
- 3. A and C only
- 4. D and E only

(1) 1

(2) 2

(3) 3

(4) 4

मिथिला विश्वविद्यालय किसके लिए प्रसिद्ध था ?

- A. खगोल विज्ञान
- B. न्यायसूत्र
- C. पुरातत्व - विज्ञान
- D. तर्कशास्त्र
- E. आयुर्विज्ञान

नीचे दिए गए विकल्पों में से सबसे उपयुक्त उत्तर का चयन कीजिए:

- 1. केवल A और B
- 2. केवल B और D
- 3. केवल A और C
- 4. केवल D और E

(1) 1

(2) 2

(3) 3

(4) 4

1[Option ID=25261]

2[Option ID=25262]

3[Option ID=25263]

4[Option ID=25264]

Question Description : general_paper_genarel paper_set 13_english_q41

SI. No.42

QBID:13201042

By _____, all Higher Education Institutions (HEIs) shall aim to become multidisciplinary institutions and shall aim to have larger student enrolments as per NEP 2020, recommendations.

- 1. 2035
- 2. 2030
- 3. 2040
- 4. 2025

(1) 1

(2) 2

(3) 3

(4) 4

राष्ट्रीय शिक्षा नीति, 2020 में की गई संस्तुतियों के अनुसार _____ तक सभी उच्चतर शिक्षा संस्थानों (एचईआई) का लक्ष्य बहु विषयी संस्थानों में परिणत होना है तथा विद्यार्थियों के नामांकन में बहुत अधिक वृद्धि करना है ।

- 1. 2035
- 2. 2030
- 3. 2040
- 4. 2025

(1) 1

- (2) 2
- (3) 3
- (4) 4

1[Option ID=25265] Question Description : general_paper_genarel paper_set 13_english_q42
2[Option ID=25266]
3[Option ID=25267]
4[Option ID=25268]

Sl. No.43
QBID:13201043

In 1904, who was the moving force behind the enactment of the Indian Universities Act which intended to introduce radical changes into some of the existing universities in colonial India ?

- 1. Lord Canning
- 2. Lord Mountbatten
- 3. Lord Curzon
- 4. Lord Linlithgow

- (1) 1
- (2) 2
- (3) 3
- (4) 4

वर्ष 1904 में भारतीय विश्वविद्यालय अधिनियम के अधिनियमन में निम्नांकित में से कौन मुख्य प्रेरणास्रोत थे जिसका आशय ओपनिवेशिक भारत में कुछ विद्यमान विश्वविद्यालयों में आमूलचूल परिवर्तन पुरःस्थापित करना था ?

- 1. लॉर्ड केनिंग
- 2. लार्ड माउंटबेटन
- 3. लार्ड कर्जन
- 4. लार्ड लिलिथगो

- (1) 1
- (2) 2
- (3) 3
- (4) 4

1[Option ID=25269] Question Description : general_paper_genarel paper_set 13_english_q43
2[Option ID=25270]
3[Option ID=25271]
4[Option ID=25272]

Sl. No.44
QBID:13201044

One of the regional centers of UGC is situated in which of the following states?

- 1. Punjab
- 2. Rajasthan
- 3. Orissa
- 4. Assam

- (1) 1
- (2) 2
- (3) 3
- (4) 4

विश्वविद्यालय अनुदान आयोग का एक क्षेत्रीय केन्द्र निम्नांकित में से किस राज्य में स्थित है ?

- 1. पंजाब
- 2. राजस्थान
- 3. उड़ीसा
- 4. आसाम

- (1) 1
- (2) 2
- (3) 3
- (4) 4

1[Option ID=25273] Question Description : general_paper_genarel paper_set 13_english_q44
2[Option ID=25274]

3[Option ID=25275]
4[Option ID=25276]

SI. No.45
QBID:13201045

In 1937, Gandhiji evolved a scheme popularly known as the Wardha Scheme of Basic National Education. In order to implement the recommendation of Wardha Scheme, a committee was set up under the Chairmanship of:

1. M.K. Gandhi
2. B.G. Kher
3. Zakir Hussain
4. A.K. Azad

- (1) 1
(2) 2
(3) 3
(4) 4

वर्ष 1937 में गांधीजी ने एक स्कीम विकसित की जो वर्धा स्कीम ऑफ बेसिक नेशनल एजुकेशन के नाम से विख्यात है। वर्धा स्कीम की संस्तुतियों के कार्यान्वयन हेतु निर्मांकित में से किसकी अध्यक्षता में एक समिति गठित की गई थी ?

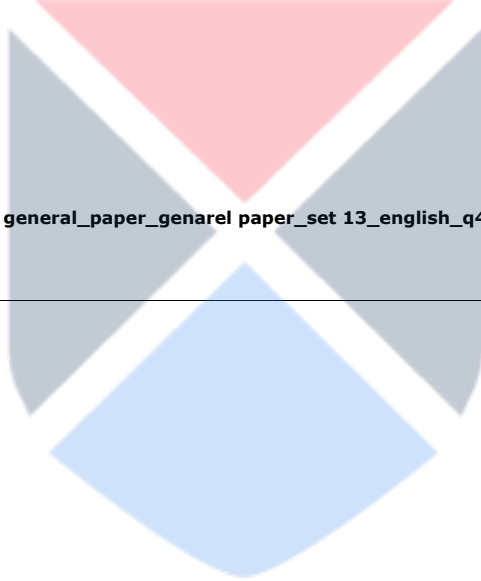
1. एम. के. गांधी
2. बी. जी. खेर
3. जाकिर हुसैन
4. ए. के. आजाद

- (1) 1
(2) 2
(3) 3
(4) 4

1[Option ID=25277]
2[Option ID=25278]
3[Option ID=25279]
4[Option ID=25280]

Question Description : general_paper_genarel paper_set 13_english_q45

SI. No.46
QBID:13201046



Read the following passage and answer the question.

In both rich and poor countries, native or indigenous people are generally the least powerful, most neglected groups in the world. Typically descendants of the original inhabitants of an area taken over by more powerful outsiders, they are distinct from their country's dominant language, culture, religion, and racial communities. Of the world's nearly 6,000 recognized cultures, 5,000 are indigenous ones that account for only about 10 percent of the total world population. In many countries, traditional caste systems, discriminatory laws, economics, or prejudice repress indigenous people. Their unique cultures are disappearing, along with biological diversity as natural habitats are destroyed to satisfy industrialized world appetites for resources. Traditional ways of life are disrupted further by dominant Western culture sweeping around the globe.

At least half of the world's 6,000 distinct languages are dying because they are no longer taught to children. When the last few elders who still speak the language die, so will the culture that was its origin. Lost with those cultures will be a rich repertoire of knowledge about nature and a keen understanding of a particular environment and way of life. Interestingly, just 12 countries account for 60 percent of all human languages. Seven of these are also among the "mega diversity" countries that contain more than half of all unique plant and animal species. Conditions that support evolution of many unique species seem to favour development of equally diverse human cultures as well.

निम्नलिखित गद्यांश को पढ़िये और प्रश्न का उत्तर दीजिये।

समृद्ध और निर्धन दोनों देशों में मूल निवासी या स्वदेशी जन सामान्यतया विश्व में सबसे कम सामर्थ्यवान, सर्वाधिक उपेक्षित समूह हैं। प्रारूपिक रूप से शक्तिशाली बाह्यमूल के निवासियों द्वारा अधिग्रहित किसी क्षेत्र के मूल निवासियों के वंशज अपने देश की प्रधान भाषा, संस्कृति, धर्म और नस्ली समुदायों से भिन्न हैं। विश्व की लगभग 6000 मान्यता प्राप्त संस्कृतियों में 5000 संस्कृतियां स्वदेशी हैं जो विश्व की कुल जनसंख्या का लगभग 10 प्रतिशत है। बहुत से देशों में, परंपरागत जाति-प्रथा, भेदभावपूर्ण विधियां, अर्थिकी या पूर्वाग्रह से स्वदेशीजनों का दमन होता है। उनकी विशिष्ट संस्कृतियां लुप्त हो रही हैं और उनके साथ-साथ प्राकृतिक आवास स्थान के रूप में जैव विविधता नष्ट हो रही हैं ताकि औद्योगिक जगत के संसाधनों की मांग को पूरा किया जा सके। समस्त विश्व में पाश्चात्य संस्कृति का तेजी से प्रभाव फैलने के कारण पारंपरिक जीवनशैली और भी विध्वंस हो जाती है।

विश्व की 6000 विशिष्ट भाषाओं में से कम से कम आधी भाषाएँ विलुप्त हो रही हैं क्योंकि अब बच्चों को इनका शिक्षण नहीं किया जाता है। जब अंतिम कुछेक वृद्धजन जो अभी भी इस भाषा में बोलते हैं उनकी मृत्यु हो जाएगी तो इसकी जनक-संस्कृति का भी अंत हो जाएगा। उन संस्कृतियों के समाप्त होने के साथ-साथ प्रकृति के बारे में ज्ञान का समृद्ध व विपुल भंडार और एक विशिष्ट पर्यावरण एवं जीवनशैली की गहन समझ भी समाप्त हो जायेंगे। अभिरुचि जनक तथ्य यह है कि मानव की सभी भाषाओं में से 60 प्रतिशत भाषायें 12 देशों में प्रयुक्त होती हैं। इनमें से सात देश 'विशाल विविधता' वाले देश हैं जहां समस्त विशिष्ट पादप एवं जन्तुओं की आधे से अधिक प्रजातियाँ हैं। बहुत से विशिष्ट प्रजातियों के अनुकूल उद्विकास समर्थकारी परिस्थितियां समान रूप से विविधतापूर्ण मानवीय संस्कृति के विकास में भी सहायक प्रतीत होती हैं।

The most appropriate title for the passage is:

1. State of the indigenous world
2. Biodiversity conservation measures
3. Indigenous people and world's biodiversity
4. Empowerment of indigenous people.

- (1) 1
(2) 2
(3) 3
(4) 4

इस गद्यांश का सर्वाधिक उपयुक्त शीर्षक है :

1. देशज जगत की अवस्था
2. जैव विविधता संरक्षण के उपाय
3. स्वदेशीजन और वैश्विक जैव विविधता
4. स्वदेशीजनों का सशक्तीकरण

- (1) 1
(2) 2
(3) 3
(4) 4

SI. No.47

QBID:13201047

Read the following passage and answer the question.

In both rich and poor countries, native or indigenous people are generally the least powerful, most neglected groups in the world. Typically descendants of the original inhabitants of an area taken over by more powerful outsiders, they are distinct from their country's dominant language, culture, religion, and racial communities. Of the world's nearly 6,000 recognized cultures, 5,000 are indigenous ones that account for only about 10 percent of the total world population. In many countries, traditional caste systems, discriminatory laws, economics, or prejudice repress indigenous people. Their unique cultures are disappearing, along with biological diversity as natural habitats are destroyed to satisfy industrialized world appetites for resources. Traditional ways of life are disrupted further by dominant Western culture sweeping around the globe.

At least half of the world's 6,000 distinct languages are dying because they are no longer taught to children. When the last few elders who still speak the language die, so will the culture that was its origin. Lost with those cultures will be a rich repertoire of knowledge about nature and a keen understanding of a particular environment and way of life. Interestingly, just 12 countries account for 60 percent of all human languages. seven of these are also among the "mega diversity" countries that contain more than half of all unique plant and animal species. Conditions that support evolution of many unique species seem to favour development of equally diverse human cultures as well.

निम्नलिखित गद्यांश को पढ़िये और प्रश्न का उत्तर दीजिये।

समृद्ध और निर्धन दोनों देशों में मूल निवासी या स्वदेशी जन सामान्यतया विश्व में सबसे कम सामर्थ्यवान, सर्वाधिक उपेक्षित समूह हैं। प्रारूपिक रूप से शक्तिशाली बाह्यमूल के निवासियों द्वारा अधिग्रहित किसी क्षेत्र के मूल निवासियों के वंशज अपने देश की प्रधान भाषा, संस्कृति, धर्म और नस्ली समुदायों से भिन्न हैं। विश्व की लगभग 6000 मान्यता प्राप्त संस्कृतियों में 5000 संस्कृतियां स्वदेशी हैं जो विश्व की कुल जनसंख्या का लगभग 10 प्रतिशत है। बहुत से देशों में, परंपरागत जाति-प्रथा, भेदभावपूर्ण विधियां, अर्थकी या पूर्वाग्रह से स्वदेशीजनों का दमन होता है। उनकी विशिष्ट संस्कृतियां लुप्त हो रही हैं और उनके साथ-साथ प्राकृतिक आवास स्थान के रूप में जैव विविधता नष्ट हो रही हैं ताकि औद्योगिक जगत के संसाधनों की मांग को पूरा किया जा सके। समस्त विश्व में पाश्चात्य संस्कृति का तेजी से प्रभाव फैलने के कारण पारंपरिक जीवनशैली और भी विध्वंस हो जाती है।

विश्व की 6000 विशिष्ट भाषाओं में से कम से कम आधी भाषाएँ विलुप्त हो रही हैं क्योंकि अब बच्चों को इनका शिक्षण नहीं किया जाता है। जब अंतिम कुछेक वृद्धजन जो अभी भी इस भाषा में बोलते हैं उनकी मृत्यु हो जाएगी तो इसकी जनक-संस्कृति का भी अंत हो जाएगा। उन संस्कृतियों के समाप्त होने के साथ-साथ प्रकृति के बारे में ज्ञान का समृद्ध व विपुल भंडार और एक विशिष्ट पर्यावरण एवं जीवनशैली की गहन समझ भी समाप्त हो जायेंगे। अभिरुचि जनक तथ्य यह है कि मानव की सभी भाषाओं में से 60 प्रतिशत भाषायें 12 देशों में प्रयुक्त होती हैं। इनमें से सात देश 'विशाल विविधता' वाले देश हैं जहां समस्त विशिष्ट पादप एवं जन्तुओं की आधे से अधिक प्रजातियाँ हैं। बहुत से विशिष्ट प्रजातियों के अनुकूल उद्विकास समर्थकारी परिस्थितियां समान रूप से विविधतापूर्ण मानवीय संस्कृति के विकास में भी सहायक प्रतीत होती हैं।

Given below are two statements:

Statement-I: Majority of indigenous cultures are confined to a very few countries of the world.

Statement-II: Majority of world population consists of indigenous people.

In the light of the above statements, choose the correct answer from the options given below:

1. Both Statement I and Statement II are true
2. Both Statement I and Statement II are false
3. Statement I is true but Statement II is false
4. Statement I is false but Statement II is true

- (1) 1
- (2) 2
- (3) 3
- (4) 4

नीचे दो कथन दिए गए हैं:

कथन I : बहुत सी स्वदेशी संस्कृतियां विश्व के कुछेक देशों तक ही सीमित हैं ।

कथन II : विश्व की अधिकांश जनसंख्या स्वदेशी लोगों की है ।

उपरोक्त कथन के आलोक में, नीचे दिए गए विकल्पों में से सही उत्तर का चयन कीजिए:

1. कथन I और II दोनों सत्य हैं।
2. कथन I और II दोनों असत्य हैं।
3. कथन I सत्य है, लेकिन कथन II असत्य है।
4. कथन I असत्य है, लेकिन कथन II सत्य है।

(1) 1

(2) 2

(3) 3

(4) 4

1[Option ID=25285]
2[Option ID=25286]
3[Option ID=25287]
4[Option ID=25288]

Question Description : general_paper_genarel paper_set 13_english_q47

Sl. No.48

QBID:13201048

Read the following passage and answer the question.

In both rich and poor countries, native or indigenous people are **generally** the least powerful, most neglected groups in the world. Typically descendants of the original inhabitants of an area taken over by more powerful outsiders, they are distinct from their country's dominant language, culture, religion, and racial communities. Of the world's nearly 6,000 recognized cultures, 5,000 are indigenous ones that account for only about 10 percent of the total world population. In many countries, traditional caste systems, discriminatory laws, economics, or prejudice repress indigenous people. Their unique cultures are disappearing, along with biological diversity as natural habitats are destroyed to satisfy industrialized world appetites for resources. Traditional ways of life are disrupted further by dominant Western culture sweeping around the globe.

At least half of the world's 6,000 distinct languages are dying because they are no longer taught to children. When the last few elders who still speak the language die, so will the culture that was its origin. Lost with those cultures will be a rich repertoire of knowledge about nature and a keen understanding of a particular environment and way of life. Interestingly, just 12 countries account for 60 percent of all human languages. seven of these are also among the "mega diversity" countries that contain more than half of all unique plant and animal species. Conditions that support evolution of many unique species seem to favour development of equally diverse human cultures as well.

निम्नलिखित गद्यांश को पढ़िये और प्रश्न का उत्तर दीजिये ।

समृद्ध और निर्धन दोनों देशों में मूल निवासी या स्वदेशी जन सामान्यतया विश्व में सबसे कम सामर्थ्यवान, सर्वाधिक उपेक्षित समूह हैं । प्रारूपिक रूप से शक्तिशाली बाह्यमूल के निवासियों द्वारा अधिग्रहित किसी क्षेत्र के मूल निवासियों के वंशज अपने देश की प्रधान भाषा, संस्कृति, धर्म और नस्ली समुदायों से भिन्न हैं । विश्व की लगभग 6000 मान्यता प्राप्त संस्कृतियों में 5000 संस्कृतियां स्वदेशी हैं जो विश्व की कुल जनसंख्या का लगभग 10 प्रतिशत है । बहुत से देशों में, परंपरागत जाति-प्रथा, भेदभावपूर्ण विधियां, अर्थिकी या पूर्वाग्रह से स्वदेशीजनों का दमन होता है । उनकी विशिष्ट संस्कृतियां लुप्त हो रही हैं और उनके साथ-साथ प्राकृतिक आवास स्थान के रूप में जैव विविधता नष्ट हो रही हैं ताकि औद्योगिकृत जगत के संसाधनों की मांग को पूरा किया जा सके । समस्त विश्व में पाश्चात्य संस्कृति का तेजी से प्रभाव फैलने के कारण पारंपरिक जीवनशैली और भी विध्वंस हो जाती है ।

विश्व की 6000 विशिष्ट भाषाओं में से कम से कम आधी भाषाएँ विलुप्त हो रही हैं क्योंकि अब बच्चों को इनका शिक्षण नहीं किया जाता है । जब अंतिम कुछेक वृद्धजन जो अभी भी इस भाषा में बोलते हैं उनकी मृत्यु हो जाएगी तो इसकी जनक-संस्कृति का भी अंत हो जाएगा । उन संस्कृतियों के समाप्त होने के साथ-साथ प्रकृति के बारे में ज्ञान का समृद्ध व विपुल भंडार और एक विशिष्ट पर्यावरण एवं जीवनशैली की गहन समझ भी समाप्त हो जायेंगे । अभिरुचि जनक तथ्य यह है कि मानव की सभी भाषाओं में से 60 प्रतिशत भाषायें 12 देशों में प्रयुक्त होती हैं । इनमें से सात देश 'विशाल विविधता' वाले देश हैं जहां समस्त विशिष्ट पादप एवं जन्तुओं की आधे से अधिक प्रजातियाँ हैं । बहुत से विशिष्ट प्रजातियों के अनुकूल उदविकास समर्थकारी परिस्थितियां समान रूप से विविधतापूर्ण मानवीय संस्कृति के विकास में भी सहायक प्रतीत होती हैं ।

Given below are two statements: One is labelled as Assertion A and the other is labelled as Reason R:

Assertion-A : Indigenous people live in harmony with nature.

Reason R: Biodiversity tends to thrive at places where indigenous cultures thrive.

In the light of the above statements, choose the most appropriate answer from the options given below:

1. Both A and R are correct and R is the correct explanation of A.
2. Both A and R are correct but R is not the correct explanation of A.
3. A is correct but R is not correct.
4. A is not correct but R is correct.

(1) 1

(2) 2

(3) 3

(4) 4

नीचे दो कथन दिए गए हैं: एक अभिकथन (Assertion A) के रूप में लिखित है तो दूसरा उसके कारण (Reason R) के रूप में:

अभिकथन A : देशज लोग प्रकृति के साथ सौहार्द बनाकर रहते हैं ।

कारण R : जिन स्थानों में देशज संस्कृतियां फलती-फूलती हैं वहां जैव विविधता के खूब बढ़ने (पनपने) की संभावना रहती है ।

उपरोक्त कथन के आलोक में, नीचे दिए गए विकल्पों में से सर्वाधिक उपयुक्त उत्तर का चयन कीजिए ।

1. A और R दोनों सत्य हैं और R, A की सही व्याख्या है।
2. A और R दोनों सत्य हैं, लेकिन R, A की सही व्याख्या नहीं है।
3. A सत्य है लेकिन R असत्य है।
4. A असत्य है लेकिन R सत्य है।

(1) 1

(2) 2

(3) 3

(4) 4

1[Option ID=25289]

2[Option ID=25290]

3[Option ID=25291]

4[Option ID=25292]

Question Description : general_paper_genarel paper_set 13_english_q48

Sl. No.49

QBID:13201049

Read the following passage and answer the question.

In both rich and poor countries, native or indigenous people are generally the least powerful, most neglected groups in the world. Typically descendants of the original inhabitants of an area taken over by more powerful outsiders, they are distinct from their country's dominant language, culture, religion, and racial communities. Of the world's nearly 6,000 recognized cultures, 5,000 are indigenous ones that account for only about 10 percent of the total world population. In many countries, traditional caste systems, discriminatory laws, economics, or prejudice repress indigenous people. Their unique cultures are disappearing, along with biological diversity as natural habitats are destroyed to satisfy industrialized world appetites for resources. Traditional ways of life are disrupted further by dominant Western culture sweeping around the globe.

At least half of the world's 6,000 distinct languages are dying because they are no longer taught to children. When the last few elders who still speak the language die, so will the culture that was its origin. Lost with those cultures will be a rich repertoire of knowledge about nature and a keen understanding of a particular environment and way of life. Interestingly, just 12 countries account for 60 percent of all human languages. Seven of these are also among the "mega diversity" countries that contain more than half of all unique plant and animal species. Conditions that support evolution of many unique species seem to favour development of equally diverse human cultures as well.

निम्नलिखित गद्यांश को पढ़िये और प्रश्न का उत्तर दीजिये।

समृद्ध और निर्धन दोनों देशों में मूल निवासी या स्वदेशी जन सामान्यतया विश्व में सबसे कम सामर्थ्यवान, सर्वाधिक उपेक्षित समूह हैं। प्रारूपिक रूप से शक्तिशाली बाह्यमूल के निवासियों द्वारा अधिग्रहित किसी क्षेत्र के मूल निवासियों के वंशज अपने देश की प्रधान भाषा, संस्कृति, धर्म और नस्ली समुदायों से भिन्न हैं। विश्व की लगभग 6000 मान्यता प्राप्त संस्कृतियों में 5000 संस्कृतियां स्वदेशी हैं जो विश्व की कुल जनसंख्या का लगभग 10 प्रतिशत है। बहुत से देशों में, परंपरागत जाति-प्रथा, भेदभावपूर्ण विधियां, अर्थिकी या पूर्वाग्रह से स्वदेशीजनों का दमन होता है। उनकी विशिष्ट संस्कृतियां लुप्त हो रही हैं और उनके साथ-साथ प्राकृतिक आवास स्थान के रूप में जैव विविधता नष्ट हो रही हैं ताकि औद्योगिक जगत के संसाधनों की मांग को पूरा किया जा सके। समस्त विश्व में पाश्चात्य संस्कृति का तेजी से प्रभाव फैलने के कारण पारंपरिक जीवनशैली और भी विध्वंस हो जाती है।

विश्व की 6000 विशिष्ट भाषाओं में से कम से कम आधी भाषाएँ विलुप्त हो रही हैं क्योंकि अब बच्चों को इनका शिक्षण नहीं किया जाता है। जब अंतिम कुछेक वृद्धजन जो अभी भी इस भाषा में बोलते हैं उनकी मृत्यु हो जाएगी तो इसकी जनक-संस्कृति का भी अंत हो जाएगा। उन संस्कृतियों के समाप्त होने के साथ-साथ प्रकृति के बारे में ज्ञान का समृद्ध व विपुल भंडार और एक विशिष्ट पर्यावरण एवं जीवनशैली की गहन समझ भी समाप्त हो जायेंगे। अभिरुचि जनक तथ्य यह है कि मानव की सभी भाषाओं में से 60 प्रतिशत भाषायें 12 देशों में प्रयुक्त होती हैं। इनमें से सात देश 'विशाल विविधता' वाले देश हैं जहां समस्त विशिष्ट पादप एवं जन्तुओं की आधे से अधिक प्रजातियाँ हैं। बहुत से विशिष्ट प्रजातियों के अनुकूल उद्विकास समर्थकारी परिस्थितियां समान रूप से विविधतापूर्ण मानवीय संस्कृति के विकास में भी सहायक प्रतीत होती हैं।

Which among the following inferences can be drawn from the passage?

- A. Indigenous people in rich countries are generally neglected and their voices remain unheard.
- B. Native people in the poor countries are quite powerful.
- C. Most of the world population belongs to indigenous cultures.
- D. Indigenous people possess unique cultures
- E. Indigenous cultures are facing a threat from western culture.

Choose the most appropriate answer from the options given below:

- 1. A, B, C, D and E
- 2. A, C, D and E only
- 3. A, D and E only
- 4. B, C, D and E only

- (1) 1
- (2) 2
- (3) 3
- (4) 4

गद्यांश से निम्नांकित में से क्या निष्कर्ष निकाला जा सकता है ?

- A. समृद्ध देशों में देशज लोगों की सामान्यतः उपेक्षा की जाती है और उनकी बात को अनुसना किया जाता है ।
- B. गरीब देशों के मूल निवासी बहुत शक्तिशाली होते हैं ।
- C. विश्व की अधिकांश आबादी देशज संस्कृतियों की है ।
- D. देशज लोगों की संस्कृति विशिष्ट होती है ।
- E. देशज संस्कृतियों को पश्चिमी संस्कृति से खतरे का सामना करना पड़ रहा है ।

नीचे दिए गए विकल्पों में से सही उत्तर का चयन कीजिए:

- 1. A, B, C, D और E
- 2. केवल A, C, D और E
- 3. केवल A, D और E
- 4. केवल B, C, D और E

(1) 1

(2) 2

(3) 3

(4) 4

1[Option ID=25293]
2[Option ID=25294]
3[Option ID=25295]
4[Option ID=25296]

Question Description : general_paper_genarel paper_set 13_english_q49

Sl. No.50
QBID:13201050

Read the following passage and answer the question.

In both rich and poor countries, native or indigenous people are **generally** the least powerful, most neglected groups in the world. Typically descendants of the original inhabitants of an area taken over by more powerful outsiders, they are distinct from their country's dominant language, culture, religion, and racial communities. Of the world's nearly 6,000 recognized cultures, 5,000 are indigenous ones that account for only about 10 percent of the total world population. In many countries, traditional caste systems, discriminatory laws, economics, or prejudice repress indigenous people. Their unique cultures are disappearing, along with biological diversity as natural habitats are destroyed to satisfy industrialized world appetites for resources. Traditional ways of life are disrupted further by dominant Western culture sweeping around the globe.

At least half of the world's 6,000 distinct languages are dying because they are no longer taught to children. When the last few elders who still speak the language die, so will the culture that was its origin. Lost with those cultures will be a rich repertoire of knowledge about nature and a keen understanding of a particular environment and way of life. Interestingly, just 12 countries account for 60 percent of all human languages. seven of these are also among the "mega diversity" countries that contain more than half of all unique plant and animal species. Conditions that support evolution of many unique species seem to favour development of equally diverse human cultures as well.

निम्नलिखित गद्यांश को पढ़िये और प्रश्न का उत्तर दीजिये ।

समृद्ध और निर्धन दोनों देशों में मूल निवासी या स्वदेशी जन सामान्यतया विश्व में सबसे कम सामर्थ्यवान, सर्वाधिक उपेक्षित समूह हैं । प्रारूपिक रूप से शक्तिशाली बाह्यमूल के निवासियों द्वारा अधिग्रहित किसी क्षेत्र के मूल निवासियों के वंशज अपने देश की प्रधान भाषा, संस्कृति, धर्म और नस्ली समुदायों से भिन्न हैं । विश्व की लगभग 6000 मान्यता प्राप्त संस्कृतियों में 5000 संस्कृतियां स्वदेशी हैं जो विश्व की कुल जनसंख्या का लगभग 10 प्रतिशत है । बहुत से देशों में, परंपरागत जाति-प्रथा, भेदभावपूर्ण विधियां, अर्थिक या पूर्वाग्रह से स्वदेशीजनों का दमन होता है । उनकी विशिष्ट संस्कृतियां लुप्त हो रही हैं और उनके साथ-साथ प्राकृतिक आवास स्थान के रूप में जैव विविधता नष्ट हो रही हैं ताकि औद्योगिक जगत के संसाधनों की मांग को पूरा किया जा सके । समस्त विश्व में पाश्चात्य संस्कृति का तेजी से प्रभाव फैलने के कारण पारंपरिक जीवनशैली और भी विध्वंस हो जाती है ।

विश्व की 6000 विशिष्ट भाषाओं में से कम से कम आधी भाषाएँ विलुप्त हो रही हैं क्योंकि अब बच्चों को इनका शिक्षण नहीं किया जाता है । जब अंतिम कुछेक वृद्धजन जो अभी भी इस भाषा में बोलते हैं उनकी मृत्यु हो जाएगी तो इसकी जनक-संस्कृति का भी अंत हो जाएगा । उन संस्कृतियों के समाप्त होने के साथ-साथ प्रकृति के बारे में ज्ञान का समृद्ध व विपुल भंडार और एक विशिष्ट पर्यावरण एवं जीवनशैली की गहन समझ भी समाप्त हो जायेंगे । अभिरुचि जनक तथ्य यह है कि मानव की सभी भाषाओं में से 60 प्रतिशत भाषायें 12 देशों में प्रयुक्त होती हैं । इनमें से सात देश 'विशाल विविधता' वाले देश हैं जहां समस्त विशिष्ट पादप एवं जन्तुओं की आधे से अधिक प्रजातियाँ हैं । बहुत से विशिष्ट प्रजातियों के अनुकूल उद्विकास समर्थकारी परिस्थितियां समान रूप से विविधतापूर्ण मानवीय संस्कृति के विकास में भी सहायक प्रतीत होती हैं ।

Given below are two statements: One is labelled as Assertion A and the other is labelled as Reason R:

Assertion-A : Western culture supports indigenous people and their traditional ways of life.

Reason R: Indigenous people possess ecological wisdom about their natural habitat.

In the light of the above statements, choose the most appropriate answer from the options given below:

1. Both A and R are correct and R is the correct explanation of A.
2. Both A and R are correct but R is not the correct explanation of A.
3. A is correct but R is not correct.
4. A is not correct but R is correct.

(1) 1

(2) 2

(3) 3

(4) 4

नीचे दो कथन दिए गए हैं: एक अभिकथन (Assertion A) के रूप में लिखित है तो दूसरा उसके कारण (Reason R) के रूप में:

अभिकथन A : पश्चिमी संस्कृति देशज लोगों का और उनकी पारंपरिक जीवनशैली का समर्थन करती है ।

कारण R : स्वदेशी लोगों में अपने प्राकृतिक आवास स्थल के संबंध में पारिस्थितिकीय ज्ञान होता है ।

उपरोक्त कथन के आलोक में, नीचे दिए गए विकल्पों में से सबसे उपयुक्त उत्तर का चयन कीजिए ।

1. A और R दोनों सही हैं और R, A की सही व्याख्या है।
2. A और R दोनों सही हैं, लेकिन R, A की सही व्याख्या नहीं है।
3. A सही है लेकिन R सही नहीं है।
4. A सही नहीं है लेकिन R सही है।

(1) 1

(2) 2

(3) 3

(4) 4

1[Option ID=25297]

2[Option ID=25298]

3[Option ID=25299]

4[Option ID=25300]

Question Description : general_paper_genarel paper_set 13_english_q50

Paper II : 32-Chinese

Sl. No.1

QBID:132001

古代用于祭祀的青铜器被称作“彝器”。“彝”这个字的拼音是_____。

1. Yī
2. Yí
3. Yǐ
4. Yì

(1) 1

(2) 2

(3) 3

(4) 4

1[Option ID=23501]

2[Option ID=23502]

3[Option ID=23503]

4[Option ID=23504]

Question Description : chinese_chinese_set 1_chinese_q1

Sl. No.2

QBID:132002

下面的汉字中，有一个字音的声调和另外三个不同，它是：

1. 羹
2. 瞋
3. 癡
4. 攬

(1) 1

(2) 2

(3) 3

(4) 4

1[Option ID=23505] Question Description : chinese_chinese_set 1_chinese_q2
2[Option ID=23506]
3[Option ID=23507]
4[Option ID=23508]

Sl. No.3
QBID:132003

“艰、难、戏、劝、对”等字中的“又”是：

1. 声旁
2. 形旁
3. 既非形旁又非声旁
4. 既是声旁又是形旁

(1) 1

(2) 2

(3) 3

(4) 4

1[Option ID=23509] Question Description : chinese_chinese_set 1_chinese_q3
2[Option ID=23510]
3[Option ID=23511]
4[Option ID=23512]

Sl. No.4
QBID:132004

隶书和楷书之间的显著区别是_____。

1. 汉字所表达的意思
2. 汉字的结构
3. 汉字中的笔画数
4. 汉字中笔画的形状

(1) 1

(2) 2

(3) 3

(4) 4

1[Option ID=23513] Question Description : chinese_chinese_set 1_chinese_q4
2[Option ID=23514]
3[Option ID=23515]
4[Option ID=23516]

Sl. No.5
QBID:132005

走在上海外滩，黄浦江两边能看到现代高楼大厦与古典建筑交相辉映，形成了_____的优美景色。

1. 别具一格
2. 别具肥肠
3. 别具只眼
4. 只眼独具

(1) 1

(2) 2

(3) 3

(4) 4

1[Option ID=23517] Question Description : chinese_chinese_set 1_chinese_q5
2[Option ID=23518]
3[Option ID=23519]
4[Option ID=23520]

SI. No.6
QBID:132006

孔雀舞是以模仿孔雀动作为主的一种民间传统舞蹈，在中国主要_____于云南省瑞丽市。

1. 延伸
2. 继承
3. 合成
4. 流行

- (1) 1
(2) 2
(3) 3
(4) 4

1[Option ID=23521] Question Description : chinese_chinese_set 1_chinese_q6
2[Option ID=23522]
3[Option ID=23523]
4[Option ID=23524]

SI. No.7
QBID:132007

“小明见妈妈锁上门走了，急得嗷嗷的。”句中“嗷嗷”这个词是：

1. 形容词
2. 副词
3. 象声词
4. 叹词

- (1) 1
(2) 2
(3) 3
(4) 4

1[Option ID=23525] Question Description : chinese_chinese_set 1_chinese_q7
2[Option ID=23526]
3[Option ID=23527]
4[Option ID=23528]

SI. No.8
QBID:132008

“他说自己在社交媒体上经常发布旅游照片并不是为了出风头。”句中“出风头”指的是：

1. 特别喜欢自拍
2. 拍山水风景
3. 出头露面表现自己
4. 不惧风险勇往直前

- (1) 1
(2) 2
(3) 3
(4) 4

1[Option ID=23529] Question Description : chinese_chinese_set 1_chinese_q8
2[Option ID=23530]
3[Option ID=23531]
4[Option ID=23532]

SI. No.9
QBID:132009

元代北方地区的戏曲被称为_____。

1. 话剧
2. 京剧
3. 杂剧
4. 南戏

- (1) 1

- (2) 2
- (3) 3
- (4) 4

1[Option ID=23533] Question Description : chinese_chinese_set 1_chinese_q9
2[Option ID=23534]
3[Option ID=23535]
4[Option ID=23536]

SI. No.10
QBID:132010

《春秋》、《尚书》和《左传》是：

- 1. 周礼总集
- 2. 历史散文
- 3. 诸子散文
- 4. 先秦史诗

- (1) 1
- (2) 2
- (3) 3
- (4) 4

1[Option ID=23537] Question Description : chinese_chinese_set 1_chinese_q10
2[Option ID=23538]
3[Option ID=23539]
4[Option ID=23540]

SI. No.11
QBID:132011

散文《变法通议》与《少年中国说》的作家是：

- 1. 胡适
- 2. 鲁迅
- 3. 李大钊
- 4. 梁启超

- (1) 1
- (2) 2
- (3) 3
- (4) 4

1[Option ID=23541] Question Description : chinese_chinese_set 1_chinese_q11
2[Option ID=23542]
3[Option ID=23543]
4[Option ID=23544]

SI. No.12
QBID:132012

东晋干宝写的《搜神记》是：

- 1. 轶事小说
- 2. 志怪小说
- 3. 揭示小说
- 4. 神话小说

- (1) 1
- (2) 2
- (3) 3
- (4) 4

1[Option ID=23545] Question Description : chinese_chinese_set 1_chinese_q12
2[Option ID=23546]
3[Option ID=23547]
4[Option ID=23548]

SI. No.13
QBID:132013

对于文学革命,谁提出了“光有白话算不得新文学,新文学必须有新思想和新精神。”?

1. 孙中山
2. 陈独秀
3. 鲁迅
4. 胡适

(1) 1

(2) 2

(3) 3

(4) 4

1[Option ID=23549] Question Description : chinese_chinese_set 1_chinese_q13
2[Option ID=23550]
3[Option ID=23551]
4[Option ID=23552]

SI. No.14
QBID:132014

“祥林嫂”是鲁迅哪本小说的主要人物之一?

1. 《孔乙己》
2. 《药》
3. 《祝福》
4. 《阿Q正传》

(1) 1

(2) 2

(3) 3

(4) 4

1[Option ID=23553] Question Description : chinese_chinese_set 1_chinese_q14
2[Option ID=23554]
3[Option ID=23555]
4[Option ID=23556]

SI. No.15
QBID:132015

现代小说《超人》的作家是谁?

1. 冰心
2. 叶绍钧
3. 韩寒
4. 丁玲

(1) 1

(2) 2

(3) 3

(4) 4

1[Option ID=23557] Question Description : chinese_chinese_set 1_chinese_q15
2[Option ID=23558]
3[Option ID=23559]
4[Option ID=23560]

SI. No.16
QBID:132016

有名的中国诗人绿原的原名是什么?

1. 张光人
2. 鲁徒弟
3. 刘仁甫
4. 史成汉

(1) 1

(2) 2

(3) 3

(4) 4

1[Option ID=23561] Question Description : chinese_chinese_set 1_chinese_q16
2[Option ID=23562]

3[Option ID=23563]
4[Option ID=23564]

SI. No.17
QBID:132017

当代诗人食指的原名是什么？

1. 郭路生
2. 北岛
3. 郭小川
4. 王小妮

- (1) 1
(2) 2
(3) 3
(4) 4

1[Option ID=23565] Question Description : chinese_chinese_set 1_chinese_q17
2[Option ID=23566]
3[Option ID=23567]
4[Option ID=23568]

SI. No.18
QBID:132018

建国后“十七年”的文学运动和文学思潮继承了“五四”以来新文学的_____传统。

1. 外来风格
2. 现实主义
3. 先锋派
4. 现代主义

- (1) 1
(2) 2
(3) 3
(4) 4

1[Option ID=23569] Question Description : chinese_chinese_set 1_chinese_q18
2[Option ID=23570]
3[Option ID=23571]
4[Option ID=23572]

SI. No.19
QBID:132019

新时期小说《一半是火焰,一半是海水》是谁创作的？

1. 王朔
2. 王蒙
3. 王小波
4. 贾平凹

- (1) 1
(2) 2
(3) 3
(4) 4

1[Option ID=23573] Question Description : chinese_chinese_set 1_chinese_q19
2[Option ID=23574]
3[Option ID=23575]
4[Option ID=23576]

SI. No.20
QBID:132020

1978年1月在《人民文学》发表的_____是新时期报告文学的里程碑。

1. 《中国的“小皇帝”》
2. 《特别的姑娘》
3. 《哥德巴赫猜想》
4. 《敬你一杯酒》

- (1) 1
(2) 2
(3) 3

(4) 4

1[Option ID=23577] Question Description : chinese_chinese_set 1_chinese_q20
2[Option ID=23578]
3[Option ID=23579]
4[Option ID=23580]

Sl. No.21
QBID:132021

“不到长城非好汉”出自毛主席的：

1. 《清平乐：六盘山》
2. 《西江月：井冈山》
3. 《七律：长征》
4. 《采桑子：重阳》

(1) 1
(2) 2
(3) 3
(4) 4

1[Option ID=23581] Question Description : chinese_chinese_set 1_chinese_q21
2[Option ID=23582]
3[Option ID=23583]
4[Option ID=23584]

Sl. No.22
QBID:132022

俗话说：“喝了少林水，都会踢踢_____。”

1. 鬼
2. 腿
3. 嘴
4. 脚

(1) 1
(2) 2
(3) 3
(4) 4

1[Option ID=23585] Question Description : chinese_chinese_set 1_chinese_q22
2[Option ID=23586]
3[Option ID=23587]
4[Option ID=23588]

Sl. No.23
QBID:132023

下面哪个词的意思是“叔父的妻子”？

1. 婶母
2. 舅妈
3. 姑婆
4. 岳母

(1) 1
(2) 2
(3) 3
(4) 4

1[Option ID=23589] Question Description : chinese_chinese_set 1_chinese_q23
2[Option ID=23590]
3[Option ID=23591]
4[Option ID=23592]

Sl. No.24
QBID:132024

中国画中的“四君子”，除了梅、兰、竹以外还有什么？

1. 桃
2. 菊
3. 莲
4. 松

- (1) 1
- (2) 2
- (3) 3
- (4) 4

1[Option ID=23593] Question Description : chinese_chinese_set 1_chinese_q24
2[Option ID=23594]
3[Option ID=23595]
4[Option ID=23596]

SI. No.25
QBID:132025

考古学在中国最古发现的人类是_____房山县周口店所发现的北京人。

- 1. 湖北
- 2. 河北
- 3. 河南
- 4. 湖南

- (1) 1
- (2) 2
- (3) 3
- (4) 4

1[Option ID=23597] Question Description : chinese_chinese_set 1_chinese_q25
2[Option ID=23598]
3[Option ID=23599]
4[Option ID=23600]

SI. No.26
QBID:132026

“战国七雄”指的是_____。

- 1. 战国时期的七大文学作品
- 2. 战国时期的七位知名政治家
- 3. 战国时期的一系列兼并战争中的七位英雄
- 4. 战国时形成的七大诸侯国

- (1) 1
- (2) 2
- (3) 3
- (4) 4

1[Option ID=23601] Question Description : chinese_chinese_set 1_chinese_q26
2[Option ID=23602]
3[Option ID=23603]
4[Option ID=23604]

SI. No.27
QBID:132027

由于交通的发展,中国第一次在哪个时期与东南亚和南亚诸国建立商业联系和外交往来?

- 1. 商朝时期
- 2. 秦朝时期
- 3. 隋唐时期
- 4. 清朝时期

- (1) 1
- (2) 2
- (3) 3
- (4) 4

1[Option ID=23605] Question Description : chinese_chinese_set 1_chinese_q27
2[Option ID=23606]
3[Option ID=23607]
4[Option ID=23608]

SI. No.28
QBID:132028

中国在哪个朝代的统治下创立了科举制度？

1. 秦朝
2. 汉朝
3. 隋朝
4. 元朝

(1) 1

(2) 2

(3) 3

(4) 4

1[Option ID=23609] Question Description : chinese_chinese_set 1_chinese_q28
2[Option ID=23610]
3[Option ID=23611]
4[Option ID=23612]

SI. No.29
QBID:132029

据《史记》，谁最早把印度介绍给中国皇帝？

1. 法显
2. 张骞
3. 司马迁
4. 玄奘

(1) 1

(2) 2

(3) 3

(4) 4

1[Option ID=23613] Question Description : chinese_chinese_set 1_chinese_q29
2[Option ID=23614]
3[Option ID=23615]
4[Option ID=23616]

SI. No.30
QBID:132030

记述古代印度的著作《南海寄归内法传》是谁的作品？

1. 法显
2. 朱士行
3. 义净
4. 鸠摩罗舍

(1) 1

(2) 2

(3) 3

(4) 4

1[Option ID=23617] Question Description : chinese_chinese_set 1_chinese_q30
2[Option ID=23618]
3[Option ID=23619]
4[Option ID=23620]

SI. No.31
QBID:132031

宋元时代，下列哪个中国城市建立了印度教寺庙？

1. 广州
2. 苏州
3. 徐州
4. 泉州

(1) 1

(2) 2

(3) 3

(4) 4

1[Option ID=23621] Question Description : chinese_chinese_set 1_chinese_q31
2[Option ID=23622]

3[Option ID=23623]
4[Option ID=23624]

SI. No.32
QBID:132032

从印度派遣去中国镇压义和团运动的英属印军用印地语写出了他的日记并成书发表。书名是：

1. 《在中国的见闻》
2. 《在中国旅行》
3. 《在中国的十三个月》
4. 《我的西藏之行》

- (1) 1
(2) 2
(3) 3
(4) 4

1[Option ID=23625] Question Description : chinese_chinese_set 1_chinese_q32
2[Option ID=23626]
3[Option ID=23627]
4[Option ID=23628]

SI. No.33
QBID:132033

喀什经济特区的设立是哪年批准的？

1. 2005年
2. 2007年
3. 2008年
4. 2010年

- (1) 1
(2) 2
(3) 3
(4) 4

1[Option ID=23629] Question Description : chinese_chinese_set 1_chinese_q33
2[Option ID=23630]
3[Option ID=23631]
4[Option ID=23632]

SI. No.34
QBID:132034

中国第一位进入太空的航天员是谁？

1. 刘洋
2. 王亚平
3. 费俊龙
4. 杨利伟

- (1) 1
(2) 2
(3) 3
(4) 4

1[Option ID=23633] Question Description : chinese_chinese_set 1_chinese_q34
2[Option ID=23634]
3[Option ID=23635]
4[Option ID=23636]

SI. No.35
QBID:132035

中国人民银行是哪年发行第一套人民币的？

1. 1945年
2. 1948年
3. 1953年
4. 1978年

- (1) 1
(2) 2
(3) 3

(4) 4

1[Option ID=23637] Question Description : chinese_chinese_set 1_chinese_q35
2[Option ID=23638]
3[Option ID=23639]
4[Option ID=23640]

SI. No.36

QBID:132036

选举中国国家主席和副主席的机关是：

1. 国务院
2. 政协
3. 全国人民代表大会
4. 中共中央政治局

(1) 1

(2) 2

(3) 3

(4) 4

1[Option ID=23641] Question Description : chinese_chinese_set 1_chinese_q36
2[Option ID=23642]
3[Option ID=23643]
4[Option ID=23644]

SI. No.37

QBID:132037

中国哪年首次发射了载人宇宙飞船，进入了轨道？

1. 2000年
2. 1999年
3. 2008年
4. 2003年

(1) 1

(2) 2

(3) 3

(4) 4

1[Option ID=23645] Question Description : chinese_chinese_set 1_chinese_q37
2[Option ID=23646]
3[Option ID=23647]
4[Option ID=23648]

SI. No.38

QBID:132038

钓鱼岛位于_____。

1. 黄海
2. 渤海
3. 东海
4. 南海

(1) 1

(2) 2

(3) 3

(4) 4

1[Option ID=23649] Question Description : chinese_chinese_set 1_chinese_q38
2[Option ID=23650]
3[Option ID=23651]
4[Option ID=23652]

SI. No.39

QBID:132039

下列哪个是中国的海外海军基地？

1. 巴林岛
2. 东京
3. 吉布提
4. 横田

- (1) 1
- (2) 2
- (3) 3
- (4) 4

1[Option ID=23653] Question Description : chinese_chinese_set 1_chinese_q39
2[Option ID=23654]
3[Option ID=23655]
4[Option ID=23656]

SI. No.40
QBID:132040

中华人民共和国哪年加入联合国安全理事会？

- 1. 1978年
- 2. 1971年
- 3. 1950年
- 4. 1997年

- (1) 1
- (2) 2
- (3) 3
- (4) 4

1[Option ID=23657] Question Description : chinese_chinese_set 1_chinese_q40
2[Option ID=23658]
3[Option ID=23659]
4[Option ID=23660]

SI. No.41
QBID:132041

下列哪些字的读音韵母不是“ui”？

- A. 馓
- B. 卉
- C. 纭
- D. 貉


选正确答案:

- 1. 只是 B 与 D
- 2. 只是 A 与 B
- 3. 只是 C 与 D
- 4. 只是 A 与 C

- (1) 1
- (2) 2
- (3) 3
- (4) 4

1[Option ID=23661] Question Description : chinese_chinese_set 1_chinese_q41
2[Option ID=23662]
3[Option ID=23663]
4[Option ID=23664]

SI. No.42
QBID:132042



下列哪些汉字的声调是第四声？

- A. 缀
- B. 掇
- C. 辍
- D. 辘

选正确答案:

- 1. 只是 A、B 与 D
- 2. 只是 B、C 与 D
- 3. 只是 A、C 与 D
- 4. 只是 B 与 C

(1) 1

(2) 2

(3) 3

(4) 4

1[Option ID=23665] Question Description : chinese_chinese_set 1_chinese_q42
2[Option ID=23666]
3[Option ID=23667]
4[Option ID=23668]

SI. No.43
QBID:132043

选出有语病的句子。

- A. 他把房间收拾得干净、整洁、条理。
- B. 为了避免不再犯类似的错误，我们要特别注意。
- C. 明天你们去看足球赛，千万不要还惹事生非。
- D. 要不是我在场，他那小拳头就捶在小涛身上了。

选正确答案:

- 1. 只是 A 与 B
- 2. 只是 B 与 C
- 3. 只是 A、B 与 C
- 4. 只是 B、C 与 D

(1) 1

(2) 2

(3) 3

(4) 4

1[Option ID=23669] Question Description : chinese_chinese_set 1_chinese_q43
2[Option ID=23670]
3[Option ID=23671]
4[Option ID=23672]

SI. No.44
QBID:132044

“用毒毒蛇毒蛇会不会被毒毒死？”句中“毒”用为？

名词

副词

形容词

动词

选正确答案:

1. 只是 A 与 B
2. 只是 B 与 C
3. 只是 B 与 D
4. 只是 A、C 与 D

(1) 1

(2) 2

(3) 3

(4) 4

1[Option ID=23673]

Question Description : chinese_chinese_set 1_chinese_q44

2[Option ID=23674]

3[Option ID=23675]

4[Option ID=23676]

SI. No.45

QBID:132045

选出比喻办事不认真的成语。

- A. 毛手毛脚
- B. 敷衍了事
- C. 丢盔卸甲
- D. 下马看花

选正确答案:

1. 只是 A 与 B
2. 只是 A 与 C
3. 只是 B 与 C
4. 只是 C 与 D

(1) 1

(2) 2

(3) 3

(4) 4

1[Option ID=23677]

Question Description : chinese_chinese_set 1_chinese_q45


2[Option ID=23678]

3[Option ID=23679]

4[Option ID=23680]

SI. No.46

QBID:132046



关汉卿是：

- A. 伟大的戏剧作家
- B. 元代戏剧界的“四大家”之一
- C. 宋代词人
- D. 苏门四学士诗人

选正确答案：

- 1. 只是 A 与 B
- 2. 只是 A、B 与 C
- 3. 只是 C 与 D
- 4. 只是 A、C 与 D

(1) 1

(2) 2

(3) 3

(4) 4

1[Option ID=23681] Question Description : chinese_chinese_set 1_chinese_q46
2[Option ID=23682]
3[Option ID=23683]
4[Option ID=23684]

SI. No.47
QBID:132047

《三国演义》：

- A. 是第一部长篇章回小说
- B. 是第一部长篇神话小说
- C. 更多地依据历史记载
- D. 更多地采用了民间传说

选正确答案:

- 1. 只是 A 与 C
- 2. 只是 A 与 D
- 3. 只是 B 与 D
- 4. 只是 A、C 与 D

(1) 1

(2) 2

(3) 3

(4) 4

1[Option ID=23685] Question Description : chinese_chinese_set 1_chinese_q47
2[Option ID=23686]
3[Option ID=23687]
4[Option ID=23688]

SI. No.48
QBID:132048

下列哪些是闻一多关于诗歌“三美”主张的？

- A. 建筑美
- B. 戏剧美
- C. 音乐美
- D. 绘画美

选正确答案:

- 1. 只是 A 与 B
- 2. 只是 B 与 C
- 3. 只是 B、C 与 D
- 4. 只是 A、C 与 D

(1) 1

(2) 2

(3) 3

(4) 4

1[Option ID=23689] Question Description : chinese_chinese_set 1_chinese_q48
2[Option ID=23690]
3[Option ID=23691]
4[Option ID=23692]

Sl. No.49
QBID:132049

建国之前赵树理发表名重一时的小说有哪些？

- A. 《李有才板话》
- B. 《李家庄的变迁》
- C. 《八月的乡村》
- D. 《子夜》

选正确答案:

- 1. 只是 A 与 B
- 2. 只是 A 与 C
- 3. 只是 B 与 D
- 4. 只是 A 与 D

(1) 1

(2) 2

(3) 3

(4) 4

1[Option ID=23693] Question Description : chinese_chinese_set 1_chinese_q49
2[Option ID=23694]
3[Option ID=23695]
4[Option ID=23696]

Sl. No.50
QBID:132050

关于《日出》下列哪些正确？

- A. 是上世纪三十年代出版的文学作品
- B. 是一首长诗
- C. 其作者是曹禺
- D. 是一篇独幕话剧

选正确答案:

- 1. 只是 A 与 C
- 2. 只是 A、B 与 C
- 3. 只是 A、C 与 D
- 4. 只是 C 与 D

(1) 1

(2) 2

(3) 3

(4) 4

1[Option ID=23697] Question Description : chinese_chinese_set 1_chinese_q50
2[Option ID=23698]
3[Option ID=23699]
4[Option ID=23700]

Sl. No.51
QBID:132051

下列诗人中朦胧诗的代表诗人有哪些？

- A. 多多
- B. 何其芳
- C. 芒克
- D. 江河

选正确答案:

- 1. 只是 A 与 B
- 2. 只是 A 与 C
- 3. 只是 A、C 与 D
- 4. 只是 B、C 与 D

(1) 1

(2) 2

(3) 3

(4) 4

1[Option ID=23701]

Question Description : chinese_chinese_set 1_chinese_q51

2[Option ID=23702]

3[Option ID=23703]

4[Option ID=23704]

SI. No.52

QBID:132052

《茶馆》中的主要人物包括：

- A. 常四爷
- B. 张思远
- C. 刘世吾
- D. 王利发

选正确答案:

- 1. 只是 A 与 D
- 2. 只是 A 与 C
- 3. 只是 B 与 C
- 4. 只是 B 与 D

(1) 1

(2) 2

(3) 3

(4) 4

1[Option ID=23705]

Question Description : chinese_chinese_set 1_chinese_q52

2[Option ID=23706]

3[Option ID=23707]

4[Option ID=23708]

SI. No.53

QBID:132053

下列哪些是中国茶叶品种？

- A. 祁红
- B. 锡兰红茶
- C. 玉露茶
- D. 碧螺春

选正确答案:

- 1. 只是 A 与 C
- 2. 只是 A 与 D
- 3. 只是 B 与 D
- 4. 只是 B、C 与 D

(1) 1

- (2) 2
- (3) 3
- (4) 4

1[Option ID=23709] Question Description : chinese_chinese_set 1_chinese_q53
2[Option ID=23710]
3[Option ID=23711]
4[Option ID=23712]

SI. No.54
QBID:132054

下列哪些是神话故事中的动物？

- A. 麒麟
- B. 饕餮
- C. 鬣蜥
- D. 栲杓

选正确答案:

- 1. 只是 A、B 与 D
- 2. 只是 A、B 与 C
- 3. 只是 C 与 D
- 4. 只是 B 与 C

- (1) 1
- (2) 2
- (3) 3
- (4) 4

1[Option ID=23713] Question Description : chinese_chinese_set 1_chinese_q54
2[Option ID=23714]
3[Option ID=23715]
4[Option ID=23716]

SI. No.55
QBID:132055

下列哪些少数民族分布在云南？

- A. 侗族
- B. 哈尼族
- C. 土家族
- D. 基诺族

选正确答案:

- 1. 只是 A 与 C
- 2. 只是 B 与 C
- 3. 只是 B 与 D
- 4. 只是 A 与 D

- (1) 1
- (2) 2
- (3) 3
- (4) 4

1[Option ID=23717] Question Description : chinese_chinese_set 1_chinese_q55
2[Option ID=23718]
3[Option ID=23719]
4[Option ID=23720]

SI. No.56
QBID:132056



在南京条约的框架下，下列哪些通商口岸开放给英国？

- A. 厦门
- B. 宁波
- C. 广州
- D. 浙江

选正确答案:

- 1. 只是 A 与 B
- 2. 只是 A 与 C
- 3. 只是 A、B 与 C
- 4. 只是 B、C 与 D

(1) 1

(2) 2

(3) 3

(4) 4

1[Option ID=23721]

Question Description : chinese_chinese_set 1_chinese_q56

2[Option ID=23722]

3[Option ID=23723]

4[Option ID=23724]

SI. No.57

QBID:132057

下列哪些是义和团维新运动的代表者？

- A. 康有为
- B. 洪秀全
- C. 梁启超
- D. 光绪皇帝

选正确答案:

- 1. 只是 A 与 B
- 2. 只是 B 与 C
- 3. 只是 A、B 与 C
- 4. 只是 A、C 与 D

(1) 1

(2) 2

(3) 3

(4) 4

1[Option ID=23725]

Question Description : chinese_chinese_set 1_chinese_q57

2[Option ID=23726]

3[Option ID=23727]

4[Option ID=23728]

SI. No.58

QBID:132058

中国总理周恩来什么时候访问过印度？

- A. 1954年
- B. 1956年
- C. 1958年
- D. 1960年

选正确答案：

- 1. 只是 A 与 B
- 2. 只是 B 与 D
- 3. 只是 A、B 与 D
- 4. 只是 A、C 与 D

(1) 1



- (2) 2
- (3) 3
- (4) 4

1[Option ID=23729] Question Description : chinese_chinese_set 1_chinese_q58
2[Option ID=23730]
3[Option ID=23731]
4[Option ID=23732]

SI. No.59
QBID:132059

中国第一代印地语教育者是：

- A. 金克木
- B. 季羨林
- C. 姜景奎
- D. 彭正笃

选正确答案：

- 1. 只是 A、B 与 C
- 2. 只是 B、C 与 D
- 3. 只是 A 与 D
- 4. 只是 B 与 C

- (1) 1
- (2) 2
- (3) 3
- (4) 4

1[Option ID=23733] Question Description : chinese_chinese_set 1_chinese_q59
2[Option ID=23734]
3[Option ID=23735]
4[Option ID=23736]

SI. No.60
QBID:132060

下列哪些牌子不是中国的？

- A. 比亚迪
- B. 大众
- C. 吉利
- D. 丰田


选正确答案：

- 1. 只是 A 与 B
- 2. 只是 A 与 D
- 3. 只是 B 与 C
- 4. 只是 B 与 D

- (1) 1
- (2) 2
- (3) 3
- (4) 4

1[Option ID=23737] Question Description : chinese_chinese_set 1_chinese_q60
2[Option ID=23738]
3[Option ID=23739]
4[Option ID=23740]

SI. No.61
QBID:132061



下列哪些人士是“共和国勋章”的获得者？

- A. 钟南山
- B. 黄旭华
- C. 张富清
- D. 周有光

- 1. 只是 A 与 D
- 2. 只是 B 与 C
- 3. 只是 A、B 与 C
- 4. 只是 B 与 D

(1) 1

(2) 2

(3) 3

(4) 4

1[Option ID=23741] Question Description : chinese_chinese_set 1_chinese_q61
2[Option ID=23742]
3[Option ID=23743]
4[Option ID=23744]

Sl. No.62

QBID:132062

下列哪些是“大跃进”时期的宣传口号？

- A. 一个萝卜千斤重，两头毛驴拉不动。
- B. 深挖洞，广积粮，不称霸。
- C. 肥猪赛大象，只是鼻子短，全村宰一头，足够吃半年。
- D. 人有多大胆，地有多高产。

选正确答案：

- 1. 只是 A 与 B
- 2. 只是 A、C 与 D
- 3. 只是 B 与 C
- 4. 只是 B 与 D

(1) 1

(2) 2

(3) 3

(4) 4

1[Option ID=23745] Question Description : chinese_chinese_set 1_chinese_q62
2[Option ID=23746]
3[Option ID=23747]
4[Option ID=23748]

Sl. No.63

QBID:132063

习近平提出的“一带一路”之基本合作原则是：

- A. 共建
- B. 共强
- C. 共商
- D. 共享

选正确答案:

- 1. 只是 A 与 B
- 2. 只是 B、C 与 D
- 3. 只是 A、C 与 D
- 4. 只是 A、B 与 D

(1) 1

(2) 2

(3) 3

(4) 4

1[Option ID=23749] Question Description : chinese_chinese_set 1_chinese_q63
2[Option ID=23750]
3[Option ID=23751]
4[Option ID=23752]

Sl. No.64
QBID:132064

2020年，印度政府禁止了哪些手机应用程序？

- A. 绝地求生
- B. 微信
- C. 抖音
- D. 电报

选正确答案:

- 1. 只是 A 与 B
- 2. 只是 A 与 C
- 3. 只是 B 与 C
- 4. 只是 A、B 与 C

(1) 1

(2) 2

(3) 3

(4) 4

1[Option ID=23753] Question Description : chinese_chinese_set 1_chinese_q64
2[Option ID=23754]
3[Option ID=23755]
4[Option ID=23756]

Sl. No.65
QBID:132065

下列哪些国家不是核供应国集团的成员国？

- A. 澳大利亚
- B. 印度
- C. 日本
- D. 斯里兰卡

选正确答案:

- 1. 只是 A 与 B
- 2. 只是 A 与 C
- 3. 只是 B 与 D
- 4. 只是 B、C 与 D

(1) 1

(2) 2

(3) 3

(4) 4

1[Option ID=23757] Question Description : chinese_chinese_set 1_chinese_q65
2[Option ID=23758]
3[Option ID=23759]
4[Option ID=23760]

Sl. No.66
QBID:132066

配对部首与其名称

LIST I		LIST II	
A.	女	I.	双耳刀
B.	彡	II.	反文旁
C.	礻	III.	示字旁
D.	衤	IV.	反犬旁

选正确答案：

1. A - II, B - III, C - IV, D - I
2. A - II, B - IV, C - I, D - III
3. A - IV, B - I, C - II, D - III
4. A - III, B - I, C - IV, D - II

- (1) 1
(2) 2
(3) 3
(4) 4

1[Option ID=23761] Question Description : chinese_chinese_set 1_chinese_q66
2[Option ID=23762]
3[Option ID=23763]
4[Option ID=23764]

Sl. No.67
QBID:132067

根据左边四句中“跟”字的词性，配对：

LIST I		LIST II	
A.	驾长檐车，跟高齿履。	I.	名词
B.	我跟我男朋友是同乡。	II.	动词
C.	我有几句话跟你说。	III.	连词
D.	每册之跟，自书精楷以表之。	IV.	介词

选正确答案：

1. A -II, B -I, C -IV, D -III
2. A -III, B -II, C -I, D -IV
3. A -I, B - III, C -IV, D -II
4. A -II, B -III, C -IV, D -I

- (1) 1
(2) 2
(3) 3
(4) 4

1[Option ID=23765] Question Description : chinese_chinese_set 1_chinese_q67
2[Option ID=23766]
3[Option ID=23767]
4[Option ID=23768]

Sl. No.68
QBID:132068

配对:

LIST I		LIST II	
A.	《孟子》	I.	《召公谏厉王弭谤》
B.	《国语》	II.	《曹刿论战》
C.	《左传》	III.	《邹忌讽齐王纳谏》
D.	《战国策》	IV.	《齐桓晋文之事》

选正确答案:

1. A - II, B - III, C - IV, D - I
2. A - III, B - I, C - IV, D - II
3. A - IV, B - I, C - II, D - III
4. A - IV, B - III, C - I, D - II

(1) 1

(2) 2

(3) 3

(4) 4

1[Option ID=23769] Question Description : chinese_chinese_set 1_chinese_q68
2[Option ID=23770]
3[Option ID=23771]
4[Option ID=23772]

SI. No.69
QBID:132069

配对:

LIST I		LIST II	
A.	写诗剧	I.	胡适
B.	抒情剧	II.	郭沫若
C.	问题小说	III.	叶绍钧
D.	象征小说	IV.	李金发

选正确答案:

1. A - I, B - III, C - II, D - IV
2. A - I, B - II, C - III, D - IV
3. A - II, B - I, C - IV, D - III
4. A - II, B - I, C - III, D - IV

(1) 1

(2) 2

(3) 3

(4) 4

1[Option ID=23773] Question Description : chinese_chinese_set 1_chinese_q69
2[Option ID=23774]
3[Option ID=23775]
4[Option ID=23776]

SI. No.70
QBID:132070

配对：

LIST I		LIST II	
A.	郭沫若	I.	《文成公主》
B.	曹禺	II.	《胆剑篇》
C.	老舍	III.	《神拳》
D.	田汉	IV.	《蔡文姬》

选正确答案：

1. A - IV, B - III, C - II, D - I
2. A - IV, B - II, C - III, D - I
3. A - III, B - IV, C - II, D - I
4. A - III, B - IV, C - I, D - II

(1) 1

(2) 2

(3) 3

(4) 4

1[Option ID=23777] Question Description : chinese_chinese_set 1_chinese_q70
2[Option ID=23778]
3[Option ID=23779]
4[Option ID=23780]

Sl. No.71
QBID:132071

按中国各地口味的不同，配对：

LIST I		LIST II	
A.	西	I.	甜
B.	南	II.	酸
C.	北	III.	辣
D.	东	IV.	咸

选正确答案：

1. A - III, B - I, C - IV, D - II
2. A - II, B - III, C - IV, D - I
3. A - III, B - IV, C - I, D - II
4. A - IV, B - I, C - III, D - II

(1) 1

(2) 2

(3) 3

(4) 4

1[Option ID=23781] Question Description : chinese_chinese_set 1_chinese_q71
2[Option ID=23782]
3[Option ID=23783]
4[Option ID=23784]

Sl. No.72
QBID:132072

配对：

LIST I		LIST II	
A.	孔子	I.	翠亨
B.	毛泽东	II.	广安
C.	邓小平	III.	曲阜
D.	孙中山	IV.	湘潭

选正确答案：

1. A - II, B - IV, C - I, D - III
2. A - III, B - IV, C - II, D - I
3. A - IV, B - I, C - II, D - III
4. A - II, B - I, C - IV, D - III

- (1) 1
(2) 2
(3) 3
(4) 4

1[Option ID=23785] Question Description : chinese_chinese_set 1_chinese_q72
2[Option ID=23786]
3[Option ID=23787]
4[Option ID=23788]

SI. No.73
QBID:132073

配对：

LIST I		LIST II	
A.	季羨林	I.	和平共处五项原则友谊奖
B.	潭中	II.	莲花装勋章
C.	郁龙余	III.	莲花赐勋章
D.	马诺拉玛·科特尼斯女士	IV.	杰出印度学家奖

选正确答案：

1. A - II, B - III, C - IV, D - I
2. A - I, B - II, C - III, D - IV
3. A - III, B - II, C - IV, D - I
4. A - IV, B - I, C - II, D - III
- (1) 1
(2) 2
(3) 3
(4) 4

1[Option ID=23789] Question Description : chinese_chinese_set 1_chinese_q73
2[Option ID=23790]
3[Option ID=23791]
4[Option ID=23792]

SI. No.74
QBID:132074

配对：

LIST I		LIST II	
A.	三峡大坝	I.	湖南
B.	酒泉卫星发射中心	II.	内蒙古
C.	金茂大厦	III.	湖北
D.	云天渡	IV.	上海

选正确答案：

1. A - II, B - IV, C - I, D - III
2. A - II, B - III, C - IV, D - I
3. A - III, B - II, C - IV, D - I
4. A - III, B - I, C - II, D - IV
- (1) 1
(2) 2
(3) 3
(4) 4

1[Option ID=23793] Question Description : chinese_chinese_set 1_chinese_q74
2[Option ID=23794]
3[Option ID=23795]
4[Option ID=23796]

SI. No.75
QBID:132075

配对:

LIST I		LIST II	
A.	辉瑞	I.	Johnson & Johnson
B.	强生	II.	Sinovac
C.	阿斯利康	III.	Pfizer
D.	科兴	IV.	Astra Zeneca

选正确答案:

1. A - I , B - III , C -IV , D -II
2. A - III, B -I , C -IV , D - II
3. A - II, B -III , C - IV, D - I
4. A - III, B - II, C -IV , D -I

(1) 1

(2) 2

(3) 3

(4) 4

1[Option ID=23797] Question Description : chinese_chinese_set 1_chinese_q75
2[Option ID=23798]
3[Option ID=23799]
4[Option ID=23800]

Sl. No.76

QBID:132076

按天干排序:

- A. 壬
- B. 庚
- C. 癸
- D. 辛

选正确答案:

1. B, A, D, C
2. C, B, A, D
3. B, D, A, C
4. D, B, A, C

(1) 1

(2) 2

(3) 3

(4) 4

1[Option ID=23801] Question Description : chinese_chinese_set 1_chinese_q76
2[Option ID=23802]
3[Option ID=23803]
4[Option ID=23804]

Sl. No.77

QBID:132077

按照正确顺序排列下列语句。

- A. 在全国范围内开展了以解决农村贫困人口温饱问题为主要目标的
- B. 1949年新中国成立后,特别是实行改革开放政策以来,中国政府
- C. 有计划、有组织的大规模扶贫开发工作
- D. 在致力于经济和社会全面发展的过程中

选正确答案:

1. A, B, C, D
2. A, C, B, D
3. B, D, A, C
4. B, D, C, A

(1) 1

(2) 2

(3) 3

(4) 4

1[Option ID=23805] Question Description : chinese_chinese_set 1_chinese_q77
2[Option ID=23806]
3[Option ID=23807]
4[Option ID=23808]

Sl. No.78
QBID:132078

据出生的先后，排序下列作家：

- A. 曹雪芹
- B. 吴承恩
- C. 施耐庵
- D. 罗贯中

选正确答案：

- 1. A, B, C, D
- 2. B, C, A, D
- 3. C, D, B, A
- 4. D, A, C, B

(1) 1

(2) 2

(3) 3

(4) 4

1[Option ID=23809] Question Description : chinese_chinese_set 1_chinese_q78
2[Option ID=23810]
3[Option ID=23811]
4[Option ID=23812]

Sl. No.79
QBID:132079

按开端时间从后到先排序：

- A. 文学革命
- B. 革命文学
- C. 抗战时期的文学
- D. 中国先锋派文学

选正确答案：

- 1. A, B, C, D
- 2. B, A, C, D
- 3. D, C, B, A
- 4. B, C, A, D

(1) 1


(2) 2

(3) 3

(4) 4

1[Option ID=23813] Question Description : chinese_chinese_set 1_chinese_q79
2[Option ID=23814]
3[Option ID=23815]
4[Option ID=23816]

Sl. No.80
QBID:132080



按逻辑顺序排列下列语句

- A. 喜的却是不必和小龙女会面
- B. 以免揭穿他窃密之丑
- C. 愁的自是为了取不到玉蜂蜜浆
- D. 那老顽童也是一般的又喜又愁

选正确答案：

- 1. C, A, B, D
- 2. C, A, D, B
- 3. D, C, B, A
- 4. D, C, A, B

(1) 1

(2) 2

(3) 3

(4) 4

1[Option ID=23817] Question Description : chinese_chinese_set 1_chinese_q80
2[Option ID=23818]
3[Option ID=23819]
4[Option ID=23820]

SI. No.81
QBID:132081

按下列省会的地理位置排序（从南到北）：

- A. 长沙
- B. 太原
- C. 郑州
- D. 武汉

选正确答案：

- 1. B, A, C, D
- 2. A, D, C, B
- 3. A, B, D, C
- 4. A, D, B, C


(1) 1

(2) 2

(3) 3

(4) 4

1[Option ID=23821] Question Description : chinese_chinese_set 1_chinese_q81
2[Option ID=23822]
3[Option ID=23823]
4[Option ID=23824]



SI. No.82
QBID:132082

按下列条约签约的先后，排序：

- A. 南京条约
- B. 辛丑条约
- C. 天津条约
- D. 北京条约

选正确答案：

- 1. A, B, C, D
- 2. A, C, D, B
- 3. D, C, A, B
- 4. B, C, A, D

(1) 1

(2) 2

(3) 3

(4) 4

1[Option ID=23825] Question Description : chinese_chinese_set 1_chinese_q82
2[Option ID=23826]
3[Option ID=23827]
4[Option ID=23828]

Sl. No.83
QBID:132083

据印度驻华大使工作时间的先后排序：

- A. Vijay K. Nambiar
- B. Nalin Surie
- C. Shiv Shankar Menon
- D. Nirupama Rao

选正确答案：

- 1. A, C, B, D
- 2. B, A, D, C
- 3. A, B, C, D
- 4. C, A, B, D

(1) 1

(2) 2

(3) 3

(4) 4

1[Option ID=23829] Question Description : chinese_chinese_set 1_chinese_q83
2[Option ID=23830]
3[Option ID=23831]
4[Option ID=23832]

Sl. No.84
QBID:132084

按2020年度人均可支配收入的高低，排序下列省。（从高至低）

- A. 广东
- B. 江苏
- C. 浙江
- D. 福建

选正确答案：

- 1. B, C, A, D
- 2. C, B, A, D
- 3. B, C, D, A
- 4. A, C, B, D

(1) 1

(2) 2

(3) 3

(4) 4

1[Option ID=23833] Question Description : chinese_chinese_set 1_chinese_q84
2[Option ID=23834]
3[Option ID=23835]
4[Option ID=23836]

Sl. No.85
QBID:132085

按照下列口号提出的先后排序：

- A. 三个代表
- B. 敢想敢干
- C. 和谐社会
- D. 中国梦

选正确答案：

- 1. B, A, C, D
- 2. A, B, C, D
- 3. A, C, B, D
- 4. B, D, A, C

- (1) 1
- (2) 2
- (3) 3
- (4) 4

1[Option ID=23837] Question Description : chinese_chinese_set 1_chinese_q85
2[Option ID=23838]
3[Option ID=23839]
4[Option ID=23840]

SI. No.86
QBID:132086

下列提到两个语句，一个是观点（A），另一个是说明（R）
观点（A）：中国大陆与台湾的有些词难以望文生义。
说明（R）：中国内地一般称“手机”，台湾则称“行动手机”。

选正确答案：

- 1. A 与 R 都正确，并 R 是 A 的正确解释
- 2. A 与 R 都正确，但 R 不是 A 的正确解释
- 3. A 正确，但 R 不正确
- 4. A 不正确，但 R 正确

- (1) 1
- (2) 2
- (3) 3
- (4) 4

1[Option ID=23841] Question Description : chinese_chinese_set 1_chinese_q86
2[Option ID=23842]
3[Option ID=23843]
4[Option ID=23844]

SI. No.87
QBID:132087

下列提到两个语句，一个是观点（A），另一个是说明（R）
观点（A）：开轩面场圃，把酒话桑麻。
说明（R）：打开窗户就看美山，饮酒并闲谈爱情

选正确答案：

- 1. A 与 R 都正确，并 R 是 A 的正确解释
- 2. A 与 R 都正确，但 R 不是 A 的正确解释
- 3. A 正确，但 R 不正确
- 4. A 不正确，但 R 正确

- (1) 1
- (2) 2
- (3) 3
- (4) 4

1[Option ID=23845] Question Description : chinese_chinese_set 1_chinese_q87
2[Option ID=23846]

3[Option ID=23847]
4[Option ID=23848]

SI. No.88
QBID:132088

下列提到两个语句，一个是观点（A），另一个是说明（R）

观点（A）：18世纪中后期英国、法国和其他西方国家开始了工业革命。

说明（R）：为了掠夺生产原料和开拓海外市场，它们对中国进行殖民扩张。

选正确答案：

1. A 与 R 都正确，并 R 是 A 的正确解释
2. A 与 R 都正确，但 R 不是 A 的正确解释
3. A 正确，但 R 不正确
4. A 不正确，但 R 正确

(1) 1

(2) 2

(3) 3

(4) 4

1[Option ID=23849] Question Description : chinese_chinese_set 1_chinese_q88
2[Option ID=23850]
3[Option ID=23851]
4[Option ID=23852]

SI. No.89
QBID:132089

下列提到两个观点：

观点（I）：2010年中国国内生产总值超过7万亿美元。

观点（II）：2010年中国经济总量首次超过日本，成为世界第二大经济体。

选正确答案：

1. (I) 与 (II) 两个都正确
2. (I) 与 (II) 两个都不正确
3. (I) 正确，但 (II) 不正确
4. (I) 不正确，但 (II) 正确

(1) 1

(2) 2

(3) 3

(4) 4

1[Option ID=23853] Question Description : chinese_chinese_set 1_chinese_q89
2[Option ID=23854]
3[Option ID=23855]
4[Option ID=23856]

SI. No.90
QBID:132090

下列提到两个观点：

观点（I）：阿富汗是上合组织的观察员国。

观点（II）：印度也是上合组织的观察员国。

选正确答案：

1. (I) 与 (II) 两个都正确
2. (I) 与 (II) 两个都不正确
3. (I) 正确，但 (II) 不正确
4. (I) 不正确，但 (II) 正确

(1) 1

(2) 2

(3) 3

(4) 4

1[Option ID=23857]
2[Option ID=23858]
3[Option ID=23859]
4[Option ID=23860]

Question Description : chinese_chinese_set 1_chinese_q90

SI. No.91
QBID:132091

对于教育信息化“十四五”规划来说，新冠疫情和人工智能都是绕不开的关键词，尤其是疫情下信息化和在线教育所发挥的关键性作用给予全社会的深刻印象和思想启蒙，甚至在一定程度上改变了既定的“十四五”规划的走向。

2020年10月底，党的十九届五中全会通过的《中共中央关于制定国民经济和社会发展第十四个五年规划和二〇三五年远景目标的建议》，明确了“建设高质量教育体系”的政策导向和重点要求，强调“发挥在线教育优势，完善终身学习体系，建设学习型社会”。

北京师范大学副校长陈丽提出，疫情结束后，应该趁热打铁，在原来信息化建设的基础上，进一步推动以互联网为核心的新一代信息技术跟教育教学管理的整合和实践。下一阶段应该重点推动教学方式变革、供给方式变革、组织方式变革及管理模式变革。

同时，超常规发展的新技术在“十四五”规划中的分量更重。2016年公布的教育信息化“十三五”规划中，“新技术”名单里提到了云计算、大数据、物联网、移动计算。

从现在的视角来看，这个名单至少还可以再添加以下几项：人工智能、虚拟现实、5G……目前的情况是，云计算、大数据、物联网等技术“前浪”未衰，继续精进，而人工智能、虚拟现实、移动互联网等技术“后浪”已至，波涛汹涌。

这其实也提醒我们，影响和改变信息化发展的可能性和变量越来越多，在国家的教育信息化以及学校的信息化“十四五”规划中，要充分考虑到科技发展的加速度，必须为新规划留足技术演进和迭代的空间。

(选自《回顾2020 疫情下的教育信息化》，中国教务网络)

“十四五”规划中提出加上超常规发展的新技术包括：

- A. 云计算
- B. 大数据
- C. 5G
- D. 虚拟现实

选正确答案：

- 1. 只是 A 与 B
- 2. 只是 A 与 C
- 3. 只是 B、C 与 D
- 4. 只是 C 与 D

- (1) 1
- (2) 2
- (3) 3
- (4) 4

1[Option ID=23861]
2[Option ID=23862]
3[Option ID=23863]
4[Option ID=23864]

Question Description : chinese_chinese_set 1_chinese_q91

SI. No.92
QBID:132092

对于教育信息化“十四五”规划来说，新冠疫情和人工智能都是绕不开的关键词，尤其是疫情下信息化和在线教育所发挥的关键性作用给予全社会的深刻印象和思想启蒙，甚至在一定程度上改变了既定的“十四五”规划的走向。

2020年10月底，党的十九届五中全会通过的《中共中央关于制定国民经济和社会发展第十四个五年规划和二〇三五年远景目标的建议》，明确了“建设高质量教育体系”的政策导向和重点要求，强调“发挥在线教育优势，完善终身学习体系，建设学习型社会”。

北京师范大学副校长陈丽提出，疫情结束后，应该趁热打铁，在原来信息化建设的基础上，进一步推动以互联网为核心的新一代信息技术跟教育教学管理的整合和实践。下一阶段应该重点推动教学方式变革、供给方式变革、组织方式变革及管理模式变革。

同时，超常规发展的新技术在“十四五”规划中的分量更重。2016年公布的教育信息化“十三五”规划中，“新技术”名单里提到了云计算、大数据、物联网、移动计算。

从现在的视角来看，这个名单至少还可以再添加以下几项：人工智能、虚拟现实、5G……目前的情况是，云计算、大数据、物联网等技术“前浪”未衰，继续精进，而人工智能、虚拟现实、移动互联网等技术“后浪”已至，波涛汹涌。

这其实也提醒我们，影响和改变信息化发展的可能性和变量越来越多，在国家的教育信息化以及学校的信息化“十四五”规划中，要充分考虑到科技发展的加速度，必须为新规划留足技术演进和迭代的空间。

（选自《回顾2020 疫情下的教育信息化》，中国教务网络）

教育信息化“十四五”规划的关键词是：

- A. 后浪
- B. 新冠疫情
- C. 人工智能
- D. 前浪

选正确答案：

- 1. 只是 A 与 C
- 2. 只是 B 与 C
- 3. 只是 B 与 D
- 4. 只是 C 与 D

- (1) 1
- (2) 2
- (3) 3
- (4) 4



1[Option ID=23865]
2[Option ID=23866]
3[Option ID=23867]
4[Option ID=23868]

Question Description : chinese_chinese_set 1_chinese_q92

SI. No.93
QBID:132093

对于教育信息化“十四五”规划来说，新冠疫情和人工智能都是绕不开的关键词，尤其是疫情下信息化和在线教育所发挥的关键性作用给予全社会的深刻印象和思想启蒙，甚至在一定程度上改变了既定的“十四五”规划的走向。

2020年10月底，党的十九届五中全会通过的《中共中央关于制定国民经济和社会发展第十四个五年规划和二〇三五年远景目标的建议》，明确了“建设高质量教育体系”的政策导向和重点要求，强调“发挥在线教育优势，完善终身学习体系，建设学习型社会”。

北京师范大学副校长陈丽提出，疫情结束后，应该趁热打铁，在原来信息化建设的基础上，进一步推动以互联网为核心的新一代信息技术跟教育教学管理的整合和实践。下一阶段应该重点推动教学方式变革、供给方式变革、组织方式变革及管理模式变革。

同时，超常规发展的新技术在“十四五”规划中的分量更重。2016年公布的教育信息化“十三五”规划中，“新技术”名单里提到了云计算、大数据、物联网、移动计算。

从现在的视角来看，这个名单至少还可以再添加以下几项：人工智能、虚拟现实、5G……目前的情况是，云计算、大数据、物联网等技术“前浪”未衰，继续精进，而人工智能、虚拟现实、移动互联网等技术“后浪”已至，波涛汹涌。

这其实也提醒我们，影响和改变信息化发展的可能性和变量越来越多，在国家的教育信息化以及学校的信息化“十四五”规划中，要充分考虑到科技发展的加速度，必须为新规划留足技术演进和迭代的空间。

（选自《回顾2020 疫情下的教育信息化》，中国教务网络）

根据上述短文内容，不正确的一项是：

1. 新冠疫情或多或少改变了十四五规划的走向。
2. 北京师范大学副校长陈丽强调新一代信息技术代替原来的信息化建设。
3. 十四五规划明确了建设高质量教育体系的政策导向，建议建设以学习为主的社会。
4. 为新规划要留足技术演进和迭代的空间。

(1) 1

(2) 2

(3) 3

(4) 4

1[Option ID=23869]

Question Description : chinese_chinese_set 1_chinese_q93

2[Option ID=23870]

3[Option ID=23871]

4[Option ID=23872]

Sl. No.94

QBID:132094

对于教育信息化“十四五”规划来说，新冠疫情和人工智能都是绕不开的关键词，尤其是疫情下信息化和在线教育所发挥的关键性作用给予全社会的深刻印象和思想启蒙，甚至在一定程度上改变了既定的“十四五”规划的走向。

2020年10月底，党的十九届五中全会通过的《中共中央关于制定国民经济和社会发展第十四个五年规划和二〇三五年远景目标的建议》，明确了“建设高质量教育体系”的政策导向和重点要求，强调“发挥在线教育优势，完善终身学习体系，建设学习型社会”。

北京师范大学副校长陈丽提出，疫情结束后，应该趁热打铁，在原来信息化建设的基础上，进一步推动以互联网为核心的新一代信息技术跟教育教学管理的整合和实践。下一阶段应该重点推动教学方式变革、供给方式变革、组织方式变革及管理模式变革。

同时，超常规发展的新技术在“十四五”规划中的分量更重。2016年公布的教育信息化“十三五”规划中，“新技术”名单里提到了云计算、大数据、物联网、移动计算。

从现在的视角来看，这个名单至少还可以再添加以下几项：人工智能、虚拟现实、5G……目前的情况是，云计算、大数据、物联网等技术“前浪”未衰，继续精进，而人工智能、虚拟现实、移动互联网等技术“后浪”已至，波涛汹涌。

这其实也提醒我们，影响和改变信息化发展的可能性和变量越来越多，在国家的教育信息化以及学校的信息化“十四五”规划中，要充分考虑到科技发展的加速度，必须为新规划留足技术演进和迭代的空间。

（选自《回顾2020 疫情下的教育信息化》，中国教务网络）

谈到疫情后的教育信息化，北京师范大学副校长陈丽提出了推动五个变革，其中不包括：

1. 教学方式
2. 供给方式
3. 管理模式
4. 实习方式

(1) 1

(2) 2

(3) 3

(4) 4

1[Option ID=23873] Question Description : chinese_chinese_set 1_chinese_q94
2[Option ID=23874]
3[Option ID=23875]
4[Option ID=23876]

SI. No.95

QBID:132095

对于教育信息化“十四五”规划来说，新冠疫情和人工智能都是绕不开的关键词，尤其是疫情下信息化和在线教育所发挥的关键性作用给予全社会的深刻印象和思想启蒙，甚至在一定程度上改变了既定的“十四五”规划的走向。

2020年10月底，党的十九届五中全会通过的《中共中央关于制定国民经济和社会发展第十四个五年规划和二〇三五年远景目标的建议》，明确了“建设高质量教育体系”的政策导向和重点要求，强调“发挥在线教育优势，完善终身学习体系，建设学习型社会”。

北京师范大学副校长陈丽提出，疫情结束后，应该趁热打铁，在原来信息化建设的基础上，进一步推动以互联网为核心的新一代信息技术跟教育教学管理的整合和实践。下一阶段应该重点推动教学方式变革、供给方式变革、组织方式变革及管理模式变革。

同时，超常规发展的新技术在“十四五”规划中的分量更重。2016年公布的教育信息化“十三五”规划中，“新技术”名单里提到了云计算、大数据、物联网、移动计算。

从现在的视角来看，这个名单至少还可以再添加以下几项：人工智能、虚拟现实、5G……目前的情况是，云计算、大数据、物联网等技术“前浪”未衰，继续精进，而人工智能、虚拟现实、移动互联网等技术“后浪”已至，波涛汹涌。

这其实也提醒我们，影响和改变信息化发展的可能性和变量越来越多，在国家的教育信息化以及学校的信息化“十四五”规划中，要充分考虑到科技发展的加速度，必须为新规划留足技术演进和迭代的空间。

(选自《回顾2020 疫情下的教育信息化》，中国教务网络)

下列提到两个语句，一个是观点(A)，另一个是说明(R)

观点(A)：目前，在云计算、大数据等技术“前浪”得到广泛应用下，又出现了人工智能、虚拟现实等新技术“后浪”，奔腾起伏。

说明(R)：影响和改变信息化发展的可能性和变量越来越多。

选正确答案：

1. A与R都正确，并R是A的正确解释
2. A与R都正确，但R不是A的正确解释
3. A正确，但R不正确
4. A不正确，但R正确

(1) 1

(2) 2

(3) 3

(4) 4

1[Option ID=23877] Question Description : chinese_chinese_set 1_chinese_q95
2[Option ID=23878]
3[Option ID=23879]
4[Option ID=23880]

SI. No.96

QBID:132096

汉武帝统治时期,汉匈西域角力,汉朝渐居上风

这一时期始自汉武帝建元二年(公元前139年)张骞第一次出使西域,至征和四年(公元前89年)武帝下诏罢轮台屯田,约50年。在与匈奴斗争的过程中,汉廷逐渐认识到西域的重要性,汉武帝即位后,从匈奴降人口中得知西迁的大月氏与匈奴有世仇,决定派张骞出使西域,联合大月氏以夹攻匈奴。张骞第一次出使西域虽未达到联合大月氏之目的,但对于西域各国的地理、物产、风俗习惯等有了较为详细的了解。此为汉朝经营西域,打通河西走廊,制定“断匈奴右臂”的战略决策提供了可靠的资讯和必要的准备。

河西地区本为大月氏部族的领地,大月氏被击西迁,冒顿单于遂命浑邪王统治酒泉及周围地区、休屠王统治武威及周围地区,控制西域各国,且南面与羌人联合,对汉朝构成重大威胁。因此,元狩二年(公元前121年)春、夏,骠骑将军霍去病先后两次发动河西战役,歼灭、受降匈奴累计8万余众,沉重打击了匈奴,控制了河西走廊,汉廷从此可以直通西域诸国。为切断匈奴与羌人的联系,汉廷在河西地区先后设置武威、酒泉、张掖、敦煌四郡,从内地迁移大量人口戍边屯垦。此役使汉廷初步实现了战略牵制匈奴的目的,“单于失援,由是远遁,而幕(漠)南无王庭”。

张骞第一次出使西域指的是:

- A. 汉武帝时期联合月氏夹击匈奴的事件。
- B. 汉武帝派遣张骞出使西域各国。
- C. 汉武帝从长安出发出使西域。
- D. 汉武帝对匈奴采取“和亲”、馈赠及消极防御的政策。

- 1. 只是 A 与 B
- 2. 只是 A 与 C
- 3. 只是 A 与 D
- 4. 只是 C 与 D

- (1) 1
- (2) 2
- (3) 3
- (4) 4

1[Option ID=23881] Question Description : chinese_chinese_set 1_chinese_q96
2[Option ID=23882]
3[Option ID=23883]
4[Option ID=23884]

Sl. No.97
QBID:132097

汉武帝统治时期,汉匈西域角力,汉朝渐居上风

这一时期始自汉武帝建元二年(公元前139年)张骞第一次出使西域,至征和四年(公元前89年)武帝下诏罢轮台屯田,约50年。在与匈奴斗争的过程中,汉廷逐渐认识到西域的重要性,汉武帝即位后,从匈奴降人口中得知西迁的大月氏与匈奴有世仇,决定派张骞出使西域,联合大月氏以夹攻匈奴。张骞第一次出使西域虽未达到联合大月氏之目的,但对于西域各国的地理、物产、风俗习惯等有了较为详细的了解。此为汉朝经营西域,打通河西走廊,制定“断匈奴右臂”的战略决策提供了可靠的资讯和必要的准备。

河西地区本为大月氏部族的领地,大月氏被击西迁,冒顿单于遂命浑邪王统治酒泉及周围地区、休屠王统治武威及周围地区,控制西域各国,且南面与羌人联合,对汉朝构成重大威胁。因此,元狩二年(公元前121年)春、夏,骠骑将军霍去病先后两次发动河西战役,歼灭、受降匈奴累计8万余众,沉重打击了匈奴,控制了河西走廊,汉廷从此可以直通西域诸国。为切断匈奴与羌人的联系,汉廷在河西地区先后设置武威、酒泉、张掖、敦煌四郡,从内地迁移大量人口戍边屯垦。此役使汉廷初步实现了战略牵制匈奴的目的,“单于失援,由是远遁,而幕(漠)南无王庭”。

“断匈奴右臂”指的是：

- A. 帮汉朝戎守边疆的政策
- B. 汉朝国家战略的相关认知
- C. 汉朝时期为经营西域制定的战略
- D. 匈奴资讯书

选正确答案:

- 1. 只是 A 与 B
- 2. 只是 B 与 C
- 3. 只是 A、B 与 C
- 4. 只是 A、C 与 D

(1) 1

(2) 2

(3) 3

(4) 4

1[Option ID=23885] Question Description : chinese_chinese_set 1_chinese_q97
2[Option ID=23886]
3[Option ID=23887]
4[Option ID=23888]

SI. No.98
QBID:132098

汉武帝统治时期,汉匈西域角力,汉朝渐居上风

这一时期始自汉武帝建元二年(公元前139年)张骞第一次出使西域,至征和四年(公元前89年)武帝下诏罢轮台屯田,约50年。在与匈奴斗争的过程中,汉廷逐渐认识到西域的重要性,汉武帝即位后,从匈奴降人口中得知西迁的大月氏与匈奴有世仇,决定派张骞出使西域,联合大月氏以夹攻匈奴。张骞第一次出使西域虽未达到联合大月氏之目的,但对于西域各国的地理、物产、风俗习惯等有了较为详细的了解。此为汉朝经营西域,打通河西走廊,制定“断匈奴右臂”的战略决策提供了可靠的资讯和必要的准备。

河西地区本为大月氏部族的领地,大月氏被击西迁,冒顿单于遂命浑邪王统治酒泉及周围地区、休屠王统治武威及周围地区,控制西域各国,且南面与羌人联合,对汉朝构成重大威胁。因此,元狩二年(公元前121年)春、夏,骠骑将军霍去病先后两次发动河西战役,歼灭、受降匈奴累计8万余众,沉重打击了匈奴,控制了河西走廊,汉廷从此可以直通西域诸国。为切断匈奴与羌人的联系,汉廷在河西地区先后设置武威、酒泉、张掖、敦煌四郡,从内地迁移大量人口戍边屯垦。此役使汉廷初步实现了战略牵制匈奴的目的,“单于失援,由是远遁,而幕(漠)南无王庭”。

短文里“西域”的字面意思是：

- 1. 美洲
- 2. 新疆
- 3. 欧洲
- 4. 印度

(1) 1

(2) 2

(3) 3

(4) 4

1[Option ID=23889] Question Description : chinese_chinese_set 1_chinese_q98
2[Option ID=23890]
3[Option ID=23891]
4[Option ID=23892]

SI. No.99
QBID:132099

汉武帝统治时期,汉匈西域角力,汉朝渐居上风

这一时期始自汉武帝建元二年(公元前139年)张骞第一次出使西域,至征和四年(公元前89年)武帝下诏罢轮台屯田,约50年。在与匈奴斗争的过程中,汉廷逐渐认识到西域的重要性,汉武帝即位后,从匈奴降人口中得知西迁的大月氏与匈奴有世仇,决定派张骞出使西域,联合大月氏以夹攻匈奴。张骞第一次出使西域虽未达到联合大月氏之目的,但对于西域各国的地理、物产、风俗习惯等有了较为详细的了解。此为汉朝经营西域,打通河西走廊,制定“断匈奴右臂”的战略决策提供了可靠的资讯和必要的准备。

河西地区本为大月氏部族的领地,大月氏被击西迁,冒顿单于遂命浑邪王统治酒泉及周围地区、休屠王统治武威及周围地区,控制西域各国,且南面与羌人联合,对汉朝构成重大威胁。因此,元狩二年(公元前121年)春、夏,骠骑将军霍去病先后两次发动河西战役,歼灭、受降匈奴累计8万余众,沉重打击了匈奴,控制了河西走廊,汉廷从此可以直通西域诸国。为切断匈奴与羌人的联系,汉廷在河西地区先后设置武威、酒泉、张掖、敦煌四郡,从内地迁移大量人口戍边屯垦。此役使汉廷初步实现了战略牵制匈奴的目的,“单于失援,由是远遁,而幕(漠)南无王庭”。

"大月氏"指的是什么?

- A. 一种部族
- B. 居住在河西地区的部落
- C. 统治酒泉及周围地区的王朝
- D. 汉朝时期控制西域的王朝

选正确答案:

- 1. 只是 A 与 B
- 2. 只是 A 与 C
- 3. 只是 A、C 与 D
- 4. 只是 B 与 D

(1) 1

(2) 2

(3) 3

(4) 4

1[Option ID=23893]
2[Option ID=23894]
3[Option ID=23895]
4[Option ID=23896]

Question Description : chinese_chinese_set 1_chinese_q99



Sl. No.100
QBID:132100

汉武帝统治时期,汉匈西域角力,汉朝渐居上风

这一时期始自汉武帝建元二年(公元前139年)张骞第一次出使西域,至征和四年(公元前89年)武帝下诏罢轮台屯田,约50年。在与匈奴斗争的过程中,汉廷逐渐认识到西域的重要性,汉武帝即位后,从匈奴降人口中得知西迁的大月氏与匈奴有世仇,决定派张骞出使西域,联合大月氏以夹攻匈奴。张骞第一次出使西域虽未达到联合大月氏之目的,但对于西域各国的地理、物产、风俗习惯等有了较为详细的了解。此为汉朝经营西域,打通河西走廊,制定“断匈奴右臂”的战略决策提供了可靠的资讯和必要的准备。

河西地区本为大月氏部族的领地,大月氏被击西迁,冒顿单于遂命浑邪王统治酒泉及周围地区、休屠王统治武威及周围地区,控制西域各国,且南面与羌人联合,对汉朝构成重大威胁。因此,元狩二年(公元前121年)春、夏,骠骑将军霍去病先后两次发动河西战役,歼灭、受降匈奴累计8万余众,沉重打击了匈奴,控制了河西走廊,汉廷从此可以直通西域诸国。为切断匈奴与羌人的联系,汉廷在河西地区先后设置武威、酒泉、张掖、敦煌四郡,从内地迁移大量人口戍边屯垦。此役使汉廷初步实现了战略牵制匈奴的目的,“单于失援,由是远遁,而幕(漠)南无王庭”。

下列提到两个语句，一个是观点（A），另一个是说明（R）

观点（A）：河西走廊主要由匈奴来控制。

说明（R）：为切断匈奴与羌人的联系，汉廷在河西地区先后设置武威。

选正确答案：

1. A 与 R 都正确，并 R 是 A 的正确解释
2. A 与 R 都正确，但 R 不是 A 的正确解释
3. A 正确，但 R 不正确
4. A 不正确，但 R 正确

(1) 1

(2) 2

(3) 3

(4) 4

1[Option ID=23897]

Question Description : chinese_chinese_set 1_chinese_q100

2[Option ID=23898]

3[Option ID=23899]

4[Option ID=23900]

