

UGC NET 2022 SPANISH

Topic: - 040_PARTA_S2

1)
Entre los siguientes ¿quiénes han ganado el premio Nobel?

- A. Octavio Paz
- B. Jorge Luis Borges
- C. Gabriel García Márquez
- D. Julio Cortázar

Elija la opción correcta

- 1. A y C
- 2. B y D
- 3. A y B
- 4. C y D

[Question ID = 3041][Question Description = 101_40_SPA_SEP22_S2_Q01]

- 1. 1 [Option ID = 12161]
- 2. 2 [Option ID = 12162]
- 3. 3 [Option ID = 12163]
- 4. 4 [Option ID = 12164]

2)
Quetzalcoatl era el dios de la civilización

- 1. Maya
- 2. Inca
- 3. Azteca
- 4. Zapoteca

[Question ID = 3042][Question Description = 102_40_SPA_SEP22_S2_Q02]

- 1. 1 [Option ID = 12165]
- 2. 2 [Option ID = 12166]
- 3. 3 [Option ID = 12167]
- 4. 4 [Option ID = 12168]

3)
El narcotráfico era endémico en las siguientes ciudades:

- A. Medellín
- B. Sinaloa
- C. Ciudad de México
- D. Buenos Aires

- 1. A y B
- 2. C y D
- 3. A y C
- 4. B y D

[Question ID = 3043][Question Description = 103_40_SPA_SEP22_S2_Q03]

- 1. 1 [Option ID = 12169]
- 2. 2 [Option ID = 12170]

3. 3 [Option ID = 12171]
4. 4 [Option ID = 12172]

4)

La serie televisiva *La reina del sur* es una historia de

1. Arturo Pérez Reverte
2. Gabriel Trujillo
3. María Hinojosa
4. Eduardo Mendoza

[Question ID = 3044][Question Description = 104_40_SPA_SEP22_S2_Q04]

1. 1 [Option ID = 12173]
2. 2 [Option ID = 12174]
3. 3 [Option ID = 12175]
4. 4 [Option ID = 12176]

5)

El sandinismo era un movimiento en

1. Honduras
2. Nicaragua
3. El Salvador
4. Costa Rica

[Question ID = 3045][Question Description = 105_40_SPA_SEP22_S2_Q05]

1. 1 [Option ID = 12177]
2. 2 [Option ID = 12178]
3. 3 [Option ID = 12179]
4. 4 [Option ID = 12180]

6)

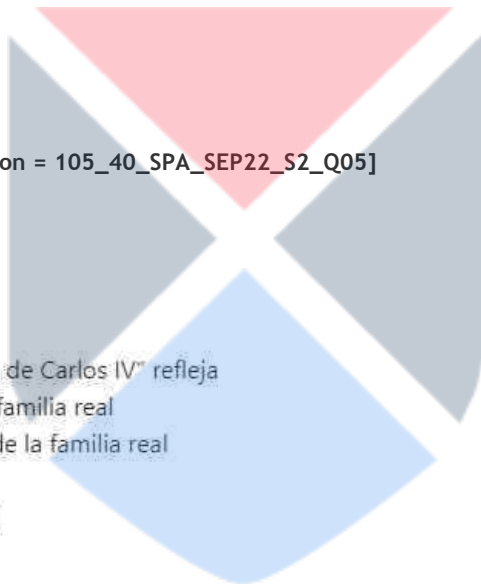
El célebre cuadro de Goya "La familia de Carlos IV" refleja

- A. la escasa escasa inteligencia de la familia real
- B. los problemas de la personalidad de la familia real
- C. el régimen napoleónico
- D. el paisaje madrileño del siglo XVIII

1. Solo A
2. Solo B
3. A y B
4. A, B y C

[Question ID = 3046][Question Description = 106_40_SPA_SEP22_S2_Q06]

1. 1 [Option ID = 12181]
2. 2 [Option ID = 12182]
3. 3 [Option ID = 12183]
4. 4 [Option ID = 12184]



7) Elija la secuencia correcta según la cronología

1. Dictadura de Primo de Rivera, Segunda República, España adopta el euro, el movimiento 15-M
2. Segunda República, Dictadura de Primo de Rivera, el movimiento de 15-M, España adopta el euro
3. El movimiento de 15-M, España adopta el euro, Segunda República, Dictadura de Primo de Rivera
4. España adopta el euro, Segunda República, Dictadura de Primo de Rivera, el movimiento 15-M.

[Question ID = 3047][Question Description = 107_40_SPA_SEP22_S2_Q07]

1. 1 [Option ID = 12185]
2. 2 [Option ID = 12186]
3. 3 [Option ID = 12187]
4. 4 [Option ID = 12188]

8) La leyenda de Don Juan es central a las siguientes obras:

- A. El estudiante de Salamanca
- B. Don Juan Tenorio
- C. Don Gil de las Calzas verdes
- D. El burlador de Sevilla

1. Solo B
2. Solo D
3. A y C
4. A, B y D



[Question ID = 3048][Question Description = 108_40_SPA_SEP22_S2_Q08]

1. 1 [Option ID = 12189]
2. 2 [Option ID = 12190]
3. 3 [Option ID = 12191]
4. 4 [Option ID = 12192]

9) Las siguientes novelas narran las imaginadas peripecias entre cristianos y moros durante la Reconquista:

1. Novelas moriscas
2. Novelas bizantinas
3. Novelas caballerescas
4. Novelas pastoriles

[Question ID = 3049][Question Description = 109_40_SPA_SEP22_S2_Q09]

1. 1 [Option ID = 12193]
2. 2 [Option ID = 12194]
3. 3 [Option ID = 12195]
4. 4 [Option ID = 12196]

10)

Se dan dos frases a continuación:

Frase I: La Constitución de 1978 establece la unificación de las provincias autónomas

Frase II: La Constitución de 1978 establece la separación entre Iglesia y Estado

A la luz de estas dos frases elija la opción correcta de las dadas a continuación:

1. Ambas son correctas.
2. Ambas frases son incorrectas.
3. Frase I es correcta pero la frase II es incorrecta.
4. Frase I es incorrecta pero la frase II es correcta.

[Question ID = 3050][Question Description = 110_40_SPA_SEP22_S2_Q10]

1. 1 [Option ID = 12197]
2. 2 [Option ID = 12198]
3. 3 [Option ID = 12199]
4. 4 [Option ID = 12200]

11)

¿Qué te pasa? ¿Te encuentras mal?

No, no me pasa nada; antes me.....un poco mareado, pero ya está ya se me ha pasado.

1. Hubo sentido
2. Sentía
3. Sentiré
4. Sintiera

[Question ID = 3051][Question Description = 111_40_SPA_SEP22_S2_Q11]

1. 1 [Option ID = 12201]
2. 2 [Option ID = 12202]
3. 3 [Option ID = 12203]
4. 4 [Option ID = 12204]

12)

Si.....comiendo así, te pondrás como una vaca.

Pero si todavía no he probado bocado.

1. Sigues
2. Sigas
3. Seguirás
4. Has seguido

[Question ID = 3052][Question Description = 112_40_SPA_SEP22_S2_Q12]

1. 1 [Option ID = 12205]
2. 2 [Option ID = 12206]
3. 3 [Option ID = 12207]
4. 4 [Option ID = 12208]

13)

Siempre llegas tarde a todas partes, Sergio.

Perdona, pero se me descargó el móvil,..... te pudiera avisar.

1. Por eso no
2. Porque no
3. De ahí que no
4. La verdad no.

[Question ID = 3053][Question Description = 113_40_SPA_SEP22_S2_Q13]

1. 1 [Option ID = 12209]
2. 2 [Option ID = 12210]
3. 3 [Option ID = 12211]
4. 4 [Option ID = 12212]

14)

.....no te tomes toda la leche, no saldrás a jugar al jardín.

1. Como
2. Si
3. Aunque
4. Por si

[Question ID = 3054][Question Description = 114_40_SPA_SEP22_S2_Q14]

1. 1 [Option ID = 12213]
2. 2 [Option ID = 12214]
3. 3 [Option ID = 12215]
4. 4 [Option ID = 12216]

15)

Me contaron que te fuiste de viaje a unas islas paradisíacas.

No te creas lo de paradisiaco, nomuy diferentes a otras.

1. Eran
2. Hayan sido
3. Habían sido
4. Sean

[Question ID = 3055][Question Description = 115_40_SPA_SEP22_S2_Q15]

1. 1 [Option ID = 12217]
2. 2 [Option ID = 12218]
3. 3 [Option ID = 12219]
4. 4 [Option ID = 12220]

16)

¿Por qué hace esos gestos cuando habla por teléfono?

No lo sé. Cuandode hablar le preguntamos.

1. Termina
2. Haya terminado
3. Hubiera terminado
4. Ha terminado

[Question ID = 3056][Question Description = 116_40_SPA_SEP22_S2_Q16]

1. 1 [Option ID = 12221]
2. 2 [Option ID = 12222]
3. 3 [Option ID = 12223]
4. 4 [Option ID = 12224]

17)

¿Por qué no invitas también a Alicia? No.....venir, porque vienes tú, ya lo sabes.

1. quiera
2. querrá
3. habla querido
4. quisiera

[Question ID = 3057][Question Description = 117_40_SPA_SEP22_S2_Q17]

1. 1 [Option ID = 12225]
2. 2 [Option ID = 12226]
3. 3 [Option ID = 12227]
4. 4 [Option ID = 12228]

18)

A mí me parece bien queandando al colegio. Bueno, yo sé lo que pasa, es un poco pequeño todavía y deberíamos llevarlo en coche.

1. Iría
2. Habría ido
3. Vaya
4. Va

[Question ID = 3058][Question Description = 118_40_SPA_SEP22_S2_Q18]

1. 1 [Option ID = 12229]
2. 2 [Option ID = 12230]
3. 3 [Option ID = 12231]
4. 4 [Option ID = 12232]

19)

¿Qué significa la expresión subrayada en negrita:

Mi amigo Juan **era la pera**. Siempre alegre y con soluciones para todo.

1. Ser muy viejo.
2. Ser egoísta.
3. Ser excepcional.
4. Ser muy amable.

[Question ID = 3059][Question Description = 119_40_SPA_SEP22_S2_Q19]

1. 1 [Option ID = 12233]
2. 2 [Option ID = 12234]
3. 3 [Option ID = 12235]
4. 4 [Option ID = 12236]

20)

¿Qué significa la expresión subrayada en negrita:

Pedro se negó a colaborar con nosotros. Se pasó la mañana **con los brazos cruzados**.

1. Estar en actitud negativa
2. Hablar demasiado
3. Ser la persona de mayor confianza
4. Ser sensato

[Question ID = 3060][Question Description = 120_40_SPA_SEP22_S2_Q20]

1. 1 [Option ID = 12237]
2. 2 [Option ID = 12238]
3. 3 [Option ID = 12239]

4. 4 [Option ID = 12240]

21)

¿Qué significa la expresión subrayada en negrita:

Durante toda la crisis económica **estuve con el agua al cuello.**

1. trabajar con fuerza y energía
2. pasar por dificultades económicas
3. Vaguear, no hacer nada útil
4. Beber demasiado alcohol.

[Question ID = 3061][Question Description = 121_40_SPA_SEP22_S2_Q21]

1. 1 [Option ID = 12241]
2. 2 [Option ID = 12242]
3. 3 [Option ID = 12243]
4. 4 [Option ID = 12244]

22)

¿Qué significa la expresión subrayada en negrita:

A Ramiro le gusta demasiado **empinar el codo.**

1. Burlarse
2. No dormir
3. Beber demasiado alcohol
4. Tener mucho cuidado

[Question ID = 3062][Question Description = 122_40_SPA_SEP22_S2_Q22]

1. 1 [Option ID = 12245]
2. 2 [Option ID = 12246]
3. 3 [Option ID = 12247]
4. 4 [Option ID = 12248]

23)

El primer poeta conocido en la lengua castellana es:

1. Garcilaso de la Vega
2. Gonzalo de Berceo
3. Quevedo
4. Góngora

[Question ID = 3063][Question Description = 123_40_SPA_SEP22_S2_Q23]

1. 1 [Option ID = 12249]
2. 2 [Option ID = 12250]
3. 3 [Option ID = 12251]
4. 4 [Option ID = 12252]

24)

Los siguientes elementos pueden asociarse con la corriente realista en España:

1. La observación precisa de la realidad.
2. El desengaño y el pesimismo.
3. El desarrollo psicológico de los personajes.
4. El afán hacia el pasado.

[Question ID = 3064][Question Description = 124_40_SPA_SEP22_S2_Q24]

1. 1 [Option ID = 12253]
2. 2 [Option ID = 12254]
3. 3 [Option ID = 12255]
4. 4 [Option ID = 12256]

25)

La siguiente autora divulgó el naturalismo en España con su obra cumbre *Los pazos de Ulloa*:

1. Emilia Pardo Bazán
2. Rosalía de Castro
3. Almudena Grandes
4. Cecilia Böhl de Faber

[Question ID = 3065][Question Description = 125_40_SPA_SEP22_S2_Q25]

1. 1 [Option ID = 12257]
2. 2 [Option ID = 12258]
3. 3 [Option ID = 12259]
4. 4 [Option ID = 12260]

26)

Given below are two statements:

Statement I: La época franquista fue caracterizado por el fenómeno del desarrollismo.

Statement II: Este desarrollo también afectó el campo de la educación.

In the light of the above statements, choose *the most appropriate answer* from the options given below.

1. Both Statement I and Statement II are correct
2. Both Statement I and Statement II are incorrect.
3. Statement I is correct but Statement II is incorrect.
4. Statement I is incorrect but Statement II is correct.

[Question ID = 3066][Question Description = 126_40_SPA_SEP22_S2_Q26]

1. 1 [Option ID = 12261]
2. 2 [Option ID = 12262]
3. 3 [Option ID = 12263]
4. 4 [Option ID = 12264]

27)

Given below are two statements:

Statement I: La movida madrileña era un movimiento de la contra corriente.

Statement II: Solo la gente marginada participó en este movimiento.

In the light of the above statements, choose the most appropriate answer from the options given below

1. Both Statement I and Statement II are correct
2. Both Statement I and Statement II are incorrect.
3. Statement I is correct but Statement II is incorrect.
4. Statement I is incorrect but Statement II is correct.

[Question ID = 3067][Question Description = 127_40_SPA_SEP22_S2_Q27]

1. 1 [Option ID = 12265]
2. 2 [Option ID = 12266]
3. 3 [Option ID = 12267]
4. 4 [Option ID = 12268]

28)

La principal corriente dentro del arte oficial del siglo XVIII es:

1. El iluminismo
2. El neoclasicismo
3. El perspectivismo
4. El costumbrismo

[Question ID = 3068][Question Description = 128_40_SPA_SEP22_S2_Q28]

1. 1 [Option ID = 12269]
2. 2 [Option ID = 12270]
3. 3 [Option ID = 12271]
4. 4 [Option ID = 12272]

29)

Elija la secuencia correcta según la cronología:

1. Felipe VI, Felipe II, Los Reyes Católicos, José Bonaparte
2. Felipe II, Los Reyes Católicos, José Bonaparte, Felipe VI.
3. Los Reyes Católicos, José Bonaparte, Felipe VI, Felipe II.
4. Los Reyes Católicos, Felipe II, José Bonaparte, Felipe VI.

[Question ID = 3069][Question Description = 129_40_SPA_SEP22_S2_Q29]

1. 1 [Option ID = 12273]
2. 2 [Option ID = 12274]
3. 3 [Option ID = 12275]
4. 4 [Option ID = 12276]

30)

Relacione los elementos de las siguientes listas e indique la pareja correcta.

| Lista I | Lista II |
|-------------------------|------------------------------|
| A. Cide Hamete Benegeli | (i) La Araucana |
| B. Don Juan | (ii) Don Quijote |
| C. Pleberio | (iii) El burlador de Sevilla |
| D. Caupolicán | (iv) La Celestina |

1. A-ii; B-iii; C-iv; D-i
2. A-i; B-ii; C-iii; D-iv
3. A-iii; B-iv; C-ii; D-i
4. A-ii; B-i; C-iii; D-iv

[Question ID = 3070][Question Description = 130_40_SPA_SEP22_S2_Q30]

1. 1 [Option ID = 12277]
2. 2 [Option ID = 12278]
3. 3 [Option ID = 12279]
4. 4 [Option ID = 12280]

31)

El siguiente es el autor de *El Hereje*

1. Miguel Delibes
2. Pío Baroja
3. Miguel de Unamuno
4. Antonio Machado

[Question ID = 3071][Question Description = 131_40_SPA_SEP22_S2_Q31]

1. 1 [Option ID = 12281]
2. 2 [Option ID = 12282]
3. 3 [Option ID = 12283]
4. 4 [Option ID = 12284]

32)

La Movida fue un movimiento contracultural surgido en

1. Bilbao
2. Zaragoza
3. Madrid
4. Barcelona

[Question ID = 3072][Question Description = 132_40_SPA_SEP22_S2_Q32]

1. 1 [Option ID = 12285]
2. 2 [Option ID = 12286]
3. 3 [Option ID = 12287]
4. 4 [Option ID = 12288]

33)

¿Cómo terminó el régimen franquista?

1. Después del asesinato de Manuel Azaña
2. Con la muerte de Franco
3. Gracias a la llegada de los Aliados
4. Después del asesinato de Franco.

[Question ID = 3073][Question Description = 133_40_SPA_SEP22_S2_Q33]

1. 1 [Option ID = 12289]
2. 2 [Option ID = 12290]
3. 3 [Option ID = 12291]
4. 4 [Option ID = 12292]

34)

Las cuevas de Altamira:

1. Son cuevas descubiertas recientemente
2. Tienen pintados bisontes, caballos y otros signos misteriosos.
3. Están en el sur de Perú.
4. Son de la península de Yucatán

[Question ID = 3074][Question Description = 134_40_SPA_SEP22_S2_Q34]

1. 1 [Option ID = 12293]
2. 2 [Option ID = 12294]
3. 3 [Option ID = 12295]
4. 4 [Option ID = 12296]

35)

La siguiente obra es de Salvador Dalí

1. La persistencia de la memoria
2. Saturno devorando a su hijo
3. El entierro del Conde Orgaz
4. El aguador de Sevilla

[Question ID = 3075][Question Description = 135_40_SPA_SEP22_S2_Q35]

1. 1 [Option ID = 12297]
2. 2 [Option ID = 12298]
3. 3 [Option ID = 12299]
4. 4 [Option ID = 12300]


36)

El Museo Guggenheim:

- A. Se sitúa en Bilbao
- B. Da nueva imagen de País Vasco
- C. Se sitúa en Barcelona
- D. Es un museo marítimo

Elija la opción correcta:

1. Solo A
2. Solo B
3. A y B
4. C y D



[Question ID = 3076][Question Description = 136_40_SPA_SEP22_S2_Q36]

1. 1 [Option ID = 12301]
2. 2 [Option ID = 12302]
3. 3 [Option ID = 12303]
4. 4 [Option ID = 12304]

37)

El movimiento 15 – M:

- A. es también conocido como el movimiento de los indignados
- B. se manifiesta contra la reforma laboral
- C. se manifiesta contra la corrupción política
- D. es también conocido como la Contrareforma.

Elija la opción correcta

1. Solo A
2. Solo B
3. B y D
4. A y C

[Question ID = 3077][Question Description = 137_40_SPA_SEP22_S2_Q37]

1. 1 [Option ID = 12305]
2. 2 [Option ID = 12306]
3. 3 [Option ID = 12307]
4. 4 [Option ID = 12308]

38)

El siguiente es cantautor español:

- A. Luis Casal
- B. Alejandro Sanz
- C. Joan Manuel Serrat
- D. Joaquín Sabina

Elija la opción correcta:

- 1. Solo A
- 2. Solo C
- 3. Solo D
- 4. B, C y D

[Question ID = 3078][Question Description = 138_40_SPA_SEP22_S2_Q38]

- 1. 1 [Option ID = 12309]
- 2. 2 [Option ID = 12310]
- 3. 3 [Option ID = 12311]
- 4. 4 [Option ID = 12312]

39)

La acción de la película "El laberinto del fauno" se desarrolla en la España:

- 1. de la guerra civil
- 2. de la crisis financiera
- 3. contemporánea
- 4. medieval

[Question ID = 3079][Question Description = 139_40_SPA_SEP22_S2_Q39]

- 1. 1 [Option ID = 12313]
- 2. 2 [Option ID = 12314]
- 3. 3 [Option ID = 12315]
- 4. 4 [Option ID = 12316]

40)

La célebre novela *Soldados de Salamina* de Javier Cercas es una novela

- 1. histórica
- 2. posmoderna
- 3. poscolonial
- 4. realista

[Question ID = 3080][Question Description = 140_40_SPA_SEP22_S2_Q40]

- 1. 1 [Option ID = 12317]
- 2. 2 [Option ID = 12318]
- 3. 3 [Option ID = 12319]
- 4. 4 [Option ID = 12320]

41)

La célebre serie de España es

- 1. Bolívar
- 2. Narcos
- 3. Escobar
- 4. La casa de papel

[Question ID = 3081][Question Description = 141_40_SPA_SEP22_S2_Q41]

- 1. 1 [Option ID = 12321]
- 2. 2 [Option ID = 12322]

- 3. 3 [Option ID = 12323]
- 4. 4 [Option ID = 12324]

42)

Relacione los elementos de las siguientes listas e indique la pareja correcta.

| Lista I | Lista II |
|-----------------|---------------|
| A. Las Fallas | i. Pamplona |
| B. San Fermín | ii. Buñol |
| C. Semana Santa | iii. Valencia |
| D. Tomatina | iv. Sevilla |

- 1. A-iii; B-i; C-iv; D-ii
- 2. A- iv; B-ii; C-iii; D-i
- 3. A-iii; B-iv; C-ii; D-i
- 4. A-ii; B-i; C-iii; D-iv

[Question ID = 3082][Question Description = 142_40_SPA_SEP22_S2_Q42]

- 1. 1 [Option ID = 12325]
- 2. 2 [Option ID = 12326]
- 3. 3 [Option ID = 12327]
- 4. 4 [Option ID = 12328]

43)

Las siguientes instituciones pueden asociarse con la colonización de América

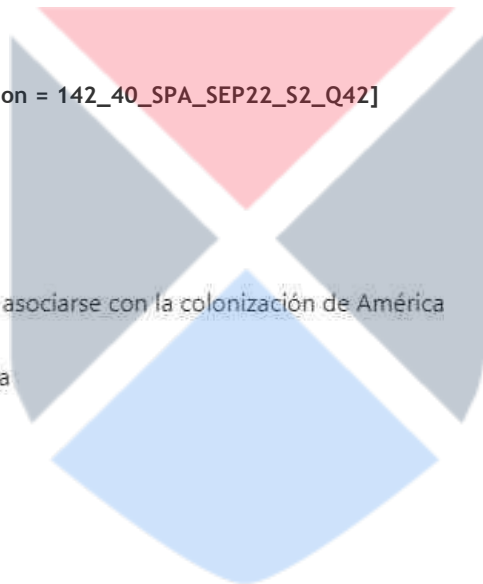
- A. El Consejo de las Indias
- B. La Casa de Contratación de Sevilla
- C. La encomienda
- D. El intervencionismo

Elija la opción correcta

- 1. Solo C
- 2. A, B, C
- 3. Solo D
- 4. A, B, D

[Question ID = 3083][Question Description = 143_40_SPA_SEP22_S2_Q43]

- 1. 1 [Option ID = 12329]
- 2. 2 [Option ID = 12330]
- 3. 3 [Option ID = 12331]
- 4. 4 [Option ID = 12332]



44)

Los siguientes elementos pueden asociarse con la nueva canción en América Latina

- A. La resistencia contra el autoritarismo
- B. Los instrumentos folclóricos
- C. Ambientación urbana
- D. La ideología de la izquierda

Elija la opción correcta:

- 1. Solo C
- 2. A, B, D
- 3. Solo B
- 4. A, B y C

[Question ID = 3084][Question Description = 144_40_SPA_SEP22_S2_Q44]

- 1. 1 [Option ID = 12333]
- 2. 2 [Option ID = 12334]
- 3. 3 [Option ID = 12335]
- 4. 4 [Option ID = 12336]

45)

Relacione los elementos de las siguientes listas

| Lista I | Lista II |
|--------------------------|-----------------------------------|
| A. Cristina Rivera Garza | i. Los recuerdos del porvenir |
| B. Laura Restrepo | ii. En el tiempo de las mariposas |
| C. Elena Garro | iii. Delirio |
| D. Julia Alvarez | iv. Nadie me verá llorar |

Elija la opción correcta

- 1. A-i; B-iv; C-ii; D-iii.
- 2. A-iv; B-iii; C-i; D-ii
- 3. **A-i; B-iii; C-i; D-iv- Please check i is repeated**
- 4. A-iii; B-ii; C-iv; D-i

[Question ID = 3085][Question Description = 145_40_SPA_SEP22_S2_Q45]

- 1. 1 [Option ID = 12337]
- 2. 2 [Option ID = 12338]
- 3. 3 [Option ID = 12339]
- 4. 4 [Option ID = 12340]

46)

Elija la secuencia correcta de los sucesos en México en el siglo XX.

- A. La Revolución Mexicana
- B. El movimiento zapatista EZLN.
- C. La noche de Tlatelolco
- D. La nacionalización del petróleo
- E. El Tratado de Libre Comercio

- 1. C,B,A,D,E
- 2. A,B,C,D,E
- 3. A,D,C,E,B
- 4. A,C,D,E,B

[Question ID = 3086][Question Description = 146_40_SPA_SEP22_S2_Q46]

- 1. 1 [Option ID = 12341]
- 2. 2 [Option ID = 12342]
- 3. 3 [Option ID = 12343]
- 4. 4 [Option ID = 12344]

47)

Relacione los elementos de las siguientes listas:

| Lista I | Lista II |
|------------------------|------------------------------|
| A. Tirana Memoria | i. Eduardo Lalo |
| B. Fabula Asiática | ii. Rodrigo Rey Rosa |
| C. Simone | iii. Fernanda Melchor |
| D. Tiempo de Huracanes | iv. Horacio Castellanos Moya |

Elija la opción correcta:

- 1. A-iv; B-ii; C- i; D-iii
- 2. A-iii; B-ii; C-i; D-iv
- 3. A-ii; B-i; C-iii; D-iv
- 4. A-i; B-iii; C-ii; D-iv

[Question ID = 3087][Question Description = 147_40_SPA_SEP22_S2_Q47]

- 1. 1 [Option ID = 12345]
- 2. 2 [Option ID = 12346]
- 3. 3 [Option ID = 12347]
- 4. 4 [Option ID = 12348]

48)

"La novela de la frontera norte" se basa en la frontera

- A. Argentina-Chile
- B. México – EEUU
- C. República Dominicana-Haiti
- D. Brasil- Perú

- 1. Solo D
- 2. Solo B
- 3. A,C,D
- 4. B,C,D

[Question ID = 3088][Question Description = 148_40_SPA_SEP22_S2_Q48]

- 1 [Option ID = 12349]
- 2 [Option ID = 12350]
- 3 [Option ID = 12351]
- 4 [Option ID = 12352]

49)

Relacione los elementos de las siguientes listas

| Lista I | Lista II |
|-----------------------------|------------------------|
| A. Cecilia Valdés | i. Jorge Isaacs |
| B. Los bandidos de Río Frío | ii. Cirilio Villaverde |
| C. María | iii. José Mármol |
| D. Amalía | iv. Manuel Payno |

Elija la opción correcta

1. A-ii; B-iv; C-i; D-iii
2. A-i; B-ii; C-iv; D-iii
3. A-iii; B-i; C-ii; D-iv
4. A-iv; B-iii; C-ii; D-i

[Question ID = 3089][Question Description = 149_40_SPA_SEP22_S2_Q49]

- 1 [Option ID = 12353]
- 2 [Option ID = 12354]
- 3 [Option ID = 12355]
- 4 [Option ID = 12356]

50)

Entre los siguientes ¿quiénes han escrito sobre el Oriente?

- A. Octavio Paz
- B. Juan José Tablada
- C. Ricardo Güiraldes
- D. Juan Sklar
- E. Manuel Puig

Elija la respuesta correcta:

1. Solo D
2. A,B,C y D
3. D, E
4. A,B,C

[Question ID = 3090][Question Description = 150_40_SPA_SEP22_S2_Q50]

- 1 [Option ID = 12357]
- 2 [Option ID = 12358]
- 3 [Option ID = 12359]
- 4 [Option ID = 12360]

51)

Entre los siguientes ¿quiénes están conectados con la literatura dominicana?

- A. Josefina Báez
- B. Junot Díaz
- C. Rita Indiana
- D. Lorgia García Peña
- E. Mario Bellatín

Elija la respuesta correcta:

- 1. Solo E
- 2. A,B,D
- 3. Solo A
- 4. A,B,C y D

[Question ID = 3091][Question Description = 151_40_SPA_SEP22_S2_Q51]

- 1. 1 [Option ID = 12361]
- 2. 2 [Option ID = 12362]
- 3. 3 [Option ID = 12363]
- 4. 4 [Option ID = 12364]

52)

Entre los siguientes cuáles son los poetas españoles que han ganado el Premio Nacional de Poesía?

- A. Miren Agur Meabe
- B. Joaquín Sabina
- C. Luis Alberto Cuenca
- D. Vicente Huidobro
- E. Almudena Grandes

Elija la respuesta correcta:

- 1. D,E
- 2. A,B,C
- 3. C,E
- 4. A,E



[Question ID = 3092][Question Description = 152_40_SPA_SEP22_S2_Q52]

- 1. 1 [Option ID = 12365]
- 2. 2 [Option ID = 12366]
- 3. 3 [Option ID = 12367]
- 4. 4 [Option ID = 12368]

53)

Relacione los elementos de las siguientes listas:

| Lista I | Lista II |
|-------------------------------------|--------------------------|
| A. Narcotráfico en Colombia | i. Nona Fernández |
| B. Literatura infantil de Chile | ii. Juan Gabriel Vázquez |
| C. Novela sobre Augusto Pinochet | iii. Alejandro Zambra |
| D. Literatura infantil en Argentina | iv. Osvaldo Soriano |

Elija la opción de las dadas a continuación:

1. A-ii; B-iii; C-i; D-iv
2. A-i; b-ii; C-iv; D-iii
3. A-iii; B-i; C-ii; D-iv
4. A-iv; B-iii; C-ii; D-i

[Question ID = 3093][Question Description = 153_40_SPA_SEP22_S2_Q53]

1. 1 [Option ID = 12369]
2. 2 [Option ID = 12370]
3. 3 [Option ID = 12371]
4. 4 [Option ID = 12372]

54)

¿Cuál es la secuencia cronológica correcta de los siguientes cuadros?

- A. Sueño de una tarde dominical en la Alameda Central
- B. Las meninas
- C. Guernica
- D. La muerte de Pablo Escobar

Elija la opción correcta:

1. B,C,D,A
2. B,C,A,D
3. A,C,B,D
4. D,A,C,B

[Question ID = 3094][Question Description = 154_40_SPA_SEP22_S2_Q54]

1. 1 [Option ID = 12373]
2. 2 [Option ID = 12374]
3. 3 [Option ID = 12375]
4. 4 [Option ID = 12376]

55)

Yalitza Aparicio es la protagonista indígena en la película:

1. Fresa y Chocolate
2. Memorias del subdesarrollo
3. Roma
4. Entre Pancho Villa y una mujer desnuda

[Question ID = 3095][Question Description = 155_40_SPA_SEP22_S2_Q55]

1. 1 [Option ID = 12377]

2. 2 [Option ID = 12378]
3. 3 [Option ID = 12379]
4. 4 [Option ID = 12380]

56)

¿Cuál de los siguientes fenómenos es un ejemplo de cultura transplantada?

- A. Spanglish
- B. Nuyoricán
- C. Boricua
- D. Dominican York

Elija la opción correcta:

1. A y B
2. C y D
3. A,B,C
4. A,B,C,D

[Question ID = 3096][Question Description = 156_40_SPA_SEP22_S2_Q56]

1. 1 [Option ID = 12381]
2. 2 [Option ID = 12382]
3. 3 [Option ID = 12383]
4. 4 [Option ID = 12384]

57)

Relacione los elementos de las siguientes listas:

| Lista I | Lista II |
|----------------------------|-----------------------|
| A. Literatura decolonial | i. Paco Ignacio Taibo |
| B. Literatura feminista | ii. Luisa Valenzuela |
| C. Literatura regionalista | iii. Rómulo Gallegos |
| D. Literatura detectivesca | iv. Enrique Dussell |

Elija la opción correcta

1. A-iv; B-ii; C-iii; D-i
2. A-iii; B-ii; C-i; D-iv
3. A-ii; B-iii; C-iv;D-i
4. A-i; B-iv; C-iii; D-ii

[Question ID = 3097][Question Description = 157_40_SPA_SEP22_S2_Q57]

1. 1 [Option ID = 12385]
2. 2 [Option ID = 12386]
3. 3 [Option ID = 12387]
4. 4 [Option ID = 12388]

58)

Relacione los elementos de las siguientes listas e indique la pareja correcta:

| Lista I | Lista II |
|-------------|---------------------------|
| A. Tango | i. México |
| B. Salsa | ii. Cuba |
| C. Merengue | iii. República Dominicana |
| D. Mariachi | iv. Argentina |

Elija la opción correcta:

1. A-iv; B-ii; C-iii; D-i
2. A-ii; B-i; C-iii; D-iv
3. A-iii; B-ii; C-i; D-iv
4. A-i; B-ii; C-iii; D-iv

[Question ID = 3098][Question Description = 158_40_SPA_SEP22_S2_Q58]

1. 1 [Option ID = 12389]
2. 2 [Option ID = 12390]
3. 3 [Option ID = 12391]
4. 4 [Option ID = 12392]

59)

Relacione los elementos de las siguientes listas e indique la pareja correcta

| Lista I | Lista II |
|----------------------|----------------------------------|
| A. Vicente Fernández | i. Torero |
| B. Manolete | ii. Premio Grammy 2022 |
| C. MS 13 | iii. Presidente mexicano |
| D. AMLO | iv. Pandilla criminal dominicana |

Elija la opción correcta:

1. A-ii; B-iv; C-i; D-iii
2. A-ii; B-i; C-iv; D-iii
3. A-iii; B-i; C-ii; D-iv
4. A-i; B-ii; C-iv; D-iii

[Question ID = 3099][Question Description = 159_40_SPA_SEP22_S2_Q59]

1. 1 [Option ID = 12393]
2. 2 [Option ID = 12394]
3. 3 [Option ID = 12395]
4. 4 [Option ID = 12396]

60)

India aparece en las siguientes obras de Octavio Paz

- A. Vislumbres de la India
- B. Figuras y Figuraciones
- C. Conjunciones y Disyunciones
- D. El mono gramático

- 1. Solo A
- 2. Solo D
- 3. A,B,C,D
- 4. A,C,D

[Question ID = 3100][Question Description = 160_40_SPA_SEP22_S2_Q60]


- 1. 1 [Option ID = 12397]
- 2. 2 [Option ID = 12398]
- 3. 3 [Option ID = 12399]
- 4. 4 [Option ID = 12400]

61)

La crítica latinoamericana tiene los siguientes intelectuales

- A. Angel Rama
- B. Guillermo Sucre
- C. Fernando Savater
- D. Beatriz Sarlo

- 1. A,B,D
- 2. B,C,D
- 3. A,B,C
- 4. A,C,D



[Question ID = 3101][Question Description = 161_40_SPA_SEP22_S2_Q61]

- 1. 1 [Option ID = 12401]
- 2. 2 [Option ID = 12402]
- 3. 3 [Option ID = 12403]
- 4. 4 [Option ID = 12404]

62)

Elena Poniatowska

- A. es cronista mexicana
- B. ha escrito sobre los zapatistas
- C. es de origen polaco
- D. ha ganado el premio Nobel

- 1. B,C,D
- 2. A,B,C
- 3. A,B,D
- 4. A,C,D

[Question ID = 3102][Question Description = 162_40_SPA_SEP22_S2_Q62]

- 1. 1 [Option ID = 12405]
- 2. 2 [Option ID = 12406]
- 3. 3 [Option ID = 12407]
- 4. 4 [Option ID = 12408]

63)

El trama de la obra Made in Lanus de Nelly Tiscornia Fernández se basa en

1. Ciudad de México
2. Buenos Aires
3. Panamá
4. Costa Rica

[Question ID = 3103][Question Description = 163_40_SPA_SEP22_S2_Q63]


1. 1 [Option ID = 12409]
2. 2 [Option ID = 12410]
3. 3 [Option ID = 12411]
4. 4 [Option ID = 12412]

64)

Relacione los elementos de las siguientes listas

| Lista I | Lista II |
|--------------|------------------|
| A. Alfajores | i. Perú |
| B. Patatas | ii. Argentina |
| C. Mole | iii. El Salvador |
| D. Pupusa | iv. México |

1. A-iii; B-ii; C-i; D-iv
2. A-iv; B-iii; C-ii; D-i
3. A-i; B-ii; C-iv; D-iii
4. A-ii; B-i; C-iv; D-iii



[Question ID = 3104][Question Description = 164_40_SPA_SEP22_S2_Q64]

1. 1 [Option ID = 12413]
2. 2 [Option ID = 12414]
3. 3 [Option ID = 12415]
4. 4 [Option ID = 12416]

65)

Relacione los elementos de las siguientes líneas

| Lista I | Lista II |
|-----------------------|--------------------|
| A. El llano en llamas | i Roberto Bolaños |
| B. Camino de Ida | ii Ernesto Sábato |
| C. Estrella distante | iii. Juan Rulfo |
| D. El túnel | iv. Ricardo Piglia |

Elija la opción correcta de las dadas a continuación

1. A-iv; B-i; C-ii; D-iii
2. A-iii; B-iv; C-i; D-ii
3. A-i; B-iii; C-ii; D-iv
4. A-ii; B-i; C-iii; D-iv

[Question ID = 3105][Question Description = 165_40_SPA_SEP22_S2_Q65]

- 1 [Option ID = 12417]
- 2 [Option ID = 12418]
- 3 [Option ID = 12419]
- 4 [Option ID = 12420]

66)

Las razones principales de la dictadura de Miguel Primo de Rivera eran

- A. La crisis económica
- B. Creciente corrupción política
- C. El vacío después de la Primera Guerra Mundial
- D. Victoria en la guerra colonial de Marruecos
- E. Viajes a Francia de los gobernadores

1. A, B y C
2. B, C y D
3. C, D y E
4. Solo E

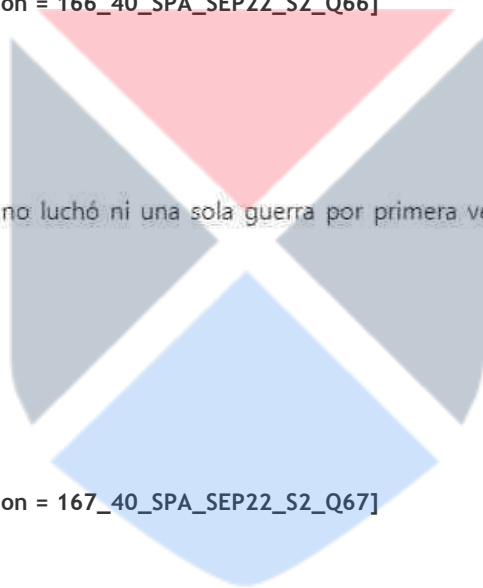
[Question ID = 3106][Question Description = 166_40_SPA_SEP22_S2_Q66]

- 1 [Option ID = 12421]
- 2 [Option ID = 12422]
- 3 [Option ID = 12423]
- 4 [Option ID = 12424]

67)

En el reinado de, España no luchó ni una sola guerra por primera vez en siglos.

1. Carlos V
2. Felipe II
3. Felipe VI
4. Fernando VI



[Question ID = 3107][Question Description = 167_40_SPA_SEP22_S2_Q67]

- 1 [Option ID = 12425]
- 2 [Option ID = 12426]
- 3 [Option ID = 12427]
- 4 [Option ID = 12428]

68)

Relacione los elementos de las siguientes listas

| Lista I | Lista II |
|------------------------|-----------------------------|
| A. Novela histórica | i. Yo el Supremo |
| B. Novela epistolar | ii. Café cortado |
| C. Novela de dictadura | iii. Woman Hollering Creek; |
| D. Novela Spanglish | iv. Cartas Marruecas |

1. **A-iv; B-iii; C-ii; D-iv- Please check iv is repeated**
2. A-iii; B-iv; C-ii; D-i
3. A-ii; B-iv; C-i; D-iii
4. A-i; B-iii; C-iv; D-ii

[Question ID = 3108][Question Description = 168_40_SPA_SEP22_S2_Q68]

- 1 [Option ID = 12429]
- 2 [Option ID = 12430]
- 3 [Option ID = 12431]
- 4 [Option ID = 12432]

69)

Escoja la secuencia correcta de los sucesos en España.

- A. La constitución de 1978
- B. La fundación de ETA
- C. Los ataques terroristas de 15M
- D. Las acusaciones de corrupción contra la familia real.

1. D,A,C,B
2. B,A,C,D
3. D,C,A,B
4. B,A,D,C

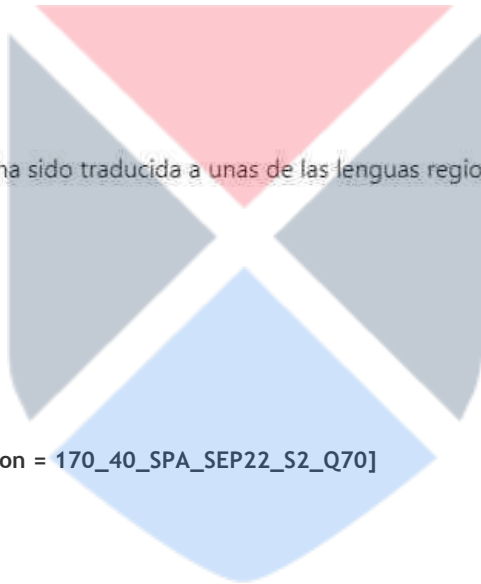
[Question ID = 3109][Question Description = 169_40_SPA_SEP22_S2_Q69]

- 1 [Option ID = 12433]
- 2 [Option ID = 12434]
- 3 [Option ID = 12435]
- 4 [Option ID = 12436]

70)

¿Cuál entre las siguientes obras no ha sido traducida a unas de las lenguas regionales de la India?

1. Don Quijote
2. Diario de a bordo
3. Cien años de soledad
4. Últimas tardes con Teresa



[Question ID = 3110][Question Description = 170_40_SPA_SEP22_S2_Q70]

- 1 [Option ID = 12437]
- 2 [Option ID = 12438]
- 3 [Option ID = 12439]
- 4 [Option ID = 12440]

71)

Escoja la cronología correcta de las siguientes novelas españolas

- A. Niebla
- B. Soledades
- C. Las edades de Lulu
- D. Entre costuras.

1. C,A,D,B
2. B,A,C,D
3. A,B,C,D
4. D,B,A,C

[Question ID = 3111][Question Description = 171_40_SPA_SEP22_S2_Q71]

- 1 [Option ID = 12441]
- 2 [Option ID = 12442]
- 3 [Option ID = 12443]
- 4 [Option ID = 12444]

72)

Escoja la opción con la cronología correcta

- A. Llegada de Colón a América
- B. La fundación de la primera universidad en América
- C. La derrota de Moctezuma
- D. La fundación de la Casa de Contratación de Sevilla

- 1. A,D,B,C
- 2. A,C,D,B
- 3. D,A,B,C
- 4. B,C,D,A

[Question ID = 3112][Question Description = 172_40_SPA_SEP22_S2_Q72]

- 1. 1 [Option ID = 12445]
- 2. 2 [Option ID = 12446]
- 3. 3 [Option ID = 12447]
- 4. 4 [Option ID = 12448]

73)

La reinasufrió un golpe militar en 1868

- 1. Leticia
- 2. Isabel II
- 3. Santa Teresa
- 4. Doña Bárbara

[Question ID = 3113][Question Description = 173_40_SPA_SEP22_S2_Q73]

- 1. 1 [Option ID = 12449]
- 2. 2 [Option ID = 12450]
- 3. 3 [Option ID = 12451]
- 4. 4 [Option ID = 12452]

74)


Los elementos de la época franquista son

- A. Desarrollismo
- B. Poder de la Iglesia
- C. Importancia de la Falange
- D. Educación laica
- E. Apertura al extranjero

- 1. A,B y C
- 2. B,C y D
- 3. D y E
- 4. C,D y E

[Question ID = 3114][Question Description = 174_40_SPA_SEP22_S2_Q74]

- 1. 1 [Option ID = 12453]
- 2. 2 [Option ID = 12454]
- 3. 3 [Option ID = 12455]
- 4. 4 [Option ID = 12456]



75)

Given below are two statements:

Statement I: Octavio Paz era embajador en la India en los años sesenta del siglo veinte

Statement II: Sus escritos sobre la India datan solo de esta época

In the light of the above statements, choose the correct answer from the options given below.

1. Both Statement I and Statement II are true
2. Both Statement I and Statement II are false
3. Statement I is true but Statement II is false
4. Statement I is false but Statement II is true.

[Question ID = 3115][Question Description = 175_40_SPA_SEP22_S2_Q75]

1. 1 [Option ID = 12457]
2. 2 [Option ID = 12458]
3. 3 [Option ID = 12459]
4. 4 [Option ID = 12460]

76)

"Los años del hambre" en la historia española son

1. La primera década del Siglo XX
2. La primera década de la dictadura de Franco
3. La primera década de la promulgación de la Constitución de 1978.
4. De 2008-2018

[Question ID = 3116][Question Description = 176_40_SPA_SEP22_S2_Q76]

1. 1 [Option ID = 12461]
2. 2 [Option ID = 12462]
3. 3 [Option ID = 12463]
4. 4 [Option ID = 12464]

77)

Given below are two statements:

Statement I: Felipe Calderón lanzó la guerra contra el narco

Statement II: Los carteles de droga dejaron de existir después de esta guerra

In the light of the above statements, choose the most appropriate answer from the options given below.

1. Both Statement I and Statement II are correct
2. Both Statement I and Statement II are incorrect
3. Statement I is correct but Statement II is incorrect
4. Statement I is incorrect but Statement II is correct

[Question ID = 3117][Question Description = 177_40_SPA_SEP22_S2_Q77]

1. 1 [Option ID = 12465]
2. 2 [Option ID = 12466]
3. 3 [Option ID = 12467]
4. 4 [Option ID = 12468]

78)

Valle de los Caídos está relacionado con

1. Valle Inclán
2. General Franco
3. Frida Kahlo
4. Tupac Amaru

[Question ID = 3118][Question Description = 178_40_SPA_SEP22_S2_Q78]

1. 1 [Option ID = 12469]
2. 2 [Option ID = 12470]
3. 3 [Option ID = 12471]
4. 4 [Option ID = 12472]

79)

Se consideran libertadores:

1. Gabriel García Márquez y Pablo Neruda
2. Salvador Dalí y Pablo Picasso
3. Simón Bolívar y José de San Martín
4. Andrés Bello y Gertrudis Gómez de Avellaneda

[Question ID = 3119][Question Description = 179_40_SPA_SEP22_S2_Q79]

1. 1 [Option ID = 12473]
2. 2 [Option ID = 12474]
3. 3 [Option ID = 12475]
4. 4 [Option ID = 12476]

80)

¿Cuál de las siguientes ideas pueden asociarse con la Generación de 27?

- A. Sentimiento Patriótico
- B. Elogio e inspiración del imperio español
- C. Pesimismo general
- D. Inmigración hacia EEUU

1. Solo A
2. A y B
3. Solo C
4. Solo D

[Question ID = 3120][Question Description = 180_40_SPA_SEP22_S2_Q80]

1. 1 [Option ID = 12477]
2. 2 [Option ID = 12478]
3. 3 [Option ID = 12479]
4. 4 [Option ID = 12480]

81)

En el método tradicional o "gramática y traducción" se daba énfasis al

1. Enfoque audiovisual
2. Enfoque comunicativo
3. Enfoque de aprendizaje por aplicaciones
4. El aprendizaje de la gramática y memorización de textos.

[Question ID = 3121][Question Description = 181_40_SPA_SEP22_S2_Q81]

1. 1 [Option ID = 12481]
2. 2 [Option ID = 12482]
3. 3 [Option ID = 12483]

4. 4 [Option ID = 12484]

82)

Esta reforma se implementó durante el primer bienio de la Segunda República

1. Enseñanza laica, pública, obligatoria y gratis
2. Enseñanza privada, católica y opcional
3. Privatización de los recursos naturales
4. Apertura de mercado nacional para empresas multinacionales

[Question ID = 3122][Question Description = 182_40_SPA_SEP22_S2_Q82]

1. 1 [Option ID = 12485]
2. 2 [Option ID = 12486]
3. 3 [Option ID = 12487]
4. 4 [Option ID = 12488]

83)

Las características del Barroco son

- A. La proliferación
- B. La exageración
- C. Un arte de contrastes
- D. Un mundo inestable
- E. El Parnasianismo

1. A,B,C,E
2. B,C,D,E
3. A,B,C,D
4. B,D,C,E



[Question ID = 3123][Question Description = 183_40_SPA_SEP22_S2_Q83]

1. 1 [Option ID = 12489]
2. 2 [Option ID = 12490]
3. 3 [Option ID = 12491]
4. 4 [Option ID = 12492]

84)

Maximiliano fue el emperador de

1. México
2. Argentina
3. Chile
4. Perú

[Question ID = 3124][Question Description = 184_40_SPA_SEP22_S2_Q84]

1. 1 [Option ID = 12493]
2. 2 [Option ID = 12494]
3. 3 [Option ID = 12495]
4. 4 [Option ID = 12496]

85)

La novelapertenece a la Generación de 1898.

1. Niebla
2. Hasta no verte Jesús mío
3. La escalera
4. Mujeres de ojos grandes

[Question ID = 3125][Question Description = 185_40_SPA_SEP22_S2_Q85]

1. 1 [Option ID = 12497]

2. 2 [Option ID = 12498]
3. 3 [Option ID = 12499]
4. 4 [Option ID = 12500]

86)

El concepto de metafrase en la traducción literaria se define como

1. La retraducción
2. La traducción literal palabra por palabra
3. La traducción de terminología científica
4. La fraseología de la lengua meta

[Question ID = 3126][Question Description = 186_40_SPA_SEP22_S2_Q86]

1. 1 [Option ID = 12501]
2. 2 [Option ID = 12502]
3. 3 [Option ID = 12503]
4. 4 [Option ID = 12504]

87)

Cuál autor/a no se relaciona con el romanticismo español

1. José de Espronceda
2. Gertrudis Gómez de Avellaneda
3. Rosalía de Castro
4. Leandro Fernández de Martín

[Question ID = 3127][Question Description = 187_40_SPA_SEP22_S2_Q87]

1. 1 [Option ID = 12505]
2. 2 [Option ID = 12506]
3. 3 [Option ID = 12507]
4. 4 [Option ID = 12508]

88)

El pacto de silencio se refiere a

1. La vuelta al imperio durante el franquismo
2. La Inquisición
3. La proclamación de las Cortes de Cádiz
4. La supresión de la memoria de la Guerra Civil.

[Question ID = 3128][Question Description = 188_40_SPA_SEP22_S2_Q88]

1. 1 [Option ID = 12509]
2. 2 [Option ID = 12510]
3. 3 [Option ID = 12511]
4. 4 [Option ID = 12512]

89)

En *Cinco horas con Mario*, Miguel Delibes presenta

1. El soliloquio de una mujer loca que habla con su hijo muerto
2. El monólogo interior de una mujer que vela a su esposo muerto
3. La dura vida de un viejo y un niño en un pueblo castellano
4. La yuxtaposición de los monólogos de dos personajes en una pequeña ciudad provincial.

[Question ID = 3129][Question Description = 189_40_SPA_SEP22_S2_Q89]

1. 1 [Option ID = 12513]
2. 2 [Option ID = 12514]
3. 3 [Option ID = 12515]
4. 4 [Option ID = 12516]

90)

La mayoría de las colonias hispanoamericanas se independizaron entre

1. 1800-1810
2. 1827-1898
3. 1810-1826
4. 1789-1800

[Question ID = 3130][Question Description = 190_40_SPA_SEP22_S2_Q90]

1. 1 [Option ID = 12517]
2. 2 [Option ID = 12518]
3. 3 [Option ID = 12519]
4. 4 [Option ID = 12520]

Topic: - 040_PARTB_S2

1) La novedad de los años cincuenta fue que los jóvenes de clase media, por lo menos en el mundo anglosajón, marcaban cada vez más la pauta universal de un nuevo estilo de modernidad en las costumbres. Por ejemplo en la ropa, e incluso en el lenguaje de la clase baja urbana. La música rock fue el caso más sorprendente: a mediados de los años cincuenta surgió del gueto de la "música étnica", propia de los negros norteamericanos pobres, para convertirse en el lenguaje universal de la juventud. Anteriormente, los jóvenes elegantes de la clase trabajadora habían adoptado los estilos de la moda de los niveles sociales más altos; en mayor grado los jóvenes de clase trabajadora. Ahora parecía tener lugar una extraña inversión de papeles: el mercado de la moda joven plebeya empezó a marcar la pauta. Ante el avance de los *blue jeans* para ambos sexos, la alta costura parisiense se retiró, o aceptó su derrota al utilizar sus marcas de prestigio para vender productos de consumo masivo. 1965 fue el primer año en que la industria de la confección femenina de Francia produjo más pantalones que faldas.

La revolución en las costumbres que se inicia en los años cincuenta indica

1. influencia de la televisión anglosajona
2. reducción de precios en los artículos de consumo
3. necesidad de no quedar segregados
4. creciente influencia de la cultura norteamericana

[Question ID = 3131][Question Description = 191_40_SPA_SEP22_S2_Q91]

1. 1 [Option ID = 12521]
2. 2 [Option ID = 12522]
3. 3 [Option ID = 12523]
4. 4 [Option ID = 12524]

- 2) La novedad de los años cincuenta fue que los jóvenes de clase media, por lo menos en el mundo anglosajón, marcaban cada vez más la pauta universal de un nuevo estilo de modernidad en las costumbres. Por ejemplo en la ropa, e incluso en el lenguaje de la clase baja urbana. La música rock fue el caso más sorprendente: a mediados de los años cincuenta surgió del gueto de la "música étnica", propia de los negros norteamericanos pobres, para convertirse en el lenguaje universal de la juventud. Anteriormente, los jóvenes elegantes de la clase trabajadora habían adoptado los estilos de la moda de los niveles sociales más altos; en mayor grado los jóvenes de clase trabajadora. Ahora parecía tener lugar una extraña inversión de papeles: el mercado de la moda joven plebeya empezó a marcar la pauta. Ante el avance de los *blue jeans* para ambos sexos, la alta costura parisiense se retiró, o aceptó su derrota al utilizar sus marcas de prestigio para vender productos de consumo masivo. 1965 fue el primer año en que la industria de la confección femenina de Francia produjo más pantalones que faldas.

La homogeneización de hábitos puede indicar que la juventud busca

1. forma de protesta de la clase trabajadora ante los patrones establecidos
2. orientación a través de la televisión
3. normas, usos y costumbres nuevos
4. compartir experiencias inéditas.

[Question ID = 3132][Question Description = 192_40_SPA_SEP22_S2_Q92]

1. 1 [Option ID = 12525]
2. 2 [Option ID = 12526]
3. 3 [Option ID = 12527]
4. 4 [Option ID = 12528]

- 3) La novedad de los años cincuenta fue que los jóvenes de clase media, por lo menos en el mundo anglosajón, marcaban cada vez más la pauta universal de un nuevo estilo de modernidad en las costumbres. Por ejemplo en la ropa, e incluso en el lenguaje de la clase baja urbana. La música rock fue el caso más sorprendente: a mediados de los años cincuenta surgió del gueto de la "música étnica", propia de los negros norteamericanos pobres, para convertirse en el lenguaje universal de la juventud. Anteriormente, los jóvenes elegantes de la clase trabajadora habían adoptado los estilos de la moda de los niveles sociales más altos; en mayor grado los jóvenes de clase trabajadora. Ahora parecía tener lugar una extraña inversión de papeles: el mercado de la moda joven plebeya empezó a marcar la pauta. Ante el avance de los *blue jeans* para ambos sexos, la alta costura parisiense se retiró, o aceptó su derrota al utilizar sus marcas de prestigio para vender productos de consumo masivo. 1965 fue el primer año en que la industria de la confección femenina de Francia produjo más pantalones que faldas.

El giro populista de los gustos juveniles significó la

1. juventud plebeya es la que impone las pautas de la moda
2. búsqueda de estilos de vida bohemios
3. desconfianza respecto a los padres
4. búsqueda de nueva igualdad de género

[Question ID = 3133][Question Description = 193_40_SPA_SEP22_S2_Q93]

1. 1 [Option ID = 12529]
2. 2 [Option ID = 12530]
3. 3 [Option ID = 12531]
4. 4 [Option ID = 12532]

4) La novedad de los años cincuenta fue que los jóvenes de clase media, por lo menos en el mundo anglosajón, marcaban cada vez más la pauta universal de un nuevo estilo de modernidad en las costumbres. Por ejemplo en la ropa, e incluso en el lenguaje de la clase baja urbana. La música rock fue el caso más sorprendente: a mediados de los años cincuenta surgió del gueto de la "música étnica", propia de los negros norteamericanos pobres, para convertirse en el lenguaje universal de la juventud. Anteriormente, los jóvenes elegantes de la clase trabajadora habían adoptado los estilos de la moda de los niveles sociales más altos; en mayor grado los jóvenes de clase trabajadora. Ahora parecía tener lugar una extraña inversión de papeles: el mercado de la moda joven plebeya empezó a marcar la pauta. Ante el avance de los *blue jeans* para ambos sexos, la alta costura parisiense se retiró, o aceptó su derrota al utilizar sus marcas de prestigio para vender productos de consumo masivo. 1965 fue el primer año en que la industria de la confección femenina de Francia produjo más pantalones que faldas.

¿Por qué influyó tanto el rock en el mundo?

1. Por la publicidad de disqueras y radios
2. Por ser un movimiento esencialmente juvenil
3. Por la gran facilidad para escucharlo
4. Porque eliminó el romanticismo del bolero.

[Question ID = 3134][Question Description = 194_40_SPA_SEP22_S2_Q94]

1. 1 [Option ID = 12533]
2. 2 [Option ID = 12534]
3. 3 [Option ID = 12535]
4. 4 [Option ID = 12536]

5) La novedad de los años cincuenta fue que los jóvenes de clase media, por lo menos en el mundo anglosajón, marcaban cada vez más la pauta universal de un nuevo estilo de modernidad en las costumbres. Por ejemplo en la ropa, e incluso en el lenguaje de la clase baja urbana. La música rock fue el caso más sorprendente: a mediados de los años cincuenta surgió del gueto de la "música étnica", propia de los negros norteamericanos pobres, para convertirse en el lenguaje universal de la juventud. Anteriormente, los jóvenes elegantes de la clase trabajadora habían adoptado los estilos de la moda de los niveles sociales más altos; en mayor grado los jóvenes de clase trabajadora. Ahora parecía tener lugar una extraña inversión de papeles: el mercado de la moda joven plebeya empezó a marcar la pauta. Ante el avance de los *blue jeans* para ambos sexos, la alta costura parisiense se retiró, o aceptó su derrota al utilizar sus marcas de prestigio para vender productos de consumo masivo. 1965 fue el primer año en que la industria de la confección femenina de Francia produjo más pantalones que faldas.

La palabra "gueto" en el texto se entiende como

1. originalidad
2. creatividad
3. especificidad
4. etnicidad

[Question ID = 3135][Question Description = 195_40_SPA_SEP22_S2_Q95]

1. 1 [Option ID = 12537]
2. 2 [Option ID = 12538]
3. 3 [Option ID = 12539]
4. 4 [Option ID = 12540]

- 1) En mi opinión, no existen las dietas mágicas, es más, creo que es...1... que haya tanta publicidad sobre ellas. Si uno tiene problemas de peso, lo....2.... es que vaya al médico y que el médico le diga lo que tiene que comer y lo que no. Me parece.....3..... que se permita que la publicidad ocupe el puesto de los especialistas. Puede que para algunas personas esté ...4....seguir una dieta de esas porque, por ejemplo, un personaje famoso de la televisión la sigue y dice que es5....pero eso no significa que sea recomendable dejarse aconsejar así. Ya digo, lo mejor es consultar el médico.

Elija la opción correcta para el hueco 1:

1. escandaloso
2. admirable
3. imperdonable
4. innegable

[Question ID = 3136][Question Description = 196_40_SPA_SEP22_S2_Q96]

1. 1 [Option ID = 12541]
2. 2 [Option ID = 12542]
3. 3 [Option ID = 12543]
4. 4 [Option ID = 12544]

- 2) En mi opinión, no existen las dietas mágicas, es más, creo que es...1... que haya tanta publicidad sobre ellas. Si uno tiene problemas de peso, lo....2.... es que vaya al médico y que el médico le diga lo que tiene que comer y lo que no. Me parece.....3..... que se permita que la publicidad ocupe el puesto de los especialistas. Puede que para algunas personas esté ...4....seguir una dieta de esas porque, por ejemplo, un personaje famoso de la televisión la sigue y dice que es5....pero eso no significa que sea recomendable dejarse aconsejar así. Ya digo, lo mejor es consultar el médico.

Elija la opción correcta para el hueco 2:

1. justo
2. aconsejable
3. de buena educación
4. de primera calidad

[Question ID = 3137][Question Description = 197_40_SPA_SEP22_S2_Q97]

1. 1 [Option ID = 12545]
2. 2 [Option ID = 12546]
3. 3 [Option ID = 12547]
4. 4 [Option ID = 12548]

- 3) En mi opinión, no existen las dietas mágicas, es más, creo que es...1... que haya tanta publicidad sobre ellas. Si uno tiene problemas de peso, lo....2.... es que vaya al médico y que el médico le diga lo que tiene que comer y lo que no. Me parece.....3..... que se permita que la publicidad ocupe el puesto de los especialistas. Puede que para algunas personas esté ...4....seguir una dieta de esas porque, por ejemplo, un personaje famoso de la televisión la sigue y dice que es5....pero eso no significa que sea recomendable dejarse aconsejar así. Ya digo, lo mejor es consultar el médico.

Elija la opción correcta para el hueco 3:

1. ilógico
2. dudoso
3. indignante
4. indiferente

[Question ID = 3138][Question Description = 198_40_SPA_SEP22_S2_Q98]

1. 1 [Option ID = 12549]

2. 2 [Option ID = 12550]
3. 3 [Option ID = 12551]
4. 4 [Option ID = 12552]

4) En mi opinión, no existen las dietas mágicas, es más, creo que es...1... que haya tanta publicidad sobre ellas. Si uno tiene problemas de peso, lo....2.... es que vaya al médico y que el médico le diga lo que tiene que comer y lo que no. Me parece....3..... que se permita que la publicidad ocupe el puesto de los especialistas. Puede que para algunas personas esté ...4....seguir una dieta de esas porque, por ejemplo, un personaje famoso de la televisión la sigue y dice que es5....pero eso no significa que sea recomendable dejarse aconsejar así. Ya digo, lo mejor es consultar el médico.

Elija la opción correcta para el hueco 4:

1. bien visto
2. de buen gusto
3. costumbre
4. vislumbre

[Question ID = 3139][Question Description = 199_40_SPA_SEP22_S2_Q99]

1. 1 [Option ID = 12553]
2. 2 [Option ID = 12554]
3. 3 [Option ID = 12555]
4. 4 [Option ID = 12556]

5) En mi opinión, no existen las dietas mágicas, es más, creo que es...1... que haya tanta publicidad sobre ellas. Si uno tiene problemas de peso, lo....2.... es que vaya al médico y que el médico le diga lo que tiene que comer y lo que no. Me parece....3..... que se permita que la publicidad ocupe el puesto de los especialistas. Puede que para algunas personas esté ...4....seguir una dieta de esas porque, por ejemplo, un personaje famoso de la televisión la sigue y dice que es5....pero eso no significa que sea recomendable dejarse aconsejar así. Ya digo, lo mejor es consultar el médico.

Elija la opción correcta para el hueco 5:

1. fantástica
2. propicia
3. memorable
4. preferible

[Question ID = 3140][Question Description = 200_40_SPA_SEP22_S2_Q100]

1. 1 [Option ID = 12557]
2. 2 [Option ID = 12558]
3. 3 [Option ID = 12559]
4. 4 [Option ID = 12560]

Topic:- 22 GP_29SEPT22_SH1_S2_A

1)

Based on the data in the table, answer the five questions that follow

The following table gives the sale figures of five different types of batteries (in thousands) sold by a company during the years 2015 to 2021.

Year-wise Sale of Batteries

| Year | Types Of Batteries Sold (in thousands) | | | | |
|------|--|-----|------|------|------|
| | 4AH | 7AH | 32AH | 35AH | 55AH |
| 2015 | 75 | 144 | 114 | 102 | 108 |
| 2016 | 90 | 126 | 102 | 84 | 126 |
| 2017 | 96 | 114 | 75 | 105 | 135 |
| 2018 | 105 | 90 | 150 | 90 | 75 |
| 2019 | 90 | 75 | 135 | 75 | 90 |
| 2020 | 105 | 60 | 165 | 45 | 120 |
| 2021 | 115 | 85 | 160 | 100 | 145 |

What was the approximate percentage increase in the sales of 55AH batteries in 2021 compared to that in 2015?

1. 28 %
2. 31 %
3. 33 %
4. 34 %

निम्नलिखित तालिका में वर्ष 2015 से 2021 तक के दौरान एक कंपनी द्वारा बिक्री की गई विभिन्न प्रकार की बैटरियों (हजार में) के बिक्री - आंकड़े दिए गए हैं। इस तालिका के आंकड़ों के आधार पर पांच प्रश्नों के उत्तर दीजिए :

बैटरियों की वर्ष - वार बिक्री :

| वर्ष | बिक्री की गई बैटरियों के प्रकार (हजार में) | | | | |
|------|--|--------|---------|---------|---------|
| | 4 ए एच | 7 ए एच | 32 ए एच | 35 ए एच | 55 ए एच |
| 2015 | 75 | 144 | 114 | 102 | 108 |
| 2016 | 90 | 126 | 102 | 84 | 126 |
| 2017 | 96 | 114 | 75 | 105 | 135 |
| 2018 | 105 | 90 | 150 | 90 | 75 |
| 2019 | 90 | 75 | 135 | 75 | 90 |
| 2020 | 105 | 60 | 165 | 45 | 120 |
| 2021 | 115 | 85 | 160 | 100 | 145 |

2015 की तुलना में 2021 में 55 ए एच बैटरियों की बिक्री में लगभग प्रतिशत वृद्धि क्या थी ?

1. 28 %
2. 31 %
3. 33 %
4. 34 %

[Question ID = 4374][Question Description = 101_81_GP6_SEP22_S2_Q01]

1. 1 [Option ID = 17493]
2. 2 [Option ID = 17494]
3. 3 [Option ID = 17495]

4. 4 [Option ID = 17496]

2)

Based on the data in the table, answer the five questions that follow

The following table gives the sale figures of five different types of batteries (in thousands) sold by a company during the years 2015 to 2021.

Year-wise Sale of Batteries

| Year | Types Of Batteries Sold (in thousands) | | | | |
|------|--|-----|------|------|------|
| | 4AH | 7AH | 32AH | 35AH | 55AH |
| 2015 | 75 | 144 | 114 | 102 | 108 |
| 2016 | 90 | 126 | 102 | 84 | 126 |
| 2017 | 96 | 114 | 75 | 105 | 135 |
| 2018 | 105 | 90 | 150 | 90 | 75 |
| 2019 | 90 | 75 | 135 | 75 | 90 |
| 2020 | 105 | 60 | 165 | 45 | 120 |
| 2021 | 115 | 85 | 160 | 100 | 145 |

The total sales of all the seven years is maximum for which type of battery?

1. 4AH
2. 7AH
3. 32AH
4. 35AH

निम्नलिखित तालिका में वर्ष 2015 से 2021 तक के दौरान एक कंपनी द्वारा बिक्री की गई विभिन्न प्रकार की बैटरियों (हजार में) के बिक्री - आंकड़े दिए गए हैं। इस तालिका के आंकड़ों के आधार पर पांच प्रश्नों के उत्तर दीजिए :

बैटरियों की वर्ष - वार बिक्री :

| वर्ष | बिक्री की गई बैटरियों के प्रकार (हजार में) | | | | |
|------|--|--------|---------|---------|---------|
| | 4 ए एच | 7 ए एच | 32 ए एच | 35 ए एच | 55 ए एच |
| 2015 | 75 | 144 | 114 | 102 | 108 |
| 2016 | 90 | 126 | 102 | 84 | 126 |
| 2017 | 96 | 114 | 75 | 105 | 135 |
| 2018 | 105 | 90 | 150 | 90 | 75 |
| 2019 | 90 | 75 | 135 | 75 | 90 |
| 2020 | 105 | 60 | 165 | 45 | 120 |
| 2021 | 115 | 85 | 160 | 100 | 145 |

इन सभी सात वर्षों में किस प्रकार की बैटरी की कुल बिक्री सर्वाधिक थी ?

1. 4 ए एच
2. 7 ए एच
3. 32 ए एच
4. 35 ए एच

[Question ID = 4375][Question Description = 102_81_GP6_SEP22_S2_Q02]

1. 1 [Option ID = 17497]
2. 2 [Option ID = 17498]

3. 3 [Option ID = 17499]
 4. 4 [Option ID = 17500]

3) **Based on the data in the table, answer the five questions that follow**

The following table gives the sale figures of five different types of batteries (in thousands) sold by a company during the years 2015 to 2021.

Year-wise Sale of Batteries

| Year | Types Of Batteries Sold (in thousands) | | | | |
|------|--|-----|------|------|------|
| | 4AH | 7AH | 32AH | 35AH | 55AH |
| 2015 | 75 | 144 | 114 | 102 | 108 |
| 2016 | 90 | 126 | 102 | 84 | 126 |
| 2017 | 96 | 114 | 75 | 105 | 135 |
| 2018 | 105 | 90 | 150 | 90 | 75 |
| 2019 | 90 | 75 | 135 | 75 | 90 |
| 2020 | 105 | 60 | 165 | 45 | 120 |
| 2021 | 115 | 85 | 160 | 100 | 145 |

What is the difference in the number of 35AH batteries sold in 2016 and 2020?

1. 24000
2. 28000
3. 35000
4. 39000

निम्नलिखित तालिका में वर्ष 2015 से 2021 तक के दौरान एक कंपनी द्वारा बिक्री की गई विभिन्न प्रकार की बैटरियों (हजार में) के बिक्री - आंकड़े दिए गए हैं। इस तालिका के आंकड़ों के आधार पर पांच प्रश्नों के उत्तर दीजिए :

बैटरियों की वर्ष - वार बिक्री :

| वर्ष | बिक्री की गई बैटरियों के प्रकार (हजार में) | | | | |
|------|--|--------|---------|---------|---------|
| | 4 ए एच | 7 ए एच | 32 ए एच | 35 ए एच | 55 ए एच |
| 2015 | 75 | 144 | 114 | 102 | 108 |
| 2016 | 90 | 126 | 102 | 84 | 126 |
| 2017 | 96 | 114 | 75 | 105 | 135 |
| 2018 | 105 | 90 | 150 | 90 | 75 |
| 2019 | 90 | 75 | 135 | 75 | 90 |
| 2020 | 105 | 60 | 165 | 45 | 120 |
| 2021 | 115 | 85 | 160 | 100 | 145 |

वर्ष 2016 और 2020 में 35 ए एच बैटरियों की बिक्री संख्या में क्या अंतर है ?

1. 24000
2. 28000
3. 35000
4. 39000

[Question ID = 4376][Question Description = 103_81_GP6_SEP22_S2_Q03]

1. 1 [Option ID = 17501]

2. 2 [Option ID = 17502]
3. 3 [Option ID = 17503]
4. 4 [Option ID = 17504]

4) **Based on the data in the table, answer the five questions that follow**

The following table gives the sale figures of five different types of batteries (in thousands) sold by a company during the years 2015 to 2021.

Year-wise Sale of Batteries

| Year | Types Of Batteries Sold (in thousands) | | | | |
|------|--|-----|------|------|------|
| | 4AH | 7AH | 32AH | 35AH | 55AH |
| 2015 | 75 | 144 | 114 | 102 | 108 |
| 2016 | 90 | 126 | 102 | 84 | 126 |
| 2017 | 96 | 114 | 75 | 105 | 135 |
| 2018 | 105 | 90 | 150 | 90 | 75 |
| 2019 | 90 | 75 | 135 | 75 | 90 |
| 2020 | 105 | 60 | 165 | 45 | 120 |
| 2021 | 115 | 85 | 160 | 100 | 145 |

The percentage of 4AH batteries sold in a given year to the total number of batteries sold in that same year was maximum in the year:

1. 2017
2. 2018
3. 2019
4. 2020

निम्नलिखित तालिका में वर्ष 2015 से 2021 तक के दौरान एक कंपनी द्वारा बिक्री की गई विभिन्न प्रकार की बैटरियों (हजार में) के बिक्री - आंकड़े दिए गए हैं। इस तालिका के आंकड़ों के आधार पर पांच प्रश्नों के उत्तर दीजिए :

बैटरियों की वर्ष - वार बिक्री :

| वर्ष | बिक्री की गई बैटरियों के प्रकार (हजार में) | | | | |
|------|--|--------|---------|---------|---------|
| | 4 ए एच | 7 ए एच | 32 ए एच | 35 ए एच | 55 ए एच |
| 2015 | 75 | 144 | 114 | 102 | 108 |
| 2016 | 90 | 126 | 102 | 84 | 126 |
| 2017 | 96 | 114 | 75 | 105 | 135 |
| 2018 | 105 | 90 | 150 | 90 | 75 |
| 2019 | 90 | 75 | 135 | 75 | 90 |
| 2020 | 105 | 60 | 165 | 45 | 120 |
| 2021 | 115 | 85 | 160 | 100 | 145 |

किसी दिए गए वर्ष में बैटरियों की बिक्री की कुल संख्या के साथ उसी वर्ष में बिक्री की गयी 4 ए एच बैटरियों का प्रतिशत किस वर्ष अधिक था ?

1. 2017
2. 2018
3. 2019
4. 2020

[Question ID = 4377][Question Description = 104_81_GP6_SEP22_S2_Q04]

1. 1 [Option ID = 17505]
2. 2 [Option ID = 17506]
3. 3 [Option ID = 17507]
4. 4 [Option ID = 17508]

5)

Based on the data in the table, answer the five questions that follow

The following table gives the sale figures of five different types of batteries (in thousands) sold by a company during the years 2015 to 2021.

Year-wise Sale of Batteries

| Year | Types Of Batteries Sold (in thousands) | | | | |
|------|--|-----|------|------|------|
| | 4AH | 7AH | 32AH | 35AH | 55AH |
| 2015 | 75 | 144 | 114 | 102 | 108 |
| 2016 | 90 | 126 | 102 | 84 | 126 |
| 2017 | 96 | 114 | 75 | 105 | 135 |
| 2018 | 105 | 90 | 150 | 90 | 75 |
| 2019 | 90 | 75 | 135 | 75 | 90 |
| 2020 | 105 | 60 | 165 | 45 | 120 |
| 2021 | 115 | 85 | 160 | 100 | 145 |

In case of which type of battery there was a continuous decrease in sales from 2015 to 2020?

1. 4AH
2. 7AH
3. 32AH
4. 35AH

निम्नलिखित तालिका में वर्ष 2015 से 2021 तक के दौरान एक कंपनी द्वारा बिक्री की गई विभिन्न प्रकार की बैटरियों (हजार में) के बिक्री - आंकड़े दिए गए हैं। इस तालिका के आंकड़ों के आधार पर पांच प्रश्नों के उत्तर दीजिए :

बैटरियों की वर्ष - वार बिक्री :

| वर्ष | बिक्री की गई बैटरियों के प्रकार (हजार में) | | | | |
|------|--|--------|---------|---------|---------|
| | 4 ए एच | 7 ए एच | 32 ए एच | 35 ए एच | 55 ए एच |
| 2015 | 75 | 144 | 114 | 102 | 108 |
| 2016 | 90 | 126 | 102 | 84 | 126 |
| 2017 | 96 | 114 | 75 | 105 | 135 |
| 2018 | 105 | 90 | 150 | 90 | 75 |
| 2019 | 90 | 75 | 135 | 75 | 90 |
| 2020 | 105 | 60 | 165 | 45 | 120 |
| 2021 | 115 | 85 | 160 | 100 | 145 |

वर्ष 2015 से 2020 तक किस प्रकार की बैटरी की बिक्री में निरंतर गिरावट हुयी ?

1. 4 ए एच
2. 7 ए एच
3. 32 ए एच
4. 35 ए एच

[Question ID = 4378][Question Description = 105_81_GP6_SEP22_S2_Q05]

1. 1 [Option ID = 17509]
2. 2 [Option ID = 17510]
3. 3 [Option ID = 17511]
4. 4 [Option ID = 17512]

Topic: - 22 GP_29SEPT22_SH1_S2_B

1) Which scheme of Ministry of Education, Government of India, uses Artificial Intelligence to make learning more personalised and customised, as per requirements of the learners?

1. NEAT
2. NEET
3. SWAYAM
4. SWAYAM PRABHA

शिक्षा मंत्रालय, भारत सरकार की कौन सी योजना शिक्षार्थियों की आवश्यकताओं के अनुसार अधिगम को अधिक वैयक्तिक और विद्यार्थी अनुकूल बनाने के लिए कृत्रिम बुद्धिमत्ता का प्रयोग करती है ?

1. एन ई ए टी
2. एन ई ई टी
3. स्वयम (SWAYAM)
4. स्वयम प्रभा (SWAYAMPBABHA)

[Question ID = 4379][Question Description = 106_81_GP6_SEP22_S2_Q06]

1. 1 [Option ID = 17513]
2. 2 [Option ID = 17514]
3. 3 [Option ID = 17515]
4. 4 [Option ID = 17516]

2) Upon completion of academic programmes (Graduation), what outcomes should the students have attained?

1. Programme Education Objectives/ Programme outcomes
2. Lesson outcomes
3. Course outcomes
4. Unit/Chapter outcomes

अकादमिक कार्यक्रमों (स्नातक) के पूरा होने पर, विद्यार्थियों को क्या परिणाम प्राप्त होने चाहिए ?

1. कार्यक्रम शिक्षा उद्देश्य / कार्यक्रम परिणाम
2. पाठ परिणाम
3. पाठ्यक्रम परिणाम
4. यूनिट/ अध्याय परिणाम

[Question ID = 4380][Question Description = 107_81_GP6_SEP22_S2_Q07]

1. 1 [Option ID = 17517]
2. 2 [Option ID = 17518]
3. 3 [Option ID = 17519]
4. 4 [Option ID = 17520]

3) Given below are two statements, one is labelled as **Assertion A** and the other is labelled as **Reason R**.

Assertion A: Teachers must encourage students to ask questions.

Reason R: Asking questions can create curiosity and develop passion for learning.

In light of the above statements, choose the **most appropriate** answer from the options given below

1. Both **A** and **R** are correct and **R** is the correct explanation of **A**
2. Both **A** and **R** are correct but **R** is NOT the correct explanation of **A**
3. **A** is correct but **R** is not correct
4. **A** is not correct but **R** is correct

नीचे दो कथन दिए गए हैं : एक को अभिकथन (A) और दूसरे को कारण (R) कहा गया है।

अभिकथन (A) : शिक्षकों को विद्यार्थियों को प्रश्न पूछने के लिए प्रोत्साहित करना चाहिए।

कारण (R) : प्रश्न पूछने से जिज्ञासा सृजित होती है और अधिगम के लिए उत्साह विकसित होता है।

उपर्युक्त कथनों के आलोक में निम्नांकित विकल्पों में से सही उत्तर चुनें :

1. (A) और (R) दोनों सही हैं और (R), (A) की सही व्याख्या है।
2. (A) और (R) दोनों सही हैं परन्तु (R), (A) की सही व्याख्या नहीं है।
3. (A) सही है परन्तु (R) सही नहीं है।
4. (A) सही नहीं है परन्तु (R) सही है।

[Question ID = 4381][Question Description = 108_81_GP6_SEP22_S2_Q08]

1. 1 [Option ID = 17521]
2. 2 [Option ID = 17522]
3. 3 [Option ID = 17523]
4. 4 [Option ID = 17524]

4) Which of the following model is used for development of e-content for MOOCs on SWAYAM?

1. Four Quadrant
2. Two Quadrant
3. Flipped Classroom
4. Bloom's Taxonomy

स्वयम (SWAYAM) पर मूक्स (MOOCs) के लिए ई-विषयवस्तु के विकास के लिए निम्न में से किस मॉडल का प्रयोग होता है ?

1. चार चतुष्क
2. दो चतुष्क
3. फ्लिपड कक्षा
4. ब्लूम का वर्गीकरण विज्ञान

[Question ID = 4382][Question Description = 109_81_GP6_SEP22_S2_Q09]

1. 1 [Option ID = 17525]
2. 2 [Option ID = 17526]
3. 3 [Option ID = 17527]
4. 4 [Option ID = 17528]

5) In order to develop a video for MOOC, how much portion of some copyrighted video is allowed to be used as per the fair use guidelines?

1. Upto 10% or 10 minutes, whichever is less.
2. Upto 10% or 3 minutes, whichever is less.
3. Upto 20% or 10 minutes, whichever is less.
4. Upto 30% or 3 minutes, whichever is less.

मूक (MOOC) के लिए कोई वीडियो बनाने के लिए, उचित प्रयोग दिशानिर्देशों के अनुसार, किसी प्रतिलिप्याधिकारित वीडियो के कितने हिस्से का प्रयोग करने की अनुमति है ?

1. 10% तक, या 10 मिनट, जो भी कम हो।
2. 10% तक, या 3 मिनट, जो भी कम हो।
3. 20% तक, या 10 मिनट, जो भी कम हो।
4. 30% तक, या 3 मिनट, जो भी कम हो।

[Question ID = 4383][Question Description = 110_81_GP6_SEP22_S2_Q10]

1. 1 [Option ID = 17529]
2. 2 [Option ID = 17530]
3. 3 [Option ID = 17531]
4. 4 [Option ID = 17532]

6) When the subjects of a research change or improve their behaviour, not due to changes in experimental stimulus, it is called

1. The Hawthorne effect
2. The Glenn effect
3. The Fischer effect
4. The Kerlinger effect

जब किसी शोध के विषयों के व्यवहार में परिवर्तन या सुधार प्रयोगात्मक उद्दीपकों में परिवर्तन के कारण नहीं होता है, तो उसे कहा जाता है :-

1. हावथोर्न प्रभाव
2. ग्लेन प्रभाव
3. फिशर प्रभाव
4. करलिंगर प्रभाव

[Question ID = 4384][Question Description = 111_81_GP6_SEP22_S2_Q11]

1. 1 [Option ID = 17533]
2. 2 [Option ID = 17534]
3. 3 [Option ID = 17535]
4. 4 [Option ID = 17536]

7)

The advantages of research based on field experiments are:

- A. A strong external validity
- B. Subjects behave normally and naturally.
- C. The experiment takes place in a natural setting.
- D. Generation of primary data
- E. Non-requirement of elaborate logistics

Choose the **correct** answer from the options given below:

1. A, B and C only
2. B, C and D only
3. C, D and E only
4. A, C and E only

क्षेत्र में प्रयोगों पर आधारित शोध के लाभ हैं :-

- A. एक प्रबल बाह्य वैधता।
- B. विषय सामान्य और स्वाभाविक रूप से व्यवहार करते हैं।
- C. प्रयोग प्राकृतिक व्यवस्था में होता है।
- D. प्राथमिक आँकड़ों का सृजन।
- E. विस्तृत संभार-तंत्र की आवश्यकता नहीं होती।

नीचे दिए गए विकल्पों में से सही उत्तर चुनें :

1. केवल A, B और C
2. केवल B, C और D
3. केवल C, D और E
4. केवल A, C और E

[Question ID = 4385][Question Description = 112_81_GP6_SEP22_S2_Q12]

1. 1 [Option ID = 17537]
2. 2 [Option ID = 17538]
3. 3 [Option ID = 17539]
4. 4 [Option ID = 17540]

8) Hypothesis, that is alternative to null hypothesis, is represented as

1. H_0
2. H_1
3. H_{alt}
4. $H_{\neq 0}$

परिकल्पना, जो शून्य परिकल्पना का विकल्प है, को दर्शाया जाता है

1. H_0
2. H_1
3. H_{alt}
4. $H_{\neq 0}$

[Question ID = 4386][Question Description = 113_81_GP6_SEP22_S2_Q13]

1. 1 [Option ID = 17541]
2. 2 [Option ID = 17542]
3. 3 [Option ID = 17543]
4. 4 [Option ID = 17544]

9) What is SCOPUS?

1. Software to prepare Ph.D thesis
2. Database containing abstracts and citations of academic journals
3. Agency to fund research and development
4. Plagiarism checking software

स्कॉपस (SCOPUS) क्या है ?

1. पी.एच.डी. शोध ग्रंथ तैयार करने का सॉफ्टवेयर
2. डाटाबेस जिसमें शैक्षिक पत्रिकाओं के सार एवं उद्धरण होते हैं
3. शोध और विकास के वित्तपोषण के लिए अभिकरण
4. साहित्यिक चोरी की जाँच करने वाला सॉफ्टवेयर

[Question ID = 4387][Question Description = 114_81_GP6_SEP22_S2_Q14]

1. 1 [Option ID = 17545]
2. 2 [Option ID = 17546]
3. 3 [Option ID = 17547]
4. 4 [Option ID = 17548]

10) The Social Science research which is data-based, has been associated with

1. Authoritarian mode
2. Positivist philosophy
3. Network theory
4. Phenomenology

वह सामाजिक विज्ञान शोध, जो आंकड़ा-आधारित होता है, निम्नलिखित से संबद्ध है :-

1. सत्तावादी पद्धति
2. प्रत्यक्षवादी दर्शन
3. नेटवर्क सिद्धांत
4. दृश्यघटना विज्ञान

[Question ID = 4388][Question Description = 115_81_GP6_SEP22_S2_Q15]

1. 1 [Option ID = 17549]
2. 2 [Option ID = 17550]
3. 3 [Option ID = 17551]
4. 4 [Option ID = 17552]

11)

The modern communication revolution is propelled by

1. Cold war propaganda
2. International commerce
3. Technological convergence
4. Change in political systems

आधुनिक सम्प्रेषण क्रांति किसके द्वारा अभिप्रेरित है ?

1. शीत युद्ध का प्रोपेगैंडा
2. अंतर्राष्ट्रीय वाणिज्य
3. प्रौद्योगिकीय अभिसरण
4. राजनीतिक प्रणाली में परिवर्तन

[Question ID = 4389][Question Description = 116_81_GP6_SEP22_S2_Q16]

1. 1 [Option ID = 17553]
2. 2 [Option ID = 17554]
3. 3 [Option ID = 17555]
4. 4 [Option ID = 17556]


12)

Effective classroom communication will enable

- A. Efficient teaching
- B. Interest in learning
- C. Minimal assessment
- D. Interaction between teachers and students
- E. Teacher-centric behaviour

Choose the **correct** answer from the options given below:

1. A, B and C only
2. B, C, D and E only
3. C, D and E only
4. A, B and D only



कक्षा में प्रभावी सम्प्रेषण किसमें सक्षम करेगा :

- A. कुशल अध्यापन
- B. सीखने में रुचि
- C. अल्पतम मूल्यांकन
- D. शिक्षकों और विद्यार्थियों के बीच अन्योन्य क्रिया
- E. अध्यापक- केंद्रित व्यवहार

नीचे दिए गए विकल्पों में से सही उत्तर चुनें :

- 1. केवल A, B और C
- 2. केवल B, C, D और E
- 3. केवल C, D और E
- 4. केवल A, B और D

[Question ID = 4390][Question Description = 117_81_GP6_SEP22_S2_Q17]

- 1. 1 [Option ID = 17557]
- 2. 2 [Option ID = 17558]
- 3. 3 [Option ID = 17559]
- 4. 4 [Option ID = 17560]

13)

Which of the following are barriers to understand the communicated messages?

- A. Emotional quotient
- B. Jargon
- C. Personal space
- D. Pre-judgement
- E. Cultural background

Choose the **correct** answer from the options given below:

- 1. A, B and C only
- 2. B, D and E only
- 3. C, D and E only
- 4. B, C and D only



निम्नलिखित में से कौन से सम्प्रेषित संदेशों को समझने में अवरोधक हैं ?

- A. संवेदात्मक-लब्धि
- B. अनर्गल
- C. वैयक्तिक स्थान
- D. पूर्व-निर्णय
- E. सांस्कृतिक पृष्ठभूमि

नीचे दिए गए विकल्पों में से सही उत्तर चुनें :

- 1. केवल A, B और C
- 2. केवल B, D और E
- 3. केवल C, D और E
- 4. केवल B, C और D

[Question ID = 4391][Question Description = 118_81_GP6_SEP22_S2_Q18]

- 1. 1 [Option ID = 17561]
- 2. 2 [Option ID = 17562]
- 3. 3 [Option ID = 17563]
- 4. 4 [Option ID = 17564]

14)

Given below are two statements

Statement I: Knowledge is a form of cultural capital for all practical purposes.

Statement II: Communication media make cultural capital a form of illimitable property.

In light of the above statements, choose the **most appropriate** answer from the options given below

- 1. Both Statement I and Statement II are correct
- 2. Both Statement I and Statement II are incorrect
- 3. Statement I is correct but Statement II is incorrect
- 4. Statement I is incorrect but Statement II is correct

नीचे दो कथन दिए गए हैं :

कथन - I : ज्ञान सभी व्यावहारिक प्रयोजनों के लिए सांस्कृतिक पूंजी का एक रूप है।

कथन - II : सम्प्रेषण मीडिया, सांस्कृतिक पूंजी को एक प्रकार की असीमित सम्पत्ति बनाता है।

उपर्युक्त कथनों के आलोक में निम्नलिखित विकल्पों में से सही उत्तर चुनें :

- 1. कथन I और II दोनों सही हैं।
- 2. कथन I और II दोनों गलत हैं।
- 3. कथन I सही है, किन्तु कथन II गलत है।
- 4. कथन I गलत है, किन्तु कथन II सही है।

[Question ID = 4392][Question Description = 119_81_GP6_SEP22_S2_Q19]

- 1. 1 [Option ID = 17565]
- 2. 2 [Option ID = 17566]
- 3. 3 [Option ID = 17567]
- 4. 4 [Option ID = 17568]

15)

Match **List I** with **List II**

| List I | List II |
|--------------------------------|---------------------------|
| Concept of presentation | Characteristic |
| A. Text | I. Order of signification |
| B. Discourse | II. Subjective invention |
| C. Connotation | III. Micro data |
| D. Myth | IV. Macro exchange |

Choose the **correct** answer from the options given below:

1. A - I, B - II, C - III, D - IV
2. A - II, B - III, C - IV, D - I
3. A - III, B - IV, C - I, D - II
4. A - IV, B - I, C - II, D - III

सूची -I को सूची -II से सुमेलित कीजिए :

| सूची -I | सूची -II |
|-------------------------|----------------------|
| प्रस्तुतीकरण की अवधारणा | विशेषताएं |
| A. पाठ | I. महत्वीकरण का क्रम |
| B. विमर्श | II. आत्म-निष्ठ खोज |
| C. गुणार्थ | III. माइक्रो-डेटा |
| D. मिथक | IV. बृहत आदान-प्रदान |

नीचे दिए गए विकल्पों में से सही उत्तर चुनिए :

1. A - I, B - II, C - III, D - IV
2. A - II, B - III, C - IV, D - I
3. A - III, B - IV, C - I, D - II
4. A - IV, B - I, C - II, D - III

[Question ID = 4393][Question Description = 120_81_GP6_SEP22_S2_Q20]

1. 1 [Option ID = 17569]
2. 2 [Option ID = 17570]
3. 3 [Option ID = 17571]
4. 4 [Option ID = 17572]

16)

Choose the set of numbers, similar to the set (31, 19, 41) out of the following:

A. (27, 29, 47)

B. (23, 34, 49)

C. (29, 16, 41)

D. (29, 17, 37)

E. (23, 37, 49)

Choose the **correct** answer from the options given below:

1. A, C and E only
2. A and B only
3. B and D only
4. D only

निम्नलिखित समुच्चयों में से समुच्चय (31,19,41) के समान संख्याओं के समुच्चय को चुनिए :-

A. (27, 29, 47)

B. (23, 34, 49)

C. (29, 16, 41)

D. (29, 17, 37)

E. (23, 37, 49)

नीचे दिए गए विकल्पों में से सही उत्तर चुनें :

1. केवल A, C और E
2. केवल A और B
3. केवल B और D
4. केवल D



[Question ID = 4394][Question Description = 121_81_GP6_SEP22_S2_Q21]

1. 1 [Option ID = 17573]
2. 2 [Option ID = 17574]
3. 3 [Option ID = 17575]
4. 4 [Option ID = 17576]

17)

Unscramble the strings below to create a meaningful word and then find the odd one out:

- A. EIWNTR
- B. UMRSME
- C. PIGRSN
- D. LCUOD

Choose the **correct** answer from the options given below:

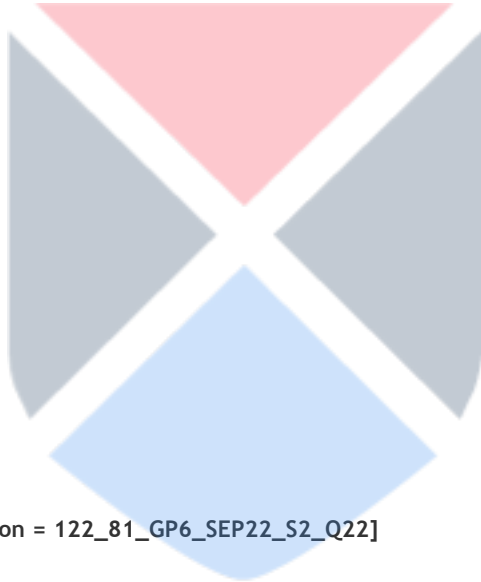
- 1. A only
- 2. B only
- 3. C only
- 4. D only

नीचे दिए गए सूत्र को इस प्रकार सुलझाएँ कि अर्थपूर्ण शब्द बने तथा तदुपरांत विषम को ढूँढें :-

- A. EIWNTR
- B. UMRSME
- C. PIGRSN
- D. LCUOD

नीचे दिए गए विकल्पों में से सही उत्तर चुनें :

- 1. केवल A
- 2. केवल B
- 3. केवल C
- 4. केवल D



[Question ID = 4395][Question Description = 122_81_GP6_SEP22_S2_Q22]

- 1. 1 [Option ID = 17577]
- 2. 2 [Option ID = 17578]
- 3. 3 [Option ID = 17579]
- 4. 4 [Option ID = 17580]

18)

What shall be the value when 0.07 is divided by 350?

- 1. 0.0002
- 2. 0.002
- 3. 0.02
- 4. 0.00002

जब 0.07 को 350 से भाग किया जाएगा तो क्या मान प्राप्त होगा ?

- 1. 0.0002
- 2. 0.002
- 3. 0.02
- 4. 0.00002

[Question ID = 4396][Question Description = 123_81_GP6_SEP22_S2_Q23]

1. 1 [Option ID = 17581]
2. 2 [Option ID = 17582]
3. 3 [Option ID = 17583]
4. 4 [Option ID = 17584]

19)

Six persons went to a hotel for a dinner. Five of them spent Rs 150 each on their meals, while the sixth person spent Rs 80 more than the average expenditure of all the six persons. What is the total money spent by all the six persons?

1. 996
2. 999
3. 1000
4. 1001

छह लोग रात्रि भोजन के लिए होटल में जाते हैं। उनमें पाँच व्यक्तियों में से प्रत्येक अपने भोजन पर ₹150 खर्च करता है। जबकि छठा व्यक्ति सभी छह व्यक्तियों के औसत खर्च से ₹80 अधिक खर्च करता है। सभी छह व्यक्तियों द्वारा कुल कितनी धन राशि खर्च की गई ?

1. ₹ 996
2. ₹ 999
3. ₹ 1000
4. ₹ 1001

[Question ID = 4397][Question Description = 124_81_GP6_SEP22_S2_Q24]

1. 1 [Option ID = 17585]
2. 2 [Option ID = 17586]
3. 3 [Option ID = 17587]
4. 4 [Option ID = 17588]

20)

The selling price of 30 fans is equal to the purchase price of 25 fans. What is the profit or loss in percentage?

1. A gain of $16\frac{2}{3}\%$
2. A loss of 15%
3. A loss of $16\frac{2}{3}\%$
4. No gain, no loss

30 पंखों का बिक्री मूल्य 25 पंखों के खरीद मूल्य के बराबर है। लाभ अथवा हानि प्रतिशत में कितनी है ?

1. $16\frac{2}{3}\%$ लाभ
2. 15% हानि
3. $16\frac{2}{3}\%$ हानि
4. न हानि, न लाभ

[Question ID = 4398][Question Description = 125_81_GP6_SEP22_S2_Q25]

1. 1 [Option ID = 17589]
2. 2 [Option ID = 17590]
3. 3 [Option ID = 17591]
4. 4 [Option ID = 17592]

21)

In Classical Square of Opposition, if 'Some S is P' is given as true then which of the following could be immediately inferred from it?

- A. 'Some S is not P' is false
- B. 'Some S is not P' is true
- C. 'No S is P' is false
- D. 'All S is P' is undetermined
- E. 'Some S is not P' is undetermined

Choose the **correct** answer from the options given below:

- 1. A, C and D only
- 2. C, D and E only
- 3. B, C and D only
- 4. B and C only

विरोधों के शास्त्रीय चतुर्भुज में 'कुछ S, P होते हैं', को यदि सही माना गया हो तो निम्न में से किसको प्रत्यक्ष रूप से अनुमानित किया जा सकता है ?

- A. 'कुछ S, P नहीं है', गलत है
- B. 'कुछ S, P नहीं है', सत्य है
- C. 'कोई S, P नहीं है', गलत है
- D. 'सभी S, P है', अनिर्धारित है
- E. 'कुछ S, P नहीं है', अनिर्धारित है

नीचे दिए गए विकल्पों में से सही उत्तर चुनें :

- 1. केवल A, C और D
- 2. केवल C, D और E
- 3. केवल B, C और D
- 4. केवल B और C

[Question ID = 4399][Question Description = 126_81_GP6_SEP22_S2_Q26]

- 1. 1 [Option ID = 17593]
- 2. 2 [Option ID = 17594]
- 3. 3 [Option ID = 17595]
- 4. 4 [Option ID = 17596]



22)

A fallacy in which the conclusion is stated or assumed within one of the premises is known severally as:

- A. *Petitio Principii*
- B. Irrelevant Conclusion
- C. Begging the Question
- D. Fallacy of Composition
- E. Circular argument

Choose the **correct** answer from the options given below:

- 1. A, D and E only
- 2. C and D only
- 3. B, C and E only
- 4. A, C and E only

कोई तर्क दोष जिसमें निष्कर्ष को एक आधार वाक्य के रूप के अंतर्गत रेखांकित किया गया हो अथवा माना गया हो उसे विभिन्न प्रकारों से क्या कहा जाता है।

- A. पिटिशियो प्रिंसिपी
- B. अप्रासंगिक निष्कर्ष
- C. आत्माश्रय दोष
- D. संयोजन का तर्क-दोष
- E. चक्रक दोष

- 1. केवल A, D और E
- 2. केवल C और D
- 3. केवल B, C और E
- 4. केवल A, C और E

[Question ID = 4400][Question Description = 127_81_GP6_SEP22_S2_Q27]

- 1. 1 [Option ID = 17597]
- 2. 2 [Option ID = 17598]
- 3. 3 [Option ID = 17599]
- 4. 4 [Option ID = 17600]

23)

Analogical Arguments are:

- 1. Deductive in nature
- 2. Inductive in nature
- 3. Valid arguments but fallacious
- 4. Invalid arguments

सदृशमूलक तर्क हैं :

1. निगमात्मक प्रकृति रूपी
2. आगात्मक प्रकृति रूपी
3. वैध परंतु दोषयुक्त तर्क
4. अवैध तर्क

[Question ID = 4401][Question Description = 128_81_GP6_SEP22_S2_Q28]

1. 1 [Option ID = 17601]
2. 2 [Option ID = 17602]
3. 3 [Option ID = 17603]
4. 4 [Option ID = 17604]

24)

Given below are two statements, one is labelled as **Assertion A** and the other is labelled as **Reason R**.

Assertion A: According to Classical Indian School of Logic (Nyāya), it is desirable but not necessary to offer an example in a syllogistic argument or inference.

Reason R: Example shows that there is at least one existent object or case in the world in which the middle and major terms co-exist.

In light of the above statements, choose the **most appropriate** answer from the options given below.

1. Both **A** and **R** are correct and **R** is the correct explanation of **A**.
2. Both **A** and **R** are correct but **R** is NOT the correct explanation of **A**.
3. **A** is correct but **R** is not correct.
4. **A** is not correct but **R** is correct.

नीचे दो कथन दिए गए हैं : एक को अभिकथन (A) और दूसरे को तर्क (R) कहा गया है।

अभिकथन (A) : शास्त्रीय भारतीय न्याय मत के अनुसार किसी न्याय वाक्य अथवा अनुमान का उदाहरण देना वांछनीय है, किंतु अनिवार्य नहीं।

कारण (R) : उदाहरण यह दर्शाता है कि कम से कम एक अस्तित्ववान वस्तु या सांसारिक स्थिति मौजूद है जिसमें मध्य पद और प्रमुख पद सह-विद्यमान हैं।

उपर्युक्त कथनों के आलोक में निम्नांकित विकल्पों में से सही उत्तर चुनें :

1. (A) और (R) दोनों सही हैं और (R), (A) की सही व्याख्या है।
2. (A) और (R) दोनों सही हैं परन्तु (R), (A) की सही व्याख्या नहीं है।
3. (A) सही है परन्तु (R) सही नहीं है।
4. (A) सही नहीं है परन्तु (R) सही है।

[Question ID = 4402][Question Description = 129_81_GP6_SEP22_S2_Q29]

1. 1 [Option ID = 17605]
2. 2 [Option ID = 17606]
3. 3 [Option ID = 17607]
4. 4 [Option ID = 17608]

25)

An American is told by his friend that Asian buffalo is like bison in such and such respects. When the American visits Asia and comes across a buffalo, he comes to know that the animal seen by him is buffalo. Which of the following means of knowledge (pramāṇa) is used in this instance?

1. Postulation (Arthāpatti)
2. Comparison (Upamāna)
3. Perception (Pratyakṣa)
4. Verbal Testimony (Śabda)

एक अमेरिकी को उसके मित्र द्वारा बताया गया कि एक एशियाई भैंस इन और इन सन्दर्भों में बाइसन (BISON) की तरह होता है। जब इस अमेरिकी ने एशिया की यात्रा की और वह भैंस के सम्मुख आया तो उसे यह पता चला कि उसने जिस प्राणी को देखा, वह भैंस है। निम्नलिखित में से किस ज्ञान माध्यम (प्रमाण) का इस्तेमाल उसके द्वारा उस समय किया गया ?

1. अर्थापत्ती
2. उपमान
3. प्रत्यक्ष
4. शब्द

[Question ID = 4403][Question Description = 130_81_GP6_SEP22_S2_Q30]

1. 1 [Option ID = 17609]
2. 2 [Option ID = 17610]
3. 3 [Option ID = 17611]
4. 4 [Option ID = 17612]

26)

Given below are two statements, one is labelled as **Assertion A** and the other is labelled as **Reason R**.

Assertion A : Static RAM is typically used for PC's main memory while Dynamic RAM is used for CPU cache.

Reason R : Static RAM is faster and more expensive than Dynamic RAM.

In light of the above statements, choose the **correct** answer from the options given below

1. Both **A** and **R** are true and **R** is the correct explanation of **A**
2. Both **A** and **R** are true but **R** is NOT the correct explanation of **A**
3. **A** is true but **R** is false
4. **A** is false but **R** is true

नीचे दो कथन दिए गए हैं : एक को अभिकथन (A) और दूसरे को कारण (R) कहा गया है।

अभिकथन (A) : 'स्टैटिक रैम' का विशिष्ट रूप से उपयोग 'पी सी' की मेम मेमोरी के लिए किया जाता है जबकि "डायनेमिक रैम" सी पी यू केशे के लिए प्रयोग की जाती है।

कारण (R) : "स्टैटिक रैम" "डायनेमिक रैम" की तुलना में अधिक तेज और महंगी होती है।

उपर्युक्त कथनों के आलोक में निम्नांकित विकल्पों में से सही उत्तर चुनें :

1. (A) और (R) दोनों सत्य हैं और (R), (A) की सही व्याख्या है।
2. (A) और (R) दोनों सत्य हैं परन्तु (R), (A) की सही व्याख्या नहीं है।
3. (A) सत्य है परन्तु (R) असत्य है।
4. (A) असत्य है परन्तु (R) सत्य है।

[Question ID = 4404][Question Description = 131_81_GP6_SEP22_S2_Q31]

- 1 [Option ID = 17613]
- 2 [Option ID = 17614]
- 3 [Option ID = 17615]
- 4 [Option ID = 17616]

27)

With respect to the Computers, what is the purpose of compressing a data file?

1. To encrypt the data
2. To occupy less storage space
3. To increase transmission time over a network
4. To allow the file to be read by a variety of applications

कम्प्यूटर के संदर्भ में एक डाटा फाइल को कम्प्रेस करने का क्या उद्देश्य होता है ?

1. डाटा को एन्क्रिप्ट करने के लिए
2. कम स्टोरेज स्पेस घेरने के लिए
3. एक नेटवर्क पर ट्रांसमिशन टाइम में वृद्धि करने के लिए
4. एक फाइल को विभिन्न अनुप्रयोगों द्वारा पढ़े जाने के लिए अनुमति देना

[Question ID = 4405][Question Description = 132_81_GP6_SEP22_S2_Q32]

- 1 [Option ID = 17617]
- 2 [Option ID = 17618]
- 3 [Option ID = 17619]
- 4 [Option ID = 17620]


28)

Which of the following peripheral devices are considered as only input devices?

- A. Microphone
- B. Projector
- C. Joy Stick
- D. Scanner
- E. Track-ball

Choose the **correct** answer from the options given below:

1. A, C, D and E only
2. A, B, D and E only
3. B, C, D and E only
4. A, B, C and D only



निम्नलिखित पेरिफेरल डिवाइसेस में से किन्हें केवल इनपुट डिवाइसेस माना जाता है ?

- A. माइक्रोफोन
- B. प्रोजेक्टर
- C. जॉय स्टिक
- D. स्कैनर
- E. ट्रैक बाल

नीचे दिए गए विकल्पों में से सही उत्तर चुनें :

- 1. केवल A, C, D और E
- 2. केवल A, B, D और E
- 3. केवल B, C, D और E
- 4. केवल A, B, C और D

[Question ID = 4406][Question Description = 133_81_GP6_SEP22_S2_Q33]

- 1. 1 [Option ID = 17621]
- 2. 2 [Option ID = 17622]
- 3. 3 [Option ID = 17623]
- 4. 4 [Option ID = 17624]

29)

A Company's word-processed daily report contains a graph from a spreadsheet. The report needs to display the most recent information from the spreadsheet. What feature should be used to insert the most up-to-date graph?

- 1. Copy and paste
- 2. Mail merge wizard
- 3. Automated importing
- 4. Linking and embedding

किसी कम्पनी की वर्ड-प्रोसेस्ड दैनिक रिपोर्ट में स्प्रेडशीट का एक ग्राफ शामिल होता है। रिपोर्ट में स्प्रेडशीट से अद्यतन सूचना को दिया जाना आवश्यक होता है। अद्यतन ग्राफ को अंतर्विष्ट करने के लिए किस गुण (फीचर) का उपयोग किया जाना चाहिए ?

- 1. कापी और पेस्ट
- 2. मेल मर्ज विज़र्ड
- 3. आटोमेटेड इम्पोर्टिंग
- 4. लिंकिंग और एम्बेडिंग

[Question ID = 4407][Question Description = 134_81_GP6_SEP22_S2_Q34]

- 1. 1 [Option ID = 17625]
- 2. 2 [Option ID = 17626]
- 3. 3 [Option ID = 17627]
- 4. 4 [Option ID = 17628]

30)

Which type of virus or destructive software could appear to be useful, but will actually cause damage once installed or run by a user?

1. Hoax
2. Worm
3. Trojan Horse
4. System Sector

किसी प्रयोक्ता को किस प्रकार का वायरस अथवा डैस्ट्रक्टिव सॉफ्टवेयर उपयोगी प्रतीत होता है, लेकिन एक बार सॉफ्टवेयर इंस्टॉल करने के बाद अथवा उसे चलाने पर वास्तव में उससे डैमेज होता है

1. होक्स (HOAX)
2. वार्म (WORM)
3. ट्रॉयन हार्स (TROJAN HORSE)
4. सिस्टम सेक्टर (SYSTEM SECTOR)

[Question ID = 4408][Question Description = 135_81_GP6_SEP22_S2_Q35]

1. 1 [Option ID = 17629]
2. 2 [Option ID = 17630]
3. 3 [Option ID = 17631]
4. 4 [Option ID = 17632]

31)

According to Noise Pollution (Regulation and Control) Rules in India, noise (L_{eq}) in educational institutions during night time (10pm-6am) must not exceed

1. 35 dB
2. 40 dB
3. 45 dB
4. 50 dB

भारत में ध्वनि प्रदूषण (विनियम एवं नियंत्रण) नियमावली के अनुसार, शैक्षिक संस्थाओं में रात 10 बजे अपराह्न से 6 बजे पूर्वाह्न तक की अवधि में ध्वनि (L_{eq}) का स्तर निम्नलिखित से अधिक नहीं होना चाहिए

1. 35 dB
2. 40 dB
3. 45 dB
4. 50 dB

[Question ID = 4409][Question Description = 136_81_GP6_SEP22_S2_Q36]

1. 1 [Option ID = 17633]
2. 2 [Option ID = 17634]
3. 3 [Option ID = 17635]
4. 4 [Option ID = 17636]

32)

The percentage increase in carbon dioxide concentration in atmosphere from pre-industrial times is approximately

1. 55 %
2. 50 %
3. 74 %
4. 62 %

औद्योगिक काल से पहले से वातावरण में कार्बन डाइऑक्साइड सांद्रता में प्रतिशत वृद्धि लगभग है :

1. 55%
2. 50%
3. 74%
4. 62%

[Question ID = 4410][Question Description = 137_81_GP6_SEP22_S2_Q37]

1. 1 [Option ID = 17637]
2. 2 [Option ID = 17638]
3. 3 [Option ID = 17639]
4. 4 [Option ID = 17640]

33)

The highest nonzero dose at which no toxic effect is observed in a study on animals is called

1. LD₅₀
2. NOAEL
3. LOAEL
4. NOEFF

अधिकतम गैर शून्य मात्रा जिस पर कोई भी विषाक्त प्रभाव जानवरों पर अध्ययन में नहीं देखा जाता है, निम्नलिखित कही जाती है :

1. LD₅₀
2. NOAEL
3. LOAEL
4. NOEFF

[Question ID = 4411][Question Description = 138_81_GP6_SEP22_S2_Q38]

1. 1 [Option ID = 17641]
2. 2 [Option ID = 17642]
3. 3 [Option ID = 17643]
4. 4 [Option ID = 17644]

34)

Given below are two statements, one is labelled as **Assertion A** and the other is labelled as **Reason R**.

Assertion A: Hybrid Electric Vehicles' (HEVs) fuel running cost is lesser than Electric Vehicles (EVs).

Reason R: Hybrid Electric Vehicles have both an internal combustion engine and an onboard electric power generation system.

In light of the above statements, choose the **most appropriate** answer from the options given below

1. Both **A** and **R** are correct and **R** is the correct explanation of **A**
2. Both **A** and **R** are correct but **R** is NOT the correct explanation of **A**
3. **A** is correct but **R** is not correct
4. **A** is not correct but **R** is correct

नीचे दो कथन दिए गए हैं : एक को अभिकथन (A) और दूसरे को कारण (R) कहा गया है।

अभिकथन (A) : हाइब्रिड इलेक्ट्रिक वाहनों (HEVs) की ईंधन चालन लागत इलेक्ट्रिक वाहन (EVs) से कम है।

कारण (R) : हाइब्रिड इलेक्ट्रिक वाहन में आंतरिक दहन ईंजन और एक ऑनबोर्ड इलेक्ट्रिक विद्युत उत्पादन प्रणाली दोनों होते हैं।

उपर्युक्त कथनों के आलोक में निम्नांकित विकल्पों में से सही उत्तर चुनें :

1. (A) और (R) दोनों सही हैं और (R), (A) की सही व्याख्या है।
2. (A) और (R) दोनों सही हैं परन्तु (R), (A) की सही व्याख्या नहीं है।
3. (A) सही है परन्तु (R) सही नहीं है।
4. (A) सही नहीं है परन्तु (R) सही है।

[Question ID = 4412][Question Description = 139_81_GP6_SEP22_S2_Q39]

1. 1 [Option ID = 17645]
2. 2 [Option ID = 17646]
3. 3 [Option ID = 17647]
4. 4 [Option ID = 17648]

35)

What is the correct chronological order of sequence from older to newer of the following agreement, summit and protocols?

- A. Paris Agreement
- B. Montreal Protocol
- C. Kyoto Protocol
- D. Rio Summit

Choose the **correct** answer from the options given below

1. A, B, C, D
2. B, D, C, A
3. A, C, D, B
4. B, C, D, A

निम्नलिखित समझौता, शिखर सम्मलेन एवं प्रोटोकॉलों का पुराने से नए कालानुक्रम में सही क्रम क्या है ?

- A. पेरिस समझौता
- B. मॉन्ट्रियल प्रोटोकॉल
- C. क्योटो प्रोटोकॉल
- D. रियो शिखर सम्मेलन

नीचे दिए गए विकल्पों में से सही उत्तर चुनें :

1. A, B, C, D
2. B, D, C, A
3. A, C, D, B
4. B, C, D, A

[Question ID = 4413][Question Description = 140_81_GP6_SEP22_S2_Q40]

1. 1 [Option ID = 17649]

2. 2 [Option ID = 17650]
3. 3 [Option ID = 17651]
4. 4 [Option ID = 17652]

36)

Which of the following universities is an Institute of Eminence?

1. Central University of Gujrat, Gandhinagar
2. University of Hyderabad
3. Tezpur University
4. Jamia Millia Islamia

निम्नलिखित विश्वविद्यालयों में से कौन सा लब्धप्रतिष्ठ संस्थान है ?

1. गुजरात केन्द्रीय विश्वविद्यालय, गांधीनगर
2. हैदराबाद विश्वविद्यालय
3. तेजपुर विश्वविद्यालय
4. जामिया मिलिया इस्लामिया

[Question ID = 4414][Question Description = 141_81_GP6_SEP22_S2_Q41]

1. 1 [Option ID = 17653]
2. 2 [Option ID = 17654]
3. 3 [Option ID = 17655]
4. 4 [Option ID = 17656]

37)

Given below are two statements

Statement I: With Academic Bank of Credit facility in place, a student will be able to customize and design own degree, provided 50% of credit are from the higher education institutions awarding the degree.

Statement II: Credits once used or redeemed by a student cannot be used for any other formal purpose or course waivers.

In light of the above statements, choose the **most appropriate** answer from the options given below

1. Both Statement I and Statement II are correct
2. Both Statement I and Statement II are incorrect
3. Statement I is correct but Statement II is incorrect
4. Statement I is incorrect but Statement II is correct

नीचे दो कथन दिए गए हैं :

कथन - I : अकेडमिक बैंक ऑफ क्रेडिट सुविधा लागू होने के साथ, छात्र अपनी डिग्री को ग्राहकोनुकूल बनाने तथा डिजायन करने में सक्षम होंगे बशर्ते 50% क्रेडिट, डिग्री देने वाले उच्चतर शिक्षण संस्था से हो।

कथन - II : छात्र द्वारा क्रेडिट का उपयोग कर लेने अथवा उसे निस्तार कर लेने के बाद उसका उपयोग किसी अन्य औपचारिक उद्देश्य अथवा कोर्स से छूट के लिए नहीं किया जा सकता है।

उपर्युक्त कथनों के आलोक में निम्नलिखित विकल्पों में से सबसे उपयुक्त उत्तर चुनें :

1. कथन I और II दोनों सही हैं।
2. कथन I और II दोनों गलत हैं।
3. कथन I सही है, किन्तु कथन II गलत है।
4. कथन I गलत है, किन्तु कथन II सही है।

[Question ID = 4415][Question Description = 142_81_GP6_SEP22_S2_Q42]

1. 1 [Option ID = 17657]
2. 2 [Option ID = 17658]
3. 3 [Option ID = 17659]
4. 4 [Option ID = 17660]

38)

In a State government university or Central University, recommendation of the Selection Committee for the recruitment of the faculty is approved by the

1. Academic Council
2. Executive Council
3. Finance Committee
4. Chancellor of University

राज्य सरकार के विश्वविद्यालय या केन्द्रीय विश्वविद्यालय में, संकाय की भर्ती के लिए चयन समिति की सिफारिश को स्वीकृत निम्नलिखित द्वारा किया जाता है :

1. शैक्षिक परिषद
2. कार्यकारी परिषद
3. वित्त समिति
4. विश्वविद्यालय के कुलाधिपति

[Question ID = 4416][Question Description = 143_81_GP6_SEP22_S2_Q43]

1. 1 [Option ID = 17661]
2. 2 [Option ID = 17662]
3. 3 [Option ID = 17663]
4. 4 [Option ID = 17664]

39)

Environmental education encompasses the issues of

- A. Resource Consumption
- B. Environmental degradation
- C. Biodiversity loss
- D. Economic empowerment
- E. Climate change and its impact

Choose the **correct** answer from the options given below:

- 1. A, B, C and D only
- 2. A, B, C and E only
- 3. B, C, D and E only
- 4. B and E only

पर्यावरणीय शिक्षा में निम्नलिखित मुद्दे शामिल हैं :

- A. संसाधन उपभोग
- B. पर्यावरणीय अवनति
- C. जैव विविधता की हानि
- D. आर्थिक सशक्तिकरण
- E. जलवायु परिवर्तन एवं इसका प्रभाव

नीचे दिए गए विकल्पों में से सही उत्तर चुनें :

- 1. केवल A, B, C और D
- 2. केवल A, B, C और E
- 3. केवल B, C, D और E
- 4. केवल B और E



[Question ID = 4417][Question Description = 144_81_GP6_SEP22_S2_Q44]

- 1. 1 [Option ID = 17665]
- 2. 2 [Option ID = 17666]
- 3. 3 [Option ID = 17667]
- 4. 4 [Option ID = 17668]

40)

Given below are two statements

Statement I: The recommendations of the Radhakrishnan Commission in 1949 resemble those of Calcutta University Commission in 1917.

Statement II: The recommendations of the Mudaliar Commission in 1953 resemble those of John Sergent's post-war Educational Development Plan in 1944.

In light of the above statements, choose the **most appropriate** answer from the options given below

1. Both Statement I and Statement II are correct
2. Both Statement I and Statement II are incorrect
3. Statement I is correct but Statement II is incorrect
4. Statement I is incorrect but Statement II is correct

नीचे दो कथन दिए गए हैं :

कथन - I : 1949 में राधाकृष्णन आयोग की सिफारिशों 1917 में कलकत्ता विश्वविद्यालय आयोग की सिफारिशों के सदृश हैं।

कथन - II : 1953 में मुदलियर आयोग की सिफारिशों 1944 में जॉन सर्जेण्ट के युद्ध पश्चात शैक्षिक विकास योजना की सिफारिशों के सदृश है।

उपर्युक्त कथनों के आलोक में निम्नलिखित विकल्पों में से सही उत्तर चुनें :

1. कथन I और II दोनों सही हैं।
2. कथन I और II दोनों गलत हैं।
3. कथन I सही है, किन्तु कथन II गलत है।
4. कथन I गलत है, किन्तु कथन II सही है।

[Question ID = 4418][Question Description = 145_81_GP6_SEP22_S2_Q45]

1. 1 [Option ID = 17669]
2. 2 [Option ID = 17670]
3. 3 [Option ID = 17671]
4. 4 [Option ID = 17672]

Topic:- 22 GP_29SEPT22_SH1_S2_C

1) **Read the given passage and answer the questions that follow**

Human beings are not completely free to socially construct their own behaviour. They have a shared biological nature. The nature is remarkably uniform throughout the world, given the fact that most contemporary humans outside of Africa descended from a single relatively small group of individuals some fifty thousand years ago. This shared nature does not determine political behaviour, but it frames and limits the nature of institutions that are possible. It also means that human politics is subject to certain recurring patterns of behaviour across time and across cultures. This shared nature can be described in certain propositions like that the human beings never existed in a pre-social state.

The idea that human beings at one time existed as isolated individuals, who interacted either through anarchic violence (Hobbes) or in pacific ignorance of one another (Rousseau), is not correct. Human beings as well as their primate ancestors always lived in kin-based social groups of varying sizes. Indeed, they lived in these social units for a sufficiently long period of time that the cognitive and emotional faculties needed to promote social cooperation evolved and became hardwired in their genetic endowments. This means that a rational-choice model of collective action, in which individuals calculate that they will be better off by cooperating with one another, vastly understates the degree of social cooperation that exists in human societies and misunderstands the motives that underlie it.

The next one is the idea of natural human sociability. This is built around two principles, kin selection and reciprocal altruism. The principle of kin selection or inclusive fitness states that human beings will act altruistically toward genetic relatives (or individuals believed to be genetic relatives) in rough proportion to their shared genes. The principle of reciprocal altruism says that human beings tend to develop relationships of mutual benefit or mutual harm as they interact with other individuals over time. Reciprocal altruism, unlike kin selection, does not depend on genetic relatedness: it does, however, depend upon repeated, direct personal interaction.

The shared biological nature of humans influences

1. The division of social constructs
2. The nature of institutions in society
3. The political behaviour of people
4. The formation of social groups

निम्नलिखित उद्धरण को पढ़ें और सम्बंधित पाँच प्रश्नों के उत्तर दें।

मानवजाति अपने व्यवहार को सामाजिक तौर पर निर्माण करने के लिए पूर्ण रूप से स्वतंत्र नहीं है उनकी जैविकीय प्रकृति समान होती है, पूरे विश्व में प्रकृति एक सामान होती है इस तथ्य को देखते हुए कि अधिकांश समकालिक मानवों की उत्पत्ति अफ्रीका के बाहर एक अपेक्षाकृत छोटे समूह के द्वारा लगभग 50 हजार वर्ष पहले हुई थी। यह परस्पर प्रकृति राजनीतिक व्यवहार को निर्धारित नहीं करती है लेकिन यह संभावित संस्थाओं की प्रकृति निर्मित और सीमित करती है। इसका तात्पर्य यह है कि समय और संस्कृतियों के क्रम में मानव राजनीति व्यवहार के कुछ विशिष्ट तरीकों से विनिर्दिष्ट होती है, इस परस्पर प्रकृति को कुछ हद तक इस तरह वर्णित किया जा सकता है कि मानवजाति समाज पूर्व स्थिति से पहले अस्तित्व में नहीं था यह विचार कि मानव जाति एक समय में पृथक व्यक्ति के तौर पर अस्तित्व में थी जो आपस में अराजकतापूर्ण हिंसा (हॉब्स) द्वारा या एक दूसरे से प्रशांत अज्ञानतावश मिलते थे (रूसो) ऐसा कहना सही नहीं है। मानवजाति और उनके पुराप्राचीन पूर्वज हमेशा आपसी संबंधों के आधार पर विभिन्न आकार के सामाजिक समूहों में रहते थे। वास्तव में वे इन सामाजिक एककों में लम्बे समय तक रहे जिससे सामाजिक सहयोग के लिए आवश्यक प्रज्ञामूलक और भावनात्मक क्षमतायें विकसित हुयीं और वे अपने जीन अक्षयनिधि से दृढ़तापूर्वक जुड़ गयीं। इसका अर्थ यह हुआ कि सामूहिक कार्य का विवेकपूर्ण-विकल्प प्रतिदर्श, जिसमें एक व्यक्ति यह समझता है कि वह आपस में सहयोग करके ही बेहतर ढंग से रह सकते हैं, बहुत हद तक सामाजिक सहयोग के महत्त्व को कमतर दिखाता है, जो मानव समाज में विद्यमान होता है और जो इसके अंतर्गत निहित इरादों को ठीक से नहीं समझता है। अगला विचार प्राकृतिक मानवीय सामाजिकता का है। यह दो सिद्धांतों पर आधारित है जो रिश्तेदारों का चयन और परस्पर परोपकारिता पर निर्भर है। यह रिश्तेदार चयन या समावेशी अनुकूलता का सिद्धांत दर्शाता है कि मानवीय क्रिया की परोपकारिता जैनेटिक संबंधों की ओर (या ऐसे व्यक्ति जो जैनेटिक रूप से एक दूसरे से जुड़े हों) साधारण तौर पर उनके साझा जीन्स के समानुपाती होती है। परस्पर परोपकारिता का सिद्धांत यह कहता है कि मानव का स्वभाव आपसी सम्बंध स्थापित करने का है जो परस्पर लाभ या परस्पर हानि पर आधारित होता है जब वह समय के दौरान एक दूसरे से मिलते जुलते हैं। परस्पर परोपकारिता रिश्तेदार चयन के विपरीत जैनेटिक सम्बद्धता पर आधारित नहीं होता है हालांकि यह बार-बार प्रत्यक्ष व्यक्तिगत मेलजोल पर निर्भर है।

मानव की साझा जैविक प्रकृति किसे प्रभावित करती है ?

1. सामाजिक ताने-बाने का विभाजन
2. समाज में संस्थाओं की प्रकृति
3. लोगों का राजनितिक व्यवहार
4. सामाजिक समूहों की रचना

[Question ID = 4419][Question Description = 146_81_GP6_SEP22_S2_Q46]

1. 1 [Option ID = 17673]
2. 2 [Option ID = 17674]
3. 3 [Option ID = 17675]
4. 4 [Option ID = 17676]

2) **Read the given passage and answer the questions that follow**

Human beings are not completely free to socially construct their own behaviour. They have a shared biological nature. The nature is remarkably uniform throughout the world, given the fact that most contemporary humans outside of Africa descended from a single relatively small group of individuals some fifty thousand years ago. This shared nature does not determine political behaviour, but it frames and limits the nature of institutions that are possible. It also means that human politics is subject to certain recurring patterns of behaviour across time and across cultures. This shared nature can be described in certain propositions like that the human beings never existed in a pre-social state.

The idea that human beings at one time existed as isolated individuals, who interacted either through anarchic violence (Hobbes) or in pacific ignorance of one another (Rousseau), is not correct. Human beings as well as their primate ancestors always lived in kin-based social groups of varying sizes. Indeed, they lived in these social units for a sufficiently long period of time that the cognitive and emotional faculties needed to promote social cooperation evolved and became hardwired in their genetic endowments. This means that a rational-choice model of collective action, in which individuals calculate that they will be better off by cooperating with one another, vastly understates the degree of social cooperation that exists in human societies and misunderstands the motives that underlie it.

The next one is the idea of natural human sociability. This is built around two principles, kin selection and reciprocal altruism. The principle of kin selection or inclusive fitness states that human beings will act altruistically toward genetic relatives (or individuals believed to be genetic relatives) in rough proportion to their shared genes. The principle of reciprocal altruism says that human beings tend to develop relationships of mutual benefit or mutual harm as they interact with other individuals over time. Reciprocal altruism, unlike kin selection, does not depend on genetic relatedness: it does, however, depend upon repeated, direct personal interaction.

Human beings did not exist in a pre-social state due to

1. Social kinsfolk
2. Human politics across cultures
3. Institutional limitations
4. Absence of individual independence

निम्नलिखित उद्धरण को पढ़ें और सम्बंधित पाँच प्रश्नों के उत्तर दें।

मानवजाति अपने व्यवहार को सामाजिक तौर पर निर्माण करने के लिए पूर्ण रूप से स्वतंत्र नहीं है उनकी जैविकीय प्रकृति समान होती है, पूरे विश्व में प्रकृति एक सामान होती है इस तथ्य को देखते हुए कि अधिकांश समकालिक मानवों की उत्पत्ति अफ्रीका के बाहर एक अपेक्षाकृत छोटे समूह के द्वारा लगभग 50 हजार वर्ष पहले हुई थी। यह परस्पर प्रकृति राजनीतिक व्यवहार को निर्धारित नहीं करती है लेकिन यह संभावित संस्थाओं की प्रकृति निर्मित और सीमित करती है। इसका तात्पर्य यह है कि समय और संस्कृतियों के क्रम में मानव राजनीति व्यवहार के कुछ विशिष्ट तरीकों से विनिर्दिष्ट होती है, इस परस्पर प्रकृति को कुछ हद तक इस तरह वर्णित किया जा सकता है कि मानवजाति समाज पूर्व स्थिति से पहले अस्तित्व में नहीं था यह विचार कि मानव जाति एक समय में पृथक व्यक्ति के तौर पर अस्तित्व में थी जो आपस में अराजकतापूर्ण हिंसा (हॉब्स) द्वारा या एक दूसरे से प्रशांत अज्ञानतावश मिलते थे (रूसो) ऐसा कहना सही नहीं है। मानवजाति और उनके पुराप्राचीन पूर्वज हमेशा आपसी संबंधों के आधार पर विभिन्न आकार के सामाजिक समूहों में रहते थे। वास्तव में वे इन सामाजिक एककों में लम्बे समय तक रहे जिससे सामाजिक सहयोग के लिए आवश्यक प्रज्ञामूलक और भावनात्मक क्षमतायें विकसित हुयीं और वे अपने जीन अक्षयनिधि से दृढ़तापूर्वक जुड़ गयीं। इसका अर्थ यह हुआ कि सामूहिक कार्य का विवेकपूर्ण-विकल्प प्रतिदर्श, जिसमें एक व्यक्ति यह समझता है कि वह आपस में सहयोग करके ही बेहतर ढंग से रह सकते हैं, बहुत हद तक सामाजिक सहयोग के महत्त्व को कमतर दिखाता है, जो मानव समाज में विद्यमान होता है और जो इसके अंतर्गत निहित इरादों को ठीक से नहीं समझता है। अगला विचार प्राकृतिक मानवीय सामाजिकता का है। यह दो सिद्धांतों पर आधारित है जो रिश्तेदारों का चयन और परस्पर परोपकारिता पर निर्भर है। यह रिश्तेदार चयन या समावेशी अनुकूलता का सिद्धांत दर्शाता है कि मानवीय क्रिया की परोपकारिता जैनेटिक संबंधों की ओर (या ऐसे व्यक्ति जो जैनेटिक रूप से एक दूसरे से जुड़े हों) साधारण तौर पर उनके साझा जीन्स के समानुपाती होती है। परस्पर परोपकारिता का सिद्धांत यह कहता है कि मानव का स्वभाव आपसी सम्बंध स्थापित करने का है जो परस्पर लाभ या परस्पर हानि पर आधारित होता है जब वह समय के दौरान एक दूसरे से मिलते जुलते हैं। परस्पर परोपकारिता रिश्तेदार चयन के विपरीत जैनेटिक सम्बद्धता पर आधारित नहीं होता है हालांकि यह बार-बार प्रत्यक्ष व्यक्तिगत मेलजोल पर निर्भर है।

किस कारण मानव पूर्व-सामाजिक स्थिति में नहीं रहा ?

1. सामाजिक जातिवर्ग
2. समग्र संस्कृतियों में मानव राजनीति
3. संस्थागत सीमाएँ
4. व्यक्तिगत स्वतंत्रता का आभाव

[Question ID = 4420][Question Description = 147_81_GP6_SEP22_S2_Q47]

1. 1 [Option ID = 17677]
2. 2 [Option ID = 17678]
3. 3 [Option ID = 17679]
4. 4 [Option ID = 17680]

3) **Read the given passage and answer the questions that follow**

Human beings are not completely free to socially construct their own behaviour. They have a shared biological nature. The nature is remarkably uniform throughout the world, given the fact that most contemporary humans outside of Africa descended from a single relatively small group of individuals some fifty thousand years ago. This shared nature does not determine political behaviour, but it frames and limits the nature of institutions that are possible. It also means that human politics is subject to certain recurring patterns of behaviour across time and across cultures. This shared nature can be described in certain propositions like that the human beings never existed in a pre-social state.

The idea that human beings at one time existed as isolated individuals, who interacted either through anarchic violence (Hobbes) or in pacific ignorance of one another (Rousseau), is not correct. Human beings as well as their primate ancestors always lived in kin-based social groups of varying sizes. Indeed, they lived in these social units for a sufficiently long period of time that the cognitive and emotional faculties needed to promote social cooperation evolved and became hardwired in their genetic endowments. This means that a rational-choice model of collective action, in which individuals calculate that they will be better off by cooperating with one another, vastly understates the degree of social cooperation that exists in human societies and misunderstands the motives that underlie it.

The next one is the idea of natural human sociability. This is built around two principles, kin selection and reciprocal altruism. The principle of kin selection or inclusive fitness states that human beings will act altruistically toward genetic relatives (or individuals believed to be genetic relatives) in rough proportion to their shared genes. The principle of reciprocal altruism says that human beings tend to develop relationships of mutual benefit or mutual harm as they interact with other individuals over time. Reciprocal altruism, unlike kin selection, does not depend on genetic relatedness: it does, however, depend upon repeated, direct personal interaction.

From the author's point of view, the main characteristic of human society has been

1. Anarchic violence
2. Pacific ignorance of one another
3. Kinship based social groups
4. Calculated individual relations

निम्नलिखित उद्धरण को पढ़ें और सम्बंधित पाँच प्रश्नों के उत्तर दें।

मानवजाति अपने व्यवहार को सामाजिक तौर पर निर्माण करने के लिए पूर्ण रूप से स्वतंत्र नहीं है उनकी जैविकीय प्रकृति समान होती है, पूरे विश्व में प्रकृति एक सामान होती है इस तथ्य को देखते हुए कि अधिकांश समकालिक मानवों की उत्पत्ति अफ्रीका के बाहर एक अपेक्षाकृत छोटे समूह के द्वारा लगभग 50 हजार वर्ष पहले हुई थी। यह परस्पर प्रकृति राजनीतिक व्यवहार को निर्धारित नहीं करती है लेकिन यह संभावित संस्थाओं की प्रकृति निर्मित और सीमित करती है। इसका तात्पर्य यह है कि समय और संस्कृतियों के क्रम में मानव राजनीति व्यवहार के कुछ विशिष्ट तरीकों से विनिर्दिष्ट होती है, इस परस्पर प्रकृति को कुछ हद तक इस तरह वर्णित किया जा सकता है कि मानवजाति समाज पूर्व स्थिति से पहले अस्तित्व में नहीं था यह विचार कि मानव जाति एक समय में पृथक व्यक्ति के तौर पर अस्तित्व में थी जो आपस में अराजकतापूर्ण हिंसा (हॉब्स) द्वारा या एक दूसरे से प्रशांत अज्ञानतावश मिलते थे (रूसो) ऐसा कहना सही नहीं है। मानवजाति और उनके पुराप्राचीन पूर्वज हमेशा आपसी संबंधों के आधार पर विभिन्न आकार के सामाजिक समूहों में रहते थे। वास्तव में वे इन सामाजिक एककों में लम्बे समय तक रहे जिससे सामाजिक सहयोग के लिए आवश्यक प्रज्ञामूलक और भावनात्मक क्षमतायें विकसित हुयीं और वे अपने जीन अक्षयनिधि से दृढ़तापूर्वक जुड़ गयीं। इसका अर्थ यह हुआ कि सामूहिक कार्य का विवेकपूर्ण-विकल्प प्रतिदर्श, जिसमें एक व्यक्ति यह समझता है कि वह आपस में सहयोग करके ही बेहतर ढंग से रह सकते हैं, बहुत हद तक सामाजिक सहयोग के महत्त्व को कमतर दिखाता है, जो मानव समाज में विद्यमान होता है और जो इसके अंतर्गत निहित इरादों को ठीक से नहीं समझता है। अगला विचार प्राकृतिक मानवीय सामाजिकता का है। यह दो सिद्धांतों पर आधारित है जो रिश्तेदारों का चयन और परस्पर परोपकारिता पर निर्भर है। यह रिश्तेदार चयन या समावेशी अनुकूलता का सिद्धांत दर्शाता है कि मानवीय क्रिया की परोपकारिता जैनेटिक संबंधों की ओर (या ऐसे व्यक्ति जो जैनेटिक रूप से एक दूसरे से जुड़े हों) साधारण तौर पर उनके साझा जीन्स के समानुपाती होती है। परस्पर परोपकारिता का सिद्धांत यह कहता है कि मानव का स्वभाव आपसी सम्बंध स्थापित करने का है जो परस्पर लाभ या परस्पर हानि पर आधारित होता है जब वह समय के दौरान एक दूसरे से मिलते जुलते हैं। परस्पर परोपकारिता रिश्तेदार चयन के विपरीत जैनेटिक सम्बद्धता पर आधारित नहीं होता है हालांकि यह बार-बार प्रत्यक्ष व्यक्तिगत मेलजोल पर निर्भर है।

लेखक के दृष्टिकोण से मानवीय समाज की मुख्य विशेषता निम्नलिखित है :

1. अराजकतापूर्ण हिंसा
2. एक दूसरे के प्रति शांतिप्रिय अनभिज्ञता
3. रिश्तेदार आधारित सामाजिक समूह
4. निर्धारित व्यक्तिगत सम्बंध

[Question ID = 4421][Question Description = 148_81_GP6_SEP22_S2_Q48]

1. 1 [Option ID = 17681]
2. 2 [Option ID = 17682]
3. 3 [Option ID = 17683]
4. 4 [Option ID = 17684]

4) **Read the given passage and answer the questions that follow**

Human beings are not completely free to socially construct their own behaviour. They have a shared biological nature. The nature is remarkably uniform throughout the world, given the fact that most contemporary humans outside of Africa descended from a single relatively small group of individuals some fifty thousand years ago. This shared nature does not determine political behaviour, but it frames and limits the nature of institutions that are possible. It also means that human politics is subject to certain recurring patterns of behaviour across time and across cultures. This shared nature can be described in certain propositions like that the human beings never existed in a pre-social state.

The idea that human beings at one time existed as isolated individuals, who interacted either through anarchic violence (Hobbes) or in pacific ignorance of one another (Rousseau), is not correct. Human beings as well as their primate ancestors always lived in kin-based social groups of varying sizes. Indeed, they lived in these social units for a sufficiently long period of time that the cognitive and emotional faculties needed to promote social cooperation evolved and became hardwired in their genetic endowments. This means that a rational-choice model of collective action, in which individuals calculate that they will be better off by cooperating with one another, vastly understates the degree of social cooperation that exists in human societies and misunderstands the motives that underlie it.

The next one is the idea of natural human sociability. This is built around two principles, kin selection and reciprocal altruism. The principle of kin selection or inclusive fitness states that human beings will act altruistically toward genetic relatives (or individuals believed to be genetic relatives) in rough proportion to their shared genes. The principle of reciprocal altruism says that human beings tend to develop relationships of mutual benefit or mutual harm as they interact with other individuals over time. Reciprocal altruism, unlike kin selection, does not depend on genetic relatedness: it does, however, depend upon repeated, direct personal interaction.

The concept of social cooperation involves

- A. Kin selection
- B. Cognitive faculty
- C. Emotional detachment
- D. Reciprocal altruism

Choose the correct option:

- 1. A and B only
- 2. B and C only
- 3. C and D only
- 4. A and D only

निम्नलिखित उद्धरण को पढ़ें और सम्बंधित पाँच प्रश्नों के उत्तर दें।

मानवजाति अपने व्यवहार को सामाजिक तौर पर निर्माण करने के लिए पूर्ण रूप से स्वतंत्र नहीं है उनकी जैविकीय प्रकृति समान होती है, पूरे विश्व में प्रकृति एक सामान होती है इस तथ्य को देखते हुए कि अधिकांश समकालिक मानवों की उत्पत्ति अफ्रीका के बाहर एक अपेक्षाकृत छोटे समूह के द्वारा लगभग 50 हजार वर्ष पहले हुई थी। यह परस्पर प्रकृति राजनीतिक व्यवहार को निर्धारित नहीं करती है लेकिन यह संभावित संस्थाओं की प्रकृति निर्मित और सीमित करती है। इसका तात्पर्य यह है कि समय और संस्कृतियों के क्रम में मानव राजनीति व्यवहार के कुछ विशिष्ट तरीकों से विनिर्दिष्ट होती है, इस परस्पर प्रकृति को कुछ हद तक इस तरह वर्णित किया जा सकता है कि मानवजाति समाज पूर्व स्थिति से पहले अस्तित्व में नहीं था यह विचार कि मानव जाति एक समय में पृथक व्यक्ति के तौर पर अस्तित्व में थी जो आपस में अराजकतापूर्ण हिंसा (हॉब्स) द्वारा या एक दूसरे से प्रशांत अज्ञानतावश मिलते थे (रूसो) ऐसा कहना सही नहीं है। मानवजाति और उनके पुराप्राचीन पूर्वज हमेशा आपसी संबंधों के आधार पर विभिन्न आकार के सामाजिक समूहों में रहते थे। वास्तव में वे इन सामाजिक एककों में लम्बे समय तक रहे जिससे सामाजिक सहयोग के लिए आवश्यक प्रज्ञामूलक और भावनात्मक क्षमतायें विकसित हुयीं और वे अपने जीन अक्षयनिधि से दृढ़तापूर्वक जुड़ गयीं। इसका अर्थ यह हुआ कि सामूहिक कार्य का विवेकपूर्ण-विकल्प प्रतिदर्श, जिसमें एक व्यक्ति यह समझता है कि वह आपस में सहयोग करके ही बेहतर ढंग से रह सकते हैं, बहुत हद तक सामाजिक सहयोग के महत्त्व को कमतर दिखाता है, जो मानव समाज में विद्यमान होता है और जो इसके अंतर्गत निहित इरादों को ठीक से नहीं समझता है। अगला विचार प्राकृतिक मानवीय सामाजिकता का है। यह दो सिद्धांतों पर आधारित है जो रिश्तेदारों का चयन और परस्पर परोपकारिता पर निर्भर है। यह रिश्तेदार चयन या समावेशी अनुकूलता का सिद्धांत दर्शाता है कि मानवीय क्रिया की परोपकारिता जैनेटिक संबंधों की ओर (या ऐसे व्यक्ति जो जैनेटिक रूप से एक दूसरे से जुड़े हों) साधारण तौर पर उनके साझा जीन्स के समानुपाती होती है। परस्पर परोपकारिता का सिद्धांत यह कहता है कि मानव का स्वभाव आपसी सम्बंध स्थापित करने का है जो परस्पर लाभ या परस्पर हानि पर आधारित होता है जब वह समय के दौरान एक दूसरे से मिलते जुलते हैं। परस्पर परोपकारिता रिश्तेदार चयन के विपरीत जैनेटिक सम्बद्धता पर आधारित नहीं होता है हालांकि यह बार-बार प्रत्यक्ष व्यक्तिगत मेलजोल पर निर्भर है।

सामाजिक सहयोग की अवधारणा में निम्नलिखित शामिल हैं

- A. रिश्तेदार चयन
 - B. प्रज्ञानात्मक तंत्र
 - C. भावनात्मक विलगाव
 - D. पारस्परिक परोपकार
1. केवल A और B
 2. केवल B और C
 3. केवल C और D
 4. केवल A और D

[Question ID = 4422][Question Description = 149_81_GP6_SEP22_S2_Q49]

1. 1 [Option ID = 17685]
2. 2 [Option ID = 17686]
3. 3 [Option ID = 17687]
4. 4 [Option ID = 17688]

5) **Read the given passage and answer the questions that follow**

Human beings are not completely free to socially construct their own behaviour. They have a shared biological nature. The nature is remarkably uniform throughout the world, given the fact that most contemporary humans outside of Africa descended from a single relatively small group of individuals some fifty thousand years ago. This shared nature does not determine political behaviour, but it frames and limits the nature of institutions that are possible. It also means that human politics is subject to certain recurring patterns of behaviour across time and across cultures. This shared nature can be described in certain propositions like that the human beings never existed in a pre-social state.

The idea that human beings at one time existed as isolated individuals, who interacted either through anarchic violence (Hobbes) or in pacific ignorance of one another (Rousseau), is not correct. Human beings as well as their primate ancestors always lived in kin-based social groups of varying sizes. Indeed, they lived in these social units for a sufficiently long period of time that the cognitive and emotional faculties needed to promote social cooperation evolved and became hardwired in their genetic endowments. This means that a rational-choice model of collective action, in which individuals calculate that they will be better off by cooperating with one another, vastly understates the degree of social cooperation that exists in human societies and misunderstands the motives that underlie it.

The next one is the idea of natural human sociability. This is built around two principles, kin selection and reciprocal altruism. The principle of kin selection or inclusive fitness states that human beings will act altruistically toward genetic relatives (or individuals believed to be genetic relatives) in rough proportion to their shared genes. The principle of reciprocal altruism says that human beings tend to develop relationships of mutual benefit or mutual harm as they interact with other individuals over time. Reciprocal altruism, unlike kin selection, does not depend on genetic relatedness: it does, however, depend upon repeated, direct personal interaction.

The passage recognises the fact that human sociability has

1. Political determinants
2. Rational choice model
3. Integrated collective action
4. Genetic linkage

निम्नलिखित उद्धरण को पढ़ें और सम्बंधित पाँच प्रश्नों के उत्तर दें।

मानवजाति अपने व्यवहार को सामाजिक तौर पर निर्माण करने के लिए पूर्ण रूप से स्वतंत्र नहीं है उनकी जैविकीय प्रकृति समान होती है, पूरे विश्व में प्रकृति एक सामान होती है इस तथ्य को देखते हुए कि अधिकांश समकालिक मानवों की उत्पत्ति अफ्रीका के बाहर एक अपेक्षाकृत छोटे समूह के द्वारा लगभग 50 हजार वर्ष पहले हुई थी। यह परस्पर प्रकृति राजनीतिक व्यवहार को निर्धारित नहीं करती है लेकिन यह संभावित संस्थाओं की प्रकृति निर्मित और सीमित करती है। इसका तात्पर्य यह है कि समय और संस्कृतियों के क्रम में मानव राजनीति व्यवहार के कुछ विशिष्ट तरीकों से विनिर्दिष्ट होती है, इस परस्पर प्रकृति को कुछ हद तक इस तरह वर्णित किया जा सकता है कि मानवजाति समाज पूर्व स्थिति से पहले अस्तित्व में नहीं था यह विचार कि मानव जाति एक समय में पृथक व्यक्ति के तौर पर अस्तित्व में थी जो आपस में अराजकतापूर्ण हिंसा (हॉब्स) द्वारा या एक दूसरे से प्रशांत अज्ञानतावश मिलते थे (रूसो) ऐसा कहना सही नहीं है। मानवजाति और उनके पुराप्राचीन पूर्वज हमेशा आपसी संबंधों के आधार पर विभिन्न आकार के सामाजिक समूहों में रहते थे। वास्तव में वे इन सामाजिक एककों में लम्बे समय तक रहे जिससे सामाजिक सहयोग के लिए आवश्यक प्रज्ञामूलक और भावनात्मक क्षमतायें विकसित हुयीं और वे अपने जीन अक्षयनिधि से दृढ़तापूर्वक जुड़ गयीं। इसका अर्थ यह हुआ कि सामूहिक कार्य का विवेकपूर्ण-विकल्प प्रतिदर्श, जिसमें एक व्यक्ति यह समझता है कि वह आपस में सहयोग करके ही बेहतर ढंग से रह सकते हैं, बहुत हद तक सामाजिक सहयोग के महत्त्व को कमतर दिखाता है, जो मानव समाज में विद्यमान होता है और जो इसके अंतर्गत निहित इरादों को ठीक से नहीं समझता है। अगला विचार प्राकृतिक मानवीय सामाजिकता का है। यह दो सिद्धांतों पर आधारित है जो रिश्तेदारों का चयन और परस्पर परोपकारिता पर निर्भर है। यह रिश्तेदार चयन या समावेशी अनुकूलता का सिद्धांत दर्शाता है कि मानवीय क्रिया की परोपकारिता जैनेटिक संबंधों की ओर (या ऐसे व्यक्ति जो जैनेटिक रूप से एक दूसरे से जुड़े हों) साधारण तौर पर उनके साझा जीन्स के समानुपाती होती है। परस्पर परोपकारिता का सिद्धांत यह कहता है कि मानव का स्वभाव आपसी सम्बंध स्थापित करने का है जो परस्पर लाभ या परस्पर हानि पर आधारित होता है जब वह समय के दौरान एक दूसरे से मिलते जुलते हैं। परस्पर परोपकारिता रिश्तेदार चयन के विपरीत जैनेटिक सम्बद्धता पर आधारित नहीं होता है हालांकि यह बार-बार प्रत्यक्ष व्यक्तिगत मेलजोल पर निर्भर है।

उद्धरण यह मानता है कि मानवीय सामाजिकता में निहित है

1. राजनीतिक निर्धारक
2. विवेक आधारित चयन प्रतिदर्श
3. समेकित सामूहिक कार्य
4. जैनेटिक सम्बद्धता

[Question ID = 4423][Question Description = 150_81_GP6_SEP22_S2_Q50]

1. 1 [Option ID = 17689]
2. 2 [Option ID = 17690]
3. 3 [Option ID = 17691]
4. 4 [Option ID = 17692]