

Test Date : 23 Feb 2023

Test Slot : Slot 2

Subject : 93-Tourism Administration and Management.

Sl. No.1
QBID:93001

In pre-modern India Sarais were used as the resting places for:

1. Army men
2. Merchants
3. Pilgrims
4. All the travelers

- (1) 1
(2) 2
(3) 3
(4) 4

पूर्व आधुनिक भारत में सराय निम्नलिखित में से किसके विश्राम स्थल के लिए प्रयुक्त होते थे?

1. सैनिकों के
2. व्यापारियों के
3. तीर्थयात्रियों के
4. सभी यात्रियों के

- (1) 1
(2) 2
(3) 3
(4) 4

1[Option ID=22501]
2[Option ID=22502]
3[Option ID=22503]
4[Option ID=22504]

Sl. No.2
QBID:93002

Badshah tomb marks the final resting place of the mother of:

1. Babur
2. Shah Jahan
3. Sultan Zain ul-Abidin
4. Bahadur Shah Zafar

- (1) 1
(2) 2
(3) 3
(4) 4

बादशाह मकबरा निम्नलिखित में से किसकी माता के अंतिम विश्राम स्थल के रूप में जाना जाता है?

1. बाबर
2. शाहजहाँ
3. सुल्तान जैनुलआबिदीन
4. बहादूरशाह जफर

- (1) 1

(2) 2

(3) 3

(4) 4

1[Option ID=22505]

2[Option ID=22506]

3[Option ID=22507]

4[Option ID=22508]

SI. No.3

QBID:93003

Utensils Museum is in:

1. Delhi
2. Ahmedabad
3. Kolkata
4. Hyderabad

(1) 1

(2) 2

(3) 3

(4) 4

बर्तन संग्रहालय कहाँ स्थित है?

1. दिल्ली
2. अहमदाबाद
3. कोलकाता
4. हैदराबाद

(1) 1

(2) 2

(3) 3

(4) 4

1[Option ID=22509]

2[Option ID=22510]

3[Option ID=22511]

4[Option ID=22512]

SI. No.4

QBID:93004

'International Museum day' is celebrated on the date indicated below:

1. January 20
2. March 20
3. May 18
4. June 18

(1) 1

(2) 2

(3) 3

(4) 4

'अन्तरराष्ट्रीय संग्रहालय दिवस' नीचे इंगित तिथियों में से कब मनाया जाता है?

1. 20 जनवरी
2. 20 मार्च
3. 18 मई
4. 18 जून

(1) 1

- (2) 2
(3) 3
(4) 4

1[Option ID=22513]
2[Option ID=22514]
3[Option ID=22515]
4[Option ID=22516]

SI. No.5
QBID:93005

Which is not the meal code used in Inflight Services?

1. Hot Buffet - H
2. Lunch - L
3. Continental Breakfast - V
4. Food Available for Purchase - F

- (1) 1
(2) 2
(3) 3
(4) 4

निम्नलिखित में से कौनसा उड़ान में भोजन का कोड नहीं है?

1. हॉट बुफे - H
2. लंच - L
3. कंटीनेन्टल ब्रेकफास्ट - V
4. क्रय के लिए भोजन उपलब्ध है - F

- (1) 1
(2) 2
(3) 3
(4) 4

1[Option ID=22517]
2[Option ID=22518]
3[Option ID=22519]
4[Option ID=22520]

SI. No.6
QBID:93006

Why taxi cabs are yellow in colour as introduced logically by John D Hertz?

1. Yellow is an official colour certified by Government
2. Yellow is an auspicious colour chosen by the Company
3. Yellow with a tint of red is a very prominent colour to see from a distance
4. Yellow is the colour used by taxi operator for obtaining license

- (1) 1
(2) 2
(3) 3
(4) 4

जॉन डी. हर्ट्ज ने पीले रंग में टैक्सी कैब्स को किस तार्किक रूप में प्रारम्भ किया?

1. पीला एक आधिकारीक रंग है, जो सरकार द्वारा प्रमाणित किया।
2. पीला एक शुभ रंग है, जो कंपनी द्वारा चुना गया है।
3. लाल कि झलक (टिंट) के साथ पीला एक अति-प्रमुख रंग है, जो दूर से दिखाई पड़ता है।
4. पीला वह रंग है, जो टैक्सी ऑपरेटर द्वारा लाइसेंस प्राप्त करने के लिए प्रयुक्त किया जाता है।

- (1) 1
- (2) 2
- (3) 3
- (4) 4

1[Option ID=22521]
2[Option ID=22522]
3[Option ID=22523]
4[Option ID=22524]

SI. No.7
QBID:93007

TGV, the first superspeed link in the French Rail Network between Paris and Lyon, stands for

- 1. Train Grande é Viterre
- 2. Transitee Group à Vitese
- 3. Train à Grand Vitesse
- 4. TEN à Grandeur Vite

- (1) 1
- (2) 2
- (3) 3
- (4) 4

पेरिस और लिओन के बीच फ्रांसीसी रेल नेटवर्क में प्रथम सुपरस्पीड लिंक - टी जी वी (TGV) का पुरा नाम है:

- 1. ट्रेन ग्रांदे इ वितेर्दे
- 2. ट्रांजिटी ग्रुप ए वितेसे
- 3. ट्रेन ए ग्रांद वितेस्से
- 4. टेन ए ग्रान्दियूर विते

- (1) 1
- (2) 2
- (3) 3
- (4) 4

1[Option ID=22525]
2[Option ID=22526]
3[Option ID=22527]
4[Option ID=22528]

SI. No.8
QBID:93008

The Yellow Sea is located between

- 1. China and Korea
- 2. Taiwan and Korea
- 3. The Philippines and Indonesia
- 4. Japan and the Korean Peninsula

- (1) 1
- (2) 2
- (3) 3
- (4) 4

पीत सागर किनके बीच अवस्थित है?

- 1. चीन और कोरिया
- 2. ताइवान और कोरिया
- 3. फिलीपींस और इंडोनेशिया
- 4. जापान और कोरियाई प्रायद्वीप

- (1) 1
- (2) 2
- (3) 3
- (4) 4

1[Option ID=22529]
2[Option ID=22530]
3[Option ID=22531]
4[Option ID=22532]

SI. No.9
QBID:93009

Mehrangarh Fort is located at:

- 1. Jodhpur
- 2. Bikaner
- 3. Jaipur
- 4. Udaipur

- (1) 1
- (2) 2
- (3) 3
- (4) 4

मेहरागढ़ दुर्ग कहाँ अवस्थित है?

- 1. जोधपुर
- 2. बीकानेर
- 3. जयपुर
- 4. उदयपुर

- (1) 1
- (2) 2
- (3) 3
- (4) 4

1[Option ID=22533]
2[Option ID=22534]
3[Option ID=22535]
4[Option ID=22536]



SI. No.10
QBID:93010

Handicrafts often grab tourist attraction. Finest silver filigree, locally called as 'Tarakasi' is a popular aritsan work of handicrafts from:

- 1. Odisha
- 2. Assam
- 3. Bihar
- 4. Gujarat

- (1) 1
- (2) 2
- (3) 3
- (4) 4

हस्तशिल्प प्रायः पर्यटकों का ध्यान आकर्षित करते हैं। स्थानीय भाषा में 'ताराकसी' नामक उत्कृष्ट चाँदी की जरदोज़ी किस राज्य की प्रसिद्ध हस्तशिल्प कारीगरी है?

1. ओडीशा
2. असम
3. बिहार
4. गुजरात

- (1) 1
(2) 2
(3) 3
(4) 4

1[Option ID=22537]
2[Option ID=22538]
3[Option ID=22539]
4[Option ID=22540]

SI. No.11
QBID:93011

Taj Mahal is a magnificent work of architecture. The architect of Taj Mahal was:

1. Ustad Ahmed Lahori
2. Ustad Amjad Lahori
3. Ustad Murad
4. Ustad Karim

- (1) 1
(2) 2
(3) 3
(4) 4

ताजमहल स्थापत्य कला की भव्य कृती है। ताजमहल के वास्तुकार कौन थे?

1. उस्ताद अहमद लाहोरी
2. उस्ताद अमज़द लाहोरी
3. उस्ताद मुराद
4. उस्ताद करीम

- (1) 1
(2) 2
(3) 3
(4) 4

1[Option ID=22545]
2[Option ID=22546]
3[Option ID=22547]
4[Option ID=22548]

SI. No.12
QBID:93012

Famous Instrumentalist Ustad Amjad Ali Khan is known for his excellence in playing

1. Flute
2. Sitar
3. Sarod
4. Santoor

- (1) 1
(2) 2

(3) 3

(4) 4

प्रसिद्ध वादक उस्ताद अमजद अली खान निम्नलिखित में से किसके वादन में अपनी उत्कृष्टता हेतु प्रसिद्ध है?

1. बाँसुरी
2. सितार
3. सरोद
4. संतूर

(1) 1

(2) 2

(3) 3

(4) 4

1[Option ID=22549]

2[Option ID=22550]

3[Option ID=22551]

4[Option ID=22552]

SI. No.13

QBID:93013

Which of the following is not the airport code?

1. MCO - Orlando
2. OGG - Kahului
3. ORD - Chicago
4. YHX - Calgary

(1) 1

(2) 2

(3) 3

(4) 4

निम्नलिखित में से कौन सा विमानपत्तन कोड नहीं है?

1. एम सी ओ - ऑरलैण्डो
2. ओ जी जी - कहलुई
3. ओ आर डी - शिकागो
4. वाई एच एक्स - कलगरी

(1) 1

(2) 2

(3) 3

(4) 4

1[Option ID=22553]

2[Option ID=22554]

3[Option ID=22555]

4[Option ID=22556]

SI. No.14

QBID:93014

Which airlines began service in 1925 flying as a Crop Duster?

1. Delta Airlines
2. American Airlines
3. Northwest Airlines
4. United Airlines

(1) 1

- (2) 2
- (3) 3
- (4) 4

निम्नलिखित में से किस एअरलाइन ने वर्ष 1925 में क्रॉप डस्टर के रूप में उड़ान सेवा का आरंभ किया?

- 1. डेल्टा एअरलाइन्स
- 2. अमेरिकन एअरलाइन्स
- 3. नार्थ वेस्ट एअरलाइन्स
- 4. युनाइटेड एअरलाइन्स

- (1) 1
- (2) 2
- (3) 3
- (4) 4

1[Option ID=22557]
2[Option ID=22558]
3[Option ID=22559]
4[Option ID=22560]

SI. No.15
QBID:93015

Which of the following is the correct conversion factor from miles to kilometers?

- 1. 0.621
- 2. 1.609
- 3. 1.886
- 4. 0.386

- (1) 1
- (2) 2
- (3) 3
- (4) 4

निम्नलिखित में से मील से किलोमीटर का सही संपरिवर्तन कारक कौन सा है?

- 1. 0.621
- 2. 1.609
- 3. 1.886
- 4. 0.386

- (1) 1
- (2) 2
- (3) 3
- (4) 4

1[Option ID=22561]
2[Option ID=22562]
3[Option ID=22563]
4[Option ID=22564]

SI. No.16
QBID:93016

How many countries are members of Schengen Area?

- 1. 20
- 2. 26
- 3. 28
- 4. 32

(1) 1

(2) 2

(3) 3

(4) 4

शेन्जेन क्षेत्र के सदस्य देश कितने हैं?

1. 20

2. 26

3. 28

4. 32

(1) 1

(2) 2

(3) 3

(4) 4

1[Option ID=22565]

2[Option ID=22566]

3[Option ID=22567]

4[Option ID=22568]

SI. No.17

QBID:93017

Which of the following is not a basic element but an optional add-in for an inclusive Package tour?

1. Accomodation at destination

2. Aircraft Seat

3. Return transfer from airport to accomodation

4. Excursion

(1) 1

(2) 2

(3) 3

(4) 4

निम्नलिखित में से कौन सा मूल तत्व नहीं है किंतु सम्मिलित यात्रा पैकेज के लिए वैकल्पिक रूप से जुड़ा होता है?

1. गंतव्य पर आवास

2. वायुमान सीट

3. हवाई अड्डे से आवास तक वापस पहुँचाना

4. भ्रमण

(1) 1

(2) 2

(3) 3

(4) 4

1[Option ID=22569]

2[Option ID=22570]

3[Option ID=22571]

4[Option ID=22572]

SI. No.18

QBID:93018

The Car rental industry dominated by Hertz, Avis, Budget and National in 1960's and 1970's is referred to as:

1. Big Four
2. Model T
3. Thrifty
4. ECMN

(1) 1

(2) 2

(3) 3

(4) 4

वर्ष 1960 और 1970 के दशक में कार किराया उद्योग पर हर्ट्ज, एविस, बजट और नेशनल का आधिपत्य था, जिन्हे निम्नलिखित नाम से जाना जाता था?

1. बिग फोर
2. मॉडल टी
3. थ्रिफ्टी
4. ई सी एम एन

(1) 1

(2) 2

(3) 3

(4) 4

1[Option ID=22573]

2[Option ID=22574]

3[Option ID=22575]

4[Option ID=22576]

SI. No.19
QBID:93019

Thomas Cook PLC, a British global online/offline Travel company, created in June 2007, was floated on the UK Stock market by the merger of thomas Cook AG and ___.

1. SOTC
2. MyTravel Group PLC
3. Thomson holidays
4. Le Passage

(1) 1

(2) 2

(3) 3

(4) 4

जून 2007 में सृजित ब्रिटिश वैश्विक ऑनलाइन/ऑफलाइन यात्रा कंपनी, थॉमस कुक पी एल सी, थॉमस कुक ए जी और निम्नलिखित में से किसके विलय से प्रारंभ हुई?

1. एस ओ टी सी
2. माई ट्रेवल ग्रुप पी एल सी
3. थामसन हॉलीडेज़
4. ले पैसेज

(1) 1

(2) 2

(3) 3

(4) 4

1[Option ID=22577]

2[Option ID=22578]

3[Option ID=22579]

4[Option ID=22580]

SI. No.20

QBID:93020

Demerara Sugar is also known as:

1. Castor Sugar
2. Sanding Sugar
3. Granulated Sugar
4. Turbinado Sugar

(1) 1

(2) 2

(3) 3

(4) 4

डेमरारा चीनी को किस अन्य नाम से भी जाना जाता है?

1. कैस्टर चीनी
2. सैंडींग चीनी
3. ग्रैन्युलेटेड चीनी
4. टर्बिनेडो चीनी

(1) 1

(2) 2

(3) 3

(4) 4

1[Option ID=22581]

2[Option ID=22582]

3[Option ID=22583]

4[Option ID=22584]

SI. No.21

QBID:93021

'Promoting Learn to Excel', which Indian Hotel Chain has launched e-learning courses for all:

1. The Lalit Group of Hotels
2. Taj Group of Hotels
3. Leela Group of Hotels
4. ITC Hotels

(1) 1

(2) 2

(3) 3

(4) 4

निम्नलिखित में से किस होटल श्रृंखला ने 'उत्कृष्टता-प्राप्ति के लिए सीखने को प्रोत्साहन देने' हेतु सभी के लिए ई-लर्निंग पाठ्यक्रम प्रारम्भ किया है?

1. द ललित ग्रुप ऑफ होटल्स
2. ताज ग्रुप ऑफ होटल्स
3. लीला ग्रुप ऑफ होटल्स
4. आई. टी. सी. होटल्स

(1) 1

(2) 2

(3) 3

(4) 4

1[Option ID=22585]

2[Option ID=22586]

3[Option ID=22587]
4[Option ID=22588]

SI. No.22
QBID:93022

To nurture and develop young ambassadors, Ministry of Tourism, Govt of India launched a campaign with one of the initiatives to develop 'Tourism Clubs'. This has also been in view of celebrations of India @75. The name of this campaign is:

1. Dekho Apna Desh
2. YUVA TOURISM
3. Vande Bharat
4. Young India

- (1) 1
(2) 2
(3) 3
(4) 4

भारत सरकार के पर्यटन मंत्रालय ने युवा दूतों को प्रोत्साहित करने और उनको विकसित करने के लिए 'पर्यटन क्लबों' के विकास की एक पहल के साथ अभियान प्रारम्भ किया। यह भारत की स्वतंत्रता के 75 वर्ष संबंधी समारोहों में भी परिलक्षित होता है। इस अभियान का नाम है:

1. देखो अपना देश
2. युवा पर्यटन
3. वंदे भारत
4. यंग इंडिया

- (1) 1
(2) 2
(3) 3
(4) 4

1[Option ID=22589]
2[Option ID=22590]
3[Option ID=22591]
4[Option ID=22592]



SI. No.23
QBID:93023

Which of the following is not the special guide book for searching hotel and restaurants internationally?

1. AAA guides
2. Gault Millau
3. Michelin Green
4. Mobil Guides

- (1) 1
(2) 2
(3) 3
(4) 4

निम्नलिखित में से होटल एवं रेस्तरां खोजने की विशेष अंतर्राष्ट्रीय गाइड बुक कौन सी नहीं है?

1. ए ए ए गाइड्स
2. गौल्ट मिलाव
3. मिशलिन ग्रीन
4. मोबिल ग्रीन

- (1) 1
(2) 2

(3) 3

(4) 4

1[Option ID=22593]

2[Option ID=22594]

3[Option ID=22595]

4[Option ID=22596]

SI. No.24

QBID:93024

For a hospitality firm the ability to provide quality service is the most effective means of ___ itself from competitors:

1. differentiating
2. positioning
3. identifying
4. distancing

(1) 1

(2) 2

(3) 3

(4) 4

किसी आतिथ्य कंपनी के लिए, उसके अपने स्पर्धियों से गुणवत्तापूर्ण सेवा प्रदान करने की सक्षमता स्वयं में सर्वाधिक प्रभावी साधन है?

1. विभेदकारी (व्यावर्तक)
2. अवस्थिति
3. पहचान करना
4. दूरी बनाना

(1) 1

(2) 2

(3) 3

(4) 4

1[Option ID=22597]

2[Option ID=22598]

3[Option ID=22599]

4[Option ID=22600]

SI. No.25

QBID:93025

Adoption of various forms of technology has enabled hospitality firms to enhance customers' ___ of the relative value of various service offers.

1. Attitudes
2. Motivations
3. Perceptions
4. Communications

(1) 1

(2) 2

(3) 3

(4) 4

प्रौद्योगिकी के विविध रूपों का अपनाये जाने ने विविध सेवा अवसर के सापेक्षिक मूल्य वाले ग्राहक के ___ को संवर्द्धित करने हेतु आतिथ्य कंपनियों को सक्षम बनाया है।

1. अभिवृद्धि
2. अभिप्रेरण
3. अवबोधन
4. संप्रेषण

- (1) 1
- (2) 2
- (3) 3
- (4) 4

1[Option ID=22601]
2[Option ID=22602]
3[Option ID=22603]
4[Option ID=22604]

SI. No.26
QBID:93026

Data mining has increased the effectiveness and efficiency of ___ in the hospitality and travel industries.

- 1. Personality Characteristics
- 2. Direct Marketing
- 3. Attitudes
- 4. Allocentric

- (1) 1
- (2) 2
- (3) 3
- (4) 4

डाटा माईनिंग ने आतिथ्य एवं यात्रा उद्योगों में ___ की प्रभाविता एवं कुशलता को बढ़ा दिया है?

- 1. व्यक्तित्व विशेषताएं
- 2. प्रत्यक्ष विपणन
- 3. अभिवृत्तियाँ
- 4. आवंटन

- (1) 1
- (2) 2
- (3) 3
- (4) 4

1[Option ID=22605]
2[Option ID=22606]
3[Option ID=22607]
4[Option ID=22608]

SI. No.27
QBID:93027

Brand is a ___

- 1. Reinforcement
- 2. Satisfaction
- 3. Equity
- 4. Symbol

- (1) 1
- (2) 2
- (3) 3
- (4) 4

ब्रांड है एक ___

1. पुनर्बलन
2. संतुष्टि
3. समता (निष्पक्षता)
4. प्रतीक

(1) 1

(2) 2

(3) 3

(4) 4

1[Option ID=22609]

2[Option ID=22610]

3[Option ID=22611]

4[Option ID=22612]

SI. No.28

QBID:93028

A methodological frame work for the "Aviation Satellite Account" (ASA) to measure the direct economic impact of aviation on the national economy in line with the System of National Accounts (SNA 2008) adopted by the UN Statistical Commission was developed by:

1. ATAG
2. ICAO
3. IATA
4. ACI

(1) 1

(2) 2

(3) 3

(4) 4

संयुक्त राष्ट्र सांख्यिकी आयोग द्वारा अंगीकृत सिस्टम ऑफ नेशनल अकाउंट (एस एन ए 2008) के साथ राष्ट्रीय अर्थव्यवस्था पर उड्डयन के प्रत्यक्ष आर्थिक प्रभाव के मापन के लिए 'उड्डयन उपग्रह अकाउंट' वर्गीकरण ढाँचा किसके द्वारा विकसित किया गया था?

1. ए टी ए जी (A T A G)
2. आई सी ए ओ (I C A O)
3. आई ए टी ए (I A T A)
4. ए सी आई (A C I)

(1) 1

(2) 2

(3) 3

(4) 4

1[Option ID=22613]

2[Option ID=22614]

3[Option ID=22615]

4[Option ID=22616]

SI. No.29

QBID:93029

To promote Buddhist tourism in India as a tourism product, Ministry of Tourism, Government of India in August, 2018 launched the website named

1. Landofbuddha.in
2. Indiathelandofbuddha.in
3. Thelandofbuddha.in
4. Buddhatheland.in

- (1) 1
(2) 2
(3) 3
(4) 4

भारत में पर्यटन उत्पाद के रूप में बौद्ध पर्यटन के प्रचार के लिए पर्यटन मंत्रालय, भारत सरकार ने अगस्त, 2018 में एक वेबसाइट का शुभारंभ किया, जिसका नाम था:

1. landofbuddha.in
2. Indiathelandofbuddha.in
3. Thelandofbuddha.in
4. Buddhatheland.in

- (1) 1
(2) 2
(3) 3
(4) 4

- 1[Option ID=22617]
2[Option ID=22618]
3[Option ID=22619]
4[Option ID=22620]

SI. No.30
QBID:93030

The First Indian State to develop Agro-tourism policy is

1. Gujarat
2. Odisha
3. Bihar
4. Maharashtra

- (1) 1
(2) 2
(3) 3
(4) 4

कृषि-पर्यटन नीति विकसित करने वाला सर्वप्रथम राज्य है

1. गुजरात
2. ओडीशा
3. बिहार
4. महाराष्ट्र

- (1) 1
(2) 2
(3) 3
(4) 4

- 1[Option ID=22621]
2[Option ID=22622]

3[Option ID=22623]

4[Option ID=22624]

SI. No.31

QBID:93031

"Monument Mitras" under "Adopt a Heritage-Apni Dharohar Apni Pehchan" Guideline of Ministry of Tourism, Government of India shall be through:

1. Expression of Interest
2. Expression of Intent
3. Expression of Vision
4. Expression of Ability

(1) 1

(2) 2

(3) 3

(4) 4

पर्यटन मंत्रालय, भारत सरकार के दिशा-निर्देश 'एडॉप्ट ए हेरिटेज - अपनी धरोहर, अपनी पहचान' के अंतर्गत "स्मारक मित्र" निम्नलिखित में से किसके द्वारा होगा?

1. अभिरुचि की अभिव्यक्ति
2. उद्देश्य की अभिव्यक्ति
3. दृष्टिकोण की अभिव्यक्ति
4. सामर्थ्य की अभिव्यक्ति

(1) 1

(2) 2

(3) 3

(4) 4

1[Option ID=22625]

2[Option ID=22626]

3[Option ID=22627]

4[Option ID=22628]

SI. No.32

QBID:93032

Type II Error is committed in testing of hypothesis, when we

1. Accept H_0 when it is false
2. Reject H_0 when it is true
3. Accept H_0 when it is true
4. Reject H_0 when it is false

(1) 1

(2) 2

(3) 3

(4) 4

त्रुटि का II प्रकार किसी परिकल्पना के परीक्षण में तब पाया जाता है जब हम:

1. H_0 को स्वीकार करते हैं, जबकि यह असत्य है।
2. H_0 को स्वीकार नहीं करते हैं, जबकि यह सत्य है।
3. H_0 को स्वीकार करते हैं, जबकि यह सत्य है।
4. H_0 को अस्वीकार करते हैं, जबकि यह असत्य है।

(1) 1

(2) 2

(3) 3

(4) 4

1[Option ID=22629]

2[Option ID=22630]

3[Option ID=22631]

4[Option ID=22632]

SI. No.33

QBID:93033

Which amongst the following properties of Correlation Coefficient is not correct?

1. Pearsonian Correlation Coefficient can not exceed 1 numerically
2. Correlation Coefficient is independent of the change of the origion and scale
3. Two independent variables are uncorrelated but converse is not true
4. Two independent variables are correlated and converse is not true

(1) 1

(2) 2

(3) 3

(4) 4

निम्नलिखित में से सहसंबंध गुणांक का कौन-सा गुण सही नहीं है?

1. पियर्सन सहसंबंध गुणांक संख्यात्मक रूप से 1 से अधिक नहीं हो सकता।
2. सहसंबंध गुणांक आरम्भ एवं पैमाना से परिवर्तन से स्वतंत्र है।
3. दो स्वतंत्र चर गैर-सहसंबंधित होते हैं किंतु विपर्याय सत्य नहीं होता है।
4. दो स्वतंत्र चर सहसंबंधित होते हैं और विपर्याय सत्य नहीं होता है।

(1) 1

(2) 2

(3) 3

(4) 4

1[Option ID=22633]

2[Option ID=22634]

3[Option ID=22635]

4[Option ID=22636]

SI. No.34

QBID:93034

Consider the following style of referencing:

Name, A., and other,S. (2022). 'Title of Journal Article', *Journal Title*, 28(4): 109-39

This style of referencing is known as

1. Harvard Style
2. Oxford Style
3. APA Style
4. MLA Style

(1) 1

(2) 2

(3) 3

(4) 4

निर्देशन (रिफरेन्सिंग) की निम्नलिखित शैली पर विचार कीजिए:

नाम, A., और अन्य, S.(2022). 'जर्नल आर्टिकल का शीर्षक', *जर्नल शीर्षक*, 28(4):109-3

निर्देशन की यह शैली इस रूप में जानी जाती है :

1. हावर्ड शैली
2. ऑक्सफोर्ड शैली
3. ए पी ए शैली
4. एम एल ए शैली

(1) 1

(2) 2

(3) 3

(4) 4

1[Option ID=22637]

2[Option ID=22638]

3[Option ID=22639]

4[Option ID=22640]

SI. No.35

QBID:93035

Survey research on a sample, on more than one occasion, is a form of

1. Experimental Research Design
2. Cross-Sectional Research Design
3. Longitudinal Research Design
4. Case Study Research Design

(1) 1

(2) 2

(3) 3

(4) 4

एक से अधिक बार किसी प्रतिदर्श पर किया जाने वाला सर्वेक्षण शोध निम्नांकित में से किसका एक रूप है?

1. प्रायोगिक शोध अभिकल्प
2. प्रतिनिध्यात्मक शोध अभिकल्प
3. अनुदैर्घ्य शोध अभिकल्प
4. प्रकरण (केस) अध्ययन शोध अभिकल्प

(1) 1

(2) 2

(3) 3

(4) 4

1[Option ID=22641]

2[Option ID=22642]

3[Option ID=22643]

4[Option ID=22644]

SI. No.36

QBID:93036

Who is regarded as the father of 'Brain storming'- the best known technique for facilitating creativity?

1. Alex S. Osborn
2. William Gordon
3. Donaldson Brown
4. Michael Porter

- (1) 1
- (2) 2
- (3) 3
- (4) 4

निम्नलिखित में से कौन सर्जनात्मक को सुगम बनाने कि तकनीक के नाम से जाने वाली 'ब्रेनस्टोर्मिंग' (विचार मंथन) का जनक माना जाता है?

- 1. एलेक्स एस. ओस्बोर्न
- 2. विलियम गोर्डन
- 3. डोनाल्डसन ब्राऊन
- 4. मार्कल पोर्टर

- (1) 1
- (2) 2
- (3) 3
- (4) 4

1[Option ID=22645]
2[Option ID=22646]
3[Option ID=22647]
4[Option ID=22648]

SI. No.37
QBID:93037

Who has developed 'The managerial grid' approach to leadership?

- 1. Robert Black Jane Mouton
- 2. Rensis Likert
- 3. Michael Porter
- 4. Edward Freeman

- (1) 1
- (2) 2
- (3) 3
- (4) 4

निम्नलिखित में से किसने नेतृत्व के बारे में प्रबंधकीय ग्रिड को विकसित किया है?

- 1. रॉबर्ट ब्लैक जेन मॉउटन
- 2. रेन्सिस लिकर्ट
- 3. माइकल पोर्टर
- 4. एडवर्ड फ्रीमैन

- (1) 1
- (2) 2
- (3) 3
- (4) 4

1[Option ID=22649]
2[Option ID=22650]
3[Option ID=22651]
4[Option ID=22652]

SI. No.38
QBID:93038

___ budget combines estimates of revenue, expenses and new capital expenditures

- 1. Cash
- 2. Financing
- 3. Profit
- 4. Balance Sheet

- (1) 1
- (2) 2
- (3) 3
- (4) 4

___ बजट में राजस्व, व्यय और नए पुंजीगत व्यय सम्मिलित किए जाते हैं।

- 1. नकदी
- 2. वित्त-पोषण
- 3. लाभ
- 4. तुलन पत्र (बैलेंस शीट)

- (1) 1
- (2) 2
- (3) 3
- (4) 4

1[Option ID=22653]
2[Option ID=22654]
3[Option ID=22655]
4[Option ID=22656]

SI. No.39
QBID:93039

Cash flow statement classifies cashflow according to:

- 1. Inflow and outflow
- 2. Operating, investing and financial activities
- 3. Operating and non-operating activities
- 4. Sources and application of funds

- (1) 1
- (2) 2
- (3) 3
- (4) 4

नकदी प्रवाह विवरण में किसके नुसार नकदी प्रवाह को वर्गीकृत किया जाता है?

- 1. अंतर्वाह और बहिर्वाह
- 2. प्रचालन, निवेश और वित्तीय गतिविधियां
- 3. प्रचालन और गैर-प्रचालन गतिविधियां
- 4. स्त्रोत और निधियों का अनुप्रयोग

- (1) 1
- (2) 2
- (3) 3
- (4) 4

1[Option ID=22657]
2[Option ID=22658]
3[Option ID=22659]
4[Option ID=22660]

SI. No.40
QBID:93040

Each line of latitude parallel to the equator, called parallels, runs from

- 1. East-West
- 2. North-South
- 3. East-South
- 4. North-East

- (1) 1

- (2) 2
- (3) 3
- (4) 4

अक्षांश की प्रत्येक रेखा, भूमध्य रेखा के समानांतर चलती है ___

- 1. पूर्व-पश्चिम
- 2. उत्तर-दक्षिण
- 3. पूर्व-दक्षिण
- 4. उत्तर-पूर्व

- (1) 1
- (2) 2
- (3) 3
- (4) 4

1[Option ID=22661]

2[Option ID=22662]

3[Option ID=22663]

4[Option ID=22664]

SI. No.41
QBID:93041

From the following identify the forts which are not brick and mud forts:

- A. Ranthambhore
- B. Junagarh or Bikaner
- C. Chittor
- D. Gwalior
- E. Red Fort

Choose the **correct** answer from the options given below:

- 1. A, C, D and E Only
- 2. A, B and C Only
- 3. B, C and D Only
- 4. B and D Only

- (1) 1
- (2) 2
- (3) 3
- (4) 4



निम्नलिखित में से किलों को चिह्नित कीजिए जो ईंट और मिट्टी के किले नहीं हैं:

- A. रणथंभौर
- B. जुनागढ़ या बीकानेर
- C. चित्तौड़
- D. ग्वालियार
- E. लालकिला

नीचे दिए गए विकल्पों में से सबसे उपयुक्त उत्तर का चयन कीजिए:

- 1. केवल A, C, D और E
- 2. केवल A, B, C
- 3. केवल B, C, D
- 4. केवल B, D

(1) 1

(2) 2

(3) 3

(4) 4

1[Option ID=22665]

2[Option ID=22666]

3[Option ID=22667]

4[Option ID=22668]

SI. No.42
QBID:93042

Identify the correct statements from the following.

- A. Tourism is a multidisciplinary subject
- B. Multidisciplinary concept of tourism has led to a lack of clarity and definition in how to study tourism
- C. Multidisciplinary perception about tourism has led researchers to define tourism as 'reductionism'
- D. In India, heritage and culture tourism as a subject is not a part of tourism syllabus
- E. Some people view tourism as a subject emphasizing the holidays or enjoyment aspects of travelling

Choose the **correct** answer from the options given below:

- 1. B, C, D and E only
- 2. A, B, D and E only
- 3. A, B, C and E only
- 4. B, C and E Only

(1) 1

(2) 2

(3) 3

(4) 4

निम्नलिखित में से सही कथनों को चिह्नित कीजिए

- A. पर्यटन बहुविषयी विषय है
- B. बहुविषयी अवधारणा पर्यटन अध्ययन को किस प्रकार किया जाय, इसकी स्पष्टता एवं परिभाषा के अभाव की ओर अग्रसर करती है
- C. बहुविषयी बोध पर्यटन शोधार्थियों को इसे 'अतिसरलीकरण' के रूप में परिभाषित करने कि ओर अग्रसर किया
- D. भारत में विरासत एवं संस्कृति पर्यटन विषय के रूप में पर्यटन पाठ्यक्रम का भाग नहीं हैं
- E. कुछ लोग पर्यटन को विषय के रूप में देखते हैं जिसमें छुट्टियों या यात्रा के आनंदपूर्ण पहलू पर बल दिया जाता है

नीचे दिए गए विकल्पों में से सबसे उपयुक्त उत्तर का चयन कीजिए:

- 1. केवल B, C, D, E
- 2. केवल A, B, D, E
- 3. केवल A, B, C, E
- 4. केवल B, C, E

(1) 1

(2) 2

(3) 3

(4) 4

1[Option ID=22669]
2[Option ID=22670]
3[Option ID=22671]
4[Option ID=22672]

SI. No.43
QBID:93043

Which of the following variables do affect climate of a tourism destination geographically?

- A. Latitude
- B. Altitude
- C. Snowfall
- D. Wind
- E. Rainfalls

Choose the **correct** answer from the options given below:

- 1. A, C and D Only
- 2. B, D and E Only
- 3. A, B and D Only
- 4. C, D and E Only

(1) 1

(2) 2

(3) 3

(4) 4

निम्नलिखित में से कौनसे चर भौगोलिक रूप से पर्यटन के गंतव्य स्थानों की जलवायु को प्रभावित करते हैं?

- A. अक्षांश
- B. लुंगता
- C. हिमपात
- D. पवन
- E. वृष्टि

नीचे दिए गए विकल्पों में से सही उत्तर का चयन कीजिए:

- 1. केवल A, C और D
- 2. केवल B, D और E
- 3. केवल A, B और D
- 4. केवल C, D और E

(1) 1

(2) 2

(3) 3

(4) 4

1[Option ID=22673]

2[Option ID=22674]

3[Option ID=22675]

4[Option ID=22676]

SI. No.44
QBID:93044

Which of the following waterfalls are correctly matched with their location of country and continent ?

- A. Angel falls : Venezuela, South America
- B. Jog falls : Bangladesh, Asia
- C. Niagara falls : United States/Canada, North America
- D. Gavarnie falls : Germany, Europe
- E. Southernland falls : South Island, New Zealand and the Pacific, Australia

Choose the **correct** answer from the options given below:

- 1. A, B and C Only
- 2. B, C and D Only
- 3. A, C and E Only
- 4. C, D and E Only

(1) 1

(2) 2

(3) 3

(4) 4

निम्नलिखित में से कौन से जल प्रपातों को उनके देश और महाद्वीप की अवस्थिति के साथ सही ढंग से सुमेलित किया गया है?

- A. अंजेल जल प्रपात : वेनेजुएला, दक्षिण अमेरिका
- B. जोग जल प्रपात : बांग्लादेश, एशिया
- C. निआग्रा जल प्रपात : संयुक्त अमेरिका/कनाडा, उत्तर अमेरिका
- D. गवार्नी जल प्रपात : जर्मनी, यूरोप
- E. सदरन लैंड जलप्रपात : दक्षिण द्वीप, न्यूजीलैंड और प्रशांत ; आस्ट्रेलिया

नीचे दिए गए विकल्पों में से सही उत्तर का चयन कीजिए:

- 1. केवल A, B और C
- 2. केवल B, C और D
- 3. केवल A, C और E
- 4. केवल C, D और E

(1) 1

(2) 2

(3) 3

(4) 4

1[Option ID=22677]
2[Option ID=22678]
3[Option ID=22679]
4[Option ID=22680]

SI. No.45
QBID:93045

Which of the following sweets are from North India:

- A. Peda
- B. Rasgulla
- C. Modak
- D. Pinni
- E. Basundi

Choose the **correct** answer from the options given below:


- 1. A & B Only
- 2. B & C Only
- 3. A & D Only
- 4. D & E Only

(1) 1

(2) 2

(3) 3

(4) 4



निम्नलिखित मिष्ठान्तों में से उत्तर भारत से कौन से हैं?

- A. पेड़ा
- B. रसगुल्ला
- C. मोदक
- D. पिन्नी
- E. बासुन्दी

नीचे दिए गए विकल्पों में से सही उत्तर का चयन कीजिए:

- 1. केवल A और B
- 2. केवल B और C
- 3. केवल A और D
- 4. केवल D और E

(1) 1

(2) 2

(3) 3

(4) 4

1[Option ID=22681]

2[Option ID=22682]

3[Option ID=22683]

4[Option ID=22684]

SI. No.46
QBID:93046

Which of the following National Parks and Wildlife Sanctuaries are in Southern India:

- A. Kaziranga National Park
- B. Kanha National Park
- C. Nagarhole National Park
- D. Periyar Wildlife Sanctuary
- E. Keoladeo National Park

Choose the **correct** answer from the options given below:

- 1. A & B Only
- 2. B & C Only
- 3. C & D Only
- 4. D & E Only

(1) 1

(2) 2

(3) 3

(4) 4

निम्नलिखित में से कौन से राष्ट्रीय उद्यान एवं वन्यजीव अभयारण्य दक्षिणी भारत में हैं?

- A. काजीरंगा राष्ट्रीय उद्यान
- B. कान्हा राष्ट्रीय उद्यान
- C. नागरहोल राष्ट्रीय उद्यान
- D. पेरियार वन्यजीव अभयारण्य
- E. केवलादेव राष्ट्रीय उद्यान

नीचे दिए गए विकल्पों में से सबसे उपयुक्त उत्तर का चयन कीजिए:

- 1. केवल A और B
- 2. केवल B और C
- 3. केवल C और D
- 4. केवल D और E

(1) 1

(2) 2

(3) 3

(4) 4

1[Option ID=22685]

2[Option ID=22686]

3[Option ID=22687]

4[Option ID=22688]

SI. No.47
QBID:93047

As in September 2022 which of the following states in India are officially dry states (No Liquor):

- A. Haryana
- B. Bihar
- C. Gujarat
- D. M.P.
- E. U.P.

Choose the **correct** answer from the options given below:

- 1. A & B Only
- 2. B & C Only
- 3. C & D Only
- 4. D & E Only

(1) 1

(2) 2

(3) 3

(4) 4

सितंबर 2022 तक निम्नलिखित में से कौन से राज्य अधिकारीक रूप से मद्य निषिद्ध राज्य है:

- A. हरियाणा
- B. बिहार
- C. गुजरात
- D. मध्यप्रदेश
- E. उत्तर प्रदेश

नीचे दिए गए विकल्पों में से सबसे उपयुक्त उत्तर का चयन कीजिए:

- 1. केवल A और B
- 2. केवल B और C
- 3. केवल C और D
- 4. केवल D और E

(1) 1

(2) 2

(3) 3

(4) 4

1[Option ID=22689]

2[Option ID=22690]

3[Option ID=22691]

4[Option ID=22692]

SI. No.48
QBID:93048

Which of the following are the railway stations in the Trans-Siberian Railway (TSR) between Moscow and Vladivostok

- A. Perm
- B. Kharbin
- C. Novosibirsk
- D. Tynda
- E. Skovorodino

Choose the **correct** answer from the options given below:

- 1. B and D Only
- 2. A, C and E Only
- 3. C and D Only
- 4. C, D and E Only

(1) 1

(2) 2

(3) 3

(4) 4

मास्को और व्लादीवोस्तक के मध्य ट्रान्स-साईबेरीयन रेलवे (टी एस आर) में निम्नलिखित में से रेलवे स्टेशन कौन से हैं?

- A. पर्म
- B. खरबीन
- C. नोवोसिबिर्स्क
- D. टिंडा
- E. स्कोवोरोडिनो

नीचे दिए गए विकल्पों में से सही उत्तर का चयन कीजिए:

- 1. केवल B और D
- 2. केवल A, C और E
- 3. केवल C और D
- 4. केवल C, D और E

(1) 1

(2) 2

(3) 3

(4) 4

1[Option ID=22693]

2[Option ID=22694]

3[Option ID=22695]

4[Option ID=22696]

Sl. No.49
QBID:93049

Which of the following are climatic features of a cooler humid tourism destination?

- A. Rainy
- B. Moderate Winter
- C. Severe Cold
- D. Steppe

Choose the **correct** answer from the options given below:

- 1. B and D Only
- 2. A and D Only
- 3. A and C Only
- 4. B and C Only

(1) 1

(2) 2

(3) 3

(4) 4

शीतलक आर्द्र पर्यटन गंतव्य की जलवायू संबंधी विशेषताएँ निम्नलिखित में से कौन सी हैं?

- A. वर्षा
- B. मध्यम शीतऋतु
- C. प्रचंड ठंड
- D. घास का मैदान

नीचे दिए गए विकल्पों में से सही उत्तर का चयन कीजिए:

- 1. केवल B और D
- 2. केवल A और D
- 3. केवल A और C
- 4. केवल B और C

(1) 1

(2) 2

(3) 3

(4) 4

1[Option ID=22697]

2[Option ID=22698]

3[Option ID=22699]

4[Option ID=22700]

SI. No.50

QBID:93050

Identify the countries which have a common currency

- A. MALI
- B. NIGER
- C. CHAD
- D. ERITREA

Choose the **correct** answer from the options given below:


- 1. B, C, D Only
- 2. A, B, C Only
- 3. A, B, D Only
- 4. C, A, D Only

(1) 1

(2) 2

(3) 3

(4) 4



निम्नलिखित में से उन देशों को चिन्हित कीजिए जिनकी मुद्रा एक समान है?

- A. माली
- B. नाइजर
- C. चाड
- D. इरिट्रिया

नीचे दिए गए विकल्पों में से सही उत्तर का चयन कीजिए:

- 1. केवल B, C, D
- 2. केवल A, B, C
- 3. केवल A, B, D
- 4. केवल C, A, D

(1) 1

(2) 2

(3) 3

(4) 4

1[Option ID=22701]

2[Option ID=22702]

3[Option ID=22703]

4[Option ID=22704]

Sl. No.51

QBID:93051

Which of the following are Scandinavian Countries?

- A. NORWAY
- B. SWEDEN
- C. ICELAND
- D. DENMARK

Choose the **correct** answer from the options given below:


- 1. A, B, C only
- 2. A, B, D only
- 3. B, C, D only
- 4. A, C, D only

(1) 1

(2) 2

(3) 3

(4) 4



निम्नलिखित में से स्कैंडिनेवियाई देश कौन से हैं?

- A. नार्वे
- B. स्वीडन
- C. आइसलैण्ड
- D. डेनमार्क

नीचे दिए गए विकल्पों में से सही उत्तर का चयन करें:

- 1. केवल A, B, C
- 2. केवल A, B, D
- 3. केवल B, C, D
- 4. केवल A, C, D

(1) 1

(2) 2

(3) 3

(4) 4

1[Option ID=22705]

2[Option ID=22706]

3[Option ID=22707]

4[Option ID=22708]

SI. No.52
QBID:93052

Which of the following Indian dishes are deep fried?

- A. Vada
- B. Kulcha
- C. Bebinca
- D. Gulab Jamun
- E. Dosa

Choose the **correct** answer from the options given below:


- 1. A & B Only
- 2. A, B & C Only
- 3. A & D Only
- 4. D & E Only

(1) 1

(2) 2

(3) 3

(4) 4



निम्नलिखित में से कौनसे भारतीय व्यंजनो को गहन रूप से तला जाता है?

- A. वड़ा
- B. कुलचा
- C. बेबिन्का
- D. गुलाब जामुन
- E. डोसा

नीचे दिए गए विकल्पों में से सही उत्तर का चयन कीजिए:

- 1. केवल A और B
- 2. केवल A, B और C
- 3. केवल A और D
- 4. केवल D और E

(1) 1

(2) 2

(3) 3

(4) 4

1[Option ID=22709]

2[Option ID=22710]

3[Option ID=22711]

4[Option ID=22712]

SI. No.53
QBID:93053

Key people associated with popular online Food Ordering & Delivery Service provider 'Zomato' are:

- A. Deepinder Goyal
- B. Pankaj Chaddah
- C. Rahul Jaimini
- D. Nandan Reddy
- E. A. S. Kamat

Choose the **correct** answer from the options given below:

- 1. A & B Only
- 2. B & C Only
- 3. C & D Only
- 4. D & E Only

(1) 1

(2) 2

(3) 3

(4) 4

लोकप्रिय ऑनलाइन फूड आर्डरिंग और डिलीवरी सर्विस प्रोवाइडर 'जोमेटो' से संबंधी प्रमुख व्यक्ति हैं?

- A. दीपिन्दर गोयल
- B. पंकज चड्ढा
- C. राहुल जैमिनी
- D. नंदन रेड्डी
- E. ए. एस. कामत

नीचे दिए गए विकल्पों में से सही उत्तर का चयन कीजिए:

- 1. केवल A और B
- 2. केवल B और C
- 3. केवल C और D
- 4. केवल D और E

(1) 1

(2) 2

(3) 3

(4) 4

1[Option ID=22713]

2[Option ID=22714]

3[Option ID=22715]

4[Option ID=22716]

Sl. No.54

QBID:93054

Which of the following folds are used for Bed Making in hotels:

- A. Rose Fold
- B. Foot Fold
- C. Mitre Fold
- D. Bishop Fold
- E. Candle Fold

Choose the **correct** answer from the options given below:

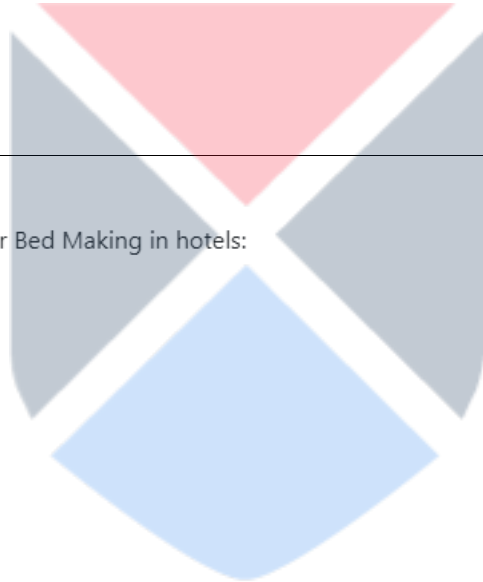
- 1. A, B & C Only
- 2. B, C & D Only
- 3. B & C Only
- 4. C & D Only

(1) 1

(2) 2

(3) 3

(4) 4



होटल में 'ब्रेड मैकिंग मे' निम्नलिखित में से कौनसे 'फोल्ड्स' (मोड़) का उपयोग किया जाता है?

- A. रोज फोल्ड
- B. फुट फोल्ड
- C. मित्रे फोल्ड
- D. बिशप फोल्ड
- E. कैंडल फोल्ड

नीचे दिए गए विकल्पों में से सही उत्तर का चयन कीजिए:

- 1. केवल A, B और C
- 2. केवल B, C, और D
- 3. केवल B और C
- 4. केवल C और D

(1) 1

(2) 2

(3) 3

(4) 4

1[Option ID=22717]

2[Option ID=22718]

3[Option ID=22719]

4[Option ID=22720]

SI. No.55
QBID:93055

A hospitality company's total promotion mix consists of specific blend of various communication mix elements. Which of the following fall under these elements?

- A. Ambience
- B. Sales promotion
- C. Packaging
- D. Personal selling
- E. Cross selling

Choose the **correct** answer from the options given below:

- 1. A & C Only
- 2. B & D Only
- 3. C & E Only
- 4. A & E Only

(1) 1

(2) 2

(3) 3

(4) 4

किसी आतिथ्य कंपनी की कुल प्रचार मिश्रणों में विविध संप्रेषण मिश्रण तत्वों के विशिष्ट सम्मिश्रण सम्मिलित होते हैं। निम्नलिखित में से कौन इन तत्वों के अन्तर्गत आता है?

- A. परिवेशी प्रभाव
- B. विक्रय बढ़ावा
- C. पैकेजिंग
- D. व्यक्तिगत (निजी) विक्री
- E. क्रॉस (आंतर) विक्री

नीचे दिए गए विकल्पों में से सही उत्तर का चयन कीजिए:

- 1. केवल A और C
- 2. केवल B और D
- 3. केवल C और E
- 4. केवल A और E

(1) 1

(2) 2

(3) 3

(4) 4

1[Option ID=22721]

2[Option ID=22722]

3[Option ID=22723]

4[Option ID=22724]

SI. No.56
QBID:93056

Marketing intelligence includes everyday information about developments in the marketing environment that helps a manager in decision making. Which of the following are NOT the internal sources of information?

- A. Suppliers
- B. Company's executives
- C. Order to payment cycle
- D. Company's owners
- E. Competitors

Choose the **correct** answer from the options given below:

- 1. A & B Only
- 2. B & C Only
- 3. A & E Only
- 4. D & E Only

(1) 1

(2) 2

(3) 3

(4) 4

विपणन बुद्धि क्षमता विपणन वातावरण (परिवेश) में हुए विकास के बारे में प्रतिदिन की सूचना को शामिल करता है जो प्रबंधक को निर्णयन में सहायक होता है। निम्नलिखित में से कौन सूचना का आन्तरिक स्रोत नहीं है?

- A. आपूर्तिकर्ता
- B. कंपनी के कार्यकारी
- C. भुगतान चक्र हेतु आदेश
- D. कंपनी के मालिक
- E. प्रतिस्पर्धी

नीचे दिए गए विकल्पों में से सही उत्तर का चयन कीजिए:

- 1. केवल A और B
- 2. केवल B और C
- 3. केवल A और E
- 4. केवल D और E

(1) 1

(2) 2

(3) 3

(4) 4

1[Option ID=22725]

2[Option ID=22726]

3[Option ID=22727]

4[Option ID=22728]

SI. No.57
QBID:93057

Which of the following destinations/sites have been identified for development under "PRASAD" scheme of Ministry of Tourism, Government of India?

- A. Deogarh & Parasnath (Jharkhand)
- B. Trimbakeshwar (Maharashtra)
- C. Ajmer (Rajsthan)
- D. Konark (Odisha)

Choose the **correct** answer from the options given below:

- 1. A, C, D Only
- 2. A, B, C Only
- 3. A, B, D Only
- 4. B, C, D Only

(1) 1

(2) 2

(3) 3

(4) 4

पर्यटन मंत्रालय, भारत सरकार की 'प्रसाद' योजना के अंतर्गत निम्नलिखित में से कौन से गंतव्य/स्थल चिन्हित किये गये हैं?

- A. देवघर और पारसनाथ (झारखण्ड)
- B. त्र्यंबकेश्वर (महाराष्ट्र)
- C. अजमेर (राजस्थान)
- D. कोणार्क (ओडीशा)

नीचे दिए गए विकल्पों में से सही उत्तर का चयन कीजिए:

- 1. केवल A, C, D
- 2. केवल A, B, C
- 3. केवल A, B, D
- 4. केवल B, C, D

(1) 1

(2) 2

(3) 3

(4) 4

1[Option ID=22729]

2[Option ID=22730]

3[Option ID=22731]

4[Option ID=22732]

SI. No.58

QBID:93058

Which of the following Indian elements were inscribed in 'UNESCO's list of Intangible Cultural Heritage of Humanity' in the same year

- A. Kumbh Mela
- B. Yoga
- C. Chhau Dance
- D. Kalbelia folk songs and Dances of Rajsthan
- E. Mudiyettu, ritual theatre and dance drama of Kerala

Choose the **correct** answer from the options given below:

- 1. B, C, D only
- 2. C, D, E only
- 3. A, B, C only
- 4. A, D, E only

(1) 1

(2) 2

(3) 3

(4) 4

यूनेस्को की मानवता की अमूर्त सांस्कृतिक विरासत सूची में एक ही वर्ष में निम्नलिखित भारतीय तत्वों में से कौन से उत्कीर्ण थे?

- A. कुंभ मेला
- B. योग
- C. छऊ नृत्य
- D. राजस्थान का कलबेलिया लोक-गीत एवं नृत्य
- E. केरल का मुदियेन्तु कर्मकांडी (रिचुअल) थियेटर और नृत्य

नीचे दिए गए विकल्पों में से सही उत्तर का चयन कीजिए:

- 1. केवल B, C, D
- 2. केवल C, D, E
- 3. केवल A, B, C
- 4. केवल A, D, E

(1) 1

(2) 2

(3) 3

(4) 4

1[Option ID=22733]

2[Option ID=22734]

3[Option ID=22735]

4[Option ID=22736]

SI. No.59
QBID:93059

Identify the tourist sites which are being developed under 'Iconic Tourist Destination Scheme' of Ministry of Tourism, Government of India

- A. Hampi (Karnatak)
- B. Dholavira (Gujarat)
- C. Somnath (Gujarat)
- D. Mahabodhi Temple (Bihar)
- E. Belur (West Bengal)

Choose the **correct** answer from the options given below:

- 1. A, C, D Only
- 2. A, C, D, B Only
- 3. A, C, D, E Only
- 4. A, B, C, E Only

(1) 1

(2) 2

(3) 3

(4) 4

पर्यटन मंत्रालय, भारत सरकार की 'अनुप्रतीकात्मक पर्यटक गंतव्या योजना' के अंतर्गत विकसित होने वाले पर्यटक स्थल कौन से हैं?

- A. हंपी (कर्नाटक)
- B. धौलावीरा (गुजरात)
- C. सोमनाथ (गुजरात)
- D. महाबोधि मंदिर (बिहार)
- E. बेलूर (पश्चिम बंगाल)

नीचे दिए गए विकल्पों में से सही उत्तर का चयन कीजिए:

- 1. केवल A, C, D
- 2. केवल A, C, D, B
- 3. केवल A, C, D, E
- 4. केवल A, B, C, E

(1) 1

(2) 2

(3) 3

(4) 4

1[Option ID=22737]

2[Option ID=22738]

3[Option ID=22739]

4[Option ID=22740]

SI. No.60
QBID:93060

Which of the following are NOT the assumptions of Parametric tests?

- A. Variables described are expressed in nominal or ordinal scales of measurement
- B. The population values are normally distributed
- C. The samples have equal or nearly equal variances
- D. Selection of one case in the sample is not dependent upon the selection of any other
- E. The variables are represented by frequency counts

Choose the **correct** answer from the options given below:

- 1. A and B Only
- 2. B and C Only
- 3. C and D Only
- 4. A and E Only

(1) 1

(2) 2

(3) 3

(4) 4

निम्नलिखित में से कौन प्राचलिक परीक्षणों की पूर्वधारणाएं नहीं हैं?

- A. चर माप के नामिक अथवा क्रमसूचक पैमाने में व्यक्त होते हैं
- B. जनसंख्या मान सामान्यतथा विभाजित होते हैं
- C. प्रतिदर्श में समान अथवा लगभग समान चर होते हैं
- D. प्रतिदर्श में किसी एक मामले का चयन किसी अन्य के चयन पर निर्भर नहीं होता है
- E. चर बारंबारता गणनाओं द्वारा निरूपित किए जाते हैं

नीचे दिए गए विकल्पों में से सबसे उपयुक्त उत्तर का चयन कीजिए:

- 1. केवल A और B
- 2. केवल B और C
- 3. केवल C और D
- 4. केवल A और E

(1) 1

(2) 2

(3) 3

(4) 4

1[Option ID=22741]

2[Option ID=22742]

3[Option ID=22743]

4[Option ID=22744]

SI. No.61
QBID:93061

Following are univariate statistical techniques, except

- A. Logit Analysis
- B. Conjoint Analysis
- C. Mann-Whitney
- D. K.W. Anova
- E. Paired t-test

Choose the **correct** answer from the options given below:

- 1. A and B only
- 2. C and D only
- 3. D and E only
- 4. A and D only

(1) 1

(2) 2

(3) 3

(4) 4

इसके अतिरिक्त एक चरिय सांख्यिकीय प्रविधियाँ निम्नलिखित हैं:

- A. लॉजिट विश्लेषण
- B. सामूहिक विश्लेषण
- C. मान-हवाद्दने
- D. के. डब्ल्यू. एनोवा
- E. युग्मित-टी-परीक्षण

नीचे दिए गए विकल्पों में से सही उत्तर का चयन कीजिए:

- 1. केवल A और B
- 2. केवल C और D
- 3. केवल D और E
- 4. केवल A और D

(1) 1

(2) 2

(3) 3

(4) 4

1[Option ID=22745]

2[Option ID=22746]

3[Option ID=22747]

4[Option ID=22748]

SI. No.62

QBID:93062

Qualitative research emphasises the following, except

- A. Entails a deductive approach to the relationship between theory and research
- B. Embodies a view of social reality as an external, objective reality
- C. Emphasises an inductive approach to the relationship between theory and research
- D. Rejects the practices and norms of the natural scientific models
- E. Embodies social reality as a constantly shifting emergent property of individual's creation

Choose the **correct** answer from the options given below:

- 1. A and C Only
- 2. B and C Only
- 3. A and B Only
- 4. D and E Only

(1) 1

(2) 2

(3) 3

(4) 4

इसके अतिरिक्त, गुणवत्तापरक शोध निम्नलिखित पर बल देता है:

- A. सिद्धांत और शोध के मध्य संबंध हेतु निगमनात्मक उपागम आवश्यक होता है
- B. सामाजिक यथार्थता को एक बाह्य, विषयपरक यथार्थता के विचार के रूप में प्रस्तुत करता है
- C. सिद्धांत एवं शोध के मध्य संबंध हेतु आगमनात्मक उपागम पर बल देता है
- D. प्राकृतिक वैज्ञानिक प्रतिरूपों की प्रथाएं एवं मानकों का खंडन करता है
- E. सामाजिक यथार्थता की व्यक्ति के सृजन को सतत रूप से स्थानांतरणकारी आपातिक गुण के रूप में प्रस्तुत करता है

नीचे दिए गए विकल्पों में से सबसे उपयुक्त उत्तर का चयन कीजिए:

- 1. केवल A और C
- 2. केवल B और C
- 3. केवल A और B
- 4. केवल D और E

(1) 1

(2) 2

(3) 3

(4) 4

1[Option ID=22749]

2[Option ID=22750]

3[Option ID=22751]

4[Option ID=22752]

SI. No.63
QBID:93063

Given below are statements about leverages. Which of these are NOT correct?

- A. Operating leverage affects a firm's profit after tax and financial leverage affects a firm's EBIT
- B. The rate of return on the owner's equity is leveraged above or below the rate of return on assets
- C. Financial leverage provides the potential of creating the risks
- D. Greater the borrowing, the greater is the risk of unprofitable leverage and greater the chance of gain
- E. Financial leverage decreases shareholders' risks

Choose the **correct** answer from the options given below:

- 1. A & E Only
- 2. B & C Only
- 3. B & D Only
- 4. C & D Only

(1) 1

(2) 2

(3) 3

(4) 4

नीचे उत्तोलनों (लीवरेज) के बारे में कथन दिए गए हैं। इनमें से कौनसे सही हैं?

- A. प्रचालन उत्तोलन (ऑपरेटिंग लीवरेज) एक फर्म के कर पश्चात लाभ को प्रभावित करता है और वित्तीय उत्तोलन एक फर्म के ई.बी.आई.टी. को प्रभावित करता है
- B. मालिक की इक्विटी पर प्रतिफल दर परिसम्पत्तियों पर प्रतिफल दर के उपर या नीचे उत्तोलित होती है
- C. वित्तीय उत्तोलन जोखिमों को उत्पन्न करने की संभावना प्रदान करता है
- D. जितनी अधिक उधारी होगी, उतनी ही अलाभप्रत उत्तोलन का जोखिम और उतने ही अधिक प्रतिफल की संभावना है
- E. वित्तीय उत्तोलन शेयरधारकों के जोखिमों में कमी लाता है

नीचे दिए गए विकल्पों में से सही उत्तर का चयन कीजिए:

- 1. केवल A और E
- 2. केवल B और C
- 3. केवल B और D
- 4. केवल C और D

(1) 1

(2) 2

(3) 3

(4) 4

1[Option ID=22753]

2[Option ID=22754]

3[Option ID=22755]

4[Option ID=22756]

SI. No.64
QBID:93064

Given below are characteristics of Personality. Which ones are NOT the characteristics of 'Type A' personality

- A. Multitasker
- B. With strong need to win
- C. Always in a hurry
- D. Patient when interrupted
- E. Aware of larger environment

Choose the **correct** answer from the options given below:

- 1. B & C Only
- 2. D & E Only
- 3. A & B Only
- 4. A & C Only

(1) 1

(2) 2

(3) 3

(4) 4

नीचे व्यक्तित्व की विशेषताएं दी गई हैं। इनमें कौनसी 'टाइप-ए' व्यक्तित्व की विशेषताएं नहीं हैं?

- A. बहु-कार्य करने वाला
- B. विजय की प्रबल आवश्यकता
- C. सदैव जल्दबाजी में
- D. व्यवधान डालने पर धैर्यवान
- E. वृहत्तर वातावरण के बारे में जागरूक

नीचे दिए गए विकल्पों में से सबसे उपयुक्त उत्तर का चयन कीजिए:

- 1. केवल B और C
- 2. केवल D और E
- 3. केवल A और B
- 4. केवल A और C

(1) 1

(2) 2

(3) 3

(4) 4

1[Option ID=22757]

2[Option ID=22758]

3[Option ID=22759]

4[Option ID=22760]

SI. No.65
QBID:93065

With regard to decentralization of authority, given below are some statements. Which ones are NOT correct?

- A. Facilitates setting up of profit centres
- B. Facilitates adoption to fast changing environment
- C. Facilitates having a uniform policy
- D. Facilitates control by upper level managers

Choose the **correct** answer from the options given below:

- 1. A & B Only
- 2. C & D Only
- 3. B & C Only
- 4. A & D Only

(1) 1

(2) 2

(3) 3

(4) 4

स्वायत्तता के विकेंद्रीकरण के संबंध में निम्नलिखित कथन नीचे दिए गए हैं। कौनसे कथन सही हैं?

- A. लाभ केंद्रों की स्थापना को सुगम बनाता है
- B. तेजी से बदलते पर्यावरण को अपनाने में सुगम बनाता है
- C. एकसमान नीति रखने में सुगम बनाता है
- D. ऊपरी स्तर के प्रबंधको द्वारा नियंत्रण को सुगम बनाता है

नीचे दिए गए विकल्पों में से सही उत्तर का चयन कीजिए:

- 1. केवल A और B
- 2. केवल C और D
- 3. केवल B और C
- 4. केवल A और D

(1) 1

(2) 2

(3) 3

(4) 4

1[Option ID=22761]

2[Option ID=22762]

3[Option ID=22763]

4[Option ID=22764]

SI. No.66
QBID:93066

Match List I with List II

List I	List II
Lakes	States
A. Damdama Lake	I. Rajasthan
B. Pushkar Lake	II. Haryana
C. Kolleru Lake	III. Andhra Pradesh
D. Loktak Lake	IV. Manipur

Choose the **correct** answer from the options given below:

- 1. A - I, B - II, C - IV, D - III
- 2. A - II, B - I, C - III, D - IV
- 3. A - II, B - III, C - IV, D - I
- 4. A - III, B - IV, C - II, D - I

(1) 1

(2) 2

(3) 3

(4) 4

सूची-I के साथ सूची-II का मिलान कीजिए :

सूची-I झील	सूची-II राज्य
A. दमदम झील	I. राजस्थान
B. पुष्कर झील	II. हरियाणा
C. कोलेरू झील	III. आंध्र प्रदेश
D. लोकतक झील	IV. मणिपूर

नीचे दिए गए विकल्पों में से सही उत्तर का चयन कीजिए:

1. A - I, B - II, C - IV, D - III
2. A - II, B - I, C - III, D - IV
3. A - II, B - III, C - IV, D - I
4. A - III, B - IV, C - II, D - I

(1) 1

(2) 2

(3) 3

(4) 4

1[Option ID=22765]

2[Option ID=22766]

3[Option ID=22767]

4[Option ID=22768]

SI. No.67
QBID:93067

Match **List I** with **List II**

List I	List II
Kinds of Islands	Names of Islands
A. Continental Islands	I. The Bahamas
B. Tactonically-Formed Islands	II. The Hawaiian Islands
C. Volcanic Islands	III. Trinidad
D. Coral Islands	IV. Barbados

Choose the **correct** answer from the options given below:

1. A - II, B - III, C - IV, D - I
2. A - IV, B - II, C - I, D - III
3. A - I, B - III, C - IV, D - II
4. A - III, B - IV, C - II, D - I

(1) 1

(2) 2

(3) 3

(4) 4

सूची-I के साथ सूची-II का मिलान कीजिए :

सूची-I (द्वीप के प्रकार)	सूची-II (द्वीप के नाम)
A. महाद्वीपीय द्वीप	I. द बहमास
B. टैक्टोनिकली-फोर्ड द्वीप	II. द हवाईअन द्वीप
C. ज्वालामुखीय द्वीप	III. त्रिनीदाद
D. प्रवाल द्वीप	IV. बरबोडोस

नीचे दिए गए विकल्पों में से सही उत्तर का चयन कीजिए:

1. A - II, B - III, C - IV, D - I
2. A - IV, B - II, C - I, D - III
3. A - I, B - III, C - IV, D - II
4. A - III, B - IV, C - II, D - I

(1) 1

(2) 2

(3) 3

(4) 4

1[Option ID=22769]

2[Option ID=22770]

3[Option ID=22771]

4[Option ID=22772]

Sl. No.68
QBID:93068

Match List I with List II

List I	List II
Dance	Region Associated
A. Bhavai	I. Maharashtra
B. Gorava	II. Assam
C. Dholacha Nach	III. Karnataka
D. Nut Puta	IV. Rajasthan

Choose the **correct** answer from the options given below:

1. A - I, B - III, C - II, D - IV
2. A - III, B - II, C - IV, D - I
3. A - IV, B - III, C - I, D - II
4. A - IV, B - III, C - II, D - I

(1) 1

(2) 2

(3) 3

(4) 4

सूची-I के साथ सूची-II का मिलान कीजिए :

सूची-I नृत्य	सूची-II संबद्धित क्षेत्र
A. भावई	I. महाराष्ट्र
B. गोरवा	II. असम
C. धोलचा नाच	III. कर्नाटक
D. नट पुत	IV. राजस्थान

नीचे दिए गए विकल्पों में से सही उत्तर का चयन कीजिए:

1. A - I, B - III, C - II, D - IV
2. A - III, B - II, C - IV, D - I
3. A - IV, B - III, C - I, D - II
4. A - IV, B - III, C - II, D - I

(1) 1

(2) 2

(3) 3

(4) 4

1[Option ID=22773]

2[Option ID=22774]

3[Option ID=22775]

4[Option ID=22776]

SI. No.69
QBID:93069

Match **List I** with **List II**

List I	List II
Name of the Wind	Location of Wind
A. Buran	I. East of Rock Mountains and Canada
B. Chinook	II. Mediterranean region, particularly Italy and Greece
C. Leveche	III. Siberia
D. Sirocco	IV. Northern Spain

Choose the **correct** answer from the options given below:

1. A - IV, B - III, C - II, D - I
2. A - III, B - I, C - IV, D - II
3. A - II, B - III, C - I, D - IV
4. A - I, B - IV, C - III, D - II

(1) 1

(2) 2

(3) 3

(4) 4

सूची-I के साथ सूची-II का मिलान कीजिए :

सूची-I पवन का नाम	सूची-II पवन की स्थिति
A. बुरन	I. रॉक माऊण्टेन के पूर्व और कनाडा
B. चिनूक	II. भूमध्यसागरीय क्षेत्र, विशेषतः इटली और युनान
C. लेवेशे	III. साइबेरिया
D. सिरोको	IV. उत्तरी स्पेन

नीचे दिए गए विकल्पों में से सही उत्तर का चयन कीजिए:

1. A - IV, B - III, C - II, D - I
2. A - III, B - I, C - IV, D - II
3. A - II, B - III, C - I, D - IV
4. A - I, B - IV, C - III, D - II

(1) 1

(2) 2

(3) 3

(4) 4

1[Option ID=22777]

2[Option ID=22778]

3[Option ID=22779]

4[Option ID=22780]

SI. No.70
QBID:93070

Match List I with List II

List I	List II
Aircraft Equipment Code	Aircraft Name
A. 733	I. Boeing 737-300
B. 737	II. Boeing 737-200
C. 73M	III. Boeing 737
D. 73S	IV. Boeing 737-200C

Choose the **correct** answer from the options given below:

1. A - II, B - III, C - IV, D - I
2. A - IV, B - III, C - II, D - I
3. A - I, B - III, C - IV, D - II
4. A - II, B - III, C - I, D - IV

(1) 1

(2) 2

(3) 3

(4) 4

सूची-I के साथ सूची-II का मिलान कीजिए :

सूची-I वायुमन उपकरण कोड	सूची-II वायुमान का नाम
A. 733	I. बोइंग 737-300
B. 737	II. बोइंग 737-200
C. 73 एम	III. बोइंग 737
D. 73 एस	IV. बोइंग 737-200 सी

नीचे दिए गए विकल्पों में से सही उत्तर का चयन कीजिए:

1. A - II, B - III, C - IV, D - I
2. A - IV, B - III, C - II, D - I
3. A - I, B - III, C - IV, D - II
4. A - II, B - III, C - I, D - IV

(1) 1

(2) 2

(3) 3

(4) 4

1[Option ID=22781]

2[Option ID=22782]

3[Option ID=22783]

4[Option ID=22784]

SI. No.71
QBID:93071

Match List I with List II

List I	List II
Dish	Region
A. Pathar ke Kebab	I. Bengal
B. Galouti Kebab	II. Awadh
C. Chingari Malai Curry	III. Goa
D. Dodol	IV. Andhra Pradesh

Choose the **correct** answer from the options given below:

1. A - I, B - III, C - II, D - IV
2. A - I, B - II, C - III, D - IV
3. A - IV, B - II, C - I, D - III
4. A - IV, B - I, C - II, D - III

(1) 1

(2) 2

(3) 3

(4) 4

सूची-I के साथ सूची-II का मिलान कीजिए :

सूची-I (व्यंजन)	सूची-II (क्षेत्र)
A. पत्थर के कबाब	I. बंगाल
B. गलौटी कबाब	II. अवध
C. चिंगारी मलाई करी	III. गोवा
D. डोडोल	IV. आंध्र प्रदेश

नीचे दिए गए विकल्पों में से सही उत्तर का चयन कीजिए:

1. A - I, B - III, C - II, D - IV
2. A - I, B - II, C - III, D - IV
3. A - IV, B - II, C - I, D - III
4. A - IV, B - I, C - II, D - III

- (1) 1
(2) 2
(3) 3
(4) 4

1[Option ID=22785]

2[Option ID=22786]

3[Option ID=22787]

4[Option ID=22788]

SI. No.72
QBID:93072

Match **List I** with **List II**

List I	List II
Concepts	Description
A. Discriminatory pricing	I. Yield management system used to maximise a hotel's yield or contribution margin
B. Revenue management	II. It gives guests a reason to come and gives a positive image for the hotel
C. Psychological pricing	III. Segmentation of the market and pricing differences based on price elasticity characteristics of segments
D. Promotional pricing	IV. Aspects such as prestige, reference pricing, round figures etc used in pricing

Choose the **correct** answer from the options given below:

1. A - I, B - II, C - III, D - IV
2. A - IV, B - I, C - II, D - III
3. A - III, B - I, C - IV, D - II
4. A - II, B - I, C - III, D - IV

- (1) 1
(2) 2
(3) 3
(4) 4

सूची-I के साथ सूची-II का मिलान कीजिए:

सूची-I (अवधारणाएं)	सूची-II (विवरण)
A. भेद-मूलक मूल्यन	I. प्रबंधन व्यवस्था को उत्पादक बनाता है कसिस होटल की उत्पादकता अथवा योगदान हिस्से को अधिकतम करने हेतु प्रयुक्त किया जाता है
B. राजस्व प्रबंधन	II. यह अतिथियो को होटल में आने एवं उसके बारे में सकारात्मक छबि बनाने हेतु एक कारण प्रदान करता है
C. मनोवैज्ञानिकीय मूल्यन	III. खण्डों के कीमत लोच विशेषताओं पर आधारित बाजार और मूल्यन अंतरों का खंडीकरण
D. प्रचारगत मूल्यन	IV. मूल्यन में सम्मान, संदर्भ मूल्यन, पूर्णांकन अंक इत्यादि प्रयुक्त किया जाता है

नीचे दिए गए विकल्पों में से सही उत्तर का चीनण कीजिए:

1. A - I, B - II, C - III, D - IV
2. A - IV, B - I, C - II, D - III
3. A - III, B - I, C - IV, D - II
4. A - II, B - I, C - III, D - IV

- (1) 1
(2) 2
(3) 3
(4) 4

1[Option ID=22789]
2[Option ID=22790]
3[Option ID=22791]
4[Option ID=22792]

SI. No.73
QBID:93073

Match **List I** with **List II**

List I	List II
Airlines	Features
A. American Airlines based in Dallas	I. First domestic carrier to provide coast-to-coast passenger service
B. Trans World Airlines based in New York	II. Formerly known as Allegheny Airlines
C. United Airlines based in Chicago	III. First airline to establish a central training school for flight attendants
D. US Air based in Arlington, Virginia	IV. First airline to operate in all 50 states and serves over 200 cities worldwide

Choose the **correct** answer from the options given below:

1. A - III, B - IV, C - II, D - I
2. A - III, B - I, C - IV, D - II
3. A - IV, B - III, C - I, D - II
4. A - III, B - IV, C - I, D - II

- (1) 1
(2) 2
(3) 3
(4) 4

सूची-I के साथ सूची-II का मिलान कीजिए :

सूची-I एअरलाइन्स	सूची-II विशेषताएं
A. दल्लास स्थित अमेरिकन एअरलाइन्स	I. तट से तट यात्री सेवा प्रदान करने वाली प्रथम घरेलू वाहक
B. न्यूयॉर्क स्थित ट्रांस वर्ल्ड एअरलाइन्स	II. पूर्व में एलीगनी एअरलाइन्स नाम से जानी जाती थी
C. शिकागो स्थित युनाइटेड एअरलाइन्स	III. विमान परिचारियों हेतु केंद्रीय प्रशिक्षण स्कूल स्थापित करने वाली प्रथम एअरलाइन
D. अर्लिग्टन, वर्जीनिय स्थित यू एस एअर	IV. सभी 50 राज्यों और विश्वव्यापी 200 शहरों से अधिक सेवाएं संचालित करने वाली प्रथम एअरलाइन

नीचे दिए गए विकल्पों में से सही उत्तर का चयन कीजिए :

1. A - III, B - IV, C - II, D - I
2. A - III, B - I, C - IV, D - II
3. A - IV, B - III, C - I, D - II
4. A - III, B - IV, C - I, D - II

- (1) 1
(2) 2
(3) 3
(4) 4

1[Option ID=22793]
2[Option ID=22794]
3[Option ID=22795]
4[Option ID=22796]

SI. No.74
QBID:93074

Match List I with List II

List I	List II
Types of Variables	Description
A. Interval Variables	I. Variable containing data that have only two categories
B. Ordinal Variables	II. Variables whose categories can be rank ordered but the distances between the categories are not equal across the range
C. Nominal Variables	III. Variables whose categories can not be rank ordered
D. Dichotomous Variables	IV. Variables where the distances between the categories are identical across the range

Choose the **correct** answer from the options given below:

1. A - IV, B - II, C - III, D - I
2. A - I, B - II, C - IV, D - III
3. A - II, B - III, C - IV, D - I
4. A - I, B - II, C - III, D - IV

- (1) 1
(2) 2
(3) 3
(4) 4

सूची-I के साथ सूची -II का मिलान कीजिए:

सूची-I (चर के प्रकार)	सूची-II विवरण
A. अन्तराल चर	I. आंकड़े को शामिल करने वाले चर जिनकी केवल दो कोटियाँ हैं
B. क्रमसूचक चर	II. चर जिनकी कोटियाँ क्रमबद्ध रैंक में रखा जा सकता है किंतु कोटियों के मध्य दूरियाँ सम्पूर्ण रेंज में समान नहीं हैं
C. नामिक चर	III. चर जिनकी कोटियाँ क्रमबद्ध रैंक में नहीं रखी जा सकती
D. द्विभाजी चर	IV. चर जिसमें कोटियों के मध्य दूरियाँ सम्पूर्ण रेंज में समरूप होती हैं

नीचे दिए गए विकल्पों में से सही उत्तर का चयन कीजिए

1. A - IV, B - II, C - III, D - I
2. A - I, B - II, C - IV, D - III
3. A - II, B - III, C - IV, D - I
4. A - I, B - II, C - III, D - IV

(1) 1

(2) 2

(3) 3

(4) 4

1[Option ID=22797]

2[Option ID=22798]

3[Option ID=22799]

4[Option ID=22800]

SI. No.75
QBID:93075

Match List I with List II

List I	List II
Tests	Test Measure
A. Intelligence test	I. Mental capacity
B. Proficiency test	II. Potential for acquiring skills
C. Vocational tests	III. Suitable area of interest
D. Personality tests	IV. Leadership potential

Choose the **correct** answer from the options given below:

1. A - II, B - III, C - IV, D - I
2. A - I, B - III, C - II, D - IV
3. A - III, B - II, C - IV, D - I
4. A - I, B - II, C - III, D - IV

(1) 1

(2) 2

(3) 3

(4) 4

सूची-I के साथ सूची-II का मिलान कीजिए:

सूची-I (परीक्षण)	सूची-II (परीक्षण माप)
A. बुद्धी-क्षमता परीक्षण	I. मानसिक क्षमता
B. प्रवीणता परीक्षण	II. कौशल प्राप्त करने की सम्भाव्यता
C. व्यवसायिक परीक्षण	III. रुचि को उपयुक्त क्षेत्र
D. व्यक्तित्व परीक्षण	IV. नेतृत्व संभाव्यता

नीचे दिए गए विकल्पों में से सही उत्तर का चयन कीजिए:

1. A - II, B - III, C - IV, D - I
2. A - I, B - III, C - II, D - IV
3. A - III, B - II, C - IV, D - I
4. A - I, B - II, C - III, D - IV

(1) 1

(2) 2

(3) 3

(4) 4

1[Option ID=22801]

2[Option ID=22802]

3[Option ID=22803]

4[Option ID=22804]

SI. No.76
QBID:93076

Arrange the following rivers in sequence from North to South:

- A. Seine
- B. Nile
- C. Thames
- D. Rajang
- E. Kaveri

Choose the **correct** answer from the options given below:

1. B, A, C, E, D
2. D, C, A, E, B
3. C, A, B, E, D
4. D, C, A, B, E

(1) 1

(2) 2

(3) 3

(4) 4

निम्नलिखित नदियों को उत्तर से दक्षिण के क्रम में व्यवस्थित कीजिए:

- A. सीन
- B. नील
- C. टेम्स
- D. राजंग
- E. कावेरी

नीचे दिए गए विकल्पों में से सही उत्तर का चयन कीजिए:

- 1. B, A, C, E, D
- 2. D, C, A, E, B
- 3. C, A, B, E, D
- 4. D, C, A, B, E

(1) 1

(2) 2

(3) 3

(4) 4

1[Option ID=22805]

2[Option ID=22806]

3[Option ID=22807]

4[Option ID=22808]

Sl. No.77
QBID:93077

Grand Tour was conducted in the following routes in Europe between 1661 and 1700. Arrange the destinations in a sequential order of their location geographically from North to South.

- A. Paris
- B. Rome
- C. London
- D. Geneva
- E. Venezia

Choose the **correct** answer from the options given below:

- 1. A, C, B, D, E
- 2. B, A, E, D, C
- 3. C, A, D, E, B
- 4. B, C, A, D, E

(1) 1

(2) 2

(3) 3

(4) 4

1661 और 1700 के बीच यूरोप में निम्नलिखित मार्गों पर 'ग्रांड टूर' आयोजित किया गया। इसके गंतव्य स्थानों को भौगोलिक रूप से उत्तर से दक्षिण की ओर उनकी अवस्थिति में क्रमानुसार व्यवस्थित कीजिए।

- A. पेरिस
- B. रोम
- C. लंदन
- D. जेनेवा
- E. वेनेजिया

नीचे दिए गए विकल्पों में से सही उत्तर का चयन कीजिए:

- 1. A, C, B, D, E
- 2. B, A, E, D, C
- 3. C, A, D, E, B
- 4. B, C, A, D, E

(1) 1

(2) 2

(3) 3

(4) 4

1[Option ID=22809]

2[Option ID=22810]

3[Option ID=22811]

4[Option ID=22812]

SI. No.78
QBID:93078

Arrange the following landmarks in Indian History in chronological order (from first to last)

- A. Marco Polo visits India
- B. Accession of Harsh Vardhan
- C. Ibn Batutta visits India
- D. First Battle of Panipat
- E. Birth of Guru Nanak Dev

Choose the **correct** answer from the options given below:

- 1. E, A, B, D, C
- 2. B, C, A, E, D
- 3. B, A, C, E, D
- 4. A, B, C, D, E

(1) 1

(2) 2

(3) 3

(4) 4

भारतीय इतिहास की निम्नलिखित ऐतिहासिक घटनाओं को कालक्रमानुसार व्यवस्थित कीजिए (आदि से अंत)

- A. मार्कोपोलो का भारत आगमन
- B. हर्षवर्धन का राज्यारोहण
- C. इब्र बतूता का भारत आगमन
- D. पानीपत का प्रथम युद्ध
- E. गुरु नानक देव का जन्म

नीचे दिए गए विकल्पों में से सही उत्तर का चयन कीजिए :

- 1. E, A, B, D, C
- 2. B, C, A, E, D
- 3. B, A, C, E, D
- 4. A, B, C, D, E

(1) 1

(2) 2

(3) 3

(4) 4

- 1[Option ID=22813]
- 2[Option ID=22814]
- 3[Option ID=22815]
- 4[Option ID=22816]

Sl. No.79
QBID:93079

Arrange the following tourist attractions on the highways in Australia, running from North to South, in a sequential order

- A. Victoria
- B. Barossa Valley
- C. Coober Pedy
- D. Ayers Rock
- E. Alice spring

Choose the **correct** answer from the options given below:

- 1. A, B, C, D, E
- 2. B, A, D, E, C
- 3. E, D, C, B, A
- 4. C, A, B, D, E

(1) 1

(2) 2

(3) 3

(4) 4

आस्ट्रेलिया में राजमार्गों पर पर्यटक आकर्षणों को उत्तर से दक्षिण जाने के क्रम में क्रमानुसार व्यवस्थित कीजिए:

- A. विक्टोरिया
- B. बरोसा वैली
- C. कूबर पेडी
- D. आयर्स रॉक
- E. एलिस सिप्रिंग

नीचे दिए गए विकल्पों में से सही उत्तर का चयन कीजिए:

- 1. A, B, C, D, E
- 2. B, A, D, E, C
- 3. E, D, C, B, A
- 4. C, A, B, D, E

(1) 1

(2) 2

(3) 3

(4) 4

1[Option ID=22817]

2[Option ID=22818]

3[Option ID=22819]

4[Option ID=22820]

SI. No.80
QBID:93080

Arrange the following "Freedom of the Air" as introduced by ICAO, in a sequential order.

- A. Rights of an Airline to fly over a country without landing
- B. Rights of an Airline to make a stop in another country to refuel or make repairs
- C. Rights of an Airline to fly within another country, not its home country
- D. Rights of an Airline to fly passengers between two countries, neither of which is its home country

Choose the **correct** answer from the options given below:

- 1. B, A, C, D
- 2. A, C, B, D
- 3. A, B, C, D
- 4. A, B, D, C

(1) 1

(2) 2

(3) 3

(4) 4

आई सी ए ओ द्वारा आरंभ निम्नलिखित 'फ्रीडम ऑफ द एअर' को अनुक्रम में व्यवस्थित कीजिए:

- A. किसी एअरलाइन का बिना उतरे किसी देश के उपर से उड़ने का अधिकार
- B. किसी एअरलाइन का पुनः ईंधन भराने या मरम्मत करने के लिए अन्य देश में रुकने का अधिकार
- C. किसी एअरलाइन का अपने गृह देश में नहीं अपितु अन्य देश में उड़ान भरने का अधिकार
- D. किसी एअरलाइन का दो देशों के मध्य यात्रियों को लेकर उड़ान भरने का अधिकार, जबकि ये उसका गृह देश नहीं है

नीचे दिए गए विकल्पों में से सही उत्तर का चयन कीजिए:

- 1. B, A, C, D
- 2. A, C, B, D
- 3. A, B, C, D
- 4. A, B, D, C

(1) 1

(2) 2

(3) 3

(4) 4

1[Option ID=22821]

2[Option ID=22822]

3[Option ID=22823]

4[Option ID=22824]

SI. No.81
QBID:93081

Arrange the following dishes in the correct sequence to be placed in a table d'hôte menu:

- A. Cannelloni of scallop with ginger veloute
- B. Tomato gazpacho with marinated prawns and avocado cream
- C. Poached Bresse Chicken with a blanquette of root vegetables and morels
- D. Fondant of Strawberry with Lychee Sorbet
- E. Coffee and Friandises

Choose the **correct** answer from the options given below:

- 1. B, A, C, D, E
- 2. B, C, E, A, D
- 3. A, E, D, C, B
- 4. A, E, B, C, D

(1) 1

(2) 2

(3) 3

(4) 4

निम्नलिखित व्यंजनो को एक टेबल डी' होत मिन्यू में रखते हुए सही क्रम में व्यवस्थित कीजिए।

- A. जिंजर वेलाउते के साथ कैनेल्लोनी ऑफ स्कैल्लोप
- B. मैरिनेटेड प्रान्स और एवोकैडो क्रीव के साथ टोमेटो गैजपाचो
- C. एक ब्लैन्केती ऑफ रूट वेजीटेबल्स और मोरेल्स के साथ पोचड ब्रीज चिकन
- D. लीचि सोर्बेट के साथ स्ट्राबेरी ऑफ फोन्डेंट
- E. कॉफी और फ्रियाडिसेज

नीचे दिए गए विकल्पों में से सही उत्तर का चयन कीजिए:

- 1. B, A, C, D, E
- 2. B, C, E, A, D
- 3. A, E, D, C, B
- 4. A, E, B, C, D

(1) 1

(2) 2

(3) 3

(4) 4

1[Option ID=22825]

2[Option ID=22826]

3[Option ID=22827]

4[Option ID=22828]

SI. No.82
QBID:93082

Given below are stages of the consumer buying process. Arrange these stages in logical sequential order in which these are covered

- A. Need recognition
- B. Evaluation of alternatives
- C. Purchase decision
- D. Information search
- E. Post purchase behaviour

Choose the **correct** answer from the options given below:

- 1. A, B, C, D, E
- 2. B, E, A, C, D
- 3. C, D, A, B, E
- 4. A, D, B, C, E

(1) 1

(2) 2

(3) 3

(4) 4

नीचे उपभोक्ता क्रय (खरीद) प्रक्रिया के चरण दिए गए हैं निम्नलिखित चरणों को उस तार्किक अनुक्रम में व्यवस्थित कीजिए जिसमें ये सभी आते हैं

- A. आवश्यकता पहचान
- B. विकल्पों का मूल्यांकन
- C. क्रय निर्णय
- D. सूचना की खोज
- E. क्रयोत्तर (के पश्चात) व्यवहार

नीचे दिए गए विकल्पों में से सही उत्तर का चयन कीजिए:

- 1. A, B, C, D, E
- 2. B, E, A, C, D
- 3. C, D, A, B, E
- 4. A, D, B, C, E

(1) 1

(2) 2

(3) 3

(4) 4

1[Option ID=22829]

2[Option ID=22830]

3[Option ID=22831]

4[Option ID=22832]

SI. No.83

QBID:93083

Transport Policies of USA and UK have passed through the following distinct phases. Arrange the phases in order of their occurrence:

- A. The Railway Age
- B. The Age of Administrative Planning
- C. The Age of Contestability
- D. The Age of Protection
- E. The Age of Public-Private Partnership

Choose the **correct** answer from the options given below:

- 1. B, A, D, C, E
- 2. C, B, D, A, E
- 3. A, D, B, C, E
- 4. D, A, B, C, E

(1) 1

(2) 2

(3) 3

(4) 4

यू एस ए और यू के की यातायात नीति निम्नलिखित विशिष्ट अवस्थाओं के द्वारा पारित की गई। इन अवस्थाओं को उनके अभ्युदय के अनुक्रम में व्यवस्थित कीजिए:

- A. द रेलवे ऐज (रेलयुग)
- B. द ऐज ऑफ एडमिनिस्ट्रेटिव प्लानिंग (प्रशासनिक नियोजन युग)
- C. द ऐज ऑफ कन्टेस्टेबिलिटी (विवादास्पद युग)
- D. द ऐज ऑफ प्रोटेक्शन (संरक्षण युग)
- E. द ऐज ऑफ पब्लिक-प्राइवेट पार्टनरशिप (सार्वजनिक-नी साझेदारी युग)

नीचे दिए गए विकल्पों में से सही उत्तर का चयन कीजिए:

- 1. B, A, D, C, E
- 2. C, B, D, A, E
- 3. A, D, B, C, E
- 4. D, A, B, C, E

(1) 1

(2) 2

(3) 3

(4) 4

1[Option ID=22833]

2[Option ID=22834]

3[Option ID=22835]

4[Option ID=22836]

SI. No.84
QBID:93084

Systematic Literature Review process comprises the following broad steps. Arrange the steps in the logical sequence in which these are taken.

- A. Extract the results of each study and synthesize results
- B. Appraise the quality of studies
- C. Assess the relevance of each study for research questions
- D. Seek out studies relevant to the scope and purpose of the review
- E. Define the purpose and scope of the review

Choose the **correct** answer from the options given below:

- 1. E, C, D, B, A
- 2. E, A, B, C, D
- 3. A, B, C, D, E
- 4. E, D, C, B, A

(1) 1

(2) 2

(3) 3

(4) 4

सुव्यवस्थित तरीके से साहित्य समीक्षा प्रक्रिया निम्नलिखित वृहत कदमों का समाविष्ट करता है: इन कदमों को उठाए जाने की तार्किक अनुक्रम में व्यवस्थित कीजिए:

- A. प्रत्येक अध्ययन के 'परिणामों' को प्राप्त करना और परिणामों को संश्लेषित करना।
- B. अध्ययन की गुणवत्ता का मूल्यांकन करना
- C. शोध प्रश्नों के हेतु प्रत्येक अध्ययन की प्रासंगिकता का निर्धारण करना
- D. समीक्षा के कार्यक्षेत्र एवं उद्देश्य हेतु अध्ययन प्रासंगिकता का पता लगाना
- E. समीक्षा के उद्देश्य एवं कार्यक्षेत्र को स्पष्ट करना

नीचे दिए गए विकल्पों में से सही उत्तर का चयन कीजिए:

1. E, C, D, B, A
2. E, A, B, C, D
3. A, B, C, D, E
4. E, D, C, B, A

(1) 1

(2) 2

(3) 3

(4) 4

1[Option ID=22837]

2[Option ID=22838]

3[Option ID=22839]

4[Option ID=22840]

SI. No.85
QBID:93085

Decision making process in an organization involves responding to following questions. Arrange these in logical order in which these are addressed.

- A. What can be done?
- B. What should be done?
- C. What is intended to be done?
- D. What is authorized to be done?
- E. What is actually done

Choose the **correct** answer from the options given below:

1. C, A, B, E, D
2. B, C, A, D, E
3. A, B, C, D, E
4. D, E, A, B, C

(1) 1

(2) 2

(3) 3

(4) 4

एक संगठन में नीति निर्माण प्रक्रिया में निम्नलिखित प्रश्नों के प्रति अनुक्रिया करना सम्मिलित है। इन्हें उस तार्किक क्रम में व्यवस्थित कीजिए, जिसमें उन पर ध्यान दिया गया है

- A. क्या किया जा सकता है?
- B. क्या किया जाना चाहिए?
- C. क्या करने के लिए इरादा किया गया है?
- D. क्या करने के लिए प्राधिकृत किया गया है?
- E. वास्तव में क्या किया गया है?

नीचे दिए गए विकल्पों में से सही उत्तर का चयन कीजिए:

- 1. C, A, B, E, D
- 2. B, C, A, D, E
- 3. A, B, C, D, E
- 4. D, E, A, B, C

(1) 1

(2) 2

(3) 3

(4) 4

1[Option ID=22841]

2[Option ID=22842]

3[Option ID=22843]

4[Option ID=22844]

SI. No.86
QBID:93086

Given below are two statements, one is labelled as Assertion A and the other is labelled as Reason R

Assertion A: Each season is divided into winter, spring, summer and autumn. This brings changes in temperature, weather and the length of daylight.

Reason R: The changing seasons are caused by the changing position of the earth in relation to the sun.

In light of the above statements, choose the *most appropriate* answer from the options given below:

- 1. Both A and R are correct and R is the correct explanation of A
- 2. Both A and R are correct but R is NOT the correct explanation of A
- 3. A is correct but R is not correct
- 4. A is not correct but R is correct

(1) 1

(2) 2

(3) 3

(4) 4

नीचे दो कथन दिए गए हैं : एक को अभिकथन (A) और दूसरे को तर्क (R) कहा गया है।

अभिकथन (A) : प्रत्येक मौसम को शीतकाल, वसंत काल, ग्रीष्मकाल और शरतकाल में विभाजित किया जाता है। इससे तापमान, मौसम और दिन की लम्बाई में परिवर्तन आते हैं।

तर्क (R) : सूर्य के संबंध में पृथ्वी की बदलती स्थिति के कारण मौसम में बदलाव आता है।

उपर्युक्त कथनों के आलोक में निम्नांकित विकल्पों में से सही उत्तर चुनें :

1. (A) और (R) दोनों सही हैं और (R), (A) की सही व्याख्या है।
2. (A) और (R) दोनों सही हैं परन्तु (R), (A) की सही व्याख्या नहीं है।
3. (A) सही है परन्तु (R) सही नहीं है।
4. (A) सही नहीं है परन्तु (R) सही है।

(1) 1

(2) 2

(3) 3

(4) 4

1[Option ID=22845]

2[Option ID=22846]

3[Option ID=22847]

4[Option ID=22848]

SI. No.87

QBID:93087

Given below are two statements, one is labelled as Assertion A and the other is labelled as Reason R

Assertion A: A major portion of population of Haryana, Rajasthan and Gujarat is vegetarian.

Reason R: India has been the land of Buddha, Mahavira and Gandhi

In light of the above statements, choose the *correct* answer from the options given below:

1. Both A and R are true and R is the correct explanation of A
2. Both A and R are true but R is NOT the correct explanation of A
3. A is true but R is false
4. A is false but R is true

(1) 1

(2) 2

(3) 3

(4) 4

नीचे दो कथन दिए गए हैं : एक को अभिकथन (A) और दूसरे को तर्क (R) कहा गया है।

अभिकथन (A) : हरियाणा, राजस्थान और गुजरात की जनसंख्या का एक बड़ा हिस्सा शाकाहारी है।

तर्क (R) : भारत बुद्ध, महावीर और गांधी की भूमि रही है।

उपर्युक्त कथनों के आलोक में निम्नांकित विकल्पों में से सही उत्तर चुनें :

1. (A) और (R) दोनों सही हैं और (R), (A) की सही व्याख्या है।
2. (A) और (R) दोनों सही हैं परन्तु (R), (A) की सही व्याख्या नहीं है।
3. (A) सही है परन्तु (R) सही नहीं है।
4. (A) सही नहीं है परन्तु (R) सही है।

(1) 1

(2) 2

(3) 3

(4) 4

- 1[Option ID=22849]
2[Option ID=22850]
3[Option ID=22851]
4[Option ID=22852]

SI. No.88
QBID:93088

Given below are two statements, one is labelled as Assertion A and the other is labelled as Reason R

Assertion A: A Florida based shipping agent 'Ted Arison' named "Carnival Cruise Lines" to convey the image of cruising.

Reason R: Mr. Arison foresaw unlimited potential in the Miami-Caribbean market with differences from his competitors by proving premium pricing to attract the first timers.

In light of the above statements, choose the *correct* answer from the options given below:

1. Both A and R are true and R is the correct explanation of A
2. Both A and R are true but R is NOT the correct explanation of A
3. A is true but R is false
4. A is false but R is true

- (1) 1
(2) 2
(3) 3
(4) 4

नीचे दो कथन दिए गए हैं : एक को अभिकथन (A) और दूसरे को तर्क (R) कहा गया है।

अभिकथन (A) : फ्लोरिडा निवासी नौपरिवहन प्रतिनिधि 'टेड एरिसन' ने समुद्री यात्रा की छबि को अभिव्यक्त करने के लिए 'कार्निवल क्रुज लाईन्स' नाम दिया।

तर्क (R) : मिस्टर एरिसन ने मिआमी-कैरिबियाई बाजार में असीमित सांभावनाओं का पूर्वानुमान किया जिसमें पहली बार के उपभोक्ताओं को आकर्षित करने के लिए प्रीमियम मूल्यनिर्धारण प्रदान करने के द्वारा अपने प्रतिस्पर्धियों के साथ अंतर रखना शामिल था।

उपर्युक्त कथनों के आलोक में निम्नांकित विकल्पों में से सही उत्तर चुनें :

1. (A) और (R) दोनों सही हैं और (R), (A) की सही व्याख्या है।
2. (A) और (R) दोनों सही हैं परन्तु (R), (A) की सही व्याख्या नहीं है।
3. (A) सही है परन्तु (R) सही नहीं है।
4. (A) सही नहीं है परन्तु (R) सही है।

- (1) 1
(2) 2
(3) 3
(4) 4

- 1[Option ID=22853]
2[Option ID=22854]
3[Option ID=22855]
4[Option ID=22856]

SI. No.89
QBID:93089

Given below are two statements, one is labelled as Assertion A and the other is labelled as Reason R

Assertion A: Travel+Leisure World's best Awards 2022 has ranked the Oberoi Udaivilas, Udaipur as No-1 Resort in India

Reason R: To conform to the expected standards for different classes of tourists, especially from the point of view of suitability for international tourists, Ministry of Tourism, Govt. of India, classifies hotels under star rating system and various categories such as heritage hotels, Resorts etc

In light of the above statements, choose the *correct* answer from the options given below:

1. Both A and R are true and R is the correct explanation of A
2. Both A and R are true but R is NOT the correct explanation of A
3. A is true but R is false
4. A is false but R is true

(1) 1

(2) 2

(3) 3

(4) 4

नीचे दो कथन दिए गए हैं : एक को अभिकथन (A) और दूसरे को तर्क (R) कहा गया है।

अभिकथन (A) : ट्रावेल + लेजर वर्ल्ड्स बेस्ट अवार्ड्स 2022 ने भारत में नंबर-1 रिसॉर्ट के रूप में ऑबेरोय उदयविलास को रैंक प्रदान की है।

तर्क (R) : पर्यहस्ते, विशेषकर अंतर्राष्ट्रीय पर्यटकों की उपयुक्तता की दृष्टि से भिन्न वर्गों के लिए अपेक्षित मानकों के पालन के लिए भारत सरकार का पर्यटन मंत्रालय होटलों को स्तर रेटिंग प्रणाली और हैरिटेज होटल्स, रिसॉर्ट आदि जैसी विभिन्न श्रेणियों में वर्गीकृत करता है।

उपर्युक्त कथनों के आलोक में निम्नांकित विकल्पों में से सही उत्तर चुनें :

1. (A) और (R) दोनों सही हैं और (R), (A) की सही व्याख्या है।
2. (A) और (R) दोनों सही हैं परन्तु (R), (A) की सही व्याख्या नहीं है।
3. (A) सही है परन्तु (R) सही नहीं है।
4. (A) सही नहीं है परन्तु (R) सही है।

(1) 1

(2) 2

(3) 3

(4) 4

1[Option ID=22857]

2[Option ID=22858]

3[Option ID=22859]

4[Option ID=22860]

SI. No.90

QBID:93090

Given below are two statements, one is labelled as Assertion A and the other is labelled as Reason R

Assertion A: The ability of a firm to cooperate with other hotels and service providers has always been a major advantage in strategies to improve service levels and retention of customers.

Reason R: In the hospitality context, hospitality services are based on fixed points of sale, whereas hotel customers are mostly travellers.

In light of the above statements, choose the *correct* answer from the options given below:

1. Both A and R are true and R is the correct explanation of A
2. Both A and R are true but R is NOT the correct explanation of A
3. A is true but R is false
4. A is false but R is true

- (1) 1
(2) 2
(3) 3
(4) 4

नीचे दो कथन दिए गए हैं : एक को अभिकथन (A) और दूसरे को तर्क (R) कहा गया है।

अभिकथन (A) : किसी कंपनी का अन्य होटल एवं सेवा प्रदाताओं के साथ सहयोग करने की योग्यता सेवा स्तरों में सुधार एवं ग्राहक प्रतिधारण हेतु रणनीतियों में सदैव एक प्रमुख लाभ के रूप में रहा है।

तर्क (R) : आतिथ्य के संदर्भ में, आतिथ्य सेवाएं निश्चित विक्रम बिंदुओं पर आधारित होती हैं क्योंकि होटल के ग्राहक अधिकांशतः यात्री होते हैं।


उपर्युक्त कथनों के आलोक में निम्नांकित विकल्पों में से सही उत्तर चुनें :

1. (A) और (R) दोनों सही हैं और (R), (A) की सही व्याख्या है।
2. (A) और (R) दोनों सही हैं परन्तु (R), (A) की सही व्याख्या नहीं है।
3. (A) सही है परन्तु (R) सही नहीं है।
4. (A) सही नहीं है परन्तु (R) सही है।

- (1) 1
(2) 2
(3) 3
(4) 4

- 1[Option ID=22861]
2[Option ID=22862]
3[Option ID=22863]
4[Option ID=22864]

Sl. No.91
QBID:93091



Read the following passage and answer the questions

The world's best-known mousoleum celebrates one of the greatest love stories of all time - that of the seventeenth-century Mogul emperor, Shah Jahan, and his queen, the "Chosen One of the Palace," Mumtaz Mahal. As a sixteen-year old prince, according to legend, the future "King of the World" fell in love with Mumtaz at first sight and defied convention by seeking her hand in marriage; he waited five years for their wedding. In their nineteen years of married life, the queen gave Shah Jahan fourteen children. She ruled at his side almost as an equal. Her death in child birth in 1631, the fourth year of the emperor's reign, left him wild with grief but determined to build history's finest monument to the love of a man for a woman - The Taj Mahal.

As descendants of Tamerlane and Genghis Khan, the moguls delighted in bloody combat, savage sports and hideous tortures of their victims. In the absence of primogeniture, brother fought brother for the throne; it was the law of takht ya takhta - "throne or coffin". Once crowned, the emperors sought unlimited pleasure in women, wine and opium. Less than a century after Shah Jahan was deposed by his ruthlessly ambitious son, the dynasty was in irreversible decline.

निम्नलिखित गद्यांश को पढ़ें और प्रश्नों के उत्तर दीजिए।

सत्रहवीं शताब्दी के मुगल सम्राट शाहजहां और उनकी रानी के लिए चुनिंदा महल- मुमताज़ महल विश्व विख्यात मकबरा इन दोनों की महान प्रेम कहानी को दर्शाता है। किंवदंती के अनुसार एक सोलह वर्षीय राजकुमार के रूप में शाहजहां को, जिसे विश्व के भावी राजा के रूप में माना गया, पहली ही नजर में मुमताज़ से प्यार हो गया और उसने उससे विवाह के लिए प्रचलित प्रथा की अवज्ञा की। उसने उससे शादी के लिए पाँच वर्ष तक प्रतीक्षा की थी। इन दोनों के उन्नीस वर्ष के वैवाहिक जीवन में रानी मुमताज़ ने चौदह बच्चों को जन्म दिया। उसने शाहजहां का साथ देते हुए लगभग एक समान भागीदार के रूप में शासन किया। 1631 में बच्चे के जन्म के दौरान मुमताज़ की मौत हो गई, जब शाहजहां के शासन का चौथा वर्ष था। इस मौत से उसे गहरा दुःख पहुंचा और उसने एक महिला के प्रति एक पुरुष के प्यार की याद में इतिहास का एक सर्वोत्कृष्ट स्मारक ताजमहाल के निर्माण का दृढ़ निश्चय किया।

तैमरलेन और चंगेजखान के वंशज के रूप में मुगल खूनी लड़ाईयों, बर्बर खेलों और जघन्य अत्याचार करने में आनंद प्राप्त करते थे। ज्येष्ठाधिकार की अनुपस्थिति में सिंहासन हासिल करने के लिए भाई ने भाई के साथ लड़ाई लड़ी; यह तख्त या तख्ता-"सिंहासन या ताबूत" का नियम था। सिंहासन का ताज पहनने पर मुगल शासक महिलाओं, मदिरा और अफीम की लत में असीम आनंद प्राप्त करते थे। शाहजहां को उसके निर्दयी महत्वाकांक्षी पुत्र ने गद्दी से हटा दिया, जिसके बाद एक शताब्दी से भी कम समय में यह राजवंश अपरिवर्तनीय पतन में रहा।

Emperor Shah Jahan was earlier known as:

1. Khurram
2. Khusrow
3. Salim
4. Murad

- (1) 1
(2) 2
(3) 3
(4) 4

सम्राट शाहजहां को पूर्व में किस नाम से जाना जाता था?

1. खूरम
2. खुसरो
3. सलीम
4. मुराद

- (1) 1
(2) 2
(3) 3
(4) 4

Read the following passage and answer the questions

The world's best-known mousoleum celebrates one of the greatest love stories of all time - that of the seventeenth-century Mogul emperor, Shah Jahan, and his queen, the "Chosen One of the Palace," Mumtaz Mahal. As a sixteen-year old prince, according to legend, the future "King of the World" fell in love with Mumtaz at first sight and defied convention by seeking her hand in marriage; he waited five years for their wedding. In their nineteen years of married life, the queen gave Shah Jahan fourteen children. She ruled at his side almost as an equal. Her death in child birth in 1631, the fourth year of the emperor's reign, left him wild with grief but determined to build history's finest monument to the love of a man for a woman - The Taj Mahal.

As descendants of Tamerlane and Genghis Khan, the moguls delighted in bloody combat, savage sports and hideous tortures of their victims. In the absence of primogeniture, brother fought brother for the throne; it was the law of takht ya takhta - "throne or coffin". Once crowned, the emperors sought unlimited pleasure in women, wine and opium. Less than a century after Shah Jahan was deposed by his ruthlessly ambitious son, the dynasty was in irreversible decline.

निम्नलिखित गद्यांश को पढ़ें और प्रश्नों के उत्तर दीजिए।

सत्रहवीं शताब्दी के मुगल सम्राट शाहजहां और उनकी रानी के लिए चुनिंदा महल- मुमताज़ महल विश्व विख्यात मकबरा इन दोनों की महान प्रेम कहानी को दर्शाता है। किंवदंती के अनुसार एक सोलह वर्षीय राजकुमार के रूप में शाहजहां को, जिसे विश्व के भावी राजा के रूप में माना गया, पहली ही नजर में मुमताज से प्यार हो गया और उसने उससे विवाह के लिए प्रचलित प्रथा की अवज्ञा की। उसने उससे शादी के लिए पाँच वर्ष तक प्रतीक्षा की थी। इन दोनों के उन्नीस वर्ष के वैवाहिक जीवन में रानी मुमताज ने चौदह बच्चों को जन्म दिया। उसने शाहजहां का साथ देते हुए लगभग एक समान भागीदार के रूप में शासन किया। 1631 में बच्चे के जन्म के दौरान मुमताज की मौत हो गई, जब शाहजहां के शासन का चौथा वर्ष था। इस मौत से उसे गहरा दुःख पहुंचा और उसने एक महिला के प्रति एक पुरुष के प्यार की याद में इतिहास का एक सर्वोत्कृष्ट स्मारक ताजमहाल के निर्माण का दृढ़ निश्चय किया।

तैमरलेन और चंगेजखान के वंशज के रूप में मुगल खूनी लड़ाईयों, बर्बर खेलों और जघन्य अत्याचार करने में आनंद प्राप्त करते थे। ज्येष्ठाधिकार की अनुपस्थिति में सिंहासन हासिल करने के लिए भाई ने भाई के साथ लड़ाई लड़ी; यह तख्त या तख्ता-"सिंहासन या ताबूत" का नियम था। सिंहासन का ताज पहनने पर मुगल शासक महिलाओं, मदिरा और अफीम की लत में असीम आनंद प्राप्त करते थे। शाहजहां को उसके निर्दयी महत्वाकांक्षी पुत्र ने गद्दी से हटा दिया, जिसके बाद एक शताब्दी से भी कम समय में यह राजवंश अपरिवर्तनीय पतन में रहा।

The queen Mumtaz died giving birth to a child in:

1. Agra
2. Burhanpur
3. Lahore
4. Ahmedabad

- (1) 1
(2) 2
(3) 3
(4) 4

निम्नलिखित में से किस स्थान में बच्चे को जन्म देने के दौरान रानी मुमताज की मौत हो गई थी?

1. आगरा
2. बुरहानपुर
3. लाहौर
4. अहमदाबाद

- (1) 1
(2) 2

(3) 3

(4) 4

1[Option ID=22869]

2[Option ID=22870]

3[Option ID=22871]

4[Option ID=22872]

Sl. No.93
QBID:93093

Read the following passage and answer the questions

The world's best-known mausoleum celebrates one of the greatest love stories of all time - that of the seventeenth-century Mogul emperor, Shah Jahan, and his queen, the "Chosen One of the Palace," Mumtaz Mahal. As a sixteen-year old prince, according to legend, the future "King of the World" fell in love with Mumtaz at first sight and defied convention by seeking her hand in marriage; he waited five years for their wedding. In their nineteen years of married life, the queen gave Shah Jahan fourteen children. She ruled at his side almost as an equal. Her death in child birth in 1631, the fourth year of the emperor's reign, left him wild with grief but determined to build history's finest monument to the love of a man for a woman - The Taj Mahal.

As descendants of Tamerlane and Genghis Khan, the moguls delighted in bloody combat, savage sports and hideous tortures of their victims. In the absence of primogeniture, brother fought brother for the throne; it was the law of takht ya takhta - "throne or coffin". Once crowned, the emperors sought unlimited pleasure in women, wine and opium. Less than a century after Shah Jahan was deposed by his ruthlessly ambitious son, the dynasty was in irreversible decline.

निम्नलिखित गद्यांश को पढ़ें और प्रश्नों के उत्तर दीजिए।

सत्रहवीं शताब्दी के मुगल सम्राट शाहजहां और उनकी रानी के लिए चुनिंदा महल- मुमताज़ महल विश्व विख्यात मकबरा इन दोनों की महान प्रेम कहानी को दर्शाता है। किंवदंती के अनुसार एक सोलह वर्षीय राजकुमार के रूप में शाहजहां को, जिसे विश्व के भावी राजा के रूप में माना गया, पहली ही नजर में मुमताज से प्यार हो गया और उसने उससे विवाह के लिए प्रचलित प्रथा की अवज्ञा की। उसने उससे शादी के लिए पाँच वर्ष तक प्रतीक्षा की थी। इन दोनों के उन्नीस वर्ष के वैवाहिक जीवन में रानी मुमताज ने चौदह बच्चों को जन्म दिया। उसने शाहजहां का साथ देते हुए लगभग एक समान भागीदार के रूप में शासन किया। 1631 में बच्चे के जन्म के दौरान मुमताज की मौत हो गई, जब शाहजहां के शासन का चौथा वर्ष था। इस मौत से उसे गहरा दुःख पहुंचा और उसने एक महिला के प्रति एक पुरुष के प्यार की याद में इतिहास का एक सर्वोत्कृष्ट स्मारक ताजमहाल के निर्माण का दृढ़ निश्चय किया।

तैमूरलेन और चंगेजखान के वंशज के रूप में मुगल खूनी लड़ाईयों, बर्बर खेलों और जघन्य अत्याचार करने में आनंद प्राप्त करते थे। ज्येष्ठाधिकार की अनुपस्थिति में सिंहासन हासिल करने के लिए भाई ने भाई के साथ लड़ाई लड़ी; यह तख्त या तख्ता-"सिंहासन या ताबूत" का नियम था। सिंहासन का ताज पहनने पर मुगल शासक महिलाओं, मदिरा और अफीम की लत में असीम आनंद प्राप्त करते थे। शाहजहां को उसके निर्दयी महत्वाकांक्षी पुत्र ने गद्दी से हटा दिया, जिसके बाद एक शताब्दी से भी कम समय में यह राजवंश अपरिवर्तनीय पतन में रहा।

Taj Mahal was completed in year:

1. 1632
2. 1643
3. 1654
4. 1666

(1) 1

(2) 2

(3) 3

(4) 4

ताज महल का निर्माण किस वर्ष में पुरा हुआ था?

1. 1632
2. 1643
3. 1654
4. 1666

(1) 1

(2) 2

(3) 3

(4) 4

1[Option ID=22873]

2[Option ID=22874]

3[Option ID=22875]

4[Option ID=22876]

SI. No.94
QBID:93094

Read the following passage and answer the questions

The world's best-known mausoleum celebrates one of the greatest love stories of all time - that of the seventeenth-century Mogul emperor, Shah Jahan, and his queen, the "Chosen One of the Palace," Mumtaz Mahal. As a sixteen-year old prince, according to legend, the future "King of the World" fell in love with Mumtaz at first sight and defied convention by seeking her hand in marriage; he waited five years for their wedding. In their nineteen years of married life, the queen gave Shah Jahan fourteen children. She ruled at his side almost as an equal. Her death in child birth in 1631, the fourth year of the emperor's reign, left him wild with grief but determined to build history's finest monument to the love of a man for a woman - The Taj Mahal.

As descendants of Tamerlane and Genghis Khan, the moguls delighted in bloody combat, savage sports and hideous tortures of their victims. In the absence of primogeniture, brother fought brother for the throne; it was the law of takht ya takhta - "throne or coffin". Once crowned, the emperors sought unlimited pleasure in women, wine and opium. Less than a century after Shah Jahan was deposed by his ruthlessly ambitious son, the dynasty was in irreversible decline.

निम्नलिखित गद्यांश को पढ़ें और प्रश्नों के उत्तर दीजिए।

सत्रहवीं शताब्दी के मुगल सम्राट शाहजहां और उनकी रानी के लिए चुनिंदा महल- मुमताज़ महल विश्व विख्यात मकबरा इन दोनों की महान प्रेम कहानी को दर्शाता है। किंवदंती के अनुसार एक सोलह वर्षीय राजकुमार के रूप में शाहजहां को, जिसे विश्व के भावी राजा के रूप में माना गया, पहली ही नजर में मुमताज से प्यार हो गया और उसने उससे विवाह के लिए प्रचलित प्रथा की अवज्ञा की। उसने उससे शादी के लिए पाँच वर्ष तक प्रतीक्षा की थी। इन दोनों के उन्नीस वर्ष के वैवाहिक जीवन में रानी मुमताज ने चौदह बच्चों को जन्म दिया। उसने शाहजहां का साथ देते हुए लगभग एक समान भागीदार के रूप में शासन किया। 1631 में बच्चे के जन्म के दौरान मुमताज की मौत हो गई, जब शाहजहां के शासन का चौथा वर्ष था। इस मौत से उसे गहरा दुःख पहुंचा और उसने एक महिला के प्रति एक पुरुष के प्यार की याद में इतिहास का एक सर्वोत्कृष्ट स्मारक ताजमहाल के निर्माण का दृढ़ निश्चय किया।

तैमूरलेन और चंगेजखान के वंशज के रूप में मुगल खूनी लड़ाईयों, बर्बर खेलों और जघन्य अत्याचार करने में आनंद प्राप्त करते थे। ज्येष्ठाधिकार की अनुपस्थिति में सिंहासन हासिल करने के लिए भाई ने भाई के साथ लड़ाई लड़ी; यह तख्त या तख्ता-"सिंहासन या ताबूत" का नियम था। सिंहासन का ताज पहनने पर मुगल शासक महिलाओं, मदिरा और अफीम की लत में असीम आनंद प्राप्त करते थे। शाहजहां को उसके निर्दयी महत्वाकांक्षी पुत्र ने गद्दी से हटा दिया, जिसके बाद एक शताब्दी से भी कम समय में यह राजवंश अपरिवर्तनीय पतन में रहा।

Popularly known as Mumtaz Mahal, was earlier known as:

1. Arjumand Banu
2. Roshanara
3. Salima
4. Jahanara

(1) 1

(2) 2

(3) 3

(4) 4

मुमताज महल को पहले किस नाम से जाना जाता था?

1. अर्जुमन बानु
2. रोशनआरा
3. सलीमा
4. जहाँआरा

(1) 1

(2) 2

(3) 3

(4) 4

1[Option ID=22877]

2[Option ID=22878]

3[Option ID=22879]

4[Option ID=22880]

SI. No.95
QBID:93095

Read the following passage and answer the questions

The world's best-known mausoleum celebrates one of the greatest love stories of all time - that of the seventeenth-century Mogul emperor, Shah Jahan, and his queen, the "Chosen One of the Palace," Mumtaz Mahal. As a sixteen-year old prince, according to legend, the future "King of the World" fell in love with Mumtaz at first sight and defied convention by seeking her hand in marriage; he waited five years for their wedding. In their nineteen years of married life, the queen gave Shah Jahan fourteen children. She ruled at his side almost as an equal. Her death in child birth in 1631, the fourth year of the emperor's reign, left him wild with grief but determined to build history's finest monument to the love of a man for a woman - The Taj Mahal.

As descendants of Tamerlane and Genghis Khan, the moguls delighted in bloody combat, savage sports and hideous tortures of their victims. In the absence of primogeniture, brother fought brother for the throne; it was the law of takht ya takhta - "throne or coffin". Once crowned, the emperors sought unlimited pleasure in women, wine and opium. Less than a century after Shah Jahan was deposed by his ruthlessly ambitious son, the dynasty was in irreversible decline.

निम्नलिखित गद्यांश को पढ़ें और प्रश्नों के उत्तर दीजिए।

सत्रहवीं शताब्दी के मुगल सम्राट शाहजहाँ और उनकी रानी के लिए चुनिंदा महल- मुमताज़ महल विश्व विख्यात मकबरा इन दोनों की महान प्रेम कहानी को दर्शाता है। किंवदंती के अनुसार एक सोलह वर्षीय राजकुमार के रूप में शाहजहाँ को, जिसे विश्व के भावी राजा के रूप में माना गया, पहली ही नजर में मुमताज से प्यार हो गया और उसने उससे विवाह के लिए प्रचलित प्रथा की अवज्ञा की। उसने उससे शादी के लिए पाँच वर्ष तक प्रतीक्षा की थी। इन दोनों के उन्नीस वर्ष के वैवाहिक जीवन में रानी मुमताज ने चौदह बच्चों को जन्म दिया। उसने शाहजहाँ का साथ देते हुए लगभग एक समान भागीदार के रूप में शासन किया। 1631 में बच्चे के जन्म के दौरान मुमताज की मौत हो गई, जब शाहजहाँ के शासन का चौथा वर्ष था। इस मौत से उसे गहरा दुःख पहुंचा और उसने एक महिला के प्रति एक पुरुष के प्यार की याद में इतिहास का एक सर्वोत्कृष्ट स्मारक ताजमहाल के निर्माण का दृढ़ निश्चय किया।

तैमूरलेन और चंगेजखान के वंशज के रूप में मुगल खूनी लड़ाईयों, बर्बर खेलों और जघन्य अत्याचार करने में आनंद प्राप्त करते थे। ज्येष्ठाधिकार की अनुपस्थिति में सिंहासन हासिल करने के लिए भाई ने भाई के साथ लड़ाई लड़ी; यह तख्त या तख्ता-"सिंहासन या ताबूत" का नियम था। सिंहासन का ताज पहनने पर मुगल शासक महिलाओं, मदिरा और अफीम की लत में असीम आनंद प्राप्त करते थे। शाहजहाँ को उसके निर्दयी महत्वाकांक्षी पुत्र ने गद्दी से हटा दिया, जिसके बाद एक शताब्दी से भी कम समय में यह राजवंश अपरिवर्तनीय पतन में रहा।

The first wife of Shah Jahan was a Persian princess:

1. Quandari Begam
2. Udaipuri Begam
3. Mumtaz Begam
4. Haji Begam

(1) 1

(2) 2

(3) 3

(4) 4

शाहजहां की पहली पत्नी एक परशियन राजकुमारी का क्या नाम था?

1. कंदारी बेगम
2. उदयपुरी बेगम
3. मुमताज बेगम
4. हाजी बेगम

(1) 1

(2) 2

(3) 3

(4) 4


1[Option ID=22881]

2[Option ID=22882]

3[Option ID=22883]

4[Option ID=22884]

SI. No.96
QBID:93096



Read the Paragraph and answer the questions

Corporations with social power have more corporate social responsibilities (CSR) and those organisations that do not meet their social responsibilities risk losing the power, a principle referred to as the 'Iron Law of Responsibility'. Enron, Arthur Anderson, Merrill Lynch, World.com and Martha Stewart have fallen due to allegations of social irresponsibility. There are increased calls upon business to be environmentally and socially responsible, accountable, transparent, inclusive, equitable and sustainable. There is an increasing demand by society for business to be more responsible and contribute to the betterment of the society. The phrase social responsibility tends to trigger image of charitable contribution, but it actually refers to much more. According to Narayan Murthy, social responsibility is to create maximum share holder's value working under the circumstances, where it is fair to all its stakeholders, workers, consumers, the community, Government and the environment. Companies in India have been proactive in taking up CSR initiatives and integrating them in their business process. After independence, JRD Tata advised that apart from the obvious one of donating funds to good cause, they could have used their own financial, managerial and human resources to provide task forces for undertaking direct relief and reconstruction measure. Slowly, it began to be accepted that business lead to share a part of the social overhead cost of the society. Traditionally, it had discharged its responsibilities to the society through benefactions for education, medical facilities and scientific research among other objects. The last decade witnessed a swing away from charity and traditional philanthropy towards more direct arrangement of business in mainstream development and concern for disadvantaged groups in society. According to 'The 2001 State of Corporate Social Responsibility in India poll', CSR in India has so far, followed Ethical Model, Liberal Model, Stakeholder Model and Statist Model.

निम्नलिखित गद्यांश को पढ़िए एवं उन पर आधारित प्रश्नों का उत्तर दीजिए।

बड़े सामाजिक शक्ति वाले निगमों के पास अधिक कॉर्पोरेट सामाजिक उत्तरदायित्व (सी एस आर) होते हैं एवं वे संगठन जो अपने सामाजिक उत्तरदायित्व को नहीं पूरा कर पाते हैं उनको अपनी शक्ति को खोने का खतरा होता है, ऐसा एक सिद्धांत जो 'उत्तरदायित्व के लौह नियम' से इस रूप में संबंधित है। एनरॉन, आर्थर एंडरसन, मेरिल लिंच, वर्ल्ड कॉम एवं मार्था स्टेवार्ट सामाजिक गैर-उत्तरदायित्व के आरोपों के कारण इस परिणती को प्राप्त हुए हैं। व्यवसाय क्षेत्र पर इस माँग का दबाव है कि वे पर्यावरणीय रूप से एवं सामाजिक रूप से जिम्मेदार, जवाबदेह, पारदर्शी, समावेशी, नैतिक रूप से निष्पक्ष एवं संधारणीय हों। समाज द्वारा व्यवसाय पर अधिक बढ़ा हुआ दबाव इस बात का है कि वे अधिक उत्तरदायी बने और समाज के लाभ के लिए अधिक योगदान करें। सामाजिक उत्तरदायित्व वाक्यांश दान देने योग्य योगदान की छवि को प्रेरित करने हेतु प्रवृत्त करता है लेकिन यह वास्तव में इससे कुछ अधिक ही है। नारायण मूर्ति के अनुसार, सामाजिक उत्तरदायित्व परिस्थितियों के तहत कार्य करते हुए अधिकतम अंशधारक-मूल्य का सृजन करने हेतु होता है जहाँ यह इसके सभी अंशधारकों, श्रमिकों, उपभोक्ताओं, समुदाय, सरकार एवं पर्यावरण के लिए उपयुक्त होता है। भारत में कंपनियाँ सी एस आर पहल को करने में, और उसे उनकी व्यावसायिक प्रक्रिया में एकीकृत बनाने में अतिसक्रिय रही हैं। स्वतंत्रता पश्चात, जे आर डी टाटा ने सलाह दिया कि किसी के द्वारा किसी अच्छे कार्य हेतु धन के दान देने से अलग, वे अपनी वित्तीय, प्रबंधकीय, और मानव संसाधनों का उपयोग प्रत्यक्ष राहत देने एवं पुनर्संरचना विनिर्माण उपायों को लागू करने हेतु कार्यबल बनाने के लिए प्रयुक्त कर सकते हैं। धीरे-धीरे यह स्वीकार किया जाना प्रारंभ हो गया कि व्यवसाय को समाज के सामाजिक अपरिव्यय लागत के रूप में एक हिस्से को साझा करना होगा। परंपरागत रूप से इसे अपने उत्तरदायित्वों को अन्य उद्देश्यों में से समाज को शिक्षा, चिकित्सा सुविधाओं और वैज्ञानिक शोध के क्षेत्र में लाभ पहुँचाने के माध्यम से निर्वहण करना था। अंतिम दशक चैरिटी (दान) एवं पारंपारिक रूप से लोकोपकारी कार्यों (पुण्य कार्यों) से दूर जाने, मुख्यधारा वाले विकास एवं समाज में वंचित समूहों के सरोकारों में व्यवसाय के अधिक प्रत्यक्ष संलग्नता से दूर जाने का साक्षी बना। 'द 2001, स्टेट ऑफ कॉर्पोरेट सोशल रिस्पॉन्सिबिलिटी इन इंडिया पोल' के अनुसार जहाँ तक भारत में सी एस आर नैतिक मॉडल, उदार मॉडल, अंशधारक मॉडल एवं स्टेटिस्ट मॉडल का अनुगमन किया है।

Who is credited with the origin of the principle 'Iron Law of Responsibility'?

1. Keith Davis
2. Mark Starik
3. Ralph Nader
4. Milton Friedman

- (1) 1
- (2) 2
- (3) 3
- (4) 4

'उत्तरदायित्व के लौह नियम' वाले सिद्धांत की उत्पत्ति का श्रेय किसे जाता है?

1. केथ डेविस
2. मार्क स्टारिक
3. राल्फ नडार
4. मिल्टन फ्राइडमैन

(1) 1

(2) 2

(3) 3

(4) 4

1[Option ID=22885]

2[Option ID=22886]

3[Option ID=22887]

4[Option ID=22888]

SI. No.97
QBID:93097



Read the Paragraph and answer the questions

Corporations with social power have more corporate social responsibilities (CSR) and those organisations that do not meet their social responsibilities risk losing the power, a principle referred to as the 'Iron Law of Responsibility'. Enron, Arthur Anderson, Merrill Lynch, World.com and Martha Stewart have fallen due to allegations of social irresponsibility. There are increased calls upon business to be environmentally and socially responsible, accountable, transparent, inclusive, equitable and sustainable. There is an increasing demand by society for business to be more responsible and contribute to the betterment of the society. The phrase social responsibility tends to trigger image of charitable contribution, but it actually refers to much more. According to Narayan Murthy, social responsibility is to create maximum share holder's value working under the circumstances, where it is fair to all its stakeholders, workers, consumers, the community, Government and the environment. Companies in India have been proactive in taking up CSR initiatives and integrating them in their business process. After independence, JRD Tata advised that apart from the obvious one of donating funds to good cause, they could have used their own financial, managerial and human resources to provide task forces for undertaking direct relief and reconstruction measure. Slowly, it began to be accepted that business lead to share a part of the social overhead cost of the society. Traditionally, it had discharged its responsibilities to the society through benefactions for education, medical facilities and scientific research among other objects. The last decade witnessed a swing away from charity and traditional philanthropy towards more direct arrangement of business in mainstream development and concern for disadvantaged groups in society. According to 'The 2001 State of Corporate Social Responsibility in India poll', CSR in India has so far, followed Ethical Model, Liberal Model, Stakeholder Model and Statist Model.

निम्नलिखित गद्यांश को पढ़िए एवं उन पर आधारित प्रश्नों का उत्तर दीजिए।

बड़े सामाजिक शक्ति वाले निगमों के पास अधिक कॉर्पोरेट सामाजिक उत्तरदायित्व (सी एस आर) होते हैं एवं वे संगठन जो अपने सामाजिक उत्तरदायित्व को नहीं पुरा कर पाते हैं उनको अपनी शक्ति को खोने का खतरा होता है, ऐसा एक सिद्धांत जो 'उत्तरदायित्व के लौह नियम' से इस रूप में संबंधित है। एनरॉन, आर्थर एंडरसन, मेरिल लिंच, वर्ल्ड कॉम एवं मार्था स्टेवार्ट सामाजिक गैर-उत्तरदायित्व के आरोपों के कारण इस परिणती को प्राप्त हुए हैं। व्यवसाय क्षेत्र पर इस माँग का दबाव है कि वे पर्यावरणीय रूप से एवं सामाजिक रूप से जिम्मेदार, जवाबदेह, पारदर्शी, समावेशी, नैतिक रूप से निष्पक्ष एवं संधारणीय हों। समाज द्वारा व्यवसाय पर अधिक बढ़ा हुआ दबाव इस बात का है कि वे अधिक उत्तरदायी बने और समाज के लाभ के लिए अधिक योगदान करें। सामाजिक उत्तरदायित्व वाक्यांश दान देने योग्य योगदान की छवि को प्रेरित करने हेतु प्रवृत्त करता है लेकिन यह वास्तव में इससे कुछ अधिक ही है। नारायण मूर्ति के अनुसार, सामाजिक उत्तरदायित्व परिस्थितियों के तहत कार्य करते हुए अधिकतम अंशधारक-मूल्य का सृजन करने हेतु होता है जहाँ यह इसके सभी अंशधारकों, श्रमिकों, उपभोक्ताओं, समुदाय, सरकार एवं पर्यावरण के लिए उपयुक्त होता है। भारत में कंपनियाँ सी एस आर पहल को करने में, और उसे उनकी व्यावसायिक प्रक्रिया में एकीकृत बनाने में अतिसक्रिय रही हैं। स्वतंत्रता पश्चात, जे आर डी टाटा ने सलाह दिया कि किसी के द्वारा किसी अच्छे कार्य हेतु धन के दान देने से अलग, वे अपनी वित्तीय, प्रबंधकीय, और मानव संसाधनों का उपयोग प्रत्यक्ष राहत देने एवं पुनर्संरचना विनिर्माण उपायों को लागू करने हेतु कार्यबल बनाने के लिए प्रयुक्त कर सकते हैं। धीरे-धीरे यह स्वीकार किया जाना प्रारंभ हो गया कि व्यवसाय को समाज के सामाजिक अपरिव्यय लागत के रूप में एक हिस्से को साझा करना होगा। परंपरागत रूप से इसे अपने उत्तरदायित्वों को अन्य उद्देश्यों में से समाज को शिक्षा, चिकित्सा सुविधाओं और वैज्ञानिक शोध के क्षेत्र में लाभ पहुँचाने के माध्यम से निर्वहन करना था। अंतिम दशक चैरिटी (दान) एवं पारंपारिक रूप से लोकोपकारी कार्यों (पुण्य कार्यों) से दूर जाने, मुख्यधारा वाले विकास एवं समाज में वंचित समूहों के सरोकारों में व्यवसाय के अधिक प्रत्यक्ष संलग्नता से दूर जाने का साक्षी बना। 'द 2001, स्टेट ऑफ कॉर्पोरेट सोशल रिस्पॉन्सिबिलिटी इन इंडिया पोल' के अनुसार जहाँ तक भारत में सी एस आर नैतिक मॉडल, उदार मॉडल, अंशधारक मॉडल एवं स्टेटिस्ट मॉडल का अनुगमन किया है।

Which of the following is NOT Correctly matched?

1. Energy provider : Enron
2. Stock market broker : Merrill Lynch
3. Railway construction : Martha Stewart
4. Accounting firm : Arthur Anderson

- (1) 1
- (2) 2
- (3) 3
- (4) 4

निम्नलिखित में से कौन-सही ढंग से सुमेलित नहीं है

1. बिजली प्रदाता - एनरॉन
2. स्टॉक मार्केट ब्रोकर - मेरिल लिंच
3. रेलवे विनिर्माण - मार्था स्टेवार्ट
4. लेखांकन कंपनी - आर्थर एंडरसन

(1) 1

(2) 2

(3) 3

(4) 4

1[Option ID=22889]

2[Option ID=22890]

3[Option ID=22891]

4[Option ID=22892]

SI. No.98
QBID:93098



Read the Paragraph and answer the questions

Corporations with social power have more corporate social responsibilities (CSR) and those organisations that do not meet their social responsibilities risk losing the power, a principle referred to as the 'Iron Law of Responsibility'. Enron, Arthur Anderson, Merrill Lynch, World.com and Martha Stewart have fallen due to allegations of social irresponsibility. There are increased calls upon business to be environmentally and socially responsible, accountable, transparent, inclusive, equitable and sustainable. There is an increasing demand by society for business to be more responsible and contribute to the betterment of the society. The phrase social responsibility tends to trigger image of charitable contribution, but it actually refers to much more. According to Narayan Murthy, social responsibility is to create maximum share holder's value working under the circumstances, where it is fair to all its stakeholders, workers, consumers, the community, Government and the environment. Companies in India have been proactive in taking up CSR initiatives and integrating them in their business process. After independence, JRD Tata advised that apart from the obvious one of donating funds to good cause, they could have used their own financial, managerial and human resources to provide task forces for undertaking direct relief and reconstruction measure. Slowly, it began to be accepted that business lead to share a part of the social overhead cost of the society. Traditionally, it had discharged its responsibilities to the society through benefactions for education, medical facilities and scientific research among other objects. The last decade witnessed a swing away from charity and traditional philanthropy towards more direct arrangement of business in mainstream development and concern for disadvantaged groups in society. According to 'The 2001 State of Corporate Social Responsibility in India poll', CSR in India has so far, followed Ethical Model, Liberal Model, Stakeholder Model and Statist Model.

निम्नलिखित गद्यांश को पढ़िए एवं उन पर आधारित प्रश्नों का उत्तर दीजिए।

बड़े सामाजिक शक्ति वाले निगमों के पास अधिक कॉर्पोरेट सामाजिक उत्तरदायित्व (सी एस आर) होते हैं एवं वे संगठन जो अपने सामाजिक उत्तरदायित्व को नहीं पुरा कर पाते है उनको अपनी शक्ती को खोने का खतरा होता है, ऐसा एक सिद्धांत जो 'उत्तरदायित्व के लौह नियम' से इस रूप में संबंधित है। एनरॉन, आर्थर एंडरसन, मेरिल लिंच, वर्ल्ड कॉम एवं मार्था स्टेवार्ट सामाजिक गैर-उत्तरदायित्व के आरोपों के कारण इस परिणती को प्राप्त हुए है। व्यवसाय क्षेत्र पर इस माँग का दबाव है की वे पर्यावरणीय रूप से एवं सामाजिक रूप से जिम्मेदार, जवाबदेह, पारदर्शी, समावेशी, नैतिक रूप से निष्पक्ष एवं संधारणीय हों। समाज द्वारा व्यवसाय पर अधिक बढ़ा हुआ दबाव इस बात का है कि वे अधिक उत्तरदायी बने और समाज के लाभ के लिए अधिक योगदान करें। सामाजिक उत्तरदायित्व वाक्यांश दान देने योग्य योगदान की छवि को प्रेरित करने हेतु प्रवृत्त करता है लेकिन यह वास्तव में इससे कुछ अधिक ही है। नारायण मूर्ति के अनुसार, सामाजिक उत्तरदायित्व परिस्थितियों के तहत कार्य करते हुए अधिकतम अंशधारक-मूल्य का सृजन करने हेतु होता है जहाँ यह इसके सभी अंशधारको, श्रमिको, उपभोक्ताओं, समुदाय, सरकार एवं पर्यावरण के लिए उपयुक्त होता है। भारत में कंपनियाँ सी एस आर पहल को करने में, और उसे उनकी व्यावसायिक प्रक्रिया में एकीकृत बनाने में अतिसक्रिय रही हैं। स्वतंत्रता पश्चात, जे आर डी टाटा ने सलाह दिया की किसी के द्वारा किसी अच्छे कार्य हेतु धन के दान देने से अलग, वे अपनी वित्तीय, प्रबंधकीय, और मानव संसाधनो का उपयोग प्रत्यक्ष राहत देने एवं पुनर्संरचना विनिर्माण उपायों को लागू करने हेतु कार्यबल बनाने के लिए प्रयुक्त कर सकते हैं। धीरे-धीरे यह स्वीकार किया जाना प्रारंभ हो गया की व्यवसाय को समाज के सामाजिक अपरिव्यय लागत के रूप में एक हिस्से को साझा करना होगा। परंपरागत रूप से इसे अपने उत्तरदायित्वों को अन्य उद्देश्यों में से समाज को शिक्षा, चिकित्सा सुविधाओं और वैज्ञानिक शोध के क्षेत्र में लाभ पहुँचाने के माध्यम से निर्वहन करना था। अंतिम दशक चैरिटी (दान) एवं पारंपारिक रूप से लोकोपकारी कार्यों (पुण्य कार्यों) से दूर जाने, मुख्यधारा वाले विकास एवं समाज में वंचित समुहों के सरोकारों में व्यवसाय के अधिक प्रत्यक्ष संलग्नता से दूर जाने का साक्षी बना। 'द 2001, स्टेट ऑफ कॉर्पोरेट सोशल रिस्पॉसिबिलिटी इन इंडिया पोल' के अनुसार जहाँ तक भारत मे सी एस आर नैतिक मॉडल, उदार मॉडल, अंशधारक मॉडल एवं स्टेटिस्ट मॉडल का अनुगमन किया है।

Following are termed as socially responsible business practices, except:

1. Philanthropic donation to charity
2. Service to the community
3. Enhancing firms' R and D base
4. Promoting religious conduct

- (1) 1
- (2) 2
- (3) 3
- (4) 4

इसके अतिरिक्त, निम्नलिखित को समाजिक रूप से उत्तरदायी व्यवसाय के रूप में अभिहित किया जाता है?

1. चैरिटी हेतु लोकोपकारी दान
2. समुदाय हेतु सेवा
3. कंपनी के R एवं D बेस का संवर्धन
4. धार्मिक व्यवहार हेतु उघत करना

(1) 1

(2) 2

(3) 3

(4) 4

1[Option ID=22893]

2[Option ID=22894]

3[Option ID=22895]

4[Option ID=22896]

SI. No.99
QBID:93099



Read the Paragraph and answer the questions

Corporations with social power have more corporate social responsibilities (CSR) and those organisations that do not meet their social responsibilities risk losing the power, a principle referred to as the 'Iron Law of Responsibility'. Enron, Arthur Anderson, Merrill Lynch, World.com and Martha Stewart have fallen due to allegations of social irresponsibility. There are increased calls upon business to be environmentally and socially responsible, accountable, transparent, inclusive, equitable and sustainable. There is an increasing demand by society for business to be more responsible and contribute to the betterment of the society. The phrase social responsibility tends to trigger image of charitable contribution, but it actually refers to much more. According to Narayan Murthy, social responsibility is to create maximum share holder's value working under the circumstances, where it is fair to all its stakeholders, workers, consumers, the community, Government and the environment. Companies in India have been proactive in taking up CSR initiatives and integrating them in their business process. After independence, JRD Tata advised that apart from the obvious one of donating funds to good cause, they could have used their own financial, managerial and human resources to provide task forces for undertaking direct relief and reconstruction measure. Slowly, it began to be accepted that business lead to share a part of the social overhead cost of the society. Traditionally, it had discharged its responsibilities to the society through benefactions for education, medical facilities and scientific research among other objects. The last decade witnessed a swing away from charity and traditional philanthropy towards more direct arrangement of business in mainstream development and concern for disadvantaged groups in society. According to 'The 2001 State of Corporate Social Responsibility in India poll', CSR in India has so far, followed Ethical Model, Liberal Model, Stakeholder Model and Statist Model.

निम्नलिखित गद्यांश को पढ़िए एवं उन पर आधारित प्रश्नों का उत्तर दीजिए।

बड़े सामाजिक शक्ति वाले निगमों के पास अधिक कॉर्पोरेट सामाजिक उत्तरदायित्व (सी एस आर) होते हैं एवं वे संगठन जो अपने सामाजिक उत्तरदायित्व को नहीं पूरा कर पाते हैं उनको अपनी शक्ति को खोने का खतरा होता है, ऐसा एक सिद्धांत जो 'उत्तरदायित्व के लौह नियम' से इस रूप में संबंधित है। एनरॉन, आर्थर एंडरसन, मेरिल लिंच, वर्ल्ड कॉम एवं मार्था स्टेवार्ट सामाजिक गैर-उत्तरदायित्व के आरोपों के कारण इस परिणती को प्राप्त हुए हैं। व्यवसाय क्षेत्र पर इस माँग का दबाव है कि वे पर्यावरणीय रूप से एवं सामाजिक रूप से जिम्मेदार, जवाबदेह, पारदर्शी, समावेशी, नैतिक रूप से निष्पक्ष एवं संधारणीय हों। समाज द्वारा व्यवसाय पर अधिक बढ़ा हुआ दबाव इस बात का है कि वे अधिक उत्तरदायी बने और समाज के लाभ के लिए अधिक योगदान करें। सामाजिक उत्तरदायित्व वाक्यांश दान देने योग्य योगदान की छवि को प्रेरित करने हेतु प्रवृत्त करता है लेकिन यह वास्तव में इससे कुछ अधिक ही है। नारायण मूर्ति के अनुसार, सामाजिक उत्तरदायित्व परिस्थितियों के तहत कार्य करते हुए अधिकतम अंशधारक-मूल्य का सृजन करने हेतु होता है जहाँ यह इसके सभी अंशधारकों, श्रमिकों, उपभोक्ताओं, समुदाय, सरकार एवं पर्यावरण के लिए उपयुक्त होता है। भारत में कंपनियाँ सी एस आर पहल को करने में, और उसे उनकी व्यावसायिक प्रक्रिया में एकीकृत बनाने में अतिसक्रिय रही हैं। स्वतंत्रता पश्चात, जे आर डी टाटा ने सलाह दिया कि किसी के द्वारा किसी अच्छे कार्य हेतु धन के दान देने से अलग, वे अपनी वित्तीय, प्रबंधकीय, और मानव संसाधनों का उपयोग प्रत्यक्ष राहत देने एवं पुनर्संरचना विनिर्माण उपायों को लागू करने हेतु कार्यबल बनाने के लिए प्रयुक्त कर सकते हैं। धीरे-धीरे यह स्वीकार किया जाना प्रारंभ हो गया कि व्यवसाय को समाज के सामाजिक अपरिव्यय लागत के रूप में एक हिस्से को साझा करना होगा। परंपरागत रूप से इसे अपने उत्तरदायित्वों को अन्य उद्देश्यों में से समाज को शिक्षा, चिकित्सा सुविधाओं और वैज्ञानिक शोध के क्षेत्र में लाभ पहुँचाने के माध्यम से निर्वहन करना था। अंतिम दशक चैरिटी (दान) एवं पारंपारिक रूप से लोकोपकारी कार्यों (पुण्य कार्यों) से दूर जाने, मुख्यधारा वाले विकास एवं समाज में वंचित समूहों के सरोकारों में व्यवसाय के अधिक प्रत्यक्ष संलग्नता से दूर जाने का साक्षी बना। 'द 2001, स्टेट ऑफ कॉर्पोरेट सोशल रिस्पॉन्सिबिलिटी इन इंडिया पोल' के अनुसार जहाँ तक भारत में सी एस आर नैतिक मॉडल, उदार मॉडल, अंशधारक मॉडल एवं स्टेटिस्ट मॉडल का अनुगमन किया है।

Social responsibility refers to the extent to which a company channels its resources towards the following, except:

1. Improving worth of its stockholders
2. Honesty in its advertisements
3. Quality of the parts it builds into its products
4. Ethics in dealings with its employees

- (1) 1
- (2) 2
- (3) 3
- (4) 4

सामाजिक उत्तरदायित्व से आशय यह है कि निम्नलिखित किसके अतिरिक्त कंपनी अपने संसाधनों का इसके लिए उपयोग करती है?

1. इसके अंशधारकों के मूल्य में सुधार
2. इसके प्रचार में ईमानदारी
3. इसके उत्पादों में इस द्वारा निर्मित होने वाले हिस्से की गुणवत्ता
4. इसके कर्मचारियों से कार्य व्यवहार में नैतिकता

(1) 1

(2) 2

(3) 3

(4) 4

1[Option ID=22897]

2[Option ID=22898]

3[Option ID=22899]

4[Option ID=22900]

SI. No.100

QBID:930100



Read the Paragraph and answer the questions

Corporations with social power have more corporate social responsibilities (CSR) and those organisations that do not meet their social responsibilities risk losing the power, a principle referred to as the 'Iron Law of Responsibility'. Enron, Arthur Anderson, Merrill Lynch, World.com and Martha Stewart have fallen due to allegations of social irresponsibility. There are increased calls upon business to be environmentally and socially responsible, accountable, transparent, inclusive, equitable and sustainable. There is an increasing demand by society for business to be more responsible and contribute to the betterment of the society. The phrase social responsibility tends to trigger image of charitable contribution, but it actually refers to much more. According to Narayan Murthy, social responsibility is to create maximum share holder's value working under the circumstances, where it is fair to all its stakeholders, workers, consumers, the community, Government and the environment. Companies in India have been proactive in taking up CSR initiatives and integrating them in their business process. After independence, JRD Tata advised that apart from the obvious one of donating funds to good cause, they could have used their own financial, managerial and human resources to provide task forces for undertaking direct relief and reconstruction measure. Slowly, it began to be accepted that business lead to share a part of the social overhead cost of the society. Traditionally, it had discharged its responsibilities to the society through benefactions for education, medical facilities and scientific research among other objects. The last decade witnessed a swing away from charity and traditional philanthropy towards more direct arrangement of business in mainstream development and concern for disadvantaged groups in society. According to 'The 2001 State of Corporate Social Responsibility in India poll', CSR in India has so far, followed Ethical Model, Liberal Model, Stakeholder Model and Statist Model.

निम्नलिखित गद्यांश को पढ़िए एवं उन पर आधारित प्रश्नों का उत्तर दीजिए।

बड़े सामाजिक शक्ति वाले निगमों के पास अधिक कॉर्पोरेट सामाजिक उत्तरदायित्व (सी एस आर) होते हैं एवं वे संगठन जो अपने सामाजिक उत्तरदायित्व को नहीं पुरा कर पाते हैं उनको अपनी शक्ति को खोने का खतरा होता है, ऐसा एक सिद्धांत जो 'उत्तरदायित्व के लौह नियम' से इस रूप में संबंधित है। एनरॉन, आर्थर एंडरसन, मेरिल लिंच, वर्ल्ड कॉम एवं मार्था स्टेवार्ट सामाजिक गैर-उत्तरदायित्व के आरोपों के कारण इस परिणती को प्राप्त हुए हैं। व्यवसाय क्षेत्र पर इस माँग का दबाव है कि वे पर्यावरणीय रूप से एवं सामाजिक रूप से जिम्मेदार, जवाबदेह, पारदर्शी, समावेशी, नैतिक रूप से निष्पक्ष एवं संधारणीय हों। समाज द्वारा व्यवसाय पर अधिक बढ़ा हुआ दबाव इस बात का है कि वे अधिक उत्तरदायी बने और समाज के लाभ के लिए अधिक योगदान करें। सामाजिक उत्तरदायित्व वाक्यांश दान देने योग्य योगदान की छवि को प्रेरित करने हेतु प्रवृत्त करता है लेकिन यह वास्तव में इससे कुछ अधिक ही है। नारायण मूर्ति के अनुसार, सामाजिक उत्तरदायित्व परिस्थितियों के तहत कार्य करते हुए अधिकतम अंशधारक-मूल्य का सृजन करने हेतु होता है जहाँ यह इसके सभी अंशधारकों, श्रमिकों, उपभोक्ताओं, समुदाय, सरकार एवं पर्यावरण के लिए उपयुक्त होता है। भारत में कंपनियाँ सी एस आर पहल को करने में, और उसे उनकी व्यावसायिक प्रक्रिया में एकीकृत बनाने में अतिसक्रिय रही हैं। स्वतंत्रता पश्चात, जे आर डी टाटा ने सलाह दिया कि किसी के द्वारा किसी अच्छे कार्य हेतु धन के दान देने से अलग, वे अपनी वित्तीय, प्रबंधकीय, और मानव संसाधनों का उपयोग प्रत्यक्ष राहत देने एवं पुनर्संरचना विनिर्माण उपायों को लागू करने हेतु कार्यबल बनाने के लिए प्रयुक्त कर सकते हैं। धीरे-धीरे यह स्वीकार किया जाना प्रारंभ हो गया कि व्यवसाय को समाज के सामाजिक अपरिव्यय लागत के रूप में एक हिस्से को साझा करना होगा। परंपरागत रूप से इसे अपने उत्तरदायित्वों को अन्य उद्देश्यों में से समाज को शिक्षा, चिकित्सा सुविधाओं और वैज्ञानिक शोध के क्षेत्र में लाभ पहुँचाने के माध्यम से निर्वहन करना था। अंतिम दशक चैरिटी (दान) एवं पारंपारिक रूप से लोकोपकारी कार्यों (पुण्य कार्यों) से दूर जाने, मुख्यधारा वाले विकास एवं समाज में वंचित समूहों के सरोकारों में व्यवसाय के अधिक प्रत्यक्ष संलग्नता से दूर जाने का साक्षी बना। 'द 2001, स्टेट ऑफ कॉर्पोरेट सोशल रिस्पॉन्सिबिलिटी इन इंडिया पोल' के अनुसार जहाँ तक भारत में सी एस आर नैतिक मॉडल, उदार मॉडल, अंशधारक मॉडल एवं स्टेटिस्ट मॉडल का अनुगमन किया है।

CSR has followed a chronological evolution of four thinking approaches. Arrange them in a chronological order (from the earliest to the latest)

- A. Ethical Model
- B. Statist Model
- C. Liberal Model
- D. Stakeholder Model

Choose the **correct** answer from the options given below:

- 1. A, C, D, B
- 2. C, D, A, B
- 3. A, B, C, D
- 4. B, C, D, A

(1) 1

(2) 2

(3) 3

(4) 4

सी एस आर ने चार चिंतन उपागमों के कालक्रमानुसार ढंग से विकास का अनुगमन किया है। उन्हें कालक्रमानुसार क्रम में (आरंभ से अद्यतन के क्रम) व्यवस्थित कीजिए:

- A. नैतिक मॉडल
- B. स्टेटिस्ट मॉडल
- C. उदार मॉडल
- D. अंशधारक मॉडल

नीचे दिए गए विकल्पों में से सही उत्तर का चयन कीजिए:

- 1. A, C, D, B
- 2. C, D, A, B
- 3. A, B, C, D
- 4. B, C, D, A

(1) 1

(2) 2

(3) 3

(4) 4

1[Option ID=22541]

2[Option ID=22542]

3[Option ID=22543]

4[Option ID=22544]

Sl. No.101

QBID:12201001

The following table shows the percentage (%) distribution of number of sportspersons and number of male sportspersons participating in Asian Games from six different countries A-F. Total number of sportspersons who participated in the games is 1100 and the ratio of Male to Female among them is 15 : 7. Based on the data in the table, answer the question.

Country-wise Distribution of Sportspersons

Country	Distribution (%)	
	Sports persons	Male Sportspersons
A	21 %	20 %
B	25 %	22 %
C	15 %	14 %
D	12 %	12 %
E	9 %	10 %
F	18 %	22 %

निम्नलिखित तालिका में छः विभिन्न देशों A-F से एशियन गेम्स में भाग लेने वाले खिलाड़ियों की संख्या और पुरुष खिलाड़ियों की संख्या का प्रतिशत वितरण दर्शाया गया है। गेम्स में भाग लेने वाले खिलाड़ियों की कुल संख्या 1100 है और उनमें पुरुष और महिला का अनुपात 15:7 है। इस तालिका में दिए गए आंकड़ों के आधार पर प्रश्न का उत्तर दीजिए:

खिलाड़ियों का देशवार वितरण

देश	वितरण (%)	
	खिलाड़ी	पुरुष खिलाड़ी
A	21 %	20 %
B	25 %	22 %
C	15 %	14%
D	12 %	12%
E	9 %	10 %
F	18 %	22 %

Number of female participants from Country D is _____ % of the number of male participants from Country A.

1. 21
2. 24
3. 28
4. 31

- (1) 1
- (2) 2
- (3) 3
- (4) 4

देश D से महिला प्रतिभागियों की संख्या देश A से पुरुष प्रतिभागियों की संख्या का ___ % है।

1. 21
2. 24
3. 28
4. 31

- (1) 1
(2) 2
(3) 3
(4) 4

1[Option ID=22901]
2[Option ID=22902]
3[Option ID=22903]
4[Option ID=22904]

Sl. No.102
QBID:12201002



The following table shows the percentage (%) distribution of number of sportspersons and number of male sportspersons participating in Asian Games from six different countries A-F. Total number of sportspersons who participated in the games is 1100 and the ratio of Male to Female among them is 15 : 7. Based on the data in the table, answer the question.

Country-wise Distribution of Sportspersons

Country	Distribution (%)	
	Sports persons	Male Sportspersons
A	21 %	20 %
B	25 %	22 %
C	15 %	14 %
D	12 %	12 %
E	9 %	10 %
F	18 %	22 %

निम्नलिखित तालिका में छः विभिन्न देशों A-F से एशियन गेम्स में भाग लेने वाले खिलाड़ियों की संख्या और पुरुष खिलाड़ियों की संख्या का प्रतिशत वितरण दर्शाया गया है। गेम्स में भाग लेने वाले खिलाड़ियों की कुल संख्या 1100 है और उनमें पुरुष और महिला का अनुपात 15:7 है। इस तालिका में दिए गए आंकड़ों के आधार पर प्रश्न का उत्तर दीजिए:

खिलाड़ियों का देशवार वितरण

देश	वितरण (%)	
	खिलाड़ी	पुरुष खिलाड़ी
A	21 %	20 %
B	25 %	22 %
C	15 %	14%
D	12 %	12%
E	9 %	10 %
F	18 %	22 %

Total number of male participants from Country B and F together is _____ % of the number of participants in the games.

1. 25
2. 30
3. 40
4. 45

- (1) 1
- (2) 2
- (3) 3
- (4) 4

B और F दोनों देशों से पुरुष प्रतिभागियों की कुल संख्या गेम्स में प्रतिभागियों की संख्या का ___ % है।

1. 25
2. 30
3. 40
4. 45

- (1) 1
(2) 2
(3) 3
(4) 4

1[Option ID=22905]
2[Option ID=22906]
3[Option ID=22907]
4[Option ID=22908]

Sl. No.103
QBID:12201003



The following table shows the percentage (%) distribution of number of sportspersons and number of male sportspersons participating in Asian Games from six different countries A-F. Total number of sportspersons who participated in the games is 1100 and the ratio of Male to Female among them is 15 : 7. Based on the data in the table, answer the question.

Country-wise Distribution of Sportspersons

Country	Distribution (%)	
	Sports persons	Male Sportspersons
A	21 %	20 %
B	25 %	22 %
C	15 %	14 %
D	12 %	12 %
E	9 %	10 %
F	18 %	22 %

निम्नलिखित तालिका में छः विभिन्न देशों A-F से एशियन गेम्स में भाग लेने वाले खिलाड़ियों की संख्या और पुरुष खिलाड़ियों की संख्या का प्रतिशत वितरण दर्शाया गया है। गेम्स में भाग लेने वाले खिलाड़ियों की कुल संख्या 1100 है और उनमें पुरुष और महिला का अनुपात 15:7 है। इस तालिका में दिए गए आंकड़ों के आधार पर प्रश्न का उत्तर दीजिए:

खिलाड़ियों का देशवार वितरण

देश	वितरण (%)	
	खिलाड़ी	पुरुष खिलाड़ी
A	21 %	20 %
B	25 %	22 %
C	15 %	14%
D	12 %	12%
E	9 %	10 %
F	18 %	22 %

Number of male participants from Country E is _____ % more than the number of female participants from Country C.

1. 18
2. 21
3. 24
4. 25

- (1) 1
- (2) 2
- (3) 3
- (4) 4

देश E से पुरुष प्रतिभागियों की संख्या देश C से महिला प्रतिभागियों की संख्या से ___ % अधिक है।

1. 18
2. 21
3. 24
4. 25

(1) 1

(2) 2

(3) 3

(4) 4

1[Option ID=22909]

2[Option ID=22910]

3[Option ID=22911]

4[Option ID=22912]

Sl. No.104

QBID:12201004



The following table shows the percentage (%) distribution of number of sportspersons and number of male sportspersons participating in Asian Games from six different countries A-F. Total number of sportspersons who participated in the games is 1100 and the ratio of Male to Female among them is 15 : 7. Based on the data in the table, answer the question.

Country-wise Distribution of Sportspersons

Country	Distribution (%)	
	Sports persons	Male Sportspersons
A	21 %	20 %
B	25 %	22 %
C	15 %	14 %
D	12 %	12 %
E	9 %	10 %
F	18 %	22 %

निम्नलिखित तालिका में छः विभिन्न देशों A-F से एशियन गेम्स में भाग लेने वाले खिलाड़ियों की संख्या और पुरुष खिलाड़ियों की संख्या का प्रतिशत वितरण दर्शाया गया है। गेम्स में भाग लेने वाले खिलाड़ियों की कुल संख्या 1100 है और उनमें पुरुष और महिला का अनुपात 15:7 है। इस तालिका में दिए गए आंकड़ों के आधार पर प्रश्न का उत्तर दीजिए:

खिलाड़ियों का देशवार वितरण

देश	वितरण (%)	
	खिलाड़ी	पुरुष खिलाड़ी
A	21 %	20 %
B	25 %	22 %
C	15 %	14%
D	12 %	12%
E	9 %	10 %
F	18 %	22 %

What is the ratio of the number of participants from Country D to the number of female participants from Country E?

1. 11 : 2
2. 11 : 5
3. 13 : 4
4. 7 : 3

- (1) 1
- (2) 2
- (3) 3
- (4) 4

देश D के प्रतिभागियों की संख्या और देश E से महिला प्रतिभागियों की संख्या का अनुपात है?

1. 11:2
2. 11:5
3. 13:4
4. 7:3

(1) 1

(2) 2

(3) 3

(4) 4

1[Option ID=22913]

2[Option ID=22914]

3[Option ID=22915]

4[Option ID=22916]

Sl. No.105

QBID:12201005



The following table shows the percentage (%) distribution of number of sportspersons and number of male sportspersons participating in Asian Games from six different countries A-F. Total number of sportspersons who participated in the games is 1100 and the ratio of Male to Female among them is 15 : 7. Based on the data in the table, answer the question.

Country-wise Distribution of Sportspersons

Country	Distribution (%)	
	Sports persons	Male Sportspersons
A	21 %	20 %
B	25 %	22 %
C	15 %	14 %
D	12 %	12 %
E	9 %	10 %
F	18 %	22 %

निम्नलिखित तालिका में छः विभिन्न देशों A-F से एशियन गेम्स में भाग लेने वाले खिलाड़ियों की संख्या और पुरुष खिलाड़ियों की संख्या का प्रतिशत वितरण दर्शाया गया है। गेम्स में भाग लेने वाले खिलाड़ियों की कुल संख्या 1100 है और उनमें पुरुष और महिला का अनुपात 15:7 है। इस तालिका में दिए गए आंकड़ों के आधार पर प्रश्न का उत्तर दीजिए:

खिलाड़ियों का देशवार वितरण

देश	वितरण (%)	
	खिलाड़ी	पुरुष खिलाड़ी
A	21 %	20 %
B	25 %	22 %
C	15 %	14%
D	12 %	12%
E	9 %	10 %
F	18 %	22 %

If 10 additional female participants from Country C joined the games, then the total number of female participants from Country C is ____ % of the total number of participants from Country C.

1. 30
2. 40
3. 50
4. 60

- (1) 1
- (2) 2
- (3) 3
- (4) 4

यदि देश C से 10 अतिरिक्त महिला प्रतिभागियों ने गेम्स में भाग लिया, तो देश C से महिला प्रतिभागियों की कुल संख्या देश C के प्रतिभागियों की कुल संख्या का ___ % है।

1. 30
2. 40
3. 50
4. 60

- (1) 1
(2) 2
(3) 3
(4) 4

1[Option ID=22917]
2[Option ID=22918]
3[Option ID=22919]
4[Option ID=22920]

SI. No.106
QBID:12201006

After twenty five years of graduation, from a large group of strangers, a student is able to correctly identify photographs of students with whom she attended and completed her high school. This type of learning belongs to the category of

1. Recall
2. Recognition
3. Common Sense
4. Eidetic imagery

- (1) 1
(2) 2
(3) 3
(4) 4

अपरिचितों के एक बड़े समूह के बीच स्नातक शिक्षा प्राप्त करने के 25 वर्षों बाद, एक विद्यार्थी, विद्यार्थी समूह के फोटोग्राफों से अपने हाई स्कूल में साथ में पढ़ने और शिक्षा पूरी करने वाले विद्यार्थियों की ठीक प्रकार से पहचान करने में सक्षम है। अधिगम का यह प्रकार किस वर्ग से संबंधित है?

1. पुनः स्मरण
2. प्रत्यभिज्ञान
3. सामान्य संवेदन
4. मूर्तकल्पी प्रतिमावली

- (1) 1
(2) 2
(3) 3
(4) 4

1[Option ID=22921]
2[Option ID=22922]
3[Option ID=22923]
4[Option ID=22924]

SI. No.107
QBID:12201007

Which of the following instructional effect does not come under Role-Playing Model?

1. Strategies of solving interpersonal problems.
2. Comfort in expressing opinions.
3. Facts about social problems and values.
4. Competence in social dialogue.

- (1) 1
(2) 2
(3) 3
(4) 4

निम्नलिखित अनुदेशात्मक प्रभावों में से कौन भूमिका निर्वहन मॉडल के अंतर्गत नहीं आता है?

1. अंतर्व्यक्तिक समस्या समाधान की रणनीतियां
2. विचारों की अभिव्यक्ति में सहजता
3. सामाजिक समस्याओं और मूल्यों के बारे में तथ्य
4. सामाजिक संवाद में दक्षता

- (1) 1
(2) 2
(3) 3
(4) 4

- 1[Option ID=22925]
2[Option ID=22926]
3[Option ID=22927]
4[Option ID=22928]

Sl. No.108
QBID:12201008

Out of the following, which technology integrated model is more useful for researchers to use:

1. TPACK
2. SAMR
3. RAT
4. PICRAT

- (1) 1
(2) 2
(3) 3
(4) 4

निम्नलिखित प्रौद्योगिकी एकीकृत मॉडलों में कौन शोधकर्ताओं के प्रयोग के लिए अधिक उपयोगी है?

1. टी पी ए सी के (TPACK)
2. एस ए एम आर (SAMR)
3. आर ए टी (RAT)
4. पी आई सी आर ए टी (PICRAT)

- (1) 1
(2) 2
(3) 3
(4) 4

- 1[Option ID=22929]
2[Option ID=22930]

SI. No.109
QBID:12201009

Match **List I** with **List II**

List I	List II
(Classroom Management)	(Meaning)
A. Authoritative Classroom Management	I. A Management style that allows students considerable autonomy but provides them with little support for developing learning skills.
B. Authoritarian Classroom Management	II. A Management style that encourages students to be independent thinkers but still provides effective monitoring.
C. Permissive Classroom Management	III. A Management style in which teachers show students that they are aware of what is happening.
D. Withitness	IV. A Management style that is restrictive and punitive, with the focus mainly on keeping order in the classroom rather than learning.

Choose the **correct** answer from the options given below.

1. A - IV, B - II, C - III, D - I
2. A - III, B - II, C - IV, D - I
3. A - II, B - IV, C - I, D - III
4. A - III, B - IV, C - I, D - II

- (1) 1
(2) 2
(3) 3
(4) 4

सूची -I को सूची -II से सुमेलित कीजिए :

सूची -I (कक्षा प्रबंधन)	सूची -II (आशय/ अर्थ)
A. प्राधिकृत कक्षा प्रबंधन	I. प्रबंधन की वह शैली जो विद्यार्थियों को अधिक स्वायत्तता प्रदान करती है परंतु अधिगम कौशलों के विकास के लिए कम अनुसमर्थन करती है।
B.सत्तावादी कक्षा प्रबंधन	II. प्रबंधनकी वह शैली जो विद्यार्थियों को स्वतंत्र चिंतक होने के लिए प्रोत्साहित करती है परंतु अब भी प्रभावकारी निगरानी करती है।
C. अनुज्ञात्मक कक्षा प्रबंधन	III. प्रबंधन की वह शैली जिसमें शिक्षक विद्यार्थियों को यह प्रदर्शित करते हैं कि वे सभी हो रहीं घटनाओं के बारे जानते हैं।
D. सहत्व	IV. प्रबंधन की वह शैली जो प्रतिबंधी और दंडात्मक है और अधिगम की अपेक्षित कक्षा में व्यवस्था बनाए रखती है।

नीचे दिए गए विकल्पों में से सही उत्तर चुनिए :

1. A - IV , B - II , C - III, D - I
2. A - III, B - II, C - IV, D - I
3. A - II, B - IV, C - I, D - III
4. A - III, B - IV, C - I, D - II

- (1) 1
(2) 2
(3) 3
(4) 4

1[Option ID=22933]
2[Option ID=22934]
3[Option ID=22935]
4[Option ID=22936]

SI. No.110
QBID:12201010

SWAYAM is a program initiated by Govt. of India and designed to achieve the three cardinal principles of education:

- Access
- Equality
- Equity
- Quantity
- Quality

Choose the **correct** answer from the options given below:

1. B, D and E only
2. A, C and E only
3. B, C and E only
4. A, B and D only

- (1) 1
(2) 2
(3) 3
(4) 4

स्वयं (SWAYAM) भारत सरकार द्वारा आरंभ किया गया कार्यक्रम है जिसकी अभिकल्पना शिक्षा के तीन मूलभूत शिक्षा सिद्धांतों को प्राप्त करने के लिए की गई है :

- A. अभिगम
- B. समानता
- C. समता
- D. मात्रा
- E. गुणवत्ता

नीचे दिए गए विकल्पों में से सही उत्तर चुनें :

- 1. केवल B, D और E
- 2. केवल A, C और E
- 3. केवल B, C और E
- 4. केवल A, B और D

(1) 1

(2) 2

(3) 3

(4) 4

1[Option ID=22937]

2[Option ID=22938]

3[Option ID=22939]

4[Option ID=22940]

SI. No.111

QBID:12201011

While writing reports/manuscripts, researchers sometime use the abbreviation 'fn' which implies:

- 1. figure number
- 2. following number(s)
- 3. final note
- 4. footnote

(1) 1

(2) 2

(3) 3

(4) 4

जब कोई शोधकर्ता प्रतिवेदन/ पांडुलिपि लिखते समय संक्षेपाक्षर 'fn' (एफ एन) का प्रयोग करता है तो इसका अभिप्राय है:

- 1. संख्या-अंक
- 2. अनुवर्ती संख्याएं
- 3. अंतिम टिप्पणी
- 4. पाद टिप्पणी

(1) 1

(2) 2

(3) 3

(4) 4

1[Option ID=22941]

2[Option ID=22942]

3[Option ID=22943]

4[Option ID=22944]

SI. No.112
QBID:12201012

Given below are two statements:

Statement I: Parametric tests cannot be applied to ordinal or nominal scale data.

Statement II: Parametric tests do not suppose any particular distribution and the consequential assumptions.

In light of the above statements, choose the correct answer from the options given below:

1. Both Statement I and Statement II are true.
2. Both Statement I and Statement II are false.
3. Statement I is true but Statement II is false.
4. Statement I is false but Statement II is true.

- (1) 1
(2) 2
(3) 3
(4) 4

नीचे दो कथन दिए गए हैं :

कथन - I : प्राचलिक परीक्षण क्रमसूचक या नामिक पैमाने के आंकड़ों में अनुप्रयुक्त नहीं किए जा सकते हैं।

कथन - II : प्राचलिक परीक्षण किसी विशिष्ट वितरण और अनुवर्ती पूर्वानुमान की अपेक्षा नहीं करते हैं।

उपर्युक्त कथनों के आलोक में निम्नलिखित विकल्पों में से सही उत्तर चुनें :

1. कथन I और II दोनों सही हैं।
2. कथन I और II दोनों गलत हैं।
3. कथन I सही है , किन्तु कथन II गलत है।
4. कथन I गलत है , किन्तु कथन II सही है।

- (1) 1
(2) 2
(3) 3
(4) 4

1[Option ID=22945]
2[Option ID=22946]
3[Option ID=22947]
4[Option ID=22948]

SI. No.113
QBID:12201013

One of the main advantages of online survey based research is

1. lessened ethical requirements.
2. a reduced need to provide debriefing and clarification to participants after completion of survey.
3. participants can discontinue if they feel uncomfortable at any stage of survey.
4. a better understanding by participants of informed-consent issues.

- (1) 1
- (2) 2
- (3) 3
- (4) 4

ऑनलाइन सर्वेक्षण आधारित शोध के प्रमुख सुलाभों में से एक है:

- 1. कम नैतिक अपेक्षाएं
- 2. सर्वेक्षण कार्य पूरा होने के बाद प्रतिभागियों को सूचना और स्पष्टीकरण प्रदान करने की आवश्यकता में कमी
- 3. अगर सर्वेक्षण के किसी चरण पर प्रतिभागी असहज महसूस करते हैं तो वे सर्वेक्षण से असंतत हो सकते हैं।
- 4. संसूचित-स्वीकृति के मुद्दों की प्रतिभागियों द्वारा बेहतर समझ

- (1) 1
- (2) 2
- (3) 3
- (4) 4

1[Option ID=22949]
2[Option ID=22950]
3[Option ID=22951]
4[Option ID=22952]

SI. No.114
QBID:12201014

The requirement in research that specifies that researchers must notify participants about the nature of participation research and any risks involved, is known as

- 1. Anonymity
- 2. Confidentiality
- 3. Informed Consent
- 4. Coercion

- (1) 1
- (2) 2
- (3) 3
- (4) 4

शोध कार्य में शोध से संबंधित प्रतिभागियों को प्रतिभागिता के स्वरूप/ प्रकृति, शोध तथा इसके जोखिम से अवगत कराने की अपेक्षा होती है जिसे कहा जाता है:

- 1. अनामत्व
- 2. गोपनीयता
- 3. संसूचित स्वीकृति
- 4. बल प्रयोग

- (1) 1
- (2) 2
- (3) 3
- (4) 4

1[Option ID=22953]
2[Option ID=22954]
3[Option ID=22955]
4[Option ID=22956]

SI. No.115
QBID:12201015

Given below are two statements:

Statement I: In web based survey research, it is an advantage that the investigator does not have to be present when a participant is interested in engaging in the task.

Statement II: In web based survey research, it is a disadvantage that the investigator is not present to provide clarify/remove doubts when the participant is interested in engaging in the task.

In light of the above statements, choose the **most appropriate** answer from the options given below:

1. Both Statement I and Statement II are correct.
2. Both Statement I and Statement II are incorrect.
3. Statement I is correct but Statement II is incorrect.
4. Statement I is incorrect but Statement II is correct.

- (1) 1
(2) 2
(3) 3
(4) 4

नीचे दो कथन दिए गए हैं :

कथन - I : वेब आधारित सर्वेक्षण शोध में अन्वेषक को एक सुलाभ यह है जब कोई प्रतिभागी इस कार्य में सम्मिलित होता है तो अन्वेषक को उस समय उपस्थित नहीं होना पड़ता है।

कथन - II : वेब आधारित सर्वेक्षण शोध में अन्वेषक को यह अलाभ है की सर्वेक्षण कार्य में सम्मिलित होने के इच्छुक प्रतिभागियों को स्पष्टता/ शंका समाधान के लिए अन्वेषक उपस्थित नहीं होता है।

उपर्युक्त कथनों के आलोक में निम्नलिखित विकल्पों में से सही उत्तर चुनें :

1. कथन I और II दोनों सही हैं।
2. कथन I और II दोनों गलत हैं।
3. कथन I सही है , किन्तु कथन II गलत है।
4. कथन I गलत है , किन्तु कथन II सही है।

- (1) 1
(2) 2
(3) 3
(4) 4

1[Option ID=22957]
2[Option ID=22958]
3[Option ID=22959]
4[Option ID=22960]

Sl. No.116
QBID:12201016

Communication is a dynamic process across

1. The meta universe
2. Inanimate phenomena
3. Varied situations
4. Specific populations only

(1) 1

(2) 2

(3) 3

(4) 4

संप्रेषण निम्नलिखित में से किसमें एक गतिशील प्रक्रिया है -

1. अधिब्रह्माण्ड (मेटा यूनिवर्स) में
2. गैर-जीवंत परिघटनाओं (इनेनिमेट फेनोमेना) में
3. विविध परिस्थितियों में
4. केवल विशिष्ट जनसंख्याओं में

(1) 1

(2) 2

(3) 3

(4) 4

1[Option ID=22961]

2[Option ID=22962]

3[Option ID=22963]

4[Option ID=22964]

SI. No.117

QBID:12201017

The first World War was a stimulant for the development of

1. Radio
2. Films
3. The Press
4. The Internet

(1) 1

(2) 2

(3) 3

(4) 4

प्रथम विश्वयुद्ध निम्नलिखित में से किसके विकास के लिए उद्दीपक था?

1. रेडियो
2. फिल्में
3. प्रेस
4. इन्टरनेट

(1) 1

(2) 2

(3) 3

(4) 4

1[Option ID=22965]

2[Option ID=22966]

3[Option ID=22967]

4[Option ID=22968]

SI. No.118
QBID:12201018

In communication, the three major areas of analysis are:

- A. particularism
- B. semiotics
- C. syntactics
- D. programatics
- E. virtual reality

Choose the **correct** answer from the options given below:

- 1. A, B and C only
- 2. B, C and D only
- 3. C, D and E only
- 4. A, D and E only

- (1) 1
- (2) 2
- (3) 3
- (4) 4

संप्रेषण में विश्लेषण के तीन प्रमुख क्षेत्र क्या हैं?

- A. विशिष्टतावाद
- B. संकेतविज्ञान
- C. वाक्य विन्यास विज्ञान
- D. कार्यक्रमवाद
- E. आभासी यथार्थ

नीचे दिए गए विकल्पों में से सही उत्तर चुनें :

- 1. केवल A, B और C
- 2. केवल B, C और D
- 3. केवल C, D और E
- 4. केवल A, D और E

- (1) 1
- (2) 2
- (3) 3
- (4) 4

1[Option ID=22969]
2[Option ID=22970]
3[Option ID=22971]
4[Option ID=22972]

SI. No.119
QBID:12201019

To be effective, classroom communication must be

- A. Top down
- B. Analytical
- C. Unresponsive
- D. Adjustable
- E. Progressive

Choose the **correct** answer from the options given below:

- 1. A, B and C only
- 2. B, C and D only
- 3. C, D and E only
- 4. B, D and E only

(1) 1

(2) 2

(3) 3

(4) 4

प्रभावी होने के लिए कक्षा-संचार निम्न में से होना चाहिए

- A. अधोगामी
- B. विश्लेषणात्मक
- C. अप्रतिक्रियाशील
- D. समायोज्य
- E. प्रगतिशील

नीचे दिए गए विकल्पों में से सही उत्तर चुनें :

- 1. केवल A, B और C
- 2. केवल B, C और D
- 3. केवल C, D और E
- 4. केवल B, D और E

(1) 1

(2) 2

(3) 3

(4) 4

1[Option ID=22973]

2[Option ID=22974]

3[Option ID=22975]

4[Option ID=22976]

SI. No.120

QBID:12201020



Given below are two statements:

Statement I: The Internet has provided new communication channels to youngsters in societies that are socially conditioned.

Statement II: The new media can be used for harmless fun and entertainment, but otherwise also.

In light of the above statements, choose the **correct** answer from the options given below:

1. Both Statement I and Statement II are true.
2. Both Statement I and Statement II are false.
3. Statement I is true but Statement II is false.
4. Statement I is false but Statement II is true.

(1) 1

(2) 2

(3) 3

(4) 4

नीचे दो कथन दिए गए हैं :

कथन - I : सामाजिक रूप से अनुकूलित समाजों में इन्टरनेट ने युवा पीढ़ी को नए संचार मार्ग दिए हैं।

कथन - II : नए माध्यम का उपयोग हानिरहित आमोद-प्रमोद और मनोरंजन के लिए किया जा सकता है। लेकिन यह अन्यथा भी हो सकता है।

उपर्युक्त कथनों के आलोक में निम्नलिखित विकल्पों में से सही उत्तर चुनें :

1. कथन I और II दोनों सही हैं।
2. कथन I और II दोनों गलत हैं।
3. कथन I सही है , किन्तु कथन II गलत है।
4. कथन I गलत है , किन्तु कथन II सही है।

(1) 1

(2) 2

(3) 3

(4) 4

1[Option ID=22977]

2[Option ID=22978]

3[Option ID=22979]

4[Option ID=22980]

SI. No.121

QBID:12201021

In a bookshop, 40% of the books are in English. Out of the remaining books 60% are in Hindi. The remaining 3600 books are in other regional languages. Find the total number of books in the bookshop.

1. 15,000
2. 16,000
3. 18,000
4. 20,000

(1) 1

- (2) 2
 (3) 3
 (4) 4

पुस्तकों की एक दुकान में 40 % पुस्तकें अंग्रेजी में हैं। बची हुई पुस्तकों की 60 % हिंदी में हैं। शेष बची 3,600 पुस्तकें अन्य क्षेत्रीय भाषाओं में हैं। पुस्तकों की दुकान में कुल पुस्तकें कितनी हैं?

1. 15,000
 2. 16,000
 3. 18,000
 4. 20,000

- (1) 1
 (2) 2
 (3) 3
 (4) 4

1[Option ID=22981]
 2[Option ID=22982]
 3[Option ID=22983]
 4[Option ID=22984]

SI. No.122
 QBID:12201022

Find the value of the following expression:

$$\frac{5.2 \times 5.2 - 2.5 \times 2.5}{7.7 \times 2.7}$$

1. $\frac{20.79}{20.25}$
 2. $\frac{20.75}{20.50}$
 3. 2
 4. 1

- (1) 1
 (2) 2
 (3) 3
 (4) 4

निम्नलिखित व्यंजक के मान का पता लगाइए

$$\frac{5.2 \times 5.2 - 2.5 \times 2.5}{7.7 \times 2.7}$$

1. $\frac{20.79}{20.25}$
 2. $\frac{20.75}{20.50}$
 3. 2
 4. 1

- (1) 1
 (2) 2
 (3) 3
 (4) 4

1[Option ID=22985]
 2[Option ID=22986]
 3[Option ID=22987]
 4[Option ID=22988]

SI. No.123

QBID:12201023

If A is an integer, then which of the following statement(s) is/are true?

- A. $A+1$ will be odd
- B. A^2+2 will be odd
- C. $A+2$ will be odd
- D. $2A-1$ will be odd
- E. A^2+1 will be odd

Choose the **correct** answer from the options given below:

- 1. A and B only
- 2. A, B and C only
- 3. D and E only
- 4. D only

(1) 1

(2) 2

(3) 3

(4) 4

यदि A एक पूर्णांक है, तो निम्नलिखित में से कौन सा/से कथन सत्य है/हैं?

- A. $A+1$ एक विषम संख्या होगी
- B. A^2+2 एक विषम संख्या होगी
- C. $A+2$ एक विषम संख्या होगी
- D. $2A-1$ एक विषम संख्या होगी
- E. A^2+1 एक विषय संख्या होगी

नीचे दिए गए विकल्पों में से सही उत्तर चुनें :

- 1. केवल A और B
- 2. केवल A, B और C
- 3. केवल D और E
- 4. केवल D

(1) 1

(2) 2

(3) 3

(4) 4

1[Option ID=22989]

2[Option ID=22990]

3[Option ID=22991]

4[Option ID=22992]

SI. No.124

QBID:12201024

If the fractions $\frac{2}{5}$, $\frac{3}{8}$, $\frac{4}{9}$, $\frac{5}{13}$ and $\frac{6}{11}$ are arranged in ascending order of their values, then which of the fractions will be the third in the ordered sequence?

1. $\frac{2}{5}$
2. $\frac{4}{9}$
3. $\frac{5}{13}$
4. $\frac{3}{8}$

- (1) 1
(2) 2
(3) 3
(4) 4

यदि भिन्नोँ $\frac{2}{5}$, $\frac{3}{8}$, $\frac{4}{9}$, $\frac{5}{13}$ और $\frac{6}{11}$ को उनके मान के आरोही क्रम में लगाया जाय तो उस क्रम में तीसरे स्थान पर कौन सा भिन्न होगा?

1. $\frac{2}{5}$
2. $\frac{4}{9}$
3. $\frac{5}{13}$
4. $\frac{3}{8}$

- (1) 1
(2) 2
(3) 3
(4) 4

1[Option ID=22993]
2[Option ID=22994]
3[Option ID=22995]
4[Option ID=22996]

Sl. No.125
QBID:12201025

If in a coded language, '154' means 'Good and Tasty'; '4 6 8' means 'See Good Pictures'; and '6 2 9' means 'Pictures are Faint'. then which of the following digit stands for 'See'?

1. 9
2. 8
3. 4
4. 6

- (1) 1
(2) 2
(3) 3
(4) 4

यदि किसी कूट भाषा में '154' का अर्थ है 'अच्छे और स्वादिष्ट', '468' का अर्थ है 'देखो अच्छे चित्र', और '629' का अर्थ है 'चित्र हैं धुंधले', तो निम्नलिखित में से कौन अंक 'देखो' को निर्दिष्ट करता है?

1. 9
2. 8
3. 4
4. 6

- (1) 1
- (2) 2
- (3) 3
- (4) 4

1[Option ID=22997]
2[Option ID=22998]
3[Option ID=22999]
4[Option ID=23000]

SI. No.126
QBID:12201026

"Does the distinguished Member of the Parliament really believe that the Indian public is so naive that they will endorse just any stopgap measure"? Which fallacy is committed in the above arugument?

- 1. Begging the question
- 2. Red Herring
- 3. Appeal to Ignorance
- 4. Complex Question

- (1) 1
- (2) 2
- (3) 3
- (4) 4

"क्या माननीय संसद सदस्य वास्तव में विश्वास करते हैं कि भारत के लोग इतने भोले-भाले हैं कि वे किसी भी कामचलाऊ उपाय का समर्थन करेंगे?" उपरोक्त कथन में किस प्रकार का तर्कदोष है?

- 1. आत्माश्रय दोष
- 2. रेड हेरिंग
- 3. अनभिज्ञता का आग्रह
- 4. छलप्रश्न

- (1) 1
- (2) 2
- (3) 3
- (4) 4

1[Option ID=23001]
2[Option ID=23002]
3[Option ID=23003]
4[Option ID=23004]

SI. No.127
QBID:12201027

If the statement - "Some pandas are herbivorous animals", is given as true, then which of the following statements can be immediately inferred to be false?

- 1. No pandas are herbivorous animals.
- 2. All pandas are herbivorous animals.
- 3. Some pandas are not herbivorous animals.
- 4. All herbivorous animals are pandas.

- (1) 1
- (2) 2
- (3) 3

(4) 4

यदि कथन "कुछ पांडा शाकाहारी जानवर हैं" को सत्य के रूप में दिया गया है, तब निम्नलिखित में से कौन सा कथन त्वरित ढंग से असत्य होने के रूप में अनुमानित किया जा सकता है?

1. कोई भी पांडा शाकाहारी जानवर नहीं है।
2. सभी पांडा शाकाहारी जानवर हैं।
3. कुछ पांडा शाकाहारी जानवर नहीं हैं।
4. सभी शाकाहारी जानवर पांडा हैं।

(1) 1

(2) 2

(3) 3

(4) 4

1[Option ID=23005]

2[Option ID=23006]

3[Option ID=23007]

4[Option ID=23008]

Sl. No.128

QBID:12201028

Which of the following statements are so related that they cannot both be false, although they may both be true?

- A. All mushrooms are fungi.
- B. No mushrooms are fungi.
- C. Some mushrooms are fungi.
- D. Some mushrooms are not fungi.

Choose the **correct** answer from the options given below:

1. C and D only
2. A and B only
3. A and C only
4. B and D only



(1) 1

(2) 2

(3) 3

(4) 4

निम्नलिखित में से कौन-से कथन इस प्रकार से संबंधित हैं कि वे दोनों एक साथ असत्य नहीं हो सकते; यद्यपि वे दोनों सत्य हो सकते हैं?

- A. सभी मशरूम कवक हैं।
- B. कोई भी मशरूम कवक नहीं है।
- C. कुछ मशरूम कवक हैं।
- D. कुछ मशरूम कवक नहीं हैं।

नीचे दिए गए विकल्पों में से सही उत्तर चुनें :

- 1. केवल C और D
- 2. केवल A और B
- 3. केवल A और C
- 4. केवल B और D

(1) 1

(2) 2

(3) 3

(4) 4

1[Option ID=23009]

2[Option ID=23010]

3[Option ID=23011]

4[Option ID=23012]

SI. No.129

QBID:12201029

Which of the following statements are logically equivalent?

- A. Some plants are non-fungi.
- B. Some plants are not fungi.
- C. Some fungi are plants.
- D. Some non-fungi are not non-plants.

Choose the **correct** answer from the options given below:

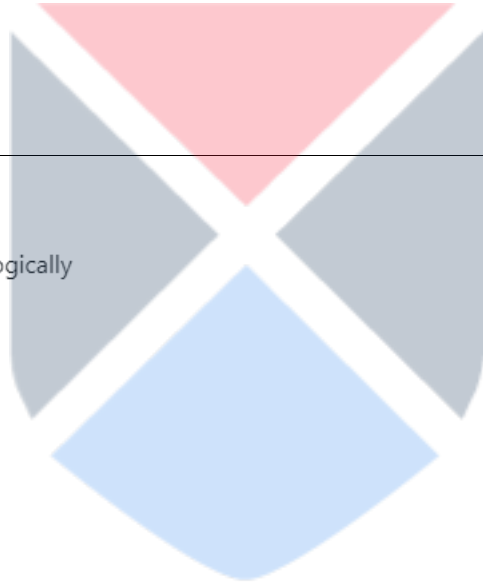
- 1. B, C and D only
- 2. B and C only
- 3. A, C and D only
- 4. A, B and D only

(1) 1

(2) 2

(3) 3

(4) 4



निम्नलिखित कौन-से कथन तार्किक रूप से समतुल्य हैं?

- A. कुछ पौधे गैर-कवक हैं।
- B. कुछ पौधे कवक नहीं हैं।
- C. कुछ कवक पौधे हैं।
- D. कुछ गैर-कवक, गैर-पौधे नहीं हैं।

नीचे दिए गए विकल्पों में से सही उत्तर चुनें :

- 1. केवल B, C और D
- 2. केवल B और C
- 3. केवल A, C और D
- 4. केवल A, B और D

(1) 1

(2) 2

(3) 3

(4) 4

1[Option ID=23013]

2[Option ID=23014]

3[Option ID=23015]

4[Option ID=23016]

SI. No.130

QBID:12201030

According to classical Indian School of logic (Nyāya) which of the following steps of inference (anumāna) corresponds to application (upnaya)?

- A. That mountain has fire.
- B. Whatever has smoke has fire, e.g. an oven.
- C. That mountain has smoke such as is invariably accompanied by fire.
- D. Because it has smoke.
- E. Therefore that mountain has fire.

Choose the **correct** answer from the options given below:

- 1. C only
- 2. A only
- 3. C and E only
- 4. D only

(1) 1

(2) 2

(3) 3

(4) 4

भारतीय शास्त्रीय न्याय मत के अनुसार निम्नलिखित कौन सा/से चरण उपनय के समरूप है/हैं ?

- A. उस पर्वत पर आग हैं।
- B. जहाँ-जहाँ धुआँ है, वहाँ वहाँ आग है, जैसे चूल्हा।
- C. उस पर्वत पर धुआँ है जैसा कि आग धुएं के साथ निरपवाद-रूप से विद्यमान (संलग्न) रहती है।
- D. क्योंकि उस पर धुआँ है।
- E. इसलिए उस पर्वत पर आग है।

नीचे दिए गए विकल्पों में से सही उत्तर चुनें :

- 1. केवल C
- 2. केवल A
- 3. केवल C और E
- 4. केवल D

(1) 1

(2) 2

(3) 3

(4) 4

1[Option ID=23017]

2[Option ID=23018]

3[Option ID=23019]

4[Option ID=23020]

Sl. No.131

QBID:12201031

Tina has bought a 4 gigabyte MP3 player. If each song lasts 3 minutes and is recorded at 128 kilo bits per second, then how many songs can be stored on Tina's MP3 player?

- 1. 1156
- 2. 1256
- 3. 1356
- 4. 1456

(1) 1

(2) 2

(3) 3

(4) 4

टीना ने एक 4 गीगाबाइट का MP3 प्लेयर खरीदा। यदि प्रत्येक गीत 3 मिनट तक बजता है और 128 किलोबिट प्रति-सेकेण्ड की दर पर रिकार्ड किया जाता है; तब टीना के MP3 प्लेयर में कितने गीतों को संग्रहित किया जा सकता है ?

- 1. 1156
- 2. 1256
- 3. 1356
- 4. 1456

(1) 1

(2) 2

(3) 3

(4) 4

1[Option ID=23021]

2[Option ID=23022]

SI. No.132
QBID:12201032

Which of the following statements about email are TRUE?

- A. You can create folders to store and organise your emails.
- B. Using the Cc feature will hide all other recipients from each other.
- C. You can add attachments of any file size to an email.
- D. You can add signatures to your emails to give personal contact details.
- E. You can only send emails from a laptop computer.

Choose the **correct** answer from the options given below:

- 1. A and B only
- 2. A and C only
- 3. A and D only
- 4. B, C and E only

- (1) 1
- (2) 2
- (3) 3
- (4) 4



ई-मेल के बारे में निम्नलिखित कौन-से कथन सत्य हैं?

- A. आप अपने ई-मेल का संग्रह करने एवं सुव्यवस्थित करने हेतु फ़ोल्डर बना सकते हैं।
- B. सी सी (Cc) विशेषता (फीचर) का प्रयोग सभी अन्य प्राप्तकर्ताओं को एक-दूसरे से छिपा देगा।
- C. आप किसी ई-मेल में किसी भी आकार वाली फ़ाइल के अटैचमेंट (संलग्नकों) को संबद्ध कर (जोड़) सकते हैं।
- D. आप निजी संपर्क विवरण प्रदान हेतु अपने ई-मेल में हस्ताक्षर को संलग्न (जोड़) कर सकते हैं।
- E. आप केवल लैपटॉप से ही ई-मेल प्रेषित कर सकते हैं।

नीचे दिए गए विकल्पों में से सही उत्तर चुनें :

- 1. केवल A और B
- 2. केवल A और C
- 3. केवल A और D
- 4. केवल B, C और E

- (1) 1
- (2) 2
- (3) 3
- (4) 4

3[Option ID=23027]

4[Option ID=23028]

Sl. No.133

QBID:12201033

Given below are two statements:

Statement I: .txt, .rtf and .csv are three file extensions used for generic text files.

Statement II: .rar file extension is an acronym for Roshal ARchive; developed by Russian software engineer Eugene Roshal.

In light of the above statements, choose the **correct** answer from the options given below:

1. Both Statement I and Statement II are true.
2. Both Statement I and Statement II are false.
3. Statement I is true but Statement II is false.
4. Statement I is false but Statement II is true.

(1) 1

(2) 2

(3) 3

(4) 4

नीचे दो कथन दिए गए हैं :

कथन - I : .txt, .rtf और .csv सामान्य पाठ (टेक्स्ट) फ़ाइलों हेतु प्रयुक्त होने वाले तीन फ़ाइल एक्सटेंशन (विस्तार) हैं।

कथन - II : .rar फाइल एक्सटेंशन रोशाल आर्काइव का परिवर्णी शब्द है जिसे रूसी सॉफ्टवेयर इंजीनियर यूजीन रोशाल ने विकसित किया था।

उपर्युक्त कथनों के आलोक में निम्नलिखित विकल्पों में से सही उत्तर चुनें :

1. कथन I और II दोनों सही हैं।
2. कथन I और II दोनों गलत हैं।
3. कथन I सही है , किन्तु कथन II गलत है।
4. कथन I गलत है , किन्तु कथन II सही है।

(1) 1

(2) 2

(3) 3

(4) 4

1[Option ID=23029]

2[Option ID=23030]

3[Option ID=23031]

4[Option ID=23032]

Sl. No.134

QBID:12201034

Which one of the following acronyms matches incorrectly with their full form?

1. VoIP - Voice Over Internet Protocol
2. WLAN - Wired Local Area Network
3. HTML - Hyper Text Markup Language
4. CMOS - Complementary Metal Oxide Semiconductor

(1) 1

(2) 2

(3) 3

(4) 4

निम्नलिखित में से कौन-सा एक परिवर्णी शब्द अपने पूर्ण-नाम से गलत तरीके से सुमेलित है?

1. VoIP = वाइस ओवर इण्टरनेट प्रोटोकॉल
2. WLAN = वायर्ड लोकल एरिया नेटवर्क
3. HTML = हायपर टेक्स्ट मार्कअप लैंग्वेज
4. CMOS = कांप्लिमेंटरी मेटल ऑक्साइड सेमीकंडक्टर

(1) 1

(2) 2

(3) 3

(4) 4

1[Option ID=23033]

2[Option ID=23034]

3[Option ID=23035]

4[Option ID=23036]

SI. No.135

QBID:12201035

Identify the correct order of the following memory types in decreasing order of access time.

- A. RAM
- B. SSD
- C. CPU Cache

Choose the **correct** answer from the options given below:

1. A, C, B
2. C, A, B
3. B, C, A
4. B, A, C



(1) 1

(2) 2

(3) 3

(4) 4

अभिगम अवधि के अवरोही क्रम में निम्नलिखित मेमोरी प्रकारों के सही-क्रम को चिन्हित कीजिए:

- A. RAM (आर ए एम)
- B. SSD (एस एस डी)
- C. CPU Cache (सी पी यु कैश)

नीचे दिए गए विकल्पों में से सही उत्तर चुनें :

1. A, C, B
2. C, A, B
3. B, C, A
4. B, A, C

(1) 1

(2) 2

(3) 3

(4) 4

1[Option ID=23037]

2[Option ID=23038]

3[Option ID=23039]

4[Option ID=23040]

Sl. No.136

QBID:12201036

Which of the following Millenium Deveopment Goals (MDGs) had the highest number of targets?

1. Goal 5 : Improve Maternal Health
2. Goal 6 : Combat HIV / AIDS
3. Goal 7 : Ensure Environmental Sustainability
4. Goal 8 : Develop a Global Partnership for Development

(1) 1

(2) 2

(3) 3

(4) 4

निम्नलिखित सहस्राब्दी विकास उद्देश्यों (एम डी जी) में से किसके अधिकतम लक्ष्य थे?

1. उद्देश्य 5 : मातृक स्वास्थ्य में सुधार
2. उद्देश्य 6 : एचआईवी / एड्स से मुकाबला
3. उद्देश्य 7 : पर्यावरणीय सततता सुनिश्चित करना
4. उद्देश्य 8 : विकास के लिए वैश्विक भागीदारी विकसित करना

(1) 1

(2) 2

(3) 3

(4) 4

1[Option ID=23041]

2[Option ID=23042]

3[Option ID=23043]

4[Option ID=23044]

Sl. No.137

QBID:12201037

Which of the following diseases are caused by atmospheric particulate matters?

- A. Asthama
- B. Melanoma
- C. Dry Eye Syndrome
- D. Bronchitis
- E. Chronic Obstructive Pulmonary Diseases (COPD)

Choose the **correct** answer from the options given below:

1. A, B, C and D only
2. B, C, D and E only
3. A, C, D and E only
4. A, B, D and E only

- (1) 1
- (2) 2
- (3) 3
- (4) 4

निम्नलिखित में से कौन से रोग वायुमंडलीय कणिकीय पदार्थों के कारण होते हैं?

- A. दमा
- B. मेलानोमा
- C. सूखी आंख संलक्षण
- D. श्वसनी शोथ
- E. चिरकालिक बाधक फुफ्फुसीय रोग (सी ओ पी डी)

नीचे दिए गए विकल्पों में से सही उत्तर चुनें :

- 1. केवल A, B, C और D
- 2. केवल B, C, D और E
- 3. केवल A, C, D और E
- 4. केवल A, B, D और E

- (1) 1
- (2) 2
- (3) 3
- (4) 4

1[Option ID=23045]
2[Option ID=23046]
3[Option ID=23047]
4[Option ID=23048]

SI. No.138
QBID:12201038

Given below are two statements:

Statement I: Amount of oxygen dissolved in water is a good indicator of water quality and of the kinds of life it will support.

Statement II: Chemical Oxygen Demand (COD) is a measure of dissolved oxygen consumed by aquatic microorganisms.

In light of the above statements, choose the **correct** answer from the options given below:

- 1. Both Statement I and Statement II are true.
- 2. Both Statement I and Statement II are false.
- 3. Statement I is true but Statement II is false.
- 4. Statement I is false but Statement II is true.

- (1) 1
- (2) 2
- (3) 3
- (4) 4

नीचे दो कथन दिए गए हैं :

कथन - I : जल में घुली आक्सीजन की मात्रा जल की गुणवत्ता और इसके द्वारा समर्थित जीवन के प्रकारों की एक उत्तम संकेतक है।

कथन - II : रासायनिक आक्सीजन मांग (सी ओ डी) जलीय सूक्ष्मजीवियों द्वारा उपभोग की गई घुली हुई आक्सीजन की मापक है।

उपर्युक्त कथनों के आलोक में निम्नलिखित विकल्पों में से सही उत्तर चुनें :

1. कथन I और II दोनों सही हैं।
2. कथन I और II दोनों गलत हैं।
3. कथन I सही है , किन्तु कथन II गलत है।
4. कथन I गलत है , किन्तु कथन II सही है।

(1) 1

(2) 2

(3) 3

(4) 4

1[Option ID=23049]

2[Option ID=23050]

3[Option ID=23051]

4[Option ID=23052]

SI. No.139

QBID:12201039

Given below are two statements:

Statement I: Reactor is the heart of any nuclear power plant.

Statement II: In case of nuclear power plants, except the reactor, the technology is exactly similar to any other fossil fueled power plant.

In light of the above statements, choose the **correct** answer from the options given below:

1. Both Statement I and Statement II are true.
2. Both Statement I and Statement II are false.
3. Statement I is true but Statement II is false.
4. Statement I is false but Statement II is true.

(1) 1

(2) 2

(3) 3

(4) 4

नीचे दो कथन दिए गए हैं :

कथन - I : रिएक्टर किसी भी नाभिकीय ऊर्जा संयंत्र का हृदय होता है।

कथन - II : नाभिकीय ऊर्जा संयंत्रों के मामले में, रिएक्टर के सिवाय प्रौद्योगिकी किसी भी अन्य जीवाश्म ईंधन से चलने वाले ऊर्जा संयंत्र के समान होती है।

उपर्युक्त कथनों के आलोक में निम्नलिखित विकल्पों में से सही उत्तर चुनें :

1. कथन I और II दोनों सही हैं।
2. कथन I और II दोनों गलत हैं।
3. कथन I सही है , किन्तु कथन II गलत है।
4. कथन I गलत है , किन्तु कथन II सही है।

(1) 1

(2) 2

(3) 3

(4) 4

1[Option ID=23053]

2[Option ID=23054]

3[Option ID=23055]

4[Option ID=23056]

SI. No.140

QBID:12201040

Which one of the following pollutants is responsible for acid rain formation?

1. CH₄ (Methane)
2. C₆H₆ (Benzene)
3. SO₂ (Sulphur dioxide)
4. CO (Carbon monoxide)

(1) 1

(2) 2

(3) 3

(4) 4

निम्नलिखित में से कौन सा प्रदूषक अम्लीय वर्षा कि रचना के लिए उत्तरदायी है?

1. CH₄ (मीथेन)
2. C₆H₆ (बैजिन)
3. SO₂ (सल्फर डाई आक्साइड)
4. CO (कार्बन मोनो आक्साइड)

(1) 1

(2) 2

(3) 3

(4) 4

1[Option ID=23057]

2[Option ID=23058]

3[Option ID=23059]

4[Option ID=23060]

SI. No.141

QBID:12201041

As per NEP-2020, for offering a 4-year integrated teacher preparation programme, all the Teacher Education Institutions (TEIs) will be required to convert to multidisciplinary institutions by:

1. 2030
2. 2040
3. 2025
4. 2035


- (1) 1
(2) 2
(3) 3
(4) 4

नई शिक्षा नीति-2020 के अनुसार, एक 4 वर्षीय समेकित शिक्षक तैयारी कार्यक्रम की शुरुआत करने हेतु सभी शिक्षक शिक्षा संस्थानों (टी ई आई) को बहु-विषयक संस्थानों के रूप में निम्नांकित किस वर्ष तक परिवर्तित करना होगा?

1. 2030
2. 2040
3. 2025
4. 2035

- (1) 1
(2) 2
(3) 3
(4) 4

- 1[Option ID=23061]
2[Option ID=23062]
3[Option ID=23063]
4[Option ID=23064]



SI. No.142
QBID:12201042

Find out the names of ancient Indian universities whose names are mentioned in NEP 2020?

- A. Nalanda
B. Takshashila
C. Mithila
D. Valabhi
E. Vikramshila

Choose the **correct** answer from the options given below:

1. C, D and E only
2. A, B, C and E only
3. A, B, D and E only
4. A, B and D only

- (1) 1
(2) 2
(3) 3

(4) 4

नई शिक्षा नीति 2020 में उल्लिखित प्राचीन भारतीय विश्वविद्यालयों के नामों को ज्ञात कीजिए।

- A. नालंदा
- B. तक्षशिला
- C. मिथिला
- D. वलभी
- E. विक्रमशिला

नीचे दिए गए विकल्पों में से सही उत्तर चुनें :

- 1. केवल C, D और E
- 2. केवल A, B, C और E
- 3. केवल A, B, D और E
- 4. केवल A, B और D

(1) 1

(2) 2

(3) 3

(4) 4

1[Option ID=23065]

2[Option ID=23066]

3[Option ID=23067]

4[Option ID=23068]

SI. No.143

QBID:12201043

Which of the following universities were established under the provision of the Acts of incorporation passed by the governor-general and Viceroy Lord Canning, in January 1857.

- A. Calcutta
- B. Panjab
- C. Madras
- D. Bombay

Choose the **correct** answer from the options given below:

- 1. A and D only
- 2. A, B and C only
- 3. A, C and D only
- 4. A, B, C and D

(1) 1

(2) 2

(3) 3

(4) 4

गवर्नर-जनरल एवं वायसराय लार्ड कैनिंग द्वारा जनवरी 1957 में पारित किए गए समावेशन के अधिनियमों के उपबंध के अंतर्गत निम्नलिखित कौन-से विश्वविद्यालयों की स्थापना की गई थी?

- A. कलकत्ता
- B. पंजाब
- C. मद्रास
- D. बाम्बे

नीचे दिए गए विकल्पों में से सही उत्तर चुनें :

- 1. केवल A और D
- 2. केवल A, B और C
- 3. केवल A, C और D
- 4. A, B, C और D

- (1) 1
- (2) 2
- (3) 3
- (4) 4

1[Option ID=23069]
2[Option ID=23070]
3[Option ID=23071]
4[Option ID=23072]

Sl. No.144
QBID:12201044

How many regional centers of UGC are there in India?

- 1. Four
- 2. Five
- 3. Six
- 4. Eight

- (1) 1
- (2) 2
- (3) 3
- (4) 4

भारत में यू जी सी के कितने क्षेत्रीय केंद्र हैं?

- 1. चार
- 2. पाँच
- 3. छः
- 4. आठ

- (1) 1
- (2) 2
- (3) 3
- (4) 4

1[Option ID=23073]
2[Option ID=23074]
3[Option ID=23075]
4[Option ID=23076]

Sl. No.145
QBID:12201045

National Programme on Technology Enhanced Learning (NPTEL) is the largest online repository in the world of courses in:

- A. Yoga and Meditation
- B. Engineering
- C. Visual Arts
- D. Basic Sciences
- E. Selected Humanities and Management Subjects

Choose the **correct** answer from the options given below:

- 1. A, C and E only
- 2. B and C only
- 3. B, D and E only
- 4. A, B, C and D only

- (1) 1
- (2) 2
- (3) 3
- (4) 4

प्रौद्योगिकी संवर्धित अधिगम पर राष्ट्रीय कार्यक्रम (एन पी टी ई एल) विश्व में किन पाठ्यक्रमों का सबसे बड़ा ऑनलाइन संग्रह है?

- A. योग और ध्यान
- B. अभियांत्रिकी
- C. दृश्य कलाएं
- D. मूलभूत विज्ञान
- E. चुनिंदा मानविकी और प्रबंधन विषय

नीचे दिए गए विकल्पों में से सही उत्तर चुनें :

- 1. केवल A, C और E
- 2. केवल B और C
- 3. केवल B, D और E
- 4. केवल A, B, C और D

- (1) 1
- (2) 2
- (3) 3
- (4) 4

- 1[Option ID=23077]
- 2[Option ID=23078]
- 3[Option ID=23079]
- 4[Option ID=23080]

Sl. No.146
QBID:12201046

Read the following passage and answer the question:

As adults we develop a complex set of emotional expressions and perceptual understanding of our own and other's emotional states. Infants appear to have two innate rudimentary emotional arousal responses to stimuli referred to as approach and avoidance. The infant's emotional life consists of little more than these two arousal states, an attraction to pleasant stimulation therefore eliciting approach and withdrawal or avoidance of unpleasant stimulation. Given that this is the nature of emotional arousal the new-born arrives equipped with, the approach avoidance response makes perfect evolutionary sense. This is all the new-born needs at this juncture in their lifespan development. It might also suggest that infants are born with an innate understanding of the meaning intended in the emotional facial expressions of others. Hence if the caregiver adopts a playful posture and conveys a happy facial expression, then the infant will be in an approach arousal state and most likely respond positively by mirroring the expression portrayed. The opposite also applies, however, where parents adopting a despondent posture are likely to initiate an avoidance arousal state in the infant. Under these circumstances the infant will feel uncomfortable and will want the situation to change. In an avoidance arousal state the infant will exhibit behaviours designed to provoke a change in the parent's behaviour such as crying and 'pick-me-up' gesturing or sucking an object such as a pacifier or the edge of a blanket. A continuation of parental despondency could have serious consequences for the infant's normal socioemotional development. This could cause, alterations to the infant's sleeping patterns and increase levels of irritability, anger and anxiousness. An infant's avoidance of aversive situations is limited due to their immature motor development, so they resort to simple avoidance tactics such as turning the head, gaze avoidance and crying. These types of behaviours are attempts at modulating their emotional arousal state. Modulation or emotional self-regulation refers to the strategies we use to adjust our emotional state to a level of intensity we feel comfortable with.



निम्नलिखित गद्यांश को ध्यानपूर्वक पढ़िए और सम्बंधित पांच प्रश्नों के उत्तर दीजिए :

एक प्रौढ़ के रूप में हम अपने स्वयं की संवेगात्मक अभिव्यक्तियों और अविरत बोध एवं दूसरे की संवेगात्मक अवस्थाओं का एक संश्लिष्ट प्रवृत्ति का विकास करते हैं। शिशु में दो नैसर्गिक अल्पविकसित संवेगात्मक उद्बोधन की अनुक्रिया होती हैं जो उद्दीपन करती हैं जिसे उपागम और और परिवर्जन/ परिहार के रूप में संदर्भित किया जाता है। शिशु के संवेगात्मक जीवन में इन दो उद्बोधनों से अधिक कुछ और होता है: एक प्रीतिकर उत्प्रेरणा के प्रति आकर्षण, इस कारण उपागम और प्रत्याहार या अप्रीतिकर उत्प्रेरणा का परिहार निष्कर्षतः प्राप्त होना है। इससे प्राप्त होता है कि यह संवेगात्मक उद्बोधन की प्रकृति है और एक नवजात में विद्यमान होती है, उपागम-परिहार अनुक्रिया पूर्ण क्रम विकास संवेदना निर्मित करती है। यह सब नवजात की आवश्यकताएं हैं और उनके जीवन पर्यंत विकास का संयोजन है। यह भी सुझाव दिया जा सकता है कि नवजात दूसरों की संवेगात्मक आनन अभिव्यक्ति में निहित अर्थों के नैसर्गिक बोधगम्यता के साथ पैदा होते हैं। इसलिए यदि देखभालकर्ता विनोदशील भंगिमा बनाता है और प्रसन्नचित आनन अभिव्यक्ति करता है तब शिशु भी उद्बोधनात्मक अवस्था के उपागम में होगा और अभिनीत अभिव्यक्ति का प्रतिबिंबन करते हुए प्रायः सकारात्मक रूप से अनुक्रिया करेगा। यद्यपि इसके विपरीत भी हो सकता है। जब माता-पिता अवसादपूर्ण भंगिमा बनाते हैं, तब शिशु में परिहार उद्बोधन की स्थिति दिखाई देती है। इन परिस्थितियों के अंतर्गत शिशु असहज महसूस करेगा और स्थिति में परिवर्तन की चाह करेगा। परिहार उद्बोधन कि दशा में शिशु माता-पिता/ अभिभावक के व्यवहार में परिवर्तन के लिए ध्यानाकर्षण हेतु प्रदर्शित व्यवहारों जैसे चिल्लाना, 'मुझे गोदी में उठा लो' का संकेतन या वस्तु जैसे शमक या कंबल के किनारे को चूसने का प्रयोग करता है। माता-पिता के सतत अवसाद का शिशु के सामान्य सामाजिक-संवेदनात्मक विकास पर गंभीर प्रभाव पड़ सकता है। इससे बच्चे की नींद प्रवृत्ति (शयन प्रतिरूप) चिड़चिड़ापन के स्तर में वृद्धि, क्रोध तथा चिन्ताग्रस्तता में परिवर्तन हो सकता है। एक शिशु की प्रतिकूल स्थितियों का परिहार सीमित है क्योंकि उसका शारीरिक विकास अपरिपक्व होता है, इसलिए वे सामान्य परिहार युक्तियों जैसे सिर घुमाना, एक टक देखते हुए परिहार प्रदर्शित करना और चिल्लाने के व्यवहार का सहारा लेते हैं। व्यवहारों के ये रूप उनके संवेदात्मक उद्बोधन अवस्था के अनुकूलन के प्रयास हैं। अनुकूलन या संवेगात्मक आत्मनियमन का संदर्भ उन रणनीतियों के लिए किया जाता है जिनका अपने को सहज महसूस करने हेतु अपने संवेगात्मक तीव्रता स्तर को समायोजित करने के लिए हम प्रयोग करते हैं।

The above passage has most likely been taken from a text on

1. Human Biology
2. Parent Education
3. Emotional Development
4. Children Upbringing

- (1) 1
(2) 2
(3) 3
(4) 4

उपर्युक्त गद्यांश सर्वाधिक संभवतया किस पाठ से लिया गया है?

1. मानव जीव विज्ञान
2. माता-पिता (अभिभावक) शिक्षा
3. संवेगात्मक विकास
4. बच्चों का पालन-पोषण

- (1) 1
(2) 2
(3) 3
(4) 4

- 1[Option ID=23081]
2[Option ID=23082]
3[Option ID=23083]
4[Option ID=23084]

Read the following passage and answer the question:

As adults we develop a complex set of emotional expressions and perceptual understanding of our own and other's emotional states. Infants appear to have two innate rudimentary emotional arousal responses to stimuli referred to as approach and avoidance. The infant's emotional life consists of little more than these two arousal states, an attraction to pleasant stimulation therefore eliciting approach and withdrawal or avoidance of unpleasant stimulation. Given that this is the nature of emotional arousal the new-born arrives equipped with, the approach avoidance response makes perfect evolutionary sense. This is all the new-born needs at this juncture in their lifespan development. It might also suggest that infants are born with an innate understanding of the meaning intended in the emotional facial expressions of others. Hence if the caregiver adopts a playful posture and conveys a happy facial expression, then the infant will be in an approach arousal state and most likely respond positively by mirroring the expression portrayed. The opposite also applies, however, where parents adopting a despondent posture are likely to initiate an avoidance arousal state in the infant. Under these circumstances the infant will feel uncomfortable and will want the situation to change. In an avoidance arousal state the infant will exhibit behaviours designed to provoke a change in the parent's behaviour such as crying and 'pick-me-up' gesturing or sucking an object such as a pacifier or the edge of a blanket. A continuation of parental despondency could have serious consequences for the infant's normal socioemotional development. This could cause, alterations to the infant's sleeping patterns and increase levels of irritability, anger and anxiousness. An infant's avoidance of aversive situations is limited due to their immature motor development, so they resort to simple avoidance tactics such as turning the head, gaze avoidance and crying. These types of behaviours are attempts at modulating their emotional arousal state. Modulation or emotional self-regulation refers to the strategies we use to adjust our emotional state to a level of intensity we feel comfortable with.



निम्नलिखित गद्यांश को ध्यानपूर्वक पढ़िए और सम्बंधित पांच प्रश्नों के उत्तर दीजिए :

एक प्रौढ़ के रूप में हम अपने स्वयं की संवेगात्मक अभिव्यक्तियों और अविरत बोध एवं दूसरे की संवेगात्मक अवस्थाओं का एक संश्लिष्ट प्रवृत्ति का विकास करते हैं। शिशु में दो नैसर्गिक अल्पविकसित संवेगात्मक उद्बोधन की अनुक्रिया होती हैं जो उद्दीपन करती हैं जिसे उपागम और और परिवर्जन/ परिहार के रूप में संदर्भित किया जाता है। शिशु के संवेगात्मक जीवन में इन दो उद्बोधनों से अधिक कुछ और होता है: एक प्रीतिकर उत्प्रेरणा के प्रति आकर्षण, इस कारण उपागम और प्रत्याहार या अप्रीतिकर उत्प्रेरणा का परिहार निष्कर्षतः प्राप्त होना है। इससे प्राप्त होता है कि यह संवेगात्मक उद्बोधन की प्रकृति है और एक नवजात में विद्यमान होती है, उपागम-परिहार अनुक्रिया पूर्ण क्रम विकास संवेदना निर्मित करती है। यह सब नवजात की आवश्यकताएं हैं और उनके जीवन पर्यंत विकास का संयोजन है। यह भी सुझाव दिया जा सकता है कि नवजात दूसरों की संवेगात्मक आनन अभिव्यक्ति में निहित अर्थों के नैसर्गिक बोधगम्यता के साथ पैदा होते हैं। इसलिए यदि देखभालकर्ता विनोदशील भंगिमा बनाता है और प्रसन्नचित आनन अभिव्यक्ति करता है तब शिशु भी उद्बोधनात्मक अवस्था के उपागम में होगा और अभिनीत अभिव्यक्ति का प्रतिबिंबन करते हुए प्रायः सकारात्मक रूप से अनुक्रिया करेगा। यद्यपि इसके विपरीत भी हो सकता है। जब माता-पिता अवसादपूर्ण भंगिमा बनाते हैं, तब शिशु में परिहार उद्बोधन की स्थिति दिखाई देती है। इन परिस्थितियों के अंतर्गत शिशु असहज महसूस करेगा और स्थिति में परिवर्तन की चाह करेगा। परिहार उद्बोधन कि दशा में शिशु माता-पिता/ अभिभावक के व्यवहार में परिवर्तन के लिए ध्यानाकर्षण हेतु प्रदर्शित व्यवहारों जैसे चिल्लाना, 'मुझे गोदी में उठा लो' का संकेतन या वस्तु जैसे शमक या कंबल के किनारे को चूसने का प्रयोग करता है। माता-पिता के सतत अवसाद का शिशु के सामान्य सामाजिक-संवेदनात्मक विकास पर गंभीर प्रभाव पड़ सकता है। इससे बच्चे की नींद प्रवृत्ति (शयन प्रतिरूप) चिड़चिड़ापन के स्तर में वृद्धि, क्रोध तथा चिन्ताग्रस्तता में परिवर्तन हो सकता है। एक शिशु की प्रतिकूल स्थितियों का परिहार सीमित है क्योंकि उसका शारीरिक विकास अपरिपक्व होता है, इसलिए वे सामान्य परिहार युक्तियों जैसे सिर घुमाना, एक टक देखते हुए परिहार प्रदर्शित करना और चिल्लाने के व्यवहार का सहारा लेते हैं। व्यवहारों के ये रूप उनके संवेदात्मक उद्बोधन अवस्था के अनुकूलन के प्रयास हैं। अनुकूलन या संवेगात्मक आत्मनियमन का संदर्भ उन रणनीतियों के लिए किया जाता है जिनका अपने को सहज महसूस करने हेतु अपने संवेगात्मक तीव्रता स्तर को समायोजित करने के लिए हम प्रयोग करते हैं।

Given below are two statements, one is labelled as Assertion (A) and the other is labelled as Reason (R).

Assertion (A): An infant's avoidance of unpleasant stimulations or situations is limited.

Reason (R): An infant is unable to decode the emotions expressed from others' faces.

In light of the above statements, choose the *most appropriate* answer from the options given below:

1. Both (A) and (R) are correct and (R) is the correct explanation of (A).
2. Both (A) and (R) are correct and (R) is the correct explanation of (A).
3. (A) is correct but (R) is not correct.
4. (A) is not correct but (R) is correct.

(1) 1

(2) 2

(3) 3

(4) 4

नीचे दो कथन दिए गए हैं : एक को अभिकथन (A) और दूसरे को कारण (R) कहा गया है।

अभिकथन (A) : एक शिशु के लिए अप्रसन्न उद्दीपन या स्थितियों का परिहार सीमित है।

कारण (R) : एक शिशु दूसरों के चेहरे की संवेगात्मक अभिव्यक्ति का विकूटन करने में असमर्थ होता है।

उपर्युक्त कथनों के आलोक में निम्नांकित विकल्पों में से सही उत्तर चुनें :

1. (A) और (R) दोनों सही हैं और (R), (A) की सही व्याख्या है।
2. (A) और (R) दोनों सही हैं परन्तु (R), (A) की सही व्याख्या नहीं है।
3. (A) सही है परन्तु (R) सही नहीं है।
4. (A) सही नहीं है परन्तु (R) सही है।

(1) 1

(2) 2

(3) 3

(4) 4

1[Option ID=23085]

2[Option ID=23086]

3[Option ID=23087]

4[Option ID=23088]

SI. No.148

QBID:12201048



Read the following passage and answer the question:

As adults we develop a complex set of emotional expressions and perceptual understanding of our own and other's emotional states. Infants appear to have two innate rudimentary emotional arousal responses to stimuli referred to as approach and avoidance. The infant's emotional life consists of little more than these two arousal states, an attraction to pleasant stimulation therefore eliciting approach and withdrawal or avoidance of unpleasant stimulation. Given that this is the nature of emotional arousal the new-born arrives equipped with, the approach avoidance response makes perfect evolutionary sense. This is all the new-born needs at this juncture in their lifespan development. It might also suggest that infants are born with an innate understanding of the meaning intended in the emotional facial expressions of others. Hence if the caregiver adopts a playful posture and conveys a happy facial expression, then the infant will be in an approach arousal state and most likely respond positively by mirroring the expression portrayed. The opposite also applies, however, where parents adopting a despondent posture are likely to initiate an avoidance arousal state in the infant. Under these circumstances the infant will feel uncomfortable and will want the situation to change. In an avoidance arousal state the infant will exhibit behaviours designed to provoke a change in the parent's behaviour such as crying and 'pick-me-up' gesturing or sucking an object such as a pacifier or the edge of a blanket. A continuation of parental despondency could have serious consequences for the infant's normal socioemotional development. This could cause, alterations to the infant's sleeping patterns and increase levels of irritability, anger and anxiousness. An infant's avoidance of aversive situations is limited due to their immature motor development, so they resort to simple avoidance tactics such as turning the head, gaze avoidance and crying. These types of behaviours are attempts at modulating their emotional arousal state. Modulation or emotional self-regulation refers to the strategies we use to adjust our emotional state to a level of intensity we feel comfortable with.



निम्नलिखित गद्यांश को ध्यानपूर्वक पढ़िए और सम्बंधित पांच प्रश्नों के उत्तर दीजिए :

एक प्रौढ़ के रूप में हम अपने स्वयं की संवेगात्मक अभिव्यक्तियों और अविरत बोध एवं दूसरे की संवेगात्मक अवस्थाओं का एक संश्लिष्ट प्रवृत्ति का विकास करते हैं। शिशु में दो नैसर्गिक अल्पविकसित संवेगात्मक उद्बोधन की अनुक्रिया होती हैं जो उद्दीपन करती हैं जिसे उपागम और और परिवर्जन/ परिहार के रूप में संदर्भित किया जाता है। शिशु के संवेगात्मक जीवन में इन दो उद्बोधनों से अधिक कुछ और होता है: एक प्रीतिकर उत्प्रेरणा के प्रति आकर्षण, इस कारण उपागम और प्रत्याहार या अप्रीतिकर उत्प्रेरणा का परिहार निष्कर्षतः प्राप्त होना है। इससे प्राप्त होता है कि यह संवेगात्मक उद्बोधन की प्रकृति है और एक नवजात में विद्यमान होती है, उपागम-परिहार अनुक्रिया पूर्ण क्रम विकास संवेदना निर्मित करती है। यह सब नवजात की आवश्यकताएं हैं और उनके जीवन पर्यंत विकास का संयोजन है। यह भी सुझाव दिया जा सकता है कि नवजात दूसरों की संवेगात्मक आनन अभिव्यक्ति में निहित अर्थों के नैसर्गिक बोधगम्यता के साथ पैदा होते हैं। इसलिए यदि देखभालकर्ता विनोदशील भंगिमा बनाता है और प्रसन्नचित आनन अभिव्यक्ति करता है तब शिशु भी उद्बोधनात्मक अवस्था के उपागम में होगा और अभिनीत अभिव्यक्ति का प्रतिबिंबन करते हुए प्रायः सकारात्मक रूप से अनुक्रिया करेगा। यद्यपि इसके विपरीत भी हो सकता है। जब माता-पिता अवसादपूर्ण भंगिमा बनाते हैं, तब शिशु में परिहार उद्बोधन की स्थिति दिखाई देती है। इन परिस्थितियों के अंतर्गत शिशु असहज महसूस करेगा और स्थिति में परिवर्तन की चाह करेगा। परिहार उद्बोधन कि दशा में शिशु माता-पिता/ अभिभावक के व्यवहार में परिवर्तन के लिए ध्यानाकर्षण हेतु प्रदर्शित व्यवहारों जैसे चिल्लाना, 'मुझे गोदी में उठा लो' का संकेतन या वस्तु जैसे शमक या कंबल के किनारे को चूसने का प्रयोग करता है। माता-पिता के सतत अवसाद का शिशु के सामान्य सामाजिक-संवेदनात्मक विकास पर गंभीर प्रभाव पड़ सकता है। इससे बच्चे की नींद प्रवृत्ति (शयन प्रतिरूप) चिड़चिड़ापन के स्तर में वृद्धि, क्रोध तथा चिन्ताग्रस्तता में परिवर्तन हो सकता है। एक शिशु की प्रतिकूल स्थितियों का परिहार सीमित है क्योंकि उसका शारीरिक विकास अपरिपक्व होता है, इसलिए वे सामान्य परिहार युक्तियों जैसे सिर घुमाना, एक टक देखते हुए परिहार प्रदर्शित करना और चिल्लाने के व्यवहार का सहारा लेते हैं। व्यवहारों के ये रूप उनके संवेदात्मक उद्बोधन अवस्था के अनुकूलन के प्रयास हैं। अनुकूलन या संवेगात्मक आत्मनियमन का संदर्भ उन रणनीतियों के लिए किया जाता है जिनका अपने को सहज महसूस करने हेतु अपने संवेगात्मक तीव्रता स्तर को समायोजित करने के लिए हम प्रयोग करते हैं।

The angry face of a parent will most likely generate which among the following responses in a new born child.

- A. Crying
- B. A smiling face to pacify the parent.
- C. Sucking the edge of a blanket .
- D. 'Pick-me-up' gesture.

Choose the **correct** answer from the options given below:

- 1. A, B and C only
- 2. A, C and D only
- 3. B, C and D only
- 4. A, B and D only

- (1) 1
- (2) 2
- (3) 3
- (4) 4

माता-पिता की क्रोधमय आनन अभिव्यक्ति से एक नवजात शिशु में कौन-सी अधिक संभावित अनुक्रिया प्रकट होगी?

- A. चिल्लाना
- B. माता-पिता को शांत करने हेतु मुस्कराहट भरा चेहरा
- C. कंबल के किनारे को चूसना
- D. 'मुझे गोदी में उठा लो' का संकेत

नीचे दिए गए विकल्पों में से सही उत्तर चुनें :

- 1. केवल A, B और C
- 2. केवल A, C और D
- 3. केवल B, C और D
- 4. केवल A, B और D

(1) 1

(2) 2

(3) 3

(4) 4

1[Option ID=23089]


2[Option ID=23090]

3[Option ID=23091]

4[Option ID=23092]

Sl. No.149

QBID:12201049



Read the following passage and answer the question:

As adults we develop a complex set of emotional expressions and perceptual understanding of our own and other's emotional states. Infants appear to have two innate rudimentary emotional arousal responses to stimuli referred to as approach and avoidance. The infant's emotional life consists of little more than these two arousal states, an attraction to pleasant stimulation therefore eliciting approach and withdrawal or avoidance of unpleasant stimulation. Given that this is the nature of emotional arousal the new-born arrives equipped with, the approach avoidance response makes perfect evolutionary sense. This is all the new-born needs at this juncture in their lifespan development. It might also suggest that infants are born with an innate understanding of the meaning intended in the emotional facial expressions of others. Hence if the caregiver adopts a playful posture and conveys a happy facial expression, then the infant will be in an approach arousal state and most likely respond positively by mirroring the expression portrayed. The opposite also applies, however, where parents adopting a despondent posture are likely to initiate an avoidance arousal state in the infant. Under these circumstances the infant will feel uncomfortable and will want the situation to change. In an avoidance arousal state the infant will exhibit behaviours designed to provoke a change in the parent's behaviour such as crying and 'pick-me-up' gesturing or sucking an object such as a pacifier or the edge of a blanket. A continuation of parental despondency could have serious consequences for the infant's normal socioemotional development. This could cause, alterations to the infant's sleeping patterns and increase levels of irritability, anger and anxiousness. An infant's avoidance of aversive situations is limited due to their immature motor development, so they resort to simple avoidance tactics such as turning the head, gaze avoidance and crying. These types of behaviours are attempts at modulating their emotional arousal state. Modulation or emotional self-regulation refers to the strategies we use to adjust our emotional state to a level of intensity we feel comfortable with.



निम्नलिखित गद्यांश को ध्यानपूर्वक पढ़िए और सम्बंधित पांच प्रश्नों के उत्तर दीजिए :

एक प्रौढ़ के रूप में हम अपने स्वयं की संवेगात्मक अभिव्यक्तियों और अविरत बोध एवं दूसरे की संवेगात्मक अवस्थाओं का एक संश्लिष्ट प्रवृत्ति का विकास करते हैं। शिशु में दो नैसर्गिक अल्पविकसित संवेगात्मक उद्बोधन की अनुक्रिया होती हैं जो उद्दीपन करती हैं जिसे उपागम और और परिवर्जन/ परिहार के रूप में संदर्भित किया जाता है। शिशु के संवेगात्मक जीवन में इन दो उद्बोधनों से अधिक कुछ और होता है: एक प्रीतिकर उत्प्रेरणा के प्रति आकर्षण, इस कारण उपागम और प्रत्याहार या अप्रीतिकर उत्प्रेरणा का परिहार निष्कर्षतः प्राप्त होना है। इससे प्राप्त होता है कि यह संवेगात्मक उद्बोधन की प्रकृति है और एक नवजात में विद्यमान होती है, उपागम-परिहार अनुक्रिया पूर्ण क्रम विकास संवेदना निर्मित करती है। यह सब नवजात की आवश्यकताएं हैं और उनके जीवन पर्यंत विकास का संयोजन है। यह भी सुझाव दिया जा सकता है कि नवजात दूसरों की संवेगात्मक आनन अभिव्यक्ति में निहित अर्थों के नैसर्गिक बोधगम्यता के साथ पैदा होते हैं। इसलिए यदि देखभालकर्ता विनोदशील भंगिमा बनाता है और प्रसन्नचित आनन अभिव्यक्ति करता है तब शिशु भी उद्बोधनात्मक अवस्था के उपागम में होगा और अभिनीत अभिव्यक्ति का प्रतिबिंबन करते हुए प्रायः सकारात्मक रूप से अनुक्रिया करेगा। यद्यपि इसके विपरीत भी हो सकता है। जब माता-पिता अवसादपूर्ण भंगिमा बनाते हैं, तब शिशु में परिहार उद्बोधन की स्थिति दिखाई देती है। इन परिस्थितियों के अंतर्गत शिशु असहज महसूस करेगा और स्थिति में परिवर्तन की चाह करेगा। परिहार उद्बोधन कि दशा में शिशु माता-पिता/ अभिभावक के व्यवहार में परिवर्तन के लिए ध्यानाकर्षण हेतु प्रदर्शित व्यवहारों जैसे चिल्लाना, 'मुझे गोदी में उठा लो' का संकेतन या वस्तु जैसे शमक या कंबल के किनारे को चूसने का प्रयोग करता है। माता-पिता के सतत अवसाद का शिशु के सामान्य सामाजिक-संवेदनात्मक विकास पर गंभीर प्रभाव पड़ सकता है। इससे बच्चे की नींद प्रवृत्ति (शयन प्रतिरूप) चिड़चिड़ापन के स्तर में वृद्धि, क्रोध तथा चिन्ताग्रस्तता में परिवर्तन हो सकता है। एक शिशु की प्रतिकूल स्थितियों का परिहार सीमित है क्योंकि उसका शारीरिक विकास अपरिपक्व होता है, इसलिए वे सामान्य परिहार युक्तियों जैसे सिर घुमाना, एक टक देखते हुए परिहार प्रदर्शित करना और चिल्लाने के व्यवहार का सहारा लेते हैं। व्यवहारों के ये रूप उनके संवेदात्मक उद्बोधन अवस्था के अनुकूलन के प्रयास हैं। अनुकूलन या संवेगात्मक आत्मनियमन का संदर्भ उन रणनीतियों के लिए किया जाता है जिनका अपने को सहज महसूस करने हेतु अपने संवेगात्मक तीव्रता स्तर को समायोजित करने के लिए हम प्रयोग करते हैं।

Given below are two statements:

Statement I: 'Approach' is an emotional arousal response in an infant towards pleasant stimulation.

Statement II: An infant has little understanding of the emotions conveyed through facial expressions of others.

In light of the above statements, choose the **most appropriate** answer from the options given below:

1. Both Statement I and Statement II are correct.
2. Both Statement I and Statement II are incorrect.
3. Statement I is correct but Statement II is incorrect.
4. Statement I is incorrect but Statement II is correct.

- (1) 1
- (2) 2
- (3) 3
- (4) 4

नीचे दो कथन दिए गए हैं :

कथन - I : 'उपागम' एक शिशु में विनोदशील उत्प्रेरणा के प्रति संवेगात्मक उद्बोधन अनुक्रिया है।

कथन - II : एक शिशु को दूसरों की आनन अभिव्यक्तियों द्वारा संप्रेषित संवेगों का बोध कम होता है।

उपर्युक्त कथनों के आलोक में निम्नलिखित विकल्पों में से सही उत्तर चुनें :

1. कथन I और II दोनों सही हैं।
2. कथन I और II दोनों गलत हैं।
3. कथन I सही है , किन्तु कथन II गलत है।
4. कथन I गलत है , किन्तु कथन II सही है।

(1) 1

(2) 2

(3) 3

(4) 4

1[Option ID=23093]

2[Option ID=23094]

3[Option ID=23095]

4[Option ID=23096]

SI. No.150

QBID:12201050



Read the following passage and answer the question:

As adults we develop a complex set of emotional expressions and perceptual understanding of our own and other's emotional states. Infants appear to have two innate rudimentary emotional arousal responses to stimuli referred to as approach and avoidance. The infant's emotional life consists of little more than these two arousal states, an attraction to pleasant stimulation therefore eliciting approach and withdrawal or avoidance of unpleasant stimulation. Given that this is the nature of emotional arousal the new-born arrives equipped with, the approach avoidance response makes perfect evolutionary sense. This is all the new-born needs at this juncture in their lifespan development. It might also suggest that infants are born with an innate understanding of the meaning intended in the emotional facial expressions of others. Hence if the caregiver adopts a playful posture and conveys a happy facial expression, then the infant will be in an approach arousal state and most likely respond positively by mirroring the expression portrayed. The opposite also applies, however, where parents adopting a despondent posture are likely to initiate an avoidance arousal state in the infant. Under these circumstances the infant will feel uncomfortable and will want the situation to change. In an avoidance arousal state the infant will exhibit behaviours designed to provoke a change in the parent's behaviour such as crying and 'pick-me-up' gesturing or sucking an object such as a pacifier or the edge of a blanket. A continuation of parental despondency could have serious consequences for the infant's normal socioemotional development. This could cause, alterations to the infant's sleeping patterns and increase levels of irritability, anger and anxiousness. An infant's avoidance of aversive situations is limited due to their immature motor development, so they resort to simple avoidance tactics such as turning the head, gaze avoidance and crying. These types of behaviours are attempts at modulating their emotional arousal state. Modulation or emotional self-regulation refers to the strategies we use to adjust our emotional state to a level of intensity we feel comfortable with.



निम्नलिखित गद्यांश को ध्यानपूर्वक पढ़िए और सम्बंधित पांच प्रश्नों के उत्तर दीजिए :

एक प्रौढ़ के रूप में हम अपने स्वयं की संवेगात्मक अभिव्यक्तियों और अविरत बोध एवं दूसरे की संवेगात्मक अवस्थाओं का एक संश्लिष्ट प्रवृत्ति का विकास करते हैं। शिशु में दो नैसर्गिक अल्पविकसित संवेगात्मक उद्बोधन की अनुक्रिया होती हैं जो उद्दीपन करती हैं जिसे उपागम और और परिवर्जन/ परिहार के रूप में संदर्भित किया जाता है। शिशु के संवेगात्मक जीवन में इन दो उद्बोधनों से अधिक कुछ और होता है: एक प्रीतिकर उत्प्रेरणा के प्रति आकर्षण, इस कारण उपागम और प्रत्याहार या अप्रीतिकर उत्प्रेरणा का परिहार निष्कर्षतः प्राप्त होना है। इससे प्राप्त होता है कि यह संवेगात्मक उद्बोधन की प्रकृति है और एक नवजात में विद्यमान होती है, उपागम-परिहार अनुक्रिया पूर्ण क्रम विकास संवेदना निर्मित करती है। यह सब नवजात की आवश्यकताएं हैं और उनके जीवन पर्यंत विकास का संयोजन है। यह भी सुझाव दिया जा सकता है कि नवजात दूसरों की संवेगात्मक आनन अभिव्यक्ति में निहित अर्थों के नैसर्गिक बोधगम्यता के साथ पैदा होते हैं। इसलिए यदि देखभालकर्ता विनोदशील भंगिमा बनाता है और प्रसन्नचित आनन अभिव्यक्ति करता है तब शिशु भी उद्बोधनात्मक अवस्था के उपागम में होगा और अभिनीत अभिव्यक्ति का प्रतिबिंबन करते हुए प्रायः सकारात्मक रूप से अनुक्रिया करेगा। यद्यपि इसके विपरीत भी हो सकता है। जब माता-पिता अवसादपूर्ण भंगिमा बनाते हैं, तब शिशु में परिहार उद्बोधन की स्थिति दिखाई देती है। इन परिस्थितियों के अंतर्गत शिशु असहज महसूस करेगा और स्थिति में परिवर्तन की चाह करेगा। परिहार उद्बोधन कि दशा में शिशु माता-पिता/ अभिभावक के व्यवहार में परिवर्तन के लिए ध्यानाकर्षण हेतु प्रदर्शित व्यवहारों जैसे चिल्लाना, 'मुझे गोदी में उठा लो' का संकेतन या वस्तु जैसे शमक या कंबल के किनारे को चूसने का प्रयोग करता है। माता-पिता के सतत अवसाद का शिशु के सामान्य सामाजिक-संवेदनात्मक विकास पर गंभीर प्रभाव पड़ सकता है। इससे बच्चे की नींद प्रवृत्ति (शयन प्रतिरूप) चिड़चिड़ापन के स्तर में वृद्धि, क्रोध तथा चिन्ताग्रस्तता में परिवर्तन हो सकता है। एक शिशु की प्रतिकूल स्थितियों का परिहार सीमित है क्योंकि उसका शारीरिक विकास अपरिपक्व होता है, इसलिए वे सामान्य परिहार युक्तियों जैसे सिर घुमाना, एक टक देखते हुए परिहार प्रदर्शित करना और चिल्लाने के व्यवहार का सहारा लेते हैं। व्यवहारों के ये रूप उनके संवेदात्मक उद्बोधन अवस्था के अनुकूलन के प्रयास हैं। अनुकूलन या संवेगात्मक आत्मनियमन का संदर्भ उन रणनीतियों के लिए किया जाता है जिनका अपने को सहज महसूस करने हेतु अपने संवेगात्मक तीव्रता स्तर को समायोजित करने के लिए हम प्रयोग करते हैं।

Continued parental despondency could cause which of the following changes in an infant?

- A. Alteration in sleep pattern
- B. Increasingly irritable behaviour
- C. Reduction in anxiety levels
- D. Increased anger

Choose the **correct** answer from the options given below:

- 1. A, B and C only
- 2. A, B and D only
- 3. B, C and D only
- 4. A, B, C and D

- (1) 1
- (2) 2
- (3) 3
- (4) 4

अभिभावक (माता-पिता) की सतत उदासी के कारण एक शिशु में निम्नलिखित में कौन-से परिवर्तन हो सकते हैं ?

- A. शयन के प्रतिरूप में परिवर्तन
- B. चिड़चिड़ेपन व्यवहार में वृद्धि
- C. चिंताग्रस्तता स्तरों में कमी
- D. क्रोध में वृद्धि

नीचे दिए गए विकल्पों में से सही उत्तर चुनें :

- 1. केवल A, B और C
- 2. केवल A, B और D
- 3. केवल B, C और D
- 4. A, B, C और D

(1) 1

(2) 2

(3) 3

(4) 4

1[Option ID=23097]

2[Option ID=23098]

3[Option ID=23099]

4[Option ID=23100]

