

Test Date : 22 Feb 2023

Test Slot : Slot 2

Subject : 67-Archaeology

Sl. No.1

QBID:167001

The legend 'Basileos' on the Indo-Greek coins means :

1. Mahan
2. Maharaja
3. Raja
4. Rakshaka

(1) 1

(2) 2

(3) 3

(4) 4

इण्डो ग्रीक मुद्राओं पर अंकित 'बेसिलियस' लेख का पर्याय क्या है?

1. महान
2. महाराजा
3. राजा
4. रक्षक

(1) 1

(2) 2

(3) 3

(4) 4



1[Option ID=15601]

2[Option ID=15602]

3[Option ID=15603]

4[Option ID=15604]

Sl. No.2

QBID:167002

The Makaravahini Ganga is depicted on which coin type of Samudragupta ?

1. Archer type
2. Battle axe type
3. Tiger-slayer type
4. Lyrist type

(1) 1

(2) 2

(3) 3

(4) 4

समुद्रगुप्त के किस प्रकार के सिक्कों पर मकर वाहिनी गंगा का अंकित है ?

1. धनुर्धारी प्रकार
2. परशु - प्रकार
3. सिंह-निहंता प्रकार
4. वीणा-वादन प्रकार

(1) 1

(2) 2

(3) 3

(4) 4

- 1[Option ID=15605]
- 2[Option ID=15606]
- 3[Option ID=15607]
- 4[Option ID=15608]

SI. No.3

QBID:167003

Copper tablets with the leaf-clad 'Hunter' with a bow and arrow are found from the site of :

1. Baror
2. Surkotda
3. Balu
4. Mohenjodaro

(1) 1

(2) 2

(3) 3

(4) 4

किस पुरास्थल से ताम्र-पट्टिका सहित पत्ताधारी 'शिकारी', जो बाण और धनुष के साथ है, पाया गया है ?

1. बरोर
2. सुरकोटडा
3. बालू
4. मोहन जोदड़ों

(1) 1

(2) 2

(3) 3

(4) 4

1[Option ID=15609]

2[Option ID=15610]

3[Option ID=15611]

4[Option ID=15612]

SI. No.4

QBID:167004

Which of the following archaeological sites gives the evidence of date and garlic ?

1. Sangho
2. Hulas
3. Kunal
4. Balu

(1) 1

(2) 2

(3) 3

(4) 4

किस पुरास्थल से खजूर एवं लहसुन के प्रमाण प्राप्त हुये हैं ?

1. संघोल
2. हुलास
3. कुणाल
4. बालू

(1) 1

(2) 2

(3) 3

(4) 4

1[Option ID=15613]

2[Option ID=15614]

3[Option ID=15615]

4[Option ID=15616]

SI. No.5

QBID:167005

The terms of 'Sorath Harappan' and 'Anarta Harappan' are used for which of the following Harappan regional area ?

1. Haryana
2. Gujarat
3. Rajasthan
4. Punjab

(1) 1

(2) 2

(3) 3

(4) 4

'सोराथ हड़प्पन' और 'आनर्त हड़प्पन' शब्द किस हड़प्पीय क्षेत्रीय क्षेत्र के लिए प्रयोग किया गया है ?

1. हरियाणा
2. गुजरात
3. राजस्थान
4. पंजाब

(1) 1

(2) 2

(3) 3


(4) 4

1[Option ID=15617]

2[Option ID=15618]

3[Option ID=15619]

4[Option ID=15620]



SI. No.6

QBID:167006

Name the site situated in the Khavada island of the Rann of Kutch :

1. Juni Karan
2. Dholavira
3. Kuntasi
4. Surkotada

(1) 1

(2) 2

(3) 3

(4) 4

निम्न में से कौन सा पुरास्थल खावड़ा टापू पर अवस्थित है ?

1. जूनीकरन
2. धौलावीरा
3. कुन्तासी
4. सुरकोटड़ा

(1) 1

(2) 2

(3) 3

(4) 4

1[Option ID=15621]

2[Option ID=15622]

3[Option ID=15623]

4[Option ID=15624]

Sl. No.7

QBID:167007

The distinctive chalcolithic culture of Maharashtra is known as :

1. Malwa culture
2. Ahar culture
3. Kayatha culture
4. Jorwe culture

(1) 1

(2) 2

(3) 3

(4) 4

महाराष्ट्र की विशिष्ट ताम्रपाषणिक संस्कृति को किस नाम से जाना जाता है ?

1. मालवा संस्कृति
2. अहाड़ संस्कृति
3. कायथा संस्कृति
4. जोर्वे संस्कृति

(1) 1

(2) 2

(3) 3

(4) 4

1[Option ID=15625]

2[Option ID=15626]

3[Option ID=15627]

4[Option ID=15628]

Sl. No.8

QBID:167008

The period Vth at Daimabad is associated with :

1. Banas culture
2. Ahar culture
3. Malwa culture
4. Jorwe culture

(1) 1

(2) 2

(3) 3

(4) 4

दैमाबाद का पंचम चरण का सम्बन्ध किससे है ?

1. बनास संस्कृति
2. अहाड़ संस्कृति
3. मालवा संस्कृति
4. जोर्वे संस्कृति

(1) 1

(2) 2

(3) 3

(4) 4

1[Option ID=15629]

2[Option ID=15630]

3[Option ID=15631]
4[Option ID=15632]

Sl. No.9
QBID:167009

Who has stated that the Harappan religion had a Shamanistic component ?

1. Upinder Singh
2. Vibha Tripathi
3. Vidula Jayaswal
4. Shereen Ratnagar

- (1) 1
(2) 2
(3) 3
(4) 4

हड़प्पीय धर्म में सेमेनीस्टिक घटक है, कथन किसका है ?

1. उपीन्दर सिंह
2. विभा त्रिपाठी
3. विदुला जायसवाल
4. सीरीन रत्नागर

- (1) 1
(2) 2
(3) 3
(4) 4

1[Option ID=15633]
2[Option ID=15634]
3[Option ID=15635]
4[Option ID=15636]

Sl. No.10
QBID:167010

Who is credited with the initiation of rock-cut architecture in South India ?

1. Simhavishnu
2. Mahendravarman – I
3. Narasimhavarman – I
4. Paramesvaravarman – I

- (1) 1
(2) 2
(3) 3
(4) 4

दक्षिण भारत में शैलकृत वास्तुनिर्माण का श्रेय किसे दिया जाता है?

1. सिंहविष्णु
2. महेन्द्रवर्मन - I
3. नरसिंहवर्मन - I
4. परमेश्वरवर्मन -I

- (1) 1
(2) 2
(3) 3
(4) 4

1[Option ID=15637]
2[Option ID=15638]
3[Option ID=15639]
4[Option ID=15640]

Sl. No.11
QBID:167011

The Arthashastra refers to the term 'Kuta – Rupakarka' which meant ?

1. Counterfeiters of coins
2. Incharge of the mint
3. Maker of the coin
4. Issuing authority

(1) 1

(2) 2

(3) 3

(4) 4

अर्थशास्त्र में वर्णित 'कूट-रूपकारक' का सम्बन्ध किससे है ?

1. जालसाज
2. टकसाल प्रमुख
3. मुद्रा-निर्माता
4. जारी-कर्ता

(1) 1

(2) 2

(3) 3

(4) 4

1[Option ID=15641]

2[Option ID=15642]

3[Option ID=15643]

4[Option ID=15644]

Sl. No.12
QBID:167012

The year of issue in numerals was first introduced on the obverse of the coins of :

1. Satavahana
2. Chola
3. Shaka
4. Pandya

(1) 1

(2) 2

(3) 3

(4) 4

प्रथमतः मुद्राओं के पुरो-भाग पर जारी करने के वर्ष का अंकों में उल्लेख किसके द्वारा किया गया ?

1. सातवाहन
2. चोल
3. शक
4. पाण्डय

(1) 1

(2) 2

(3) 3

(4) 4

1[Option ID=15645]

2[Option ID=15646]

3[Option ID=15647]
4[Option ID=15648]

Sl. No.13
QBID:167013

Which scholar has accepted the theory of Bactrian effect with respect to the origin of Indian coins ?

1. James Prinsep
2. V.A. Smith
3. D.R. Bhandarkar
4. John Allen

- (1) 1
(2) 2
(3) 3
(4) 4

भारतीय मुद्राओं की बैक्ट्रियन उत्पत्ति के सिद्धान्त का प्रतिपादन किसके द्वारा किया गया था ?

1. जेम्स प्रिंसेप
2. वी. ए. स्मिथ
3. डी. आर. भण्डाकर
4. जॉन एलन

- (1) 1
(2) 2
(3) 3
(4) 4

1[Option ID=15649]
2[Option ID=15650]
3[Option ID=15651]
4[Option ID=15652]

Sl. No.14
QBID:167014

The system of issuing bicultural coins was introduced in India by :

1. Indo – Bactrians
2. Indo – Greeks
3. Indo – Scythians
4. Indo – Parthians

- (1) 1
(2) 2
(3) 3
(4) 4

भारत में द्विभाषीय मुद्राओं को जारी करने की पद्धति किसके द्वारा प्रारम्भ की गई थी ?

1. इण्डो - बैक्ट्रियन
2. इण्डो - ग्रीक
3. इण्डो - सीथीयन
4. इण्डो - पार्थियन

- (1) 1
(2) 2
(3) 3
(4) 4

1[Option ID=15653]
2[Option ID=15654]
3[Option ID=15655]
4[Option ID=15656]

SI. No.15

QBID:167015

The Gadhaiya coins of Western India were regional imitation of Proto-types of :

1. Sasanians
2. Bactrians
3. Persians
4. Parthians

(1) 1

(2) 2

(3) 3

(4) 4

पश्चिमी भारत के गदहिया सिक्के किस स्थानीय आध-प्रकार का अनुकरण हैं ?

1. ससानि
2. बैक्ट्रियन
3. पर्सियन
4. पार्थियन

(1) 1

(2) 2

(3) 3

(4) 4

1[Option ID=15657]

2[Option ID=15658]

3[Option ID=15659]

4[Option ID=15660]

SI. No.16

QBID:167016

The Petlurivaripalem hoard consisting of coins of western kshatrpa dynasties was discovered from :

1. Guntur
2. Madras
3. Hyderabad
4. Madurai

(1) 1

(2) 2

(3) 3

(4) 4

पश्चिमी क्षत्रप राजवंश से सम्बन्धित पेटलूरिवरिपालेम निधि की खोज कहाँ से हुई थी ?

1. गुण्टुर
2. मद्रास
3. हैदराबाद
4. मदुरै

(1) 1

(2) 2

(3) 3

(4) 4

1[Option ID=15661]

2[Option ID=15662]

3[Option ID=15663]

4[Option ID=15664]

SI. No.17

QBID:167017

The site of Elephanta was named by :

1. British
2. Portuguese
3. French
4. Dutch

(1) 1

(2) 2

(3) 3

(4) 4

‘एलीफैंटा’ स्थल का नामकरण किया गया –

1. ब्रिटिश
2. पुर्तगीज
3. फ्रेंच
4. डच

(1) 1

(2) 2

(3) 3

(4) 4

1[Option ID=15665]

2[Option ID=15666]

3[Option ID=15667]

4[Option ID=15668]

Sl. No.18

QBID:167018

The earliest epigraphic reference to Samaveda is from :

1. Damaro
2. Sirpur
3. Malhar
4. Tarighat

(1) 1

(2) 2

(3) 3

(4) 4

सामवेद का प्रारंभिक अभिलेखीय सन्दर्भ कहाँ से प्राप्त है ?

1. डमरु
2. सिरपुर
3. मल्हार
4. तरीघाट

(1) 1

(2) 2

(3) 3

(4) 4

1[Option ID=15669]

2[Option ID=15670]

3[Option ID=15671]

4[Option ID=15672]

Sl. No.19

QBID:167019

The earliest arched decoration can be seen on the doorway of :

1. Lomas Rishi cave
2. Sudama cave
3. Sitamarhi cave
4. Gopika cave

(1) 1

(2) 2

(3) 3

(4) 4

प्रारम्भिक अलंकृत मेहराब द्वार कहाँ देखा जा सकता है ?

1. लोमष ऋषि गुहा
2. सुदामा गुहा
3. सीतामढ़ी गुहा
4. गोपिका गुहा

(1) 1

(2) 2

(3) 3

(4) 4

1[Option ID=15673]

2[Option ID=15674]

3[Option ID=15675]

4[Option ID=15676]

Sl. No.20

QBID:167020

Which of the following sites is not located in Punjab ?

1. Ropar
2. Semtha
3. Sanghol
4. Sugh

(1) 1

(2) 2

(3) 3

(4) 4

निम्न में से कौन सा पुरास्थल पंजाब में अवस्थित नहीं है ?

1. रोपड़
2. सेमथा
3. संघोल
4. सुघ

(1) 1

(2) 2

(3) 3

(4) 4

1[Option ID=15677]

2[Option ID=15678]

3[Option ID=15679]

4[Option ID=15680]

Sl. No.21

QBID:167021

Ancient Kapilavastu is identified with :

1. Piprahwa
2. Ganwaria
3. Alamgirpur
4. Ahichchhatra

(1) 1

(2) 2

(3) 3

(4) 4

प्राचीन कपिलवस्तु की पहचान किसके साथ की गयी है ?

1. पिपरहवा
2. गनवरिया
3. आलमगीरपुर
4. अहिच्छत्र

(1) 1

(2) 2

(3) 3

(4) 4

1[Option ID=15681]

2[Option ID=15682]

3[Option ID=15683]

4[Option ID=15684]

Sl. No.22

QBID:167022

Which of the following journals is not published by the Archaeological survey of India ?

1. Indian Archaeology – A Review
2. Ancient India
3. Corpus Inscriptionum Indicarum
4. Ancient Asia

(1) 1

(2) 2

(3) 3

(4) 4

निम्न में से किस जर्नल का प्रकाशन भारतीय पुरातत्व सर्वेक्षण द्वारा नहीं किया गया है ?

1. इण्डियन आर्कियोलॉजी-ए-रिव्यू
2. एन्शियन्ट इंडिया
3. कॉर्पस इन्सक्रिप्शनम इंडीकरम
4. एन्शियण्ट एशिया

(1) 1

(2) 2

(3) 3

(4) 4

1[Option ID=15685]

2[Option ID=15686]

3[Option ID=15687]

4[Option ID=15688]

Sl. No.23

QBID:167023

The term 'prehistory' was coined by :

1. C.J. Thompsen
2. Daniel Wilson
3. John Lubbock
4. R.B. Foote

(1) 1

(2) 2

(3) 3

(4) 4

'प्री-हिस्ट्री' शब्द का प्रतिपादन किसके द्वारा किया गया ?

1. सी. जे. थॉमसन
2. डेनियल विल्सन
3. जॉन लुब्लक
4. आर. बी. फूट

(1) 1

(2) 2

(3) 3

(4) 4

1[Option ID=15689]

2[Option ID=15690]

3[Option ID=15691]

4[Option ID=15692]

Sl. No.24

QBID:167024

Who has argued that the personage on the famous 'Pasupati' seal is not male but female ?

1. B.B. Lal
2. R.S. Rao
3. S.M. Atre
4. M.S. Vats

(1) 1

(2) 2

(3) 3

(4) 4

प्रसिद्ध 'पशुपति' मुहर पुरुष नहीं स्त्री की हैं, तर्क किसका है ?

1. बी. बी. लाल
2. आर. एस. राव
3. एस. एम. आत्रे
4. एम. एस. वत्स

(1) 1

(2) 2

(3) 3

(4) 4

1[Option ID=15693]

2[Option ID=15694]

3[Option ID=15695]

4[Option ID=15696]

Sl. No.25

QBID:167025

The evidence of Carnelian heating kiln has been found from the site of :

1. Dholavira
2. Ganweriwala
3. Lothal
4. Rojadi

(1) 1

(2) 2

(3) 3

(4) 4

कार्नेलियन भट्टी का साक्ष्य किस पुरास्थल से प्राप्त होता है ?

1. धौलावीरा
2. गनवेरीवाला
3. लोथल
4. रोजदी

(1) 1

(2) 2

(3) 3

(4) 4

1[Option ID=15697]

2[Option ID=15698]

3[Option ID=15699]

4[Option ID=15700]

Sl. No.26

QBID:167026

Who was the first woman Director General of the Archaeological survey of India ?

1. Debala Mitra
2. Anshu Vyas
3. Usha Sharma
4. Archana Moulick

(1) 1

(2) 2

(3) 3

(4) 4

‘भारतीय पुरातत्व सर्वेक्षण’ की पहली महिला महानिदेशक कौन थी ?

1. देबाला मित्रा
2. अन्शु व्यास
3. उषा शर्मा
4. अर्चना मौलिक

(1) 1

(2) 2

(3) 3

(4) 4

1[Option ID=15701]

2[Option ID=15702]

3[Option ID=15703]

4[Option ID=15704]

Sl. No.27

QBID:167027

Who proposed the theory of the 'Saraswati drying up' for the decline of the Harappan Civilization ?

1. E.J. Mackay
2. Suryabhan
3. R.L. Raikes
4. Mortimer Wheeler

(1) 1

(2) 2

(3) 3

(4) 4

वह कौन विद्वान है जिसने हड़प्पा सभ्यता के पतन के कारणों में सरस्वती नदी के सूखने का मत प्रतिपादित किया है ?

1. ई. जे. मैके
2. सूर्यभान
3. आर. एल. राइक्स
4. मार्टीमर व्हीलर

(1) 1

(2) 2

(3) 3

(4) 4

1[Option ID=15705]

2[Option ID=15706]

3[Option ID=15707]

4[Option ID=15708]

Sl. No.28

QBID:167028

The evidence of fisherman with a net painted on a pot is found from the site of :

1. Mohenjodaro
2. Harappa
3. Kalibangan
4. Rakhigarhi

(1) 1

(2) 2

(3) 3

(4) 4

किस पुरास्थल से प्राप्त बर्तनों पर मछुआरे को जाल लिये हुये चित्रांकित किया गया है ?

1. मोहनजोदड़ो
2. हड़प्पा
3. कालीबंगा
4. राखीगढ़ी

(1) 1

(2) 2

(3) 3

(4) 4

1[Option ID=15709]

2[Option ID=15710]

3[Option ID=15711]

4[Option ID=15712]

Sl. No.29

QBID:167029

Which of the following Mesolithic sites was not excavated by V.N. Misra ?

1. Tilwara
2. Bhimbetka
3. Adamgarh
4. Bagor

(1) 1

(2) 2

(3) 3

(4) 4

निम्नलिखित मध्य पाषाण कालीन पुरास्थलों में किसका उत्खनन वी. एन. मिश्रा द्वारा नहीं किया गया है ?

1. तिलवारा
2. भीम बैठका
3. आदमगढ़
4. बागोर

(1) 1

(2) 2

(3) 3

(4) 4

1[Option ID=15713]

2[Option ID=15714]

3[Option ID=15715]

4[Option ID=15716]

Sl. No.30

QBID:167030

The open air primary occupation Acheulian site of Paisara is situated in :

1. Maharashtra
2. Uttar Pradesh
3. Karnataka
4. Bihar

(1) 1

(2) 2

(3) 3

(4) 4

खुला आवासीय प्रारंभिक एश्यूलन पुरास्थल 'पैसरा' कहाँ स्थित है ?

1. महाराष्ट्र
2. उत्तर प्रदेश
3. कर्नाटक
4. बिहार

(1) 1

(2) 2

(3) 3

(4) 4

1[Option ID=15717]

2[Option ID=15718]

3[Option ID=15719]

4[Option ID=15720]

Sl. No.31

QBID:167031

The Acheulian site of Isampur is situated in :

1. Narmada valley
2. Gangetic valley
3. Banas valley
4. Hunsgi valley

(1) 1

(2) 2

(3) 3

(4) 4

एशूलन पुरास्थल ईशामपुर कहाँ अवस्थित है ?

1. नर्मदा घाटी
2. गंगा घाटी
3. बनास घाटी
4. हुंसगी घाटी

(1) 1

(2) 2

(3) 3

(4) 4

1[Option ID=15721]

2[Option ID=15722]

3[Option ID=15723]

4[Option ID=15724]

Sl. No.32

QBID:167032

Name the Director General under whom the responsibility of conservation was taken away from the States and given to the Director General of ASI.

1. A. Cunningham
2. M. Wheeler
3. John Marshall
4. K.N. Dikshit

(1) 1

(2) 2

(3) 3

(4) 4

किस महानिदेशक के अधीन संरक्षण की जिम्मेदारी राज्यों से स्थानान्तरित करके महानिदेशक, भारतीय पुरातत्व सर्वेक्षण को दी गयी ?

1. ए. कनिंघम
2. एम. व्हीलर
3. जॉन मार्शल
4. के. एन. दीक्षित

(1) 1

(2) 2

(3) 3

(4) 4

1[Option ID=15725]

2[Option ID=15726]

3[Option ID=15727]

4[Option ID=15728]

Sl. No.33

QBID:167033

The stone age site of Anangpur is situated in :

1. Haryana
2. Uttar Pradesh
3. Himachal Pradesh
4. Gujarat

(1) 1

(2) 2

(3) 3

(4) 4

प्रस्तर युगीन पुरास्थल अनंगपुर कहाँ स्थित है ?

1. हरियाणा
2. उत्तर प्रदेश
3. हिमाचल प्रदेश
4. गुजरात

(1) 1

(2) 2

(3) 3

(4) 4

1[Option ID=15729]

2[Option ID=15730]

3[Option ID=15731]

4[Option ID=15732]

Sl. No.34

QBID:167034

The 'Treasure Trove Act' of 1878 was brought by :

1. Duke of Argyll
2. Sir Stafford Northcote
3. Lord Lawrence
4. Lord Lyton

(1) 1

(2) 2

(3) 3

(4) 4

1878 का 'पुरानिधि निखात अधिनियम' किसके द्वारा लाया गया ?

1. ड्यूक ऑफ अरगिल
2. सर स्टेफोर्ड नार्थकेट
3. लॉर्ड लारेन्स
4. लार्ड लिटन

(1) 1

(2) 2

(3) 3

(4) 4

1[Option ID=15733]

2[Option ID=15734]

3[Option ID=15735]

4[Option ID=15736]

Sl. No.35

QBID:167035

Which of the following sites is identified as the birthplace of Varahamihira ?

1. Dangwada
2. Nagada
3. Ujjain
4. Kayatha

(1) 1

(2) 2

(3) 3

(4) 4

निम्न में से किस पुरास्थल की पहचान वराहमिहिर के जन्म स्थान के रूप में की गयी है ?

1. दंगवाड़ा
2. नागदा
3. उज्जैन
4. कायथा

(1) 1

(2) 2

(3) 3

(4) 4

1[Option ID=15737]

2[Option ID=15738]

3[Option ID=15739]

4[Option ID=15740]

Sl. No.36

QBID:167036

Which of the following is the first Mesolithic site in India excavated from which animal and human skeletal remains were systematically recovered and studied by the experts ?

1. Langhnaj
2. Attirampakkam
3. Nevasa
4. Sarai Nahar Rai

(1) 1

(2) 2

(3) 3

(4) 4

निम्न में से किस प्रथम भारतीय मध्य पाषाणिक पुरास्थल के उत्खनन से मानव एवं पशुओं के आस्थि अवशेष व्यवस्थित क्रम में प्राप्त हुये है और जिनका अध्ययन विद्वानों द्वारा किया गया है ?

1. लाँघनज
2. अतिरमपक्कम
3. नेवासा
4. सराय नाहरराय

(1) 1

(2) 2

(3) 3

(4) 4

1[Option ID=15741]

2[Option ID=15742]

3[Option ID=15743]

4[Option ID=15744]

Sl. No.37

QBID:167037

Which is the earliest language used in the Asokan edicts ?

1. Prakrit
2. Pali
3. Sanskrit
4. Aramaic

(1) 1

(2) 2

(3) 3

(4) 4

अशोक के अभिलेखों में प्रयुक्त प्रारम्भिक भाषा कौन सी है ?

1. प्राकृत
2. पालि
3. संस्कृत
4. आरमेइक

(1) 1

(2) 2

(3) 3

(4) 4

1[Option ID=15745]

2[Option ID=15746]

3[Option ID=15747]

4[Option ID=15748]

Sl. No.38

QBID:167038

Which Gupta inscription adores the deity sun in the name of 'Bhaskara'?

1. Mandor Inscription
2. Indore Copper Plate
3. Allahabad Pillar Inscription
4. Eran Inscription

(1) 1

(2) 2

(3) 3

(4) 4

किस गुप्त अभिलेख में सूर्य देवता, भास्कर नाम से अभिहित है ?

1. मन्दसौर अभिलेख
2. इन्दौर ताम्रपत्र
3. इलाहाबाद स्तंभलेख
4. एरण अभिलेख

(1) 1

(2) 2

(3) 3

(4) 4

1[Option ID=15749]

2[Option ID=15750]

3[Option ID=15751]

4[Option ID=15752]

Sl. No.39

QBID:167039

The Epigraphical branch of the Archaeological survey of India was established in :

1. 1885
2. 1886
3. 1887
4. 1888

(1) 1

(2) 2

(3) 3

(4) 4

भारतीय पुरातत्त्व सर्वेक्षण की अभिलेख शाखा की स्थापना किस वर्ष की गयी ?

1. 1885
2. 1886
3. 1887
4. 1888

(1) 1

(2) 2

(3) 3

(4) 4

1[Option ID=15753]

2[Option ID=15754]

3[Option ID=15755]

4[Option ID=15756]

Sl. No.40

QBID:167040

The Kailasha temple at Ellora has how many subsidiary shrines.

1. 3
2. 4
3. 5
4. 6

(1) 1

(2) 2

(3) 3

(4) 4

ऐलोरा के कैलाश मन्दिर में कुल कितने आनुषांगिक मन्दिर हैं ?

1. 3
2. 4
3. 5
4. 6

(1) 1

(2) 2

(3) 3

(4) 4

1[Option ID=15757]

2[Option ID=15758]

3[Option ID=15759]

4[Option ID=15760]

Sl. No.41

QBID:167041

Kushans mainly used which of the following metals for the coins issued ?

- A. Gold
- B. Copper
- C. Silver
- D. Bronze

Choose the correct answer from the options given below :

- 1. A and C only
- 2. A and D only
- 3. A and B only
- 4. B and C only

(1) 1

(2) 2

(3) 3

(4) 4

कुषाणों द्वारा मुख्यतः निम्न में से किस धातु की मुद्राएँ जारी की गई -

- A. स्वर्ण
- B. ताम्र
- C. रजत
- D. काँसा

नीचे दिए गए विकल्पों में से सही उत्तर का चयन कीजिए :

- 1. केवल A और C
- 2. केवल A और D
- 3. केवल A और B
- 4. केवल B और C

(1) 1

(2) 2

(3) 3

(4) 4

1[Option ID=15761]

2[Option ID=15762]

3[Option ID=15763]

4[Option ID=15764]



SI. No.42

QBID:167042

Which of the following dynasties issued bilingual and biscript coins?

- A. Greek
- B. Shaka
- C. Parthians
- D. Kshatrapas

Choose the correct answer from the options given below :

- 1. A, B and C only
- 2. B, C and D only
- 3. A, C and D only
- 4. A, B, C and D

(1) 1

(2) 2

(3) 3

(4) 4

द्विभाषीय और द्विलिपीय सिक्कों को निम्न में से किन्होंने जारी किया -

- A. ग्रीक
- B. शक
- C. पार्थियन
- D. क्षत्रप

नीचे दिए गए विकल्पों में से सही उत्तर का चयन कीजिए :

- 1. केवल A, B और C
- 2. केवल B, C और D
- 3. केवल A, C और D
- 4. केवल A, B, C और D

(1) 1

(2) 2

(3) 3

(4) 4

1[Option ID=15765]

2[Option ID=15766]

3[Option ID=15767]

4[Option ID=15768]

Sl. No.43

QBID:167043

Which of the following Indo – Greek rulers are depicted in different ages from young to old on their coins indicating their long rule?

- A. Menander
- B. Strato II
- C. Strato I
- D. Agathoclia

Choose the correct answer from the options given below :

- 1. A and D only
- 2. B and C only
- 3. A and B only
- 4. A and C only

(1) 1

(2) 2

(3) 3

(4) 4

निम्न में से कौन से इण्डो-ग्रीक शासकों का अंकन सिक्कों पर उनके युवा से वृद्ध होने की भिन्न आयु को दर्शाता है जो उनके लम्बे शासन का भी प्रदर्शन है?

- A. मेनाण्डर
- B. स्ट्रेटो II
- C. स्ट्रेटो I
- D. अगाथोक्लीया

नीचे दिए गए विकल्पों में से सही उत्तर का चयन कीजिए :

- 1. केवल A और D
- 2. केवल B और C
- 3. केवल A और B
- 4. केवल A और C

(1) 1

(2) 2

(3) 3

(4) 4

1[Option ID=15769]

2[Option ID=15770]

3[Option ID=15771]

4[Option ID=15772]

Sl. No.44

QBID:167044

Which of the following river valleys are located in Chhattisgarh?

- A. Jonk
- B. Shivanath
- C. Brahmani
- D. Narmada

Choose the correct answer from the options given below :

- 1. A and B only
- 2. A and C only
- 3. B and C only
- 4. B and D only

(1) 1

(2) 2

(3) 3

(4) 4

निम्न में कौन सी नदी घाटियाँ छत्तीसगढ़ में अवस्थित हैं?

- A. जोंक
- B. शिवनाथ
- C. ब्रह्मनी
- D. नर्मदा

नीचे दिए गए विकल्पों में से सही उत्तर का चयन कीजिए :

- 1. केवल A और B
- 2. केवल A और C
- 3. केवल B और C
- 4. केवल B और D

(1) 1

(2) 2

(3) 3

(4) 4

1[Option ID=15773]

2[Option ID=15774]

3[Option ID=15775]

4[Option ID=15776]

Sl. No.45

QBID:167045

Stratigraphy refers to the accumulation of strata that results from the combination of

- A. Geological deposits
- B. Silt deposits
- C. Anthropogenic deposits
- D. Depositional deposits

Choose the most appropriate answer from the options given below :

- 1. A and B only
- 2. B and C only
- 3. A and C only
- 4. A and D only

(1) 1

(2) 2

(3) 3

(4) 4

स्तरीकरण स्तरों के जमाव को प्रदर्शित करता है जो कि इनके मिलन का परिणाम है?

- A. भू-गर्भीय जमाव
- B. बालू जमाव
- C. मानवीय गतिविधि के जमाव
- D. जमाव जमाव

नीचे दिए गए विकल्पों में से सबसे उपयुक्त उत्तर का चयन कीजिए :

- 1. केवल A और B
- 2. केवल B और C
- 3. केवल A और C
- 4. केवल A और D

(1) 1

(2) 2

(3) 3

(4) 4

1[Option ID=15777]

2[Option ID=15778]

3[Option ID=15779]

4[Option ID=15780]

Sl. No.46

QBID:167046

Which of the following are the type of Entryways?

- A. Pratoli
- B. Gopura
- C. Torana
- D. Jagati

Choose the correct answer from the options given below :

- 1. A, B and D only
- 2. A, C and D only
- 3. A, B and C only
- 4. B, C and D Only

(1) 1

(2) 2

(3) 3

(4) 4

निम्न में से कौन प्रवेश द्वार का उदाहरण है?

- A. प्रतोली
- B. गोपुर
- C. तोरण
- D. जगति



नीचे दिए गए विकल्पों में से सही उत्तर का चयन कीजिए :

- 1. केवल A, B और D
- 2. केवल A, C और D
- 3. केवल A, B और C
- 4. केवल B, C और D

(1) 1

(2) 2

(3) 3

(4) 4

1[Option ID=15781]

2[Option ID=15782]

3[Option ID=15783]

4[Option ID=15784]

Sl. No.47

QBID:167047

Which of the following are reference styles?

- A. APA
- B. MLA
- C. ICT
- D. GIS

Choose the correct answer from the options given below :

- 1. A and B only
- 2. A and C only
- 3. B and C only
- 4. B and D only

(1) 1

(2) 2

(3) 3

(4) 4

निम्न में से कौन-कौन संदर्भ लिखने की पद्धति है?

- A. ए. पी. ए.
- B. एम. एल. ए.
- C. आई. सी. टी.
- D. जी. आई. एस

नीचे दिए गए विकल्पों में से सही उत्तर का चयन कीजिए :

- 1. केवल A और B
- 2. केवल A और C
- 3. केवल B और C
- 4. केवल B और D

(1) 1

(2) 2

(3) 3

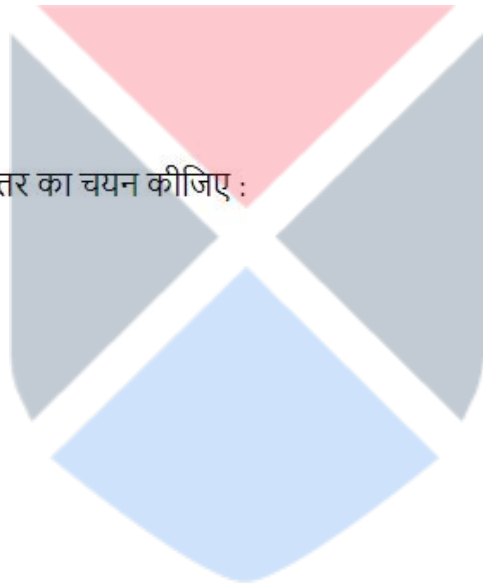
(4) 4

1[Option ID=15785]

2[Option ID=15786]

3[Option ID=15787]

4[Option ID=15788]



SI. No.48

QBID:167048

Which of the following features were introduced by the Shungas in their art?

- A. Stone as a medium
- B. Court patronage
- C. Introduction of human form in large scale
- D. Flowing linear rhythm

Choose the most appropriate answer from the options given below :

- 1. A, B and C only
- 2. A, C and D only
- 3. B, C and D only
- 4. A, B and D only

(1) 1

(2) 2

(3) 3

(4) 4

शुंगो द्वारा कला के क्षेत्र में निम्न में से कौन सी विधा की शुरुआत की गयी?

- A. पत्थरों का माध्यम रूप में प्रयोग
- B. राज्याश्रय
- C. मानवाकृति का बड़े पैमाने पर प्रारम्भ
- D. रेखा प्रवाह

नीचे दिए गए विकल्पों में से सबसे उपयुक्त उत्तर का चयन कीजिए :

- 1. केवल A, B और C
- 2. केवल A, C और D
- 3. केवल B, C और D
- 4. केवल A, B और D

(1) 1

(2) 2

(3) 3

(4) 4

1[Option ID=15789]

2[Option ID=15790]

3[Option ID=15791]

4[Option ID=15792]

Sl. No.49

QBID:167049

Which of the following early farming sites are located in Odisha?

- A. Golbai
- B. Chirand
- C. Deltihuda
- D. Bhartihuda

Choose the most appropriate answer from the options given below :

- 1. A, B and C only
- 2. A, B and D only
- 3. B, C and D only
- 4. A, C and D only

(1) 1

(2) 2

(3) 3

(4) 4

निम्न में से कौन से प्रारंभिक कृषि के पुरास्थल उड़ीसा में अवस्थित हैं?

- A. गोलबई
- B. चिराँद
- C. देलतीहुड़ा
- D. भारतीहुड़ा

नीचे दिए गए विकल्पों में से सबसे उपयुक्त उत्तर का चयन कीजिए :

- 1. केवल A, B और C
- 2. केवल A, B और D
- 3. केवल B, C और D
- 4. केवल A, C और D

(1) 1

(2) 2

(3) 3

(4) 4

1[Option ID=15793]

2[Option ID=15794]

3[Option ID=15795]

4[Option ID=15796]

Sl. No.50

QBID:167050

Which of the following temples are not constructed by the Somvanshi rulers?

- A. Lingaraja temple
- B. Parashurameswara temple
- C. Brahmeswara temple
- D. Vaitala temple

Choose the correct answer from the options given below :

- 1. A and B only
- 2. B and C only
- 3. C and D only
- 4. B and D only

(1) 1

(2) 2

(3) 3

(4) 4

सोमवंशी राजाओं के द्वारा निर्मित मन्दिर निम्नलिखित में से कौन सा नहीं है?

- A. लिंगराज मंदिर
- B. परशुरामेश्वर मंदिर
- C. ब्रह्मेश्वर मंदिर
- D. वैताल मंदिर

नीचे दिए गए विकल्पों में से सही उत्तर का चयन कीजिए :

- 1. केवल A और B
- 2. केवल B और C
- 3. केवल C और D
- 4. केवल B और D

(1) 1

(2) 2

(3) 3

(4) 4

1[Option ID=15797]

2[Option ID=15798]

3[Option ID=15799]

4[Option ID=15800]

Sl. No.51

QBID:167051

Which of the following tools are from upper Palaeolithic period?

- A. Re-touched Blade
- B. Aurignacian Burin
- C. Aurignacian end scraper
- D. Cleaver

Choose the most appropriate answer from the options given below :

- 1. A and B only
- 2. A, B and D only
- 3. A, B and C only
- 4. B, C and D only

(1) 1

(2) 2

(3) 3

(4) 4

निम्नलिखित में से कौन उपकरण उच्च पुरापाषाण काल के हैं?

- A. री-टचड ब्लेड
- B. औरीगनेसियन ब्यूरीन
- C. औरीगनेसियन इण्ड स्क्रैपर
- D. क्लीवर

नीचे दिए गए विकल्पों में से सही उत्तर का चयन कीजिए :

- 1. केवल A और B
- 2. केवल A, B और D
- 3. केवल A, B और C
- 4. केवल B, C और D

(1) 1

(2) 2

(3) 3

(4) 4

1[Option ID=15801]

2[Option ID=15802]

3[Option ID=15803]

4[Option ID=15804]

Sl. No.52

QBID:167052

Which of the following Journals are published by Indian Archaeological Society, New Delhi?

- A. Puratattva
- B. Ancient India
- C. Pragdhara
- D. Pura Pravaha

Choose the most appropriate answer from the options given below :

- 1. A and B only
- 2. A and C only
- 3. B and D only
- 4. A and D only

(1) 1

(2) 2

(3) 3

(4) 4

निम्न में से कौन सी पत्रिका भारतीय पुरातत्त्व परिषद द्वारा प्रकाशित की गई है?

- A. पुरातत्त्व
- B. ऐशियण्ट इंडिया
- C. प्राग्धारा
- D. पुरा-प्रवाह

नीचे दिए गए विकल्पों में से सबसे उपयुक्त उत्तर का चयन कीजिए :

- 1. केवल A और B
- 2. केवल A और C
- 3. केवल B और D
- 4. केवल A और D

(1) 1

(2) 2

(3) 3

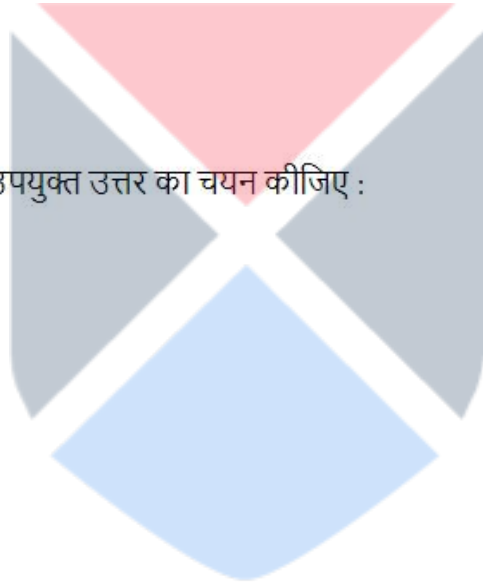
(4) 4

1[Option ID=15805]

2[Option ID=15806]

3[Option ID=15807]

4[Option ID=15808]



SI. No.53

QBID:167053

Which of the following sites are not excavated by A.K. Sharma?

- A. Sirpur
- B. Pachrahi
- C. Rajim
- D. Malhar

Choose the most appropriate answer from the options given below :

- 1. A and B only
- 2. A and C only
- 3. B and C only
- 4. B and D only

(1) 1

(2) 2

(3) 3

(4) 4

निम्नलिखित में से कौन सा पुरास्थल ए. के. शर्मा द्वारा उत्खनित नहीं है?

- A. सिरपुर
- B. पचराही
- C. राजिम
- D. मल्हर

नीचे दिए गए विकल्पों में से सही उत्तर का चयन कीजिए :

- 1. केवल A और B
- 2. केवल A और C
- 3. केवल B और C
- 4. केवल B और D

(1) 1

(2) 2

(3) 3

(4) 4

1[Option ID=15809]

2[Option ID=15810]

3[Option ID=15811]

4[Option ID=15812]

Sl. No.54

QBID:167054

Mayamata uses the following terms for an apsidal temple

- A. Hastiprishtha
- B. Dviyashravritta
- C. Shala
- D. Harantara

Choose the correct answer from the options given below :

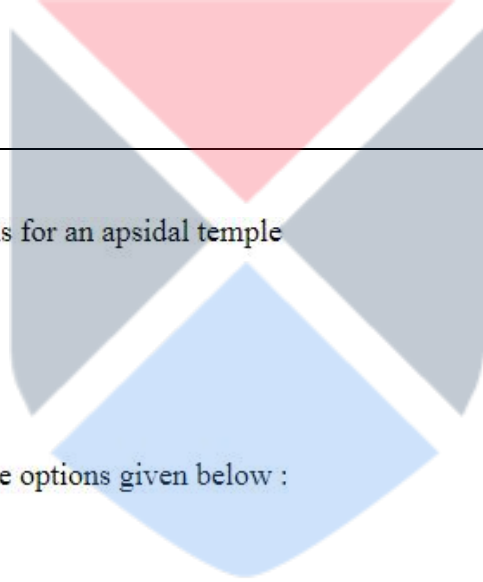
- 1. A and B only
- 2. B and C only
- 3. A and D only
- 4. C and D only

(1) 1

(2) 2

(3) 3

(4) 4



गज पृष्ठाकार मंदिरों के लिये मयमत में किन शब्दों का प्रयोग किया गया है?

- A. हस्तिपृष्ठ
- B. दिव्यश्रवृत्त
- C. शाला
- D. हरंतर

नीचे दिए गए विकल्पों में से सही उत्तर का चयन कीजिए :

- 1. केवल A और B
- 2. केवल B और C
- 3. केवल A और D
- 4. केवल C और D

(1) 1

(2) 2

(3) 3

(4) 4

1[Option ID=15813]

2[Option ID=15814]

3[Option ID=15815]

4[Option ID=15816]

Sl. No.55

QBID:167055

The ashmound sites are reported from

- A. Kupgal
- B. Budihal
- C. Watgal
- D. Pallavaram

Choose the correct answer from the options given below :

- 1. A and B only
- 2. A, B and C only
- 3. B and C only
- 4. A and D only

(1) 1

(2) 2

(3) 3

(4) 4

राखटीला स्थल कहाँ से प्राप्त हुए है?

- A. कुपगल
- B. बुदिहल
- C. वातगल
- D. पल्लवरम

नीचे दिए गए विकल्पों में से सही उत्तर का चयन कीजिए :

1. केवल A और B
2. केवल A, B और C
3. केवल B और C
4. केवल A और D

- (1) 1
- (2) 2
- (3) 3
- (4) 4

1[Option ID=15817]
2[Option ID=15818]
3[Option ID=15819]
4[Option ID=15820]

Sl. No.56
QBID:167056

Which of the following are not Harappan sites?

- A. Farmana
- B. Badli
- C. Hansi
- D. Khokharakot

Choose the most appropriate answer from the options given below :

1. A and B only
2. A and C only
3. B and D only
4. C and D only

- (1) 1
- (2) 2
- (3) 3
- (4) 4

निम्न में से कौन सा पुरास्थल हड़प्पीय पुरास्थल नहीं है?

- A. फरमाना
- B. बादली
- C. हंसी
- D. खोखराकोट

नीचे दिए गए विकल्पों में से सबसे उपयुक्त उत्तर का चयन कीजिए :

1. केवल A और B
2. केवल A और C
3. केवल B और D
4. केवल C और D

- (1) 1
- (2) 2
- (3) 3
- (4) 4

1[Option ID=15821]
2[Option ID=15822]
3[Option ID=15823]
4[Option ID=15824]

Sl. No.57
QBID:167057

Lunate harvesting tools along with long chert blades are reported from

- A. Lothal
- B. Surkotada
- C. Rangpur
- D. Ropar

Choose the correct answer from the options given below :

- 1. A, B and C only
- 2. B, C and D only
- 3. A, B and D only
- 4. A, C and D only

- (1) 1
- (2) 2
- (3) 3
- (4) 4

हड़प्पा सभ्यता का पुरास्थल राखीगढ़ी का उत्खनन किसके द्वारा किया गया?

- A. वी. शिन्दे
- B. सूरजभान
- C. ए. नाथ
- D. एस. मंजुल

नीचे दिए गए विकल्पों में से सबसे उपयुक्त उत्तर का चयन कीजिए :

- 1. केवल A, B और C
- 2. केवल B, C और D
- 3. केवल A, B और D
- 4. केवल A, C और D

- (1) 1
- (2) 2
- (3) 3
- (4) 4

1[Option ID=15825]
2[Option ID=15826]
3[Option ID=15827]
4[Option ID=15828]

Sl. No.58
QBID:167058

The Rakhigarhi Harappan site is excavated by

- A. V. Shinde
- B. Surajbhan
- C. A. Nath
- D. S. Manjul

Choose the most appropriate answer from the options given below :

- 1. A and B only
- 2. B and C only
- 3. A, C and D only
- 4. B, C and D only

(1) 1

(2) 2

(3) 3

(4) 4

‘अग्निवेदिका’ निम्नलिखित स्थलों से प्राप्त हुई है -

- A. कालीबंगा
- B. लोथल
- C. बणावली
- D. मोहनजोदड़ो

नीचे दिए गए विकल्पों में से सही उत्तर का चयन कीजिए :

- 1. केवल A और B
- 2. केवल B और C
- 3. केवल A, C और D
- 4. केवल B, C और D

(1) 1

(2) 2

(3) 3

(4) 4

1[Option ID=15829]

2[Option ID=15830]

3[Option ID=15831]

4[Option ID=15832]



SI. No.59

QBID:167059

‘Fire altars’ have been found from the following sites:

- A. Kalibangan
- B. Lothal
- C. Banawali
- D. Mohenjodaro

Choose the correct answer from the options given below :

- 1. A and B only
- 2. A, B and C only
- 3. B and D only
- 4. A, B and D only

(1) 1

(2) 2

(3) 3

(4) 4

‘अग्निवेदिका’ निम्नलिखित स्थलों से प्राप्त हुई है -

- A. कालीबंगा
- B. लोथल
- C. बनावली
- D. मोहनजोदड़ो

नीचे दिए गए विकल्पों में से सही उत्तर का चयन कीजिए :

- 1. केवल A और B
- 2. केवल A, B और C
- 3. केवल B और D
- 4. केवल A, B और D

(1) 1

(2) 2

(3) 3

(4) 4

1[Option ID=15833]

2[Option ID=15834]

3[Option ID=15835]

4[Option ID=15836]

Sl. No.60

QBID:167060

Which of the following sites are situated in Tamilnadu?

- A. Attirampakkam
- B. Gudiyam
- C. Anagwadi
- D. Sangankallu

Choose the most appropriate answer from the options given below :

- 1. A and B only
- 2. A and C only
- 3. B and C only
- 4. A and D only

(1) 1

(2) 2

(3) 3

(4) 4

निम्न में कौन सा पुरास्थल तमिलनाडु में अवस्थित है?

- A. अतिरमपक्कम
- B. गुड़ियम
- C. अनंगवाड़ी
- D. संगलकल्लु

नीचे दिए गए विकल्पों में से सबसे उपयुक्त उत्तर का चयन कीजिए :

- 1. केवल A और B
- 2. केवल A और C
- 3. केवल B और C
- 4. केवल A और D

(1) 1

(2) 2

(3) 3

(4) 4

1[Option ID=15837]

2[Option ID=15838]

3[Option ID=15839]

4[Option ID=15840]

Sl. No.61

QBID:167061

John Lubbock used the following terms to emphasize the change and progress in tool - types?

- A. Palaeolithic
- B. Mesolithic
- C. Neolithic
- D. Chalcolithic

Choose the correct answer from the options given below :

- 1. A, B and C only
- 2. A and B only
- 3. A, C and D only
- 4. A and C only

(1) 1

(2) 2

(3) 3

(4) 4

उपकरण प्रकारों में परिवर्तन और विकास को प्रदर्शित करने के लिए जॉन लुबॉक द्वारा निम्नलिखित शब्द का प्रयोग किया गया –

- A. पुरापाषाण
- B. मध्यपाषाण
- C. नवपाषाण
- D. ताम्रपाषाणिक

नीचे दिए गए विकल्पों में से सही उत्तर का चयन कीजिए :

- 1. केवल A, B और C
- 2. केवल A और B
- 3. केवल A, C और D
- 4. केवल A और C

- (1) 1
(2) 2
(3) 3
(4) 4

1[Option ID=15841]
2[Option ID=15842]
3[Option ID=15843]
4[Option ID=15844]

Sl. No.62
QBID:167062

The Jaina cave architecture can be seen at

- A. Sittannavasal
B. Jogimara
C. Khandagiri
D. Bagh

Choose the correct answer from the options given below :

1. A and B only
2. A and C only
3. B and C only
4. A and D only

- (1) 1
(2) 2
(3) 3
(4) 4

जैन गुफा स्थापत्य देखा जा सकता है -

- A. सित्तनवासल
B. जोगीमारा
C. खण्डगिरि
D. बाघ

नीचे दिए गए विकल्पों में से सही उत्तर का चयन कीजिए :

1. केवल A और B
2. केवल A और C
3. केवल B और C
4. केवल A और D

- (1) 1
(2) 2
(3) 3
(4) 4

1[Option ID=15845]
2[Option ID=15846]
3[Option ID=15847]
4[Option ID=15848]

Sl. No.63
QBID:167063

Which of the following are the techniques used for the production of Palaeolithic tools?

- A. Block-on-block
- B. Fluting
- C. Core
- D. Punching

Choose the correct answer from the options given below :

- 1. A, B and C only
- 2. A, B and D only
- 3. B, C and D only
- 4. A, C and D only

(1) 1

(2) 2

(3) 3

(4) 4

निम्न में से कौन सी तकनीक का प्रयोग पुरापाषाण काल के उपकरणों के निर्माण में किया जाता है?

- A. ब्लाक-ऑन-ब्लाक
- B. फ्लूटिंग
- C. कोर
- D. पंचिंग

नीचे दिए गए विकल्पों में से सही उत्तर का चयन कीजिए :

- 1. केवल A, B और C
- 2. केवल A, B और D
- 3. केवल B, C और D
- 4. केवल A, C और D

(1) 1

(2) 2

(3) 3

(4) 4

1[Option ID=15849]

2[Option ID=15850]

3[Option ID=15851]

4[Option ID=15852]

SI. No.64

QBID:167064

The phase of transition to the Mature Harappan from the early Harappan were noticed in

- A. Dholavira
- B. Kalibangan
- C. Kunal
- D. Harappa

Choose the correct answer from the options given below :

- 1. A and B only
- 2. A, B and C only
- 3. B, C and D only
- 4. A, C and D only

(1) 1

(2) 2

(3) 3

(4) 4

प्राक् हड़प्पा से विकसित हड़पा के मध्य संक्रमण के चरण कहाँ देखे गए -

- A. धौलावीरा
- B. कालीबंगा
- C. कुनाल
- D. हड़प्पा

नीचे दिए गए विकल्पों में से सही उत्तर का चयन कीजिए :

- 1. केवल A और B
- 2. केवल A, B और C
- 3. केवल B, C और D
- 4. केवल A, C और D

(1) 1

(2) 2

(3) 3

(4) 4

1[Option ID=15853]

2[Option ID=15854]

3[Option ID=15855]

4[Option ID=15856]

Sl. No.65

QBID:167065

The two rivers mentioned in the Junagarh inscription of Rudradaman are

- A. Urjyata
- B. Sudarshana
- C. Suvarnasikta
- D. Palashini

Choose the correct answer from the options given below :

- 1. B and C only
- 2. A and B only
- 3. B and D only
- 4. C and D only

(1) 1

(2) 2

(3) 3

(4) 4

रुद्रदामन के जूनागढ़ अभिलेख में किन दो नदियों का उल्लेख है?

- A. उर्जयत्
- B. सुदर्शन
- C. सुवर्णसिक्ता
- D. पलाशिनी

नीचे दिए गए विकल्पों में से सही उत्तर का चयन कीजिए :

- 1. केवल B और C
- 2. केवल A और B
- 3. केवल B और D
- 4. केवल C और D

(1) 1

(2) 2

(3) 3

(4) 4

1[Option ID=15857]

2[Option ID=15858]

3[Option ID=15859]

4[Option ID=15860]

Sl. No.66

QBID:167066

Match List I with List II

LIST I (Site)		LIST II (Location)	
A.	Garhdhanora	I.	Madhya Pradesh
B.	Eran	II.	Odisha
C.	Aragarh	III.	Uttar Pradesh
D.	Baruwasagar	IV.	Chhattisgarh

Choose the correct answer from the options given below:

- 1. A-I, B-II, C-III, D-IV
- 2. A-II, B-I, C-IV, D-III
- 3. A-III, B-IV, C-I, D-II
- 4. A-IV, B-I, C-II, D-III

(1) 1

(2) 2

(3) 3

(4) 4

सूची I का सूची II से मिलान कीजिए

सूची I (पुरास्थल)	सूची II (स्थिति)
A. गढ़धनोरा	I. मध्य प्रदेश
B. एरण	II. उड़ीसा
C. आरागढ़	III. उत्तर प्रदेश
D. बरुवासागर	IV. छत्तीसगढ़

निम्नलिखित विकल्पों में से सही उत्तर का चयन कीजिए :

- 1. A-I, B-II, C-III, D-IV
- 2. A-II, B-I, C-IV, D-III
- 3. A-III, B-IV, C-I, D-II
- 4. A-IV, B-I, C-II, D-III

- (1) 1
(2) 2
(3) 3
(4) 4

1[Option ID=15861]

2[Option ID=15862]

3[Option ID=15863]

4[Option ID=15864]

Sl. No.67

QBID:167067

Match List I with List II

LIST I (Regional cultural complex)		LIST II (Region/s)	
A.	Sothi – Siswal	I.	Sind
B.	Bara	II.	Rajasthan – Haryana
C.	Mitathal	III.	Punjab – Haryana
D.	Jhukar – Jhangar	IV.	Haryana

Choose the correct answer from the options given below:

1. A-II, B-III, C- IV, D- I
2. A-I, B-III, C-IV, D-II
3. A-III, B-IV, C-II, D-I
4. A-IV, B-I, C-III, D-II

- (1) 1
(2) 2
(3) 3
(4) 4

सूची I का सूची II से मिलान कीजिए

सूची I (क्षेत्रीय सांस्कृतिक समूह)		सूची II (क्षेत्र)	
A.	सोथी-सिसवाल	I.	सिन्ध
B.	बारा	II.	राजस्थान-हरियाणा
C.	मिताथल	III.	पंजाब-हरियाणा
D.	झुकर-झांगर	IV.	हरियाणा

निम्नलिखित विकल्पों में से सही उत्तर का चयन कीजिए :

1. A-II, B-III, C- IV, D- I
2. A-I, B-III, C-IV, D-II
3. A-III, B-IV, C-II, D-I
4. A-IV, B-I, C-III, D-II

- (1) 1
(2) 2
(3) 3
(4) 4

1[Option ID=15865]

2[Option ID=15866]

3[Option ID=15867]

4[Option ID=15868]

Sl. No.68

QBID:167068

Match List I with List II

LIST I (Temple)		LIST II (Place)	
A.	Brahmapureshvara	I.	Kumbakonam
B.	Nageshvarasvami	II.	Norttamalai
C.	Koranganatha	III.	Srinivasanallur
D.	Shiva	IV.	Pullamangai

Choose the correct answer from the options given below:

1. A-IV, B-I, C-III, D-II
2. A-IV, B-I, C-II, D-III
3. A-II, B-III, C-I, D-IV
4. A-I, B-IV, C-II, D-III

(1) 1

(2) 2

(3) 3

(4) 4

सूची I का सूची II से मिलान कीजिए

सूची I (मंदिर)		सूची II (स्थिति)	
A.	ब्रह्मपुरेश्वर	I.	कुम्बाकोनम
B.	नागेश्वरस्वामी	II.	नोरत्तामलाई
C.	कोरंगनाथ	III.	श्रीनिवासनल्लुर
D.	शिव	IV.	पुल्लामंगाई

निम्नलिखित विकल्पों में से सही उत्तर का चयन कीजिए :

1. A-IV, B-I, C-III, D-II
2. A-IV, B-I, C-II, D-III
3. A-II, B-III, C-I, D-IV
4. A-I, B-IV, C-II, D-III

(1) 1

(2) 2

(3) 3

(4) 4

1[Option ID=15869]

2[Option ID=15870]

3[Option ID=15871]

4[Option ID=15872]

Sl. No.69

QBID:167069

Match List I with List II

LIST I (Site)		LIST II (Botanical Remains)	
A.	Kausambi	I.	Sandalwood
B.	Atranjikhhera	II.	Jaiphal
C.	Narhan	III.	Deodar
D.	Khairadih	IV.	Timber

Choose the correct answer from the options given below:

1. A-IV, B-I, C-III, D-II
2. A-IV, B-III, C-I, D-II
3. A-II, B-IV, C-I, D-III
4. A-I, B-II, C-III, D-IV

- (1) 1
(2) 2
(3) 3
(4) 4

सूची I का सूची II से मिलान कीजिए

सूची I (पुरास्थल)	सूची II (वानस्पतिक अवशेष)
A. कौशाम्बी	I. चंदन लकड़ी
B. अतरंजीखेड़ा	II. जायफल
C. नरहन	III. देवदार
D. खैराडीह	IV. लकड़ी

निम्नलिखित विकल्पों में से सही उत्तर का चयन कीजिए :

Choose the correct answer from the options given below:

1. A-IV, B-I, C-III, D-II
2. A-IV, B-III, C-I, D-II
3. A-II, B-IV, C-I, D-III
4. A-I, B-II, C-III, D-IV

- (1) 1
(2) 2
(3) 3
(4) 4

- 1[Option ID=15873]
2[Option ID=15874]
3[Option ID=15875]
4[Option ID=15876]

Sl. No.70
QBID:167070

Match List I with List II

LIST I (Temple)		LIST II (Deity)	
A.	Lakshman Temple, Sirpur	I.	Shiva
B.	Vaitala Temple, Bhubneshwar	II.	Mahavir
C.	Krishna Temple, Ellora	III.	Durga
D.	Meguti Temple, Aihole	IV.	Vishnu

Choose the correct answer from the options given below:

1. A-IV, B-III, C-I, D-II
2. A-I, B-II, C-III, D-IV
3. A-II, B-III, C-I, D-IV
4. A-IV, B-I, C-II, D-III

- (1) 1
(2) 2
(3) 3
(4) 4

सूची I का सूची II से मिलान कीजिए

सूची I (मंदिर)		सूची II (देव)	
A.	लक्ष्मण मंदिर, सिरपुर	I.	शिव
B.	वैताल मंदिर, भुवनेश्वर	II.	महावीर
C.	कृष्णा मंदिर, एलोरा	III.	दुर्गा
D.	मेगुती मंदिर, एहोल	IV.	विष्णु

निम्नलिखित विकल्पों में से सही उत्तर का चयन कीजिए :

1. A-IV, B-III, C-I, D-II
2. A-I, B-II, C-III, D-IV
3. A-II, B-III, C-I, D-IV
4. A-IV, B-I, C-II, D-III

(1) 1

(2) 2

(3) 3

(4) 4

1[Option ID=15877]

2[Option ID=15878]

3[Option ID=15879]

4[Option ID=15880]

Sl. No.71

QBID:167071

Match List I with List II

LIST I (Scholar)		LIST II (Organization)	
A.	A. Sonakia	I.	Birbal Sahn Institute of Palaeobotany
B.	A. Carlyle	II.	Allahabad Museum
C.	S.P. Gupta	III.	Geological Survey of India
D.	S.K. Saraswat	IV.	Archaeological Survey of India

Choose the correct answer from the options given below :

1. A-III, B-IV, C-II, D-I
2. A-I, B-III, C-II, D-IV
3. A-III, B-IV, C-I, D-II
4. A-IV, B-I, C-III, D-II

(1) 1

(2) 2

(3) 3

(4) 4

सूची I का सूची II से मिलान कीजिए

सूची I (विद्वान)	सूची II (संस्था)
A. ए. सोनकिया	I. बीरबल साहनी पुरा वनस्पति शास्त्र संस्थान
B. ए. कार्लाइल	II. इलाहाबाद संग्रहालय
C. एस. पी. गुप्ता	III. भारतीय भू-गर्भ विज्ञान संस्थान
D. एस. के. सारस्वत	IV. भारतीय पुरातत्व सर्वेक्षण

निम्नलिखित विकल्पों में से सही उत्तर का चयन कीजिए :

1. A-III, B-IV, C-II, D-I
2. A-I, B-III, C-II, D-IV
3. A-III, B-IV, C-I, D-II
4. A-IV, B-I, C-III, D-II

(1) 1

(2) 2

(3) 3

(4) 4

1[Option ID=15881]

2[Option ID=15882]

3[Option ID=15883]

4[Option ID=15884]

Sl. No.72

QBID:167072

Match List I with List II

LIST I (Book)		LIST II (Author)	
A.	Prehistory and protohistory of India	I.	H.D. Sankalia
B.	Prehistory and Protohistory of India : An Appraisal	II.	K.C. Jain
C.	Prehistory and Protohistory of India and Pakistan	III.	V.K. Jain
D.	Protohistory – Archaeology of the Harappan Civilization	IV.	S. Settar and R. Korisettar

Choose the correct answer from the options given below:

1. A-I, B-II, C-III, D-IV
2. A-II, B-III, C-I, D-IV
3. A-III, B-IV, C-I, D-II
4. A-II, B-IV, C-I, D-III

(1) 1

(2) 2

(3) 3

(4) 4

सूची I का सूची II से मिलान कीजिए

सूची I (पुस्तक)		सूची II (लेखक)	
A.	प्रीहिस्ट्री एण्ड प्रोटोहिस्ट्री ऑफ इंडिया	I.	एच. डी. सांकलिया
B.	प्रीहिस्ट्री एण्ड प्रोटोहिस्ट्री ऑफ इंडिया : एन एपरेजल	II.	के. सी. जैन
C.	प्रीहिस्ट्री एण्ड प्रोटोहिस्ट्री ऑफ इंडिया एण्ड पाकिस्तान	III.	वी. के. जैन
D.	प्रोटोहिस्ट्री-आर्कियोलॉजी ऑफ द हड़प्पन सीविलाइजेशन	IV.	एस. सेट्टार एण्ड आर. कोरिसेट्टार

निम्नलिखित विकल्पों में से सही उत्तर का चयन कीजिए :

1. A-I, B-II, C-III, D-IV
2. A-II, B-III, C-I, D-IV
3. A-III, B-IV, C-I, D-II
4. A-II, B-IV, C-I, D-III

(1) 1

(2) 2

(3) 3

(4) 4

1[Option ID=15885]

2[Option ID=15886]

3[Option ID=15887]

4[Option ID=15888]

Sl. No.73

QBID:167073

Match List I with List II

LIST I (Book)		LIST II (Author)	
A.	Archaeometallurgy in India	I.	H.C. Bhardwaj
B.	Iron Age in India	II.	E.R. Caley
C.	Aspects of Ancient Indian Technology	III.	Vibha Tripathi
D.	Analysis of Ancient Metals	IV.	N.R. Banerjee

Choose the correct answer from the options given below:

1. A-I, B-IV, C-II, D-III
2. A-II, B-I, C-IV, D-III
3. A-III, B-IV, C-I, D-II
4. A-III, B-IV, C-II, D-I

(1) 1

(2) 2

(3) 3

(4) 4

सूची I का सूची II से मिलान कीजिए

सूची I (पुस्तक)		सूची II (लेखक)	
A.	आर्कियो मेटलर्जी इन इण्डिया	I.	एच. सी. भारद्वाज
B.	आयरन ऐज इन इण्डिया	II.	ई. आर. केले
C.	एसपेक्टस ऑफ इण्डियन टेक्नोलॉजी	III.	विभा त्रिपाठी
D.	एनालिसिस ऑफ एन्शियण्ट मेटल्स	IV.	एन. आर. बैनर्जी

निम्नलिखित विकल्पों में से सही उत्तर का चयन कीजिए :

1. A-I, B-IV, C-II, D-III
2. A-II, B-I, C-IV, D-III
3. A-III, B-IV, C-I, D-II
4. A-III, B-IV, C-II, D-I

(1) 1

(2) 2

(3) 3

(4) 4

1[Option ID=15889]

2[Option ID=15890]

3[Option ID=15891]

4[Option ID=15892]

Sl. No.74

QBID:167074

Match List I with List II

LIST I (Site Name)		LIST II (River)	
A.	Tarighat	I.	Mahanadi
B.	Suvarnapur	II.	Betwa
C.	Vidisha	III.	Maniyari
D.	Tala	IV.	Kharun

Choose the correct answer from the options given below:

1. A-I, B-II, C-III, D-IV
2. A-II, B-IV, C-I, D-III
3. A-IV, B-II, C-I, D-III
4. A-IV, B-I, C-II, D-III

(1) 1

(2) 2

(3) 3

(4) 4

सूची I का सूची II से मिलान कीजिए

सूची I (पुरास्थल)	सूची II (नदी)
A. तरीघाट	I. महानदी
B. सुवर्णपुर	II. बेतवा
C. विदिशा	III. मनीयारी
D. ताला	IV. खारुन

निम्नलिखित विकल्पों में से सही उत्तर का चयन कीजिए :

1. A-I, B-II, C-III, D-IV
2. A-II, B-IV, C-I, D-III
3. A-IV, B-II, C-I, D-III
4. A-IV, B-I, C-II, D-III

(1) 1

(2) 2

(3) 3

(4) 4

1[Option ID=15893]

2[Option ID=15894]

3[Option ID=15895]

4[Option ID=15896]

Sl. No.75

QBID:167075

Match List I with List II

LIST I (Journal)	LIST II (Society)
A. Kala	I. Indian Archaeological Society
B. Puratattva	II. Rock Art Society of India
C. History Today	III. Indian Art History Congress
D. Purakala	IV. Indian History and Culture Society

Choose the correct answer from the options given below:

1. A-I, B-II, C-III, D-IV
2. A-III, B-IV, C-I, D-II
3. A-III, B-I, C-IV, D-II
4. A-IV, B-II, C-III, D-I

(1) 1

(2) 2

(3) 3

(4) 4

सूची I का सूची II से मिलान कीजिए

सूची I (जर्नल)	सूची II (सोसायटी)
A. कला	I. इण्डियन आर्कियोलॉजिकल सोसायटी
B. पुरातत्व	II. रॉक आर्ट सोसायटी ऑफ इण्डिया
C. हिस्ट्री टुडे	III. इण्डियन आर्ट हिस्ट्री कांग्रेस
D. पुरा कला	IV. इण्डियन हिस्ट्री एण्ड कल्चर सोसायटी

निम्नलिखित विकल्पों में से सही उत्तर का चयन कीजिए :

1. A-I, B-II, C-III, D-IV
2. A-III, B-IV, C-I, D-II
3. A-III, B-I, C-IV, D-II
4. A-IV, B-II, C-III, D-I

(1) 1

(2) 2

(3) 3

(4) 4

1[Option ID=15897]

2[Option ID=15898]

3[Option ID=15899]

4[Option ID=15900]

Sl. No.76

QBID:167076

Arrange the following archaeological departments established by the Indian States in Chronological order from earliest to latest:

- A. Hyderabad
- B. Travancore
- C. Mysore
- D. Kashmir

Choose the correct answer from the options given below :

1. A, B, C, D
2. B, C, D, A
3. C, B, D, A
4. D, A, B, C

(1) 1

(2) 2

(3) 3

(4) 4

निम्न पुरास्थलों को सांस्कृतिक अनुक्रम के आधार पर प्राचीन से अथुनातन के क्रम में लगायें

- A. हैदराबाद
- B. त्रावणकोर
- C. मैसूर
- D. कश्मीर

नीचे दिए गए विकल्पों में से सही उत्तर का चयन कीजिए :

1. A, B, C, D
2. B, C, D, A
3. C, B, D, A
4. D, A, B, C

- (1) 1
- (2) 2
- (3) 3
- (4) 4

1[Option ID=15901]
2[Option ID=15902]
3[Option ID=15903]
4[Option ID=15904]

Sl. No.77
QBID:167077

Arrange the following sites according the cultural sequence form earliest to latest :

- A. Burj
- B. Lohat
- C. Meham
- D. Hansi

Choose the correct answer from the options given below :

- 1. A, B, C, D
- 2. A, C, B, D
- 3. B, C, D, A
- 4. C, D, A, B

- (1) 1
- (2) 2
- (3) 3
- (4) 4

निम्न मुद्रा प्रकारों को उनके जारी करने की तिथि को ध्यान में रखते हुये व्यवस्थित कीजिये।

- A. बुर्ज
- B. लोहत
- C. मेहम
- D. हाँसी

नीचे दिए गए विकल्पों में से सही उत्तर का चयन कीजिए :

- 1. A, B, C, D
- 2. A, C, B, D
- 3. B, C, D, A
- 4. C, D, A, B

- (1) 1
- (2) 2
- (3) 3
- (4) 4

1[Option ID=15905]
2[Option ID=15906]
3[Option ID=15907]
4[Option ID=15908]

Sl. No.78
QBID:167078

Arrange the following ceramics in chronological order from earliest to latest :

- A. Red Polished Ware
- B. Painted Gray Ware
- C. Celadon Ware
- D. Northern Black Polished Ware

Choose the correct answer from the options given below :

- 1. A, B, C, D
- 2. B, D, A, C
- 3. C, A, B, D
- 4. D, C, A, B

(1) 1

(2) 2

(3) 3

(4) 4

निम्न मृत्पात्रों को प्रारंभ से अभी तक के क्रम में व्यवस्थित कीजिये।

- A. लोहित पॉलिश पात्र
- B. चित्रित धूसर पात्र
- C. सेलेडन पात्र
- D. उत्तरी काले चमकीले पात्र

नीचे दिए गए विकल्पों में से सही उत्तर का चयन कीजिए :

- 1. A, B, C, D
- 2. B, D, A, C
- 3. C, A, B, D
- 4. D, C, A, B

(1) 1

(2) 2

(3) 3

(4) 4

1[Option ID=15909]

2[Option ID=15910]

3[Option ID=15911]

4[Option ID=15912]



Sl. No.79

QBID:167079

Arrange the following coin-types according to the date of their issue

- A. Ashwamedha type
- B. Kartikeya type
- C. Chakradhawaja type
- D. Lion-slayer type

Choose the correct answer from the options given below :

- 1. A, D, C, B
- 2. D, A, C, B
- 3. C, A, D, B
- 4. A, C, D, B

(1) 1

(2) 2

(3) 3

(4) 4

निम्न मुद्रा प्रकारों को उनके जारी करने की तिथि को ध्यान में रखते हुये व्यवस्थित कीजिये।

- A. अश्वमेध प्रकार
- B. कार्तिकेय प्रकार
- C. चक्रध्वज प्रकार
- D. सिंह निहंता प्रकार

नीचे दिए गए विकल्पों में से सही उत्तर का चयन कीजिए :

- 1. A, D, C, B
- 2. D, A, C, B
- 3. C, A, D, B
- 4. A, C, D, B

(1) 1

(2) 2

(3) 3

(4) 4

1[Option ID=15913]

2[Option ID=15914]

3[Option ID=15915]

4[Option ID=15916]

Sl. No.80

QBID:167080

Arrange the following terracotta in chronological order from earliest to latest :

- A. Ahichhatra terracotta
- B. Kausambi terracotta
- C. Bulandibag terracotta
- D. Paithan terracotta

Choose the correct answer from the options given below :

- 1. A, B, C, D
- 2. C, B, D, A
- 3. D, A, B, C
- 4. B, C, A, D

(1) 1

(2) 2

(3) 3

(4) 4

निम्न मृणमूर्तियों को प्रारम्भ से अभी तक काल क्रमानुसार व्यवस्थित कीजिये -

- A. अहिच्छत्र मृण मूर्ति
- B. कौशाम्बी मृण मूर्ति
- C. बुलंदीबाग मृण मूर्ति
- D. पैठन मृण मूर्ति

नीचे दिए गए विकल्पों में से सही उत्तर का चयन कीजिए :

- 1. A, B, C, D
- 2. C, B, D, A
- 3. D, A, B, C
- 4. B, C, A, D

(1) 1

(2) 2

(3) 3

(4) 4

1[Option ID=15917]

2[Option ID=15918]

3[Option ID=15919]

4[Option ID=15920]

Sl. No.81

QBID:167081

Arrange the following temples of Odisha in a chronological order from earliest to latest:

- A. Parashurameswara temple
- B. Raja Rani temple
- C. Mukteshwara temple
- D. Jagannath temple

Choose the correct answer from the options given below :

- 1. A, B, D, C
- 2. A, C, B, D
- 3. B, A, D, C
- 4. C, D, A, B

(1) 1

(2) 2

(3) 3

(4) 4

ओड़िसा में स्थित निम्न मंदिरों को प्रारम्भ से अभी तक क्रमानुसार व्यवस्थित कीजिये।

- A. परशुरामेश्वर मंदिर
- B. राजा रानी मंदिर
- C. मुक्तेश्वर मंदिर
- D. जगन्नाथ मंदिर

नीचे दिए गए विकल्पों में से सही उत्तर का चयन कीजिए :

- 1. A, B, D, C
- 2. A, C, B, D
- 3. B, A, D, C
- 4. C, D, A, B

(1) 1

(2) 2

(3) 3

(4) 4

1[Option ID=15921]

2[Option ID=15922]

3[Option ID=15923]

4[Option ID=15924]

Sl. No.82

QBID:167082

Re-arrange the following sites from north to south :

- A. Nevasa
- B. Chichali
- C. Ladakh
- D. Inamgaon

Choose the correct answer from the options given below :

- 1. A, B, C, D
- 2. B, C, A, D
- 3. C, B, A, D
- 4. D, C, A, B

(1) 1

(2) 2

(3) 3

(4) 4

उत्तर से दक्षिण के क्रम में निम्न पुरास्थलों को व्यवस्थित करें -

- A. नेवासा
- B. चिचली
- C. लदाख
- D. इनामगाँव

नीचे दिए गए विकल्पों में से सही उत्तर का चयन कीजिए :

- 1. A, B, C, D
- 2. B, C, A, D
- 3. C, B, A, D
- 4. D, C, A, B

(1) 1

(2) 2

(3) 3

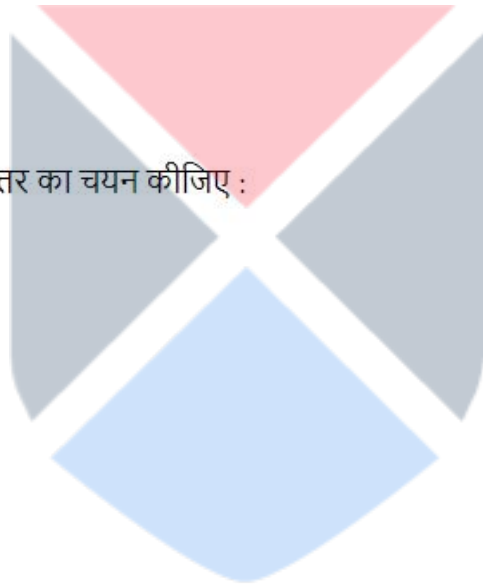
(4) 4

1[Option ID=15925]

2[Option ID=15926]

3[Option ID=15927]

4[Option ID=15928]



Sl. No.83

QBID:167083

Arrange the following structures in chronological order from earliest to latest :

- A. Bhaja
- B. Karle
- C. Bedsa
- D. Pitalkhora

Choose the correct answer from the options given below :

- 1. A, B, C, D
- 2. A, D, C, B
- 3. B, A, C, D
- 4. D, C, A, B

(1) 1

(2) 2

(3) 3

(4) 4

प्रारम्भ से अधुनातन के कऱम में निम्नलिखित संरचनाओं को क्रमवार व्यवस्थित करें

- A. भौँजा
- B. कार्ले
- C. बेदशा
- D. पितलखोरा

नीचे दिए गए विकल्पों में से सही उत्तर का चयन कीजिए :

- 1. A, B, C, D
- 2. A, D, C, B
- 3. B, A, C, D
- 4. D, C, A, B

(1) 1

(2) 2

(3) 3

(4) 4

1[Option ID=15929]

2[Option ID=15930]

3[Option ID=15931]

4[Option ID=15932]

Sl. No.84

QBID:167084

Arrange the following sites from east to west :

- A. SENUAR
- B. Daojali Hading
- C. Maner
- D. Balathal

Choose the correct answer from the options given below :

- 1. A, B, C, D
- 2. B, A, C, D
- 3. A, C, B, D
- 4. A, D, B, C

(1) 1

(2) 2

(3) 3

(4) 4

निम्नलिखित पुरास्थलों को पूर्व से पश्चिम के कऱम में लगाए -

- A. सेनुआर
- B. दाओजली-हडिंग
- C. मानेर
- D. बालाथल

नीचे दिए गए विकल्पों में से सही उत्तर का चयन कीजिए :

- 1. A, B, C, D
- 2. B, A, C, D
- 3. A, C, B, D
- 4. A, D, B, C

(1) 1

(2) 2

(3) 3

(4) 4

1[Option ID=15933]

2[Option ID=15934]

3[Option ID=15935]

4[Option ID=15936]

Sl. No.85

QBID:167085

The simple monolithic vimana has following parts in vertical direction from base to top :

- A. Prastara
- B. Stupi
- C. Adhishthana
- D. Shikhara

Choose the correct answer from the options given below :

- 1. A, B, C, D
- 2. D, B, A, C
- 3. D, C, B, A
- 4. C, A, D, B

(1) 1

(2) 2

(3) 3

(4) 4

आधार से शीर्षतक क्षैतिज दिशा में साधारण एकात्मक विभाग के निम्नलिखित भागों को बताए -

- A. प्रस्तर
- B. स्तुपी
- C. अधिष्ठान
- D. शिखर

नीचे दिए गए विकल्पों में से सही उत्तर का चयन कीजिए :

- 1. A, B, C, D
- 2. D, B, A, C
- 3. D, C, B, A
- 4. C, A, D, B

(1) 1

(2) 2

(3) 3

(4) 4

1[Option ID=15937]

2[Option ID=15938]

3[Option ID=15939]

4[Option ID=15940]

Sl. No.86

QBID:167086

Given below are two statements : One is labelled as Assertion (A) and the other is labelled as Reason (R).
Assertion (A) : The pattern of trade routes do not appear to have significantly changed in the early medieval Indian context.

Reason (R) : This observation is based on a close study of the routes which linked the Ganga plain with the Deccan.

In the light of the above statements, choose the correct answer from the options given below :

1. Both (A) and (R) are true and (R) is the correct explanation of (A)
2. Both (A) and (R) are true but (R) is NOT the correct explanation of (A)
3. (A) is true but (R) is false
4. (A) is false but (R) is true

(1) 1

(2) 2

(3) 3

(4) 4

नीचे दो कथन दिए गए हैं : एक अभिकथन (Assertion (A)) के रूप में लिखित है तो दूसरा उसके कारण (Reason (R)) के रूप में :

अभिकथन (A) : भारतीय संदर्भ में पूर्व मध्यकाल में व्यापारिक मार्गों की पद्धति में कोई विशेष परिवर्तन नहीं आया।

कारण (R) : यह संदर्भ उन मार्गों के सूक्ष्म अध्ययन पर आधारित है जो गांगेय मैदान और दक्कन के साथ सम्बद्ध है।

उपरोक्त कथन के आलोक में, नीचे दिए गए विकल्पों में से सही उत्तर का चयन कीजिए :

1. (A) और (R) दोनों सत्य हैं और (R), (A) की सही व्याख्या है
2. (A) और (R) दोनों सत्य हैं, लेकिन (R), (A) की सही व्याख्या नहीं है
3. (A) सत्य है, लेकिन (R) असत्य है
4. (A) असत्य है, लेकिन (R) सत्य है

(1) 1

(2) 2

(3) 3

(4) 4

1[Option ID=15941]

2[Option ID=15942]

3[Option ID=15943]

4[Option ID=15944]

Sl. No.87

QBID:167087

Given below are two statements :

Statement I : During Bhaumakaras rule, hindu temples were constructed in Odisha.

Statement II : They only patronized Buddhism.

In the light of the above statements, choose the most appropriate answer from the options given below :

1. Both Statement I and Statement II are correct
2. Both Statement I and Statement II are incorrect
3. Statement I is correct but Statement II is incorrect
4. Statement I is incorrect but Statement II is correct

(1) 1

(2) 2

(3) 3

(4) 4

नीचे दो कथन दिए गए हैं :

कथन I : भौमकर शासन के अंतर्गत उड़ीसा में हिन्दू मंदिरों का निर्माण हुआ।

कथन II : वे केवल बौद्धों को आश्रय देते थे।

उपरोक्त कथन के आलोक में, नीचे दिए गए विकल्पों में से सबसे उपयुक्त उत्तर का चयन कीजिए :

1. कथन I और II दोनों सही हैं
2. कथन I और II दोनों गलत हैं
3. कथन I सही है, लेकिन कथन II गलत है
4. कथन I गलत है, लेकिन कथन II सही है

(1) 1

(2) 2

(3) 3

(4) 4

1[Option ID=15945]

2[Option ID=15946]

3[Option ID=15947]

4[Option ID=15948]

Sl. No.88

QBID:167088

Given below are two statements : One is labelled as Assertion (A) and the other is labelled as Reason (R).

Assertion (A) : The term 'neolithic – chalcolithic' was used to denote the first stage of village growth in non-Harappan India.

Reason (R) : This was meant to be a general term to describe a host of regionally distinctive cultural situations before the beginning of iron.

In the light of the above statements, choose the correct answer from the options given below :

1. Both (A) and (R) are true and (R) is the correct explanation of (A)
2. Both (A) and (R) are true but (R) is NOT the correct explanation of (A)
3. (A) is true but (R) is false
4. (A) is false but (R) is true

(1) 1

(2) 2

(3) 3

(4) 4

नीचे दो कथन दिए गए हैं : एक अभिकथन (Assertion (A)) के रूप में लिखित है तो दूसरा उसके कारण (Reason (R)) के रूप में :

अभिकथन (A) : 'नवपाषाण-ताम्रपाषाणिक' शब्दों का प्रयोग गैर हड़प्पीय भारत में प्रथम चरण के गाँव के विकास को प्रदर्शित करता है।

कारण (R) : यह एक सामान्य शब्द था, जो लौह पूर्व युग में अलग सांस्कृतिक क्षेत्रीय समूह का वर्णन करता है।

उपरोक्त कथन के आलोक में, नीचे दिए गए विकल्पों में से सही उत्तर का चयन कीजिए

1. (A) और (R) दोनों सत्य हैं और (R), (A) की सही व्याख्या है
2. (A) और (R) दोनों सत्य हैं, लेकिन (R), (A) की सही व्याख्या नहीं है
3. (A) सत्य है, लेकिन (R) असत्य है
4. (A) असत्य है, लेकिन (R) सत्य है

(1) 1

(2) 2

(3) 3

(4) 4

1[Option ID=15949]

2[Option ID=15950]

3[Option ID=15951]

4[Option ID=15952]

Sl. No.89

QBID:167089

Given below are two statements : One is labelled as Assertion (A) and the other is labelled as Reason (R).
Assertion (A) : The punch-marked coins had irregular shapes.
Reason (R) : The adjustment of the weight of punch-marked coins was made by cutting bits off corners.
In the light of the above statements, choose the most appropriate answer from the options given below :

1. Both (A) and (R) are correct and (R) is the correct explanation of (A)
2. Both (A) and (R) are correct but (R) is NOT the correct explanation of (A)
3. (A) is correct but (R) is not correct
4. (A) is not correct but (R) is correct

(1) 1

(2) 2

(3) 3

(4) 4

नीचे दो कथन दिए गए हैं : एक अभिकथन (Assertion (A)) के रूप में लिखित है तो दूसरा उसके कारण (Reason (R)) के रूप में :

अभिकथन (A) : आहत मुद्राएँ अनियमिताकार हैं।

कारण (R) : आहत मुद्राओं के भार मान को किनारे से काटकर व्यवस्थित किया जाता था।

उपरोक्त कथन के आलोक में, नीचे दिए गए विकल्पों में से सबसे उपयुक्त उत्तर का चयन कीजिए :

1. (A) और (R) दोनों सत्य हैं और (R), (A) की सही व्याख्या है
2. (A) और (R) दोनों सत्य हैं, लेकिन (R), (A) की सही व्याख्या नहीं है
3. (A) सत्य है, लेकिन (R) असत्य है
4. (A) असत्य है, लेकिन (R) सत्य है

(1) 1

(2) 2

(3) 3

(4) 4

1[Option ID=15953]

2[Option ID=15954]

3[Option ID=15955]

4[Option ID=15956]

Sl. No.90

QBID:167090

Given below are two statements : One is labelled as Assertion (A) and the other is labelled as Reason (R).
Assertion (A) : The ancient Indian inscriptions upto the Gupta period are mostly donative records.
Reason (R) : A great proportion of the available donative records deals directly with individual donations made for the building of stupas, dedication of Buddhist images and maintenance of rock-cut monastic complex.

In the light of the above statements, choose the correct answer from the options given below :

1. Both (A) and (R) are true and (R) is the correct explanation of (A)
2. Both (A) and (R) are true but (R) is NOT the correct explanation of (A)
3. (A) is true but (R) is false
4. (A) is false but (R) is true

(1) 1

(2) 2

(3) 3

(4) 4

नीचे दो कथन दिए गए हैं : एक अभिकथन (Assertion (A)) के रूप में लिखित है तो दूसरा उसके कारण (Reason (R)) के रूप में :

अभिकथन (A) : गुप्त काल तक के प्राचीन भारतीय अभिलेख मुख्यतः दान पत्र हैं।

कारण (R) : इन दान पत्रों के बड़े भाग में उन व्यक्तिगत दानों का वर्णन है जिनका उपयोग स्तूप एवं बौद्ध प्रतिमाओं के निर्माण एवं शैलोष्कीर्ण समूहों के एव रजाव पर किया जाता था।

उपरोक्त कथन के आलोक में, नीचे दिए गए विकल्पों में से सही उत्तर का चयन कीजिए :

1. (A) और (R) दोनों सत्य हैं और (R), (A) की सही व्याख्या है
2. (A) और (R) दोनों सत्य हैं, लेकिन (R), (A) की सही व्याख्या नहीं है
3. (A) सत्य है, लेकिन (R) असत्य है
4. (A) असत्य है, लेकिन (R) सत्य है

(1) 1

(2) 2

(3) 3

(4) 4

1[Option ID=15957]

2[Option ID=15958]

3[Option ID=15959]

4[Option ID=15960]

Sl. No.91

QBID:167091

Read the given passage carefully and answer the question that follow :

The earliest systematic surveys of antiquities and sites for the purpose of reconstructing Indian historical past started during the colonial period. The interest in Indological studies led to the establishment of the Asiatic Society at Calcutta in 1784. The first Director General of the Archaeological Survey of India was interested in historical archaeology. Cunningham followed the Buddhist texts to trace Buddhist sites across the GANGA valley and Central Indian Plateau. The Ancient Monuments Preserve Act of 1904 highlighted the principles for undertaking 'legitimate restoration', the role of local museums in conservation and documentation in the form of Photographs. The conservation of sites like Khajuraho, Mandu, Takht-i-Bahi and Jamalgarhi were carried out.

निम्न पैराग्राफ को पढ़ें एवं निम्न पांच प्रश्नों का उत्तर दें।

औपनिवेशिक काल के दौरान प्राचीन भारतीय इतिहास के पुनर्निर्माण के उद्देश्य से प्रारम्भिक पुरावशेषों और पुरास्थलों के व्यवस्थित सर्वेक्षण की शुरुआत हुई। प्राच्य विद्या के अध्ययन में रुचि के कारण 1784 ई में एशियाटिक सोसायटी की स्थापना कलकत्ता में हुई। भारतीय पुरातत्व सर्वेक्षण के पहले महानिदेशक ऐतिहासिक पुरातत्व में रुचि रखते थे। कनिंघम द्वारा बौद्ध साहित्य के अनुशीलन से बौद्ध पुरास्थलों को गंगा घाटी और मध्य भारतीय पठारों में अन्वेषित किया गया। 1904 का प्राचीन स्मारक संरक्षण अधिनियम 'विधि सम्मत जीर्णोधार' करने के सिद्धान्त, स्थानी संग्रहालयों के संरक्षण और चित्रित दस्तावेजीकरण में उनकी भूमिका को रेखांकित करता है। खजुराहो, मांडु, तख्ते-बाही और जमालगढ़ी जैसे पुरास्थलों का सर्वेक्षण किया गया।

Who founded the Asiatic Society at Calcutta ?

1. James Prinsep
2. William Jones
3. Charles Wilkins
4. Leonard Woolley

(1) 1

(2) 2

(3) 3

(4) 4

किसने कलकत्ता में 'एशियाटिक सोसायटी' की स्थापना किया?

1. जेम्स प्रिंसेप
2. विलियम जोन्स
3. चार्ल्स विलकिन्स
4. लिओनार्ड वूली

(1) 1

(2) 2

(3) 3

(4) 4

1[Option ID=15961]

2[Option ID=15962]

3[Option ID=15963]

4[Option ID=15964]

SI. No.92

QBID:167092

Read the given passage carefully and answer the question that follow :

The earliest systematic surveys of antiquities and sites for the purpose of reconstructing Indian historical past started during the colonial period. The interest in Indological studies led to the establishment of the Asiatic Society at Calcutta in 1784. The first Director General of the Archaeological Survey of India was interested in historical archaeology. Cunningham followed the Buddhist texts to trace Buddhist sites across the GANGA valley and Central Indian Plateau. The Ancient Monuments Preserve Act of 1904 highlighted the principles for undertaking 'legitimate restoration', the role of local museums in conservation and documentation in the form of Photographs. The conservation of sites like Khajuraho, Mandu, Takht-i-Bahi and Jamalgarhi were carried out.

निम्न पैराग्राफ को पढ़ें एवं निम्न पांच प्रश्नों का उत्तर दें।

औपनिवेशिक काल के दौरान प्राचीन भारतीय इतिहास के पुनर्निर्माण के उद्देश्य से प्रारम्भिक पुरावशेषों और पुरास्थलों के व्यवस्थित सर्वेक्षण की शुरुआत हुई। प्राच्य विद्या के अध्ययन में रुचि के कारण 1784 ई में एशियाटिक सोसायटी की स्थापना कलकत्ता में हुई। भारतीय पुरातत्व सर्वेक्षण के पहले महानिदेशक ऐतिहासिक पुरातत्व में रुचि रखते थे। कनिंघम द्वारा बौद्ध साहित्य के अनुशीलन से बौद्ध पुरास्थलों को गंगा घाटी और मध्य भारतीय पठारों में अन्वेषित किया गया। 1904 का प्राचीन स्मारक संरक्षण अधिनियम 'विधि सम्मत जीर्णोधार' करने के सिद्धान्त, स्थानी संग्रहालयों के संरक्षण और चित्रित दस्तावेजीकरण में उनकी भूमिका को रेखांकित करता है। खजुराहो, मांडु, तख्ते-बाही और जमालगढ़ी जैसे पुरास्थलों का सर्वेक्षण किया गया।

Who was the first Director General of the ASI ?

1. Cunningham
2. Marshall
3. Burgess
4. Wheeler

(1) 1

(2) 2

(3) 3

(4) 4

भारतीय पुरातत्व सर्वेक्षण के प्रथम महानिदेशक कौन थे?

1. कनिंघम
2. मार्शल
3. बर्गस
4. व्हिलर

(1) 1

(2) 2

(3) 3

(4) 4

1[Option ID=15965]

2[Option ID=15966]

3[Option ID=15967]

4[Option ID=15968]

Sl. No.93

QBID:167093

Read the given passage carefully and answer the question that follow :

The earliest systematic surveys of antiquities and sites for the purpose of reconstructing Indian historical past started during the colonial period. The interest in Indological studies led to the establishment of the Asiatic Society at Calcutta in 1784. The first Director General of the Archaeological Survey of India was interested in historical archaeology. Cunningham followed the Buddhist texts to trace Buddhist sites across the GANGA valley and Central Indian Plateau. The Ancient Monuments Preserve Act of 1904 highlighted the principles for undertaking 'legitimate restoration', the role of local museums in conservation and documentation in the form of Photographs. The conservation of sites like Khajuraho, Mandu, Takht-i-Bahi and Jamalgarhi were carried out.

निम्न पैराग्राफ को पढ़ें एवं निम्न पांच प्रश्नों का उत्तर दें।

औपनिवेशिक काल के दौरान प्राचीन भारतीय इतिहास के पुनर्निर्माण के उद्देश्य से प्रारम्भिक पुरावशेषों और पुरास्थलों के व्यवस्थित सर्वेक्षण की शुरुआत हुई। प्राच्य विद्या के अध्ययन में रुचि के कारण 1784 ई में एशियाटिक सोसायटी की स्थापना कलकत्ता में हुई। भारतीय पुरातत्व सर्वेक्षण के पहले महानिदेशक ऐतिहासिक पुरातत्व में रुचि रखते थे। कनिंघम द्वारा बौद्ध साहित्य के अनुशीलन से बौद्ध पुरास्थलों को गंगा घाटी और मध्य भारतीय पठारों में अन्वेषित किया गया। 1904 का प्राचीन स्मारक संरक्षण अधिनियम 'विधि सम्मत जीर्णोधार' करने के सिद्धान्त, स्थानी संग्रहालयों के संरक्षण और चित्रित दस्तावेजीकरण में उनकी भूमिका को रेखांकित करता है। खजुराहो, मांडु, तख्ते-बाही और जमालगढ़ी जैसे पुरास्थलों का सर्वेक्षण किया गया।

Whose texts were used by Cunningham to trace Buddhist sites ?

1. Hieun-Tsang
2. Strabo
3. Fahien
4. Itsing

(1) 1

(2) 2

(3) 3

(4) 4

बौद्ध पुरास्थलों के अन्वेषण के लिये कनिंघम के द्वारा किसके ग्रंथ का प्रयोग किया गया ?

1. ह्वेन सांग
2. स्ट्रेबो
3. फाह्यान
4. इट्सिंग

(1) 1

(2) 2

(3) 3

(4) 4

1[Option ID=15969]

2[Option ID=15970]

3[Option ID=15971]

4[Option ID=15972]

Sl. No.94

QBID:167094

Read the given passage carefully and answer the question that follow :

The earliest systematic surveys of antiquities and sites for the purpose of reconstructing Indian historical past started during the colonial period. The interest in Indological studies led to the establishment of the Asiatic Society at Calcutta in 1784. The first Director General of the Archaeological Survey of India was interested in historical archaeology. Cunningham followed the Buddhist texts to trace Buddhist sites across the GANGA valley and Central Indian Plateau. The Ancient Monuments Preserve Act of 1904 highlighted the principles for undertaking 'legitimate restoration', the role of local museums in conservation and documentation in the form of Photographs. The conservation of sites like Khajuraho, Mandu, Takht-i-Bahi and Jamalgarhi were carried out.

निम्न पैराग्राफ को पढ़ें एवं निम्न पांच प्रश्नों का उत्तर दें।

औपनिवेशिक काल के दौरान प्राचीन भारतीय इतिहास के पुनर्निर्माण के उद्देश्य से प्रारम्भिक पुरावशेषों और पुरास्थलों के व्यवस्थित सर्वेक्षण की शुरुआत हुई। प्राच्य विद्या के अध्ययन में रुचि के कारण 1784 ई में एशियाटिक सोसायटी की स्थापना कलकत्ता में हुई। भारतीय पुरातत्व सर्वेक्षण के पहले महानिदेशक ऐतिहासिक पुरातत्व में रुचि रखते थे। कनिंघम द्वारा बौद्ध साहित्य के अनुशीलन से बौद्ध पुरास्थलों को गंगा घाटी और मध्य भारतीय पठारों में अन्वेषित किया गया। 1904 का प्राचीन स्मारक संरक्षण अधिनियम 'विधि सम्मत जीर्णोधार' करने के सिद्धान्त, स्थानी संग्रहालयों के संरक्षण और चित्रित दस्तावेजीकरण में उनकी भूमिका को रेखांकित करता है। खजुराहो, मांडु, तख्ते-बाही और जमालगढ़ी जैसे पुरास्थलों का सर्वेक्षण किया गया।

The Ancient Monument Preservation Act was introduced during the viceroyalty of :

1. Lord Lytton
2. Lord Curzon
3. Lord Mayo
4. Lord Mountbatten

(1) 1

(2) 2

(3) 3

(4) 4

प्राचीन स्मारक संरक्षण अधिनियम के लागू होने के समय वायसराय कौन था ?

1. लॉर्ड लिटन
2. लॉर्ड कर्जन
3. लॉर्ड मायो
4. लॉर्ड माउन्टबेटन

(1) 1

(2) 2

(3) 3

(4) 4

1[Option ID=15973]

2[Option ID=15974]

3[Option ID=15975]

4[Option ID=15976]

Sl. No.95

QBID:167095

Read the given passage carefully and answer the question that follow :

The earliest systematic surveys of antiquities and sites for the purpose of reconstructing Indian historical past started during the colonial period. The interest in Indological studies led to the establishment of the Asiatic Society at Calcutta in 1784. The first Director General of the Archaeological Survey of India was interested in historical archaeology. Cunningham followed the Buddhist texts to trace Buddhist sites across the GANGA valley and Central Indian Plateau. The Ancient Monuments Preserve Act of 1904 highlighted the principles for undertaking 'legitimate restoration', the role of local museums in conservation and documentation in the form of Photographs. The conservation of sites like Khajuraho, Mandu, Takht-i-Bahi and Jamalgarhi were carried out.

निम्न पैराग्राफ को पढ़ें एवं निम्न पांच प्रश्नों का उत्तर दें।

औपनिवेशिक काल के दौरान प्राचीन भारतीय इतिहास के पुनर्निर्माण के उद्देश्य से प्रारम्भिक पुरावशेषों और पुरास्थलों के व्यवस्थित सर्वेक्षण की शुरुआत हुई। प्राच्य विद्या के अध्ययन में रुचि के कारण 1784 ई में एशियाटिक सोसायटी की स्थापना कलकत्ता में हुई। भारतीय पुरातत्व सर्वेक्षण के पहले महानिदेशक ऐतिहासिक पुरातत्व में रुचि रखते थे। कनिंघम द्वारा बौद्ध साहित्य के अनुशीलन से बौद्ध पुरास्थलों को गंगा घाटी और मध्य भारतीय पठारों में अन्वेषित किया गया। 1904 का प्राचीन स्मारक संरक्षण अधिनियम 'विधि सम्मत जीर्णोधार' करने के सिद्धान्त, स्थानी संग्रहालयों के संरक्षण और चित्रित दस्तावेजीकरण में उनकी भूमिका को रेखांकित करता है। खजुराहो, मांडु, तख्ते-बाही और जमालगढ़ी जैसे पुरास्थलों का सर्वेक्षण किया गया।

Who carried out the conservation works at Khajuraho and Takht-i-Bahi ?

1. Cunningham
2. Burgess
3. Marshall
4. Wheeler

(1) 1

(2) 2

(3) 3

(4) 4

किसके द्वारा खजुराहो एवं तख्ते-ए-बाही के संरक्षण का कार्य पूर्ण किया गया ?

1. कनिंघम
2. बर्गस
3. मार्शल
4. व्हीलर

(1) 1

(2) 2

(3) 3

(4) 4

1[Option ID=15977]

2[Option ID=15978]

3[Option ID=15979]

4[Option ID=15980]

Sl. No.96

QBID:167096

Read the given passage carefully and answer the questions that follow :

1920s was a milestone in history of Indian civilization from the nationalistic point of view following the discoveries of Harappa and Mohenjodaro. R.D. Banerji, M.S. Vats, D.R. Sahani, N.G. Majumdar and Hargreaves excavated several Harappan sites. These sites provided a tangible evidence of an Indian civilization going back to the fourth-third Millennium B.C. 1930s saw development in field of prehistoric research with Burkitt and Cammiade's survey. H. de Terra and Paterson undertook scientific expedition studying geomorphological, archaeological and palaeontological survey of Kashmir potwar and Jammu regions. Todd was first to report on Upper Palaeolithic industry from Bombay province. Wheeler introduced the concepts of stratigraphy and planning in Indian archaeology and carried out excavations across India.

निम्नलिखित पैराग्राफ को पढ़िए और नीचे दिए गए पांच प्रश्नों के उत्तर दीजिए :

आर. डी. बनर्जी, एम. एस. वत्स, डी. आर. साहनी, एन. जी. मजूमदार और हरग्रिक्स द्वारा हड़प्पा और मोहनजोदड़ो की खोज के क्रम में कई हड़प्पीय स्थलों के प्रकाश में आने से राष्ट्रवादी दृष्टिकोण से भारतीय सभ्यता के इतिहास में सन् 1920 का वर्ष एक मील का पत्थर सिद्ध हुआ। इन पुरास्थलों ने चौथी तीसरी सहस्राब्दी ई. पू. में भारतीय सभ्यता हेतु मूर्त साक्ष्य प्रदान किया। बर्किट और कैमियाड के सर्वेक्षण ने वर्ष 1930 के दशक में प्रागैतिहासिक शोध के क्षेत्र में विकास देखा। एच. डी. टेरा और पितरसन कश्मीर, पोत वार और जम्मू क्षेत्र में भू-आकृति विज्ञान, पुरातात्विक और प्राणी-विज्ञान के दृष्टिकोण से वैज्ञानिक अध्ययन किया। टॉड पहले व्यक्ति थे, जिन्होंने बाम्बे प्रान्त से उच्च पुरापाषाणिक उद्योग को प्रतिवेदित किया। ह्वीलर द्वारा स्तरीकरण की अवधारणा और भारतीय पुरातत्त्व में नियोजन के क्रम में सम्पूर्ण भारत में उत्खननों की शुरुआत हुई।

Which of the following sites was discovered by N.G. Majumdar ?

1. Amri
2. Kotdiji
3. Kalibangan
4. Surkotada

- (1) 1
(2) 2
(3) 3
(4) 4

निम्नलिखित में से किस पुरास्थल की खोज एन. जी. मजूमदार ने की थी ?

1. आमरी
2. कोटदीजी
3. कालीबंगा
4. सुरकोटडा

- (1) 1
(2) 2
(3) 3
(4) 4

- 1[Option ID=15981]
2[Option ID=15982]
3[Option ID=15983]
4[Option ID=15984]

Sl. No.97
QBID:167097

Read the given passage carefully and answer the questions that follow :

1920s was a milestone in history of Indian civilization from the nationalistic point of view following the discoveries of Harappa and Mohenjodaro. R.D. Banerji, M.S. Vats, D.R. Sahani, N.G. Majumdar and Hargreaves excavated several Harappan sites. These sites provided a tangible evidence of an Indian civilization going back to the fourth-third Millennium B.C. 1930s saw development in field of prehistoric research with Burkitt and Cammiade's survey. H. de Terra and Paterson undertook scientific expedition studying geomorphological, archaeological and palaeontological survey of Kashmir potwar and Jammu regions. Todd was first to report on Upper Palaeolithic industry from Bombay province. Wheeler introduced the concepts of stratigraphy and planning in Indian archaeology and carried out excavations across India.

निम्नलिखित पैराग्राफ को पढ़िए और नीचे दिए गए पांच प्रश्नों के उत्तर दीजिए :

आर. डी. बनर्जी, एम. एस. वत्स, डी. आर. साहनी, एन. जी. मजूमदार और हरग्रिक्स द्वारा हड़प्पा और मोहनजोदड़ो की खोज के क्रम में कई हड़प्पीय स्थलों के प्रकाश में आने से राष्ट्रवादी दृष्टिकोण से भारतीय सभ्यता के इतिहास में सन् 1920 का वर्ष एक मील का पत्थर सिद्ध हुआ। इन पुरास्थलों ने चौथी तीसरी सहस्राब्दी ई. पू. में भारतीय सभ्यता हेतु मूर्त साक्ष्य प्रदान किया। बर्कट और कैमियड के सर्वेक्षण ने वर्ष 1930 के दशक में प्रागैतिहासिक शोध के क्षेत्र में विकास देखा। एच. डी. टेरा और पितरसन कश्मीर, पोत वार और जम्मू क्षेत्र में भू-आकृति विज्ञान, पुरातात्विक और प्राणी-विज्ञान के दृष्टिकोण से वैज्ञानिक अध्ययन किया। टॉड पहले व्यक्ति थे, जिन्होंने बाम्बे प्रान्त से उच्च पुरापाषाणिक उद्योग को प्रतिवेदित किया। ह्वीलर द्वारा स्तरीकरण की अवधारणा और भारतीय पुरातत्त्व में नियोजन के क्रम में सम्पूर्ण भारत में उत्खननों की शुरुआत हुई।

Who carried out archaeological exploration of North West Frontier region ?

1. Hargreaves
2. A. Stein
3. Cammiade
4. Burkitt

- (1) 1
(2) 2
(3) 3
(4) 4

उत्तरी पश्चिमी सीमान्त क्षेत्र में पुरातात्विक सर्वेक्षण किसने किया ?

1. हरग्रिक्स
2. ए. स्टेन
3. कैमियड
4. बर्कट

- (1) 1
(2) 2
(3) 3
(4) 4

1[Option ID=15985]

2[Option ID=15986]

3[Option ID=15987]

4[Option ID=15988]

Sl. No.98

QBID:167098

Read the given passage carefully and answer the questions that follow :

1920s was a milestone in history of Indian civilization from the nationalistic point of view following the discoveries of Harappa and Mohenjodaro. R.D. Banerji, M.S. Vats, D.R. Sahani, N.G. Majumdar and Hargreaves excavated several Harappan sites. These sites provided a tangible evidence of an Indian civilization going back to the fourth-third Millennium B.C. 1930s saw development in field of prehistoric research with Burkitt and Cammiade's survey. H. de Terra and Paterson undertook scientific expedition studying geomorphological, archaeological and palaeontological survey of Kashmir potwar and Jammu regions. Todd was first to report on Upper Palaeolithic industry from Bombay province. Wheeler introduced the concepts of stratigraphy and planning in Indian archaeology and carried out excavations across India.

निम्नलिखित पैराग्राफ को पढ़िए और नीचे दिए गए पांच प्रश्नों के उत्तर दीजिए :

आर. डी. बनर्जी, एम. एस. वत्स, डी. आर. साहनी, एन. जी. मजूमदार और हरग्रिक्स द्वारा हड़प्पा और मोहनजोदड़ो की खोज के क्रम में कई हड़प्पीय स्थलों के प्रकाश में आने से राष्ट्रवादी दृष्टिकोण से भारतीय सभ्यता के इतिहास में सन् 1920 का वर्ष एक मील का पत्थर सिद्ध हुआ। इन पुरास्थलों ने चौथी तीसरी सहस्राब्दी ई. पू. में भारतीय सभ्यता हेतु मूर्त साक्ष्य प्रदान किया। बर्किट और कैमियाड के सर्वेक्षण ने वर्ष 1930 के दशक में प्रागैतिहासिक शोध के क्षेत्र में विकास देखा। एच. डी. टेरा और पिटरसन कश्मीर, पोत वार और जम्मू क्षेत्र में भू-आकृति विज्ञान, पुरातात्विक और प्राणी-विज्ञान के दृष्टिकोण से वैज्ञानिक अध्ययन किया। टॉड पहले व्यक्ति थे, जिन्होंने बाम्बे प्रान्त से उच्च पुरापाषाणिक उद्योग को प्रतिवेदित किया। ह्वीलर द्वारा स्तरीकरण की अवधारणा और भारतीय पुरातत्त्व में नियोजन के क्रम में सम्पूर्ण भारत में उत्खननों की शुरुआत हुई।

Burkitt and Cammiade undertook studies in :

1. Jammu – Potwar region
2. Jammu – Kashmir region
3. Krishna region
4. Narmada region

(1) 1

(2) 2

(3) 3

(4) 4

बर्किट और कैमियाड ने अध्ययन किया –

1. जम्मू - पोतवार क्षेत्र
2. जम्मू - कश्मीर क्षेत्र
3. कृष्णा क्षेत्र
4. नर्मदा क्षेत्र

(1) 1

(2) 2

(3) 3

(4) 4

1[Option ID=15989]

2[Option ID=15990]

3[Option ID=15991]

4[Option ID=15992]

Sl. No.99

QBID:167099

Read the given passage carefully and answer the questions that follow :

1920s was a milestone in history of Indian civilization from the nationalistic point of view following the discoveries of Harappa and Mohenjodaro. R.D. Banerji, M.S. Vats, D.R. Sahani, N.G. Majumdar and Hargreaves excavated several Harappan sites. These sites provided a tangible evidence of an Indian civilization going back to the fourth-third Millennium B.C. 1930s saw development in field of prehistoric research with Burkitt and Cammide's survey. H. de Terra and Paterson undertook scientific expedition studying geomorphological, archaeological and palaeontological survey of Kashmir potwar and Jammu regions. Todd was first to report on Upper Palaeolithic industry from Bombay province. Wheeler introduced the concepts of stratigraphy and planning in Indian archaeology and carried out excavations across India.

निम्नलिखित पैराग्राफ को पढ़िए और नीचे दिए गए पांच प्रश्नों के उत्तर दीजिए :

आर. डी. बनर्जी, एम. एस. वत्स, डी. आर. साहनी, एन. जी. मजूमदार और हरग्रिक्स द्वारा हड़प्पा और मोहनजोदड़ो की खोज के क्रम में कई हड़प्पीय स्थलों के प्रकाश में आने से राष्ट्रवादी दृष्टिकोण से भारतीय सभ्यता के इतिहास में सन् 1920 का वर्ष एक मील का पत्थर सिद्ध हुआ। इन पुरास्थलों ने चौथी तीसरी सहस्राब्दी ई. पू. में भारतीय सभ्यता हेतु मूर्त साक्ष्य प्रदान किया। बर्किट और कैमियड के सर्वेक्षण ने वर्ष 1930 के दशक में प्रागैतिहासिक शोध के क्षेत्र में विकास देखा। एच. डी. टेरा और पितरसन कश्मीर, पोत वार और जम्मू क्षेत्र में भू-आकृति विज्ञान, पुरातात्विक और प्राणी-विज्ञान के दृष्टिकोण से वैज्ञानिक अध्ययन किया। टॉड पहले व्यक्ति थे, जिन्होंने बाम्बे प्रान्त से उच्च पुरापाषाणिक उद्योग को प्रतिवेदित किया। ह्वीलर द्वारा स्तरीकरण की अवधारणा और भारतीय पुरातत्त्व में नियोजन के क्रम में सम्पूर्ण भारत में उत्खननों की शुरुआत हुई।

Which of the following sites was not excavated by Wheeler ?

1. Taxila
2. Harappa
3. Brahmagiri
4. Attirampakkam

- (1) 1
- (2) 2
- (3) 3
- (4) 4

निम्नलिखित पुरास्थलों में ह्वीलर ने किसका उत्खनन नहीं किया था ?

1. तक्षशिला
2. हड़प्पा
3. ब्रह्मगिरी
4. अतिरमपक्कम

- (1) 1
- (2) 2
- (3) 3
- (4) 4

- 1[Option ID=15993]
2[Option ID=15994]
3[Option ID=15995]
4[Option ID=15996]

Sl. No.100
QBID:167100

Read the given passage carefully and answer the questions that follow :

1920s was a milestone in history of Indian civilization from the nationalistic point of view following the discoveries of Harappa and Mohenjodaro. R.D. Banerji, M.S. Vats, D.R. Sahani, N.G. Majumdar and Hargreaves excavated several Harappan sites. These sites provided a tangible evidence of an Indian civilization going back to the fourth-third Millennium B.C. 1930s saw development in field of prehistoric research with Burkitt and Cammide's survey. H. de Terra and Paterson undertook scientific expedition studying geomorphological, archaeological and palaeontological survey of Kashmir potwar and Jammu regions. Todd was first to report on Upper Palaeolithic industry from Bombay province. Wheeler introduced the concepts of stratigraphy and planning in Indian archaeology and carried out excavations across India.

निम्नलिखित पैराग्राफ को पढ़िए और नीचे दिए गए पांच प्रश्नों के उत्तर दीजिए :

आर. डी. बनर्जी, एम. एस. वत्स, डी. आर. साहनी, एन. जी. मजूमदार और हरग्रिक्स द्वारा हड़प्पा और मोहनजोदड़ो की खोज के क्रम में कई हड़प्पीय स्थलों के प्रकाश में आने से राष्ट्रवादी दृष्टिकोण से भारतीय सभ्यता के इतिहास में सन् 1920 का वर्ष एक मील का पत्थर सिद्ध हुआ। इन पुरास्थलों ने चौथी तीसरी सहस्राब्दी ई. पू. में भारतीय सभ्यता हेतु मूर्त साक्ष्य प्रदान किया। बर्किट और कैमियड के सर्वेक्षण ने वर्ष 1930 के दशक में प्रागैतिहासिक शोध के क्षेत्र में विकास देखा। एच. डी. टेरा और पितरसन कश्मीर, पोत वार और जम्मू क्षेत्र में भू-आकृति विज्ञान, पुरातात्विक और प्राणी-विज्ञान के दृष्टिकोण से वैज्ञानिक अध्ययन किया। टॉड पहले व्यक्ति थे, जिन्होंने बाम्बे प्रान्त से उच्च पुरापाषाणिक उद्योग को प्रतिवेदित किया। ह्वीलर द्वारा स्तरीकरण की अवधारणा और भारतीय पुरातत्त्व में नियोजन के क्रम में सम्पूर्ण भारत में उत्खननों की शुरुआत हुई।

The first exploration report of Bombay was published by :

1. J. Todd
2. J. Burgess
3. V.A. Smith
4. J. Fergusson

- (1) 1
- (2) 2
- (3) 3
- (4) 4

'बाम्बे' का प्रथम सर्वेक्षण प्रतिवेदन किसके द्वारा प्रकाशित किया गया ?

1. जे. टाड
2. जे. बर्गस
3. वी. ए. स्मिथ
4. जे. फर्गुसन

- (1) 1
- (2) 2
- (3) 3
- (4) 4

- 1[Option ID=15997]
2[Option ID=15998]
3[Option ID=15999]
4[Option ID=16000]

Sl. No.101
QBID:7201001

The following table shows population of five villages A-E and percentage distribution of males (M), females (F) and transgenders (T) among them. Based on the data in the table, answer the questions :

Village - wise Distribution of Population

Village	Total Population	Distribution (%)		
		M	F	T
A	12,000	46%	(-)	22%
B	16,000	(-)	33%	27%
C	18,000	32%	36%	(-)
D	24,000	36%	(-)	20%
E	25,000	(-)	30%	25%

Note : In table (-) denotes missing value (%), which is to be computed whenever required.

निम्नलिखित तालिका A-E पाँच गाँवों की आबादी और उनमें पुरुष (M), महिला (F) और ट्रांसजेंडर के प्रतिशत वितरण को दर्शाती है। इस तालिका में दिए गए आंकड़ों के आधार पर प्रश्न का उत्तर दीजिए:

आबादी का ग्रामवार वितरण

गाँव	कुल आबादी	वितरण प्रतिशत (%)		
		M	F	T
A	12,000	46%	(-)	22%
B	16,000	(-)	33%	27%
C	18,000	32%	36%	(-)
D	24,000	36%	(-)	20%
E	25,000	(-)	30%	25%

नोट: तालिका में रिक्त मान को (-) द्वारा दर्शाया गया है जिसका परिकलन आवश्यकतानुसार किया जाना है।

Transgender population in Village - A is _____% of the female population in Village - B.

1. 75
2. 50
3. 33.33
4. 66.66

- (1) 1
- (2) 2
- (3) 3
- (4) 4

गाँव A में ट्रांसजेंडर की आबादी गाँव B में महिलाओं की आबादी का _____% है।

1. 75
2. 50
3. 33.33
4. 66.66

- (1) 1
- (2) 2
- (3) 3
- (4) 4

- 1[Option ID=16401]
2[Option ID=16402]
3[Option ID=16403]
4[Option ID=16404]

The following table shows population of five villages A-E and percentage distribution of males (M), females (F) and transgenders (T) among them. Based on the data in the table, answer the questions :

Village - wise Distribution of Population

Village	Total Population	Distribution (%)		
		M	F	T
A	12,000	46%	(-)	22%
B	16,000	(-)	33%	27%
C	18,000	32%	36%	(-)
D	24,000	36%	(-)	20%
E	25,000	(-)	30%	25%

Note : In table (-) denotes missing value (%), which is to be computed whenever required.

निम्नलिखित तालिका A-E पाँच गाँवों की आबादी और उनमें पुरुष (M), महिला (F) और ट्रांसजेंडर के प्रतिशत वितरण को दर्शाती है। इस तालिका में दिए गए आंकड़ों के आधार पर प्रश्न का उत्तर दीजिए:

आबादी का ग्रामवार वितरण

गाँव	कुल आबादी	वितरण प्रतिशत (%)		
		M	F	T
A	12,000	46%	(-)	22%
B	16,000	(-)	33%	27%
C	18,000	32%	36%	(-)
D	24,000	36%	(-)	20%
E	25,000	(-)	30%	25%

नोट: तालिका में रिक्त मान को (-) द्वारा दर्शाया गया है जिसका परिकलन आवश्यकतानुसार किया जाना है।

Find the difference between male population in Village - E and female population in Village - D.

1. 890
2. 830
3. 690
4. 610

- (1) 1
- (2) 2
- (3) 3
- (4) 4

गाँव E में पुरुषों की आबादी और गाँव D में महिलाओं की आबादी के बीच का अन्तर कितना है?

1. 890
2. 830
3. 690
4. 610

- (1) 1
- (2) 2
- (3) 3
- (4) 4

- 1[Option ID=16405]
2[Option ID=16406]
3[Option ID=16407]
4[Option ID=16408]

The following table shows population of five villages A-E and percentage distribution of males (M), females (F) and transgenders (T) among them. Based on the data in the table, answer the questions :

Village - wise Distribution of Population

Village	Total Population	Distribution (%)		
		M	F	T
A	12,000	46%	(-)	22%
B	16,000	(-)	33%	27%
C	18,000	32%	36%	(-)
D	24,000	36%	(-)	20%
E	25,000	(-)	30%	25%

Note : In table (-) denotes missing value (%), which is to be computed whenever required.

निम्नलिखित तालिका A-E पाँच गाँवों की आबादी और उनमें पुरुष (M), महिला (F) और ट्रांसजेंडर के प्रतिशत वितरण को दर्शाती है। इस तालिका में दिए गए आंकड़ों के आधार पर प्रश्न का उत्तर दीजिए:

आबादी का ग्रामवार वितरण

गाँव	कुल आबादी	वितरण प्रतिशत (%)		
		M	F	T
A	12,000	46%	(-)	22%
B	16,000	(-)	33%	27%
C	18,000	32%	36%	(-)
D	24,000	36%	(-)	20%
E	25,000	(-)	30%	25%

नोट: तालिका में रिक्त मान को (-) द्वारा दर्शाया गया है जिसका परिकलन आवश्यकतानुसार किया जाना है।

Find the ratio of population of transgenders in Village - C to population of males in Village - B.

1. 9:10
2. 7:8
3. 3:4
4. 27:32

- (1) 1
(2) 2
(3) 3
(4) 4

गाँव C में ट्रांसजेंडर और गाँव B में पुरुषों की आबादी का अनुपात ज्ञात कीजिये।

1. 9 : 10
2. 7 : 8
3. 3 : 4
4. 27 : 32

- (1) 1
(2) 2
(3) 3
(4) 4

- 1[Option ID=16409]
2[Option ID=16410]
3[Option ID=16411]
4[Option ID=16412]

The following table shows population of five villages A-E and percentage distribution of males (M), females (F) and transgenders (T) among them. Based on the data in the table, answer the questions :

Village - wise Distribution of Population

Village	Total Population	Distribution (%)		
		M	F	T
A	12,000	46%	(-)	22%
B	16,000	(-)	33%	27%
C	18,000	32%	36%	(-)
D	24,000	36%	(-)	20%
E	25,000	(-)	30%	25%

Note : In table (-) denotes missing value (%), which is to be computed whenever required.

निम्नलिखित तालिका A-E पाँच गाँवों की आबादी और उनमें पुरुष (M), महिला (F) और ट्रांसजेंडर के प्रतिशत वितरण को दर्शाती है। इस तालिका में दिए गए आंकड़ों के आधार पर प्रश्न का उत्तर दीजिए:

आबादी का ग्रामवार वितरण

गाँव	कुल आबादी	वितरण प्रतिशत (%)		
		M	F	T
A	12,000	46%	(-)	22%
B	16,000	(-)	33%	27%
C	18,000	32%	36%	(-)
D	24,000	36%	(-)	20%
E	25,000	(-)	30%	25%

नोट: तालिका में रिक्त मान को (-) द्वारा दर्शाया गया है जिसका परिकलन आवश्यकतानुसार किया जाना है।

What is the difference between number of males and females in Village - A ?

1. 480
2. 1920
3. 1120
4. 1680

- (1) 1
- (2) 2
- (3) 3
- (4) 4

गाँव A में पुरुषों और महिलाओं की संख्या के बीच का अन्तर कितना है?

1. 480
2. 1920
3. 1120
4. 1680

- (1) 1
- (2) 2
- (3) 3
- (4) 4

- 1[Option ID=16413]
 2[Option ID=16414]
 3[Option ID=16415]
 4[Option ID=16416]

The following table shows population of five villages A-E and percentage distribution of males (M), females (F) and transgenders (T) among them. Based on the data in the table, answer the questions :

Village - wise Distribution of Population

Village	Total Population	Distribution (%)		
		M	F	T
A	12,000	46%	(-)	22%
B	16,000	(-)	33%	27%
C	18,000	32%	36%	(-)
D	24,000	36%	(-)	20%
E	25,000	(-)	30%	25%

Note : In table (-) denotes missing value (%), which is to be computed whenever required.

निम्नलिखित तालिका A-E पाँच गाँवों की आबादी और उनमें पुरुष (M), महिला (F) और ट्रांसजेंडर के प्रतिशत वितरण को दर्शाती है। इस तालिका में दिए गए आंकड़ों के आधार पर प्रश्न का उत्तर दीजिए:

आबादी का ग्रामवार वितरण

गाँव	कुल आबादी	वितरण प्रतिशत (%)		
		M	F	T
A	12,000	46%	(-)	22%
B	16,000	(-)	33%	27%
C	18,000	32%	36%	(-)
D	24,000	36%	(-)	20%
E	25,000	(-)	30%	25%

नोट: तालिका में रिक्त मान को (-) द्वारा दर्शाया गया है जिसका परिकलन आवश्यकतानुसार किया जाना है।

Total number of females in Villages B and D together is _____ % more than the number of males in Village - C.

1. 275
2. 225
3. 125
4. 175

- (1) 1
- (2) 2
- (3) 3
- (4) 4

गाँव B और D दोनों में एक साथ महिलाओं की कुल संख्या गाँव C में पुरुषों की संख्या से कितना प्रतिशत अधिक है?

1. 275
2. 225
3. 125
4. 175

- (1) 1
- (2) 2
- (3) 3
- (4) 4

1[Option ID=16417]

2[Option ID=16418]

3[Option ID=16419]

4[Option ID=16420]

In ADDIE model of instructional design framework, the letters I and E in the acronym ADDIE pertain to

1. Identification and Evaluation
2. Implementation and Evaluation
3. Identification and Examination
4. Implementation and Examination

(1) 1

(2) 2

(3) 3

(4) 4

अनुदेशी डिजाइन रूपरेखा के ADDIE (एडीडीआईई) मॉडल में परिवर्णी शब्द ADDIE के अक्षर I और E किससे संबंधित हैं?

1. चिह्नीकरण और मूल्यांकन
2. कार्यान्वयन और मूल्यांकन
3. चिह्नीकरण और परीक्षा
4. कार्यान्वयन और परीक्षा

(1) 1

(2) 2

(3) 3

(4) 4

1[Option ID=16421]

2[Option ID=16422]

3[Option ID=16423]

4[Option ID=16424]

Sl. No.107

QBID:7201007

Students participating in online classes are taught by an instructor. Following the lesson, the instructor intends to incorporate reading materials (e-content, Power point presentation, etc.) that can be viewed by the students. What option would instructor choose ?

1. Content creation tools
2. Networking tools
3. Learning Management System (LMS)
4. Links of the websites

(1) 1

(2) 2

(3) 3

(4) 4

आनलाइन कक्षाओं में भाग ले रहे विद्यार्थियों को एक अनुदेशक पढ़ाता है। पाठ के बाद अनुदेशक पठन-सामग्री (e-विषय सामग्री, पावर प्वाइंट प्रस्तुति आदि) इस उद्देश्य से संलग्न करता है कि विद्यार्थी इनके अवलोकन कर सकें। इसके लिए अनुदेशक कौन-से विकल्प का चयन करेगा?

1. विषयवस्तु निर्माण उपकरण
2. नेटवर्किंग उपकरण
3. अधिगम प्रबंधन प्रणाली (एलएमएल)
4. वेबसाइट्स के लिंक

(1) 1

(2) 2

(3) 3

(4) 4

1[Option ID=16425]

2[Option ID=16426]

3[Option ID=16427]
4[Option ID=16428]

SI. No.108
QBID:7201008

Which of the following does not come under primary laws of learning ?

1. Law of effect
2. Law of Readiness
3. Law of Multiple response
4. Law of exercise

- (1) 1
(2) 2
(3) 3
(4) 4

निम्नलिखित में कौन-सा नियम अधिगम के प्राथमिक नियमों के अंतर्गत नहीं आता है?

1. प्रभाव का नियम
2. तत्परता का नियम
3. बहु प्रत्युत्तर का नियम
4. अभ्यास का नियम

- (1) 1
(2) 2
(3) 3
(4) 4

1[Option ID=16429]
2[Option ID=16430]
3[Option ID=16431]
4[Option ID=16432]

SI. No.109
QBID:7201009

Given below are two statements :

Statement I : Project method is best associated with the Philosophy of John Dewey.

Statement II : The strength of Project method lies in social participation.

In the light of the above statements, choose the most appropriate answer from the options given below :

1. Both Statement I and Statement II are correct.
2. Both Statement I and Statement II are incorrect.
3. Statement I is correct but Statement II is incorrect.
4. Statement I is incorrect but statement II is correct.

- (1) 1
(2) 2
(3) 3
(4) 4

नीचे दो कथन दिए गए हैं:

कथन I : परियोजना विधि जॉन डेवी के दर्शन से सर्वाधिक रूप से संबंधित है।

कथन II : परियोजना विधि की प्रबलता सामाजिक प्रतिभागिता में निहित है।

उपरोक्त कथन के आलोक में, नीचे दिए गए विकल्पों में से सबसे उपयुक्त उत्तर का चयन कीजिए:

1. कथन I और II दोनों सही हैं ।
2. कथन I और II दोनों गलत हैं ।
3. कथन I सही है, लेकिन कथन II गलत है ।
4. कथन I गलत है, लेकिन कथन II सही है ।

(1) 1

(2) 2

(3) 3

(4) 4

1[Option ID=16433]

2[Option ID=16434]

3[Option ID=16435]

4[Option ID=16436]

Sl. No.110

QBID:7201010

For Undergraduate educational programmes, courses on SWAYAM Platform have been developed by :

- A. NPTEL
- B. IIM Ahmedabad
- C. AICTE
- D. CEC
- E. IIM Bangalore
- F. UGC

Choose the most appropriate answer from the options given below :

1. A, C, D and E Only
2. B, D, and F Only
3. A, D, E and F Only
4. C, E and F Only

(1) 1

(2) 2

(3) 3

(4) 4

पूर्व स्नातक शैक्षिक कार्यक्रमों के लिए स्वयं (SWAYAM) पर शैक्षणिक प्रोग्राम और पाठ्यक्रम किसके द्वारा विकसित किये गये हैं।

- A. एनपीटीईएल
- B. आईआईएम, अहमदाबाद
- C. एआईसीटीई
- D. सीईसी
- E. आईआईएम, बैंगलोर
- F. वि.अ.आ.

नीचे दिए गए विकल्पों में से सबसे उपयुक्त उत्तर का चयन कीजिए:

- 1. केवल A, C, D और E
- 2. केवल B, D और F
- 3. केवल A, D, E और F
- 4. केवल C, E और F

- (1) 1
- (2) 2
- (3) 3
- (4) 4

- 1[Option ID=16437]
- 2[Option ID=16438]
- 3[Option ID=16439]
- 4[Option ID=16440]

Sl. No.111
QBID:7201011

While reading research paper or research reports, often one comes across the abbreviation 'viz', which means

- 1. for example
- 2. namely
- 3. against
- 4. refer to

- (1) 1
- (2) 2
- (3) 3
- (4) 4

शोध आलेख या शोध प्रतिवेदन (रिपोर्ट) पढ़ते समय प्रायः संक्षिप्ताक्षर 'viz' आता है, इसका अर्थ है:

- 1. उदाहरणार्थ
- 2. नामतः/अर्थात्
- 3. के विरुद्ध
- 4. के संदर्भ में

- (1) 1
- (2) 2
- (3) 3
- (4) 4

- 1[Option ID=16441]
- 2[Option ID=16442]
- 3[Option ID=16443]
- 4[Option ID=16444]

Sl. No.112
QBID:7201012

A student submits Ph.D. thesis in a university. Upon scrutiny, it is found that his/her thesis has a similarity content of 35%. This would fall in which of the following categories of plagiarism according to UGC regulations ?

1. Level 0
2. Level 1
3. Level 2
4. Level 3

(1) 1

(2) 2

(3) 3

(4) 4

एक विद्यार्थी एक विश्वविद्यालय में अपना पी.एच.डी. शोध प्रबंध जमा करता है। उसके शोध प्रबंध की संवीक्षा करने पर उसकी विषयवस्तु के 35% भाग में समरूपता पाई जाती है। विश्वविद्यालय अनुदान आयोग के विनियमों के अनुसार निम्नलिखित में से यह साहित्य चोरी के किस स्तर में आता है?

1. स्तर 0
2. स्तर 1
3. स्तर 2
4. स्तर 3

(1) 1

(2) 2

(3) 3

(4) 4

1[Option ID=16445]

2[Option ID=16446]

3[Option ID=16447]

4[Option ID=16448]

SI. No.113

QBID:7201013

The part of research paper that gives an overview of the field to be investigated and the investigator's hypotheses about the research outcome, is called

1. Abstract
2. Introduction
3. Results
4. Method

(1) 1

(2) 2

(3) 3

(4) 4

शोध आलेख का वह भाग जिसमें शोध के विषय क्षेत्र का विहंगावलोकन और शोध के निष्कर्ष के बारे में अन्वेषक की परिकल्पनाओं का उल्लेख किया जाता है, उसे कहा जाता है:

1. सारांश
2. प्रस्तावना
3. परिणाम
4. विधि

(1) 1

(2) 2

(3) 3

(4) 4

1[Option ID=16449]

2[Option ID=16450]
3[Option ID=16451]
4[Option ID=16452]

Sl. No.114
QBID:7201014

A study in which a group of participants is observed and measured over a period of time, refers to

1. Longitudinal Research
2. Archival Research
3. Cross-sectional Research
4. Correlational Research

- (1) 1
(2) 2
(3) 3
(4) 4

एक अध्ययन जिसमें प्रतिभागियों के एक समूह का एक काल अवधि में प्रेक्षण और मापन किया जाता है, उसे कहा जाता है:

1. अनुदैर्घ्य शोध
2. पुरालेख शोध
3. अनुप्रस्थ शोध
4. सह संबंध शोध

- (1) 1
(2) 2
(3) 3
(4) 4

1[Option ID=16453]
2[Option ID=16454]
3[Option ID=16455]
4[Option ID=16456]

Sl. No.115
QBID:7201015

Given below are two statements :

Statement I : In case of qualitative phenomena, we have data on the basis of presence or absence of an attribute or more than one attribute.

Statement II : With such data as mentioned in Statement I above the sampling distribution may take the form of a Binomial probability distribution.

In the light of the above statements, choose the correct answer from the options given below :

1. Both Statement I and Statement II are true.
2. Both Statement I and Statement II are false.
3. Statement I is true but Statement II is false.
4. Statement I is false but Statement II is true.

- (1) 1
(2) 2
(3) 3
(4) 4

नीचे दो कथन दिए गए हैं:

कथन I : गुणात्मक परिघटना के दृष्टांत/केस में, हम एक या एक से अधिक विशेषताओं/लक्षणों की उपस्थिति अथवा अनुपस्थिति के आधार पर आंकड़ा संग्रहित करते हैं।

कथन II : उपर्युक्त कथन-I में उल्लिखित आंकड़ों का प्रतिदर्श वितरण द्विपदीय प्रायिकता वितरण के रूप में हो सकता है।

उपरोक्त कथन के आलोक में नीचे दिए गए विकल्पों में से सही उत्तर का चयन कीजिए:

1. कथन I और II दोनों सत्य हैं।
2. कथन I और II दोनों असत्य हैं।
3. कथन I सत्य है, लेकिन कथन II असत्य है।
4. कथन I असत्य है, लेकिन कथन II सत्य है।

(1) 1

(2) 2

(3) 3

(4) 4

1[Option ID=16457]

2[Option ID=16458]

3[Option ID=16459]

4[Option ID=16460]

Sl. No.116

QBID:7201016

Every society, because of communication, reflects a sense of _____ to most extent.

1. Commonality
2. Doubt
3. Indifference
4. Animus

(1) 1

(2) 2

(3) 3

(4) 4

प्रत्येक समाज संप्रेषण के कारण बहुत हद तक _____ की भावना को प्रतिबिम्बित करता है।

1. सामान्यता
2. संदेह
3. तटस्थता
4. विद्वेष

(1) 1

(2) 2

(3) 3

(4) 4

1[Option ID=16461]

2[Option ID=16462]

3[Option ID=16463]

4[Option ID=16464]

Sl. No.117

QBID:7201017

On the negative side, communicative language is used to :

- A. Extend democratic debates
- B. Suppress truth
- C. Divide the society
- D. Permeate ethnocentrism
- E. Support global peace efforts

Choose the correct answer from the options given below :

- 1. A, B, C Only
- 2. B, C, D Only
- 3. C, D, E Only
- 4. A, C, E Only

(1) 1

(2) 2

(3) 3

(4) 4

नकारात्मक पक्ष की बात करें तो संप्रेषणीय भाषा का प्रयोग किया जाता है:

- A. लोकतांत्रिक वाद-विवाद को बढ़ाने के लिए
- B. सत्य का दमन करने के लिए
- C. समाज को बांटने के लिए
- D. प्रजाति-केन्द्रीयता को पारगमित करने के लिए
- E. वैश्विक शांति प्रयासों के समर्थन के लिये

नीचे दिए गए विकल्पों में से सही उत्तर चुनिए:

- 1. केवल A, B, C
- 2. केवल B, C, D
- 3. केवल C, D, E
- 4. केवल A, C, E

(1) 1

(2) 2

(3) 3

(4) 4

1[Option ID=16465]

2[Option ID=16466]

3[Option ID=16467]

4[Option ID=16468]

Sl. No.118

QBID:7201018

Given below are two statements :

Statement I : Communication, culture and power are inter-related.

Statement II : Socio-cultural values when communicated do not have any weightage of power.

In the light of the above statements, choose the correct answer from the options given below :

- 1. Both Statement I and Statement II are true.
- 2. Both Statement I and Statement II are false.
- 3. Statement I is true but Statement II is false.
- 4. Statement I is false but Statement II is true.

(1) 1

(2) 2

(3) 3

(4) 4

नीचे दो कथन दिए गए हैं:

कथन I : संप्रेषण, संस्कृति और शक्ति अन्तः संबंधित होते हैं।

कथन II : संप्रेषण के पश्चात सामाजिक-सांस्कृतिक मूल्यों में शक्ति का कोई वजन नहीं रह जाता है।

उपरोक्त कथन के आलोक में, नीचे दिए गए विकल्पों में से सही उत्तर का चयन कीजिए:

1. कथन I और II दोनों सत्य हैं ।
2. कथन I और II दोनों असत्य हैं ।
3. कथन I सत्य है, लेकिन कथन II असत्य है ।
4. कथन I असत्य है, लेकिन कथन II सत्य है ।

(1) 1

(2) 2

(3) 3

(4) 4

1[Option ID=16469]

2[Option ID=16470]

3[Option ID=16471]

4[Option ID=16472]

Sl. No.119

QBID:7201019

Modern communication technology has converted words into

- A. A tool of equality
- B. Time
- C. A tool of unwarranted peace
- D. Money
- E. Power

Choose the correct answer from the options given below :

1. A, B, C Only
2. B, C, D Only
3. C, D, E Only
4. B, D, E Only

(1) 1

(2) 2

(3) 3

(4) 4

आधुनिक संचार प्रौद्योगिकी ने शब्दों को संपरिवर्तित कर दिया है:

- A. समानता के साधन के रूप में
- B. समय में
- C. अनापेक्षित शांति की युक्ति के रूप में
- D. धन के रूप में
- E. शक्ति के रूप में

नीचे दिए गए विकल्पों में से सही उत्तर का चयन कीजिए:

- 1. केवल A, B, C
- 2. केवल B, C, D
- 3. केवल C, D, E
- 4. केवल B, D, E

(1) 1

(2) 2

(3) 3

(4) 4

1[Option ID=16473]

2[Option ID=16474]

3[Option ID=16475]

4[Option ID=16476]

SI. No.120

QBID:7201020

Given below are two statements :

Statement I : The semantic code in communication deals with character and characterisation.

Statement II : Roland Barthes describes this code as the voice of the person.

In the light of the above statements, choose the correct answer from the options given below :

- 1. Both Statement I and Statement II are true.
- 2. Both Statement I and Statement II are false.
- 3. Statement I is true but Statement II is false.
- 4. Statement I is false but Statement II is true.

(1) 1

(2) 2

(3) 3

(4) 4

नीचे दो कथन दिए गए हैं:

कथन I : संप्रेषण में अर्थसंकेत का कूट पात्र और चित्रण से संबंधित होता है।

कथन II : रोला बार्थ ने इस कूट को व्यक्ति की आवाज की संज्ञा दी है।

उपरोक्त कथन के आलोक में, नीचे दिए गए विकल्पों में से सही उत्तर का चयन कीजिए:

- 1. कथन I और II दोनों सत्य हैं ।
- 2. कथन I और II दोनों असत्य हैं ।
- 3. कथन I सत्य है, लेकिन कथन II असत्य है ।
- 4. कथन I असत्य है, लेकिन कथन II सत्य है ।

(1) 1

(2) 2

(3) 3

(4) 4

1[Option ID=16477]

2[Option ID=16478]

3[Option ID=16479]

4[Option ID=16480]

Sl. No.121

QBID:7201021

A shopkeeper purchases a packet of 60 pens at Rs. 10 per pen. He sells a part of the packet at a profit of 40%. On the remaining part, he bears a loss of 20%. If his overall profit on the whole packet is 20% of , find the number of pens he sold at profit.

1. 40

2. 30

3. 20

4. 35

(1) 1

(2) 2

(3) 3

(4) 4

एक दुकानदार 10 रुपए प्रति कलम की दर से 60 कलम के एक पैकेट को खरीदता है। वह पैकेट के एक भाग को 40% के लाभ पर बेचता है। शेष भाग पर उसे 20% की हानि होती है। यदि उसे सम्पूर्ण पैकेट पर कुल लाभ 20% होता है, तब कलम की वह संख्या ज्ञात कीजिए जिसे उसने लाभ पर बेचा है।

1. 40

2. 30

3. 20

4. 35

(1) 1

(2) 2

(3) 3

(4) 4

1[Option ID=16481]

2[Option ID=16482]

3[Option ID=16483]

4[Option ID=16484]

Sl. No.122

QBID:7201022

A batsman scored 98 runs in his 17th match . As a result his average runs per match increased by 2.5. What was his average before playing 17th match ?

1. 55.5

2. 60.5

3. 58.5

4. 61.5

(1) 1

(2) 2

(3) 3

(4) 4

एक बल्लेबाज (क्रिकेट खिलाड़ी) 17वें मैच में 98 रन बनाता है। इसके परिणाम स्वरूप उसके प्रतिमैच औसत रन में 2.5 रन की वृद्धि हो जाती है। तो 17वें मैच खेलने के पहले उसका औसत कितना था?

1. 55.5
2. 60.5
3. 58.5
4. 61.5

- (1) 1
- (2) 2
- (3) 3
- (4) 4

1[Option ID=16485]

2[Option ID=16486]

3[Option ID=16487]

4[Option ID=16488]

SI. No.123

QBID:7201023

Water level of a river increases and decreases by 10% on alternate days in the rainy season. What shall be the increase or decrease in the water level at the end of second day, as compared to the initial water level ?

1. 1% of increase
2. 1% decrease
3. 1.5% increase
4. 1.5% decrease

- (1) 1
- (2) 2
- (3) 3
- (4) 4

वर्षाऋतु के समय एक नदी के जलस्तर में एक दिन 10% की वृद्धि होती है एवं दूसरे दिन 10% की कमी होती है। आरंभिक जलस्तर की तुलना में दूसरे दिन के अंत में जलस्तर में कितने प्रतिशत की वृद्धि अथवा कमी हो जाएगी?

1. 1% की वृद्धि
2. 1% की कमी
3. 1.5% की वृद्धि
4. 1.5% की कमी

- (1) 1
- (2) 2
- (3) 3
- (4) 4

1[Option ID=16489]

2[Option ID=16490]

3[Option ID=16491]

4[Option ID=16492]

SI. No.124

QBID:7201024

There are two numbers such that the sum of twice the first number and thrice the 2nd number is 39. Also the sum of thrice the first number and twice the 2nd number is 36. The largest of the two numbers is ?

1. 21
2. 15
3. 9
4. 6

- (1) 1
- (2) 2

(3) 3

(4) 4

दो संख्याएं इस प्रकार दी गयी है जिसमें प्रथम संख्या के दोगुने और दूसरी संख्या के तिगुने का योग 39 है तथा पहली संख्या के तिगुने और दूसरी संख्या के दोगुने का योग 36 है। दोनों संख्याओं में से बड़ी संख्या कौन-सी है?

1. 21

2. 15

3. 9

4. 6

(1) 1

(2) 2

(3) 3

(4) 4

1[Option ID=16493]

2[Option ID=16494]

3[Option ID=16495]

4[Option ID=16496]

Sl. No.125

QBID:7201025

If SEARCH is coded as 214673 and CHART is coded as 73465, then what will be the code for TEACHER ?

1. 5147316

2. 5174136

3. 5143716

4. 5413716

(1) 1

(2) 2

(3) 3

(4) 4

यदि SEARCH को 214673 के रूप में कूटबद्ध किया गया है और CHART को 73465 के रूप में कूटबद्ध किया गया है। तब TEACHER को किस तरह से कूटबद्ध किया जाएगा?

1. 5147316

2. 5174136

3. 5143716

4. 5413716

(1) 1

(2) 2

(3) 3

(4) 4

1[Option ID=16497]

2[Option ID=16498]

3[Option ID=16499]

4[Option ID=16500]

Sl. No.126

QBID:7201026

"Today on average we can look forward to a longer life span than the generation before us. It is obvious that it has been possible only and only because of the millions of dedicated doctors who have ensured our good health". Identify the fallacy committee in the above argument from the following options ?

1. Hasty Generation

2. False Cause

3. Slippery slope

4. Appeal to unqualified authority

(1) 1

(2) 2

(3) 3

(4) 4

सामान्यतः आज हम अपने पूर्व पीढ़ी की अपेक्षा लंबी जीवन-अवधि की प्रत्याशा कर सकते हैं। यह स्पष्ट है कि ऐसा केवल लाखों समर्पित डाक्टरों के कारण संभव हुआ है। जिन्होंने हमारे अच्छे स्वास्थ्य को सुनिश्चित किया है। उपर्युक्त तर्क में निम्नलिखित विकल्पों से तर्क दोष की पहचान कीजिए।

1. अविचारित सामान्यीकरण
2. मिथ्याकरण
3. फिसलनयुक्त प्रवणता
4. अयोग्य प्राधिकार आग्रह

(1) 1

(2) 2

(3) 3

(4) 4

1[Option ID=16501]

2[Option ID=16502]

3[Option ID=16503]

4[Option ID=16504]

Sl. No.127

QBID:7201027

If the statement 'All cricketers are rich persons' is given as true which of the following statements can be inferred to be false ?

- A. No cricketers are rich persons.
- B. Some cricketers are rich persons.
- C. Some cricketers are not rich persons.
- D. Some rich persons are cricketers.

Choose the correct answer from the options given below :

1. B and C Only
2. A and C Only
3. B and D Only
4. A, B and C Only

(1) 1

(2) 2

(3) 3

(4) 4

यदि कथन "सभी क्रिकेटर धनी व्यक्ति हैं।" सही है तो निम्नलिखित में से कौन-सा कथन गलत अनुमानित किया जा सकता है।

- A. कोई क्रिकेटर धनी व्यक्ति नहीं हैं।
- B. कुछ क्रिकेटर धनी व्यक्ति हैं।
- C. कुछ क्रिकेटर धनी व्यक्ति नहीं हैं।
- D. कुछ धनी व्यक्ति क्रिकेटर हैं।

नीचे दिए गए विकल्पों में से सही उत्तर का चयन कीजिए:

1. केवल B और C
2. केवल A और C
3. केवल B और D
4. केवल A, B और C

- (1) 1
- (2) 2
- (3) 3
- (4) 4

1[Option ID=16505]
2[Option ID=16506]
3[Option ID=16507]
4[Option ID=16508]

Sl. No.128
QBID:7201028

Which of the following propositions are so related that they cannot both be true, although they both may be false ?

- A. All football players are rich persons.
- B. No football players are rich persons.
- C. Some football players are rich persons.
- D. Some football players are not rich persons.

Choose the correct answer from the options given below :

1. A and B Only
2. A and D Only
3. C and D Only
4. B and C Only

- (1) 1
- (2) 2
- (3) 3
- (4) 4

निम्नलिखित में कौन-सी प्रतिज्ञप्तियाँ इस प्रकार से सह संबंधित हैं कि दोनों सही नहीं हो सकते हैं, यद्यपि वे दोनों गलत हो सकते हैं।

- A. सभी फुटबाल खिलाड़ी धनी व्यक्ति हैं।
- B. कोई फुटबाल खिलाड़ी धनी व्यक्ति नहीं हैं।
- C. कुछ फुटबाल खिलाड़ी धनी व्यक्ति हैं।
- D. कुछ फुटबाल खिलाड़ी धनी व्यक्ति नहीं हैं।

नीचे दिए गए विकल्पों में से सही उत्तर का चयन कीजिए:

1. केवल A और B
2. केवल A और D
3. केवल C और D
4. केवल B और C

- (1) 1
- (2) 2
- (3) 3
- (4) 4

1[Option ID=16509]
2[Option ID=16510]
3[Option ID=16511]
4[Option ID=16512]

Sl. No.129
QBID:7201029

Which of the following propositions are logically equivalent ?

- A. No dogs are aggressive animals.
- B. No aggressive animals are dogs.
- C. All dogs are non-aggressive.
- D. Some dogs are not aggressive animals.

Choose the correct answer from the options given below :

- 1. C and D Only
- 2. A and D Only
- 3. A, B and C Only
- 4. B and D Only

(1) 1

(2) 2

(3) 3

(4) 4

निम्नलिखित में कौन-सी प्रतिज्ञप्तियाँ तार्किक रूप से समतुल्य हैं।

- A. कोई भी कुत्ते आक्रामक जानवर नहीं हैं।
- B. कोई भी आक्रामक जानवर कुत्ते नहीं हैं।
- C. सभी कुत्ते गैर-आक्रामक हैं।
- D. कुछ कुत्ते आक्रामक जानवर नहीं हैं।

नीचे दिए गए विकल्पों में से सही उत्तर का चयन कीजिए:

- 1. केवल C और D
- 2. केवल A और D
- 3. केवल A, B और C
- 4. केवल B और D

(1) 1

(2) 2

(3) 3

(4) 4

1[Option ID=16513]

2[Option ID=16514]

3[Option ID=16515]

4[Option ID=16516]

Sl. No.130

QBID:7201030

Given below are two Statements :

Statement I :According to classical Indian school of Logic, namely ,Nyaya, we ascertain the relation of universal concomitance between x and y by perceiving that in all cases the presence of x is accompanied by presence of y, and not perceiving any instances to the contrary.

Statement II : Classical Indian materialists argue that universal relation between two events cannot be established, there being always a room for doubt about the unobserved cases.

In the light of the above statements, choose the correct answer from the options given below :

- 1. Both Statement I and Statement II are true.
- 2. Both statement I and Statement II are false.
- 3. Statement is true but Statement II is false.
- 4. Statement I is false but Statement II is true.

- (1) 1
- (2) 2
- (3) 3
- (4) 4

नीचे दो कथन दिए गए हैं:

कथन I : शास्त्रीय भारतीय तर्कशास्त्र न्याय मत के अनुसार हम x और y के बीच सार्वभौम सहवर्तितता निश्चित करते हैं जहां सभी प्रकरणों में x की उपस्थिति के साथ y की उपस्थिति होती है, और इसके विपरीत कोई दृष्टांत नहीं है।

कथन II : शास्त्रीय भारतीय भौतिकवादी तर्क देते हैं कि किन्हीं दो परिघटनाओं के बीच सार्वभौमिक संबंध स्थापित नहीं किया जा सकता है क्योंकि अपेक्षित विषयों के बारे में सदैव संदेह की संभावना होती है।

उपरोक्त कथन के आलोक में नीचे दिए गए विकल्पों में से सही उत्तर का चयन कीजिए:

- 1. कथन I और II दोनों सत्य हैं ।
- 2. कथन I और II दोनों असत्य हैं ।
- 3. कथन I सत्य हैं, लेकिन कथन II असत्य है ।
- 4. कथन I असत्य है, लेकिन कथन II सत्य है ।

- (1) 1
- (2) 2
- (3) 3
- (4) 4

- 1[Option ID=16517]
- 2[Option ID=16518]
- 3[Option ID=16519]
- 4[Option ID=16520]

Sl. No.131
QBID:7201031

Which of the following applications A-C are built on top of open-source digital platforms ?

- A. Aadhar
- B. Adobe Reader
- C. COWIN

Choose the correct answer from the options given below :

- 1. A, B and C
- 2. A and B Only
- 3. B and C Only
- 4. A and C Only

- (1) 1
- (2) 2
- (3) 3
- (4) 4

निम्नलिखित अनुप्रयोगों A-C में से कौन-कौन से मुक्त स्रोत अंकीय प्लेटफॉर्म पर निर्मित किए गए हैं?

- A. आधार
- B. एडोब रीडर
- C. कोविन

नीचे दिए गए विकल्पों में से सही उत्तर का चयन कीजिए:

- 1. A, B और C
- 2. केवल A और B
- 3. केवल B और C
- 4. केवल A और C

(1) 1

(2) 2

(3) 3

(4) 4

1[Option ID=16521]

2[Option ID=16522]

3[Option ID=16523]

4[Option ID=16524]

Sl. No.132

QBID:7201032

Given below are two statements :

Statement I : IBM was the most valuable worldwide IT brand in 2022.

Statement II : TCS and Infosys were the second and the third most valuable Indian brands respectively in the IT services sector globally in 2022.

In the light of the above statements, choose the correct answer from the options given below :

- 1. Both Statement I and Statement II are true
- 2. Both Statement I and Statement II is false
- 3. Statement I is true but Statement II is false
- 4. Statement I false but Statement II is true

(1) 1

(2) 2

(3) 3

(4) 4

नीचे दो कथन दिए गए हैं:

कथन I : आईबीएम वर्ष 2022 में विश्व भर में सर्वाधिक मूल्यवान आईटी ब्रांड थी।

कथन II : वर्ष 2022 में आईटी सेवाओं के क्षेत्र में विश्व में टीसीएस और इन्फोसिस क्रमशः दूसरे और तीसरे सर्वाधिक मूल्यवान आईटी भारतीय ब्रांड थे।

उपरोक्त कथन के आलोक में, नीचे दिए गए विकल्पों में से सही उत्तर का चयन कीजिए:

- 1. कथन I और II दोनों सत्य हैं।
- 2. कथन I और II दोनों असत्य हैं।
- 3. कथन I सत्य है, लेकिन कथन II असत्य है।
- 4. कथन I असत्य है, लेकिन कथन II सत्य है।

(1) 1

(2) 2

(3) 3

(4) 4

1[Option ID=16525]

2[Option ID=16526]

3[Option ID=16527]

4[Option ID=16528]

Sl. No.133

QBID:7201033

Which of the following statements (A-C) are correct with reference to "Software as a Service (SaaS)" in cloud computing ?

- A. SaaS users can access their data from any Internet-Connected computer on mobile device.
- B. A web-based email service such as Outlook, Hotmail or Yahoo! Mail is a form of SaaS.
- C. SaaS buyers can customize the user interface to change the look and feel of the software, as well as modify specific areas, such as a data fields.

Choose the correct answer from the options given below :

- 1. A and B Only
- 2. A and C Only
- 3. B and C Only
- 4. A, B and C

(1) 1

(2) 2

(3) 3

(4) 4

क्लाउड कंप्यूटिंग में 'साफ्टवेयर एज ए सर्विस (सास)' के संदर्भ में निम्नलिखित कथनों में से कौन-कौन से कथन सही हैं?

- A. सास प्रयोक्ता इंटरनेट से जुड़े किसी भी कंप्यूटर अथवा मोबाईल उपकरण से अपने डेटा तक पहुंच सकते हैं।
- B. आउटलुक, हॉटमेल अथवा याहू मेल जैसी वेब आधारित ईमेल सेवा सास का एक रूप हैं।
- C. सास क्रेता साफ्टवेयर का रूप और अनुभूति परिवर्तित करने और डेटा क्षेत्रों जैसे विशिष्ट क्षेत्रों को रूपांतरित करने के लिये प्रयोक्ता अंतरापृष्ठ को अपनी आवश्यकतानुसार बना सकते हैं।

नीचे दिए गए विकल्पों में से सही उत्तर का चयन कीजिए:

- 1. केवल A और B
- 2. केवल A और C
- 3. केवल B और C
- 4. A, B और C

(1) 1

(2) 2

(3) 3

(4) 4

1[Option ID=16529]

2[Option ID=16530]

3[Option ID=16531]

4[Option ID=16532]

Sl. No.134

QBID:7201034

Which of the following communication technologies A-C are considered as short-range devices/technologies ?

- A. CCTV
- B. RFID
- C. WLAN

Choose the correct answer from the options given below :

- 1. A and B Only
- 2. A and C Only
- 3. B and C Only
- 4. A, B and C

(1) 1

(2) 2

(3) 3

(4) 4

निम्न संप्रेषण प्रौद्योगिकियों A-C में से किन्हें लघु रेंज उपकरण/प्रौद्योगिकी माना जाता है?

- A. सीसीटीवी
- B. आरएफआईडी
- C. डबल्युएलएन

नीचे दिए गए विकल्पों में से सही उत्तर का चयन कीजिए:

- 1. केवल A और B
- 2. केवल A और C
- 3. केवल B और C
- 4. A, B और C

(1) 1

(2) 2

(3) 3

(4) 4

1[Option ID=16533]

2[Option ID=16534]

3[Option ID=16535]

4[Option ID=16536]



SI. No.135

QBID:7201035

In India, the term "Public Key Infrastructure" is used in the context of

- 1. Digital security infrastructure
- 2. Food security infrastructure
- 3. Health care and education infrastructure
- 4. Telecommunication and transportation infrastructure

(1) 1

(2) 2

(3) 3

(4) 4

भारत में 'सार्वजनिक महत्त्वपूर्ण अवसंरचना' (पब्लिक की इन्फ्रास्ट्रक्चर) निम्नलिखित में किसके संदर्भ में प्रयोग किया जाता है?

1. अंकीय सुरक्षा अवसंरचना
2. खाद्य सुरक्षा अवसंरचना
3. स्वास्थ्य देखभाल व शिक्षा अवसंरचना
4. दूर संचार और परिवहन अवसंरचना

(1) 1

(2) 2

(3) 3

(4) 4

1[Option ID=16537]

2[Option ID=16538]

3[Option ID=16539]

4[Option ID=16540]

Sl. No.136

QBID:7201036

What is the correct sequence of steps in Risk assessment related to environmental hazards ?

- A. Risk characterization
- B. Exposure assessment
- C. Hazard Identification
- D. Risk Management

Choose the correct answer from the options given below :

1. C, B, A, D
2. C, A, B, D
3. A, C, B, D
4. B, C, D, A

(1) 1

(2) 2

(3) 3

(4) 4

पर्यावरणीय खतरों से संबंधित जोखिम मूल्यांकन के निम्नलिखित कदमों का सही अनुक्रम क्या है?

- A. जोखिम विशेषीकरण
- B. उदभासन मूल्यांकन
- C. खतरों की पहचान
- D. जोखिम प्रबंधन

नीचे दिए गए विकल्पों में से सही उत्तर का चयन कीजिए:

1. C, B, A, D
2. C, A, B, D
3. A, C, B, D
4. B, C, D, A

(1) 1

(2) 2

(3) 3

(4) 4

1[Option ID=16541]

2[Option ID=16542]

3[Option ID=16543]

4[Option ID=16544]

Sl. No.137

QBID:7201037

National Solar Mission, one of the missions of National Action Plan on Climate Change (NAPCC) was launched in the year

1. 2009
2. 2010
3. 2011
4. 2012

- (1) 1
(2) 2
(3) 3
(4) 4

जलवायु परिवर्तन संबंधी राष्ट्रीय कार्य योजना (एनएपीसीसी) के मिशनों में से एक राष्ट्रीय सौर मिशन को निम्न में से किस वर्ष आरंभ किया गया था?

1. 2009
2. 2010
3. 2011
4. 2012

- (1) 1
(2) 2
(3) 3
(4) 4

1[Option ID=16545]

2[Option ID=16546]

3[Option ID=16547]

4[Option ID=16548]

Sl. No.138

QBID:7201038

Which one of the following has contributed maximum in sea level rise so far in the context of climate change ?

1. Melting of Antarctic Ice-sheets
2. Melting of Glaciers
3. Thermal expansion of oceanic waters
4. Melting of Greenland Ice sheets

- (1) 1
(2) 2
(3) 3
(4) 4

जलवायु परिवर्तन के संदर्भ में समुद्र स्तर के ऊपर उठने में अभी तक निम्नलिखित में से किसका योगदान अधिकतम रहा है?

1. दक्षिण ध्रुवीय हिम चादर का पिघलना
2. हिम खण्डों का पिघलना
3. महासागरीय जल का तापीय प्रसार
4. ग्रीनलैण्ड की हिम चादरों का पिघलना

- (1) 1
(2) 2
(3) 3
(4) 4

1[Option ID=16549]

2[Option ID=16550]
3[Option ID=16551]
4[Option ID=16552]

Sl. No.139
QBID:7201039

Out of different oxides of nitrogen which of the following are considered as Air Pollutants and known as NO_x ?

- A. NO (Nitric Oxide)
- B. NO₂ (Nitrogen dioxide)
- C. NO₃ (Nitrogen trioxide)
- D. N₂O (Nitrous oxide)

Choose the correct answer from the options given below :

- 1. A and B Only
- 2. B and C Only
- 3. C and D Only
- 4. A, B and D Only

(1) 1

(2) 2

(3) 3

(4) 4

नाइट्रोजन के विभिन्न आक्साइडों में से निम्न में से किन्हें वायु प्रदूषक माना जाता है और NO_x के रूप में जाना जाता है।

- A. NO (नाइट्रिक आक्साइड)
- B. NO₂ (नाइट्रोजन डाई आक्साइड)
- C. NO₃ (नाइट्रोजन ट्राई आक्साइड)
- D. N₂O (नाइट्रस आक्साइड)

नीचे दिए गए विकल्पों में से सही उत्तर का चयन कीजिए:

- 1. केवल A और B
- 2. केवल B और C
- 3. केवल C और D
- 4. केवल A, B और D

(1) 1

(2) 2

(3) 3

(4) 4

1[Option ID=16553]
2[Option ID=16554]
3[Option ID=16555]
4[Option ID=16556]

Sl. No.140
QBID:7201040

The advantages of biodiesel over conventional petro diesel are :

- A. Biodiesel produces significantly lesser CO₂ and SO₂.
- B. It is non-renewable
- C. It has higher octane number
- D. It can be used in any ratio with petro-diesel
- E. It has lower flash point.

Choose the most appropriate answer from the options given below :

- 1. A, B and C Only
- 2. B, C and D Only
- 3. A, C and D Only
- 4. C, D and E Only

(1) 1

(2) 2

(3) 3

(4) 4

पारंपरिक पेट्रोडीजल की अपेक्षा जैव-डीजल के निम्न में से क्या-क्या लाभ हैं?

- A. जैव-डीजल काफी कम CO₂ और SO₂ उत्पन्न करता है।
- B. यह गैर नवीकरणीय है।
- C. इसकी आक्टेन संख्या उच्चतर है।
- D. इसे पेट्रो डीजल के साथ किसी भी अनुपात में प्रयोग किया जा सकता है।
- E. इसका निम्न ज्वलनांक (फ्लैश प्वाइंट) है।

नीचे दिए गए विकल्पों में से सबसे उपयुक्त उत्तर का चयन कीजिए:

- 1. केवल A, B और C
- 2. केवल B, C और D
- 3. केवल A, C और D
- 4. केवल C, D और E

(1) 1

(2) 2

(3) 3

(4) 4

1[Option ID=16557]

2[Option ID=16558]

3[Option ID=16559]

4[Option ID=16560]

Sl. No.141

QBID:7201041

Which of the following names of technology platforms has been mentioned in NEP-2020 through which online training of teachers will be encouraged ?

- A. SWAYAM
- B. AYUSH
- C. PARAKH
- D. DIKSHA
- E. NIT

Choose the correct answer from the options given below :

- 1. B and C Only
- 2. A and D Only
- 3. A, C and D Only
- 4. A, B and E Only

(1) 1

(2) 2

(3) 3

(4) 4

नई शिक्षा नीति में निम्नलिखित कौन-से प्रौद्योगिकीय मंचों के नाम का उल्लेख किया गया है जिनके माध्यम से शिक्षकों के ऑनलाइन प्रशिक्षण को प्रोत्साहित किया जाएगा?

- A. स्वयं
- B. आयुष
- C. परख
- D. दीक्षा
- E. एनआईटी

नीचे दिए गए विकल्पों में से सही उत्तर का चयन कीजिए:

- 1. केवल B और C
- 2. केवल A और D
- 3. केवल A, C और D
- 4. केवल A, B और E

(1) 1

(2) 2

(3) 3

(4) 4

1[Option ID=16561]

2[Option ID=16562]

3[Option ID=16563]

4[Option ID=16564]

Sl. No.142

QBID:7201042

In 1904, Curzon was the moving force behind the enactment of the Indian University Act which intended to introduce radical changes into which of the following universities :

- A. Calcutta
- B. Bombay
- C. Madras
- D. Punjab (in Lahore)
- E. Allahabad

Choose the most appropriate answer from the options given below :

- 1. A, B and C Only
- 2. C, D and E Only
- 3. A, C, D and E Only
- 4. A, B, C, D and E

(1) 1

(2) 2

(3) 3

(4) 4

वर्ष 1904 में भारतीय विश्वविद्यालय अधिनियम के अधिनियमन के लिए प्रेरणास्रोत कर्जन था जिसका उद्देश्य निम्नालिखित किन विश्वविद्यालयों में आमूल-चूल परिवर्तनों की शुरुआत करना था?

- A. कलकत्ता
- B. बॉम्बे
- C. मद्रास
- D. पंजाब (लाहौर में)
- E. इलाहाबाद

नीचे दिए गए विकल्पों में से सबसे उपयुक्त उत्तर का चयन कीजिए:

- 1. केवल A, B और C
- 2. केवल C, D और E
- 3. केवल A, C, D और E
- 4. A, B, C, D और E

(1) 1

(2) 2

(3) 3

(4) 4

1[Option ID=16565]

2[Option ID=16566]

3[Option ID=16567]

4[Option ID=16568]

SI. No.143

QBID:7201043

Given below are two statements :

Statement I : UGC is a central government organization established by an Act of Parliament in 1956.

Statement II : UGC has established five regional centres in order to ensure proper functioning.

In the light of the above statements, choose the most appropriate answer from the options given below :

1. Both Statement I and Statement II are correct.
2. Both Statement I and Statement II are incorrect.
3. Statement I is correct but Statement II is incorrect.
4. Statement I is incorrect but statement II is correct.

(1) 1

(2) 2

(3) 3

(4) 4

नीचे दो कथन दिए गए हैं:

कथन I : यूजीसी, 1956 में संसद में अधिनियम द्वारा स्थापित किया गया एक केंद्रीय सरकारी संगठन है।

कथन II : यूजीसी ने समुचित संचालन को सुनिश्चित करने के क्रम में पाँच क्षेत्रीय केन्द्रों को स्थापित किया है।

उपरोक्त कथन के आलोक में, नीचे दिए गए विकल्पों में से सबसे उपयुक्त उत्तर का चयन कीजिए:

1. कथन I और II दोनों सही हैं ।
2. कथन I और II दोनों गलत हैं ।
3. कथन I सही है, लेकिन कथन II गलत है ।
4. कथन I गलत है, लेकिन कथन II सही है ।

(1) 1

(2) 2

(3) 3

(4) 4

1[Option ID=16569]

2[Option ID=16570]

3[Option ID=16571]

4[Option ID=16572]

Sl. No.144

QBID:7201044

Ministry of Environment and Forests, Govt. of India with the help of centre for Environment Education (CEE), _____ launched a National Environmental Awareness campaign (NEAC) in 1986 to increase awareness about the environment in various target groups in the country.

1. Chennai
2. Ahmedabad
3. Delhi
4. Hyderabad

(1) 1

(2) 2

(3) 3

(4) 4

भारत सरकार के पर्यावरण एवं वन मंत्रालय ने पर्यावरण शिक्षा हेतु केन्द्र (सीसीई) _____, की सहायता से देश में विविध लक्षित समूहों के मध्य पर्यावरण के बारे में जागरुकता में वृद्धि हेतु वर्ष 1986 में राष्ट्रीय पर्यावरणीय जागरुकता अभियान की (एनईएसी) का शुरुआत की।

1. चेन्नई
2. अहमदाबाद
3. दिल्ली
4. हैदराबाद

(1) 1

(2) 2

(3) 3

(4) 4

1[Option ID=16573]

2[Option ID=16574]

3[Option ID=16575]

4[Option ID=16576]

Sl. No.145

QBID:7201045

Which of the following is an important archaeological site declared by UNESCO as a world Heritage site in 1980 ?

1. Takshshila
2. Mithila
3. Vallabhi
4. Nalanda

(1) 1

(2) 2

(3) 3

(4) 4

निम्नलिखित में से कौन एक महत्वपूर्ण पुरातात्विक स्थल है जिसको यूनेस्को द्वारा वर्ष 1980 में विश्व धरोहर स्थल घोषित किया गया?

1. तक्षशिला
2. मिथिला
3. वल्लभी
4. नालन्दा

(1) 1

(2) 2

(3) 3

(4) 4

1[Option ID=16577]

2[Option ID=16578]

3[Option ID=16579]

4[Option ID=16580]

Sl. No.146

QBID:7201046

Read the following passage and answer the question.

Gordon Childe used the term urban revolution to describe the change in society marked by the emergence of the first cities some 5500 years ago. The areas that first witnessed this profound social economic change were :

- Mesopotamia - the valleys of the Tigris and Euphrates rivers
- The lower Nile valley.
- The plains of the river Indus.

Later, urban civilisations developed around the Mediterranean, in the Yellow River valley of China, in South East Asia and in the Americas. Thus the first cities mainly emerged in areas that are now considered to be LICs.

The catalyst for this period of rapid change was the Neolithic Revolution, which occurred about 8000 BCE. This was when sedentary agriculture, based on the domestication of animals and cereal farming, steadily replaced a nomadic way of life. As farming advanced, irrigation techniques were developed. Other major advances that followed were the ox-drawn plough, the wheeled cart, the sailing boat and metallurgy. However, arguably the most important development was the invention of writing in about 4000 BCE, for it was in the millennium after this that some of the villages on the alluvial plains between the Tigris and Euphrates rivers increased in size and changed in function so as to merit the classification of urban.

Considerably later than the first cities, trading centres began to develop. The Minoan civilisation cities of Knossos and Phaistos, which flourished in Crete during the first half of the second millennium BCE, derived their wealth from maritime trade. Next it was the turn of the Greeks and then the Romans to develop urban and trading systems on a scale larger than ever before.

निम्नलिखित गद्यांश को पढ़िए और प्रश्न का उत्तर दीजिए।

गोर्डन चाइल्ड ने शहरी क्रांति पद का प्रयोग लगभग 5500 वर्ष पूर्व प्रथम शहरों के आविर्भाव से चिह्नित समाज में परिवर्तनों के वर्णन के लिए किया था। जिन क्षेत्रों में सर्वप्रथम ये गहरे सामाजिक-आर्थिक परिवर्तन हुए, वे थे :

- मेसोपोटामिया - दजला और फुरात नदियों की घाटियां
- निम्न नील घाटी
- सिंधु नदी के मैदानी क्षेत्र

बाद में भूमध्य सागरीय क्षेत्र के इर्द-गिर्द, चीन की येलो नदी घाटी, दक्षिण पूर्व एशिया और अमरीका में शहरी सभ्यताएं विकसित हुईं। इस प्रकार पहले शहरों का मुख्यतः उन क्षेत्रों में आविर्भाव हुआ जिन्हें आज एलआईसी माना जाता है।

द्रुतगामी परिवर्तनों की इस अवधि के लिए उत्प्रेरक नवपाषाण कालीन क्रांति थी जो लगभग 8,000 ई. पू. हुई। यह तब हुआ जब पशुओं के पालतू बनाए जाने और खाद्यान्न कृषि पर आधारित स्थानवृद्धि कृषिने स्थिर गति से यायावरी जीवनशैली को प्रतिस्थापित कर दिया। कृषि में प्रगति के साथ सिंचाई प्रविधियां विकसित हुईं। इसके बाद अन्य प्रमुख प्रगति थी बैलों से खींचा जाने वाला हल, पहिेवाली गाड़ी, पाल नौका और धातु-विज्ञान। तथापि लगभग 4,000 ई.पू. हुआ लेखनी का अविष्कार संभवतया सर्वाधिक महत्वपूर्ण अविष्कार था क्योंकि इसी के बाद की सहस्राब्दी में दजला और फुरात नदियों के बीज के जलोढ मैदानी क्षेत्र में कुछ गाँवों के आकार में वृद्धि हुई और प्रकार्य में परिवर्तन हुए जिनके कारण शहर में वर्गीकरण योग्य बने।

प्रथम शहरों के काफी बाद में व्यापारिक केन्द्र विकसित होने आरंभ हुए। द्वितीय सहस्राब्दी ई.पू. के प्रथमार्द्ध के दौरान क्रीट में समुन्नत मिनोयाई सभ्यता के क्नोस और फैस्तास शहरों की संपदा समुद्री व्यापार से आई थी। पूर्व की तुलना में कहीं बड़े पैमाने पर शहरी और व्यापारिक प्रणालियों के विकास की अगली बारी यूनानी और रोमन लोगों की थी।

Based on the information given in the passage, arrange the following events in correct chronological order.

- A. Emergence of the first cities
- B. Neolithic Revolution
- C. Invention of writing
- D. The Minoan civilisation cities which flourished in Crete

Choose the correct answer from the options given below :

- 1. A, B, C, D
- 2. B, C, D, A
- 3. C, A, B, D
- 4. B, A, C, D

(1) 1

(2) 2

(3) 3

(4) 4

गद्यांश में प्रदत्त सूचना के आधार पर निम्न घटनाओं को सही कालक्रमानुसार व्यवस्थित कीजिए:

- A. प्रथम शहरों का आविर्भाव
- B. नवपाषाण कालीन क्रांति
- C. लेखन का आविष्कार
- D. क्रीट में समुन्नत मिनोयाई सभ्यता के शहर

नीचे दिए गए विकल्पों में सही उत्तर का चयन कीजिए:

- 1. A, B, C, D
- 2. B, C, D, A
- 3. C, A, B, D
- 4. B, A, C, D

(1) 1

(2) 2

(3) 3

(4) 4

1[Option ID=16581]

2[Option ID=16582]

3[Option ID=16583]

4[Option ID=16584]

Sl. No.147

QBID:7201047

Read the following passage and answer the question.

Gordon Childe used the term urban revolution to describe the change in society marked by the emergence of the first cities some 5500 years ago. The areas that first witnessed this profound social economic change were :

- Mesopotamia - the valleys of the Tigris and Euphrates rivers
- The lower Nile valley.
- The plains of the river Indus.

Later, urban civilisations developed around the Mediterranean, in the Yellow River valley of China, in South East Asia and in the Americas. Thus the first cities mainly emerged in areas that are now considered to be LICs.

The catalyst for this period of rapid change was the Neolithic Revolution, which occurred about 8000 BCE. This was when sedentary agriculture, based on the domestication of animals and cereal farming, steadily replaced a nomadic way of life. As farming advanced, irrigation techniques were developed. Other major advances that followed were the ox-drawn plough, the wheeled cart, the sailing boat and metallurgy. However, arguably the most important development was the invention of writing in about 4000 BCE, for it was in the millennium after this that some of the villages on the alluvial plains between the Tigris and Euphrates rivers increased in size and changed in function so as to merit the classification of urban.

Considerably later than the first cities, trading centres began to develop. The Minoan civilisation cities of Knossos and Phaistos, which flourished in Crete during the first half of the second millennium BCE, derived their wealth from maritime trade. Next it was the turn of the Greeks and then the Romans to develop urban and trading systems on a scale larger than ever before.

निम्नलिखित गद्यांश को पढ़िए और प्रश्न का उत्तर दीजिए।

गोर्डन चाइल्ड ने शहरी क्रांति पद का प्रयोग लगभग 5500 वर्ष पूर्व प्रथम शहरों के आविर्भाव से चिह्नित समाज में परिवर्तनों के वर्णन के लिए किया था। जिन क्षेत्रों में सर्वप्रथम ये गहरे सामाजिक-आर्थिक परिवर्तन हुए, वे थे :

- मेसोपोटामिया - दजला और फुरात नदियों की घाटियां
- निम्न नील घाटी
- सिंधु नदी के मैदानी क्षेत्र

बाद में भूमध्य सागरीय क्षेत्र के इर्द-गिर्द, चीन की येलो नदी घाटी, दक्षिण पूर्व एशिया और अमरीका में शहरी सभ्यताएं विकसित हुईं। इस प्रकार पहले शहरों का मुख्यतः उन क्षेत्रों में आविर्भाव हुआ जिन्हें आज एलआईसी माना जाता है।

द्रुतगामी परिवर्तनों की इस अवधि के लिए उत्प्रेरक नवपाषाण कालीन क्रांति थी जो लगभग 8,000 ई. पू. हुई। यह तब हुआ जब पशुओं के पालतू बनाए जाने और खाद्यान्न कृषि पर आधारित स्थानवृद्धि कृषिने स्थिर गति से यायावरी जीवनशैली को प्रतिस्थापित कर दिया। कृषि में प्रगति के साथ सिंचाई प्रविधियां विकसित हुईं। इसके बाद अन्य प्रमुख प्रगति थी बैलों से खींचा जाने वाला हल, पहिएवाली गाड़ी, पाल नौका और धातु-विज्ञान। तथापि लगभग 4,000 ई.पू. हुआ लेखनी का अविष्कार संभवतया सर्वाधिक महत्वपूर्ण अविष्कार था क्योंकि इसी के बाद की सहस्राब्दी में दजला और फुरात नदियों के बीज के जलोढ मैदानी क्षेत्र में कुछ गाँवों के आकार में वृद्धि हुई और प्रकार्य में परिवर्तन हुए जिनके कारण शहर में वर्गीकरण योग्य बने।

प्रथम शहरों के काफी बाद में व्यापारिक केन्द्र विकसित होने आरंभ हुए। द्वितीय सहस्राब्दी ई.पू. के प्रथमार्द्ध के दौरान क्रीट में समुन्नत मिनोयाई सभ्यता के क्नोस और फैस्तास शहरों की संपदा समुद्री व्यापार से आई थी। पूर्व की तुलना में कहीं बड़े पैमाने पर शहरी और व्यापारिक प्रणालियों के विकास की अगली बारी यूनानी और रोमन लोगों की थी।

The term LICs in the passage most likely represents

1. Lower Indo-China
2. Later Indus and China
3. Low Income Countries
4. Laos India and China

- (1) 1
- (2) 2
- (3) 3
- (4) 4

गद्यांश में प्रयुक्त पद एलआईसी का निम्न में से सर्वाधिक संभवतया किसको प्रदर्शित करता है ?

1. लोअर इंडो-चाइना
2. लेटर इंडस एंड चाइना
3. लो इनकम कंट्रीज
4. लाओस इंडिया एंड चाइना

(1) 1

(2) 2

(3) 3

(4) 4

1[Option ID=16585]

2[Option ID=16586]

3[Option ID=16587]

4[Option ID=16588]

Sl. No.148

QBID:7201048



Read the following passage and answer the question.

Gordon Childe used the term urban revolution to describe the change in society marked by the emergence of the first cities some 5500 years ago. The areas that first witnessed this profound social economic change were :

- Mesopotamia - the valleys of the Tigris and Euphrates rivers
- The lower Nile valley.
- The plains of the river Indus.

Later, urban civilisations developed around the Mediterranean, in the Yellow River valley of China, in South East Asia and in the Americas. Thus the first cities mainly emerged in areas that are now considered to be LICs.

The catalyst for this period of rapid change was the Neolithic Revolution, which occurred about 8000 BCE. This was when sedentary agriculture, based on the domestication of animals and cereal farming, steadily replaced a nomadic way of life. As farming advanced, irrigation techniques were developed. Other major advances that followed were the ox-drawn plough, the wheeled cart, the sailing boat and metallurgy. However, arguably the most important development was the invention of writing in about 4000 BCE, for it was in the millennium after this that some of the villages on the alluvial plains between the Tigris and Euphrates rivers increased in size and changed in function so as to merit the classification of urban.

Considerably later than the first cities, trading centres began to develop. The Minoan civilisation cities of Knossos and Phaistos, which flourished in Crete during the first half of the second millennium BCE, derived their wealth from maritime trade. Next it was the turn of the Greeks and then the Romans to develop urban and trading systems on a scale larger than ever before.

निम्नलिखित गद्यांश को पढ़िए और प्रश्न का उत्तर दीजिए।

गोर्डन चाइल्ड ने शहरी क्रांति पद का प्रयोग लगभग 5500 वर्ष पूर्व प्रथम शहरों के आविर्भाव से चिह्नित समाज में परिवर्तनों के वर्णन के लिए किया था। जिन क्षेत्रों में सर्वप्रथम ये गहरे सामाजिक-आर्थिक परिवर्तन हुए, वे थे :

- मेसोपोटामिया - दजला और फुरात नदियों की घाटियां
- निम्न नील घाटी
- सिंधु नदी के मैदानी क्षेत्र

बाद में भूमध्य सागरीय क्षेत्र के इर्द-गिर्द, चीन की येलो नदी घाटी, दक्षिण पूर्व एशिया और अमरीका में शहरी सभ्यताएं विकसित हुईं। इस प्रकार पहले शहरों का मुख्यतः उन क्षेत्रों में आविर्भाव हुआ जिन्हें आज एलआईसी माना जाता है।

द्रुतगामी परिवर्तनों की इस अवधि के लिए उत्प्रेरक नवपाषाण कालीन क्रांति थी जो लगभग 8,000 ई. पू. हुई। यह तब हुआ जब पशुओं के पालतू बनाए जाने और खाद्यान्न कृषि पर आधारित स्थानवृद्धि कृषिने स्थिर गति से यायावरी जीवनशैली को प्रतिस्थापित कर दिया। कृषि में प्रगति के साथ सिंचाई प्रविधियां विकसित हुईं। इसके बाद अन्य प्रमुख प्रगति थी बैलों से खींचा जाने वाला हल, पहिएवाली गाड़ी, पाल नौका और धातु-विज्ञान। तथापि लगभग 4,000 ई.पू. हुआ लेखनी का अविष्कार संभवतया सर्वाधिक महत्वपूर्ण अविष्कार था क्योंकि इसी के बाद की सहस्राब्दी में दजला और फुरात नदियों के बीज के जलोढ मैदानी क्षेत्र में कुछ गाँवों के आकार में वृद्धि हुई और प्रकार्य में परिवर्तन हुए जिनके कारण शहर में वर्गीकरण योग्य बने।

प्रथम शहरों के काफी बाद में व्यापारिक केन्द्र विकसित होने आरंभ हुए। द्वितीय सहस्राब्दी ई.पू. के प्रथमार्द्ध के दौरान क्रीट में समुन्नत मिनोयाई सभ्यता के क्नोस और फैस्तास शहरों की संपदा समुद्री व्यापार से आई थी। पूर्व की तुलना में कहीं बड़े पैमाने पर शहरी और व्यापारिक प्रणालियों के विकास की अगली बारी यूनानी और रोमन लोगों की थी।

Which major development led to the transformation of villages in the plains between Euphrates and Tigris, into urban centres ?

1. The Emergence of wheeled cart
2. Neolithic Revolution
3. Metallurgy
4. Invention of Writing

(1) 1

(2) 2

(3) 3

(4) 4

निम्नलिखित में से किस प्रमुख परिघटना के चलते फुरात और दजला के बीच के मैदानी क्षेत्रों के गाँवों का शहरी केन्द्रों में रूपांतरण हुआ?

1. पहिएदार गाडी का आविर्भाव
2. नवपाषाण कालीन क्रांति
3. धातु-विज्ञान
4. लेखन का आविष्कार

(1) 1

(2) 2

(3) 3

(4) 4

1[Option ID=16589]

2[Option ID=16590]

3[Option ID=16591]

4[Option ID=16592]

Sl. No.149

QBID:7201049



Read the following passage and answer the question.

Gordon Childe used the term urban revolution to describe the change in society marked by the emergence of the first cities some 5500 years ago. The areas that first witnessed this profound social economic change were :

- Mesopotamia - the valleys of the Tigris and Euphrates rivers
- The lower Nile valley.
- The plains of the river Indus.

Later, urban civilisations developed around the Mediterranean, in the Yellow River valley of China, in South East Asia and in the Americas. Thus the first cities mainly emerged in areas that are now considered to be LICs.

The catalyst for this period of rapid change was the Neolithic Revolution, which occurred about 8000 BCE. This was when sedentary agriculture, based on the domestication of animals and cereal farming, steadily replaced a nomadic way of life. As farming advanced, irrigation techniques were developed. Other major advances that followed were the ox-drawn plough, the wheeled cart, the sailing boat and metallurgy. However, arguably the most important development was the invention of writing in about 4000 BCE, for it was in the millennium after this that some of the villages on the alluvial plains between the Tigris and Euphrates rivers increased in size and changed in function so as to merit the classification of urban.

Considerably later than the first cities, trading centres began to develop. The Minoan civilisation cities of Knossos and Phaistos, which flourished in Crete during the first half of the second millennium BCE, derived their wealth from maritime trade. Next it was the turn of the Greeks and then the Romans to develop urban and trading systems on a scale larger than ever before.

निम्नलिखित गद्यांश को पढ़िए और प्रश्न का उत्तर दीजिए।

गोर्डन चाइल्ड ने शहरी क्रांति पद का प्रयोग लगभग 5500 वर्ष पूर्व प्रथम शहरों के आविर्भाव से चिह्नित समाज में परिवर्तनों के वर्णन के लिए किया था। जिन क्षेत्रों में सर्वप्रथम ये गहरे सामाजिक-आर्थिक परिवर्तन हुए, वे थे :

- मेसोपोटामिया - दजला और फुरात नदियों की घाटियां
- निम्न नील घाटी
- सिंधु नदी के मैदानी क्षेत्र

बाद में भूमध्य सागरीय क्षेत्र के इर्द-गिर्द, चीन की येलो नदी घाटी, दक्षिण पूर्व एशिया और अमरीका में शहरी सभ्यताएं विकसित हुईं। इस प्रकार पहले शहरों का मुख्यतः उन क्षेत्रों में आविर्भाव हुआ जिन्हें आज एलआईसी माना जाता है।

द्रुतगामी परिवर्तनों की इस अवधि के लिए उत्प्रेरक नवपाषाण कालीन क्रांति थी जो लगभग 8,000 ई. पू. हुई। यह तब हुआ जब पशुओं के पालतू बनाए जाने और खाद्यान्न कृषि पर आधारित स्थानवृद्धि कृषिने स्थिर गति से यायावरी जीवनशैली को प्रतिस्थापित कर दिया। कृषि में प्रगति के साथ सिंचाई प्रविधियां विकसित हुईं। इसके बाद अन्य प्रमुख प्रगति थी बैलों से खींचा जाने वाला हल, पहिेवाली गाड़ी, पाल नौका और धातु-विज्ञान। तथापि लगभग 4,000 ई.पू. हुआ लेखनी का अविष्कार संभवतया सर्वाधिक महत्वपूर्ण अविष्कार था क्योंकि इसी के बाद की सहस्राब्दी में दजला और फुरात नदियों के बीज के जलोढ मैदानी क्षेत्र में कुछ गाँवों के आकार में वृद्धि हुई और प्रकार्य में परिवर्तन हुए जिनके कारण शहर में वर्गीकरण योग्य बने।

प्रथम शहरों के काफी बाद में व्यापारिक केन्द्र विकसित होने आरंभ हुए। द्वितीय सहस्राब्दी ई.पू. के प्रथमार्द्ध के दौरान क्रीट में समुन्नत मिनोयाई सभ्यता के क्नोस और फैस्टास शहरों की संपदा समुद्री व्यापार से आई थी। पूर्व की तुलना में कहीं बड़े पैमाने पर शहरी और व्यापारिक प्रणालियों के विकास की अगली बारी यूनानी और रोमन लोगों की थी।

Arrange the following places where urban centres developed, in correct chronological order.

- A. Greece
- B. Crete
- C. Rome
- D. The plains of river Indus

Choose the correct answer from the options given below :

- 1. D, B, A, C
- 2. D, C, B, A
- 3. A, D, B, C
- 4. A, D, C, B

(1) 1

(2) 2

(3) 3

(4) 4

निम्नलिखित स्थानों को जहां शहरी केन्द्र विकसित हुए, सही कालक्रमानुसार व्यवस्थित कीजिए:

- A. यूनान
- B. क्रीट
- C. रोम
- D. सिंधु नदी के मैदानी क्षेत्र

नीचे दिए गए विकल्पों में से सही उत्तर का चयन कीजिए:

- 1. D, B, A, C
- 2. D, C, B, A
- 3. A, D, B, C
- 4. A, D, C, B

(1) 1

(2) 2

(3) 3

(4) 4

1[Option ID=16593]

2[Option ID=16594]

3[Option ID=16595]

4[Option ID=16596]

Sl. No.150

QBID:7201050



Read the following passage and answer the question.

Gordon Childe used the term urban revolution to describe the change in society marked by the emergence of the first cities some 5500 years ago. The areas that first witnessed this profound social economic change were :

- Mesopotamia - the valleys of the Tigris and Euphrates rivers
- The lower Nile valley.
- The plains of the river Indus.

Later, urban civilisations developed around the Mediterranean, in the Yellow River valley of China, in South East Asia and in the Americas. Thus the first cities mainly emerged in areas that are now considered to be LICs.

The catalyst for this period of rapid change was the Neolithic Revolution, which occurred about 8000 BCE. This was when sedentary agriculture, based on the domestication of animals and cereal farming, steadily replaced a nomadic way of life. As farming advanced, irrigation techniques were developed. Other major advances that followed were the ox-drawn plough, the wheeled cart, the sailing boat and metallurgy. However, arguably the most important development was the invention of writing in about 4000 BCE, for it was in the millennium after this that some of the villages on the alluvial plains between the Tigris and Euphrates rivers increased in size and changed in function so as to merit the classification of urban.

Considerably later than the first cities, trading centres began to develop. The Minoan civilisation cities of Knossos and Phaistos, which flourished in Crete during the first half of the second millennium BCE, derived their wealth from maritime trade. Next it was the turn of the Greeks and then the Romans to develop urban and trading systems on a scale larger than ever before.

निम्नलिखित गद्यांश को पढ़िए और प्रश्न का उत्तर दीजिए।

गोर्डन चाइल्ड ने शहरी क्रांति पद का प्रयोग लगभग 5500 वर्ष पूर्व प्रथम शहरों के आविर्भाव से चिह्नित समाज में परिवर्तनों के वर्णन के लिए किया था। जिन क्षेत्रों में सर्वप्रथम ये गहरे सामाजिक-आर्थिक परिवर्तन हुए, वे थे :

- मेसोपोटामिया - दजला और फुरात नदियों की घाटियां
- निम्न नील घाटी
- सिंधु नदी के मैदानी क्षेत्र

बाद में भूमध्य सागरीय क्षेत्र के इर्द-गिर्द, चीन की येलो नदी घाटी, दक्षिण पूर्व एशिया और अमरीका में शहरी सभ्यताएं विकसित हुईं। इस प्रकार पहले शहरों का मुख्यतः उन क्षेत्रों में आविर्भाव हुआ जिन्हें आज एलआईसी माना जाता है।

द्रुतगामी परिवर्तनों की इस अवधि के लिए उत्प्रेरक नवपाषाण कालीन क्रांति थी जो लगभग 8,000 ई. पू. हुई। यह तब हुआ जब पशुओं के पालतू बनाए जाने और खाद्यान्न कृषि पर आधारित स्थानवृद्धि कृषिने स्थिर गति से यायावरी जीवनशैली को प्रतिस्थापित कर दिया। कृषि में प्रगति के साथ सिंचाई प्रविधियां विकसित हुईं। इसके बाद अन्य प्रमुख प्रगति थी बैलों से खींचा जाने वाला हल, पहिेवाली गाड़ी, पाल नौका और धातु-विज्ञान। तथापि लगभग 4,000 ई.पू. हुआ लेखनी का अविष्कार संभवतया सर्वाधिक महत्वपूर्ण अविष्कार था क्योंकि इसी के बाद की सहस्राब्दी में दजला और फुरात नदियों के बीज के जलोढ मैदानी क्षेत्र में कुछ गाँवों के आकार में वृद्धि हुई और प्रकार्य में परिवर्तन हुए जिनके कारण शहर में वर्गीकरण योग्य बने।

प्रथम शहरों के काफी बाद में व्यापारिक केन्द्र विकसित होने आरंभ हुए। द्वितीय सहस्राब्दी ई.पू. के प्रथमार्द्ध के दौरान क्रीट में समुन्नत मिनोयाई सभ्यता के क्नोस और फैस्टास शहरों की संपदा समुद्री व्यापार से आई थी। पूर्व की तुलना में कहीं बड़े पैमाने पर शहरी और व्यापारिक प्रणालियों के विकास की अगली बारी यूनानी और रोमन लोगों की थी।

Given below are two statements :

Statement I : Urban centres in China developed before they developed in the plains of Indus river.

Statement II : Trading centres developed much later than the first cities.

In the light of the above statements, choose the correct answer from the options given below :

1. Both Statement I and Statement II are true
2. Both Statement I and Statement II are false
3. Statement I is true but Statement II is false
4. Statement I is false but Statement II is true

(1) 1

(2) 2

(3) 3

(4) 4

नीचे दो कथन दिए गए हैं:

कथन I : चीन के शहरी केन्द्र सिंधु नदी के मैदानी क्षेत्रों के शहरी केन्द्रों से बहुत पहले विकसित हुए।

कथन II : व्यापारिक केन्द्र प्रथम शहरों की अपेक्षा बहुत बाद में विकसित हुए।

उपरोक्त कथन के आलोक में, नीचे दिए गए विकल्पों में से सही उत्तर का चयन कीजिए:

1. कथन I और II दोनों सत्य हैं ।
2. कथन I और II दोनों असत्य हैं ।
3. कथन I सत्य है, लेकिन कथन II असत्य है ।
4. कथन I असत्य है, लेकिन कथन II सत्य है ।

(1) 1

(2) 2

(3) 3

(4) 4

1[Option ID=16597]

2[Option ID=16598]

3[Option ID=16599]

4[Option ID=16600]