

UGC NET 2022 ARAB CULTURE N ISLAMIC STUDIES

Topic:- 049_UCGNET_SEPT22_S2_PartA

1) Cairo city was founded by

काहिरा शहर को किसने स्थापित किया?

[Question ID = 11502][Question Description = 101_49_ARBC_SEP22_S4_Q01]

1. Mohammed Ali Pasha

मोहम्मद अली पाशा

[Option ID = 16005]

2. Sultan Saleem

सुल्तान सलीम

[Option ID = 16006]

3. Jawahar al-Siqilli

जवाहरल सिफिल्ली

[Option ID = 16007]

4. Ubaidullah Fatimi

उबैदुल्ला फातिमी

[Option ID = 16008]

2) Nihajul Balagha is a collection of

निहाजुल बालाग़ा निम्नलिखित में से किसका संकलन है ?

[Question ID = 11503][Question Description = 102_49_ARBC_SEP22_S4_Q02]

1. Poetry

कव्य

[Option ID = 16009]

2. Speeches

भाषण

[Option ID = 16010]

3. Fatawa

फतवा

[Option ID = 16011]

4. Memoirs

संस्मरण

[Option ID = 16012]

3) The last battle between Umayyad and Abbasid Zab was fought in the year

उमवी और अब्बासी अल-ज़ाब के मध्य अंतिम युद्ध किस वर्ष लड़ा गया था?

[Question ID = 11504][Question Description = 103_49_ARBC_SEP22_S4_Q03]

1. 749

[Option ID = 16013]

2. 745

[Option ID = 16014]

3. 751

[Option ID = 16015]

4. 748

[Option ID = 16016]

4) Muwashshahat is a kind of poetry developed in

कव्य का एक प्रकार मुवश्शहत कहाँ विकसित हुआ ?

[Question ID = 11505][Question Description = 104_49_ARBC_SEP22_S4_Q04]

1. Iraq

इराक़

[Option ID = 16017]

2. Egypt

मिस्र

[Option ID = 16018]

3. North Africa

उत्तरी अफ्रीका

[Option ID = 16019]

4. Spain

स्पेन

[Option ID = 16020]

5) Foundation stone of great mosque of cordova was laid down by

कूर्तवा की प्रसिद्ध मस्जिद की आधारशिला किसने रखी थी?

[Question ID = 11506][Question Description = 105_49_ARBC_SEP22_S4_Q05]

1. Abdur - Rahman I

अब्दुर्रहमान I

[Option ID = 16021]

2. Hisham

हिशाम

[Option ID = 16022]

3. Abdur - Rahman III

अब्दुर्रहमान III

[Option ID = 16023]

4. Mansur

मंसूर

[Option ID = 16024]

6) Ibn - khaldun (1332-1406) is considered to be the father of

इब्न खल्दून (1332-1406) को निम्नलिखित में से किसका जनक माना जाता है?

[Question ID = 11507][Question Description = 106_49_ARBC_SEP22_S4_Q06]

1. Historiography

इतिहास-लेखन

[Option ID = 16025]

2. Lexicography

कोश-रचना

[Option ID = 16026]

3. Biography

जीवनी

[Option ID = 16027]

4. Sociology

समाजशास्त्र

[Option ID = 16028]

7) Author of Majma-ul-Bahrain is

'मज्म - उलबहरैन' के लेखक कौन हैं?

[Question ID = 11508][Question Description = 107_49_ARBC_SEP22_S4_Q07]

1. Murad

मुयद

[Option ID = 16029]

2. Dara Shikoh

दारा शिकोह

[Option ID = 16030]

3. Akbar

अकबर

[Option ID = 16031]

4. Shah Jahan

शाहजहाँ

[Option ID = 16032]

8) Altutmish was succeeded by:

इल्तुतमिश के उत्तराधिकारी कौन थे?

[Question ID = 11509][Question Description = 108_49_ARBC_SEP22_S4_Q08]

1. Qutbuddin Aibak

कुतुबुद्दीन ऐबक

[Option ID = 16033]

2. Razia Sultana

रज़िया सुल्ताना

[Option ID = 16034]

3. Muhammad bin Tughlaq

मुहम्मद बिन तुग़लक

[Option ID = 16035]

4. Balban

बलबन

[Option ID = 16036]

9) Who among the following is famous for Ghazal poetry

निम्नलिखित में से ग़ज़ल काव्य के लिए कौन प्रसिद्ध है?

[Question ID = 11510][Question Description = 109_49_ARBC_SEP22_S4_Q09]

1. Zuhair

जुहैर

[Option ID = 16037]

2. Hutayyah

हुताय्या

[Option ID = 16038]

3. Farazdaq

फ़रज़दक़

[Option ID = 16039]

4. Umar bin Abi Rabiya

उमर बिन अबी रबीया

[Option ID = 16040]

10) The Arab conquered Spain during the rule of:

अरबों ने किसके शासनकाल के दौरान स्पेन को पराजित किया?

[Question ID = 11511][Question Description = 110_49_ARBC_SEP22_S4_Q10]

1. Abdul Malik

अब्दुल मलिक

[Option ID = 16041]

2. Waleed

वलीद

[Option ID = 16042]

3. Mosa bin Nusair

मूसा बिन नसीर

[Option ID = 16043]

4. Hisham

हिशाम

[Option ID = 16044]

11) Author of Hisab Al-Jabr wal Muqablah is:

'हिसाबुल जब् वल मुकाबला' पुस्तक का लेखक कौन है ?

[Question ID = 11512][Question Description = 111_49_ARBC_SEP22_S4_Q11]

1. Ibn AL-Haitham

इब्नुल हैशाम

[Option ID = 16045]

2. Ibn - Tufail

इब्न तुफैल

[Option ID = 16046]

3. Al-khwarizmi

अल-ख्वारिज़्मी

[Option ID = 16047]

4. Ibn Nadeem

इब्न नदीम

[Option ID = 16048]

12) Ibn-al-khatib's most famous book titled AL-Ihatah fi Akhbar Gharnatah is on

इब्नल खतीब की 'अल-इहता फ़ि अखबार गरनाता' शीर्षक पुस्तक किस विषय से सम्बंधित है?

[Question ID = 11513][Question Description = 112_49_ARBC_SEP22_S4_Q12]

1. History

इतिहास

[Option ID = 16049]

2. Geography

भूगोल

[Option ID = 16050]

3. Philosophy

दर्शनशास्त्र

[Option ID = 16051]

4. Medicine

चिकित्सा-शास्त्र

[Option ID = 16052]

13) Who among the Umayyad rulers declared Arabic as official language of the state

निम्नलिखित उमवी शासकों में से किसने अरबी को राज्य की आधिकारिक भाषा घोषित किया था ?

[Question ID = 11514][Question Description = 113_49_ARBC_SEP22_S4_Q13]

1. Hisham

हिशाम

[Option ID = 16053]

2. Waleed

वलीद

[Option ID = 16054]

3. Abdul Malik

अब्दुल मलिक

[Option ID = 16055]

4. Amir Muwayyah

अमीर मुआविया

[Option ID = 16056]

14) Custodian of Holy Kāba at the time of birth of the prophet was:

पैगम्बर मुहम्मद के जन्म के समय पवित्र काबा का परिरक्षक कौन था?

[Question ID = 11515][Question Description = 114_49_ARBC_SEP22_S4_Q14]

1. Abdul Muttalib

अब्दुल मुत्तलिब

[Option ID = 16057]

2. Abu Talib

अबू तालिब

[Option ID = 16058]

3. Utbah

उत्बा

[Option ID = 16059]

4. Shaibah

शैबा

[Option ID = 16060]

15) Companion of the Prophet during his stay inside cave Hira was:

हिरा गुफा में प्रवास के दौरान पैगम्बर स. का सहायी कौन था ?

[Question ID = 11516][Question Description = 115_49_ARBC_SEP22_S4_Q15]

1. Hazrat Umar

हज़रत उमर

[Option ID = 16061]

2. Hazrat Abu Bakar

हज़रत अबू, बकर

[Option ID = 16062]

3. Hazrat Ali

हज़रत अली

[Option ID = 16063]

4. Hazrat Uthman

हज़रत उस्मान

[Option ID = 16064]

16) Who among the following was honoured with the title of Zunnurain

निम्नलिखित में से किसे जुन्नूरैन के खिताब से सम्मनित किया गया था?

[Question ID = 11517][Question Description = 116_49_ARBC_SEP22_S4_Q16]

1. Hazrat Umar

हज़रत उमर

[Option ID = 16065]

2. Hazrat Uthman

हज़रत उस्मान

[Option ID = 16066]

3. Hazrat Ali

हज़रत अली

[Option ID = 16067]

4. Hazrat Abu Bakar

हज़रत अबू, बकर

[Option ID = 16068]

17) Which among the following is not one of the Jewish tribes of Medinah during the Prophet's time

पैगम्बर स. की कालावधि के दौरान निम्नलिखित में से कौन सी मदीना यहूदी जनजाति नहीं है?

[Question ID = 11518][Question Description = 117_49_ARBC_SEP22_S4_Q17]

1. Banu Nazeer

बनू, नज़ीर

[Option ID = 16069]

2. Banu Quraiza

बनू, कुरैज़ा

[Option ID = 16070]

3. Banu Qainqa

बनू, क़ैनक्का

[Option ID = 16071]

4. Aws tribe

एव्स जनजाति

[Option ID = 16072]

18) Great Islamic Jurist Iman Malik lived during the period of:

महान इस्लामी विधिवेत्ता इमाम मलिक निम्नलिखित में से किसके शासनकाल में थे?

[Question ID = 11519][Question Description = 118_49_ARBC_SEP22_S4_Q18]

1. Caliph Mutasim

खलीफा मुतासिम

[Option ID = 16073]

2. Caliph Mutawakkil

खलीफा मतवकिफल

[Option ID = 16074]

3. Caliph Haroun AL-Rasheed

खलीफा हारुन अल-रशीद

[Option ID = 16075]

4. Caliph Abdul Malik

खलीफा अब्दुल मलिक

[Option ID = 16076]

19) Which among the following is not among prominent Islamic schools of thoughts during Abbasid period
निम्नलिखित में से कौन सा प्रमुख इस्लामी विचार संप्रदाय अब्बासी शासनकाल का नहीं है?

[Question ID = 11520][Question Description = 119_49_ARBC_SEP22_S4_Q19]

1. AL-Qadriyah

अल-कादरिया

[Option ID = 16077]

2. AL-Murfiyah

अल-मुर्जिया

[Option ID = 16078]

3. AL-Asharait

अल-अशरै

[Option ID = 16079]

4. AL-Shiyah

अल-शिया

[Option ID = 16080]



20) Tuhfatul Mujahideen deals with the:

तुहफतुल मुजाहिदीन निम्नलिखित में से किससे संबंधित है?

[Question ID = 11521][Question Description = 120_49_ARBC_SEP22_S4_Q20]

1. Resistance against British

अंग्रेजों के विरुद्ध प्रतिरोध

[Option ID = 16081]

2. Resistance against French

फ्रांसीसियों के विरुद्ध प्रतिरोध

[Option ID = 16082]

3. Resistance against Portuguese

पुर्तगालियों के विरुद्ध प्रतिरोध

[Option ID = 16083]

4. Resistance against Dutch

डचों के विरुद्ध प्रतिरोध

[Option ID = 16084]

21) Hujjatullahi Al Balighah deals with:

हुज्जतुल्लाही अल बालिगा निम्नलिखित में से किससे संबंधित है?

[Question ID = 11522][Question Description = 121_49_ARBC_SEP22_S4_Q21]

1. Hadith

हदीस

[Option ID = 16085]

2. Uloomul Quran

उलूमुल कुरआन

[Option ID = 16086]

3. Islamic Shariyah

इस्लामी शरिया

[Option ID = 16087]

4. Logic

तर्क

[Option ID = 16088]

22) Who among the following is an eminent Persian poet known as Tutie Hind

नूतिए हिन्द नाम से पूख्यात फारसी कवि निम्नलिखित में से कौन है?

[Question ID = 11523][Question Description = 122_49_ARBC_SEP22_S4_Q22]

1. Abul Fazal

अबुल फज़ल

[Option ID = 16089]

2. Faizi

फ़ैज़ी

[Option ID = 16090]

3. Amir Khusro

अमीर खुसरो

[Option ID = 16091]

4. Bedil

बेदिल

[Option ID = 16092]

23) Darse Nizami in India was initiated by:

भारत में दरसे निज़ामी का शुभारंभ किसके द्वारा किया गया ?

[Question ID = 11524][Question Description = 123_49_ARBC_SEP22_S4_Q23]

1. Abdul Haque Muhaddith Dehlavi

अब्दुल हक़ मुहम्मदिस देहलवी

[Option ID = 16093]

2. Shah Waliullah Dehlavi

शाह वलीउल्ला देहलवी

[Option ID = 16094]

3. Mulla Nizamuddin Suharvi

मुल्ला निज़ामुद्दीन सुहलवी

[Option ID = 16095]

4. Abdul Hai Farangi Mahalli

अब्दुल हई फ़रंगी महल्ली

[Option ID = 16096]

24) Eminent personality not associated with Khilafat Movement is

निम्नलिखित में से कौन सा प्रसिद्ध व्यक्तित्व ख़िलाफ़त आन्दोलन से संबद्ध नहीं है ?

[Question ID = 11525][Question Description = 124_49_ARBC_SEP22_S4_Q24]

1. Maulana Muhammad Ali Jawhar

मौलाना मुहम्मद अली जौहर

[Option ID = 16097]

2. Maulana shaukat Ali

मौलाना शौकत अली

[Option ID = 16098]

3. Mahatma Gandhi

महात्मा गाँधी

[Option ID = 16099]

4. Begum Hazrat Mahal

बेगम हज़रत महल

[Option ID = 16100]

25) Father of the Optics is:

पूकाश-विज्ञान का जनक कौन है?

[Question ID = 11526][Question Description = 125_49_ARBC_SEP22_S4_Q25]

1. Ibn Tufail
इब्न तुफैल
[Option ID = 16101]
2. Ibn Nadeem
इब्न नदीम
[Option ID = 16102]
3. AL-Bairuni
अल-बिरूनी
[Option ID = 16103]
4. Ibn AL-Haitham
इब्नुल हैशाम
[Option ID = 16104]

26) Lozang Treaty was signed between Turk representatives and allied powers in 1923. Accordingly, Caliphate system was abolished and Turkey was declared a

लोजाम की संधि वर्ष 1923 में तुर्क प्रतिनिधियों और संधित शक्तियों के मध्य हुई थी जिसके अनुसार खलीफाई व्यवस्था का समापन हुआ और तुर्की निम्न रूप में घोषित हुआ:

[Question ID = 11527][Question Description = 126_49_ARBC_SEP22_S4_Q26]

1. Democracy
लोकतंत्र
[Option ID = 16105]
2. Socialist Republic
समाजवादी गणराज्य
[Option ID = 16106]
3. Monarchy
राजतंत्र
[Option ID = 16107]
4. Oligarchy
अल्पतंत्र
[Option ID = 16108]

27) Iskoriyal library, considered one of the oldest libraries having more than one thousand eight hundred and fifty precious books is situated in:

इस्कोरियाल पुस्तकालय सर्वाधिक प्राचीन पुस्तकालयों में से जाना जाता है जिसमें एक हजार आठ सौ पचास अमूल्य पुस्तकें हैं, वह पुस्तकालय कहाँ स्थित है?

[Question ID = 11528][Question Description = 127_49_ARBC_SEP22_S4_Q27]

1. Madrid
मैड्रिड
[Option ID = 16109]
2. Cordova
कूर्तवा
[Option ID = 16110]
3. Morocco
मोरक्को
[Option ID = 16111]
4. Toledo
टोलेडो
[Option ID = 16112]

28) Sultan Salahuddin took back Baitul Maqdis from Christians during the year

सुल्तान सलाहुद्दीन ने बैतुल मकदिस को ईसाईयों से किस वर्ष वापस लिया?

[Question ID = 11529][Question Description = 128_49_ARBC_SEP22_S4_Q28]

1. 1187 AD
1187 ई.
[Option ID = 16113]
2. 1184 AD
1184 ई.
[Option ID = 16114]
3. 1177 AD
1177 ई.
[Option ID = 16115]
4. 1174 AD
1174 ई.
[Option ID = 16116]

29) Author of Tahafut al - Tahafut is:

तहाफुत अल-तहाफुत के लेखक है:

[Question ID = 11530][Question Description = 129_49_ARBC_SEP22_S4_Q29]

1. Ibn Sina
इब्न सीना
[Option ID = 16117]
2. Ibn Rushd
इब्न रुश्द
[Option ID = 16118]
3. Ibn Tufail
इब्न तुफैल
[Option ID = 16119]
4. AL-Zahrawi
अल-ज़ह्रावी
[Option ID = 16120]

30) Author of Kilab at - Aghani is:

'कित़ाबुल अग़ानी' के लेखक है:

[Question ID = 11531][Question Description = 130_49_ARBC_SEP22_S4_Q30]

1. AL-Jahiz
अल-जाहिज़
[Option ID = 16121]
2. Raghib AL-Asfahami
रगीबुल अस्फ़हानी
[Option ID = 16122]
3. Abul Faraj AL-Asfahani
अबुल फ़राज अल-अस्फ़हानी
[Option ID = 16123]
4. Ibn Abd Rabbehi
इब्न अब्द रब्बेही
[Option ID = 16124]

31) Author of Muruj al - Zahab is

'मुरुजुल ज़हब' के लेखक हैं :

[Question ID = 11532][Question Description = 131_49_ARBC_SEP22_S4_Q31]

1. AL-Masudi
अल-मसूदी
[Option ID = 16125]
2. AL-Tabri
अल-तबरी
[Option ID = 16126]
3. Yaqut AL-Hamwi
याकूत अल-हमवी

[Option ID = 16127]

4. AL-Jahiz
अल-जाहिज़

[Option ID = 16128]

32) Father of Arabic Alchemy was

अरबी रसायनशास्त्र के जनक कौन थे?

[Question ID = 11533][Question Description = 132_49_ARBC_SEP22_S4_Q32]

1. AL-Masudi
अल-मसूदी

[Option ID = 16129]

2. AL-Tabri
अल-तबरी

[Option ID = 16130]

3. Jabir bin Hayyan
जाबिर बिन हय्यान

[Option ID = 16131]

4. Abu Hayyan Al-Tawhidi
अबू हय्यान अतौहीदी

[Option ID = 16132]

33) Risalat Fusus al Hikam was composed by

'रिसालतये फूसुसुल हिकम' की रचना किसने की थी?

[Question ID = 11534][Question Description = 133_49_ARBC_SEP22_S4_Q33]

1. AL- Kindi
अल-किन्दी

[Option ID = 16133]

2. AL-Farabi
अल-फारबी

[Option ID = 16134]

3. Ibn-Sina
इब्न-सीना

[Option ID = 16135]

4. AL-Razi
अल-राज़ी

[Option ID = 16136]

34) Last Abbasid astronomer philosopher was:

अंतिम अब्बासी खगोलशास्त्री दार्शनिक कौन था?

[Question ID = 11535][Question Description = 134_49_ARBC_SEP22_S4_Q34]

1. AL-Khawarizami
अल-खवारिज़मी

[Option ID = 16137]

2. Omar Al-khayyam
उमर अल-खय्याम

[Option ID = 16138]


3. AL-Battani
अल-बतानी

[Option ID = 16139]

4. Nasīr-al Dīn al Tusi
नसीरुद्दीन अल तूसी

[Option ID = 16140]

35) The book titled "Hai Ibn Yaqzan"was written by



'हई इब्न यवज़ी' शीर्षक पुस्तक किसने लिखी थी?

[Question ID = 11536][Question Description = 135_49_ARBC_SEP22_S4_Q35]

1. Ibn Tufail
इब्न तुफैल
[Option ID = 16141]
2. Ibn Zuhr
इब्न जुहर
[Option ID = 16142]
3. Ibn Rushd
इब्न रुशद
[Option ID = 16143]
4. Ibn Bajjah
इब्न बाज्जा
[Option ID = 16144]

36) Early Salajqah made their capital

आरम्भिक सल्जुकों ने अपनी राजधानी कहाँ बनाई ?

[Question ID = 11537][Question Description = 136_49_ARBC_SEP22_S4_Q36]

1. Isfahan
इस्फहान
[Option ID = 16145]
2. Marw
मर्व
[Option ID = 16146]
3. Baghdad
बगदाद
[Option ID = 16147]
4. Nishapur
निशापुर
[Option ID = 16148]



37) Who conquered the famous Roman city "Constantinople"

रोम का प्रसिद्ध शहर 'क़ुस्तुंतुनिया' किसने जीता था?

[Question ID = 11538][Question Description = 137_49_ARBC_SEP22_S4_Q37]

1. Mohammad AL-Fatah
मोहम्मद अल-फताह
[Option ID = 16149]
2. Murad II
मुयद II
[Option ID = 16150]
3. Bayazid II
बायज़ीद II
[Option ID = 16151]
4. Muhammad III
मुहम्मद III
[Option ID = 16152]

38) The last Ottomon Caliph was

अंतिम उस्मानी खलीफ़ा कौन था?

[Question ID = 11539][Question Description = 138_49_ARBC_SEP22_S4_Q38]

1. Sultan Abdul Hameed
सुल्तान अब्दुल हमीद
[Option ID = 16153]
2. Sultan Abdul Majeed II
सुल्तान अब्दुल मजीद II
[Option ID = 16154]

3. Abdul Hameed II

अब्दुल हमीद II

[Option ID = 16155]

4. Muhammad VI

मुहम्मद VI

[Option ID = 16156]

39) Who among the Ottoman sultans introduced Janissaries

निम्नलिखित में से किस उस्मानी सुल्तान ने एनिचरी का आरंभ किया?

[Question ID = 11540][Question Description = 139_49_ARBC_SEP22_S4_Q39]

1. Sultan Urkhan

सुल्तान उर्कहान

[Option ID = 16157]

2. Sultan Saleem

सुल्तान सलीम

[Option ID = 16158]

3. Sultan Mahmud

सुल्तान महमूद

[Option ID = 16159]

4. Sultan Bayazid

सुल्तान बायजीद

[Option ID = 16160]

40) AL-Zahra palace was built by Abdur Rahman III in memory of his

अब्दुर्रहमान III द्वारा किसकी स्मृति (याद) में अल-ज़हरा महल बनवाया गया था?

[Question ID = 11541][Question Description = 140_49_ARBC_SEP22_S4_Q40]

1. Wife

बेगम

[Option ID = 16161]

2. Concubine

दासी

[Option ID = 16162]

3. Servant

दास

[Option ID = 16163]

4. Beloved

प्रेयसी

[Option ID = 16164]

41) Badiuzzaman Said Nursi was

A. a religious reformer

B. a Muhaddis

C. a Faqeeh

D. a leading intellectual

Choose the *correct* answer from the options given below:

बदीउज़्ज़मॉँ सईद नूरसी निम्नलिखित में से क्या थे?

A. धार्मिक सुधारक

B. मुहदिस

C. फकीह

D. प्रमुख बुद्धिजीवी

नीचे दिए गए विकल्पों में से सही उत्तर चुनें :

[Question ID = 11542][Question Description = 141_49_ARBC_SEP22_S4_Q41]

1. A and B only.

केवल A और B

[Option ID = 16165]

2. B and C only.

केवल B और C

[Option ID = 16166]

3. A and D only.

केवल A और D

[Option ID = 16167]

4. C and D only.

केवल C और D

[Option ID = 16168]

42) Mohammas Ali Pasha sent student delegations to

A. America

B. France

C. Italy

D. Germany

Choose the *correct* answer from the options given below:

मोहम्मद अली पाशा ने छात्र डेलीगेशन किन देशों में भेजा?

A. अमेरिका

B. फ्रांस

C. इटली

D. जर्मनी

नीचे दिए गए विकल्पों में से सही उत्तर चुनें :

[Question ID = 11543][Question Description = 142_49_ARBC_SEP22_S4_Q42]

1. A and B only.

केवल A और B

[Option ID = 16169]

2. B and D only.

केवल B और D

[Option ID = 16170]

3. B and C only.

केवल B और C

[Option ID = 16171]

4. A and C only.

केवल A और C

[Option ID = 16172]

43) Maulana Jalaluddin Rumi was a

A. Politician

B. Muhaddis

C. Poet

D. Sufi

Choose the *correct* answer from the options given below:

मौलाना जलालुद्दीन रूमी थे:

- A. राजनेता
- B. मुहद्दिस
- C. कवि
- D. सूफ़ी

नीचे दिए गए विकल्पों में से सही उत्तर चुनें :

[Question ID = 11544][Question Description = 143_49_ARBC_SEP22_S4_Q43]

1. C and D

केवल C और D

[Option ID = 16173]

2. A and D

केवल A और D

[Option ID = 16174]

3. B and C

केवल B और C

[Option ID = 16175]

4. A and C

केवल A और C

[Option ID = 16176]

44) Imam Ghazali was a

- A. Social activist
- B. Philosopher
- C. Faqeeh (Jurisprudent)
- D. Muhaddis

Choose the *correct* answer from the options given below:

इमाम गज़ाली थे:

- A. सामाजिक कार्यकर्ता
- B. दार्शनिक
- C. फ़कीह (विधिशास्त्री)
- D. मुहद्दिस

नीचे दिए गए विकल्पों में से सही उत्तर चुनें :

[Question ID = 11545][Question Description = 144_49_ARBC_SEP22_S4_Q44]

1. A and C only.

केवल A और C

[Option ID = 16177]

2. B and C only.

केवल B और C

[Option ID = 16178]

3. C and D only.

केवल C और D



[Option ID = 16179]

4. B and D only.

केवल B और D

[Option ID = 16180]

45) Shaubia movement was

A. a religious movement

B. a social movement

C. a literary movement

D. a political movement

Choose the *correct* answer from the options given below:

शौबिया आंदोलन था:

A. धार्मिक आंदोलन

B. सामाजिक आंदोलन

C. साहित्यिक आंदोलन

D. राजनैतिक आंदोलन

नीचे दिए गए विकल्पों में से सही उत्तर चुनें :

[Question ID = 11546][Question Description = 145_49_ARBC_SEP22_S4_Q45]

1. A and B only.

केवल A और B

[Option ID = 16181]

2. B and C only.

केवल B और C

[Option ID = 16182]

3. C and D only.


केवल C और D

[Option ID = 16183]

4. B and D only.

केवल B और D

[Option ID = 16184]



46) Khilafat movement was

A. a religious movement

B. an educational movement

C. a political movement

D. a literary movement

Choose the *correct* answer from the options given below:

खिलाफत आंदोलन था:

A. धार्मिक आंदोलन

B. शैक्षणिक आंदोलन

C. राजनैतिक आंदोलन

D. साहित्यिक आंदोलन

नीचे दिए गए विकल्पों में से सही उत्तर चुनें :

[Question ID = 11547][Question Description = 146_49_ARBC_SEP22_S4_Q46]

1. A and B only.

केवल A और B

[Option ID = 16185]

2. B and C only.

केवल B और C

[Option ID = 16186]

3. A and C only.

केवल A और C

[Option ID = 16187]

4. C and D only.

केवल C और D

[Option ID = 16188]

47) Kash-shaf of Zamakhshari is

A. Commentary of Quran

B. Literary book

C. Hadith

D. History

Choose the *correct* answer from the options given below:

जमख़शरी की कश्शाफ़ है:

A. कुरआन की टीका

B. साहित्यिक पुस्तक

C. हदीस

D. इतिहास

नीचे दिए गए विकल्पों में से सही उत्तर चुनें :

[Question ID = 11548][Question Description = 147_49_ARBC_SEP22_S4_Q47]

1. A and C only.

केवल A और C

[Option ID = 16189]

2. A and B only.

केवल A और B

[Option ID = 16190]

3. B and C only.

केवल B और C

[Option ID = 16191]

4. C and D only.

केवल C और D

[Option ID = 16192]

48) Humayum Tomb is a combination of arts:

A. Islamic

B. Roman

C. Indian

D. Persian

Choose the *correct* answer from the options given below:

हुमायूँ का मकबरा निम्नलिखित में से किन कलाओं का संयोग है ?

A. इस्लामी

B. रोम

C. भारतीय

D. फ़ारसी

नीचे दिए गए विकल्पों में से सही उत्तर चुनें :

[Question ID = 11549][Question Description = 148_49_ARBC_SEP22_S4_Q48]

1. A and B only.

केवल A और B

[Option ID = 16193]

2. A and C only.

केवल A और C

[Option ID = 16194]

3. B and C only.

केवल B और C

[Option ID = 16195]

4. B and D only.

केवल B और D

[Option ID = 16196]

49) Allama Shibli Nomani was

A. a critic

B. a historian

C. a politician

D. an economist

Choose the *correct* answer from the options given below:

अल्लामा शिब्ली नोमानी थे :

A. आलोचक

B. इतिहासकार

C. राजनेता

D. अर्थशास्त्री

नीचे दिए गए विकल्पों में से सही उत्तर चुनें :

[Question ID = 11550][Question Description = 149_49_ARBC_SEP22_S4_Q49]

1. A and C only.

केवल A और C

[Option ID = 16197]

2. B and C only.

केवल B और C

[Option ID = 16198]

3. B and D only.

केवल B और D

[Option ID = 16199]

4. A and B only.

केवल A और B

[Option ID = 16200]

50) Amir khusru was associated with the court of rulers of the dynasties

A. Mughal

B. Suri

C. Tughlaq

D. Khilji

Choose the *correct* answer from the options given below:

अमीर खुसरो निम्नलिखित में से किन राजवंशों के शासकों के दरबार से संबद्ध थे?

- A. मुगल
- B. सूरी
- C. तुगलक
- D. खिलजी

नीचे दिए गए विकल्पों में से सही उत्तर चुनें :

[Question ID = 11551][Question Description = 150_49_ARBC_SEP22_S4_Q50]

1. A and B only.

केवल A और B

[Option ID = 16201]

2. B and D only.

केवल B और D

[Option ID = 16202]

3. C and D only.

केवल C और D

[Option ID = 16203]

4. A and C only.


केवल A और C

[Option ID = 16204]

51) Darse Nizami was started in

- A. Egypt
- B. Delhi
- C. Farangi Mahal (Lucknow)
- D. Baghdad

Choose the *correct* answer from the options given below:



दसें निज़ामी की शुरुआत कहीं हुई थी?

- A. मिस्र
- B. दिल्ली
- C. फरंगी महल (लखनऊ)
- D. बग़दाद

नीचे दिए गए विकल्पों में से सही उत्तर चुनें :

[Question ID = 11552][Question Description = 151_49_ARBC_SEP22_S4_Q51]

1. A and C only.

केवल A और C

[Option ID = 16205]

2. B and C only.

केवल B और C

[Option ID = 16206]

3. A and B only.

केवल A और B

[Option ID = 16207]

4. C and D only.

केवल C और D

[Option ID = 16208]

52) Jamaluddin Afghani visited

- A. Egypt
- B. China
- C. Burma
- D. Turkey

Choose the *correct* answer from the options given below:

जमालुद्दीन अफगानी ने निम्नलिखित में से किस देश में भ्रमण किया :

- A. मिस्र
- B. चीन
- C. बर्मा
- D. तुर्की

नीचे दिए गए विकल्पों में से सही उत्तर चुनें

[Question ID = 11553][Question Description = 152_49_ARBC_SEP22_S4_Q52]

1. A and B only.
केवल A और B

[Option ID = 16209]

2. B and C only.
केवल B और C

[Option ID = 16210]

3. A and D only.
केवल A और D

[Option ID = 16211]

4. D and C only.
केवल C और D

[Option ID = 16212]



53) Maulana Abul Kalam Azad was

- A. Muhaddis
- B. Faqeeh
- C. Journalist
- D. Educationist

Choose the *correct* answer from the options given below:

मौलाना अबुल कलाम आज़ाद थे :

- A. मुहद्दिस
- B. फ़कीह
- C. पत्रकार
- D. शिक्षाशास्त्री

नीचे दिए गए विकल्पों में से सही उत्तर चुनें :

[Question ID = 11554][Question Description = 153_49_ARBC_SEP22_S4_Q53]

1. A and D only.
केवल A और D

[Option ID = 16213]

2. C and D only.
केवल C और D

[Option ID = 16214]

3. B and C only.

केवल B और C

[Option ID = 16215]

4. B and D only.

केवल B और D

[Option ID = 16216]

54) Lisanuddin Khatib was

A. Prime Minister

B. Historian

C. Critic

D. Muhaddis

Choose the *correct* answer from the options given below:

लिसानुद्दीन खतीब थे :

A. प्रधानमंत्री

B. इतिहासकार

C. आलोचक

D. मुहदिस

नीचे दिए गए विकल्पों में से सही उत्तर चुनें :

[Question ID = 11555][Question Description = 154_49_ARBC_SEP22_S4_Q54]

1. A and B only.

केवल A और B

[Option ID = 16217]

2. B and C only.

केवल B और C

[Option ID = 16218]

3. C and D only.

केवल C और D

[Option ID = 16219]

4. A and D only.

केवल A और D

[Option ID = 16220]

55) Two prominent (Katibeen Wahe) copy-writers of Quranic revelation were:

A. Abdullah bin Abbas

B. Ali bin Abi Talib

C. Zaib bin Sabit

D. Abu Hurairah

Choose the *correct* answer from the options given below:

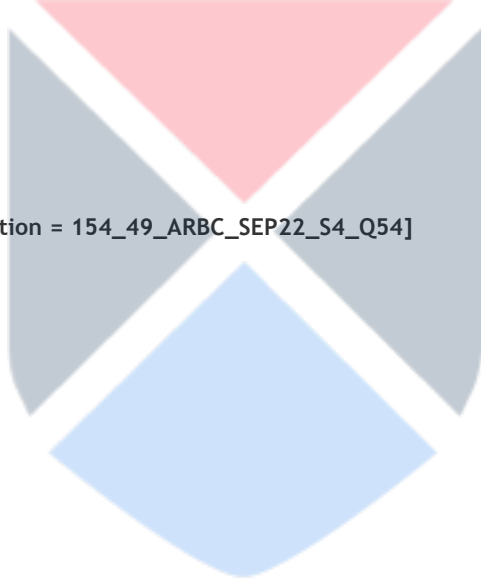
दो प्रमुख वही के कातिबान-वहा (कुगनी) कौन थे :

A. अब्दुल्ला इब्न अब्बास

B. अली इब्न अबी तालिब

C. ज़ैद बिन साबित

D. अबू हुरैरा



नीचे दिए गए विकल्पों में से सही उत्तर चुनें:

[Question ID = 11556][Question Description = 155_49_ARBC_SEP22_S4_Q55]

1. A and C only.

केवल A और C

[Option ID = 16221]

2. B and D only.

केवल B और D

[Option ID = 16222]

3. B and C only.

केवल B और C

[Option ID = 16223]

4. C and D only.

केवल C और D

[Option ID = 16224]

56) Qasim Ameen wrote two books on women. These are:

A. Tahreerul Mara'h

B. Suratul Mara'h

C. Al-Mara'h al Jadeedah

D. Al-Mara'h fil Islam

Choose the *correct* answer from the options given below:

कासिम अमीन ने महिलाओं पर केंद्रित दो पुस्तकें लिखीं, वे पुस्तकें निम्नलिखित में से कौन सी हैं :

A. तहरीरुल मराह

B. सूरतुल मराह

C. अल-मराह अल जदीदह

D. अल-मराह फ़िल इस्लाम

नीचे दिए गए विकल्पों में से सही उत्तर चुनें :

[Question ID = 11557][Question Description = 156_49_ARBC_SEP22_S4_Q56]

1. A and B only.

केवल A और B

[Option ID = 16225]

2. A and C only.

केवल A और C

[Option ID = 16226]

3. B and C only.

केवल B और C

[Option ID = 16227]

4. C and D only.

केवल C और D

[Option ID = 16228]

57) Al-Urwatul usqa magazine was edited by two scholars:

A. Qasim Ameen

B. Ahmad Ameen

C. Sheikh Mohammad Abduh

D. Jamaluddin Afghani

Choose the *correct* answer from the options given below:

अल-उर्वतुल उस्का पत्रिका निम्नलिखित दो विद्वानों द्वारा संपादित की गई थी :

A. कासिम अमीन

B. अहमद अमीन

C. शेख मोहम्मद अब्दुह

D. जमालुद्दीन अफगानी

नीचे दिए गए विकल्पों में से सही उत्तर चुनें :

[Question ID = 11558][Question Description = 157_49_ARBC_SEP22_S4_Q57]

1. A and B only.

केवल A और B

[Option ID = 16229]

2. B and C only.

केवल B और C

[Option ID = 16230]

3. B and D only.

केवल B और D

[Option ID = 16231]

4. C and D only.

केवल C और D

[Option ID = 16232]

58) Two prominent disciples of Imam Abu Hanifa were

A. Yusuf

B. Shafiee

C. Mohammad

D. Malik

Choose the *correct* answer from the options given below:

इमाम अबू हनीफ़ा के दो प्रमुख शिष्य कौन थे ?

A. यूसुफ

B. शफी

C. मोहम्मद

D. मलिक

नीचे दिए गए विकल्पों में से सही उत्तर चुनें :

[Question ID = 11559][Question Description = 158_49_ARBC_SEP22_S4_Q58]

1. B and C only.

केवल B और C

[Option ID = 16233]

2. A and C only.

केवल A और C

[Option ID = 16234]

3. C and D only.

केवल C और D

[Option ID = 16235]

4. B and D only.

केवल B और D

[Option ID = 16236]

59) There were two official languages in Ottomon Empire. They were:

A. Persian

B. Turkish

C. Arabic

D. Italiyan

Choose the *correct* answer from the options given below:

उस्मानी साम्राज्य की दो आधिकारिक भाषाएँ थीं वे निम्नलिखित में से कौन सी थी :

- A. फारसी
- B. तुर्की
- C. अरबी
- D. इतालवी

नीचे दिए गए विकल्पों में से सही उत्तर चुनें :

[Question ID = 11560][Question Description = 159_49_ARBC_SEP22_S4_Q59]

1. B and D only.
केवल B और D
[Option ID = 16237]
2. C and D only.
केवल C और D
[Option ID = 16238]
3. B and C only.
केवल B और C
[Option ID = 16239]
4. A and B only.
केवल A और B
[Option ID = 16240]

60) Nizamul Mulk Tusi was

- A. A writer
- B. Muhaddis
- C. Founder of a Madarsa
- D. Mufassir

Choose the *correct* answer from the options given below:

निज़ामुल मुल्क तुसी था :

- A. लेखक
- B. मुहद्दिस
- C. मदरसे का संस्थापक
- D. मुफ़सिर


नीचे दिए गए विकल्पों में से सही उत्तर चुनें

[Question ID = 11561][Question Description = 160_49_ARBC_SEP22_S4_Q60]

1. A and B only.
केवल A और B
[Option ID = 16241]
2. A and C only.
केवल A और C
[Option ID = 16242]
3. B and C only.
केवल B और C
[Option ID = 16243]
4. C and D only.
केवल C और D
[Option ID = 16244]

61) Two great orators emerged during Umayyad period. They were:

- A. Marwan
- B. Zeyad bin Arabi
- C. Waleed



D. Hajjaj bin Yusuf

Choose the *correct* answer from the options given below:

उमवी शासन काल के दौरान दो वाग्मी (वक्ताओं) का प्रादुर्भाव हुआ वे थे :

- A. मरवान
- B. ज़ैद बिन अरबी
- C. वलीद
- D. हज्जाम बिन यूसुफ

नीचे दिए गए विकल्पों में से सही उत्तर चुनें:

[Question ID = 11562][Question Description = 161_49_ARBC_SEP22_S4_Q61]

1. B and D only.
केवल B और D
[Option ID = 16245]
2. A and D only.
केवल A और D
[Option ID = 16246]
3. C and D only.
केवल C और D
[Option ID = 16247]
4. B and C only.
केवल B और C
[Option ID = 16248]

62) The companion of the Prophet (PBUH) Ali bin Abi Talib was

- A. a poet
- B. a faqeeh (Jurisprudent)
- C. muhaddis
- D. commentator

Choose the *correct* answer from the options given below:

पेंगम्बर (स.) के सहाबी अली बिन अबी तालिब थे :

- A. कवि
- B. फकीह (विधिशास्त्री)
- C. मुहदिस
- D. भाष्यकार

नीचे दिए गए विकल्पों में से सही उत्तर चुनें :

[Question ID = 11563][Question Description = 162_49_ARBC_SEP22_S4_Q62]

1. A and C only.
केवल A और C
[Option ID = 16249]
2. B and D only.
केवल B और D
[Option ID = 16250]
3. B and C only.
केवल B और C
[Option ID = 16251]
4. A and B only.
केवल A और B
[Option ID = 16252]

63) Tribes of Madina supported The prophet (PUBH) were

- A. Banu Quraiza

B. Banu Qainuqa

C. Aus

D. Khazraj

Choose the *correct* answer from the options given below:

पेगम्बर (स.) की हिमायती मदीना की जनजातियाँ (कबीले) कौन थे ?

A. बन्ू कुरैज़ा

B. बन्ू कैनुका

C. औस

D. खज़रज

नीचे दिए गए विकल्पों में से सही उत्तर चुनें :

[Question ID = 11564][Question Description = 163_49_ARBC_SEP22_S4_Q63]

1. C and A only.

केवल A और C

[Option ID = 16253]

2. C and D only.

केवल C और D

[Option ID = 16254]

3. B and C only.

केवल B और C

[Option ID = 16255]

4. A and D only.

केवल A और D

[Option ID = 16256]

64) Muhammad Abduh and Sir Syed Ahmad Khan were

A. Politicians

B. Social Reformers

C. Orators

D. Educationist

Choose the *correct* answer from the options given below:

मुहम्मद अब्दुह और सर सैयद अहमद खाँ थे?

A. राजनेता

B. समाज सुधारक

C. वक्ता

D. शिक्षा-शास्त्री

नीचे दिए गए विकल्पों में से सही उत्तर चुनें :

[Question ID = 11565][Question Description = 164_49_ARBC_SEP22_S4_Q64]

1. B and A only.

केवल A और B

[Option ID = 16257]

2. C and B only.

केवल B और C

[Option ID = 16258]


3. D and A only.

केवल A और D

[Option ID = 16259]

4. B and D only.

केवल B और D



[Option ID = 16260]

- 65) Mustafa Kamal was
A. a religious reformer
B. an army commander
C. an educationist
D. a politician

Choose the correct answer from the options given below:

मुस्तफ़ा कमाल क्या थे ?

- A. धार्मिक सुधारक
B. सेनानायक
C. शिक्षा-शास्त्री
D. राजनेता

नीचे दिए गए विकल्पों में से सही उत्तर चुनें :

[Question ID = 11566][Question Description = 165_49_ARBC_SEP22_S4_Q65]

1. A and B only.
केवल A और B

[Option ID = 16261]

2. B and C only.
केवल B और C

[Option ID = 16262]

3. B and D only.
केवल B और D

[Option ID = 16263]

4. A and C only.
केवल A और C

[Option ID = 16264]



66) Match List I with List II

List I	List II
A. Umayyad	I. 874-1005 AD
B. Abbarid	II. 909-1171 AD
C. Samanid	III. 661-750 AD
D. Fatimid	IV. 750-1258 AD

Choose the correct answer from the options given below:

सूची -I को सूची -II से सुमेलित कीजिए :

सूची -I	सूची -II
A. उमवी	I. 874-1005 ई.
B. अब्बासी	II. 909-1171 ई.
C. समानी	III. 661-750 ई.
D. फातिमी	IV. 750-1258 ई.

नीचे दिए गए विकल्पों में से सही उत्तर चुनिए :

[Question ID = 11567][Question Description = 166_49_ARBC_SEP22_S4_Q66]

1. A - I, B - II, C - III, D - IV

[Option ID = 16265]

2. A - III, B - IV, C - I, D - II

[Option ID = 16266]

3. A - IV, B - III, C - II, D - I

[Option ID = 16267]

4. A - I, B - IV, C - II, D - III

[Option ID = 16268]

67) Match List I with List II

List I	List II
A. Ihyau Uloomiddin	I. Shah Waliullah
B. Hujjtullahil Balighah	II. Alberuni
C. Kitabul Hind	III. Ali bin Uthman Hujwari
D. Kashful Mahjub	IV. Ghazzali

Choose the correct answer from the options given below:

सूची -I को सूची -II से सुमेलित कीजिए :

सूची -I	सूची -II
A. एहयाअुल उलूमिदीन	I. शाह वली उल्ला
B. हुज्जतुल्लाहिल बालिगा	II. अलबिरुनी
C. किताबुल हिन्द	III. अली बिन उर्रमान हुज्वेरी
D. कश्फुल महजुब	IV. गज़ाली

नीचे दिए गए विकल्पों में से सही उत्तर चुनिए :

[Question ID = 11568][Question Description = 167_49_ARBC_SEP22_S4_Q67]

1. A - III, B - II, C - IV, D - I

[Option ID = 16269]

2. A - I, B - II, C - III, D - IV

[Option ID = 16270]

3. A - IV, B - I, C - II, D - III

[Option ID = 16271]

4. A - II, B - IV, C - III, D - I

[Option ID = 16272]

68) Match List I with List II

List I	List II
A. Bukhari	I. Badlul Majhud
B. Tirmizi	II. Fathul Bari
C. Muatta	III. Tuhfatul Ahwazi
D. Sunan Abu Daud	IV. Al musawwa

Choose the correct answer from the options given below:

सूची -I को सूची -II से सुमेलित कीजिए :

सूची -I	सूची -II
A. बुखारी	I. बदलुल मजहूद
B. तिरमिज़ी	II. फतहूल बारी
C. मुअत्ता	III. तुहफतूल अहवाज़ी
D. सुनान अब्ब दाउद	IV. अलमुसव्वा

नीचे दिए गए विकल्पों में से सही उत्तर चुनिए :

[Question ID = 11569][Question Description = 168_49_ARBC_SEP22_S4_Q68]

1. A - III, B - II, C - I, D - IV

[Option ID = 16273]


2. A - IV, B - III, C - II, D - I

[Option ID = 16274]

3. A - I, B - II, C - III, D - IV

[Option ID = 16275]

4. A - II, B - III, C - IV, D - I



[Option ID = 16276]

69) Match List I with List II

List I	List II
A. A short history of Saracens	I. Blazri
B. History of the Arabs	II. Abdur Razzaq Kanpuri
C. Futuhul Buldan	III. P.K Hitti
D. Tarikhe Baramaka	IV. Sayed Ameer Ali

Choose the correct answer from the options given below:

सूची -I को सूची -II से सुमेलित कीजिए :

सूची -I	सूची -II
A. ए शार्ट हिस्ट्री ऑफ सारसेन्स	I. बलाज़री
B. हिस्ट्री ऑफ द अरब्स	II. अब्दुर रज़्ज़ाक कानपुरी
C. फुतूहुल बुल्दान	III. पी.के. हिट्टी
D. तारीखे बरमेका	IV. सैय्यद अमीर अली

नीचे दिए गए विकल्पों में से सही उत्तर चुनिए :

[Question ID = 11570][Question Description = 169_49_ARBC_SEP22_S4_Q69]

1. A - IV, B - III, C - I, D - II

[Option ID = 16277]

2. A - I, B - II, C - III, D - IV

[Option ID = 16278]

3. A - III, B - II, C - IV, D - I

[Option ID = 16279]

4. A - II, B - III, C - I, D - IV

[Option ID = 16280]

70) Match List I with List II

List I	List II
A. Ottomons	I. Tehran
B. Qacharies	II. Istambul
C. Mughal	III. Cairo
D. Fatimid	IV. Delhi

Choose the correct answer from the options given below:

सूची -I को सूची -II से सुमेलित कीजिए :

सूची -I	सूची -II
A. उस्मानी	I. तेहरान
B. काचारी	II. इस्तांबुल
C. मुगल	III. काहिरा
D. फ़ातिमी	IV. दिल्ली

नीचे दिए गए विकल्पों में से सही उत्तर चुनिए :

[Question ID = 11571][Question Description = 170_49_ARBC_SEP22_S4_Q70]

1. A - IV, B - III, C - II, D - I

[Option ID = 16281]

2. A - II, B - I, C - IV, D - III

[Option ID = 16282]

3. A - I, B - II, C - III, D - IV

[Option ID = 16283]

4. A - III, B - II, C - IV, D - I

[Option ID = 16284]

71) Match List I with List II

List I	List II
A. Usd al-Ghabah	I. Al-Baladhuri
B. Mujam al-Buldan	II. Yaqut al-Hamwi
C. Futuh al-Buldan	III. Al-Razi
D. Kitab al-Asrar	IV. Ibn Al-Athir

Choose the correct answer from the options given below:

सूची -I को सूची -II से सुमेलित कीजिए :

सूची -I	सूची -II
A. उस्द अल ग़ाबा	I. अल-बलाज़री
B. मुअजम अल बुल्दान	II. याकूत अल-हमवी
C. फ़तूहुल बुल्दान	III. अल-राज़ी
D. किताबुल असरार	IV. इब्न अल-असीर

नीचे दिए गए विकल्पों में से सही उत्तर चुनिए :

[Question ID = 11572][Question Description = 171_49_ARBC_SEP22_S4_Q71]

1. A - IV, B - I, C - II, D - III

[Option ID = 16285]

2. A - III, B - I, C - IV, D - II

[Option ID = 16286]

3. A - I, B - IV, C - II, D - III

[Option ID = 16287]

4. A - II, B - I, C - III, D - IV

[Option ID = 16288]

72) Match List I with List II

List I	List II
A. Tahrike khilaphat	I. Mahmudul Hasan
B. Tahrik Reshmi Rumal	II. Muhammad Ali Zawhar
C. Tahrike Ahrar	III. Khan Abdul Gaffar Khan
D. Khudai khidmatgar	IV. Obaidullah Sindhi

Choose the correct answer from the options given below:

सूची -I को सूची -II से सुमेलित कीजिए :

सूची -I	सूची -II
A. तहरीके ख़िलाफ़त	I. महमूदुल हसन
B. तहरीक रेशमी रुमाल	II. मुहम्मद अली जौहर
C. तहरीके अहरार	III. खान अब्दुल ग़फ़ार खान
D. ख़ुदाई ख़िदमतगार	IV. उबैदुल्ला सिन्धी

नीचे दिए गए विकल्पों में से सही उत्तर चुनिए :

[Question ID = 11573][Question Description = 172_49_ARBC_SEP22_S4_Q72]

1. A - IV, B - II, C - III, D - I

[Option ID = 16289]

2. A - II, B - IV, C - I, D - III

[Option ID = 16290]

3. A - I, B - IV, C - II, D - III

[Option ID = 16291]

4. A - I, B - III, C - II, D - IV

[Option ID = 16292]

73) Match List I with List II

List I	List II
A. Qadsiyah/Iran	I. Tariq bin Ziyad
B. Egypt	II. Muhammad Al-Fateh
C. Constantinople	III. Amr 'ibnul Aas
D. Spain (Andalus)	IV. Sád bin Waqqas

Choose the correct answer from the options given below:

सूची -I को सूची -II से सुमेलित कीजिए :

सूची -I	सूची -II
A. क़ादिसिया / ईरान	I. तारिक बिन ज़ियाद
B. मिस्र	II. मुहम्मद अल फ़तेह
C. क़ुस्तुन्तुनिया	III. अम्र इबनुल आस
D. स्पेन (अंदलूस)	IV. साद बिन वक्कास

नीचे दिए गए विकल्पों में से सही उत्तर चुनिए :

[Question ID = 11574][Question Description = 173_49_ARBC_SEP22_S4_Q73]

1. A - II, B - I, C - IV, D - III

[Option ID = 16293]

2. A - I, B - II, C - IV, D - III

[Option ID = 16294]

3. A - IV, B - III, C - II, D - I

[Option ID = 16295]

4. A - III, B - IV, C - II, D - I

[Option ID = 16296]

74) Match List I with List II

List I	List II
A. Al-Tabri	I. Fajrul Islam
B. Al-Masudi	II. Tabaqat
C. Ibn Sa'ad	III. Murujul Zahab
D. Ahmed Amin	IV. Tarikh ul Tabri

Choose the correct answer from the options given below:

सूची -I को सूची -II से सुमेलित कीजिए :

सूची -I	सूची -II
A. अल तबरी	I. फज़रुल इस्लाम
B. अल मसूदी	II. तबक़ात
C. इब्न साद	III. मुरुजुल ज़हब
D. अहमद अमीन	IV. तारीखुल तबरी

नीचे दिए गए विकल्पों में से सही उत्तर चुनिए :

[Question ID = 11575][Question Description = 174_49_ARBC_SEP22_S4_Q74]

1. A - II, B - IV, C - I, D - III

[Option ID = 16297]

2. A - IV, B - III, C - II, D - I

[Option ID = 16298]

3. A - I, B - IV, C - III, D - II

[Option ID = 16299]

4. A - II, B - I, C - III, D - IV

[Option ID = 16300]

75) Match List I with List II

List I	List II
A. Mú tazila	I. Ali Muhammad Bab

B. Murjiah	II. Abul Hasan Ali
C. Ashariyah	III. Wasil bin Ata
D. Mahdawi	IV. Jahm bin Safwan

Choose the correct answer from the options given below:

सूची -I को सूची -II से सुमेलित कीजिए :

सूची -I	सूची -II
A. मोतज़िला	I. अली मुहम्मद बाब
B. मुर्जिया	II. अबुल हसन अली
C. अशअरिया	III. वासिल बिन अता
D. महदवी	IV. जहम बिन सफवान

नीचे दिए गए विकल्पों में से सही उत्तर चुनिए :

[Question ID = 11576][Question Description = 175_49_ARBC_SEP22_S4_Q75]

1. A - III, B - IV, C - II, D - I

[Option ID = 16301]

2. A - I, B - IV, C - III, D - II

[Option ID = 16302]

3. A - II, B - III, C - I, D - IV

[Option ID = 16303]

4. A - IV, B - II, C - I, D - III

[Option ID = 16304]

76) Arrange the following in chronological order

- Imam Bukhari
- Ibn Shihab Zohri
- Imam Muslim
- Imam Malik

Choose the *correct* answer from the options given below:

निम्नलिखित को कालक्रमानुसार व्यवस्थित कीजिए :

- इमाम बुखारी
- इब्न शिहाब जौहरी
- इमाम मुस्लिम
- इमाम मलिक

नीचे दिए गए विकल्पों में से सही उत्तर चुनें :

[Question ID = 11577][Question Description = 176_49_ARBC_SEP22_S4_Q76]

1. D, C, A, B

[Option ID = 16305]

2. B, D, A, C

[Option ID = 16306]

3. C, A, B, D

[Option ID = 16307]

4. D, B, C, A

[Option ID = 16308]

77) Arrange the following in chronological order

- Al-Jassas
- Al-Razi
- Zamakhshri

D. Al-Tabri

Choose the *correct* answer from the options given below:

निम्नलिखित को कालक्रमानुसार व्यवस्थित कीजिए :

- A. अल-जरसास
- B. अल-यज़ी
- C. जमरूशरी
- D. अल-तबरी

नीचे दिए गए विकल्पों में से सही उत्तर चुनें :

[Question ID = 11578][Question Description = 177_49_ARBC_SEP22_S4_Q77]

1. D, B, C, A

[Option ID = 16309]

2. C, B, D, A

[Option ID = 16310]

3. A, B, C, D

[Option ID = 16311]

4. B, C, A, D

[Option ID = 16312]

78) Arrange the following in chronological order

- A. Omar bin Abdul Aziz
- B. Suleiman
- C. Walid
- D. Abdul Malik

Choose the *correct* answer from the options given below:

निम्नलिखित को कालक्रमानुसार व्यवस्थित कीजिये :

- A. उमर बिन अब्दुल अज़ीज़
- B. सुलेमान
- C. वलीद
- D. अब्दुल मलिक

नीचे दिए गए विकल्पों में से सही उत्तर चुनें :

[Question ID = 11579][Question Description = 178_49_ARBC_SEP22_S4_Q78]

1. C, B, A, D

[Option ID = 16313]

2. B, C, D, A

[Option ID = 16314]

3. D, C, B, A

[Option ID = 16315]

4. A, C, D, B

[Option ID = 16316]

79) Arrange the following in chronological order

- A. Abu Hanifa

B. Muhammad

C. Jafar

D. Yousuf

Choose the *correct* answer from the options given below:

निम्नलिखित को कालक्रमानुसार व्यवस्थित कीजिये :

A. अबू हनीफ़ा

B. मुहम्मद

C. जाफ़र

D. यूसुफ़

नीचे दिए गए विकल्पों में से सही उत्तर चुनें :

[Question ID = 11580][Question Description = 179_49_ARBC_SEP22_S4_Q79]

1. B, D, C, A

[Option ID = 16317]

2. C, B, D, A

[Option ID = 16318]

3. A, D, B, C

[Option ID = 16319]

4. B, C, D, A

[Option ID = 16320]

80) Arrange the following in chronological order

A. Fatehpur Sikri

B. Humayun Tomb

C. Qutub Minar

D. India Gate

Choose the *correct* answer from the options given below:

निम्नलिखित को कालक्रमानुसार व्यवस्थित कीजिये :

A. फतेहपुर सीकरी

B. हुमायूँ का मकबरा

C. कुतुबमीनार

D. इंडिया गेट

नीचे दिए गए विकल्पों में से सही उत्तर चुनें :

[Question ID = 11581][Question Description = 180_49_ARBC_SEP22_S4_Q80]

1. D, A, B, C

[Option ID = 16321]

2. C, B, A, D

[Option ID = 16322]

3. A, C, B, D

[Option ID = 16323]

4. B, D, C, A

[Option ID = 16324]

81) Arrange the following in chronological order

- A. Amir Muawiya
- B. Walid
- C. Adbul Malik
- D. Yazid I

Choose the *correct* answer from the options given below:

निम्नलिखित को कालक्रमानुसार व्यवस्थित कीजिये :

- A. अमीर मुआविया
- B. वलीद
- C. अब्दुल मलिक
- D. यज़ीद I

नीचे दिए गए विकल्पों में से सही उत्तर चुनें :

[Question ID = 11582][Question Description = 181_49_ARBC_SEP22_S4_Q81]

1. A, D, C, B

[Option ID = 16325]

2. C, D, A, B

[Option ID = 16326]

3. D, B, C, A

[Option ID = 16327]

4. B, D, A, C

[Option ID = 16328]

82) Arrange the following in chronological order:

- A. Artagral
- B. Murad I
- C. Bayzid I
- D. Urkhan

Choose the *correct* answer from the options given below:

निम्नलिखित को कालक्रमानुसार व्यवस्थित कीजिये :

- A. अर्तग़ल
- B. मुयद
- C. बायज़ीद I
- D. उर्क़हान

नीचे दिए गए विकल्पों में से सही उत्तर चुनें :

[Question ID = 11583][Question Description = 182_49_ARBC_SEP22_S4_Q82]

1. D, B, C, A

[Option ID = 16329]

2. A, D, B, C

[Option ID = 16330]

3. B, C, D, A

[Option ID = 16331]

4. C, A, B, D

[Option ID = 16332]

83) Arrange the following in chronological order

- A. Allama Shibli Nomani

- B. Shah Abdul Aziz
- C. Shah Waliullah
- D. Allama Suleiman Nadwi

Choose the *correct* answer from the options given below:

निम्नलिखित को कालक्रमानुसार व्यवस्थित कीजिये :

- A. अल्लामा शिब्ली नोमानी
- B. शाह अब्दुल अज़ीज़
- C. शाह वलीउल्ला
- D. अल्लामा सुलेमान नदवी

नीचे दिए गए विकल्पों में से सही उत्तर चुनें :

[Question ID = 11584][Question Description = 183_49_ARBC_SEP22_S4_Q83]

1. B, D, C, A

[Option ID = 16333]

2. A, B, D, C

[Option ID = 16334]

3. D, C, A, B

[Option ID = 16335]

4. C, B, A, D

[Option ID = 16336]

84) Arrange the following in chronological order

- A. Razia Sultana
- B. Iltutmish
- C. Firoz Shah Tughlaq
- D. Alauddin Khalji

Choose the *correct* answer from the options given below:

निम्नलिखित को कालक्रमानुसार व्यवस्थित कीजिये :

- A. रज़िया सुल्ताना
- B. इल्तुतमिश
- C. फ़िरोज़शाह तुग़लक़
- D. अलाउद्दीन खिलजी

नीचे दिए गए विकल्पों में से सही उत्तर चुनें :

[Question ID = 11585][Question Description = 184_49_ARBC_SEP22_S4_Q84]

1. B, A, D, C

[Option ID = 16337]

2. C, A, B, D

[Option ID = 16338]

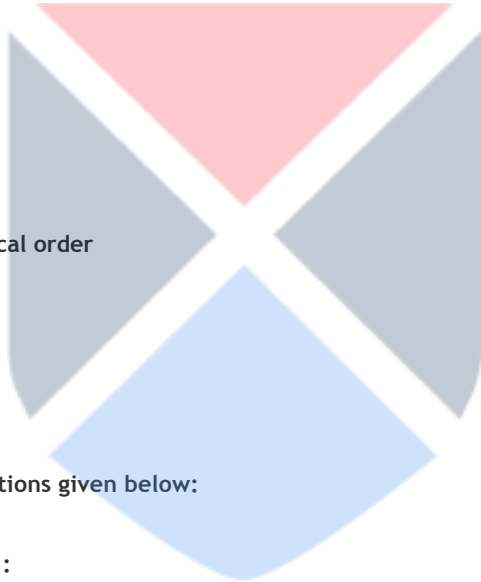
3. D, B, C, A

[Option ID = 16339]

4. A, C, B, D

[Option ID = 16340]

85) Arrange the following in chronological order



- A. Baghdad
- B. Kufa
- C. Cairo
- D. Ramalla

Choose the *correct* answer from the options given below:

निम्नलिखित को कालक्रमानुसार व्यवस्थित कीजिये :

- A. बग़दाद
- B. कूफ़ा
- C. काहिरा
- D. रामल्ला

नीचे दिए गए विकल्पों में से सही उत्तर चुनें :

[Question ID = 11586][Question Description = 185_49_ARBC_SEP22_S4_Q85]

1. B, A, D, C

[Option ID = 16341]

2. A, B, D, C

[Option ID = 16342]

3. C, B, D, A

[Option ID = 16343]

4. C, D, B, A

[Option ID = 16344]

86) Given below are two statements, one is labelled as Assertion (A) and the other is labelled as Reason (R).

Assertion (A): Sir Sayyid wrote Aatharussanadeed in Urdu

Reason (R): The theme of Aatharussanadeed is social reform in India

In light of the above statements, choose the *most appropriate* answer from the options given below:

नीचे दो कथन दिए गए हैं : एक को अभिकथन (A) और दूसरे को कारण (R) कहा गया है

अभिकथन (A) : सर सैयद ने आसारुसनादीद की रचना उर्दू में की

कारण (R) : आसारुसनादीद की विषय-वस्तु भारत में समाज सुधार पर केंद्रित है

उपर्युक्त कथनों के आलोक में निम्नांकित विकल्पों में से सही उत्तर चुनें :

[Question ID = 11587][Question Description = 186_49_ARBC_SEP22_S4_Q86]

1. Both (A) and (R) are correct and (R) is the correct explanation of (A).

(A) और (R) दोनों सही हैं और (R), (A) की सही व्याख्या है

[Option ID = 16345]

2. Both (A) and (R) are correct and (R) is the correct explanation of (A).

(A) और (R) दोनों सही हैं परन्तु (R), (A) की सही व्याख्या नहीं है

[Option ID = 16346]

3. (A) is correct but (R) is not correct.

(A) सही है परन्तु (R) सही नहीं है

[Option ID = 16347]

4. (A) is not correct but (R) is correct.

(A) सही नहीं है परन्तु (R) सही है

[Option ID = 16348]

87) Given below are two statements, one is labelled as Assertion (A) and the other is labelled as Reason (R).

Assertion (A): Nadwatul Ulama was established in response to Aligarh and Deoband movement

Reason (R): Maulana Abul Kalam Azad was one of the main proponents of Nadwatul Ulama

In light of the above statements, choose the *most appropriate* answer from the options given below:

नीचे दो कथन दिए गए हैं : एक को अभिकथन (A) और दूसरे को कारण (R) कहा गया है

अभिकथन (A) : नदवतुल उलमा की स्थापना अलीगढ़ और देवबंद आंदोलन के पुत्युत्तर में की गई

कारण (R) : मौलाना अबुल कलाम आज़ाद नदवतुल उलमा के प्रमुख प्रस्तावकों में से थे

उपर्युक्त कथनों के आलोक में निम्नांकित विकल्पों में से सही उत्तर चुनें :

[Question ID = 11588][Question Description = 187_49_ARBC_SEP22_S4_Q87]

1. Both (A) and (R) are correct and (R) is the correct explanation of (A).

(A) और (R) दोनों सही हैं और (R), (A) की सही व्याख्या है

[Option ID = 16349]

2. Both (A) and (R) are correct and (R) is the correct explanation of (A).

(A) और (R) दोनों सही हैं परन्तु (R), (A) की सही व्याख्या नहीं है

[Option ID = 16350]

3. (A) is correct but (R) is not correct.

(A) सही है परन्तु (R) सही नहीं है

[Option ID = 16351]

4. (A) is not correct but (R) is correct.

(A) सही नहीं है परन्तु (R) सही है

[Option ID = 16352]

88) Given below are two statements:

Statement I: Founder of Safavid dynasty was Shah Ismael Safawi

Statement II: Shah Ismael Safawi paid no attention to the propagation of Shia sect

In light of the above statements, choose the *correct* answer from the options given below:

नीचे दो कथन दिए गए हैं : एक को अभिकथन (A) और दूसरे को कारण (R) कहा गया है

अभिकथन (A) : सफवी राजवंश के संस्थापक शाह इस्माइल सफवी थे

कारण (R) : शाह इस्माइल सफवी ने शिक्षा संप्रदाय के प्रकार पर कोई ध्यान नहीं दिया

उपर्युक्त कथनों के आलोक में निम्नांकित विकल्पों में से सही उत्तर चुनें :

[Question ID = 11589][Question Description = 188_49_ARBC_SEP22_S4_Q88]

1. Both Statement I and Statement II are true.

(A) और (R) दोनों सही हैं और (R), (A) की सही व्याख्या है

[Option ID = 16353]

2. Both Statement I and Statement II are false.

(A) और (R) दोनों सही हैं परन्तु (R), (A) की सही व्याख्या नहीं है

[Option ID = 16354]

3. Statement I is true but Statement II is false.

(A) सही है परन्तु (R) सही नहीं है

[Option ID = 16355]

4. Statement I is false but Statement II is true.

(A) सही नहीं है परन्तु (R) सही है

[Option ID = 16356]

89) Given below are two statements:

Statement I: Main Proponents of Non Aligned Movement were Jawaharlal Nehru, General Nasir and Tito

Statement II: India chose to play neutral role during Cold War rivalry

In light of the above statements, choose the *correct* answer from the options given below:

नीचे दो कथन दिए गए हैं : एक को अभिकथन (A) और दूसरे को कारण (R) कहा गया है

अभिकथन (A) : जवाहर लाल नेहरू, जनरल नासिर और टीटो गुट निरपेक्ष आंदोलन के प्रमुख प्रस्तावक थे

कारण (R) : शीत युद्ध प्रतिद्वंद्विता के दौरान भारत ने तटस्थ भूमिका का चयन किया

उपर्युक्त कथनों के आलोक में निम्नांकित विकल्पों में से सही उत्तर चुनें :

[Question ID = 11590][Question Description = 189_49_ARBC_SEP22_S4_Q89]

1. Both Statement I and Statement II are true.

(A) और (R) दोनों सही हैं और (R), (A) की सही व्याख्या है

[Option ID = 16357]

2. Both Statement I and Statement II are false.

(A) और (R) दोनों सही हैं परन्तु (R), (A) की सही व्याख्या नहीं है

[Option ID = 16358]

3. Statement I is true but Statement II is false.

(A) सही है परन्तु (R) सही नहीं है

[Option ID = 16359]

4. Statement I is false but Statement II is true.

(A) सही नहीं है परन्तु (R) सही है

[Option ID = 16360]

90) Given below are two statements:

Statement I: Revolt of 1857 is considered as the first War of Independence

Statement II: People fought unitedly under the direct control of a single leadership

In light of the above statements, choose the correct answer from the options given below:

नीचे दो कथन दिए गए हैं :

कथन - I : 1857 की क्रांति को स्वतंत्रता के प्रथम युद्ध के रूप में जाना जाता है

कथन - II : लोगों ने एक नेतृत्व के प्रत्यक्ष नियंत्रण में एक साथ लड़ाई लड़ी

उपर्युक्त कथनों के आलोक में निम्नलिखित विकल्पों में से सही उत्तर चुनें :

[Question ID = 11591][Question Description = 190_49_ARBC_SEP22_S4_Q90]

1. Both Statement I and Statement II are true.

कथन I और II दोनों सही हैं

[Option ID = 16361]

2. Both Statement I and Statement II are false.

कथन I और II दोनों गलत हैं

[Option ID = 16362]

3. Statement I is true but Statement II is false.

कथन I सत्य है , किन्तु कथन II गलत है |

[Option ID = 16363]

4. Statement I is false but Statement II is true.

कथन I असत्य है , किन्तु कथन II सही है

[Option ID = 16364]

Topic:- 049_UGCNET_SEPT22_S2_PartB

1) Read the passage and answer the following questions

In this period this Umayyad capital took its place as the most cultured city of the world. With its one hundred and thirteen thousand homes, twenty one suburbs, seventy libraries and numerous book shops, mosques and palaces, it acquired international fame and inspired awe and admiration in hearts of travellers. It enjoyed miles of paved streets illuminated by lights from the bordering house, where as, " seven hundred years after this time there was not so much as one public lamp in London and in Paris, centuries subsequently, whoever stepped over his threshold on a rainy day stepped up to his ankles in mud"

Whenever the rulers of leon, Navarre or Barcelona needed a surgeon, an architect, a master singer or a dressmaker, it was to Corodova that they applied. The fame of the Moslem capital penetrated distant Germany where a Saxon nun styled it to "the jewel of the world"

निम्नलिखित गद्यांश को पढ़िए और उससे संबंधित प्रश्नों के उत्तर दीजिये :

इस काल में उमवी राजधानी ने विश्व के सर्वाधिक सभ्य शहर के रूप में अपनी जगह बनाई अपने एक लाख तेरह हजार घरों, इक्कीस उपनगरों, सत्तर पुस्तकालयों और पुस्तकों की अनेक दुकानों, मस्जिदों एवं महलों के साथ इसने अंतरराष्ट्रीय ख्याति अर्जित की और यात्रियों के दिलों में विस्मय एवं प्रशंसा उत्पन्न की इसमें किनारे-किनारे के घरों से प्रकाश द्वारा प्रदीप्त मीलों खड़जा युक्त गलियाँ थीं जबकि "सात सौ वर्षों के पश्चात भी अभी तक लंदन में एक भी सार्वजनिक प्रकाश की व्यवस्था नहीं थी " और "पेरिस में, सदियों बाद भी, वर्षा के दिनों में कोई भी अपनी दहलीज से बाहर जैसे ही कदम बढ़ाता उसके टखने टखने कीचड़ में चले जाते थे

जब लिओन, नवारे या बार्सिलोन को डॉक्टर, वास्तुकार, प्रमुख गायक या वस्त्र निर्माता की आवश्यकता होती तो वे कुर्तवा की ओर रुख करते थे मुस्लिम राजधानी की ख्याति ने दूरस्थ जर्मनी को इस भाँति गहरे प्रभावित किया कि एक जर्मन ने इसे 'विश्व के आभूषण' की संज्ञा से विभूषित किया

Assertion(A) : Umayyad capital acquired international fame and inspired awe and admiration.

Reason (R): It had seventy libraries, numerous book shops, mosques and palaces and streets illuminated by the light.

In the light of the above statement, choose the most appropriate answers from the options given below.

नीचे दो कथन दिए गए हैं : एक को अभिकथन (A) और दूसरे को कारण (R) कहा गया है

अभिकथन (A) : उमवी राजधानी ने अंतर्राष्ट्रीय ख्याति अर्जित की और विस्मय एवं प्रशंसा

कारण (R) : यहाँ सत्तर पुस्तकालय, किताबों की अनेक दुकानें, मस्जिद और महल तथा प्रकाश से प्रदीप्त गलियाँ थीं

उपर्युक्त कथनों के आलोक में निम्नांकित विकल्पों में से सही उत्तर चुनें :

[Question ID = 11592][Question Description = 191_49_ARBC_SEP22_S4_Q91]

1. Both A and R are correct and R is the correct explanation of A

(A) और (R) दोनों सही हैं और (R), (A) की सही व्याख्या है

[Option ID = 16365]

2. Both A and R are correct but R is not the correct explanation of A

(A) और (R) दोनों सही हैं परन्तु (R), (A) की सही व्याख्या नहीं है

[Option ID = 16366]

3. A is correct but R is not correct

(A) सही है परन्तु (R) सही नहीं है

[Option ID = 16367]

4. A is not correct but R is correct

(A) सही नहीं है परन्तु (R) सही है

[Option ID = 16368]

2) Read the passage and answer the following questions

In this period this Umayyad capital took its place as the most cultured city of the world. With its one hundred and thirteen thousand homes, twenty one suburbs, seventy libraries and numerous book shops, mosques and palaces, it acquired international fame and inspired awe and admiration in hearts of travellers. It enjoyed miles of paved streets illuminated by lights from the bordering houses, where as, "seven hundred years after this time there was not so much as one public lamp in London and in Paris, centuries subsequently, whoever stepped over his threshold on a rainy day stepped up to his ankles in mud"

Whenever the rulers of Leon, Navarre or Barcelona needed a surgeon, an architect, a master singer or a dressmaker, it was to Cordova that they applied. The fame of the Moslem capital penetrated distant Germany where a Saxon nun styled it to "the jewel of the world"

निम्नलिखित गद्यांश को पढ़िए और उससे संबंधित प्रश्नों के उत्तर दीजिये :

इस काल में उमवी राजधानी ने विश्व के सर्वाधिक सभ्य शहर के रूप में अपनी जगह बनाई अपने एक लाख तेरह हजार घरों, इक्कीस उपनगरों, सत्तर पुस्तकालयों और पुस्तकों की अनेक दुकानों, मस्जिदों एवं महलों के साथ इसने अंतर्राष्ट्रीय ख्याति अर्जित की और यात्रियों के दिलों में विस्मय एवं प्रशंसा उत्पन्न की इसमें किनारे-किनारे के घरों से प्रकाश द्वारा प्रदीप्त मीलों खड़जा युक्त गलियाँ थीं जबकि "सात सौ वर्षों के पश्चात भी अभी तक लंदन में एक भी सार्वजनिक प्रकाश की व्यवस्था नहीं थी " और "पेरिस में, सदियों बाद भी, वर्षा के दिनों में कोई भी अपनी दहलीज से बाहर जैसे ही कदम बढ़ाता उसके टखने टखने कीचड़ में चले जाते थे "

जब लिओन, नवारे या बार्सिलोन को डॉक्टर, वास्तुकार, प्रमुख गायक या वस्त्र निर्माता की आवश्यकता होती तो वे कुर्तवा की ओर रुख करते थे मुस्लिम राजधानी की ख्याति ने दूरस्थ जर्मनी को इस भाँति गहरे प्रभावित किया कि एक जर्मन ने इसे 'विश्व के आभूषण' की संज्ञा से विभूषित किया

Which city has been described as most cultured city in Europe in the above mentioned passage

उपर्युक्त गद्यांश में इंगित किस शहर को यूरोप के सर्वाधिक सभ्य शहर के रूप में वर्णित किया गया है ?

[Question ID = 11593][Question Description = 192_49_ARBC_SEP22_S4_Q92]

1. Constantinople

कन्स्टान्टिनिया

[Option ID = 16369]

2. Baghdad

बगदाद

[Option ID = 16370]

3. Cairo

काहिरा

[Option ID = 16371]

4. Cordova

कुर्त्वा

[Option ID = 16372]

3) Read the passage and answer the following questions

In this period this Umayyad capital took its place as the most cultured city of the world. With its one hundred and thirteen thousand homes, twenty one suburbs, seventy libraries and numerous book shops, mosques and palaces, it acquired international fame and inspired awe and admiration in hearts of travellers. It enjoyed miles of paved streets illuminated by lights from the bordering house, where as, " seven hundred years after this time there was not so much as one public lamp in London and in Paris, centuries subsequently, whoever stepped over his threshold on a rainy day stepped up to his ankles in mud"

Whenever the rulers of Leon, Navarre or Barcelona needed a surgeon, an architect, a master singer or a dressmaker, it was to Cordova that they applied. The fame of the Moslem capital penetrated distant Germany where a Saxon nun styled it to "the jewel of the world"

निम्नलिखित गद्यांश को पढ़िए और उससे संबंधित प्रश्नों के उत्तर दीजिये :

इस काल में उमवी राजधानी ने विश्व के सर्वाधिक सभ्य शहर के रूप में अपनी जगह बनाई अपने एक लाख तेरह हजार घरों, इक्कीस उपनगरों, सत्तर पुस्तकालयों और पुस्तकों की अनेक दुकानों, मस्जिदों एवं महलों के साथ इसने अंतरराष्ट्रीय ख्याति अर्जित की और यात्रियों के दिलों में विस्मय एवं प्रशंसा उत्पन्न की इसमें किनारे-किनारे के घरों से प्रकाश द्वारा प्रदीप्त मीलों खड़जा युक्त गलियाँ थीं जबकि "सात सौ वर्षों के पश्चात भी अभी तक लंदन में एक भी सार्वजनिक प्रकाश की व्यवस्था नहीं थी " और "पेरिस में, सदियों बाद भी, वर्षा के दिनों में कोई भी अपनी दहलीज से बाहर जैसे ही कदम बढ़ाता उसके टखने टखने कीचड़ में चले जाते थे "

जब लिओन, नवारे या बार्सिलोन को डॉक्टर, वास्तुकार, प्रमुख गायक या वस्त्र निर्माता की आवश्यकता होती तो वे कुर्त्वा की ओर रुख करते थे मुस्लिम राजधानी की ख्याति ने दूरस्थ जर्मनी को इस भाँति गहरे प्रभावित किया कि एक जर्मन ने इसे 'विश्व के आभूषण' की संज्ञा से विभूषित किया

Which city was described as the "Jewel of the world".

निम्नलिखित में से किस शहर को 'विश्व के आभूषण' के रूप में वर्णित किया गया है?

[Question ID = 11594][Question Description = 193_49_ARBC_SEP22_S4_Q93]

1. London

लंदन

[Option ID = 16373]

2. Baghdad

बगदाद

[Option ID = 16374]

3. Cairo

काहिरा

[Option ID = 16375]

4. Cordova

कुर्त्वा

[Option ID = 16376]

4) Read the passage and answer the following questions

In this period this Umayyad capital took its place as the most cultured city of the world. With its one hundred and thirteen thousand homes, twenty one suburbs, seventy libraries and numerous book shops, mosques and palaces, it acquired international fame and inspired awe and admiration in hearts of travellers. It enjoyed miles of paved streets illuminated by lights from the bordering house, where as, " seven hundred years after this time there was not so much as one public lamp in London and in Paris, centuries subsequently, whoever stepped over his threshold on a rainy day stepped up to his ankles in mud"

Whenever the rulers of Leon, Navarre or Barcelona needed a surgeon, an architect, a master singer or a dressmaker, it was to Cordova that they applied. The fame of the Moslem capital penetrated distant Germany where a Saxon nun styled it to "the jewel of the world"

निम्नलिखित गद्यांश को पढ़िए और उससे संबंधित प्रश्नों के उत्तर दीजिये :

इस काल में उम्वी राजधानी ने विश्व के सर्वाधिक सभ्य शहर के रूप में अपनी जगह बनाई अपने एक लाख तेरह हजार घरों, इक्कीस उपनगरों, सत्तर पुस्तकालयों और पुस्तकों की अनेक दुकानों, मस्जिदों एवं महलों के साथ इसने अंतरराष्ट्रीय ख्याति अर्जित की और यात्रियों के दिलों में विस्मय एवं प्रशंसा उत्पन्न की इसमें किनारे-किनारे के घरों से प्रकाश द्वारा प्रदीप्त मीलों खड़जा युक्त गलियाँ थीं जबकि "सात सौ वर्षों के पश्चात भी अभी तक लंदन में एक भी सार्वजनिक प्रकाश की व्यवस्था नहीं थी " और "पेरिस में, सदियों बाद भी, वर्षा के दिनों में कोई भी अपनी दहलीज से बाहर जैसे ही कदम बढ़ाता उसके टखने टखने कीचड़ में चले जाते थे "

जब लिओन, नवारे या बार्सिलोन को डॉक्टर, वास्तुकार, प्रमुख गायक या वस्त्र निर्माता की आवश्यकता होती तो वे कुर्तवा की ओर रुख करते थे मुस्लिम राजधानी की ख्याति ने दूरस्थ जर्मनी को इस भाँति गहरे प्रभावित किया कि एक जर्मन ने इसे 'विश्व के आभूषण' की संज्ञा से विभूषित किया

During the glorious period of cordova which European city had been described as not having "a single public lamp"

कुर्तवा के गौरवपूर्ण काल के दौरान किस शहर को 'एक भी सार्वजनिक प्रकाश' की व्यवस्था न रखने वाले शहर के रूप में वर्णित किया गया है ?

[Question ID = 11595][Question Description = 194_49_ARBC_SEP22_S4_Q94]

1. Barcelona

बार्सिलोना

[Option ID = 16377]

2. Paris

पेरिस

[Option ID = 16378]

3. London

लंदन

[Option ID = 16379]

4. Berlin

बर्लिन

[Option ID = 16380]

5) Read the passage and answer the following questions

In this period this Umayyad capital took its place as the most cultured city of the world. With its one hundred and thirteen thousand homes, twenty one suburbs, seventy libraries and numerous book shops, mosques and palaces, it acquired international fame and inspired awe and admiration in hearts of travellers. It enjoyed miles of paved streets illuminated by lights from the bordering house, where as, " seven hundred years after this time there was not so much as one public lamp in London and in Paris, centuries subsequently, whoever stepped over his threshold on a rainy day stepped up to his ankles in mud"

Whenever the rulers of Leon, Navarre or Barcelona needed a surgeon, an architect, a master singer or a dressmaker, it was to Cordova that they applied. The fame of the Moslem capital penetrated distant Germany where a Saxon nun styled it to "the jewel of the world"

निम्नलिखित गद्यांश को पढ़िए और उससे संबंधित प्रश्नों के उत्तर दीजिये :

इस काल में उम्वी राजधानी ने विश्व के सर्वाधिक सभ्य शहर के रूप में अपनी जगह बनाई अपने एक लाख तेरह हजार घरों, इक्कीस उपनगरों, सत्तर पुस्तकालयों और पुस्तकों की अनेक दुकानों, मस्जिदों एवं महलों के साथ इसने अंतरराष्ट्रीय ख्याति अर्जित की और यात्रियों के दिलों में विस्मय एवं प्रशंसा उत्पन्न की इसमें किनारे-किनारे के घरों से प्रकाश द्वारा प्रदीप्त मीलों खड़जा युक्त गलियाँ थीं जबकि "सात सौ वर्षों के पश्चात भी अभी तक लंदन में एक भी सार्वजनिक प्रकाश की व्यवस्था नहीं थी " और "पेरिस में, सदियों बाद भी, वर्षा के दिनों में कोई भी अपनी दहलीज से बाहर जैसे ही कदम बढ़ाता उसके टखने टखने कीचड़ में चले जाते थे "

जब लिओन, नवारे या बार्सिलोन को डॉक्टर, वास्तुकार, प्रमुख गायक या वस्त्र निर्माता की आवश्यकता होती तो वे कुर्तवा की ओर रुख करते थे मुस्लिम राजधानी की ख्याति ने दूरस्थ जर्मनी को इस भाँति गहरे प्रभावित किया कि एक जर्मन ने इसे 'विश्व के आभूषण' की संज्ञा से विभूषित किया

Which famous European city was one of the most backward cities in the world during the glorious period of Umayyad rule in Spain

स्पेन में उमवी शासन के गौरवपूर्ण काल के दौरान निम्नलिखित में से कौन सा प्रसिद्ध यूरोपीय शहर विश्व के सर्वाधिक पिछड़े शहरों में से एक था ?

[Question ID = 11596][Question Description = 195_49_ARBC_SEP22_S4_Q95]

1. Paris

पेरिस

[Option ID = 16381]

2. Berlin

बर्लिन

[Option ID = 16382]

3. Navarre

नवारे

[Option ID = 16383]

4. Barcelona

बार्सिलोना

[Option ID = 16384]

Topic:- 049_UGCNET_SEPT22_S2_PartC

1) Read the following passage and answer the questions:

On a hilly terrace on the south-east border of this beautiful city al-Ghalib built on remains of an earlier Umayyad citadel, his world renowned castle called al-Ḥamra, the red one, from the red stucco used in its construction and not from his personal nickname as formerly supposed. Enlarged and further embellished by three of his successors, the Alhambra became one of the architectural monument of Spain. Standing sentinel over the surrounding plain, like the Acropolis of Athens, this citadel palace, with its superb decoration and arabesque mouldings still excites universal admiration. In it the Nasrids maintained a court which revived for a time glory of Muslim Spain in Umayyad and Abbasid days. Their patronage of art and learning attracted many scholars, especially from North Africa. Their encouragement of commerce, notably the silk trade with Italy, rendered Granada the wealthiest city of Spain.

निम्नलिखित गद्यांश को ध्यानपूर्वक पढ़िए और सम्बंधित पांच प्रश्नों के उत्तर दीजिए

अल-गालिब ने सुंदर शहर दक्षिण-पश्चिम सीमा के एक पहाड़ी टीले पर पुराने उमवी किले के अवशेषों पर अपना विश्व प्रसिद्ध अल-हमरा नामक महल बनवाया, जिसका शाब्दिक आशय लाल है, क्योंकि इसके निर्माण में लाल गच्चा का प्रयोग किया गया था न कि पूर्व में प्रचलित इसके उपनाम की मान्यता से उसके तीन उत्तराधिकारियों द्वारा इसे परिवर्द्धित एवं सजाने-सँवारने के बाद अल-हमरा स्पेन का वास्तु-शिल्पीय स्मारक बना एथेंस के एक्रोपोलिस के जैसे, चारों ओर समतल पर खड़े हुए पृथ्वी (संतरी), तथा सर्वोत्तम अलंकरण और बेल बूटेदार गढ़न के साथ यह किलेनुमा महल आज भी सार्वभौमिक प्रशंसा (श्लाघा) प्राप्त करता है इसके भीतर नाज़रियों ने एक दरबार बनाया जिसने उमवी और अब्बासी शासनकाल के मुस्लिम स्पेन के गौरवपूर्ण दिनों को पुनर्जीवित कर दिया उनके कला एवं ज्ञान के संरक्षण ने अनेक विद्वानों को, विशेषतः उत्तरी अफ्रीका के लोगों को आकर्षित किया उनके, वाणिज्य के प्रोत्साहन, विशेष रूप से इटली के साथ सिल्क व्यापार ने गранаदा को स्पेन के सर्वाधिक समृद्धशाली शहर के रूप में चिह्नित किया

The castle was called AL-Hamra because:

महल को अल-हमरा कहा जाता था क्योंकि :

[Question ID = 11597][Question Description = 196_49_ARBC_SEP22_S4_Q96]

1. It was built on a hilly terrace

यह पहाड़ी टीले पर बना था

[Option ID = 16385]

2. It was the nickname of the ruler

यह शासक का उपनाम था

[Option ID = 16386]

3. Red stucco was used in its construction

इसके निर्माण में लाल गच का प्रयोग किया गया था

[Option ID = 16387]

4. It represented the glory of the ruler

यह शासक के गौरव को प्रस्तुत करता था

[Option ID = 16388]

2) Read the following passage and answer the questions:

On a hilly terrace on the south-east border of this beautiful city al-Ghalib built on remains of an earlier Umayyad citadel, his world renowned castle called al- **Ḥamrā**, the red one, from the red stucco used in its construction and not from his personal nickname as formerly supposed. Enlarged and further embellished by three of his successors, the Alhamra became one of the architectural monument of Spain. Standing sentinel over the surrounding plain, like the Aeropolis of Athens, this citadel palace, with its superb decoration and arabesque mouldings still excites universal admiration. In it the Nashids maintained a court which revived for a time glory of Muslim Spain in Umayyad and Abbasid days. Their patronage of art and learning attracted many scholars, especially from North Africa. Their encouragement of commerce, notably the silk trade with Italy, rendered Granada the wealthiest city of Spain.

निम्नलिखित गद्यांश को ध्यानपूर्वक पढ़िए और सम्बंधित पांच प्रश्नों के उत्तर दीजिए

अल-ग़ालिब ने सुंदर शहर दक्षिण-पश्चिम सीमा के एक पहाड़ी टीले पर पुराने उमवी किले के अवशेषों पर अपना विश्व प्रसिद्ध अल-हमरा नामक महल बनवाया, जिसका शाब्दिक आशय लाल है, क्योंकि इसके निर्माण में लाल गच का प्रयोग किया गया था कि पूर्व में प्रचलित इसके उपनाम की मान्यता से उसके तीन उत्तराधिकारियों द्वारा इसे परिवर्द्धित एवं सजाने-सँवारने के बाद अल-हमरा स्पेन का वास्तु-शिल्पीय स्मारक बना एथेंस के एक्रोपोलिस के जैसे, चारों ओर समतल पर खड़े हुए पृथ्वी (संतरी), तथा सर्वोत्तम अलंकरण और बेल बूटेदार गढ़न के साथ यह किलेनुमा महल आज भी सार्वभौमिक प्रशंसा (श्लाघा) प्राप्त करता है इसके भीतर नाज़रियों ने एक दरबार बनाया जिसने उमवी और अब्बासी शासनकाल के मुस्लिम स्पेन के गौरवपूर्ण दिनों को पुनर्जीवित कर दिया उनके कला एवं ज्ञान के संरक्षण ने अनेक विद्वानों को, विशेषतः उत्तरी अफ्रीका के लोगों को आकर्षित किया उनके, वाणिज्य के प्रोत्साहन, विशेष रूप से इटली के साथ सिल्क व्यापार ने ग़रनादा को स्पेन के सर्वाधिक समृद्धशाली शहर के रूप में चिह्नित किया

AL- Hamra was built by

अल-हमरा का निर्माण किसने करवाया था ?

[Question ID = 11598][Question Description = 197_49_ARBC_SEP22_S4_Q97]

1. Banu Nasr

बनु नस्र

[Option ID = 16389]

2. AL-Mansur

अल-मंसूर

[Option ID = 16390]

3. AL-Ghalib

अल-ग़ालिब

[Option ID = 16391]

4. Murabit dynasty

मुराबित राजवंश

[Option ID = 16392]

3) Read the following passage and answer the questions:

On a hilly terrace on the south-east border of this beautiful city al-Ghalib built on remains of an earlier Umayyad citadel, his world renowned castle called al- **Ḥamrā**, the red one, from the red stucco used in its construction and not from his personal nickname as formerly supposed. Enlarged and further embellished by three of his successors, the Alhamra became one of the architectural monument of Spain. Standing sentinel over the surrounding plain, like the Aeropolis of Athens, this citadel

palace, with its superb decoration and arabesque mouldings still excites universal admiration. In it the Nashids maintained a court which revived for a time glory of Muslim Spain in Umayyad and Abbasid days. Their patronage of art and learning attracted many scholars, especially from North Africa. Their encouragement of commerce, notably the silk trade with Italy, rendered Granada the wealthiest city of Spain.

निम्नलिखित गद्यांश को ध्यानपूर्वक पढ़िए और सम्बंधित पांच प्रश्नों के उत्तर दीजिए

अल-गालिब ने सुंदर शहर दक्षिण-पश्चिम सीमा के एक पहाड़ी टीले पर पुराने उमवी किले के अवशेषों पर अपना विश्व प्रसिद्ध अल-हमरा नामक महल बनवाया, जिसका शाब्दिक आशय लाल है, क्योंकि इसके निर्माण में लाल गच का प्रयोग किया गया था न कि पूर्व में प्रचलित इसके उपनाम की मान्यता से उसके तीन उत्तराधिकारियों द्वारा इसे परिवर्द्धित एवं सजाने-सँवारने के बाद अल-हमरा स्पेन का वास्तु-शिल्पीय स्मारक बना एथेंस के एक्रोपोलिस के जैसे, चारों ओर समतल पर खड़े हुए पृथ्वी (संतरी), तथा सर्वोत्तम अलंकरण और बेल बूटेदार गढ़न के साथ यह किलेनुमा महल आज भी सार्वभौमिक प्रशंसा (श्लाघा) प्राप्त करता है इसके भीतर नाज़रियों ने एक दरबार बनाया जिसने उमवी और अब्बासी शासनकाल के मुस्लिम स्पेन के गौरवपूर्ण दिनों को पुनर्जीवित कर दिया उनके कला एवं ज्ञान के संरक्षण ने अनेक विद्वानों को, विशेषतः उत्तरी अफ्रीका के लोगों को आकर्षित किया उनके, वाणिज्य के प्रोत्साहन, विशेष रूप से इटली के साथ सिल्क व्यापार ने ग्रनादा को स्पेन के सर्वाधिक समृद्धशाली शहर के रूप में चिह्नित किया

Alhamra had inside the building

अल हमरा में भवन के अंदर था :

[Question ID = 11599][Question Description = 198_49_ARBC_SEP22_S4_Q98]

1. a theatre

थियेटर (प्रेक्षागृह)

[Option ID = 16393]

2. a museum

संग्रहालय

[Option ID = 16394]

3. a pond

सरोवर

[Option ID = 16395]

4. a court

दरबार

[Option ID = 16396]



4) Read the following passage and answer the questions:

On a hilly terrace on the south-east border of this beautiful city al-Ghalib built on remains of an earlier Umayyad citadel, his world renowned castle called al- **Ḥamrā**, the red one, from the red stucco used in its construction and not from his personal nickname as formerly supposed. Enlarged and further embellished by three of his successors, the Alhamra became one of the architectural monument of Spain. Standing sentinel over the surrounding plain, like the Acropolis of Athens, this citadel palace, with its superb decoration and arabesque mouldings still excites universal admiration. In it the Nashids maintained a court which revived for a time glory of Muslim Spain in Umayyad and Abbasid days. Their patronage of art and learning attracted many scholars, especially from North Africa. Their encouragement of commerce, notably the silk trade with Italy, rendered Granada the wealthiest city of Spain.

निम्नलिखित गद्यांश को ध्यानपूर्वक पढ़िए और सम्बंधित पांच प्रश्नों के उत्तर दीजिए

अल-गालिब ने सुंदर शहर दक्षिण-पश्चिम सीमा के एक पहाड़ी टीले पर पुराने उमवी किले के अवशेषों पर अपना विश्व प्रसिद्ध अल-हमरा नामक महल बनवाया, जिसका शाब्दिक आशय लाल है, क्योंकि इसके निर्माण में लाल गच का प्रयोग किया गया था न कि पूर्व में प्रचलित इसके उपनाम की मान्यता से उसके तीन उत्तराधिकारियों द्वारा इसे परिवर्द्धित एवं सजाने-सँवारने के बाद अल-हमरा स्पेन का वास्तु-शिल्पीय स्मारक बना एथेंस के एक्रोपोलिस के जैसे, चारों ओर समतल पर खड़े हुए पृथ्वी (संतरी), तथा सर्वोत्तम अलंकरण और बेल बूटेदार गढ़न के साथ यह किलेनुमा महल आज भी सार्वभौमिक प्रशंसा (श्लाघा) प्राप्त करता है इसके भीतर नाज़रियों ने एक दरबार बनाया जिसने उमवी और अब्बासी शासनकाल के मुस्लिम स्पेन के गौरवपूर्ण दिनों को पुनर्जीवित कर दिया उनके कला एवं ज्ञान के संरक्षण ने अनेक विद्वानों को, विशेषतः उत्तरी अफ्रीका के लोगों को आकर्षित किया उनके, वाणिज्य के प्रोत्साहन, विशेष रूप से इटली के साथ सिल्क व्यापार ने ग्रनादा को स्पेन के सर्वाधिक समृद्धशाली शहर के रूप में चिह्नित किया

Assertion: Granada was the wealthiest city of Spain

Reasoning: Patronage of Art and learning attracted many scholars

In light of the above statement, choose the most appropriate answer from the options given below

नीचे दो कथन दिए गए हैं : एक को अभिकथन (A) और दूसरे को कारण (R) कहा गया है

अभिकथन (A) : गरनादा स्पेन का सबसे समृद्ध शहर था

कारण (R) : कला एवं ज्ञान के संरक्षण ने अनेक विद्वानों को आकर्षित किया

उपर्युक्त कथनों के आलोक में निम्नांकित विकल्पों में से सही उत्तर चुनें :

[Question ID = 11600][Question Description = 199_49_ARBC_SEP22_S4_Q99]

1. Both A and R are correct and R is the correct explanation of A

(A) और (R) दोनों सही हैं और (R), (A) की सही व्याख्या है

[Option ID = 16397]

2. Both A and R are correct but R is not the correct explanation of A

(A) और (R) दोनों सही हैं परन्तु (R), (A) की सही व्याख्या नहीं है

[Option ID = 16398]

3. A is correct but R is not correct

(A) सही है परन्तु (R) सही नहीं है

[Option ID = 16399]

4. A is not correct but R is correct

(A) सही नहीं है परन्तु (R) सही है

[Option ID = 16400]

5) Read the following passage and answer the questions:

On a hilly terrace on the south-east border of this beautiful city al-Ghalib built on remains of an earlier Umayyad citadel, his world renowned castle called al- Ĥamrā, the red one, from the red stucco used in its construction and not from his personal nickname as formerly supposed. Enlarged and further embellished by three of his successors, the Alhamra became one of the architectural monument of Spain. Standing sentinel over the surrounding plain, like the Aeropolis of Athens, this citadel palace, with its superb decoration and arbesque mouldings still excites universal admiration. In it the Nashīds maintained a court which revived for a time glory of Muslim Spain in Umayyad and Abbasid days. Their patronage of art and learning attracted many scholars, especially from North Africa. Their encouragement of commerce, notably the silk trade with Italy, rendered Granada the wealthiest city of Spain.

निम्नलिखित गद्यांश को ध्यानपूर्वक पढ़िए और सम्बंधित पांच प्रश्नों के उत्तर दीजिए

अल-गालिब ने सुंदर शहर दक्षिण-पश्चिम सीमा के एक पहाड़ी टीले पर पुराने उमवी किले के अवशेषों पर अपना विश्व प्रसिद्ध अल-हमरा नामक महल बनवाया, जिसका शाब्दिक आशय लाल है, क्योंकि इसके निर्माण में लाल गत्त का प्रयोग किया गया था न कि पूर्व में प्रचलित इसके उपनाम की मान्यता से उसके तीन उत्तराधिकारियों द्वारा इसे परिवर्द्धित एवं सजाने-सँवारने के बाद अल-हमरा स्पेन का वास्तु-शिल्पीय स्मारक बना एथेंस के एक्रोपोलिस के जैसे, चारों ओर समतल पर खड़े हुए पृथ्वी (संतरी), तथा सर्वोत्तम अलंकरण और बेल बूटेदार गढ़न के साथ यह किलेनुमा महल आज भी सार्वभौमिक प्रशंसा (श्लाघा) प्राप्त करता है इसके भीतर नाज़रियों ने एक दरबार बनाया जिसने उमवी और अब्बासी शासनकाल के मुस्लिम स्पेन के गौरवपूर्ण दिनों को पुनर्जीवित कर दिया उनके कला एवं ज्ञान के संरक्षण ने अनेक विद्वानों को, विशेषतः उत्तरी अफ्रीका के लोगों को आकर्षित किया उनके, वाणिज्य के प्रोत्साहन, विशेष रूप से इटली के साथ सिल्क व्यापार ने गरनादा को स्पेन के सर्वाधिक समृद्धशाली शहर के रूप में चिह्नित किया

AL-Hamra was built on

अल-हमरा का निर्माण निम्नलिखित में से किस पर हुआ था ?

[Question ID = 11601][Question Description = 200_49_ARBC_SEP22_S4_Q100]

1. a river bank

नदी के तट पर

[Option ID = 16401]

2. a seashore

समुद्री तट पर

[Option ID = 16402]

3. deserted terrain

मरुस्थलीय भू-भाग पर

[Option ID = 16403]

4. remains of an Umayyad citadel

उमवी फ़िले के अवशेषों पर

[Option ID = 16404]

Topic: - GP_UGCNET_20SEPT22_SH1_S2_PartA

1)

Passage

Consider the following table that presents the details about the percentage distribution of household expenditure of a family on various budget heads during the years 2020 and 2021. The total income of the family in the years 2020 and 2021 was ₹ 50000 and ₹ 75000, respectively. Based on the data in the table, answer the five questions that follow:

Budget Head wise Distribution of Expenditure

Year	2020	2021
Entertainment	11%	9%
Health	5%	6%
Clothing	25%	25%
Food	19%	21%
Travel	34%	24%
Others	6%	15%

निम्नलिखित गद्यांश को सावधानी से पढ़ें और दिए गए प्रश्नों के उत्तर दें

निम्नलिखित तालिका पर ध्यान दीजिए, जिसमें वर्ष 2020 और 2021 के दौरान विभिन्न बजट शीर्षों पर एक परिवार के पारिवारिक व्यय के प्रतिशत वितरण का विवरण दिया गया है वर्ष 2020 और 2021 में इस परिवार की कुल आय क्रमशः ₹50000 और ₹75000 थी इस तालिका के आंकड़ों के आधार पर नीचे दिए गए पांच प्रश्नों के उत्तर दीजिए

व्यय का बजट शीर्ष - वार वितरण

वर्ष →	2020	2021
बजट शीर्ष ↓		
मनोरंजन	11 %	9 %
स्वास्थ्य	5 %	6 %
वस्त्र	25 %	25 %
भोजन	19 %	21 %
यात्रा	34 %	24 %
अन्य	6 %	15 %

What was the total amount spent on food in 2020?

वर्ष 2020 में भोजन पर कुल कितनी राशि का व्यय किया गया था ?

[Question ID = 10810][Question Description = 101_00_GP2_SEP22_S2_Q01]

1. ₹ 9000

[Option ID = 13237]

2. ₹ 9500

[Option ID = 13238]

3. ₹ 10000

[Option ID = 13239]

4. ₹ 10500

[Option ID = 13240]

2) Passage

Consider the following table that presents the details about the percentage distribution of household expenditure of a family on various budget heads during the years 2020 and 2021. The total income of the family in the years 2020 and 2021 was ₹ 50000 and ₹ 75000, respectively. Based on the data in the table, answer the five questions that follow:

Budget Head wise Distribution of Expenditure

Year [□] Budget Head ↓	2020	2021
	Entertainment	11%
Health	5%	6%
Clothing	25%	25%
Food	19%	21%
Travel	34%	24%
Others	6%	15%

निम्नलिखित गद्यांश को सावधानी से पढ़ें और दिए गए प्रश्नों के उत्तर दें

निम्नलिखित तालिका पर ध्यान दीजिए, जिसमें वर्ष 2020 और 2021 के दौरान विभिन्न बजट शीर्षों पर एक परिवार के पारिवारिक व्यय के प्रतिशत वितरण का विवरण दिया गया है। वर्ष 2020 और 2021 में इस परिवार की कुल आय क्रमशः ₹50000 और ₹75000 थी। इस तालिका के आंकड़ों के आधार पर नीचे दिए गए पांच प्रश्नों के उत्तर दीजिए

व्यय का बजट शीर्ष - वार वितरण

वर्ष →	2020	2021
बजट शीर्ष ↓		
मनोरंजन	11 %	9 %
सवास्थ्य	5 %	6 %
वस्त्र	25 %	25 %
भोजन	19 %	21 %
यात्रा	34 %	24 %
अन्य	6 %	15 %

For which of the following budget heads did the family spend more amount of money in 2021 than they spent in 2020?

A. Health

B. Clothing

C. Travel

Choose the correct answers from options given below:

निम्नलिखित में से बजट के किन शीर्ष में इस परिवार ने 2020 में किए गए व्यय की तुलना में 2021 में अधिक व्यय किया ?

- A. स्वास्थ्य
- B. वस्त्र
- C. यात्रा

नीचे दिए गए विकल्पों में से सही उत्तर का चयन कीजिये :

[Question ID = 10811][Question Description = 102_00_GP2_SEP22_S2_Q02]

1. A only
केवल A
[Option ID = 13241]
2. B only
केवल B
[Option ID = 13242]
3. A and B only
केवल A और B
[Option ID = 13243]
4. A, B and C
A, B और C
[Option ID = 13244]

3) Passage

Consider the following table that presents the details about the percentage distribution of household expenditure of a family on various budget heads during the years 2020 and 2021. The total income of the family in the years 2020 and 2021 was ₹ 50000 and ₹ 75000, respectively. Based on the data in the table, answer the five questions that follow:

Budget Head wise Distribution of Expenditure

Year	2020	2021
Entertainment	11%	9%
Health	5%	6%
Clothing	25%	25%
Food	19%	21%
Travel	34%	24%
Others	6%	15%

निम्नलिखित गद्यांश को सावधानी से पढ़ें और दिए गए प्रश्नों के उत्तर दें

निम्नलिखित तालिका पर ध्यान दीजिए, जिसमें वर्ष 2020 और 2021 के दौरान विभिन्न बजट शीर्षों पर एक परिवार के पारिवारिक व्यय के प्रतिशत वितरण का विवरण दिया गया है वर्ष 2020 और 2021 में इस परिवार की कुल आय क्रमशः ₹50000 और ₹75000 थी इस तालिका के आंकड़ों के आधार पर नीचे दिए गए पांच प्रश्नों के उत्तर दीजिए

व्यय का बजट शीर्ष - वार वितरण

वर्ष →	2020	2021
बजट शीर्ष ↓		
मनोरंजन	11 %	9 %
स्वास्थ्य	5 %	6 %
वस्त्र	25 %	25 %
भोजन	19 %	21 %
यात्रा	34 %	24 %
अन्य	6 %	15 %

What is the increase in the amount of money spent on the health budget head from 2020 to 2021?

स्वास्थ्य के बजट शीर्ष पर 2020 में व्यय की गई राशि की तुलना में 2021 में कितनी राशि की वृद्धि हुई ?

[Question ID = 10812][Question Description = 103_00_GP2_SEP22_S2_Q03]

1. ₹ 1500 [Option ID = 13245]
2. ₹ 2000 [Option ID = 13246]
3. ₹ 2500 [Option ID = 13247]
4. ₹ 1750 [Option ID = 13248]

4) Passage

Consider the following table that presents the details about the percentage distribution of household expenditure of a family on various budget heads during the years 2020 and 2021. The total income of the family in the years 2020 and 2021 was ₹ 50000 and ₹ 75000, respectively. Based on the data in the table, answer the five questions that follow:

Budget Head wise Distribution of Expenditure

Budget Head ↓	Year□	
	2020	2021
Entertainment	11%	9%
Health	5%	6%
Clothing	25%	25%
Food	19%	21%
Travel	34%	24%
Others	6%	15%

निम्नलिखित गद्यांश को सावधानी से पढ़ें और दिए गए प्रश्नों के उत्तर दें

निम्नलिखित तालिका पर ध्यान दीजिए, जिसमें वर्ष 2020 और 2021 के दौरान विभिन्न बजट शीर्षों पर एक परिवार के पारिवारिक व्यय के प्रतिशत वितरण का विवरण दिया गया है वर्ष 2020 और 2021 में इस परिवार की कुल आय क्रमशः ₹50000 और ₹75000 थी इस तालिका के आंकड़ों के आधार पर नीचे दिए गए पांच प्रश्नों के उत्तर दीजिए

व्यय का बजट शीर्ष - वार वितरण

वर्ष →	2020	2021
बजट शीर्ष↓		
मनोरंजन	11 %	9 %
स्वास्थ्य	5 %	6 %
वस्त्र	25 %	25 %
भोजन	19 %	21 %
यात्रा	34 %	24 %
अन्य	6 %	15 %

What is the ratio of total amount spent on Travel by the family in 2020 to that in 2021?

इस परिवार द्वारा 2021 की तुलना में 2020 में यात्रा पर व्यय की गई कुल राशि का अनुपात क्या है ?

[Question ID = 10813][Question Description = 104_00_GP2_SEP22_S2_Q04]

1. 16 : 17 [Option ID = 13249]
2. 18 : 17 [Option ID = 13250]
3. 17 : 18 [Option ID = 13251]
4. 17 : 16 [Option ID = 13252]

5) Passage

Consider the following table that presents the details about the percentage distribution of household expenditure of a family on various budget heads during the years 2020 and 2021. The total income of the family in the years 2020 and 2021 was ₹ 50000 and ₹ 75000, respectively. Based on the data in the table, answer the five questions that follow:

Budget Head wise Distribution of Expenditure

Year [□] Budget Head ↓	2020	2021
Entertainment	11%	9%
Health	5%	6%
Clothing	25%	25%
Food	19%	21%
Travel	34%	24%
Others	6%	15%

निम्नलिखित गद्यांश को सावधानी से पढ़ें और दिए गए प्रश्नों के उत्तर दें

निम्नलिखित तालिका पर ध्यान दीजिए, जिसमें वर्ष 2020 और 2021 के दौरान विभिन्न बजट शीर्षों पर एक परिवार के पारिवारिक व्यय के प्रतिशत वितरण का विवरण दिया गया है। वर्ष 2020 और 2021 में इस परिवार की कुल आय क्रमशः ₹50000 और ₹75000 थी। इस तालिका के आंकड़ों के आधार पर नीचे दिए गए पांच प्रश्नों के उत्तर दीजिए।

व्यय का बजट शीर्ष - वार वितरण

वर्ष → बजट शीर्ष ↓	2020	2021
मनोरंजन	11 %	9 %
सवास्थ्य	5 %	6 %
वस्त्र	25 %	25 %
भोजन	19 %	21 %
यात्रा	34 %	24 %
अन्य	6 %	15 %

What is the difference in the amount of money spent on Entertainment and Food together during the years 2020 and 2021?

वर्ष 2020 और 2021 के दौरान मनोरंजन और भोजन पर मिलाकर किए गए व्यय की राशि का अंतर क्या है ?

[Question ID = 10814][Question Description = 105_00_GP2_SEPT22_S2_Q05]

1. ₹ 6500 [Option ID = 13253]
2. ₹ 7000 [Option ID = 13254]
3. ₹ 7500 [Option ID = 13255]
4. ₹ 8000 [Option ID = 13256]

Topic:- GP_UGCNET_20SEPT22_SH1_S2_PartB

1) Which of the following need to be inculcated for developing 21st century skills of students by a teacher?

- A. Creativity
- B. Rote-learning
- C. Critical thinking
- D. Life-long learning
- E. Learning only for examination

Choose the correct answer from the options given below:

किसी शिक्षक द्वारा विद्यार्थियों में 21वीं सदी के कौशल विकास के लिए निम्नलिखित में से क्या क्या हृदयंगम करवाने की आवश्यकता है ?

- A. सृजनात्मकता
- B. स्तना
- C. आलोचनात्मक चिन्तन
- D. जीवनपर्यंत अधिगम
- E. केवल परीक्षा के लिए अधिगम

नीचे दिए गए विकल्पों में से सही उत्तर चुनें :

[Question ID = 10815][Question Description = 106_00_GP2_SEP22_S2_Q06]

1. A and C only
केवल A और C
[Option ID = 13257]
2. B and E only
केवल B और E
[Option ID = 13258]
3. A, C and D only
केवल A, C और D
[Option ID = 13259]
4. A, C and E only
केवल A, C और E
[Option ID = 13260]

2) Which of the following is INCORRECT regarding CBCS?

सी बी सी एस के संबंध में निम्नलिखित में से क्या गलत है ?

[Question ID = 10816][Question Description = 107_00_GP2_SEP22_S2_Q07]

1. CBCS is a framework to provide choices for electives and optionals to students.
सी बी सी एस विद्यार्थियों को ऐच्छिक और वैकल्पिक विषयों का विकल्प प्रदान करने का एक कार्य ढांचा है
[Option ID = 13261]
2. CBCS can be implemented only through online programmes.
सी बी सी एस को केवल ऑनलाइन कार्यक्रमों के माध्यम से कार्यान्वित किया जा सकता है
[Option ID = 13262]
3. MOOCs can be used to provide choices for CBCS by institutions.
संस्थानों द्वारा सी बी सी एस के लिए विकल्प देने हेतु मूक (MOOC) का प्रयोग किया जा सकता है
[Option ID = 13263]
4. Generic Electives and skill enhancement courses are provided under CBCS framework.
सी बी सी एस कार्य ढांचे के अंतर्गत सामान्य ऐच्छिक और कौशल विकास पाठ्यक्रम प्रदान किए जाते हैं
[Option ID = 13264]

3) Why should a student not be punished severely?

किसी विद्यार्थी को कड़ा दंड क्यों नहीं देना चाहिए ?

[Question ID = 10817][Question Description = 108_00_GP2_SEP22_S2_Q08]

1. He/she may leave the institution and join another.
वह संस्थान छोड़कर किसी अन्य संस्थान में प्रवेश ले सकता/सकती है
[Option ID = 13265]
2. He/she may quarrel with the teacher.
वह शिक्षक से झगड़ा कर सकता/सकती है
[Option ID = 13266]
3. Parents of students may complain about the teacher.
विद्यार्थी के माता-पिता शिक्षक की शिकायत कर सकते हैं
[Option ID = 13267]
4. The student may develop a negative attitude towards his/her studies, teachers and institution.
विद्यार्थी अपने अध्ययन, शिक्षक और संस्थान के प्रति एक नकारात्मक धारणा बना सकता/सकती है

[Option ID = 13268]

4) What are OERs?

' ओ ई आर ' क्या है ?

[Question ID = 10818][Question Description = 109_00_GP2_SEP22_S2_Q09]

1. Open Educational Resources

ओपन एजुकेशनल रिसोर्सेस

[Option ID = 13269]

2. Open Examination Resources

ओपन एक्जामिनेशन रिसोर्सेस

[Option ID = 13270]

3. Online e-learning Resources

ऑनलाइन ई - लर्निंग रिसोर्सेस

[Option ID = 13271]

4. Online Educational Resources

ऑनलाइन एजुकेशनल रिसोर्सेस

[Option ID = 13272]

5) LMS is a software application used for the

एल एम एस निम्नलिखित में से किसके लिए प्रयोग की जाने वाली सॉफ्टवेयर एप्लीकेशन है ?

[Question ID = 10819][Question Description = 110_00_GP2_SEP22_S2_Q10]

1. Administration, documentation, tracking, reporting and delivery of educational courses

शैक्षणिक पाठ्यक्रमों का/ की प्रशासन, दस्तावेजीकरण, ट्रैकिंग, प्रस्तुतीकरण और डिलीवरी

[Option ID = 13273]

2. Authentication, documentation, transfer, reporting and designing of educational courses

शैक्षणिक पाठ्यक्रमों का अधिप्रमाणन, दस्तावेजीकरण, अंतरण, प्रस्तुतीकरण और अभिकल्पन

[Option ID = 13274]

3. Administration, documentation and depository of e-resources

ई - संसाधनों का प्रशासन, दस्तावेजीकरण और निक्षेपागार

[Option ID = 13275]

4. Authentication, reporting, analysis and depository of e-resources

ई - संसाधनों का अधिप्रमाणन, प्रस्तुतीकरण, विश्लेषण और निक्षेपागार

[Option ID = 13276]

6) Which of the following are true in the case of participatory observation method?

- A. The apparently obvious incidents can be overlooked.
- B. It is a good method to study the daily operations of organisations.
- C. The decision-making process can be observed.
- D. With this method, an organisation's social meaning can be studied.
- E. One can pretend to be a natural member of the group.

Choose the *correct* answer from the options given below:

सहभागी प्रेक्षण पद्धति के मामले में निम्नलिखित में से कौन - कौन सा सही है ?

- A. स्पष्टतः स्वाभाविक घटनाओं की अनदेखी की जा सकती है
- B. यह संगठनों के दैनिक प्रचलनों के अध्ययन के लिए उत्तम पद्धति है
- C. निर्णय लेने की प्रक्रिया का प्रेक्षण किया जा सकता है
- D. इस पद्धति से किसी संगठन के सामाजिक अर्थ का अध्ययन किया जा सकता है
- E. कोई समूह का स्वाभाविक सदस्य होने का मिथ्याडंबर कर सकता है

नीचे दिए गए विकल्पों में से सही उत्तर चुनें :

[Question ID = 10820][Question Description = 111_00_GP2_SEP22_S2_Q11]

1. A, B and C only

केवल A, B और C

[Option ID = 13277]

2. B, C and D only

केवल B, C और D

[Option ID = 13278]

3. C, D and E only

केवल C, D और E

[Option ID = 13279]

4. A, B and E only

केवल A, B और E

[Option ID = 13280]

7) Given below are two statements

Statement I: For a small number of samples, the sampling distribution of means is approximately, a normal distribution.

Statement II: In case the population is normally distributed, the sampling distribution of means is also normally distributed, even for a small number of samples.

In light of the above statements, choose the *most appropriate* answer from the options given below

नीचे दो कथन दिए गए हैं :

कथन - I : प्रतिदर्शों की कम संख्या के लिए, माध्यों का प्रतिदर्श वितरण लगभग सामान्य वितरण होता है

कथन - II : यदि जनसंख्या सामान्य रूप से वितरित हो, तो प्रतिदर्शों की कम संख्या के लिए भी माध्यों का प्रतिदर्श वितरण सामान्य रूप से ही वितरित होता है

उपर्युक्त कथनों के आलोक में, निम्नलिखित विकल्पों में से सबसे उपयुक्त उत्तर चुनें :

[Question ID = 10821][Question Description = 112_00_GP2_SEP22_S2_Q12]

1. Both Statement I and Statement II are correct

कथन I और II दोनों सही हैं

[Option ID = 13281]

2. Both Statement I and Statement II are incorrect

कथन I और II दोनों गलत हैं

[Option ID = 13282]

3. Statement I is correct but Statement II is incorrect

कथन I सही है, लेकिन कथन II गलत है

[Option ID = 13283]

4. Statement I is incorrect but Statement II is correct

कथन I गलत है, लेकिन कथन II सही है

[Option ID = 13284]

8) Given below are two statements

Statement I: Codes of ethics are formulated to regulate the relations of researchers to the people and fields they intend to study.

Statement II: All the risks involved in the study need not be explained to the participants in advance.

In light of the above statements, choose the *most appropriate* answer from the options given below

नीचे दो कथन दिए गए हैं :

कथन - I : नैतिक आचार संहिताएं शोधकर्ताओं के लोगों और उनके अध्ययन के लिए लक्षित क्षेत्रों से संबंधों को विनियमित करने के लिए बनाई जाती हैं

कथन - II : अध्ययन में शामिल सभी जोखिमों के बारे में सभी सहभागियों को अग्रिम रूप से बताना आवश्यक नहीं है

उपर्युक्त कथनों के आलोक में, निम्नलिखित विकल्पों में से सबसे उपयुक्त उत्तर चुनें :

[Question ID = 10822][Question Description = 113_00_GP2_SEP22_S2_Q13]

1. Both Statement I and Statement II are correct

कथन I और II दोनों सही हैं

[Option ID = 13285]

2. Both Statement I and Statement II are incorrect

कथन I और II दोनों गलत हैं

[Option ID = 13286]

3. Statement I is correct but Statement II is incorrect

कथन I सही है, लेकिन कथन II गलत है

[Option ID = 13287]

4. Statement I is incorrect but Statement II is correct

कथन I गलत है, लेकिन कथन II सही है

[Option ID = 13288]

9) Given below are two statements

Statement I: The panel design influences the statistical analysis in research.

Statement II: The panel design does not suffer from the issue of mortality.

In light of the above statements, choose the *correct* answer from the options given below

नीचे दो कथन दिए गए हैं :

कथन - I : पैनल का अभिकल्पन (डिज़ाइन) शोध में सांख्यिकीय विश्लेषण को प्रभावित करता है

कथन - II : पैनल का डिज़ाइन अनित्यता की समस्या से ग्रस्त नहीं होता है

उपर्युक्त कथनों के आलोक में, निम्नलिखित विकल्पों में से सही उत्तर चुनें :

[Question ID = 10823][Question Description = 114_00_GP2_SEP22_S2_Q14]

1. Both Statement I and Statement II are true

कथन I और II दोनों सत्य हैं

[Option ID = 13289]

2. Both Statement I and Statement II are false

कथन I और II दोनों असत्य हैं

[Option ID = 13290]

3. Statement I is true but Statement II is false

कथन I सत्य है, लेकिन कथन II असत्य है

[Option ID = 13291]

4. Statement I is false but Statement II is true

कथन I असत्य है, लेकिन कथन II सत्य है

[Option ID = 13292]

10) Which of the following are VALID reasons for 'Literature Review' in research?

A. It shows the present status of knowledge in the field of research so that the significance of the proposed research question is clear.

B. It gives a correct context to the scope of the work proposed in the thesis.

C. It demonstrates the scholarliness of the thesis writer.

D. It fills the minimum page requirement for a thesis.

Choose the *correct* answer from the options given below:

निम्नलिखित में से कौन - कौन से शोध में " साहित्य समीक्षा " के वैध कारण हैं ?

A. शोध के क्षेत्र में ज्ञान की वर्तमान स्थिति दर्शाया जाना ताकि प्रस्तावित शोध प्रश्न का महत्व स्पष्ट हो जाए

B. शोध - ग्रंथ में प्रस्तावित कार्य के दायरे का सही संदर्भ देना

C. शोध - ग्रंथ लेखक की विद्वता को प्रदर्शित करना

D. किसी शोध - ग्रंथ के लिए पृष्ठों की न्यूनतम अपेक्षा को पूरा करना

नीचे दिए गए विकल्पों में से सही उत्तर चुनें :

[Question ID = 10824][Question Description = 115_00_GP2_SEP22_S2_Q15]

1. A and B only
केवल A और B

[Option ID = 13293]

2. C and D only
केवल C और D

[Option ID = 13294]

3. A and C only
केवल A और C

[Option ID = 13295]

4. B and D only
केवल B और D

[Option ID = 13296]

11) According to the stimulus-response model, all communication is a/an _____ process.

उद्दीपन - अनुक्रिया प्रतिरूप के अनुसार सभी सम्प्रेषण एक _____ प्रक्रिया है

[Question ID = 10825][Question Description = 116_00_GP2_SEP22_S2_Q16]

1. Collective
सामूहिक

[Option ID = 13297]

2. Individual
वैयक्तिक

[Option ID = 13298]

3. Impersonal
अंतर - वैयक्तिक

[Option ID = 13299]

4. Massive
अतिशय

[Option ID = 13300]



12) Given below are two statements

Statement I: In communication, language involves different degrees of identification for generalisation.

Statement II: Abstraction is described as a process of leaving out details and for effective communication, an awareness of the details left out is necessary.

In light of the above statements, choose the *most appropriate* answer from the options given below

नीचे दो कथन दिए गए हैं :

कथन - I : सम्प्रेषण में भाषा में सामान्यीकरण के लिए पहचान की भिन्न मात्राएं शामिल होती हैं

कथन - II : अमूर्तिकरण का छोड़े गए विवरण की एक प्रक्रिया के रूप में वर्णन किया जाता है और प्रभावशाली सम्प्रेषण के लिए छोड़े गए विवरण को जानने के बारे में जागरूकता आवश्यक है

उपर्युक्त कथनों के आलोक में, निम्नलिखित विकल्पों में से सबसे उपयुक्त उत्तर चुनें :

[Question ID = 10826][Question Description = 117_00_GP2_SEP22_S2_Q17]

1. Both Statement I and Statement II are correct
कथन I और II दोनों सही हैं

[Option ID = 13301]

2. Both Statement I and Statement II are incorrect
कथन I और II दोनों गलत हैं

[Option ID = 13302]

3. Statement I is correct but Statement II is incorrect
कथन I सही है, लेकिन कथन II गलत है

[Option ID = 13303]

4. Statement I is incorrect but Statement II is correct
कथन I गलत है, लेकिन कथन II सही है

[Option ID = 13304]

13) The disadvantages of Aristotle's model of communication are:

- A. Weak encoding
- B. Audience created content
- C. One-way communication
- D. Stress on the speaker
- E. Ignorance of noise

Choose the *correct* answer from the options given below:

अरस्तू के सम्प्रेषण प्रतिरूप में खामियां हैं :

- A. कमजोर विकृति
- B. श्रोता द्वारा रचित विषयवस्तु
- C. एकतरफा सम्प्रेषण
- D. वक्ता पर जोर
- E. शोर से अनभिज्ञता

नीचे दिए गए विकल्पों में से सही उत्तर चुनें :

[Question ID = 10827][Question Description = 118_00_GP2_SEP22_S2_Q18]

1. A and B only

केवल A और B

[Option ID = 13305]

2. B and C only

केवल B और C

[Option ID = 13306]

3. A, D and E only

केवल A, D और E

[Option ID = 13307]

4. C, D and E only

केवल C, D और E

[Option ID = 13308]

14) Given below are two statements

Statement I: Mediated communication flourishes in a free and democratic environment.

Statement II: Power distortions always affect the flow of communication, whatever may be the political system.

In light of the above statements, choose the *most appropriate* answer from the options given below

नीचे दो कथन दिए गए हैं :

कथन - I : व्यवहृत सम्प्रेषण एक मुक्त और लोकतांत्रिक वातावरण में फलता-फूलता है

कथन - II : शक्ति संबंधी विकृतियां सदैव सम्प्रेषण के मुक्त प्रवाह को प्रभावित करती हैं, भले ही राजनीतिक व्यवस्था कोई भी हो

उपर्युक्त कथनों के आलोक में, निम्नलिखित विकल्पों में से सबसे उपयुक्त उत्तर चुनें :

[Question ID = 10828][Question Description = 119_00_GP2_SEP22_S2_Q19]

1. Both Statement I and Statement II are correct

कथन I और II दोनों सही हैं

[Option ID = 13309]

2. Both Statement I and Statement II are incorrect

कथन I और II दोनों गलत हैं

[Option ID = 13310]

3. Statement I is correct but Statement II is incorrect

कथन I सही है, लेकिन कथन II गलत है

[Option ID = 13311]

4. Statement I is incorrect but Statement II is correct

कथन I गलत है, लेकिन कथन II सही है

[Option ID = 13312]

15) Match List I with List II

List I	List II
Type of Communication	Example
A. Intra-personal	I. Face-to-face
B. Group communication	II. Satellite television
C. Transactional	III. Meditation
D. Massive	IV. Board meeting

Choose the correct answer from the options given below:

सूची -I को सूची -II से सुमेलित कीजिए :

सूची -I	सूची -II
सम्प्रेषण के प्रकार	उदाहरण
A. अंतरा - वैयक्तिक	I. आमने - सामने
B. समूह सम्प्रेषण	II. सेटेलाइट टेलीविज़न
C. संव्यवहार	III. मनन
D. अतिशय	IV. बोर्ड की बैठक

नीचे दिए गए विकल्पों में से सही उत्तर चुनिए :

[Question ID = 10829][Question Description = 120_00_GP2_SEP22_S2_Q20]

1. A - I, B - III, C - IV, D - II

[Option ID = 13313]

2. A - II, B - IV, C - III, D - I

[Option ID = 13314]

3. A - III, B - IV, C - I, D - II

[Option ID = 13315]

4. A - IV, B - I, C - II, D - III

[Option ID = 13316]

16) If the letters in word 'POWERFUL' are rearranged as they appear in the order of English alphabet, then position of how many letters will remain unchanged?

यदि ' POWERFUL ' शब्द में अक्षरों को उस क्रम में पुनः रखा जाए जैसा कि वे अंग्रेजी वर्णमाला में हैं, तब कितने अक्षरों का स्थान अपरिवर्तित रहेगा ?

[Question ID = 10830][Question Description = 121_00_GP2_SEP22_S2_Q21]

1. One

एक

[Option ID = 13317]

2. Two

दो

[Option ID = 13318]

3. Three

तीन

[Option ID = 13319]

4. More than three

तीन से अधिक

[Option ID = 13320]

17) If $\frac{1}{3.718} = 0.2689$, then find the value of $\frac{1}{0.0003718}$

यदि $\frac{1}{3.718} = 0.2689$ है, तब $\frac{1}{0.0003718}$ का मान बताएं।

[Question ID = 10831][Question Description = 122_00_GP2_SEP22_S2_Q22]

1. 0.02689 [Option ID = 13321]
2. 2689 [Option ID = 13322]
3. 26.89 [Option ID = 13323]
4. 268.9 [Option ID = 13324]

18) Find the wrong term in the series given below:

15, 16, 22, 29, 45, 70,...

दिए गए अनुक्रम में गलत पद बताएं :

15,16,22,29,45,70

[Question ID = 10832][Question Description = 123_00_GP2_SEP22_S2_Q23]

1. 22 [Option ID = 13325]
2. 70 [Option ID = 13326]
3. 29 [Option ID = 13327]
4. 16 [Option ID = 13328]

19) A man has to cover a total distance of 24 km. He observed that after walking for one hour and 40 minutes, the distance covered by him is $\frac{5}{7}$ of the remaining distance. What was the speed of the man in km/hr?

एक व्यक्ति को कुल 24 कि.मी. दूरी तय करनी है। व्यक्ति ने देखा कि एक घंटा और 40 मिनट तक चलने के बाद, उसके द्वारा तय की गई दूरी शेष दूरी का $\frac{5}{7}$ है। उस व्यक्ति की गति कि.मी./घंटा की दर से कितनी थी ?

[Question ID = 10833][Question Description = 124_00_GP2_SEP22_S2_Q24]

1. 7 [Option ID = 13329]
2. 5 [Option ID = 13330]
3. 6 [Option ID = 13331]
4. 8 [Option ID = 13332]

20) By how much above the cost should the goods be marked for sale, so that after allowing a trade discount of 20% and a cash discount of $6\frac{1}{4}\%$, a net gain of 20% on the cost is made?

वस्तुओं की बिक्री के लिए लागत से कितनी अधिक कीमत अंकित की जानी चाहिए, ताकि 20% की व्यापार छूट और $6\frac{1}{4}\%$ की नगद छूट देने के बाद, लागत पर 20% का निवल लाभ अर्जित हो सके ?

[Question ID = 10834][Question Description = 125_00_GP2_SEP22_S2_Q25]

1. 60% above the cost
लागत से 60% अधिक
[Option ID = 13333]
2. 40% above the cost
लागत से 40% अधिक
[Option ID = 13334]
3. 50% above the cost
लागत से 50% अधिक
[Option ID = 13335]
4. 55% above the cost
लागत से 55% अधिक
[Option ID = 13336]

21) In classical square of opposition, if 'No S is P' is given as true, then which of the following could be immediately inferred from it?

- A. 'Some S is P' is undetermined
- B. 'All S is P' is false
- C. 'Some S is not P' is undetermined
- D. 'Some S is P' is false
- E. 'Some S is not P' is true

Choose the *correct* answer from the options given below:

विशेष के व्लासिकी वर्ग में यदि सही के रूप में 'कोई S, P नहीं हैं' दिया गया है तो इससे निम्नलिखित में से कोनसा अनुमान तत्काल लगाया जा सकता है ?

- A. 'कुछ S, P हैं', अनिर्धारित है
- B. 'सभी S, P हैं', असत्य है
- C. 'कुछ S, P नहीं हैं', अनिर्धारित है
- D. 'कुछ S, P हैं', असत्य है
- E. 'कुछ S, P नहीं हैं', सत्य है

नीचे दिए गए विकल्पों में से सही उत्तर चुनें :

[Question ID = 10835][Question Description = 126_00_GP2_SEP22_S2_Q26]

1. A, B and E only
केवल A, B और E

[Option ID = 13337]

2. B, C and D only
केवल B, C और D

[Option ID = 13338]

3. B, D and E only
केवल B, D और E

[Option ID = 13339]

4. A, B and D only
केवल A, B और D

[Option ID = 13340]



22) An informal fallacy in which one moves carelessly from individual cases of a given class of persons or things to all the members of that class is called:

- A. Fallacy of Division
- B. Fallacy of Converse accident
- C. Fallacy of Slippery Slope
- D. Fallacy of Accident
- E. Hasty generalisation

Choose the *correct* answer from the options given below:

अनाकारिक तर्क दोष जिसमें कोई व्यक्ति दिए गए व्यक्ति अथवा वस्तु समूह के विशिष्ट मामले से उस वर्ग के सभी सदस्यों तक असावधानी पूर्वक चला जाता है उसे निम्नलिखित कहा जाता है :

- A. विभाजन का तर्क दोष
- B. विलोम संयोग का तर्क दोष
- C. फिसलन युक्त ढलान का तर्क दोष
- D. संयोग का तर्क दोष
- E. शीघ्र सामान्यीकरण

नीचे दिए गए विकल्पों में से सही उत्तर चुनें :

[Question ID = 10836][Question Description = 127_00_GP2_SEP22_S2_Q27]

1. B and E only
केवल B और E

[Option ID = 13341]

2. C only
केवल C
[Option ID = 13342]
3. E only
केवल E
[Option ID = 13343]
4. C and E only
केवल C और E
[Option ID = 13344]

23) Given below are two statements

Statement I: Analogical argument is a type of inductive argument.

Statement II: In an analogical argument, it is concluded that two entities alike in some respects, are therefore alike in some other respect.

In light of the above statements, choose the *most appropriate* answer from the options given below

नीचे दो कथन दिए गए हैं :

कथन - I : सादृश्यमूलक तर्क एक प्रकार का आगमनात्मक तर्क है

कथन - II : सादृश्यमूलक तर्क में यह निष्कर्ष निकाला जाता है कि कुछ अर्थों में समान दो वस्तु कुछ अन्य अर्थ में भी समान हैं

उपर्युक्त कथनों के आलोक में, निम्नलिखित विकल्पों में से सबसे उपयुक्त उत्तर चुनें :

[Question ID = 10837][Question Description = 128_00_GP2_SEP22_S2_Q28]

1. Both Statement I and Statement II are correct
कथन I और II दोनों सही हैं
[Option ID = 13345]
2. Both Statement I and Statement II are incorrect
कथन I और II दोनों गलत हैं
[Option ID = 13346]
3. Statement I is correct but Statement II is incorrect
कथन I सही है, लेकिन कथन II गलत है
[Option ID = 13347]
4. Statement I is incorrect but Statement II is correct
कथन I गलत है, लेकिन कथन II सही है
[Option ID = 13348]

24) Given below are two statements

Statement I: According to Classical Indian School of Logic, proof of a statement is given with the help of a syllogism.

Statement II: According to Classical Indian School of Logic, the thesis has to be mentioned thrice as a hypothesis, second as an example and third as a conclusion.

In light of the above statements, choose the *correct* answer from the options given below

नीचे दो कथन दिए गए हैं :

कथन - I : शास्त्रीय भारतीय तर्क मत के अनुसार किसी कथन का प्रमाण न्यायवाच्य (सिलोजिज्म) की सहायता से दिया जाता है

कथन - II : शास्त्रीय भारतीय तर्क मत के अनुसार, प्रतिज्ञा का उल्लेख तीन बार किया जाना आवश्यक है पहला परिकल्पना के रूप में, दूसरा उदाहरण के रूप में और तीसरा निष्कर्ष के रूप में

उपर्युक्त कथनों के आलोक में, निम्नलिखित विकल्पों में से सही उत्तर चुनें :

[Question ID = 10838][Question Description = 129_00_GP2_SEP22_S2_Q29]

1. Both Statement I and Statement II are true
कथन I और II दोनों सत्य हैं
[Option ID = 13349]
2. Both Statement I and Statement II are false
कथन I और II दोनों असत्य हैं
[Option ID = 13350]
3. Statement I is true but Statement II is false

कथन I सत्य है, लेकिन कथन II असत्य है

[Option ID = 13351]

4. Statement I is false but Statement II is true

कथन I असत्य है, लेकिन कथन II सत्य है

[Option ID = 13352]

25) According to classical Indian thinkers, in which of the following means of knowledge, we accept a fact or principle for explaining an undeniable fact, which otherwise cannot be explained?

शास्त्रीय भारतीय विचारकों के अनुसार निम्नलिखित में से ज्ञान के किस साधन में हम अखंडनीय तथ्य की व्याख्या करने के लिए एक तथ्य अथवा सिद्धांत को स्वीकार करते हैं जिसकी अन्य प्रकार से व्याख्या नहीं की जा सकती है ?

[Question ID = 10839][Question Description = 130_00_GP2_SEP22_S2_Q30]

1. Non-Cognition (Anupalabdhi)

अनुपलब्धि

[Option ID = 13353]

2. Comparision (Upamāna)

उपमान

[Option ID = 13354]

3. Verbal Tesimony (Śabda)

शब्द

[Option ID = 13355]

4. Postulation (Arthāpatti)

अर्थापत्ति

[Option ID = 13356]

26) Arrange the following computer memory types from the slowest to the fastest speed:

A. Main memory (RAM)

B. L2 Cache

C. Hard Disk

D. L1 Cache

E. CD-ROM

Choose the *correct* answer from the options given below

निम्न कंप्यूटर मेमोरी के प्रकारों को सबसे धीमे से सबसे तेज गति के क्रम में लगाएँ :

A. प्रमुख मेमोरी (RAM)

B. L2 कैशे

C. हार्ड डिस्क

D. L1 कैशे

E. CD - ROM

नीचे दिए गए विकल्पों में से सही उत्तर चुनें :

[Question ID = 10840][Question Description = 131_00_GP2_SEP22_S2_Q31]

1. E, C, A, B, D [Option ID = 13357]

2. E, C, A, D, B [Option ID = 13358]

3. B, D, A, C, E [Option ID = 13359]

4. C, E, B, A, D [Option ID = 13360]

27) With respect to telecommunications, which of the following forms of communication are synchronous?

A. Email

B. Instagram posts

C. Blogging

D. Telephone calls

E. Instant Messaging

Choose the correct answer from the options given below:

दूरसंचार के संदर्भ में निम्नलिखित में संचार का कौन सा रूप समकालिक है ?

- A. ई - मेल
- B. इंस्टाग्राम पोस्ट
- C. ब्लॉगिंग
- D. टेलिफोन कॉल्स
- E. इंस्टेंट मेसेजिंग

नीचे दिए गए विकल्पों में से सही उत्तर चुनें :

[Question ID = 10841][Question Description = 132_00_GP2_SEP22_S2_Q32]

1. A, B and C only
केवल A, B और C
[Option ID = 13361]
2. D and E only
केवल D और E
[Option ID = 13362]
3. A, B, D and E only
केवल A, B, D और E
[Option ID = 13363]
4. A, B, C, D and E
A, B, C, D और E
[Option ID = 13364]

28) Match List I with List II

List I	List II
Computer Term	Hardware/Software
A. System Software	I. Keyboard
B. Input Device	II. Pen Drive
C. Output Device	III. Linux
D. Secondary Storage Device	IV. Printer

Choose the correct answer from the options given below:

सूची -I को सूची -II से सुमेलित कीजिए :

सूची -I	सूची -II
कंप्यूटर शब्दावली	हार्डवेयर/सॉफ्टवेयर
A. सिस्टम सॉफ्टवेयर	I. की - बोर्ड
B. इनपुट डिवाइस	II. पेन ड्राइव
C. आउटपुट डिवाइस	III. लाइनवस
D. सेकंडरी स्टोरेज डिवाइस	IV. प्रिंटर

नीचे दिए गए विकल्पों में से सही उत्तर चुनिए :

[Question ID = 10842][Question Description = 133_00_GP2_SEP22_S2_Q33]

1. A - IV, B - I, C - III, D - II [Option ID = 13365]
2. A - II, B - I, C - IV, D - III [Option ID = 13366]
3. A - III, B - IV, C - I, D - II [Option ID = 13367]
4. A - III, B - I, C - IV, D - II [Option ID = 13368]

29) A movie requires 16 gigabytes of storage. How long will it take to download this movie, if the download speed is 64 megabytes per second? (1KB=1024 Bytes)

एक मूवी स्टोरेज में 16 गीगाबाइट जगह लेती है यदि डाउनलोड स्पीड 64 मेगाबाइट प्रति सेकंड है तो, उस मूवी को डाउनलोड होने में कितना समय लगेगा ? (1KB = 1024 बाइट्स)

[Question ID = 10843][Question Description = 134_00_GP2_SEP22_S2_Q34]

1. 64 seconds
64 सेकंड

[Option ID = 13369]

2. 128 seconds
128 सेकंड

[Option ID = 13370]

3. 256 seconds
256 सेकंड

[Option ID = 13371]

4. 512 seconds
512 सेकंड

[Option ID = 13372]

30) Consider the following incomplete sentences about printers:

A laser printer is a type of _____ printer. It produces _____ quality printouts and uses _____ to print onto paper. A _____ printer can produce carbon copies because the print head makes contact with the paper.

Identify the correct order to fill in the blank spaces using words from the list below (A-D)

- A. High
B. Dot Matrix
C. Non-impact
D. Toner

Choose the *correct* answer from the options given below

प्रिंटर के बारे में निम्न अधूरे वाक्यों पर विचार करें :

एक लेजर प्रिंटर _____ प्रकार का प्रिंटर है यह _____ गुणवत्तापूर्ण प्रिंटआउट्स निकालता है और कागज पर छपाई के लिए _____ का प्रयोग करता है एक _____ प्रिंटर कार्बन कॉपी निकालता है क्योंकि इसका प्रिंट हेड कागज के संपर्क में रहता है

निम्नलिखित (A - D) में से रिक्त स्थानों की पूर्ति के लिए शब्दों के सही क्रम की पहचान कीजिए -

- A. उच्च
B. डॉट मैट्रिक्स
C. नॉन - इम्पैक्ट
D. टोनर

नीचे दिए गए विकल्पों में से सही उत्तर चुनें :

[Question ID = 10844][Question Description = 135_00_GP2_SEP22_S2_Q35]

1. B, A, D, C [Option ID = 13373]
2. C, D, A, B [Option ID = 13374]
3. A, B, C, D [Option ID = 13375]
4. C, A, D, B [Option ID = 13376]

31) A 20 dB increase in noise level represents an enhancement in intensity of sound by a factor of

किसी शोर के स्तर में 20 डेसिबल की वृद्धि ध्वनि में तीव्रता के स्तर में वृद्धि को निम्न गुणांक में दर्शाता है -

[Question ID = 10845][Question Description = 136_00_GP2_SEP22_S2_Q36]

1. 2 [Option ID = 13377]
2. 5 [Option ID = 13378]
3. 100 [Option ID = 13379]
4. 20 [Option ID = 13380]

32) An earthquake in magnitude on the Richter scale in the range 7-7.3, is termed as

रिक्टर स्केल पर 7 - 7.3 मात्रा का एक भूकंप निम्न रूप से परिभाषित होता है

[Question ID = 10846][Question Description = 137_00_GP2_SEP22_S2_Q37]

1. destructive
विनाशकारी

[Option ID = 13381]

2. ruinous
विध्वंसक

[Option ID = 13382]

3. disatrous
अनर्थकारी

[Option ID = 13383]

4. catastrophic
भयंकर

[Option ID = 13384]

33) Given below are two statements

Statement I: Dioxins are chlorinated compounds.

Statement II: Dioxins cause deaths of birds and other stray animals due to their widespread use as herbicides and pesticides.

In light of the above statements, choose the correct answer from the options given below

नीचे दो कथन दिए गए हैं :

कथन - I : डाइऑक्सिन वलोरिनेटेड यौगिक है

कथन - II : डाइऑक्सिन शाकनाशकों और कीटनाशकों के रूप में व्यापक प्रयोग से पक्षियों और लावारिस जानवरों की मृत्यु का कारण है

उपर्युक्त कथनों के आलोक में निम्नलिखित विकल्पों में से सही उत्तर चुनें :

[Question ID = 10847][Question Description = 138_00_GP2_SEP22_S2_Q38]

1. Both Statement I and Statement II are true
कथन I और II दोनों सत्य हैं

[Option ID = 13385]

2. Both Statement I and Statement II are false
कथन I और II दोनों असत्य हैं

[Option ID = 13386]

3. Statement I is true but Statement II is false
कथन I सत्य है, लेकिन कथन II असत्य है

[Option ID = 13387]

4. Statement I is false but Statement II is true
कथन I असत्य है, लेकिन कथन II सत्य है

[Option ID = 13388]

34) 'Joint Implementation' was one of the mechanisms suggested in meeting the objectives of

किस सम्मेलन के उद्देश्यों में 'संयुक्त कार्यान्वयन' एक सुझाया गया प्रक्रम था ?

[Question ID = 10848][Question Description = 139_00_GP2_SEP22_S2_Q39]

1. Agenda 21
एजेंडा 21

[Option ID = 13389]

2. Montreal Protocol
मोंट्रियल प्रोटोकॉल

[Option ID = 13390]

3. Kyoto Protocol
क्योटो प्रोटोकॉल

[Option ID = 13391]

4. Paris Agreement
पेरिस समझौता

[Option ID = 13392]

35) Which of the following statements are true about the International Solar Alliance?

A. It was founded in 2012.

B. India is one of the founding countries.

C. Its headquarters are in Geneva.

- D. It was signed by over 100 countries.
- E. Mostly sunshine countries are members of this alliance.
- Choose the *correct* answer from the options given below:

निम्नलिखित में कौन से कथन अंतर्राष्ट्रीय सौर गठबंधन के बारे में सही हैं ?

- A. इसकी स्थापना 2012 में हुई थी
- B. भारत इसके संस्थापक देशों में से एक है
- C. इसका मुख्यालय जेनेवा में है
- D. यह 100 से भी अधिक देशों द्वारा हस्ताक्षरित है
- E. सौर उपलब्धता वाले ज्यादातर देश इस गठबंधन के सदस्य हैं

नीचे दिए गए विकल्पों में से सही उत्तर चुनें :

[Question ID = 10849][Question Description = 140_00_GP2_SEP22_S2_Q40]

1. A, C and D only

केवल A, C और D

[Option ID = 13393]

2. A, D and E only

केवल A, D और E

[Option ID = 13394]

3. B, C and D only


केवल B, C और D

[Option ID = 13395]

4. B, D and E only

केवल B, D और E

[Option ID = 13396]



- 36) According to the UGC (Credit Framework for Online Learning Courses through SWAYAM), 2021, upto what percentage of total course credits in a particular programme in a semester can be offered through online courses?

यू.जी.सी (SWAYAM) द्वारा ऑनलाइन अधिगम पाठ्यक्रमों के लिए क्रेडिटरूपरेखा) 2021 के अनुसार किसी विशेष प्रोग्राम के लिए एक सत्र में कुल कोर्स क्रेडिटका कितने प्रतिशत तक ऑनलाइन कोर्स द्वारा प्रस्तावित किया जा सकता है ?

[Question ID = 10850][Question Description = 141_00_GP2_SEP22_S2_Q41]

1. 25% [Option ID = 13397]

2. 40% [Option ID = 13398]

3. 50% [Option ID = 13399]

4. 45% [Option ID = 13400]

- 37) With reference to intake of Indian students, an Institution of Eminence can admit foreign students additionally, up to the extent of

भारतीय छात्रों की प्रवेश प्रक्रिया के संदर्भ में कोई लब्ध प्रतिष्ठित संस्थान कुल कितने प्रतिशत तक विदेशी छात्रों को प्रवेश दे सकता है?

[Question ID = 10851][Question Description = 142_00_GP2_SEP22_S2_Q42]

1. 20% [Option ID = 13401]

2. 25% [Option ID = 13402]

3. 30% [Option ID = 13403]

4. 35% [Option ID = 13404]

- 38) Value education is about promoting

A. equality and social justice

B. national cohesion and democratic citizenship

C. rich cultural and spiritual heritage

D. religious practices and beliefs

E. sound moral and ethical principles

Choose the *correct* answer from the options given below:

मूल्यपरक शिक्षा किस बारे में प्रोत्साहित करती है?

- A. समानता और सामाजिक न्याय
- B. राष्ट्रीय संसक्ति और लोकतांत्रिक नागरिकता
- C. समृद्ध सांस्कृतिक और आध्यात्मिक विरासत
- D. धार्मिक पृथाएँ और विश्वास
- E. उच्च नैतिक और नीतिगत सिद्धांत

नीचे दिए गए विकल्पों में से सही उत्तर चुनें :

[Question ID = 10852][Question Description = 143_00_GP2_SEP22_S2_Q43]

1. B, C, D and E only
केवल B, C, D और E

[Option ID = 13405]

2. A, B, C and E only
केवल A, B, C और E

[Option ID = 13406]

3. C, D and E only
केवल C, D और E

[Option ID = 13407]

4. A, B and E only
केवल A, B और E

[Option ID = 13408]

39) Who is the Chairperson of the Executive Council in a Government University?

किसी राजकीय विश्वविद्यालय में कार्यकारी परिषद का अध्यक्ष कौन होता है?

[Question ID = 10853][Question Description = 144_00_GP2_SEP22_S2_Q44]

1. Vice Chancellor
कुलपति

[Option ID = 13409]

2. Visitor's nominee
विज़िटर द्वारा नामित सदस्य

[Option ID = 13410]

3. Chancellor
कुलाधिपति

[Option ID = 13411]

4. Secretary Higher Education Department
सचिव, उच्च शिक्षा विभाग

[Option ID = 13412]

40) Given below are two statements

Statement I: Pitroda Commission recommended setting up 1500 universities in India to avoid stagnation in Higher Education.

Statement II: To address the problem of low enrolment in higher education in India, Indira Gandhi National Open Universities was set up in 1975.

In light of the above statements, choose the *most appropriate* answer from the options given below

नीचे दो कथन दिए गए हैं :

कथन - I : भारत में उच्च शिक्षा में गतिरोध को दूर करने के लिए पिट्रोदा आयोग ने 1500 विश्वविद्यालयों की स्थापना की सिफारिश की

कथन - II : भारत में उच्च शिक्षा में अल्प नामांकन की समस्या को दूर करने के लिए 1975 में इंदिरा गांधी राष्ट्रीय मुक्त विश्वविद्यालय की स्थापना की गई

उपर्युक्त कथनों के आलोक में, निम्नलिखित विकल्पों में से सबसे उपयुक्त उत्तर चुनें :

[Question ID = 10854][Question Description = 145_00_GP2_SEP22_S2_Q45]

1. Both Statement I and Statement II are correct

कथन I और II दोनों सही हैं

[Option ID = 13413]

2. Both Statement I and Statement II are incorrect

कथन I और II दोनों गलत हैं

[Option ID = 13414]

3. Statement I is correct but Statement II is incorrect

कथन I सही है, किन्तु कथन II गलत है

[Option ID = 13415]

4. Statement I is incorrect but Statement II is correct

कथन I गलत है, किन्तु कथन II सही है

[Option ID = 13416]

Topic:- GP_UGCNET_20SEPT22_SH1_S2_PartC

1) Read the following passage and answer the five questions that follow

According to the World Health Organisation (WHO), air pollution is now comparable to other global health risks like unhealthy diets and smoking tobacco. It is recognised "as the single biggest environmental threat to human health". WHO guidelines, which are not legally binding and intended as a reference for policymakers, advocacy groups and academics, stipulate permissible concentrations of six pollutants known to have impacts on health: two types of particulate matter known as PM_{2.5} and PM₁₀, as well as Ozone, Nitrogen dioxide, Sulphur dioxide and Carbon monoxide. The guidelines could also send a message to the wider public about lifestyle and business choices - whether it is driving cars and trucks, disposing of garbage, working in industrial jobs or farming. WHO says the main human-generated sources of air pollution can vary geographically but include the energy and transportation sectors, as well as waste dumpsites and home cooking and heating. It advised people to do their part by changing their lifestyles - not running car engines uselessly; avoiding use of plastics that could end up being incinerated; and walking, riding bikes or using public transportation to get to work.

It should be noted that "because of air pollution, the simple act of breathing contributes to 7 million deaths a year. Almost everyone around the world is exposed to unhealthy levels of air pollution". The harmful health effects of air pollution kick in at lower levels than previously thought, the World Health Organisation has said as it has set a new standard for policymakers and the public in the first update of its air quality guidelines in 15 years. Since the last update of the WHO recommendations, better monitoring and science have cleared up the global picture about the effects of six major air pollutants on human health. According to the agency, 90% of the world's people already live in areas with at least one particularly harmful type of pollutant.

निम्नलिखित गद्यांश को सावधानी से पढ़ें और दिए गए प्रश्नों के उत्तर दें

विश्व स्वास्थ्य संगठन (डब्ल्यू एच ओ) के अनुसार, वायु प्रदूषण हानिकारक भोजन एवं धूम्रपान जैसे अन्य वैश्विक स्वास्थ्य जोखिमों से अब तुलनीय है इसे " मानव स्वास्थ्य के लिए एक सबसे बड़ा पर्यावरणीय खतरा" माना जाता है विश्व स्वास्थ्य संगठन के दिशानिर्देश जो कानूनी रूप से बाध्यकारी नहीं हैं और जिनका उद्देश्य नीति निर्माताओं, वकालत करने वाले समूहों और शिक्षाविदों के लिए संदर्भ के रूप में है, स्वास्थ्य पर प्रभाव डालने वाले ज्ञात छः प्रदूषकों : पी एम 2.5 और पी एम 10 के रूप में ज्ञात विविक्त पदार्थ ओजोन, नाइट्रोजन डाइऑक्साइड, सल्फर डाइऑक्साइड और कार्बन मोनोऑक्साइड की अनुमत्य सांद्रताओं का निर्धारण करती है ये दिशानिर्देश व्यापक जनता को जीवन शैली और व्यापार विकल्पों के बारे में संदेश भी दे सकते हैं- चाहे यह कार और ट्रक चलाना हो, कूड़े का निपटारा करना हो, औद्योगिक कार्य अथवा कृषि में कार्य करना हो डब्ल्यू एच ओ कहता है कि वायु प्रदूषण का मुख्य मानव जनित स्रोत भौगोलिक रूप से अलग अलग हो सकता है लेकिन इसमें ऊर्जा तथा परिवहन क्षेत्र तथा अपशिष्ट जमा स्थल और घर में खाना बनाना तथा ऊष्मीकरण शामिल हैं इसने लोगों को सलाह दी कि अपने जीवन शैलियों में परिवर्तन कर - बिना जरूरत के कार, इंजन नहीं चलाकर ; ऐसे प्लास्टिक जिसका अंततः दहन हो सकता है का उपयोग करके और पैदल चलकर, बाइक चलाकर अथवा कार्य स्थल तक पहुंचने के लिए सार्वजनिक परिवहन का उपयोग कर अपना योगदान करें

यह नोट किया जाना चाहिए कि "वायु प्रदूषण के कारण, केवल सांस लेने की सामान्य प्रक्रिया में 7 मिलियन लोगों की प्रति वर्ष मृत्यु होती है विश्व भर में प्रायः प्रत्येक व्यक्ति वायु प्रदूषण के अस्वस्थकर स्तरों से उद्भासित होता है" विश्व स्वास्थ्य संगठन ने कहा है, वायु प्रदूषण का हानिकारक स्वास्थ्य प्रभाव निम्नतर स्तरों पर शुरू होता है जिसे पहले कभी सोचा नहीं गया है साथ ही इसने 15 वर्षों में अपनी वायु गुणवत्ता दिशा-निर्देशों की पहली जानकारी में नीति निर्माताओं और आम जनता के लिए एक नया मानदंड निर्धारित किया है डब्ल्यू एच ओ की सिफारिशों के अंतिम जानकारी के समय से, बेहतर निगरानी एवं विज्ञान ने मानव स्वास्थ्य पर छह प्रमुख वायु प्रदूषकों के बारे में वैश्विक तस्वीर को साफ कर दिया है एजेंसी के अनुसार, विश्व के 90% लोग पहले से ही उन क्षेत्रों में रहते हैं जिनमें विशेष रूप से कम से कम एक हानिकारक प्रकार का प्रदूषक है

Why are the WHO guidelines on air pollution not binding on member states?

विश्व स्वास्थ्य संगठन के वायु प्रदूषण संबंधी दिशा निर्देश सदस्य राष्ट्रों पर बाध्यकारी क्यों नहीं हैं ?

[Question ID = 10855][Question Description = 146_00_GP2_SEP22_S2_Q46]

1. Not all countries are WHO members.

सभी देश डब्ल्यू.एच.ओ. के सदस्य नहीं हैं

[Option ID = 13417]

2. Air pollution is still not a serious problem.

वायु प्रदूषण अभी भी गंभीर समस्या नहीं है

[Option ID = 13418]

3. Guidelines do not have legal sanctity.

दिशानिर्देशों की कानूनी मान्यता नहीं है

[Option ID = 13419]

4. The guidelines lack scientific validation.

दिशानिर्देशों में वैज्ञानिक वैधता की कमी है

[Option ID = 13420]

2)

Read the following passage and answer the five questions that follow

According to the World Health Organisation (WHO), air pollution is now comparable to other global health risks like unhealthy diets and smoking tobacco. It is recognised "as the single biggest environmental threat to human health". WHO guidelines, which are not legally binding and intended as a reference for policymakers, advocacy groups and academics, stipulate permissible concentrations of six pollutants known to have impacts on health: two types of particulate matter known as PM_{2.5} and PM₁₀, as well as Ozone, Nitrogen dioxide, Sulphur dioxide and Carbon monoxide. The guidelines could also send a message to the wider public about lifestyle and business choices - whether it is driving cars and trucks, disposing of garbage, working in industrial jobs or farming. WHO says the main human-generated sources of air pollution can vary geographically but include the energy and transportation sectors, as well as waste dumpsites and home cooking and heating. It advised people to do their part by changing their lifestyles - not running car engines uselessly; avoiding use of plastics that could end up being incinerated; and walking, riding bikes or using public transportation to get to work.

It should be noted that "because of air pollution, the simple act of breathing contributes to 7 million deaths a year. Almost everyone around the world is exposed to unhealthy levels of air pollution". The harmful health effects of air pollution kick in at lower levels than previously thought, the World Health Organisation has said as it has set a new standard for policymakers and the public in the first update of its air quality guidelines in 15 years. Since the last update of the WHO recommendations, better monitoring and science have cleared up the global picture about the effects of six major air pollutants on human health. According to the agency, 90% of the world's people already live in areas with at least one particularly harmful type of pollutant.

निम्नलिखित गद्यांश को सावधानी से पढ़ें और दिए गए प्रश्नों के उत्तर दें

विश्व स्वास्थ्य संगठन (डब्ल्यू.एच.ओ.) के अनुसार, वायु प्रदूषण हानिकारक भोजन एवं धूम्रपान जैसे अन्य वैश्विक स्वास्थ्य जोखिमों से अब तुलनीय है इसे "मानव स्वास्थ्य के लिए एक सबसे बड़ा पर्यावरणीय खतरा" माना जाता है विश्व स्वास्थ्य संगठन के दिशानिर्देश जो कानूनी रूप से बाध्यकारी नहीं हैं और जिनका उद्देश्य नीति निर्माताओं, वकालत करने वाले समूहों और शिक्षाविदों के लिए संदर्भ के रूप में है, स्वास्थ्य पर प्रभाव डालने वाले ज्ञात छः प्रदूषकों : पी एम 2.5 और पी एम 10 के रूप में ज्ञात विविक्त पदार्थ ओजोन, नाइट्रोजन डाइऑक्साइड, सल्फर डाइऑक्साइड और कार्बन मोनोऑक्साइड की अनुमत्य सांद्रताओं का निर्धारण करती है ये दिशानिर्देश व्यापक जनता को जीवन शैली और व्यापार विकल्पों के बारे में संदेश भी दे सकते हैं- चाहे यह कार और ट्रक चलाना हो, कूड़े का निपटारा करना हो, औद्योगिक कार्य अथवा कृषि में कार्य करना हो डब्ल्यू.एच.ओ. कहता है कि वायु प्रदूषण का मुख्य मानव जनित स्रोत भौगोलिक रूप से अलग अलग हो सकता है लेकिन इसमें ऊर्जा तथा परिवहन क्षेत्र तथा अपशिष्ट जमा स्थल और घर में खाना बनाना तथा ऊष्मीकरण शामिल हैं इसने लोगों को सलाह दी कि अपने जीवन शैलियों में परिवर्तन कर - बिना जरूरत के कार, इंजन नहीं चलाकर ; ऐसे प्लास्टिक जिसका अंततः दहन हो सकता है का उपयोग करके और पैदल चलकर, बाइक चलाकर अथवा कार्य स्थल तक पहुंचने के लिए सार्वजनिक परिवहन का उपयोग कर अपना योगदान करें

यह नोट किया जाना चाहिए कि "वायु प्रदूषण के कारण, केवल सांस लेने की सामान्य प्रक्रिया में 7 मिलियन लोगों की प्रति वर्ष मृत्यु होती है विश्व भर में प्रायः प्रत्येक व्यक्ति वायु प्रदूषण के अस्वस्थकर स्तरों से उद्भासित होता है" विश्व स्वास्थ्य संगठन ने कहा है, वायु प्रदूषण का हानिकारक स्वास्थ्य प्रभाव निम्नतर स्तरों पर शुरू होता है जिसे पहले कभी सोचा नहीं गया है साथ ही इसने 15 वर्षों में अपनी वायु गुणवत्ता दिशा-निर्देशों की पहली जानकारी में नीति निर्माताओं और आम जनता के लिए एक नया मानदंड निर्धारित किया है डब्ल्यू.एच.ओ. की सिफारिशों के अंतिम जानकारी के समय से, बेहतर निगरानी एवं विज्ञान ने मानव स्वास्थ्य पर छह प्रमुख वायु प्रदूषकों के बारे में वैश्विक तस्वीर को साफ कर दिया है एजेंसी के अनुसार, विश्व के 90% लोग पहले से ही उन क्षेत्रों में रहते हैं जिनमें विशेष रूप से

कम से कम एक हानिकारक प्रकार का प्रदूषक है

What is the WHO reference for policy makers?

नीति निर्माताओं के लिए डब्ल्यू एच ओ संदर्भ क्या है ?

[Question ID = 10856][Question Description = 147_00_GP2_SEP22_S2_Q47]

1. Reduce the ozone level

ओजोन स्तर को कम करना

[Option ID = 13421]

2. Promote advocacy groups

वकालत करने वाले समूहों का संवर्धन करना

[Option ID = 13422]

3. Threshold concentration of identified pollutants

अभिज्ञात प्रदूषकों की आरंभिक सांद्रता

[Option ID = 13423]

4. Focus on all types of health risks

सभी प्रकार के स्वास्थ्य जोखिमों पर ध्यान केंद्रित करना

[Option ID = 13424]

3) Read the following passage and answer the five questions that follow

According to the World Health Organisation (WHO), air pollution is now comparable to other global health risks like unhealthy diets and smoking tobacco. It is recognised "as the single biggest environmental threat to human health". WHO guidelines, which are not legally binding and intended as a reference for policymakers, advocacy groups and academics, stipulate permissible concentrations of six pollutants known to have impacts on health: two types of particulate matter known as PM_{2.5} and PM₁₀, as well as Ozone, Nitrogen dioxide, Sulphur dioxide and Carbon monoxide. The guidelines could also send a message to the wider public about lifestyle and business choices - whether it is driving cars and trucks, disposing of garbage, working in industrial jobs or farming. WHO says the main human-generated sources of air pollution can vary geographically but include the energy and transportation sectors, as well as waste dumpsites and home cooking and heating. It advised people to do their part by changing their lifestyles - not running car engines uselessly; avoiding use of plastics that could end up being incinerated; and walking, riding bikes or using public transportation to get to work.

It should be noted that "because of air pollution, the simple act of breathing contributes to 7 million deaths a year. Almost everyone around the world is exposed to unhealthy levels of air pollution". The harmful health effects of air pollution kick in at lower levels than previously thought, the World Health Organisation has said as it has set a new standard for policymakers and the public in the first update of its air quality guidelines in 15 years. Since the last update of the WHO recommendations, better monitoring and science have cleared up the global picture about the effects of six major air pollutants on human health. According to the agency, 90% of the world's people already live in areas with at least one particularly harmful type of pollutant.

निम्नलिखित गद्यांश को सावधानी से पढ़ें और दिए गए प्रश्नों के उत्तर दें

विश्व स्वास्थ्य संगठन (डब्ल्यू एच ओ) के अनुसार, वायु प्रदूषण हानिकारक भोजन एवं धूम्रपान जैसे अन्य वैश्विक स्वास्थ्य जोखिमों से अब तुलनीय है इसे " मानव स्वास्थ्य के लिए एक सबसे बड़ा पर्यावरणीय खतरा" माना जाता है विश्व स्वास्थ्य संगठन के दिशानिर्देश जो कानूनी रूप से बाध्यकारी नहीं हैं और जिनका उद्देश्य नीति निर्माताओं, वकालत करने वाले समूहों और शिक्षाविदों के लिए संदर्भ के रूप में है, स्वास्थ्य पर प्रभाव डालने वाले ज्ञात छः प्रदूषकों : पी एम 2.5 और पी एम 10 के रूप में ज्ञात विविक्त पदार्थ ओजोन, नाइट्रोजन डाइऑक्साइड, सल्फर डाइऑक्साइड और कार्बन मोनोऑक्साइड की अनुमत्य सांद्रताओं का निर्धारण करती है ये दिशानिर्देश व्यापक जनता को जीवन शैली और व्यापार विकल्पों के बारे में संदेश भी दे सकते हैं- चाहे यह कार और ट्रक चलाना हो, कूड़े का निपटारा करना हो, औद्योगिक कार्य अथवा कृषि में कार्य करना हो डब्ल्यू एच ओ कहता है कि वायु प्रदूषण का मुख्य मानव जनित स्रोत भौगोलिक रूप से अलग अलग हो सकता है लेकिन इसमें ऊर्जा तथा परिवहन क्षेत्र तथा अपशिष्ट जमा स्थल और घर में खाना बनाना तथा ऊष्मीकरण शामिल हैं इसने लोगों को सलाह दी कि अपने जीवन शैलियों में परिवर्तन कर - बिना जरूरत के कार, इंजन नहीं चलाकर ; ऐसे प्लास्टिक जिसका अंततः दहन हो सकता है का उपयोग करके और पैदल चलकर, बाइक चलाकर अथवा कार्य स्थल तक पहुंचने के लिए सार्वजनिक परिवहन का उपयोग कर अपना योगदान करें

यह नोट किया जाना चाहिए कि "वायु प्रदूषण के कारण, केवल सांस लेने की सामान्य प्रक्रिया में 7 मिलियन लोगों की प्रति वर्ष मृत्यु होती है विश्व भर में प्रायः प्रत्येक व्यक्ति वायु प्रदूषण के अस्वस्थकर स्तरों से उद्भासित होता है" विश्व स्वास्थ्य संगठन ने कहा है, वायु प्रदूषण का हानिकारक स्वास्थ्य प्रभाव निम्नतर स्तरों पर शुरू होता है जिसे पहले कभी सोचा नहीं गया है साथ ही इसने 15 वर्षों में अपनी वायु गुणवत्ता दिशा-निर्देशों की पहली जानकारी में नीति निर्माताओं और आम

जनता के लिए एक नया मानदंड निर्धारित किया है - डब्ल्यू एच ओ की सिफारिशों के अंतिम जानकारी के समय से, बेहतर निगरानी एवं विज्ञान ने मानव स्वास्थ्य पर यह प्रमुख वायु प्रदूषकों के बारे में वैश्विक तस्वीर को साफ कर दिया है - एजेंसी के अनुसार, विश्व के 90% लोग पहले से ही उन क्षेत्रों में रहते हैं जिनमें विशेष रूप से कम से कम एक हानिकारक प्रकार का प्रदूषक है

The WHO advice to the public is:

आम जनता को डब्ल्यू एच ओ की सलाह है :

[Question ID = 10857][Question Description = 148_00_GP2_SEP22_S2_Q48]

1. Identify the sources of air pollution

वायु प्रदूषण के स्रोतों की पहचान करना

[Option ID = 13425]

2. Change lifestyles

जीवन शैली में परिवर्तन करना

[Option ID = 13426]

3. Stay indoor as much as possible

यथासंभव घर में रहें

[Option ID = 13427]

4. Incinerate plastic waste

प्लास्टिक अपशिष्ट को जला दें

[Option ID = 13428]

4) Read the following passage and answer the five questions that follow

According to the World Health Organisation (WHO), air pollution is now comparable to other global health risks like unhealthy diets and smoking tobacco. It is recognised "as the single biggest environmental threat to human health". WHO guidelines, which are not legally binding and intended as a reference for policymakers, advocacy groups and academics, stipulate permissible concentrations of six pollutants known to have impacts on health: two types of particulate matter known as PM_{2.5} and PM₁₀, as well as Ozone, Nitrogen dioxide, Sulphur dioxide and Carbon monoxide. The guidelines could also send a message to the wider public about lifestyle and business choices - whether it is driving cars and trucks, disposing of garbage, working in industrial jobs or farming. WHO says the main human-generated sources of air pollution can vary geographically but include the energy and transportation sectors, as well as waste dumpsites and home cooking and heating. It advised people to do their part by changing their lifestyles - not running car engines uselessly; avoiding use of plastics that could end up being incinerated; and walking, riding bikes or using public transportation to get to work.

It should be noted that "because of air pollution, the simple act of breathing contributes to 7 million deaths a year. Almost everyone around the world is exposed to unhealthy levels of air pollution". The harmful health effects of air pollution kick in at lower levels than previously thought, the World Health Organisation has said as it has set a new standard for policymakers and the public in the first update of its air quality guidelines in 15 years. Since the last update of the WHO recommendations, better monitoring and science have cleared up the global picture about the effects of six major air pollutants on human health. According to the agency, 90% of the world's people already live in areas with at least one particularly harmful type of pollutant.

निम्नलिखित गद्यांश को सावधानी से पढ़ें और दिए गए प्रश्नों के उत्तर दें

विश्व स्वास्थ्य संगठन (डब्ल्यू एच ओ) के अनुसार, वायु प्रदूषण हानिकारक भोजन एवं धूम्रपान जैसे अन्य वैश्विक स्वास्थ्य जोखिमों से अब तुलनीय है इसे " मानव स्वास्थ्य के लिए एक सबसे बड़ा पर्यावरणीय खतरा" माना जाता है विश्व स्वास्थ्य संगठन के दिशानिर्देश जो कानूनी रूप से बाध्यकारी नहीं हैं और जिनका उद्देश्य नीति निर्माताओं, वकालत करने वाले समूहों और शिक्षाविदों के लिए संदर्भ के रूप में है, स्वास्थ्य पर प्रभाव डालने वाले ज्ञात छः प्रदूषकों : पी एम 2.5 और पी एम 10 के रूप में ज्ञात विविक्त पदार्थ ओजोन, नाइट्रोजन डाइऑक्साइड, सल्फर डाइऑक्साइड और कार्बन मोनोऑक्साइड की अनुमत्य सांद्रताओं का निर्धारण करती है ये दिशानिर्देश व्यापक जनता को जीवन शैली और व्यापार विकल्पों के बारे में संदेश भी दे सकते हैं- चाहे यह कार और ट्रक चलाना हो, कूड़े का निपटारा करना हो, औद्योगिक कार्य अथवा कृषि में कार्य करना हो डब्ल्यू एच ओ कहता है कि वायु प्रदूषण का मुख्य मानव जनित स्रोत भौगोलिक रूप से अलग अलग हो सकता है लेकिन इसमें ऊर्जा तथा परिवहन क्षेत्र तथा अपशिष्ट जमा स्थल और घर में खाना बनाना तथा ऊष्मीकरण शामिल हैं इसने लोगों को सलाह दी कि अपने जीवन शैलियों में परिवर्तन कर - बिना जरूरत के कार, इंजन नहीं चलाकर ; ऐसे प्लास्टिक जिसका अंततः दहन हो सकता है का उपयोग करके और पैदल चलकर, बाइक चलाकर अथवा कार्य स्थल तक पहुंचने के लिए सार्वजनिक परिवहन का उपयोग कर अपना योगदान करें

यह नोट किया जाना चाहिए कि "वायु प्रदूषण के कारण, केवल सांस लेने की सामान्य प्रक्रिया में 7 मिलियन लोगों की प्रति वर्ष मृत्यु होती है विश्व भर में प्रायः प्रत्येक व्यक्ति वायु प्रदूषण के अस्वस्थकर स्तरों से उद्भासित होता है" विश्व स्वास्थ्य संगठन ने कहा है, वायु प्रदूषण का हानिकारक स्वास्थ्य प्रभाव निम्नतर स्तरों पर शुरू होता है जिसे पहले कभी सोचा नहीं गया है साथ ही इसने 15 वर्षों में अपनी वायु गुणवत्ता दिशा-निर्देशों की पहली जानकारी में नीति निर्माताओं और आम जनता के लिए एक नया मानदंड निर्धारित किया है डब्ल्यू एच ओ की सिफारिशों के अंतिम जानकारी के समय से, बेहतर निगरानी एवं विज्ञान ने मानव स्वास्थ्य पर यह प्रमुख वायु प्रदूषकों के बारे में वैश्विक तस्वीर को साफ कर दिया है एजेंसी के अनुसार, विश्व के 90% लोग पहले से ही उन क्षेत्रों में रहते हैं जिनमें विशेष रूप से कम से कम एक हानिकारक प्रकार का प्रदूषक है

The measure adopted by the WHO to limit the air pollution is:

डब्ल्यू एच ओ द्वारा वायु प्रदूषण को सीमित करने के लिए उठाया गया कदम है:

[Question ID = 10858][Question Description = 149_00_GP2_SEP22_S2_Q49]

1. Present a global picture of air pollution

वायु प्रदूषण की वैश्विक तस्वीर प्रस्तुत करना

[Option ID = 13429]

2. Take a serious view of air pollution

वायु प्रदूषण को गंभीरता से लेना

[Option ID = 13430]

3. Initiation of innovative practices

अभिनव कार्य पद्धतियों को शुरू करना

[Option ID = 13431]

4. Setting a new standard of air quality in its updated guidelines

अपने अद्यतित दिशानिर्देशों में वायु की गुणवत्ता का एक नया मानक तय करना

[Option ID = 13432]

5) Read the following passage and answer the five questions that follow

According to the World Health Organisation (WHO), air pollution is now comparable to other global health risks like unhealthy diets and smoking tobacco. It is recognised "as the single biggest environmental threat to human health". WHO guidelines, which are not legally binding and intended as a reference for policymakers, advocacy groups and academics, stipulate permissible concentrations of six pollutants known to have impacts on health: two types of particulate matter known as PM_{2.5} and PM₁₀, as well as Ozone, Nitrogen dioxide, Sulphur dioxide and Carbon monoxide. The guidelines could also send a message to the wider public about lifestyle and business choices - whether it is driving cars and trucks, disposing of garbage, working in industrial jobs or farming. WHO says the main human-generated sources of air pollution can vary geographically but include the energy and transportation sectors, as well as waste dumpsites and home cooking and heating. It advised people to do their part by changing their lifestyles - not running car engines uselessly; avoiding use of plastics that could end up being incinerated; and walking, riding bikes or using public transportation to get to work.

It should be noted that "because of air pollution, the simple act of breathing contributes to 7 million deaths a year. Almost everyone around the world is exposed to unhealthy levels of air pollution". The harmful health effects of air pollution kick in at lower levels than previously thought, the World Health Organisation has said as it has set a new standard for policymakers and the public in the first update of its air quality guidelines in 15 years. Since the last update of the WHO recommendations, better monitoring and science have cleared up the global picture about the effects of six major air pollutants on human health. According to the agency, 90% of the world's people already live in areas with at least one particularly harmful type of pollutant.

निम्नलिखित गद्यांश को सावधानी से पढ़ें और दिए गए प्रश्नों के उत्तर दें

विश्व स्वास्थ्य संगठन (डब्ल्यू एच ओ) के अनुसार, वायु प्रदूषण हानिकारक भोजन एवं धूम्रपान जैसे अन्य वैश्विक स्वास्थ्य जोखिमों से अब तुलनीय है इसे " मानव स्वास्थ्य के लिए एक सबसे बड़ा पर्यावरणीय खतरा" माना जाता है विश्व स्वास्थ्य संगठन के दिशानिर्देश जो कानूनी रूप से बाध्यकारी नहीं है और जिनका उद्देश्य नीति निर्माताओं, वकालत करने वाले समूहों और शिक्षाविदों के लिए संदर्भ के रूप में है, स्वास्थ्य पर प्रभाव डालने वाले ज्ञात छः प्रदूषकों : पी एम 2.5 और पी एम 10 के रूप में ज्ञात विविक्त पदार्थ ओजोन, नाइट्रोजन डाइऑक्साइड, सल्फर डाइऑक्साइड और कार्बन मोनोऑक्साइड की अनुमत्य सांद्रताओं का निर्धारण करती है ये दिशानिर्देश व्यापक जनता को जीवन शैली और व्यापार विकल्पों के बारे में संदेश भी दे सकते हैं- चाहे यह कार और ट्रक चलाना हो, कूड़े का निपटारा करना हो, औद्योगिक कार्य अथवा कृषि में कार्य करना हो डब्ल्यू एच ओ कहता है कि वायु प्रदूषण का मुख्य मानव जनित स्रोत भौगोलिक रूप से अलग अलग हो सकता है लेकिन इसमें ऊर्जा तथा परिवहन क्षेत्र तथा अपशिष्ट जमा स्थल और घर में खाना बनाना तथा ऊष्मीकरण शामिल हैं इसने लोगों को सलाह दी कि अपने जीवन शैलियों में परिवर्तन कर - बिना जरूरत के कार, इंजन नहीं चलाकर ; ऐसे प्लास्टिक जिसका अंततः दहन हो सकता है का उपयोग करके और पैदल चलकर, बाइक चलाकर अथवा कार्य स्थल तक पहुंचने के लिए सार्वजनिक परिवहन का उपयोग कर अपना योगदान करें

यह नोट किया जाना चाहिए कि "वायु प्रदूषण के कारण, केवल सांस लेने की सामान्य प्रक्रिया में 7 मिलियन लोगों की प्रति वर्ष मृत्यु होती है विश्व भर में प्रायः प्रत्येक व्यक्ति वायु प्रदूषण के अस्वस्थकर स्तरों से उद्भासित होता है" विश्व स्वास्थ्य संगठन ने कहा है, वायु प्रदूषण का हानिकारक स्वास्थ्य प्रभाव निम्नतर स्तरों पर शुरू होता है जिसे पहले कभी सोचा नहीं गया है साथ ही इसने 15 वर्षों में अपनी वायु गुणवत्ता दिशा-निर्देशों की पहली जानकारी में नीति निर्माताओं और आम जनता के लिए एक नया मानदंड निर्धारित किया है डब्ल्यू एच ओ की सिफारिशों के अंतिम जानकारी के समय से, बेहतर निगरानी एवं विज्ञान ने मानव स्वास्थ्य पर छह प्रमुख वायु प्रदूषकों के बारे में वैश्विक तस्वीर को साफ कर दिया है एजेंसी के अनुसार, विश्व के 90% लोग पहले से ही उन क्षेत्रों में रहते हैं जिनमें विशेष रूप से कम से कम एक हानिकारक प्रकार का प्रदूषक है

The major inference to be drawn from the passage is:

उद्घरण से मुख्य आशय क्या निकलता है?

[Question ID = 10859][Question Description = 150_00_GP2_SEP22_S2_Q50]

1. Do not ignore the harmful health effects of air pollution.

वायु प्रदूषण के हानिकारक स्वास्थ्य प्रभावों की उपेक्षा नहीं करना

[Option ID = 13433]

2. People should change their business practices.

लोगों को अपने कार्य करने की पद्धति बदलनी चाहिए

[Option ID = 13434]

3. Policy makers can mitigate air pollution by their initiatives.

नीति निर्माता अपनी पहलों के माध्यम से वायु प्रदूषण कम कर सकते हैं

[Option ID = 13435]

4. The WHO has updated its air quality guidelines often.

डब्ल्यूएचओ ने अक्सर वायु गुणवत्ता संबंधी अपने दिशानिर्देशों को अद्यतित किया है

[Option ID = 13436]

