

UGC NET 2022 ECONOMICS

Topic:- 1_PART_A_Set1

- 1) If the income effect for a good is in the opposite direction as the substitution effect, but the substitution effect dominates then the good is

यदि किसी वस्तु के लिए आय प्रभाव, प्रतिस्थापन प्रभाव की तरह विपरीत दिशा में पड़ता है, किंतु प्रतिस्थापन प्रभाव का प्रभुत्व रहता है, तो वह वस्तु है

[Question ID = 416][Question Description = 101_01_Economics_OCT22_Q01]

1. Normal

सामान्य

[Option ID = 1661]

2. Inferior but not giffen

घटिया किंतु गिफिन नहीं

[Option ID = 1662]

3. Giffen


गिफिन

[Option ID = 1663]

4. None of the above

उपर्युक्त में से कोई नहीं

[Option ID = 1664]



- 2) Two factors of production, say A and B have the same price. The least cost combination of A and B for producing given level of output will be achieved at a point where the Iso-quant has slope equal to

उत्पादन के दो साधनों, जैसे A और B की कीमत समान है। उत्पादन के दिए गए स्तर का उत्पादन करने के लिए A और B का न्यूनतम लागत संयोग उस बिन्दु पर प्राप्त होगा जहाँ सम-उत्पाद वक्र की ढलान निम्नलिखित के बराबर होगी :

[Question ID = 417][Question Description = 102_01_Economics_OCT22_Q02]

1. 0

[Option ID = 1665]

2. 1

[Option ID = 1666]

3. -1

[Option ID = 1667]

4. 2

[Option ID = 1668]

- 3) Suppose a profit maximising monopolist is producing 800 units of output and is charging a price of Rs. 40 per unit. If the elasticity of demand for the product is -2, marginal cost of the last unit produced is _____

मान लीजिए लाभ अधिकतम करने वाला कोई एकाधिकारी 800 यूनिट का उत्पादन कर रहा है और 40 रुपये प्रति यूनिट की कीमत प्रभारित करता है। यदि उस उत्पाद के लिए माँग की लोच -2 है, तो अंतिम उत्पादित यूनिट की सीमान्त लागत _____ है।

[Question ID = 418][Question Description = 103_01_Economics_OCT22_Q03]

1. 10

[Option ID = 1669]

2. -400

[Option ID = 1670]

3. -2

[Option ID = 1671]

4. 20

[Option ID = 1672]

4) Which of the followings is not a marginal condition of pareto optimality criteria?

निम्नलिखित में से कौन-सी पैरेटो इष्टतम मापदंडों की एक सीमांत शर्त नहीं है।

[Question ID = 419][Question Description = 104_01_Economics_OCT22_Q04]

1. $MRS_{x,y}^A = MRS_{x,y}^B = \frac{P_x}{P_y}$

[Option ID = 1673]

2. $MRTS_{L,K}^x = MRTS_{L,K}^y = \frac{w}{r}$

[Option ID = 1674]

3. $MRS_{x,y}^A = MRS_{x,y}^B = MRPT_{x,y}$

[Option ID = 1675]

4. $MRPT_{x,y}^K = MRPT_{x,y}^L = \frac{w}{r}$

[Option ID = 1676]

5) The strategy of choosing the policy which has the best possible outcome is known as _____

उस नीति का चयन करने की रणनीति, जिसका सर्वोत्तम संभव परिणाम हो, कहलाती है _____

[Question ID = 420][Question Description = 105_01_Economics_OCT22_Q05]

1. Dominant strategy

डोमिनेंट रणनीति

[Option ID = 1677]

2. Maxi max

मैक्सिमैक्स

[Option ID = 1678]

3. Mini max

मिनिमैक्स

[Option ID = 1679]

4. Maxi min

मैक्सिमिन

[Option ID = 1680]

6) "Menu Cost" is a concept used in

'मेन्यु कास्ट' निम्नलिखित में प्रयुक्त एक अवधारणा है

[Question ID = 421][Question Description = 106_01_Economics_OCT22_Q06]

1. Classical economics

क्लासिकीय अर्थशास्त्र

[Option ID = 1681]

2. Neo-classical economics

नव-क्लासिकीय अर्थशास्त्र

[Option ID = 1682]

3. New-Keynesian economics

नव-कीन्सीयन अर्थशास्त्र

[Option ID = 1683]

4. Keynesian economics

कीन्स का अर्थशास्त्र

[Option ID = 1684]

7) Real and nominal income is calculated respectively at

वास्तविक और नामिक आय का परिकलन क्रमशः किस आधार पर किया जाता है

[Question ID = 422][Question Description = 107_01_Economics_OCT22_Q07]

1. Current and constant prices

चालू और स्थिर कीमतें

[Option ID = 1685]

2. Constant and current prices

स्थिर और चालू कीमतें

[Option ID = 1686]

3. Constant and constant prices

स्थिर और स्थिर कीमतें

[Option ID = 1687]

4. Current and current prices

चालू और चालू कीमतें

[Option ID = 1688]

8) What will be the aggregate Domestic Income NDP (FC) of the economy for 2022-23; if

GDP (Market Price) = 27,654 Crores

Depreciation = 2847 crores

Indirect taxes less subsidies = 2160 crores

2022-23 के लिए अर्थव्यवस्था की समग्र घरेलू आय एनडीपी (एफसी) क्या होगी ; यदि

जीडीपी (बाजार कीमत) = 27,654 करोड़

मूल्यहास = 2847 करोड़

अप्रत्यक्ष कर ऋण सब्सिडियाँ = 2160 करोड़

[Question ID = 423][Question Description = 108_01_Economics_OCT22_Q08]

1. 24,807

[Option ID = 1689]

2. 22,647

[Option ID = 1690]

3. 26,967

[Option ID = 1691]

4. 28,467

[Option ID = 1692]

9) The Central bank policy of altering the domestic credit extended by it in an equal and opposite direction to the variation in foreign exchange reserves so that the monetary base remains unchanged is called

केन्द्रीय बैंक द्वारा प्रदत्त घरेलू ऋण को विदेशी मुद्रा भण्डार में परिवर्तन के लिए समान और विपरीत दिशा में बदलने, ताकि मौद्रिक आधार अपरिवर्तित रहे, की नीति कहलाती है

[Question ID = 424][Question Description = 109_01_Economics_OCT22_Q09]

1. Stabilization

स्थिरीकरण

[Option ID = 1693]

2. Monetary expansion

मौद्रिक विस्तार

[Option ID = 1694]

3. Fiscal expansion

राजकोषीय विस्तार

[Option ID = 1695]

4. Sterilisation

अधिरक्षण

[Option ID = 1696]

10) The irrelevance of money for real variables in the classical system is called

पारम्परिक प्रणाली में वास्तविक चरों के लिए धन की अप्रासंगिकता कहलाती है

[Question ID = 425][Question Description = 110_01_Economics_OCT22_Q10]

1. Fiscal neutrality

राजकोषीय तटस्थता

[Option ID = 1697]

2. Monetary neutrality

मौद्रिक तटस्थता

[Option ID = 1698]

3. Exchange rate neutrality

विनिमय दर तटस्थता

[Option ID = 1699]

4. Technological neutrality

प्रौद्योगिकीय तटस्थता

[Option ID = 1700]

- 11) Hari's score in the statistics in the first year is 76, whereas the class average is 68 with a standard deviation of 5. What is Hari's Z-score?

सांख्यिकी में प्रथम वर्ष में हरी के अंक 76 हैं, जबकि कक्षा का औसत 68 है, जहाँ मानक विचलन के साथ 5 है। हरी का जेड-स्कोर कितना है?

[Question ID = 426][Question Description = 111_01_Economics_OCT22_Q11]

1. 1.5

[Option ID = 1701]

2. 1.6

[Option ID = 1702]

3. 1.2

[Option ID = 1703]

4. 1.4

[Option ID = 1704]

- 12) A bag contains 20 tickets marked with numbers 1 to 20. One ticket is drawn at random. Find the probability that will be multiple of 2 or 5.

एक थैले में 1 से 20 तक अंकित संख्याओं वाले 20 टिकट हैं। एक टिकट यादृच्छिक रूप से निकाला गया। वर संभाव्यता ज्ञात कीजिए जो 2 या 5 की गुणज होगी।

[Question ID = 427][Question Description = 112_01_Economics_OCT22_Q12]

1. 0.7

[Option ID = 1705]

2. 0.9

[Option ID = 1706]

3. 0.6

[Option ID = 1707]

4. 0.3

[Option ID = 1708]

- 13) A simultaneous equation model is said to be over-identified if.

किसी युगपत समीकरण माडल को अति-अभिज्ञात कहा जाता है, यदि

[Question ID = 428][Question Description = 113_01_Economics_OCT22_Q13]

1. Unique numerical values of the structural parameters can be obtained.

संरचनात्मक मापदंडों के अद्वितीय संख्यात्मक मूल्य प्राप्त किए जा सकते हैं।

[Option ID = 1709]

2. More than one numerical values can be obtained for some of the parameters of the structural equations

संरचनात्मक समीकरणों के कुछ मापदंडों के लिए एक से अधिक संख्यात्मक मूल्य प्राप्त किए जा सकते हैं।

[Option ID = 1710]

3. Unique solution of all the structural coefficient is not possible

सभी संरचनात्मक गुणांक का अद्वितीय समाधान संभव न हो

[Option ID = 1711]

4. Structural coefficient cannot be estimated

संरचनात्मक गुणांक का अनुमान नहीं लगाया जा सकता है

[Option ID = 1712]

- 14) The fitted regression equation is given by $\hat{Y}_i = -10 + 0.6X$. What is the value of the residual at the point $X = 40, Y = 60$.

स्थापित प्रतिगमन समीकरण $\hat{Y}_i = -10 + 0.6X$ के रूप में दिया गया है। $X = 40, Y = 60$ बिन्दु पर अवशिष्ट का मूल्य कितना होगा?

[Question ID = 429][Question Description = 114_01_Economics_OCT22_Q14]

1. 74

[Option ID = 1713]

2. 46

[Option ID = 1714]

3. 0

[Option ID = 1715]

4. 45

[Option ID = 1716]

- 15) If the demand function is : $P = 35 - 2x - x^2$ and the demand x_0 is 3. What will be the consumer's surplus?

यदि मांग का कार्य है : $P = 35 - 2x - x^2$ एवं मांग x_0 है 3, तो उपरोक्त आधिक्य क्या होगा?

[Question ID = 430][Question Description = 115_01_Economics_OCT22_Q15]

1. 27

[Option ID = 1717]

2. 25

[Option ID = 1718]

3. 60

[Option ID = 1719]

4. 20

[Option ID = 1720]

- 16) The total revenue (R) and total cost (C) function of a firm are given by $R = 30Q - Q^2$, $C = 20 + 4Q$. Where Q is output, find the equilibrium output of the firm.

किसी फर्म के कुल राजस्व (आर) एवं कुल लागत (सी) को $R = 30Q - Q^2$, $C = 20 + 4Q$ जहाँ Q निर्गत है, अब फर्म का निर्गत सन्तुलन ज्ञात कीजिए।

[Question ID = 431][Question Description = 116_01_Economics_OCT22_Q16]

1. 4

[Option ID = 1721]

2. 13

[Option ID = 1722]

3. 15

[Option ID = 1723]

4. 10

[Option ID = 1724]

17)

Find the rank of $A = \begin{vmatrix} 6 & 3 & 5 \\ -10 & 2 & 8 \\ 5 & 2 & 3 \end{vmatrix}$

निम्न को कोटि ज्ञात करें, $A = \begin{vmatrix} 6 & 3 & 5 \\ -10 & 2 & 8 \\ 5 & 2 & 3 \end{vmatrix}$

[Question ID = 432][Question Description = 117_01_Economics_OCT22_Q17]

1. 3

[Option ID = 1725]

2. 2

[Option ID = 1726]

3. 1

[Option ID = 1727]

4. 0

[Option ID = 1728]

18)

Integrate : $\frac{x^2}{x+2}$

$\frac{x^2}{x+2}$ का एकीकरण करें



[Question ID = 433][Question Description = 118_01_Economics_OCT22_Q18]

1. $\frac{4x}{(x+2)^2} + c$

[Option ID = 1729]

2. $\frac{x^2}{2} + 2x + 4 \log(x+2) + c$

[Option ID = 1730]

3. $\frac{x^2}{2} - 2x + 4 \log(x+2) + c$

[Option ID = 1731]

4. $\frac{x^2}{2} - 2x + c$

[Option ID = 1732]

19) The "tequila effect" indicates :

“टकीला प्रभाव” दर्शाता है :

[Question ID = 434][Question Description = 119_01_Economics_OCT22_Q19]

1. The spread of the 1994-95 Mexican crisis to other countries in Latin America

1994-95 में मैक्सिकन संकट का लैटिन अमरीका के अन्य देशों में फैलना

[Option ID = 1733]

2. The spread of the 1997 crisis in Thailand to other countries in Asia

थाइलैंड में 1997 के संकट का एशिया के अन्य देशों में फैलना

[Option ID = 1734]

3. The supreme crisis emerged in 2007 in the United State

युनाइटेड स्टेट में 2007 में उभरने वाला सब-प्राइम संकट

[Option ID = 1735]

4. The domestic debt crisis occurred in Argentina in 1989

1989 में अर्जेन्टीना में आया घरेलू ऋण संकट

[Option ID = 1736]

- 20) In which stage of the product cycle model, the imitating country starts producing the product for domestic consumption?

उत्पाद चक्र मॉडल की कौन-सी अवस्था में, अनुकृति बनाने वाला देश घरेलू उपभोग के लिए उत्पाद का उत्पादन शुरू कर देता है?

[Question ID = 435][Question Description = 120_01_Economics_OCT22_Q20]

1. Stage - III

अवस्था - III

[Option ID = 1737]

2. Stage - II

अवस्था - II

[Option ID = 1738]

3. Stage - I

अवस्था - I

[Option ID = 1739]

4. Stage - V

अवस्था - V

[Option ID = 1740]

- 21) What does the result of the first empirical test of the Heckscher-Ohlin model by Wassily Leontief find?

वासिली लियोन्टिफ द्वारा हेकशर-ओहलिन मॉडल के पहले अनुभवजन्य परीक्षण का परिणाम क्या था?

[Question ID = 436][Question Description = 121_01_Economics_OCT22_Q21]

1. U.S. exports were less capital-intensive than U.S. imports

यू.एस. के निर्यात यू.एस. के आयातों से कम पूंजी-प्रधान थे

[Option ID = 1741]

2. U.S. exports were more capital-intensive than U.S. imports

यू.एस. के निर्यात यू.एस. के आयातों से अधिक पूंजी-प्रधान थे

[Option ID = 1742]

3. U.S. exports were more human capital-intensive than U.S. imports

यू.एस. के निर्यात यू.एस. के आयातों से अधिक मानव पूंजी प्रधान थे

[Option ID = 1743]

4. All the above

उपर्युक्त सभी

[Option ID = 1744]

- 22) In the Mundell-Fleming model, under floating exchange rate, which policy is more effective to influence aggregate income?

मंडेल-फ्लेमिंग मॉडल में, परिवर्तनशील विनिमय दर के अधीन, समग्र आय को प्रभावित करने के लिए कौन-सी नीति अधिक कारगर है?

[Question ID = 437][Question Description = 122_01_Economics_OCT22_Q22]

1. Fiscal policy

राजकोषीय नीति

[Option ID = 1745]

2. Monetary policy

मौद्रिक नीति

[Option ID = 1746]

3. Exchange rate policy

विनिमय दर नीति

[Option ID = 1747]

4. None of the above

उपर्युक्त में से कोई नहीं

[Option ID = 1748]



- 23) The provision for social goods, or the process by which total resource use is divided between private and social goods and by which the mix of social goods is chosen is known as _____

सामाजिक वस्तुओं को व्यवस्था, या वह प्रक्रिया जिससे समस्त संसाधन के उपयोग को निजी एवं सामाजिक वस्तुओं में विभाजित किया जाता है तथा जिसके माध्यम से सामाजिक वस्तुओं के मिश्रण का चयन किया जाता है उसे कहा जाता है

[Question ID = 438][Question Description = 123_01_Economics_OCT22_Q23]

1. Allocation function

नियतन फलन

[Option ID = 1749]

2. Distribution function

वितरण फलन

[Option ID = 1750]

3. Stabilization function

स्थैतिकरण फलन

[Option ID = 1751]

4. Normalization function

सामान्यीकरण फलन

[Option ID = 1752]

24) Primary deficit is given by _____

प्राथमिक घाटे की निम्न में से किस प्रकार बताया जाता है

[Question ID = 439][Question Description = 124_01_Economics_OCT22_Q24]

1. Fiscal deficit – Interest payments

राजकोषीय घाटा – ब्याज भुगतान

[Option ID = 1753]

2. Revenue deficit – Interest payment

राजस्व घाटा – ब्याज भुगतान

[Option ID = 1754]

3. Budget deficit – Interest Payment

आयव्ययक घाटा – ब्याज भुगतान

[Option ID = 1755]

4. Revenue Receipt – Revenue Expenditure

राजस्व प्राप्ति – राजस्व व्यय

[Option ID = 1756]

25) When $MPC = 0.75$, a decrease in taxes Rs. 20 crore will increase GDP by _____

जब $MPC = 0.75$ है, तब करों में 200 करोड़ रूपए के घट जाने से GDP (सकल घरेलू उत्पाद) में कितनी वृद्धि होगी?

[Question ID = 440][Question Description = 125_01_Economics_OCT22_Q25]

1. Rs. 200 crores

200 करोड़

[Option ID = 1757]

2. Rs. 100 crores

100 करोड़

[Option ID = 1758]

3. Rs. 600 crores

600 करोड़

[Option ID = 1759]

4. Rs. 800 crores

800 करोड़

[Option ID = 1760]

26) Which of the following strategy is not correct in order to have expansionary impact of fiscal policy?

निम्न में से कौन सा राजकोषीय नीति के विस्तारपरक प्रभाव की कार्यनीति हेतु सही नहीं है

[Question ID = 441][Question Description = 126_01_Economics_OCT22_Q26]

1. Public expenditure must be financed by borrowings

सार्वजनिक व्यय को कर्ज लेकर वित्तपोषित करना

[Option ID = 1761]

2. Public expenditure must be financed through increased taxes only

सार्वजनिक व्यय मात्र करों को बढ़ाकर वित्तपोषित करना

[Option ID = 1762]

3. Compensatory spending for public investment

सार्वजनिक निवेश हेतु आपूर्ति निवेश

[Option ID = 1763]

4. Cut in taxes

करों में कटौती

[Option ID = 1764]

- 27) In the context of the transaction demand for money, the square root rule was developed by

मुद्रा के विनिमय माँग के सन्दर्भ में वर्गमूल नियम किसने विकसित किया?

[Question ID = 442][Question Description = 127_01_Economics_OCT22_Q27]

1. Kydland - Prescott

किडलैण्ड-प्रेसकोट

[Option ID = 1765]

2. Friedman - Schwartz

फ्रीडमैन-स्वार्टज़

[Option ID = 1766]

3. Boumol - Tobin

बूमोल-टॉबीन

[Option ID = 1767]

4. J. M. Keynes

जे.एम. केन्स

[Option ID = 1768]

- 28) If time deposit is not included, then the money multiplier will be (C_r = currency deposit ratio, r_r = reserve deposit ratio)

यदि समयावधि जमा को सम्मिलित न किया जाए, तो मुद्रा गुणक होगा (C_r = मुद्रा जमा अनुपात, r_r = आरक्षित जमा अनुपात)

[Question ID = 443][Question Description = 128_01_Economics_OCT22_Q28]

1. $(C_r + r_r)/(1 + C_r)$

[Option ID = 1769]

2. $(C_r + r_r)/(r_r + 1)$

[Option ID = 1770]

3. C_r/r_r

[Option ID = 1771]

4. $(Cr+1)/(rr+Cr)$

[Option ID = 1772]

29) One of the various qualitative instruments used by the central bank during inflation is

निम्न में से विभिन्न गुणकारी उपकरणों में से एक जोकि केन्द्रीय बैंक मुद्रा-स्फीति के समय उपयोग करते है वह है

[Question ID = 444][Question Description = 129_01_Economics_OCT22_Q29]

1. Raise margin requirement

सिमान्त आवश्यकता को बढ़ाना

[Option ID = 1773]

2. Remove margin requirement

सिमान्त आवश्यकता को हटाना

[Option ID = 1774]

3. Reduce margin requirement

सिमान्त आवश्यकता को घटाना

[Option ID = 1775]

4. Fix margin requirement

सिमान्त आवश्यकता को दुरुस्त करना

[Option ID = 1776]

30) The hypothesis of cumulative causation as an explanation of the backwardness of developing nations is associated with

विकासशील देशों को पिछड़ेपन के स्पष्टीकरण के रूप में संचयी कारणात्मकता की परिकल्पना निम्न में से किससे संबंधित है

[Question ID = 445][Question Description = 130_01_Economics_OCT22_Q30]

1. Ragnar Nurkse

ऐगनर नर्कसे

[Option ID = 1777]

2. Gunnar Myrdal

गुन्नार मिर्दल

[Option ID = 1778]

3. Arthus Lewis

आर्थर लेविस

[Option ID = 1779]

4. Fei and Ranis

फी और रानिस

[Option ID = 1780]

31) Match 'Labour Force' with the appropriate item from among the following :

निम्नलिखित में से उचित मद के साथ 'श्रम शक्ति' का मिलान करें

[Question ID = 446][Question Description = 131_01_Economics_OCT22_Q31]

1. Total work force

कुल कार्यबल

[Option ID = 1781]

2. Employed + unemployed

रोजगार - प्राप्त + बेरोजगार

[Option ID = 1782]

3. Total educated manpower

कुल शिक्षित मानव शक्ति

[Option ID = 1783]

4. Population in the age group 15 - 60

15-60 आयु वर्ग की जनसंख्या

[Option ID = 1784]

- 32) In Harrod-Domar Model, if the growth rate of income is 8% and the capital output ratio is 4% then the saving rate must be

हैरॉड-डोमर मॉडल में, यदि आय की वृद्धि दर 8% है और पूँजी-उत्पादन अनुपात 4% है, तो बचत की दर होगी

[Question ID = 447][Question Description = 132_01_Economics_OCT22_Q32]

1. 32%

[Option ID = 1785]

2. 2%

[Option ID = 1786]

3. 36%

[Option ID = 1787]

4. 1/2%

[Option ID = 1788]

- 33) Net migration refers to

निवल विस्थापन का अर्थ है :

[Question ID = 448][Question Description = 133_01_Economics_OCT22_Q33]

1. Overall level of population change resulting from total migrants and emigrants

कुल प्रवासियों और उत्प्रवासियों के परिणामस्वरूप जनसंख्या परिवर्तन का समग्र स्तर

[Option ID = 1789]

2. is the difference between the number of immigrant workers and the number of emigrant workers

आप्रवासी कामगारों की संख्या और उत्प्रवासी कामगारों की संख्या के बीच अंतर

[Option ID = 1790]

3. Does not include refugees and other lawful migrants

इसमें शरणार्थी और अन्य विधिसम्मत प्रवासी शामिल नहीं होते हैं

[Option ID = 1791]

4. includes refugees only.

इसमें केवल शरणार्थी शामिल होते हैं

[Option ID = 1792]

34) The change in welfare due to change in environmental quality is measured by

पर्यावरण की गुणवत्ता में परिवर्तन के कारण कल्याण में परिवर्तन को किसके द्वारा मापा जाता है

[Question ID = 449][Question Description = 134_01_Economics_OCT22_Q34]

1. Hedonic price function

सुखात्मक कीमत फलन

[Option ID = 1793]

2. Marginal implicit function

सीमान्त अंतर्निहित फलन

[Option ID = 1794]

3. Marginal Willingness to Pay (WTP) function

सीमान्त भुगतान इच्छा (डब्ल्यूटीपी) फलन

[Option ID = 1795]

4. Offer function

प्रस्ताव (ऑफर) फलन

[Option ID = 1796]

35) A stationary population is that when population growth is

स्थिर जनसंख्या होती है जब जनसंख्या वृद्धि

[Question ID = 450][Question Description = 135_01_Economics_OCT22_Q35]

1. increasing at an increasing rate

बढ़ती हुई दर पर बढ़ रही हो

[Option ID = 1797]

2. increasing at a decreasing rate

घटती हुई दर पर बढ़ रही हो

[Option ID = 1798]

3. Grows at zero rate

शून्य दर पर बढ़ती है

[Option ID = 1799]

4. 100%

100%

[Option ID = 1800]

36) 'PM Gatishakti' is driven by _____ engines.

“प्रधान मंत्री गति शक्ति” _____ इंजनों द्वारा चालित है

[Question ID = 451][Question Description = 136_01_Economics_OCT22_Q36]

1. Four

चार

[Option ID = 1801]

2. **Five**

पाँच

[Option ID = 1802]

3. **Six**

छह

[Option ID = 1803]

4. **Seven**

सात

[Option ID = 1804]

37) **Growth in total consumption in India in 2021 – 22 is likely to be**

भारत में 2021-22 में कुल उपभोग में वृद्धि कितनी रहने की संभावना है

[Question ID = 452][Question Description = 137_01_Economics_OCT22_Q37]

1. **5.0 Percent**

5.0 प्रतिशत

[Option ID = 1805]

2. **6.0 Percent**

6.0 प्रतिशत

[Option ID = 1806]

3. **7.0 Percent**

7.0 प्रतिशत

[Option ID = 1807]

4. **8.0 Percent**

8.0 प्रतिशत

[Option ID = 1808]



38) **What has been the reason for recent dip in vehicle registration in the country?**

देश में वाहन पंजीकरण में हाल में आई गिरावट का कारण क्या रहा है?

[Question ID = 453][Question Description = 138_01_Economics_OCT22_Q38]

1. **Shortage of semi-conductor chips**

सेमी-कंडक्टर चिप्स की कमी

[Option ID = 1809]

2. **Poor credit supply by the banking sector**

बैंकिंग क्षेत्र द्वारा ऋण की कम आपूर्ति

[Option ID = 1810]

3. **Sharp rise in vehicle prices**

वाहनों की कीमतों में तीव्र वृद्धि

[Option ID = 1811]

4. **Reduced demand for vehicles**

बाहनों की माँग में कमी

[Option ID = 1812]

39) In which year, Gross Domestic saving rate was the highest?

कौन-से वर्ष में, सकल घरेलू बचत दर सर्वाधिक थी?

[Question ID = 454][Question Description = 139_01_Economics_OCT22_Q39]

1. 2004-05

[Option ID = 1813]

2. 2007-08

[Option ID = 1814]

3. 2011-12

[Option ID = 1815]

4. 2016-17

[Option ID = 1816]

40) Which of the following modern Indian Economic thinker had not gone abroad for study or work?

निम्नलिखित में से कौन-सा आधुनिक भारतीय-आर्थिक विचारक अध्ययन या कार्य करने के लिए विदेश नहीं गया?

[Question ID = 455][Question Description = 140_01_Economics_OCT22_Q40]

1. Mahatma Gandhi

महात्मा गाँधी

[Option ID = 1817]

2. Ram Manohar Lohia

राम मनोहर लोहिया

[Option ID = 1818]

3. B. R. Ambedkar

बी.आर. अम्बेडकर

[Option ID = 1819]

4. Deen Dayal Upadhyaya

दीन दयाल उपाध्याय

[Option ID = 1820]

- 41) Which of the following conditions are satisfied for a rationale firm to achieve its equilibrium by maximising $Q = f(L, K)$ subject to $C = wL + rK$,

- (A) $\frac{\partial Q}{\partial L} = \frac{w}{r}$
- (B) $\frac{\partial^2 Q}{\partial L^2} > 0, \frac{\partial^2 Q}{\partial K^2} > 0$
- (C) $\frac{\partial^2 Q}{\partial L^2} < 0$ and $\frac{\partial^2 Q}{\partial K^2} > 0$
- (D) $\frac{\partial^2 Q}{\partial L^2} < 0$ and $\frac{\partial^2 Q}{\partial K^2} < 0$
- (E) $\left(\frac{\partial^2 Q}{\partial L^2}\right)\left(\frac{\partial^2 Q}{\partial K^2}\right) > \left(\frac{\partial^2 Q}{\partial L \partial K}\right)^2$

Choose the correct answer from the options given below :

किसी भी तर्कसंगत फर्म द्वारा सन्तुलन प्राप्त करने के लिए निम्न में से किन शर्तों को पूर्ण किया जाता है जब $Q = f(L, K)$ का अधिकतमीकरण किया गया हो बराबर कि $C = wL + rK$ है।

- (A) $\frac{\partial Q}{\partial L} = \frac{w}{r}$
- (B) $\frac{\partial^2 Q}{\partial L^2} > 0, \frac{\partial^2 Q}{\partial K^2} > 0$
- (C) $\frac{\partial^2 Q}{\partial L^2} < 0$ and $\frac{\partial^2 Q}{\partial K^2} > 0$
- (D) $\frac{\partial^2 Q}{\partial L^2} < 0$ and $\frac{\partial^2 Q}{\partial K^2} < 0$
- (E) $\left(\frac{\partial^2 Q}{\partial L^2}\right)\left(\frac{\partial^2 Q}{\partial K^2}\right) > \left(\frac{\partial^2 Q}{\partial L \partial K}\right)^2$

नीचे दिए गए विकल्पों में से सही उत्तर का चयन कीजिए :

[Question ID = 456][Question Description = 141_01_Economics_OCT22_Q41]

1. (A), (B) and (E) only

केवल (A), (B) और (E)

[Option ID = 1821]

2. (A), (D) and (E) only

केवल (A), (D) और (E)

[Option ID = 1822]

3. (A) and (E) only

केवल (A) और (E)

[Option ID = 1823]

4. (A) and (B) only

केवल (A) और (B)

[Option ID = 1824]

- 42) Which of the following are correct with respect to IS-LM model?
- (A) The LM schedule slopes upward to the right.
 - (B) The LM schedule will shift to the left with an increase in quantity of money
 - (C) The LM schedule gives equilibrium in the money market
 - (D) The IS schedule will shift to the left when there is an increase in government expenditure
 - (E) The IS schedule will shift to the right when taxes are reduced

Choose the most appropriate answer from the options given below :

IS-LM के सन्दर्भ में निम्न में से कौन-कौन से विकल्प सही है?

- (A) LM अनुसूची का ढलान उपर की तरफ दाहिने होता है
- (B) LM अनुसूची मुद्रा की मात्रा में वृद्धि के साथ बायीं तरफ मुड़ेगा
- (C) LM अनुसूची मुद्रा बाजार में सन्तुलन प्रदान करता है
- (D) IS अनुसूची जब सरकारी खर्चों में वृद्धि होती है तब बायीं तरफ मुड़ती है
- (E) जब करों में कटौति की जाती है तब IS अनुसूची बायीं तरफ मुड़ती है

नीचे दिए गए विकल्पों में से सही उत्तर का चयन कीजिए :

[Question ID = 457][Question Description = 142_01_Economics_OCT22_Q42]

1. (A), (C), (E) only

केवल (A), (C), (E)

[Option ID = 1825]

2. (A), (B), (C), (D) only

केवल (A), (B), (C), (D)

[Option ID = 1826]

3. (A), (C) only

केवल (A), (C)

[Option ID = 1827]

4. (B), (D), (C), (E) only

केवल (B), (D), (C), (E)

[Option ID = 1828]

- 43) Monetary policy instruments are

- (A) Changes in public expenditure
- (B) Changes in taxation
- (C) Open market operations
- (D) Bank reserve requirement
- (E) Interest rate policy

Choose the most appropriate answer from the options given below :

मौद्रिक नीति उपकरण हैं :

- (A) राजकोषीय खर्चों में परिवर्तन
- (B) करों में परिवर्तन
- (C) खुला-बाजार कार्यकलाप
- (D) बैंक आरक्षित आवश्यकताएँ
- (E) ब्याज दर नीति

नीचे दिए गए विकल्पों में से सही उत्तर का चयन कीजिए :

[Question ID = 458][Question Description = 143_01_Economics_OCT22_Q43]

1. (A), (B) only

केवल (A), (B)

[Option ID = 1829]

2. (A), (B), (C) only

केवल (A), (B), (C)

[Option ID = 1830]

3. (C), (D), (E) only

केवल (C), (D), (E)

[Option ID = 1831]

4. (B), (D), (E) only

केवल (B), (D), (E)

[Option ID = 1832]

- 44) Tools of expansionary Fiscal policy include

- (A) Raising Government expenditure
- (B) Reducing Government expenditure
- (C) Increasing tax rate
- (D) Reducing tax rate
- (E) Increasing money supply

Choose the correct answer from the options given below :

बिस्तारकारी राजकोषीय नीति के उपकरण हैं :

- (A) सरकारी खर्चों को बढ़ाना
- (B) सरकारी खर्चों को घटाना
- (C) कर दर को बढ़ाना
- (D) कर दर को घटाना
- (E) मुद्रा आपूर्ति को बढ़ाना

नीचे दिए गए विकल्पों में से सही उत्तर का चयन कीजिए :

[Question ID = 459][Question Description = 144_01_Economics_OCT22_Q44]

1. (A), (D) only

केवल (A), (D)

[Option ID = 1833]

2. (B), (C) only

केवल (B), (C)

[Option ID = 1834]

3. (A), (D), (E) only

केवल (A), (D), (E)

[Option ID = 1835]

4. (B), (C), (E) only

केवल (B), (C), (E)

[Option ID = 1836]

45) Basic characteristics of an under developed economy

- (A) A low level of technology and poor human capital
- (B) Higher level of GDP and percapita income
- (C) A high proportion of the labour force engaged in agriculture and low agriculture productivity
- (D) A high proportion of domestic expenditure on food
- (E) Higher incidence of poverty

Choose the most appropriate answer from the options given below :

किसी अल्प विकसित अर्थव्यवस्था के मौलिक लक्षण है

- (A) निम्न तकनीकी स्तर एवं मानव पूँजी की कमी
- (B) सकल घरेलू उत्पाद एवं प्रति व्यक्ति आय का उच्चतर स्तर
- (C) श्रम शक्ति की उच्चतर मात्रा का कृषि एवं निम्न कृषि उत्पाद में संलग्न होता
- (D) खाद्य-प्रदार्थ पर उच्चतर घरेलू खर्च
- (E) गरीबी की अधिकता

नीचे दिए गए विकल्पों में से सही उत्तर का चयन कीजिए :

[Question ID = 460][Question Description = 145_01_Economics_OCT22_Q45]

1. (A), (C), (D), (E) only

केवल (A), (C), (D), (E)

[Option ID = 1837]

2. (A), (C), (B), (E) only

केवल (A), (C), (B), (E)

[Option ID = 1838]

3. (B), (D), (E) only

केवल (B), (D), (E)

[Option ID = 1839]

4. (B) only

केवल (B)

[Option ID = 1840]

- 46) Which of the following hold good for Lewis model of development?
- (A) Unlimited supply of labour
 - (B) Marginal productivity of labour in the subsistence sector is equal to, or less than, subsistence wage
 - (C) Dual economy with a modern sector and a subsistence sector
 - (D) Agricultural sector subject to increasing returns
 - (E) Model that explains the crucial role of capitalist surplus in the development process

Choose the more appropriate answer from the options given below :

लेवीस के विकास माडल के सन्दर्भ में निम्न में से कौन-कौन से विकल्प सही है :

- (A) श्रम की असिमित आपूर्ति
- (B) अवस्थितिक क्षेत्र में श्रम की सिमान्त उत्पादकता जीवन निर्वाहक मजदूरी के बराबर या उससे कम होती है
- (C) आधुनिक एवं अवस्थितिक क्षेत्र के साथ दैतवादी अर्थव्यवस्था
- (D) कृषि क्षेत्र बढ़ते हुए लाभ के सापेक्ष सम्बन्ध में
- (E) विकास की प्रक्रिया में पूँजीवादी अधिकता को व्याख्या करने वाला माडल

नीचे दिए गए विकल्पों में से सही उत्तर का चयन कीजिए :

[Question ID = 461][Question Description = 146_01_Economics_OCT22_Q46]

1. (A), (B), (C), (E) only

केवल (A), (B), (C), (E)

[Option ID = 1841]

2. (A), (B), (D), (E) only

केवल (A), (B), (D), (E)

[Option ID = 1842]

3. (B), (C), (D), (E) only

केवल (B), (C), (D), (E)

[Option ID = 1843]

4. (A), (C), (D), (E) only

केवल (A), (C), (D), (E)

[Option ID = 1844]

- 47) Which of the following is correct?

- (A) The gross barter terms of trade uses quantity index for imports and exports
- (B) Both gross barter terms of trade and net barter terms of trade make use of the price index for imports and exports
- (C) The net barter terms of trade uses price index for imports and export
- (D) Both gross barter terms of trade and net barter terms of trade make use of the quantity index for imports and exports
- (E) The gross barter terms of trade uses price index but the net barter terms of trade uses quantity index for imports and exports

Choose the correct answer from the options given below :

निम्न में से कौन से सही हैं?

- (A) व्यापार के सकल वस्तु विनिमय शर्त आयात और निर्यात के लिए मात्रात्मक सूचकांक का प्रयोग करते हैं
- (B) व्यापार के वस्तु सकल विनिमय शर्त और निवल वस्तु विनिमय शर्त आयात और निर्यात के लिए मूल्य सूचकांक का प्रयोग करते हैं
- (C) व्यापार का निवल वस्तु विनिमय शर्त आयात और निर्यात के लिए मूल्य सूचकांक का प्रयोग करते हैं
- (D) व्यापार के सकल वस्तु विनिमय शर्त एवं निवल विनिमय आयात और निर्यात के लिए मात्रात्मक सूचकांक का प्रयोग करते हैं
- (E) व्यापार का सकल वस्तु विनिमय मूल्य सूचकांक का प्रयोग करता है परन्तु निवल वस्तु विनिमय आयात और निर्यात के लिए मात्रात्मक सूचकांक का उपयोग करते हैं

नीचे दिए गए विकल्पों में से सही उत्तर का चयन कीजिए :

[Question ID = 462][Question Description = 147_01_Economics_OCT22_Q47]

1. (A) and (B) only

केवल (A) और (B)

[Option ID = 1845]

2. (B) and (C) only

केवल (B) और (C)

[Option ID = 1846]

3. (C) and (E) only


केवल (C) और (E)

[Option ID = 1847]

4. (A) and (C) only

केवल (A) और (C)

[Option ID = 1848]



- 48) Which of the following are correct?

- (A) Current account includes merchandise export
- (B) Current account do not include merchandise export
- (C) Current account includes invisible export
- (D) Current account do not includes invisible export
- (E) Current account includes both merchandise exports and imports and invisible exports and imports

Choose the correct answer from the options given below :

निम्न में से कौन कौन सा सही विकल्प है?

- (A) चालू खाते में वाणिज्यिक वस्तु सम्मिलित होता है
- (B) चालू खाते में वाणिज्यिक वस्तु सम्मिलित नहीं होता है
- (C) चालू खाते में अदृश्य निर्यात सम्मिलित होता है
- (D) चालू खाते में अदृश्य निर्यात सम्मिलित नहीं होता है
- (E) चालू खाते में वाणिज्यिक वस्तु का आयात और निर्यात सम्मिलित होते हैं तथा अदृश्य आयात और निर्यात भी।

नीचे दिए गए विकल्पों में से सही उत्तर का चयन कीजिए :

[Question ID = 463][Question Description = 148_01_Economics_OCT22_Q48]

1. (A), (B) and (C) only

केवल (A), (B) और (C)

[Option ID = 1849]

2. (A), (C) and (E) only

केवल (A), (C) और (E)

[Option ID = 1850]

3. (A), (D) and (E) only

केवल (A), (D) और (E)

[Option ID = 1851]

4. (C), (D) and (E) only

केवल (C), (D) और (E)

[Option ID = 1852]

49) Which of the followings are correct?

(A) $M_1 = C + DD + OD$

(B) $M_2 = M_1 +$ saving deposits with post office saving banks

(C) $M_3 = M_2 +$ net time deposits of banks

(D) $M_3 = M_1 +$ net time deposits of banks

(E) $M_4 = M_1 +$ total deposits with the post office savings

Choose the correct answer from the options given below :

निम्न में से कौन-कौन से विकल्प सही है?

(A) $M_1 = C + DD + OD$

(B) $M_2 = M_1 +$ डाकघर एवं बैंकों में बचत खाते में जमा करना

(C) $M_2 = M_1 +$ बैंकों में निवल कालिक जमा

(D) $M_2 = M_1 +$ बैंकों में निवल कालिक जमा

(E) $M_2 = M_1 +$ डाक घर के बचत खाते में कुल जमा

नीचे दिए गए विकल्पों में से सही उत्तर का चयन कीजिए :

[Question ID = 464][Question Description = 149_01_Economics_OCT22_Q49]

1. (A), (B) and (C) only

केवल (A), (B) और (C)

[Option ID = 1853]

2. (A), (B) and (D) only

केवल (A), (B) और (D)

[Option ID = 1854]

3. (A), (C) and (D) only

केवल (A), (C) और (D)

[Option ID = 1855]

4. (B), (D) and (E) only

केवल (B), (D) और (E)

[Option ID = 1856]

50) Which of the following properties of matrix are correct?

(A) $(A')' = A$

(B) The rank of an $n \times n$ nonsingular matrix A must be less than n

(C) $(AB)' = B'A'$

(D) $(A+B)^n = A^n + B^n$

(E) $(A')^{-1} = (A^{-1})'$

Choose the correct answer from the options given below :

निम्न में से संचार (मैट्रिक्स) के सन्दर्भ में कौन से तथ्य सही है?

(A) $(A')' = A$

(B) एक $n \times n$ असाधारण संचार A, n से कम होना चाहिए

(C) $(AB)' = B'A'$

(D) $(A+B)^n = A^n + B^n$

(E) $(A')^{-1} = (A^{-1})'$

नीचे दिए गए विकल्पों में से सही उत्तर का चयन कीजिए :

[Question ID = 465][Question Description = 150_01_Economics_OCT22_Q50]

1. (A), (B) and (C) only

केवल (A), (B) और (C)

[Option ID = 1857]

2. (A), (D) and (E) only

केवल (A), (D) और (E)

[Option ID = 1858]

3. (A), (C) and (D) only

केवल (A), (C) और (D)

[Option ID = 1859]

4. (C), (D) and (E) only

केवल (C), (D) और (E)

[Option ID = 1860]

51) Which of the followings are correct?

- (A) The market is a system that works with price mechanism
- (B) Market failure refers to the divergence of market equilibrium from pareto optamality
- (C) Market fails to efficiently supply public goods and the same makes a case for govt intervention
- (D) Market efficiently works in the presence of positive externalities
- (E) Market efficiently works in the presence of negative externatlities

Choose the correct answer from the options given below :

निम्न में से कौनसा सही है?

- (A) बाजार एक ऐसी व्यवस्था है जोकि मूल्य तन्त्र के साथ काम करता है
- (B) बाजार की विफलता बाजार सन्तुलन का विसरण पेटो आप्टीमेलीटी की वजह से
- (C) बाजार वस्तुओं के दक्ष जन आपूर्ति में विफल होता है जिससे सरकार के दखल की आवश्यकता पड़ती है
- (D) बाजार सकारात्मक बाह्य कारकों की उपस्थिति में दक्ष तरीके से काम करता है
- (E) बाजार नकारात्मक बाह्य कारकों की उपस्थिति में दक्ष तरीके से काम करता है

नीचे दिए गए विकल्पों में से सही उत्तर का चयन कीजिए :

[Question ID = 466][Question Description = 151_01_Economics_OCT22_Q51]

1. (A), (B), (C) and (D) only

केवल (A), (B), (C) और (D)

[Option ID = 1861]

2. (A), (B) and (C) only

केवल (A), (B) और (C)

[Option ID = 1862]

3. (C), (D) and (E) only

केवल (C), (D) और (E)

[Option ID = 1863]

4. (B) and (E) only

केवल (B) और (E)

[Option ID = 1864]

52) Which of the followings are assumptions of ordinal utility analysis?

- (A) Consumers are consistent in their preferences
- (B) Consumer can measure the total utility received from any given basket of goods
- (C) Consumer preferences follow transitivity
- (D) Consumers are non-satiated with respect to goods they confront
- (E) Consumers are irrational

Choose the correct answer from the options given below :

निम्न में से तुलनात्मक उपयोगिता विश्लेषण के सन्दर्भ में कौनसी अवधारणा सही है ?

- (A) उपभोक्ता अपने प्राथमिकता में एक समान रहता है
- (B) उपभोक्ता कुल उपयोगिता का परिमाण किसी भी वस्तु के समूह से करते हैं
- (C) उपभोक्ता प्राथमिकता संक्रामिकता का अनुपालन करते हैं
- (D) उपभोक्ता पाये जाने वाले वस्तुओं से परितृप्त नहीं होते
- (E) उपभोक्ता विवेकहीन होते हैं

नीचे दिए गए विकल्पों में से सही उत्तर का चयन कीजिए :

[Question ID = 467][Question Description = 152_01_Economics_OCT22_Q52]

1. (B), (C), (D) only

केवल (B), (C) और (D)

[Option ID = 1865]

2. (C), (D), (E) only

केवल (C), (D) और (E)

[Option ID = 1866]

3. (A), (C), (D) only

केवल (A), (C) और (D)

[Option ID = 1867]

4. (A), (B), (C) only

केवल (A), (B) और (C)

[Option ID = 1868]

- 53) The binomial distribution can be used under the following conditions

- (A) n the number of trials is finite and independent
- (B) n , the number of trials is infinite and independent
- (C) Each trial results in two mutually exclusive and exhaustive outcomes, terms as success and failure
- (D) P , the probability of success is constant for each trial
- (E) The probability of failure does not remain same for each trial

Choose the correct answer from the options given below :

द्विपद वितरण निम्नलिखित स्थितियों के अंतर्गत प्रयुक्त हो सकता है

- (A) परीक्षणों की संख्या n , सीमित एवं स्वतंत्र होती है
- (B) परीक्षणों की संख्या n , अनंत एवं स्वतंत्र होती है
- (C) सफल एवं असफल के पदों में प्रत्येक परीक्षण परिणाम दो पारस्परिक एकांतिक एवं सर्वांगीण परिणाम के रूप होता है
- (D) सफलता की संभाव्यता P , प्रत्येक परीक्षण हेतु निपत होती है
- (E) असफलता की संभाव्यता प्रत्येक परीक्षण हेतु समान नहीं होती है

नीचे दिए गए विकल्पों में से सही उत्तर का चयन कीजिए :

[Question ID = 468][Question Description = 153_01_Economics_OCT22_Q53]

1. (A), (C) and (E) only

केवल (A), (C) और (E)

[Option ID = 1869]

2. (B), (C) and (D) only

केवल (B), (C) और (D)

[Option ID = 1870]

3. (A), (C) and (D) only

केवल (A), (C) और (D)

[Option ID = 1871]

4. (B), (C) and (E) only

केवल (B), (C) और (E)

[Option ID = 1872]

- 54) Which of the followings are correct in case of normal distribution?

(A) $Q_1 + Q_3 = 2Md$

(B) $Q.D. = \frac{1}{3}\sigma$

(C) $Q.D. = \frac{2}{3}\sigma$

(D) All moments of odd order about mean are zero

(E) $Q_1 + Q_3 = Md$

Choose the correct answer from the options given below :

सामान्य वितरण के सन्दर्भ में निम्न में से कौन-कौन से सही हैं?

(A) $Q_1 + Q_3 = 2Md$

(B) $Q.D. = \frac{1}{3}\sigma$

(C) $Q.D. = \frac{2}{3}\sigma$

(D) माध्य और सभी विषम क्रम के क्षण, शून्य हैं

(E) $Q_1 + Q_3 = Md$

नीचे दिए गए विकल्पों में से सही उत्तर का चयन कीजिए :

[Question ID = 469][Question Description = 154_01_Economics_OCT22_Q54]

1. (B), (D) and (E) only

केवल (B), (D), (E)

[Option ID = 1873]

2. (A), (B) and (D) only

केवल (A), (B), (D)

[Option ID = 1874]

3. (A), (C) and (D) only

केवल (A), (C), (D)

[Option ID = 1875]

4. (C), (D) and (E) only

केवल (C), (D), (E)

[Option ID = 1876]

55) What are the primary goals of sustainability?

- (A) The end of poverty and hunger
- (B) Better standard of education and healthcare
- (C) To achieve gender equality
- (D) Sustainable economic growth
- (E) To achieve both inter and intra generational equity

Choose the most appropriate answer from the options given below :

सम्यक्ता के प्राथमिक उद्देश्य क्या-क्या हैं ?

- (A) गरीबी और भूख का अन्त
- (B) शिक्षा और चिकित्सा के बेहतर स्तर
- (C) लैंगिक समानता को प्राप्त करना
- (D) सतत आर्थिक विकास
- (E) अन्तर् और अन्तः पीढ़ीगत समता को प्राप्त करना

नीचे दिए गए विकल्पों में से सही उत्तर का चयन कीजिए :

[Question ID = 470][Question Description = 155_01_Economics_OCT22_Q55]

1. (A), (B), (C) and (E) only

केवल (A), (B), (C) और (E)

[Option ID = 1877]

2. (A), (C), (D) and (E) only

केवल (A), (C), (D) और (E)

[Option ID = 1878]

3. (A), (B), (C) and (D) only

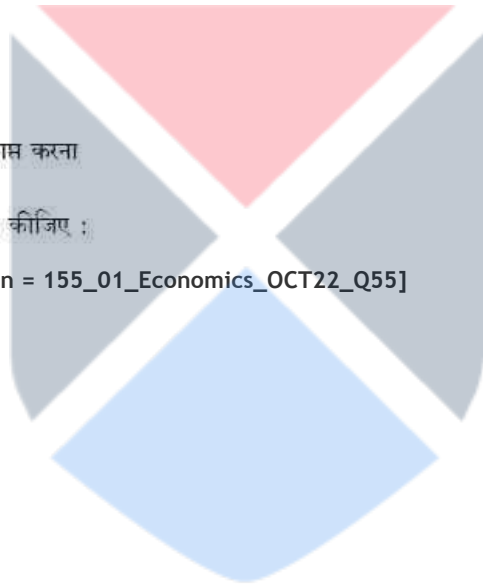
केवल (A), (B), (C) और (D)

[Option ID = 1879]

4. (A), (B), (C), (D) and (E) only

केवल (A), (B), (C), (D) और (E)

[Option ID = 1880]



56) What are the practical consequences of multicollinearity in CLRM?

- (A) R^2 , the overall measure of goodness of fit can be very high
- (B) OLS estimators are not BLUE
- (C) OLS estimators have small variance and covariances
- (D) t ratio of one or more coefficients is statistically insignificant
- (E) The OLS estimators and their standard errors can be sensitive to small changes in the data

Choose the correct answer from the options given below :

सी एल आर एम में, मल्टी कोलीनेरिटी के व्यवहारिक परिणाम क्या होते हैं?

- (A) R^2 , गुडनेस आफ फिट का समग्र माप काफी अधिक हो सकता है
- (B) ओ एल एस प्राक्कलक BLUE नहीं होते हैं
- (C) ओ एल एस प्राक्कलक के पास छोटे प्रसरण और सह-प्रसरण होते हैं
- (D) एक या उससे अधिक गुणांकों का टी अनुपात सांख्यिकीय रूप से अमहत्वपूर्ण होता है
- (E) ओ एल एस प्राक्कलक और उनकी मानक त्रुटियाँ आँकड़ों में छोटे परिवर्तनों के प्रति संवेदनशील हो सकती है

नीचे दिए गए विकल्पों में से सही उत्तर का चयन कीजिए :

[Question ID = 471][Question Description = 156_01_Economics_OCT22_Q56]

1. (A), (B) and (C) only

केवल (A), (B) और (C)

[Option ID = 1881]

2. (A), (B) and (D) only

केवल (A), (B) और (D)

[Option ID = 1882]

3. (A), (D) and (E) only

केवल (A), (D) और (E)

[Option ID = 1883]

4. (B), (C) and (E) only

केवल (B), (C) और (E)

[Option ID = 1884]

57) With reference to the views of classicals on public debt, which of the followings are correct :

- (A) future financing gets more trouble some due to public debt
- (B) public debt leads to a reduction of resources for productive private employment
- (C) increasing public debt leads to currency depreciation and deflationary situations in the economy
- (D) Debt financing requires funds for interest payment and amortization, hence a double burden for exchequer
- (E) Public debt leads to productive activities

Choose the most appropriate answer from the options given below :

सार्वजनिक ऋण के संबंध में क्लासिकल अर्थशास्त्रियों के विचारों के संदर्भ में, निम्नलिखित में से कौन-कौन से सही हैं?

- (A) सार्वजनिक ऋण के कारण भावी वित्तपोषण और अधिक समस्याग्रस्त हो जाता है
- (B) सार्वजनिक ऋण के कारण उत्पादक निजि रोजगार के लिए संसाधनों में कटौती होती है
- (C) सार्वजनिक ऋण में वृद्धि से मुद्रा का मूल्यहास और अर्थव्यवस्था में अवस्फीति की स्थितियों हो जाती हैं
- (D) ऋण वित्तपोषण के लिए ब्याज भुगतान और आशोधन हेतु निधियों की आवश्यकता होती है इसलिए राजकोष पर दोहरा बोझ पड़ता है
- (E) सार्वजनिक ऋण से उत्पादक कार्यकलाप होते हैं

नीचे दिए गए विकल्पों में से सही उत्तर का चयन कीजिए :

[Question ID = 472][Question Description = 157_01_Economics_OCT22_Q57]

1. (A), (E) and (B) only

केवल (A), (E), (B)

[Option ID = 1885]

2. (C), (D) and (E) only

केवल (C), (D), (E)

[Option ID = 1886]

3. (E), (D) and (A) only

केवल (E), (D), (A)

[Option ID = 1887]

4. (A), (B) and (D) only

केवल (A), (B), (D)

[Option ID = 1888]

- 58) If we have objective function involving n variables :

$U = f(X_1, X_2, X_3, \dots, X_n)$ subject to $\phi(X_1, X_2, X_3, \dots, X_n) = 0$. The second order condition for extremum to be

- (A) For maximum $|\overline{H}_2| < 0, |\overline{H}_3| < 0, \dots$
- (B) For maximum $|\overline{H}_2| > 0, |\overline{H}_3| < 0, \dots$
- (C) For maximum $|\overline{H}_2| < 0, |\overline{H}_3| > 0, \dots$
- (D) For minimum $|\overline{H}_2| < 0, |\overline{H}_3| < 0, \dots$
- (E) For minimum $|\overline{H}_2| > 0, |\overline{H}_3| > 0, \dots$

Choose the correct answer from the options given below :

यदि हमारे पास n चरों को शामिल करने वाले उद्देश्य प्रकार्य है $U = f(X_1, X_2, X_3, \dots, X_n)$ के अधीन $\phi(X_1, X_2, X_3, \dots, X_n) = 0$ एक्सट्रीमम हेतु द्वितीय क्रम स्थिति होगी

- (A) अधिकतम के लिए $|\bar{H}_2| < 0, |\bar{H}_3| < 0, \dots$
 (B) अधिकतम के लिए $|\bar{H}_2| > 0, |\bar{H}_3| < 0, \dots$
 (C) अधिकतम के लिए $|\bar{H}_2| < 0, |\bar{H}_3| > 0, \dots$
 (D) न्यूनतम के लिए $|\bar{H}_2| < 0, |\bar{H}_3| < 0, \dots$
 (E) न्यूनतम के लिए $|\bar{H}_2| > 0, |\bar{H}_3| > 0, \dots$

नीचे दिए गए विकल्पों में से सही उत्तर का चयन कीजिए :

[Question ID = 473][Question Description = 158_01_Economics_OCT22_Q58]

1. (A) and (D) only

केवल (A) और (D)

[Option ID = 1889]

2. (B) and (D) only

केवल (B) और (D)

[Option ID = 1890]

3. (C) and (E) only

केवल (C) और (E)

[Option ID = 1891]

4. (B) and (E) only

केवल (B) और (E)

[Option ID = 1892]

- 59) Which of the followings conditions prevail in the long run equilibrium of industry for achieving optimal resource allocation

- (A) The output is produced at the minimum feasible cost
 (B) consumer pays the minimum possible price which just covers the marginal cost of the product
 (C) Plants are used at full capacity in long run
 (D) Firms earn supernormal profits
 (E) Perfect competitive firms and price mechanism operates

Choose the correct answer from the options given below :

उद्योग के संतुलन में अंततोगत्वा इष्टतम संसाधन आवरण प्राप्त करने हेतु कौन सी स्थितियाँ व्याप्त होती हैं?

- (A) न्यूनतम व्यवहार्य लागत पर वस्तु का उत्पादन होता है
 (B) उपभोक्ता न्यूनतम संभावित मूल्य का भुगतान करता है जिसमें उत्पाद की सीमांत लागत मात्र शामिल है
 (C) अंततः संयंत्रों की पूरी क्षमता का उपयोग होता है
 (D) प्रतिष्ठान को सामान्य से बहुत अधिक लाभ होते हैं
 (E) संपूर्ण प्रतिस्पर्धात्मक प्रतिष्ठान और मूल्य प्रचालन संपन्न कार्यकारि होते हैं

नीचे दिए गए विकल्पों में से सही उत्तर का चयन कीजिए :

[Question ID = 474][Question Description = 159_01_Economics_OCT22_Q59]

1. (A), (B), (C) and (E) only

केवल (A), (B), (C) और (E)

[Option ID = 1893]

2. (C), (D) and (E) only

केवल (C), (D) और (E)

[Option ID = 1894]

3. (B), (D) and (E) only

केवल (B), (D) और (E)

[Option ID = 1895]

4. (A), (B) and (E) only

केवल (A), (B) और (E)

[Option ID = 1896]

60) In relation to considerations of demographic dividend there appears to be "demographic dualism" exhibited by the Indian states. In this regard consider the following factors

(A) Total fertility rate

(B) Sex ratio

(C) Percapita income

(D) Urbanisation rate

Choose the correct answer from the options given below :

जनसांख्यिकीय लाभांश के सन्दर्भ में जनसांख्यिकीय द्वैतवाद उभरकर सामने आता है जोकि भारतीय राज्यों में परिलक्षित होता है। इस सन्दर्भ में निम्न कारकों पर विचार कर सही विकल्प चुनें

(A) कुल प्रजनन दर

(B) लिंग-अनुपात

(C) प्रतिव्यक्ति आय

(D) शहरीकरण का दर

नीचे दिए गए विकल्पों में से सही उत्तर का चयन कीजिए :

[Question ID = 475][Question Description = 160_01_Economics_OCT22_Q60]

1. Both (A) and (B)

केवल (A) और (B)

[Option ID = 1897]

2. Only (A)

केवल (A)

[Option ID = 1898]

3. Only (B) and (C)

केवल (B) और (C)

[Option ID = 1899]

4. Only (A), (B) and (D)

केवल (A), (B) और (D)

[Option ID = 1900]

61) Here is given sex ratio for different states of India for 2011

- (A) Gujarat : 942
- (B) Madhya pradesh : 931
- (C) Odisha : 979
- (D) Tamil Nadu : 996
- (E) Haryana : 862

Choose the correct answer from the options given below :

भारत के विभिन्न राज्यों के सन 2011 का लिंग-अनुपात निम्नवत है। इनमें से सही विकल्प चुनें :

- (A) गुजरात : 942
- (B) मध्यप्रदेश : 931
- (C) उड़ीसा : 979
- (D) तमिलनाडु : 996
- (E) हरियाणा : 862

नीचे दिए गए विकल्पों में से सही उत्तर का चयन कीजिए :

[Question ID = 476][Question Description = 161_01_Economics_OCT22_Q61]

1. (B), (C) and (D) only

केवल (B), (C) और (D)

[Option ID = 1901]

2. (A) and (B) only

केवल (A) और (B)

[Option ID = 1902]

3. (C) and (D) only

केवल (C) और (D)

[Option ID = 1903]

4. (C), (D) and (E) only

केवल (C), (D) और (E)

[Option ID = 1904]

62) Here is given weights of items under use based classification of industrial production index of India (Base 2011-12)

- (A) Primary goods 34.05%
- (B) Capital goods 12.22%
- (C) Intermediate goods 17.22%
- (D) Infrastructure/Construction goods 12.34%
- (E) Consumer goods 24.17%

Choose the correct answer from the options given below :

भारत के औद्योगिक उत्पादन सूचकांक के उपयोग आधारित वर्गीकरण के आधार पर वस्तुओं का भार निम्नवत है। सही विकल्प चुनें।

- (A) प्राथमिक वस्तु 34.05%
- (B) पूंजीगत पदार्थ 12.22%
- (C) माध्यमिक पदार्थ 17.22%
- (D) संरचनागत/विनिर्माणकारी पदार्थ 12.34%
- (E) उपभोक्ता पदार्थ 24.17%

नीचे दिए गए विकल्पों में से सही उत्तर का चयन कीजिए :

[Question ID = 477][Question Description = 162_01_Economics_OCT22_Q62]

1. (B), (C) and (D) only

केवल (B), (C) और (D)

[Option ID = 1905]

2. (A), (B) and (E) only

केवल (A), (B) और (E)

[Option ID = 1906]

3. (A), (C) and (D) only

केवल (A), (C) और (D)

[Option ID = 1907]

4. (B), (D) and (E) only

केवल (B), (D) और (E)

[Option ID = 1908]

- 63) Which of the followings were the part of FDI policy reforms and other measures during the Covid-19 pandemic period?

- (A) 100 per cent FDI in the health sector
- (B) Permitting foreign investment upto 100 percent under automatic route in Telecom services sector
- (C) "FDI monitoring cell" has been formed to expedite FDI proposals
- (D) Raised the FDI limit from 49 per cent to 74 per cent in insurance companies under the automatic route
- (E) Reduced the limit of FDI in the defence sector to realize the vision of Atmanirbhar Bharat

Choose the correct answer from the options given below :

कोविड-19 की महामारी के दौरान प्रत्यक्ष विदेशी विनिवेश नीति सुधार और अन्य कौन-कौन से नीतिगत फैसले लिए गए?

- (A) चिकित्सा क्षेत्र में 100 प्रतिशत प्रत्यक्ष विदेशी विनिवेश
- (B) दूरसंचार सेवा के क्षेत्र में स्वचालित जरिये से 100 प्रतिशत प्रत्यक्ष विदेशी विनिवेश को मंजूरी देना
- (C) प्रत्यक्ष विदेशी विनिवेश सेल का गठन करके प्रत्यक्ष विदेशी विनिवेश प्रस्ताव को बढ़ावा देना
- (D) बीमा कम्पनियों में स्वचालित जरिए से प्रत्यक्ष विदेशी विनिवेश की 49 से 74 प्रतिशत तक बढ़ाना
- (E) आत्मनिर्भर भारत के विजन के समझते हुए सैन्य क्षेत्र में प्रत्यक्ष विदेशी विनिवेश की सिमा की कम करना

नीचे दिए गए विकल्पों में से सही उत्तर का चयन कीजिए :

[Question ID = 478][Question Description = 163_01_Economics_OCT22_Q63]

1. (D) and (E) only

केवल (D) और (E)

[Option ID = 1909]

2. (B), (C) and (E) only

केवल (B), (C) और (E)

[Option ID = 1910]

3. (B), (C) and (D) only

केवल (B), (C) और (D)

[Option ID = 1911]

4. (A), (D) and (E) only

केवल (A), (D) और (E)

[Option ID = 1912]

64) Below are some of the features of the Micro, Small and Medium enterprises (MSMEs) in India.

- (A) Revised definition of the MSMEs was brought in July 2020
- (B) In this definition turnover limit varied between service and manufacturing enterprises
- (C) In the revised definition turnover limit for small enterprises was Rs.50 crore
- (D) In this revised definition, investment limit in plant and machinery or equipment for medium enterprises was Rs.50 crore
- (E) In the revised definition, investment limit for plant and machinery or equipment for medium enterprises was Rs.5 crore

Choose the correct answer from the options given below :

भारत में सूक्ष्म, लघु और मध्यम उद्योग के सन्दर्भ में कुछ तथ्य निम्नवत हैं। सही विकल्प चुनें :

- (A) एमएसएमई की संशोधित परिभाषा जुलाई 2020 में लाया गया
- (B) इस परिभाषा में कुल राशि का कारोबार सेवा व विनिर्माण क्षेत्र के मध्य रहा है
- (C) संशोधित परिभाषा में लघु उद्योग के लिए कुल राशि का कारोबार की सिमा रु.50 करोड़ है
- (D) संशोधित परिभाषा में यन्त्र और मशीनरी के मध्यम उद्योग में विनिवेश को सिमा रु.50 करोड़ है
- (E) संशोधित परिभाषा में यन्त्र और मशीनरी के मध्यम उद्योग में विनिवेश की सिमा रु.5 करोड़ है

नीचे दिए गए विकल्पों में से सही उत्तर का चयन कीजिए :

[Question ID = 479][Question Description = 164_01_Economics_OCT22_Q64]

1. (A), (D) and (E) only

केवल (A), (D) और (E)

[Option ID = 1913]

2. (A), (C) and (D) only

केवल (A), (C) और (D)

[Option ID = 1914]

3. (D) and (E) only

केवल (D) और (E)

[Option ID = 1915]

4. (A), (B) and (D) only

केवल (A), (B) और (D)

[Option ID = 1916]

- 65) Pradhan Mantri Jan Dhan Yojana (PMJDY) has been a flagship programme of the Government of India

- (A) Beneficiaries of this scheme are eligible for accident insurance cover of Rs. 1 lakh now
- (B) PMJDY is helpful in inclusive development
- (C) PMJDY beneficiaries should not be given other benefits like benefits under MUDRA scheme
- (D) It is leading to women empowerment
- (E) More than 45 crore people have benefitted so far under PMJDY

Choose the most appropriate answer from the options given below :

प्रधान मंत्री जन धन योजना भारत सरकार की एक अत्यन्त महत्वपूर्ण महत्वाकांक्षी योजना है। इसके सन्दर्भ में सही विकल्प चुनें

- (A) इस योजना के लाभार्थी दुर्घटना बीमा के 1 लाख रु. के हकदार है
- (B) इससे सम्मिलित विकास में सहायता मिलती है
- (C) पी. एम. जे.डी.वाई के लाभार्थी मुद्रा स्कीम के फायदे के लिए योग्य नहीं है
- (D) इससे महिला सशक्तिकरण होगा
- (E) अभी तक इससे 45 करोड़ लाभार्थियों को पी.एम.जे.डी.वाई. से लाभ हुआ

नीचे दिए गए विकल्पों में से सही उत्तर का चयन कीजिए :

[Question ID = 480][Question Description = 165_01_Economics_OCT22_Q65]

1. (A), (B) and (C) only

केवल (A), (B) और (C)

[Option ID = 1917]

2. (B), (C) and (D) only

केवल (B), (C) और (D)

[Option ID = 1918]

3. (B), (D) and (E) only

केवल (B), (D) और (E)

[Option ID = 1919]

4. (A), (D) and (E) only

केवल (A), (D) और (E)

[Option ID = 1920]

66) Match List I with List II :

| List I | List II |
|--|--------------------------|
| (A) The greatest good for the greater number | (I) Learner's index |
| (B) stability of general equilibrium | (II) Bentham's criterion |
| (C) degree of monopoly power | (III) Tâtonnement |
| (D) third degree price-discrimination | (IV) Pigou |

Choose the correct answer from the options given below :

सूची-I के साथ का सूची-II मिलान कीजिए :

| सूची-I | सूची-II |
|--------------------------------|------------------------|
| (A) महानतम वस्तु अधिकतम संख्या | (I) शिक्षार्थी सूचकांक |
| (B) सामान्य सन्तुलन की स्थिरता | (II) बेंथम मापदण्ड |
| (C) एकाधिकार शक्ति की मात्रा | (III) पुनःप्रयास विधि |
| (D) तृतीय श्रेणी कीमत-भेदभाव | (IV) पिगो |

नीचे दिए गए विकल्पों में से सही उत्तर का चयन कीजिए :

[Question ID = 481][Question Description = 166_01_Economics_OCT22_Q66]

1. (A)-(IV), (B)-(III), (C)-(I), (D)-(II)

[Option ID = 1921]

2. (A)-(IV), (B)-(III), (C)-(II), (D)-(I)

[Option ID = 1922]

3. (A)-(I), (B)-(III), (C)-(II), (D)-(IV)

[Option ID = 1923]

4. (A)-(II), (B)-(III), (C)-(I), (D)-(IV)

[Option ID = 1924]

67) Match List I with List II :

| List I | List II |
|---------------------------------|------------------------|
| (A) Absolute Income Hypothesis | (I) Milton Friedman |
| (B) Relative Income Hypothesis | (II) J.M. Keynes |
| (C) Permanent Income Hypothesis | (III) James Dusenberry |
| (D) Life Cycle Hypothesis | (IV) Franco Modigliani |

Choose the correct answer from the options given below :

सूची-I के साथ का सूची-II मिलान कीजिए :

| सूची-I | सूची-II |
|--------------------------|------------------------|
| (A) निरपेक्ष आय संकल्पना | (I) मिल्टन फ्रीडमैन |
| (B) सापेक्ष आय संकल्पना | (II) जे.एम. कीन्स |
| (C) स्थायी आय संकल्पना | (III) जेम्स डसेनबरी |
| (D) जीवन चक्र संकल्पना | (IV) फ्रांको मोडीगलानी |

नीचे दिए गए विकल्पों में से सही उत्तर का चयन कीजिए :

[Question ID = 482][Question Description = 167_01_Economics_OCT22_Q67]

1. (A)-(II), (B)-(I), (C)-(IV), (D)-(III)

[Option ID = 1925]

2. (A)-(II), (B)-(III), (C)-(I), (D)-(IV)

[Option ID = 1926]

3. (A)-(IV), (B)-(III), (C)-(II), (D)-(I)

[Option ID = 1927]

4. (A)-(III), (B)-(II), (C)-(I), (D)-(IV)

[Option ID = 1928]

68) Match List I with List II :

List I

List II

- | | |
|--|------------------------|
| (A) Money supply and price level in an economy are indirect proportion | (I) A.W. Phillips |
| (B) Inverse relationship between unemployment and rate of wage inflation | (II) Fisher |
| (C) Profit as reward for innovation | (III) Robert Lucas |
| (D) Policy ineffective proposition | (IV) Joseph Schumpeter |

Choose the correct answer from the options given below :

सूची-I के साथ का सूची-II मिलान कीजिए :

सूची-I

सूची-II

- | | |
|---|------------------------|
| (A) किसी भी अर्थव्यवस्था में मुद्रा आपूर्ति एवं मूल्य स्तर प्रत्यक्ष सन्तुलन में होते | (I) ए.डब्ल्यू. फिलीप्स |
| (B) बेरोजगारी एवं मजदूरी स्फीति में प्रतिलोम सम्बन्ध | (II) फिशर |
| (C) नई खोज के लिए पुरस्कार स्वरूप लाभ | (III) राबर्ट लूकस |
| (D) नीति अप्रभाव प्रतिज्ञा | (IV) जोसेफ शूमपीटर |

नीचे दिए गए विकल्पों में से सही उत्तर का चयन कीजिए :

[Question ID = 483][Question Description = 168_01_Economics_OCT22_Q68]

1. (A)-(II), (B)-(I), (C)-(IV), (D)-(III)

[Option ID = 1929]

2. (A)-(III), (B)-(II), (C)-(I), (D)-(IV)

[Option ID = 1930]

3. (A)-(II), (B)-(IV), (C)-(III), (D)-(I)

[Option ID = 1931]

4. (A)-(IV), (B)-(III), (C)-(II), (D)-(I)

[Option ID = 1932]

69) Match List I with List II :

| List I | List II |
|---|-----------------------|
| (A) Testing of overall significance | (I) Chi-square test |
| (B) Testing the independence of attributes | (II) Jarque-Bera test |
| (C) Testing the significance of regression coefficients | (III) F-test |
| (D) Normality test | (IV) t-test |

Choose the correct answer from the options given below :

सूची-I के साथ सूची-II मिलान कीजिए :

| सूची-I | सूची-II |
|--|----------------------------|
| (A) समस्त महत्व का परिक्षण | (I) कार्द-स्क्वायर परिक्षण |
| (B) गुणों के स्वतन्त्र होने का परिक्षण | (II) जार्क-बेरा परिक्षण |
| (C) प्रतिगामी गुणांक के महत्व का परिक्षण | (III) F-परिक्षण |
| (D) सामान्यीकरण परिक्षण | (IV) T-परिक्षण |

नीचे दिए गए विकल्पों में से सही उत्तर का चयन कीजिए :

[Question ID = 484][Question Description = 169_01_Economics_OCT22_Q69]

1. (A)-(I), (B)-(II), (C)-(III), (D)-(IV)

[Option ID = 1933]

2. (A)-(III), (B)-(I), (C)-(IV), (D)-(II)

[Option ID = 1934]

3. (A)-(I), (B)-(IV), (C)-(III), (D)-(II)

[Option ID = 1935]

4. (A)-(I), (B)-(III), (C)-(IV), (D)-(II)

[Option ID = 1936]

70) Match List I with List II :

| List I | List II |
|--|------------------------|
| (A) Size matters in international trade | (I) Paul Krugman |
| (B) Economies of scale and monopolistic competition in international trade | (II) Mercantilists |
| (C) Technological gap theory of trade | (III) M.V. Posner |
| (D) Zero sum game of trade | (IV) The gravity model |

Choose the correct answer from the options given below :

सूची-I के साथ का सूची-II मिलान कीजिए :

| सूची-I | सूची-II |
|---|-----------------------|
| (A) अंतर्राष्ट्रीय व्यापार में आकार का महत्व है | (I) पॉल क्रुगमैन |
| (B) अंतर्राष्ट्रीय व्यापार में घेमाने की मितव्ययिताएं और एकाधिकारिक प्रतियोगिता | (II) वणिकवादी |
| (C) व्यापार का प्रौद्योगिकीय अंतर सिद्धांत | (III) एम.वी. पोस्नर |
| (D) व्यापार का ज़ीरो सम गेम | (IV) दि ग्रेविटी मॉडल |

नीचे दिए गए विकल्पों में से सही उत्तर का चयन कीजिए :

[Question ID = 485][Question Description = 170_01_Economics_OCT22_Q70]

1. (A)-(IV), (B)-(III), (C)-(I), (D)-(II)

[Option ID = 1937]

2. (A)-(IV), (B)-(I), (C)-(III), (D)-(II)

[Option ID = 1938]

3. (A)-(III), (B)-(I), (C)-(IV), (D)-(II)

[Option ID = 1939]

4. (A)-(III), (B)-(IV), (C)-(I), (D)-(II)

[Option ID = 1940]

71) Match List I with List II :

| List I | List II |
|--|---------------------|
| (A) Rural-Urban migration | (I) Arthur Lewis |
| (B) Economic development with unlimited supply of labour | (II) Gunnar myrdal |
| (C) Process of cumulative causation | (III) Raul Prebisch |
| (D) Decline in terms of trade of primary commodities | (IV) Harris-Todaro |

Choose the correct answer from the options given below :

सूची-I के साथ का सूची-II मिलान कीजिए :

| सूची-I | सूची-II |
|---|--------------------|
| (A) ग्रामीण-शहरी प्रवास | (I) आर्थर लेवीस |
| (B) श्रम के असिमित उपलब्धता के साथ आर्थिक विकास | (II) गून्वर मिरडाल |
| (C) संचयी कार्योत्पादन को प्रक्रिया | (III) राऊल प्रेबिच |
| (D) प्राथमिक वस्तुओं के व्यापार के शर्तों में ह्रास | (IV) हैरिस टोडारो |

नीचे दिए गए विकल्पों में से सही उत्तर का चयन कीजिए :

[Question ID = 486][Question Description = 171_01_Economics_OCT22_Q71]

1. (A)-(I), (B)-(IV), (C)-(II), (D)-(III)

[Option ID = 1941]

2. (A)-(IV), (B)-(I), (C)-(II), (D)-(III)

[Option ID = 1942]

3. (A)-(I), (B)-(IV), (C)-(III), (D)-(II)

[Option ID = 1943]

4. (A)-(I), (B)-(III), (C)-(II), (D)-(IV)

[Option ID = 1944]

72) Match List I with List II :

| List I | List II |
|---------------------------|------------------------------------|
| (A) Pure Public good | (I) Non-rival but excludable |
| (B) Pure Private good | (II) Non-excludable but rivalry |
| (C) Open access resources | (III) Non-rival and non-excludable |
| (D) Congestible resource | (IV) Excludable and rival |

Choose the correct answer from the options given below :

सूची-I के साथ का सूची-II मिलान कीजिए :

| सूची-I | सूची-II |
|---------------------------|---------------------------------|
| (A) शुद्ध सार्वजनिक वस्तु | (I) अप्रतिस्पर्धी और अपवर्जक |
| (B) शुद्ध निजी वस्तु | (II) अपवर्जक पर प्रतिस्पर्धी |
| (C) स्वतन्त्र संसाधन | (III) अप्रतिस्पर्धी एवं अपवर्जक |
| (D) संकुलित संसाधन | (IV) प्रतिस्पर्धी एवं अपवर्जक |

नीचे दिए गए विकल्पों में से सही उत्तर का चयन कीजिए :

[Question ID = 487][Question Description = 172_01_Economics_OCT22_Q72]

1. (A)-(III), (B)-(IV), (C)-(I), (D)-(II)

[Option ID = 1945]

2. (A)-(III), (B)-(IV), (C)-(II), (D)-(I)

[Option ID = 1946]

3. (A)-(I), (B)-(II), (C)-(III), (D)-(IV)

[Option ID = 1947]

4. (A)-(III), (B)-(II), (C)-(I), (D)-(IV)

[Option ID = 1948]

73) Match List I with List II :

| List I | List II |
|------------------------|---|
| (A) Reverse repo rate | (I) RBI provides loan to commercial banks for short term |
| (B) Bank rate | (II) RBI provides loan to commercial banks for long term |
| (C) Repo rate | (III) RBI borrows money from commercial banks |
| (D) Cash reserve ratio | (IV) Commercial banks have to deposit minimum ratio of their net total liabilities in RBI |

Choose the correct answer from the options given below :

सूची-I के साथ का सूची-II मिलान कीजिए :

| सूची-I | सूची-II |
|-------------------------------|--|
| (A) प्रत्यावर्ती पुनः खरीद दर | (I) आर.बी.आई. वाणिज्यिक बैंकों को लघु अवधि का ऋण देता है |
| (B) बैंक दर | (II) आर.बी.आई. वाणिज्यिक बैंकों को दीर्घ अवधि का कर्ज देता है |
| (C) पुनः खरीद दर | (III) आर.बी.आई. वाणिज्यिक बैंकों से कर्ज लेता है |
| (D) नकद आरक्षित अनुपात | (IV) वाणिज्यिक बैंकों को अपने कुल दायित्वों का न्यूनतम प्रतिशत आर.बी.आई. में जमा करना पड़ता है |

नीचे दिए गए विकल्पों में से सही उत्तर का चयन कीजिए :

[Question ID = 488][Question Description = 173_01_Economics_OCT22_Q73]

1. (A)-(I), (B)-(III), (C)-(II), (D)-(IV)

[Option ID = 1949]

2. (A)-(III), (B)-(II), (C)-(I), (D)-(IV)

[Option ID = 1950]

3. (A)-(III), (B)-(I), (C)-(II), (D)-(IV)

[Option ID = 1951]

4. (A)-(I), (B)-(II), (C)-(III), (D)-(IV)

[Option ID = 1952]

74) Match List I with List II :

| List I | List II |
|---------------------|------------|
| (A) FEMA | (I) 1969 |
| (B) MRTP Act | (II) 2002 |
| (C) Competition Act | (III) 1973 |
| (D) FERA | (IV) 1999 |

Choose the correct answer from the options given below :

सूची-I के साथ का सूची-II मिलान कीजिए :

| सूची-I | सूची-II |
|----------------------------------|------------|
| (A) एफ.ई.एम.ए. | (I) 1969 |
| (B) एम.आर.टी.पी. एक्ट | (II) 2002 |
| (C) प्रतियोगिता एक्ट (कम्पीटीशन) | (III) 1973 |
| (D) एफ.ई.आर.ए. | (IV) 1999 |

नीचे दिए गए विकल्पों में से सही उत्तर का चयन कीजिए :

[Question ID = 489][Question Description = 174_01_Economics_OCT22_Q74]

1. (A)-(I), (B)-(II), (C)-(IV), (D)-(III)

[Option ID = 1953]

2. (A)-(III), (B)-(I), (C)-(II), (D)-(IV)

[Option ID = 1954]

3. (A)-(IV), (B)-(II), (C)-(I), (D)-(III)

[Option ID = 1955]

4. (A)-(IV), (B)-(I), (C)-(II), (D)-(III)

[Option ID = 1956]

75) Match List I with List II :

| List I | List II |
|-----------------------------------|--------------------|
| (A) Andhra Pradesh PCI in 2020-21 | (I) Rs. 98,418 |
| (B) Madhya Pradesh PCI in 2020-21 | (II) Rs. 1,09,730 |
| (C) Odisha PCI in 2020-21 | (III) Rs. 1,21,267 |
| (D) West Bengal PCI in 2020-21 | (IV) Rs. 1,70,215 |

Choose the correct answer from the options given below :

सूची-I के साथ का सूची-II मिलान कीजिए :

| सूची-I | सूची-II |
|---|--------------|
| (A) 2020-21 में आन्ध्र प्रदेश में पी.सी.आई. | (I) 98418 |
| (B) 2020-21 में मध्य प्रदेश में पी.सी. आई. | (II) 109730 |
| (C) 2020-21 में उडिसा में पी.सी.आई. | (III) 121267 |
| (D) 2020-21 में पश्चिम बंगाल में पी.सी.आई | (IV) 170215 |

नीचे दिए गए विकल्पों में से सही उत्तर का चयन कीजिए :

[Question ID = 490][Question Description = 175_01_Economics_OCT22_Q75]

1. (A)-(II), (B)-(I), (C)-(III), (D)-(IV)

[Option ID = 1957]

2. (A)-(IV), (B)-(I), (C)-(II), (D)-(III)

[Option ID = 1958]

3. (A)-(IV), (B)-(II), (C)-(I), (D)-(III)

[Option ID = 1959]

4. (A)-(III), (B)-(I), (C)-(II), (D)-(IV)

[Option ID = 1960]

76) Arrange the different schools of thought in a sequence of their occurrence starting from the oldest.

- (A) Physiocrats
- (B) Keynesian economics
- (C) Classical economics
- (D) New Keynesian economics
- (E) Monetarist Counter revolution

Choose the correct answer from the options given below :

भिन्न-भिन्न विचारधाराओं को सबसे प्राचीन से शुरु होते हुए कालक्रमानुसार व्यवस्थित क्रम में लगाइये :

- (A) प्रकृतिवादी
- (B) कीन्सीयन अर्थशास्त्र
- (C) क्लासिकीय अर्थशास्त्र
- (D) नव कीन्सीयन अर्थशास्त्र
- (E) मुद्रावादी विरोधी क्रांति

नीचे दिए गए विकल्पों में से सही उत्तर का चयन कीजिए :

[Question ID = 491][Question Description = 176_01_Economics_OCT22_Q76]

1. (A), (B), (C), (E), (D)

[Option ID = 1961]

2. (A), (C), (E), (B), (D)

[Option ID = 1962]

3. (A), (B), (E), (C), (D)

[Option ID = 1963]

4. (A), (C), (B), (E), (D)

[Option ID = 1964]

- 77) Arrange the countries based on descending order of Human Development Index Value in 2019.

- (A) Norway
- (B) Bangladesh
- (C) India
- (D) China
- (E) Nepal

Choose the correct answer from the options given below :

निम्नलिखित देशों को 2019 में मानव विकास सूचकांक में उनके स्थान के अनुसार अवरोही क्रम में लगाइये

- (A) नार्वे
- (B) बांग्लादेश
- (C) भारत
- (D) चीन
- (E) नेपाल

नीचे दिए गए विकल्पों में से सही उत्तर का चयन कीजिए :

[Question ID = 492][Question Description = 177_01_Economics_OCT22_Q77]

1. (A), (D), (C), (B), (E)

[Option ID = 1965]

2. (D), (A), (B), (E), (C)

[Option ID = 1966]

3. (A), (D), (B), (C), (E)

[Option ID = 1967]

4. (A), (D), (B), (E), (C)

[Option ID = 1968]

78) Arrange the states in descending order based on percentage of population who are multidimensionally poor based on NITI Aayog Report 2021.

- (A) Bihar
- (B) Odisha
- (C) Rajasthan
- (D) Uttar Pradesh
- (E) Madhya Pradesh

Choose the correct answer from the options given below :

नीति आयोग की 2021 की रिपोर्ट के आधार पर बहु आयामी गरीबी जनसंख्या के प्रतिशत के अनुसार निम्नलिखित राज्यों को अवरोही क्रम में लगाइये :

- (A) बिहार
- (B) ओडिशा
- (C) राजस्थान
- (D) उत्तर प्रदेश
- (E) मध्य प्रदेश

नीचे दिए गए विकल्पों में से सही उत्तर का चयन कीजिए :

[Question ID = 493][Question Description = 178_01_Economics_OCT22_Q78]

1. (A), (D), (E), (C), (B)

[Option ID = 1969]

2. (A), (E), (C), (D), (B)

[Option ID = 1970]

3. (A), (C), (E), (B), (D)

[Option ID = 1971]

4. (A), (B), (C), (E), (D)

[Option ID = 1972]

79) Arrange the following events in sequence (the oldest one being first)

- (A) The Tokyo Round
- (B) The Uruguay Round
- (C) The Ancey Round
- (D) The Dillon Round
- (E) The Torquay Round

Choose the correct answer from the options given below :

निम्नलिखित आयोजनों को क्रम में लगाइये (सबसे पहले हुए आयोजन को सबसे पहले)

- (A) टोक्यो राउंड
- (B) उरुग्वे राउंड
- (C) एनेसी राउंड
- (D) डिलन राउंड
- (E) टर्क्यो राउंड

नीचे दिए गए विकल्पों में से सही उत्तर का चयन कीजिए :

[Question ID = 494][Question Description = 179_01_Economics_OCT22_Q79]

1. (C), (E), (D), (B), (A)

[Option ID = 1973]

2. (E), (C), (A), (D), (B)

[Option ID = 1974]

3. (C), (E), (D), (A), (B)

[Option ID = 1975]


4. (E), (C), (D), (A), (B)

[Option ID = 1976]

80) Write the steps to estimate the ECM/VAR model in time series.

- (A) Unit root test
- (B) ACF and PACF test
- (C) ECM/VAR
- (D) Inputting data
- (E) Cointegration test

Choose the correct answer from the options given below :



समय श्रृंखला में ईसीएम/भीएआर माडेल के अनुमान के चरणों को क्रम में लगाएं :

- (A) यूनिट रूट परीक्षण
- (B) एसीएफ और पीएसीएफ परीक्षण
- (C) ईसीएम/भीएआर
- (D) इनपुटिंग डेटा
- (E) सह-एकीकरण परीक्षण

नीचे दिए गए विकल्पों में से सही उत्तर का चयन कीजिए :

[Question ID = 495][Question Description = 180_01_Economics_OCT22_Q80]

1. (D), (A), (E), (B), (C)

[Option ID = 1977]

2. (D), (B), (A), (C), (E)

[Option ID = 1978]

3. (D), (B), (A), (E), (C)

[Option ID = 1979]

4. (B), (A), (D), (E), (C)

[Option ID = 1980]

81) Arrange the following chronologically in order of their years of first occurrence:

- (A) Environmental Kuznets Curve Hypothesis
- (B) Limits to growth theorem
- (C) Bouldings 'The Economics of Coming Spaceship Earth'
- (D) Jevon's Coal Question
- (E) Raechel Canson's Silent Spring

Choose the correct answer from the options given below :

निम्नलिखित को उनके पहली बार होने के वर्ष के कालक्रमानुसार व्यवस्थित कीजिए :

- (A) पर्यावरण संबंधी कुजनेट्स वक्र परिकल्पना
- (B) वृद्धि की सीमाएं सिद्धांत
- (C) बौलडिंग का "पृथ्वी पर अंतरिक्षयान आगमन का अर्थशास्त्र"
- (D) जेवोन का कोल क्वेश्चन
- (E) रैचल कार्सन का साइलेंट स्प्रिंग

नीचे दिए गए विकल्पों में से सही उत्तर का चयन कीजिए :

[Question ID = 496][Question Description = 181_01_Economics_OCT22_Q81]

1. (E), (A), (B), (D), (C)

[Option ID = 1981]

2. (A), (C), (D), (B), (E)

[Option ID = 1982]

3. (D), (A), (E), (C), (B)

[Option ID = 1983]

4. (E), (D), (C), (B), (A)

[Option ID = 1984]

82) Arrange the following Environmental disasters chronologically in accordance of their occurrence

(A) Bhopal Gas Tragedy

(B) Chernobye explosion

(C) London smog episodes

(D) Exxon Valdez

(E) The Threemile Island Nuclear Disaster

Choose the correct answer from the options given below :

निम्नलिखित पर्यावरण संबंधी आपदाओं को उनके होने के कालक्रमानुसार लगाइये :

(A) भोपाल गैस त्रासदी

(B) चर्नोबिल विस्फोट

(C) लंदन स्मॉग एपिसोड

(D) एक्सोन वाल्डेज

(E) दि थ्री माइल आइलैंड न्यूक्लियर आपदा

नीचे दिए गए विकल्पों में से सही उत्तर का चयन कीजिए :

[Question ID = 497][Question Description = 182_01_Economics_OCT22_Q82]

1. (A), (D), (E), (C), (B)

[Option ID = 1985]

2. (C), (E), (A), (B), (D)

[Option ID = 1986]

3. (A), (C), (D), (E), (B)

[Option ID = 1987]

4. (B), (C), (D), (A), (E)

[Option ID = 1988]

83) Arrange the following in ascending order

- (A) Growth rate of Gross National Income (at constant price) of India in 2015-16
- (B) Growth rate of Gross National Income (at constant price) of India in 2016-17
- (C) Growth rate of Gross National Income (at constant price) of India in 2017-18
- (D) Growth rate of Gross National Income (at constant price) of India in 2018-19
- (E) Growth rate of Gross National Income (at constant price) of India in 2019-20

Choose the correct answer from the options given below :

निम्नलिखित को आरोही क्रम में लगाइये :

- (A) 2015-16 में भारत की सकल राष्ट्रीय आय (स्थिर कीमतों पर) की वृद्धि दर
- (B) 2016-17 में भारत की सकल राष्ट्रीय आय (स्थिर कीमतों पर) की वृद्धि दर
- (C) 2017-18 में भारत की सकल राष्ट्रीय आय (स्थिर कीमतों पर) की वृद्धि दर
- (D) 2018-19 में भारत की सकल राष्ट्रीय आय (स्थिर कीमतों पर) की वृद्धि दर
- (E) 2019-20 में भारत की सकल राष्ट्रीय आय (स्थिर कीमतों पर) की वृद्धि दर

नीचे दिए गए विकल्पों में से सही उत्तर का चयन कीजिए :

[Question ID = 498][Question Description = 183_01_Economics_OCT22_Q83]

1. (E), (A), (D), (C), (B)

[Option ID = 1989]

2. (C), (E), (B), (D), (A)

[Option ID = 1990]

3. (E), (D), (C), (A), (B)

[Option ID = 1991]

4. (C), (D), (E), (B), (A)

[Option ID = 1992]

84) Criteria and weights assigned by the Fifteenth Finance Commission of India for Horizontal Devolution:

- (A) Area
- (B) Forest and Ecology
- (C) Income Distance
- (D) Tax and Fiscal efforts
- (E) Demographic performance

Choose the correct answer from the options given below :

भारत के पंद्रहवें वित्त आयोग द्वारा कृषिज हस्तांतरण के लिए बनाए गए मापदंड और मानक :

- (A) क्षेत्रफल
- (B) वन और पारिस्थितिकी
- (C) आय अंतर
- (D) कर और राजकोषीय प्रयास
- (E) जनांकिकीय कार्यनिष्पादन

नीचे दिए गए विकल्पों में से सही उत्तर का चयन कीजिए :

[Question ID = 499][Question Description = 184_01_Economics_OCT22_Q84]

1. (D), (B), (E), (A), (C)

[Option ID = 1993]

2. (B), (D), (A), (E), (C)

[Option ID = 1994]

3. (E), (A), (D), (C), (B)

[Option ID = 1995]

4. (A), (D), (B), (C), (E)

[Option ID = 1996]

- 85) Provide proper chronological order of different schemes launched in India

- (A) Pradhan Mantri Jan Aushadhi Yojana
- (B) Pradhan Mantri Ujjwala Yojana
- (C) Atal Pension Yojana
- (D) PM Jan Dhan Yojana
- (E) Ayushman Bharat Yojana

Choose the correct answer from the options given below :

भारत में शुरू की गई भिन्न-भिन्न स्कीमों को उचित कालक्रमानुसारेण लगाइये :

- (A) प्रधानमंत्री जन औषधी योजना
- (B) प्रधानमंत्री उज्ज्वला योजना
- (C) अटल पेंशन योजना
- (D) प्रधानमंत्री जन-धन योजना
- (E) आयुष्मान भारत योजना

नीचे दिए गए विकल्पों में से सही उत्तर का चयन कीजिए :

[Question ID = 500][Question Description = 185_01_Economics_OCT22_Q85]

1. (C), (B), (A), (D), (E)

[Option ID = 1997]

2. (C), (D), (B), (A), (E)

[Option ID = 1998]

3. (D), (A), (B), (C), (E)

[Option ID = 1999]

4. (D), (C), (A), (B), (E)

[Option ID = 2000]

86) Given below are two statements :

Statement I : If you bought a product which now becomes subject to tax, you will be in a better position to avoid the tax and the seller bears with a larger part if your demand is elastic while seller's supply is inelastic.

Statement II : A tax on salt is likely to be borne by the consumer.

In the light of the above statements, choose the most appropriate answer from the options given below :

नीचे दो कथन दिए गए हैं :

कथन I : यदि अपने एक उत्पाद खरीद जोकि अब कर के अधीन आता है, आप कर देने से बच सकने की बेहतर स्थिति में हो सकते हैं, और विक्रेता के उपर अधिकतम भार पड़ेगा जब आपकी माँग में लोच हो और विक्रेता के पूर्ति में लोच न हो।

कथन II : नमक पर लगने वाला कर उपभोक्ता को वहन करना पड़ता है।

उपरोक्त कथन के आलोक में, नीचे दिए गए विकल्पों में से सबसे उपयुक्त उत्तर का चयन कीजिए :

[Question ID = 501][Question Description = 186_01_Economics_OCT22_Q86]

1. Both Statement I and Statement II are correct

कथन I और II दोनों सही हैं

[Option ID = 2001]

2. Both Statement I and Statement II are incorrect

कथन I और II दोनों गलत हैं

[Option ID = 2002]

3. Statement I is correct but Statement II is incorrect

कथन I सही है, लेकिन कथन II गलत है

[Option ID = 2003]

4. Statement I is incorrect but Statement II is correct

कथन I गलत है, लेकिन कथन II सही है

[Option ID = 2004]

87) Given below are two statements :

Statement I : Dualism refer to economic and social divisions in an economy, such as difference in the level of technology between sectors or regions, differences in the degree of geographic development and differences in social customs and attitudes.

Statement II : The developing countries in the early stage of development experience dualism, which have implications for future pattern and pace of development.

In the light of the above statements, choose the most correct answer from the options given below :

नीचे दो कथन दिए गए हैं :

कथन I : किसी अर्थव्यवस्था में द्वैतवाद का अर्थ आर्थिक और सामाजिक विभाजन होता है, जैसे कि तकनीक के स्तर में अन्तर, क्षेत्रों और वर्गों में अन्तर, भौगोलिक विकास में पाया जाने वाला अन्तर और सामाजिक रितियों और दृष्टिकोण में पाया जाने वाला अन्तर

कथन II : विकासशील देश विकास के आरम्भिक अवस्था में द्वैतवाद का अनुभव करते हैं जिसका असर भविष्य में विकास के गति और क्रम पर पड़ता है।

उपरोक्त कथन के आलोक में, नीचे दिए गए विकल्पों में से सबसे उपयुक्त उत्तर का चयन कीजिए :

[Question ID = 502][Question Description = 187_01_Economics_OCT22_Q87]

1. Both Statement I and Statement II are true

कथन I और II दोनों सत्य हैं

[Option ID = 2005]

2. Both Statement I and Statement II are false

कथन I और II दोनों असत्य हैं

[Option ID = 2006]

3. Statement I is true but Statement II is false

कथन I सत्य है, लेकिन कथन II असत्य है

[Option ID = 2007]

4. Statement I is false but Statement II is true

कथन I असत्य है, लेकिन कथन II सत्य है

[Option ID = 2008]

88) Given below are two statements : One is labelled as Assertion A and the other is labelled as Reason R

Assertion A : The Endogenous growth theory examines production function that shows increasing returns.

Reason R : Increasing returns in Endogenous growth theory is due to specialization and investment in knowledge capital and learning by doing.

In the light of the above statements, choose the most appropriate answer from the options given below :

नीचे दो कथन दिए गए हैं : एक अभिकथन (Assertion A) के रूप में लिखित है तो दूसरा उसके कारण (Reasons R) के रूप में :

अभिकथन (A) : नवीन अन्तर्जाल विकास सिद्धान्त उत्पादन क्रिया के उस पहलू का परीक्षण करती है जोकि बढ़ते हुए प्रतिफल को दर्शाता है।

कारण (R) : अन्तर्जाल विकास सिद्धान्त में बढ़ता हुआ प्रतिफल, ज्ञान की पूंजी एवं कर के सीखने के नियम के कारण सम्भव है।

उपरोक्त कथन के आलोक में, नीचे दिए गए विकल्पों में से सबसे उपयुक्त उत्तर का चयन कीजिए :

[Question ID = 503][Question Description = 188_01_Economics_OCT22_Q88]

1. Both (A) and (R) are correct and (R) is the correct explanation of (A)

(A) और (R) दोनों सही हैं और (R), (A) की सही व्याख्या है

[Option ID = 2009]

2. Both (A) and (R) are correct but (R) is NOT the correct explanation of (A)

(A) और (R) दोनों सही हैं, लेकिन (R), (A) की सही व्याख्या नहीं है

[Option ID = 2010]

3. (A) is correct but (R) is not correct

(A) सही है, लेकिन (R) सही नहीं है

[Option ID = 2011]

4. (A) is not correct but (R) is correct

(A) सही नहीं है, लेकिन (R) सही है

[Option ID = 2012]

89) Given below are two statements :

Statement I : Devaluation always correct a chronic balance of payments deficit.

Statement II : An expected devaluation leads speculative capital outflows from domestic country.

In the light of the above statements, choose the correct answer from the options given below :

नीचे दो कथन दिए गए हैं :

कथन I : अवमूल्यन सदैव एक लम्बे समय से चले आ रहे भुगतान घाटे शेष को सुधारता है।

कथन II : एक आपेक्षित अवमूल्यन देश से सट्टे की पूंजी को बाहर निकालता है।

उपरोक्त कथन के आलोक में, नीचे दिए गए विकल्पों में से सबसे सही उत्तर का चयन कीजिए :

[Question ID = 504][Question Description = 189_01_Economics_OCT22_Q89]

1. Both Statement I and Statement II are true

कथन I और II दोनों सत्य हैं

[Option ID = 2013]

2. Both Statement I and Statement II are false

कथन I और II दोनों असत्य हैं

[Option ID = 2014]

3. Statement I is true but Statement II is false

कथन I सत्य है, लेकिन कथन II असत्य है

[Option ID = 2015]

4. Statement I is false but Statement II is true

कथन I असत्य है, लेकिन कथन II सत्य है

[Option ID = 2016]

90) Given below are two statements :

Statement I : Taking advantage of the increased demand for staples during the COVID-19 pandemic, India's agricultural exports continued to do well in 2021-22

Statement II : Like in the year 2020-21, segments like marine products, buffalo meat, tea, coffee and dairy products continued to perform poorly in terms of exports from India in 2021-22

In the light of the above statements, choose the correct answer from the options given below :

नीचे दो कथन दिए गए हैं :

कथन I : कोविड-19 महामारी के दौरान खाद्यान्नों के माँग में हुई वृद्धि का फायदा उठाते हुए भारत की कृषि निर्यात का 2021-22 में भी प्रदर्शन बेहतर रहा है।

कथन II : वर्ष 2020-21 को तरह ही कुछ खण्ड जैसे कि समुद्री उत्पाद, भैंस का माँस, चाय, काफी एवं दुग्ध उत्पाद का 2021-22 में निर्यात के सम्बन्ध में प्रदर्शन खराब ही रहा है।

उपरोक्त कथन के आलोक में, नीचे दिए गए विकल्पों में से सबसे सही उत्तर का चयन कीजिए :

[Question ID = 505][Question Description = 190_01_Economics_OCT22_Q90]

1. Both Statement I and Statement II are true

कथन I और II दोनों सत्य हैं

[Option ID = 2017]

2. Both Statement I and Statement II are false

कथन I और II दोनों असत्य हैं

[Option ID = 2018]

3. Statement I is true but Statement II is false

कथन I सत्य है, लेकिन कथन II असत्य है

[Option ID = 2019]

4. Statement I is false but Statement II is true

कथन I असत्य है, लेकिन कथन II सत्य है

[Option ID = 2020]

Topic: - 1_PART_B_Set1

1) Read the given passage and answer the questions:

Although globalisation is often accused of increasing world poverty, the fact is that poverty would probably be even more widespread without globalisation. What is true is that globalisation did not benefit all nations. What globalisation can be blamed for is not spreading the benefits of increased efficiency and openness that come with globalisation more evenly and equitably to all nations. The stock of Foreign Direct investments around the World states that in 2010, the inward stock of FDI of developing countries was 48 percent that of developed countries, while their stock of outward FDI was about 17 percent that of developed countries. The New International Economics of Scale (NIES) states that – more and more products manufactured by international corporations have parts and components made in many different nations. The reason is to minimise production costs. Foreign “sourcing” of inputs is often not a matter of choice to earn higher profit, but simply a requirement to remain competitive. The carry Trade is the strategy in which an investor borrows a low yielding currency and lends (invest in) a higher yielding currency. The risk is that if during the investment period, the higher yielding currency depreciates against the lower yielding currency by a higher percentage than the positive interest differentials, the investor will lose money.

निम्न पैराग्राफ को पढ़ें एवं निम्न पांच प्रश्नों का उत्तर दें।

हालांकि वैश्वीकरण को प्रायः विश्व की गरीबी में वृद्धि का दोषारोपण किया जाता है लेकिन यह तथ्य है कि गरीबी का बिना वैश्वीकरण के प्रायः और अधिक विस्तार हो सकता है यह सत्य है कि वैश्वीकरण के लाभ सभी देशों को नहीं मिले हैं। वैश्वीकरण को किस कारण से उत्तरदायी कि यह वृद्धिगत उन कार्यक्षमता एवं खुलापन के लाभों का विस्तार नहीं करता है जो वैश्वीकरण के साथ सभी देश के लिए समान रूप एवं समतुल्य तैर पर आए हैं। विश्व भर में विदेशी प्रत्यक्ष विदेशों का स्टॉक वर्ष 2010 में विकसित देशों का एफडीआई का आवक स्टॉक 48% था जबकि विकसित देशों का उनके जावक स्टॉक लगभग 17% था। नवीन अन्तर्राष्ट्रीय आर्थिक मापक्रम (एनआईएस) बताता है कि अन्तर्राष्ट्रीय निगमों द्वारा अधिक से अधिक निर्मित उत्पादों के भाग एवं संघटकों को विभिन्न देशों द्वारा निर्मित किया गया है। यह उत्पादन लागतों को न्यूनतम करने का कारण है। उत्पादनों का विदेशी 'सोर्सिंग' अधिक लाभ अर्जित करने के लिए प्रायः रुचि की बात नहीं है बल्कि यह प्रतिस्पर्धक बने रहने के लिए यह केवल एक जरूरत है। लागत व्यापार एक नीति है जिसमें निवेशक एक कम लाभकारी मुद्रा उधार लेता है और उसे उच्च लाभकारी मुद्रा में उधार (निवेश) करता है। इसमें निवेश अवधि का जोखिम है कि उच्च लाभकारी मुद्रा का कम लाभकारी मुद्रा में उच्च प्रतिशत से सकारात्मक ब्याज भिन्नताओं से अधिक मूल्यहासित होता है और फलतः निवेशक को राशि की हानि होती है।

Which of the following is true?

निम्नलिखित में से कौन सा सही है?

[Question ID = 506][Question Description = 191_01_Economics_OCT22_Q91]

1. Because of globalisation poverty has increased in all the countries of the world.

वैश्वीकरण के कारण विश्व के सभी देशों में गरीबी में वृद्धि हुई है

[Option ID = 2021]

2. Because of globalisation poverty has reduced in all the countries of the world.

वैश्वीकरण के कारण विश्व के सभी देशों में गरीबी में कमी आई है

[Option ID = 2022]

3. Without globalisation world poverty would probably be even more widespread.

बिना वैश्वीकरण के विश्व में गरीबी प्रायः और अधिक बढ़ सकती है

[Option ID = 2023]

4. Without globalisation world poverty would probably be even less widespread.

बिना वैश्वीकरण के विश्व में गरीबी शायद कम हो सकती है

[Option ID = 2024]

- 2) Read the given passage and answer the questions:

Although globalisation is often accused of increasing world poverty, the fact is that poverty would probably be even more widespread without globalisation. What is true is that globalisation did not benefit all nations. What globalisation can be blamed for is not spreading the benefits of increased efficiency and openness that come with globalisation more evenly and equitably to all nations. The stock of Foreign Direct investments around the World states that in 2010, the inward stock of FDI of developing countries was 48 percent that of developed countries, while their stock of outward FDI was about 17 percent that of developed countries. The New International Economics of Scale (NIES) states that – more and more products manufactured by international corporations have parts and components made in many different nations. The reason is to minimise production costs. Foreign "sourcing" of inputs is often not a matter of choice to earn higher profit, but simply a requirement to remain competitive. The carry Trade is the strategy in which an investor borrows a low yielding currency and lends (invest in) a higher yielding currency. The risk is that if during the investment period, the higher yielding currency depreciates against the lower yielding currency by a higher percentage than the positive interest differentials, the investor will lose money.

निम्न पैराग्राफ को पढ़ें एवं निम्न पांच प्रश्नों का उत्तर दें।

हालांकि वैश्वीकरण को प्रायः विश्व की गरीबी में वृद्धि का दोषारोपण किया जाता है लेकिन यह तथ्य है कि गरीबी का बिना वैश्वीकरण के प्रायः और अधिक विस्तार हो सकता है यह सत्य है कि वैश्वीकरण के लाभ सभी देशों को नहीं मिले हैं। वैश्वीकरण को किस कारण से उत्तरदायी कि यह वृद्धिगत उन कार्यक्षमता एवं खुलापन के लाभों का विस्तार नहीं करता है जो वैश्वीकरण के साथ सभी देश के लिए समान रूप एवं समतुल्य तैर पर आए हैं। विश्व भर में विदेशी प्रत्यक्ष विदेशों का स्टॉक वर्ष 2010 में विकसित देशों का एफडीआई का आवक स्टॉक 48% था जबकि विकसित देशों का उनके जावक स्टॉक लगभग 17% था। नवीन अन्तर्राष्ट्रीय आर्थिक मापक्रम (एनआईएस) बताता है कि अन्तर्राष्ट्रीय निगमों द्वारा अधिक से अधिक निर्मित उत्पादों के भाग एवं संघटकों को विभिन्न देशों द्वारा निर्मित किया गया है। यह उत्पादन लागतों को न्यूनतम करने का कारण है। उत्पादनों का विदेशी 'सोर्सिंग' अधिक लाभ अर्जित करने के लिए प्रायः रुचि की बात नहीं है बल्कि यह प्रतिस्पर्धक बने रहने के लिए यह केवल एक जरूरत है। लागत व्यापार एक नीति है जिसमें निवेशक एक कम लाभकारी मुद्रा उधार लेता है और उसे उच्च लाभकारी मुद्रा में उधार (निवेश) करता है। इसमें निवेश अवधि का जोखिम है कि उच्च लाभकारी मुद्रा का कम लाभकारी मुद्रा में उच्च प्रतिशत से सकारात्मक ब्याज भिन्नताओं से अधिक मूल्यहासित होता है और फलतः निवेशक को राशि की हानि होती है।

What for globalisation has been blamed?

वैश्वीकरण को किस लिए दोषी पाया गया है?

[Question ID = 507][Question Description = 192_01_Economics_OCT22_Q92]

1. Globalisation has neither increased efficiency nor openness

वैश्वीकरण ने न तो कार्यक्षमता और न ही खुलापन बढ़ा

[Option ID = 2025]

2. Globalisation has increased both efficiency & openness

वैश्वीकरण ने कार्यक्षमता एवं खुलापन दोनों में वृद्धि हुई है

[Option ID = 2026]

3. Globalisation has increased efficiency but not openness

वैश्वीकरण ने कार्यक्षमता में वृद्धि की लेकिन खुलापन नहीं बढ़ा

[Option ID = 2027]

4. Globalisation has not spreaded the benefits of increased efficiency and openness equitably to all nations

वैश्वीकरण ने सभी-देशों में समान रूप में कार्यक्षमता एवं खुलापन के लाभों को बढ़ाया नहीं है

[Option ID = 2028]

- 3) Read the given passage and answer the questions:

Although globalisation is often accused of increasing world poverty, the fact is that poverty would probably be even more widespread without globalisation. What is true is that globalisation did not benefit all nations. What globalisation can be blamed for is not spreading the benefits of increased efficiency and openness that come with globalisation more evenly and equitably to all nations. The stock of Foreign Direct investments around the World states that in 2010, the inward stock of FDI of developing countries was 48 percent that of developed countries, while their stock of outward FDI was about 17 percent that of developed countries. The New International Economies of Scale (NIES) states that – more and more products manufactured by international corporations have parts and components made in many different nations. The reason is to minimise production costs. Foreign "sourcing" of inputs is often not a matter of choice to earn higher profit, but simply a requirement to remain competitive. The carry Trade is the strategy in which an investor borrows a low yielding currency and lends (invest in) a higher yielding currency. The risk is that if during the investment period, the higher yielding currency depreciates against the lower yielding currency by a higher percentage than the positive interest differentials, the investor will lose money.

निम्न पैराग्राफ को पढ़ें एवं निम्न पांच प्रश्नों का उत्तर दें।

हालांकि वैश्वीकरण को प्रायः विश्व की गरीबी में वृद्धि का दोषारोपण किया जाता है लेकिन यह तथ्य है कि गरीबी का बिना वैश्वीकरण के प्रायः और अधिक विस्तार हो सकता है यह सत्य है कि वैश्वीकरण के लाभ सभी देशों को नहीं मिले हैं। वैश्वीकरण को किस कारण से उत्तरदायी कि यह वृद्धिगत उन कार्यक्षमता एवं खुलापन के लाभों का विस्तार नहीं करता है जो वैश्वीकरण के साथ सभी देश के लिए समान रूप एवं समतुल्य तैर पर आए हैं। विश्व भर में विदेशी प्रत्यक्ष विदेशों का स्टॉक वर्ष 2010 में विकसित देशों का एफडीआई का आवक स्टॉक 48% था जबकि विकसित देशों का उनके जावक स्टॉक लगभग 17% था। नवीन अन्तर्राष्ट्रीय आर्थिक मापक्रम (एनआईएस) बताता है कि अन्तर्राष्ट्रीय निगमों द्वारा अधिक से अधिक निर्मित उत्पादों के भाग एवं संघटकों को विभिन्न देशों द्वारा निर्मित किया गया है। यह उत्पादन लागतों को न्यूनतम करने का कारण है। उत्पादनों का विदेशी 'सोर्सिंग' अधिक लाभ अर्जित करने के लिए प्रायः रुचि की बात नहीं है बल्कि यह प्रतिस्पर्धक बने रहने के लिए यह केवल एक जरूरत है। लागत व्यापार एक नीति है जिसमें निवेशक एक कम लाभकारी मुद्रा उधार लेता है और उसे उच्च लाभकारी मुद्रा में उधार (निवेश) करता है। इसमें निवेश अवधि का जोखिम है कि उच्च लाभकारी मुद्रा का कम लाभकारी मुद्रा में उच्च प्रतिशत से सकारात्मक ब्याज भिन्नताओं से अधिक मूल्यहासित होता है और फलतः निवेशक को राशि की हानि होती है।

Which of the following reflects the most correct sense of the New International Economies of Scale (NIES)

निम्नलिखित में से किस से नवीन अन्तर्राष्ट्रीय मापक (एनआईएस) को सर्वाधिक सही मायनों में प्रतिपादित किया है?

[Question ID = 508][Question Description = 193_01_Economics_OCT22_Q93]

1. All the parts and components of a product is manufactured in the host country only

उत्पादक सभी भागों एवं संगठकों को केवल आधित्य देशों में ही विनिर्माण किया गया है

[Option ID = 2029]

2. When all the parts and components of the product manufactured in the host country, it minimize production costs in each of the producing country

जब उत्पादक सभी भागों एवं संगठकों को आतिथ्य देश में विनिर्माण किया गया है इससे प्रत्येक उत्पादक देश में उनकी उत्पादन लागत को न्यूनतम होती है

[Option ID = 2030]

3. Cheaper inputs from different countries are required to remain competitive

स्पर्धक बने रहने के लिए सभी देशों से सस्ता उत्पाद की आवश्यक रहती है

[Option ID = 2031]

4. The NIES is more concern about profit rather than to remain competitive

एनआईएस स्पर्धक रहने के बजाय लाभ के लिए अधिक ध्यान देता है

[Option ID = 2032]

4) Read the given passage and answer the questions:

Although globalisation is often accused of increasing world poverty, the fact is that poverty would probably be even more widespread without globalisation. What is true is that globalisation did not benefit all nations. What globalisation can be blamed for is not spreading the benefits of increased efficiency and openness that come with globalisation more evenly and equitably to all nations. The stock of Foreign Direct investments around the World states that in 2010, the inward stock of FDI of developing countries was 48 percent that of developed countries, while their stock of outward FDI was about 17 percent that of developed countries. The New International Economics of Scale (NIES) states that – more and more products manufactured by international corporations have parts and components made in many different nations. The reason is to minimise production costs. Foreign “sourcing” of inputs is often not a matter of choice to earn higher profit, but simply a requirement to remain competitive. The carry Trade is the strategy in which an investor borrows a low yielding currency and lends (invest in) a higher yielding currency. The risk is that if during the investment period, the higher yielding currency depreciates against the lower yielding currency by a higher percentage than the positive interest differentials, the investor will lose money.

निम्न पैराग्राफ को पढ़ें एवं निम्न पांच प्रश्नों का उत्तर दें।

हालांकि वैश्वीकरण को प्रायः विश्व की गरीबी में वृद्धि का दोषारोपण किया जाता है लेकिन यह तथ्य है कि गरीबी का बिना वैश्वीकरण के प्रायः और अधिक विस्तार हो सकता है यह सत्य है कि वैश्वीकरण के लाभ सभी देशों को नहीं मिले हैं। वैश्वीकरण को किस कारण से उत्तरदायी कि यह वृद्धिगत उन कार्यक्षमता एवं खुलापन के लाभों का विस्तार नहीं करता है जो वैश्वीकरण के साथ सभी देश के लिए समान रूप एवं समतुल्य तैर पर आए हैं। विश्व भर में विदेशी प्रत्यक्ष विदेशों का स्टॉक वर्ष 2010 में विकसित देशों का एफडीआई का आवक स्टॉक 48% था जबकि विकसित देशों का उनके जावक स्टॉक लगभग 17% था। नवीन अन्तर्राष्ट्रीय आर्थिक मापक्रम (एनआइईएस) बताता है कि अन्तर्राष्ट्रीय निगमों द्वारा अधिक से अधिक निर्मित उत्पादों के भाग एवं संघटकों को विभिन्न देशों द्वारा निर्मित किया गया है। यह उत्पादन लागतों को न्यूनतम करने का कारण है। उत्पादनों का विदेशी 'सोर्सिंग' अधिक लाभ अर्जित करने के लिए प्रायः रुचि की बात नहीं है बल्कि यह प्रतिस्पर्धक बने रहने के लिए यह केवल एक जरूरत है। लागत व्यापार एक नीति है जिसमें निवेशक एक कम लाभकारी मुद्रा उधार लेता है और उसे उच्च लाभकारी मुद्रा में उधार (निवेश) करता है। इसमें निवेश अवधि का जोखिम है कि उच्च लाभकारी मुद्रा का कम लाभकारी मुद्रा में उच्च प्रतिशत से सकारात्मक ब्याज भिन्नताओं से अधिक मूल्यहासित होता है और फलतः निवेशक को राशि की हानि होती है।

During the investment period, if the higher yielding currency depreciates against the lower yielding currency by a higher percentage than the positive interest differential then which of the following will occur?

निवेश अवधि के दौरान, जब कम लाभप्रद मुद्रा की तुलना में उच्च लाभप्रद मुद्रा का उच्च प्रतिशत से मूल्यहास होता है तब सकारात्मक ब्याज अंतर्रीय, होता है ऐसी स्थिति क्या होगा?

[Question ID = 509][Question Description = 194_01_Economics_OCT22_Q94]

1. The investor will lose money

निवेशक को धन-हानि होगी

[Option ID = 2033]

2. The investor will earn profit

निवेशक को लाभ प्राप्त होगा

[Option ID = 2034]

3. The profit of the investor will remain unaffected

निवेशक के लाभ में कोई फर्क नहीं पड़ेगा

[Option ID = 2035]

4. None of the above

उक्त में से कोई नहीं

5) Read the given passage and answer the questions:

Although globalisation is often accused of increasing world poverty, the fact is that poverty would probably be even more widespread without globalisation. What is true is that globalisation did not benefit all nations. What globalisation can be blamed for is not spreading the benefits of increased efficiency and openness that come with globalisation more evenly and equitably to all nations. The stock of Foreign Direct investments around the World states that in 2010, the inward stock of FDI of developing countries was 48 percent that of developed countries, while their stock of outward FDI was about 17 percent that of developed countries. The New International Economics of Scale (NIES) states that – more and more products manufactured by international corporations have parts and components made in many different nations. The reason is to minimise production costs. Foreign “sourcing” of inputs is often not a matter of choice to earn higher profit, but simply a requirement to remain competitive. The carry Trade is the strategy in which an investor borrows a low yielding currency and lends (invest in) a higher yielding currency. The risk is that if during the investment period, the higher yielding currency depreciates against the lower yielding currency by a higher percentage than the positive interest differentials, the investor will lose money.

निम्न पैराग्राफ को पढ़ें एवं निम्न पांच प्रश्नों का उत्तर दें।

हालांकि वैश्वीकरण को प्रायः विश्व की गरीबी में वृद्धि का दोषारोपण किया जाता है लेकिन यह तथ्य है कि गरीबी का बिना वैश्वीकरण के प्रायः और अधिक विस्तार हो सकता है यह सत्य है कि वैश्वीकरण के लाभ सभी देशों को नहीं मिले हैं। वैश्वीकरण को किस कारण से उत्तरदायी कि यह वृद्धिगत उन कार्यक्षमता एवं खुलापन के लाभों का विस्तार नहीं करता है जो वैश्वीकरण के साथ सभी देश के लिए समान रूप एवं समतुल्य तौर पर आए हैं। विश्व भर में विदेशी प्रत्यक्ष विदेशों का स्टॉक वर्ष 2010 में विकसित देशों का एफडीआई का आवक स्टॉक 48% था जबकि विकसित देशों का उनके जावक स्टॉक लगभग 17% था। नवीन अन्तर्राष्ट्रीय आर्थिक मापक्रम (एनआईएस) बताता है कि अन्तर्राष्ट्रीय निगमों द्वारा अधिक से अधिक निर्मित उत्पादों के भाग एवं संघटकों को विभिन्न देशों द्वारा निर्मित किया गया है। यह उत्पादन लागतों को न्यूनतम करने का कारण है। उत्पादनों का विदेशी 'सोर्सिंग' अधिक लाभ अर्जित करने के लिए प्रायः रुचि की बात नहीं है बल्कि यह प्रतिस्पर्धक बने रहने के लिए यह केवल एक जरूरत है। लागत व्यापार एक नीति है जिसमें निवेशक एक कम लाभकारी मुद्रा उधार लेता है और उसे उच्च लाभकारी मुद्रा में उधार (निवेश) करता है। इसमें निवेश अवधि का जोखिम है कि उच्च लाभकारी मुद्रा का कम लाभकारी मुद्रा में उच्च प्रतिशत से सकारात्मक ब्याज भिन्नताओं से अधिक मूल्यहासित होता है और फलतः निवेशक को राशि की हानि होती है।

Which of the following is incorrect?

निम्नलिखित में से कौन सही नहीं है?

[Question ID = 510][Question Description = 195_01_Economics_OCT22_Q95]

1. The inward stock of FDI to developing countries is less than that of developed countries

एफडीआई का विकसित देशों की तुलना में विकासशील देशों में आवक स्टॉक कम होता है

[Option ID = 2037]

2. The outward stock of FDI from developing countries is less than that of developed countries

एफडीआई का विकसित देशों की तुलना में विकासशील देशों में जावक स्टॉक कम होता है

[Option ID = 2038]

3. Both the inward stock of FDI to developing countries and outward stock of FDI from developing countries remained higher in developing countries than developed countries

विकासशील देशों का आबक स्टॉक एवं जॉबक स्टॉक दोनों विकसित देशों की तुलना में विकासशील देशों में अधिक रहे हैं

[Option ID = 2039]

4. Both the inward stock of FDI to developing countries and outward stock of FDI from developing countries remained lower in developing countries than developed countries

विकासशील देशों से एफडीआई के आबक एवं जॉबक स्टॉक विकसित देशों की तुलना में विकासशील देशों में कम रहे हैं

[Option ID = 2040]

Topic:- 1_PART_C_Set1

- 1) Read the given passage and answer five questions on the basis of passage:

Since the second five year plan, the Government of India has been emphasizing on development of industry on promoting self reliance India. But at that time the priority was for import substitution and export-promotion. Though same phenomenon is still relevant the priority of Industrialisation has been changed. Industry helps not only for the self reliance and reducing dependance on Foreign Countries but it creates massive employment for a populated country like India. The Startups India Programme started in 2014 which hence for promoting new initiatives and infact industries in critical domains having strategic importance. The recognised startups has been increased from 726 in FY 2016-17 to 65,861 in FY2021-22. The Startups spread across 640 districts and created jobs more then 7 lakhs. These startups have been recently developed in new domain and sectors of strategic importance including development of IT services, hardware technology, software enterprises, artificial intelligence, robotics and technology of banking & finance in across 56 sectors. As on Feb, 2022, the ministry of commerce and industry has allocated Rs. 2,791.29 crore to SIDBI which inturn committed Rs. 6,795 crore to 82 alternative investment funds (AIFs) while Rs. 8,785 crore have been invested by supported AIFs in 574 startups and Rs. 945 crore has been allocated under the scheme for a period of four years starting from 2021-22 to fund the startups for proof of concept, prototype, trails of products, entry of market and commercialization. However, it is important for sustaining these startups for long term development and for creation of employment. Continued investment in this sectors, export promotion and startups products, innovation in new sectors and creation of domestic demands for this products are important for long term development and attracting new startups.

नीचे दिए गए गद्यांश का अध्ययन करें और गद्यांश के आधार पर अगले पाँच प्रश्नों के उत्तर लिखें।

भारत सरकार द्वितीय पंचवर्षीय योजना से भारत को स्वालंबी बनाने के उद्देश्य से उद्योगों के विकास पर विशेष जोर दे रहा है। लेकिन उस समय आयात का प्रतिस्थापन एवं निर्यात उन्नयन को प्राथमिकता दी गई थी। बद्यपि इसी दृष्टिकोण, औद्योगिकरण की प्राथमिकता की स्थिर प्रासंगिकता को परिवर्तित किया गया। उद्योग न केवल स्वालंबी एवं विदेशों पर निर्भरता को कम करते हैं बल्कि इससे भारत जैसे जनसंख्या वाले देश में प्रचुर रोजगार उत्पन्न करते हैं। स्टार्टअप भारत का कार्यक्रम 2014 से प्रारम्भ किया गया जो इससे नए नवाचारों एवं छोटे-छोटे उद्योगों का महत्वपूर्ण रणनीतिकवाले क्रांतिक दिशा में उन्नयन कर रहा है। मान्यताप्राप्त स्टार्टअप वित्त वर्ष 2016-17 के 726 से वित्तवर्ष 2021-22 तक 65861 वृद्धि हुई है। ये स्टार्टअप 640 जिलों में फैले हैं और 7 लाख से अधिक रोजगार सृजित किये हैं। ये स्टार्टअप हाल ही में, नए डोमिन एवं आइटी सेवाओं के विकास, हार्डवेयर प्रौद्योगिकी को साफ्टवेयर व्यवसायों कृत्रिम आसूचना रोबोटिक्स एवं बैंकिंग एवं वित्त की प्रौद्योगिकी में फैले 56 क्षेत्रों में शामिल कर रणनीतिक महत्ता वाले सेक्टरों में विकसित हो गए हैं : यथा 2022 फरवरी को वाणिज्य एवं उद्योग मंत्रालय ने एसआइडीआइबी को रु. 2791.29 करोड़ का आवंटन किया है जिसमें से रु. 6795 करोड़ 82 वैकल्पिक निवेश निधियों (एआइएफएस) को रु. 8725 करोड़ 574 स्टार्टअपों के सहायक एआइएफों में निवेश एवं योजना का प्रमाण, फोटोटाइप, उत्पादों का परिक्षण, बाजार में पदार्पण एवं वाणिज्यिकरण के लिए स्टार्टअपों हेतु 2021-22 से प्रारम्भ होने वालों के लिए इस योजना के अधीन चार वर्षों की अवधि के लिए रु. 945 करोड़ की राशि आवंटित की गई है। तथापि इन स्टार्टअपों को लंबी अवधि तक बरकरार रखने एवं रोजगार सृजन करना आवश्यक है। इन सेक्टरों में अनवरत निवेश, निर्यात संवर्धन एवं स्टार्टअप उत्पादों नए सेक्टरों में नवाचार एवं इन उत्पादों की स्वदेशी मांग का निर्माण दीर्घकालिक विकास एवं नवीन स्टार्टअपों को आकर्षित करना महत्वपूर्ण है।

What is the prioritized objective of industrialization in terms of startups initiatives?

स्टार्टअप नवाचारों के संदर्भ में औद्योगिकरण के प्राथमिक उद्देश्य क्या हैं ?

[Question ID = 511][Question Description = 196_01_Economics_OCT22_Q96]

1. Self reliance

स्वालंबी

[Option ID = 2041]

2. Employment opportunities

रोजगार अवसर सृजित करना

[Option ID = 2042]

3. Both self reliance and employment opportunities

स्वालंबी एवं रोजगार सृजन दोनों

[Option ID = 2043]

4. Export reduction

निर्यात कम करना

[Option ID = 2044]

2) Read the given passage and answer five questions on the basis of passage:

Since the second five year plan, the Government of India has been emphasizing on development of industry on promoting self reliance India. But at that time the priority was for import substitution and export-promotion. Though same phenomenon is still relevant the priority of Industrialisation has been changed. Industry helps not only for the self reliance and reducing dependance on Foreign Countries but it creates massive employment for a populated country like India. The Startups India Programme started in 2014 which hence for promoting new initiatives and infact industries in critical domains having strategic importance. The recognised startups has been increased from 726 in FY 2016-17 to 65,861 in FY2021-22. The Startups spread across 640 districts and created jobs more then 7 lakhs. These startups have been recently developed in new domain and sectors of strategic importance including development of IT services, hardware technology, software enterprises, artificial intelligence, robotics and technology of banking & finance in across 56 sectors. As on Feb, 2022, the ministry of commerce and industry has allocated Rs. 2,791.29 crore to SIDBI which inturn committed Rs. 6,795 crore to 82 alternative investment funds (AIFs) while Rs. 8,785 crore have been invested by supported AIFs in 574 startups and Rs. 945 crore has been allocated under the scheme for a period of four years starting from 2021-22 to fund the startups for proof of concept, prototype, trails of products, entry of market and commercialization. However, it is important for sustaining these startups for long term development and for creation of employment. Continued investment in this sectors, export promotion and startups products, innovation in new sectors and creation of domestic demands for this products are important for long term development and attracting new startups.

नीचे दिए गए गद्यांश का अध्वयन करें और गद्यांश के आधार पर अगले पाँच प्रश्नों के उत्तर लिखें।

भारत सरकार द्वितीय पंचवर्षीय योजना से भारत को स्वालंबी बनाने के उद्देश्य से उद्योगों के विकास पर विशेष जोर दे रहा है। लेकिन उस समय आयात का प्रतिस्थापन एवं निर्यात उन्नयन को प्राथमिकता दी गई थी। यद्यपि इसी दृष्टिकोण, औद्योगिकरण की प्राथमिकता की स्थिर प्रासंगिकता को परिवर्तित किया गया। उद्योग न केवल स्वालंबी एवं विदेशों पर निर्भरता को कम करते हैं बल्कि इसमें भारत जैसे जनसंख्या वाले देश में प्रचुर रोजगार उत्पन्न करते हैं। स्टार्टअप भारत का कार्यक्रम 2014 से प्रारम्भ किया गया जो इससे नए नवाचारों एवं छोटे-छोटे उद्योगों का महत्वपूर्ण रणनीतिकवाले क्रांतिक दिशा में उन्नयन कर रहा है। मान्यताप्राप्त स्टार्टअप वित्त वर्ष 2016-17 के 726 से वित्तवर्ष 2021-22 तक 65861 वृद्धि हुई है। ये स्टार्टअप 640 जिलों में फैले है और 7 लाख से अधिक रोजगार सृजित किये हैं। ये स्टार्टअप हाल ही में, नए डोमिन एवं आइटी सेवाओं के विकास, हार्डवेयर प्रौद्योगिकी को साफ्टवेयर व्यवसायों कृत्रिम आसूचना रोबोटिक्स एवं बैंकिंग एवं वित्त की प्रौद्योगिकी में फैले 56 क्षेत्रों में शामिल कर रणनीतिक महत्ता वाले सेक्टरों में विकसित हो गए है : यथा 2022 फरवरी को वाणिज्य एवं उद्योग मंत्रालय ने एसआइडीआइबी को रु. 2791.29 करोड़ का आवंटन किया है जिसमें से रु. 6795 करोड़ 82 वैकल्पिक निवेश निधियों (एआइएफएस) को रु. 8725 करोड़ 574 स्टार्टअपों के सहायक एआइएफों में निवेश एवं योजना का प्रमाण, फोटोटाइप, उत्पादों का परिक्षण, बाजार में पदार्पण एवं वाणिज्यिकरण के लिए स्टार्टअपों हेतु 2021-22 से प्रारम्भ होने वालों के लिए इस योजना के अधीन चार वर्षों की अवधि के लिए रु. 945 करोड़ की राशि आवंटित की गई है। तथापि इन स्टार्टअपों को लंबी अवधि तक बरकरार रखने एवं रोजगार सृजन करना आवश्यक है। इन सेक्टरों में अनवरत निवेश, निर्यात संवर्धन एवं स्टार्टअप उत्पादों नए सेक्टरों में नवाचार एवं इन उत्पादों की स्वदेशी मांग का निर्माण दीर्घकालिक विकास एवं नवीन स्टार्टअपों को आकर्षित करना महत्वपूर्ण है।

Which of the following is true in case of startups in India :

भारत में स्टार्टअप के संदर्भ में निम्नलिखित में से कौन सा सत्य है?

[Question ID = 512][Question Description = 197_01_Economics_OCT22_Q97]

1. The startups increased by 7.25% during 2016-17 and 2021-22

2016-17 से 2021-22 के दौरान स्टार्टअप 7.25% से वृद्धि हुए हैं

[Option ID = 2045]

2. The sectoral growth of startups is taken place by 56%

स्टार्टअपों का सेक्टरवार-वृद्धि 56% से हुई है

[Option ID = 2046]

3. The startups have developed in important sectors like agriculture, tourism and irrigation

स्टार्टअप कृषि पर्यटन एवं सींचाई की तरह एक महत्वपूर्ण सेक्टर विकसित हुआ है

[Option ID = 2047]

4. The recognized sectors have created jobs more than 7 lakhs

इस मान्यता प्राप्त सेक्टर ने 7 लाख से अधिक रोजगार सृजित किए हैं

[Option ID = 2048]

- 3) Read the given passage and answer five questions on the basis of passage:

Since the second five year plan, the Government of India has been emphasizing on development of industry on promoting self reliance India. But at that time the priority was for import substitution and export-promotion. Though same phenomenon is still relevant the priority of Industrialisation has been changed. Industry helps not only for the self reliance and reducing dependance on Foreign Countries but it creates massive employment for a populated country like India. The Startups India Programme started in 2014 which hence for promoting new initiatives and infact industries in critical domains having strategic importance. The recognised startups has been increased from 726 in FY 2016-17 to 65,861 in FY2021-22. The Startups spread across 640 districts and created jobs more then 7 lakhs. These startups have been recently developed in new domain and sectors of strategic importance including development of IT services, hardware technology, software enterprises, artificial intelligence, robotics and technology of banking & finance in across 56 sectors. As on Feb, 2022, the ministry of commerce and industry has allocated Rs. 2,791.29 crore to SIDBI which inturn committed Rs. 6,795 crore to 82 alternative investment funds (AIFs) while Rs. 8,785 crore have been invested by supported AIFs in 574 startups and Rs. 945 crore has been allocated under the scheme for a period of four years starting from 2021-22 to fund the startups for proof of concept, prototype, trails of products, entry of market and commercialization. However, it is important for sustaining these startups for long term development and for creation of employment. Continued investment in this sectors, export promotion and startups products, innovation in new sectors and creation of domestic demands for this products are important for long term development and attracting new startups.

नीचे दिए गए गद्यांश का अध्ययन करें और गद्यांश के आधार पर अगले पाँच प्रश्नों के उत्तर लिखें।

भारत सरकार द्वितीय पंचवर्षीय योजना से भारत को स्वालंबी बनाने के उद्देश्य से उद्योगों के विकास पर विशेष जोर दे रहा है। लेकिन उस समय आयात का प्रतिस्थापन एवं निर्यात उन्नयन को प्राथमिकता दी गई थी। बद्यपि इसी दृष्टिकोण, औद्योगिकरण की प्राथमिकता की स्थिर प्रामाणिकता को परिवर्तित किया गया। उद्योग न केवल स्वालंबी एवं विदेशों पर निर्भरता को कम करते हैं बल्कि इससे भारत जैसे जनसंख्या वाले देश में प्रचुर रोजगार उत्पन्न करते हैं। स्टार्टअप भारत का कार्यक्रम 2014 से प्रारम्भ किया गया जो इससे नए नवाचारों एवं छोटे-छोटे उद्योगों का महत्वपूर्ण रणनीतिकवाले क्रांतिक दिशा में उन्नयन कर रहा है। मान्यताप्राप्त स्टार्टअप वित्त वर्ष 2016-17 के 726 से वित्तवर्ष 2021-22 तक 65861 वृद्धि हुई है। ये स्टार्टअप 640 जिलों में फैले हैं और 7 लाख से अधिक रोजगार सृजित किये हैं। ये स्टार्टअप हाल ही में, नए डोमिन एवं आइटी सेवाओं के विकास, हार्डवेयर प्रौद्योगिकी को साफ्टवेयर व्यवसायों कृत्रिम आसूचना रोबोटिक्स एवं बैंकिंग एवं वित्त की प्रौद्योगिकी में फैले 56 क्षेत्रों में शामिल कर रणनीतिक महत्ता वाले सेक्टरों में विकसित हो गए हैं : यथा 2022 फरवरी को वाणिज्य एवं उद्योग मंत्रालय ने एसआइडीआइबी को रु. 2791.29 करोड़ का आवंटन किया है जिसमें से रु. 6795 करोड़ 82 वैकल्पिक निवेश निधियों (एआइएफएस) को रु. 8725 करोड़ 574 स्टार्टअपों के सहायक एआइएफों में निवेश एवं योजना का प्रमाण, फोटोटाइप, उत्पादों का परिक्षण, बाजार में पदार्पण एवं वाणिज्यिकरण के लिए स्टार्टअपों हेतु 2021-22 से प्रारम्भ होने वालों के लिए इस योजना के अधीन चार वर्षों की अवधि के लिए रु. 945 करोड़ की राशि आवंटित की गई है। तथापि इन स्टार्टअपों को लंबी अवधि तक बरकरार रखने एवं रोजगार सृजन करना आवश्यक है। इन सेक्टरों में अनवरत निवेश, निर्यात संवर्धन एवं स्टार्टअप उत्पादों नए सेक्टरों में नवाचार एवं इन उत्पादों की स्वदेशी मांग का निर्माण दीर्घकालिक विकास एवं नवीन स्टार्टअपों को आकर्षित करना महत्वपूर्ण है।

Which of the following sectors have not developed recently in startups

स्टार्टअप में हाल ही में कौन सा सेक्टर विकसित नहीं हुआ है

[Question ID = 513][Question Description = 198_01_Economics_OCT22_Q98]

1. IT services

आइ.टी. सेवाएं

[Option ID = 2049]

2. Robotics

रोबोटिक्स

[Option ID = 2050]

3. Artificial intelligence

कृत्रिम आसूचना

[Option ID = 2051]

4. Space technology

स्पेस प्रौद्योगिकी

[Option ID = 2052]

4) Read the given passage and answer five questions on the basis of passage:

Since the second five year plan, the Government of India has been emphasizing on development of industry on promoting self reliance India. But at that time the priority was for import substitution and export-promotion. Though same phenomenon is still relevant the priority of Industrialisation has been changed. Industry helps not only for the self reliance and reducing dependance on Foreign Countries but it creates massive employment for a populated country like India. The Startups India Programme started in 2014 which hence for promoting new initiatives and infact industries in critical domains having strategic importance. The recognised startups has been increased from 726 in FY 2016-17 to 65.861 in FY2021-22. The Startups spread across 640 districts and created jobs more then 7 lakhs. These startups have been recently developed in new domain and sectors of strategic importance including development of IT services, hardware technology, software enterprises, artificial intelligence, robotics and technology of banking & finance in across 56 sectors. As on Feb, 2022, the ministry of commerce and industry has allocated Rs. 2,791.29 crore to SIDBI which inturn committed Rs. 6,795 crore to 82 alternative investment funds (AIFs) while Rs. 8,785 crore have been invested by supported AIFs in 574 startups and Rs. 945 crore has been allocated under the scheme for a period of four years starting from 2021-22 to fund the startups for proof of concept, prototype, trails of products, entry of market and commercialization. However, it is important for sustaining these startups for long term development and for creation of employment. Continued investment in this sectors, export promotion and startups products, innovation in new sectors and creation of domestic demands for this products are important for long term development and attracting new startups.

नीचे दिए गए गद्यांश का अध्ययन करें और गद्यांश के आधार पर अगले पाँच प्रश्नों के उत्तर लिखें।

भारत सरकार द्वितीय पंचवर्षीय योजना से भारत को स्वालंबी बनाने के उद्देश्य से उद्योगों के विकास पर विशेष जोर दे रहा है। लेकिन उस समय आयात का प्रतिस्थापन एवं निर्यात उन्नयन को प्राथमिकता दी गई थी। बद्यपि इसी दृष्टिकोण, औद्योगिकरण की प्राथमिकता की स्थिर प्रासंगिकता को परिवर्तित किया गया। उद्योग न केवल स्वालंबी एवं विदेशों पर निर्भरता को कम करते हैं बल्कि इससे भारत जैसे जनसंख्या वाले देश में प्रचुर रोजगार उत्पन्न करते हैं। स्टार्टअप भारत का कार्यक्रम 2014 से प्रारम्भ किया गया जो इससे नए नवाचारों एवं छोटे-छोटे उद्योगों का महत्वपूर्ण रणनीतिकवाले क्रांतिक दिशा में उन्नयन कर रहा है। मान्यताप्राप्त स्टार्टअप वित्त वर्ष 2016-17 के 726 से वित्तवर्ष 2021-22 तक 65861 वृद्धि हुई है। ये स्टार्टअप 640 जिलों में फैले हैं और 7 लाख से अधिक रोजगार सृजित किये हैं। ये स्टार्टअप हाल ही में, नए डोमिन एवं आइटी सेवाओं के विकास, हार्डवेयर प्रौद्योगिकी को साफ्टवेयर व्यवसायों कृत्रिम आसूचना रोबोटिक्स एवं बैंकिंग एवं वित्त की प्रौद्योगिकी में फैले 56 क्षेत्रों में शामिल कर रणनीतिक महत्ता वाले सेक्टरों में विकसित हो गए हैं : यथा 2022 फरवरी को वाणिज्य एवं उद्योग मंत्रालय ने एसआइडीआइबी को रु. 2791.29 करोड़ का आवंटन किया है जिसमें से रु. 6795 करोड़ 82 वैकल्पिक निवेश निधियों (एआइएफएस) को रु. 8725 करोड़ 574 स्टार्टअपों के सहायक एआइएफों में निवेश एवं योजना का प्रमाण, फोटोटाइप, उत्पादों का परिक्षण, बाजार में पदार्पण एवं वाणिज्यिकरण के लिए स्टार्टअपों हेतु 2021-22 से प्रारम्भ होने वालों के लिए इस योजना के अधीन चार वर्षों की अवधि के लिए रु. 945 करोड़ की राशि आवंटित की गई है। तथापि इन स्टार्टअपों को लंबी अवधि तक बरकरार रखने एवं रोजगार सृजन करना आवश्यक है। इन सेक्टरों में अनवरत निवेश, निर्यात संवर्धन एवं स्टार्टअप उत्पादों नए सेक्टरों में नवाचार एवं इन उत्पादों की स्वदेशी मांग का निर्माण दीर्घकालिक विकास एवं नवीन स्टार्टअपों को आकर्षित करना महत्वपूर्ण है।

How much amount has been allocated under the scheme of startups to find new startups for proof of concepts, prototype and trials of products, entry of market and commercialization?

नए स्टार्टअप योजना का प्रमाण फोटोटाइप एवं उत्पादों का परिक्षण, बाजार में पदार्पण, एवं वाणिज्यिकरण के लिए इस योजना के अन्तर्गत कितनी राशि आवंटित की गई है ?

[Question ID = 514][Question Description = 199_01_Economics_OCT22_Q99]

1. **Rs.2,791.29 crore**

रु. 2791.29 करोड़

[Option ID = 2053]

2. **Rs.6,795.00 crore**

रु. 6795.00 करोड़

[Option ID = 2054]

3. **Rs. 945 crore**

रु. 945.00 करोड़

[Option ID = 2055]

4. **Rs. 12,521 crore**

रु. 12521 करोड़

[Option ID = 2056]

5) Read the given passage and answer five questions on the basis of passage:

Since the second five year plan, the Government of India has been emphasizing on development of industry on promoting self reliance India. But at that time the priority was for import substitution and export-promotion. Though same phenomenon is still relevant the priority of Industrialisation has been changed. Industry helps not only for the self reliance and reducing dependance on Foreign Countries but it creates massive employment for a populated country like India. The Startups India Programme started in 2014 which hence for promoting new initiatives and infact industries in critical domains having strategic importance. The recognised startups has been increased from 726 in FY 2016-17 to 65,861 in FY2021-22. The Startups spread across 640 districts and created jobs more then 7 lakhs. These startups have been recently developed in new domain and sectors of strategic importance including development of IT services, hardware technology, software enterprises, artificial intelligence, robotics and technology of banking & finance in across 56 sectors. As on Feb, 2022, the ministry of commerce and industry has allocated Rs. 2,791.29 crore to SIDBI which inturn committed Rs. 6,795 crore to 82 alternative investment funds (AIFs) while Rs. 8,785 crore have been invested by supported AIFs in 574 startups and Rs. 945 crore has been allocated under the scheme for a period of four years starting from 2021-22 to fund the startups for proof of concept, prototype, trails of products, entry of market and commercialization. However, it is important for sustaining these startups for long term development and for creation of employment. Continued investment in this sectors, export promotion and startups products, innovation in new sectors and creation of domestic demands for this products are important for long term development and attracting new startups.

नीचे दिए गए गद्यांश का अध्वन करें और गद्यांश के आधार पर अगले पाँच प्रश्नों के उत्तर लिखें।

भारत सरकार द्वितीय पंचवर्षीय योजना से भारत को स्वालंबी बनाने के उद्देश्य से उद्योगों के विकास पर विशेष जोर दे रहा है। लेकिन उस समय आयात का प्रतिस्थापन एवं निर्यात उन्नयन को प्राथमिकता दी गई थी। यद्यपि इसी दृष्टिकोण, औद्योगिकरण की प्राथमिकता की स्थिर प्रासंगिकता को परिवर्तित किया गया। उद्योग न केवल स्वालंबी एवं विदेशों पर निर्भरता को कम करते हैं बल्कि इससे भारत जैसे जनसंख्या वाले देश में प्रचुर रोजगार उत्पन्न करते हैं। स्टार्टअप भारत का कार्यक्रम 2014 से प्रारम्भ किया गया जो इससे नए नवाचारों एवं छोटे-छोटे उद्योगों का महत्वपूर्ण रणनीतिकवाले क्रांतिक दिशा में उन्नयन कर रहा है। मान्यताप्राप्त स्टार्टअप वित्त वर्ष 2016-17 के 726 से वित्तवर्ष 2021-22 तक 65861 वृद्धि हुई है। ये स्टार्टअप 640 जिलों में फैले हैं और 7 लाख से अधिक रोजगार सृजित किये हैं। ये स्टार्टअप हाल ही में, नए डोमिन एवं आइटी सेवाओं के विकास, हार्डवेयर प्रौद्योगिकी को साफ्टवेयर व्यवसायों कृत्रिम आसूचना रोबोटिक्स एवं बैंकिंग एवं वित्त की प्रौद्योगिकी में फैले 56 क्षेत्रों में शामिल कर रणनीतिक महत्ता वाले सेक्टरों में विकसित हो गए हैं : यथा 2022 फरवरी को वाणिज्य एवं उद्योग मंत्रालय ने एसआइडीआइबी को रु. 2791.29 करोड़ का आवंटन किया है जिसमें से रु. 6795 करोड़ 82 वैकल्पिक निवेश निधियों (एआइएफएस) को रु. 8725 करोड़ 574 स्टार्टअपों के सहायक एआइएफों में निवेश एवं योजना का प्रमाण, फोटोटाइप, उत्पादों का परिक्षण, बाजार में पदार्पण एवं वाणिज्यिकरण के लिए स्टार्टअपों हेतु 2021-22 से प्रारम्भ होने वालों के लिए इस योजना के अधीन चार वर्षों की अवधि के लिए रु. 945 करोड़ की राशि आवंटित की गई है। तथापि इन स्टार्टअपों को लंबी अवधि तक बरकरार रखने एवं रोजगार सृजन करना आवश्यक है। इन सेक्टरों में अनवरत निवेश, निर्यात संवर्धन एवं स्टार्टअप उत्पादों नए सेक्टरों में नवाचार एवं इन उत्पादों की स्वदेशी मांग का निर्माण दीर्घकालिक विकास एवं नवीन स्टार्टअपों को आकर्षित करना महत्वपूर्ण है।

Which of the following measures is required for sustaining startups?

स्टार्टअपों को बरकरार रखने हेतु निम्नलिखित में से कौन से उपायों की जरूरत है?

[Question ID = 515][Question Description = 200_01_Economics_OCT22_Q100]

1. Attracting FDI startups

एफडीआई स्टार्टअप को आकर्षित करना

[Option ID = 2057]

2. Tax holidays on startups

स्टार्टअपों को कर राहत

[Option ID = 2058]

3. Creation of domestic demands for startups

स्टार्टअपों के लिए स्वदेशी मांगों को सुजित करना

[Option ID = 2059]

4. Encouraging startups in defence sectors

रक्षा क्षेत्र में स्टार्टअपों को प्रोत्साहित करना

[Option ID = 2060]

Topic:- 12_GP_SH2_Set1_A

- 1) The following table shows the percentage (%) distribution of total population, literate males and literate females in six cities A-F. In all six cities together, total population, number of literate males and number of literate females are 1.5 crore, 40 lakh and 25 lakh, respectively. Ratio of males to females among the total population is 8:7. Based on the data in the table, answer the questions 1-5:

City-wise Distribution of Population

| City | (%) Population (out of 1.5 crore) | (%) Literate Males (out of 40 lakh) | (%) Literate Females (out of 25 lakh) |
|------|--------------------------------------|--|--|
| A | 16% | 18% | 24% |
| B | 18% | 12% | 18% |
| C | 21% | 20% | 12% |
| D | 15% | 16% | 16% |
| E | 20% | 19% | 20% |
| F | 10% | 15% | 10% |

निम्नलिखित तालिका में छह शहरों A-F में कुल जनसंख्या, साक्षर पुरुषों और साक्षर स्त्रियों का वितरण प्रतिशत (%) दर्शाया गया है। सभी छह शहरों में मिलाकर कुल जनसंख्या, साक्षर पुरुषों की संख्या और साक्षर स्त्रियों की संख्या क्रमशः 1.5 करोड़, 40 लाख और 25 लाख है। कुल जनसंख्या में पुरुषों और स्त्रियों का अनुपात 8:7 है। तालिका में डाटा के आधार पर प्रश्न 1-5 के उत्तर दीजिए:

जनसंख्या का शहर-वार वितरण

| शहर | (%) जनसंख्या (1.5 करोड़ में से) | (%) साक्षर पुरुष (40 लाख में से) | (%) साक्षर स्त्रियाँ (25 लाख में से) |
|-----|------------------------------------|-------------------------------------|---|
| A | 16% | 18% | 24% |
| B | 18% | 12% | 18% |
| C | 21% | 20% | 12% |
| D | 15% | 16% | 16% |
| E | 20% | 19% | 20% |
| F | 10% | 15% | 10% |

The illiterate population of City A is

शहर A की निरक्षर जनसंख्या कितनी है?

[Question ID = 566][Question Description = 101_00_General_23_SEPT22_Q01]

1. 10.8 lakh

10.8 लाख

[Option ID = 2261]

2. 14.2 lakh

14.2 लाख

[Option ID = 2262]

3. 16.8 lakh

16.8 लाख

[Option ID = 2263]

4. 18 lakh

18 लाख

[Option ID = 2264]

2)

The following table shows the percentage (%) distribution of total population, literate males and literate females in six cities A-F. In all six cities together, total population, number of literate males and number of literate females are 1.5 crore, 40 lakh and 25 lakh, respectively. Ratio of males to females among the total population is 8:7. Based on the data in the table, answer the questions 1-5:

City-wise Distribution of Population

| City | (%) Population (out of 1.5 crore) | (%) Literate Males (out of 40 lakh) | (%) Literate Females (out of 25 lakh) |
|------|--------------------------------------|--|--|
| A | 16% | 18% | 24% |
| B | 18% | 12% | 18% |
| C | 21% | 20% | 12% |
| D | 15% | 16% | 16% |
| E | 20% | 19% | 20% |
| F | 10% | 15% | 10% |

निम्नलिखित तालिका में छह शहरों A-F में कुल जनसंख्या, साक्षर पुरुषों और साक्षर स्त्रियों का वितरण प्रतिशत (%) दर्शाया गया है। सभी छह शहरों में मिलाकर कुल जनसंख्या, साक्षर पुरुषों की संख्या और साक्षर स्त्रियों की संख्या क्रमशः 1.5 करोड़, 40 लाख और 25 लाख है। कुल जनसंख्या में पुरुषों और स्त्रियों का अनुपात 8:7 है। तालिका में डाटा के आधार पर प्रश्न 1-5 के उत्तर दीजिए:

जनसंख्या का शहर-वार वितरण

| शहर | (%) जनसंख्या (1.5 करोड़ में से) | (%) साक्षर पुरुष (40 लाख में से) | (%) साक्षर स्त्रियाँ (25 लाख में से) |
|-----|------------------------------------|-------------------------------------|---|
| A | 16% | 18% | 24% |
| B | 18% | 12% | 18% |
| C | 21% | 20% | 12% |
| D | 15% | 16% | 16% |
| E | 20% | 19% | 20% |
| F | 10% | 15% | 10% |

Number of literate males of City E as a percentage of number of literate females of city F is

शहर E के साक्षर पुरुषों की संख्या शहर F की साक्षर स्त्रियों की संख्या का कितने प्रतिशत है?

[Question ID = 567][Question Description = 102_00_General_23_SEPT22_Q02]

1. 240%

[Option ID = 2265]

2. 118%

[Option ID = 2266]

3. 304%

[Option ID = 2267]

4. 32.89%

[Option ID = 2268]

3)

The following table shows the percentage (%) distribution of total population, literate males and literate females in six cities A-F. In all six cities together, total population, number of literate males and number of literate females are 1.5 crore, 40 lakh and 25 lakh, respectively. Ratio of males to females among the total population is 8:7. Based on the data in the table, answer the questions 1-5:

City-wise Distribution of Population

| City | (%) Population (out of 1.5 crore) | (%) Literate Males (out of 40 lakh) | (%) Literate Females (out of 25 lakh) |
|------|--------------------------------------|--|--|
| A | 16% | 18% | 24% |
| B | 18% | 12% | 18% |
| C | 21% | 20% | 12% |
| D | 15% | 16% | 16% |
| E | 20% | 19% | 20% |
| F | 10% | 15% | 10% |

निम्नलिखित तालिका में छह शहरों A-F में कुल जनसंख्या, साक्षर पुरुषों और साक्षर स्त्रियों का वितरण प्रतिशत (%) दर्शाया गया है। सभी छह शहरों में मिलाकर कुल जनसंख्या, साक्षर पुरुषों की संख्या और साक्षर स्त्रियों की संख्या क्रमशः 1.5 करोड़, 40 लाख और 25 लाख है। कुल जनसंख्या में पुरुषों और स्त्रियों का अनुपात 8:7 है। तालिका में डाटा के आधार पर प्रश्न 1-5 के उत्तर दीजिए:

जनसंख्या का शहर-वार वितरण

| शहर | (%) जनसंख्या (1.5 करोड़ में से) | (%) साक्षर पुरुष (40 लाख में से) | (%) साक्षर स्त्रियाँ (25 लाख में से) |
|-----|------------------------------------|-------------------------------------|---|
| A | 16% | 18% | 24% |
| B | 18% | 12% | 18% |
| C | 21% | 20% | 12% |
| D | 15% | 16% | 16% |
| E | 20% | 19% | 20% |
| F | 10% | 15% | 10% |

Literate population of City E is.....% of the population of E.

शहर E की साक्षर जनसंख्या शहर E की जनसंख्या का कितने प्रतिशत है?

[Question ID = 568][Question Description = 103_00_General_23_SEPT22_Q03]

1. 40

[Option ID = 2269]

2. 64

[Option ID = 2270]

3. 26

[Option ID = 2271]

4. 42

[Option ID = 2272]

4) The following table shows the percentage (%) distribution of total population, literate males and literate females in six cities A-F. In all six cities together, total population, number of literate males and number of literate females are 1.5 crore, 40 lakh and 25 lakh, respectively. Ratio of males to females among the total population is 8:7. Based on the data in the table, answer the questions 1-5:

City-wise Distribution of Population

| City | (%) Population (out of 1.5 crore) | (%) Literate Males (out of 40 lakh) | (%) Literate Females (out of 25 lakh) |
|------|--------------------------------------|--|--|
| A | 16% | 18% | 24% |
| B | 18% | 12% | 18% |
| C | 21% | 20% | 12% |
| D | 15% | 16% | 16% |
| E | 20% | 19% | 20% |
| F | 10% | 15% | 10% |

निम्नलिखित तालिका में छह शहरों A-F में कुल जनसंख्या, साक्षर पुरुषों और साक्षर स्त्रियों का वितरण प्रतिशत (%) दर्शाया गया है। सभी छह शहरों में मिलाकर कुल जनसंख्या, साक्षर पुरुषों की संख्या और साक्षर स्त्रियों की संख्या क्रमशः 1.5 करोड़, 40 लाख और 25 लाख है। कुल जनसंख्या में पुरुषों और स्त्रियों का अनुपात 8:7 है। तालिका में डाटा के आधार पर प्रश्न 1-5 के उत्तर दीजिए:

जनसंख्या का शहर-वार वितरण

| शहर | (%) जनसंख्या (1.5 करोड़ में से) | (%) साक्षर पुरुष (40 लाख में से) | (%) साक्षर स्त्रियाँ (25 लाख में से) |
|-----|------------------------------------|-------------------------------------|---|
| A | 16% | 18% | 24% |
| B | 18% | 12% | 18% |
| C | 21% | 20% | 12% |
| D | 15% | 16% | 16% |
| E | 20% | 19% | 20% |
| F | 10% | 15% | 10% |

The difference between the illiterate population and the literate population of City C is

शहर C की निरक्षर जनसंख्या और साक्षर जनसंख्या के बीच कितना अंतर है?

[Question ID = 569][Question Description = 104_00_General_23_SEPT22_Q04]

1. 8.5 lakh

8.5 लाख

[Option ID = 2273]

2. 9.5 lakh

9.5 लाख

[Option ID = 2274]

3. 10.5 lakh

10.5 लाख

[Option ID = 2275]

4. 20.5 lakh

20.5 लाख

[Option ID = 2276]

5)

The following table shows the percentage (%) distribution of total population, literate males and literate females in six cities A-F. In all six cities together, total population, number of literate males and number of literate females are 1.5 crore, 40 lakh and 25 lakh, respectively. Ratio of males to females among the total population is 8:7. Based on the data in the table, answer the questions 1-5:

City-wise Distribution of Population

| City | (%) Population (out of 1.5 crore) | (%) Literate Males (out of 40 lakh) | (%) Literate Females (out of 25 lakh) |
|------|--------------------------------------|--|--|
| A | 16% | 18% | 24% |
| B | 18% | 12% | 18% |
| C | 21% | 20% | 12% |
| D | 15% | 16% | 16% |
| E | 20% | 19% | 20% |
| F | 10% | 15% | 10% |

निम्नलिखित तालिका में छह शहरों A-F में कुल जनसंख्या, साक्षर पुरुषों और साक्षर स्त्रियों का वितरण प्रतिशत (%) दर्शाया गया है। सभी छह शहरों में मिलाकर कुल जनसंख्या, साक्षर पुरुषों की संख्या और साक्षर स्त्रियों की संख्या क्रमशः 1.5 करोड़, 40 लाख और 25 लाख है। कुल जनसंख्या में पुरुषों और स्त्रियों का अनुपात 8:7 है। तालिका में डाटा के आधार पर प्रश्न 1-5 के उत्तर दीजिए:

जनसंख्या का शहर-वार वितरण

| शहर | (%) जनसंख्या (1.5 करोड़ में से) | (%) साक्षर पुरुष (40 लाख में से) | (%) साक्षर स्त्रियाँ (25 लाख में से) |
|-----|------------------------------------|-------------------------------------|---|
| A | 16% | 18% | 24% |
| B | 18% | 12% | 18% |
| C | 21% | 20% | 12% |
| D | 15% | 16% | 16% |
| E | 20% | 19% | 20% |
| F | 10% | 15% | 10% |

Number of literate males of City D is.....% more than the number of literate females of City D.

शहर D की साक्षर स्त्रियों की संख्या से शहर D के साक्षर पुरुषों की संख्या कितने प्रतिशत अधिक है?

[Question ID = 570][Question Description = 105_00_General_23_SEPT22_Q05]

1. 160

[Option ID = 2277]

2. 60

[Option ID = 2278]

3. 61.538

[Option ID = 2279]

4. 120

[Option ID = 2280]

1) Which of the following is a teacher-centred method ?

निम्नलिखित में से कौन सी एक शिक्षक-केन्द्रित विधि है?

[Question ID = 571][Question Description = 106_00_General_23_SEPT22_Q06]

1. Problem solving

समस्या समाधान

[Option ID = 2281]

2. Discussion method

परिचर्चा विधि

[Option ID = 2282]

3. Inquiry approach

परिपृच्छा अभिगम

[Option ID = 2283]

4. Demonstration method

निदर्शन विधि

[Option ID = 2284]

2) Given below are two statements : One is labelled as Assertion A and the other is labelled as Reason R.

Assertion (A) : One of the objectives of higher education is to promote critical and creative thinking abilities in students.

Reasons (R) : Critical and creative thinking abilities are developed by rote learning.

In the light of the above statements, choose the *most appropriate answer* from the options given below :

नीचे दो कथन दिए गए हैं : एक अभिकथन (Assertion (A)) के रूप में लिखित है तो दूसरा उसके कारण (Reasons (R)) के रूप में :

अभिकथन (A) : उच्च शिक्षा का एक उद्देश्य विद्यार्थियों में आलोचनात्मक व सृजनात्मक चिंतन की योग्यताओं का संवर्धन करना है।

कारण (R) : आलोचनात्मक व सृजनात्मक चिंतन योग्यताएं रटने के द्वारा विकसित होती है।

उपरोक्त कथन के आलोक में, नीचे दिए गए विकल्पों में से सबसे उपयुक्त उत्तर का चयन कीजिए

[Question ID = 572][Question Description = 107_00_General_23_SEPT22_Q07]

1. Both (A) and (R) are correct and (R) is the correct explanation of (A)

(A) और (R) दोनों सही हैं और (R), (A) की सही व्याख्या है।

[Option ID = 2285]

2. Both (A) and (R) are correct but (R) is NOT the correct explanation of (A)

(A) और (R) दोनों सही हैं, लेकिन (R), (A) की सही व्याख्या नहीं है।

[Option ID = 2286]

3. (A) is correct but (R) is not correct

(A) सही है, लेकिन (R) सही नहीं है।

[Option ID = 2287]

4. (A) is not correct but (R) is correct

(A) सही नहीं है, लेकिन (R) सही है।

[Option ID = 2288]

3)

Which of the following are common criteria of tests?

- (A) Administrative condition
- (B) All questions of higher order thinking skills.
- (C) Time limit
- (D) Nature of questions
- (E) Marks allocation

Choose the *correct answer* from the options given below :

निम्नलिखित में से परीक्षण के सामान्य मानदंड कौन-कौन से हैं?

- (A) प्रशासनिक स्थिति
- (B) उच्चकोटि चिंतन कौशल के सभी प्रश्न
- (C) समय सीमा
- (D) प्रश्नों की प्रकृति
- (E) अंक आवंटन

दिए गए विकल्पों में से सही उत्तर का चयन कीजिए:

[Question ID = 573][Question Description = 108_00_General_23_SEPT22_Q08]

1. A, C, D Only

केवल A, C और D

[Option ID = 2289]

2. B, C, D Only

केवल B, C और D

[Option ID = 2290]

3. B, C, D and E Only

केवल B, C, D और E

[Option ID = 2291]

4. A, C, D and E Only

केवल A, C, D और E

[Option ID = 2292]

4) In the context of curriculum, which of the following are correct?

- (A) Curriculum should be modified regularly
- (B) Curriculum should have theoretical concepts only
- (C) Curriculum should be derived from constitutional imperatives of the country
- (D) Curriculum should be made as per needs of industry & society
- (E) Curriculum should be teacher-centric.

Choose the *correct answer* from the options given below :

पाठ्यचर्या के संदर्भ में निम्नलिखित में से कौन-कौन सही है?

- (A) पाठ्यचर्या को नियमित रूप से आशोधित किया जाना चाहिए।
- (B) पाठ्यचर्या में केवल सैद्धांतिक संकल्पनाएं ही होनी चाहिए।
- (C) पाठ्यचर्या को देश की संवैधानिक अनिवार्यताओं से निगमित किया जाना चाहिए।
- (D) पाठ्यचर्या को उद्योग व समाज की आवश्यकताओं के अनुसार बनाया जाना चाहिए।
- (E) पाठ्यचर्या शिक्षक-केन्द्रित होनी चाहिए।

दिए गए विकल्पों में से सही उत्तर का चयन कीजिए:

[Question ID = 574][Question Description = 109_00_General_23_SEPT22_Q09]

1. A, D and E Only

केवल A, D और E

[Option ID = 2293]

2. C and D Only

केवल C और D

[Option ID = 2294]

3. A, C and D Only

केवल A, C और D

[Option ID = 2295]

4. A, B, C and D

A, B, C और D

[Option ID = 2296]

5) What does the symbol (cc) signify?

प्रतीक (cc) निम्नलिखित में से किसकी ओर संकेत करता है?

[Question ID = 575][Question Description = 110_00_General_23_SEPT22_Q10]

1. copyrighted material

प्रतिलिप्याधिकार अधीन सामग्री

[Option ID = 2297]

2. copyable material

प्रतिलिपि योग्य सामग्री

[Option ID = 2298]

3. creative commons

क्रिएटिव कॉमन्स

[Option ID = 2299]

4. copying commons

कॉपीइंग कॉमन्स

[Option ID = 2300]

6) When a research study is conducted to know about an unknown area and collect information, it is known as

जब किसी अज्ञात क्षेत्र के संबंध में जानने और सूचना एकत्र करने के लिए शोध अध्ययन संचालित किया जाता है, तो उसे निम्न में से किस रूप में जाना जाता है?

[Question ID = 576][Question Description = 111_00_General_23_SEPT22_Q11]

1. Pilot Study

मार्गदर्शी अध्ययन

[Option ID = 2301]

2. Feasibility study

व्यवहार्यता अध्ययन

[Option ID = 2302]

3. Explanatory research

व्याख्यात्मक शोध

[Option ID = 2303]

4. Exploratory research

गवेषणात्मक शोध

[Option ID = 2304]



7) A true zero point is the feature of

एक वास्तविक शून्य बिंदु निम्नलिखित में से किसका लक्षण है?

[Question ID = 577][Question Description = 112_00_General_23_SEPT22_Q12]

1. Nominal scale

नामिक स्केल

[Option ID = 2305]

2. Ratio scale

अनुपात स्केल

[Option ID = 2306]

3. Interval scale

अंतराल स्केल

[Option ID = 2307]

4. Ordinal scale

क्रमसूचक स्केल

[Option ID = 2308]

8) Which of the following are similarity elements in both qualitative and quantitative research?

- (A) Answering research questions.
- (B) Preference to macro data.
- (C) Do not suffer from issues of error.
- (D) Importance to transparency.
- (E) Exploration of variation.

Choose the *correct answer* from the options given below :

गुणात्मक और मात्रात्मक शोध दोनों में कौन से समान तत्व हैं?

- (A) शोध प्रश्नों के उत्तर देना
- (B) स्थूल डाटा को वरीयता
- (C) त्रुटि के मामलों से ग्रस्त नहीं है
- (D) पारदर्शिता को महत्व
- (E) वैभिन्य की गवेषणा

दिए गए विकल्पों में से सही उत्तर का चयन कीजिए:

[Question ID = 578][Question Description = 113_00_General_23_SEPT22_Q13]

1. A, B, C Only

केवल A, B, C

[Option ID = 2309]

2. B, C, D Only

केवल B, C, D

[Option ID = 2310]

3. A, D, E Only

केवल A, D, E

[Option ID = 2311]

4. A, B, E Only

केवल A, B, E

[Option ID = 2312]

- 9) Which of the following are unethical in the context of research?
- (A) Seeking informed consent of respondents.
 - (B) Offering incentives to respondents.
 - (C) Coercing respondents for sensitive personal information
 - (D) Hiding the research purpose from respondents.
 - (E) Maintaining confidentiality

Choose the *correct answer* from the options given below :

शोध के संदर्भ में निम्नलिखित में से कौन कौन अनैतिक हैं?

- (A) उत्तरदाताओं की समूचित सहमति प्राप्त करना
- (B) उत्तरदाताओं को प्रोत्साहन का प्रस्ताव रखना
- (C) उत्तरदाताओं से संवेदनशील वैयक्तिक सूचना के लिए दबाव डालना
- (D) उत्तरदाताओं से शोध प्रयोजन छिपाना
- (E) गोपनीयता बना कर रखना

दिए गए विकल्पों में से सही उत्तर का चयन कीजिए:

[Question ID = 579][Question Description = 114_00_General_23_SEPT22_Q14]

1. A, B, C Only

केवल A, B, C

[Option ID = 2313]

2. B, C, D Only

केवल B, C, D

[Option ID = 2314]

3. C, D, E Only

केवल C, D, E

[Option ID = 2315]

4. A, B, D Only

केवल A, B, D

[Option ID = 2316]

- 10) Given below are two statements :

Statement I : Triangulation is described as that of researchers taking different perspectives in answering research questions.

Statement II : Triangulation is expected to produce knowledge from different insights to promote quality research.

In the light of the above statements, choose the *most appropriate answer* from the options given below :

नीचे दो कथन दिए गए हैं :

कथन I : त्रिभुजीकरण को शोध प्रश्नों के उत्तर देने में शोधकर्ताओं द्वारा भिन्न-भिन्न परिप्रेक्ष्य लेने के रूप में किया जाता है।

कथन II : त्रिभुजीकरण से अपेक्षा की जाती है कि इससे गुणवत्तापूर्ण शोध के संवर्धन के लिए विभिन्न अंतर्दृष्टियों से ज्ञान का सृजन होगा।

उपरोक्त कथन के आलोक में, नीचे दिए गए विकल्पों में से सबसे उपयुक्त उत्तर का चयन कीजिए :

[Question ID = 580][Question Description = 115_00_General_23_SEPT22_Q15]

1. Both Statement I and Statement II are correct

कथन I और II दोनों सही हैं

[Option ID = 2317]

2. Both Statement I and Statement II are incorrect

कथन I और II दोनों गलत हैं

[Option ID = 2318]

3. Statement I is correct but Statement II is incorrect

कथन I सही है, लेकिन कथन II गलत है

[Option ID = 2319]

4. Statement I is incorrect but Statement II is correct

कथन I गलत है, लेकिन कथन II सही है

[Option ID = 2320]

11) Which of the following is a semantic barrier?

निम्नलिखित में से कौन-सी एक शब्दार्थ बाधा है?

[Question ID = 581][Question Description = 116_00_General_23_SEPT22_Q16]

1. Blurred image on television

टेलीविजन पर धुंधला चित्र

[Option ID = 2321]

2. Unclear printing in newspapers

समाचार पत्र में अस्पष्ट छपाई करना

[Option ID = 2322]

3. Static broadcasting

गतिहीन प्रसारण

[Option ID = 2323]

4. Redundancy in writing

लिखावट में व्यतिरिक्तता

[Option ID = 2324]

12) In communication, channel richness is highest in the case of

संप्रेषण में, चैनल प्रचुरता निम्न में से किसमें सर्वाधिक है?

[Question ID = 582][Question Description = 117_00_General_23_SEPT22_Q17]

1. Television

टेलीविजन

[Option ID = 2325]

2. Newspapers

समाचार पत्र

[Option ID = 2326]

3. Face-to-face conversation

आमने-सामने का वार्तालाप

[Option ID = 2327]

4. Formal reports

औपचारिक प्रतिवेदन

[Option ID = 2328]

13) Kinesics, when used, will communicate a person's

- (A) Social status
- (B) Level of involvement
- (C) Emotional quotient
- (D) Political mobility
- (E) Language ambiguity

Choose the *correct answer* from the options given below :

अंगविक्षेपविज्ञान का उपयोग किसी व्यक्ति को यह संप्रेषित करेगा:

- (A) सामाजिक प्रतिष्ठा
- (B) सम्मिलित होने वाला स्तर
- (C) भावात्मक लब्धि
- (D) राजनीतिक गतिशीलता
- (E) भाषायी अनेकार्थकता

दिए गए विकल्पों में से सही उत्तर का चयन कीजिए:

[Question ID = 583][Question Description = 118_00_General_23_SEPT22_Q18]

1. A, B, C Only

केवल A, B, C

[Option ID = 2329]

2. B, C, D Only

केवल B, C, D

[Option ID = 2330]

3. D, C, E Only

केवल D, C, E

[Option ID = 2331]

4. A, D, E Only

केवल A, D, E

[Option ID = 2332]

14)

Given below are two statements :

Statement I : Language and other symbolic means of communication are surely social products.

Statement II : Communication media always provide the feel-good-factor to their users

In the light of the above statements, choose the *correct answer* from the options given below :

नीचे दो कथन दिए गए हैं :

कथन I : संप्रेषण के भाषायी और अन्य प्रतीकात्मक साधन, निश्चित तौर पर सामाजिक उत्पाद हैं।

कथन II : संप्रेषण मीडिया सदैव अपने प्रयोक्ताओं हेतु सुखद-अनुभूति-कारक प्रदायक होता है।

उपरोक्त कथन के आलोक में, नीचे दिए गए विकल्पों में से सही उत्तर का चयन कीजिए :

[Question ID = 584][Question Description = 119_00_General_23_SEPT22_Q19]

1. Both Statement I and Statement II are true

कथन I और II दोनों सत्य हैं

[Option ID = 2333]

2. Both Statement I and Statement II are false

कथन I और II दोनों असत्य हैं

[Option ID = 2334]

3. Statement I is true but Statement II is false

कथन I सत्य है, लेकिन कथन II असत्य है

[Option ID = 2335]

4. Statement I is false but Statement II is true

कथन I असत्य है, लेकिन कथन II सत्य है

[Option ID = 2336]

15) Identify the correct sequence of the following elements in the mass communication process.

- (A) Selective exposure
- (B) Selective attention
- (C) Cognitive dissonance
- (D) Congruent information
- (E) Confirmation of bias

Choose the *correct answer* from the options given below :

जन-संप्रेषण प्रक्रिया में निम्नलिखित तत्वों के सही अनुक्रम को बताइए:-

- (A) चयनित उद्दासन
- (B) चयनित अवधान
- (C) संज्ञानात्मक विसंगति
- (D) सर्वांगसम सूचना
- (E) पूर्वाग्रह की पुष्टि

दिए गए विकल्पों में से सही उत्तर का चयन कीजिए:

[Question ID = 585][Question Description = 120_00_General_23_SEPT22_Q20]

1. B, A, D, C, E

[Option ID = 2337]

2. A, E, C, B, D

[Option ID = 2338]

3. C, D, E, B, A

[Option ID = 2339]

4. E, C, A, B, D

[Option ID = 2340]

16) Find the number that must be added to the terms of the ratio 13:25 to make it equal to 7:10.

वह संख्या ज्ञात कीजिए जिसे 13:25 के अनुपात को 7:10 के बराबर करने के लिए जोड़ना होगा?

[Question ID = 586][Question Description = 121_00_General_23_SEPT22_Q21]

1. 8

[Option ID = 2341]

2. 11

[Option ID = 2342]

3. 15

[Option ID = 2343]

4. 13

[Option ID = 2344]

17) Find the next term in the series given below

5, 9, 14, 20, 27, 35, ?

नीचे दी गयी श्रृंखला में अगला पद ज्ञात कीजिए

5, 9, 14, 20, 27, 35, ?

[Question ID = 587][Question Description = 122_00_General_23_SEPT22_Q22]

1. 62

[Option ID = 2345]

2. 70

[Option ID = 2346]

3. 44

[Option ID = 2347]

4. 42

[Option ID = 2348]

18) A sum of Rs. 16800 is divided into two parts. One part is lent at a simple rate of interest of 6% per annum and the other part at 8% per annum. After 2 years the total sum received is Rs. 19,000. Find the sum lent at the rate of 6% and 8% respectively.

रुपए 16800 की राशि को दो भागों में बांटा जाता है। पहले भाग को 6% प्रतिवर्ष की साधारण ब्याज की दर पर उधार दिया जाता है और दूसरे भाग को 8% प्रतिवर्ष की दर पर उधार दिया जाता है। दो वर्ष बाद प्राप्त की गयी कुल राशि 19000 रुपया है। क्रमशः 6% और 8% की दर पर उधार दी गयी राशि को ज्ञात कीजिए?

[Question ID = 588][Question Description = 123_00_General_23_SEPT22_Q23]

1. 12200, 4600

[Option ID = 2349]

2. 11000, 5800

[Option ID = 2350]

3. 12000, 4800

[Option ID = 2351]

4. 4800, 12000

[Option ID = 2352]

19) In a certain coding scheme, 'UNIVERSITY' is coded as 'EIINRSTUVY'. How INSTITUTION shall be coded in the same coding scheme?

किसी निश्चित कूट योजना में 'UNIVERSITY' को 'EIINRSTUVY' के रूप में कूट बढ़ किया गया है। उसी समान कूट योजना में INSTITUTION किस प्रकार कूटबद्ध किया जाएगा?

[Question ID = 589][Question Description = 124_00_General_23_SEPT22_Q24]

1. IINNOSTTTU

[Option ID = 2353]

2. IININOSUTTT

[Option ID = 2354]

3. ININOSTUTT

[Option ID = 2355]

4. IINNIOSTTTU

[Option ID = 2356]

20) The average weight of 30 persons is increased by 2 kg, when one of them whose weight is 40 kg. is replaced by a new person. What is the weight of the new person?

30 व्यक्तियों के औसत वजन में 2 किग्रा. की वृद्धि होती है, जब उनमें से एक जिसका वजन 40 किग्रा. है उसे किसी अन्य व्यक्ति से प्रतिस्थापित कर दिया जाता है। नए व्यक्ति का वजन क्या है?

[Question ID = 590][Question Description = 125_00_General_23_SEPT22_Q25]

1. 98 kg

98 किलोग्राम

[Option ID = 2357]

2. 100 kg

100 किलोग्राम

[Option ID = 2358]

3. 102 kg

102 किलोग्राम

[Option ID = 2359]

4. 95 kg

95 किलोग्राम

[Option ID = 2360]

21) Which of the following proposition is contrary to the proposition 'All women are honest'?

निम्नलिखित कौन-सा तर्कवाक्य "सभी महिलाएं ईमानदार हैं" तर्कवाक्य के विपरीत है?

[Question ID = 591][Question Description = 126_00_General_23_SEPT22_Q26]

1. Some women are not honest.

कुछ महिलाएं ईमानदार नहीं होती हैं।

[Option ID = 2361]

2. No women are honest.

कोई भी महिला ईमानदार नहीं होती है।

[Option ID = 2362]

3. Some women are not dishonest.

कुछ महिलाएं बेईमान नहीं होती हैं।

[Option ID = 2363]

4. No women are dishonest.

कोई महिला बेईमान नहीं होती है।

[Option ID = 2364]

22)

Which of the following forms of categorical propositions is valid?

- (A) Some S is not P
- (B) Some S is P
- (C) No S is P
- (D) All S is P

Choose the *correct answer* from the options given below :

निम्नलिखित तर्कवाक्यों के निम्नलिखित प्रकारों में किसमें प्रतिवर्तन वैध है?

- (A) कुछ S P नहीं हैं।
- (B) कुछ S P हैं।
- (C) कोई भी S P नहीं है।
- (D) सभी S P हैं।

दिए गए विकल्पों में से सही उत्तर का चयन कीजिए:

[Question ID = 592][Question Description = 127_00_General_23_SEPT22_Q27]

1. A, B and C Only

केवल A, B और C

[Option ID = 2365]

2. B, C and D Only

केवल B, C और D

[Option ID = 2366]

3. A, C and D Only

केवल A, C और D

[Option ID = 2367]

4. A, B, C, D

A, B, C, D

[Option ID = 2368]

23)

Which informal logical fallacy is committed in the following argument – 'No one has shown that aliens did not create the crop circles. So the crop circles must have been made by the aliens?'

निम्नलिखित तर्क में कौन-सा अनाकारिक तर्क दोष है- 'किसी ने यह प्रदर्शित नहीं किया है कि परग्रही (एलिएन्स) ने फसल वृत्तों को नहीं बनाया है। इसलिए फसल वृत्त अवश्य रूप से परग्रहीयों (एलिएन्स) द्वारा बनाए गये हैं।'

[Question ID = 593][Question Description = 128_00_General_23_SEPT22_Q28]

1. Begging the question

आत्माश्रय दोष

[Option ID = 2369]

2. Appeal to Ignorance

अज्ञान हेतु आग्रह

[Option ID = 2370]

3. Fallacy of accident

उपलक्षण दोष

[Option ID = 2371]

4. Appeal to authority

प्राधिकार हेतु आग्रह

[Option ID = 2372]

24) Given below are two statements :

Statement I : Aristotelian syllogism has three terms.

Statement II : Nyāya syllogism has five terms.

In the light of the above statements, choose the *most appropriate answer* from the options given below :

नीचे दो कथन दिए गए हैं :

कथन I : अस्तुवादी न्यायवाक्य में तीन पद होते हैं।

कथन II : नैयायिक न्यायवाक्य में पाँच पद होते हैं।

उपरोक्त कथन के आलोक में, नीचे दिए गए विकल्पों में से सबसे उपयुक्त उत्तर का चयन कीजिए :

[Question ID = 594][Question Description = 129_00_General_23_SEPT22_Q29]

1. Both Statement I and Statement II are correct

कथन I और II दोनों सही हैं

[Option ID = 2373]

2. Both Statement I and Statement II are incorrect

कथन I और II दोनों गलत हैं

[Option ID = 2374]

3. Statement I is correct but Statement II is incorrect

कथन I सही है, लेकिन कथन II गलत है

[Option ID = 2375]

4. Statement I is incorrect but Statement II is correct

कथन I गलत है, लेकिन कथन II सही है

[Option ID = 2376]

25) The proposition- 'all things are non-eternal, because they are knowable' is fallacious because

तर्कवाक्य 'सभी वस्तुएं गैर-शाश्वत हैं, क्योंकि वे ज्ञेय हैं' दोषपूर्ण है क्योंकि:-

[Question ID = 595][Question Description = 130_00_General_23_SEPT22_Q30]

1. The middle term is non-exclusive.

मध्यम पद गैर-अनन्य है।

[Option ID = 2377]

2. The middle term is too narrow.

मध्यम पद अति संकीर्ण है।

[Option ID = 2378]

3. The middle term is too wide

मध्यम पद अतिव्यापक है।

[Option ID = 2379]

4. It involves a contradictory middle term.

यह एक विपरीतार्थक मध्यपद को सम्मिलित करता है।

[Option ID = 2380]

26) A destructive computer program that masquerades as a useful application is called

ऐसे विध्वंसक कंप्यूटर प्रोग्राम को निम्नलिखित में से क्या कहा जाता है जो एक उपयोगी अनुप्रयोग का स्वरूप रचता है?

[Question ID = 596][Question Description = 131_00_General_23_SEPT22_Q31]

1. Virus

वाइरस

[Option ID = 2381]

2. Worm

वॉर्म

[Option ID = 2382]

3. Trojan

ट्रोजन

[Option ID = 2383]

4. Firmware

फर्म वेयर

[Option ID = 2384]

27) Given below are two statements :

Statement I : The concept of cyber technology is described as a wide range of networked communication devices.

Statement II : Many sociologists are concerned with people becoming too dependent on technology.

In the light of the above statements, choose the *correct answer* from the options given below :

नीचे दो कथन दिए गए हैं :

कथन I : साइबर प्रौद्योगिकी की संकल्पना का संचार उपकरणों के नेटवर्क की एक व्यापक रेंज के रूप में वर्णन किया जाता है।

कथन II : अनेक समाज शास्त्री लोगों के प्रौद्योगिकी पर अत्यधिक निर्भर हो जाने को लेकर चिंतित हैं।

उपरोक्त कथन के आलोक में, नीचे दिए गए विकल्पों में से सही उत्तर का चयन कीजिए :

[Question ID = 597][Question Description = 132_00_General_23_SEPT22_Q32]

1. Both Statement I and Statement II are true

कथन I और II दोनों सत्य हैं

[Option ID = 2385]

2. Both Statement I and Statement II are false

कथन I और II दोनों असत्य हैं

[Option ID = 2386]

3. Statement I is true but Statement II is false

कथन I सत्य है, लेकिन कथन II असत्य है

[Option ID = 2387]

4. Statement I is false but Statement II is true

कथन I असत्य है, लेकिन कथन II सत्य है

[Option ID = 2388]

28) The Microsoft Office Powerpoint, there are two types of slide orientation that are supported. What are these orientation types?

माइक्रोसॉफ्ट ऑफिस पावरपॉइंट में, दो प्रकार के स्लाइड अभिविन्यास समर्थित हैं। ये अभिविन्यास प्रकार कौन से हैं?

[Question ID = 598][Question Description = 133_00_General_23_SEPT22_Q33]

1. Portrait and Landscape

रूप-चित्र और भूदृश्य

[Option ID = 2389]

2. Upright and Landscape

उदग्र और भूदृश्य

[Option ID = 2390]

3. Portrait and Facedown

रूप-चित्र और फेसडाऊन

[Option ID = 2391]

4. Landscape and Facedown

भूदृश्य और फेसडाऊन

[Option ID = 2392]

- 29) Consider the worksheet below:

| | A | B | C | D | E | F |
|---|------|--------|---|---|---|---|
| 1 | Data | Result | | | | |
| 2 | -4 | | | | | |
| 3 | | | | | | |
| 4 | | | | | | |

If a user wants to do the following:

- Print "Within Budget" in cell B3 if the value in cell A2 is less than or equal to 100.
- Print "Over Budget" in cell B3 if the value in cell A2 is greater than 100; then what formula would the user have to type in order to achieve the above stated goals?

निम्नलिखित कार्यपत्रक पर विचार कीजिए:

| | A | B | C | D | E | F |
|---|------|--------|---|---|---|---|
| 1 | डाटा | परिणाम | | | | |
| 2 | -4 | | | | | |
| 3 | | | | | | |
| 4 | | | | | | |

यदि कोई प्रयोक्ता निम्नलिखित करना चाहता है:

- यदि कोष्ठक A2 का मान 100 से कम अथवा बराबर है, तो कोष्ठक B3 में प्रिंट "विदिन बजट"
- यदि कोष्ठक A2 का मान 100 से अधिक है, तो कोष्ठक B3 में प्रिंट "ओवर बजट", तो उपर्युक्त लक्ष्यों को प्राप्त करने के लिए प्रयोक्ता को कौन सा सूत्र टाइप करना होगा?

[Question ID = 599][Question Description = 134_00_General_23_SEPT22_Q34]

- =IF (A2<100, "Within Budget", "Over Budget")
= आई एफ (A2<100, "विदिन बजट", "ओवर बजट")
[Option ID = 2393]
- =IF (A2>=100, "Over Budget", "Within Budget")
= आई एफ (A2>=100, "ओवर बजट", "विदिन बजट")
[Option ID = 2394]
- =IF (A2<=100, "Over Budget", "Within Budget")
= आई एफ (A2<=100, "ओवर बजट", "विदिन बजट")

[Option ID = 2395]

4. =IF (A2<=100, "Within Budget", "Over Budget")

= आई एफ (A2<=100, "विदिन बजट", "ओवर बजट")

[Option ID = 2396]

30)

To receive email, you need an email provider, a connection to your provider and an email application. If your Internet Service Provider (ISP) has a POP sever, you have a wide choice of email applications.

What does the acronym POP stand for?

ई मेल प्राप्त करने के लिए आपको ई मेल प्रदाता, अपने प्रदाता के साथ एक कनेक्शन और एक ई मेल एप्लिकेशन की आवश्यकता है। यदि आपके इंटरनेट सेवा प्रदाता (आई एस पी) के पास पीओपी सर्वर है तो आपके पास ईमेल ऐप्लिकेशन के व्यापक विकल्प हैं।

संक्षिप्त नाम पीओपी का पूर्ण रूप क्या है?

[Question ID = 600][Question Description = 135_00_General_23_SEPT22_Q35]

1. Page Overlay Protocol

पेज ओवरले प्रोटोकाल

[Option ID = 2397]

2. Post Office Protocol

पोस्ट ऑफिस प्रोटोकाल

[Option ID = 2398]

3. Power Outage Protocol

पावर आउटेज प्रोटोकाल

[Option ID = 2399]

4. Postal off Protocol

पोस्टल ऑफ प्रोटोकाल

[Option ID = 2400]

31)

Given below are two statements :

Statement I : Bioconcentration in humans can occur due to consumption of fish.

Statement II : Bioconcentration is the tendency of hazardous substances to accumulate in human tissues

In the light of the above statements, choose the *correct answer* from the options given below :

नीचे दो कथन दिए गए हैं :

कथन I : मनुष्यों में मछली के उपभोग के कारण जैव-सान्द्रण हो सकता है।

कथन II : जैव-सान्द्रण हानिकारक पदार्थों की मानव ऊतकों में एकत्रित होने की प्रवृत्ति है।

उपरोक्त कथन के आलोक में, नीचे दिए गए विकल्पों में से सही उत्तर का चयन कीजिए :

[Question ID = 601][Question Description = 136_00_General_23_SEPT22_Q36]

1. Both Statement I and Statement II are true

कथन I और II दोनों सत्य हैं

[Option ID = 2401]

2. Both Statement I and Statement II are false

कथन I और II दोनों असत्य हैं

[Option ID = 2402]

3. Statement I is true but Statement II is false

कथन I सत्य है, लेकिन कथन II असत्य है

[Option ID = 2403]

4. Statement I is false but Statement II is true

कथन I असत्य है, लेकिन कथन II सत्य है

[Option ID = 2404]

32)

Given below are two statements : One is labelled as Assertion A and the other is labelled as Reason R.

Assertion (A) : Large scale dams also cause the Green House Gas emissions.

Reasons (R) : When submerged vegetation decays, it produces carbon dioxide which is a green house gas.

In the light of the above statements, choose the *most appropriate answer* from the options given below :

नीचे दो कथन दिए गए हैं : एक अभिकथन (Assertion (A)) के रूप में लिखित है तो दूसरा उसके कारण (Reasons (R)) के रूप में :

अभिकथन (A) : विशाल बांध ग्रीन हाउस गैसों के उत्सर्जन के भी कारक हो सकते हैं।

कारण (R) : जब जल निम्न वनस्पति का क्षय होता है तब कार्बन डाई आक्साइड उत्पन्न होती है जो कि एक ग्रीनहाउस गैस है।

उपरोक्त कथन के आलोक में, नीचे दिए गए विकल्पों में से सही उत्तर का चयन कीजिए :

[Question ID = 602][Question Description = 137_00_General_23_SEPT22_Q37]

1. Both (A) and (R) are true and (R) is the correct explanation of (A)

(A) और (R) दोनों सही हैं और (R), (A) की सही व्याख्या है

[Option ID = 2405]

2. Both (A) and (R) are true but (R) is NOT the correct explanation of (A)

(A) और (R) दोनों सही हैं लेकिन (R), (A) की सही व्याख्या नहीं है

[Option ID = 2406]

3. (A) is true but (R) is not false

(A) सही है लेकिन (R) सही नहीं है

[Option ID = 2407]

4. (A) is not false but (R) is true

(A) सही है लेकिन (R) सही है

[Option ID = 2408]

33) Wind energy

- (A) is an intermittent energy
- (B) is extremely useful at remote and isolated places
- (C) does not depend upon weather
- (D) is a clean energy
- (E) does not have any environmental impact at all

Choose the *most appropriate answer* from the options given below :

पवन ऊर्जा

- (A) एक आंतराधिक ऊर्जा है।
- (B) दूरस्थ और एकाकी स्थानों में अत्यन्त उपयोगी है।
- (C) मौसम पर निर्भर नहीं करती है।
- (D) एक स्वच्छ ऊर्जा है।
- (E) का पर्यावरणीय प्रभाव बिल्कुल नहीं है।

दिए गए विकल्पों में से सही उत्तर का चयन कीजिए:

[Question ID = 603][Question Description = 138_00_General_23_SEPT22_Q38]

1. A, B, C Only

केवल A, B, C

[Option ID = 2409]

2. A, B, D Only

केवल A, B, D

[Option ID = 2410]

3. B, C, D Only

केवल B, C, D

[Option ID = 2411]

4. C, D, E Only

केवल C, D, E

[Option ID = 2412]

34) Indian National Ambient Air Quality standards stipulate the maximum permissible limit of annual mean concentration of PM_{2.5} to be

भारतीय राष्ट्रीय पर्यावरणी वायु गुणवत्ता मानकों के अनुसार पी.एम_{2.5} की वार्षिक माध्य संकेद्रण की अधिकतम अनुमत्य सीमा है-

[Question ID = 604][Question Description = 139_00_General_23_SEPT22_Q39]

1. 60 µg/m³

[Option ID = 2413]

2. 45 µg/m³

[Option ID = 2414]

3. 40 µg/m³

[Option ID = 2415]

4. 25 µg/m³

[Option ID = 2416]

35) Which of the following are sustainable Development Goals (SDGs)?

- (A) No poverty
- (B) Zero hunger
- (C) Employment to everyone
- (D) Quality education
- (E) Gender equality

Choose the *correct answer* from the options given below :

निम्नलिखित में से सतत विकास लक्ष्य (एस.डी.जी.) कौन से हैं?

- (A) निर्धनता की समाप्ति
- (B) भूख से मुक्ति
- (C) सबके लिए रोजगार
- (D) गुणवत्तापूर्ण शिक्षा
- (E) लिंग (जेंडर) समानता

दिए गए विकल्पों में से सही उत्तर का चयन कीजिए:

[Question ID = 605][Question Description = 140_00_General_23_SEPT22_Q40]

1. A, B, C Only

केवल A, B, C

[Option ID = 2417]

2. A, B, C, D Only

केवल A, B, C, D

[Option ID = 2418]

3. A, B, D, E Only

केवल A, B, D, E

[Option ID = 2419]

4. C, D, E Only

केवल C, D, E

[Option ID = 2420]

36) Previous National Education Policy on Education-1986 was modified in the year:

शिक्षा पर पिछली राष्ट्रीय शिक्षा नीति-1986 को किस वर्ष में संशोधित किया गया था?

[Question ID = 606][Question Description = 141_00_General_23_SEPT22_Q41]

1. 1990

[Option ID = 2421]

2. 1992

[Option ID = 2422]

3. 1987

[Option ID = 2423]

4. 1996

[Option ID = 2424]

37) The most important fallout of university reforms under whose leadership, was the first official announcement of the future education policy of the Government of India to reduce the tension created among the educated Indians by the process of his university reforms?

निम्नलिखित में से किसके नेतृत्व के अंतर्गत विश्वविद्यालय सुधारों का सर्वाधिक महत्वपूर्ण परिणाम भारत सरकार की भावी शिक्षा नीति की प्रथम आधिकारिक घोषणा था, जिसका उद्देश्य उसकी विश्वविद्यालय सुधारों की प्रक्रिया से शिक्षित भारतीयों में उत्पन्न हुए तनाव को घटाना था?

[Question ID = 607][Question Description = 142_00_General_23_SEPT22_Q42]

1. Charles Wood

चार्ल्स वुड

[Option ID = 2425]

2. Hunter

हंटर

[Option ID = 2426]

3. Curzon

कर्जन

[Option ID = 2427]

4. Dalhousie

डलहौजी

[Option ID = 2428]

38) Which of the following universities have been recognised as Institutes of Eminence?

- (A) Banaras Hindu University
- (B) Amrita Vishwa Vidya Peetham
- (C) Calcutta University
- (D) Cental University of Hyderabad
- (E) Jawaharlal Nehru University

Choose the *most appropriate answer* from the options given below :

निम्नलिखित में से किन विश्वविद्यालयों को उत्कृष्ट संस्थान के रूप में मान्यता दी गई है

- (A) बनारस हिन्दू विश्वविद्यालय
- (B) अमृता विश्वविद्यालय
- (C) कलकत्ता विश्वविद्यालय
- (D) सेंट्रल यूनिवर्सिटी ऑफ हैदराबाद
- (E) जवाहरलाल नेहरू विश्वविद्यालय

दिए गए विकल्पों में से सही उत्तर का चयन कीजिए:

[Question ID = 608][Question Description = 143_00_General_23_SEPT22_Q43]

1. A, B and E Only

केवल A, B और E

[Option ID = 2429]

2. A, B and D Only

केवल A, B और D

[Option ID = 2430]

3. C, D and E Only

केवल C, D और E

[Option ID = 2431]

4. A, B, C and D Only

केवल A, B, C और D

[Option ID = 2432]

39) Which of the following recognised for the first time that the government should give 'frank and cordial support' to female education and take effective measures for its expansion?


निम्नलिखित में से किसने पहली बार यह माना था कि सरकार द्वारा महिला शिक्षा को 'स्पष्ट एवं हार्दिक समर्थन' देना चाहिए और वह इसके विस्तार के लिए प्रभावी उपाय करें?

[Question ID = 609][Question Description = 144_00_General_23_SEPT22_Q44]

1. Women's Indian Association

वुमेन्स इंडियन एसोसिएशन

[Option ID = 2433]



2. All India Women's Conference

ऑल इंडिया वुमेन्स कॉन्फ्रेंस

[Option ID = 2434]

3. The Woods Despatch

द वुड्स डिस्पैच

[Option ID = 2435]

4. National Council of Women

नेशनल काउंसिल ऑफ वुमेन

[Option ID = 2436]

40) The Acts of incorporation passed in 1857 provided for the establishment of Universities of Calcutta, Bombay and Madras on the model of:

1857 में पारित समावेशन अधिनियम में किस विश्वविद्यालय के प्रतिरूप पर आधारित कलकत्ता, बंबई और मद्रास के विश्वविद्यालयों की स्थापना का प्रावधान किया गया था?

[Question ID = 610][Question Description = 145_00_General_23_SEPT22_Q45]

1. Cambridge University

केम्ब्रिज यूनिवर्सिटी

[Option ID = 2437]

2. University of Harvard

यूनिवर्सिटी ऑफ हार्वर्ड

[Option ID = 2438]

3. Oxford University


ऑक्सफोर्ड यूनिवर्सिटी

[Option ID = 2439]

4. University of London

लंदन यूनिवर्सिटी

[Option ID = 2440]



1)

Read the passage and answer questions from questions 46 to 50:

There is a new movement called libertarian paternalism which is not attractive. Both words are characterised by stereotypes from popular culture and politics that make them unappealing to many. Even worse, the concepts seem to be contradictory. If the terms are properly understood, both concepts reflect common sense. They are far more attractive together than alone. According to the libertarian strategy, people should be free to do what they like. It is also to opt out of undesirable arrangements, if they want to do so. The libertarian paternalists urge that people should be free to choose. Policies are designed to maintain or increase freedom of choice. The paternalistic aspect lies in the claim that it is legitimate for choice architects to try to influence people's behaviour. It is to make people's lives longer, healthier and better. Institutions in private sector and also the government should make conscious efforts to steer people's choices to improve their lives. A policy is paternalistic, if it tries to influence choices that make choosers better off, as judged by people themselves. It is a fact that individuals make often pretty bad decisions. These would not have been made, had they paid full attention and possessed complete information, unlimited cognitive abilities and complete self-control. Libertarian paternalism, however, is a relatively weak, soft and non-intrusive type of paternalism, because it does not force people from taking bad decisions.

निम्नलिखित गद्यांश को पढ़िए और प्रश्न संख्या 46-50 के उत्तर दीजिए-

स्वेच्छातंत्रीय पितृसत्तावाद (लिबर्टेरियन पैटर्नलिज्म) एक नया आन्दोलन है जो बहुत आकर्षक नहीं है। दोनों शब्दों की अभिलाक्षणिकताएँ लोकप्रिय संस्कृति और राजनीति के रूढ़िप्ररूपों से युक्त हैं जो उन्हें बहुत सारे लोगों के लिए अनाकर्षक बना देती हैं। इससे भी बुरी बात यह है कि ये धारणाएँ अन्तर्विरोधी प्रतीत होती हैं। यदि ये पारिभाषिक शब्द उचित ढंग से समझे जायें, तो दोनों धारणाएँ सामान्य-बोध को दर्शाती हैं। अकेले के बजाय दोनों संयुक्त रूप से कहीं अधिक आकर्षक हैं। स्वेच्छातंत्रीय रणनीति के अनुसार, लोग जो पसन्द करें वह करने के लिए वे स्वतन्त्र होने चाहिए। यदि वे ऐसा करना चाहें तो यह अवांछनीय व्यवस्थाओं से बाहर रहने का चुनाव करना भी है। स्वेच्छातंत्रीय पितृसत्तावादी यह आग्रह करते हैं कि लोग चुनने के लिए स्वतन्त्र होने चाहिए। नीतियाँ इस तरह अभिकल्पित की जाती हैं जिससे चयन की स्वतंत्रता या तो यथावत् रहे या उसमें वृद्धि हो। पितृसत्तावादी पक्ष इस दावे में निहित है कि लोगों का व्यवहार प्रभावित करने के लिए चयन रचनाकारों के प्रयास वैध हैं। इसका उद्देश्य लोगों का जीवन दीर्घतर, अधिक स्वस्थ और बेहतर बनाना है। निजी क्षेत्र में, और सरकारी क्षेत्र में भी, संस्थानों को लोगों का चयन संचालित करने के लिए सचेत प्रयास करने चाहिए ताकि लोगों का जीवन समुन्नत हो। कोई नीति पितृसत्तावादी है यदि वह लोगों के अपने निर्णय की दृष्टि में उनका जीवन समुन्नत बनाने के लिए चयनकर्ताओं के चयन को प्रभावित करने का प्रयास करती है। यह एक तथ्य है कि लोग प्रायः अत्यन्त बुरे निर्णय करते हैं। यदि लोग पूरा ध्यान देते, उनके पास सम्पूर्ण सूचनाएँ होती, असीमित संज्ञानात्मक क्षमताएँ होती और सम्पूर्ण आत्म-नियंत्रण होता, तो वे ऐसे निर्णय नहीं करते। फिर भी स्वेच्छातंत्रीय पितृसत्तावाद एक अपेक्षतया निर्बल, नरम और अंतर्विरोधितारहित प्रकार का पितृसत्तावाद है क्योंकि यह लोगों को बुरे निर्णय लेने से नहीं रोकता है।

The movement of libertarian paternalism is unattractive as it is a combination of

स्वेच्छातंत्रीय पितृसत्तावाद का आन्दोलन अनाकर्षक- है क्योंकि यह निम्न का मिश्रण है-

[Question ID = 611][Question Description = 146_00_General_23_SEPT22_Q46]

1. Common sense concepts

सामान्य-बोध की धारणाएँ

[Option ID = 2441]

2. Dogmatic concepts

मताग्रही धारणाएँ

[Option ID = 2442]

3. Contradictory concepts

अन्तर्विरोधी धारणाएँ

[Option ID = 2443]

4. Popular culture and politics

लोकप्रिय संस्कृति और राजनीति

[Option ID = 2444]

2)

Read the passage and answer questions from questions 46 to 50:

There is a new movement called libertarian paternalism which is not attractive. Both words are characterised by stereotypes from popular culture and politics that make them unappealing to many. Even worse, the concepts seem to be contradictory. If the terms are properly understood, both concepts reflect common sense. They are far more attractive together than alone. According to the libertarian strategy, people should be free to do what they like. It is also to opt out of undesirable arrangements, if they want to do so. The libertarian paternalists urge that people should be free to choose. Policies are designed to maintain or increase freedom of choice. The paternalistic aspect lies in the claim that it is legitimate for choice architects to try to influence people's behaviour. It is to make people's lives longer, healthier and better. Institutions in private sector and also the government should make conscious efforts to steer people's choices to improve their lives. A policy is paternalistic, if it tries to influence choices that make choosers better off, as judged by people themselves. It is a fact that individuals make often pretty bad decisions. These would not have been made, had they paid full attention and possessed complete information, unlimited cognitive abilities and complete self-control. Libertarian paternalism, however, is a relatively weak, soft and non-intrusive type of paternalism, because it does not force people from taking bad decisions.

निम्नलिखित गद्यांश को पढ़िए और प्रश्न संख्या 46-50 के उत्तर दीजिए-

स्वेच्छातंत्रीय पितृसत्तावाद (लिबर्टेरियन पैटर्नलिज्म) एक नया आन्दोलन है जो बहुत आकर्षक नहीं है। दोनों शब्दों की अभिलाक्षणिकताएँ लोकप्रिय संस्कृति और राजनीति के रूढ़िप्ररूपों से युक्त हैं जो उन्हें बहुत सारे लोगों के लिए अनाकर्षक बना देती हैं। इससे भी बुरी बात यह है कि ये धारणाएँ अन्तर्विरोधी प्रतीत होती हैं। यदि ये पारिभाषिक शब्द उचित ढंग से समझे जायें, तो दोनों धारणाएँ सामान्य-बोध को दर्शाती हैं। अकेले के बजाय दोनों संयुक्त रूप से कहीं अधिक आकर्षक हैं। स्वेच्छातंत्रीय रणनीति के अनुसार, लोग जो पसन्द करें वह करने के लिए वे स्वतन्त्र होने चाहिए। यदि वे ऐसा करना चाहें तो यह अवांछनीय व्यवस्थाओं से बाहर रहने का चुनाव करना भी है। स्वेच्छातंत्रीय पितृसत्तावादी यह आग्रह करते हैं कि लोग चुनने के लिए स्वतन्त्र होने चाहिए। नीतियाँ इस तरह अभिकल्पित की जाती हैं जिससे चयन की स्वतंत्रता या तो यथावत् रहे या उसमें वृद्धि हो। पितृसत्तावादी पक्ष इस दावे में निहित है कि लोगों का व्यवहार प्रभावित करने के लिए चयन रचनाकारों के प्रयास वैध हैं। इसका उद्देश्य लोगों का जीवन दीर्घतर, अधिक स्वस्थ और बेहतर बनाना है। निजी क्षेत्र में, और सरकारी क्षेत्र में भी, संस्थानों को लोगों का चयन संचालित करने के लिए सचेत प्रयास करने चाहिए ताकि लोगों का जीवन समुन्नत हो। कोई नीति पितृसत्तावादी है यदि वह लोगों के अपने निर्णय की दृष्टि में उनका जीवन समुन्नत बनाने के लिए चयनकर्ताओं के चयन को प्रभावित करने का प्रयास करती है। यह एक तथ्य है कि लोग प्रायः अत्यन्त बुरे निर्णय करते हैं। यदि लोग पूरा ध्यान देते, उनके पास सम्पूर्ण सूचनाएँ होतीं, असीमित संज्ञानात्मक क्षमताएँ होतीं और सम्पूर्ण आत्म-नियंत्रण होता, तो वे ऐसे निर्णय नहीं करते। फिर भी स्वेच्छातंत्रीय पितृसत्तावाद एक अपेक्षतया निर्बल, नरम और अंतर्विधितारहित प्रकार का पितृसत्तावाद है क्योंकि यह लोगों को बुरे निर्णय लेने से नहीं रोकता है।

The libertarian strategy insists that people should opt for

स्वेच्छातंत्रीय रणनीति इस बात पर जोर देती है कि लोगों को निम्नलिखित को चुनना चाहिए-

[Question ID = 612][Question Description = 147_00_General_23_SEPT22_Q47]

1. Freedom of choice

चयन की स्वतंत्रता

[Option ID = 2445]

2. Paternalistic support

पितृसत्तावादी समर्थन

[Option ID = 2446]

3. Even undesirable arrangements

अवांछनीय आयोजन भी

[Option ID = 2447]

4. Modification of their freedom

उनकी स्वतंत्रता में संशोधन

[Option ID = 2448]

3)

Read the passage and answer questions from questions 46 to 50:

There is a new movement called libertarian paternalism which is not attractive. Both words are characterised by stereotypes from popular culture and politics that make them unappealing to many. Even worse, the concepts seem to be contradictory. If the terms are properly understood, both concepts reflect common sense. They are far more attractive together than alone. According to the libertarian strategy, people should be free to do what they like. It is also to opt out of undesirable arrangements, if they want to do so. The libertarian paternalists urge that people should be free to choose. Policies are designed to maintain or increase freedom of choice. The paternalistic aspect lies in the claim that it is legitimate for choice architects to try to influence people's behaviour. It is to make people's lives longer, healthier and better. Institutions in private sector and also the government should make conscious efforts to steer people's choices to improve their lives. A policy is paternalistic, if it tries to influence choices that make choosers better off, as judged by people themselves. It is a fact that individuals make often pretty bad decisions. These would not have been made, had they paid full attention and possessed complete information, unlimited cognitive abilities and complete self-control. Libertarian paternalism, however, is a relatively weak, soft and non-intrusive type of paternalism, because it does not force people from taking bad decisions.

निम्नलिखित गद्यांश को पढ़िए और प्रश्न संख्या 46-50 के उत्तर दीजिए-

स्वेच्छातंत्रीय पितृसत्तावाद (लिबर्टेरियन पैटर्नलिज्म) एक नया आन्दोलन है जो बहुत आकर्षक नहीं है। दोनों शब्दों की अभिलाक्षणीकताएँ लोकप्रिय संस्कृति और राजनीति के रूढ़िप्ररूपों से युक्त हैं जो उन्हें बहुत सारे लोगों के लिए अनाकर्षक बना देती हैं। इससे भी बुरी बात यह है कि ये धारणाएँ अन्तर्विरोधी प्रतीत होती हैं। यदि ये पारिभाषिक शब्द उचित ढंग से समझे जायें, तो दोनों धारणाएँ सामान्य-बोध को दर्शाती हैं। अकेले के बजाय दोनों संयुक्त रूप से कहीं अधिक आकर्षक हैं। स्वेच्छातंत्रीय रणनीति के अनुसार, लोग जो पसन्द करें वह करने के लिए वे स्वतन्त्र होने चाहिए। यदि वे ऐसा करना चाहें तो यह अवांछनीय व्यवस्थाओं से बाहर रहने का चुनाव करना भी है। स्वेच्छातंत्रीय पितृसत्तावादी यह आग्रह करते हैं कि लोग चुनने के लिए स्वतन्त्र होने चाहिए। नीतियाँ इस तरह अभिकल्पित की जाती हैं जिससे चयन की स्वतंत्रता या तो यथावत् रहे या उसमें वृद्धि हो। पितृसत्तावादी पक्ष इस दावे में निहित है कि लोगों का व्यवहार प्रभावित करने के लिए चयन रचनाकारों के प्रयास वैध हैं। इसका उद्देश्य लोगों का जीवन दीर्घतर, अधिक स्वस्थ और बेहतर बनाना है। निजी क्षेत्र में, और सरकारी क्षेत्र में भी, संस्थानों को लोगों का चयन संचालित करने के लिए सचेत प्रयास करने चाहिए ताकि लोगों का जीवन समुन्नत हो। कोई नीति पितृसत्तावादी है यदि वह लोगों के अपने निर्णय की दृष्टि में उनका जीवन समुन्नत बनाने के लिए चयनकर्ताओं के चयन को प्रभावित करने का प्रयास करती है। यह एक तथ्य है कि लोग प्रायः अत्यन्त बुरे निर्णय करते हैं। यदि लोग पूरा ध्यान देते, उनके पास सम्पूर्ण सूचनाएँ होती, असीमित संज्ञानात्मक क्षमताएँ होती और सम्पूर्ण आत्म-नियंत्रण होता, तो वे ऐसे निर्णय नहीं करते। फिर भी स्वेच्छातंत्रीय पितृसत्तावाद एक अपेक्षतया निर्बल, नरम और अंतर्विधितारहित प्रकार का पितृसत्तावाद है क्योंकि यह लोगों को बुरे निर्णय लेने से नहीं रोकता है।

The libertarian paternalists seek policies aimed to

स्वेच्छातंत्रीय पितृसत्तावादी ऐसी नीतियाँ चाहते हैं जिनका लक्ष्य हो-

[Question ID = 613][Question Description = 148_00_General_23_SEPT22_Q48]

1. Change the people's preferences.

लोगों की प्राथमिकताओं में परिवर्तन

[Option ID = 2449]

2. Preserve the People's liberty of choice

लोगों की चयन की स्वतन्त्रता का अभिरक्षण

[Option ID = 2450]

3. Burden the people with choices.

लोगों पर चयन के विकल्पों का बोझ डालना

[Option ID = 2451]

4. Make the people's choices legitimate.

लोगों के चयन को वैध बनाना

[Option ID = 2452]

4)

Read the passage and answer questions from questions 46 to 50:

There is a new movement called libertarian paternalism which is not attractive. Both words are characterised by stereotypes from popular culture and politics that make them unappealing to many. Even worse, the concepts seem to be contradictory. If the terms are properly understood, both concepts reflect common sense. They are far more attractive together than alone. According to the libertarian strategy, people should be free to do what they like. It is also to opt out of undesirable arrangements, if they want to do so. The libertarian paternalists urge that people should be free to choose. Policies are designed to maintain or increase freedom of choice. The paternalistic aspect lies in the claim that it is legitimate for choice architects to try to influence people's behaviour. It is to make people's lives longer, healthier and better. Institutions in private sector and also the government should make conscious efforts to steer people's choices to improve their lives. A policy is paternalistic, if it tries to influence choices that make choosers better off, as judged by people themselves. It is a fact that individuals make often pretty bad decisions. These would not have been made, had they paid full attention and possessed complete information, unlimited cognitive abilities and complete self-control. Libertarian paternalism, however, is a relatively weak, soft and non-intrusive type of paternalism, because it does not force people from taking bad decisions.

निम्नलिखित गद्यांश को पढ़िए और प्रश्न संख्या 46-50 के उत्तर दीजिए-

स्वेच्छातंत्रीय पितृसत्तावाद (लिबर्टेरियन पैटर्नलिज्म) एक नया आन्दोलन है जो बहुत आकर्षक नहीं है। दोनों शब्दों की अभिलाक्षणीकताएँ लोकप्रिय संस्कृति और राजनीति के रूढ़प्ररूपों से युक्त हैं जो उन्हें बहुत सारे लोगों के लिए अनाकर्षक बना देती हैं। इससे भी बुरी बात यह है कि ये धारणाएँ अन्तर्विरोधी प्रतीत होती हैं। यदि ये पारिभाषिक शब्द उचित ढंग से समझे जायें, तो दोनों धारणाएँ सामान्य-बोध को दर्शाती हैं। अकेले के बजाय दोनों संयुक्त रूप से कहीं अधिक आकर्षक हैं। स्वेच्छातंत्रीय रणनीति के अनुसार, लोग जो पसन्द करें वह करने के लिए वे स्वतन्त्र होने चाहिए। यदि वे ऐसा करना चाहें तो यह अवांछनीय व्यवस्थाओं से बाहर रहने का चुनाव करना भी है। स्वेच्छातंत्रीय पितृसत्तावादी यह आग्रह करते हैं कि लोग चुनने के लिए स्वतन्त्र होने चाहिए। नीतियाँ इस तरह अभिकल्पित की जाती हैं जिससे चयन की स्वतंत्रता या तो यथावत् रहे या उसमें वृद्धि हो। पितृसत्तावादी पक्ष इस दावे में निहित है कि लोगों का व्यवहार प्रभावित करने के लिए चयन रचनाकारों के प्रयास वैध हैं। इसका उद्देश्य लोगों का जीवन दीर्घतर, अधिक स्वस्थ और बेहतर बनाना है। निजी क्षेत्र में, और सरकारी क्षेत्र में भी, संस्थानों को लोगों का चयन संचालित करने के लिए सचेत प्रयास करने चाहिए ताकि लोगों का जीवन समुन्नत हो। कोई नीति पितृसत्तावादी है यदि वह लोगों के अपने निर्णय की दृष्टि में उनका जीवन समुन्नत बनाने के लिए चयनकर्ताओं के चयन को प्रभावित करने का प्रयास करती है। यह एक तथ्य है कि लोग प्रायः अत्यन्त बुरे निर्णय करते हैं। यदि लोग पूरा ध्यान देते, उनके पास सम्पूर्ण सूचनाएँ होतीं, असीमित संज्ञानात्मक क्षमताएँ होतीं और सम्पूर्ण आत्म-नियंत्रण होता, तो वे ऐसे निर्णय नहीं करते। फिर भी स्वेच्छातंत्रीय पितृसत्तावाद एक अपेक्षतया निर्बल, नरम और अंतर्विधितारहित प्रकार का पितृसत्तावाद है क्योंकि यह लोगों को बुरे निर्णय लेने से नहीं रोकता है।

The government and private institutions should make efforts to

सरकारी और निजी संस्थानों को निम्नलिखित के लिए प्रयास करना चाहिए-

[Question ID = 614][Question Description = 149_00_General_23_SEPT22_Q49]

1. Prevent people from taking bad decisions

लोगों को बुरे फैसले लेने से रोकना

[Option ID = 2453]

2. Allow people to go their own way

लोगों को उनके अपने रास्ते पर चलने देने की अनुमति देना

[Option ID = 2454]

3. Make people judge themselves

लोगों को अपने बारे में स्वयं निर्णय करने देना

[Option ID = 2455]

4. Steer people's choices for improving their lives.

उनका जीवन समुन्नत बनाने के लिए लोगों के चयनों को संचालित करना

[Option ID = 2456]

5)

Read the passage and answer questions from questions 46 to 50:

There is a new movement called libertarian paternalism which is not attractive. Both words are characterised by stereotypes from popular culture and politics that make them unappealing to many. Even worse, the concepts seem to be contradictory. If the terms are properly understood, both concepts reflect common sense. They are far more attractive together than alone. According to the libertarian strategy, people should be free to do what they like. It is also to opt out of undesirable arrangements, if they want to do so. The libertarian paternalists urge that people should be free to choose. Policies are designed to maintain or increase freedom of choice. The paternalistic aspect lies in the claim that it is legitimate for choice architects to try to influence people's behaviour. It is to make people's lives longer, healthier and better. Institutions in private sector and also the government should make conscious efforts to steer people's choices to improve their lives. A policy is paternalistic, if it tries to influence choices that make choosers better off, as judged by people themselves. It is a fact that individuals make often pretty bad decisions. These would not have been made, had they paid full attention and possessed complete information, unlimited cognitive abilities and complete self-control. Libertarian paternalism, however, is a relatively weak, soft and non-intrusive type of paternalism, because it does not force people from taking bad decisions.

निम्नलिखित गद्यांश को पढ़िए और प्रश्न संख्या 46-50 के उत्तर दीजिए-

स्वेच्छातंत्रीय पितृसत्तावाद (लिबर्टेरियन पैटर्नलिज्म) एक नया आन्दोलन है जो बहुत आकर्षक नहीं है। दोनों शब्दों की अभिलाक्षणिकताएँ लोकप्रिय संस्कृति और राजनीति के रूढ़िप्ररूपों से युक्त हैं जो उन्हें बहुत सारे लोगों के लिए अनाकर्षक बना देती हैं। इससे भी बुरी बात यह है कि ये धारणाएँ अन्तर्विरोधी प्रतीत होती हैं। यदि ये पारिभाषिक शब्द उचित ढंग से समझे जायें, तो दोनों धारणाएँ सामान्य-बोध को दर्शाती हैं। अकेले के बजाय दोनों संयुक्त रूप से कहीं अधिक आकर्षक हैं। स्वेच्छातंत्रीय रणनीति के अनुसार, लोग जो पसन्द करें वह करने के लिए वे स्वतन्त्र होने चाहिए। यदि वे ऐसा करना चाहें तो यह अवांछनीय व्यवस्थाओं से बाहर रहने का चुनाव करना भी है। स्वेच्छातंत्रीय पितृसत्तावादी यह आग्रह करते हैं कि लोग चुनने के लिए स्वतन्त्र होने चाहिए। नीतियाँ इस तरह अभिकल्पित की जाती हैं जिससे चयन की स्वतंत्रता या तो बर्धवत् रहे या उसमें वृद्धि हो। पितृसत्तावादी पक्ष इस दावे में निहित है कि लोगों का व्यवहार प्रभावित करने के लिए चयन रचनाकारों के प्रयास वैध हैं। इसका उद्देश्य लोगों का जीवन दीर्घतर, अधिक स्वस्थ और बेहतर बनाना है। निजी क्षेत्र में, और सरकारी क्षेत्र में भी, संस्थानों को लोगों का चयन संचालित करने के लिए सचेत प्रयास करने चाहिए ताकि लोगों का जीवन समुन्नत हो। कोई नीति पितृसत्तावादी है यदि वह लोगों के अपने निर्णय की दृष्टि में उनका जीवन समुन्नत बनाने के लिए चयनकर्ताओं के चयन को प्रभावित करने का प्रयास करती है। यह एक तथ्य है कि लोग प्रायः अत्यन्त बुरे निर्णय करते हैं। यदि लोग पूरा ध्यान देते, उनके पास सम्पूर्ण सूचनाएँ होती, असीमित संज्ञानात्मक क्षमताएँ होती और सम्पूर्ण आत्म-नियंत्रण होता, तो वे ऐसे निर्णय नहीं करते। फिर भी स्वेच्छातंत्रीय पितृसत्तावाद एक अपेक्षतया निर्बल, नरम और अंतर्विधितारहित प्रकार का पितृसत्तावाद है क्योंकि यह लोगों को बुरे निर्णय लेने से नहीं रोकता है।

The focus of the passage is on

गद्यांश का केन्द्रीय विचार-बिन्दु निम्न है-

[Question ID = 615][Question Description = 150_00_General_23_SEPT22_Q50]

1. The opposition to libertarian paternalism

स्वेच्छातंत्रीय पितृसत्तावाद का विरोध

[Option ID = 2457]

2. The unlimited cognitive abilities of individuals.

लोगों की असीमित संज्ञानात्मक क्षमताएँ

[Option ID = 2458]

3. The freedom of choices for a better society.

एक बेहतर समाज के लिए चयन की स्वतंत्रता

[Option ID = 2459]

4. The need to ignore the defects of libertarian paternalism.

स्वेच्छातंत्रीय पितृसत्तावाद की कमियों की उपेक्षा करने की आवश्यकता

[Option ID = 2460]

