

PREVIEW QUESTION BANK(Dual)

Module Name : Indian Knowledge System
Exam Date : 20-Jun-2023 Batch : 15:00-18:00

Sr. No.	Client Question ID	Question Body and Alternatives	Marks	Negativ Marks																																																		
Objective Question																																																						
1	2051	<p>Consider the following table which contains number of newspapers printed (within bracket) in each printing press and number of newspaper distributed in a day in a particular city. Based on the data in the table, answer the question that follows.</p> <table border="1"> <thead> <tr> <th>Newspaper/City</th> <th>Newspaper (W) (500)</th> <th>Newspaper (Y) (10000)</th> <th>Newspaper (y) (10000)</th> <th>Newspaper (Z) (5000)</th> </tr> </thead> <tbody> <tr> <td>City 1</td> <td>1500</td> <td>3000</td> <td>35000</td> <td>1000</td> </tr> <tr> <td>City 2</td> <td>1000</td> <td>3500</td> <td>3000</td> <td>1000</td> </tr> <tr> <td>City 3</td> <td>500</td> <td>1500</td> <td>1500</td> <td>500</td> </tr> <tr> <td>City 4</td> <td>500</td> <td>1000</td> <td>500</td> <td>1500</td> </tr> </tbody> </table> <p>What is the ratio between total number distributed newspapers W and total number distributed newspapers Z?</p> <p>1. 7:8 2. 8:9 3. 6:7 4. 4:5</p> <p>निम्नांकित तालिका का अध्ययन करें, जिसमें किसी एक शहर में एक दिन में आवंटित समाचार-पत्रों की संख्या तथा प्रत्येक मुद्रणालय में मुद्रित समाचार पत्रों की संख्या (कोष्ठक में) दी गयी है। आंकड़ों के आधार पर (तालिकानुसार) प्रश्न का उत्तर दीजिए :</p> <table border="1"> <thead> <tr> <th>समाचार-पत्र/शहर</th> <th>समाचार-पत्र W (5000)</th> <th>समाचार-पत्र X (10000)</th> <th>समाचार-पत्र Y (10000)</th> <th>समाचार-पत्र Z (5000)</th> </tr> </thead> <tbody> <tr> <td>शहर-1</td> <td>1500</td> <td>3000</td> <td>3500</td> <td>1000</td> </tr> <tr> <td>शहर-2</td> <td>1000</td> <td>3500</td> <td>3000</td> <td>1000</td> </tr> <tr> <td>शहर-3</td> <td>500</td> <td>1500</td> <td>1500</td> <td>500</td> </tr> <tr> <td>शहर-4</td> <td>500</td> <td>1000</td> <td>500</td> <td>1500</td> </tr> </tbody> </table> <p>आवंटित समाचार-पत्र W की कुल संख्या और आवंटित समाचार-पत्र Z की कुल संख्या के बीच अनुपात क्या है ?</p> <p>1. 7:8 2. 8:9 3. 6:7 4. 4:5</p> <p>A1 : 1 1 A2 : 2</p>	Newspaper/City	Newspaper (W) (500)	Newspaper (Y) (10000)	Newspaper (y) (10000)	Newspaper (Z) (5000)	City 1	1500	3000	35000	1000	City 2	1000	3500	3000	1000	City 3	500	1500	1500	500	City 4	500	1000	500	1500	समाचार-पत्र/शहर	समाचार-पत्र W (5000)	समाचार-पत्र X (10000)	समाचार-पत्र Y (10000)	समाचार-पत्र Z (5000)	शहर-1	1500	3000	3500	1000	शहर-2	1000	3500	3000	1000	शहर-3	500	1500	1500	500	शहर-4	500	1000	500	1500		
Newspaper/City	Newspaper (W) (500)	Newspaper (Y) (10000)	Newspaper (y) (10000)	Newspaper (Z) (5000)																																																		
City 1	1500	3000	35000	1000																																																		
City 2	1000	3500	3000	1000																																																		
City 3	500	1500	1500	500																																																		
City 4	500	1000	500	1500																																																		
समाचार-पत्र/शहर	समाचार-पत्र W (5000)	समाचार-पत्र X (10000)	समाचार-पत्र Y (10000)	समाचार-पत्र Z (5000)																																																		
शहर-1	1500	3000	3500	1000																																																		
शहर-2	1000	3500	3000	1000																																																		
शहर-3	500	1500	1500	500																																																		
शहर-4	500	1000	500	1500																																																		

2
A3 : 3
3
A4 : 4
4

Objective Question

2 2052

Consider the following table which contains number of newspapers printed (within bracket) in each printing press and number of newspaper distributed in a day in a particular city. Based on the data in the table, answer the question that follows.

Newspaper/City	Newspaper (W) (500)	Newspaper (Y) (10000)	Newspaper (y) (10000)	Newspaper (Z) (5000)
City 1	1500	3000	35000	1000
City 2	1000	3500	3000	1000
City 3	500	1500	1500	500
City 4	500	1000	500	1500

What is the percentage of Newspaper Y distribution with total distribution?

1. 33%
2. 37%
3. 34%
4. 35%

निम्नांकित तालिका का अध्ययन करें, जिसमें किसी एक शहर में एक दिन में आवंटित समाचार-पत्रों की संख्या तथा प्रत्येक मुद्रणालय में मुद्रित समाचार-पत्रों की संख्या (कोष्ठक में) दी गयी है। आंकड़ों के आधार पर (तालिकानुसार) प्रश्न का उत्तर दीजिए :

समाचार-पत्र/शहर	समाचार-पत्र W (5000)	समाचार-पत्र X (10000)	समाचार-पत्र Y (10000)	समाचार-पत्र Z (5000)
शहर-1	1500	3000	3500	1000
शहर-2	1000	3500	3000	1000
शहर-3	500	1500	1500	500
शहर-4	500	1000	500	1500

समाचारपत्र Y का आवंटन कुल आवंटन का कितना प्रतिशत है ?

1. 33%
2. 37%
3. 34%
4. 35%

A1 : 1
1
A2 : 2
2
A3 : 3
3
A4 : 4
4

Objective Question

3 2053

Consider the following table which contains number of newspapers printed (within bracket) in each printing press and number of newspaper distributed in a day in a particular city. Based on the data in the table, answer the question that follows.

Newspaper/City	Newspaper (W) (500)	Newspaper (Y) (10000)	Newspaper (y) (10000)	Newspaper (Z) (5000)
City 1	1500	3000	35000	1000
City 2	1000	3500	3000	1000
City 3	500	1500	1500	500
City 4	500	1000	500	1500

Which newspaper has highest distribution?

1. Newspaper Z
2. Newspaper W
3. Newspaper Y
4. Newspaper X

निम्नांकित तालिका का अध्ययन करें, जिसमें किसी एक शहर में एक दिन में आवंटित समाचार-पत्रों की संख्या तथा प्रत्येक मुद्रणालय में मुद्रित समाचार-पत्रों की संख्या (कोष्ठक में) दी गयी है। आंकड़ों के आधार पर (तालिकानुसार) प्रश्न का उत्तर दीजिए :

समाचार-पत्र/शहर	समाचार-पत्र W (5000)	समाचार-पत्र X (10000)	समाचार-पत्र Y (10000)	समाचार-पत्र Z (5000)
शहर-1	1500	3000	3500	1000
शहर-2	1000	3500	3000	1000
शहर-3	500	1500	1500	500
शहर-4	500	1000	500	1500

किस समाचारपत्र का आवंटन सर्वाधिक है ?

1. समाचारपत्र Z
2. समाचारपत्र W
3. समाचारपत्र Y
4. समाचारपत्र X

A1
:

1

1

A2
:

2

2

A3
:

3

3

A4
:

4

4

Objective Question

4 2054

Consider the following table which contains number of newspapers printed (within bracket) in each printing press and number of newspaper distributed in a day in a particular city. Based on the data in the table, answer the question that follows.

Newspaper/City	Newspaper (W) (500)	Newspaper (Y) (10000)	Newspaper (y) (10000)	Newspaper (Z) (5000)
City 1	1500	3000	35000	1000
City 2	1000	3500	3000	1000
City 3	500	1500	1500	500
City 4	500	1000	500	1500

What is the percentage of the newspapers which are not distributed to any city?

1. ~ 15.2
2. ~ 16.7
3. ~ 17.7
4. ~ 14.7

निम्नांकित तालिका का अध्ययन करें, जिसमें किसी एक शहर में एक दिन में आवंटित समाचार-पत्रों की संख्या तथा प्रत्येक मुद्रणालय में मुद्रित समाचार-पत्रों की संख्या (कोष्ठक में) दी गयी है। आंकड़ों के आधार पर (तालिकानुसार) प्रश्न का उत्तर दीजिए :

समाचार-पत्र/शहर	समाचार-पत्र W (5000)	समाचार-पत्र X (10000)	समाचार-पत्र Y (10000)	समाचार-पत्र Z (5000)
शहर-1	1500	3000	3500	1000
शहर-2	1000	3500	3000	1000
शहर-3	500	1500	1500	500
शहर-4	500	1000	500	1500

किसी भी शहर में आवंटित नहीं किए गए समाचार-पत्रों की प्रतिशतता क्या है ?

1. ~ 15.2
2. ~ 16.7
3. ~ 17.7
4. ~ 14.7

A1
:

1

A2
:

2

A3
:

3

A4
:

4

Objective Question

5 2055

Consider the following table which contains number of newspapers printed (within bracket) in each printing press and number of newspaper distributed in a day in a particular city. Based on the data in the table, answer the question that follows.

Newspaper/City	Newspaper (W) (500)	Newspaper (Y) (10000)	Newspaper (y) (10000)	Newspaper (Z) (5000)
City 1	1500	3000	35000	1000
City 2	1000	3500	3000	1000
City 3	500	1500	1500	500
City 4	500	1000	500	1500

What is the average number of newspapers distributed in each city?

1. 6200
2. 6250
3. 1200
4. 6230

निम्नांकित तालिका का अध्ययन करें, जिसमें किसी एक शहर में एक दिन में आवंटित समाचार-पत्रों की संख्या तथा प्रत्येक मुद्रणालय में मुद्रित समाचार-पत्रों की संख्या (कोष्ठक में) दी गयी है। आंकड़ों के आधार पर (तालिकानुसार) प्रश्न का उत्तर दीजिए :

समाचार-पत्र/शहर	समाचार-पत्र W (5000)	समाचार-पत्र X (10000)	समाचार-पत्र Y (10000)	समाचार-पत्र Z (5000)
शहर-1	1500	3000	3500	1000
शहर-2	1000	3500	3000	1000
शहर-3	500	1500	1500	500
शहर-4	500	1000	500	1500

प्रत्येक शहर में आवंटित समाचार-पत्रों की औसत संख्या क्या है ?

1. 6200
2. 6250
3. 1200
4. 6230

A1
:

1

A2
:

2

A3
:

3

A4
:

4

Objective Question

6 2056

Teachers use Mnemonics strategies for students to engage in

1. Scientific inquiry
2. Memorizing and assimilating information
3. Testing of hypothesis
4. Problem solving and writing activities

शिक्षक विद्यार्थियों को निम्नलिखित में से किस में संलग्न करने के लिए 'स्मृति विज्ञान' रणनीतियों का प्रयोग करते हैं ?

1. विज्ञान-परक जांच
2. सूचना को स्मरण और आत्मसात करना
3. प्राक्कलनों का परीक्षण
4. समस्या हल करना और लेखन गतिविधियां

A1
:

1

A2
:

2

A3
:

3

A4
:

4

Objective Question

7 2057

Given below are two statements:

Statement I: To teach a concept to students, its defining attributes have to be very clear.

Statement II: Concepts defined by the presence of one or more attributes are called disjunctive concepts.

In the light of the above statements, choose the correct answer from the options Given below:

1. Both Statement I and Statement II are true
2. Both Statement I and Statement II are false
3. Statement I is true but Statement II is false
4. Statement I is false but Statement II is true

नीचे दो कथन दिए गए हैं:

कथन I : विद्यार्थियों को किसी संकल्पना के अध्यापन के लिए, इसके परिभाषी गुण अत्यधिक स्पष्ट होने चाहिए ।

कथन II : एक या अधिक गुणों की उपस्थिति से परिभाषित संकल्पनाओं को वियोजक संकल्पनाएं कहा जाता है ।

उपरोक्त कथन के आलोक में, नीचे दिये गये विकल्पों में से सही उत्तर का चयन कीजिए :

1. कथन I और II दोनों सत्य है
2. कथन I और II दोनों असत्य है
3. कथन I सत्य है, लेकिन कथन II असत्य है
4. कथन I असत्य है, लेकिन कथन II सत्य है

A1
:

1

A2
:

2

A3
:

3

A4
:

4

Objective Question

8 2058 In the context of Special Needs Education, identify the ICT tools from the following:

- A. Braille
- B. Flash discs
- C. Head wands
- D. Text magnifier
- E. Popplet

Choose the correct answer from the options given below:

- 1. B, C, E only
- 2. A, C, E only
- 3. A, B, E only
- 4. A, C, D only

विशेष आवश्यकता शिक्षा के संदर्भ में, निम्नलिखित में से आई सी टी उपकरणों की पहचान कीजिए :

- A. ब्रेल
- B. फ्लैश डिस्क
- C. हेड वैंड्स
- D. टेक्स्ट मैग्निफायर
- E. पॉप्लेट

नीचे दिए गए विकल्पों में से सही उत्तर का चयन कीजिए:

- 1. केवल B, C, E
- 2. केवल A, C, E
- 3. केवल A, B, E
- 4. केवल A, C, D

A1

:

1

A2

:

2

A3

:

3

A4

:

4



Objective Question

9 2059 In a learner centered teaching environment students

- A. actively participate in their own learning.
- B. are passive listeners.
- C. are considered as having similar abilities.
- D. make decision about what and how they will learn.

Choose the correct answer from the options given below:

- 1. A and C only
- 2. A, B and C only
- 3. A, C and D only
- 4. A and D only

शिक्षार्थी-केन्द्रित शिक्षण परिवेश में विद्यार्थी

- अपने स्वयं के अधिगम में सक्रिय रूप से सहभागिता करते हैं।
- निष्क्रिय श्रोता होते हैं।
- माना जाता है कि उनमें समान योग्यताएं हैं।
- वे निर्णय करते हैं कि वे क्या और कैसे सीखेंगे।

नीचे दिए गए विकल्पों में से सबसे उपयुक्त उत्तर का चयन कीजिए:

- केवल A और C
- केवल A, B और C
- केवल A, C और D
- केवल A और D

A1

:

1

A2

:

2

A3

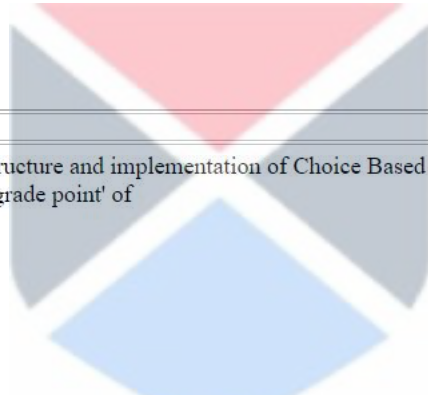
:

3

A4

:

4



Objective Question

10 2060

According to UGC guidelines on structure and implementation of Choice Based Credit System (CBCS), the letter grade 'B' obtained by student in a course corresponds to 'grade point' of

- 4
- 5
- 6
- 7

च्वाइस बेस्ड क्रेडिट सिस्टम (सीबीसीएस) की संरचना और कार्यान्वयन संबंधी दिशा-निर्देशों के अनुसार, किसी पाठ्यक्रम में एक छात्र द्वारा प्राप्त ग्रेड 'B' 'ग्रेड पॉइंट' में निम्नलिखित में से किसके अनुरूप है ?

- 4
- 5
- 6
- 7

A1

:

1

A2

:

2

A3

:

3

A4

:

4

Objective Question

11 2061

Which research method is to used to identify cause-effect relations and test possible explanations for effects?

1. Correlational
2. Ethnography
3. Case studies
4. Experimental

कार्य-कारण संबंधों की पहचान करने के लिए और प्रभावों की संभव व्याख्याओं की जाँच करने के लिए किस शोध पद्धति का प्रयोग करना चाहिए ?

1. सहसंबंधात्मक
2. नृजाति वर्णन
3. प्रकरण (केस) अध्ययन
4. प्रायोगिक

A1

:

1

A2

:

2

A3

:

3

A4

:

4

Objective Question

12 2062

To conduct a research based on an in-depth study of ten classrooms, select the classes with fewest behavior problems, then expose how teachers in those classes established a positive learning climate by interviewing teachers and students and analyzing video made at the beginning of school session, which research method is to be selected for this purpose?

1. Correlational
2. Mixed methods
3. Experimental
4. Ethnography

दस कक्षाओं के गहन अध्ययन पर आधारित शोध करने के लिए उन कक्षाओं का चयन करें जिनमें आचरण की न्यूनतम समस्याएँ हों। फिर शिक्षकों और विद्यार्थियों से साक्षात्कार करके और विद्यालय सत्र के प्रारंभ में बनाए गए वीडियो टेपों का विश्लेषण करके अन्वेषण करें कि उन कक्षाओं के शिक्षकों ने किस प्रकार में सकारात्मक अधिगम परिवेश बनाया। इस उद्देश्य के लिए किस शोध पद्धति का प्रयोग करना चाहिए ?

1. सहसंबंधात्मक
2. मिश्रित पद्धतियाँ
3. प्रायोगिक
4. नृजाति वर्णन

A1

:

1

A2

:

2

A3

:

3

A4

:

4

Objective Question

13 2063

Which among the following are the forms of realism in the context of research?

- A. Empirical
- B. Critical
- C. Semiotics
- D. Ordinal

Choose the correct answer from the options given below:

- 1. A and B only
- 2. B and C only
- 3. C and D only
- 4. A and C only

निम्नलिखित में से कौन-से यथार्थवाद के रूप हैं?

- A. आनुभविक
- B. आलोचनात्मक
- C. संकेतविज्ञान
- D. क्रमवाचक

नीचे दिए गए विकल्पों में से सबसे उपयुक्त उत्तर का चयन कीजिए:

- 1. केवल A और B
- 2. केवल B और C
- 3. केवल C और D
- 4. केवल A और C

A1

:

1

A2

:

2

A3

:

3

A4

:

4



Objective Question

14 2064

Given below are two statements:

Statement I: The ethics committee does not ask the researchers to indicate whether their research entails certain procedures or activities which are often derived from professional guidelines.

Statement II: Ethical issues can not and do not arise at all stages of a research process.

In the light of the above statements, choose the most appropriate answer from the options given below:

- 1. Both Statement I and Statement II are correct
- 2. Both Statement I and Statement II are incorrect
- 3. Statement I is correct but Statement II is incorrect
- 4. Statement I is incorrect but Statement II is correct

नीचे दो कथन दिए गए हैं:

कथन I : आचारनीति समिति शोधकर्ताओं को यह बताने को नहीं कहती है कि उनके शोध में वैसी प्रक्रियाएँ या कार्यकलाप हैं या नहीं जो प्रायः व्यावसायिक दिशानिर्देशों से व्युत्पन्न होते हैं।

कथन II : एक शोध प्रक्रिया के सभी चरणों में नैतिक समस्याएँ नहीं आ सकती हैं और न ही आती हैं।

उपरोक्त कथन के आलोक में, नीचे दिये गये विकल्पों में से सबसे उपयुक्त उत्तर का चयन कीजिए :

1. कथन I और II दोनों सही हैं
2. कथन I और II दोनों गलत हैं
3. कथन I सही है, लेकिन कथन II गलत है
4. कथन I गलत है, लेकिन कथन II सही है

A1
:

1

A2
:

2

A3
:

3

A4
:

4

Objective Question

15 2065

Which among the following softwares are used for data analysis in research?

- A. SPSS
- B. Microsoft Teams
- C. Microsoft Excel
- D. Prezi
- E. PSPP

Choose the correct answer from the options given below:

1. A, B, C only
2. A, C, E only
3. B, D, E only
4. C, D, E only

शोध में दत्त विश्लेषण के लिए निम्नलिखित में से किस सॉफ्टवेयर का प्रयोग किया जाता है ?

- A. एसपीएसएस (SPSS)
- B. माइक्रोसॉफ्ट टीमस
- C. माइक्रोसॉफ्ट एक्सेल
- D. प्रेजी (Prezi)
- E. पीएसपीपी (PSPP)

नीचे दिए गए विकल्पों में से सही उत्तर का चयन कीजिए:

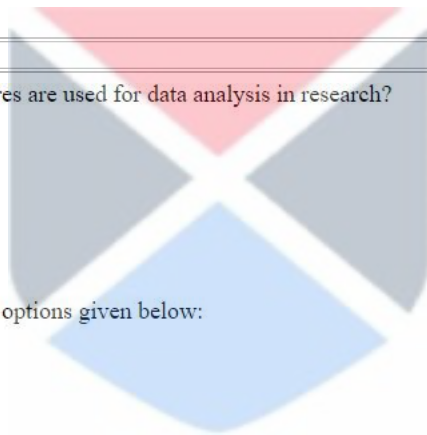
1. केवल A, B, C
2. केवल A, C, E
3. केवल B, D, E
4. केवल C, D, E

A1
:

1

A2
:

2



2
A3 3
:
3
A4 4
:
4

Objective Question

16 2066 In communication, personal meaning of information tends to be

1. Critical
2. Passive
3. Objective
4. Subjective

सम्प्रेषण में, सूचना का वैयक्तिक अर्थ प्रवृत्त होता है

1. आलोचनात्मक
2. निष्क्रिय
3. वस्तुनिष्ठ
4. व्यक्तिनिष्ठ

A1 1
:
1
A2 2
:
2
A3 3
:
3
A4 4
:
4



Objective Question

17 2067 which of the following are essential for successful classroom communication?

- A. Define the purpose
- B. Opt for pretensions
- C. Use un-risky humour
- D. Avoid rehearsals
- E. Repeat speech-tags

Choose the correct answer from the options given below:

1. A, C and E only
2. B, C and D only
3. C, D and E only
4. A, B and D only

निम्नांकित में कौन सफल कक्षागत संवाद हेतु आवश्यक हैं ?

- उद्देश्य निर्धारित करना
- आत्मप्रदर्शन का चयन
- जोखिम रहित हास्य का प्रयोग
- पूर्वाभ्यास से बचना
- वाक्-उद्धरणों की पुनरावृत्ति

नीचे दिए गए विकल्पों में से सही उत्तर का चयन कीजिए:

- केवल A, C और E
- केवल B, C और D
- केवल C, D और E
- केवल A, B और D

A1
:

1

A2
:

2

A3
:

3

A4
:

4

Objective Question

18 2068

Given below are two statements:

Statement I: Sometimes effects of communication are simple and direct.

Statement II: Depending upon the context, effects of communication many times are complex and convoluted.

In the light of the above statements, choose the correct answer from the options Given below:

- Both Statement I and Statement II are true
- Both Statement I and Statement II are false
- Statement I is true but Statement II is false
- Statement I is false but Statement II is true

नीचे दो कथन दिए गए हैं:

कथन I : कभी-कभी सम्प्रेषण के प्रभाव सरल एवं प्रत्यक्ष होते हैं ।

कथन II : सन्दर्भ के आधार पर, सम्प्रेषण के प्रभाव बहुधा जटिल एवं संवलित होते हैं ।

उपरोक्त कथन के आलोक में, नीचे दिये गये विकल्पों में से सही उत्तर का चयन कीजिए :

- कथन I और II दोनों सत्य है
- कथन I और II दोनों असत्य है
- कथन I सत्य है, लेकिन कथन II असत्य है
- कथन I असत्य है, लेकिन कथन II सत्य है

A1
:

1

A2
:

2

2
A3 : 3
3
A4 : 4
4

Objective Question

19 2069

The correct sequence of following models of communication is

- A. Linear model
- B. Helical model
- C. Aristotelian model
- D. Circular model

Choose the correct answer from the options given below:

- 1. A, B, C, D
- 2. C, A, D, B
- 3. B, D, A, C
- 4. D, A, C, B

निम्नांकित सम्प्रेषण के प्रतिरूपों की सही श्रृंखला है :

- A. रैखिक प्रतिरूप
- B. कुण्डलीय प्रतिरूप
- C. अरस्तू प्रतिरूप
- D. वृत्ताकार प्रतिरूप

नीचे दिए गए विकल्पों में से सही उत्तर का चयन कीजिए:

- 1. A, B, C, D
- 2. C, A, D, B
- 3. B, D, A, C
- 4. D, A, C, B

A1 : 1
1
A2 : 2
2
A3 : 3
3
A4 : 4
4



Objective Question

20 2070

Match List I with List II

LIST I (Communication context)		LIST II (Characteristic)	
A. Physical	I.	Deals with status relationship	
B. Cultural	II.	Message's position within a sequence of events	
C. Socio-Psychological	III.	Tangible environment	
D. Temporal	IV.	Involves values	

Choose the correct answer from the options given below:

1. A-I, B-III, C-IV, D-II
2. A-II, B-III, C-IV, D-I
3. A-III, B-IV, C-I, D-II
4. A-IV, B-I, C-II, D-III

सूची I का सूची II से मिलान कीजिए

सूची I (समोपण-सन्दर्भ)		सूची II (विशेषताएँ)	
A. भौतिक	I.	प्रतिष्ठा-सम्बन्ध से व्यवहार करता है	
B. सांस्कृतिक	II.	घटनाओं की श्रृंखलान्तर्गत सन्देश की स्थिति	
C. सामाजिक-मनोवैज्ञानिक	III.	मूर्त वातावरण	
D. कालसूचक	IV.	मूल्यों को सम्मिलित करता है।	

निम्नलिखित विकल्पों में से सही उत्तर का चयन कीजिए :

1. A-I, B-III, C-IV, D-II
2. A-II, B-III, C-IV, D-I
3. A-III, B-IV, C-I, D-II
4. A-IV, B-I, C-II, D-III

A1

:

1

A2

:

2

A3

:

3

A4

:

4



Objective Question

21 2071

Consider following sums of fractions:

A. $\frac{16}{19} + \frac{1}{4}$

B. $\frac{11}{14} + \frac{1}{5}$

C. $\frac{19}{21} + \frac{1}{3}$

Choose the correct ascending order of above sums of fractions from the following options:

1. A < B < C
2. B < A < C
3. A < C < B
4. C < A < B

भिन्नो के निम्नांकित योगफलों पर विचार करें :

A. $\frac{16}{19} + \frac{1}{4}$

B. $\frac{11}{14} + \frac{1}{5}$

C. $\frac{19}{21} + \frac{1}{3}$

निम्नांकित विकल्पों में से उपर्युक्त भिन्नो के योगफलों के आरोही क्रम का चयन कीजिए :

1. $A < B < C$
2. $B < A < C$
3. $A < C < B$
4. $C < A < B$

A1
:

1

A2
:

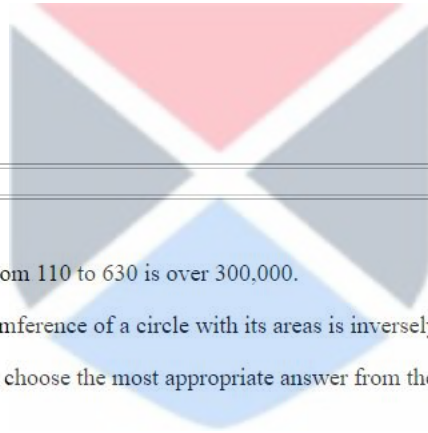
2

A3
:

3

A4
:

4



Objective Question

22 2072

Given below are two statements:

Statement I: The sum of integers from 110 to 630 is over 300,000.

Statement II: The ratio of the circumference of a circle with its areas is inversely proportional to its diameter.

In the light of the above statements, choose the most appropriate answer from the options given below:

1. Both Statement I and Statement II are correct
2. Both Statement I and Statement II are incorrect
3. Statement I is correct but Statement II is incorrect
4. Statement I is incorrect but Statement II is correct

नीचे दो कथन दिए गए हैं

कथन I : 110 से 630 तक के पूर्णांकों का योगफल 300,000 से अधिक है।

कथन II : किसी वृत्त की परिधि का उसके क्षेत्रफल से अनुपात उसके व्यास के व्युत्क्रमानुपाती होता है।

उपरोक्त कथन के आलोक में, नीचे दिये गये विकल्पों में से सबसे उपयुक्त उत्तर का चयन कीजिए :

1. कथन I और II दोनों सही है
2. कथन I और II दोनों गलत है
3. कथन I सही है, लेकिन कथन II गलत है
4. कथन I गलत है, लेकिन कथन II सही है

A1
:

1

A2
:

2

A3 3
:
3
A4 4
:
4

Objective Question

23 2073

Witch letter completes this sequence?

A B D O P Q ?

1. T
2. S
3. Z
4. R

इस श्रेणी को कौनसा वर्ण पूरा करता है ?

A B D O P Q ?

1. T
2. S
3. Z
4. R

A1 1
:

1

A2 2
:

2

A3 3
:

3

A4 4
:

4



Objective Question

24 2074

A watch, which gains 5 seconds every 3 minutes, is set right at 8 AM. In the afternoon the same day, when the faulty watch indicates 5:1 the actual time is.

1. 6 PM
2. 5:30 PM
3. 5:00 PM
4. 5:05 PM

एक घड़ी, जो प्रति 3 मिनट पर 5 सेकेंड आगे हो जाती है, को 8 बजे पूर्वाह्न में ठीक किया जाता है। उसी दिन दोपहर में जब वह खराब घड़ी 5:15 दर्शा है तो सही समय क्या है ?

1. शाम के 6 बजे
2. शाम के 5.30 बजे
3. शाम के 5 बजे
4. शाम के 5.05 बजे

A1 1
:

1

A2 2
:
2
A3 3
:
3
A4 4
:
4

Objective Question

25 2075

A bus takes two hours less for a journey of 300 km, if its speed is increased by 5 km/hr from its normal speed. The normal speed is.

1. 20 km/hr
2. 25 km/hr
3. 35 km/hr
4. 50 km/hr

अगर किसी बस की सामान्य गति से 5 कि.मी./घंटा की वृद्धि की जाती है तो यह 300 कि.मी. की यात्रा के लिए 2 घंटे कम का समय लेती है। तो उसकी सामान्य गति क्या है ?

1. 20 कि.मी./घंटा
2. 25 कि.मी./घंटा
3. 35 कि.मी./घंटा
4. 50 कि.मी./घंटा

A1 1
:
1
A2 2
:
2
A3 3
:
3
A4 4
:
4



Objective Question

26 2076

Given below are two statements:

Statement I: According to Nyāya philosophy, the middle term (hetu or linga) must be found in the minor term (pakṣa) in a case of inference.

Statement II: According to Nyāya philosophy the middle term should not be found anywhere where Sādhyā or major term is not found.

In the light of the above statements, choose the most appropriate answer from the options given below:

1. Both Statement I and Statement II are correct
2. Both Statement I and Statement II are incorrect
3. Statement I is correct but Statement II is incorrect
4. Statement I is incorrect but Statement II is correct

नीचे दो कथन दिए गए हैं:

कथन I : न्याय दर्शन के अनुसार अनुमान की स्थिति में गौण पद (पक्ष) में मध्य पद (हेतु) का पाया जाना आवश्यक है ।

कथन II : न्याय दर्शन के अनुसार जहाँ साध्य अथवा मुख्य पद नहीं पाया जाता है वहाँ मध्य पद (हेतु) भी नहीं पाया जाना चाहिए ।

उपरोक्त कथन के आलोक में, नीचे दिये गये विकल्पों में से सबसे उपयुक्त उत्तर का चयन कीजिए :

1. कथन I और II दोनों सही है
2. कथन I और II दोनों गलत है
3. कथन I सही है, लेकिन कथन II गलत है
4. कथन I गलत है, लेकिन कथन II सही है

A1
:

1

A2
:

2

A3
:

3

A4
:

4

Objective Question

27 2077

"Mr. Quintal has argued that logic is not the most important thing in life. Apparently Mr. Quintal advocates irrationality. It has taken two million years for the human race to achieve the position that it has and Mr. Quintal would throw the whole thing into garbage:"

Which fallacy is committed in this arguments?

1. Slippery slope
2. Strawman
3. Red herring
4. Hasty generalization

"मिस्टर क्विंटल ने तर्क दिया है कि जीवन में सर्वाधिक महत्वपूर्ण वस्तु तर्कशास्त्र नहीं है । ऐसा प्रतीत होता है कि मिस्टर क्विंटल अबुद्धिमत्ता का समर्थन करते हैं । मानव प्रजाति के पास जो कुछ भी है उसे पाने में उसे बीस लाख वर्ष लगे हैं और मिस्टर क्विंटल उस सम्पूर्ण उपलब्धि को कचरे में फेंक देते हैं।"

यहाँ कौन-सा हेत्वाभास है ?

1. फिसलनयुक्त ढलान (स्लिपरी स्लोप)
2. स्ट्रॉ मैन
3. भ्रामक संकेत (रेड हेरिंग)
4. अविचारित सामान्यीकरण (हेस्टी जेनेरलाइजेशन)

A1
:

1

A2
:

2

A3
:

3

A4
:

4

Objective Question

28 2078

Given below are two statements:

Statement I: Formal fallacies are those that can be detected only through analysis of the content of the arguments.

Statement II: Formal fallacies pertain to deductive arguments that have identifiable forms.

In the light of the above statements, choose the most appropriate answer from the options given below:

1. Both Statement I and Statement II are correct
2. Both Statement I and Statement II are incorrect
3. Statement I is correct but Statement II is incorrect
4. Statement I is incorrect but Statement II is correct

नीचे दो कथन दिए गए हैं

कथन I : आकारिक तर्कदोष वे हैं, जिनकी परख तर्क की विषय-वस्तु के विश्लेषण द्वारा ही की जा सकती है।

कथन II : आकारिक तर्कदोष पहचान योग्य आकार के निगमनात्मक तर्कों से संबंधित हैं।

उपरोक्त कथन के आलोक में, नीचे दिये गये विकल्पों में से सबसे उपयुक्त उत्तर का चयन कीजिए :

1. कथन I और II दोनों सही है
2. कथन I और II दोनों गलत है
3. कथन I सही है, लेकिन कथन II गलत है
4. कथन I गलत है, लेकिन कथन II सही है

A1

:

1

A2

:

2

A3

:

3

A4

:

3

A4

:

4

4



Objective Question

29 2079

The collection of all the objects to which a term may correctly be applied is called?

- A. The intension of that term
- B. Connotation of that term
- C. The extension of that term
- D. Denotation of that term

Choose the correct answer from the options given below:

1. A and B only
2. A and D only
3. B and C only
4. C and D only

समस्त पदार्थों का संकलन जिसके लिए एक सही पद प्रयोग किया जा सकता है, कहलाता है :

- A. पद का गुणार्थ (इन्टेंशन)
- B. पद का सम्बुक्तार्थ (कोनोटेशन)
- C. पद की व्याप्ति (एक्सटेंशन)
- D. पद का वस्त्वर्थ (डिनोटेशन)

नीचे दिए गए विकल्पों में से सही उत्तर का चयन कीजिए:

1. केवल A और B
2. केवल A और D
3. केवल B और C
4. केवल C और D

A1

:

1

A2

:

2

A3

:

3

A4

:

4

Objective Question

30 2080

A farmer sees the water level of river rising rapidly from that he concludes that it must have rained heavily upon the hills. Which of the instruments of knowledge is used in this example?

1. Perception (Pratyakṣa)
2. Inference (Anumāna)
3. Comparison (Upamāna)
4. Extra-ordinary perception (aulaukika Pratyakṣa)

एक कृषक तीव्रता से वर्धमान नदी के जलस्तर को देखता है जिससे वह निष्कर्ष निकालता है कि पहाड़ों पर भारी बारिश हुई होगी। इस उदाहरण में ज्ञ के किस साधन का प्रयोग हुआ है ?

1. प्रत्यक्ष
2. अनुमान
3. उपमान
4. अलौकिक-प्रत्यक्ष

A1

:

1

A2

:

2

A3

:

3

A4

:

4

Objective Question

31 2081

Which of the following are strengths of computer?

- A. Speed
- B. Accuracy
- C. Reliability
- D. Policy making

Choose the correct answer from the options given below:

- 1. B and D only
- 2. B, C only
- 3. A, B, C only
- 4. B, C, D only

निम्नांकित में से कौन कम्प्यूटर की ताकतें हैं ?

- A. गति
- B. सटीकता
- C. विश्वसनीयता
- D. नीति निर्माण

नीचे दिए गए विकल्पों में से सही उत्तर का चयन कीजिए:

- 1. केवल B और D
- 2. केवल B और C
- 3. केवल A, B और C
- 4. केवल B, C और D

A1
:

1

A2
:

2

A3
:

3

A4
:

4



Objective Question

32 2082

MIDI stands for:

- 1. Multimedia Interface Data Interchange
- 2. Musical Instrument Digital Interface
- 3. Multi Interface Data Input
- 4. Media Interchange for Data Interface

एम.आई.डी.आई. का मतलब है ?

- 1. मल्टीमीडिया इंटरफेस डेटा इंटरचेंज
- 2. म्यूजिकल इंस्ट्रुमेंट डिजिटल इंटरफेस
- 3. मल्टी इंटरफेस डेटा इनपुट
- 4. मीडिया इंटरचेंज फॉर डेटा इंटरफेस

A1
:

1

1
A2 2
:
2
A3 3
:
3
A4 4
:
4

Objective Question

33 2083

Given below are two statements:

Statement I: A hardware engineer is responsible for the planning, implementation, configuration and administration of database management system.

Statement II: A network administrator is responsible for managing and maintaining an organization's Local Area Network (LAN).

In the light of the above statements, choose the correct answer from the options Given below:

1. Both Statement I and Statement II are true
2. Both Statement I and Statement II are false
3. Statement I is true but Statement II is false
4. Statement I is false but Statement II is true

नीचे दो कथन दिए गए हैं:

कथन I : एक हार्डवेयर अभियन्ता, डेटाबेस मैनेजमेंट सिस्टम की योजना, क्रियान्वयन, विन्यास और प्रशासन के लिए उत्तरदायी होता है।

कथन II : एक नेटवर्क एडमिनिस्ट्रेटर एक संगठन के लोकल एरिया नेटवर्क (लैन) की व्यवस्था एवं अनुरक्षण हेतु उत्तरदायी होता है।

उपरोक्त कथन के आलोक में, नीचे दिये गये विकल्पों में से सही उत्तर का चयन कीजिए :

1. कथन I और II दोनों सत्य हैं
2. कथन I और II दोनों असत्य हैं
3. कथन I सत्य है, लेकिन कथन II असत्य है
4. कथन I असत्य है, लेकिन कथन II सत्य है

A1 1
:
1
A2 2
:
2
A3 3
:
3
A4 4
:
4

Objective Question

34 2084

Which of the following statements are true?

- A. The CPU can store the data for a long time.
- B. Increasing the amount of RAM will increase the performance of computer.
- C. RAM is known as 'volatile' memory.
- D. ROM is processing unit.
- E. CPU is known as the brain of the computer.

Choose the correct answer from the options given below:

- 1. B, C, and E only
- 2. A, C, and D only
- 3. A, D, and E only
- 4. B, C, and D only

निम्नांकित में कौन से कथन सत्य है ?

- A. सी.पी.यू. लम्बे समय के लिए डेटा भंडारित कर सकता है ।
- B. रैम (आर.ए.एम.) की मात्रा बढ़ाने पर कम्प्यूटर की कार्यक्षमता बढ़ेगी।
- C. रैम (आर.ए.एम.) को 'वोलेटाइल' मेमोरी के रूप में जाना जाता है ।
- D. रौम (आर.ओ.एम.) प्रोसेसिंग यूनिट है ।
- E. सी.पी.यू. को कम्प्यूटर के मस्तिष्क के रूप में जाना जाता है ।

नीचे दिए गए विकल्पों में से सही उत्तर का चयन कीजिए:

- 1. केवल B, C और E
- 2. केवल A, C और D
- 3. केवल A, D और E
- 4. केवल B, C और D

A1
:

1

A2
:

2

A3
:

3

A4
:

4



Objective Question

35 2085

Which of the following is a correct definition of volatile memory?

- 1. It does not lose its contents on failure of power supply.
- 2. The contents in the memory evaporate.
- 3. Due to heat the data is lost.
- 4. It loses its contents on failure of power supply.

निम्नांकित में से कौन सी 'वोलेटाइल मेमोरी' की सही परिभाषा है ?

- 1. यह विद्युत आपूर्ति के विफल हो जाने पर भी अपनी अन्तर्वस्तु (कंटेंट) को नहीं खोता है ।
- 2. मेमोरी में स्थित कंटेंट वाष्पीकृत हो जाता है ।
- 3. उष्मा से डेटा गायब हो जाता है ।
- 4. यह विद्युत आपूर्ति के विफल हो जाने पर अपनी अन्तर्वस्तु (कंटेंट) खो देता है ।

A1
:

1

1
A2 2
:
2
A3 3
:
3
A4 4
:
4

Objective Question

36 2086

The total power output in a hydroelectric installation depends upon

- A. the total water flow
- B. the electrical conductivity of water
- C. atmospheric temperature
- D. aertical distance through which water falls

Choose the correct answer from the options given below:

- 1. A, B and C only
- 2. B and C only
- 3. A and D only
- 4. A, B and D only

एक जल-विद्युत अधिष्ठापन में कुल शक्ति उत्पादकता निर्भर करती है

- A. कुल जल-प्रवाह पर
- B. जल की विद्युतीय चालकता पर
- C. वातावरणीय तापमान पर
- D. उदग्र दूरी पर जहाँ से पानी गिरता है ।

नीचे दिए गए विकल्पों में से सही उत्तर का चयन कीजिए:

- 1. केवल A, B और C
- 2. केवल B और C
- 3. केवल A और D
- 4. केवल A, B और D

A1 1
:
1
A2 2
:
2
A3 3
:
3
A4 4
:
4

Objective Question

37 2087

In the context of climate change which of the following observations are correct for 20th century with reference to 1750?

- The global average surface temperature has increased by 0.6°C .
- Greater increase in daytime temperature than night time has been observed.
- Global average sea level rose 0.1-0.2 m largely due to thermal expansion.
- The atmosphere concentration of Carbon dioxide (CO_2) has increased by 31%.
- Precipitation in the northern hemisphere has decreased by 1% per decade.

Choose the correct answer from the options given below:

- A, B, D and E only
- A, C and D only
- B, C and D only
- A, B, C and D only

जलवायु-परिवर्तन के संदर्भ में निम्नांकित में से कौन प्रेक्षण 1750 के संदर्भ में 20वीं शताब्दी के लिए सही हैं ?

- औसत वैश्विक सतह-तापमान 0.6° से बढ़ा है ।
- रात्रिकाल की तुलना में दिन के तापमान में अधिक वृद्धि हुई है ।
- अधिकांशतः उष्ण प्रसार से औसत वैश्विक समुद्र-तल 0.1 से 0.2 मी. बढ़ा है।
- कार्बन-डाइ-ऑक्साइड का वातावरणीय सांद्रण 31% बढ़ा है।
- प्रति दशक, उत्तरी गोलार्ध में वर्षा 1% तक घटी है।

नीचे दिए गए विकल्पों में से सही उत्तर का चयन कीजिए:

- केवल A, B, D और E
- केवल A, C और D
- केवल B, C और D
- केवल A, B, C और D

A1

:

1

A2

:

2

A3

:

3

A4

:

4



Objective Question

38 2088

At pH values above 7.5, the disinfectant capability of chlorine is

- greatly reduced
- greatly enhanced
- slightly enhanced
- not changed

7.5 से अधिक pH मान होने पर, क्लोरीन की विसंक्रामक क्षमता होती है

- बहुत ही ज्यादा घटी हुई
- बहुत ही ज्यादा बढ़ी हुई
- थोड़ी सी बढ़ी हुई
- अपरिवर्तित

A1

:

1

1
A2 : 2
2
A3 : 3
3
A4 : 4
4

Objective Question

39 2089

Match List I with List II

LIST I (Hazardous substance)		LIST II (Specific effect)	
A.	Neurotoxins	I.	Substances that cause cancer.
B.	Mutagens	II.	Substances that attack nerve cells.
C.	Teratogens	III.	Substances that damage or alter genetic material (DNA) in cells.
D.	Carcinogens	IV.	Substance that cause abnormality during embryonic growth and development.

Choose the correct answer from the options given below:

1. A-I, B-IV, C-II, D-III
2. A-IV, B-I, C-III, D-II
3. A-II, B-III, C-IV, D-I
4. A-III, B-II, C-I, D-IV

सूची I का सूची II से मिलान कीजिए

सूची I (खतरनाक पदार्थ)		सूची II (विशिष्ट प्रभाव)	
A.	न्यूरोटॉक्सिन	I.	वे पदार्थ जो कैंसर का कारण हैं।
B.	म्यूटाजेंस	II.	वे पदार्थ जो तंत्रिका कोशिकाओं पर आक्रमण करते हैं।
C.	टेराटोजेंस	III.	वे पदार्थ जो कोशिकाओं में आनुवंशिक पदार्थ (डी.एन.ए.) को क्षतिग्रस्त परिवर्तित करते हैं।
D.	कार्सिनोजेंस	IV.	वे पदार्थ जो भ्रूणीय संवर्धन एवं विकास की अवधि में असामान्यता का कारण बनते हैं।

निम्नलिखित विकल्पों में से सही उत्तर का चयन कीजिए :

1. A-I, B-IV, C-II, D-III
2. A-IV, B-I, C-III, D-II
3. A-II, B-III, C-IV, D-I
4. A-III, B-II, C-I, D-IV

A1 : 1
1
A2 : 2
2
A3 : 3
3
A4 : 4
4

Objective Question

40 2090

Given below are two statements:

Statements I: Fuel oxides of nitrogen (NO_x) is created when nitrogen and oxygen in the combustion chamber are heated to as high as 1000°C temperature.

Statement II: Thermal NO_x is often the dominant source in the total NO_x emissions.

In the light of the above statements, choose the most appropriate answer from the options given below:

1. Both Statement I and Statement II are true
2. Both Statement I and Statement II are false
3. Statement I is true but Statement II is false
4. Statement I is false but Statement II is true

नीचे दो कथन दिए गए हैं:

कथन I : जब नाइट्रोजन और ऑक्सीजन को 1000°C जैसे उच्च तापमान पर दहन प्रकोष्ठ में गर्म किया जाता है तब ईंधन नाइट्रोजन ऑक्साइड्स (NO_x) की रचना होती है।

कथन II : कुल NO_x निस्सरण में उष्मीय NO_x बहुधा प्रबल स्रोत है।

उपरोक्त कथन के आलोक में, नीचे दिये गये विकल्पों में से सही उत्तर का चयन कीजिए :

1. कथन I और II दोनों सत्य हैं
2. कथन I और II दोनों असत्य हैं
3. कथन I सत्य है, लेकिन कथन II असत्य है
4. कथन I असत्य है, लेकिन कथन II सत्य है

A1

:

1

A2

:

2

A3

:

3

A4

:

4



Objective Question

41 2091

Which among the following measures do not help students from disadvantaged communities to feel comfortable in the classrooms?

1. Encouraging them to participate in the cultural activities
2. Asking them to concentrate on study only
3. Inviting successful persons from disadvantaged communities
4. Trying to understand their struggles and difficulties genuinely

निम्नलिखित में से कौन से उपाय वंचित समुदायों के विद्यार्थियों को सुविधाजनक अनुभव करने में सहायक नहीं होते हैं ?

1. सांस्कृतिक गतिविधियों में भाग लेने को उन्हें प्रोत्साहित करना
2. उन्हें केवल अध्ययन पर ध्यान केंद्रित करने के लिए कहना
3. वंचित समुदायों से सफल व्यक्तियों को आमंत्रित करना
4. उनके संघर्षों और कठिनाइयों को सही ढंग से समझने का प्रयास करना

A1

:

1

A2 2
:
2
A3 3
:
3
A4 4
:
4

Objective Question

42 2092

A per the NEP 2020, curbing of commercialization of education will be effected by following measures

- A. Making all transactions online
- B. Ensuring that educational institutions will be held to similar standards of audit
- C. Making disclosure as a 'not for profit' entity
- D. Ensuring that private institutions should donate fund for charity
- E. Asking institutions to reinvest their surpluses in educational sector

Choose the correct answer from the options given below:

- 1. A, B, and C only
- 2. B, C, and D only
- 3. A, C, and D only
- 4. B, C, and E only

नई शिक्षा नीति (NEP) 2020 के अनुसार शिक्षा के व्यवसायीकरण पर निम्नलिखित उपायों से नियंत्रण पाया जा सकता है :

- A. सभी लेन-देनों को ऑनलाइन करना
- B. यह सुनिश्चित करना कि शिक्षण संस्थाओं पर लेखासमीक्षा के समान पैमाने लगाए जाएँगे
- C. यह खुलासा करना कि संस्था लाभ के लिए नहीं है
- D. यह सुनिश्चित करना कि निजी संस्थान परोपरकार के लिए निधि प्रदान करें
- E. संस्थाओं से अपने अतिरिक्त धन को शैक्षिक क्षेत्र में पुनर्निवेश के लिए कहना

नीचे दिए गए विकल्पों में से सही उत्तर का चयन कीजिए:

- 1. केवल A, B, और C
- 2. केवल B, C, और D
- 3. केवल A, C, और D
- 4. केवल B, C, और E

A1 1
:
1
A2 2
:
2
A3 3
:
3
A4 4
:
4

Objective Question

43 2093

Given below are two statements:

Statement I: Increasing level of environmental pollution can be handled by creating awareness among common people about its fallouts

Statement II: There should be research to identify those behaviors which are responsible for pollution.

Choose the correct answer from the options given below:

1. Both Statement I and Statement II are true
2. Both Statement I and Statement II are false
3. Statement I is true but Statement II is false
4. Statement I is false but Statement II is true

नीचे दो कथन दिए गए हैं:

कथन I : पर्यावरणी प्रदूषण के बढ़ते हुए स्तर को आम लोगों में उसके दुष्प्रभावों के बारे जागरूकता पैदा कर संभाला जा सकता है ।

कथन II : प्रदूषण के लिए उत्तरदायी व्यवहारों की पहचान करने के लिए शोध होना चाहिए ।

उपरोक्त कथन के आलोक में, नीचे दिये गये विकल्पों में से सही उत्तर का चयन कीजिए :

1. कथन I और II दोनों सत्य हैं
2. कथन I और II दोनों असत्य हैं
3. कथन I सत्य है, लेकिन कथन II असत्य है
4. कथन I असत्य है, लेकिन कथन II सत्य है

A1
:

1

A2
:

2

A3
:

3

A4
:

4



Objective Question

44 2094

Which of the following research areas is associated with Oriental Research Institute of Mysore?

1. Folk literature
2. Palm leaf manuscripts
3. Painting
4. Visual art

निम्नलिखित में से कौन सा अनुसंधान क्षेत्र प्राच्य अनुसंधान संस्थान, मैसूर से संबंधित है ?

1. लोक साहित्य
2. ताड़पत्र पांडुलिपियाँ
3. चित्रकला
4. दृश्य कला

A1
:

1

A2
:

2

A3 3
:
3
A4 4
:
4

Objective Question

45 2095

Which of the following types of Universities is the least in number in India?

1. State Universities
2. Private Universities
3. Deemed Universities
4. Central Universities

भारत में निम्नलिखित प्रकार के विश्वविद्यालयों में से कौन से न्यूनतम संख्या में हैं ?

1. राज्य विश्वविद्यालय
2. निजी विश्वविद्यालय
3. मानित विश्वविद्यालय
4. केंद्रीय विश्वविद्यालय

A1 1
:
1
A2 2
:
2
A3 3
:
3
A4 4
:
4



Objective Question

46 2096

Read the passage and answer the question given below:

To deal with issues of democracy and authoritarian rules we have to pay particular attention to both the context what can be called development and to the interpretation of democracy, in particular to the respective roles of voting and public reasoning. The assessment of development cannot be divorced from the lives that people can lead and the real freedom that they enjoy. Development can scarcely be seen mere in terms of enhancement of inanimate objects of convenience, such as a rise in GNP or in personal incomes, or industrialization as important as they may be as means to the real ends. Their value must depend upon what they do to the lives and freedom of the people involved, which must be central to the idea of development. If development is understood in a broader way with a focus on human lives, then it becomes immediately clear that the relation between development and democracy has to be seen partly in terms of their constitutive connection, rather than only through their external links. Even though the question has often been asked whether political freedom is 'conducive to development', we must not miss the crucial recognition that political liberties and democratic rights are among the constituent components of development. Their relevance for development does not have to be established indirectly through their contribution to the growth of GNP. However, after acknowledging this central connection, we also have to subject democracy to consequential analysis since there are other kinds of freedoms as well, other than political liberties and civil rights, to which attention must be paid. We must be concerned, for example, with economic poverty.

The interpretation of democracy depends upon

1. political convenience
2. issues other than development
3. the exercise of franchise as linked to public reasoning
4. development as a separate entity

गद्यांश को पढ़ें और नीचे दिए प्रश्न का उत्तर दें :

लोकतन्त्र और सत्तावादी शासन की समस्याओं से निपटने के लिए हमें उस सन्दर्भ, जिसे विकास कहा जा सकता है और लोकतन्त्र की व्याख्या विशेषतः क्रमशः मतदान की भूमिका और जनतार्किकता दोनों पर ही विशेष ध्यान देने की आवश्यकता है। लोग जिस प्रकार का जीवन जी सकते हैं और वास्तविक स्वतन्त्रता जिसका वे आनन्द उठाते हैं को विकास के आकलन से पृथक नहीं किया जा सकता है। विकास को केवल सुविधा की जड़ वस्तु के संवर्धन के रूप में जैसे कि सकल राष्ट्रीय उत्पाद या वैयक्तिक आय में वृद्धि, या औद्योगीकरण जो कि इसलिए महत्वपूर्ण है क्योंकि यह अन्तिम ध्येय की प्राप्ति का साधन हो सकता है, नहीं देखा जा सकता है। उनका मूल्य, जो वे संलग्न लोगों की स्वतन्त्रता और जीवन के लिए करते हैं, के ऊपर निश्चित रूप से निर्भर होना चाहिए, जो कि विकास के विचार का केन्द्र होना चाहिए। अगर विकास को विस्तृत रूप से मानव जीवन को केन्द्र में रखकर समझा जाए, तो यह शीघ्र स्पष्ट हो जाता है कि लोकतन्त्र एवं विकास के सम्बन्ध को अंशतः केवल उनके बाह्य सम्पर्क की तुलना में उनके संगठनात्मक सम्बन्ध रूप में देखा जाना चाहिए। यद्यपि प्रश्न किया जाता है कि राजनीतिक स्वतन्त्रता क्या विकास के लिए सहायक है? हमें निर्णायक मान्यता को अनदेखा नहीं करना चाहिए कि राजनैतिक स्वतन्त्रता और लोकतान्त्रिक अधिकार विकास के संघटक अवयव के अन्तर्गत आते हैं। विकास हेतु उनके सन्दर्भ को सकल राष्ट्रीय उत्पाद की वृद्धि के प्रति उनके अप्रत्यक्ष योगदान के द्वारा स्थापित नहीं किया जाना चाहिए। हालांकि इस केंद्रीय संबंधन को स्वीकार कर लिए जाने के बाद हमें लोकतन्त्र को आनुषंगिक विश्लेषण का विषय बनाना चाहिए क्योंकि राजनीतिक स्वतन्त्रता और नागरिक अधिकारों के अतिरिक्त दूसरी प्रकार की स्वतन्त्रताओं पर भी ध्यान दिया जाना आवश्यक है। हमें उदाहरण स्वरूप आर्थिक निर्धनता के प्रति अवश्य चिन्तित होना चाहिए।

लोकतन्त्र की व्याख्या निर्भर करती है

1. राजनीतिक सुविधा पर
2. विकास के अतिरिक्त अन्य समस्याओं पर
3. जन-तार्किकता से सम्बद्ध मताधिकार के प्रयोग पर
4. एक पृथक् इकाई के रूप में विकास पर

A1 : 1
1
A2 : 2
2
A3 : 3
3
A4 : 4
4



Objective Question

47 2097

Read the passage and answer the question given below:

To deal with issues of democracy and authoritarian rules we have to pay particular attention to both the context what can be called development and to the interpretation of democracy, in particular to the respective roles of voting and public reasoning. The assessment development cannot be divorced from the lives that people can lead and the real freedom that they enjoy. Development can scarcely be seen mere in terms of enhancement of inanimate objects of convenience, such as a rise in GNP or in personal incomes, or industrialization important as they may be as means to the real ends. Their value must depend upon what they do to the lives and freedom of the people involved, which must be central to the idea of development. If development is understood in a broader way with a focus on human lives, then it becomes immediately clear that the relation between development and democracy has to be seen partly in terms of their constitutive connection, rather than only through their external links. Even though the question has often been asked whether political freedom is 'conducive to development', we must not miss the crucial recognition that political liberties and democratic rights are among the constituent components of development. Their relevance for development does not have to be established indirectly through their contribution to the growth of GNP. However, after acknowledging this central connection, we also have to subject democracy to consequential analysis since there are other kinds of freedoms as well, other than political liberties and civil rights, to which attention must be paid. We must be concerned, for example, with economic poverty.

Development should be comprehensively measured in terms of

1. increase in inanimate objects
2. rise in personal incomes
3. industrialisation
4. the freedom of the people involved

गद्यांश को पढ़ें और नीचे दिए प्रश्न का उत्तर दें :

लोकतन्त्र और सत्तावादी शासन की समस्याओं से निपटने के लिए हमें उस सन्दर्भ, जिसे विकास कहा जा सकता है और लोकतन्त्र की व्याख्या विशेषतः क्रमशः मतदान की भूमिका और जनतार्किकता दोनों पर ही विशेष ध्यान देने की आवश्यकता है। लोग जिस प्रकार का जीवन जी सकते हैं और वास्तविक स्वतन्त्रता जिसका वे आनन्द उठाते हैं को विकास के आकलन से पृथक नहीं किया जा सकता है। विकास को केवल सुविधा की जड़ वस्तु के संवर्धन के रूप में जैसे कि सकल राष्ट्रीय उत्पाद या वैयक्तिक आय में वृद्धि, या औद्योगीकरण जो कि इसलिए महत्वपूर्ण है क्योंकि यह अन्तिम ध्येय की प्राप्ति का साधन हो सकता है, नहीं देखा जा सकता है। उनका मूल्य, जो वे संलग्न लोगों की स्वतन्त्रता और जीवन के लिए करते हैं, के ऊपर निश्चित रूप से निर्भर होना चाहिए, जो कि विकास के विचार का केन्द्र होना चाहिए। अगर विकास को विस्तृत रूप से मानव जीवन को केन्द्र में रखकर समझा जाए, तो यह शीघ्र स्पष्ट हो जाता है कि लोकतन्त्र एवं विकास के सम्बन्ध को अंशतः केवल उनके बाह्य सम्पर्क की तुलना में उनके संगठनात्मक सम्बन्ध रूप में देखा जाना चाहिए। यद्यपि प्रश्न किया जाता है कि राजनीतिक स्वतन्त्रता क्या विकास के लिए सहायक है? हमें निर्णायक मान्यता को अनदेखा नहीं करना चाहिए कि राजनैतिक स्वतन्त्रता और लोकतान्त्रिक अधिकार विकास के संघटक अवयव के अन्तर्गत आते हैं। विकास हेतु उनके सन्दर्भ को सकल राष्ट्रीय उत्पाद की वृद्धि के प्रति उनके अप्रत्यक्ष योगदान के द्वारा स्थापित नहीं किया जाना चाहिए। हालांकि इस केंद्रीय संबंधन को स्वीकार कर लिए जाने के बाद हमें लोकतन्त्र को आनुषंगिक विश्लेषण का विषय बनाना चाहिए क्योंकि राजनीतिक स्वतन्त्रता और नागरिक अधिकारों के अतिरिक्त दूसरी प्रकार की स्वतन्त्रताओं पर भी ध्यान दिया जाना आवश्यक है। हमें उदाहरण स्वरूप आर्थिक निर्धनता के प्रति अवश्य चिन्तित होना चाहिए।

विकास को व्यापक रूप में मापा जाना चाहिये

1. निर्जीव वस्तुओं की वृद्धि के रूप में
2. वैयक्तिक आय की वृद्धि के रूप में
3. औद्योगीकरण के रूप में
4. संलग्न लोगों की स्वतन्त्रता के रूप में

A1 : 1
1
A2 : 2
2
A3 : 3
3
A4 : 4
4



Objective Question

48 2098

Read the passage and answer the question given below:

To deal with issues of democracy and authoritarian rules we have to pay particular attention to both the context what can be called development and to the interpretation of democracy, in particular to the respective roles of voting and public reasoning. The assessment development cannot be divorced from the lives that people can lead and the real freedom that they enjoy. Development can scarcely be seen mere in terms of enhancement of inanimate objects of convenience, such as a rise in GNP or in personal incomes, or industrializatic important as they may be as means to the real ends. Their value must depend upon what they do to the lives and freedom of the people involved, which must be central to the idea of development. If development is understood in a broader way with a focus on human lives, then it becomes immediately clear that the relation between development and democracy has to be seen partly in terms of their constitutive connection, rather than only through their external links. Even though the question has often been asked whether political freedom is 'conducive to development', we must not miss the crucial recognition that political liberties and democratic rights are among the constituent components of development. Their relevance for development does not have to be established indirectly through their contribution to the growth of GNP. However, after acknowledging this central connection, we also have to subject democracy to consequential analysis since there are other kinds of freedoms as well, other than political liberties and civil rights, to which attention m be paid. We must be concerned, for example, with economic poverty.

The relation between democracy and development can be seen through their

1. External links
2. Constitutive connection
3. Indirect relation
4. Abstract assessment

गद्यांश को पढ़ें और नीचे दिए प्रश्न का उत्तर दें :

लोकतन्त्र और सत्तावादी शासन की समस्याओं से निपटने के लिए हमें उस सन्दर्भ, जिसे विकास कहा जा सकता है और लोकतन्त्र की व्याख्या विशेषतः क्रमशः मतदान की भूमिका और जनतार्किकता दोनों पर ही विशेष ध्यान देने की आवश्यकता है। लोग जिस प्रकार का जीवन जी सकते हैं और वास्तविक स्वतन्त्रता जिसका वे आनन्द उठाते हैं को विकास के आकलन से पृथक नहीं किया जा सकता है। विकास को केवल सुविधा की जड़ वस्तु के संवर्धन के रूप में जैसे कि सकल राष्ट्रीय उत्पाद या वैयक्तिक आय में वृद्धि, या औद्योगीकरण जो कि इसलिए महत्वपूर्ण है क्योंकि यह अन्तिम ध्येय की प्राप्ति का साधन हो सकता है, नहीं देखा जा सकता है। उनका मूल्य, जो वे संलग्न लोगों की स्वतन्त्रता और जीवन के लिए करते हैं, के ऊपर निश्चित रूप से निर्भर होना चाहिए, जो कि विकास के विचार का केन्द्र होना चाहिए। अगर विकास को विस्तृत रूप से मानव जीवन को केन्द्र में रखकर समझा जाए, तो यह शीघ्र स्पष्ट हो जाता है कि लोकतन्त्र एवं विकास के सम्बन्ध को अंशतः केवल उनके बाह्य सम्पर्क की तुलना में उनके संगठनात्मक सम्बन्ध रूप में देखा जाना चाहिए। यद्यपि प्रश्न किया जाता है कि राजनीतिक स्वतन्त्रता क्या विकास के लिए सहायक है? हमें निर्णायक मान्यता को अनदेखा नहीं करना चाहिए कि राजनैतिक स्वतन्त्रता और लोकतान्त्रिक अधिकार विकास के संघटक अवयव के अन्तर्गत आते हैं। विकास हेतु उनके सन्दर्भ को सकल राष्ट्रीय उत्पाद की वृद्धि के प्रति उनके अप्रत्यक्ष योगदान के द्वारा स्थापित नहीं किया जाना चाहिए। हालांकि इस केंद्रीय संबंधन को स्वीकार कर लिए जाने के बाद हमें लोकतन्त्र को आनुषंगिक विश्लेषण का विषय बनाना चाहिए क्योंकि राजनीतिक स्वतन्त्रता और नागरिक अधिकारों के अतिरिक्त दूसरी प्रकार की स्वतन्त्रताओं पर भी ध्यान दिया जाना आवश्यक है। हमें उदाहरण स्वरूप आर्थिक निर्धनता के प्रति अवश्य चिन्तित होना चाहिए।

विकास और लोकतन्त्र के बीच के सम्बन्ध को उनके _____ द्वारा देखा जा सकता है।

1. बाह्य सम्बन्ध
2. संघटक संबंधन
3. अप्रत्यक्ष सम्बन्ध
4. अमूर्त मूल्यांकन

A1
:

1

A2
:

2

A3
:

3

A4
:

4



Objective Question

49 2099

Read the passage and answer the question given below:

To deal with issues of democracy and authoritarian rules we have to pay particular attention to both the context what can be called development and to the interpretation of democracy, in particular to the respective roles of voting and public reasoning. The assessment of development cannot be divorced from the lives that people can lead and the real freedom that they enjoy. Development can scarcely be seen mere in terms of enhancement of inanimate objects of convenience, such as a rise in GNP or in personal incomes, or industrialization important as they may be as means to the real ends. Their value must depend upon what they do to the lives and freedom of the people involved, which must be central to the idea of development. If development is understood in a broader way with a focus on human lives, then it becomes immediately clear that the relation between development and democracy has to be seen partly in terms of their constitutive connection, rather than only through their external links. Even though the question has often been asked whether political freedom is 'conducive to development', we must not miss the crucial recognition that political liberties and democratic rights are among the constituent components of development. Their relevance for development does not have to be established indirectly through their contribution to the growth of GNP. However, after acknowledging this central connection, we also have to subject democracy to consequential analysis since there are other kinds of freedoms as well, other than political liberties and civil rights, to which attention must be paid. We must be concerned, for example, with economic poverty.

The consequential analysis of democracy as related to development should take into account

1. Political rights only
2. Civil rights
3. Freedom from poverty
4. Policy initiatives

गद्यांश को पढ़ें और नीचे दिए प्रश्न का उत्तर दें :

लोकतन्त्र और सत्तावादी शासन की समस्याओं से निपटने के लिए हमें उस सन्दर्भ, जिसे विकास कहा जा सकता है और लोकतन्त्र की व्याख्या विशेषतः क्रमशः मतदान की भूमिका और जनतार्किकता दोनों पर ही विशेष ध्यान देने की आवश्यकता है। लोग जिस प्रकार का जीवन जी सकते हैं और वास्तविक स्वतन्त्रता जिसका वे आनन्द उठाते हैं को विकास के आकलन से पृथक नहीं किया जा सकता है। विकास को केवल सुविधा की जड़ वस्तु के संवर्धन के रूप में जैसे कि सकल राष्ट्रीय उत्पाद या वैयक्तिक आय में वृद्धि, या औद्योगीकरण जो कि इसलिए महत्वपूर्ण है क्योंकि यह अन्तिम ध्येय की प्राप्ति का साधन हो सकता है, नहीं देखा जा सकता है। उनका मूल्य, जो वे संलग्न लोगों की स्वतन्त्रता और जीवन के लिए करते हैं, के ऊपर निश्चित रूप से निर्भर होना चाहिए, जो कि विकास के विचार का केन्द्र होना चाहिए। अगर विकास को विस्तृत रूप से मानव जीवन को केन्द्र में रखकर समझा जाए, तो यह शीघ्र स्पष्ट हो जाता है कि लोकतन्त्र एवं विकास के सम्बन्ध को अंशतः केवल उनके बाह्य सम्पर्क की तुलना में उनके संगठनात्मक सम्बन्ध रूप में देखा जाना चाहिए। यद्यपि प्रश्न किया जाता है कि राजनीतिक स्वतन्त्रता क्या विकास के लिए सहायक है? हमें निर्णायक मान्यता को अनदेखा नहीं करना चाहिए कि राजनीतिक स्वतन्त्रता और लोकतान्त्रिक अधिकार विकास के संघटक अवयव के अन्तर्गत आते हैं। विकास हेतु उनके सन्दर्भ को सकल राष्ट्रीय उत्पाद की वृद्धि के प्रति उनके अप्रत्यक्ष योगदान के द्वारा स्थापित नहीं किया जाना चाहिए। हालांकि इस केंद्रीय संबंधन को स्वीकार कर लिए जाने के बाद हमें लोकतन्त्र को आनुषंगिक विश्लेषण का विषय बनाना चाहिए क्योंकि राजनीतिक स्वतन्त्रता और नागरिक अधिकारों के अतिरिक्त दूसरी प्रकार की स्वतन्त्रताओं पर भी ध्यान दिया जाना आवश्यक है। हमें उदाहरण स्वरूप आर्थिक निर्धनता के प्रति अवश्य चिन्तित होना चाहिए।

विकास से सम्बद्ध लोकतन्त्र के आनुषंगिक विश्लेषण के लिए किसको ध्यान में रखना चाहिए?

1. केवल राजनीतिक अधिकार
2. नागरिक अधिकार
3. निर्धनता से आजादी
4. नीति उपक्रमण

A1
:

1

A2
:

2

A3
:

3

A4
:

4

Objective Question

50 2100

Read the passage and answer the question given below:

To deal with issues of democracy and authoritarian rules we have to pay particular attention to both the context what can be called development and to the interpretation of democracy, in particular to the respective roles of voting and public reasoning. The assessment, development cannot be divorced from the lives that people can lead and the real freedom that they enjoy. Development can scarcely be seen mere in terms of enhancement of inanimate objects of convenience, such as a rise in GNP or in personal incomes, or industrialization important as they may be as means to the real ends. Their value must depend upon what they do to the lives and freedom of the people involved, which must be central to the idea of development. If development is understood in a broader way with a focus on human lives, then it becomes immediately clear that the relation between development and democracy has to be seen partly in terms of their constitutive connection, rather than only through their external links. Even though the question has often been asked whether political freedom is 'conducive to development', we must not miss the crucial recognition that political liberties and democratic rights are among the constituent components of development. Their relevance for development does not have to be established indirectly through their contribution to the growth of GNP. However, after acknowledging this central connection, we also have to subject democracy to consequential analysis since there are other kinds of freedoms as well, other than political liberties and civil rights, to which attention must be paid. We must be concerned, for example, with economic poverty.

The central theme of the passage is:

1. Development and freedoms are inter-related.
2. Industrialization is essential for political freedom.
3. Development and human lives are not linked.
4. Development is purely an economic proposition.

गद्यांश को पढ़ें और नीचे दिए प्रश्न का उत्तर दें :

लोकतन्त्र और सत्तावादी शासन की समस्याओं से निपटने के लिए हमें उस सन्दर्भ, जिसे विकास कहा जा सकता है और लोकतन्त्र की व्याख्या विशेषतः क्रमशः मतदान की भूमिका और जनताधिकारिता दोनों पर ही विशेष ध्यान देने की आवश्यकता है। लोग जिस प्रकार का जीवन जी सकते हैं और वास्तविक स्वतन्त्रता जिसका वे आनन्द उठाते हैं को विकास के आकलन से पृथक नहीं किया जा सकता है। विकास को केवल सुविधा की जड़ वस्तु के संवर्धन के रूप में जैसे कि सकल राष्ट्रीय उत्पाद या वैयक्तिक आय में वृद्धि, या औद्योगीकरण जो कि इसलिए महत्वपूर्ण है क्योंकि यह अन्तिम ध्येय की प्राप्ति का साधन हो सकता है, नहीं देखा जा सकता है। उनका मूल्य, जो वे संलग्न लोगों की स्वतन्त्रता और जीवन के लिए करते हैं, के ऊपर निश्चित रूप से निर्भर होना चाहिए, जो कि विकास के विचार का केन्द्र होना चाहिए। अगर विकास को विस्तृत रूप से मानव जीवन को केन्द्र में रखकर समझा जाए, तो यह शीघ्र स्पष्ट हो जाता है कि लोकतन्त्र एवं विकास के सम्बन्ध को अंशतः केवल उनके बाह्य सम्पर्क की तुलना में उनके संगठनात्मक सम्बन्ध रूप में देखा जाना चाहिए। यद्यपि प्रश्न किया जाता है कि राजनीतिक स्वतन्त्रता क्या विकास के लिए सहायक है? हमें निर्णायक मान्यता को अनदेखा नहीं करना चाहिए कि राजनीतिक स्वतन्त्रता और लोकतान्त्रिक अधिकार विकास के संघटक अवयव के अन्तर्गत आते हैं। विकास हेतु उनके सन्दर्भ को सकल राष्ट्रीय उत्पाद की वृद्धि के प्रति उनके अप्रत्यक्ष योगदान के द्वारा स्थापित नहीं किया जाना चाहिए। हालांकि इस केंद्रीय संबंधन को स्वीकार कर लिए जाने के बाद हमें लोकतन्त्र को आनुषंगिक विश्लेषण का विषय बनाना चाहिए क्योंकि राजनीतिक स्वतन्त्रता और नागरिक अधिकारों के अतिरिक्त दूसरी प्रकार की स्वतन्त्रताओं पर भी ध्यान दिया जाना आवश्यक है। हमें उदाहरण स्वरूप आर्थिक निर्धनता के प्रति अवश्य चिन्तित होना चाहिए।

गद्यांश का केन्द्रीय भाव है :

1. विकास एवं स्वतन्त्रता अन्तर्सम्बद्ध हैं।
2. राजनीतिक स्वतंत्रता हेतु औद्योगीकरण आवश्यक है।
3. मानवजीवन एवं विकास असम्बद्ध हैं।
4. विकास विशुद्ध रूप से एक आर्थिक विचारार्थ-विषय है।

A1
:

1

1

A2
:

2

2

A3
:

3

3

A4
:

4

4