

# UGC NET 2022 COMMERCE SH1

Topic: - 8\_SH1\_PARTA\_S2

1)

Which one of the following is not the guiding principle of World Bank regarding its lending operation?

1. Proper assessment of the repayment prospects of loans.
2. Lending should be only for specific projects which are economically and technically sound and of a high priority nature.
3. The lending should be to enable a country to meet foreign exchange content of the project cost.
4. The bank does expect the borrowing country to spend the loan in a particular country.

निम्नलिखित में से कौन एक विश्वबैंक के परिदाय (लेंडिंग) प्रचालन के संदर्भ में इसके मार्ग-दर्शक सिद्धांत नहीं है ?

1. ऋणों के परिशोधन पूर्वक्षण करने का उचित मूल्यांकन
2. परिदाय मात्र उन विशिष्ट परियोजनाओं हेतु होना चाहिए जो कि आर्थिक और तकनीकी रूप से ठीक हो और उच्च वरीयता प्रकृति के हों।
3. परिदाय किसी देश को परियोजना लागत के विदेशी विनियम अंशों (कंटेंट) को प्राप्त करने में सक्षम बनाने हेतु होना चाहिए।
4. बैंक आदाता देश से ऋण को किसी खास देश में खर्च करने की अपेक्षा रखता है।

[Question ID = 4059][Question Description = 101\_10\_COM\_SEP22\_S4\_Q01]

1. 1 [Option ID = 16233]
2. 2 [Option ID = 16234]
3. 3 [Option ID = 16235]
4. 4 [Option ID = 16236]

2)

Portfolio approach to investing is primarily focused on which of the following :

1. Diversification
2. Value protection
3. Return appreciation
4. Risk optimisation

निवेश का पोर्टफोलियो उपागम निम्नलिखित में से किस पर मुख्य रूप से केंद्रित होता है :

1. विविधीकरण
2. मूल्य संरक्षण
3. प्रतिफल वृद्धि
4. जोखिम इष्टतमीकरण

[Question ID = 4060][Question Description = 102\_10\_COM\_SEP22\_S4\_Q02]

1. 1 [Option ID = 16237]
2. 2 [Option ID = 16238]
3. 3 [Option ID = 16239]
4. 4 [Option ID = 16240]

3)

SEBI's 'Skin in the game' rule is applicable to which of the following financial intermediaries ?

1. Merchant bankers
2. Financial Advisors
3. Mutual funds
4. Brokerages

सेबी का 'स्किन इन द गेम' नियम निम्नलिखित में से किस वित्तीय मध्यवर्तियों में प्रयुक्त किया जाता है ?

1. मर्चेन्ट बैंकर्स
2. वित्तीय सलाहकार
3. म्यूचुअल फंड्स
4. ब्रोकरेज

[Question ID = 4061][Question Description = 103\_10\_COM\_SEP22\_S4\_Q03]

1. 1 [Option ID = 16241]
2. 2 [Option ID = 16242]
3. 3 [Option ID = 16243]
4. 4 [Option ID = 16244]

4)

Concentration of all marketing efforts on a small but specific and well defined segment of the population is called :

1. Niche marketing
2. Franchising
3. Ambush marketing
4. Viral marketing

जनसंख्या के एक लघु किन्तु विशिष्ट और सुपरिभाषित खंड पर समस्त विपणन प्रयासों की एकाग्रता को कहा जाता है :

1. नीश मार्केटिंग
2. फ्रेंचाइजिंग
3. अम्बुश मार्केटिंग
4. वायरल मार्केटिंग

[Question ID = 4062][Question Description = 104\_10\_COM\_SEP22\_S4\_Q04]

1. 1 [Option ID = 16245]
2. 2 [Option ID = 16246]
3. 3 [Option ID = 16247]
4. 4 [Option ID = 16248]

5)

A company does not include the value of skills gained by its employees from training programmes in its annual financial statements. Which one of the following accounting concepts is being applied in this case?

1. Going concern concept
2. Money measurement concept
3. Revenue recognition concept
4. Business entity concept

कंपनी अपने वार्षिक वित्तीय लेखा-विवरणों में अपने कर्मचारियों के प्रशिक्षण कार्यक्रमों से अर्जित कौशल मूल्य को शामिल नहीं करती है। निम्नलिखित में से कौन सी लेखा अवधारणा इस विषय पर अनुप्रयुक्त होती है ?

1. चालू अवधारणा
2. मुद्रा मापन अवधारणा
3. संप्राप्ति अभिज्ञान अवधारणा
4. व्यवसाय सत्व अवधारणा

[Question ID = 4063][Question Description = 105\_10\_COM\_SEP22\_S4\_Q05]

1. 1 [Option ID = 16249]
2. 2 [Option ID = 16250]
3. 3 [Option ID = 16251]
4. 4 [Option ID = 16252]

6)

The information with respect to a company is:

EBIT = ₹ 35 lakhs

15% Term loan = ₹ 50 lakhs

Working capital term loan from bank @ 20% = ₹ 30 lakhs

10% Preference share capital = ₹ 10 lakhs

Public deposits accepted @ 14% = ₹ 15 lakhs

Which one among the following is the Interest Coverage Ratio for the company?

1. 0.45
2. 1.98
3. 2.24
4. 2.59

किसी कंपनी के संदर्भ में सूचना निम्नलिखित है :

ई बी आई टी = ₹ 35 लाख

15% आवधिक कर्ज = ₹ 50 लाख

बैंक से 20% की दर से कार्यशील पूंजी आवधिक कर्ज = ₹ 30 लाख

10% अधिमान अंश पूंजी = ₹ 10 लाख

14% की दर से स्वीकार्य सार्वजनिक जमा = ₹ 15 लाख

निम्नलिखित में से कंपनी के लिए ब्याज आवरण का अनुपात कौन सा है ?

1. 0.45
2. 1.98
3. 2.24
4. 2.59

[Question ID = 4064][Question Description = 106\_10\_COM\_SEP22\_S4\_Q06]

1. 1 [Option ID = 16253]
2. 2 [Option ID = 16254]
3. 3 [Option ID = 16255]
4. 4 [Option ID = 16256]

7)

Which section of the Indian Companies Act, 2013 among the following, provides for the appointment of first auditors by the Board of Directors within one month of the date of registration of the company?

1. 139(2)
2. 139(6)
3. 142(1)
4. 142(2)

निम्नलिखित में से भारतीय कंपनी अधिनियम, 2013 की कौन सी धारा कंपनी के पंजीकरण की तिथि के एक माह के भीतर निदेशक मंडल द्वारा प्रथम लेखापरीक्षक की नियुक्ति से संबंधित है ?

1. 139 (2)
2. 139 (6)
3. 142 (1)
4. 142 (2)

[Question ID = 4065][Question Description = 107\_10\_COM\_SEP22\_S4\_Q07]

1. 1 [Option ID = 16257]
2. 2 [Option ID = 16258]
3. 3 [Option ID = 16259]
4. 4 [Option ID = 16260]

8)

When the incoming partner cannot bring premium for goodwill, then the necessary adjustment for goodwill is done through which one of the following?

1. Goodwill account of the partners
2. Capital account of the new partners
3. Balance sheet of the new partnership firm
4. Profit & Loss Appropriation account

जब आगमी (इनकमिंग) साझेदार ख्याति हेतु प्रीमियम नहीं प्रस्तुत कर सकता, तो ख्याति हेतु आवश्यक समाधान निम्नलिखित में से किसके द्वारा किया जायेगा ?

1. साझेदारों का ख्याति खाता
2. नये साझेदारों का पूंजी खाता
3. नयी साझेदार कंपनी का तुलन पत्र
4. लाभ एवं हानि विनियोजन खाता

[Question ID = 4066][Question Description = 108\_10\_COM\_SEP22\_S4\_Q08]

1. 1 [Option ID = 16261]
2. 2 [Option ID = 16262]
3. 3 [Option ID = 16263]
4. 4 [Option ID = 16264]

9)

Sweezy's kinked demand curve model to explain the price and output determination relates to which type of market structure?

1. Perfect Competition
2. Monopolistic Competition
3. Monopoly
4. Oligopoly

कीमत और उत्पादन अवधारणा की व्याख्या करने के लिए स्वीजी का व्याकुंचित मांग वक्र मॉडल किस प्रकार की बाजार संरचना से संबंधित है ?

1. पूर्ण प्रतिस्पर्धा
2. एकाधिकारी प्रतिस्पर्धा
3. एकाधिकार
4. अल्पाधिकार

[Question ID = 4067][Question Description = 109\_10\_COM\_SEP22\_S4\_Q09]

1. 1 [Option ID = 16265]
2. 2 [Option ID = 16266]
3. 3 [Option ID = 16267]
4. 4 [Option ID = 16268]

10)

Which one of the following is not the assumption for consumer behaviour based on the Ordinal Utility Theory?

1. Rationality of the consumer
2. Utility only ordinally measurable
3. Satiation of demand
4. Diminishing marginal rate of substitution

निम्नांकित में से कौन-सी क्रमसूचक उपयोगिता सिद्धांत के आधार पर उपभोक्ता व्यवहार की पूर्वमान्यता नहीं है ?

1. उपभोक्ता की विवेकशीलता
2. उपयोगिता जिनका केवल क्रमिक मापन हो सकता है
3. मांग की संतृप्तता
4. प्रतिस्थापन की हासमान सीमांत दर

[Question ID = 4068][Question Description = 110\_10\_COM\_SEP22\_S4\_Q10]

1. 1 [Option ID = 16269]
2. 2 [Option ID = 16270]
3. 3 [Option ID = 16271]
4. 4 [Option ID = 16272]

11)

When the price increase of a commodity is followed by increased total revenue, which one of the following is the price elasticity coefficient?

1. Zero
2. Equal to one
3. More than one
4. Less than one

किसी वस्तु की कीमत बढ़ने के बाद 'सकल' राजस्व में वृद्धि होने की दशा में निम्नांकित में से कौन सा मूल्य प्रत्यास्थता गुणांक है ?

1. शून्य
2. एक के बराबर
3. एक से अधिक
4. एक से कम

[Question ID = 4069][Question Description = 111\_10\_COM\_SEP22\_S4\_Q11]

1. 1 [Option ID = 16273]
2. 2 [Option ID = 16274]
3. 3 [Option ID = 16275]
4. 4 [Option ID = 16276]

12)

Which one of the following production functions is a long-term production function?

1.  $Q = a + bL - cL^2$
2.  $Q = AK^aL^b$
3.  $Q = a + bL + cL^2 - dL^3$
4.  $Q = a + bL$



निम्नांकित में से कौन सा उत्पादन फलन दीर्घवधिक उत्पादन फलन है ?

1.  $Q = a + bL - cL^2$
2.  $Q = AK^aL^b$
3.  $Q = a + bL + cL^2 - dL^3$
4.  $Q = a + bL$

[Question ID = 4070][Question Description = 112\_10\_COM\_SEP22\_S4\_Q12]

1. 1 [Option ID = 16277]
2. 2 [Option ID = 16278]
3. 3 [Option ID = 16279]
4. 4 [Option ID = 16280]

13)

As per which one of the following approaches, a firm finances a part of its permanent working capital with short term financing?

1. Matching Approach
2. Conservative Approach
3. Aggressive Approach
4. Traditional Approach

निम्नलिखित किस एक उपागम के अनुसार कोई कंपनी अपने स्थायी कार्यशील पूँजी के किसी भाग को अल्पकालीन वित्त से पोषित करती है ?

1. सुमेलन उपागम
2. रुढ़िवादी उपागम
3. आक्रामक उपागम
4. परंपरागत उपागम

[Question ID = 4071][Question Description = 113\_10\_COM\_SEP22\_S4\_Q13]

1. 1 [Option ID = 16281]
2. 2 [Option ID = 16282]
3. 3 [Option ID = 16283]
4. 4 [Option ID = 16284]

14)

Which one of the following approaches of capital structure pleads that debt financing initially increases the value of the firm; however excess debt financing beyond a particular point reduces the value of the firm?

1. Net Income Approach
2. Net Operating Income Approach
3. Traditional Approach
4. Modigliani-Miller Approach

पूँजी संरचना का निम्नांकित कौन-सा एक उपागम इस बात का अभिवचन करता है कि ऋण वित्तीय आरंभिक रूप में कंपनी के मूल्य में बढ़ोत्तरी करता है, तथापि किसी निश्चित बिंदु से परे अतिऋण वित्तीय कंपनी के मूल्य में कमी करता है ?

1. निवल आय उपागम
2. निवल प्रचालन आय उपागम
3. परंपरागत उपागम
4. मोदीगिलानी मिलर उपागम

[Question ID = 4072][Question Description = 114\_10\_COM\_SEP22\_S4\_Q14]

1. 1 [Option ID = 16285]
2. 2 [Option ID = 16286]
3. 3 [Option ID = 16287]
4. 4 [Option ID = 16288]

15)

Which of the following business would most likely use job order costing :

1. A brewery
2. An oil refinery
3. A company that makes frozen pizzas
4. A print shop that specializes in wedding invitations



निम्नलिखित में से किस व्यवसाय द्वारा कार्य आदेश लागत-निर्धारण को अधिकांशतया प्रयुक्त किए जाने की संभावना है ?

1. मद्य निर्माणशाला
2. तेलशोधनशाला
3. एक कंपनी, जो फ्रोजन पिज्जा बनाती है।
4. एक मुद्रण दुकान, जिसकी वैवाहिक निर्माण में विशेषता है।

[Question ID = 4073][Question Description = 115\_10\_COM\_SEP22\_S4\_Q15]

1. 1 [Option ID = 16289]
2. 2 [Option ID = 16290]
3. 3 [Option ID = 16291]
4. 4 [Option ID = 16292]

16)

A company has 10% perpetual debt of ₹1,00,000. The tax rate is 35%. Which one of the following is the after-tax cost of capital assuming that the debt is issued at 10% premium?

1. 10%
2. 5.91%
3. 6.5%
4. 7.22%

किसी कंपनी पर 100000 रुपए का 10% सतत ऋण है। कर की दर 35% है। निम्न में से कर उपरांत पूँजी की लागत क्या होगी अगर ऋण 10% के प्रीमियम पर जारी किया गया है ?

1. 10 %
2. 5.91 %
3. 6.5 %
4. 7.22 %

[Question ID = 4074][Question Description = 116\_10\_COM\_SEP22\_S4\_Q16]

1. 1 [Option ID = 16293]
2. 2 [Option ID = 16294]
3. 3 [Option ID = 16295]
4. 4 [Option ID = 16296]

17)

While wandering in jungle, King Dushyant married Shankuntala as narrated in the "Abhigyan Shankuntalam" . He gave her royal ring which could serve her identity when she would come to meet him, in future. However, she had lost the ring while going to meet him. When she arrived at Dushyant's palace, he failed to recognise her as she did not had the ring.

Which of the following statistical error King Dushyant had committed in this narrative ?

1. Type I error
2. Type II error
3. Sampling error
4. Non - Sampling error

जंगल में भटकने के दौरान राजा दुष्यंत ने शकुंतला के साथ विवाह कर लिया जैसा कि "अभिज्ञान शाकुंतलम" में वर्णित है, उसने शकुंतला को एक शाही अंगूठी दी, जो तब उसकी पहचान का कार्य कर सकती है, जब वह भविष्य में मिलने आएगी। लेकिन, शकुंतला ने उनसे मिलने के लिए जाने के दौरान वह अंगूठी खो दी। जब वह दुष्यंत के महल पर पहुंची तो वह उसे पहचान नहीं पाए क्योंकि शकुंतला के पास वह अंगूठी नहीं थी।

इस आख्यान में राजा दुष्यंत ने निम्नलिखित में से कौन सी सांख्यिकीय त्रुटि की थी ?

1. टाइप - I त्रुटि
2. टाइप - II त्रुटि
3. प्रतिचयन त्रुटि
4. गैर-प्रतिचयन त्रुटि

[Question ID = 4075][Question Description = 117\_10\_COM\_SEP22\_S4\_Q17]

1. 1 [Option ID = 16297]
2. 2 [Option ID = 16298]
3. 3 [Option ID = 16299]
4. 4 [Option ID = 16300]

18)

Which one of the following statistical identities are useful in comparing the two regression equations based on different sample sizes ?

1. Coefficient of determination ( $r^2$ )
2. Coefficient of multiple determination ( $R^2$ )
3. Adjusted  $R^2$  ( $\bar{R}^2$ )
4. Logistic regression

निम्नलिखित में से कौन-सी एक सांख्यिकीय पहचान विभिन्न प्रतिचयन आकारों पर आधारित दो समाश्रयण समीकरणों की तुलना में उपयोगी है ?

1. निर्धारण का गुणांक ( $r^2$ )
2. बहु-निर्धारण का गुणांक ( $R^2$ )
3. समायोजित  $R^2$  ( $R^2$ )
4. संभार समाश्रयण

[Question ID = 4076][Question Description = 118\_10\_COM\_SEP22\_S4\_Q18]

1. 1 [Option ID = 16301]
2. 2 [Option ID = 16302]
3. 3 [Option ID = 16303]
4. 4 [Option ID = 16304]

19) Which one of the following statements is false?

1. Arithmetic mean is used to measure the deviations in calculating standard deviation due to its least squares property
2. Z- Score value of 'X' is the ratio between 'X' divided by mean
3. The coefficient of variation is calculated as follows :  $\frac{\bar{X}}{\sigma} \times 100$
4. Standard deviation can be equal to zero in some situations.

निम्नलिखित कथनों में से कौन-सा एक गलत है ?

1. अंकगणितीय माध्य का प्रयोग मानक विचलन में वर्गों की संख्या न्यूनतम होने के कारण विचलन के मापन हेतु किया जाता है।
2. 'X' की Z प्राप्तांक मान, माध्य द्वारा विभक्त 'X' का अनुपात है।
3. विचरण का सह-गुणांक इस प्रकार परिकलित होता है  $\frac{\bar{X}}{\sigma} \times 100$
4. कुछ स्थितियों में मानक विचलन शून्य के बराबर हो सकता है।

[Question ID = 4077][Question Description = 119\_10\_COM\_SEP22\_S4\_Q19]

1. 1 [Option ID = 16305]
2. 2 [Option ID = 16306]
3. 3 [Option ID = 16307]
4. 4 [Option ID = 16308]

20) Which one of the following expressions is not correct to calculate the coefficient of correlation between two variables?

1.  $\frac{\sum xy}{N \cdot \sigma_x \cdot \sigma_y}$
2.  $\sqrt{(byx)(bxy)}$
3.  $\frac{Cov(x, y)}{\sigma_x^2 \cdot \sigma_y^2}$
4.  $\frac{Cov(x, y)}{\sigma_x \cdot \sigma_y}$

दो चरों के मध्य सहसंबंध के सह-गुणांक की गणना करने हेतु निम्नलिखित में से कौन-सी एक अभिव्यक्ति सही नहीं है ?

1.  $\frac{\sum xy}{N \cdot \sigma_x \cdot \sigma_y}$
2.  $\sqrt{(byx)(bxy)}$
3.  $\frac{Cov(x, y)}{\sigma_x^2 \cdot \sigma_y^2}$
4.  $\frac{Cov(x, y)}{\sigma_x \cdot \sigma_y}$

[Question ID = 4078][Question Description = 120\_10\_COM\_SEP22\_S4\_Q20]

1. 1 [Option ID = 16309]
2. 2 [Option ID = 16310]
3. 3 [Option ID = 16311]
4. 4 [Option ID = 16312]

21) Which one of the following is not true for Authority?

1. It is the legitimate right of a superior to command and compel his subordinates to perform a certain act.
2. It is mostly well-defined, conspicuous and finite.
3. It can be delegated.
4. It serves as a basis of both formal and informal organizations.

प्राधिकार के लिए निम्नलिखित में से कौन सा सही नहीं है ?

1. एक निश्चित कार्य के निष्पादन के लिए अपने अधीनस्थों को आदेश देना एवं बाध्य करना उच्च अधिकारियों का वैध अधिकार है।
2. यह अधिकांशतः सुपरिभाषित, सुस्पष्ट एवं परिमित होता है।
3. इसे प्रत्यायोजित किया जा सकता है।
4. यह औपचारिक एवं अनौपचारिक संगठन दोनों के आधार के रूप में कार्य करता है।

[Question ID = 4079][Question Description = 121\_10\_COM\_SEP22\_S4\_Q21]

1. 1 [Option ID = 16313]
2. 2 [Option ID = 16314]
3. 3 [Option ID = 16315]
4. 4 [Option ID = 16316]

22)

Which one of the tests measures the applicant's, level of knowledge and skill in a particular job in which one he will be appointed?

1. Personality test
2. Achievement test
3. Interest test
4. Aptitude test

निम्नलिखित परीक्षणों में से कौन सा परीक्षण आवेदक में किसी विशेष कार्य, जिसके लिए उसे नियुक्त किया जायेगा, में ज्ञान एवं कौशल के स्तर का मापन करता है ?

1. व्यक्तित्व परीक्षण
2. लब्धि परीक्षण
3. अभिरूचि परीक्षण
4. अभिक्षमता परीक्षण

[Question ID = 4080][Question Description = 122\_10\_COM\_SEP22\_S4\_Q22]

1. 1 [Option ID = 16317]
2. 2 [Option ID = 16318]
3. 3 [Option ID = 16319]
4. 4 [Option ID = 16320]

23)

Which one of the following aims at the Task Dimension of organizational change?

1. Broadening or narrowing span of control
2. Diversifying into additional businesses
3. Improving the efficiency of machines
4. Reallocating authority

निम्नलिखित में से कौन सा संगठनात्मक बदलाव के कार्य आयाम पर केन्द्रित है ?

1. नियंत्रण विस्तृति को व्यापक अथवा संकीर्ण करना
2. अतिरिक्त व्यवसायों में विविधता उत्पन्न करना
3. मशीनों की कार्य कुशलता बढ़ाना
4. प्राधिकार का पुनर्विनिधान करना

[Question ID = 4081][Question Description = 123\_10\_COM\_SEP22\_S4\_Q23]

1. 1 [Option ID = 16321]
2. 2 [Option ID = 16322]
3. 3 [Option ID = 16323]
4. 4 [Option ID = 16324]

24)

Multicollinearity in the regression analysis is measured by :

1. Tolerance ( $1 - R^2$ )
2. Homoscedasticity
3. Partial F-test
4. Durbin-Whatson statistic

समाश्रयण विश्लेषण में बहुसरेखता का मापन निम्नलिखित में से किसके द्वारा किया जाता है ?

1. सहनशीलता  $(1 - R^2)$
2. समविसारिता
3. आंशिक F - परीक्षण
4. डर्बिन - व्हाटसन सांख्यिकी

[Question ID = 4082][Question Description = 124\_10\_COM\_SEP22\_S4\_Q24]

1. 1 [Option ID = 16325]
2. 2 [Option ID = 16326]
3. 3 [Option ID = 16327]
4. 4 [Option ID = 16328]

25)

Which one of the following distributions aptly describes the ownership of income and property in a capitalist economy?

1. Normal distribution
2. Poisson distribution
3. F - distribution
4. Pareto distribution

निम्नलिखित में से कौन-सा वितरण एक पूंजीवादी अर्थव्यवस्था में आय और संपत्ति के स्वामित्व का उपयुक्त ढंग से वर्णन करता है ?

1. सामान्य वितरण
2. 'पॉइसन' वितरण
3. एफ - वितरण
4. पैरेटो वितरण



[Question ID = 4083][Question Description = 125\_10\_COM\_SEP22\_S4\_Q25]

1. 1 [Option ID = 16329]
2. 2 [Option ID = 16330]
3. 3 [Option ID = 16331]
4. 4 [Option ID = 16332]

26)

The share capital of an RRB is subscribed by the Central Government, State Government and the Sponsoring Bank in which one of the following ratios ?

1. 40:40:20
2. 50:15:35
3. 50:35:15
4. 60:30:10

किसी क्षेत्रीय ग्रामीण बैंक (आर आर बी) की अंश पूँजी केन्द्र सरकार, राज्य सरकार और प्रायोजक बैंक द्वारा निम्नलिखित में से किस अनुपात में अभिदत्त होती है ?

1. 40:40:20
2. 50:15:35
3. 50:35:15
4. 60:30:10

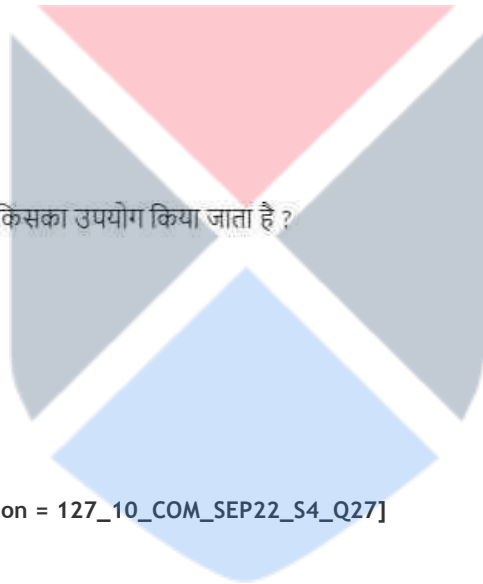
[Question ID = 4084][Question Description = 126\_10\_COM\_SEP22\_S4\_Q26]

1. 1 [Option ID = 16333]
2. 2 [Option ID = 16334]
3. 3 [Option ID = 16335]
4. 4 [Option ID = 16336]

27)

Which one of the following is used for international money transfer?

1. RTGS
2. NEFT
3. SWIFT
4. IMPS



अंतरराष्ट्रीय मुद्रा अंतरण हेतु निम्नलिखित में से किसका उपयोग किया जाता है ?

1. आर टी जी एस
2. एन ई एफ टी
3. एस डब्ल्यू आई एफ टी
4. आई एम पी एस

[Question ID = 4085][Question Description = 127\_10\_COM\_SEP22\_S4\_Q27]

1. 1 [Option ID = 16337]
2. 2 [Option ID = 16338]
3. 3 [Option ID = 16339]
4. 4 [Option ID = 16340]

28)

Pricing practice of setting a price target and then developing a product that would allow the firm to maximise total profit at that price is called :

1. Price ceiling
2. Price matching
3. Price lining
4. Pricing power

एक मूल्य का लक्ष्य नियत करने का मूल्य-निर्धारण कार्य और इसके बाद किसी उत्पाद का विकास, जो फर्म को उस उत्पाद के मूल्य पर कुल लाभ अधिकतम बनाने देगा, को कहा जाता है ;

1. मूल्य सीमा
2. मूल्य मिलान
3. मूल्य संरक्षण
4. मूल्य निर्धारण शक्ति

[Question ID = 4086][Question Description = 128\_10\_COM\_SEP22\_S4\_Q28]

1. 1 [Option ID = 16341]
2. 2 [Option ID = 16342]
3. 3 [Option ID = 16343]
4. 4 [Option ID = 16344]

29)

Which one of the following pricing method is used in regulated industries?

1. Mark-up Pricing
2. Target-Rate-of-Return-Pricing
3. Economic-Value-to-Customer Pricing
4. Competitive Pricing

विनियमित उद्योगों में प्रयुक्त कीमत निर्धारण विधि निम्नांकित में से कौन सी एक है ?

1. मार्क-अप कीमत निर्धारण
2. लक्ष्य-प्रतिफल दर कीमत निर्धारण
3. ग्राहक के लिए किफायती मूल्य निर्धारण
4. प्रतिस्पर्धी कीमत निर्धारण

[Question ID = 4087][Question Description = 129\_10\_COM\_SEP22\_S4\_Q29]

1. 1 [Option ID = 16345]
2. 2 [Option ID = 16346]
3. 3 [Option ID = 16347]
4. 4 [Option ID = 16348]

30)

Which one of the following categories of customers are opinion leaders who carefully search for new technologies that might give them a dramatic competitive advantage?

1. Early Adopters
2. Innovators
3. The early majority
4. The late majority



ग्राहक की निम्नांकित श्रेणियों में से कौन लोग अभिमत का निर्माण करने की अग्रणी भूमिका में होते हैं जो उन नई प्रौद्योगिकियों का सावधानीपूर्वक अन्वेषण करते हैं जिनके फलस्वरूप अपूर्व प्रतिस्पर्धी लाभ प्राप्त होने की प्रत्याशा रहती है ?

1. आरंभिक अंगीकारक
2. नवोन्मेषक
3. आरंभिक बहुमत उपभोक्ता
4. परवर्ती बहुमत उपभोक्ता

[Question ID = 4088][Question Description = 130\_10\_COM\_SEP22\_S4\_Q30]

1. 1 [Option ID = 16349]
2. 2 [Option ID = 16350]
3. 3 [Option ID = 16351]
4. 4 [Option ID = 16352]

31) Which one of the following is not coordinated in the Vertical Integration of Integrated Marketing Communications?

1. Pricing
2. Sales
3. Product development
4. Customer service



निम्नांकित में से कौन सा एक एकीकृत विपणन संप्रेषण के उर्ध्वार एकीकरण में समन्वित नहीं है :

1. कीमत-निर्धारण
2. बिक्री
3. उत्पाद नवोन्मेष
4. ग्राहक सेवा

[Question ID = 4089][Question Description = 131\_10\_COM\_SEP22\_S4\_Q31]

1. 1 [Option ID = 16353]
2. 2 [Option ID = 16354]
3. 3 [Option ID = 16355]
4. 4 [Option ID = 16356]

32) Which one of the following is not a marketing tactic used for designing customer value?

1. Service
2. Communication
3. Brand
4. Incentives

निम्नलिखित में से कौन सी एक विपणन रणनीति का प्रयोग ग्राहक मूल्य अभिकल्पन हेतु नहीं किया जाता है ?

1. सेवा
2. संप्रेषण
3. ब्रांड
4. प्रोत्साहन

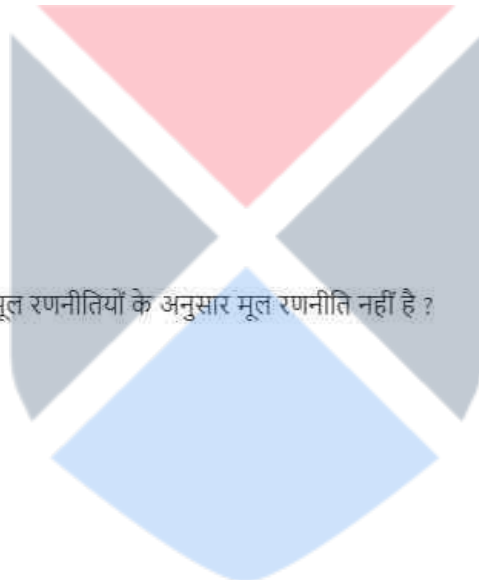
[Question ID = 4090][Question Description = 132\_10\_COM\_SEP22\_S4\_Q32]

1. 1 [Option ID = 16357]
2. 2 [Option ID = 16358]
3. 3 [Option ID = 16359]
4. 4 [Option ID = 16360]

33)

Which one from among the following is not a generic strategy as per the generic strategies identified by Porter ?

1. Market Penetration
2. Cost Leadership
3. Focus
4. Differentiation



निम्नलिखित में से कौन-सी पोर्टर द्वारा चिन्हित मूल रणनीतियों के अनुसार मूल रणनीति नहीं है ?

1. बाजार में पैठ (मार्केट पेनेट्रेशन)
2. लागत परख नेतृत्व (कॉस्ट लीडरशिप)
3. ध्यान केंद्रित
4. विभेदीकरण

[Question ID = 4091][Question Description = 133\_10\_COM\_SEP22\_S4\_Q33]

1. 1 [Option ID = 16361]
2. 2 [Option ID = 16362]
3. 3 [Option ID = 16363]
4. 4 [Option ID = 16364]

34)

Which is the single most important driver of innovation (Gerard. J. Tellis 2013) in a business firm ?

1. Labour
2. Capital
3. Government
4. Culture

किसी व्यवसायिक कंपनी में नवोन्मेष का एक मात्र सर्वाधिक महत्वपूर्ण प्रेरक (गेरार्ड जे. टैलीस, 2013), निम्नलिखित में से कौन-सा है ?

1. श्रम
2. पूंजी
3. सरकार
4. संस्कृति

[Question ID = 4092][Question Description = 134\_10\_COM\_SEP22\_S4\_Q34]

1. 1 [Option ID = 16365]
2. 2 [Option ID = 16366]
3. 3 [Option ID = 16367]
4. 4 [Option ID = 16368]

35) Which one of the following rights is usually not available to a partner consequent to the dissolution of a firm?

1. Right of equitable distribution of firm's property
2. Right to return of premium on premature winding up
3. Right to be consulted
4. Right to restrain any partner or his representatives from the use of firm name or firm property

निम्नलिखित में से कौन-सा अधिकार एक फर्म के समापन के परिणामस्वरूप सामान्यतया किसी साझेदार को नहीं प्राप्त होता है ?

1. फर्म की संपत्ति के साम्यिक वितरण का अधिकार।
2. समय-पूर्व समापन पर प्रीमियम के प्रतिफल का अधिकार।
3. परामर्श का अधिकार।
4. किसी साझेदार अथवा उसके प्रतिनिधियों को फर्म नाम अथवा फर्म संपत्ति के प्रयोग को प्रतिबाधित करने का अधिकार।

[Question ID = 4093][Question Description = 135\_10\_COM\_SEP22\_S4\_Q35]

1. 1 [Option ID = 16369]
2. 2 [Option ID = 16370]
3. 3 [Option ID = 16371]
4. 4 [Option ID = 16372]

36) Which one of the following duties is not a general duty of directors of a company?

1. Duty of good faith in order to promote the object of the company
2. Duty of due and reasonable care, skill and diligence and shall exercise independent judgment.
3. Duty to attend Board Meetings
4. Duty not to delegate or assign his office assignment.

निम्नलिखित में से कौन-सा एक किसी कंपनी के निदेशकों का एक सामान्य कर्तव्य नहीं है ?

1. कंपनी के उद्देश्य को प्रोत्साहित करने के क्रम में सद्भाव का कर्तव्य
2. सम्यक और तर्कसंगत देखभाल, कौशल और परिश्रम का प्रयोग करते हुए स्वतंत्र निर्णय का कर्तव्य।
3. बोर्ड मीटिंगों में उपस्थित होने का कर्तव्य
4. अपने पद और किसी समनुदेशन को प्रत्यायोजित अथवा निर्दिष्ट नहीं करने का कर्तव्य।

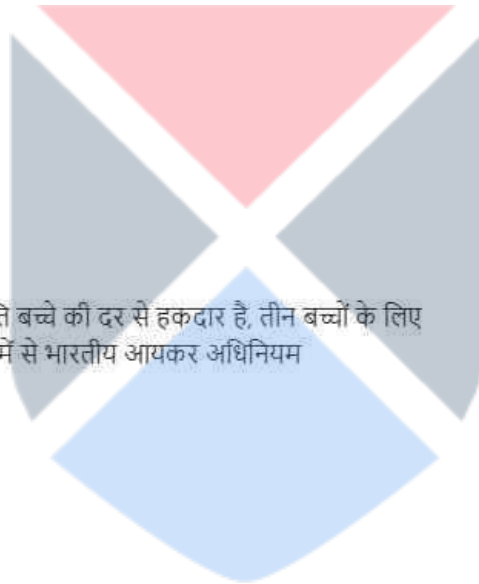
[Question ID = 4094][Question Description = 136\_10\_COM\_SEP22\_S4\_Q36]

1. 1 [Option ID = 16373]
2. 2 [Option ID = 16374]
3. 3 [Option ID = 16375]
4. 4 [Option ID = 16376]

37)

A is entitled to children education allowance @ ₹ 80 p.m. per child, for three children, it amounts to ₹240 p.m. It will be exempted to the extent to which one of the following under the Indian Income Tax Act?

1. ₹200 p.m.
2. ₹160 p.m.
3. ₹240 p.m.
4. ₹300 p.m.



अमुक व्यक्ति बाल शिक्षा भत्ते के लिए ₹ 80 प्रति बच्चे की दर से हकदार है, तीन बच्चों के लिए यह राशि ₹ 240 प्रति माह है। इसे निम्नलिखित में से भारतीय आयकर अधिनियम अनुसार कितनी छूट प्राप्त होगी ?

1. ₹ 200 प्रतिमाह
2. ₹ 160 प्रतिमाह
3. ₹ 240 प्रतिमाह
4. ₹ 300 प्रतिमाह

[Question ID = 4095][Question Description = 137\_10\_COM\_SEP22\_S4\_Q37]

1. 1 [Option ID = 16377]
2. 2 [Option ID = 16378]
3. 3 [Option ID = 16379]
4. 4 [Option ID = 16380]

38)

Which one of the following represents empirical generalisations relating to GDP growth and changes in unemployment ?

1. Phillips curve
2. Misery index
3. Pareto distribution
4. Okun's law

जी.डी.पी. वृद्धि एवं बेरोज़गारी में परिवर्तन के संबंध में निम्नलिखित में से कौन-सा आनुभविक सामान्यीकरण को प्रस्तुत करता है ?

1. फ़िलिप्स वक्र
2. गरीबी सूचकांक
3. परेटो वितरण
4. ओकन का नियम

[Question ID = 4096][Question Description = 138\_10\_COM\_SEP22\_S4\_Q38]

1. 1 [Option ID = 16381]
2. 2 [Option ID = 16382]
3. 3 [Option ID = 16383]
4. 4 [Option ID = 16384]

39) If the assessee is engaged in the business of growing and manufacturing tea in India, the agriculture income in that case shall be:

1. 25% of the income of such business
2. 40% of the income of such business
3. 60% of the income of such business
4. 75% of the income of such business

यदि करदाता भारत में चाय उगाने एवं उत्पादन के व्यवसाय में शामिल है, उस दशा में कृषि आय क्या होगी ?

1. उस व्यवसाय की आय का 25%
2. उस व्यवसाय की आय का 40%
3. उस व्यवसाय की आय का 60%
4. उस व्यवसाय की आय का 75%

[Question ID = 4097][Question Description = 139\_10\_COM\_SEP22\_S4\_Q39]

1. 1 [Option ID = 16385]
2. 2 [Option ID = 16386]
3. 3 [Option ID = 16387]
4. 4 [Option ID = 16388]

40)

Amount unutilised in the capital gain scheme for which exemption was claimed under section 54 shall be treated as long-term capital in the previous year?

1. In which period of 2 years has expired from the date of deposit
2. In which period of 2 years has expired from the date of transfer
3. In which period of 3 years has expired from date of deposit
4. In which period of 3 years has expired from the date of transfer

पूंजी प्राप्ति योजना में उपयोग नहीं की गयी धनराशि जिसके लिए ब्रूट का दावा धारा 54 के अंतर्गत किया गया था, उसे गत वर्ष में दीर्घावधिक पूंजी माना जायेगा :

1. जिसमें जमा तिथि से दो वर्ष की अवधि बीत चुकी है
2. जिसमें अंतरण तिथि से दो वर्ष का समय बीत चुका है
3. जिसमें जमा तिथि से तीन वर्ष का समय बीत चुका है
4. जिसमें अंतरण तिथि से तीन वर्ष का समय बीत चुका है

[Question ID = 4098][Question Description = 140\_10\_COM\_SEP22\_S4\_Q40]

1. 1 [Option ID = 16389]
2. 2 [Option ID = 16390]
3. 3 [Option ID = 16391]
4. 4 [Option ID = 16392]

41)

Currency depreciation in the Indian Rupee in recent times has largely been attributed to:

- A. Declining domestic savings
- B. Increasing FDI flows
- C. Portfolio outflows
- D. Higher currency circulation
- E. Higher imports and debt servicing

Choose the **correct** answer from the options given below:

1. A, B and C only
2. B, C and D only
3. A and D only
4. C and E only



हाल ही में भारतीय रुपये में मुद्रा अवमूल्यन व्यापक रूप से निम्नलिखित में से किन कारणों से है ?

- A. घरेलू बचत में कमी
- B. एफ.डी.आई. प्रवाह में वृद्धि
- C. पोर्टफोलियो बहिर्गमन
- D. अधिक मुद्रा चलन
- E. अधिक आयात एवं ऋण सेवा

नीचे दिए गए विकल्पों में से सही उत्तर चुनें :

- 1. केवल A, B और C
- 2. केवल B, C और D
- 3. केवल A और D
- 4. केवल C और E

[Question ID = 4099][Question Description = 141\_10\_COM\_SEP22\_S4\_Q41]

- 1. 1 [Option ID = 16393]
- 2. 2 [Option ID = 16394]
- 3. 3 [Option ID = 16395]
- 4. 4 [Option ID = 16396]

42)

Which of the following factors restrain Globalization?

- A. International economic integration
- B. Nationalism
- C. Emerging trade barriers
- D. Regulatory controls
- E. Move towards free marketing systems

Choose the **correct** answer from the options given below:

- 1. A and E only
- 2. C, D and E only
- 3. B, C and D only
- 4. A, B and D only

निम्नलिखित में से कौन से कारक वैश्वीकरण को प्रतिबाधित करते हैं ?

- A. अंतर्राष्ट्रीय आर्थिक एकीकरण
- B. राष्ट्रवाद
- C. उदीयमान व्यापारिक बाधाएँ
- D. विनियामक नियंत्रण
- E. मुक्त विपणन व्यवस्था की ओर बढ़ना

नीचे दिए गए विकल्पों में से सही उत्तर चुनें :

- 1. केवल A और E
- 2. केवल C, D और E
- 3. केवल B, C और D
- 4. केवल A, B और D

[Question ID = 4100][Question Description = 142\_10\_COM\_SEP22\_S4\_Q42]

- 1. 1 [Option ID = 16397]
- 2. 2 [Option ID = 16398]
- 3. 3 [Option ID = 16399]
- 4. 4 [Option ID = 16400]


43)

The purpose (aim) of stock split is to

- A. Increase the number of shares
- B. Reduce market price per share
- C. Arrest share price decline
- D. Encourage wider public ownership
- E. Reduce impact cost

Choose the **correct** answer from the options given below:

- 1. A, B and C only
- 2. B and D only
- 3. B, C and E only
- 4. A, D and E only





स्टॉक विखंडन का उद्देश्य (लक्ष्य) है :

- A. शेयरों की संख्या बढ़ाना
- B. प्रति शेयर बाज़ार मूल्य घटाना
- C. शेयर मूल्य हास को रोकना
- D. व्यापक सार्वजनिक स्वामित्व को प्रोत्साहन
- E. प्रभाव लागत घटाना

नीचे दिए गए विकल्पों में से सही उत्तर चुनें :

- 1. केवल A, B और C
- 2. केवल B और D
- 3. केवल B, C और E
- 4. केवल A, D और E

[Question ID = 4101][Question Description = 143\_10\_COM\_SEP22\_S4\_Q43]

- 1. 1 [Option ID = 16401]
- 2. 2 [Option ID = 16402]
- 3. 3 [Option ID = 16403]
- 4. 4 [Option ID = 16404]

44)

The contribution margin can be increased by which of the following?

- A. Increasing the selling price per unit
- B. Changing the sales mixture and selling more profitable products for which the P/V ratio is higher
- C. Keeping the marginal cost unchanged
- D. Increase the amount of fixed assets
- E. Decreasing the selling price per unit

Choose the **correct** answer from the options given below:

- 1. B, C and E only
- 2. A, C and D only
- 3. A and B only
- 4. D and E only

उपांत-अंशदान निम्नलिखित में से किसके द्वारा बढ़ाया जा सकता है ?

- A. प्रतिइकाई विक्रय मूल्य बढ़ाकर
- B. प्रकीर्ण विक्रय में बदलाव करना और उन अधिक लाभकारी उत्पादों की बिक्री करना जिनका पी / वी अनुपात उच्चतर हो
- C. उपांतीय कीमत को अपरिवर्तित रखते हुए
- D. स्थायी परिसंपत्ति की मात्रा में वृद्धि
- E. प्रति इकाई विक्रय मूल्य घटाकर

नीचे दिए गए विकल्पों में से सही उत्तर चुनें :

- 1. केवल B, C और E
- 2. केवल A, C और D
- 3. केवल A और B
- 4. केवल D और E

[Question ID = 4102][Question Description = 144\_10\_COM\_SEP22\_S4\_Q44]

- 1. 1 [Option ID = 16405]
- 2. 2 [Option ID = 16406]
- 3. 3 [Option ID = 16407]
- 4. 4 [Option ID = 16408]

45)

Which among the following information shall be disclosed for all public issues of shares irrespective of their issue price?

- A. Earning per share
- B. Dividend payout ratio
- C. Pre-issue P/E ratio
- D. Average return on net worth in last 3 years
- E. Net asset value per share based on last balance sheet

Choose the **correct** answer from the options given below:

- 1. A, B, D and E only
- 2. A, C, D and E only
- 3. B, C, D and E only
- 4. A, B, C and D only

निम्नलिखित में से कौन सी सूचनाएं शेयर के सभी सार्वजनिक निर्गमन के लिए उनके जारी मूल्य की परवाह किये बगैर प्रकट की जाएगी ?

- A. प्रति शेयर अर्जन
- B. लाभांश भुगतान अनुपात
- C. निर्गम पूर्व पी / ई अनुपात
- D. गत तीन वर्षों में औसत प्रतिफल पर निवल मालियत
- E. अंतिम तुलन पत्र पर आधारित प्रति शेयर निवल परिसंपत्ति मूल्य

नीचे दिए गए विकल्पों में से सही उत्तर चुनें :

- 1. केवल A, B, D और E
- 2. केवल A, C, D और E
- 3. केवल B, C, D और E
- 4. केवल A, B, C और D

[Question ID = 4103][Question Description = 145\_10\_COM\_SEP22\_S4\_Q45]

- 1. 1 [Option ID = 16409]
- 2. 2 [Option ID = 16410]
- 3. 3 [Option ID = 16411]
- 4. 4 [Option ID = 16412]

46) Which of the following statements are true regarding price and output determination under perfect competition?

- A. A firm is a price taker
- B. In the long run, a firm is in equilibrium when its  $AR=MR=LAC=LMC$
- C. A firm is in equilibrium in the short run only when its  $AC=AR=MR=MC$
- D. A firm reaches its shut-down point when price goes below its AC
- E. A firm fixes the price of its products when  $AR=MR$

Choose the **correct** answer from the options given below:

- 1. C and E only
- 2. A and B only
- 3. A, C and E only
- 4. B, C and D only

पूर्ण प्रतिस्पर्धा के अधीन कीमत और उत्पाद निर्धारण के संबंध में निम्नांकित में से कौन से कथन सही हैं ?

- A. प्रतिष्ठान कीमत प्राप्त करने वाला होता है।
- B. दीर्घकाल में प्रतिष्ठान साम्यावस्था में होता है जब इसका  $AR=MR=LAC=LMC$  होता है।
- C. कोई प्रतिष्ठान केवल अल्पावधि में साम्यावस्था में होता है जब इसका  $AC=AR=MR=MC$  होता है।
- D. प्रतिष्ठान को बंद करने की नौबत आ जाती है जब कीमत इसके AC से नीचे चली जाती है।
- E. प्रतिष्ठान अपने उत्पादों की कीमत का निर्धारण करता है जब  $AR=MR$  होता है।

नीचे दिए गए विकल्पों में से सही उत्तर चुनें :

- 1. केवल C और E
- 2. केवल A और B
- 3. केवल A, C और E
- 4. केवल B, C और D

[Question ID = 4104][Question Description = 146\_10\_COM\_SEP22\_S4\_Q46]

- 1. 1 [Option ID = 16413]
- 2. 2 [Option ID = 16414]
- 3. 3 [Option ID = 16415]
- 4. 4 [Option ID = 16416]

47) Which of the following statements regarding the short-term theory of production and cost analysis are false?

- A. Economic rent is the same as economic profit
- B. Imputed cost is the rent of a hired building
- C. When  $AC=MC$ , AC is minimum
- D. When MC is rising,  $AC > MC$
- E. Output is optimum when  $AC = MC$

Choose the **correct** answer from the options given below:

- 1. A and E only
- 2. B and D only
- 3. A, B and C only
- 4. C, D and E only

उत्पादन और लागत विश्लेषण के अल्पकालिक सिद्धांत के बारे में निम्नांकित में से कौन से कथन गलत हैं ?

- A. आर्थिक किराया और आर्थिक लाभ दोनों एक समान होते हैं।
- B. आरोपित लागत किराया पर लिए गए भवन का किराया होता है।
- C. जब  $AC=MC$  हो तो  $AC$  न्यूनतम होता है।
- D. जब  $MC$  में वृद्धि हो रही हो तो  $AC > MC$
- E. उत्पाद स्तर इष्टतम होता है जब  $AC=MC$

नीचे दिए गए विकल्पों में से सही उत्तर चुनें :

- 1. केवल A और E
- 2. केवल B और D
- 3. केवल A, B और C
- 4. केवल C, D और E

[Question ID = 4105][Question Description = 147\_10\_COM\_SEP22\_S4\_Q47]

- 1. 1 [Option ID = 16417]
- 2. 2 [Option ID = 16418]
- 3. 3 [Option ID = 16419]
- 4. 4 [Option ID = 16420]

48)

Which of the following statements regarding price and output determination under monopoly are correct?

- A. A monopoly firm can fix its price anywhere along its demand curve
- B. Even during short run when a monopoly firm earns normal profit, it produces less than its optimum capacity
- C. The slope of monopoly's MR curve is twice the slope of its AR curve
- D. Price discrimination is possible only when demand curves are identical in two markets
- E. Equilibrium price of a monopolist is always higher than that of a perfectly competitive firm

Choose the **correct** answer from the options given below:

- 1. A, D and E only
- 2. A, B and E only
- 3. B, C and D only
- 4. B, C and E only

एकाधिकार के अधीन कीमत और उत्पादन अवधारण के बारे में निम्नांकित में से कौन से कथन सही हैं ?

- A. एकाधिकारी प्रतिष्ठान अपने मांग वक्र पर कहीं भी अपनी कीमत नियत कर सकता है।
- B. यहां तक कि अल्पावधि के दौरान भी जब कोई एकाधिकारी फर्म सामान्य लाभ अर्जित करता है तो भी यह अपनी इष्टतम क्षमता से कम उत्पादन करता है।
- C. एकाधिकारी कंपनी के एम आर वक्र की अवनति इसके ए आर वक्र की तुलना में दो गुणी होती है।
- D. मांग वक्र के दोनों बाजारों में सादृश्य होने पर ही मूल्य में विभेद संभव है।
- E. एकाधिकारी की साम्य कीमत पूर्णतः प्रतिस्पर्धी प्रतिष्ठान की अपेक्षा सदैव अधिक होती है।

नीचे दिए गए विकल्पों में से सही उत्तर चुनें :

- 1. केवल A, D और E
- 2. केवल A, B और E
- 3. केवल B, C और D
- 4. केवल B, C और E

[Question ID = 4106][Question Description = 148\_10\_COM\_SEP22\_S4\_Q48]

- 1. 1 [Option ID = 16421]
- 2. 2 [Option ID = 16422]
- 3. 3 [Option ID = 16423]
- 4. 4 [Option ID = 16424]

49)

Which of the following are the components of Mc Kinsey's 7-S framework ?

- A. Shared values
- B. Procurement
- C. Strategy
- D. Technology Development
- E. System

Choose the **correct** answer from the options given below:

- 1. A, C and E only
- 2. B, C and E only
- 3. A, B and E only
- 4. B, D and E only



निम्नलिखित में मैक किन्से की 7-5 रूपरेखा के घटक कौन-से हैं ?

- A. सांझी अवधारणायें
- B. अधिप्राप्ति
- C. रणनीति
- D. तकनीकी विकास
- E. तंत्र

नीचे दिए गए विकल्पों में से सही उत्तर चुनें :

- 1. केवल A, C और E
- 2. केवल B, C और E
- 3. केवल A, B और E
- 4. केवल B, D और E

[Question ID = 4107][Question Description = 149\_10\_COM\_SEP22\_S4\_Q49]

- 1. 1 [Option ID = 16425]
- 2. 2 [Option ID = 16426]
- 3. 3 [Option ID = 16427]
- 4. 4 [Option ID = 16428]

50)

The MM hypothesis of the irrelevance of dividends is based on which of the following critical assumptions?

- A. Investors are able to forecast future prices and dividends with certainty
- B. The firm has a given investment policy which does not change
- C. All financing is done through retained earnings
- D. There are no taxes
- E. Perfect capital markets in which all investors are rational

Choose the **correct** answer from the options given below:

- 1. A, B and C only
- 2. C, D and E only
- 3. A, B, D and E only
- 4. B, C, D and E only

लाभांशों की संबद्धता की एम एम प्राक्कल्पना निम्नलिखित किन प्रभावी पूर्वधारणाओं पर आधारित है ?

- A. निवेशक भविष्य की कीमतों और लाभांशों की अवश्यभावता के बारे में पूर्वानुमान करने में सक्षम हैं।
- B. कंपनी की प्रदत्त निवेश नीति है जोकि परिवर्तित नहीं होती है।
- C. सभी वित्तीयन प्रतिधारित उपार्जन के माध्यम से किया जाता है।
- D. कोई कर नहीं होता है।
- E. पूर्ण पूंजी बाजार जिसमें सभी निवेशक तर्क संगत होते हैं।

नीचे दिए गए विकल्पों में से सही उत्तर चुनें :

- 1. केवल A, B और C
- 2. केवल C, D और E
- 3. केवल A, B, D और E
- 4. केवल B, C, D और E

[Question ID = 4108][Question Description = 150\_10\_COM\_SEP22\_S4\_Q50]

- 1. 1 [Option ID = 16429]
- 2. 2 [Option ID = 16430]
- 3. 3 [Option ID = 16431]
- 4. 4 [Option ID = 16432]

51)

Which of the following are the properties of Binomial distribution?

- A. May be symmetrical or skewed
- B. Uni-modal, bell-shaped and symmetrical
- C. Asymptotic to the x-axis
- D. n and p are the two parameters
- E.  $\mu$  and  $\sigma$  are the two parameters

Choose the **correct** answer from the options given below:

- 1. B and E only
- 2. A and D only
- 3. C and E only
- 4. B, C and D only



निम्नलिखित में से कौन से द्विपद बंटन के गुण हैं ?

- A. ये सममित अथवा बैषम्य हो सकते हैं।
- B. एकल प्रतिरूप, घंटाकार और सममित।
- C.  $x$ -अक्ष पर असममित।
- D.  $n$  और  $p$  दो मानदण्ड हैं।
- E.  $\mu$  और  $\sigma$  दो मानदण्ड हैं।

नीचे दिए गए विकल्पों में से सही उत्तर चुनें :

- 1. केवल B और E
- 2. केवल A और D
- 3. केवल C और E
- 4. केवल B, C और D

[Question ID = 4109][Question Description = 151\_10\_COM\_SEP22\_S4\_Q51]

- 1. 1 [Option ID = 16433]
- 2. 2 [Option ID = 16434]
- 3. 3 [Option ID = 16435]
- 4. 4 [Option ID = 16436]

52)

Which of the following are the parameters in the Financial Inclusion Index in India ?

- A. Affordability
- B. Availability and usage
- C. Ease of access
- D. Transparency and disclosure
- E. Quality of financial inclusion

Choose the **correct** answer from the options given below:

- 1. A, B and C only
- 2. C, D and E only
- 3. A, B and D only
- 4. B, C and E only



भारत में वित्तीय समावेशन सूचकांक के मानदंड निम्नलिखित में से कौन-से हैं ?

- A. वहनीयता
- B. उपलब्धता एवं उपयोग
- C. अभिगम की सुगमता
- D. पारदर्शिता एवं प्रकटीकरण
- E. वित्तीय समावेशन की गुणवत्ता

नीचे दिए गए विकल्पों में से सही उत्तर चुनें :

- 1. केवल A, B और C
- 2. केवल C, D और E
- 3. केवल A, B और D
- 4. केवल B, C और E

[Question ID = 4110][Question Description = 152\_10\_COM\_SEP22\_S4\_Q52]

- 1. 1 [Option ID = 16437]
- 2. 2 [Option ID = 16438]
- 3. 3 [Option ID = 16439]
- 4. 4 [Option ID = 16440]

53)

Which of the following forces push up the productivity of employees in an organisation?

- A. Difficulty of work
- B. Fear of working self out of job
- C. Egoistic drive to accomplish
- D. Desire for promotion
- E. Motive towards doing work

Choose the **correct** answer from the options given below:

- 1. A and B only
- 2. B, C and D only
- 3. A, D and E only
- 4. C, D and E only

किसी संगठन में कर्मचारी की उत्पादकता को बढ़ाने वाले कौन से तत्व हैं ?

- A. कार्य की कठिनता
- B. नौकरी से स्वयं के बाहर होने का भय
- C. कार्य संपन्न करने का अहंवादी अभिप्रेरण
- D. पदोन्नति की अभिलाषा
- E. कार्य निष्पादन का उद्देश्य

नीचे दिए गए विकल्पों में से सही उत्तर चुनें :

- 1. केवल A और B
- 2. केवल B, C और D
- 3. केवल A, D और E
- 4. केवल C, D और E

[Question ID = 4111][Question Description = 153\_10\_COM\_SEP22\_S4\_Q53]

- 1. 1 [Option ID = 16441]
- 2. 2 [Option ID = 16442]
- 3. 3 [Option ID = 16443]
- 4. 4 [Option ID = 16444]


54)

According to the Contingency Approach, the factors governing the Span of Management are:

- A. Type of work
- B. Ability of the manager
- C. Ability of the employees
- D. Level of management
- E. Geographic location

Choose the **correct** answer from the options given below:

- 1. B and C only
- 2. B, C and D only
- 3. A, D and E only
- 4. A, B, C, D and E



आकस्मिकता उपागम के अनुसार नियंत्रण विस्तृति संचालित करने वाले कारक हैं :

- A. कार्य का प्रकार
- B. प्रबंधक का सामर्थ्य
- C. कर्मचारियों का सामर्थ्य
- D. प्रबंधन स्तर
- E. भौगोलिक अवस्थिति

नीचे दिए गए विकल्पों में से सही उत्तर चुनें :

- 1. केवल B और C
- 2. केवल B, C और D
- 3. केवल A, D और E
- 4. केवल A, B, C, D और E

[Question ID = 4112][Question Description = 154\_10\_COM\_SEP22\_S4\_Q54]

- 1. 1 [Option ID = 16445]
- 2. 2 [Option ID = 16446]
- 3. 3 [Option ID = 16447]
- 4. 4 [Option ID = 16448]

55)

RBI financial inclusion index (FI - Index) quality parameter captures information on which of the following :

- A. Financial literacy
- B. Consumer protection
- C. Ease of access
- D. Availability and usage
- E. Inequality and deficiency in service

Choose the **correct** answer from the options given below:

- 1. A, B and C only
- 2. C, D and E only
- 3. A, D and E only
- 4. A, B and E only

RBI वित्तीय समावेशन सूचकांक (FI - सूचकांक) गुणवत्ता मानदंड निम्नलिखित में से किन सूचनाओं को धारित करता है ?

- A. वित्तीय साक्षरता
- B. उपभोक्ता संरक्षण
- C. अभिगम की सुगमता
- D. उपलब्धता एवं उपयोग
- E. सेवा में असमानता एवं कमी

नीचे दिए गए विकल्पों में से सही उत्तर चुनें :

- 1. केवल A, B और C
- 2. केवल C, D और E
- 3. केवल A, D और E
- 4. केवल A, B और E

[Question ID = 4113][Question Description = 155\_10\_COM\_SEP22\_S4\_Q55]

- 1. 1 [Option ID = 16449]
- 2. 2 [Option ID = 16450]
- 3. 3 [Option ID = 16451]
- 4. 4 [Option ID = 16452]


56)

Properties of a good point estimator includes which of the following?

- A. Stationarity
- B. Efficiency
- C. Consistency
- D. Neutrality
- E. Unbiasedness

Choose the **correct** answer from the options given below:

- 1. A, B and C only
- 2. C, D and E only
- 3. A, D and E only
- 4. B, C and E only



उचित बिंदु अनुमान पद्धति (गुड प्वाइंट एस्टीमेटर) के गुणों में निम्नलिखित में से कौन-से सम्मिलित हैं ?

- A. स्थरीकरण
- B. प्रवीणता
- C. समरूपता
- D. तटस्थता
- E. निष्पक्षता

नीचे दिए गए विकल्पों में से सही उत्तर चुनें :

- 1. केवल A, B और C
- 2. केवल C, D और E
- 3. केवल A, D और E
- 4. केवल B, C और E

[Question ID = 4114][Question Description = 156\_10\_COM\_SEP22\_S4\_Q56]

- 1. 1 [Option ID = 16453]
- 2. 2 [Option ID = 16454]
- 3. 3 [Option ID = 16455]
- 4. 4 [Option ID = 16456]


57)

Which of the following are the essential elements for defining a business ?

- A. Dealers
- B. Products
- C. Markets
- D. Competitors
- E. Functions

Choose the **correct** answer from the options given below:

- 1. B, C and E only
- 2. A, B and E only
- 3. B, C and D only
- 4. B and D only



किसी व्यवसाय को परिभाषित करने के लिए आवश्यक तत्व निम्नलिखित में से कौन-से हैं ?

- A. डीलर
- B. उत्पाद
- C. बाज़ार
- D. प्रतिस्पर्धी
- E. प्रकार्य

नीचे दिए गए विकल्पों में से सबसे उपयुक्त उत्तर चुनें :

- 1. केवल B, C और E
- 2. केवल A, B और E
- 3. केवल B, C और D
- 4. केवल B और D

[Question ID = 4115][Question Description = 157\_10\_COM\_SEP22\_S4\_Q57]

- 1. 1 [Option ID = 16457]
- 2. 2 [Option ID = 16458]
- 3. 3 [Option ID = 16459]
- 4. 4 [Option ID = 16460]

58)

On which of the following bases buyers are divided in psychographic segmentation?

- A. Loyalty status
- B. Life style
- C. Buyer-readiness stage
- D. Values
- E. User status

Choose the **correct** answer from the options given below:

- 1. B and D only
- 2. A, B and D only
- 3. B, C and E only
- 4. A, C, D and E only



निम्नांकित में से किन आधारों पर क्रेताओं को मनोलेखी खंडीकरण में विभक्त किया जाता है ?

- A. निष्ठा की प्रस्थिति
- B. जीवनशैली
- C. क्रेता-तत्परता प्रक्रम
- D. जीवन मूल्य
- E. प्रयोक्ता की प्रस्थिति

नीचे दिए गए विकल्पों में से सही उत्तर चुनें :

- 1. केवल B और D
- 2. केवल A, B और D
- 3. केवल B, C और E
- 4. केवल A, C, D और E

[Question ID = 4116][Question Description = 158\_10\_COM\_SEP22\_S4\_Q58]

- 1. 1 [Option ID = 16461]
- 2. 2 [Option ID = 16462]
- 3. 3 [Option ID = 16463]
- 4. 4 [Option ID = 16464]

59)

Which of the following issues are covered in Social Marketing?

- A. Tobacco
- B. Family planning
- C. Public health
- D. Financial well-being
- E. Social good

Choose the **correct** answer from the options given below:

- 1. A and B only
- 2. A, B and C only
- 3. C, D and E only
- 4. A, B, C, D and E



निम्नांकित में से कौन से अवयव सामाजिक विपणन (सोशल मार्केटिंग) में सन्निहित हैं ?

- A. तम्बाकू
- B. परिवार नियोजन
- C. लोक स्वास्थ्य
- D. वित्तीय सकुशलता
- E. सामाजिक हित

नीचे दिए गए विकल्पों में से सही उत्तर चुनें :

- 1. केवल A और B
- 2. केवल A, B और C
- 3. केवल C, D और E
- 4. A, B, C, D और E

[Question ID = 4117][Question Description = 159\_10\_COM\_SEP22\_S4\_Q59]

- 1. 1 [Option ID = 16465]
- 2. 2 [Option ID = 16466]
- 3. 3 [Option ID = 16467]
- 4. 4 [Option ID = 16468]

60)

Out of the following statements, which are not true in respect of a Limited Liability Partnership?

- A. There must be at least one 'Designated member' at all times.
- B. Designated members do not have the same rights and duties as any other member.
- C. There is no specific requirement to have any non-designated members.
- D. A Limited Liability Partnership may be established such that all members are considered to be designated members

Choose the **correct** answer from the options given below:

- 1. A, C and D only
- 2. A and B only
- 3. B and D only
- 4. B, C and D only

सीमित दायित्व हिस्सेदारी के संदर्भ में निम्नांकित कथनों में से कौन से कथन सही नहीं हैं ?

- A. उसमें सदैव कम से कम एक नामित सदस्य होगा।
- B. नामित सदस्यों को अन्य सदस्य के समान अधिकार और कर्तव्य नहीं प्राप्त होते हैं।
- C. इसमें किसी गैर-नामित सदस्य की कोई विशेष आवश्यकता नहीं होती है।
- D. कोई ऐसी सीमित दायित्व वाली साझेदारी स्थापित की जा सकती है जिसमें सभी सदस्य नामित सदस्यों के रूप में माने जाते हों।

नीचे दिए गए विकल्पों में से सही उत्तर चुनें :

- 1. केवल A, C और D
- 2. केवल A और B
- 3. केवल B और D
- 4. केवल B, C और D

[Question ID = 4118][Question Description = 160\_10\_COM\_SEP22\_S4\_Q60]

- 1. 1 [Option ID = 16469]
- 2. 2 [Option ID = 16470]
- 3. 3 [Option ID = 16471]
- 4. 4 [Option ID = 16472]

61)

Which of the following companies cannot be a 'Small Company'?

- A. A holding company or a subsidiary company
- B. A company registered under Section 8
- C. A company or body corporate governed by any Special Act
- D. One Person Company (OPC)

Choose the **correct** answer from the options given below:

- 1. B and C only
- 2. A, B and C only
- 3. B, C and D only
- 4. A and D only

निम्नलिखित में से कौन-सी कंपनियाँ छोटी कंपनी (स्माल कंपनी) नहीं हो सकती ?

- A. कोई धारक कंपनी अथवा एक सहायक कंपनी।
- B. कोई ऐसी कंपनी जो धारा 8 के तहत पंजीकृत है।
- C. किसी विशेष अधिनियम से शासित होने वाली कोई कंपनी अथवा निकाय निगम।
- D. एक व्यक्ति वाली कंपनी।

नीचे दिए गए विकल्पों में से सही उत्तर चुनें :

- 1. केवल B और C
- 2. केवल A, B और C
- 3. केवल B, C और D
- 4. केवल A और D

[Question ID = 4119][Question Description = 161\_10\_COM\_SEP22\_S4\_Q61]

- 1. 1 [Option ID = 16473]
- 2. 2 [Option ID = 16474]
- 3. 3 [Option ID = 16475]
- 4. 4 [Option ID = 16476]

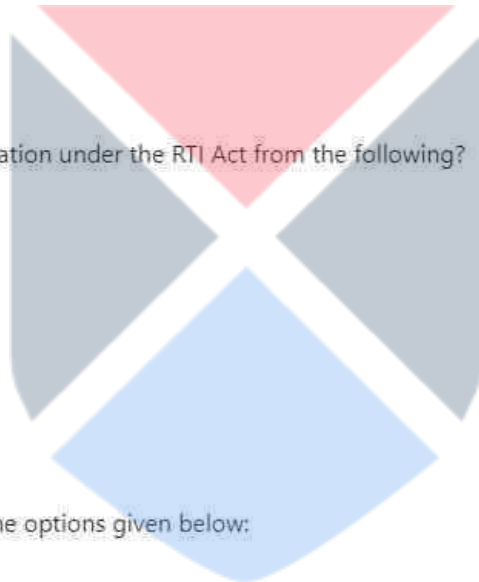
62)

Who are not eligible to get information under the RTI Act from the following?

- A. Corporations
- B. Associations
- C. Companies
- D. Citizens
- E. Legal entities

Choose the **correct** answer from the options given below:

- 1. A, B, D and E only
- 2. A, B, C and E only
- 3. B and D only
- 4. A, D and E only



निम्नलिखित में से कौन आर टी आई अधिनियम के तहत सूचना पाने के योग्य नहीं है ?

- A. निगम
- B. संघ
- C. कंपनियाँ
- D. नागरिक
- E. विधिक प्रतिष्ठान

नीचे दिए गए विकल्पों में से सही उत्तर चुनें :

- 1. केवल A, B, D और E
- 2. केवल A, B, C और E
- 3. केवल B और D
- 4. केवल A, D और E

[Question ID = 4120][Question Description = 162\_10\_COM\_SEP22\_S4\_Q62]

- 1. 1 [Option ID = 16477]
- 2. 2 [Option ID = 16478]
- 3. 3 [Option ID = 16479]
- 4. 4 [Option ID = 16480]

63)

Which of the following cannot use ITR-1 form to file return under the Indian Income Tax Act ?

- A. An individual who is a director in a company.
- B. An individual who has any asset located outside India.
- C. An individual whose total income does not exceed Rs. 50,00,000.
- D. An individual who has income from any source outside India.
- E. An individual who has any unlisted equity shares at any time during the previous year.

Choose the **correct** answer from the options given below:

- 1. A, B, C and D only
- 2. A, B, D and E only
- 3. A, C and E only
- 4. B, C and E only

भारतीय आयकर अधिनियम के अनुसार निम्नलिखित में से कौन आयकर रिटर्न-1 फार्म का प्रयोग नहीं कर सकते हैं ?

- A. वह व्यक्ति जो कंपनी में निदेशक है
- B. वह व्यक्ति जिसकी कोई संपत्ति भारत के बाहर स्थित है
- C. वह व्यक्ति जिसकी कुल आय रु. 50,00,000 से अधिक न हो
- D. वह व्यक्ति जिसकी आय का कोई स्रोत भारत से बाहर का है
- E. वह व्यक्ति जिसके पास पूर्व वर्ष के दौरान किसी समय कोई गैर-सूचीबद्ध इक्विटी अंश होता है

नीचे दिए गए विकल्पों में से सही उत्तर चुनें :

- 1. केवल A, B, C और D
- 2. केवल A, B, D और E
- 3. केवल A, C और E
- 4. केवल B, C और E

[Question ID = 4121][Question Description = 163\_10\_COM\_SEP22\_S4\_Q63]

- 1. 1 [Option ID = 16481]
- 2. 2 [Option ID = 16482]
- 3. 3 [Option ID = 16483]
- 4. 4 [Option ID = 16484]

64)

Which of the following are included in Salary as per Section 17(1) of the Income Tax Act?

- A. Wages
- B. Any pension or annuity
- C. Any interest from Government securities
- D. Any gratuity
- E. Any advance of salary

Choose the **correct** answer from the options given below:

- 1. A, B, C and D only
- 2. A, B, C, D and E
- 3. A, B, D and E only
- 4. C and E only

आयकर अधिनियम की धारा 17 (1) के अनुसार वेतन में निम्नलिखित में से कौन से शामिल नहीं हैं ?

- A. मजदूरी
- B. किसी प्रकार की पेंशन या वार्षिकी
- C. सरकारी प्रतिभूति का किसी प्रकार का ब्याज
- D. किसी प्रकार का उपदान (ग्रेच्युटी)
- E. वेतन का किसी प्रकार का अग्रिम

नीचे दिए गए विकल्पों में से सही उत्तर चुनें :

- 1. केवल A, B, C और D
- 2. A, B, C, D और E
- 3. केवल A, B, D और E
- 4. केवल C और E

[Question ID = 4122][Question Description = 164\_10\_COM\_SEP22\_S4\_Q64]

- 1. 1 [Option ID = 16485]
- 2. 2 [Option ID = 16486]
- 3. 3 [Option ID = 16487]
- 4. 4 [Option ID = 16488]

65)

Which of the following are correctly needed to claim exemptions in respect of HRA?

- A. Salary
- B. Place of residence
- C. Standard rent
- D. Rent paid
- E. HRA received

Choose the **correct** answer from the options given below:

- 1. B, C, D and E only
- 2. A, C, D and E only
- 3. A, B, D and E only
- 4. A, B and C only

मकान किराया भत्ता के संदर्भ में छूट का दावा निम्नलिखित में से किनके आधार पर किया जाता है ?

- A. वेतन
- B. आवास-स्थान
- C. मानक किराया
- D. संदन्त किराया
- E. प्राप्त मकान किराया भत्ता

नीचे दिए गए विकल्पों में से सही उत्तर चुनें :

- 1. केवल B, C, D और E
- 2. केवल A, C, D और E
- 3. केवल A, B, D और E
- 4. केवल A, B और C

[Question ID = 4123][Question Description = 165\_10\_COM\_SEP22\_S4\_Q65]

- 1. 1 [Option ID = 16489]
- 2. 2 [Option ID = 16490]
- 3. 3 [Option ID = 16491]
- 4. 4 [Option ID = 16492]

66)

Match **List I** with **List II**

List I Tariff/Subsidy	List II Explanation
A. Tariffication	I. They have demonstrably adverse effects on other member countries.
B. Prohibited subsidies	II. They act on goods which are contingent upon export performance.
C. Actionable subsidies	III. Replacement of existing non-tariff restrictions.
D. Non-actionable subsidies	IV. For industrial research in disadvantaged regions.

Choose the **correct** answer from the options given below:

- 1. A - II, B - III, C - I, D - IV
- 2. A - IV, B - I, C - II, D - III
- 3. A - III, B - II, C - I, D - IV
- 4. A - II, B - IV, C - III, D - I

सूची -I को सूची -II से सुमेलित कीजिए :

सूची -I टैरिफ / सहायिकी	सूची -II व्याख्याएं
A. टैरिफ निर्धारण	I. उनका अन्य सदस्य देशों पर प्रत्यक्षत प्रतिकूल प्रभाव होता है।
B. निषिद्ध राज्य-सहायिकी	II. वे उन वस्तुओं पर प्रभावी होती है जो कि निर्यात निष्पादन पर संभावित हैं।
C. व्यवहार्य राज्य-सहायिकी	III. वर्तमान गैर-प्रशुल्क निर्बंधन का प्रतिस्थापन
D. गैर-व्यवहार्य राज्य-सहायिकी	IV. गैर-लाभ वाले क्षेत्रों में औद्योगिकी शोध के लिए

नीचे दिए गए विकल्पों में से सही उत्तर चुनिए :

1. A - II , B - III , C - I , D - IV
2. A - IV , B - I , C - II , D - III
3. A - III , B - II , C - I , D - IV
4. A - II , B - IV , C - III , D - I

[Question ID = 4124][Question Description = 166\_10\_COM\_SEP22\_S4\_Q66]

1. 1 [Option ID = 16493]
2. 2 [Option ID = 16494]
3. 3 [Option ID = 16495]
4. 4 [Option ID = 16496]

67)

Match **List I** with **List II**

List I Type of Costing	List II Description
A. Marginal Costing	I. Integrated approach to determine product features, product price, product costs and product design that helps ensure a company to earn reasonable profit on new products.
B. ABC Costing	II. The amount of any given volume of output by which the aggregate costs are changed if the volume of output is increased by one unit.
C. Target Costing	III. Used when identical units are produced through an on-going series of production steps.
D. Process Costing	IV. Costing system in which costs being with tracing of activities and then to producing the product.

Choose the **correct** answer from the options given below:

1. A - II , B - IV , C - I , D - III
2. A - I , B - IV , C - III , D - II
3. A - II , B - III , C - IV , D - I
4. A - I , B - III , C - II , D - IV



सूची -I को सूची -II से सुमेलित कीजिए :

सूची -I लागत निर्धारण के प्रकार	सूची -II विवरण
A. सीमांत लागत-निर्धारण	I. उत्पाद विशेषताएँ, उत्पाद कीमत, उत्पाद लागत और उत्पाद अभिकल्प के निर्धारण का एकीकृत उपागम जो किसी कंपनी को यह सुनिश्चित करने में सहायता करता है कि नये उत्पादों पर उसे उचित लाभ प्राप्त होगा।
B. ए बी सी लागत निर्धारण	II. यदि उत्पादन की मात्रा में एक इकाई की वृद्धि होने पर उत्पादन की किसी दी गई मात्रा की राशि जिससे कुल लागत में परिवर्तन होता है।
C. लक्षित लागत-निर्धारण	III. उत्पादन सोपानों की चालू श्रृंखला द्वारा सदृश एककों के उत्पादित होने की दशा में प्रयुक्त होता है।
D. प्रक्रिया लागत-निर्धारण	IV. लागत-निर्धारण प्रणाली जिसमें लागत-कार्यकलाप के चिह्नान्कन से आरंभ होने के पश्चात उत्पाद का उत्पादन होता है।

नीचे दिए गए विकल्पों में से सही उत्तर चुनिए :

1. A - II , B - IV , C - I , D - III
2. A - I , B - IV , C - III , D - II
3. A - II , B - III , C - IV , D - I
4. A - I , B - III , C - II , D - IV

[Question ID = 4125][Question Description = 167\_10\_COM\_SEP22\_S4\_Q67]

1. 1 [Option ID = 16497]
2. 2 [Option ID = 16498]
3. 3 [Option ID = 16499]
4. 4 [Option ID = 16500]

68)

Match **List I** with **List II**

List I	List II
<b>Objectives of business firms</b>	<b>Suggested by</b>
A. Sales Revenue maximization	I. K.W. Rothschild.
B. Maximization of Firm's growth rate	II. Cyert and March
C. Long-term survival	III. W.J. Baumol
D. Satisfying behaviour	IV. Robin Marris

Choose the **correct** answer from the options given below:

1. A - III, B - IV, C - I, D - II
2. A - IV, B - III, C - II, D - I
3. A - II, B - I, C - IV, D - III
4. A - I, B - II, C - III, D - IV

सूची -I को सूची -II से सुमेलित कीजिए :

सूची -I व्यवसायिक प्रतिष्ठानों के उद्देश्य	सूची -II प्रस्तावक
A. विक्रय राजस्व महत्तमीकरण	I. के. डब्लू. रोथ्स चाइल्ड
B. प्रतिष्ठान की वृद्धि दर का महत्तमीकरण	II. सीयर्ट एण्ड मार्च
C. दीर्घकालिक उत्तरजीविता	III. डब्लू.जे. बॉमोल
D. संतुष्टि-परक व्यवहार	IV. रोबिन मैरिस

नीचे दिए गए विकल्पों में से सही उत्तर चुनिए :

1. A - III , B - IV , C - I , D - II
2. A - IV , B - III , C - II , D - I
3. A - II , B - I , C - IV , D - III
4. A - I , B - II , C - III , D - IV

[Question ID = 4126][Question Description = 168\_10\_COM\_SEP22\_S4\_Q68]

1. 1 [Option ID = 16501]
2. 2 [Option ID = 16502]
3. 3 [Option ID = 16503]
4. 4 [Option ID = 16504]

69)

Match **List I** with **List II**

List I	List II
Economic framework	Description
A. Stackelberg model	I. The situation in which each player in an oligopolistic markets adopts its dominant strategy but could do by cooperating
B. Nash equilibrium	II. Conceptualisation for identifying the structural determinants of the intensity of competition and the probability of firms in oligopolistic industries
C. Peter's strategic framework	III. If firms are disproportionately powerful the market leader makes the first move and captures two-thirds of market share, while follower firm gets only a third of the market share
D. Prisoner's delima	IV. A situation in which each player has chosen his/her optional strategy given the strategy chosen by the other player

Choose the **correct** answer from the options given below:

1. A - II , B - IV , C - I , D - III
2. A - III , B - IV , C - II , D - I
3. A - III , B - I , C - IV , D - II
4. A - II , B - III , C - I , D - IV

सूची -I को सूची -II से सुमेलित कीजिए :

सूची -I आर्थिक रूपरेखा	सूची -I वर्णन।
A. स्केलबर्ग प्रारूप	I. वह स्थिति, जिसमें प्रत्येक कर्ता अल्प-क्रेताधिकारवादी बाजारों में आधिपत्यवादी रणनीति अपनाता है, लेकिन सहयोग से कर सकता है
B. नैश संतुलन	II. अल्प-क्रेताधिकारवादी उद्योगों में प्रतिस्पर्धा की तीव्रता और फर्मों की लाभप्रदता के संरचनात्मक निर्धारक तत्वों की पहचान के लिए अवधारणाकरण।
C. पीटर की रणनीतिक रूपरेखा	III. यदि फर्में गैर-अनुपातिक रूप से शक्तिशाली हैं तो बाजार की अग्रणी फर्म पहले अधिक बनाती है और दो-तिहाई हिस्से पर कब्जा कर लेती है, जबकि उत्तरवर्ती फर्म को बाजार का केवल तीसरा हिस्सा मिलता है।
D. प्रिज़नर की द्विविधा	IV. वह स्थिति, जिसमें प्रत्येक कर्ता ने अन्य कर्ताओं द्वारा चुनी गई रणनीति को ध्यान में रखते हुए अपनी इष्टतम रणनीति चुनी है।

नीचे दिए गए विकल्पों में से सही उत्तर चुनिए :

1. A - II, B - IV, C - I, D - III
2. A - III, B - IV, C - II, D - I
3. A - III, B - I, C - IV, D - II
4. A - II, B - III, C - I, D - IV

[Question ID = 4127][Question Description = 169\_10\_COM\_SEP22\_S4\_Q69]

1. 1 [Option ID = 16505]
2. 2 [Option ID = 16506]
3. 3 [Option ID = 16507]
4. 4 [Option ID = 16508]

70)

Match **List I** with **List II**

List I	List II
<b>Formula for test statistic</b>	<b>Test</b>
A. $\sum \frac{(O - E)^2}{E}$	I. Z-test
B. $\frac{12}{n(n+1)} \sum \frac{R_j^2}{n_j} - 3(n+1)$	II. H-test (Kruskal-Wallis test)
C. $\frac{\bar{X} - \mu}{SE}$	III. F-test (ANOVA)
D. $\frac{SS \text{ between}}{SS \text{ within}}$	IV. Chi-square test

Choose the **correct** answer from the options given below:

1. A - I, B - II, C - III, D - IV
2. A - III, B - IV, C - II, D - I
3. A - IV, B - II, C - I, D - III
4. A - IV, B - II, C - III, D - I

सूची -I को सूची -II से सुमेलित कीजिए :

सूची -I विशिष्ट परीक्षण सांख्यिकी हेतु सूत्र	सूची -II परीक्षण
A. $\sum \frac{(O - E)^2}{E}$	I. Z-परीक्षण
B. $\frac{12}{n(n+1)} \sum R_i^2 - 3(n+1)$	II. H-परीक्षण (क्रुशकल -वालिस परीक्षण)
C. $\frac{\bar{X} - \mu}{SE}$	III. F-परीक्षण (एनोवा)
D. $\frac{SS \text{ मध्य}}{SS \text{ भीतर}}$	IV. काई-स्कायर परीक्षण

नीचे दिए गए विकल्पों में से सही उत्तर चुनिए :

1. A - I, B - II, C - III, D - IV
2. A - III, B - IV, C - II, D - I
3. A - IV, B - II, C - I, D - III
4. A - IV, B - II, C - III, D - I

[Question ID = 4128][Question Description = 170\_10\_COM\_SEP22\_S4\_Q70]

1. 1 [Option ID = 16509]
2. 2 [Option ID = 16510]
3. 3 [Option ID = 16511]
4. 4 [Option ID = 16512]

71)

Match **List I** with **List II**

List I	List II
<b>MBTI Framework- Jungian Aspects</b>	<b>Characteristics</b>
A. Sensing	I. Relies more on personal values than on impersonal analysis and logic
B. Thinking	II. Would work with known facts than look for possibilities and relationships
C. Feeling	III. Likes a flexible, spontaneous way rather than a planned and orderly way of life
D. Perceiving	IV. Relies more on interpersonal analysis and logic than on personal values

Choose the **correct** answer from the options given below:

1. A - II, B - I, C - IV, D - III
2. A - II, B - IV, C - I, D - III
3. A - III, B - IV, C - I, D - II
4. A - II, B - I, C - III, D - IV

सूची -I को सूची -II से सुमेलित कीजिए :

सूची -I एमबीटीआई फ्रेमवर्क जंगियन पठन	सूची -II अभिलाक्षणिक गुण
A. भावोत्पत्ति	I. इसमें अवैयक्तिक विश्लेषण और तर्क की अपेक्षा वैयक्तिक मूल्यों पर अधिक बल दिया जाता है।
B. चिंतन	II. इसमें संभावनाओं और संबंधों का पता लगाने की बजाय सुज्ञात तथ्यों का आश्रय लिया जाता है।
C. अनुभूति	III. इसमें सुनियोजित और व्यवस्थित जीवन शैली की बजाय लचीला और स्वतः स्फूर्त भाव को प्राथमिकता दी जाती है।
D. प्रत्यक्षण	IV. इसमें वैयक्तिक मूल्यों की बजाय अन्तःवैयक्तिक विश्लेषण और तर्क पर बल दिया जाता है।

नीचे दिए गए विकल्पों में से सही उत्तर चुनिए :

1. A - II , B - I , C - IV , D - III
2. A - II , B - IV , C - I , D - III
3. A - III , B - IV , C - I , D - II
4. A - II , B - I , C - III , D - IV

[Question ID = 4129][Question Description = 171\_10\_COM\_SEP22\_S4\_Q71]

1. 1 [Option ID = 16513]
2. 2 [Option ID = 16514]
3. 3 [Option ID = 16515]
4. 4 [Option ID = 16516]

72)

Match **List I** with **List II**

List I	List II
Entrepreneurial Theory	Description
A. Thomas Cochran's Theory	I. Highlight the self-confidence of a person and the dependency on fortune and external environment for becoming an entrepreneur
B. Rotter's Locus of Control Theory	II. Religious beliefs are the driving or restraining forces for entrepreneurial activity
C. McLelland's Theory	III. The environment in which an individual is brought up determines his entrepreneurial urge
D. Max Webber's Theory	IV. The need for achievement (nAch) drives and stimulate entrepreneurship

Choose the **correct** answer from the options given below:

1. A - III, B - I, C - IV, D - II
2. A - II, B - III, C - IV, D - I
3. A - I, B - IV, C - II, D - III
4. A - II, B - I, C - III, D - IV

सूची -I को सूची -II से सुमेलित कीजिए :

सूची -I उद्यमिता के सिद्धांत	सूची -II वर्णन
A. थॉमस कौचरैन का सिद्धांत	I. व्यक्ति के आत्म-विश्वास और एक उद्यमी बनने के लिए भाग्य तथा बाह्य वातावरण पर निर्भरता पर प्रकाश डालना।
B. रॉटर का लॉकस ऑफ कंट्रोल सिद्धांत	II. धार्मिक विश्वास उद्यमशील गतिविधि का संचालन और प्रतिबाधित करते हैं।
C. मेकलेलैंड सिद्धांत	III. वह वातावरण, जिसमें एक व्यक्ति का पालन-पोषण होता है, उद्यमशील प्रेरणा को निर्धारित करता है।
D. मैक्स वेबर का सिद्धांत	IV. उपलब्धि के लिए आवश्यकता (n Ach) उद्यमशीलता को संचालित और उत्तेजित करती है।

नीचे दिए गए विकल्पों में से सही उत्तर चुनिए :

1. A - III, B - I, C - IV, D - II
2. A - II, B - III, C - IV, D - I
3. A - I, B - IV, C - II, D - III
4. A - II, B - I, C - III, D - IV

[Question ID = 4130][Question Description = 172\_10\_COM\_SEP22\_S4\_Q72]

1. 1 [Option ID = 16517]
2. 2 [Option ID = 16518]
3. 3 [Option ID = 16519]
4. 4 [Option ID = 16520]

73)

Match **List I** with **List II**

List I	List II
<b>PLC Stage</b>	<b>Pricing Strategy</b>
A. Decline	I. Price to match or beat competitors price
B. Maturity	II. Charge cost-plus price
C. Growth	III. Price reduction
D. Introduction	IV. Price to penetrate market

Choose the **correct** answer from the options given below:

1. A - III, B - IV, C - I, D - II
2. A - III, B - II, C - I, D - IV
3. A - III, B - I, C - IV, D - II
4. A - II, B - I, C - III, D - IV

सूची -I को सूची -II से सुमेलित कीजिए :

सूची -I पी एल सी अवस्था	सूची -II मूल्य निर्धारण रणनीति
A. अवनति	I. प्रतिस्पर्धी की कीमत के सदृश अथवा उसे पराजित करने वाली कीमत
B. परिपक्वता	II. लागतोपरि कीमत
C. वृद्धि	III. कीमत कटौती
D. प्रवेश (इंट्रोडक्शन)	IV. बाजार में भेदन करने वाली कीमत

नीचे दिए गए विकल्पों में से सही उत्तर चुनिए :

1. A - III , B - IV , C - I , D - II
2. A - III , B - II , C - I , D - IV
3. A - III , B - I , C - IV , D - II
4. A - II , B - I , C - III , D - IV

[Question ID = 4131][Question Description = 173\_10\_COM\_SEP22\_S4\_Q73]

1. 1 [Option ID = 16521]
2. 2 [Option ID = 16522]
3. 3 [Option ID = 16523]
4. 4 [Option ID = 16524]

74)

Match **List I** with **List II**

List I	List II
Characteristic Business	Description
A. Cash Cows	I. The most valuable segments of a company; the parts most wanted by an acquirer
B. Crown Jewels	II. A third party friendly to management who helps a company avoid an unwanted takeover with taking over the company on its own
C. Fallen Angels	III. A BCG term for business segment which have a high market share in low growth markets
D. White Squire	IV. A bond issued at investment grade whose rating is subsequently dropped to below the investment grade

Choose the **correct** answer from the options given below:

1. A - II , B - IV , C - I , D - III
2. A - I , B - IV , C - III , D - II
3. A - IV , B - III , C - II , D - I
4. A - III , B - I , C - IV , D - II

सूची -I को सूची -II से सुमेलित कीजिए :

सूची -I विशेषक व्यवसाय	सूची -II वर्णन
A. कैश काउंस	I. एक कंपनी का सर्वाधिक मूल्यवान खंड; एक ग्रहणकर्ता द्वारा सर्वाधिक वांछित भाग
B. क्राउन ज्वैल्स	II. प्रबंधन के प्रति मैत्रीपूर्ण एक तीसरा पक्ष, जो एक कंपनी के अवांछित अधिग्रहण को बचाने के लिए अपने बूते अधिग्रहित करता है।
C. फालन ऐंजल्स	III. व्यवसाय के खण्डों की एक बी.सी.जी.शब्दावली, जिसका निम्न वृद्धि के बाजारों में उच्च बाजार हिस्सा है।
D. व्हाइटस्कीपर	IV. निवेश ग्रेड पर जारी एक बॉन्ड, जिसकी रेटिंग तदनंतर रूप से निवेश ग्रेड से नीचे चली जाती है।

नीचे दिए गए विकल्पों में से सही उत्तर चुनिए :

1. A - II , B - IV, C - I, D - III
2. A - I, B - IV, C - III, D - II
3. A - IV, B - III, C - II, D - I
4. A - III, B - I, C - IV, D - II

[Question ID = 4132][Question Description = 174\_10\_COM\_SEP22\_S4\_Q74]

1. 1 [Option ID = 16525]
2. 2 [Option ID = 16526]
3. 3 [Option ID = 16527]
4. 4 [Option ID = 16528]

75)

Match **List I** with **List II**

List I	List II
Marketing Concept	Description
A. Brand Equity	I. The maximum possible demand for a product when marketing expenditure in the industry is infinite
B. Brand Identity	II. The mental perception and associations of consumers related to a brand
C. Brand Image	III. The peculiar distinguishing color, design, label of a brand which distinguish brand of a firm
D. Market Potential	IV. A pool of goodwill consumers have related to a brand

Choose the **correct** answer from the options given below:

1. A - IV, B - III, C - II, D - I
2. A - I, B - II, C - IV, D - III
3. A - III, B - I, C - IV, D - II
4. A - II, B - III, C - I, D - IV



सूची -I को सूची -II से सुमेलित कीजिए :

सूची -I विपणन संकल्पना	सूची -II विवरण
A. ब्रांड इक्विटी	I. किसी उत्पाद के लिए अधिकतम संभावित मांग, जब उद्योग में विपणन व्यय अनंत होता है।
B. ब्रांड पहचान	II. किसी ब्रांड से संबंधित उपभोक्ताओं का मानसिक बोध एवं संयोजन
C. ब्रांड-छवि	III. किसी ब्रांड का विशिष्ट विभेदक रंग, संरचना और लेबल जो कंपनी के ब्रांड को विभेदन प्रदान करता है
D. बाजार संभाव्यता	IV. किसी ब्रांड से संबंधित उपभोक्ताओं की सद्इच्छा का समूह

नीचे दिए गए विकल्पों में से सही उत्तर चुनिए :

1. A - IV, B - III, C - II, D - I
2. A - I, B - II, C - IV, D - III
3. A - III, B - I, C - IV, D - II
4. A - II, B - III, C - I, D - IV

[Question ID = 4133][Question Description = 175\_10\_COM\_SEP22\_S4\_Q75]

1. 1 [Option ID = 16529]
2. 2 [Option ID = 16530]
3. 3 [Option ID = 16531]
4. 4 [Option ID = 16532]

76)

Arrange the procedure followed for disbursement of export credit in a sequence from the first to the last

- A. The bank releases the funds debiting to the packing credit amount and credit to the exporter's account
- B. The bank calculates the amount of packing credit to be granted
- C. The exporter would be required to send the goods through approved transport and forwarding agency
- D. The exporter is required to take adequate insurance
- E. Submit an evidence of export

Choose the **correct** answer from the options given below

1. B, A, E, D, C
2. A, C, B, D, E
3. A, B, C, D, E
4. E, B, A, C, D

निर्यात साख के संवितरण हेतु अनुसरण किए जाने वाली प्रक्रिया को प्रथम से अंत तक के अनुक्रम में व्यवस्थित कीजिए ?

- A. बैंक पैकिंग क्रेडिट धनराशि आहरित कर निर्यातक के खाते में जमा करने हेतु निधियाँ जारी करती है।
- B. बैंक प्रदत्त किए जाने वाले पैकिंग क्रेडिट की धनराशि का परिकलन करता है
- C. निर्यातक को प्रमाणित परिवहन और अग्रसारण एजेसी के माध्यम से वस्तुओं के भेजने की आवश्यकता होगी।
- D. निर्यातक को पर्याप्त बीमा लेने की आवश्यकता है
- E. निर्यात के साक्ष्य प्रस्तुत करना।

नीचे दिए गए विकल्पों में से सही उत्तर चुनें :

- 1. B, A, E, D, C
- 2. A, C, B, D, E
- 3. A, B, C, D, E
- 4. E, B, A, C, D

[Question ID = 4134][Question Description = 176\_10\_COM\_SEP22\_S4\_Q76]

- 1. 1 [Option ID = 16533]
- 2. 2 [Option ID = 16534]
- 3. 3 [Option ID = 16535]
- 4. 4 [Option ID = 16536]

77)

Arrange the following steps in a logical sequence of the process of management audit.

- A. Identification of responsibility centres
- B. Review of organisational structure
- C. Reporting
- D. Identifying and segregating the objectives of business
- E. Review of performance of each responsibility centre

Choose the **correct** answer from the options given below

- 1. A, D, E, C, B
- 2. A, E, D, B, C
- 3. A, B, E, D, C
- 4. D, B, A, E, C

प्रबंध लेखा परीक्षा की प्रक्रिया के तर्कसंगत अनुक्रम के निम्नलिखित सोपानों को व्यवस्थित कीजिए:

- A. उत्तरदायित्व केन्द्रों की पहचान
- B. सांगठनिक संरचना का पुनरीक्षण
- C. रिपोर्टिंग (प्रतिवेदन करना)
- D. व्यवसाय के उद्देश्यों की पहचान करना एवं अलग करना
- E. प्रत्येक उत्तरदायित्व केन्द्र के निष्पादन का पुनरीक्षण

नीचे दिए गए विकल्पों में से सही उत्तर चुनें :

- 1. A, D, E, C, B
- 2. A, E, D, B, C
- 3. A, B, E, D, C
- 4. D, B, A, E, C

[Question ID = 4135][Question Description = 177\_10\_COM\_SEP22\_S4\_Q77]

- 1. 1 [Option ID = 16537]
- 2. 2 [Option ID = 16538]
- 3. 3 [Option ID = 16539]
- 4. 4 [Option ID = 16540]

78)

Match List I with List II

List I	List II
<b>Statistical identity</b>	<b>Description</b>
A. Power of test	I. Maximum level of significance at which the null hypothesis would be accepted
B. Standard error	II. Test for significance of regression equation
C. P - value	III. Standard deviation of an estimate from a sample
D. F - test	IV. The probability that test will lead to rejection of null hypothesis when it is false

Choose the **correct** answer from the options given below:

- 1. A - III, B - II, C - IV, D - I
- 2. A - IV, B - III, C - I, D - II
- 3. A - II, B - IV, C - I, D - III
- 4. A - I, B - IV, C - II, D - III

सूची -I को सूची -II से सुमेलित कीजिए :

सूची -I सांख्यिकीय पहचान	सूची -II विवरण
A. परीक्षण की शक्ति	I. महत्त्व का अधिकतम स्तर जिस पर शून्य परिकल्पना स्वीकार्य होगी
B. मानक त्रुटि	II. प्रतिगमन समीकरण की महत्ता का परीक्षण
C. P-वैल्यू	III. किसी प्रतिदर्श से अनुमान का मानक विचलन
D. F-टेस्ट	IV. वह संभाव्यता जो परीक्षण को शून्य परिकल्पना की अस्वीकार्यता की ओर ले जाती है जब यह गलत होती है

नीचे दिए गए विकल्पों में से सही उत्तर चुनिए :

1. A - III, B - II, C - IV, D - I
2. A - IV, B - III, C - I, D - II
3. A - II, B - IV, C - I, D - III
4. A - I, B - IV, C - II, D - III

[Question ID = 4136][Question Description = 178\_10\_COM\_SEP22\_S4\_Q78]

1. 1 [Option ID = 16541]
2. 2 [Option ID = 16542]
3. 3 [Option ID = 16543]
4. 4 [Option ID = 16544]


79)

Arrange the following steps in the design thinking process for an innovative solution to a problem:

- A. Ideate
- B. Test
- C. Empathize
- D. Define
- E. Prototype

Choose the **correct** answer from the options given below

1. A, D, C, B, E
2. B, C, A, D, E
3. C, D, A, E, B
4. C, B, A, E, D



किसी समस्या के नवोन्मेषी समाधान के लिए अभिकल्प विचारण प्रक्रिया के निम्नलिखित सोपानों को व्यवस्थित कीजिए :

- A. नव विचार सृजन
- B. परीक्षण करना
- C. तदनुभूति करना
- D. परिभाषित करना
- E. आदिप्ररूप

नीचे दिए गए विकल्पों में से सही उत्तर चुनें :

- 1. A, D, C, B, E
- 2. B, C, A, D, E
- 3. C, D, A, E, B
- 4. C, B, A, E, D

[Question ID = 4137][Question Description = 179\_10\_COM\_SEP22\_S4\_Q79]

- 1. 1 [Option ID = 16545]
- 2. 2 [Option ID = 16546]
- 3. 3 [Option ID = 16547]
- 4. 4 [Option ID = 16548]


80)

What is the correct sequence in "Hierarchy of Effects" model in a communication situation:

- A. Preference
- B. Purchase
- C. Awareness and Knowledge
- D. Conviction
- E. Liking

Choose the **correct** answer from the options given below

- 1. A, D, B, C, E
- 2. D, B, E, C, A
- 3. B, A, D, C, E
- 4. C, E, A, D, B



संप्रेषण स्थिति में 'प्रभावों के पदानुक्रम' मॉडल का सही अनुक्रम क्या है ?

- A. अधिमान
- B. क्रय
- C. जागरूकता एवं ज्ञान
- D. संप्रत्यय
- E. पसंद

नीचे दिए गए विकल्पों में से सही उत्तर चुनें :

- 1. A, D, B, C, E
- 2. D, B, E, C, A
- 3. B, A, D, C, E
- 4. C, E, A, D, B

[Question ID = 4138][Question Description = 180\_10\_COM\_SEP22\_S4\_Q80]

- 1. 1 [Option ID = 16549]
- 2. 2 [Option ID = 16550]
- 3. 3 [Option ID = 16551]
- 4. 4 [Option ID = 16552]

81)

Logically sequence the following stages in the organisational life cycle of a business firm :

- A. Expansion
- B. Survival
- C. Consolidation
- D. Start-up
- E. Decline

Choose the **correct** answer from the options given below

- 1. D, A, C, B, E
- 2. B, C, A, D, E
- 3. D, B, C, A, E
- 4. D, B, A, C, E



किसी व्यावसायिक कंपनी के सांठनिक जीवन-चक्र की निम्नलिखित अवस्थाओं को तर्कसंगत रूप से अनुक्रमित कीजिए :

- A. प्रसार
- B. उत्तरजीविता
- C. समेकन
- D. स्टार्ट-अप
- E. पतन

नीचे दिए गए विकल्पों में से सही उत्तर चुनें :

- 1. D, A, C, B, E
- 2. B, C, A, D, E
- 3. D, B, C, A, E
- 4. D, B, A, C, E

[Question ID = 4139][Question Description = 181\_10\_COM\_SEP22\_S4\_Q81]

- 1. 1 [Option ID = 16553]
- 2. 2 [Option ID = 16554]
- 3. 3 [Option ID = 16555]
- 4. 4 [Option ID = 16556]

82)

Arrange the following ratios in the increasing order of their significance in the prediction of industrial sickness (Altman, 1966):

- A.  $\frac{\text{Working capital}}{\text{Total Assets}}$
- B.  $\frac{\text{Retained Earnings}}{\text{Total Assets}}$
- C.  $\frac{\text{Earnings Before Interest and Taxes}}{\text{Total Assets}}$
- D.  $\frac{\text{Market Value of Equity}}{\text{Book Value of Total Debt}}$
- E.  $\frac{\text{Sales}}{\text{Total Assest}}$

Choose the **correct** answer from the options given below

- 1. D, E, A, B, C
- 2. C, E, B, D, A
- 3. B, D, C, A, E
- 4. E, B, D, C, A

औद्योगिक रुग्णता (आल्टमैन, 1961) के अनुमान में निम्नलिखित अनुपातों को उनकी महत्ता के आरोही क्रम में व्यवस्थित कीजिए :

- A.  $\frac{\text{कार्यशील पूंजी}}{\text{कुल परिसम्पत्तियाँ}}$
- B.  $\frac{\text{प्रतिधारित लाभ}}{\text{कुल परिसम्पत्तियाँ}}$
- C.  $\frac{\text{ब्याज एवं कर पूर्व लाभ}}{\text{कुल परिसम्पत्तियाँ}}$
- D.  $\frac{\text{इक्विटी का बाज़ार मूल्य}}{\text{कुल ऋण का खाता मूल्य}}$
- E.  $\frac{\text{विक्री}}{\text{कुल परिसम्पत्तियाँ}}$

नीचे दिए गए विकल्पों में से सही उत्तर चुनें :

1. D, E, A, B, C
2. C, E, B, D, A
3. B, D, C, A, E
4. E, B, D, C, A

[Question ID = 4140][Question Description = 182\_10\_COM\_SEP22\_S4\_Q82]

1. 1 [Option ID = 16557]
2. 2 [Option ID = 16558]
3. 3 [Option ID = 16559]
4. 4 [Option ID = 16560]

83)

Arrange the following stages in the marketing process of an enterprise:

- A. Marketing Mix
- B. Marketing program implementation
- C. Marketing planning
- D. Market research
- E. Control and evaluation of marketing programs

Choose the **correct** answer from the options given below

1. D, C, A, B, E
2. C, B, A, E, D
3. B, A, D, C, E
4. C, A, D, B, E



किसी उद्यम में विपणन प्रक्रिया की निम्नलिखित अवस्थाओं को व्यवस्थित कीजिए :

- A. विपणन मिश्रण
- B. विपणन कार्यक्रम क्रियान्वयन
- C. विपणन नियोजन
- D. बाजार अनुसंधान
- E. विपणन कार्यक्रमों का नियंत्रण एवं मूल्यांकन

नीचे दिए गए विकल्पों में से सही उत्तर चुनें :

- 1. D, C, A, B, E
- 2. C, B, A, E, D
- 3. B, A, D, C, E
- 4. C, A, D, B, E

[Question ID = 4141][Question Description = 183\_10\_COM\_SEP22\_S4\_Q83]

- 1. 1 [Option ID = 16561]
- 2. 2 [Option ID = 16562]
- 3. 3 [Option ID = 16563]
- 4. 4 [Option ID = 16564]

84)

Arrange the following process of making of a contract in the chronological sequence from the first to the last.

- A. Agreement
- B. Promise
- C. Offer or proposal
- D. Contract
- E. Acceptance

Choose the **correct** answer from the options given below

- 1. C, E, B, A, D
- 2. A, D, E, C, B
- 3. B, D, C, A, E
- 4. E, B, A, C, D

निम्नलिखित संविदा करने की प्रक्रियाओं को आदि से अंत के कालानुसार अनुक्रम में व्यवस्थित कीजिए।

- A. करार (समझौता)
- B. वचन
- C. प्रस्ताव
- D. संविदा
- E. स्वीकृति

नीचे दिए गए विकल्पों में से सही उत्तर चुनें :

- 1. C, E, B, A, D
- 2. A, D, E, C, B
- 3. B, D, C, A, E
- 4. E, B, A, C, D

[Question ID = 4142][Question Description = 184\_10\_COM\_SEP22\_S4\_Q84]

- 1. 1 [Option ID = 16565]
- 2. 2 [Option ID = 16566]
- 3. 3 [Option ID = 16567]
- 4. 4 [Option ID = 16568]

85)

Sequence the procedure for e-filing of ITR-1 and ITR-2

- A. Login
- B. Register
- C. Verification
- D. Downloading utility and preparing the Return
- E. e-Filing Income Tax Return

Choose the **correct** answer from the options given below

- 1. A, B, E, D, C
- 2. B, A, D, E, C
- 3. B, A, C, D, E
- 4. A, B, C, D, E

आयकर रिटर्न-1 और आयकर रिटर्न-2 की ई-फाइल की प्रक्रिया को क्रमबद्ध कीजिए :

- A. लॉगिन
- B. पंजीकरण
- C. सत्यापन
- D. उपयोगी चीजें डाउनलोड करना एवं रिटर्न तैयार करना
- E. आयकर रिटर्न की ई-फाइलिंग करना

नीचे दिए गए विकल्पों में से सही उत्तर चुनें :

- 1. A, B, E, D, C
- 2. B, A, D, E, C
- 3. B, A, C, D, E
- 4. A, B, C, D, E

[Question ID = 4143][Question Description = 185\_10\_COM\_SEP22\_S4\_Q85]

- 1. 1 [Option ID = 16569]
- 2. 2 [Option ID = 16570]
- 3. 3 [Option ID = 16571]
- 4. 4 [Option ID = 16572]

86)

Given below are two statements, one is labelled as **Assertion A** and the other is labelled as **Reason R**

**Assertion A:** An export processing zone is different from free trade zone as it promotes units primarily devoted to exports.

**Reason R:** Goods imported to a free trade zone may be re-exported without any processing, in the same form. But goods exported by units in an EPZ are expected to have undergone some value addition by manufacturing.

In light of the above statements, choose the **most appropriate** answer from the options given below

- 1. Both **A** and **R** are correct and **R** is the correct explanation of **A**
- 2. Both **A** and **R** are correct but **R** is NOT the correct explanation of **A**
- 3. **A** is correct but **R** is not correct
- 4. **A** is not correct but **R** is correct

नीचे दो कथन दिए गए हैं : एक को अभिकथन (A) और दूसरे को तर्क (R) कहा गया है।

अभिकथन (A) : मुख्यतया निर्यातों के लिए समर्पित ईकाईयों को प्रोत्साहित करने के कारण एक निर्यात प्रसंस्करण क्षेत्र किसी मुक्त व्यापार क्षेत्र से भिन्न होता है।

तर्क (R) : किसी मुक्त व्यापार क्षेत्र में आयात की गयी वस्तुएं बिना किसी प्रसंस्करण के उसी जगह से पुननिर्यातित की जा सकती हैं लेकिन निर्यात प्रसंस्करण जोन से निर्यात किए गए किसी वस्तु में विनिर्माता द्वारा कुछ न कुछ मूल्य वर्द्धन की अपेक्षाएं की जाती हैं।

उपर्युक्त कथनों के आलोक में निम्नांकित विकल्पों में से सही उत्तर चुनें :

1. (A) और (R) दोनों सही हैं और (R), (A) की सही व्याख्या है।
2. (A) और (R) दोनों सही हैं परन्तु (R), (A) की सही व्याख्या नहीं है।
3. (A) सही है परन्तु (R) सही नहीं है।
4. (A) सही नहीं है परन्तु (R) सही है।

[Question ID = 4144][Question Description = 186\_10\_COM\_SEP22\_S4\_Q86]

1. 1 [Option ID = 16573]
2. 2 [Option ID = 16574]
3. 3 [Option ID = 16575]
4. 4 [Option ID = 16576]

87) Given below are two statements, one is labelled as **Assertion A** and the other is labelled as **Reason R**

**Assertion A :** By switching to long-term government bonds, the investor acquires an asset whose price fluctuates as interest rates vary.

**Reason R :** Bond prices fall when interest rates rise and rise when interest rates fall.

In light of the above statements, choose the **correct** answer from the options given below

1. Both **A** and **R** are true and **R** is the correct explanation of **A**
2. Both **A** and **R** are true but **R** is NOT the correct explanation of **A**
3. **A** is true but **R** is false
4. **A** is false but **R** is true

नीचे दो कथन दिए गए हैं : एक को अभिकथन (A) और दूसरे को तर्क (R) कहा गया है।

अभिकथन (A) : लंबी अवधि वाले सरकारी बांड से निवेशक किसी ऐसी संपत्ति को अधिग्रहित करता है जिसकी कीमत ब्याज दरों में भिन्नता आने से घटती-बढ़ती है।

तर्क (R) : बांड की कीमतें ब्याज दरों के बढ़ने पर गिरती हैं और ब्याज दरों में गिरावट से बांड की कीमतें बढ़ती हैं।

उपर्युक्त कथनों के आलोक में निम्नांकित विकल्पों में से सही उत्तर चुनें :

1. (A) और (R) दोनों सही हैं और (R), (A) की सही व्याख्या है।
2. (A) और (R) दोनों सही हैं परन्तु (R), (A) की सही व्याख्या नहीं है।
3. (A) सही है परन्तु (R) सही नहीं है।
4. (A) सही नहीं है परन्तु (R) सही है।

[Question ID = 4145][Question Description = 187\_10\_COM\_SEP22\_S4\_Q87]

1. 1 [Option ID = 16577]
2. 2 [Option ID = 16578]
3. 3 [Option ID = 16579]
4. 4 [Option ID = 16580]

88)

Given below are two statements

**Statement I:** The probable error (P.E.) of the coefficient of correlation ( $r$ ) is defined as:

$$PE = \frac{(1-r^2)}{\sqrt{n}}$$

**Statement II:** When a null hypothesis is true but the test statistic rejects it, this is known as Type-I error in hypothesis testing.

In light of the above statements, choose the **most appropriate** answer from the options given below

1. Both Statement I and Statement II are correct
2. Both Statement I and Statement II are incorrect
3. Statement I is correct but Statement II is incorrect
4. Statement I is incorrect but Statement II is correct

नीचे दो कथन दिए गए हैं :

कथन - I :

सह-संबंध की संभाव्य त्रुटि (पी इ) इस रूप में परिभाषित की जाती है।

$$PE = \frac{(1-r^2)}{\sqrt{n}}$$

कथन - II : जब कोई शून्य प्राक्कल्पना सही हो किंतु परीक्षण इसे अस्वीकृत करता हो, इसे प्राक्कल्पना परीक्षण करने में टाइप-1 त्रुटि के रूप में जाना जाता है।

उपर्युक्त कथनों के आलोक में निम्नलिखित विकल्पों में से सही उत्तर चुनें :

1. कथन I और II दोनों सही हैं।
2. कथन I और II दोनों गलत हैं।
3. कथन I सत्य है, किन्तु कथन II गलत है।
4. कथन I असत्य है, किन्तु कथन II सही है।

[Question ID = 4146][Question Description = 188\_10\_COM\_SEP22\_S4\_Q88]

1. 1 [Option ID = 16581]
2. 2 [Option ID = 16582]
3. 3 [Option ID = 16583]
4. 4 [Option ID = 16584]

89)

Given below are two statements, one is labelled as **Assertion A** and the other is labelled as **Reason R**.

**Assertion A** :  $R^2$  tends to be smaller for cross sectional data than for the time series data

**Reason R** : Wider fluctuations in the cross sectional data cause smaller value of  $R^2$

In light of the above statements, choose the **correct** answer from the options given below:

1. Both **A** and **R** are true and **R** is the correct explanation of **A**.
2. Both **A** and **R** are true but **R** is NOT the correct explanation of **A**.
3. **A** is true but **R** is false.
4. **A** is false but **R** is true.

नीचे दो कथन दिए गए हैं : एक को अभिकथन (A) और दूसरे को तर्क (R) कहा गया है।

अभिकथन (A) : समय श्रृंखला डाटा (टाइम सीरीज डाटा) की अपेक्षा प्रतिनिध्यात्मक डाटा (क्रॉस सेक्शनल डाटा) के लिए  $R^2$  लघुतर होने की ओर प्रवृत्त होता है।

तर्क (R) : प्रतिनिध्यात्मक डाटा में व्यापक उतार-चढ़ाव  $R^2$  के लघुतर मान का कारण होता है।

उपर्युक्त कथनों के आलोक में निम्नांकित विकल्पों में से सही उत्तर चुनें :

1. (A) और (R) दोनों सही हैं और (R), (A) की सही व्याख्या है।
2. (A) और (R) दोनों सही हैं परन्तु (R), (A) की सही व्याख्या नहीं है।
3. (A) सही है परन्तु (R) सही नहीं है।
4. (A) सही नहीं है परन्तु (R) सही है।

[Question ID = 4147][Question Description = 189\_10\_COM\_SEP22\_S4\_Q89]

1. 1 [Option ID = 16585]
2. 2 [Option ID = 16586]
3. 3 [Option ID = 16587]
4. 4 [Option ID = 16588]

90)

Given below are two statements

**Statement I:** In the case of Life Insurance, the insurable interest must be present in the person insured at the time when the event happened.

**Statement II:** In the case of Fire Insurance, the insurable interest must be present in the object insured at the time when the policy is taken and the event has happened.

In light of the above statements, choose the **correct** answer from the options given below

1. Both Statement I and Statement II are true
2. Both Statement I and Statement II are false
3. Statement I is true but Statement II is false
4. Statement I is false but Statement II is true

नीचे दो कथन दिए गए हैं :

कथन - I : जीवन बीमा के मामले में घटना घटित होने के समय बीमा कराने वाले व्यक्ति का बीमा योग्य हित अनिवार्यतः उपलब्ध होना चाहिए।

कथन - II : अग्नि सुरक्षा बीमा के मामले में पॉलिसी लेते समय और घटना घटित होने के समय बीमित वस्तु में बीमा योग्य हित अनिवार्यतः उपलब्ध होना चाहिए।

उपर्युक्त कथनों के आलोक में निम्नलिखित विकल्पों में से सही उत्तर चुनें :

1. कथन I और II दोनों सही हैं।
2. कथन I और II दोनों गलत हैं।
3. कथन I सत्य है, किन्तु कथन II गलत है।
4. कथन I असत्य है, किन्तु कथन II सही है।

[Question ID = 4148][Question Description = 190\_10\_COM\_SEP22\_S4\_Q90]

1. 1 [Option ID = 16589]
2. 2 [Option ID = 16590]
3. 3 [Option ID = 16591]
4. 4 [Option ID = 16592]

Topic:- 8\_SH1\_PARTB\_S2

1)

**Read the given passage and answer the questions that follow**

The Monetary Policy Committee of the RBI should neither raise policy rates nor wind up its accommodative policy stance. Yes, inflation has been on the rise, and growth has been setting in. This is the time to consolidate growth, not to be spooked by transient, supply-constrained inflation. Choking off supply-side price shocks is self-defeating. Higher prices will curb demand and stimulate additional supplies, if the prices are allowed to work their way through the system, instead of being choked off through demand suppression. It is only the second-order effect of price shocks in energy, logistics and labour that call for curtailment of demand via higher interest rates.

Far from there being any sign of excess demand, the latest available national income figures suggest squeezed consumption and constrained investment. GDP this fiscal would struggle to recover the size attained at the end of 2019-20. The policy response appropriate for inflation caused by excess demand would be wholly unsuited for inflation caused by supply disruptions and a spike in energy prices. The right way to combat elevated inflation right now is to reduce the burden of taxes that energy bears in India. Both the Centre and the states should share the tax cuts. They should take this action, even as they strive to find common ground on bringing energy under the goods and services tax. The government also has the cushion of relatively high import duties that can be pared, to lower prices. Stepping up production to increase supplies is another part of supply-constrained inflation.

There are measures the RBI can take to increase access to credit by micro, small and medium enterprises; other than enhancing liquidity in general in the hope that some would find its way to the small sector. The RBI can do its bit to realise the government mandate for all large companies to purchase their inputs from the Trade Receivables Discounting System (TReDS), for example, if that improves trade finance significantly, some reduction in liquidity would not matter.

Which one of the following is most desirable to consolidate growth?

1. Reduce interest rate
2. Increase interest rate
3. Suppression of demand
4. Stimulate additional supply



## निम्नांकित गद्यांश को ध्यानपूर्वक पढ़िए और दिए गए प्रश्नों के उत्तर दीजिए :

भारतीय रिजर्व बैंक की मौद्रिक नीति समिति को न तो पॉलिसी की दरें बढ़ानी चाहिए ना ही अपने समंजनकारी नीतिगत निर्णय को समाप्त करना चाहिए। निश्चित तौर पर मुद्रास्फीति में वृद्धि हुई है और वृद्धि की प्रक्रिया अनवरत रही है। अब समय आ गया है कि वृद्धि का समेकन किया जाए और क्षणिक आपूर्ति अवरोधित मुद्रास्फीति से भयाक्रांत नहीं हुआ जाए।

आपूर्तिजन्य कीमत के आघात को बंद करना स्व-पराजयी भाव है। कीमत में वृद्धि होने के फलस्वरूप मात्र में कमी आएगी और अतिरिक्त आपूर्ति का संवर्धन होगा यदि मांग के प्रशमन के माध्यम से इसे बंद किए जाने की बजाय कीमतों को तंत्र (प्रणाली) के माध्यम से अपने तरीके से कार्य करने की अनुमति दी जाए। ऊर्जा संभार तंत्र और श्रम के क्षेत्र में कीमत संधान का दूसरे क्रम का प्रभाव ही है जिसमें उच्चतर ब्याज दरों के माध्यम से मांग में कटौती किए जाने की आवश्यकता है।

अत्यधिक मांग का संकेतक होने की बात तो दूर रही, अथन उपलब्ध राष्ट्रीय आय के आंकड़ों से प्रसंकुचित खपत और प्रवाहित निवेश का उद्भासन होता है। इस वित्तीय वर्ष में सकल घरेलू उत्पाद को वर्ष 2019-20 के अंत में प्राप्त आकार की पुनः प्राप्ति के लिए संघर्ष करना पड़ेगा। अत्यधिक मांग द्वारा उत्पन्न मुद्रास्फीति के लिए समुपयुक्त नीतिगत अनुक्रिया आपूर्तिपरक बाधा और ऊर्जा की कीमतों में वृद्धि द्वारा कारित मुद्रास्फीति के लिए पूर्णतः अनुपयुक्त होगा। तत्काल बढ़ी हुई मुद्रास्फीति कम करने का सही तरीका भारत में ऊर्जा क्षेत्र पर प्रभारित कर के बोझ को कम करना है। केन्द्र सरकार और राज्य सरकारें दोनों को कर में कटौती को साझा करना चाहिए। यहाँ तक की जब ऊर्जा को माल और सेवा कर की परिधि में लाने के मुद्दे पर उनमें सार्वजनिक सहमति व सम्मति बन जाए तो भी उन्हें यह कार्यवाही करनी चाहिए। सरकार के पास भी अपेक्षाकृत अधिक आयत शुल्क का सुखद पक्ष उपलब्ध है जिसे न्यूनतम कीमत के समतुल्य किया जा सकता है। आपूर्ति बढ़ाने के लिए उत्पादन में वृद्धि करना आपूर्ति-प्रभावित मुद्रा स्फूर्ति का दूसरा भाग है।

भारतीय रिजर्व बैंक सामान्य तौर पर तरलता की वृद्धि करने के अलावा सूक्ष्म लघु और मध्यम उद्योगों के द्वारा साख अभिगम में वृद्धि करने के लिए इस आशा में कई उपाय कर सकता है कि कुछ उद्यम लघु क्षेत्र में आ जाएंगे। उदाहरण के तौर पर भारतीय रिजर्व बैंक सभी बड़ी सम्पत्तियों के लिए व्यापार प्राप्तव्य छूट प्रणाली (टी आर ई डी एस) के अपने आदान खरीदने को अनिवार्य कर सरकार के अधिवेश को साकार करने में अपनी भूमिका का निर्वाह कर सकती है। यदि उससे व्यापार वित्त में कुछ कटौती अधिक मायने नहीं रखेगी।

वृद्धि के समेकन के लिए निम्नांकित में से क्या सर्वाधिक वांछनीय है ?

1. ब्याज दर में कटौती
2. ब्याज दर में बढ़ोतरी
3. मांग का उपशमन
4. अतिरिक्त आपूर्ति संवर्धन

[Question ID = 4149][Question Description = 191\_10\_COM\_SEP22\_S4\_Q91]

1. [Option ID = 16593]
2. [Option ID = 16594]
3. [Option ID = 16595]
4. [Option ID = 16596]

2)

**Read the given passage and answer the questions that follow**

The Monetary Policy Committee of the RBI should neither raise policy rates nor wind up its accommodative policy stance. Yes, inflation has been on the rise, and growth has been setting in. This is the time to consolidate growth, not to be spooked by transient, supply-constrained inflation. Choking off supply-side price shocks is self-defeating. Higher prices will curb demand and stimulate additional supplies, if the prices are allowed to work their way through the system, instead of being choked off through demand suppression. It is only the second-order effect of price shocks in energy, logistics and labour that call for curtailment of demand via higher interest rates.

Far from there being any sign of excess demand, the latest available national income figures suggest squeezed consumption and constrained investment. GDP this fiscal would struggle to recover the size attained at the end of 2019-20. The policy response appropriate for inflation caused by excess demand would be wholly unsuited for inflation caused by supply disruptions and a spike in energy prices. The right way to combat elevated inflation right now is to reduce the burden of taxes that energy bears in India. Both the Centre and the states should share the tax cuts. They should take this action, even as they strive to find common ground on bringing energy under the goods and services tax. The government also has the cushion of relatively high import duties that can be pared, to lower prices. Stepping up production to increase supplies is another part of supply-constrained inflation.

There are measures the RBI can take to increase access to credit by micro, small and medium enterprises; other than enhancing liquidity in general in the hope that some would find its way to the small sector. The RBI can do its bit to realise the government mandate for all large companies to purchase their inputs from the Trade Receivables Discounting System (TReDS), for example, if that improves trade finance significantly, some reduction in liquidity would not matter.

Which one of the following statements is not true?

1. Both the Centre and the States should share the tax cuts equally
2. GDP this fiscal would find it difficult to recover the size attained at the end of 2019-20
3. Curtailment of demand via higher interest rates can be used in a limited way
4. Choking off supply-side price shocks will affect growth adversely

## निम्नांकित गद्यांश को ध्यानपूर्वक पढ़िए और दिए गए प्रश्नों के उत्तर दीजिए :

भारतीय रिजर्व बैंक की मौद्रिक नीति समिति को न तो पॉलिसी की दरें बढ़ानी चाहिए ना ही अपने समंजनकारी नीतिगत निर्णय को समाप्त करना चाहिए। निश्चित तौर पर मुद्रास्फीति में वृद्धि हुई है और वृद्धि की प्रक्रिया अनवरत रही है। अब समय आ गया है कि वृद्धि का समेकन किया जाए और क्षणिक आपूर्ति अवरोधित मुद्रास्फीति से भयाक्रांत नहीं हुआ जाए।

आपूर्तिजन्य कीमत के आघात को बंद करना स्व-पराजयी भाव है। कीमत में वृद्धि होने के फलस्वरूप मात्र में कमी आएगी और अतिरिक्त आपूर्ति का संवर्धन होगा यदि मांग के प्रशमन के माध्यम से इसे बंद किए जाने की बजाय कीमतों को तंत्र (प्रणाली) के माध्यम से अपने तरीके से कार्य करने की अनुमति दी जाए। ऊर्जा संभार तंत्र और श्रम के क्षेत्र में कीमत संधान का दूसरे क्रम का प्रभाव ही है जिसमें उच्चतर ब्याज दरों के माध्यम से मांग में कटौती किए जाने की आवश्यकता है।

अत्यधिक मांग का संकेतक होने की बात तो दूर रही, अथवा उपलब्ध राष्ट्रीय आय के आंकड़ों से प्रसंकुचित खपत और प्रवाहित निवेश का उद्भासन होता है। इस वित्तीय वर्ष में सकल घरेलू उत्पाद को वर्ष 2019-20 के अंत में प्राप्त आकार की पुनः प्राप्ति के लिए संघर्ष करना पड़ेगा। अत्यधिक मांग द्वारा उत्पन्न मुद्रास्फीति के लिए समुपयुक्त नीतिगत अनुक्रिया आपूर्तिपरक बाधा और ऊर्जा की कीमतों में वृद्धि द्वारा कारित मुद्रास्फीति के लिए पूर्णतः अनुपयुक्त होगा। तत्काल बढ़ी हुई मुद्रास्फीति कम करने का सही तरीका भारत में ऊर्जा क्षेत्र पर प्रभारित कर के बोझ को कम करना है। केन्द्र सरकार और राज्य सरकारें दोनों को कर में कटौती को साझा करना चाहिए। यहाँ तक की जब ऊर्जा को माल और सेवा कर की परिधि में लाने के मुद्दे पर उनमें सार्वजनिक सहमति व सम्मति बन जाए तो भी उन्हें यह कार्यवाही करनी चाहिए। सरकार के पास भी अपेक्षाकृत अधिक आयत शुल्क का सुखद पक्ष उपलब्ध है जिसे न्यूनतम कीमत के समतुल्य किया जा सकता है। आपूर्ति बढ़ाने के लिए उत्पादन में वृद्धि करना आपूर्ति-प्रभावित मुद्रा स्फूर्ति का दूसरा भाग है।

भारतीय रिजर्व बैंक सामान्य तौर पर तरलता की वृद्धि करने के अलावा सूक्ष्म लघु और मध्यम उद्योगों के द्वारा साख अभिगम में वृद्धि करने के लिए इस आशा में कई उपाय कर सकता है कि कुछ उद्यम लघु क्षेत्र में आ जाएंगे। उदाहरण के तौर पर भारतीय रिजर्व बैंक सभी बड़ी सम्पत्तियों के लिए व्यापार प्राप्तव्य छूट प्रणाली (टी आर ई डी एस) के अपने आदान खरीदने को अनिवार्य कर सरकार के अधिवेश को साकार करने में अपनी भूमिका का निर्वाह कर सकती है। यदि उससे व्यापार वित्त में कुछ कटौती अधिक मायने नहीं रखेगी।

निम्नांकित में से कौन सा कथन सही नहीं है ?

1. केन्द्र सरकार और राज्य सरकारें दोनों को कर में कटौती की समान रूप से साझेदारी करनी चाहिए।
2. इस वित्तीय वर्ष के सकल घरेलू उत्पाद वर्ष 2019-20 के अंत में प्राप्त आकार की पुनः प्राप्ति करना कठिन है।
3. अधिक ब्याज दरों के माध्यम से मांग में कटौती करने का प्रयोग सीमित रूप में किया जा सकता है।
4. आपूर्ति परक कीमत को रोकने के परिणामस्वरूप वृद्धि पर प्रतिकूल प्रभाव पड़ेगा।

[Question ID = 4150][Question Description = 192\_10\_COM\_SEP22\_S4\_Q92]

1. 1 [Option ID = 16597]
2. 2 [Option ID = 16598]
3. 3 [Option ID = 16599]
4. 4 [Option ID = 16600]

3)

**Read the given passage and answer the questions that follow**

The Monetary Policy Committee of the RBI should neither raise policy rates nor wind up its accommodative policy stance. Yes, inflation has been on the rise, and growth has been setting in. This is the time to consolidate growth, not to be spooked by transient, supply-constrained inflation. Choking off supply-side price shocks is self-defeating. Higher prices will curb demand and stimulate additional supplies, if the prices are allowed to work their way through the system, instead of being choked off through demand suppression. It is only the second-order effect of price shocks in energy, logistics and labour that call for curtailment of demand via higher interest rates.

Far from there being any sign of excess demand, the latest available national income figures suggest squeezed consumption and constrained investment. GDP this fiscal would struggle to recover the size attained at the end of 2019-20. The policy response appropriate for inflation caused by excess demand would be wholly unsuited for inflation caused by supply disruptions and a spike in energy prices. The right way to combat elevated inflation right now is to reduce the burden of taxes that energy bears in India. Both the Centre and the states should share the tax cuts. They should take this action, even as they strive to find common ground on bringing energy under the goods and services tax. The government also has the cushion of relatively high import duties that can be pared, to lower prices. Stepping up production to increase supplies is another part of supply-constrained inflation.

There are measures the RBI can take to increase access to credit by micro, small and medium enterprises; other than enhancing liquidity in general in the hope that some would find its way to the small sector. The RBI can do its bit to realise the government mandate for all large companies to purchase their inputs from the Trade Receivables Discounting System (TReDS), for example, if that improves trade finance significantly, some reduction in liquidity would not matter.

Which of the following measures the RBI can take to consolidate growth?

1. Reduce tax on fuel price
2. Reduce import duty
3. Increase access to credit by MSMEs
4. Absorb price increase by providing subsidies

## निम्नांकित गद्यांश को ध्यानपूर्वक पढ़िए और दिए गए प्रश्नों के उत्तर दीजिए :

भारतीय रिजर्व बैंक की मौद्रिक नीति समिति को न तो पॉलिसी की दरें बढ़ानी चाहिए ना ही अपने समंजनकारी नीतिगत निर्णय को समाप्त करना चाहिए। निश्चित तौर पर मुद्रास्फीति में वृद्धि हुई है और वृद्धि की प्रक्रिया अनवरत रही है। अब समय आ गया है कि वृद्धि का समेकन किया जाए और क्षणिक आपूर्ति अवरोधित मुद्रास्फीति से भयाक्रांत नहीं हुआ जाए।

आपूर्तिजन्य कीमत के आघात को बंद करना स्व-पराजयी भाव है। कीमत में वृद्धि होने के फलस्वरूप मात्र में कमी आएगी और अतिरिक्त आपूर्ति का संवर्धन होगा यदि मांग के प्रशमन के माध्यम से इसे बंद किए जाने की बजाय कीमतों को तंत्र (प्रणाली) के माध्यम से अपने तरीके से कार्य करने की अनुमति दी जाए। ऊर्जा संभार तंत्र और श्रम के क्षेत्र में कीमत संधान का दूसरे क्रम का प्रभाव ही है जिसमें उच्चतर ब्याज दरों के माध्यम से मांग में कटौती किए जाने की आवश्यकता है।

अत्यधिक मांग का संकेतक होने की बात तो दूर रही, अथन उपलब्ध राष्ट्रीय आय के आंकड़ों से प्रसंकुचित खपत और प्रवाहित निवेश का उद्घासन होता है। इस वित्तीय वर्ष में सकल घरेलू उत्पाद को वर्ष 2019-20 के अंत में प्राप्त आकार की पुनः प्राप्ति के लिए संघर्ष करना पड़ेगा। अत्यधिक मांग द्वारा उत्पन्न मुद्रास्फीति के लिए समुपयुक्त नीतिगत अनुक्रिया आपूर्तिपरक बाधा और ऊर्जा की कीमतों में वृद्धि द्वारा कारित मुद्रास्फीति के लिए पूर्णतः अनुपयुक्त होगा। तत्काल बढ़ी हुई मुद्रास्फीति कम करने का सही तरीका भारत में ऊर्जा क्षेत्र पर प्रभारित कर के बोझ को कम करना है। केन्द्र सरकार और राज्य सरकारों दोनों को कर में कटौती को साझा करना चाहिए। यहाँ तक की जब ऊर्जा को माल और सेवा कर की परिधि में लाने के मुद्दे पर उनमें सार्वजनिक सहमति व सम्मति बन जाए तो भी उन्हें यह कार्यवाही करनी चाहिए। सरकार के पास भी अपेक्षाकृत अधिक आयत शुल्क का सुखद पक्ष उपलब्ध है जिसे न्यूनतम कीमत के समतुल्य किया जा सकता है। आपूर्ति बढ़ाने के लिए उत्पादन में वृद्धि करना आपूर्ति-प्रभावित मुद्रा स्फूर्ति का दूसरा भाग है।

भारतीय रिजर्व बैंक सामान्य तौर पर तरलता की वृद्धि करने के अलावा सूक्ष्म लघु और मध्यम उद्योगों के द्वारा साख अभिगम में वृद्धि करने के लिए इस आशा में कई उपाय कर सकता है कि कुछ उद्यम लघु क्षेत्र में आ जाएंगे। उदाहरण के तौर पर भारतीय रिजर्व बैंक सभी बड़ी सम्पत्तियों के लिए व्यापार प्राप्तव्य छूट प्रणाली (टी आर ई डी एस) के अपने आदान खरीदने को अनिवार्य कर सरकार के अधिवेश को साकार करने में अपनी भूमिका का निर्वाह कर सकती है। यदि उससे व्यापार वित्त में कुछ कटौती अधिक मायने नहीं रखेगी।

वृद्धि के समेकन के लिए भारतीय रिजर्व बैंक निम्नांकित में से क्या उपाय कर सकती है ?

1. ईंधन की कीमत पर प्रभारित कर घटा सकती है।
2. आयात शुल्क में कमी कर सकती है।
3. सूक्ष्म, लघु और मध्यम उद्यम के क्रेडिट (ऋण) के पहुंचमें वृद्धि कर सकती है।
4. राजसहायता देकर मूल्य वृद्धि का अभिकलन कर सकती है।

[Question ID = 4151][Question Description = 193\_10\_COM\_SEP22\_S4\_Q93]

1. [Option ID = 16601]
2. [Option ID = 16602]
3. [Option ID = 16603]
4. [Option ID = 16604]

4)

**Read the given passage and answer the questions that follow**

The Monetary Policy Committee of the RBI should neither raise policy rates nor wind up its accommodative policy stance. Yes, inflation has been on the rise, and growth has been setting in. This is the time to consolidate growth, not to be spooked by transient, supply-constrained inflation. Choking off supply-side price shocks is self-defeating. Higher prices will curb demand and stimulate additional supplies, if the prices are allowed to work their way through the system, instead of being choked off through demand suppression. It is only the second-order effect of price shocks in energy, logistics and labour that call for curtailment of demand via higher interest rates.

Far from there being any sign of excess demand, the latest available national income figures suggest squeezed consumption and constrained investment. GDP this fiscal would struggle to recover the size attained at the end of 2019-20. The policy response appropriate for inflation caused by excess demand would be wholly unsuited for inflation caused by supply disruptions and a spike in energy prices. The right way to combat elevated inflation right now is to reduce the burden of taxes that energy bears in India. Both the Centre and the states should share the tax cuts. They should take this action, even as they strive to find common ground on bringing energy under the goods and services tax. The government also has the cushion of relatively high import duties that can be pared, to lower prices. Stepping up production to increase supplies is another part of supply-constrained inflation.

There are measures the RBI can take to increase access to credit by micro, small and medium enterprises; other than enhancing liquidity in general in the hope that some would find its way to the small sector. The RBI can do its bit to realise the government mandate for all large companies to purchase their inputs from the Trade Receivables Discounting System (TReDS), for example, if that improves trade finance significantly, some reduction in liquidity would not matter.

Which one of the following is the cause of inflation as per the passage?

1. Reduction in interest rate
2. Increase in cost
3. Supply disruptions
4. Increase in demand

## निम्नांकित गद्यांश को ध्यानपूर्वक पढ़िए और दिए गए प्रश्नों के उत्तर दीजिए :

भारतीय रिजर्व बैंक की मौद्रिक नीति समिति को न तो पॉलिसी की दरें बढ़ानी चाहिए ना ही अपने समंजनकारी नीतिगत निर्णय को समाप्त करना चाहिए। निश्चित तौर पर मुद्रास्फीति में वृद्धि हुई है और वृद्धि की प्रक्रिया अनवरत रही है। अब समय आ गया है कि वृद्धि का समेकन किया जाए और क्षणिक आपूर्ति अवरोधित मुद्रास्फीति से भयाक्रांत नहीं हुआ जाए।

आपूर्तिजन्य कीमत के आघात को बंद करना स्व-पराजयी भाव है। कीमत में वृद्धि होने के फलस्वरूप मात्र में कमी आएगी और अतिरिक्त आपूर्ति का संवर्धन होगा यदि मांग के प्रशमन के माध्यम से इसे बंद किए जाने की बजाय कीमतों को तंत्र (प्रणाली) के माध्यम से अपने तरीके से कार्य करने की अनुमति दी जाए। ऊर्जा संभार तंत्र और श्रम के क्षेत्र में कीमत संधान का दूसरे क्रम का प्रभाव ही है जिसमें उच्चतर ब्याज दरों के माध्यम से मांग में कटौती किए जाने की आवश्यकता है।

अत्यधिक मांग का संकेतक होने की बात तो दूर रही, अद्यतन उपलब्ध राष्ट्रीय आय के आंकड़ों से प्रसंकुचित खपत और प्रवाहित निवेश का उद्भासन होता है। इस वित्तीय वर्ष में सकल घरेलू उत्पाद को वर्ष 2019-20 के अंत में प्राप्त आकार की पुनः प्राप्ति के लिए संघर्ष करना पड़ेगा। अत्यधिक मांग द्वारा उत्पन्न मुद्रास्फीति के लिए समुपयुक्त नीतिगत अनुक्रिया आपूर्तिपरक बाधा और ऊर्जा की कीमतों में वृद्धि द्वारा कारित मुद्रास्फीति के लिए पूर्णतः अनुपयुक्त होगा। तत्काल बढ़ी हुई मुद्रास्फीति कम करने का सही तरीका भारत में ऊर्जा क्षेत्र पर प्रभारित कर के बोझ को कम करना है। केन्द्र सरकार और राज्य सरकारें दोनों को कर में कटौती को साझा करना चाहिए। यहाँ तक की जब ऊर्जा को माल और सेवा कर की परिधि में लाने के मुद्दे पर उनमें सार्वजनिक सहमति व सम्मति बन जाए तो भी उन्हें यह कार्यवाही करनी चाहिए। सरकार के पास भी अपेक्षाकृत अधिक आयत शुल्क का सुखद पक्ष उपलब्ध है जिसे न्यूनतम कीमत के समतुल्य किया जा सकता है। आपूर्ति बढ़ाने के लिए उत्पादन में वृद्धि करना आपूर्ति-प्रभावित मुद्रा स्फूर्ति का दूसरा भाग है।

भारतीय रिजर्व बैंक सामान्य तौर पर तरलता की वृद्धि करने के अलावा सूक्ष्म लघु और मध्यम उद्योगों के द्वारा साख अभिगम में वृद्धि करने के लिए इस आशा में कई उपाय कर सकता है कि कुछ उद्यम लघु क्षेत्र में आ जाएंगे। उदाहरण के तौर पर भारतीय रिजर्व बैंक सभी बड़ी सम्पत्तियों के लिए व्यापार प्राप्तव्य छूट प्रणाली (टी आर ई डी एस) के अपने आदान खरीदने को अनिवार्य कर सरकार के अधिवेश को साकार करने में अपनी भूमिका का निर्वाह कर सकती है। यदि उससे व्यापार वित्त में कुछ कटौती अधिक मायने नहीं रखेगी।

गद्यांशानुसार निम्नांकित में से किसके कारण मुद्रास्फीति उत्पन्न होती है ?

1. ब्याज दर में कटौती
2. लागत में बढ़ोतरी
3. आपूर्ति में अवरोध
4. मांग में बढ़ोतरी

[Question ID = 4152][Question Description = 194\_10\_COM\_SEP22\_S4\_Q94]

1. 1 [Option ID = 16605]
2. 2 [Option ID = 16606]
3. 3 [Option ID = 16607]
4. 4 [Option ID = 16608]

5)

**Read the given passage and answer the questions that follow**

The Monetary Policy Committee of the RBI should neither raise policy rates nor wind up its accommodative policy stance. Yes, inflation has been on the rise, and growth has been setting in. This is the time to consolidate growth, not to be spooked by transient, supply-constrained inflation. Choking off supply-side price shocks is self-defeating. Higher prices will curb demand and stimulate additional supplies, if the prices are allowed to work their way through the system, instead of being choked off through demand suppression. It is only the second-order effect of price shocks in energy, logistics and labour that call for curtailment of demand via higher interest rates.

Far from there being any sign of excess demand, the latest available national income figures suggest squeezed consumption and constrained investment. GDP this fiscal would struggle to recover the size attained at the end of 2019-20. The policy response appropriate for inflation caused by excess demand would be wholly unsuited for inflation caused by supply disruptions and a spike in energy prices. The right way to combat elevated inflation right now is to reduce the burden of taxes that energy bears in India. Both the Centre and the states should share the tax cuts. They should take this action, even as they strive to find common ground on bringing energy under the goods and services tax. The government also has the cushion of relatively high import duties that can be pared, to lower prices. Stepping up production to increase supplies is another part of supply-constrained inflation.

There are measures the RBI can take to increase access to credit by micro, small and medium enterprises; other than enhancing liquidity in general in the hope that some would find its way to the small sector. The RBI can do its bit to realise the government mandate for all large companies to purchase their inputs from the Trade Receivables Discounting System (TReDS), for example, if that improves trade finance significantly, some reduction in liquidity would not matter.

Given below are two statements, one is labelled as **Assertion A** and the other is labelled as **Reason R**

**Assertion A:** The policy response appropriate for inflation caused by excess demand would be wholly suited for inflation caused by a spike in energy prices.

**Reason R:** The right way to combat elevated inflation right now is to reduce the burden of taxes that energy bears in India.

In light of the above statements, choose the **most appropriate** answer from the options given below

1. Both **A** and **R** are correct and **R** is the correct explanation of **A**
2. Both **A** and **R** are correct but **R** is NOT the correct explanation of **A**
3. **A** is correct but **R** is not correct
4. **A** is not correct but **R** is correct



## निम्नांकित गद्यांश को ध्यानपूर्वक पढ़िए और दिए गए प्रश्नों के उत्तर दीजिए :

भारतीय रिजर्व बैंक की मौद्रिक नीति समिति को न तो पॉलिसी की दरें बढ़ानी चाहिए ना ही अपने समंजनकारी नीतिगत निर्णय को समाप्त करना चाहिए। निश्चित तौर पर मुद्रास्फीति में वृद्धि हुई है और वृद्धि की प्रक्रिया अनवरत रही है। अब समय आ गया है कि वृद्धि का समेकन किया जाए और क्षणिक आपूर्ति अवरोधित मुद्रास्फीति से भयाक्रांत नहीं हुआ जाए।

आपूर्तिजन्य कीमत के आघात को बंद करना स्व-पराजयी भाव है। कीमत में वृद्धि होने के फलस्वरूप मात्र में कमी आएगी और अतिरिक्त आपूर्ति का संवर्धन होगा यदि मांग के प्रशमन के माध्यम से इसे बंद किए जाने की बजाय कीमतों को तंत्र (प्रणाली) के माध्यम से अपने तरीके से कार्य करने की अनुमति दी जाए। ऊर्जा संभार तंत्र और श्रम के क्षेत्र में कीमत संधान का दूसरे क्रम का प्रभाव ही है जिसमें उच्चतर ब्याज दरों के माध्यम से मांग में कटौती किए जाने की आवश्यकता है।

अत्यधिक मांग का संकेतक होने की बात तो दूर रही, अथवा उपलब्ध राष्ट्रीय आय के आंकड़ों से प्रसंकुचित खपत और प्रवाहित निवेश का उद्घासन होता है। इस वित्तीय वर्ष में सकल घरेलू उत्पाद को वर्ष 2019-20 के अंत में प्राप्त आकार की पुनः प्राप्ति के लिए संघर्ष करना पड़ेगा। अत्यधिक मांग द्वारा उत्पन्न मुद्रास्फीति के लिए समुपयुक्त नीतिगत अनुक्रिया आपूर्तिपरक बाधा और ऊर्जा की कीमतों में वृद्धि द्वारा कारित मुद्रास्फीति के लिए पूर्णतः अनुपयुक्त होगा। तत्काल बढ़ी हुई मुद्रास्फीति कम करने का सही तरीका भारत में ऊर्जा क्षेत्र पर प्रभारित कर के बोझ को कम करना है। केन्द्र सरकार और राज्य सरकारें दोनों को कर में कटौती को साझा करना चाहिए। यहाँ तक की जब ऊर्जा को माल और सेवा कर की परिधि में लाने के मुद्दे पर उनमें सार्वजनिक सहमति व सम्मति बन जाए तो भी उन्हें यह कार्यवाही करनी चाहिए। सरकार के पास भी अपेक्षाकृत अधिक आयत शुल्क का सुखद पक्ष उपलब्ध है जिसे न्यूनतम कीमत के समतुल्य किया जा सकता है। आपूर्ति बढ़ाने के लिए उत्पादन में वृद्धि करना आपूर्ति-प्रभावित मुद्रा स्फूर्ति का दूसरा भाग है।

भारतीय रिजर्व बैंक सामान्य तौर पर तरलता की वृद्धि करने के अलावा सूक्ष्म लघु और मध्यम उद्योगों के द्वारा साख अभिगम में वृद्धि करने के लिए इस आशा में कई उपाय कर सकता है कि कुछ उद्यम लघु क्षेत्र में आ जाएंगे। उदाहरण के तौर पर भारतीय रिजर्व बैंक सभी बड़ी सम्पत्तियों के लिए व्यापार प्राप्तव्य छूट प्रणाली (टी आर ई डी एस) के अपने आदान खरीदने को अनिवार्य कर सरकार के अधिवेश को साकार करने में अपनी भूमिका का निर्वाह कर सकती है। यदि उससे व्यापार वित्त में कुछ कटौती अधिक मायने नहीं रखेगी।

नीचे दो कथन दिए गए हैं : एक को अभिकथन (A) और दूसरे को तर्क (R) कहा गया है।

अभिकथन (A) : अत्यधिक मांग कारित मुद्रा स्फीति के लिए समुपयुक्त नीतिगत अनुक्रिया ऊर्जा की कीमतों में वृद्धि द्वारा कारित मुद्रास्फीति के लिए पूर्णतः उपयुक्त होगा।

तर्क (R) : वर्तमान समय में बढ़ी हुई मुद्रास्फीति पर काबू पाने का सही तरीका भारत में ऊर्जा पर प्रभावित कर के बोझ में कमी करना है।

उपर्युक्त कथनों के आलोक में निम्नांकित विकल्पों में से सही उत्तर चुनें :

1. (A) और (R) दोनों सही हैं और (R), (A) की सही व्याख्या है।
2. (A) और (R) दोनों सही हैं परन्तु (R), (A) की सही व्याख्या नहीं है।
3. (A) सही है परन्तु (R) सही नहीं है।
4. (A) सही नहीं है परन्तु (R) सही है।

[Question ID = 4153][Question Description = 195\_10\_COM\_SEP22\_S4\_Q95]

1. 1 [Option ID = 16609]
2. 2 [Option ID = 16610]
3. 3 [Option ID = 16611]
4. 4 [Option ID = 16612]

Topic:- 8\_SH1\_PARTC\_S2

1)

**Study the given table and answer the five questions that follow**

The following information is available with respect to a company manufacturing a particular product.

Sale price (per unit)	₹ 20
Variable manufacturing cost per unit	₹ 11
Variable selling cost per unit	₹ 3
Fixed factory overheads (per year)	₹ 5,40,000
Fixed selling costs (per year)	₹ 2,52,000

On the basis of the above information answers the questions that follow:

Which one of the following is PV ratio for the company?

1. 1.82%
2. 1.43%
3. 30%
4. 33%

किसी विशेष उत्पाद का विनिर्माण करने वाली कंपनी के संबंध में निम्नलिखित जानकारी दी गई है :

बिक्री मूल्य (प्रति एकक)	20 रु.
परिवर्त्य विनिर्माण लागत प्रति एकक	11 रु.
परिवर्त्य विक्रय लागत प्रति एकक	3 रु.
स्थायी कारखाना उपरिव्यय (प्रति वर्ष)	5,40,000 रु.
स्थायी विक्रय लागत (प्रति वर्ष)	2,52,000 रु.

उपर्युक्त सूचना के आधार पर दिये गये प्रश्नों के उत्तर दीजिए :

निम्नांकित में से कंपनी का लाभ मात्रा अनुपात क्या है ?

1. 1.82 %
2. 1.43 %
3. 30 %
4. 33 %

[Question ID = 4154][Question Description = 196\_10\_COM\_SEP22\_S4\_Q96]

1. 1 [Option ID = 16613]
2. 2 [Option ID = 16614]
3. 3 [Option ID = 16615]
4. 4 [Option ID = 16616]

2)

**Study the given table and answer the five questions that follow**

The following information is available with respect to a company manufacturing a particular product.

Sale price (per unit)	₹ 20
Variable manufacturing cost per unit	₹ 11
Variable selling cost per unit	₹ 3
Fixed factory overheads (per year)	₹ 5,40,000
Fixed selling costs (per year)	₹ 2,52,000

On the basis of the above information answers the questions that follow:

Which one of the following is the break-even point in units for the company?

- 1,32,000 units
- 38,576 units
- 84,000 units
- 72,000 units

किसी विशेष उत्पाद का विनिर्माण करने वाली कंपनी के संबंध में निम्नलिखित जानकारी दी गई है :

बिक्री मूल्य (प्रति एकक)	20 रु.
परिवर्त्य विनिर्माण लागत प्रति एकक	11 रु.
परिवर्त्य विक्रय लागत प्रति एकक	3 रु.
स्थायी कारखाना उपरिव्यय (प्रति वर्ष)	5,40,000 रु.
स्थायी विक्रय लागत (प्रति वर्ष)	2,52,000 रु.

उपर्युक्त सूचना के आधार पर दिये गये प्रश्नों के उत्तर दीजिए :

निम्नांकित में से क्या कंपनी के लिए सम-विच्छेद बिंदु (इकाइयों की मात्रा में) है ?

- 1,32,000 इकाइयाँ
- 38,576 इकाइयाँ
- 84,000 इकाइयाँ
- 72,000 इकाइयाँ

[Question ID = 4155][Question Description = 197\_10\_COM\_SEP22\_S4\_Q97]

- 1 [Option ID = 16617]
- 2 [Option ID = 16618]
- 3 [Option ID = 16619]
- 4 [Option ID = 16620]

3)

**Study the given table and answer the five questions that follow**

The following information is available with respect to a company manufacturing a particular product.

Sale price (per unit)	₹ 20
Variable manufacturing cost per unit	₹ 11
Variable selling cost per unit	₹ 3
Fixed factory overheads (per year)	₹ 5,40,000
Fixed selling costs (per year)	₹ 2,52,000

On the basis of the above information answers the questions that follow:

Which one of the following is the break-even point in terms of rupees?

1. ₹ 18,00,000
2. ₹ 26,40,000
3. ₹ 38,57,600
4. ₹ 13,20,000

किसी विशेष उत्पाद का विनिर्माण करने वाली कंपनी के संबंध में निम्नलिखित जानकारी दी गई है :

बिक्री मूल्य (प्रति एकक)	20 रु.
परिवर्त्य विनिर्माण लागत प्रति एकक	11 रु.
परिवर्त्य विक्रय लागत प्रति एकक	3 रु.
स्थायी कारखाना उपरिव्यय (प्रति वर्ष)	5,40,000 रु.
स्थायी विक्रय लागत (प्रति वर्ष)	2,52,000 रु.

उपर्युक्त सूचना के आधार पर दिये गये प्रश्नों के उत्तर दीजिए :

मूल्य के संदर्भ में निम्नांकित में से क्या सम-विच्छेद बिंदु है ?

1. 18,00,000 रु.
2. 26,40,000 रु.
3. 38,57,600 रु.
4. 13,20,000 रु.

[Question ID = 4156][Question Description = 198\_10\_COM\_SEP22\_S4\_Q98]

1. 1 [Option ID = 16621]
2. 2 [Option ID = 16622]
3. 3 [Option ID = 16623]
4. 4 [Option ID = 16624]

4)

**Study the given table and answer the five questions that follow**

The following information is available with respect to a company manufacturing a particular product.

Sale price (per unit)	₹ 20
Variable manufacturing cost per unit	₹ 11
Variable selling cost per unit	₹ 3
Fixed factory overheads (per year)	₹ 5,40,000
Fixed selling costs (per year)	₹ 2,52,000

On the basis of the above information answers the questions that follow:

Which one of the following is desired sales volume in units to earn a profit of ₹ 60,000?

1. 93,667 units
2. 2,64,000 units
3. 1,32,000 units
4. 1,42,000 units

किसी विशेष उत्पाद का विनिर्माण करने वाली कंपनी के संबंध में निम्नलिखित जानकारी दी गई है :

बिक्री मूल्य (प्रति एकक)	20 रु.
परिवर्त्य विनिर्माण लागत प्रति एकक	11 रु.
परिवर्त्य विक्रय लागत प्रति एकक	3 रु.
स्थायी कारखाना उपरिव्यय (प्रति वर्ष)	5,40,000 रु.
स्थायी विक्रय लागत (प्रति वर्ष)	2, 52,000 रु.

उपर्युक्त सूचना के आधार पर दिये गये प्रश्नों के उत्तर दीजिए :

60,000 रु. का लाभ अर्जित करने के लिए निम्नांकित में से वांछित बिक्री की मात्रा क्या है ?

1. 93,667 इकाइयाँ
2. 2,64,000 इकाइयाँ
3. 1,32,000 इकाइयाँ
4. 1,42,000 इकाइयाँ

[Question ID = 4157][Question Description = 199\_10\_COM\_SEP22\_S4\_Q99]

1. 1 [Option ID = 16625]
2. 2 [Option ID = 16626]
3. 3 [Option ID = 16627]
4. 4 [Option ID = 16628]

5)

**Study the given table and answer the five questions that follow**

The following information is available with respect to a company manufacturing a particular product.

Sale price (per unit)	₹ 20
Variable manufacturing cost per unit	₹ 11
Variable selling cost per unit	₹ 3
Fixed factory overheads (per year)	₹ 5,40,000
Fixed selling costs (per year)	₹ 2,52,000

On the basis of the above information answers the questions that follow:

Which one of the following is desired sales (rupees) to earn a profit of ₹ 1,20,000?

1. ₹ 26,40,000
2. ₹ 30,40,000
3. ₹ 15,20,000
4. ₹ 26,40,000

किसी विशेष उत्पाद का विनिर्माण करने वाली कंपनी के संबंध में निम्नलिखित जानकारी दी गई है :

बिक्री मूल्य (प्रति एकक)	20 रु.
परिवर्त्य विनिर्माण लागत प्रति एकक	11 रु.
परिवर्त्य विक्रय लागत प्रति एकक	3 रु.
स्थायी कारखाना उपरिव्यय (प्रति वर्ष)	5,40,000 रु.
स्थायी विक्रय लागत (प्रति वर्ष)	2,52,000 रु.

उपर्युक्त सूचना के आधार पर दिये गये प्रश्नों के उत्तर दीजिए :

1,20,000 रु. का लाभ अर्जित करने के लिए (रुपयों में) निम्नांकित में से क्या वांछित बिक्री है ?

1. 26,40,000 रु.
2. 30,40,000 रु.
3. 1,52,0,000 रु.
4. 2,64,0,000 रु.

[Question ID = 4158][Question Description = 200\_10\_COM\_SEPT22\_S4\_Q100]

1. 1 [Option ID = 16629]
2. 2 [Option ID = 16630]
3. 3 [Option ID = 16631]
4. 4 [Option ID = 16632]

Topic:- 22 GP\_29SEPT22\_SH1\_S2\_A

1)

**Based on the data in the table, answer the five questions that follow**

The following table gives the sale figures of five different types of batteries (in thousands) sold by a company during the years 2015 to 2021.

Year-wise Sale of Batteries

Year	Types Of Batteries Sold (in thousands)				
	4AH	7AH	32AH	35AH	55AH
2015	75	144	114	102	108
2016	90	126	102	84	126
2017	96	114	75	105	135
2018	105	90	150	90	75
2019	90	75	135	75	90
2020	105	60	165	45	120
2021	115	85	160	100	145

What was the approximate percentage increase in the sales of 55AH batteries in 2021 compared to that in 2015?

1. 28 %
2. 31 %
3. 33 %
4. 34 %

निम्नलिखित तालिका में वर्ष 2015 से 2021 तक के दौरान एक कंपनी द्वारा बिक्री की गई विभिन्न प्रकार की बैटरियों (हजार में) के बिक्री - आंकड़े दिए गए हैं। इस तालिका के आंकड़ों के आधार पर पांच प्रश्नों के उत्तर दीजिए :

बैटरियों की वर्ष - वार बिक्री :

वर्ष	बिक्री की गई बैटरियों के प्रकार (हजार में)				
	4 ए एच	7 ए एच	32 ए एच	35 ए एच	55 ए एच
2015	75	144	114	102	108
2016	90	126	102	84	126
2017	96	114	75	105	135
2018	105	90	150	90	75
2019	90	75	135	75	90
2020	105	60	165	45	120
2021	115	85	160	100	145

2015 की तुलना में 2021 में 55 ए एच बैटरियों की बिक्री में लगभग प्रतिशत वृद्धि क्या थी ?

1. 28 %
2. 31 %
3. 33 %
4. 34 %

[Question ID = 4374][Question Description = 101\_81\_GP6\_SEP22\_S2\_Q01]

1. 1 [Option ID = 17493]
2. 2 [Option ID = 17494]
3. 3 [Option ID = 17495]

4. 4 [Option ID = 17496]

2)

**Based on the data in the table, answer the five questions that follow**

The following table gives the sale figures of five different types of batteries (in thousands) sold by a company during the years 2015 to 2021.

Year-wise Sale of Batteries

Year	Types Of Batteries Sold (in thousands)				
	4AH	7AH	32AH	35AH	55AH
2015	75	144	114	102	108
2016	90	126	102	84	126
2017	96	114	75	105	135
2018	105	90	150	90	75
2019	90	75	135	75	90
2020	105	60	165	45	120
2021	115	85	160	100	145

The total sales of all the seven years is maximum for which type of battery?

1. 4AH
2. 7AH
3. 32AH
4. 35AH

निम्नलिखित तालिका में वर्ष 2015 से 2021 तक के दौरान एक कंपनी द्वारा बिक्री की गई विभिन्न प्रकार की बैटरियों (हजार में) के बिक्री - आंकड़े दिए गए हैं। इस तालिका के आंकड़ों के आधार पर पांच प्रश्नों के उत्तर दीजिए :

बैटरियों की वर्ष - वार बिक्री :

वर्ष	बिक्री की गई बैटरियों के प्रकार (हजार में)				
	4 ए एच	7 ए एच	32 ए एच	35 ए एच	55 ए एच
2015	75	144	114	102	108
2016	90	126	102	84	126
2017	96	114	75	105	135
2018	105	90	150	90	75
2019	90	75	135	75	90
2020	105	60	165	45	120
2021	115	85	160	100	145

इन सभी सात वर्षों में किस प्रकार की बैटरी की कुल बिक्री सर्वाधिक थी ?

1. 4 ए एच
2. 7 ए एच
3. 32 ए एच
4. 35 ए एच

[Question ID = 4375][Question Description = 102\_81\_GP6\_SEP22\_S2\_Q02]

1. 1 [Option ID = 17497]
2. 2 [Option ID = 17498]



3. 3 [Option ID = 17499]  
 4. 4 [Option ID = 17500]

3) **Based on the data in the table, answer the five questions that follow**

The following table gives the sale figures of five different types of batteries (in thousands) sold by a company during the years 2015 to 2021.

Year-wise Sale of Batteries

Year	Types Of Batteries Sold (in thousands)				
	4AH	7AH	32AH	35AH	55AH
2015	75	144	114	102	108
2016	90	126	102	84	126
2017	96	114	75	105	135
2018	105	90	150	90	75
2019	90	75	135	75	90
2020	105	60	165	45	120
2021	115	85	160	100	145

What is the difference in the number of 35AH batteries sold in 2016 and 2020?

1. 24000
2. 28000
3. 35000
4. 39000

निम्नलिखित तालिका में वर्ष 2015 से 2021 तक के दौरान एक कंपनी द्वारा बिक्री की गई विभिन्न प्रकार की बैटरियों (हजार में) के बिक्री - आंकड़े दिए गए हैं। इस तालिका के आंकड़ों के आधार पर पांच प्रश्नों के उत्तर दीजिए :

बैटरियों की वर्ष - वार बिक्री :

वर्ष	बिक्री की गई बैटरियों के प्रकार (हजार में)				
	4 ए एच	7 ए एच	32 ए एच	35 ए एच	55 ए एच
2015	75	144	114	102	108
2016	90	126	102	84	126
2017	96	114	75	105	135
2018	105	90	150	90	75
2019	90	75	135	75	90
2020	105	60	165	45	120
2021	115	85	160	100	145

वर्ष 2016 और 2020 में 35 ए एच बैटरियों की बिक्री संख्या में क्या अंतर है ?

1. 24000
2. 28000
3. 35000
4. 39000

[Question ID = 4376][Question Description = 103\_81\_GP6\_SEP22\_S2\_Q03]

1. 1 [Option ID = 17501]

2. 2 [Option ID = 17502]
3. 3 [Option ID = 17503]
4. 4 [Option ID = 17504]

4) **Based on the data in the table, answer the five questions that follow**

The following table gives the sale figures of five different types of batteries (in thousands) sold by a company during the years 2015 to 2021.

Year-wise Sale of Batteries

Year	Types Of Batteries Sold (in thousands)				
	4AH	7AH	32AH	35AH	55AH
2015	75	144	114	102	108
2016	90	126	102	84	126
2017	96	114	75	105	135
2018	105	90	150	90	75
2019	90	75	135	75	90
2020	105	60	165	45	120
2021	115	85	160	100	145

The percentage of 4AH batteries sold in a given year to the total number of batteries sold in that same year was maximum in the year:

1. 2017
2. 2018
3. 2019
4. 2020

निम्नलिखित तालिका में वर्ष 2015 से 2021 तक के दौरान एक कंपनी द्वारा बिक्री की गई विभिन्न प्रकार की बैटरियों (हजार में) के बिक्री - आंकड़े दिए गए हैं। इस तालिका के आंकड़ों के आधार पर पांच प्रश्नों के उत्तर दीजिए :

बैटरियों की वर्ष - वार बिक्री :

वर्ष	बिक्री की गई बैटरियों के प्रकार (हजार में)				
	4 ए एच	7 ए एच	32 ए एच	35 ए एच	55 ए एच
2015	75	144	114	102	108
2016	90	126	102	84	126
2017	96	114	75	105	135
2018	105	90	150	90	75
2019	90	75	135	75	90
2020	105	60	165	45	120
2021	115	85	160	100	145

किसी दिए गए वर्ष में बैटरियों की बिक्री की कुल संख्या के साथ उसी वर्ष में बिक्री की गयी 4 ए एच बैटरियों का प्रतिशत किस वर्ष अधिक था ?

1. 2017
2. 2018
3. 2019
4. 2020

[Question ID = 4377][Question Description = 104\_81\_GP6\_SEP22\_S2\_Q04]

1. 1 [Option ID = 17505]
2. 2 [Option ID = 17506]
3. 3 [Option ID = 17507]
4. 4 [Option ID = 17508]

5)

**Based on the data in the table, answer the five questions that follow**

The following table gives the sale figures of five different types of batteries (in thousands) sold by a company during the years 2015 to 2021.

Year-wise Sale of Batteries

Year	Types Of Batteries Sold (in thousands)				
	4AH	7AH	32AH	35AH	55AH
2015	75	144	114	102	108
2016	90	126	102	84	126
2017	96	114	75	105	135
2018	105	90	150	90	75
2019	90	75	135	75	90
2020	105	60	165	45	120
2021	115	85	160	100	145

In case of which type of battery there was a continuous decrease in sales from 2015 to 2020?

1. 4AH
2. 7AH
3. 32AH
4. 35AH

निम्नलिखित तालिका में वर्ष 2015 से 2021 तक के दौरान एक कंपनी द्वारा बिक्री की गई विभिन्न प्रकार की बैटरियों (हजार में) के बिक्री - आंकड़े दिए गए हैं। इस तालिका के आंकड़ों के आधार पर पांच प्रश्नों के उत्तर दीजिए :

बैटरियों की वर्ष - वार बिक्री :

वर्ष	बिक्री की गई बैटरियों के प्रकार (हजार में)				
	4 ए एच	7 ए एच	32 ए एच	35 ए एच	55 ए एच
2015	75	144	114	102	108
2016	90	126	102	84	126
2017	96	114	75	105	135
2018	105	90	150	90	75
2019	90	75	135	75	90
2020	105	60	165	45	120
2021	115	85	160	100	145

वर्ष 2015 से 2020 तक किस प्रकार की बैटरी की बिक्री में निरंतर गिरावट हुयी ?

1. 4 ए एच
2. 7 ए एच
3. 32 ए एच
4. 35 ए एच

[Question ID = 4378][Question Description = 105\_81\_GP6\_SEP22\_S2\_Q05]

1. 1 [Option ID = 17509]
2. 2 [Option ID = 17510]
3. 3 [Option ID = 17511]
4. 4 [Option ID = 17512]

Topic: - 22 GP\_29SEPT22\_SH1\_S2\_B

1) Which scheme of Ministry of Education, Government of India, uses Artificial Intelligence to make learning more personalised and customised, as per requirements of the learners?

1. NEAT
2. NEET
3. SWAYAM
4. SWAYAM PRABHA

शिक्षा मंत्रालय, भारत सरकार की कौन सी योजना शिक्षार्थियों की आवश्यकताओं के अनुसार अधिगम को अधिक वैयक्तिक और विद्यार्थी अनुकूल बनाने के लिए कृत्रिम बुद्धिमत्ता का प्रयोग करती है ?

1. एन ई ए टी
2. एन ई ई टी
3. स्वयम (SWAYAM )
4. स्वयम प्रभा (SWAYAMPBABHA)

[Question ID = 4379][Question Description = 106\_81\_GP6\_SEP22\_S2\_Q06]

1. 1 [Option ID = 17513]
2. 2 [Option ID = 17514]
3. 3 [Option ID = 17515]
4. 4 [Option ID = 17516]

2) Upon completion of academic programmes (Graduation), what outcomes should the students have attained?

1. Programme Education Objectives/ Programme outcomes
2. Lesson outcomes
3. Course outcomes
4. Unit/Chapter outcomes

अकादमिक कार्यक्रमों (स्नातक) के पूरा होने पर, विद्यार्थियों को क्या परिणाम प्राप्त होने चाहिए ?

1. कार्यक्रम शिक्षा उद्देश्य / कार्यक्रम परिणाम
2. पाठ परिणाम
3. पाठ्यक्रम परिणाम
4. यूनिट/ अध्याय परिणाम

[Question ID = 4380][Question Description = 107\_81\_GP6\_SEP22\_S2\_Q07]

1. 1 [Option ID = 17517]
2. 2 [Option ID = 17518]
3. 3 [Option ID = 17519]
4. 4 [Option ID = 17520]

3) Given below are two statements, one is labelled as **Assertion A** and the other is labelled as **Reason R**.

**Assertion A:** Teachers must encourage students to ask questions.

**Reason R:** Asking questions can create curiosity and develop passion for learning.

In light of the above statements, choose the **most appropriate** answer from the options given below

1. Both **A** and **R** are correct and **R** is the correct explanation of **A**
2. Both **A** and **R** are correct but **R** is NOT the correct explanation of **A**
3. **A** is correct but **R** is not correct
4. **A** is not correct but **R** is correct

नीचे दो कथन दिए गए हैं : एक को अभिकथन (A) और दूसरे को कारण (R) कहा गया है।

अभिकथन (A) : शिक्षकों को विद्यार्थियों को प्रश्न पूछने के लिए प्रोत्साहित करना चाहिए।

कारण (R) : प्रश्न पूछने से जिज्ञासा सृजित होती है और अधिगम के लिए उत्साह विकसित होता है।

उपर्युक्त कथनों के आलोक में निम्नांकित विकल्पों में से सही उत्तर चुनें :

1. (A) और (R) दोनों सही हैं और (R), (A) की सही व्याख्या है।
2. (A) और (R) दोनों सही हैं परन्तु (R), (A) की सही व्याख्या नहीं है।
3. (A) सही है परन्तु (R) सही नहीं है।
4. (A) सही नहीं है परन्तु (R) सही है।

[Question ID = 4381][Question Description = 108\_81\_GP6\_SEP22\_S2\_Q08]

1. 1 [Option ID = 17521]
2. 2 [Option ID = 17522]
3. 3 [Option ID = 17523]
4. 4 [Option ID = 17524]

4) Which of the following model is used for development of e-content for MOOCs on SWAYAM?

1. Four Quadrant
2. Two Quadrant
3. Flipped Classroom
4. Bloom's Taxonomy

स्वयम (SWAYAM) पर मूक्स (MOOCs) के लिए ई-विषयवस्तु के विकास के लिए निम्न में से किस मॉडल का प्रयोग होता है ?

1. चार चतुष्क
2. दो चतुष्क
3. फ्लिप्ड कक्षा
4. ब्लूम का वर्गीकरण विज्ञान

[Question ID = 4382][Question Description = 109\_81\_GP6\_SEP22\_S2\_Q09]

1. 1 [Option ID = 17525]
2. 2 [Option ID = 17526]
3. 3 [Option ID = 17527]
4. 4 [Option ID = 17528]

5) In order to develop a video for MOOC, how much portion of some copyrighted video is allowed to be used as per the fair use guidelines?

1. Upto 10% or 10 minutes, whichever is less.
2. Upto 10% or 3 minutes, whichever is less.
3. Upto 20% or 10 minutes, whichever is less.
4. Upto 30% or 3 minutes, whichever is less.

मूक (MOOC) के लिए कोई वीडियो बनाने के लिए, उचित प्रयोग दिशानिर्देशों के अनुसार, किसी प्रतिलिप्याधिकारित वीडियो के कितने हिस्से का प्रयोग करने की अनुमति है ?

1. 10% तक, या 10 मिनट, जो भी कम हो।
2. 10% तक, या 3 मिनट, जो भी कम हो।
3. 20% तक, या 10 मिनट, जो भी कम हो।
4. 30% तक, या 3 मिनट, जो भी कम हो।

[Question ID = 4383][Question Description = 110\_81\_GP6\_SEP22\_S2\_Q10]

1. 1 [Option ID = 17529]
2. 2 [Option ID = 17530]
3. 3 [Option ID = 17531]
4. 4 [Option ID = 17532]

6) When the subjects of a research change or improve their behaviour, not due to changes in experimental stimulus, it is called

1. The Hawthorne effect
2. The Glenn effect
3. The Fischer effect
4. The Kerlinger effect

जब किसी शोध के विषयों के व्यवहार में परिवर्तन या सुधार प्रयोगात्मक उद्दीपकों में परिवर्तन के कारण नहीं होता है, तो उसे कहा जाता है :-

1. हावथोर्न प्रभाव
2. ग्लेन प्रभाव
3. फिशर प्रभाव
4. करलिंगर प्रभाव

[Question ID = 4384][Question Description = 111\_81\_GP6\_SEP22\_S2\_Q11]

1. 1 [Option ID = 17533]
2. 2 [Option ID = 17534]
3. 3 [Option ID = 17535]
4. 4 [Option ID = 17536]

7)

The advantages of research based on field experiments are:

- A. A strong external validity
- B. Subjects behave normally and naturally.
- C. The experiment takes place in a natural setting.
- D. Generation of primary data
- E. Non-requirement of elaborate logistics

Choose the **correct** answer from the options given below:

1. A, B and C only
2. B, C and D only
3. C, D and E only
4. A, C and E only

क्षेत्र में प्रयोगों पर आधारित शोध के लाभ हैं :-

- A. एक प्रबल बाह्य वैधता।
- B. विषय सामान्य और स्वाभाविक रूप से व्यवहार करते हैं।
- C. प्रयोग प्राकृतिक व्यवस्था में होता है।
- D. प्राथमिक आँकड़ों का सृजन।
- E. विस्तृत संभार-तंत्र की आवश्यकता नहीं होती।

नीचे दिए गए विकल्पों में से सही उत्तर चुनें :

1. केवल A, B और C
2. केवल B, C और D
3. केवल C, D और E
4. केवल A, C और E

[Question ID = 4385][Question Description = 112\_81\_GP6\_SEP22\_S2\_Q12]

1. 1 [Option ID = 17537]
2. 2 [Option ID = 17538]
3. 3 [Option ID = 17539]
4. 4 [Option ID = 17540]

8) Hypothesis, that is alternative to null hypothesis, is represented as

1.  $H_0$
2.  $H_1$
3.  $H_{alt}$
4.  $H_{\neq 0}$

परिकल्पना, जो शून्य परिकल्पना का विकल्प है, को दर्शाया जाता है

1.  $H_0$
2.  $H_1$
3.  $H_{alt}$
4.  $H_{\neq 0}$

[Question ID = 4386][Question Description = 113\_81\_GP6\_SEP22\_S2\_Q13]

1. 1 [Option ID = 17541]
2. 2 [Option ID = 17542]
3. 3 [Option ID = 17543]
4. 4 [Option ID = 17544]

9) What is SCOPUS?

1. Software to prepare Ph.D thesis
2. Database containing abstracts and citations of academic journals
3. Agency to fund research and development
4. Plagiarism checking software

स्कॉपस (SCOPUS) क्या है ?

1. पी.एच.डी. शोध ग्रंथ तैयार करने का सॉफ्टवेयर
2. डाटाबेस जिसमें शैक्षिक पत्रिकाओं के सार एवं उद्धरण होते हैं
3. शोध और विकास के वित्तपोषण के लिए अभिकरण
4. साहित्यिक चोरी की जाँच करने वाला सॉफ्टवेयर

[Question ID = 4387][Question Description = 114\_81\_GP6\_SEP22\_S2\_Q14]

1. 1 [Option ID = 17545]
2. 2 [Option ID = 17546]
3. 3 [Option ID = 17547]
4. 4 [Option ID = 17548]

10) The Social Science research which is data-based, has been associated with

1. Authoritarian mode
2. Positivist philosophy
3. Network theory
4. Phenomenology



वह सामाजिक विज्ञान शोध, जो आंकड़ा-आधारित होता है, निम्नलिखित से संबद्ध है :-

1. सत्तावादी पद्धति
2. प्रत्यक्षवादी दर्शन
3. नेटवर्क सिद्धांत
4. दृश्यघटना विज्ञान

[Question ID = 4388][Question Description = 115\_81\_GP6\_SEP22\_S2\_Q15]

1. 1 [Option ID = 17549]
2. 2 [Option ID = 17550]
3. 3 [Option ID = 17551]
4. 4 [Option ID = 17552]

11)

The modern communication revolution is propelled by

1. Cold war propaganda
2. International commerce
3. Technological convergence
4. Change in political systems

आधुनिक सम्प्रेषण क्रांति किसके द्वारा अभिप्रेरित है ?

1. शीत युद्ध का प्रोपेगैंडा
2. अंतर्राष्ट्रीय वाणिज्य
3. प्रौद्योगिकीय अभिसरण
4. राजनीतिक प्रणाली में परिवर्तन

[Question ID = 4389][Question Description = 116\_81\_GP6\_SEP22\_S2\_Q16]

1. 1 [Option ID = 17553]
2. 2 [Option ID = 17554]
3. 3 [Option ID = 17555]
4. 4 [Option ID = 17556]

12)

Effective classroom communication will enable

- A. Efficient teaching
- B. Interest in learning
- C. Minimal assessment
- D. Interaction between teachers and students
- E. Teacher-centric behaviour

Choose the **correct** answer from the options given below:

1. A, B and C only
2. B, C, D and E only
3. C, D and E only
4. A, B and D only

कक्षा में प्रभावी सम्प्रेषण किसमें सक्षम करेगा :

- A. कुशल अध्यापन
- B. सीखने में रुचि
- C. अल्पतम मूल्यांकन
- D. शिक्षकों और विद्यार्थियों के बीच अन्योन्य क्रिया
- E. अध्यापक-केंद्रित व्यवहार

नीचे दिए गए विकल्पों में से सही उत्तर चुनें :

- 1. केवल A, B और C
- 2. केवल B, C, D और E
- 3. केवल C, D और E
- 4. केवल A, B और D

[Question ID = 4390][Question Description = 117\_81\_GP6\_SEP22\_S2\_Q17]

- 1. 1 [Option ID = 17557]
- 2. 2 [Option ID = 17558]
- 3. 3 [Option ID = 17559]
- 4. 4 [Option ID = 17560]

13)

Which of the following are barriers to understand the communicated messages?

- A. Emotional quotient
- B. Jargon
- C. Personal space
- D. Pre-judgement
- E. Cultural background

Choose the **correct** answer from the options given below:

- 1. A, B and C only
- 2. B, D and E only
- 3. C, D and E only
- 4. B, C and D only



निम्नलिखित में से कौन से सम्प्रेषित संदेशों को समझने में अवरोधक हैं ?

- A. संवेदात्मक-लब्धि
- B. अनर्गल
- C. वैयक्तिक स्थान
- D. पूर्व-निर्णय
- E. सांस्कृतिक पृष्ठभूमि

नीचे दिए गए विकल्पों में से सही उत्तर चुनें :

- 1. केवल A, B और C
- 2. केवल B, D और E
- 3. केवल C, D और E
- 4. केवल B, C और D

[Question ID = 4391][Question Description = 118\_81\_GP6\_SEP22\_S2\_Q18]

- 1. 1 [Option ID = 17561]
- 2. 2 [Option ID = 17562]
- 3. 3 [Option ID = 17563]
- 4. 4 [Option ID = 17564]

14)

Given below are two statements

**Statement I:** Knowledge is a form of cultural capital for all practical purposes.

**Statement II:** Communication media make cultural capital a form of illimitable property.

In light of the above statements, choose the **most appropriate** answer from the options given below

- 1. Both Statement I and Statement II are correct
- 2. Both Statement I and Statement II are incorrect
- 3. Statement I is correct but Statement II is incorrect
- 4. Statement I is incorrect but Statement II is correct

नीचे दो कथन दिए गए हैं :

कथन - I : ज्ञान सभी व्यावहारिक प्रयोजनों के लिए सांस्कृतिक पूंजी का एक रूप है।

कथन - II : सम्प्रेषण मीडिया, सांस्कृतिक पूंजी को एक प्रकार की असीमित सम्पत्ति बनाता है।

उपर्युक्त कथनों के आलोक में निम्नलिखित विकल्पों में से सही उत्तर चुनें :

- 1. कथन I और II दोनों सही हैं।
- 2. कथन I और II दोनों गलत हैं।
- 3. कथन I सही है, किन्तु कथन II गलत है।
- 4. कथन I गलत है, किन्तु कथन II सही है।

[Question ID = 4392][Question Description = 119\_81\_GP6\_SEP22\_S2\_Q19]

- 1. 1 [Option ID = 17565]
- 2. 2 [Option ID = 17566]
- 3. 3 [Option ID = 17567]
- 4. 4 [Option ID = 17568]

15)

Match **List I** with **List II**

List I	List II
<b>Concept of presentation</b>	<b>Characteristic</b>
A. Text	I. Order of signification
B. Discourse	II. Subjective invention
C. Connotation	III. Micro data
D. Myth	IV. Macro exchange

Choose the **correct** answer from the options given below:

1. A - I, B - II, C - III, D - IV
2. A - II, B - III, C - IV, D - I
3. A - III, B - IV, C - I, D - II
4. A - IV, B - I, C - II, D - III

सूची -I को सूची -II से सुमेलित कीजिए :

सूची -I	सूची -II
प्रस्तुतीकरण की अवधारणा	विशेषताएं
A. पाठ	I. महत्वीकरण का क्रम
B. विमर्श	II. आत्म-निष्ठ खोज
C. गुणार्थ	III. माइक्रो-डेटा
D. मिथक	IV. बृहत आदान-प्रदान

नीचे दिए गए विकल्पों में से सही उत्तर चुनिए :

1. A - I, B - II, C - III, D - IV
2. A - II, B - III, C - IV, D - I
3. A - III, B - IV, C - I, D - II
4. A - IV, B - I, C - II, D - III

[Question ID = 4393][Question Description = 120\_81\_GP6\_SEP22\_S2\_Q20]

1. 1 [Option ID = 17569]
2. 2 [Option ID = 17570]
3. 3 [Option ID = 17571]
4. 4 [Option ID = 17572]

16)

Choose the set of numbers, similar to the set (31, 19, 41) out of the following:

A. (27, 29, 47)

B. (23, 34, 49)

C. (29, 16, 41)

D. (29, 17, 37)

E. (23, 37, 49)

Choose the **correct** answer from the options given below:

1. A, C and E only
2. A and B only
3. B and D only
4. D only

निम्नलिखित समुच्चयों में से समुच्चय (31,19,41) के समान संख्याओं के समुच्चय को चुनिए :-

A. (27, 29, 47)

B. (23, 34, 49)

C. (29, 16, 41)

D. (29, 17, 37)

E. (23, 37, 49)

नीचे दिए गए विकल्पों में से सही उत्तर चुनें :

1. केवल A, C और E
2. केवल A और B
3. केवल B और D
4. केवल D



[Question ID = 4394][Question Description = 121\_81\_GP6\_SEP22\_S2\_Q21]

1. 1 [Option ID = 17573]
2. 2 [Option ID = 17574]
3. 3 [Option ID = 17575]
4. 4 [Option ID = 17576]

17)

Unscramble the strings below to create a meaningful word and then find the odd one out:

- A. EIWNTR
- B. UMRSME
- C. PIGRSN
- D. LCUOD

Choose the **correct** answer from the options given below:

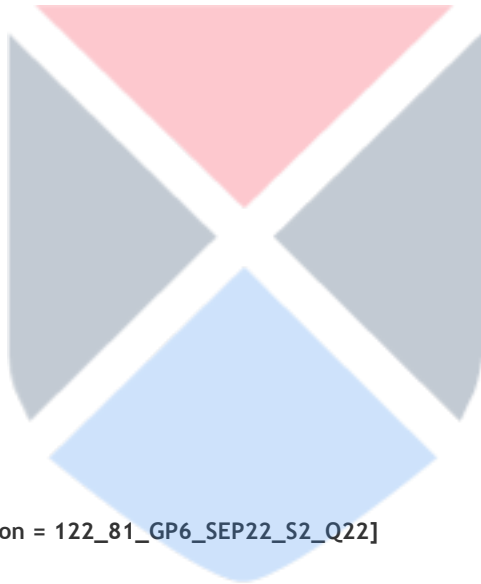
- 1. A only
- 2. B only
- 3. C only
- 4. D only

नीचे दिए गए सूत्र को इस प्रकार सुलझाएँ कि अर्थपूर्ण शब्द बने तथा तदुपरांत विषम को ढूँढें :-

- A. EIWNTR
- B. UMRSME
- C. PIGRSN
- D. LCUOD

नीचे दिए गए विकल्पों में से सही उत्तर चुनें :

- 1. केवल A
- 2. केवल B
- 3. केवल C
- 4. केवल D



[Question ID = 4395][Question Description = 122\_81\_GP6\_SEP22\_S2\_Q22]

- 1. 1 [Option ID = 17577]
- 2. 2 [Option ID = 17578]
- 3. 3 [Option ID = 17579]
- 4. 4 [Option ID = 17580]

18)

What shall be the value when 0.07 is divided by 350?

- 1. 0.0002
- 2. 0.002
- 3. 0.02
- 4. 0.00002

जब 0.07 को 350 से भाग किया जाएगा तो क्या मान प्राप्त होगा ?

- 1. 0.0002
- 2. 0.002
- 3. 0.02
- 4. 0.00002

[Question ID = 4396][Question Description = 123\_81\_GP6\_SEP22\_S2\_Q23]

1. 1 [Option ID = 17581]
2. 2 [Option ID = 17582]
3. 3 [Option ID = 17583]
4. 4 [Option ID = 17584]

19)

Six persons went to a hotel for a dinner. Five of them spent Rs 150 each on their meals, while the sixth person spent Rs 80 more than the average expenditure of all the six persons. What is the total money spent by all the six persons?

1. 996
2. 999
3. 1000
4. 1001

छह लोग रात्रि भोजन के लिए होटल में जाते हैं। उनमें पाँच व्यक्तियों में से प्रत्येक अपने भोजन पर ₹150 खर्च करता है। जबकि छठा व्यक्ति सभी छह व्यक्तियों के औसत खर्च से ₹80 अधिक खर्च करता है। सभी छह व्यक्तियों द्वारा कुल कितनी धन राशि खर्च की गई ?

1. ₹ 996
2. ₹ 999
3. ₹ 1000
4. ₹ 1001

[Question ID = 4397][Question Description = 124\_81\_GP6\_SEP22\_S2\_Q24]

1. 1 [Option ID = 17585]
2. 2 [Option ID = 17586]
3. 3 [Option ID = 17587]
4. 4 [Option ID = 17588]

20)

The selling price of 30 fans is equal to the purchase price of 25 fans. What is the profit or loss in percentage?

1. A gain of  $16\frac{2}{3}\%$
2. A loss of 15%
3. A loss of  $16\frac{2}{3}\%$
4. No gain, no loss

30 पंखों का बिक्री मूल्य 25 पंखों के खरीद मूल्य के बराबर है। लाभ अथवा हानि प्रतिशत में कितनी है ?

1.  $16\frac{2}{3}\%$  लाभ
2. 15% हानि
3.  $16\frac{2}{3}\%$  हानि
4. न हानि, न लाभ

[Question ID = 4398][Question Description = 125\_81\_GP6\_SEP22\_S2\_Q25]

1. 1 [Option ID = 17589]
2. 2 [Option ID = 17590]
3. 3 [Option ID = 17591]
4. 4 [Option ID = 17592]

21)

In Classical Square of Opposition, if 'Some S is P' is given as true then which of the following could be immediately inferred from it?

- A. 'Some S is not P' is false
- B. 'Some S is not P' is true
- C. 'No S is P' is false
- D. 'All S is P' is undetermined
- E. 'Some S is not P' is undetermined

Choose the **correct** answer from the options given below:

- 1. A, C and D only
- 2. C, D and E only
- 3. B, C and D only
- 4. B and C only

विरोधों के शास्त्रीय चतुर्भुज में 'कुछ S, P होते हैं', को यदि सही माना गया हो तो निम्न में से किसको प्रत्यक्ष रूप से अनुमानित किया जा सकता है ?

- A. 'कुछ S, P नहीं है', गलत है
- B. 'कुछ S, P नहीं है', सत्य है
- C. 'कोई S, P नहीं है', गलत है
- D. 'सभी S, P है', अनिर्धारित है
- E. 'कुछ S, P नहीं है', अनिर्धारित है

नीचे दिए गए विकल्पों में से सही उत्तर चुनें :

- 1. केवल A, C और D
- 2. केवल C, D और E
- 3. केवल B, C और D
- 4. केवल B और C

[Question ID = 4399][Question Description = 126\_81\_GP6\_SEP22\_S2\_Q26]

- 1. 1 [Option ID = 17593]
- 2. 2 [Option ID = 17594]
- 3. 3 [Option ID = 17595]
- 4. 4 [Option ID = 17596]





22)

A fallacy in which the conclusion is stated or assumed within one of the premises is known severally as:

- A. *Petitio Principii*
- B. Irrelevant Conclusion
- C. Begging the Question
- D. Fallacy of Composition
- E. Circular argument

Choose the **correct** answer from the options given below:

- 1. A, D and E only
- 2. C and D only
- 3. B, C and E only
- 4. A, C and E only

कोई तर्क दोष जिसमें निष्कर्ष को एक आधार वाक्य के रूप के अंतर्गत रेखांकित किया गया हो अथवा माना गया हो उसे विभिन्न प्रकारों से क्या कहा जाता है।

- A. पिटिशियो प्रिंसिपी
- B. अप्रासंगिक निष्कर्ष
- C. आत्माश्रय दोष
- D. संयोजन का तर्क-दोष
- E. चक्रक दोष

- 1. केवल A, D और E
- 2. केवल C और D
- 3. केवल B, C और E
- 4. केवल A, C और E

[Question ID = 4400][Question Description = 127\_81\_GP6\_SEP22\_S2\_Q27]

- 1. 1 [Option ID = 17597]
- 2. 2 [Option ID = 17598]
- 3. 3 [Option ID = 17599]
- 4. 4 [Option ID = 17600]

23)

Analogical Arguments are:

- 1. Deductive in nature
- 2. Inductive in nature
- 3. Valid arguments but fallacious
- 4. Invalid arguments

सदृशमूलक तर्क हैं :

1. निगमात्मक प्रकृति रूपी
2. आगात्मक प्रकृति रूपी
3. वैध परंतु दोषयुक्त तर्क
4. अवैध तर्क

[Question ID = 4401][Question Description = 128\_81\_GP6\_SEP22\_S2\_Q28]

1. 1 [Option ID = 17601]
2. 2 [Option ID = 17602]
3. 3 [Option ID = 17603]
4. 4 [Option ID = 17604]

24)

Given below are two statements, one is labelled as **Assertion A** and the other is labelled as **Reason R**.

**Assertion A:** According to Classical Indian School of Logic (Nyāya), it is desirable but not necessary to offer an example in a syllogistic argument or inference.

**Reason R:** Example shows that there is at least one existent object or case in the world in which the middle and major terms co-exist.

In light of the above statements, choose the **most appropriate** answer from the options given below.

1. Both **A** and **R** are correct and **R** is the correct explanation of **A**.
2. Both **A** and **R** are correct but **R** is NOT the correct explanation of **A**.
3. **A** is correct but **R** is not correct.
4. **A** is not correct but **R** is correct.

नीचे दो कथन दिए गए हैं : एक को अभिकथन (A) और दूसरे को तर्क (R) कहा गया है।

अभिकथन (A) : शास्त्रीय भारतीय न्याय मत के अनुसार किसी न्याय वाक्य अथवा अनुमान का उदाहरण देना वांछनीय है, किंतु अनिवार्य नहीं।

कारण (R) : उदाहरण यह दर्शाता है कि कम से कम एक अस्तित्ववान वस्तु या सांसारिक स्थिति मौजूद है जिसमें मध्य पद और प्रमुख पद सह-विद्यमान हैं।

उपर्युक्त कथनों के आलोक में निम्नांकित विकल्पों में से सही उत्तर चुनें :

1. (A) और (R) दोनों सही हैं और (R), (A) की सही व्याख्या है।
2. (A) और (R) दोनों सही हैं परन्तु (R), (A) की सही व्याख्या नहीं है।
3. (A) सही है परन्तु (R) सही नहीं है।
4. (A) सही नहीं है परन्तु (R) सही है।

[Question ID = 4402][Question Description = 129\_81\_GP6\_SEP22\_S2\_Q29]

1. 1 [Option ID = 17605]
2. 2 [Option ID = 17606]
3. 3 [Option ID = 17607]
4. 4 [Option ID = 17608]

25)

An American is told by his friend that Asian buffalo is like bison in such and such respects. When the American visits Asia and comes across a buffalo, he comes to know that the animal seen by him is buffalo. Which of the following means of knowledge (pramāṇa) is used in this instance?

1. Postulation (Arthāpatti)
2. Comparison (Upamāna)
3. Perception (Pratyakṣa)
4. Verbal Testimony (Śabda)

एक अमेरिकी को उसके मित्र द्वारा बताया गया कि एक एशियाई भैंस इन और इन सन्दर्भों में बाइसन (BISON) की तरह होता है। जब इस अमेरिकी ने एशिया की यात्रा की और वह भैंस के सम्मुख आया तो उसे यह पता चला कि उसने जिस प्राणी को देखा, वह भैंस है। निम्नलिखित में से किस ज्ञान माध्यम (प्रमाण) का इस्तेमाल उसके द्वारा उस समय किया गया ?

1. अर्थापत्ती
2. उपमान
3. प्रत्यक्ष
4. शब्द

[Question ID = 4403][Question Description = 130\_81\_GP6\_SEP22\_S2\_Q30]

1. 1 [Option ID = 17609]
2. 2 [Option ID = 17610]
3. 3 [Option ID = 17611]
4. 4 [Option ID = 17612]

26)

Given below are two statements, one is labelled as **Assertion A** and the other is labelled as **Reason R**.

**Assertion A :** Static RAM is typically used for PC's main memory while Dynamic RAM is used for CPU cache.

**Reason R :** Static RAM is faster and more expensive than Dynamic RAM.

In light of the above statements, choose the **correct** answer from the options given below

1. Both **A** and **R** are true and **R** is the correct explanation of **A**
2. Both **A** and **R** are true but **R** is NOT the correct explanation of **A**
3. **A** is true but **R** is false
4. **A** is false but **R** is true

नीचे दो कथन दिए गए हैं : एक को अभिकथन (A) और दूसरे को कारण (R) कहा गया है।

अभिकथन (A) : 'स्टैटिक रैम' का विशिष्ट रूप से उपयोग 'पी सी' की मेम मेमोरी के लिए किया जाता है जबकि "डायनेमिक रैम" सी पी यू केशे के लिए प्रयोग की जाती है।

कारण (R) : "स्टैटिक रैम" "डायनेमिक रैम" की तुलना में अधिक तेज और महंगी होती है।

उपर्युक्त कथनों के आलोक में निम्नांकित विकल्पों में से सही उत्तर चुनें :

1. (A) और (R) दोनों सत्य हैं और (R), (A) की सही व्याख्या है।
2. (A) और (R) दोनों सत्य हैं परन्तु (R), (A) की सही व्याख्या नहीं है।
3. (A) सत्य है परन्तु (R) असत्य है।
4. (A) असत्य है परन्तु (R) सत्य है।

[Question ID = 4404][Question Description = 131\_81\_GP6\_SEP22\_S2\_Q31]

- 1 [Option ID = 17613]
- 2 [Option ID = 17614]
- 3 [Option ID = 17615]
- 4 [Option ID = 17616]

27)

With respect to the Computers, what is the purpose of compressing a data file?

1. To encrypt the data
2. To occupy less storage space
3. To increase transmission time over a network
4. To allow the file to be read by a variety of applications

कम्प्यूटर के संदर्भ में एक डाटा फाइल को कम्प्रेस करने का क्या उद्देश्य होता है ?

1. डाटा को एन्क्रिप्ट करने के लिए
2. कम स्टोरेज स्पेस घेरने के लिए
3. एक नेटवर्क पर ट्रांसमिशन टाइम में वृद्धि करने के लिए
4. एक फाइल को विभिन्न अनुप्रयोगों द्वारा पढ़े जाने के लिए अनुमति देना

[Question ID = 4405][Question Description = 132\_81\_GP6\_SEP22\_S2\_Q32]

- 1 [Option ID = 17617]
- 2 [Option ID = 17618]
- 3 [Option ID = 17619]
- 4 [Option ID = 17620]


28)

Which of the following peripheral devices are considered as only input devices?

- A. Microphone
- B. Projector
- C. Joy Stick
- D. Scanner
- E. Track-ball

Choose the **correct** answer from the options given below:

1. A, C, D and E only
2. A, B, D and E only
3. B, C, D and E only
4. A, B, C and D only



निम्नलिखित पेरिफेरल डिवाइसेस में से किन्हें केवल इनपुट डिवाइसेस माना जाता है ?

- A. माइक्रोफोन
- B. प्रोजेक्टर
- C. जॉय स्टिक
- D. स्कैनर
- E. ट्रैक बाल

नीचे दिए गए विकल्पों में से सही उत्तर चुनें :

- 1. केवल A, C, D और E
- 2. केवल A, B, D और E
- 3. केवल B, C, D और E
- 4. केवल A, B, C और D

[Question ID = 4406][Question Description = 133\_81\_GP6\_SEP22\_S2\_Q33]

- 1. 1 [Option ID = 17621]
- 2. 2 [Option ID = 17622]
- 3. 3 [Option ID = 17623]
- 4. 4 [Option ID = 17624]

29)

A Company's word-processed daily report contains a graph from a spreadsheet. The report needs to display the most recent information from the spreadsheet. What feature should be used to insert the most up-to-date graph?

- 1. Copy and paste
- 2. Mail merge wizard
- 3. Automated importing
- 4. Linking and embedding

किसी कम्पनी की वर्ड-प्रोसेस्ड दैनिक रिपोर्ट में स्प्रेडशीट का एक ग्राफ शामिल होता है। रिपोर्ट में स्प्रेडशीट से अद्यतन सूचना को दिया जाना आवश्यक होता है। अद्यतन ग्राफ को अंतर्विष्ट करने के लिए किस गुण (फीचर) का उपयोग किया जाना चाहिए ?

- 1. कापी और पेस्ट
- 2. मेल मर्ज विज़र्ड
- 3. आटोमेटेड इम्पोर्टिंग
- 4. लिंकिंग और एम्बेडिंग

[Question ID = 4407][Question Description = 134\_81\_GP6\_SEP22\_S2\_Q34]

- 1. 1 [Option ID = 17625]
- 2. 2 [Option ID = 17626]
- 3. 3 [Option ID = 17627]
- 4. 4 [Option ID = 17628]

30)

Which type of virus or destructive software could appear to be useful, but will actually cause damage once installed or run by a user?

1. Hoax
2. Worm
3. Trojan Horse
4. System Sector

किसी प्रयोक्ता को किस प्रकार का वायरस अथवा डैस्ट्रक्टिव सॉफ्टवेयर उपयोगी प्रतीत होता है, लेकिन एक बार सॉफ्टवेयर इंस्टॉल करने के बाद अथवा उसे चलाने पर वास्तव में उससे डैमेज होता है

1. होक्स (HOAX)
2. वार्म (WORM)
3. ट्रॉयन हार्स (TROJAN HORSE)
4. सिस्टम सेक्टर (SYSTEM SECTOR)

[Question ID = 4408][Question Description = 135\_81\_GP6\_SEP22\_S2\_Q35]

1. 1 [Option ID = 17629]
2. 2 [Option ID = 17630]
3. 3 [Option ID = 17631]
4. 4 [Option ID = 17632]

31)

According to Noise Pollution (Regulation and Control) Rules in India, noise ( $L_{eq}$ ) in educational institutions during night time (10pm-6am) must not exceed

1. 35 dB
2. 40 dB
3. 45 dB
4. 50 dB

भारत में ध्वनि प्रदूषण (विनियम एवं नियंत्रण) नियमावली के अनुसार, शैक्षिक संस्थाओं में रात 10 बजे अपराह्न से 6 बजे पूर्वाह्न तक की अवधि में ध्वनि ( $L_{eq}$ ) का स्तर निम्नलिखित से अधिक नहीं होना चाहिए

1. 35 dB
2. 40 dB
3. 45 dB
4. 50 dB

[Question ID = 4409][Question Description = 136\_81\_GP6\_SEP22\_S2\_Q36]

1. 1 [Option ID = 17633]
2. 2 [Option ID = 17634]
3. 3 [Option ID = 17635]
4. 4 [Option ID = 17636]

32)

The percentage increase in carbon dioxide concentration in atmosphere from pre-industrial times is approximately

1. 55 %
2. 50 %
3. 74 %
4. 62 %

औद्योगिक काल से पहले से वातावरण में कार्बन डाइऑक्साइड सांद्रता में प्रतिशत वृद्धि लगभग है :

1. 55%
2. 50%
3. 74%
4. 62%

[Question ID = 4410][Question Description = 137\_81\_GP6\_SEP22\_S2\_Q37]

1. 1 [Option ID = 17637]
2. 2 [Option ID = 17638]
3. 3 [Option ID = 17639]
4. 4 [Option ID = 17640]

33)

The highest nonzero dose at which no toxic effect is observed in a study on animals is called

1. LD<sub>50</sub>
2. NOAEL
3. LOAEL
4. NOEFF

अधिकतम गैर शून्य मात्रा जिस पर कोई भी विषाक्त प्रभाव जानवरों पर अध्ययन में नहीं देखा जाता है, निम्नलिखित कही जाती है :

1. LD<sub>50</sub>
2. NOAEL
3. LOAEL
4. NOEFF

[Question ID = 4411][Question Description = 138\_81\_GP6\_SEP22\_S2\_Q38]

1. 1 [Option ID = 17641]
2. 2 [Option ID = 17642]
3. 3 [Option ID = 17643]
4. 4 [Option ID = 17644]

34)

Given below are two statements, one is labelled as **Assertion A** and the other is labelled as **Reason R**.

**Assertion A:** Hybrid Electric Vehicles' (HEVs) fuel running cost is lesser than Electric Vehicles (EVs).

**Reason R:** Hybrid Electric Vehicles have both an internal combustion engine and an onboard electric power generation system.

In light of the above statements, choose the **most appropriate** answer from the options given below

1. Both **A** and **R** are correct and **R** is the correct explanation of **A**
2. Both **A** and **R** are correct but **R** is NOT the correct explanation of **A**
3. **A** is correct but **R** is not correct
4. **A** is not correct but **R** is correct

नीचे दो कथन दिए गए हैं : एक को अभिकथन (A) और दूसरे को कारण (R) कहा गया है।

अभिकथन (A) : हाइब्रिड इलेक्ट्रिक वाहनों (HEVs) की ईंधन चालन लागत इलेक्ट्रिक वाहन (EVs) से कम है।

कारण (R) : हाइब्रिड इलेक्ट्रिक वाहन में आंतरिक दहन ईंजन और एक ऑनबोर्ड इलेक्ट्रिक विद्युत उत्पादन प्रणाली दोनों होते हैं।

उपर्युक्त कथनों के आलोक में निम्नांकित विकल्पों में से सही उत्तर चुनें :

1. (A) और (R) दोनों सही हैं और (R), (A) की सही व्याख्या है।
2. (A) और (R) दोनों सही हैं परन्तु (R), (A) की सही व्याख्या नहीं है।
3. (A) सही है परन्तु (R) सही नहीं है।
4. (A) सही नहीं है परन्तु (R) सही है।

[Question ID = 4412][Question Description = 139\_81\_GP6\_SEP22\_S2\_Q39]

1. 1 [Option ID = 17645]
2. 2 [Option ID = 17646]
3. 3 [Option ID = 17647]
4. 4 [Option ID = 17648]

35)

What is the correct chronological order of sequence from older to newer of the following agreement, summit and protocols?

- A. Paris Agreement
- B. Montreal Protocol
- C. Kyoto Protocol
- D. Rio Summit

Choose the **correct** answer from the options given below

1. A, B, C, D
2. B, D, C, A
3. A, C, D, B
4. B, C, D, A

निम्नलिखित समझौता, शिखर सम्मलेन एवं प्रोटोकॉलों का पुराने से नए कालानुक्रम में सही क्रम क्या है ?

- A. पेरिस समझौता
- B. मॉन्ट्रियल प्रोटोकॉल
- C. क्योटो प्रोटोकॉल
- D. रियो शिखर सम्मेलन

नीचे दिए गए विकल्पों में से सही उत्तर चुनें :

1. A, B, C, D
2. B, D, C, A
3. A, C, D, B
4. B, C, D, A

[Question ID = 4413][Question Description = 140\_81\_GP6\_SEP22\_S2\_Q40]

1. 1 [Option ID = 17649]



2. 2 [Option ID = 17650]
3. 3 [Option ID = 17651]
4. 4 [Option ID = 17652]

36)

Which of the following universities is an Institute of Eminence?

1. Central University of Gujrat, Gandhinagar
2. University of Hyderabad
3. Tezpur University
4. Jamia Millia Islamia

निम्नलिखित विश्वविद्यालयों में से कौन सा लब्धप्रतिष्ठ संस्थान है ?

1. गुजरात केन्द्रीय विश्वविद्यालय, गांधीनगर
2. हैदराबाद विश्वविद्यालय
3. तेजपुर विश्वविद्यालय
4. जामिया मिलिया इस्लामिया

[Question ID = 4414][Question Description = 141\_81\_GP6\_SEP22\_S2\_Q41]

1. 1 [Option ID = 17653]
2. 2 [Option ID = 17654]
3. 3 [Option ID = 17655]
4. 4 [Option ID = 17656]

37)

Given below are two statements

**Statement I:** With Academic Bank of Credit facility in place, a student will be able to customize and design own degree, provided 50% of credit are from the higher education institutions awarding the degree.

**Statement II:** Credits once used or redeemed by a student cannot be used for any other formal purpose or course waivers.

In light of the above statements, choose the **most appropriate** answer from the options given below

1. Both Statement I and Statement II are correct
2. Both Statement I and Statement II are incorrect
3. Statement I is correct but Statement II is incorrect
4. Statement I is incorrect but Statement II is correct

नीचे दो कथन दिए गए हैं :

कथन - I : अकेडमिक बैंक ऑफ क्रेडिट सुविधा लागू होने के साथ, छात्र अपनी डिग्री को ग्राहकोनुकूल बनाने तथा डिजायन करने में सक्षम होंगे बशर्ते 50% क्रेडिट, डिग्री देने वाले उच्चतर शिक्षण संस्था से हो।

कथन - II : छात्र द्वारा क्रेडिट का उपयोग कर लेने अथवा उसे निस्तार कर लेने के बाद उसका उपयोग किसी अन्य औपचारिक उद्देश्य अथवा कोर्स से छूट के लिए नहीं किया जा सकता है।

उपर्युक्त कथनों के आलोक में निम्नलिखित विकल्पों में से सबसे उपयुक्त उत्तर चुनें :

1. कथन I और II दोनों सही हैं।
2. कथन I और II दोनों गलत हैं।
3. कथन I सही है, किन्तु कथन II गलत है।
4. कथन I गलत है, किन्तु कथन II सही है।

[Question ID = 4415][Question Description = 142\_81\_GP6\_SEP22\_S2\_Q42]

1. 1 [Option ID = 17657]
2. 2 [Option ID = 17658]
3. 3 [Option ID = 17659]
4. 4 [Option ID = 17660]

38)

In a State government university or Central University, recommendation of the Selection Committee for the recruitment of the faculty is approved by the

1. Academic Council
2. Executive Council
3. Finance Committee
4. Chancellor of University

राज्य सरकार के विश्वविद्यालय या केन्द्रीय विश्वविद्यालय में, संकाय की भर्ती के लिए चयन समिति की सिफारिश को स्वीकृत निम्नलिखित द्वारा किया जाता है :

1. शैक्षिक परिषद
2. कार्यकारी परिषद
3. वित्त समिति
4. विश्वविद्यालय के कुलाधिपति

[Question ID = 4416][Question Description = 143\_81\_GP6\_SEP22\_S2\_Q43]

1. 1 [Option ID = 17661]
2. 2 [Option ID = 17662]
3. 3 [Option ID = 17663]
4. 4 [Option ID = 17664]

39)

Environmental education encompasses the issues of

- A. Resource Consumption
- B. Environmental degradation
- C. Biodiversity loss
- D. Economic empowerment
- E. Climate change and its impact

Choose the **correct** answer from the options given below:

- 1. A, B, C and D only
- 2. A, B, C and E only
- 3. B, C, D and E only
- 4. B and E only

पर्यावरणीय शिक्षा में निम्नलिखित मुद्दे शामिल हैं :

- A. संसाधन उपभोग
- B. पर्यावरणीय अवनति
- C. जैव विविधता की हानि
- D. आर्थिक सशक्तिकरण
- E. जलवायु परिवर्तन एवं इसका प्रभाव

नीचे दिए गए विकल्पों में से सही उत्तर चुनें :

- 1. केवल A, B, C और D
- 2. केवल A, B, C और E
- 3. केवल B, C, D और E
- 4. केवल B और E



[Question ID = 4417][Question Description = 144\_81\_GP6\_SEP22\_S2\_Q44]

- 1. 1 [Option ID = 17665]
- 2. 2 [Option ID = 17666]
- 3. 3 [Option ID = 17667]
- 4. 4 [Option ID = 17668]

40)

Given below are two statements

**Statement I:** The recommendations of the Radhakrishnan Commission in 1949 resemble those of Calcutta University Commission in 1917.

**Statement II:** The recommendations of the Mudaliar Commission in 1953 resemble those of John Sergent's post-war Educational Development Plan in 1944.

In light of the above statements, choose the **most appropriate** answer from the options given below

1. Both Statement I and Statement II are correct
2. Both Statement I and Statement II are incorrect
3. Statement I is correct but Statement II is incorrect
4. Statement I is incorrect but Statement II is correct

नीचे दो कथन दिए गए हैं :

कथन - I : 1949 में राधाकृष्णन आयोग की सिफारिशों 1917 में कलकत्ता विश्वविद्यालय आयोग की सिफारिशों के सदृश हैं।

कथन - II : 1953 में मुदलियर आयोग की सिफारिशों 1944 में जॉन सर्जेण्ट के युद्ध पश्चात शैक्षिक विकास योजना की सिफारिशों के सदृश है।

उपर्युक्त कथनों के आलोक में निम्नलिखित विकल्पों में से सही उत्तर चुनें :

1. कथन I और II दोनों सही हैं।
2. कथन I और II दोनों गलत हैं।
3. कथन I सही है, किन्तु कथन II गलत है।
4. कथन I गलत है, किन्तु कथन II सही है।

[Question ID = 4418][Question Description = 145\_81\_GP6\_SEP22\_S2\_Q45]

1. 1 [Option ID = 17669]
2. 2 [Option ID = 17670]
3. 3 [Option ID = 17671]
4. 4 [Option ID = 17672]

Topic: - 22 GP\_29SEPT22\_SH1\_S2\_C

1) **Read the given passage and answer the questions that follow**

Human beings are not completely free to socially construct their own behaviour. They have a shared biological nature. The nature is remarkably uniform throughout the world, given the fact that most contemporary humans outside of Africa descended from a single relatively small group of individuals some fifty thousand years ago. This shared nature does not determine political behaviour, but it frames and limits the nature of institutions that are possible. It also means that human politics is subject to certain recurring patterns of behaviour across time and across cultures. This shared nature can be described in certain propositions like that the human beings never existed in a pre-social state.

The idea that human beings at one time existed as isolated individuals, who interacted either through anarchic violence (Hobbes) or in pacific ignorance of one another (Rousseau), is not correct. Human beings as well as their primate ancestors always lived in kin-based social groups of varying sizes. Indeed, they lived in these social units for a sufficiently long period of time that the cognitive and emotional faculties needed to promote social cooperation evolved and became hardwired in their genetic endowments. This means that a rational-choice model of collective action, in which individuals calculate that they will be better off by cooperating with one another, vastly understates the degree of social cooperation that exists in human societies and misunderstands the motives that underlie it.

The next one is the idea of natural human sociability. This is built around two principles, kin selection and reciprocal altruism. The principle of kin selection or inclusive fitness states that human beings will act altruistically toward genetic relatives (or individuals believed to be genetic relatives) in rough proportion to their shared genes. The principle of reciprocal altruism says that human beings tend to develop relationships of mutual benefit or mutual harm as they interact with other individuals over time. Reciprocal altruism, unlike kin selection, does not depend on genetic relatedness: it does, however, depend upon repeated, direct personal interaction.

The shared biological nature of humans influences

1. The division of social constructs
2. The nature of institutions in society
3. The political behaviour of people
4. The formation of social groups

## निम्नलिखित उद्धरण को पढ़ें और सम्बंधित पाँच प्रश्नों के उत्तर दें।

मानवजाति अपने व्यवहार को सामाजिक तौर पर निर्माण करने के लिए पूर्ण रूप से स्वतंत्र नहीं है उनकी जैविकीय प्रकृति समान होती है, पूरे विश्व में प्रकृति एक सामान होती है इस तथ्य को देखते हुए कि अधिकांश समकालिक मानवों की उत्पत्ति अफ्रीका के बाहर एक अपेक्षाकृत छोटे समूह के द्वारा लगभग 50 हजार वर्ष पहले हुई थी। यह परस्पर प्रकृति राजनीतिक व्यवहार को निर्धारित नहीं करती है लेकिन यह संभावित संस्थाओं की प्रकृति निर्मित और सीमित करती है। इसका तात्पर्य यह है कि समय और संस्कृतियों के क्रम में मानव राजनीति व्यवहार के कुछ विशिष्ट तरीकों से विनिर्दिष्ट होती है, इस परस्पर प्रकृति को कुछ हद तक इस तरह वर्णित किया जा सकता है कि मानवजाति समाज पूर्व स्थिति से पहले अस्तित्व में नहीं था यह विचार कि मानव जाति एक समय में पृथक व्यक्ति के तौर पर अस्तित्व में थी जो आपस में अराजकतापूर्ण हिंसा (हॉब्स) द्वारा या एक दूसरे से प्रशांत अज्ञानतावश मिलते थे (रूसो) ऐसा कहना सही नहीं है। मानवजाति और उनके पुराप्राचीन पूर्वज हमेशा आपसी संबंधों के आधार पर विभिन्न आकार के सामाजिक समूहों में रहते थे। वास्तव में वे इन सामाजिक एककों में लम्बे समय तक रहे जिससे सामाजिक सहयोग के लिए आवश्यक प्रज्ञामूलक और भावनात्मक क्षमतायें विकसित हुयीं और वे अपने जीन अक्षयनिधि से दृढ़तापूर्वक जुड़ गयीं। इसका अर्थ यह हुआ कि सामूहिक कार्य का विवेकपूर्ण-विकल्प प्रतिदर्श, जिसमें एक व्यक्ति यह समझता है कि वह आपस में सहयोग करके ही बेहतर ढंग से रह सकते हैं, बहुत हद तक सामाजिक सहयोग के महत्त्व को कमतर दिखाता है, जो मानव समाज में विद्यमान होता है और जो इसके अंतर्गत निहित इरादों को ठीक से नहीं समझता है। अगला विचार प्राकृतिक मानवीय सामाजिकता का है। यह दो सिद्धांतों पर आधारित है जो रिश्तेदारों का चयन और परस्पर परोपकारिता पर निर्भर है। यह रिश्तेदार चयन या समावेशी अनुकूलता का सिद्धांत दर्शाता है कि मानवीय क्रिया की परोपकारिता जैनेटिक संबंधों की ओर (या ऐसे व्यक्ति जो जैनेटिक रूप से एक दूसरे से जुड़े हों) साधारण तौर पर उनके साझा जीन्स के समानुपाती होती है। परस्पर परोपकारिता का सिद्धांत यह कहता है कि मानव का स्वभाव आपसी सम्बंध स्थापित करने का है जो परस्पर लाभ या परस्पर हानि पर आधारित होता है जब वह समय के दौरान एक दूसरे से मिलते जुलते हैं। परस्पर परोपकारिता रिश्तेदार चयन के विपरीत जैनेटिक सम्बद्धता पर आधारित नहीं होता है हालांकि यह बार-बार प्रत्यक्ष व्यक्तिगत मेलजोल पर निर्भर है।

मानव की साझा जैविक प्रकृति किसे प्रभावित करती है ?

1. सामाजिक ताने-बाने का विभाजन
2. समाज में संस्थाओं की प्रकृति
3. लोगों का राजनितिक व्यवहार
4. सामाजिक समूहों की रचना

[Question ID = 4419][Question Description = 146\_81\_GP6\_SEP22\_S2\_Q46]

1. 1 [Option ID = 17673]
2. 2 [Option ID = 17674]
3. 3 [Option ID = 17675]
4. 4 [Option ID = 17676]

2) **Read the given passage and answer the questions that follow**

Human beings are not completely free to socially construct their own behaviour. They have a shared biological nature. The nature is remarkably uniform throughout the world, given the fact that most contemporary humans outside of Africa descended from a single relatively small group of individuals some fifty thousand years ago. This shared nature does not determine political behaviour, but it frames and limits the nature of institutions that are possible. It also means that human politics is subject to certain recurring patterns of behaviour across time and across cultures. This shared nature can be described in certain propositions like that the human beings never existed in a pre-social state.

The idea that human beings at one time existed as isolated individuals, who interacted either through anarchic violence (Hobbes) or in pacific ignorance of one another (Rousseau), is not correct. Human beings as well as their primate ancestors always lived in kin-based social groups of varying sizes. Indeed, they lived in these social units for a sufficiently long period of time that the cognitive and emotional faculties needed to promote social cooperation evolved and became hardwired in their genetic endowments. This means that a rational-choice model of collective action, in which individuals calculate that they will be better off by cooperating with one another, vastly understates the degree of social cooperation that exists in human societies and misunderstands the motives that underlie it.

The next one is the idea of natural human sociability. This is built around two principles, kin selection and reciprocal altruism. The principle of kin selection or inclusive fitness states that human beings will act altruistically toward genetic relatives (or individuals believed to be genetic relatives) in rough proportion to their shared genes. The principle of reciprocal altruism says that human beings tend to develop relationships of mutual benefit or mutual harm as they interact with other individuals over time. Reciprocal altruism, unlike kin selection, does not depend on genetic relatedness: it does, however, depend upon repeated, direct personal interaction.

Human beings did not exist in a pre-social state due to

1. Social kinsfolk
2. Human politics across cultures
3. Institutional limitations
4. Absence of individual independence

## निम्नलिखित उद्धरण को पढ़ें और सम्बंधित पाँच प्रश्नों के उत्तर दें।

मानवजाति अपने व्यवहार को सामाजिक तौर पर निर्माण करने के लिए पूर्ण रूप से स्वतंत्र नहीं है उनकी जैविकीय प्रकृति समान होती है, पूरे विश्व में प्रकृति एक सामान होती है इस तथ्य को देखते हुए कि अधिकांश समकालिक मानवों की उत्पत्ति अफ्रीका के बाहर एक अपेक्षाकृत छोटे समूह के द्वारा लगभग 50 हजार वर्ष पहले हुई थी। यह परस्पर प्रकृति राजनीतिक व्यवहार को निर्धारित नहीं करती है लेकिन यह संभावित संस्थाओं की प्रकृति निर्मित और सीमित करती है। इसका तात्पर्य यह है कि समय और संस्कृतियों के क्रम में मानव राजनीति व्यवहार के कुछ विशिष्ट तरीकों से विनिर्दिष्ट होती है, इस परस्पर प्रकृति को कुछ हद तक इस तरह वर्णित किया जा सकता है कि मानवजाति समाज पूर्व स्थिति से पहले अस्तित्व में नहीं था यह विचार कि मानव जाति एक समय में पृथक व्यक्ति के तौर पर अस्तित्व में थी जो आपस में अराजकतापूर्ण हिंसा (हॉब्स) द्वारा या एक दूसरे से प्रशांत अज्ञानतावश मिलते थे (रूसो) ऐसा कहना सही नहीं है। मानवजाति और उनके पुराप्राचीन पूर्वज हमेशा आपसी संबंधों के आधार पर विभिन्न आकार के सामाजिक समूहों में रहते थे। वास्तव में वे इन सामाजिक एककों में लम्बे समय तक रहे जिससे सामाजिक सहयोग के लिए आवश्यक प्रज्ञामूलक और भावनात्मक क्षमतायें विकसित हुयीं और वे अपने जीन अक्षयनिधि से दृढ़तापूर्वक जुड़ गयीं। इसका अर्थ यह हुआ कि सामूहिक कार्य का विवेकपूर्ण-विकल्प प्रतिदर्श, जिसमें एक व्यक्ति यह समझता है कि वह आपस में सहयोग करके ही बेहतर ढंग से रह सकते हैं, बहुत हद तक सामाजिक सहयोग के महत्त्व को कमतर दिखाता है, जो मानव समाज में विद्यमान होता है और जो इसके अंतर्गत निहित इरादों को ठीक से नहीं समझता है। अगला विचार प्राकृतिक मानवीय सामाजिकता का है। यह दो सिद्धांतों पर आधारित है जो रिश्तेदारों का चयन और परस्पर परोपकारिता पर निर्भर है। यह रिश्तेदार चयन या समावेशी अनुकूलता का सिद्धांत दर्शाता है कि मानवीय क्रिया की परोपकारिता जैनेटिक संबंधों की ओर (या ऐसे व्यक्ति जो जैनेटिक रूप से एक दूसरे से जुड़े हों) साधारण तौर पर उनके साझा जीन्स के समानुपाती होती है। परस्पर परोपकारिता का सिद्धांत यह कहता है कि मानव का स्वभाव आपसी सम्बंध स्थापित करने का है जो परस्पर लाभ या परस्पर हानि पर आधारित होता है जब वह समय के दौरान एक दूसरे से मिलते जुलते हैं। परस्पर परोपकारिता रिश्तेदार चयन के विपरीत जैनेटिक सम्बद्धता पर आधारित नहीं होता है हालांकि यह बार-बार प्रत्यक्ष व्यक्तिगत मेलजोल पर निर्भर है।

किस कारण मानव पूर्व-सामाजिक स्थिति में नहीं रहा ?

1. सामाजिक जातिवर्ग
2. समग्र संस्कृतियों में मानव राजनीति
3. संस्थागत सीमाएँ
4. व्यक्तिगत स्वतंत्रता का आभाव

[Question ID = 4420][Question Description = 147\_81\_GP6\_SEP22\_S2\_Q47]

1. 1 [Option ID = 17677]
2. 2 [Option ID = 17678]
3. 3 [Option ID = 17679]
4. 4 [Option ID = 17680]



3) **Read the given passage and answer the questions that follow**

Human beings are not completely free to socially construct their own behaviour. They have a shared biological nature. The nature is remarkably uniform throughout the world, given the fact that most contemporary humans outside of Africa descended from a single relatively small group of individuals some fifty thousand years ago. This shared nature does not determine political behaviour, but it frames and limits the nature of institutions that are possible. It also means that human politics is subject to certain recurring patterns of behaviour across time and across cultures. This shared nature can be described in certain propositions like that the human beings never existed in a pre-social state.

The idea that human beings at one time existed as isolated individuals, who interacted either through anarchic violence (Hobbes) or in pacific ignorance of one another (Rousseau), is not correct. Human beings as well as their primate ancestors always lived in kin-based social groups of varying sizes. Indeed, they lived in these social units for a sufficiently long period of time that the cognitive and emotional faculties needed to promote social cooperation evolved and became hardwired in their genetic endowments. This means that a rational-choice model of collective action, in which individuals calculate that they will be better off by cooperating with one another, vastly understates the degree of social cooperation that exists in human societies and misunderstands the motives that underlie it.

The next one is the idea of natural human sociability. This is built around two principles, kin selection and reciprocal altruism. The principle of kin selection or inclusive fitness states that human beings will act altruistically toward genetic relatives (or individuals believed to be genetic relatives) in rough proportion to their shared genes. The principle of reciprocal altruism says that human beings tend to develop relationships of mutual benefit or mutual harm as they interact with other individuals over time. Reciprocal altruism, unlike kin selection, does not depend on genetic relatedness: it does, however, depend upon repeated, direct personal interaction.

From the author's point of view, the main characteristic of human society has been

1. Anarchic violence
2. Pacific ignorance of one another
3. Kinship based social groups
4. Calculated individual relations

## निम्नलिखित उद्धरण को पढ़ें और सम्बंधित पाँच प्रश्नों के उत्तर दें।

मानवजाति अपने व्यवहार को सामाजिक तौर पर निर्माण करने के लिए पूर्ण रूप से स्वतंत्र नहीं है उनकी जैविकीय प्रकृति समान होती है, पूरे विश्व में प्रकृति एक सामान होती है इस तथ्य को देखते हुए कि अधिकांश समकालिक मानवों की उत्पत्ति अफ्रीका के बाहर एक अपेक्षाकृत छोटे समूह के द्वारा लगभग 50 हजार वर्ष पहले हुई थी। यह परस्पर प्रकृति राजनीतिक व्यवहार को निर्धारित नहीं करती है लेकिन यह संभावित संस्थाओं की प्रकृति निर्मित और सीमित करती है। इसका तात्पर्य यह है कि समय और संस्कृतियों के क्रम में मानव राजनीति व्यवहार के कुछ विशिष्ट तरीकों से विनिर्दिष्ट होती है, इस परस्पर प्रकृति को कुछ हद तक इस तरह वर्णित किया जा सकता है कि मानवजाति समाज पूर्व स्थिति से पहले अस्तित्व में नहीं था यह विचार कि मानव जाति एक समय में पृथक व्यक्ति के तौर पर अस्तित्व में थी जो आपस में अराजकतापूर्ण हिंसा (हॉब्स) द्वारा या एक दूसरे से प्रशांत अज्ञानतावश मिलते थे (रूसो) ऐसा कहना सही नहीं है। मानवजाति और उनके पुराप्राचीन पूर्वज हमेशा आपसी संबंधों के आधार पर विभिन्न आकार के सामाजिक समूहों में रहते थे। वास्तव में वे इन सामाजिक एककों में लम्बे समय तक रहे जिससे सामाजिक सहयोग के लिए आवश्यक प्रज्ञामूलक और भावनात्मक क्षमतायें विकसित हुयीं और वे अपने जीन अक्षयनिधि से दृढ़तापूर्वक जुड़ गयीं। इसका अर्थ यह हुआ कि सामूहिक कार्य का विवेकपूर्ण-विकल्प प्रतिदर्श, जिसमें एक व्यक्ति यह समझता है कि वह आपस में सहयोग करके ही बेहतर ढंग से रह सकते हैं, बहुत हद तक सामाजिक सहयोग के महत्त्व को कमतर दिखाता है, जो मानव समाज में विद्यमान होता है और जो इसके अंतर्गत निहित इरादों को ठीक से नहीं समझता है। अगला विचार प्राकृतिक मानवीय सामाजिकता का है। यह दो सिद्धांतों पर आधारित है जो रिश्तेदारों का चयन और परस्पर परोपकारिता पर निर्भर है। यह रिश्तेदार चयन या समावेशी अनुकूलता का सिद्धांत दर्शाता है कि मानवीय क्रिया की परोपकारिता जैनेटिक संबंधों की ओर (या ऐसे व्यक्ति जो जैनेटिक रूप से एक दूसरे से जुड़े हों) साधारण तौर पर उनके साझा जीन्स के समानुपाती होती है। परस्पर परोपकारिता का सिद्धांत यह कहता है कि मानव का स्वभाव आपसी सम्बंध स्थापित करने का है जो परस्पर लाभ या परस्पर हानि पर आधारित होता है जब वह समय के दौरान एक दूसरे से मिलते जुलते हैं। परस्पर परोपकारिता रिश्तेदार चयन के विपरीत जैनेटिक सम्बद्धता पर आधारित नहीं होता है हालांकि यह बार-बार प्रत्यक्ष व्यक्तिगत मेलजोल पर निर्भर है।

लेखक के दृष्टिकोण से मानवीय समाज की मुख्य विशेषता निम्नलिखित है :

1. अराजकतापूर्ण हिंसा
2. एक दूसरे के प्रति शांतिप्रिय अनभिज्ञता
3. रिश्तेदार आधारित सामाजिक समूह
4. निर्धारित व्यक्तिगत सम्बंध

[Question ID = 4421][Question Description = 148\_81\_GP6\_SEP22\_S2\_Q48]

1. 1 [Option ID = 17681]
2. 2 [Option ID = 17682]
3. 3 [Option ID = 17683]
4. 4 [Option ID = 17684]

4) **Read the given passage and answer the questions that follow**

Human beings are not completely free to socially construct their own behaviour. They have a shared biological nature. The nature is remarkably uniform throughout the world, given the fact that most contemporary humans outside of Africa descended from a single relatively small group of individuals some fifty thousand years ago. This shared nature does not determine political behaviour, but it frames and limits the nature of institutions that are possible. It also means that human politics is subject to certain recurring patterns of behaviour across time and across cultures. This shared nature can be described in certain propositions like that the human beings never existed in a pre-social state.

The idea that human beings at one time existed as isolated individuals, who interacted either through anarchic violence (Hobbes) or in pacific ignorance of one another (Rousseau), is not correct. Human beings as well as their primate ancestors always lived in kin-based social groups of varying sizes. Indeed, they lived in these social units for a sufficiently long period of time that the cognitive and emotional faculties needed to promote social cooperation evolved and became hardwired in their genetic endowments. This means that a rational-choice model of collective action, in which individuals calculate that they will be better off by cooperating with one another, vastly understates the degree of social cooperation that exists in human societies and misunderstands the motives that underlie it.

The next one is the idea of natural human sociability. This is built around two principles, kin selection and reciprocal altruism. The principle of kin selection or inclusive fitness states that human beings will act altruistically toward genetic relatives (or individuals believed to be genetic relatives) in rough proportion to their shared genes. The principle of reciprocal altruism says that human beings tend to develop relationships of mutual benefit or mutual harm as they interact with other individuals over time. Reciprocal altruism, unlike kin selection, does not depend on genetic relatedness: it does, however, depend upon repeated, direct personal interaction.

The concept of social cooperation involves

- A. Kin selection
- B. Cognitive faculty
- C. Emotional detachment
- D. Reciprocal altruism

Choose the correct option:

- 1. A and B only
- 2. B and C only
- 3. C and D only
- 4. A and D only

## निम्नलिखित उद्धरण को पढ़ें और सम्बंधित पाँच प्रश्नों के उत्तर दें।

मानवजाति अपने व्यवहार को सामाजिक तौर पर निर्माण करने के लिए पूर्ण रूप से स्वतंत्र नहीं है उनकी जैविकीय प्रकृति समान होती है, पूरे विश्व में प्रकृति एक सामान होती है इस तथ्य को देखते हुए कि अधिकांश समकालिक मानवों की उत्पत्ति अफ्रीका के बाहर एक अपेक्षाकृत छोटे समूह के द्वारा लगभग 50 हजार वर्ष पहले हुई थी। यह परस्पर प्रकृति राजनीतिक व्यवहार को निर्धारित नहीं करती है लेकिन यह संभावित संस्थाओं की प्रकृति निर्मित और सीमित करती है। इसका तात्पर्य यह है कि समय और संस्कृतियों के क्रम में मानव राजनीति व्यवहार के कुछ विशिष्ट तरीकों से विनिर्दिष्ट होती है, इस परस्पर प्रकृति को कुछ हद तक इस तरह वर्णित किया जा सकता है कि मानवजाति समाज पूर्व स्थिति से पहले अस्तित्व में नहीं था यह विचार कि मानव जाति एक समय में पृथक व्यक्ति के तौर पर अस्तित्व में थी जो आपस में अराजकतापूर्ण हिंसा (हॉब्स) द्वारा या एक दूसरे से प्रशांत अज्ञानतावश मिलते थे (रूसो) ऐसा कहना सही नहीं है। मानवजाति और उनके पुराप्राचीन पूर्वज हमेशा आपसी संबंधों के आधार पर विभिन्न आकार के सामाजिक समूहों में रहते थे। वास्तव में वे इन सामाजिक एककों में लम्बे समय तक रहे जिससे सामाजिक सहयोग के लिए आवश्यक प्रज्ञामूलक और भावनात्मक क्षमतायें विकसित हुयीं और वे अपने जीन अक्षयनिधि से दृढ़तापूर्वक जुड़ गयीं। इसका अर्थ यह हुआ कि सामूहिक कार्य का विवेकपूर्ण-विकल्प प्रतिदर्श, जिसमें एक व्यक्ति यह समझता है कि वह आपस में सहयोग करके ही बेहतर ढंग से रह सकते हैं, बहुत हद तक सामाजिक सहयोग के महत्त्व को कमतर दिखाता है, जो मानव समाज में विद्यमान होता है और जो इसके अंतर्गत निहित इरादों को ठीक से नहीं समझता है। अगला विचार प्राकृतिक मानवीय सामाजिकता का है। यह दो सिद्धांतों पर आधारित है जो रिश्तेदारों का चयन और परस्पर परोपकारिता पर निर्भर है। यह रिश्तेदार चयन या समावेशी अनुकूलता का सिद्धांत दर्शाता है कि मानवीय क्रिया की परोपकारिता जैनेटिक संबंधों की ओर (या ऐसे व्यक्ति जो जैनेटिक रूप से एक दूसरे से जुड़े हों) साधारण तौर पर उनके साझा जीन्स के समानुपाती होती है। परस्पर परोपकारिता का सिद्धांत यह कहता है कि मानव का स्वभाव आपसी सम्बंध स्थापित करने का है जो परस्पर लाभ या परस्पर हानि पर आधारित होता है जब वह समय के दौरान एक दूसरे से मिलते जुलते हैं। परस्पर परोपकारिता रिश्तेदार चयन के विपरीत जैनेटिक सम्बद्धता पर आधारित नहीं होता है हालांकि यह बार-बार प्रत्यक्ष व्यक्तिगत मेलजोल पर निर्भर है।

सामाजिक सहयोग की अवधारणा में निम्नलिखित शामिल हैं

- A. रिश्तेदार चयन
  - B. प्रज्ञानात्मक तंत्र
  - C. भावनात्मक विलगाव
  - D. पारस्परिक परोपकार
1. केवल A और B
  2. केवल B और C
  3. केवल C और D
  4. केवल A और D

[Question ID = 4422][Question Description = 149\_81\_GP6\_SEP22\_S2\_Q49]

1. 1 [Option ID = 17685]
2. 2 [Option ID = 17686]
3. 3 [Option ID = 17687]
4. 4 [Option ID = 17688]

5) **Read the given passage and answer the questions that follow**

Human beings are not completely free to socially construct their own behaviour. They have a shared biological nature. The nature is remarkably uniform throughout the world, given the fact that most contemporary humans outside of Africa descended from a single relatively small group of individuals some fifty thousand years ago. This shared nature does not determine political behaviour, but it frames and limits the nature of institutions that are possible. It also means that human politics is subject to certain recurring patterns of behaviour across time and across cultures. This shared nature can be described in certain propositions like that the human beings never existed in a pre-social state.

The idea that human beings at one time existed as isolated individuals, who interacted either through anarchic violence (Hobbes) or in pacific ignorance of one another (Rousseau), is not correct. Human beings as well as their primate ancestors always lived in kin-based social groups of varying sizes. Indeed, they lived in these social units for a sufficiently long period of time that the cognitive and emotional faculties needed to promote social cooperation evolved and became hardwired in their genetic endowments. This means that a rational-choice model of collective action, in which individuals calculate that they will be better off by cooperating with one another, vastly understates the degree of social cooperation that exists in human societies and misunderstands the motives that underlie it.

The next one is the idea of natural human sociability. This is built around two principles, kin selection and reciprocal altruism. The principle of kin selection or inclusive fitness states that human beings will act altruistically toward genetic relatives (or individuals believed to be genetic relatives) in rough proportion to their shared genes. The principle of reciprocal altruism says that human beings tend to develop relationships of mutual benefit or mutual harm as they interact with other individuals over time. Reciprocal altruism, unlike kin selection, does not depend on genetic relatedness: it does, however, depend upon repeated, direct personal interaction.

The passage recognises the fact that human sociability has

1. Political determinants
2. Rational choice model
3. Integrated collective action
4. Genetic linkage

## निम्नलिखित उद्धरण को पढ़ें और सम्बंधित पाँच प्रश्नों के उत्तर दें।

मानवजाति अपने व्यवहार को सामाजिक तौर पर निर्माण करने के लिए पूर्ण रूप से स्वतंत्र नहीं है उनकी जैविकीय प्रकृति समान होती है, पूरे विश्व में प्रकृति एक सामान होती है इस तथ्य को देखते हुए कि अधिकांश समकालिक मानवों की उत्पत्ति अफ्रीका के बाहर एक अपेक्षाकृत छोटे समूह के द्वारा लगभग 50 हजार वर्ष पहले हुई थी। यह परस्पर प्रकृति राजनीतिक व्यवहार को निर्धारित नहीं करती है लेकिन यह संभावित संस्थाओं की प्रकृति निर्मित और सीमित करती है। इसका तात्पर्य यह है कि समय और संस्कृतियों के क्रम में मानव राजनीति व्यवहार के कुछ विशिष्ट तरीकों से विनिर्दिष्ट होती है, इस परस्पर प्रकृति को कुछ हद तक इस तरह वर्णित किया जा सकता है कि मानवजाति समाज पूर्व स्थिति से पहले अस्तित्व में नहीं था यह विचार कि मानव जाति एक समय में पृथक व्यक्ति के तौर पर अस्तित्व में थी जो आपस में अराजकतापूर्ण हिंसा (हॉब्स) द्वारा या एक दूसरे से प्रशांत अज्ञानतावश मिलते थे (रूसो) ऐसा कहना सही नहीं है। मानवजाति और उनके पुराप्राचीन पूर्वज हमेशा आपसी संबंधों के आधार पर विभिन्न आकार के सामाजिक समूहों में रहते थे। वास्तव में वे इन सामाजिक एककों में लम्बे समय तक रहे जिससे सामाजिक सहयोग के लिए आवश्यक प्रज्ञामूलक और भावनात्मक क्षमतायें विकसित हुयीं और वे अपने जीन अक्षयनिधि से दृढ़तापूर्वक जुड़ गयीं। इसका अर्थ यह हुआ कि सामूहिक कार्य का विवेकपूर्ण-विकल्प प्रतिदर्श, जिसमें एक व्यक्ति यह समझता है कि वह आपस में सहयोग करके ही बेहतर ढंग से रह सकते हैं, बहुत हद तक सामाजिक सहयोग के महत्त्व को कमतर दिखाता है, जो मानव समाज में विद्यमान होता है और जो इसके अंतर्गत निहित इरादों को ठीक से नहीं समझता है। अगला विचार प्राकृतिक मानवीय सामाजिकता का है। यह दो सिद्धांतों पर आधारित है जो रिश्तेदारों का चयन और परस्पर परोपकारिता पर निर्भर है। यह रिश्तेदार चयन या समावेशी अनुकूलता का सिद्धांत दर्शाता है कि मानवीय क्रिया की परोपकारिता जैनेटिक संबंधों की ओर (या ऐसे व्यक्ति जो जैनेटिक रूप से एक दूसरे से जुड़े हों) साधारण तौर पर उनके साझा जीन्स के समानुपाती होती है। परस्पर परोपकारिता का सिद्धांत यह कहता है कि मानव का स्वभाव आपसी सम्बंध स्थापित करने का है जो परस्पर लाभ या परस्पर हानि पर आधारित होता है जब वह समय के दौरान एक दूसरे से मिलते जुलते हैं। परस्पर परोपकारिता रिश्तेदार चयन के विपरीत जैनेटिक सम्बद्धता पर आधारित नहीं होता है हालांकि यह बार-बार प्रत्यक्ष व्यक्तिगत मेलजोल पर निर्भर है।

उद्धरण यह मानता है कि मानवीय सामाजिकता में निहित है

1. राजनीतिक निर्धारक
2. विवेक आधारित चयन प्रतिदर्श
3. समेकित सामूहिक कार्य
4. जैनेटिक सम्बद्धता

[Question ID = 4423][Question Description = 150\_81\_GP6\_SEP22\_S2\_Q50]

1. 1 [Option ID = 17689]
2. 2 [Option ID = 17690]
3. 3 [Option ID = 17691]
4. 4 [Option ID = 17692]