

Test Date : 04 Mar 2023

Test Slot : Slot 2

Subject : 8-Commerce

**Paper I : 201-General Paper**

Sl. No.1  
QBID:8201001

The following table shows the percentage (%) distribution of six different types of items A-F produced by a company in the years 2020 and 2021. Total number of items produced by the company in the year 2020 and 2021 are 48600 and 62500, respectively. Based on the data in table, answer the questions that follow.

**Item-wise Distribution of Production**

Item Type	Distribution (%) of Items Produced	
	2020	2021
A	17%	18%
B	18%	15%
C	17%	8%
D	20%	17%
E	16%	18%
F	12%	24%

निम्नलिखित तालिका में वर्ष 2020 और 2021 में किसी कंपनी द्वारा उत्पादित छः भिन्न-भिन्न मदों A-F के प्रकार के प्रतिशत वितरण को दर्शाया गया है। वर्ष 2020 और 2021 में उस कंपनी द्वारा उत्पादित मदों की कुल संख्या 48600 और 62500 है। तालिका में दिए गए आंकड़ों के आधार पर सम्बंधित पाँच प्रश्नों के उत्तर दीजिए :

उत्पादन का मदवार वितरण

मद प्रकार	उत्पादित मदों का वितरण (%)	
	2020	2021
A	17%	18%
B	18%	15%
C	17%	8%
D	20%	17%
E	16%	18%
F	12%	24%

What is the total number of items of type C produced in the year 2020 and 2021 together?

1. 12482
2. 13262
3. 14786
4. 15200

- (1) 1
- (2) 2
- (3) 3
- (4) 4

वर्ष 2020 और 2021 में एक साथ मिलाकर उत्पादित प्रकार (टाइप) C के मदों की कुल संख्या कितनी है ?

1. 12482
2. 13262
3. 14786
4. 15200

- (1) 1  
(2) 2  
(3) 3  
(4) 4

1[Option ID=33701] Question Description : dwbv\_pg\_gp8\_eng\_2\_q1  
2[Option ID=33702]  
3[Option ID=33703]  
4[Option ID=33704]

SI. No.2  
QBID:8201002

The following table shows the percentage (%) distribution of six different types of items A-F produced by a company in the years 2020 and 2021. Total number of items produced by the company in the year 2020 and 2021 are 48600 and 62500, respectively. Based on the data in table, answer the questions that follow.

**Item-wise Distribution of Production**

Item Type	Distribution (%) of Items Produced	
	2020	2021
A	17%	18%
B	18%	15%
C	17%	8%
D	20%	17%
E	16%	18%
F	12%	24%

निम्नलिखित तालिका में वर्ष 2020 और 2021 में किसी कंपनी द्वारा उत्पादित छः भिन्न-भिन्न मदों A-F के प्रकार के प्रतिशत वितरण को दर्शाया गया है। वर्ष 2020 और 2021 में उस कंपनी द्वारा उत्पादित मदों की कुल संख्या 48600 और 62500 है। तालिका में दिए गए आंकड़ों के आधार पर सम्बंधित पाँच प्रश्नों के उत्तर दीजिए :

उत्पादन का मदवार वितरण

मद के प्रकार	उत्पादित मदों का वितरण (%)	
	2020	2021
A	17%	18%
B	18%	15%
C	17%	8%
D	20%	17%
E	16%	18%
F	12%	24%

The number of items of type B produced in 2020 is approximately \_\_\_ % of the number of items of type B produced in 2021.

- 1. 84
- 2. 87
- 3. 90
- 4. 93

- (1) 1
- (2) 2
- (3) 3
- (4) 4

वर्ष 2020 और 2021 में उत्पादित प्रकार B के मदों की संख्या वर्ष 2021 में उत्पादित प्रकार B के मदों की संख्या का लगभग \_\_\_\_\_ % है।

- 1. 84
- 2. 87
- 3. 90
- 4. 93

- (1) 1
- (2) 2
- (3) 3
- (4) 4

- 1[Option ID=33705]
- 2[Option ID=33706]
- 3[Option ID=33707]
- 4[Option ID=33708]

Question Description : dwbv\_pg\_gp8\_eng\_2\_q2

Sl. No.3  
QBID:8201003



The following table shows the percentage (%) distribution of six different types of items A-F produced by a company in the years 2020 and 2021. Total number of items produced by the company in the year 2020 and 2021 are 48600 and 62500, respectively. Based on the data in table, answer the questions that follow.

**Item-wise Distribution of Production**

Item Type	Distribution (%) of Items Produced	
	2020	2021
A	17%	18%
B	18%	15%
C	17%	8%
D	20%	17%
E	16%	18%
F	12%	24%

निम्नलिखित तालिका में वर्ष 2020 और 2021 में किसी कंपनी द्वारा उत्पादित छः भिन्न-भिन्न मदों A-F के प्रकार के प्रतिशत वितरण को दर्शाया गया है। वर्ष 2020 और 2021 में उस कंपनी द्वारा उत्पादित मदों की कुल संख्या 48600 और 62500 है। तालिका में दिए गए आंकड़ों के आधार पर सम्बंधित पाँच प्रश्नों के उत्तर दीजिए :

उत्पादन का मदवार वितरण

मद प्रकार	उत्पादित मदों का वितरण (%)	
	2020	2021
A	17%	18%
B	18%	15%
C	17%	8%
D	20%	17%
E	16%	18%
F	12%	24%

What is the ratio of the number of items of type D produced in 2020 to the number of items of type F produced in 2021?

1. 13 : 17
2. 83 : 116
3. 81 : 125
4. 103 : 147

- (1) 1
- (2) 2
- (3) 3
- (4) 4

वर्ष 2020 में उत्पादित प्रकार (टाइप) D के मदों की संख्या और वर्ष 2021 में (टाइप) F के मदों की संख्या का अनुपात क्या है ?

1. 13:17
2. 83:116
3. 81:125
4. 103:147

- (1) 1  
(2) 2  
(3) 3  
(4) 4

1[Option ID=33709] Question Description : dwbv\_pg\_gp8\_eng\_2\_q3  
2[Option ID=33710]  
3[Option ID=33711]  
4[Option ID=33712]

Sl. No.4  
QBID:8201004

The following table shows the percentage (%) distribution of six different types of items A-F produced by a company in the years 2020 and 2021. Total number of items produced by the company in the year 2020 and 2021 are 48600 and 62500, respectively. Based on the data in table, answer the questions that follow.

**Item-wise Distribution of Production**

Item Type	Distribution (%) of Items Produced	
	2020	2021
A	17%	18%
B	18%	15%
C	17%	8%
D	20%	17%
E	16%	18%
F	12%	24%

निम्नलिखित तालिका में वर्ष 2020 और 2021 में किसी कंपनी द्वारा उत्पादित छः भिन्न-भिन्न मदों A-F के प्रकार के प्रतिशत वितरण को दर्शाया गया है। वर्ष 2020 और 2021 में उस कंपनी द्वारा उत्पादित मदों की कुल संख्या 48600 और 62500 है। तालिका में दिए गए आंकड़ों के आधार पर सम्बंधित पाँच प्रश्नों के उत्तर दीजिए :

उत्पादन का मदवार वितरण

मद प्रकार	उत्पादित मदों का वितरण (%)	
	2020	2021
A	17%	18%
B	18%	15%
C	17%	8%
D	20%	17%
E	16%	18%
F	12%	24%

What is the total number of items of type A, B and C produced by the company in 2020 and 2021 together?

1. 50897
2. 51164
3. 52324
4. 48542

- (1) 1  
(2) 2  
(3) 3  
(4) 4

वर्ष 2020 और 2021 में एक साथ मिलाकर कंपनी द्वारा उत्पादित प्रकार A, B और C के मदों की कुल संख्या कितनी है?

1. 50897
2. 51164
3. 52324
4. 48542

- (1) 1  
(2) 2  
(3) 3  
(4) 4

- 1[Option ID=33713]  
2[Option ID=33714]  
3[Option ID=33715]  
4[Option ID=33716]

Question Description : dwbv\_pg\_gp8\_eng\_2\_q4

Sl. No.5  
QBID:8201005



The following table shows the percentage (%) distribution of six different types of items A-F produced by a company in the years 2020 and 2021. Total number of items produced by the company in the year 2020 and 2021 are 48600 and 62500, respectively. Based on the data in table, answer the questions that follow.

**Item-wise Distribution of Production**

Item Type	Distribution (%) of Items Produced	
	2020	2021
A	17%	18%
B	18%	15%
C	17%	8%
D	20%	17%
E	16%	18%
F	12%	24%

निम्नलिखित तालिका में वर्ष 2020 और 2021 में किसी कंपनी द्वारा उत्पादित छः भिन्न-भिन्न मदों A-F के प्रकार के प्रतिशत वितरण को दर्शाया गया है। वर्ष 2020 और 2021 में उस कंपनी द्वारा उत्पादित मदों की कुल संख्या 48600 और 62500 है। तालिका में दिए गए आंकड़ों के आधार पर सम्बंधित पाँच प्रश्नों के उत्तर दीजिए :

उत्पादन का मदवार वितरण

मद प्रकार	उत्पादित मदों का वितरण (%)	
	2020	2021
A	17%	18%
B	18%	15%
C	17%	8%
D	20%	17%
E	16%	18%
F	12%	24%

The number of items of type E produced in the year 2021 is \_\_\_ % more than the number of items of type C produced in 2021.

1. 105
2. 75
3. 60
4. 125

- (1) 1
- (2) 2
- (3) 3
- (4) 4

वर्ष 2021 में उत्पादित प्रकार E के मर्दों की संख्या वर्ष 2021 में उत्पादित प्रकार C के मर्दों की संख्या से \_\_\_\_\_ प्रतिशत अधिक है ?

1. 105
2. 75
3. 60
4. 125

- (1) 1  
(2) 2  
(3) 3  
(4) 4

1[Option ID=33717]      Question Description : dwbv\_pg\_gp8\_eng\_2\_q5  
2[Option ID=33718]  
3[Option ID=33719]  
4[Option ID=33720]

SI. No.6  
QBID:8201006

"Education is the most powerful weapon which you can use to change the world." This statement was given by

1. Nelson Mandela
2. Mahatma Gandhi
3. Martin Luther King (Jr)
4. Maulana Abdul Kalam Azad

- (1) 1  
(2) 2  
(3) 3  
(4) 4

"शिक्षा सर्वाधिक सशक्त शस्त्र है जिसके माध्यम से आप दुनिया बदल सकते हैं।" यह किसका कथन है?

1. नेल्सन मंडेला
2. महात्मा गांधी
3. मार्टिन लूथर किंग (जू.)
4. मौलाना अब्दुल कलाम

- (1) 1  
(2) 2  
(3) 3  
(4) 4

1[Option ID=33721]      Question Description : dwbv\_pg\_gp8\_eng\_2\_q6  
2[Option ID=33722]  
3[Option ID=33723]  
4[Option ID=33724]

SI. No.7  
QBID:8201007



Imagine that you have been asked to create a short animated video related to your subject-matter. Which of the following softwares would you choose?

- A. Plotagon
- B. Book-creator
- C. Animaker
- D. Kahoot
- E. Mindmeister

Choose the **correct** answer from the options given below:

- 1. A and C only
- 2. B and D only
- 3. C and E only
- 4. A and D only

(1) 1

(2) 2

(3) 3

(4) 4

कल्पना कीजिए कि आपको अपने विषय सामग्री पर एक लघु चलचित्रित वीडियो बनाने के लिए कहा गया है। इसके लिए आप किस सॉफ्टवेयर का चयन करेंगे?

- A. प्लोटेगॉन
- B. बुक क्रिएटर
- C. एनिमेकर
- D. कहूट
- E. माइंडमिस्टर

नीचे दिए गए विकल्पों में से सही उत्तर चुनें :

- 1. केवल A और C
- 2. केवल B और D
- 3. केवल C और E
- 4. केवल A और D

(1) 1

(2) 2

(3) 3

(4) 4

1[Option ID=33725]  
2[Option ID=33726]  
3[Option ID=33727]  
4[Option ID=33728]

Question Description : dwbv\_pg\_gp8\_eng\_2\_q7

Sl. No.8  
QBID:8201008



In 'PIC-RAT' Model of technology integration for teacher preparation for class teaching, 'PIC' stands for:

1. Pedagogical, Informational, Content
2. Passive, Informal, Content
3. Passive, Interactive, Creative
4. Practical, Informal, Collaboration

- (1) 1  
(2) 2  
(3) 3  
(4) 4

कक्षा शिक्षण के अध्यापक तैयारी हेतु प्रौद्योगिकी के एकीकरण के पी आई सी - आर ए टी मॉडल में पी आई सी का पूरा नाम है:

1. शिक्षणशास्त्रीय, सूचनात्मक, विषयवस्तु
2. निष्क्रिय, अनौपचारिक, विषयवस्तु
3. निष्क्रिय, अनुक्रियात्मक, सृजनात्मक
4. प्रायोगिक, अनौपचारिक, सहयोगिक

- (1) 1  
(2) 2  
(3) 3  
(4) 4

1[Option ID=33729] Question Description : dwbv\_pg\_gp8\_eng\_2\_q8  
2[Option ID=33730]  
3[Option ID=33731]  
4[Option ID=33732]

Sl. No.9  
QBID:8201009

\_\_\_\_\_ is the technique of changing the level of support over the course of a teaching session; more skilled person adjusts the amount of guidance to fit the students current performance.

1. Scaffolding
2. Cognitive apprenticeship
3. Tutoring
4. Concept formation

- (1) 1  
(2) 2  
(3) 3  
(4) 4

एक अधिक कुशल व्यक्ति द्वारा एक शिक्षण सत्र के दौरान पाठ्यक्रम अनुसमर्थन के स्तर में विद्यार्थी के वर्तमान कार्य निष्पादन के अनुकूल मार्गदर्शन का समायोजन करके परिवर्तन करने की तकनीक \_\_\_\_\_ है।

1. पाइ बांधना (स्कैफ़ोल्डिंग)
2. संज्ञानात्मक प्रशिक्षुता
3. ट्यूटरिंग (अनुशिक्षण)
4. संकल्पना प्रतिपादन

- (1) 1  
(2) 2  
(3) 3  
(4) 4

1[Option ID=33733] Question Description : dwbv\_pg\_gp8\_eng\_2\_q9  
2[Option ID=33734]  
3[Option ID=33735]  
4[Option ID=33736]

SI. No.10  
QBID:8201010

Match **List I** with **List II**

List I	List II
<b>Channel number of SWAYAMPRAKHA</b>	<b>Name</b>
A. Channel 03	I. PRABANDHAN
B. Channel 04	II. VIDHIK
C. Channel 05	III. PRABODH
D. Channel 06	IV. SAARASWAT

Choose the **correct** answer from the options given below:

1. A - I, B - IV, C - III, D - II
2. A - II, B - III, C - IV, D - I
3. A - IV, B - II, C - I, D - III
4. A - III, B - IV, C - I, D - II

- (1) 1  
(2) 2  
(3) 3  
(4) 4

सूची -I को सूची -II से सुमेलित कीजिए :

सूची -I	सूची -II
स्वयंप्रभा की चैनल संख्या	नाम
A. चैनल 03	I. प्रबंधन
B. चैनल 04	II. विधिक
C. चैनल 05	III. प्रबोध
D. चैनल 06	IV. सारस्वत

नीचे दिए गए विकल्पों में से सही उत्तर चुनिए :

1. A - I, B - IV, C - III, D - II
2. A - II, B - III, C - IV, D - I
3. A - IV, B - II, C - I, D - III
4. A - III, B - IV, C - I, D - II

- (1) 1  
(2) 2  
(3) 3  
(4) 4

1[Option ID=33737] Question Description : dwbv\_pg\_gp8\_eng\_2\_q10  
2[Option ID=33738]  
3[Option ID=33739]  
4[Option ID=33740]

SI. No.11  
QBID:8201011

A process in which scientific research and ideas are evaluated by experts of the field, is called

1. Literature Review
2. Conceptual Review
3. Peer Review
4. General Review

(1) 1

(2) 2

(3) 3

(4) 4

वह प्रक्रिया जिसमे वैज्ञानिक शोध और प्रत्ययों का विषय के विशेषज्ञों द्वारा मूल्यांकन किया जाता है, उसे कहा जाता है :

1. साहित्य समीक्षा
2. संकल्पनात्मक समीक्षा
3. समकक्षी (पीयर) समीक्षा
4. सामान्य समीक्षा

(1) 1

(2) 2

(3) 3

(4) 4

1[Option ID=33741]

2[Option ID=33742]

3[Option ID=33743]

4[Option ID=33744]

Question Description : dwbv\_pg\_gp8\_eng\_2\_q11

SI. No.12

QBID:8201012

Researchers, while writing manuscripts, often use the abbreviation 'et.al.'. It means

1. extra alternate
2. and others
3. at the end
4. and alternatively

(1) 1

(2) 2

(3) 3

(4) 4

शोधकर्ता, पांडुलिपि / हस्तलिपि लिखते समय प्रायः संक्षेपाक्षर 'et.al.' का प्रयोग करते हैं। इसका अर्थ है :

1. अतिरिक्त विकल्प
2. और अन्य
3. अंत में
4. और वैकल्पिक रूप से

(1) 1

(2) 2

(3) 3

(4) 4

1[Option ID=33745]

2[Option ID=33746]

3[Option ID=33747]

4[Option ID=33748]

Question Description : dwbv\_pg\_gp8\_eng\_2\_q12

SI. No.13

QBID:8201013

Identify the correct order of following steps in a research process:

- A. Review of Literature
- B. Formulation of Hypothesis
- C. Defining the Research Problem
- D. Collection of data
- E. Preparing the research design

Choose the **correct** answer from the options given below:

- 1. A, B, C, D, E
- 2. B, C, A, E, D
- 3. C, A, B, E, D
- 4. B, C, A, D, E

(1) 1

(2) 2

(3) 3

(4) 4

शोध प्रक्रिया के निम्नलिखित चरणों के सही क्रम की पहचान कीजिए।

- A. साहित्य समीक्षा
- B. परिकल्पना प्रतिपादन
- C. शोध समस्या को परिभाषित करना
- D. आंकड़ा संग्रह
- E. शोध अभिकल्प (डिजायन) तैयार करना

नीचे दिए गए विकल्पों में से सही उत्तर चुनें :

- 1. A, B, C, D, E
- 2. B, C, A, E, D
- 3. C, A, B, E, D
- 4. B, C, A, D, E

(1) 1

(2) 2

(3) 3

(4) 4

1[Option ID=33749]

Question Description : dwbv\_pg\_gp8\_eng\_2\_q13

2[Option ID=33750]

3[Option ID=33751]

4[Option ID=33752]

Sl. No.14

QBID:8201014

Suppose a researcher created a list of the names of everybody in a population of interest and selected every 10th name in order to get a list of participants comprising the sample. This type of sampling is called:

1. Quota Sampling
2. Systematic Sampling
3. Simple Random Sampling
4. Convenience Sampling

- (1) 1  
(2) 2  
(3) 3  
(4) 4

एक शोधकर्ता ने लक्ष्य जनसंख्या के प्रत्येक व्यक्ति के नामों की एक सूची तैयार की और प्रत्येक 10 वें नाम का चयन करके प्रतिदर्श में शामिल प्रतिभागियों की एक सूची बनाई। प्रतिचयन के इस प्रकार को कहा जाता है :

1. कोटा प्रतिचयन
2. व्यवस्थित प्रतिचयन
3. सामान्य यादृच्छिक प्रतिचयन
4. सुविधाजनक प्रतिचयन

- (1) 1  
(2) 2  
(3) 3  
(4) 4

1[Option ID=33753]  
2[Option ID=33754]  
3[Option ID=33755]  
4[Option ID=33756]

Question Description : dwbv\_pg\_gp8\_eng\_2\_q14

SI. No.15  
QBID:8201015

Given below are two statements:

Statement I: ANOVA is essentially a procedure for testing the difference among different groups of data for homogeneity.

Statement II: Using ANOVA one can draw the inference about whether the samples have been drawn from populations having the same mean.

In light of the above statements, choose the **correct** answer from the options given below:

1. Both Statement I and Statement II are true.
2. Both Statement I and Statement II are false.
3. Statement I is true but Statement II is false.
4. Statement I is false but Statement II is true.

- (1) 1  
(2) 2  
(3) 3  
(4) 4

नीचे दो कथन दिए गए हैं :

कथन - I : ANOVA तत्वतः सजातियता के लिए विभिन्न आंकड़ा समूहों के बीच भिन्नता/ अंतर के परीक्षण हेतु एक प्रक्रिया है।

कथन - II : ANOVA का प्रयोग करके हम समान माध्य की जनसंख्याओं से प्रतिदर्शों के निकालने के बारे में अनुमान कर सकते हैं।

उपर्युक्त कथनों के आलोक में निम्नलिखित विकल्पों में से सही उत्तर चुनें :

1. कथन I और II दोनों सही हैं।
2. कथन I और II दोनों गलत हैं।
3. कथन I सही है , किन्तु कथन II गलत है।
4. कथन I गलत है , किन्तु कथन II सही है।

(1) 1

(2) 2

(3) 3

(4) 4

1[Option ID=33757]

Question Description : dwbv\_pg\_gp8\_eng\_2\_q15

2[Option ID=33758]

3[Option ID=33759]

4[Option ID=33760]

SI. No.16

QBID:8201016

Language as a tool of communication provides a grid of

1. Bliss
2. Hidden Secrets
3. Reality
4. Info-paradise

(1) 1

(2) 2

(3) 3

(4) 4

सम्प्रेषण के एक माध्यम के रूप में भाषा निम्नांकित किस हेतु एक ग्रिड (जालक) प्रदत्त करता है ?

1. आनंद
2. प्रछन्न रहस्य
3. यथार्थता
4. सूचना - स्वर्ग

(1) 1

(2) 2

(3) 3

(4) 4

1[Option ID=33761]

Question Description : dwbv\_pg\_gp8\_eng\_2\_q16

2[Option ID=33762]

3[Option ID=33763]

4[Option ID=33764]

SI. No.17

QBID:8201017

Historically, communication media, have more often served as the voice of

1. The subaltern
2. The people
3. The neglected gender
4. The powerful

(1) 1

(2) 2

(3) 3

(4) 4

ऐतिहासिक रूप से, संचार मीडिया ने निम्नांकित में से प्रायः किसकी आवाज बनकर उन्हें सेवा प्रदान की है ?

1. उपाश्रितों (निम्नवर्गीय) की
2. लोगों की
3. उपेक्षित जेंडर की
4. शक्तिशाली व्यक्तियों की

(1) 1

(2) 2

(3) 3

(4) 4

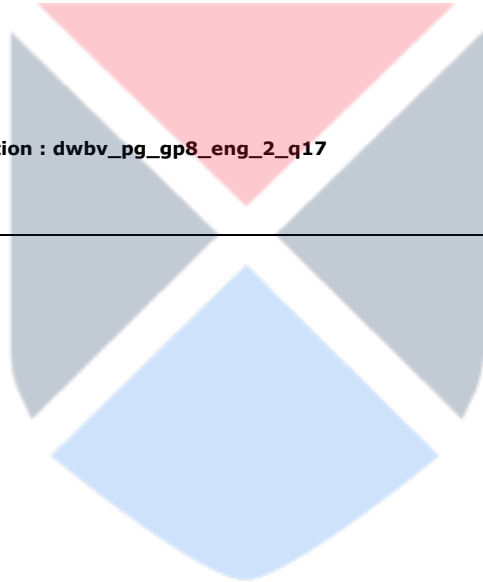
1[Option ID=33765]

2[Option ID=33766]

3[Option ID=33767]

4[Option ID=33768]

Question Description : dwbv\_pg\_gp8\_eng\_2\_q17



Sl. No.18

QBID:8201018

The big data includes:

- A. Writing style
- B. Blank space
- C. Sound
- D. Images
- E. Words

Choose the **correct** answer from the options given below:

1. A, B and C only
2. B, C and D only
3. C, D and E only
4. A, C and E only

(1) 1

(2) 2

(3) 3

(4) 4



विशाल आंकड़ा (बिग डाटा) में सम्मिलित होते हैं :-

- A. लेखन शैली
- B. रिक्त स्थान
- C. ध्वनि
- D. छवियाँ
- E. शब्द

नीचे दिए गए विकल्पों में से सही उत्तर चुनें :

- 1. केवल A, B और C
- 2. केवल B, C और D
- 3. केवल C, D और E
- 4. केवल A, C और E

- (1) 1
- (2) 2
- (3) 3
- (4) 4

1[Option ID=33769]  
2[Option ID=33770]  
3[Option ID=33771]  
4[Option ID=33772]

Question Description : dwbv\_pg\_gp8\_eng\_2\_q18

SI. No.19  
QBID:8201019

Given below are two statements:

Statement I: Photographs, graphs, films and other art works do not clarify and enhance the visual value of the written messages much.

Statement II: Bar graphs, pie charts and other infographic devices cannot replace the mass of numbers in print.

In light of the above statements, choose the **correct** answer from the options given below:

- 1. Both Statement I and Statement II are true.
- 2. Both Statement I and Statement II are false.
- 3. Statement I is true but Statement II is false.
- 4. Statement I is false but Statement II is true.

- (1) 1
- (2) 2
- (3) 3
- (4) 4

नीचे दो कथन दिए गए हैं :

कथन - I : छायाचित्र, आलेख (ग्राफ), फिल्में और अन्य कला-कृतियां लिखित संदेशों के दृश्य मूल में अधिक स्पष्टता एवं संवर्धन नहीं करती हैं।

कथन - II : बार आलेख, पाई चार्ट और अन्य इन्फोग्राफिक उपकरण मुद्रण में संख्याओं की बहु - मात्रा को प्रतिस्थापित नहीं कर सकते हैं।

उपर्युक्त कथनों के आलोक में निम्नलिखित विकल्पों में से सही उत्तर चुनें :

1. कथन I और II दोनों सही हैं।
2. कथन I और II दोनों गलत हैं।
3. कथन I सही है, किन्तु कथन II गलत है।
4. कथन I गलत है, किन्तु कथन II सही है।

(1) 1

(2) 2

(3) 3

(4) 4

1[Option ID=33773]

Question Description : dwbv\_pg\_gp8\_eng\_2\_q19

2[Option ID=33774]

3[Option ID=33775]

4[Option ID=33776]

SI. No.20

QBID:8201020

Given below are two statements:

Statement I: The semiotic approach in communication emphasises the manipulative power of the text.

Statement II: It is the ideological approach that questions the basic value systems in different societies in order to help seek a new humanism.

In light of the above statements, choose the **correct** answer from the options given below:

1. Both Statement I and Statement II are true.
2. Both Statement I and Statement II are false.
3. Statement I is true but Statement II is false.
4. Statement I is false but Statement II is true.

(1) 1

(2) 2

(3) 3

(4) 4

नीचे दो कथन दिए गए हैं :

कथन - I : संप्रेषण में सांकेतिक दृष्टिकोण पाठ की हस्तपरक क्षमता (शक्ति) पर बल देता है।

कथन - II : यह एक वैचारिक दृष्टिकोण है जो विभिन्न समाजों में आधारभूत मूल्य प्रणालियों पर एक नव- मानववाद की प्राप्ति में सहायता के क्रम में प्रश्न खड़ा करता है।

उपर्युक्त कथनों के आलोक में निम्नलिखित विकल्पों में से सही उत्तर चुनें :

1. कथन I और II दोनों सही हैं।
2. कथन I और II दोनों गलत हैं।
3. कथन I सही है, किन्तु कथन II गलत है।
4. कथन I गलत है, किन्तु कथन II सही है।

- (1) 1
- (2) 2
- (3) 3
- (4) 4

1[Option ID=33777] Question Description : dwbv\_pg\_gp8\_eng\_2\_q20  
2[Option ID=33778]  
3[Option ID=33779]  
4[Option ID=33780]

SI. No.21  
QBID:8201021

Two lots of oranges with equal quantity, one costing ₹20 per dozen and the other costing ₹30 per dozen, are mixed together and the whole lot is sold at ₹24 per dozen. Find the profit or loss in percentage?

- 1. 5.2 % profit
- 2. 4 % loss
- 3. 4 % profit
- 4. 5.2 % loss

- (1) 1
- (2) 2
- (3) 3
- (4) 4

20 रुपए प्रति दर्जन की कीमत और 30 रुपये प्रति दर्जन की कीमत वाले संतरों की दो खेपों की समान मात्रा को आपस में मिला दिया जाता है और फिर संपूर्ण खेप को 24 रुपये प्रति दर्जन की दर पर बेचा जाता है। लाभ अथवा हानि का प्रतिशत ज्ञात कीजिए।

- 1. 5.2 % लाभ
- 2. 4 % हानि
- 3. 4 % लाभ
- 4. 5.2 % हानि

- (1) 1
- (2) 2
- (3) 3
- (4) 4

1[Option ID=33781] Question Description : dwbv\_pg\_gp8\_eng\_2\_q21  
2[Option ID=33782]  
3[Option ID=33783]  
4[Option ID=33784]

SI. No.22  
QBID:8201022

If 5th term of an Arithmetic progression (AP) series is 16 and 9th term is 22, then find the seventh (7th) term of the series.

- 1. 25
- 2. 22
- 3. 19
- 4. 20.5

- (1) 1
- (2) 2
- (3) 3
- (4) 4

यदि किसी समांतर श्रेणी (एपी) श्रृंखला में 5वाँ पद 16 और 9 वाँ पद 22 है, तो इस श्रृंखला के 7वें पद को ज्ञात कीजिए।

1. 25
2. 22
3. 19
4. 20.5

- (1) 1  
(2) 2  
(3) 3  
(4) 4

1[Option ID=33785] Question Description : dwbv\_pg\_gp8\_eng\_2\_q22  
2[Option ID=33786]  
3[Option ID=33787]  
4[Option ID=33788]

SI. No.23  
QBID:8201023

The average of a group of 20 numbers is 30 and that of another group of 30 numbers is 50. What is the average of all the numbers in both the groups?

1. 43.5
2. 45
3. 40
4. 42

- (1) 1  
(2) 2  
(3) 3  
(4) 4

20 संख्याओं के एक समूह का औसत 30 है और किसी दूसरे समूह की 30 संख्याओं का औसत 50 है। दोनों समूहों में सभी संख्याओं का औसत कितना है ?

1. 43.5
2. 45
3. 40
4. 42

- (1) 1  
(2) 2  
(3) 3  
(4) 4

1[Option ID=33789] Question Description : dwbv\_pg\_gp8\_eng\_2\_q23  
2[Option ID=33790]  
3[Option ID=33791]  
4[Option ID=33792]

SI. No.24  
QBID:8201024

The price of an article A increases by ₹40 every year while the price of article B increases by ₹15 every year. If in 2015, the price of the article A was ₹420 and that of article B was ₹630, then in which year the article A will cost ₹40 more than article B?

1. 2022
2. 2023
3. 2025
4. 2024

- (1) 1  
(2) 2  
(3) 3  
(4) 4

एक वस्तु 'A' की कीमत में प्रतिवर्ष 40 रुपये की वृद्धि होती है जबकि वस्तु 'B' की कीमत में प्रति वर्ष 15 रुपये की वृद्धि होती है। यदि वर्ष 2015 में वस्तु 'A' की कीमत 420 रुपये थी, और वस्तु 'B' की कीमत 630 रुपये थी तब किस वर्ष में वस्तु 'A' का मूल्य वस्तु 'B' की तुलना में 40 रुपये अधिक होगा?

1. 2022
2. 2023
3. 2025
4. 2024

- (1) 1  
(2) 2  
(3) 3  
(4) 4

1[Option ID=33793]  
2[Option ID=33794]  
3[Option ID=33795]  
4[Option ID=33796]

Question Description : dwbv\_pg\_gp8\_eng\_2\_q24

SI. No.25  
QBID:8201025

In a certain coded language,

- A) 'tao la eto' means 'truth is eternal'  
B) 'mitao la nota eto' means 'enmity is not eternal'  
C) 'tao duo nota pisho' means 'truth does not perish'

Which of the following means 'enmity' in that language?

1. eto
2. pisho
3. tao
4. mitao

- (1) 1  
(2) 2  
(3) 3  
(4) 4

किसी निश्चित कूटभाषा में,

- (A) 'ताओ ला इतो' का अर्थ 'सत्य शाश्वत है'  
(B) 'मिताओ ला नोटा इतो' का अर्थ 'शत्रुता शाश्वत नहीं है।'  
(C) 'ताओ दुओ नोटा पिशो' का अर्थ 'सत्य नश्वर नहीं है।'

इस भाषा में से निम्नलिखित कौन 'शत्रुता' का अर्थ रखता है।

1. इतो
2. पिशो
3. ताओ
4. मिताओ

- (1) 1  
(2) 2  
(3) 3  
(4) 4

1[Option ID=33797] Question Description : dwbv\_pg\_gp8\_eng\_2\_q25  
2[Option ID=33798]  
3[Option ID=33799]  
4[Option ID=33800]

SI. No.26  
QBID:8201026

"Number 3 is a prime number, so are numbers 5 and 7. Therefore, it is clear that all odd numbers are prime numbers." Which fallacy is committed in the above argument?

1. Missing the point
2. Irrelevant conclusion
3. Hasty Generalisation
4. Slippery Slope

- (1) 1  
(2) 2  
(3) 3  
(4) 4

संख्या 3 एक अभाज्य संख्या है, इसी प्रकार संख्या 5 और 7 भी अभाज्य संख्या है। अतः यह स्पष्ट है कि सभी विषम संख्याएं अभाज्य संख्या है।

उपर्युक्त तर्क में कौन-सा तर्क दोष है ?

1. बिंदु से भटक जाना (अर्थान्तर तर्कदोष)
2. प्रतिज्ञानान्तर सिद्धि दोष निष्कर्ष
3. अविचारित सामान्यीकरण
4. फिसलन युक्त ढलान

- (1) 1  
(2) 2  
(3) 3  
(4) 4

1[Option ID=33801] Question Description : dwbv\_pg\_gp8\_eng\_2\_q26  
2[Option ID=33802]  
3[Option ID=33803]  
4[Option ID=33804]

SI. No.27  
QBID:8201027

If the statement 'all cricketers are rich persons' is given as false which of the following statement(s) remain(s) undetermined?

- A. Some cricketers are not rich persons.
- B. No cricketers are rich persons.
- C. Some cricketers are rich persons.

Choose the **correct** answer from the options given below:

- 1. A only
- 2. A and C only
- 3. A and B only
- 4. B and C only

(1) 1

(2) 2

(3) 3

(4) 4

यदि कथन 'सभी क्रिकेटर धनी व्यक्ति हैं' असत्य दिया गया है तो निम्नलिखित में से कौन-सा/से कथन अनिश्चित रहता/रहते है/ हैं ?

- A. कुछ क्रिकेटर धनी व्यक्ति नहीं हैं।
- B. कोई क्रिकेटर धनी व्यक्ति नहीं हैं।
- C. कुछ क्रिकेटर धनी व्यक्ति हैं।

नीचे दिए गए विकल्पों में से सही उत्तर चुनें :

- 1. केवल A
- 2. केवल A और C
- 3. केवल A और B
- 4. केवल B और C

(1) 1

(2) 2

(3) 3

(4) 4

1[Option ID=33805]  
2[Option ID=33806]  
3[Option ID=33807]  
4[Option ID=33808]

Question Description : dwbv\_pg\_gp8\_eng\_2\_q27

Sl. No.28  
QBID:8201028

Which of the following propositions are so related that they cannot both be false, although they may both be true?

- A. All cricketers are cheerful persons.
- B. No cricketers are cheerful persons.
- C. Some cricketers are not cheerful persons.
- D. Some cricketers are cheerful persons.

Choose the **correct** answer from the options given below:

- 1. A and B only
- 2. B and D only
- 3. A and C only
- 4. C and D only

- (1) 1
- (2) 2
- (3) 3
- (4) 4

निम्नलिखित में कौन-सी प्रतिज्ञप्तियाँ इस प्रकार से सहसंबंधित हैं कि वे दोनों गलत नहीं हो सकते हैं, यद्यपि वे दोनों सही भी हो सकते हैं :

- A. सभी क्रिकेटर प्रसन्नचित व्यक्ति हैं।
- B. कोई क्रिकेटर प्रसन्नचित व्यक्ति नहीं है।
- C. कुछ क्रिकेटर प्रसन्नचित व्यक्ति नहीं हैं।
- D. कुछ क्रिकेटर प्रसन्नचित व्यक्ति हैं।

नीचे दिए गए विकल्पों में से सही उत्तर चुनें :

- 1. केवल A और B
- 2. केवल B और D
- 3. केवल A और C
- 4. केवल C और D

- (1) 1
- (2) 2
- (3) 3
- (4) 4

1[Option ID=33809]  
2[Option ID=33810]  
3[Option ID=33811]  
4[Option ID=33812]

Question Description : dwbv\_pg\_gp8\_eng\_2\_q28

Sl. No.29  
QBID:8201029



Which of the following statements are logically equivalent?

- A. Some cats are aggressive animals.
- B. Some aggressive animals are cats.
- C. Some cats are not non-aggressive animals.
- D. All cats are aggressive animals.

Choose the **correct** answer from the options given below:

- 1. C and D only
- 2. A, B and D only
- 3. B and D only
- 4. A, B and C only

(1) 1

(2) 2

(3) 3

(4) 4

निम्नलिखित में से कौन-से कथन तार्किक रूप से समतुल्य हैं ?

- A. कुछ बिल्लियां आक्रामक जानवर हैं।
- B. कुछ आक्रामक जानवर बिल्लियां हैं।
- C. कुछ बिल्लियां गैर-आक्रामक जानवर नहीं हैं।
- D. सभी बिल्लियां आक्रामक जानवर हैं।

नीचे दिए गए विकल्पों में से सही उत्तर चुनें :

- 1. केवल C और D
- 2. केवल A, B और D
- 3. केवल B और D
- 4. केवल A, B और C

(1) 1

(2) 2

(3) 3

(4) 4

1[Option ID=33813]      Question Description : dwbv\_pg\_gp8\_eng\_2\_q29  
2[Option ID=33814]  
3[Option ID=33815]  
4[Option ID=33816]

Sl. No.30  
QBID:8201030

Given below are two statements:

Statement I: Classical Indian Logicians (Naiyāyikas) give a psychological account of Inferential cognition.

Statement II: According to Naiyāyikas the logical structure of inference represents not how we ought to infer, but how, as a matter of fact, we do infer.

In light of the above statements, choose the **correct** answer from the options given below:

1. Both Statement I and Statement II are true.
2. Both Statement I and Statement II are false.
3. Statement I is true but Statement II is false.
4. Statement I is false but Statement II is true.

- (1) 1  
(2) 2  
(3) 3  
(4) 4

नीचे दो कथन दिए गए हैं :

कथन - I : शास्त्रीय भारतीय तर्कवेत्ता नैयायिक अनुमानिक संज्ञान का मनोवैज्ञानिक विवरण प्रदान करते हैं।

कथन - II : नैयायिकों के अनुसार अनुमिति की तार्किक संरचना यह अभ्यावेदित नहीं करती है कि कैसे अनुमानित करना चाहिए बल्कि हम किस तरह वस्तुतः अनुमान लगाते हैं।

उपर्युक्त कथनों के आलोक में निम्नलिखित विकल्पों में से सही उत्तर चुनें :

1. कथन I और II दोनों सही हैं।
2. कथन I और II दोनों गलत हैं।
3. कथन I सही है , किन्तु कथन II गलत है।
4. कथन I गलत है , किन्तु कथन II सही है।

- (1) 1  
(2) 2  
(3) 3  
(4) 4

1[Option ID=33817] Question Description : dwbv\_pg\_gp8\_eng\_2\_q30  
2[Option ID=33818]  
3[Option ID=33819]  
4[Option ID=33820]

SI. No.31  
QBID:8201031

Full support for Internet Explorer (IE) version 11 was discontinued on \_\_\_\_, with the alternative being Microsoft Edge's IE compatibility mode for legacy sites that require it.

1. 15 - June - 2022
2. 15 - June - 2021
3. 25 - June - 2022
4. 25 - June - 2021

- (1) 1  
(2) 2  
(3) 3  
(4) 4

इंटरनेट एक्सप्लोरर (आई ई) रूपांतर 11 \_\_\_\_\_ को समाप्त कर दिया गया था और इसकी आवश्यकता वाले लीगेसी स्थलों के लिए विकल्प के रूप में माइक्रोसॉफ्ट एज का आई ई कंपैटिबिलिटी मोड दिया गया।

1. 15 जून 2022
2. 15 जून 2021
3. 25 जून 2022
4. 25 जून 2021

- (1) 1  
(2) 2  
(3) 3  
(4) 4

1[Option ID=33821] Question Description : dwbv\_pg\_gp8\_eng\_2\_q31  
2[Option ID=33822]  
3[Option ID=33823]  
4[Option ID=33824]

SI. No.32  
QBID:8201032

According to the IT Act, 2000, penalty for breach of confidentiality and privacy is imprisonment for a term which may extend to \_\_\_\_\_ year(s) or with a fine which may extend to \_\_\_\_\_ lakh(s) rupees or both.

1. two ; one
2. one ; two
3. two ; two
4. one ; four

- (1) 1  
(2) 2  
(3) 3  
(4) 4

आई टी अधिनियम, 2000 के अनुसार गोपनीयता और निजता हनन के लिए दंड \_\_\_\_\_ वर्ष की अवधि तक कारावास अथवा \_\_\_\_\_ लाख रुपये तक का जुर्माना अथवा दोनों हैं।

1. दो ; एक
2. एक ; दो
3. दो ; दो
4. एक ; चार

- (1) 1  
(2) 2  
(3) 3  
(4) 4

1[Option ID=33825] Question Description : dwbv\_pg\_gp8\_eng\_2\_q32  
2[Option ID=33826]  
3[Option ID=33827]  
4[Option ID=33828]

SI. No.33  
QBID:8201033

Given below are two statements:

Statement I: A modem converts analog signals to digital signals and vice versa.

Statement II: In the context of computer security, crackers are also known as black hat hackers.

In light of the above statements, choose the **correct** answer from the options given below:

1. Both Statement I and Statement II are true.
2. Both Statement I and Statement II are false.
3. Statement I is true but Statement II is false.
4. Statement I is false but Statement II is true.

(1) 1

(2) 2

(3) 3

(4) 4

नीचे दो कथन दिए गए हैं :

कथन - I : एक मॉडम अनुरूप (एनालॉग) सिगनलों को अंकीय सिगनलों में और इसके उल्टा रूपांतरित करता है।

कथन - II : कंप्यूटर सुरक्षा के संदर्भ में, क्रेकरों को ब्लैक हैट हेकरों के रूप में भी जाना जाता है।

उपर्युक्त कथनों के आलोक में निम्नलिखित विकल्पों में से सही उत्तर चुनें :

1. कथन I और II दोनों सही हैं।
2. कथन I और II दोनों गलत हैं।
3. कथन I सही है, किन्तु कथन II गलत है।
4. कथन I गलत है, किन्तु कथन II सही है।

(1) 1

(2) 2

(3) 3

(4) 4

1[Option ID=33829]

2[Option ID=33830]

3[Option ID=33831]

4[Option ID=33832]

Question Description : dwbv\_pg\_gp8\_eng\_2\_q33

Sl. No.34

QBID:8201034

With reference to SWAYAM, which of the statements A - C given below are correct?

A. The current SWAYAM platform is developed by Ministry of Education and NPTEL, IIT Madras, with the help Google Inc. and Persistent Systems Ltd.

B. It facilitates hosting of all the courses, taught in the classrooms from class 9th till Post Graduation.

C. Courses and Certificates provided through SWAYAM are available free of cost to the learners.

Choose the **correct** answer from the options given below:

1. A and B only
2. A and C only
3. B and C only
4. A, B and C

(1) 1

(2) 2

(3) 3

(4) 4

एस डब्ल्यू ए वाई ए एम (स्वयं) के संदर्भ में निम्नलिखित कथनों A-C में से कौन-कौन सही हैं?

A. विद्यमान 'स्वयं' प्लेटफार्म को शिक्षा मंत्रालय, और एन पी टी ई एल, आईआईटी मद्रास ने गूगल इंक और परसिस्टेंस सिस्टम लि. की सहायता से विकसित किया है।

B. यह 9वीं कक्षा से स्नातकोत्तर सभी कक्षाओं में पढ़ाए जाने वाले सभी पाठ्यक्रमों को चलाना सुगम बनाता है।

C. स्वयं के माध्यम से प्रदत्त पाठ्यक्रम और प्रमाणपत्र शिक्षार्थियों को निशुल्क उपलब्ध हैं।

नीचे दिए गए विकल्पों में से सही उत्तर चुनें :

1. केवल A और B
2. केवल A और C
3. केवल B और C
4. A, B और C

(1) 1

(2) 2

(3) 3

(4) 4

1[Option ID=33833]  
2[Option ID=33834]  
3[Option ID=33835]  
4[Option ID=33836]

Question Description : dwbv\_pg\_gp8\_eng\_2\_q34

SI. No.35  
QBID:8201035

Which one of the following is the context in which the term "qubit" is mentioned?

1. Cloud Services
2. Quantum Computing
3. Visible Light Communication Technologies
4. Wireless Communication Technologies

(1) 1

(2) 2

(3) 3

(4) 4

"क्यूबिट" पद का उल्लेख निम्नलिखित में से किस संदर्भ में किया जाता है ?

1. क्लाउड सर्विसेज़
2. क्वांटम कम्प्यूटिंग
3. विजिबल लाइट कम्युनिकेशन टेक्नोलॉजीस
4. वायरलैस कम्युनिकेशन टेक्नोलॉजीस

(1) 1

(2) 2

(3) 3

(4) 4

1[Option ID=33837]  
2[Option ID=33838]  
3[Option ID=33839]  
4[Option ID=33840]

Question Description : dwbv\_pg\_gp8\_eng\_2\_q35

SI. No.36  
QBID:8201036

Which one of the following is not a Sustainable Development Goal (SDG)?

1. Decent work and economic growth
2. Industry, Innovation and Infrastructure
3. Climate change
4. Education to everyone

(1) 1

(2) 2

(3) 3

(4) 4

निम्नलिखित में से कौन सा एक सतत विकास लक्ष्य (एस डी जी) नहीं है ?

1. शिष्ट कार्य और आर्थिक वृद्धि
2. उद्योग नव प्रवर्तन और अवसंरचना
3. जलवायु परिवर्तन
4. हरेक को शिक्षा

(1) 1

(2) 2

(3) 3

(4) 4

1[Option ID=33841]

2[Option ID=33842]

3[Option ID=33843]

4[Option ID=33844]

Question Description : dwbv\_pg\_gp8\_eng\_2\_q36

SI. No.37

QBID:8201037

Lead pollution, impacts which of the following part of human body most?

1. Heart
2. Brain
3. Eye
4. Skin

(1) 1

(2) 2

(3) 3

(4) 4

सीसा प्रदूषण मानव शरीर के निम्न में से किस अंग को सर्वाधिक प्रभावित करता है ?

1. हृदय
2. मस्तिष्क
3. चक्षु
4. त्वचा

(1) 1

(2) 2

(3) 3

(4) 4

1[Option ID=33845]

2[Option ID=33846]

3[Option ID=33847]

4[Option ID=33848]

Question Description : dwbv\_pg\_gp8\_eng\_2\_q37

SI. No.38

QBID:8201038

Match **List I** with **List II**

List I	List II
<b>Water Pollutant Type</b>	<b>Example</b>
A. Pathogen	I. Salt
B. Inorganic chemical	II. Iodine
C. Organic chemical	III. Fungi
D. Radioactive material	IV. Pesticide

Choose the **correct** answer from the options given below:

1. A - III, B - I, C - II, D - IV
2. A - III, B - I, C - IV, D - II
3. A - IV, B - III, C - I, D - II
4. A - IV, B - I, C - III, D - II

- (1) 1  
(2) 2  
(3) 3  
(4) 4

सूची -I को सूची -II से सुमेलित कीजिए :

सूची -I	सूची -II
जल प्रदूषक प्रकार	उदाहरण
A. रोगाणु	I. लवण
B. अकार्बनिक रसायन	II. आयोडीन
C. कार्बनिक रसायन	III. फफूंद
D. रेडियोधर्मी सामग्री	IV. कीटनाशी

नीचे दिए गए विकल्पों में से सही उत्तर चुनिए :

1. A - III, B - I, C - II, D - IV
2. A - III, B - I, C - IV, D - II
3. A - IV, B - III, C - I, D - II
4. A - IV, B - I, C - III, D - II

- (1) 1  
(2) 2  
(3) 3  
(4) 4

1[Option ID=33849] Question Description : dwbv\_pg\_gp8\_eng\_2\_q38  
2[Option ID=33850]  
3[Option ID=33851]  
4[Option ID=33852]

SI. No.39  
QBID:8201039

Waste uranium from the nuclear reactors is called as

1. Enriched uranium
2. Depleted uranium
3. Fertile uranium
4. Fissile uranium

- (1) 1  
(2) 2  
(3) 3

(4) 4

नाभिकीय रिएक्टरों से अपशिष्ट यूरेनियम को निम्न में से क्या कहा जाता है ?

1. संवर्धित यूरेनियम
2. अवक्षयित यूरेनियम
3. उर्वर यूरेनियम
4. विखण्डनीय यूरेनियम

(1) 1

(2) 2

(3) 3

(4) 4

1[Option ID=33853] Question Description : dwbv\_pg\_gp8\_eng\_2\_q39  
2[Option ID=33854]  
3[Option ID=33855]  
4[Option ID=33856]

SI. No.40  
QBID:8201040

Given below are two statements:

Statement I: Sulphate aerosols are primary pollutants in the urban environment.

Statement II: Sulphate aerosols have cooling effect on climate.

In light of the above statements, choose the **correct** answer from the options given below:

1. Both Statement I and Statement II are true.
2. Both Statement I and Statement II are false.
3. Statement I is true but Statement II is false.
4. Statement I is false but Statement II is true.

(1) 1

(2) 2

(3) 3

(4) 4

नीचे दो कथन दिए गए हैं :

कथन - I : शहरी पर्यावरण में सल्फेट एयरोसोल प्राथमिक प्रदूषक होते हैं।

कथन - II : सल्फेट एयरोसोल का जलवायु पर शीतलन प्रभाव होता है।

उपर्युक्त कथनों के आलोक में निम्नलिखित विकल्पों में से सही उत्तर चुनें :

1. कथन I और II दोनों सही हैं।
2. कथन I और II दोनों गलत हैं।
3. कथन I सही है, किन्तु कथन II गलत है।
4. कथन I गलत है, किन्तु कथन II सही है।

(1) 1

(2) 2

(3) 3

(4) 4

1[Option ID=33857] Question Description : dwbv\_pg\_gp8\_eng\_2\_q40  
2[Option ID=33858]  
3[Option ID=33859]  
4[Option ID=33860]

SI. No.41  
QBID:8201041



Given below are two statements:

Statement I: NPTEL is the smallest online repository in the world of courses in Engineering, Basic Sciences and Selected humanities and Management subjects.

Statement II: NPTEL is a joint venture of the IITs and IISc, funded by the Ministry of Education (MoE) Government of India and it was launched in 2003.

In light of the above statements, choose the **most appropriate** answer from the options given below:

1. Both Statement I and Statement II are correct.
2. Both Statement I and Statement II are incorrect.
3. Statement I is correct but Statement II is incorrect.
4. Statement I is incorrect but Statement II is correct.

(1) 1

(2) 2

(3) 3

(4) 4

नीचे दो कथन दिए गए हैं :

कथन - I : एन पी टी ई एल इंजीनियरिंग प्रमुख विज्ञानों और चुनिंदा मानविकी और प्रबंधन संबंधित विषयों के पाठ्यक्रमों का विश्व में सबसे छोटा ऑनलाइन संग्रह (निक्षेपागार) है।

कथन - II : एन पी टी ई एल भारत सरकार के शिक्षा मंत्रालय द्वारा वित्त पोषित होने वाला, आई.आई.टी. और आई.आई.एस.सी. का एक संयुक्त उद्यम है और इसको वर्ष 2003 में आरम्भ किया गया था।

उपर्युक्त कथनों के आलोक में निम्नलिखित विकल्पों में से सही उत्तर चुनें :

1. कथन I और II दोनों सही हैं।
2. कथन I और II दोनों गलत हैं।
3. कथन I सही है , किन्तु कथन II गलत है।
4. कथन I गलत है , किन्तु कथन II सही है।

(1) 1

(2) 2

(3) 3

(4) 4

1[Option ID=33861]      Question Description : dwbv\_pg\_gp8\_eng\_2\_q41  
2[Option ID=33862]  
3[Option ID=33863]  
4[Option ID=33864]

Sl. No.42  
QBID:8201042

In the Upanishadic age, Mithali became a prominent seat of the Brahmanical system of education. It was named

1. Vidisha
2. Videha
3. Nyaya Sutra
4. Vadahi

(1) 1

(2) 2

(3) 3

(4) 4

उपनिषद्-काल में, मिथाली ब्राह्मणवादी शिक्षा प्रणाली का एक प्रमुख अधिष्ठान (स्थान) था, इसका यह नाम रखा गया था

1. विदिशा
2. विदेह
3. न्याय सूत्र
4. वदाही

(1) 1

(2) 2

(3) 3

(4) 4

1[Option ID=33865] Question Description : dwbv\_pg\_gp8\_eng\_2\_q42  
2[Option ID=33866]  
3[Option ID=33867]  
4[Option ID=33868]

SI. No.43  
QBID:8201043

Which of the following will be model Public Universities for holistic and multidisciplinary education, at par with IITs, IIMs with the aim to attain the highest global standards in quality education?

1. MERUs (Multidisciplinary Education and Research Universities)
2. MVEUs (Multidisciplinary Vocational Education Universities)
3. MPEUs (Multidisciplinary Pedagogical Educational Universities)
4. MVOUs (Multidisciplinary value oriented Universities)

(1) 1

(2) 2

(3) 3

(4) 4

गुणवत्ता परक शिक्षा हेतु सर्वोच्च वैश्विक मानदंडों को प्राप्त करने के उद्देश्य से निम्नलिखित में से कौन सर्वांगीण और बहु-विषयक शिक्षा हेतु मॉडल सरकारी विश्वविद्यालय, आईआईटी, आई आई एम के समतुल्य होगा?

1. एम ई आर यू (बहु-विषयक शिक्षा और शोध विश्वविद्यालय)
2. एम पी ई यू (बहु-विषयक व्यवसायिक शिक्षा विश्वविद्यालय)
3. एम पी ई यू (बहु-विषयक शैक्षिक शैक्षणिक विश्वविद्यालय)
4. एम वी ओ यू (बहु-विषयक मूल्योन्मुखी विश्वविद्यालय)

(1) 1

(2) 2

(3) 3

(4) 4

1[Option ID=33869] Question Description : dwbv\_pg\_gp8\_eng\_2\_q43  
2[Option ID=33870]  
3[Option ID=33871]  
4[Option ID=33872]

SI. No.44  
QBID:8201044

Match **List I** with **List II**

List I	List II
<b>SWAYAM National Coordinators</b>	<b>Domain of content development</b>
A. AICTE	I. Engineering
B. UGC	II. Nontechnical Undergraduate education
C. NPTEL	III. Self paced and international courses
D. CEC	IV. Nontechnical Postgraduate education

Choose the **correct** answer from the options given below:

1. A - IV, B - III, C - II, D - I
2. A - II, B - I, C - IV, D - III
3. A - III, B - IV, C - I, D - II
4. A - I, B - III, C - IV, D - II

- (1) 1  
(2) 2  
(3) 3  
(4) 4

सूची -I को सूची -II से सुमेलित कीजिए :

सूची -I	सूची -II
स्वयं मंच के राष्ट्रीय समन्वयक	विषय-वस्तु-विकास के विषय-क्षेत्र
A. ए आई सी टी ई	I. इंजीनियरिंग (अभियांत्रिकी)
B. यू.जी.सी.	II. गैर-तकनीकी-पूर्व-स्नातकशिक्षा
C. एन पी टी ई एल	III. आत्म-गतिमान (सेल्फ पेस्ड) और अन्तर्राष्ट्रीय पाठ्यक्रम
D. सी ई सी	IV. गैर-तकनीकी-परास्नातक शिक्षा

नीचे दिए गए विकल्पों में से सही उत्तर चुनिए :

1. A - IV, B - III, C - II, D - I
2. A - II, B - I, C - IV, D - III
3. A - III, B - IV, C - I, D - II
4. A - I, B - III, C - IV, D - II

- (1) 1  
(2) 2  
(3) 3  
(4) 4

1[Option ID=33873] Question Description : dwbv\_pg\_gp8\_eng\_2\_q44  
2[Option ID=33874]  
3[Option ID=33875]  
4[Option ID=33876]

Sl. No.45  
QBID:8201045

According to the recommendation of Sarkar Committee (1945), higher technical institutes were formed based on the \_\_\_\_\_ in the four regions of India..

1. Imperial College of Science and Technology, UK
2. Massachusetts Institute of Technology, USA
3. California Institute of Technology, USA
4. Max-Planck Institute, Germany

(1) 1

(2) 2

(3) 3

(4) 4

सरकार समिति (1945) की संस्तुतियों के अनुसार, भारत के चार क्षेत्रों में \_\_\_\_\_ पर आधारित उच्च प्रौद्योगिकी संस्थानों को स्थापित किया गया था।

1. इम्पीरियल कॉलेज ऑफ साइंस एंड टेक्नोलॉजी, यू.के.
2. मेसाचुसेट्स इंस्टीट्यूट ऑफ टेक्नोलॉजी, यू.एस.ए.
3. कैलिफोर्निया इंस्टीट्यूट ऑफ टेक्नोलॉजी, यू.एस.ए.
4. मैक्स-प्लैंक इंस्टीट्यूट, जर्मनी

(1) 1

(2) 2

(3) 3

(4) 4

1[Option ID=33877]

2[Option ID=33878]

3[Option ID=33879]

4[Option ID=33880]

Question Description : dwbv\_pg\_gp8\_eng\_2\_q45

SI. No.46

QBID:8201046



**Read the following passage and answer the following questions that follows:**

A problem with international trade is that it externalizes costs on a grand scale. Tropical hardwood products can be sold extremely cheaply in the United States – as lumber, plywood, shipping pallets, and so on. The environmental costs of producing those hardwood products occur far from the consumer who buys a piece of cheap Brazilian plywood. Making matters worse, the environmental costs of the plywood are usually exported to places where there are few legal controls on pollution and resource extraction. A factory in the United States, for example, is legally bound to minimize its production of air and water pollution. Pollution control can be expensive, and internalizing this cost makes a factory less profitable. A similar factory in Mexico might have far less responsibility for pollution control, making it cheaper, at least in the short term, to produce goods there than in the United States. Ongoing protests in the United States and elsewhere around the world against the World Trade Organization (WTO) and other forces of globalization have been largely about such exporting and externalizing of environmental and social costs of production.

Another criticism of international trade is that the international banking systems that finance it are set up by and for the wealthy countries.

The WTO and GATT are both made up of relationships and agreements between corporations in a few very wealthy countries. Representatives of less powerful countries often charge that these agreements trap poorer regions into the role of suppliers of natural resources – timber, mineral ores, fruit, and cheap labour. These countries are forced to mine their natural capital for only small returns in wealth.

**निम्नलिखित गद्यांश को पढ़िए और नीचे दिए गए प्रश्नों के उत्तर दीजिए :**

अंतर्राष्ट्रीय व्यापार के साथ समस्या यह है कि यह लागत का बड़े पैमाने पर बाहर स्थानांतरण कर देता है। उष्णकटिबंधीय कठोर काष्ठ उत्पादों की अमेरिका में अत्यधिक सस्ते दामों पर बिक्री हो सकती है- जैसे लकड़ी, प्लाईवुड, जहाजी प्रापट्टिका आदि। ऐसे कठोर काष्ठ उत्पादों के उत्पादन की पर्यावरणीय लागत उस उपभोक्ता से बहुत दूर स्थानों पर घटित होती है जो सस्ता ब्राजीली प्लाईवुड का एक टुकड़ा खरीदता है। और जिस बात से स्थिति और अधिक खराब हो जाती है वह यह है कि प्लाईवुड की पर्यावरणीय लागत सामान्यतया ऐसे स्थानों पर हस्तांतरित कर दी जाती है जहां प्रदूषण और संसाधन निष्कर्षण पर बहुत कम कानूनी नियंत्रण है। उदाहरण के रूप में अमेरिका में स्थित फैक्टरी अपने वायु और जल प्रदूषण के न्यूनीकरण के लिए कानूनी रूप से बाध्य है। प्रदूषण नियंत्रण खर्चीला हो सकता है और यह इस लागत को स्वयं वहन करना उस फैक्टरी को कम लाभकारी बना सकता है। इसी तरह की फैक्टरी का मेक्सिको में प्रदूषण नियंत्रण के मामले में कहीं कम उत्तरदायित्व हो सकता है जिससे उसके लिए अमेरिका की तुलना में माल का उत्पादन, कम से कम लघु अवधि में, सस्ता होगा। विश्व व्यापार संगठन (WTO) और भूमंडलीकरण की अन्य शक्तियों के विरुद्ध अमेरिका और दुनिया भर में अन्य स्थानों पर जारी प्रतिवाद मुख्यतया उत्पादन की पर्यावरणीय और सामाजिक लागत के ऐसे निर्यात और स्थानांतरण के विरुद्ध रहे हैं।

अंतर्राष्ट्रीय व्यापार की एक अन्य आलोचना यह है कि इसका वित्तपोषण करने वाली अंतर्राष्ट्रीय बैंकिंग प्रणालियां धनी देशों द्वारा उन्हीं के लिए स्थापित की जाती हैं।

डब्ल्यू टी ओ और जी ए टी टी टी दोनों ही थोड़े से अत्यधिक धनी देशों में स्थित निगमों के बीच के संबंधों और संधियों से बने हैं। कम शक्तिशाली देशों के प्रतिनिधि बहुधा यह आरोप लगाते हैं कि यह संधियां निर्धन क्षेत्रों को लकड़ी, खनिज अयस्क, प्राकृतिक संसाधनों और सस्ते श्रम के आपूर्तिकर्ताओं की भूमिका में फंसा देती है। ये देश संपदा में मात्र अल्पलाभ के लिए अपनी प्राकृतिक पूंजी के दोहन के लिए विवश होते हैं।

According to the passage, international trade

- A. stimulates economies
- B. externalizes costs
- C. is controlled by wealthy countries

Choose the **correct** answer from the options given below:

- 1. A and B only
- 2. B and C only
- 3. A and C only
- 4. A, B and C

(1) 1

(2) 2

(3) 3

(4) 4

गद्यांश के अनुसार अंतर्राष्ट्रीय व्यापार

- A. अर्थव्यवस्थाओं को उद्दीप्त करता है।
- B. लागत का बाहर स्थानांतरण करता है।
- C. धनी देशों द्वारा नियंत्रित किया जाता है।

नीचे दिए गए विकल्पों में से सही उत्तर का चयन कीजिए :

- 1. केवल A और B
- 2. केवल B और C
- 3. केवल A और C
- 4. A, B और C

(1) 1

(2) 2

(3) 3

(4) 4

1[Option ID=33881]

2[Option ID=33882]

3[Option ID=33883]

4[Option ID=33884]

Question Description : dwbv\_pg\_gp8\_eng\_2\_q46

Sl. No.47

QBID:8201047

**Read the following passage and answer the following questions that follows:**

A problem with international trade is that it externalizes costs on a grand scale. Tropical hardwood products can be sold extremely cheaply in the United States – as lumber, plywood, shipping pallets, and so on. The environmental costs of producing those hardwood products occur far from the consumer who buys a piece of cheap Brazilian plywood. Making matters worse, the environmental costs of the plywood are usually exported to places where there are few legal controls on pollution and resource extraction. A factory in the United States, for example, is legally bound to minimize its production of air and water pollution. Pollution control can be expensive, and internalizing this cost makes a factory less profitable. A similar factory in Mexico might have far less responsibility for pollution control, making it cheaper, at least in the short term, to produce goods there than in the United States. Ongoing protests in the United States and elsewhere around the world against the World Trade Organization (WTO) and other forces of globalization have been largely about such exporting and externalizing of environmental and social costs of production.

Another criticism of international trade is that the international banking systems that finance it are set up by and for the wealthy countries.

The WTO and GATT are both made up of relationships and agreements between corporations in a few very wealthy countries. Representatives of less powerful countries often charge that these agreements trap poorer regions into the role of suppliers of natural resources – timber, mineral ores, fruit, and cheap labour. These countries are forced to mine their natural capital for only small returns in wealth.

**निम्नलिखित गद्यांश को पढ़िए और नीचे दिए गए प्रश्नों के उत्तर दीजिए :**

अंतर्राष्ट्रीय व्यापार के साथ समस्या यह है कि यह लागत का बड़े पैमाने पर बाहर स्थानांतरण कर देता है। उष्णकटिबंधीय कठोर काष्ठ उत्पादों की अमेरिका में अत्यधिक सस्ते दामों पर बिक्री हो सकती है- जैसे लकड़ी, प्लाईवुड, जहाजी प्रापट्टिका आदि। ऐसे कठोर काष्ठ उत्पादों के उत्पादन की पर्यावरणीय लागत उस उपभोक्ता से बहुत दूर स्थानों पर घटित होती है जो सस्ता ब्राजीली प्लाईवुड का एक टुकड़ा खरीदता है। और जिस बात से स्थिति और अधिक खराब हो जाती है वह यह है कि प्लाईवुड की पर्यावरणीय लागत सामान्यतया ऐसे स्थानों पर हस्तांतरित कर दी जाती है जहां प्रदूषण और संसाधन निष्कर्षण पर बहुत कम कानूनी नियंत्रण है। उदाहरण के रूप में अमेरिका में स्थित फैक्टरी अपने वायु और जल प्रदूषण के न्यूनीकरण के लिए कानूनी रूप से बाध्य है। प्रदूषण नियंत्रण खर्चीला हो सकता है और यह इस लागत को स्वयं वहन करना उस फैक्टरी को कम लाभकारी बना सकता है। इसी तरह की फैक्टरी का मेक्सिको में प्रदूषण नियंत्रण के मामले में कहीं कम उत्तरदायित्व हो सकता है जिससे उसके लिए अमेरिका की तुलना में माल का उत्पादन, कम से कम लघु अवधि में, सस्ता होगा। विश्व व्यापार संगठन (WTO) और भूमंडलीकरण की अन्य शक्तियों के विरुद्ध अमेरिका और दुनिया भर में अन्य स्थानों पर जारी प्रतिवाद मुख्यतया उत्पादन की पर्यावरणीय और सामाजिक लागत के ऐसे निर्यात और स्थानांतरण के विरुद्ध रहे हैं।

अंतर्राष्ट्रीय व्यापार की एक अन्य आलोचना यह है कि इसका वित्तपोषण करने वाली अंतर्राष्ट्रीय बैंकिंग प्रणालियां धनी देशों द्वारा उन्हीं के लिए स्थापित की जाती हैं।

डब्ल्यू टी ओ और जी ए टी टी टी दोनों ही थोड़े से अत्यधिक धनी देशों में स्थित निगमों के बीच के संबंधों और संधियों से बने हैं। कम शक्तिशाली देशों के प्रतिनिधि बहुधा यह आरोप लगाते हैं कि यह संधियां निर्धन क्षेत्रों को लकड़ी, खनिज अयस्क, प्राकृतिक संसाधनों और सस्ते श्रम के आपूर्तिकर्ताओं की भूमिका में फंसा देती है। ये देश संपदा में मात्र अल्पलाभ के लिए अपनी प्राकृतिक पूंजी के दोहन के लिए विवश होते हैं।

Given below are two statements, one is labelled as Assertion (A) and the other is labelled as Reason (R).

Assertion (A): Tropical hardwood products can be sold at very cheap rates in the United States.

Reason (R): Factories in the United States are very efficient in making hardwood products.

In light of the above statements, choose the **most appropriate** answer from the options given below:

1. Both (A) and (R) are correct and (R) is the correct explanation of (A).
2. Both (A) and (R) are correct and (R) is the correct explanation of (A).
3. (A) is correct but (R) is not correct.
4. (A) is not correct but (R) is correct.

(1) 1

(2) 2

(3) 3

(4) 4

नीचे दो कथन दिए गए हैं : एक को अभिकथन (A) और दूसरे को कारण (R) कहा गया है।

अभिकथन (A) : उष्णकटिबंधीय कठोर काष्ठ उत्पादों को अमरीका में अत्यधिक सस्ते दामों पर बेचा जा सकता है।

कारण (R) : अमरीका में फैक्टरियां कठोर काष्ठ उत्पादों के उत्पादन में अत्यधिक कार्यकुशल हैं।

उपर्युक्त कथनों के आलोक में निम्नांकित विकल्पों में से सही उत्तर चुनें :

1. (A) और (R) दोनों सही हैं और (R), (A) की सही व्याख्या है।
2. (A) और (R) दोनों सही हैं परन्तु (R), (A) की सही व्याख्या नहीं है।
3. (A) सही है परन्तु (R) सही नहीं है।
4. (A) सही नहीं है परन्तु (R) सही है।

(1) 1

(2) 2

(3) 3

(4) 4

1[Option ID=33885]

2[Option ID=33886]

3[Option ID=33887]

4[Option ID=33888]

Question Description : dwbv\_pg\_gp8\_eng\_2\_q47

Sl. No.48

QBID:8201048



**Read the following passage and answer the following questions that follows:**

A problem with international trade is that it externalizes costs on a grand scale. Tropical hardwood products can be sold extremely cheaply in the United States – as lumber, plywood, shipping pallets, and so on. The environmental costs of producing those hardwood products occur far from the consumer who buys a piece of cheap Brazilian plywood. Making matters worse, the environmental costs of the plywood are usually exported to places where there are few legal controls on pollution and resource extraction. A factory in the United States, for example, is legally bound to minimize its production of air and water pollution. Pollution control can be expensive, and internalizing this cost makes a factory less profitable. A similar factory in Mexico might have far less responsibility for pollution control, making it cheaper, at least in the short term, to produce goods there than in the United States. Ongoing protests in the United States and elsewhere around the world against the World Trade Organization (WTO) and other forces of globalization have been largely about such exporting and externalizing of environmental and social costs of production.

Another criticism of international trade is that the international banking systems that finance it are set up by and for the wealthy countries.

The WTO and GATT are both made up of relationships and agreements between corporations in a few very wealthy countries. Representatives of less powerful countries often charge that these agreements trap poorer regions into the role of suppliers of natural resources – timber, mineral ores, fruit, and cheap labour. These countries are forced to mine their natural capital for only small returns in wealth.

**निम्नलिखित गद्यांश को पढ़िए और नीचे दिए गए प्रश्नों के उत्तर दीजिए :**

अंतर्राष्ट्रीय व्यापार के साथ समस्या यह है कि यह लागत का बड़े पैमाने पर बाहर स्थानांतरण कर देता है। उष्णकटिबंधीय कठोर काष्ठ उत्पादों की अमेरिका में अत्यधिक सस्ते दामों पर बिक्री हो सकती है- जैसे लकड़ी, प्लाईवुड, जहाजी प्रापट्टिका आदि। ऐसे कठोर काष्ठ उत्पादों के उत्पादन की पर्यावरणीय लागत उस उपभोक्ता से बहुत दूर स्थानों पर घटित होती है जो सस्ता ब्राजीली प्लाईवुड का एक टुकड़ा खरीदता है। और जिस बात से स्थिति और अधिक खराब हो जाती है वह यह है कि प्लाईवुड की पर्यावरणीय लागत सामान्यतया ऐसे स्थानों पर हस्तांतरित कर दी जाती है जहां प्रदूषण और संसाधन निष्कर्षण पर बहुत कम कानूनी नियंत्रण है। उदाहरण के रूप में अमेरिका में स्थित फैक्टरी अपने वायु और जल प्रदूषण के न्यूनीकरण के लिए कानूनी रूप से बाध्य है। प्रदूषण नियंत्रण खर्चीला हो सकता है और यह इस लागत को स्वयं वहन करना उस फैक्टरी को कम लाभकारी बना सकता है। इसी तरह की फैक्टरी का मेक्सिको में प्रदूषण नियंत्रण के मामले में कहीं कम उत्तरदायित्व हो सकता है जिससे उसके लिए अमेरिका की तुलना में माल का उत्पादन, कम से कम लघु अवधि में, सस्ता होगा। विश्व व्यापार संगठन (WTO) और भूमंडलीकरण की अन्य शक्तियों के विरुद्ध अमेरिका और दुनिया भर में अन्य स्थानों पर जारी प्रतिवाद मुख्यतया उत्पादन की पर्यावरणीय और सामाजिक लागत के ऐसे निर्यात और स्थानांतरण के विरुद्ध रहे हैं।

अंतर्राष्ट्रीय व्यापार की एक अन्य आलोचना यह है कि इसका वित्तपोषण करने वाली अंतर्राष्ट्रीय बैंकिंग प्रणालियां धनी देशों द्वारा उन्हीं के लिए स्थापित की जाती हैं।

डब्ल्यू टी ओ और जी ए टी टी टी दोनों ही थोड़े से अत्यधिक धनी देशों में स्थित निगमों के बीच के संबंधों और संधियों से बने हैं। कम शक्तिशाली देशों के प्रतिनिधि बहुधा यह आरोप लगाते हैं कि यह संधियां निर्धन क्षेत्रों को लकड़ी, खनिज अयस्क, प्राकृतिक संसाधनों और सस्ते श्रम के आपूर्तिकर्ताओं की भूमिका में फंसा देती है। ये देश संपदा में मात्र अल्पलाभ के लिए अपनी प्राकृतिक पूंजी के दोहन के लिए विवश होते हैं।

Given below are two statements:

Statement I: Representatives of powerful countries claim that international trade agreements help the poor regions to sell their products.

Statement II: The poor countries sell their natural resources for small gains.

In light of the above statements, choose the *correct* answer from the options given below:

1. Both Statement I and Statement II are true.
2. Both Statement I and Statement II are false.
3. Statement I is true but Statement II is false.
4. Statement I is false but Statement II is true.

(1) 1

(2) 2

(3) 3

(4) 4

नीचे दो कथन दिए गए हैं :

कथन - I : सशक्त देशों के प्रतिनिधियों का दावा है कि अंतर्राष्ट्रीय व्यापार संधियां निर्धन क्षेत्रों को अपने उत्पाद बेचने में सहायता करती हैं।

कथन - II : निर्धन देश थोड़े से लाभ के लिए अपने प्राकृतिक संसाधनों को बेच देते हैं।

उपर्युक्त कथनों के आलोक में निम्नलिखित विकल्पों में से सही उत्तर चुनें :

1. कथन I और II दोनों सही हैं।
2. कथन I और II दोनों गलत हैं।
3. कथन I सही है , किन्तु कथन II गलत है।
4. कथन I गलत है , किन्तु कथन II सही है।

(1) 1

(2) 2

(3) 3

(4) 4

1[Option ID=33889]  
2[Option ID=33890]  
3[Option ID=33891]  
4[Option ID=33892]

Question Description : dwbv\_pg\_gp8\_eng\_2\_q48

SI. No.49  
QBID:8201049

**Read the following passage and answer the following questions that follows:**

A problem with international trade is that it externalizes costs on a grand scale. Tropical hardwood products can be sold extremely cheaply in the United States – as lumber, plywood, shipping pallets, and so on. The environmental costs of producing those hardwood products occur far from the consumer who buys a piece of cheap Brazilian plywood. Making matters worse, the environmental costs of the plywood are usually exported to places where there are few legal controls on pollution and resource extraction. A factory in the United States, for example, is legally bound to minimize its production of air and water pollution. Pollution control can be expensive, and internalizing this cost makes a factory less profitable. A similar factory in Mexico might have far less responsibility for pollution control, making it cheaper, at least in the short term, to produce goods there than in the United States. Ongoing protests in the United States and elsewhere around the world against the World Trade Organization (WTO) and other forces of globalization have been largely about such exporting and externalizing of environmental and social costs of production.

Another criticism of international trade is that the international banking systems that finance it are set up by and for the wealthy countries.

The WTO and GATT are both made up of relationships and agreements between corporations in a few very wealthy countries. Representatives of less powerful countries often charge that these agreements trap poorer regions into the role of suppliers of natural resources – timber, mineral ores, fruit, and cheap labour. These countries are forced to mine their natural capital for only small returns in wealth.

**निम्नलिखित गद्यांश को पढ़िए और नीचे दिए गए प्रश्नों के उत्तर दीजिए :**

अंतर्राष्ट्रीय व्यापार के साथ समस्या यह है कि यह लागत का बड़े पैमाने पर बाहर स्थानांतरण कर देता है। उष्णकटिबंधीय कठोर काष्ठ उत्पादों की अमेरिका में अत्यधिक सस्ते दामों पर बिक्री हो सकती है- जैसे लकड़ी, प्लाईवुड, जहाजी प्रापट्टिका आदि। ऐसे कठोर काष्ठ उत्पादों के उत्पादन की पर्यावरणीय लागत उस उपभोक्ता से बहुत दूर स्थानों पर घटित होती है जो सस्ता ब्राजीली प्लाईवुड का एक टुकड़ा खरीदता है। और जिस बात से स्थिति और अधिक खराब हो जाती है वह यह है कि प्लाईवुड की पर्यावरणीय लागत सामान्यतया ऐसे स्थानों पर हस्तांतरित कर दी जाती है जहां प्रदूषण और संसाधन निष्कर्षण पर बहुत कम कानूनी नियंत्रण है। उदाहरण के रूप में अमेरिका में स्थित फैक्टरी अपने वायु और जल प्रदूषण के न्यूनीकरण के लिए कानूनी रूप से बाध्य है। प्रदूषण नियंत्रण खर्चीला हो सकता है और यह इस लागत को स्वयं वहन करना उस फैक्टरी को कम लाभकारी बना सकता है। इसी तरह की फैक्टरी का मेक्सिको में प्रदूषण नियंत्रण के मामले में कहीं कम उत्तरदायित्व हो सकता है जिससे उसके लिए अमेरिका की तुलना में माल का उत्पादन, कम से कम लघु अवधि में, सस्ता होगा। विश्व व्यापार संगठन (WTO) और भूमंडलीकरण की अन्य शक्तियों के विरुद्ध अमेरिका और दुनिया भर में अन्य स्थानों पर जारी प्रतिवाद मुख्यतया उत्पादन की पर्यावरणीय और सामाजिक लागत के ऐसे निर्यात और स्थानांतरण के विरुद्ध रहे हैं।

अंतर्राष्ट्रीय व्यापार की एक अन्य आलोचना यह है कि इसका वित्तपोषण करने वाली अंतर्राष्ट्रीय बैंकिंग प्रणालियां धनी देशों द्वारा उन्हीं के लिए स्थापित की जाती हैं।

डब्ल्यू टी ओ और जी ए टी टी टी दोनों ही थोड़े से अत्यधिक धनी देशों में स्थित निगमों के बीच के संबंधों और संधियों से बने हैं। कम शक्तिशाली देशों के प्रतिनिधि बहुधा यह आरोप लगाते हैं कि यह संधियां निर्धन क्षेत्रों को लकड़ी, खनिज अयस्क, प्राकृतिक संसाधनों और सस्ते श्रम के आपूर्तिकर्ताओं की भूमिका में फंसा देती है। ये देश संपदा में मात्र अल्पलाभ के लिए अपनी प्राकृतिक पूंजी के दोहन के लिए विवश होते हैं।

Poor countries are suppliers of

- A. timber
- B. mineral ores
- C. machines
- D. fruit
- E. cheap labour

Choose the **correct** answer from the options given below:

- 1. A, B, C and D only
- 2. B, C, D and E only
- 3. A, C, D and E only
- 4. A, B, D and E only

(1) 1

(2) 2

(3) 3

(4) 4

निर्धन देश निम्न में से किसके आपूर्तिकर्ता हैं ?

- A. लकड़ी
- B. खनिज अयस्क
- C. मशीनें
- D. फल
- E. सस्ता श्रम

नीचे दिए गए विकल्पों में से सही उत्तर चुनें :

- 1. केवल A, B, C और D
- 2. केवल B, C, D और E
- 3. केवल A, C, D और E
- 4. केवल A, B, D और E

(1) 1

(2) 2

(3) 3

(4) 4

1[Option ID=33893]  
2[Option ID=33894]  
3[Option ID=33895]  
4[Option ID=33896]

Question Description : dwbv\_pg\_gp8\_eng\_2\_q49

SI. No.50  
QBID:8201050



**Read the following passage and answer the following questions that follows:**

A problem with international trade is that it externalizes costs on a grand scale. Tropical hardwood products can be sold extremely cheaply in the United States – as lumber, plywood, shipping pallets, and so on. The environmental costs of producing those hardwood products occur far from the consumer who buys a piece of cheap Brazilian plywood. Making matters worse, the environmental costs of the plywood are usually exported to places where there are few legal controls on pollution and resource extraction. A factory in the United States, for example, is legally bound to minimize its production of air and water pollution. Pollution control can be expensive, and internalizing this cost makes a factory less profitable. A similar factory in Mexico might have far less responsibility for pollution control, making it cheaper, at least in the short term, to produce goods there than in the United States. Ongoing protests in the United States and elsewhere around the world against the World Trade Organization (WTO) and other forces of globalization have been largely about such exporting and externalizing of environmental and social costs of production.

Another criticism of international trade is that the international banking systems that finance it are set up by and for the wealthy countries.

The WTO and GATT are both made up of relationships and agreements between corporations in a few very wealthy countries. Representatives of less powerful countries often charge that these agreements trap poorer regions into the role of suppliers of natural resources – timber, mineral ores, fruit, and cheap labour. These countries are forced to mine their natural capital for only small returns in wealth.

**निम्नलिखित गद्यांश को पढ़िए और नीचे दिए गए प्रश्नों के उत्तर दीजिए :**

अंतर्राष्ट्रीय व्यापार के साथ समस्या यह है कि यह लागत का बड़े पैमाने पर बाहर स्थानांतरण कर देता है। उष्णकटिबंधीय कठोर काष्ठ उत्पादों की अमेरिका में अत्यधिक सस्ते दामों पर बिक्री हो सकती है- जैसे लकड़ी, प्लाईवुड, जहाजी प्रापट्टिका आदि। ऐसे कठोर काष्ठ उत्पादों के उत्पादन की पर्यावरणीय लागत उस उपभोक्ता से बहुत दूर स्थानों पर घटित होती है जो सस्ता ब्राजीली प्लाईवुड का एक टुकड़ा खरीदता है। और जिस बात से स्थिति और अधिक खराब हो जाती है वह यह है कि प्लाईवुड की पर्यावरणीय लागत सामान्यतया ऐसे स्थानों पर हस्तांतरित कर दी जाती है जहां प्रदूषण और संसाधन निष्कर्षण पर बहुत कम कानूनी नियंत्रण है। उदाहरण के रूप में अमेरिका में स्थित फैक्टरी अपने वायु और जल प्रदूषण के न्यूनीकरण के लिए कानूनी रूप से बाध्य है। प्रदूषण नियंत्रण खर्चीला हो सकता है और यह इस लागत को स्वयं वहन करना उस फैक्टरी को कम लाभकारी बना सकता है। इसी तरह की फैक्टरी का मेक्सिको में प्रदूषण नियंत्रण के मामले में कहीं कम उत्तरदायित्व हो सकता है जिससे उसके लिए अमेरिका की तुलना में माल का उत्पादन, कम से कम लघु अवधि में, सस्ता होगा। विश्व व्यापार संगठन (WTO) और भूमंडलीकरण की अन्य शक्तियों के विरुद्ध अमेरिका और दुनिया भर में अन्य स्थानों पर जारी प्रतिवाद मुख्यतया उत्पादन की पर्यावरणीय और सामाजिक लागत के ऐसे निर्यात और स्थानांतरण के विरुद्ध रहे हैं।

अंतर्राष्ट्रीय व्यापार की एक अन्य आलोचना यह है कि इसका वित्तपोषण करने वाली अंतर्राष्ट्रीय बैंकिंग प्रणालियां धनी देशों द्वारा उन्हीं के लिए स्थापित की जाती हैं।

डब्ल्यू टी ओ और जी ए टी टी टी दोनों ही थोड़े से अत्यधिक धनी देशों में स्थित निगमों के बीच के संबंधों और संधियों से बने हैं। कम शक्तिशाली देशों के प्रतिनिधि बहुधा यह आरोप लगाते हैं कि यह संधियां निर्धन क्षेत्रों को लकड़ी, खनिज अयस्क, प्राकृतिक संसाधनों और सस्ते श्रम के आपूर्तिकर्ताओं की भूमिका में फंसा देती है। ये देश संपदा में मात्र अल्पलाभ के लिए अपनी प्राकृतिक पूंजी के दोहन के लिए विवश होते हैं।

A consumer in the United States buys a cheap Brazilian hardwood product manufactured in Mexico. The environmental costs of the product would occur at

- A. Brazil
- B. Mexico
- C. The United States

Choose the **correct** answer from the options given below:

- 1. A and B only
- 2. B and C only
- 3. A and C only
- 4. A, B and C

(1) 1

(2) 2

(3) 3

(4) 4

अमरीका में एक उपभोक्ता मैक्सिको में विनिर्मित सस्ता ब्राजीली कठोर काष्ठ उत्पाद खरीदता है। इस उत्पाद की पर्यावरणीय लागत कहाँ घटित होगी ?

- A. ब्राजील
- B. मैक्सिको
- C. अमरीका

नीचे दिए गए विकल्पों में से सही उत्तर चुनें :

- 1. केवल A और B
- 2. केवल B और C
- 3. केवल A और C
- 4. A, B और C

(1) 1

(2) 2

(3) 3

(4) 4

1[Option ID=33897]

2[Option ID=33898]

3[Option ID=33899]

4[Option ID=33900]

Question Description : dwbv\_pg\_gp8\_eng\_2\_q50

## Paper II : 8-Commerce

Sl. No.1

QBID:328001

Which of the following is the right description of the "Duty Free Import Authorization (DFIA)" Scheme?

1. Duty free imports of inputs required for export production subject to certain export obligations, as stipulated in the foreign trade policy.
2. Exemption in respect of custom duty, additional duty, education cess and anti-dumping or safeguard duties for inputs used in exports.
3. Import of capital goods at concessional rate of duty subject to an appropriate export obligation accepted by the importer.
4. Grant of credit on post-export basis as specified percentage of F.o.B value of exports made in a freely convertible currency.

- (1) 1  
(2) 2  
(3) 3  
(4) 4

निम्नलिखित में से कौन सी "प्रशुल्क मुक्त आयात प्राधिकार (डी एफ आई ए)" स्कीम की उचित व्याख्या है?

1. विदेशी व्यापार नीति में यथा निर्दिष्ट कतिपय निर्यात अपेक्षाओं के शर्ताधीन निर्यात उत्पादन हेतु मालों का शुल्क मुक्त आयात।
2. निर्यात हेतु उपयोग किए जाने वाले सामानों को सीमा - शुल्क, अतिरिक्त शुल्क, शिक्षा उपकर तथा प्रतिपादन व अन्य प्रशुल्कों से छूट प्रदान करना।
3. आयातक द्वारा स्वीकृत समुचित निर्यात अपेक्षा के अधीन पूंजीगत माल का रियायती दर पर आयात।
4. मुक्तरूप से परिवर्तनीय मुद्रा में किए गए निर्यातों के एफ. ओ. बी. मूल्य को यथाविनिर्दिष्ट प्रतिशत के अनुसार निर्यात - पश्चात, उधारी के रूप में अनुदान।

- (1) 1  
(2) 2  
(3) 3  
(4) 4

1[Option ID=33301]  
2[Option ID=33302]  
3[Option ID=33303]  
4[Option ID=33304]

Question Description : bwlg\_pg\_com\_eng\_2\_q1

SI. No.2  
QBID:328002

An Indian company receiving investment from outside India for issuing shares/convertible debentures/preference shares under the FDI Scheme should report the details of the inflow to the RBI. What is the time limit for reporting these details to RBI?

1. Within 10 days from the date of receipt
2. Within 15 days from the date of receipt
3. Within 30 days from the date of receipt
4. Within 45 days from the date of receipt

- (1) 1  
(2) 2  
(3) 3  
(4) 4

कोई भारतीय कंपनी जिसमें एफ डी आई स्कीम के अंतर्गत शेयर/परिवर्तनीय डिबेंचर/ पूर्वाधिकार शेयर जारी करने के लिए भारत के बाहर से निवेश किया गया हो, उसे निवेश प्रवाह का विवरण आर.बी.आई को प्रस्तुत करना चाहिए। इन विवरणों को आर.बी.आई. को प्रस्तुत करने की समय -सीमा क्या है ?

1. प्राप्ति की तिथि से 10 दिनों के भीतर
2. प्राप्ति की तिथि से 15 दिनों के भीतर
3. प्राप्ति की तिथि से 30 दिनों के भीतर
4. प्राप्ति की तिथि से 45 दिनों के भीतर

- (1) 1  
(2) 2  
(3) 3  
(4) 4

1[Option ID=33305] Question Description : bwlg\_pg\_com\_eng\_2\_q2  
2[Option ID=33306]  
3[Option ID=33307]  
4[Option ID=33308]

SI. No.3  
QBID:328003

Which one of the following theories of attitude change states that changes in opinions can result in to an attitude change?

1. Balance Theory
2. Cognitive Consistency Theory
3. Reinforcement Theory
4. Cognitive Dissonance Theory

- (1) 1  
(2) 2  
(3) 3  
(4) 4

अभिवृत्ति परिवर्तन के निम्नलिखित में से किस सिद्धांत में यह कहा गया है कि विचार के परिवर्तन से अभिवृत्ति की परिणति होती है ?

1. संतुलन का सिद्धांत
2. संज्ञानात्मक - सामंजस्य का सिद्धांत
3. पुनर्बलन का सिद्धांत
4. संज्ञानात्मक असंगति का सिद्धांत

- (1) 1  
(2) 2  
(3) 3  
(4) 4

1[Option ID=33309] Question Description : bwlg\_pg\_com\_eng\_2\_q3  
2[Option ID=33310]  
3[Option ID=33311]  
4[Option ID=33312]

SI. No.4  
QBID:328004

According to Porter's diamond, which of the following is NOT a factor of national competitive advantage?

1. Relating and supporting industry
2. Firm strategy, structure and rivalry
3. Bargaining power of buyers
4. Demand conditions

- (1) 1



- (2) 2  
(3) 3  
(4) 4

पोर्टर के हीरक के अनुसार, निम्नलिखित में से कौन सा राष्ट्रीय प्रतिस्पर्धा लाभ का कारक नहीं है ?

1. संबंधित एवं सहायक उद्योग
2. कंपनी की रणनीति, संरचना एवं स्पर्धा
3. क्रेताओं की सौदेकारी शक्ति
4. माँग की दशाएँ

- (1) 1  
(2) 2  
(3) 3  
(4) 4

1[Option ID=33313] Question Description : bwlg\_pg\_com\_eng\_2\_q4  
2[Option ID=33314]  
3[Option ID=33315]  
4[Option ID=33316]

Sl. No.5  
QBID:328005

X and Y are partners sharing profits and losses in the ratio of 3 : 2. They admit Z as a new partner with 1/5 share in the profits. Calculate the new profit sharing ratio of the partners.

1. 12 : 8 : 5
2. 12 : 8 : 6
3. 12 : 7 : 6
4. 12 : 3 : 7

- (1) 1  
(2) 2  
(3) 3  
(4) 4

X और Y लाभ और हानि में 3 : 2 के अनुपात में हिस्सेदार हैं। वे Z को एक नए साझेदार के रूप में शामिल करते हैं जिसका लाभ में 1/5 हिस्सा है। साझेदारों के लाभ में हिस्सेदारी के नए अनुपात की गणना कीजिए।

1. 12 : 8 : 5
2. 12 : 8 : 6
3. 12 : 7 : 6
4. 12 : 3 : 7

- (1) 1  
(2) 2  
(3) 3  
(4) 4

1[Option ID=33317] Question Description : bwlg\_pg\_com\_eng\_2\_q5  
2[Option ID=33318]  
3[Option ID=33319]  
4[Option ID=33320]

Sl. No.6  
QBID:328006

At the break-even point, contribution is equal to

1. Variable cost
2. Profit
3. Fixed cost
4. Sales

- (1) 1  
(2) 2  
(3) 3  
(4) 4

सम - विच्छेद बिंदु पर अंशदान निम्नलिखित में से किसके समान होता है ?

1. परिवर्ती लागत
2. लाभ
3. स्थिर लागत
4. बिक्री

- (1) 1  
(2) 2  
(3) 3  
(4) 4

1[Option ID=33321]  
2[Option ID=33322]  
3[Option ID=33323]  
4[Option ID=33324]

Question Description : bwlg\_pg\_com\_eng\_2\_q6

Sl. No.7  
QBID:328007

Which one of the following is NOT true?

1. Capital expenditure results in extra capacity
2. Capital expenditure results in a benefit which will last for a long time
3. Capital expenditure results in the acquisition of a permanent asset
4. Heavy expenditure on advertisement campaigns in order to introduce a new product in the market

- (1) 1  
(2) 2  
(3) 3  
(4) 4

निम्नलिखित में से कौन सा एक सही नहीं है ?

1. पूंजीगत व्यय के परिणामस्वरूप अतिरिक्त क्षमता बनती है
2. पूंजीगत व्यय के परिणामस्वरूप दीर्घकालिक लाभ होता है
3. पूंजीगत व्यय के परिणामस्वरूप स्थायी आस्ति का अधिग्रहण होता है
4. बाजार में किसी नए उत्पाद का प्रवेश कराने के लिए विज्ञापन अभियान पर भारी व्यय

- (1) 1  
(2) 2  
(3) 3  
(4) 4

1[Option ID=33325]  
2[Option ID=33326]  
3[Option ID=33327]  
4[Option ID=33328]

Question Description : bwlg\_pg\_com\_eng\_2\_q7

SI. No.8  
QBID:328008

As per the information given below, what is the correct material yield variance ?

Standard input = 100 kg

Standard yield = 90 kg

Standard cost per kg of output = Rs.20

Actual input = 200 kg

Actual yield = 182 kg

Actual cost per kg of output = Rs.19

1. Rs 40 (Favourable)
2. Rs 400 (Favourable)
3. Rs 400 (Unfavourable)
4. Rs 38 (Favourable)

- (1) 1  
(2) 2  
(3) 3  
(4) 4

नीचे दी गई सूचना से सही सामग्री उत्पाद (यिल्ड) विचलन क्या है ?

मानक आगत = 100 कि ग्रा

मानक उत्पाद प्राप्ति = 90 कि ग्रा

उत्पाद की प्रति किग्रा मानक लागत = 20 रुपये

वास्तविक आगत = 200 कि ग्रा

वास्तविक प्राप्ति = 182 कि ग्रा

उत्पाद की प्रति किग्रा वास्तविक लागत = 19 रुपये

1. Rs 40 (अनुकूल)
2. Rs 400 (अनुकूल)
3. Rs 400 (प्रतिकूल)
4. Rs 38 (अनुकूल)

- (1) 1  
(2) 2  
(3) 3  
(4) 4

1[Option ID=33329] Question Description : bwlg\_pg\_com\_eng\_2\_q8  
2[Option ID=33330]  
3[Option ID=33331]  
4[Option ID=33332]

SI. No.9  
QBID:328009

When the negative income effect overwhelms the positive substitution effect so much that the demand curve is positively sloped, the commodity in consumption is described as;

1. Normal good
2. Inferior good
3. Giffen good
4. Luxury good

- (1) 1
- (2) 2
- (3) 3
- (4) 4

जब नकारात्मक आय प्रभाव, सकारात्मक प्रतिस्थापन प्रभाव पर इतना भारी पड़ता है कि मांग वक्ररेखा सकारात्मक रूप से ऊपर की ओर जाती है तो उपभोज्य वस्तु को किस तरह वर्णित किया जाता है ?

- 1. सामान्य वस्तु
- 2. घटिया वस्तु
- 3. गिफेन वस्तु
- 4. विलासिता की वस्तु

- (1) 1
- (2) 2
- (3) 3
- (4) 4

1[Option ID=33333] Question Description : bwlg\_pg\_com\_eng\_2\_q9  
2[Option ID=33334]  
3[Option ID=33335]  
4[Option ID=33336]

Sl. No.10  
QBID:328010

In the extreme case of perfect price discrimination, the entire consumer surplus in the market goes:

- 1. to consumers
- 2. to monopoly producer
- 3. as deadweight loss
- 4. to capital

- (1) 1
- (2) 2
- (3) 3
- (4) 4

पूर्ण मूल्य विभेदीकरण के दूरस्थ मामले में बाजार में संपूर्ण उपभोक्ता अतिरिक्त निम्नलिखित में से किसे प्राप्त होता है ?

- 1. उपभोक्ताओं को
- 2. एकाधिपत्य उत्पादक को
- 3. डेडवेट क्षति के तौर पर निस्तारण
- 4. पूंजी को

- (1) 1
- (2) 2
- (3) 3
- (4) 4

1[Option ID=33337] Question Description : bwlg\_pg\_com\_eng\_2\_q10  
2[Option ID=33338]  
3[Option ID=33339]  
4[Option ID=33340]

Sl. No.11  
QBID:328011

A situation, in which economic actors interacting with one another, each choose their best strategy, given the strategies that all the other actors have chosen, is called

1. Nash equilibrium
2. Prisoners' dilemma
3. Dominant strategy
4. Predatory strategy

- (1) 1  
(2) 2  
(3) 3  
(4) 4

एक ऐसी स्थिति, जिसमें आर्थिक ईकाइयां पारस्परिक क्रिया द्वारा अन्य ईकाइयों की रणनीतियों के समझने के उपरांत अपनी सर्वश्रेष्ठ रणनीति का चुनाव करती हैं, उसे कहा जाता है :

1. नैश संतुलन
2. प्रिजनर्स (कैदी) की दुविधा
3. प्रभावशाली रणनीति
4. लोलुप रणनीति

- (1) 1  
(2) 2  
(3) 3  
(4) 4

1[Option ID=33345]  
2[Option ID=33346]  
3[Option ID=33347]  
4[Option ID=33348]

Question Description : bwlg\_pg\_com\_eng\_2\_q11

SI. No.12  
QBID:328012

In the Cobb- Douglas production function,  $Q = AK^aL^b$ , where 'a' and 'b' are output elasticities of capital and labour, respectively. If  $a + b > 1$ , the underlying return to scale will be

1. increasing
2. decreasing
3. constant
4. linear

- (1) 1  
(2) 2  
(3) 3  
(4) 4

कॉब डग्लस उत्पादन फलन में  $Q = AK^aL^b$  जहां क्रमशः पूंजी एवम् श्रम की उत्पाद लोचनीयता 'a' और 'b' है। यदि  $a + b > 1$ , तब स्केल हेतु अधःस्थ प्रतिफल होगा :

1. बढ़ता हुआ
2. घटता हुआ
3. स्थिर
4. रेखीय

- (1) 1  
(2) 2  
(3) 3

(4) 4

1[Option ID=33349] Question Description : bwlg\_pg\_com\_eng\_2\_q12  
2[Option ID=33350]  
3[Option ID=33351]  
4[Option ID=33352]

SI. No.13  
QBID:328013

Which one of the following institutions is not a part of the World Bank Group?

1. International Bank for Reconstruction and Development (IBRD)
2. International Development Association (IDA)
3. Multilateral Investment Guarantee Agency (MIGA)
4. The Bank for International Settlements (BIS)

(1) 1

(2) 2

(3) 3

(4) 4

निम्नलिखित में से कौन सी संस्था विश्व बैंक समूह का भाग नहीं है?

1. इंटरनेशनल बैंक फॉर रिकंस्ट्रक्शन एंड डेवलपमेंट (आई बी आर डी)
2. इंटरनेशनल डेवलपमेंट एसोसिएशन (आई डी ए)
3. मल्टीलेटरल इन्वेस्टमेंट गारंटी एजेंसी (एम आई जी ए)
4. बैंक फॉर इंटरनेशनल सैटलमेंट (बी आई एस)

(1) 1

(2) 2

(3) 3

(4) 4

1[Option ID=33353] Question Description : bwlg\_pg\_com\_eng\_2\_q13  
2[Option ID=33354]  
3[Option ID=33355]  
4[Option ID=33356]

SI. No.14  
QBID:328014

According to the traditional approach, what is the effect of increase in degree of leverage on the valuation of a firm?

1. Increases
2. Decreases
3. Remains unaffected
4. Increases first and then decreases

(1) 1

(2) 2

(3) 3

(4) 4

परंपरागत अभिगम के अनुसार, किसी फर्म के मूल्यांकन पर उत्तोलन शक्ति की डिग्री में वृद्धि का क्या प्रभाव होता है?

1. इसमें वृद्धि होती है।
2. इसमें कमी आती है।
3. यह प्रभावित नहीं होता है।
4. पहले इसमें वृद्धि होती है और फिर कमी आती है।

(1) 1

(2) 2

(3) 3

(4) 4

1[Option ID=33357] Question Description : bwlg\_pg\_com\_eng\_2\_q14  
2[Option ID=33358]  
3[Option ID=33359]  
4[Option ID=33360]

Sl. No.15  
QBID:328015

An economic enterprise requires 90,000 units of certain item annually. The cost per unit is Rs 3. The cost per purchase order is Rs 300 and the inventory carrying cost is Rs 6 per unit per year. What is EOQ?

1. 3000 units
2. 1500 units
3. 6000 units
4. 4500 units

(1) 1

(2) 2

(3) 3

(4) 4

एक आर्थिक उद्यम को प्रतिवर्ष कतिपय मद की 90,000 यूनिटों की आवश्यकता होती है। प्रति यूनिट लागत 3 रुपये है। प्रतिक्रय आदेश की लागत 300 रुपये है और स्टॉक में रखने की लागत 6 रुपये प्रति यूनिट प्रति वर्ष है। आर्थिक आदेश मात्रा (ई ओ क्यू) कितना है?

1. 3000 यूनिट
2. 1500 यूनिट
3. 6000 यूनिट
4. 4500 यूनिट

(1) 1

(2) 2

(3) 3

(4) 4

1[Option ID=33361] Question Description : bwlg\_pg\_com\_eng\_2\_q15  
2[Option ID=33362]  
3[Option ID=33363]  
4[Option ID=33364]

Sl. No.16  
QBID:328016

Dell Ltd. has Rs 100 preference shares redeemable at a premium of 10% with 15 years maturity. The coupon rate is 12%; the flotation cost is 5% and the sale price is Rs 95. Calculate the cost of preference shares and select the correct option.

1. 12%
2. 12.67%
3. 13 %
4. 13.33%

(1) 1

(2) 2

(3) 3

(4) 4

डेल लि. के पास 100 रुपये के अधिमानी शेयर हैं जिनका 15 वर्षीय परिपक्वता के साथ 10 % प्रीमियम पर मोचन किया जा सकता है। कूपन दर 12 % है और तिराना लागत 5 % है। विक्रय मूल्य 95 रुपये है। अधिमानी शेयरो की लागत की गणना कीजिए और सही विकल्प चुनिए।

1. 12 %
2. 12.67 %
3. 13 %
4. 13.33 %

- (1) 1  
(2) 2  
(3) 3  
(4) 4

1[Option ID=33365] Question Description : bwlg\_pg\_com\_eng\_2\_q16  
2[Option ID=33366]  
3[Option ID=33367]  
4[Option ID=33368]

SI. No.17  
QBID:328017

Which of the following is not a characteristic of normal distribution?

1. The mean of the normal distribution may be negative or positive
2. For any normal random variable  $x$ ,  $P(x \leq \mu) = P(x \geq \mu) = 0.50$
3. For every pair of values  $\mu$  and  $\sigma$ , the curve of the distribution is bell-shaped and symmetric
4. The kurtosis of the distribution is always less than 3

- (1) 1  
(2) 2  
(3) 3  
(4) 4

निम्नलिखित में से कौन-सी सामान्य बंटन की विशेषता नहीं है?

1. साधारण बंटन का माध्य नकारात्मक या सकारात्मक हो सकता है।
2. किसी भी साधारण यादृच्छिक चर  $x$  के लिए  $P(x \leq \mu) = P(x \geq \mu) = 0.50$
3.  $\mu$  और  $\sigma$  मानों के प्रत्येक युग्म के लिए बंटन की वक्र रेखा घंटी के आकार की ओर समरूप होती है।
4. बंटन की बारंबारता (ककुदता) हमेशा 3 से कम होती है।

- (1) 1  
(2) 2  
(3) 3  
(4) 4

1[Option ID=33369] Question Description : bwlg\_pg\_com\_eng\_2\_q17  
2[Option ID=33370]  
3[Option ID=33371]  
4[Option ID=33372]

SI. No.18  
QBID:328018

For a Poisson distribution  $P(x) = \frac{e^{-5}(5)^2}{2!}$  the mean value is

1. 2
2. 5
3. 10
4. 25

- (1) 1



- (2) 2  
(3) 3  
(4) 4

पायशन के बंटन  $P(x) = \frac{e^{-5}(5)^x}{x!}$  के लिए माध्य मान होता है :

1. 2  
2. 5  
3. 10  
4. 25

- (1) 1  
(2) 2  
(3) 3  
(4) 4

1[Option ID=33373] Question Description : bwlg\_pg\_com\_eng\_2\_q18  
2[Option ID=33374]  
3[Option ID=33375]  
4[Option ID=33376]

SI. No.19  
QBID:328019

Which of the following is used to assess the relationship between two ordinal variables ?

1. Spearman's rho  
2. Phi  
3. Cramer's V  
4. Chi-square

- (1) 1  
(2) 2  
(3) 3  
(4) 4

दो क्रमसूचक चरों के मध्य संबंध का निर्धारण करने के लिए निम्नलिखित में से किसका प्रयोग किया जाता है ?

1. स्पीयरमैन का आर एच ओ (rho)  
2. पी एच आई (Phi)  
3. क्रैमर का वी (v)  
4. काई स्क्वायर (Chi - square)

- (1) 1  
(2) 2  
(3) 3  
(4) 4

1[Option ID=33377] Question Description : bwlg\_pg\_com\_eng\_2\_q19  
2[Option ID=33378]  
3[Option ID=33379]  
4[Option ID=33380]

SI. No.20  
QBID:328020

A "Spurious" relationship between two variables is expressed as :

1. An apparent relationship that is so curious that it demands further attention.
2. A relationship that appears to be true because each variable is related to a third one.
3. One that is so ridiculously illogical that it cannot be possibly true.
4. One that produces a perfect negative correlation on a scatter diagram.

- (1) 1  
(2) 2  
(3) 3  
(4) 4

दो चरों के बीच किसी "स्पूरियस" संबंध को निम्नानुसार व्यक्त किया जाता है :

1. एक स्पष्ट संबंध जो इतना असाधारण होता है कि इस पर पुनः ध्यान देने की आवश्यकता होती है।
2. एक ऐसा संबंध जो सही प्रतीत होता है क्योंकि प्रत्येक चर किसी तीसरे चर से संबंधित होता है।
3. एक ऐसा संबंध जो इतना हास्यास्पद रूप से असंगत होता है कि वह संभवतः सही नहीं हो सकता है।
4. एक ऐसा संबंध जो प्रकीर्ण आरेख पर नकारात्मक सह - संबंध बनाता है।

- (1) 1  
(2) 2  
(3) 3  
(4) 4

1[Option ID=33381]  
2[Option ID=33382]  
3[Option ID=33383]  
4[Option ID=33384]

Question Description : bwlg\_pg\_com\_eng\_2\_q20

Sl. No.21  
QBID:328021

Which one of the following motives characterizes dominant organizational climate of clubs?

1. Extension
2. Affiliation
3. Dependency
4. Achievement

- (1) 1  
(2) 2  
(3) 3  
(4) 4

निम्नलिखित अभिप्रेरकों में से कौन सा एक क्लब के प्रमुख संघटनात्मक परिवेश की विशेषता बताता है ?

1. विस्तारण
2. संबंधन
3. निर्भरता
4. उपलब्धि

- (1) 1  
(2) 2  
(3) 3  
(4) 4

1[Option ID=33385]  
2[Option ID=33386]  
3[Option ID=33387]  
4[Option ID=33388]

Question Description : bwlg\_pg\_com\_eng\_2\_q21

SI. No.22  
QBID:328022

Which one of the following is the description of Ego Regression Mechanism?

1. Returning to a previous stage of psyche development
2. Avoiding unacceptable emotions by focusing on the intellectual aspects
3. Taking out impulses on a less threatening target
4. Pulling into the unconscious situation

- (1) 1  
(2) 2  
(3) 3  
(4) 4

निम्नलिखित में से कौन सा एक अहम् (Ego) प्रतिगमन प्रणाली का वर्णन है ?

1. मनोविकास की पूर्वावस्था पर वापस आ जाना।
2. बौद्धिक पहलुओं पर केंद्रित होकर अस्वीकार्य संवेगों का परिहार करना।
3. न्यून जोखिम लक्ष्यों पर से आवेगों को दूर करना।
4. अचेतन प्रवस्था की ओर ले जाना।

- (1) 1  
(2) 2  
(3) 3  
(4) 4

1[Option ID=33389]  
2[Option ID=33390]  
3[Option ID=33391]  
4[Option ID=33392]

Question Description : bwlq\_pg\_com\_eng\_2\_q22

SI. No.23  
QBID:328023

Which one of the following is not an advantage of organization structure by product in a manufacturing company?

1. Places attention and effort on product line
2. Requires less persons with general managerial abilities
3. Improves coordination of functional activities
4. Permits growth and diversity of products

- (1) 1  
(2) 2  
(3) 3  
(4) 4

निम्नलिखित में से कौन सा एक विनिर्माण कंपनी में उत्पाद के माध्यम से संगठन संरचना का लाभ नहीं है?

1. ध्यान और प्रयास को उत्पाद रेखा पर रखता है।
2. सामान्य प्रबंधन योग्यता वाले कम व्यक्तियों की आवश्यकता होती है।
3. प्रकार्यात्मक गतिविधियों के समन्वयन में सुधार होता है।
4. उत्पादों के विकास और विविधता को बढ़ावा देता है।

- (1) 1  
(2) 2  
(3) 3  
(4) 4

1[Option ID=33393]  
2[Option ID=33394]  
3[Option ID=33395]  
4[Option ID=33396]

Question Description : bwlq\_pg\_com\_eng\_2\_q23

SI. No.24  
QBID:328024

Which one of the following is not an assumption under the McGregor's Theory Y?

1. The degree of commitment to objectives is in proportion to the size of the rewards associated with their achievement.
2. Under the conditions of modern industrial life, the intellectual potentialities of the average human being are only partially utilized.
3. External control and the threat of punishment are the only means for producing effort towards organizational objectives.
4. Average human beings learn, under proper conditions, not only to accept responsibility but also to seek it.

- (1) 1  
(2) 2  
(3) 3  
(4) 4

निम्नलिखित में से कौन सी एक मैक ग्रेगर के सिद्धांत वाई के अंतर्गत पूर्वधारण नहीं है?

1. उपलब्धि से संबंधित प्रतिफलों के आकार के अनुपात में उद्देश्यों हेतु प्रतिबद्धता की मात्रा होती है।
2. आधुनिक औद्योगिक जीवन की स्थितियों के अंतर्गत औसत मानव की बौद्धिक संपदाएं आंशिक तौर से उपयोग में लायी जा पाती है।
3. बाह्य नियंत्रण और दंड का भय संगठनात्मक उद्देश्यों के प्रति प्रयत्न बढ़ाने का एकमात्र साधन है।
4. समुचित स्थितियों के अंतर्गत औसत मानव ना केवल जिम्मेदारियों को स्वीकार करता है बल्कि इसे चाहता भी है।

- (1) 1  
(2) 2  
(3) 3  
(4) 4

1[Option ID=33397]  
2[Option ID=33398]  
3[Option ID=33399]  
4[Option ID=33400]

Question Description : bwlg\_pg\_com\_eng\_2\_q24

SI. No.25  
QBID:328025

The minimum capital requirement for a life insurance company in India is :

1. Rs 300 crores
2. Rs 200 crores
3. Rs 500 crores
4. Rs 100 crores

- (1) 1  
(2) 2  
(3) 3  
(4) 4

भारत में जीवन बीमा कंपनी को कितनी न्यूनतम पूंजी की आवश्यकता है?

1. 300 करोड़ रु
2. 200 करोड़ रु
3. 500 करोड़ रु
4. 100 करोड़ रु

- (1) 1  
(2) 2  
(3) 3  
(4) 4

1[Option ID=33401]  
2[Option ID=33402]  
3[Option ID=33403]  
4[Option ID=33404]

Question Description : bwlg\_pg\_com\_eng\_2\_q25

SI. No.26  
QBID:328026

Universal banks that function as investment banks in India are regulated by :

1. SEBI
2. RBI
3. Ministry of Finance
4. IRDA

- (1) 1  
(2) 2  
(3) 3  
(4) 4

भारत में निवेश बैंक के रूप में कार्य करने वाले सार्वभौमिक बैंकों का किसके द्वारा विनियमन किया जाता है ?

1. सेबी
2. आर.बी.आई
3. वित्त मंत्रालय
4. इरडा

- (1) 1  
(2) 2  
(3) 3  
(4) 4

1[Option ID=33405]  
2[Option ID=33406]  
3[Option ID=33407]  
4[Option ID=33408]

Question Description : bwlg\_pg\_com\_eng\_2\_q26

SI. No.27  
QBID:328027

When the RBI desires to restrict expansion of credit, it :

1. increases the bank rate
2. decreases the bank rate
3. decreases the CRR for banks
4. decreases the SLR for banks

- (1) 1  
(2) 2  
(3) 3  
(4) 4

जब आर बी आई ऋण का विस्तार परिसीमित करना चाहता है तो यह :

1. बैंक दर में वृद्धि करता है।
2. बैंक दर घटाता है।
3. बैंकों के लिए सी आर आर में कमी करता है।
4. बैंकों के लिए एस एल आर कम करता है।

- (1) 1  
(2) 2  
(3) 3

(4) 4

1[Option ID=33409] Question Description : bwlg\_pg\_com\_eng\_2\_q27  
2[Option ID=33410]  
3[Option ID=33411]  
4[Option ID=33412]

SI. No.28  
QBID:328028

Which of the following refers to default-risk intermediation?

1. Borrowing short-term funds from savers and making long-term loans to borrowers
2. Making loans to risky borrowers by attracting savings from the savers who are risk-averse
3. Using information gathering skills of the intermediary
4. Pooling small amounts of savings from individuals to give loans to others

(1) 1

(2) 2

(3) 3

(4) 4

निम्नलिखित में से कौन सा बकाया - जोखिम मध्यस्थता को संदर्भित करता है?

1. बचतकर्ताओं से लघुकालिक निधियां उधार लेना और उधार लेने वालों को दीर्घकालिक ऋण देना।
2. उन बचतकर्ताओं से बचत आकर्षित कर, जोखिम उधार प्राप्तकर्ता को ऋण देना, जो जोखिम - विमुख है।
3. मध्यस्थ के सूचना एकत्र करने के कौशल का उपयोग करना।
4. अन्य को ऋण देने के लिए व्यक्तिगत बचतों की लघु राशियां एकत्र करना।

(1) 1

(2) 2

(3) 3

(4) 4

1[Option ID=33413] Question Description : bwlg\_pg\_com\_eng\_2\_q28  
2[Option ID=33414]  
3[Option ID=33415]  
4[Option ID=33416]

SI. No.29  
QBID:328029

The knowledge and courtesy of employees and their ability to convey trust and confidence indicates which of the following?

1. Responsiveness
2. Assurance
3. Empathy
4. Reliability

(1) 1

(2) 2

(3) 3

(4) 4

क्रमिकों का ज्ञान और नम्रता तथा भरोसे और आत्मविश्वास को व्यक्त करने की योग्यता, निम्नलिखित किस भाव की ओर संकेत करता है?

1. अनुक्रियाशीलता
2. आश्वासन
3. समानुभूति
4. विश्वसनीयता

(1) 1

- (2) 2
- (3) 3
- (4) 4

1[Option ID=33417] Question Description : bwlg\_pg\_com\_eng\_2\_q29  
2[Option ID=33418]  
3[Option ID=33419]  
4[Option ID=33420]

SI. No.30  
QBID:328030

Which of the following is not true about rural markets?

1. Growth opportunities in rural markets are driving companies to them.
2. Information and communication technology are the drivers of change in rural markets.
3. Socioeconomic changes are yet to happen to rural markets.
4. Rural consumers shop for grocery, apparels, consumer durables of agri-inputs in nearby urban shops.

- (1) 1
- (2) 2
- (3) 3
- (4) 4

निम्नलिखित में कौन सा ग्रामीण बाजारों के बारे में सही नहीं है ?

1. ग्रामीण बाजारों में विकास के अवसर कंपनियों को अपनी तरफ आकर्षित कर रहे हैं।
2. सूचना और संचार प्रौद्योगिकी ग्रामीण बाजारों में बदलाव के लिए उत्तरदायी है।
3. सामाजिक-आर्थिक बदलाव अभी ग्रामीण बाजारों में होना बाकी है।
4. ग्रामीण उपभोक्ता किराना, कपड़े, टिकाऊ उपभोक्ता वस्तुएं और कृषि आगतों की खरीददारी नजदीक के शहरी दुकानों से करते हैं।

- (1) 1
- (2) 2
- (3) 3
- (4) 4

1[Option ID=33421] Question Description : bwlg\_pg\_com\_eng\_2\_q30  
2[Option ID=33422]  
3[Option ID=33423]  
4[Option ID=33424]

SI. No.31  
QBID:328031

"Manufacturers of razors and cameras often price these products low and set high mark ups on razor blades and films."

As per the above statement, manufacturers of razors and cameras are using which one of the following ?

1. Captive-product pricing
2. Two-part pricing
3. Product-bundling pricing
4. By-product pricing

- (1) 1
- (2) 2
- (3) 3
- (4) 4

" रेजर और कैमरों के निर्माता इन उत्पादों के मूल्य को कम रखते हैं जबकि रेजर ब्लेड और फिल्म पर मूल्य अधिक रखते हैं"

उपरोक्त कथन के अनुसार रेजर और कैमरा के निर्माता निम्न में से किसको उपयोग में ला रहे हैं ?

1. बंधुआ - उत्पाद मूल्यन को
2. द्वि - भाग मूल्यन को
3. उत्पाद - समूहकारक (बंडलिंग) मूल्यन को
4. उपोत्पाद मूल्यन को

- (1) 1  
(2) 2  
(3) 3  
(4) 4

1[Option ID=33425]      Question Description : bwlq\_pg\_com\_eng\_2\_q31  
2[Option ID=33426]  
3[Option ID=33427]  
4[Option ID=33428]

SI. No.32  
QBID:328032

A vertical marketing system (VMS) combining successive stages of production and distribution under single ownership, is known as:

1. Corporate VMS
2. Administered VMS
3. Contractual VMS
4. Conventional VMS

- (1) 1  
(2) 2  
(3) 3  
(4) 4

एकल स्वामित्व के अंतर्गत उत्पादन और वितरण की अनुक्रमिक अवस्थाओं वाली एक ऊर्ध्वाधर विपणन प्रणाली (वी एम एस) किस रूप में जानी जाती है ?

1. निगमित वी एम एस
2. प्रशासित वी एम एस
3. संविदात्मक वी एम एस
4. अभिसामयिक वी एम एस

- (1) 1  
(2) 2  
(3) 3  
(4) 4

1[Option ID=33429]      Question Description : bwlq\_pg\_com\_eng\_2\_q32  
2[Option ID=33430]  
3[Option ID=33431]  
4[Option ID=33432]

SI. No.33  
QBID:328033



The act of throwing on board cargo and other things from the ship to safeguard it from total loss in times of peril is called :

1. Jettisoning
2. Moral hazards
3. Consequential peril
4. Reverse indemnity

(1) 1

(2) 2

(3) 3

(4) 4

आपदा काल में सम्पूर्ण हानि से सुरक्षीपाय हेतु जहाज पर से माल (कार्गो) और अन्य दूसरी वस्तुओं को फेंक देने का कार्य कहलाता है :

1. जेटीस्त्रिंग
2. नैतिक संकट
3. परिणामी आपदा
4. प्रतिवर्ती क्षतिपूर्ति

(1) 1

(2) 2

(3) 3

(4) 4

1[Option ID=33433]

2[Option ID=33434]

3[Option ID=33435]

4[Option ID=33436]

Question Description : bwlg\_pg\_com\_eng\_2\_q33

Sl. No.34

QBID:328034

The right to 'stoppage in transit' exercised by an unpaid seller is to

1. recover price
2. retain possession
3. regain possession
4. recover damages

(1) 1

(2) 2

(3) 3

(4) 4

किसी अदत्त (अनपेड) विक्रेता द्वारा 'पारगमन में अवरोध' करने का अधिकार किस लिए होता है?

1. कीमत प्राप्त करने
2. स्वामित्व सुरक्षित रखने
3. स्वामित्व को पुनः प्राप्त करने
4. नुकसान की पूर्ति करने

(1) 1

(2) 2

(3) 3

(4) 4

1[Option ID=33437]

2[Option ID=33438]

3[Option ID=33439]

4[Option ID=33440]

Question Description : bwlg\_pg\_com\_eng\_2\_q34

Sl. No.35  
QBID:328035

Which one among the following is the duty of the Central Assistant Public Information Officer or a State Assistant Public Information Officer?

1. To receive the applications for information or appeals under the RTI Act for forwarding the same forthwith to the CPIO/SPIO
2. To receive the fee for the RTI applications
3. To assist the CPIO/SPIO in furnishing the reply to the applicant
4. To ensure that RTI applications are replied within the prescribed period

- (1) 1  
(2) 2  
(3) 3  
(4) 4

निम्नलिखित में से कौनसा केंद्रीय सहायक जन सूचना अधिकारी अथवा राज्य सहायक जन सूचना अधिकारी का कर्तव्य है?

1. आर टी आई अधिनियम के अंतर्गत सूचना अथवा अपील के लिए आवेदनों को प्राप्त करना एवं उसे केंद्रीय जन सूचना अधिकारी अथवा राज्य जन सूचना अधिकारी को अग्रेषित करना।
2. आर टी आई आवेदनों के लिए शुल्क प्राप्त करना।
3. आवेदक को उत्तर भेजने में सी पी आई ओ/ एस पी आई ओ को सहायता प्रदान करना।
4. यह सुनिश्चित करना कि आर टी आई आवेदनों के उत्तर विनिर्दिष्ट समय अवधि के भीतर दिए जाएँ।

- (1) 1  
(2) 2  
(3) 3  
(4) 4

1[Option ID=33441] Question Description : bwlg\_pg\_com\_eng\_2\_q35  
2[Option ID=33442]  
3[Option ID=33443]  
4[Option ID=33444]

Sl. No.36  
QBID:328036

The relationship between a bank and its customers is basically that of :

1. Debtor and Creditor
2. Trustee and Beneficiary
3. Principal and Agent
4. Drawer and Payee

- (1) 1  
(2) 2  
(3) 3  
(4) 4

बैंक और इसके उपभोक्ताओं के बीच का संबंध मुख्यतया किस प्रकार का होता है ?

1. ऋणी और ऋणदाता का
2. न्यासी और हिताधिकारी का
3. मालिक और अभिकर्ता का
4. प्राहरणकर्ता और आदाता का

- (1) 1  
(2) 2  
(3) 3

(4) 4

1[Option ID=33445] Question Description : bwlg\_pg\_com\_eng\_2\_q36  
2[Option ID=33446]  
3[Option ID=33447]  
4[Option ID=33448]

SI. No.37  
QBID:328037

Provisions of the *Vivad se Vishwas Act, 2020* does not apply in respect of tax arrears relating to which one of the following ?

1. an assessment year in respect of which prosecution has been instituted on or before the date of filing of declaration
2. any income from agricultural land in India
3. Section 10(3) dealing with tax deductions
4. assessments under Section 80 GI of the Act

(1) 1  
(2) 2  
(3) 3  
(4) 4

विवाद से विश्वास अधिनियम 2020 के उपबंध निम्न में से किस बकाया कर के संबंध में लागू नहीं होते हैं ?

1. उस मूल्यांकन वर्ष के संबंध में जिसके लिए घोषणा की तिथि को अथवा उससे पूर्व अभियोजन शुरू किया गया है।
2. कोई आय जिसका संबंध भारत में कृषि-योग्य भूमि से है।
3. कर की कटौती से संबंधित धारा 10(3) के संबंध में।
4. अधिनियम की धारा 80 जी आई के अंतर्गत निर्धारण के संबंध में।

(1) 1  
(2) 2  
(3) 3  
(4) 4

1[Option ID=33449] Question Description : bwlg\_pg\_com\_eng\_2\_q37  
2[Option ID=33450]  
3[Option ID=33451]  
4[Option ID=33452]

SI. No.38  
QBID:328038

Under Section 80TTB of the Income Tax Act, which amount of benefits is available to senior citizens on account of interest income from deposits with banks or post-office or cooperative banks?

1. Rs 50,000
2. Rs. 1,00,000
3. Rs. 75,000
4. Rs. 1,50,000

(1) 1  
(2) 2  
(3) 3  
(4) 4

आयकर अधिनियम की धारा 80 टी टी बी के अंतर्गत, वरिष्ठ नागरिक को बैंकों, डाकघर अथवा सहकारी बैंकों से उनकी जमाओं पर ब्याज आय लाभ किस सीमा राशि तक उपलब्ध है ?

1. ₹50,000
2. ₹1,00,000
3. ₹75,000
4. ₹1,50,000

- (1) 1
- (2) 2
- (3) 3
- (4) 4

1[Option ID=33453] Question Description : bwlg\_pg\_com\_eng\_2\_q38  
2[Option ID=33454]  
3[Option ID=33455]  
4[Option ID=33456]

SI. No.39  
QBID:328039

Provisional Input Tax Credit can be utilised against

- 1. Any tax liability
- 2. Self-assessed tax liability
- 3. Differential income tax gains
- 4. Fine

- (1) 1
- (2) 2
- (3) 3
- (4) 4

अंतरिम निवेश कर क्रेडिट (प्रोविजनल इनपुट टैक्स क्रेडिट) किसके लिए प्रयुक्त होता है ?

- 1. किसी प्रकार की कर देयता हेतु।
- 2. स्व आँकलित कर देयता हेतु।
- 3. विभेदक आय कर लाभ हेतु।
- 4. जुर्माना हेतु।

- (1) 1
- (2) 2
- (3) 3
- (4) 4

1[Option ID=33457] Question Description : bwlg\_pg\_com\_eng\_2\_q39  
2[Option ID=33458]  
3[Option ID=33459]  
4[Option ID=33460]

SI. No.40  
QBID:328040

Penalty for late filing of the Income Tax Return for individuals under the Income Tax Act, 1961 is up to a maximum of amount of :

- 1. Rs 10,000
- 2. Rs 25,00,000
- 3. 10% of Gross Total Income
- 4. 2% of Tax liability

- (1) 1
- (2) 2
- (3) 3
- (4) 4

किसी व्यक्ति पर आयकर अधिनियम 1961 के अंतर्गत आयकर रिटर्न को देरी से जमा करने पर दंड की अधिकतम सीमा है:-

1. ₹10,000
2. ₹25,00,000
3. सकल कुल आय का 10%
4. कर देयता का 2%

(1) 1

(2) 2

(3) 3

(4) 4

1[Option ID=33461] Question Description : bwlg\_pg\_com\_eng\_2\_q40  
2[Option ID=33462]  
3[Option ID=33463]  
4[Option ID=33464]

SI. No.41  
QBID:328041

Revenue expenditure of the Central government includes

- A. Debt relief to farmers
- B. Subsidy for fertilizers
- C. Grants to states
- D. Central plan allocations for rural development
- E. Central plan allocation for irrigation and flood control

Choose the **correct** answer from the options given below:

1. A, B and E only
2. A, C and D only
3. C, D and E only
4. A, B and C only

(1) 1

(2) 2

(3) 3

(4) 4

केंद्र सरकार के राजस्व व्यय में निम्नलिखित में से कौन-कौन शामिल है ?

- A. किसानों को ऋण से राहत
- B. उर्वरकों पर राज सहायता
- C. राज्यों को अनुदान
- D. ग्रामीण विकास के लिए केंद्रीय योजनाओं पर आवंटन
- E. सिंचाई और बाढ़ नियंत्रण के लिए केंद्रीय योजना सहायता

नीचे दिए गए विकल्पों में से सही उत्तर का चयन कीजिए :

1. केवल A, B और E
2. केवल A, C और D
3. केवल C, D और E
4. केवल A, B और C

- (1) 1
- (2) 2
- (3) 3
- (4) 4

1[Option ID=33465] Question Description : bwlg\_pg\_com\_eng\_2\_q41  
2[Option ID=33466]  
3[Option ID=33467]  
4[Option ID=33468]

SI. No.42  
QBID:328042

Exchange depreciation rate of one currency in relation to another currency is, approximately, equal to their

- A. Inflation rate differential
- B. Interest rate differential
- C. Growth rate differential
- D. Fiscal deficit differential
- E. Forex reserve differential

Choose the **correct** answer from the options given below:

- 1. A, B and C only
- 2. C, D and E only
- 3. A and B only
- 4. D and E only

- (1) 1
- (2) 2
- (3) 3
- (4) 4

किसी मुद्रा का दूसरी मुद्रा के संबंध में विनिमय मूल्य हास दर अनुमानतः निम्नलिखित में से किस - किस के समान है ?

- A. मुद्रास्फीति दर विभेद
- B. ब्याज दर विभेद
- C. आर्थिक वृद्धि दर विभेद
- D. राजकोषीय घाटा विभेद
- E. विदेशी मुद्रा भंडार विभेद

नीचे दिए गए विकल्पों में से सही उत्तर चुनें :

- 1. केवल A, B और C
- 2. केवल C, D और E
- 3. केवल A और B
- 4. केवल D और E

- (1) 1
- (2) 2
- (3) 3
- (4) 4

1[Option ID=33469] Question Description : bwlg\_pg\_com\_eng\_2\_q42  
2[Option ID=33470]  
3[Option ID=33471]  
4[Option ID=33472]

SI. No.43  
QBID:328043

Which of the following activities are included under investing activities in the Cash Flow Statement?

- A. Cash receipts from disposal of fixed assets (including intangible)
- B. Cash advances and loans made to third parties (other than advances and loans made by a financial enterprise)
- C. Cash receipts from repayment of advances and loans made to third parties (other than advances and loans of a financial enterprise)
- D. Cash repayments of amount borrowed
- E. Cash payments to suppliers for goods and services

Choose the **correct** answer from the options given below:

- 1. A, B and C only
- 2. C, D and E only
- 3. C and D only
- 4. A, C and D only

- (1) 1
- (2) 2
- (3) 3
- (4) 4

निम्नलिखित में से कौन - कौन से क्रियाकलाप नकदी प्रवाह विवरणी के अंतर्गत निवेश क्रियाकलापों में शामिल होते हैं ?

- A. नियत आस्तियों (अगोचर सहित) के निपटान से नकद प्राप्तियां
- B. तृतीय पक्ष को दिए गए नकदी अग्रिम व ऋण (वित्तीय उपक्रम द्वारा प्रदत्त अग्रिम व ऋण से इतर)
- C. तृतीय पक्ष से अग्रिम व ऋण की अदायगी से नकद प्राप्तियां (वित्तीय उपक्रम के अग्रिम व ऋण से इतर)
- D. ऋण की अदायगी के लिए नकद भुगतान
- E. माल व सेवाओं के लिए आपूर्तिकर्ताओं को नकद भुगतान

नीचे दिए गए विकल्पों में से सही उत्तर चुनें :

- 1. केवल A, B और C
- 2. केवल C, D और E
- 3. केवल C और D
- 4. केवल A, C और D

- (1) 1
- (2) 2
- (3) 3
- (4) 4

1[Option ID=33473] Question Description : bwlg\_pg\_com\_eng\_2\_q43  
2[Option ID=33474]  
3[Option ID=33475]  
4[Option ID=33476]

SI. No.44  
QBID:328044

Identify cost drivers used in Activity Based Costing from the following:

- A. Volume
- B. Transaction
- C. Intensity
- D. Currency
- E. Duration

Choose the **correct** answer from the options given below:

- 1. A, B and C only
- 2. C, D and E only
- 3. A, C and D only
- 4. B, C and E only

(1) 1

(2) 2

(3) 3

(4) 4

गतिविधि आधारित लागत निर्धारण में प्रयुक्त लागत प्रेरक (ड्राइवर) को निम्नलिखित में से पहचानिए :-

- A. आयतन (वॉल्यूम)
- B. लेन - देन
- C. तीक्ष्णता
- D. मुद्रा
- E. अवधि

नीचे दिए गए विकल्पों में से सही उत्तर का चयन कीजिए :

- 1. केवल A, B और C
- 2. केवल C, D और E
- 3. केवल A, C और D
- 4. केवल B, C और E

(1) 1

(2) 2

(3) 3

(4) 4

1[Option ID=33477]

2[Option ID=33478]

3[Option ID=33479]

4[Option ID=33480]

Question Description : bwlg\_pg\_com\_eng\_2\_q44

SI. No.45

QBID:328045



Increasing returns to scale arise because as the scale of operation increases it causes

- A. more division of labour and specialisation
- B. productive utilisation of machinery
- C. lower procurement and logistic costs
- D. more difficulties in managing firm effectively
- E. more economies in advertising

Choose the **correct** answer from the options given below:

- 1. A, B and C only
- 2. C, D and E only
- 3. A, B, C and D only
- 4. A, B, C and E only

(1) 1

(2) 2

(3) 3

(4) 4

उत्पाद के बढ़ते प्रतिफल में बढ़ोत्तरी होती है क्योंकि जैसे ही प्रचालन का स्तर बढ़ता है, इससे-

- A. श्रम में विभाजन और विशिष्टीकरण अधिक होता है
- B. मशीनरी का उत्पादन में बेहतर उपयोग होता है
- C. प्रापण और संभार - तंत्र की लागत कम है
- D. फर्म के प्रभावी प्रबंधन में और अधिक दिक्कतें आती हैं
- E. विज्ञापन में अधिक बचत होती है

नीचे दिए गए विकल्पों में से सही उत्तर चुनें :

- 1. केवल A, B और C
- 2. केवल C, D और E
- 3. केवल A, B, C और D
- 4. केवल A, B, C और E

(1) 1

(2) 2

(3) 3

(4) 4

1[Option ID=33481]

2[Option ID=33482]

3[Option ID=33483]

4[Option ID=33484]

Question Description : bwlg\_pg\_com\_eng\_2\_q45

SI. No.46

QBID:328046

Consumer rationality implies which of the following assumptions?

- A. Non-satiety of needs
- B. Transitivity of preferences
- C. Cardinal measurement
- D. Selfish economic motive
- E. Ordinal measurement

Choose the **correct** answer from the options given below:

- 1. A and B only
- 2. C and D only
- 3. A, C and E only
- 4. A, B and D only

(1) 1

(2) 2

(3) 3

(4) 4

उपभोक्ता बौद्धिकता किन धारणाओं की ओर इंगित करती है :-

- A. आवश्यकताओं की अतृप्ति
- B. वरीयताओं की संक्रामिता
- C. संख्यासूचक मापक
- D. स्वार्थपूर्ण आर्थिक प्रयोजन
- E. क्रमसूचक मापक

नीचे दिए गए विकल्पों में से सही उत्तर चुनें :

- 1. केवल A और B
- 2. केवल C और D
- 3. केवल A, C और E
- 4. केवल A, B और D

(1) 1

(2) 2

(3) 3

(4) 4

1[Option ID=33485]

2[Option ID=33486]

3[Option ID=33487]

4[Option ID=33488]

Question Description : bwlg\_pg\_com\_eng\_2\_q46

Sl. No.47

QBID:328047

Which of the following relationships raise presumptions of undue influence?

- A. Parent and child
- B. Doctor and patient
- C. Husband and wife
- D. Fiance and fiancée
- E. Creditor and debtor

Choose the **correct** answer from the options given below:

- 1. A, B and C only
- 2. A, B and D only
- 3. A, B and E only
- 4. B, C and D only

(1) 1

(2) 2

(3) 3

(4) 4

निम्नलिखित किस संबंध द्वारा अनुचित दबाव की धारणाएं उत्पन्न होती हैं?

- A. माता - पिता और बच्चा
- B. डाक्टर और मरीज़
- C. पति और पत्नि
- D. वाग्दत्त और वाग्दत्ता
- E. ऋणदाता और ऋणी

नीचे दिए गए विकल्पों में से सही उत्तर चुनें :

- 1. केवल A, B और C
- 2. केवल A, B और D
- 3. केवल A, B और E
- 4. केवल B, C और D

(1) 1

(2) 2

(3) 3

(4) 4

1[Option ID=33489]

2[Option ID=33490]

3[Option ID=33491]

4[Option ID=33492]

Question Description : bwlg\_pg\_com\_eng\_2\_q47

Sl. No.48

QBID:328048

The Internal Rate of Return (IRR) method offer which of the following advantages?

- A. It recognises the time value of money
- B. It is consistent with the shareholders' profit-maximization objective also
- C. It considers all cash flows occurring over the entire life of the project
- D. It generally gives the same acceptance rule as the NPV method
- E. It considers all positive NPV over the entire life of the project

Choose the **correct** answer from the options given below:

- 1. A, B and C only
- 2. B, C and E only
- 3. A, B, C and D only
- 4. A, D and E only

(1) 1

(2) 2

(3) 3

(4) 4

प्रतिफल की आंतरिक दर (आई आर आर) विधि निम्नलिखित में से कौन से लाभ प्रदान करती है :

- A. यह मुद्रा के समय मूल्य को मान्य करती है।
- B. यह शेयरधारकों के लाभ के इष्टतमीकरण के उद्देश्य से भी सुसंगत है।
- C. यह परियोजना की समूची अवधि के दौरान के सभी नकद प्रवाह पर विचार करती है।
- D. सामान्यतया इसका स्वीकार्यता नियम वही है जो एन पी वी विधि का है।
- E. यह परियोजना की समूची अवधि के दौरान सभी धनात्मक निवल वर्तमान मूल्य (NPV) पर विचार करती हैं।

नीचे दिए गए विकल्पों में से सही उत्तर चुनें :

- 1. केवल A, B और C
- 2. केवल B, C और E
- 3. केवल A, B, C और D
- 4. केवल A, D और E

(1) 1

(2) 2

(3) 3

(4) 4

1[Option ID=33493]

2[Option ID=33494]

3[Option ID=33495]

4[Option ID=33496]

Question Description : bwlg\_pg\_com\_eng\_2\_q48

SI. No.49

QBID:328049

Which of the following are the off-balance sheet source(s) of finance?

- A. Securitisation
- B. Factoring
- C. Forfaiting
- D. Operational lease
- E. Credit rating

Choose the **correct** answer from the options given below:

- 1. A and E only
- 2. B, C and E only
- 3. A, B and C only
- 4. A, B, C and D only

(1) 1

(2) 2

(3) 3

(4) 4

निम्नलिखित में से कौन - कौन से वित्त के तुलन पत्र से इतर स्रोत हैं ?

- A. प्रतिभूतिकरण
- B. लेनदारी लेखा - क्रय
- C. फॉरफेिटिंग
- D. प्रचालन पट्टा
- E. साख कोटिनिर्धारण

नीचे दिए गए विकल्पों में से सही उत्तर चुनें :

- 1. केवल A और E
- 2. केवल B, C और E
- 3. केवल A, B और C
- 4. केवल A, B, C और D

(1) 1

(2) 2

(3) 3

(4) 4

1[Option ID=33497]

2[Option ID=33498]

3[Option ID=33499]

4[Option ID=33500]

Question Description : bwlg\_pg\_com\_eng\_2\_q49

SI. No.50

QBID:328050

Which of the following factors influence portfolio beta?

- A. Portfolio size
- B. Investment longevity
- C. Trading volume
- D. Return interval (weekly vs. monthly)
- E. Portfolio leverage

Choose the **correct** answer from the options given below:

- 1. A, B and C only
- 2. B, C and D only
- 3. D and E only
- 4. A, B, C and D only

(1) 1

(2) 2

(3) 3

(4) 4

निम्नलिखित में से कौन से कारक पोर्टफोलियो बीटा को प्रभावित करते हैं ?

- A. पोर्टफोलियो आकार
- B. निवेश की अवधि
- C. व्यापार मात्रा
- D. प्रतिफल अंतराल (साप्ताहिक बनाम मासिक)
- E. पोर्टफोलियो उत्तोलन

नीचे दिए गए विकल्पों में से सही उत्तर चुनें :

- 1. केवल A, B और C
- 2. केवल B, C और D
- 3. केवल D और E
- 4. केवल A, B, C और D

(1) 1

(2) 2

(3) 3

(4) 4

1[Option ID=33501]

2[Option ID=33502]

3[Option ID=33503]

4[Option ID=33504]

Question Description : bwlg\_pg\_com\_eng\_2\_q50

Sl. No.51

QBID:328051

A contract of life insurance is a/an

- A. Indemnity
- B. Wagering agreement
- C. Contingent agreement
- D. Assurance
- E. Guarantee

Choose the **correct** answer from the options given below:

- 1. A, C and E only
- 2. A and D only
- 3. B, C and E only
- 4. C and D only

(1) 1

(2) 2

(3) 3

(4) 4

जीवनबीमा का अनुबंध निम्न में से क्या - क्या है ?

- A. क्षतिपूर्ति
- B. बाज़ी करार
- C. संभाव्य करार
- D. आश्वासन
- E. गारंटी

नीचे दिए गए विकल्पों में से सही उत्तर चुनें :

- 1. केवल A, C और E
- 2. केवल A और D
- 3. केवल B, C और E
- 4. केवल C और D

(1) 1

(2) 2

(3) 3

(4) 4

1[Option ID=33505]

2[Option ID=33506]

3[Option ID=33507]

4[Option ID=33508]

Question Description : bwlg\_pg\_com\_eng\_2\_q51

Sl. No.52

QBID:328052



Which of the following statements are rightly expressed in relation to statistical testing?

- A. When the expected frequencies are too small, the value of  $\chi^2$  will be overestimated and will result in too many rejections of the null-hypothesis
- B. Mann-Whitney test assumes that population is normal
- C. Kruskal-Wallis test is similar to one-way analysis of variance
- D. The homogeneity of variance means that the test is concerned with the hypothesis that the identical means came from the same population
- E. Student's t-Distribution is by definition normal

Choose the **correct** answer from the options given below:

- 1. A, B and D only
- 2. B, C and D only
- 3. A, C and E only
- 4. C and D only

- (1) 1
- (2) 2
- (3) 3
- (4) 4

निम्नलिखित में से कौन सा वाक्य सांख्यिकीय परीक्षण के संदर्भ में सही है ?

- A. जब अपेक्षित बारंबारताएं अत्यंत लघु हो तो  $\chi^2$  का मान अति प्राक्कलित हो जाएगा जिसके फलस्वरूप शून्य परिकल्पना को अनेकानेक बार खारिज किया जाएगा
- B. मन्न-व्हिटने परीक्षण का आशय है कि जनसंख्या सामान्य है
- C. क्रुसकल - वालिस परीक्षण चल के एक-मार्गी विचलन विश्लेषण के समान है
- D. विचलन की एकरूपता का यह आशय है कि परीक्षण का संबंध इस परिकल्पना से है कि समरूप माध्य एक ही जनसंख्या से आये हैं।
- E. छात्र का टी-बंटन परिभाषिक तौर पर सामान्य है

नीचे दिए गए विकल्पों में से सही उत्तर चुनें :

- 1. केवल A, B और D
- 2. केवल B, C और D
- 3. केवल A, C और E
- 4. केवल C और D

- (1) 1
- (2) 2
- (3) 3
- (4) 4

1[Option ID=33509] Question Description : bwlg\_pg\_com\_eng\_2\_q52  
2[Option ID=33510]  
3[Option ID=33511]  
4[Option ID=33512]

Sl. No.53  
QBID:328053



Which of the following are distinctive characteristics of the Performing stage of the Group Building Process?

- A. The Group gains its identity
- B. Leadership is shared
- C. Disengagement from relationships
- D. Group morale is high
- E. Group loyalty is intense

Choose the **correct** answer from the options given below:

- 1. A and B only
- 2. B and C only
- 3. A, D and E only
- 4. C, D and E only

(1) 1

(2) 2

(3) 3

(4) 4

समूह निर्माण प्रक्रिया के निष्पादन (परफॉर्मिंग) अवस्था की निम्नलिखित कौन-कौन सी सुस्पष्ट विशेषताएँ हैं ?

- A. समूह अपनी पहचान स्थापित करता है।
- B. नेतृत्व साझा होता है।
- C. संबंधों से मुक्ति पाना।
- D. समूह का मनोबल उच्च होता है।
- E. समूह की निष्ठा प्रबल होती है।

नीचे दिए गए विकल्पों में से सही उत्तर चुनें :

- 1. केवल A और B
- 2. केवल B और C
- 3. केवल A, D और E
- 4. केवल C, D और E

(1) 1

(2) 2

(3) 3

(4) 4

1[Option ID=33513]

2[Option ID=33514]

3[Option ID=33515]

4[Option ID=33516]

Question Description : bwlg\_pg\_com\_eng\_2\_q53

SI. No.54

QBID:328054

Which of the following are characteristic quadrants of the BCG matrix ?

- A. Cash cows
- B. Question mark
- C. White Elephant
- D. Crown Jewel
- E. Dogs

Choose the **correct** answer from the options given below:

- 1. A, B and E only
- 2. A, C and D only
- 3. B, C and E only
- 4. C, D and E only

(1) 1

(2) 2

(3) 3

(4) 4

निम्न में से कौन विशेषणात्मक कोष्टक, BCG मैट्रिक्स के हिस्से हैं।

- A. कामधेनु गाय
- B. प्रश्न चिन्ह
- C. सफ़ेद हाथी
- D. ताज रत्न
- E. डॉग्स

नीचे दिए गए विकल्पों में से सही उत्तर चुनें :

- 1. केवल A, B और E
- 2. केवल A, C और D
- 3. केवल B, C और E
- 4. केवल C, D और E

(1) 1

(2) 2

(3) 3

(4) 4

1[Option ID=33517]

2[Option ID=33518]

3[Option ID=33519]

4[Option ID=33520]

Question Description : bwlg\_pg\_com\_eng\_2\_q54

SI. No.55

QBID:328055



The following tools are used for forecasting the supply of inside candidates for human resource planning

- A. Scatter Plot
- B. Personnel replacement charts
- C. Managerial judgement
- D. Markov Analysis
- E. Trend Analysis

Choose the **correct** answer from the options given below:

- 1. A and C only
- 2. C, D and E only
- 3. B, C and E only
- 4. B and D only

(1) 1

(2) 2

(3) 3

(4) 4

मानव संसाधन नियोजन हेतु आंतरिक अभ्यर्थियों की आपूर्ति के पूर्वानुमान के लिए निम्नलिखित साधनों का उपयोग किया जाता है

- A. प्रकीर्ण आलेख
- B. वैयक्तिक प्रतिस्थापन चार्ट
- C. प्रबंधकीय निर्णय
- D. मारकोव विश्लेषण
- E. प्रवणता विश्लेषण

नीचे दिए गए विकल्पों में से सही उत्तर चुनें :

- 1. केवल A और C
- 2. केवल C, D और E
- 3. केवल B, C और E
- 4. केवल B और D

(1) 1

(2) 2

(3) 3

(4) 4

1[Option ID=33521]

2[Option ID=33522]

3[Option ID=33523]

4[Option ID=33524]

Question Description : bwlg\_pg\_com\_eng\_2\_q55

SI. No.56

QBID:328056

Which of the following statements are correct?

- A. NEFT allows the customer to transfer funds with a maximum limit of Rs 3,00,000 per day
- B. IMPS allows to transfer funds in an Insta Payment Mode
- C. The minimum limit to transfer funds via RTGS is Rs 2,50,000
- D. Instant Real Time Payment System developed by National Payment Corporation of India is UPI
- E. For clearing of cheques under Positive Pay System (PPS), the minimum limit is Rs 50,000

Choose the **correct** answer from the options given below:

- 1. B and D only
- 2. C and E only
- 3. A and B only
- 4. C and D only

(1) 1

(2) 2

(3) 3

(4) 4

निम्नलिखित में से कौन से कथन सही हैं ?

- A. नेफ्ट (एनईएफटी) ग्राहक को प्रतिदिन ₹3,00,000 की अधिकतम सीमा तक धनराशि के अंतरण की अनुमति देता है।
- B. आई एम पी एस एक इंस्टा पेमेंट मोड में धनराशि से अंतरण की अनुमति देता है।
- C. आरटीजीएस के माध्यम से धनराशि के अंतरण की न्यूनतम सीमा ₹ 2,50,000 रुपए है।
- D. नेशनल पेमेंट कॉरपोरेशन ऑफ इंडिया द्वारा विकसित किया गया इंस्टेंट रियल टाइम पेमेंट सिस्टम यूपीआई है।
- E. पॉजिटिव पे सिस्टम (पी पी एस) के अंतर्गत चेकों के संशोधन की न्यूनतम सीमा ₹50,000 है।

नीचे दिए गए विकल्पों में से सही उत्तर चुनें :

- 1. केवल B और D
- 2. केवल C और E
- 3. केवल A और B
- 4. केवल C और D

(1) 1

(2) 2

(3) 3

(4) 4

1[Option ID=33525]

2[Option ID=33526]

3[Option ID=33527]

4[Option ID=33528]

Question Description : bwlg\_pg\_com\_eng\_2\_q56

Sl. No.57

QBID:328057

Which of the following statements are correctly expressed in relation to capital and credit flows?

- A. Theoretically, regulators of financial markets believe that increasing capital requirements on banks could reduce the likelihood of their failure
- B. Open financial markets are solely influenced by the currency rate movements
- C. Financial inflow reflects the net flow of capital into one country in the form of increased purchases of domestic assets by foreigners
- D. Tier II Capital for banks include Perpetual Debt Instruments
- E. Only private banks in India have implemented Basel III guidelines

Choose the **correct** answer from the options given below:

- 1. C, D and E only
- 2. B, C and E only
- 3. A, C and D only
- 4. A and B only

- (1) 1
- (2) 2
- (3) 3
- (4) 4

निम्न में पूंजी व साख के प्रवाह के संबंध में कौन से कथन सही हैं ?

- A. सिद्धांततः वित्तीय बाजारों के नियामकों का मानना है कि बैंकों की पूंजी आवश्यकताओं को बढ़ा कर विफलता की सम्भावना को घटाया जा सकता है।
- B. खुले वित्तीय बाजार केवल मुद्रा दर संचलन द्वारा प्रभावित होते हैं।
- C. किसी देश के कुल पूंजी प्रभाव को वित्तीय आमद विदेशियों द्वारा घरेलू परिसंपत्तियों की बढ़ती खरीद के रूप में प्रतिबिम्बित करता है।
- D. बैंकों के लिए टियर II पूंजी में बेमियादी ऋण लिखत शामिल हैं।
- E. भारत में केवल निजी बैंकों ने बेसिल III दिशा-निर्देशों को लागू किया है।

नीचे दिए गए विकल्पों में से सही उत्तर चुनें :

- 1. केवल C, D और E
- 2. केवल B, C और E
- 3. केवल A, C और D
- 4. केवल A और B

- (1) 1
- (2) 2
- (3) 3
- (4) 4

1[Option ID=33529]  
2[Option ID=33530]  
3[Option ID=33531]  
4[Option ID=33532]

Question Description : bwlg\_pg\_com\_eng\_2\_q57

SI. No.58  
QBID:328058

Holistic marketing recognizes that a broad integrated perspective is necessary. Which of the following are the components of Holistic marketing?

- A. Direct marketing
- B. Relationship marketing
- C. Internal marketing
- D. Socially responsible marketing
- E. Green marketing

Choose the **correct** answer from the options given below:

- 1. B and C only
- 2. B, C and D only
- 3. A, B and C only
- 4. C, D and E only

(1) 1

(2) 2

(3) 3

(4) 4

साकल्यवादी विपणन एक व्यापक और एकीकृत दृष्टिकोण की आवश्यकता को मान्यता प्रदान करता है। निम्नलिखित में से कौन-कौन साकल्यवादी विपणन के घटक हैं ?

- A. प्रत्यक्ष विपणन
- B. संबद्धकारी विपणन
- C. आंतरिक विपणन
- D. सामाजिक रूप से उत्तरदायी विपणन
- E. हरित विपणन (ग्रीन मार्केटिंग)

नीचे दिए गए विकल्पों में से सही उत्तर चुनें :

- 1. केवल B और C
- 2. केवल B, C और D
- 3. केवल A, B और C
- 4. केवल C, D और E

(1) 1

(2) 2

(3) 3

(4) 4

1[Option ID=33533]

2[Option ID=33534]

3[Option ID=33535]

4[Option ID=33536]

Question Description : bwlg\_pg\_com\_eng\_2\_q58

Sl. No.59

QBID:328059

Which of the following statements are true for Direct Marketing?

- A. Direct marketing is an interactive mode of marketing
- B. Direct marketing model is based on Network marketing and multi-cultural marketing
- C. Globalisation of markets and the internet have facilitated the growth of direct marketing
- D. Future of direct marketing in India is independent of use of debit and credit cards
- E. Direct marketing activities are not location specific

Choose the **correct** answer from the options given below:

- 1. A and B only
- 2. B, C and D only
- 3. A, C and E only
- 4. A, C, D and E only

(1) 1

(2) 2

(3) 3

(4) 4

प्रत्यक्ष विपणन (डायरेक्ट मार्केटिंग) के संदर्भ में निम्नलिखित कथनों में से कौन सही है ?

- A. प्रत्यक्ष विपणन एक दूसरे को प्रभावित करने वाली विपणन पद्धति है।
- B. प्रत्यक्ष विपणन मॉडल नेटवर्क मार्केटिंग और मल्टीकल्चरल मार्केटिंग पर आधारित है।
- C. बाजारों का वैश्वीकरण और इंटरनेट ने प्रत्यक्ष विपणन को गति देने में सहायता की है।
- D. भारत में प्रत्यक्ष विपणन का भविष्य डेबिट और क्रेडिट कार्डों के उपयोग से अप्रभावित है।
- E. प्रत्यक्ष विपणन की गतिविधियाँ स्थान-विशिष्ट नहीं होती हैं।

नीचे दिए गए विकल्पों में से सही उत्तर चुनें :

- 1. केवल A और B
- 2. केवल B, C और D
- 3. केवल A, C और E
- 4. केवल A, C, D और E

(1) 1

(2) 2

(3) 3

(4) 4

1[Option ID=33537]

2[Option ID=33538]

3[Option ID=33539]

4[Option ID=33540]

Question Description : bwlg\_pg\_com\_eng\_2\_q59

Sl. No.60

QBID:328060

An ideal advertisement (ad) campaign would ensure that

- A. The ad motivates consumers to consider purchases of the brand
- B. The ad gives maximum possible product knowledge to the customer
- C. The ad causes the consumer to pay attention but does not distract from the intended message
- D. The ad properly reflects the consumer's level of understanding and behaviours with the product and the brand
- E. The right consumer is exposed to the right message at the right place and at the right time

Choose the **correct** answer from the options given below:

- 1. A, B and E only
- 2. C, D and E only
- 3. A, B, C and D only
- 4. A, C, D and E only

(1) 1

(2) 2

(3) 3

(4) 4

आदर्श विज्ञापन अभियान यह सुनिश्चित करेगा कि-

- A. विज्ञापन उपभोक्ताओं को उनके ब्रांड को खरीदने पर विचार करने को प्रेरित करता है।
- B. विज्ञापन उपभोक्ता को संभावित उत्पाद की इष्टतम जानकारी उपलब्ध कराता है।
- C. विज्ञापन उपभोक्ता को आकर्षित होने को प्रेरित तो करता है परंतु आशयित संदेश को ओझल नहीं होने देता।
- D. विज्ञापन उपभोक्ताओं के उत्पाद और उसके ब्रांड की समझ और संव्यवहार के स्तर को सही रूप से दर्शाता है।
- E. एक सही उपभोक्ता सही संदेश से सही स्थान और सही समय पर अवगत होता है।

नीचे दिए गए विकल्पों में से सही उत्तर चुनें :

- 1. केवल A, B और E
- 2. केवल C, D और E
- 3. केवल A, B, C और D
- 4. केवल A, C, D और E

(1) 1

(2) 2

(3) 3

(4) 4

1[Option ID=33541]

2[Option ID=33542]

3[Option ID=33543]

4[Option ID=33544]

Question Description : bwlg\_pg\_com\_eng\_2\_q60

Sl. No.61

QBID:328061



The Information Technology Act, 2000 in India provides legal recognition to which of the following?

- A. Electronic books of accounts in banks
- B. Electronic commerce
- C. Electronic negotiable instrument
- D. Electronic signature
- E. Electronic sale and conveyance of immovable property

Choose the **correct** answer from the options given below:

- 1. A, B and C only
- 2. C, D and E only
- 3. B, D and E only
- 4. A, B and D only

(1) 1

(2) 2

(3) 3

(4) 4

भारत में सूचना प्रौद्योगिकी अधिनियम, 2000 निम्नलिखित में से किसे कानूनी मान्यता प्रदान करता है ?

- A. बैंकों में इलैक्ट्रॉनिक लेखा पुस्तिकाओं
- B. इलैक्ट्रॉनिक वाणिज्य
- C. इलैक्ट्रॉनिक परक्राम्य लिखत
- D. इलैक्ट्रॉनिक हस्ताक्षर
- E. इलैक्ट्रॉनिक विक्रय और अचल संपत्ति का हस्तांतरण

नीचे दिए गए विकल्पों में से सही उत्तर चुनें :

- 1. केवल A, B और C
- 2. केवल C, D और E
- 3. केवल B, D और E
- 4. केवल A, B और D

(1) 1

(2) 2

(3) 3

(4) 4

1[Option ID=33545]

2[Option ID=33546]

3[Option ID=33547]

4[Option ID=33548]

Question Description : bwlg\_pg\_com\_eng\_2\_q61

SI. No.62

QBID:328062

To make the resolution process faster and maximize the realisable value of assets under Insolvency and Bankruptcy Code (IBC), the Parliamentary Standing Committee has recommended strengthening India's insolvency resolution ecosystem by

- A. A professional code of conduct for the committee of creditors
- B. Constitution of specialized National Company Law Tribunals (NCLT) benches to hear IBC matters
- C. Strengthening the role of resolution professionals
- D. Digitising IBC platforms
- E. Strengthening and promotion of Asset Reconstruction Companies

Choose the **correct** answer from the options given below:

- 1. A, B and C only
- 2. B, C and D only
- 3. C, D and E only
- 4. A, B, C and D only

(1) 1

(2) 2

(3) 3

(4) 4

विनियोजन प्रक्रिया को और गति प्रदान करने एवं परिसम्पत्तियों के वसूलनीय मूल्य को बढ़ाने के लिए संसदीय स्थायी समिति ने भारत के दिवालियापन विनियोजन तंत्र को किसके माध्यम से सुदृढ़ बनाने की सिफारिश की है

- A. ऋणदाताओं की समिति के लिए एक व्यावसायिक आचार संहिता
- B. आई बी सी मामलों को सुनवाई हेतु राष्ट्रीय कंपनी विधान अधिकरण (एन सी एल टी) की विशेष बेंचों का गठन
- C. विनियोजक व्यावसायिकों की भूमिका सुदृढ़ करना
- D. आई बी सी मंचों का डिजीटीकरण
- E. परिसंपत्ति पुनर्निर्माण कंपनियों का सुदृढ़ीकरण एवं संवर्धन

नीचे दिए गए विकल्पों में से सही उत्तर चुनें :

- 1. केवल A, B और C
- 2. केवल B, C और D
- 3. केवल C, D और E
- 4. केवल A, B, C और D

(1) 1

(2) 2

(3) 3

(4) 4

1[Option ID=33549]

Question Description : bwlg\_pg\_com\_eng\_2\_q62

2[Option ID=33550]

3[Option ID=33551]

4[Option ID=33552]

Sl. No.63

QBID:328063

In which of the following methods, a contract is said to be discharged by mutual consent?

- A. Novation
- B. Rescission
- C. Remission
- D. Alteration
- E. Accord and Satisfaction

Choose the **correct** answer from the options given below:

- 1. A, B and E only
- 2. B, C and D only
- 3. A, B, C and D only
- 4. A, B, C, D and E

(1) 1

(2) 2

(3) 3

(4) 4

निम्नलिखित किन परिस्थितियों में किसी संविदा को पारस्परिक सहमति द्वारा संपादित माना जाएगा ?

- A. नवाचार
- B. निरसन
- C. परिहार
- D. अदल - बदल
- E. समझौता और संतुष्टि

नीचे दिए गए विकल्पों में से सही उत्तर चुनें :

- 1. केवल A, B और E
- 2. केवल B, C और D
- 3. केवल A, B, C और D
- 4. A, B, C, D और E

(1) 1

(2) 2

(3) 3

(4) 4

1[Option ID=33553]

2[Option ID=33554]

3[Option ID=33555]

4[Option ID=33556]

Question Description : bwlg\_pg\_com\_eng\_2\_q63

Sl. No.64

QBID:328064

Duties of bailor include

- A. Take care of goods
- B. Bear extraordinary expenses
- C. Return accretion to the goods
- D. Indemnify the bailee
- E. Disclose known faults

Choose the **correct** answer from the options given below:

- 1. A, B and E only
- 2. A, C and D only
- 3. B, C and D only
- 4. B, D and E only

(1) 1

(2) 2

(3) 3

(4) 4

उपनिधाता के निम्नलिखित में से कौन - कौन से कर्तव्य हैं ?

- A. माल का रख - रखाव
- B. असाधारण व्यय को वहन करना
- C. माल में अभिवृद्धि लौटाना
- D. उपनिहिति की क्षतिपूर्ति
- E. ज्ञात दोषों का प्रकटन

नीचे दिए गए विकल्पों में से सही उत्तर चुनें :

- 1. केवल A, B और E
- 2. केवल A, C और D
- 3. केवल B, C और D
- 4. केवल B, D और E

(1) 1

(2) 2

(3) 3

(4) 4

1[Option ID=33557]

2[Option ID=33558]

3[Option ID=33559]

4[Option ID=33560]

Question Description : bwlg\_pg\_com\_eng\_2\_q64

Sl. No.65

QBID:328065



Expenses that are not deductible under Section 58 of the Indian Income Tax Act for computing the income chargeable under the head "Income From Other Sources":

- A. Personal expenses
- B. Interest payable outside India on which tax has not been paid or deducted at source
- C. Wealth tax
- D. Commission for realizing dividend income or interest on securities
- E. Expenses which are not of capital nature like repairs, depreciation on plant and insurance premium

Choose the **correct** answer from the options given below:

- 1. A, B and D only
- 2. A, B and C only
- 3. A, B, D and E only
- 4. A, B, C, D and E

(1) 1

(2) 2

(3) 3

(4) 4

"अन्य स्रोतों से आय" शीर्ष के अंतर्गत आय आदेय के परिकलन हेतु व्यय भारतीय आयकर अधिनियम की धारा 58 के अंतर्गत कौन सी कटौतियाँ योग्य नहीं है :

- A. निजी व्यय
- B. भारत के बाहर भुगतान योग्य ब्याज जिस पर कर अदा नहीं किया गया हो अथवा स्रोत पर कटौती नहीं की गयी हो।
- C. संपदा कर
- D. प्रतिभूतियों में लाभांश आय अथवा ब्याज वसूली के लिए दलाली (कमीशन)
- E. व्यय जो कि पूँजी प्रकृति के नहीं हैं : जैसे मरम्मत, संयंत्र का हास व बीमा प्रीमियम

नीचे दिए गए विकल्पों में से सही उत्तर चुनें :

- 1. केवल A, B और D
- 2. केवल A, B और C
- 3. केवल A, B, D और E
- 4. A, B, C, D और E

(1) 1

(2) 2

(3) 3

(4) 4

1[Option ID=33561]

2[Option ID=33562]

3[Option ID=33563]

4[Option ID=33564]

Question Description : bwlg\_pg\_com\_eng\_2\_q65

Sl. No.66

QBID:328066

Match **List I** with **List II**

<b>List I</b>	<b>List II</b>
<b>Name of Theory of International Trade</b>	<b>Description</b>
A. Heckscher-Ohlin Theory	I. The ability of a nation to produce the goods more efficiently and effectively than any other country
B. Country Similarity Theory	II. Theory stating that trade occurs between nations that have similar characteristics such as economic, geography and cultural characteristics
C. Theory of Mercantilism	III. The theory that a nation will export the goods whose production requires intensive use of the nation's relatively abundant and cheap factors and import goods when production requires intensive use of its scarce and expensive factors
D. Absolute Advantage Theory	IV. Theory that aims at accumulating financial wealth in terms of gold by encouraging exports and discouraging imports

Choose the **correct** answer from the options given below:

1. A - IV, B - III, C - II, D - I
2. A - IV, B - II, C - I, D - III
3. A - III, B - II, C - IV, D - I
4. A - III, B - II, C - I, D - IV

- (1) 1  
(2) 2  
(3) 3  
(4) 4



सूची -I को सूची -II से सुमेलित कीजिए :

सूची -I	सूची -II
(अंतरराष्ट्रीय व्यापार सिद्धांत)	(विवरण)
A. हेक्शेर - ओहलिन सिद्धांत	I. किसी एक देश द्वारा दूसरे देश की तुलना में माल का अधिक कुशलता पूर्वक लागत प्रभाविता से उत्पादन करने का सामर्थ्य
B. देश समानता सिद्धांत	II. इस सिद्धांत के अनुसार व्यापार उन देशों के बीच होता है जो आर्थिक, भौगोलिक, सांस्कृतिक आदि जैसी समान विशिष्टताओं वाले होते हैं
C. वाणिज्यिक सिद्धांत	III. इस सिद्धांत के अनुसार कोई देश उन वस्तुओं का निर्यात करेगा जिनके उत्पादन में उस देश के अपेक्षाकृत बहुल और सस्ते कारकों का सघन उपयोग हो और ऐसे वस्तुओं का आयात करेगा जिनमें उसके दुर्लभ और महंगे कारकों का सघन प्रयोग हो
D. निरपेक्ष सुलाभ सिद्धांत	IV. इस सिद्धांत का लक्ष्य है निर्यात को प्रोत्साहित व आयात को निरुत्साहित कर स्वर्ण के रूप में वित्तीय संपदा का संग्रहण

नीचे दिए गए विकल्पों में से सही उत्तर चुनिए :

1. A - IV, B - III, C - II, D - I
2. A - IV, B - II, C - I, D - III
3. A - III, B - II, C - IV, D - I
4. A - III, B - II, C - I, D - IV

- (1) 1
- (2) 2
- (3) 3
- (4) 4

- 1[Option ID=33565]  
 2[Option ID=33566]  
 3[Option ID=33567]  
 4[Option ID=33568]

Question Description : bwlg\_pg\_com\_eng\_2\_q66

SI. No.67  
 QBID:328067

Match List I with List II

List I	List II
Ind AS	Topic (Subjects)
A. Ind AS 37	I. Insurance contracts
B. Ind AS 104	II. Inventories
C. Ind AS 2	III. Provisions, Contingent Liabilities and Contingent Assets
D. Ind AS 19	IV. Employee Benefits

Choose the **correct** answer from the options given below:

1. A - III, B - I, C - II, D - IV
2. A - I, B - II, C - III, D - IV
3. A - IV, B - III, C - II, D - I
4. A - II, B - III, C - I, D - IV

- (1) 1
- (2) 2

(3) 3

(4) 4

सूची -I को सूची -II से सुमेलित कीजिए :

सूची -I	सूची -II
(इंड ए एस)	(विषय)
A. इंड ए एस 37	I. बीमा अनुबंध
B. इंड ए एस 104	II. मालसूची
C. इंड ए एस 2	III. रसद, सम्भाव्य दायित्व और सम्भाव्य आस्तियां
D. इंड ए एस 19	IV. कर्मचारी लाभ

नीचे दिए गए विकल्पों में से सही उत्तर चुनिए :

1. A - III, B - I, C - II, D - IV
2. A - I, B - II, C - III, D - IV
3. A - IV, B - III, C - II, D - I
4. A - II, B - III, C - I, D - IV

(1) 1

(2) 2

(3) 3

(4) 4

1[Option ID=33569]

2[Option ID=33570]

3[Option ID=33571]

4[Option ID=33572]

Question Description : bwlg\_pg\_com\_eng\_2\_q67

Sl. No.68

QBID:328068

Match List I with List II

List I	List II
<b>Cost Concepts</b>	<b>Description</b>
A. Explicit cost	I. Costs that do not require any outlay of money by the firm
B. Implicit cost	II. A cost that has already been committed and cannot be recovered
C. Total cost	III. Costs that require an outlay of money by the firm
D. Sunk cost	IV. Market value of all inputs that a firm uses in production

Choose the **correct** answer from the options given below:

1. A - III, B - IV, C - I, D - II
2. A - II, B - IV, C - III, D - I
3. A - III, B - I, C - IV, D - II
4. A - III, B - IV, C - II, D - I

(1) 1

(2) 2

(3) 3

(4) 4



सूची -I को सूची -II से सुमेलित कीजिए :

सूची -I	सूची -II
(लागत अवधारणायें)	(विवरण)
A. स्पष्ट लागत	I. ऐसे लागत जिनके लिए किसी कंपनी द्वारा किसी परिण्य राशि की आवश्यकता नहीं होती
B. अस्पष्ट लागत	II. ऐसी लागत जिनका पहले ही व्यय किया जा चुका है और जिन्हें वसूला नहीं जा सकता है
C. कुल लागत	III. ऐसे लागत जिनके लिए किसी कंपनी द्वारा परिण्य राशि की आवश्यकता होती है
D. अवसूलनीय लागत	IV. सभी उत्पादों के बाजार मूल्य जिसका कोई कंपनी उत्पादन हेतु उपयोग करती है

नीचे दिए गए विकल्पों में से सही उत्तर चुनिए :

1. A - III, B - IV, C - I, D - II
2. A - II, B - IV, C - III, D - I
3. A - III, B - I, C - IV, D - II
4. A - III, B - IV, C - II, D - I

- (1) 1
- (2) 2
- (3) 3
- (4) 4

1[Option ID=33573] Question Description : bwlg\_pg\_com\_eng\_2\_q68  
 2[Option ID=33574]  
 3[Option ID=33575]  
 4[Option ID=33576]

SI. No.69  
 QBID:328069

Match List I with List II

List I	List II
Type of Bonds	Description
A. Euro bonds	I. Bonds denominated in US dollar and issued in the USA
B. Global bonds	II. Bonds denominated in a foreign currency and are offered for simultaneous placement in different countries
C. Yankee bonds	III. When the bonds issued in a foreign country and are denominated in a currency other than the currency of the country where the bonds are issued
D. Samurai bonds	IV. Bonds denominated in Japanese Yen and issued in Japan

Choose the **correct** answer from the options given below:

1. A - III, B - II, C - I, D - IV
2. A - IV, B - III, C - II, D - I
3. A - III, B - IV, C - I, D - II
4. A - III, B - II, C - IV, D - I

- (1) 1
- (2) 2
- (3) 3
- (4) 4

सूची -I को सूची -II से सुमेलित कीजिए :

सूची -I	सूची -II
(बांड के प्रकार)	(विवरण)
A. यूरो बांड	I. अमेरिकी डालर में अंकित और अमेरिका में जारी बांड
B. ग्लोबल बांड	II. विदेशी मुद्रा में अंकित और एक साथ नियोजन के लिए विभिन्न देशों में प्रस्तुत बांड
C. यांकी बांड	III. जब एक विदेशी राष्ट्र में जारी बांड उस देश की मुद्रा से भिन्न मुद्रा में अंकित होते हैं जहां उन्हें जारी किया गया हो
D. समुराई बांड	IV. जापानी येन में अंकित और जापान में जारी बांड

नीचे दिए गए विकल्पों में से सही उत्तर चुनिए :

1. A - III, B - II, C - I, D - IV
2. A - IV, B - III, C - II, D - I
3. A - III, B - IV, C - I, D - II
4. A - III, B - II, C - IV, D - I

- (1) 1
- (2) 2
- (3) 3
- (4) 4

1[Option ID=33577]  
2[Option ID=33578]  
3[Option ID=33579]  
4[Option ID=33580]

Question Description : bwlg\_pg\_com\_eng\_2\_q69

SI. No.70  
QBID:328070

Match List I with List II

List I	List II
<b>Sampling methods</b>	<b>Descriptions of situation</b>
A. Multi-stage Sampling	I. Specified number of respondents in best position to provide the desired information
B. Systematic Sampling	II. Heterogenous sub-populations
C. Judgement Sampling	III. Widely spread population and random sampling not possible
D. Stratified Sampling	IV. Elements of population arranged in some order

Choose the **correct** answer from the options given below:

1. A - II, B - IV, C - I, D - III
2. A - III, B - IV, C - I, D - II
3. A - I, B - II, C - III, D - IV
4. A - II, B - III, C - I, D - IV

- (1) 1
- (2) 2
- (3) 3
- (4) 4

सूची -I को सूची -II से सुमेलित कीजिए :

सूची -I	सूची -II
(सैम्पलिंग के प्रकार)	(परिस्थिति विवरण)
A. बहु - चरणीय सैम्पलिंग	I. वांछित सूचना प्रदान करने के लिए सर्वश्रेष्ठ स्थिति में प्रतिवादियों की विनिर्दिष्ट संख्या
B. सुव्यस्थित सैम्पलिंग	II. विषम उप - जनसंख्या
C. निर्णयन सैम्पलिंग	III. व्यापक रूप से विस्तीर्ण जनसंख्या और यादृच्छिक सैम्पलिंग संभव नहीं
D. स्तरीकृत सैम्पलिंग	IV. किसी क्रम में व्यवस्थित जनसंख्या के तत्त्व

नीचे दिए गए विकल्पों में से सही उत्तर चुनिए :

1. A - II, B - IV, C - I, D - III
2. A - III, B - IV, C - I, D - II
3. A - I, B - II, C - III, D - IV
4. A - II, B - III, C - I, D - IV

- (1) 1
- (2) 2
- (3) 3
- (4) 4

1[Option ID=33581]  
2[Option ID=33582]  
3[Option ID=33583]  
4[Option ID=33584]

Question Description : bwlg\_pg\_com\_eng\_2\_q70

Sl. No.71  
QBID:328071

Match **List I** with **List II**

List I	List II
<b>Leadership Style</b>	<b>Description</b>
A. Impoverished management	I. Work accomplished is from a committee of people with interdependence through a common stake in organizational purpose and with trust and respect
B. Team managers	II. Exertion of minimum effort is required to get work done and to sustain organizational morale
C. Country club management	III. Efficiency results from arranging work in such a way that human elements have little effect
D. Autocratic task managers	IV. Thoughtful attention to the needs of people leads to a friendly and comfortable organizational atmosphere and work environment

Choose the **correct** answer from the options given below:

1. A - I, B - II, C - IV, D - III
2. A - II, B - I, C - III, D - IV
3. A - II, B - I, C - IV, D - III
4. A - IV, B - I, C - III, D - II

- (1) 1
- (2) 2
- (3) 3
- (4) 4

सूची -I को सूची -II से सुमेलित कीजिए :

सूची -I	सूची -II
(नेतृत्व शैली)	(वर्णन)
A. कामचलाऊ प्रबंधन	I. विश्वास और सम्मान के साथ और संगठनात्मक उद्देश्य में सामान्य भागीदारी के माध्यम से अंत निर्भरता वाले प्रतिबद्ध लोगों से कार्य निष्पादन होता है
B. टीम प्रबंधन	II. कार्य करने हेतु और संगठनात्मक मनोबल को बनाए रखने हेतु न्यूनतम प्रयत्न के प्रयास की आवश्यकता होती है
C. देश क्लब प्रबंधन	III. कुशलता प्राप्त करने हेतु कार्य को इस प्रकार व्यवस्थित करना जिसमें मानवीय तत्व का प्रभाव कम हो
D. स्वेच्छाचारी कार्य प्रबंधक	IV. लोगों की आवश्यकता हेतु चिंतन पूर्ण ध्यान एक मित्रवत और सुचारु संगठनात्मक परिवेश और कार्यशैली की ओर बढ़ाता है

नीचे दिए गए विकल्पों में से सही उत्तर चुनिए :

1. A - I, B - II, C - IV, D - III
2. A - II, B - I, C - III, D - IV
3. A - II, B - I, C - IV, D - III
4. A - IV, B - I, C - III, D - II

- (1) 1
- (2) 2
- (3) 3
- (4) 4

1[Option ID=33585]  
2[Option ID=33586]  
3[Option ID=33587]  
4[Option ID=33588]

Question Description : bwlg\_pg\_com\_eng\_2\_q71



Sl. No.72  
QBID:328072

Match List I with List II

List I	List II
<b>Interest rates</b>	<b>Description</b>
A. Policy Rate	I. RBI lending rate to commercial banks without security
B. Repo Rate	II. RBI lending rate when commercial banks borrow money by purchasing securities issued by RBI
C. MCLR	III. Internal benchmark rate for financial institutions and banks
D. Bank Rate	IV. Rate established by RBI to influence the main monetary variables in the economy

Choose the **correct** answer from the options given below:

1. A - I, B - IV, C - III, D - II
2. A - IV, B - I, C - III, D - II
3. A - IV, B - II, C - III, D - I
4. A - II, B - IV, C - I, D - III

- (1) 1
- (2) 2
- (3) 3

(4) 4

सूची -I को सूची -II से सुमेलित कीजिए :

सूची -I (ब्याज दरें)	सूची -II (विवरण)
A. पॉलिसी रेट	I. बिना सुरक्षा के आरबीआई द्वारा वाणिज्यिक बैंकों को उधार देने की दर
B. रेपो रेट	II. आरबीआई द्वारा उधार देने की दर, जब वाणिज्यिक बैंक प्रतिभूतियों (आर.बी.आई. द्वारा निर्गमित ) को खरीद कर धन उधार लेते हैं
C. एम.सी.एल.आर.	III. वित्तीय संस्थाओं और बैंकों के लिए आंतरिक बेंचमार्क दर
D. बैंक रेट	IV. अर्थव्यवस्था में मुख्य मौद्रिक चरों को प्रभावित करने के लिए आर.बी.आई. द्वारा स्थापित दर

नीचे दिए गए विकल्पों में से सही उत्तर चुनिए :

1. A - I, B - IV, C - III, D - II
2. A - IV, B - I, C - III, D - II
3. A - IV, B - II, C - III, D - I
4. A - II, B - IV, C - I, D - III

(1) 1

(2) 2

(3) 3

(4) 4

1[Option ID=33589]

2[Option ID=33590]

3[Option ID=33591]

4[Option ID=33592]

Question Description : bwlg\_pg\_com\_eng\_2\_q72

SI. No.73

QBID:328073

Match List I with List II

List I	List II
<b>Market Expansion Strategies</b>	<b>Description</b>
A. Market Penetration	I. New products, New markets
B. Market Development	II. Existing markets, Existing products
C. Product Development	III. Existing products, New markets
D. Diversification	IV. Existing markets, New products

Choose the **correct** answer from the options given below:

1. A - I, B - II, C - III, D - IV
2. A - I, B - III, C - II, D - IV
3. A - II, B - IV, C - I, D - III
4. A - II, B - III, C - IV, D - I

(1) 1

(2) 2

(3) 3

(4) 4

सूची -I को सूची -II से सुमेलित कीजिए :

सूची -I	सूची -II
(बाजार विस्तार की रणनीतियां)	(विवरण)
A. बाजार वेधन	I. नए उत्पाद, नए बाजार
B. बाजार विकास	II. मौजूदा बाजार, मौजूदा उत्पाद
C. उत्पाद विकास	III. मौजूदा उत्पाद, नए बाजार
D. विविधीकरण	IV. मौजूदा बाजार, नए उत्पाद

नीचे दिए गए विकल्पों में से सही उत्तर चुनिए :

1. A - I, B - II, C - III, D - IV
2. A - I, B - III, C - II, D - IV
3. A - II, B - IV, C - I, D - III
4. A - II, B - III, C - IV, D - I

(1) 1

(2) 2

(3) 3

(4) 4

1[Option ID=33593]

2[Option ID=33594]

3[Option ID=33595]

4[Option ID=33596]

Question Description : bwlg\_pg\_com\_eng\_2\_q73

SI. No.74

QBID:328074

Match List I with List II

List I	List II
<b>Insurance contracts</b>	<b>Presence (time) of insurable interest</b>
A. Marine insurance	I. Both at the time of contract as well at the loss of subject matter
B. Life insurance	II. Throughout the contract of insurance
C. Fire insurance	III. At the time of loss of the subject matter
D. General insurance	IV. At the time of insurance contract effected

Choose the **correct** answer from the options given below:

1. A - IV, B - II, C - III, D - I
2. A - III, B - IV, C - I, D - II
3. A - I, B - IV, C - II, D - III
4. A - III, B - I, C - IV, D - II

(1) 1

(2) 2

(3) 3

(4) 4

सूची -I को सूची -II से सुमेलित कीजिए :

सूची -I	सूची -II
(बीमा संविदाएं)	(बीमा योग्य हित की उपस्थिति समय)
A. नौवहन बीमा	I. दोनों, संविदा के समय तथा विषय सामग्री के हानि के समय
B. जीवन बीमा	II. सम्पूर्ण बीमा संविदा दौरान
C. अग्नि शमन बीमा	III. विषय सामग्री के हानि के समय पर
D. सामान्य बीमा	IV. बीमा संविदा प्रभावी होने के समय पर

नीचे दिए गए विकल्पों में से सही उत्तर चुनिए :

1. A - IV, B - II, C - III, D - I
2. A - III, B - IV, C - I, D - II
3. A - I, B - IV, C - II, D - III
4. A - III, B - I, C - IV, D - II

- (1) 1  
(2) 2  
(3) 3  
(4) 4

1[Option ID=33597]  
2[Option ID=33598]  
3[Option ID=33599]  
4[Option ID=33600]

Question Description : bwlq\_pg\_com\_eng\_2\_q74

SI. No.75  
QBID:328075

Match List I with List II

List I	List II
<b>Tax deductions</b>	<b>Relevant Sections</b>
A. Deduction in respect of rent paid	I. 80 GGC
B. Deduction in respect of contribution given by company to political parties	II. 80 GG
C. Deduction in respect of contribution given by any person to political parties	III. 80 GGA
D. Deduction in respect of certain donations for scientific research	IV. 80 GGB

Choose the **correct** answer from the options given below:

1. A - III, B - I, C - IV, D - II
2. A - IV, B - II, C - III, D - I
3. A - II, B - III, C - I, D - IV
4. A - I, B - IV, C - II, D - III

- (1) 1  
(2) 2  
(3) 3  
(4) 4

सूची -I को सूची -II से सुमेलित कीजिए :

सूची -I	सूची -II
(आयकर कटौतियां)	(संबंधित धाराएं)
A. भुगतान किए गए किराए के संदर्भ में कटौती	I. 80 जी जी सी
B. कंपनी द्वारा राजनीतिक दलों को दिए गए योगदान के संदर्भ में कटौती	II. 80 जी जी
C. किसी व्यक्ति द्वारा राजनीतिक दलों को दिए गए योगदान के संदर्भ में कटौती	III. 80 जी जी ए
D. वैज्ञानिक शोध हेतु निश्चित चंदा के संदर्भ में कटौती	IV. 80 जी जी बी

नीचे दिए गए विकल्पों में से सही उत्तर चुनिए :

1. A - III, B - I, C - IV, D - II
2. A - IV, B - II, C - III, D - I
3. A - II, B - III, C - I, D - IV
4. A - I, B - IV, C - II, D - III

(1) 1

(2) 2

(3) 3

(4) 4

1[Option ID=33601]

2[Option ID=33602]

3[Option ID=33603]

4[Option ID=33604]

Question Description : bwlg\_pg\_com\_eng\_2\_q75

SI. No.76

QBID:328076

In relation to the export from India, arrange the following steps of port procedure and customs clearance sequentially:

- A. C&F agent present mate's receipt to shipping company
- B. Shipping company issues bill of lading. C&F agent dispatches bill of lading and other documents to the importer
- C. C&F agent receives documents from the exporter, takes delivery of cargo and stores cargo in warehouse till shipment
- D. Master of vessel issues mate's receipt to shed superintendent of port
- E. Cargo brought to the port shed for loading

Choose the **correct** answer from the options given below

1. C, E, D, B, A
2. C, E, D, A, B
3. E, C, D, A, B
4. C, D, E, A, B

(1) 1

(2) 2

(3) 3

(4) 4



भारत से निर्यात के सन्दर्भ में, पोर्ट (बंदरगाह) प्रक्रिया एवं सीमा शुल्क निपटान की प्रक्रिया के विभिन्न चरणों को क्रमवार सजाएं :

- A. सी एवं एफ एजेंट शिपिंग कंपनी को मेट्स रसीद प्रस्तुत करता है
- B. शिपिंग कंपनी लेडिंग बिल जारी करती है। सी एन्ड एफ एजेंट आयातक को लेडिंग बिल एवं अन्य दस्तावेज भेजता है
- C. सी एन्ड एफ एजेंट निर्यातक से दस्तावेज प्राप्त करता है, कार्गो की डिलीवरी प्राप्त करता है तथा शिपमेंट होने तक कार्गो को भंडारण गृह में रखता है
- D. मास्टर ऑफ वेसल, मेट्स की रसीद पोर्ट के शेड अधिकारी को जारी करता है
- E. कार्गो को लेडिंग के लिए पोर्ट शेड में लाया जाता है

नीचे दिए गए विकल्पों में से सही उत्तर चुनें :

- 1. C, E, D, B, A
- 2. C, E, D, A, B
- 3. E, C, D, A, B
- 4. C, D, E, A, B

(1) 1

(2) 2

(3) 3

(4) 4

1[Option ID=33605]

2[Option ID=33606]

3[Option ID=33607]

4[Option ID=33608]

Question Description : bwlg\_pg\_com\_eng\_2\_q76

SI. No.77

QBID:328077

The following are contextual auditing with wider intensities

- A. Special Audit
- B. Internal Audit
- C. Internal Check
- D. Annual Audit
- E. Interim Audit

Choose the **correct** sequence from the options given below in increasing order of underlying intensity.

- 1. C, B, E, D, A
- 2. B, C, D, A, E
- 3. A, B, C, D, E
- 4. B, C, A, E, D

(1) 1

(2) 2

(3) 3

(4) 4

लेखा परीक्षा के निम्नलिखित सारगर्भित अंकेक्षणों के सही अनुक्रम को तीक्ष्णता के बढ़ते क्रम में चुनिए :

- A. विशेष लेखा परीक्षा
- B. आंतरिक लेखा परीक्षा
- C. आंतरिक जांच
- D. वार्षिक लेखा परीक्षा
- E. अंतरिम लेखा परीक्षा

नीचे दिए गए विकल्पों में से अंकेक्षणों की तीक्ष्णता के बढ़ते क्रम का सही उत्तर चुनें :

- 1. C, B, E, D, A
- 2. B, C, D, A, E
- 3. A, B, C, D, E
- 4. B, C, A, E, D

(1) 1

(2) 2

(3) 3

(4) 4

1[Option ID=33609]

2[Option ID=33610]

3[Option ID=33611]

4[Option ID=33612]

Question Description : bwlg\_pg\_com\_eng\_2\_q77

Sl. No.78

QBID:328078

Sequence the following steps in the process of estimating demand equation using regression analysis.

- A. Obtaining data on each variable or its proxy
- B. Estimating slope coefficients
- C. Model specifications
- D. Deciding on the functional form of the demand equation
- E. Evaluation of regression results

Choose the **correct** answer from the options given below

- 1. C, A, D, B, E
- 2. D, C, B, A, E
- 3. A, B, C, D, E
- 4. D, A, C, B, E

(1) 1

(2) 2

(3) 3

(4) 4

प्रतिगमन विश्लेषण का प्रयोग करते हुए, मांग समीकरण के आकलन की प्रक्रिया के निम्नलिखित कदमों का सही अनुक्रम क्या है ?

- A. प्रत्येक चर अथवा परोक्षी के संबंध में डेटा प्राप्त करना
- B. प्रवण गुणांक का आकलन करना
- C. मॉडल विशिष्टताएं निर्धारित करना
- D. मांग समीकरण के प्रकायत्मिक रूप का निर्णय करना
- E. प्रतिगमन परिणामों का मूल्यांकन

नीचे दिए गए विकल्पों में से सही उत्तर चुनें :

- 1. C, A, D, B, E
- 2. D, C, B, A, E
- 3. A, B, C, D, E
- 4. D, A, C, B, E

(1) 1

(2) 2

(3) 3

(4) 4

1[Option ID=33613]

2[Option ID=33614]

3[Option ID=33615]

4[Option ID=33616]

Question Description : bwlg\_pg\_com\_eng\_2\_q78

Sl. No.79

QBID:328079

Arrange the following in the logical sequence of the international arbitrage operation.

- A. Identify an opportunity
- B. Purchase the asset
- C. Review the transaction cost
- D. Pocket the profit
- E. Sell the asset

Choose the **correct** answer from the options given below

- 1. A, C, B, E, D
- 2. C, A, D, B, E
- 3. B, A, D, E, C
- 4. B, D, A, C, E

(1) 1

(2) 2

(3) 3

(4) 4

निम्नलिखित को अंतर्राष्ट्रीय अंतरपणन प्रचालन के तार्किक अनुक्रम में व्यवस्थित कीजिए।

- A. अवसर की पहचान करना
- B. संपत्ति का क्रय
- C. पण्य (ट्रांजैक्शन) लागत की समीक्षा
- D. लाभ प्राप्त करना
- E. संपत्ति विक्रय

नीचे दिए गए विकल्पों में से सही उत्तर चुनें :

- 1. A, C, B, E, D
- 2. C, A, D, B, E
- 3. B, A, D, E, C
- 4. B, D, A, C, E

(1) 1

(2) 2

(3) 3

(4) 4

1[Option ID=33617]

2[Option ID=33618]

3[Option ID=33619]

4[Option ID=33620]

Question Description : bwlg\_pg\_com\_eng\_2\_q79

SI. No.80

QBID:328080

Arrange the following steps in sequence for testing a statistical hypothesis

- A. Test statistics
- B. Framing the hypothesis
- C. Collecting the sample data
- D. Level of significance
- E. Obtaining results and taking decisions

Choose the **correct** answer from the options given below

- 1. B, D, C, A, E
- 2. C, B, A, D, E
- 3. B, C, A, D, E
- 4. A, C, B, E, D

(1) 1

(2) 2

(3) 3

(4) 4

निम्नलिखित सोपानों को सांख्यिकीय परिकल्पना के परीक्षण के लिए क्रमबद्ध व्यवस्थित कीजिए :

- A. सांख्यिकी परीक्षण का चुनाव
- B. परिकल्पना बनाना
- C. प्रतिदर्श आंकड़ा एकत्र करना
- D. सार्थकता का स्तर निर्धारित करना
- E. परिणाम प्राप्त करना और निर्णय लेना

नीचे दिए गए विकल्पों में से सही उत्तर चुनें :

1. B, D, C, A, E
2. C, B, A, D, E
3. B, C, A, D, E
4. A, C, B, E, D

(1) 1

(2) 2

(3) 3

(4) 4

1[Option ID=33621]  
2[Option ID=33622]  
3[Option ID=33623]  
4[Option ID=33624]

Question Description : bwlg\_pg\_com\_eng\_2\_q80

Sl. No.81  
QBID:328081

Arrange the following steps of employee training in the proper sequence:

- A. Familiarize the employee with equipment, materials, tools, and trade terms
- B. Create interest and find out what the employee already knows about the job
- C. Explain why the employee is being trained
- D. Place the trainee/employee as close to the normal working position as possible
- E. Explain the whole job and relate it to some other job which the employee already knows

Choose the **correct** answer from the options given below

1. C, E, B, A, D
2. C, B, E, D, A
3. B, E, C, D, A
4. E, A, C, D, B

(1) 1

(2) 2

(3) 3

(4) 4

कर्मचारी प्रशिक्षण के निम्नलिखित चरणों को उचित क्रम में व्यवस्थित कीजिए :

- A. कर्मचारी को उपकरण, पदार्थों, औजारों और व्यापारिक शब्दावली से परिचित करवाना
- B. रूचि पैदा करना और कर्मचारी कार्य के बारे में पहले से क्या जानता है, इसका पता लगाना
- C. कर्मचारी क्यों प्रशिक्षित किया जा रहा है, इसके बारे में बताना
- D. प्रशिक्षु / कर्मचारी को जितना संभव हो सके उसे सामान्य कार्य संदर्भ अनुसार ही निर्दिष्ट करना
- E. पूरे कार्य के बारे में बताना और इसे कर्मचारी द्वारा पहले से निष्पादित कार्य से संबंधित करते हुए बताना

नीचे दिए गए विकल्पों में से सही उत्तर चुनें :

1. C, E, B, A, D
2. C, B, E, D, A
3. B, E, C, D, A
4. E, A, C, D, B

(1) 1

(2) 2

(3) 3

(4) 4

1[Option ID=33625]

2[Option ID=33626]

3[Option ID=33627]

4[Option ID=33628]

Question Description : bwlpg\_pg\_com\_eng\_2\_q81

SI. No.82

QBID:328082

Risk management process follows the following steps in which logical sequence?

- A. Selection of appropriate risk model for analysis
- B. Identification of risk variable
- C. Determination of frequency and severity of risk
- D. Feedback on the risk management process
- E. Application of a suitable risk instrument

Choose the **correct** answer from the options given below

1. E, A, B, C, D
2. C, B, A, D, E
3. B, C, A, E, D
4. A, C, B, D, E

(1) 1

(2) 2

(3) 3

(4) 4

जोखिम प्रबंधन प्रक्रिया निम्नलिखित चरणों का किस क्रम में अनुसरण करती है :

- A. विश्लेषण के लिए उपयुक्त जोखिम मॉडल का चयन
- B. जोखिम चर की पहचान
- C. जोखिम की बारम्बारिता और गंभीरता निश्चित करना
- D. जोखिम प्रबंधन प्रक्रिया के बारे में फीडबैक (प्रतिपुष्टि)
- E. एक उपयुक्त जोखिम लिखत का अनुप्रयोग

नीचे दिए गए विकल्पों में से सही उत्तर चुनें :

- 1. E, A, B, C, D
- 2. C, B, A, D, E
- 3. B, C, A, E, D
- 4. A, C, B, D, E

(1) 1

(2) 2

(3) 3

(4) 4

1[Option ID=33629]

2[Option ID=33630]

3[Option ID=33631]

4[Option ID=33632]

Question Description : bwlg\_pg\_com\_eng\_2\_q82

SI. No.83

QBID:328083

Arrange the following purchases made by a customer as per Maslow's hierarchy of needs theory starting with the lower order needs.

- A. Purchase of House
- B. Purchase of an expensive car
- C. Taking a club membership
- D. Enrolling in a learn-by-yourself course
- E. Purchase of bathing soap

Choose the **correct** answer from the options given below

- 1. E, A, B, C, D
- 2. A, E, C, B, D
- 3. E, A, C, B, D
- 4. A, E, B, C, D

(1) 1

(2) 2

(3) 3

(4) 4

मैसूरो की आवश्यकता सोपानिक सिद्धांत के अनुसार किसी ग्राहक द्वारा की गयी निम्नलिखित खरीददारियों को ऊर्ध्वगामी क्रम में व्यवस्थित कीजिए।

- A. घर की खरीददारी
- B. महंगी कार की खरीददारी
- C. क्लब की सदस्यता ग्रहण करना
- D. स्वयं से सीखो पाठ्यक्रम (कोर्स) में नामांकन करवाना
- E. साबुन (नहाने का) की खरीददारी

नीचे दिए गए विकल्पों में से सही उत्तर चुनें :

- 1. E, A, B, C, D
- 2. A, E, C, B, D
- 3. E, A, C, B, D
- 4. A, E, B, C, D

(1) 1

(2) 2

(3) 3

(4) 4

1[Option ID=33633]

2[Option ID=33634]

3[Option ID=33635]

4[Option ID=33636]

Question Description : bwlg\_pg\_com\_eng\_2\_q83

SI. No.84

QBID:328084

Arrange the following decision outcomes under the Indian Consumer Protection Act, 1986 in a rising sequence of severity of offences.

- A. Removal of defects
- B. Impose cost on parties
- C. Return of price paid
- D. Discontinuation of unfair practices
- E. Compensation to consumer

Choose the **correct** answer from the options given below

- 1. A, B, C, E, D
- 2. A, C, E, D, B
- 3. C, D, A, B, E
- 4. D, E, B, C, A

(1) 1

(2) 2

(3) 3

(4) 4



भारतीय उपभोक्ता संरक्षण अधिनियम, 1986 के अंतर्गत, अपराधों की कठोरता के बढ़ते क्रम में निम्नलिखित निर्णय परिणामों को व्यवस्थित कीजिए

- A. दोषों को हटाना
- B. पक्षकारों पर लागत को अधिरोपित करना
- C. अदा की गयी राशि (प्राइस) की वापसी करना
- D. अनुचित क्रियाकलापों का समापन
- E. उपभोक्ता को मुआवजा देना

नीचे दिए गए विकल्पों में से सही उत्तर चुनें :

- 1. A, B, C, E, D
- 2. A, C, E, D, B
- 3. C, D, A, B, E
- 4. D, E, B, C, A

(1) 1

(2) 2

(3) 3

(4) 4

1[Option ID=33637]  
2[Option ID=33638]  
3[Option ID=33639]  
4[Option ID=33640]

Question Description : bwlg\_pg\_com\_eng\_2\_q84

SI. No.85  
QBID:328085

Steps involved in computation of tax on agricultural income in India are followed in which sequence?

- A. Add basic exemption limit to Net agriculture income and calculate tax
- B. Deduct rebate u/s 87A from the total income
- C. Add Health Cess
- D. Add Agricultural and Non-agriculture income and calculate tax on total income
- E. Calculate difference of tax in both computations

Choose the **correct** answer from the options given below

- 1. A, D, B, C, E
- 2. A, C, D, B, E
- 3. A, D, C, E, B
- 4. D, A, E, B, C

(1) 1

(2) 2

(3) 3

(4) 4

भारत में कृषिगत आय पर कर के परिकलन में शामिल चरण किस क्रम में व्यवस्थित होते हैं ?

- A. निवल कृषिगत आय और कर गणना हेतु मुख्य छूट सीमा को जोड़ देना
- B. धारा 87 A के अंतर्गत संपूर्ण आय से छूट को घटाना
- C. स्वास्थ्य उपकर को जोड़ना
- D. कृषिगत और गैर - कृषिगत आय को जोड़ना और कर की सम्पूर्ण आय पर गणना करना
- E. दोनों परिकलनों में कर के अंतर की गणना करना

नीचे दिए गए विकल्पों में से सही उत्तर चुनें :

- 1. A, D, B, C, E
- 2. A, C, D, B, E
- 3. A, D, C, E, B
- 4. D, A, E, B, C

(1) 1

(2) 2

(3) 3

(4) 4

1[Option ID=33641]

2[Option ID=33642]

3[Option ID=33643]

4[Option ID=33644]

Question Description : bwlg\_pg\_com\_eng\_2\_q85

Sl. No.86

QBID:328086

Given below are two statements

**Statement I:** Thousands of small firms in developing countries have closed their shutters because of the competition from large MNCs.

**Statement II:** MNCs have played a significant role in the development of poor countries by transfer of technology, introducing best management practices and help in improving productivity.

In light of the above statements, choose the **correct** answer from the options given below

- 1. Both Statement I and Statement II are true
- 2. Both Statement I and Statement II are false
- 3. Statement I is true but Statement II is false
- 4. Statement I is false but Statement II is true

(1) 1

(2) 2

(3) 3

(4) 4

नीचे दो कथन दिए गए हैं :

कथन - I : विशाल बहुराष्ट्रीय कंपनियों से प्रतिस्पर्धा के कारण विकासशील देशों में सैंकड़ों छोटी फर्में बंद हो गई हैं।

कथन - II : बहुराष्ट्रीय कंपनियों ने प्रौद्योगिकी हस्तांतरण, सर्वोत्तम प्रबंधकीय व्यवहार की शुरुआत और उत्पादकता सुधार के द्वारा गरीब देशों के विकास में महत्वपूर्ण भूमिका निभाई है।

उपर्युक्त कथनों के आलोक में निम्नलिखित विकल्पों में से सही उत्तर चुनें :

1. कथन I और II दोनों सही हैं।
2. कथन I और II दोनों गलत हैं।
3. कथन I सत्य है, किन्तु कथन II असत्य है।
4. कथन I असत्य है, किन्तु कथन II सत्य है।

(1) 1

(2) 2

(3) 3

(4) 4

1[Option ID=33645] Question Description : bwlg\_pg\_com\_eng\_2\_q86  
2[Option ID=33646]  
3[Option ID=33647]  
4[Option ID=33648]

Sl. No.87  
QBID:328087

Given below are two statements, one is labelled as **Assertion A** and the other is labelled as **Reason R**

**Assertion A:** Economic profit is smaller than accounting profit.

**Reason R:** Accounting profit = Revenue - Explicit costs

Economic Profit = Revenue - Explicit costs - Implicit costs

In light of the above statements, choose the **correct** answer from the options given below

1. Both **A** and **R** are true and **R** is the correct explanation of **A**
2. Both **A** and **R** are true but **R** is NOT the correct explanation of **A**
3. **A** is true but **R** is false
4. **A** is false but **R** is true

(1) 1

(2) 2

(3) 3

(4) 4

नीचे दो कथन दिए गए हैं : एक को अभिकथन (A) और दूसरे को कारण (R) कहा गया है।

अभिकथन (A) : आर्थिक लाभ, लेखांकन लाभ की अपेक्षा कम होता है।

कारण (R) : लेखांकन लाभ = राजस्व - निश्चित लागत

आर्थिक लाभ = राजस्व - निश्चित लागत - अन्तर्निहित लागत

उपर्युक्त कथनों के आलोक में निम्नांकित विकल्पों में से सही उत्तर चुनें :

1. (A) और (R) दोनों सही हैं और (R), (A) की सही व्याख्या है।
2. (A) और (R) दोनों सही हैं परन्तु (R), (A) की सही व्याख्या नहीं है।
3. (A) सही है परन्तु (R) सही नहीं है।
4. (A) सही नहीं है परन्तु (R) सही है।

- (1) 1
- (2) 2
- (3) 3
- (4) 4

1[Option ID=33649] Question Description : bwlq\_pg\_com\_eng\_2\_q87  
2[Option ID=33650]  
3[Option ID=33651]  
4[Option ID=33652]

SI. No.88  
QBID:328088

Given below are two statements

**Statement I:** The stage in the manufacturing process where joint products are separately identifiable is called split-off point.

**Statement II:** The production costs incurred after the split-off point are called separable costs.

In light of the above statements, choose the **correct** answer from the options given below

- 1. Both Statement I and Statement II are true
- 2. Both Statement I and Statement II are false
- 3. Statement I is true but Statement II is false
- 4. Statement I is false but Statement II is true

- (1) 1
- (2) 2
- (3) 3
- (4) 4

नीचे दो कथन दिए गए हैं :

कथन - I : विनिर्माण प्रक्रिया के उस चरण को विखंडन बिंदु (स्पलिस्ट ऑफ प्वाइंट) कहा जाता है जहां संयुक्त उत्पादों को अलग - अलग पहचाना जा सकता है।

कथन - II : विखंडन बिंदु के बाद आई उत्पादन लागत को पृथक लागत कहा जाता है।

उपर्युक्त कथनों के आलोक में निम्नलिखित विकल्पों में से सही उत्तर चुनें :

- 1. कथन I और II दोनों सही हैं।
- 2. कथन I और II दोनों गलत हैं।
- 3. कथन I सत्य है, किन्तु कथन II असत्य है।
- 4. कथन I असत्य है, किन्तु कथन II सत्य है।

- (1) 1
- (2) 2
- (3) 3
- (4) 4

1[Option ID=33653] Question Description : bwlq\_pg\_com\_eng\_2\_q88  
2[Option ID=33654]  
3[Option ID=33655]  
4[Option ID=33656]

SI. No.89  
QBID:328089

Given below are two statements

**Statement I:** Long term capital loss can only be set off against the long term capital gains.

**Statement II:** Long-term capital gains exceeding Rs one lakh are subject to tax at the rate of 10% with indexation and at 20% without indexation.

In light of the above statements, choose the **most appropriate** answer from the options given below

1. Both Statement I and Statement II are correct
2. Both Statement I and Statement II are incorrect
3. Statement I is correct but Statement II is incorrect
4. Statement I is incorrect but Statement II is correct

(1) 1

(2) 2

(3) 3

(4) 4

नीचे दो कथन दिए गए हैं :

कथन - I : दीर्घकालिक लाभ में से ही दीर्घकालिक पूँजी हानि समायोजित हो सकती है।

कथन - II : एक लाख से अधिक के दीर्घ कालिक पूँजी लाभ 10% सूचीकरण (इंडेक्शेसन) और 20% बिना सूचीकरण (इंडेक्शेसन) वाली दर पर कर की मर्दे हैं।

उपर्युक्त कथनों के आलोक में निम्नलिखित विकल्पों में से सही उत्तर चुनें :

1. कथन I और II दोनों सही हैं।
2. कथन I और II दोनों गलत हैं।
3. कथन I सत्य है, किन्तु कथन II असत्य है।
4. कथन I असत्य है, किन्तु कथन II सत्य है।

(1) 1

(2) 2

(3) 3

(4) 4

1[Option ID=33657]

2[Option ID=33658]

3[Option ID=33659]

4[Option ID=33660]

Question Description : bwlg\_pg\_com\_eng\_2\_q89

SI. No.90

QBID:328090

Given below are two statements, one is labelled as **Assertion A** and the other is labelled as **Reason R**

**Assertion A:** One of the most difficult product to sell is 'life insurance' such that one who sells life insurance can sell anything under the Sun.

**Reason R:** What is sought to be marketed in life insurance is an assurance whereby payment of money is assured upon death or the happening of any contingency depended upon human life.

In light of the above statements, choose the **correct** answer from the options given below

1. Both **A** and **R** are true and **R** is the correct explanation of **A**
2. Both **A** and **R** are true but **R** is NOT the correct explanation of **A**
3. **A** is true but **R** is false
4. **A** is false but **R** is true

(1) 1

(2) 2

(3) 3

(4) 4

नीचे दो कथन दिए गए हैं : एक को अभिकथन (A) और दूसरे को कारण (R) कहा गया है।

अभिकथन (A) : जीवन बीमा उत्पाद की बिक्री करना, विक्रय हेतु सर्वाधिक कठिन उत्पादों में से एक है, इस तरह से जो जीवन बीमा की बिक्री कर सकता है वह समस्त ब्रह्माण्ड में कुछ भी बेच सकता है।

कारण (R) : जीवन बीमा के क्षेत्र में इस तरह के आश्वासन का विपणन किया जाता है जिसमें मृत्यु पर अथवा मानव जीवन आधारित किसी भी आकस्मिकता के घटित होने पर बीमित को रुपये का भुगतान किया जाता है।

उपर्युक्त कथनों के आलोक में निम्नांकित विकल्पों में से सही उत्तर चुनें :

1. (A) और (R) दोनों सही हैं और (R), (A) की सही व्याख्या है।
2. (A) और (R) दोनों सही हैं परन्तु (R), (A) की सही व्याख्या नहीं है।
3. (A) सही है परन्तु (R) सही नहीं है।
4. (A) सही नहीं है परन्तु (R) सही है।

(1) 1

(2) 2

(3) 3

(4) 4

1[Option ID=33661]

2[Option ID=33662]


3[Option ID=33663]

4[Option ID=33664]

Question Description : bwlg\_pg\_com\_eng\_2\_q90

Sl. No.91

QBID:328091



### Read the passage below carefully and answer the five questions that follow

The invention of the office - from the Latin *opus* (work) + *facere* (do) = *officium* (performance of work) -was necessitated by the inability of work to be done remotely. Until very recently, the prevalent technology was simply not available or very limited to allow work away from office. If you had to conduct stocktaking, copy documents or engage in a brainstorming session, one had to be physically close to the tools of work and co-workers. Even as the technology was becoming increasingly available, it was the forced disruption of pandemic that finally showed that office, like the stock exchange trading floor, as a shared physical-only space was no longer essential to carry out work. Today, as Covid restrictions thankfully recede, the push that had become the shove of working from home (WFH) is becoming a nudge for working from anywhere (WFA).

Neither can all work be conducted WFA nor to all workers prefer remote working. Several reasons for the primacy of the 'face-to-face' work model are trotted out - 'water-cooler' engagements; ideas flying 'better' at corporeally attended meeting; company values welded only under 'one roof, one team' norms. But studies, including pre-pandemic ones conducted by the likes of Harvard Business School's Prithwiraj Choudhury, have shown that WFA is a 'win-win for 'Workers, Companies and for Society'. WFA slashes time and energy expended in commutes; allows workers the choice of their work surroundings that may actually improve their quantitative and qualitative output; provides less crowded space for those who choose offices as their comfort work zone. Most importantly, for companies, it allows HFA - hiring from anywhere, thereby breaking the talent pool distance barrier.

The new hybrid work culture is still a work-in progress. Floor managers will have to be trained to manage a different kind of floor. Company values will need to flourish in a digital-deeper environment. The idea of work-life balance itself has to be rejigged. But the bottomline is work optimisation. For which WFA, without the stress of a pandemic around, makes damn good pitch.

### निम्नलिखित गद्यांश को सावधानी से पढ़ें और दिए गए प्रश्नों के उत्तर दीजिये :

कार्यालय - लैटिन शब्द ओपस (कार्य) + फेकरे (करो) = ऑफिस (कार्य निष्पादन) - का आविष्कार आवश्यक था क्योंकि दूर से कार्य करना संभव नहीं था। अभी हाल तक कार्यालय से दूर रह कर कार्य करना संभव बनाने की विद्यमान प्रौद्योगिकी या तो उपलब्ध ही नहीं थी या बहुत सीमित थी। यदि आपको स्टॉक का लेखा-जोखा लेना हो, दस्तावेजों के प्रति बनानी हो या विचार मंथन करना हो, तो काम करने के उपकरणों और सहकर्मियों के साथ भौतिकरूप से निकट होना जरूरी था। प्रौद्योगिकी तो अधिकाधिक उपलब्ध हो ही रही थी, महामारी ने जो बलात व्यवधान उत्पन्न किया, उसने अंततः यह दर्शा दिया कि शेयर बाजार के कारोबारी मंच की तरह अब कार्य करने के लिए भौतिक रूप से सांझा एकमात्र स्थान के रूप में कार्यालय अब अनिवार्य नहीं रह गया था। आज हम कृतज्ञ हैं कि जैसे जैसे कोविड प्रतिबंधों से पीछे हटा जा रहा है वह दबाव जो घर से कार्य (डब्ल्यू एफ एच) का धक्का बन गया था। अब कहीं से भी कार्य करने (डब्ल्यू एफ ए) का टहोका बन गया है।

न तो सारा काम कहीं से भी (डब्ल्यू एफ ए) किया जा सकता है और न ही सभी कर्मचारी दूर से काम करना पसंद करते हैं। आमने सामने के कार्य मॉडल की श्रेष्ठता के लिए कई कारण प्रस्तुत किए जाते हैं - 'वाटर कूलर' पर होने वाली मुलाकातें, भौतिक उपस्थिति वाली बैठकों में 'बेहतर' विचार मंथन, 'एक छत - एक टीम' मानकों के अंतर्गत कंपनी मूल्य का जुड़ाव। लेकिन हार्वर्ड बिज़नेस स्कूल के पृथ्वीराज चौधरी जैसों द्वारा किए गए महामारी पूर्व अध्ययन सहित, अनेक अध्ययनों में यह दर्शाया है कि डब्ल्यू एफ ए कर्मचारियों, कंपनियों और समाज सभी के लिए लाभदायक है। डब्ल्यू एफ ए ने आने जाने में लगने वाले समय और ऊर्जा में कटौती की है, कर्मचारियों को अपने परिवेश को चुनने की अनुमति दी है जिससे वे अपने मात्रात्मक व गुणात्मक कार्य निष्पादन में वास्तविक सुधार कर सकते हैं, कार्यालय को अपने आरामदायक कार्यक्षेत्र के रूप में पसंद करने वालों के लिए कम भीड़भाड़ वाला स्थान प्रदान करता है। और सर्वाधिक महत्वपूर्ण, यह कंपनियों को कहीं से भी भर्ती करने -एच एफ ए - की अनुमति देता है और इस तरह से मेघा भंडार के दूरी अवरोध को तोड़ता है।

यह नई मिश्रित कार्य संस्कृति अभी विकसित हो रही है। फ्लोर प्रबंधकों को एक नए प्रकार के फ्लोर प्रबंधन के लिए प्रशिक्षित किया जाना होगा। कंपनी मूल्यों को अंकीकृत गहरे परिवेश में फलना - फूलना होगा। स्वयं कार्य जीवन में संतुलन के विचार को भी पुनः व्यवस्थित करना होगा लेकिन अंतिम सत्य है कार्य - इष्टतमीकरण। और इसके लिए डब्ल्यू एफ ए, महामारी के दबाव के बिना, एक बेहद अच्छा प्रस्ताव है।

Given below are two statements, one is labelled as **Assertion A** and the other is labelled as **Reason R**

**Assertion A:** Work from Anywhere is only possible in case of employees working independently.

**Reason R:** Brainstorming sessions are possible in the case of Work from Anywhere.

In light of the above statements, choose the **most appropriate** answer from the options given below

1. Both **A** and **R** are correct and **R** is the correct explanation of **A**
2. Both **A** and **R** are correct but **R** is NOT the correct explanation of **A**
3. **A** is correct but **R** is not correct
4. **A** is not correct but **R** is correct

- (1) 1  
(2) 2  
(3) 3  
(4) 4

नीचे दो कथन दिए गए हैं : एक को अभिकथन (A) और दूसरे को कारण (R) कहा गया है।

अभिकथन (A) : कहीं से भी कार्य केवल स्वतंत्र रूप से कार्यरत कर्मचारियों के मामले में ही संभव है।

कारण (R) : कहीं से भी कार्य के संदर्भ में विचार मंथन सत्र संभव है।

उपर्युक्त कथनों के आलोक में निम्नांकित विकल्पों में से सही उत्तर चुनें :

1. (A) और (R) दोनों सही हैं और (R), (A) की सही व्याख्या है।
2. (A) और (R) दोनों सही हैं परन्तु (R), (A) की सही व्याख्या नहीं है।
3. (A) सही है परन्तु (R) सही नहीं है।
4. (A) सही नहीं है परन्तु (R) सही है।

- (1) 1  
(2) 2  
(3) 3  
(4) 4

- 1[Option ID=33665]  
2[Option ID=33666]  
3[Option ID=33667]  
4[Option ID=33668]

Question Description : bwlg\_pg\_com\_eng\_2\_q91

SI. No.92  
QBID:328092



### Read the passage below carefully and answer the five questions that follow

The invention of the office - from the Latin *opus* (work) + *facere* (do) = *officium* (performance of work) - was necessitated by the inability of work to be done remotely. Until very recently, the prevalent technology was simply not available or very limited to allow work away from office. If you had to conduct stocktaking, copy documents or engage in a brainstorming session, one had to be physically close to the tools of work and co-workers. Even as the technology was becoming increasingly available, it was the forced disruption of pandemic that finally showed that office, like the stock exchange trading floor, as a shared physical-only space was no longer essential to carry out work. Today, as Covid restrictions thankfully recede, the push that had become the shove of working from home (WFH) is becoming a nudge for working from anywhere (WFA).

Neither can all work be conducted WFA nor do all workers prefer remote working. Several reasons for the primacy of the 'face-to-face' work model are trotted out - 'water-cooler' engagements; ideas flying 'better' at corporeally attended meetings; company values welded only under 'one roof, one team' norms. But studies, including pre-pandemic ones conducted by the likes of Harvard Business School's Prithwiraj Choudhury, have shown that WFA is a 'win-win for Workers, Companies and for Society'. WFA slashes time and energy expended in commutes; allows workers the choice of their work surroundings that may actually improve their quantitative and qualitative output; provides less crowded space for those who choose offices as their comfort work zone. Most importantly, for companies, it allows HFA - hiring from anywhere, thereby breaking the talent pool distance barrier.

The new hybrid work culture is still a work-in progress. Floor managers will have to be trained to manage a different kind of floor. Company values will need to flourish in a digital-deeper environment. The idea of work-life balance itself has to be rejigged. But the bottomline is work optimisation. For which WFA, without the stress of a pandemic around, makes damn good pitch.

### निम्नलिखित गद्यांश को सावधानी से पढ़ें और दिए गए प्रश्नों के उत्तर दीजिये :

कार्यालय - लैटिन शब्द ओपस (कार्य) + फेकरे (करो) = ऑफिस (कार्य निष्पादन) - का आविष्कार आवश्यक था क्योंकि दूर से कार्य करना संभव नहीं था। अभी हाल तक कार्यालय से दूर रह कर कार्य करना संभव बनाने की विद्यमान प्रौद्योगिकी या तो उपलब्ध ही नहीं थी या बहुत सीमित थी। यदि आपको स्टॉक का लेखा-जोखा लेना हो, दस्तावेजों के प्रति बनानी हो या विचार मंथन करना हो, तो काम करने के उपकरणों और सहकर्मियों के साथ भौतिकरूप से निकट होना जरूरी था। प्रौद्योगिकी तो अधिकाधिक उपलब्ध हो ही रही थी, महामारी ने जो बलात व्यवधान उत्पन्न किया, उसने अंततः यह दर्शा दिया कि शेयर बाजार के कारोबारी मंच की तरह अब कार्य करने के लिए भौतिक रूप से सांझा एकमात्र स्थान के रूप में कार्यालय अब अनिवार्य नहीं रह गया था। आज हम कृतज्ञ हैं कि जैसे जैसे कोविड प्रतिबंधों से पीछे हटा जा रहा है वह दबाव जो घर से कार्य (डब्लू एफ एच) का धक्का बन गया था। अब कहीं से भी कार्य करने (डब्लू एफ ए) का टहोका बन गया है।

न तो सारा काम कहीं से भी (डब्लू एफ ए) किया जा सकता है और न ही सभी कर्मचारी दूर से काम करना पसंद करते हैं। आमने सामने के कार्य मॉडल की श्रेष्ठता के लिए कई कारण प्रस्तुत किए जाते हैं - 'वाटर कूलर' पर होने वाली मुलाकातें, भौतिक उपस्थिति वाली बैठकों में 'बेहतर' विचार मंथन, 'एक छत - एक टीम' मानकों के अंतर्गत कंपनी मूल्य का जुड़ाव। लेकिन हार्वर्ड बिज़नेस स्कूल के पृथ्वीराज चौधरी जैसे द्वारा किए गए महामारी पूर्व अध्ययन सहित, अनेक अध्ययनों में यह दर्शाया है कि डब्ल्यू एफ ए कर्मचारियों, कंपनियों और समाज सभी के लिए लाभदायक है। डब्ल्यू एफ ए ने आने जाने में लगने वाले समय और ऊर्जा में कटौती की है, कर्मचारियों को अपने परिवेश को चुनने की अनुमति दी है जिससे वे अपने मात्रात्मक व गुणात्मक कार्य निष्पादन में वास्तविक सुधार कर सकते हैं, कार्यालय को अपने आरामदायक कार्यक्षेत्र के रूप में पसंद करने वालों के लिए कम भीड़भाड़ वाला स्थान प्रदान करता है। और सर्वाधिक महत्वपूर्ण, यह कंपनियों को कहीं से भी भर्ती करने - एच एफ ए - की अनुमति देता है और इस तरह से मेघा भंडार के दूरी अवरोध को तोड़ता है।

यह नई मिश्रित कार्य संस्कृति अभी विकसित हो रही है। फ्लोर प्रबंधकों को एक नए प्रकार के फ्लोर प्रबंधन के लिए प्रशिक्षित किया जाना होगा। कंपनी मूल्यों को अंकीकृत गहरे परिवेश में फलना - फूलना होगा। स्वयं कार्य जीवन में संतुलन के विचार को भी पुनः व्यवस्थित करना होगा लेकिन अंतिम सत्य है कार्य - इष्टतमीकरण। और इसके लिए डब्ल्यू एफ ए, महामारी के दबाव के बिना, एक बेहद अच्छा प्रस्ताव है।

Work from Office was preferred because of

- A. 'Water cooler' engagements
- B. Ideas fly better at corporeally attended meetings
- C. Promotes one team norm
- D. Improves work-life balance
- E. Inability of work to be done remotely

Choose the **most appropriate** answer from the options given below:

- 1. A, B and C only
- 2. C, D and E only
- 3. A, B, C and E only
- 4. A, B and E only

(1) 1

(2) 2

(3) 3

(4) 4

कार्यालय से कार्य करने को निम्नलिखित में से किन के कारण पसंद किया गया था ?

- A. 'वाटर - कूलर' मुलाकातें
- B. भौतिक उपस्थिति वाली बैठकों में बेहतर विचार मंथन होता है
- C. एक टीम के मानक का संवर्धन
- D. कार्य - जीवन संतुलन में सुधार
- E. दूर से कार्य करने की असमर्थता

नीचे दिए गए विकल्पों में से सही उत्तर चुनें :

- 1. केवल A, B और C
- 2. केवल C, D और E
- 3. केवल A, B, C और E
- 4. केवल A, B और E

(1) 1

(2) 2

(3) 3

(4) 4

1[Option ID=33669]

2[Option ID=33670]

3[Option ID=33671]

4[Option ID=33672]

Question Description : bwlg\_pg\_com\_eng\_2\_q92

Sl. No.93

QBID:328093

### Read the passage below carefully and answer the five questions that follow

The invention of the office - from the Latin *opus* (work) + *facere* (do) = *officium* (performance of work) - was necessitated by the inability of work to be done remotely. Until very recently, the prevalent technology was simply not available or very limited to allow work away from office. If you had to conduct stocktaking, copy documents or engage in a brainstorming session, one had to be physically close to the tools of work and co-workers. Even as the technology was becoming increasingly available, it was the forced disruption of pandemic that finally showed that office, like the stock exchange trading floor, as a shared physical-only space was no longer essential to carry out work. Today, as Covid restrictions thankfully recede, the push that had become the shove of working from home (WFH) is becoming a nudge for working from anywhere (WFA).

Neither can all work be conducted WFA nor do all workers prefer remote working. Several reasons for the primacy of the 'face-to-face' work model are trotted out - 'water-cooler' engagements; ideas flying 'better' at corporeally attended meetings; company values welded only under 'one roof, one team' norms. But studies, including pre-pandemic ones conducted by the likes of Harvard Business School's Prithwiraj Choudhury, have shown that WFA is a 'win-win for Workers, Companies and for Society'. WFA slashes time and energy expended in commutes; allows workers the choice of their work surroundings that may actually improve their quantitative and qualitative output; provides less crowded space for those who choose offices as their comfort work zone. Most importantly, for companies, it allows HFA - hiring from anywhere, thereby breaking the talent pool distance barrier.

The new hybrid work culture is still a work-in progress. Floor managers will have to be trained to manage a different kind of floor. Company values will need to flourish in a digital-deeper environment. The idea of work-life balance itself has to be rejigged. But the bottomline is work optimisation. For which WFA, without the stress of a pandemic around, makes damn good pitch.

### निम्नलिखित गद्यांश को सावधानी से पढ़ें और दिए गए प्रश्नों के उत्तर दीजिये :

कार्यालय - लैटिन शब्द ओपस (कार्य) + फेरे (करो) = ऑफिस (कार्य निष्पादन) - का आविष्कार आवश्यक था क्योंकि दूर से कार्य करना संभव नहीं था। अभी हाल तक कार्यालय से दूर रह कर कार्य करना संभव बनाने की विद्यमान प्रौद्योगिकी या तो उपलब्ध ही नहीं थी या बहुत सीमित थी। यदि आपको स्टॉक का लेखा-जोखा लेना हो, दस्तावेजों के प्रति बनानी हो या विचार मंथन करना हो, तो काम करने के उपकरणों और सहकर्मियों के साथ भौतिकरूप से निकट होना जरूरी था। प्रौद्योगिकी तो अधिकाधिक उपलब्ध हो ही रही थी, महामारी ने जो बलात व्यवधान उत्पन्न किया, उसने अंततः यह दर्शा दिया कि शेयर बाजार के कारोबारी मंच की तरह अब कार्य करने के लिए भौतिक रूप से सांझा एकमात्र स्थान के रूप में कार्यालय अब अनिवार्य नहीं रह गया था। आज हम कृतज्ञ हैं कि जैसे जैसे कोविड प्रतिबंधों से पीछे हटा जा रहा है वह दबाव जो घर से कार्य (डब्लू एफ एच) का धक्का बन गया था। अब कहीं से भी कार्य करने (डब्लू एफ ए) का टहोका बन गया है।

न तो सारा काम कहीं से भी (डब्लू एफ ए) किया जा सकता है और न ही सभी कर्मचारी दूर से काम करना पसंद करते हैं। आमने सामने के कार्य मॉडल की श्रेष्ठता के लिए कई कारण प्रस्तुत किए जाते हैं - 'वाटर कूलर' पर होने वाली मुलाकातें, भौतिक उपस्थिति वाली बैठकों में 'बेहतर' विचार मंथन, 'एक छत - एक टीम' मानकों के अंतर्गत कंपनी मूल्य का जुड़ाव। लेकिन हार्वर्ड बिज़नेस स्कूल के पृथ्वीराज चौधरी जैसे द्वारा किए गए महामारी पूर्व अध्ययन सहित, अनेक अध्ययनों में यह दर्शाया है कि डब्ल्यू एफ ए कर्मचारियों, कंपनियों और समाज सभी के लिए लाभदायक है। डब्ल्यू एफ ए ने आने जाने में लगने वाले समय और ऊर्जा में कटौती की है, कर्मचारियों को अपने परिवेश को चुनने की अनुमति दी है जिससे वे अपने मात्रात्मक व गुणात्मक कार्य निष्पादन में वास्तविक सुधार कर सकते हैं, कार्यालय को अपने आरामदायक कार्यक्षेत्र के रूप में पसंद करने वालों के लिए कम भीड़भाड़ वाला स्थान प्रदान करता है। और सर्वाधिक महत्वपूर्ण, यह कंपनियों को कहीं से भी भर्ती करने - एच एफ ए - की अनुमति देता है और इस तरह से मेघा भंडार के दूरी अवरोध को तोड़ता है।

यह नई मिश्रित कार्य संस्कृति अभी विकसित हो रही है। फ्लोर प्रबंधकों को एक नए प्रकार के फ्लोर प्रबंधन के लिए प्रशिक्षित किया जाना होगा। कंपनी मूल्यों को अंकीकृत गहरे परिवेश में फलना - फूलना होगा। स्वयं कार्य जीवन में संतुलन के विचार को भी पुनः व्यवस्थित करना होगा लेकिन अंतिम सत्य है कार्य - इष्टतमीकरण। और इसके लिए डब्ल्यू एफ ए, महामारी के दबाव के बिना, एक बेहद अच्छा प्रस्ताव है।

Given below are two statements

**Statement I:** Work from home concept was not initiated in the past because no one had conceptualised it.

**Statement II:** It was not possible to Work from home in the past.

In light of the above statements, choose the **most appropriate** answer from the options given below

1. Both Statement I and Statement II are correct
2. Both Statement I and Statement II are incorrect
3. Statement I is correct but Statement II is incorrect
4. Statement I is incorrect but Statement II is correct

(1) 1

(2) 2

(3) 3

(4) 4

नीचे दो कथन दिए गए हैं :

कथन - I : अतीत में घर से कार्य करने की संकल्पना का आरंभ नहीं किया गया था क्योंकि किसी ने इसकी संकल्पना नहीं की थी।

कथन - II : अतीत में घर से कार्य करना संभव नहीं था।

उपर्युक्त कथनों के आलोक में निम्नलिखित विकल्पों में से सही उत्तर चुनें :

1. कथन I और II दोनों सही हैं।
2. कथन I और II दोनों गलत हैं।
3. कथन I सही है, किन्तु कथन II गलत है।
4. कथन I गलत है, किन्तु कथन II सही है।

(1) 1

(2) 2

(3) 3

(4) 4

1[Option ID=33673]

2[Option ID=33674]

3[Option ID=33675]

4[Option ID=33676]

Question Description : bwlg\_pg\_com\_eng\_2\_q93

SI. No.94

QBID:328094

### Read the passage below carefully and answer the five questions that follow

The invention of the office - from the Latin *opus* (work) + *facere* (do) = *officium* (performance of work) - was necessitated by the inability of work to be done remotely. Until very recently, the prevalent technology was simply not available or very limited to allow work away from office. If you had to conduct stocktaking, copy documents or engage in a brainstorming session, one had to be physically close to the tools of work and co-workers. Even as the technology was becoming increasingly available, it was the forced disruption of pandemic that finally showed that office, like the stock exchange trading floor, as a shared physical-only space was no longer essential to carry out work. Today, as Covid restrictions thankfully recede, the push that had become the shove of working from home (WFH) is becoming a nudge for working from anywhere (WFA).

Neither can all work be conducted WFA nor do all workers prefer remote working. Several reasons for the primacy of the 'face-to-face' work model are trotted out - 'water-cooler' engagements; ideas flying 'better' at corporeally attended meetings; company values welded only under 'one roof, one team' norms. But studies, including pre-pandemic ones conducted by the likes of Harvard Business School's Prithwiraj Choudhury, have shown that WFA is a 'win-win for Workers, Companies and for Society'. WFA slashes time and energy expended in commutes; allows workers the choice of their work surroundings that may actually improve their quantitative and qualitative output; provides less crowded space for those who choose offices as their comfort work zone. Most importantly, for companies, it allows HFA - hiring from anywhere, thereby breaking the talent pool distance barrier.

The new hybrid work culture is still a work-in progress. Floor managers will have to be trained to manage a different kind of floor. Company values will need to flourish in a digital-deeper environment. The idea of work-life balance itself has to be rejigged. But the bottomline is work optimisation. For which WFA, without the stress of a pandemic around, makes damn good pitch.

### निम्नलिखित गद्यांश को सावधानी से पढ़ें और दिए गए प्रश्नों के उत्तर दीजिये :

कार्यालय - लैटिन शब्द ओपस (कार्य) + फेरे (करो) = ऑफिस (कार्य निष्पादन) - का आविष्कार आवश्यक था क्योंकि दूर से कार्य करना संभव नहीं था। अभी हाल तक कार्यालय से दूर रह कर कार्य करना संभव बनाने की विद्यमान प्रौद्योगिकी या तो उपलब्ध ही नहीं थी या बहुत सीमित थी। यदि आपको स्टॉक का लेखा-जोखा लेना हो, दस्तावेजों के प्रति बनानी हो या विचार मंथन करना हो, तो काम करने के उपकरणों और सहकर्मियों के साथ भौतिकरूप से निकट होना जरूरी था। प्रौद्योगिकी तो अधिकाधिक उपलब्ध हो ही रही थी, महामारी ने जो बलात व्यवधान उत्पन्न किया, उसने अंततः यह दर्शा दिया कि शेयर बाजार के कारोबारी मंच की तरह अब कार्य करने के लिए भौतिक रूप से सांझा एकमात्र स्थान के रूप में कार्यालय अब अनिवार्य नहीं रह गया था। आज हम कृतज्ञ हैं कि जैसे जैसे कोविड प्रतिबंधों से पीछे हटा जा रहा है वह दबाव जो घर से कार्य (डब्ल्यू एफ ए) का धक्का बन गया था। अब कहीं से भी कार्य करने (डब्ल्यू एफ ए) का टहोका बन गया है।

न तो सारा काम कहीं से भी (डब्ल्यू एफ ए) किया जा सकता है और न ही सभी कर्मचारी दूर से काम करना पसंद करते हैं। आमने सामने के कार्य मॉडल की श्रेष्ठता के लिए कई कारण प्रस्तुत किए जाते हैं - 'वाटर कूलर' पर होने वाली मुलाकातें, भौतिक उपस्थिति वाली बैठकों में 'बेहतर' विचार मंथन, 'एक छत - एक टीम' मानकों के अंतर्गत कंपनी मूल्य का जुड़ाव। लेकिन हार्वर्ड बिज़नेस स्कूल के पृथ्वीराज चौधरी जैसों द्वारा किए गए महामारी पूर्व अध्ययन सहित, अनेक अध्ययनों में यह दर्शाया है कि डब्ल्यू एफ ए कर्मचारियों, कंपनियों और समाज सभी के लिए लाभदायक है। डब्ल्यू एफ ए ने आने जाने में लगने वाले समय और ऊर्जा में कटौती की है, कर्मचारियों को अपने परिवेश को चुनने की अनुमति दी है जिससे वे अपने मात्रात्मक व गुणात्मक कार्य निष्पादन में वास्तविक सुधार कर सकते हैं, कार्यालय को अपने आरामदायक कार्यक्षेत्र के रूप में पसंद करने वालों के लिए कम भीड़भाड़ वाला स्थान प्रदान करता है। और सर्वाधिक महत्वपूर्ण, यह कंपनियों को कहीं से भी भर्ती करने - एच एफ ए - की अनुमति देता है और इस तरह से मेघा भंडार के दूरी अवरोध को तोड़ता है।

यह नई मिश्रित कार्य संस्कृति अभी विकसित हो रही है। फ्लोर प्रबंधकों को एक नए प्रकार के फ्लोर प्रबंधन के लिए प्रशिक्षित किया जाना होगा। कंपनी मूल्यों को अंकीकृत गहरे परिवेश में फलना - फूलना होगा। स्वयं कार्य जीवन में संतुलन के विचार को भी पुनः व्यवस्थित करना होगा लेकिन अंतिम सत्य है कार्य - इष्टतमीकरण। और इसके लिए डब्ल्यू एफ ए, महामारी के दबाव के बिना, एक बेहद अच्छा प्रस्ताव है।

Which one of the following is NOT true for Work from Anywhere?

1. It reduces time and energy expended in commuting
2. It increases talent pool distance barrier
3. It allows an employee to choose his work surroundings
4. It improves quality and quantity of work output

(1) 1

(2) 2

(3) 3

(4) 4

कहीं से भी कार्य करने के बारे में निम्नलिखित में से क्या सही नहीं है ?

1. यह आने - जाने में लगने वाले समय और ऊर्जा में कमी करता है
2. यह मेधा पूल दूरी अवरोध को बढ़ाता है
3. यह कर्मचारी को अपना कार्य परिवेश चुनने की अनुमति देता है
4. यह कार्य निष्पादन के गुण और मात्रा में सुधार करता है

(1) 1

(2) 2

(3) 3

(4) 4

1[Option ID=33677]

2[Option ID=33678]


3[Option ID=33679]

4[Option ID=33680]

Question Description : bwlg\_pg\_com\_eng\_2\_q94

Sl. No.95

QBID:328095



### Read the passage below carefully and answer the five questions that follow

The invention of the office - from the Latin *opus* (work) + *facere* (do) = *officium* (performance of work) -was necessitated by the inability of work to be done remotely. Until very recently, the prevalent technology was simply not available or very limited to allow work away from office. If you had to conduct stocktaking, copy documents or engage in a brainstorming session, one had to be physically close to the tools of work and co-workers. Even as the technology was becoming increasingly available, it was the forced disruption of pandemic that finally showed that office, like the stock exchange trading floor, as a shared physical-only space was no longer essential to carry out work. Today, as Covid restrictions thankfully recede, the push that had become the shove of working from home (WFH) is becoming a nudge for working from anywhere (WFA).

Neither can all work be conducted WFA nor to all workers prefer remote working. Several reasons for the primacy of the 'face-to-face' work model are trotted out - 'water-cooler' engagements; ideas flying 'better' at corporeally attended meeting; company values welded only under 'one roof, one team' norms. But studies, including pre-pandemic ones conducted by the likes of Harvard Business School's Prithwiraj Choudhury, have shown that WFA is a 'win-win for 'Workers, Companies and for Society'. WFA slashes time and energy expended in commutes; allows workers the choice of their work surroundings that may actually improve their quantitative and qualitative output; provides less crowded space for those who choose offices as their comfort work zone. Most importantly, for companies, it allows HFA - hiring from anywhere, thereby breaking the talent pool distance barrier.

The new hybrid work culture is still a work-in progress. Floor managers will have to be trained to manage a different kind of floor. Company values will need to flourish in a digital-deeper environment. The idea of work-life balance itself has to be rejigged. But the bottomline is work optimisation. For which WFA, without the stress of a pandemic around, makes damn good pitch.

### निम्नलिखित गद्यांश को सावधानी से पढ़ें और दिए गए प्रश्नों के उत्तर दीजिये :

कार्यालय - लैटिन शब्द ओपस (कार्य) + फेकरे (करो) = ऑफिस (कार्य निष्पादन) - का आविष्कार आवश्यक था क्योंकि दूर से कार्य करना संभव नहीं था। अभी हाल तक कार्यालय से दूर रह कर कार्य करना संभव बनाने की विद्यमान प्रौद्योगिकी या तो उपलब्ध ही नहीं थी या बहुत सीमित थी। यदि आपको स्टॉक का लेखा-जोखा लेना हो, दस्तावेजों के प्रति बनानी हो या विचार मंथन करना हो, तो काम करने के उपकरणों और सहकर्मियों के साथ भौतिकरूप से निकट होना जरूरी था। प्रौद्योगिकी तो अधिकाधिक उपलब्ध हो ही रही थी, महामारी ने जो बलात व्यवधान उत्पन्न किया, उसने अंततः यह दर्शा दिया कि शेयर बाजार के कारोबारी मंच की तरह अब कार्य करने के लिए भौतिक रूप से सांझा एकमात्र स्थान के रूप में कार्यालय अब अनिवार्य नहीं रह गया था। आज हम कृतज्ञ हैं कि जैसे जैसे कोविड प्रतिबंधों से पीछे हटा जा रहा है वह दबाव जो घर से कार्य (डब्ल्यू एफ एच) का धक्का बन गया था। अब कहीं से भी कार्य करने (डब्ल्यू एफ ए) का टहोका बन गया है।

न तो सारा काम कहीं से भी (डब्ल्यू एफ ए) किया जा सकता है और न ही सभी कर्मचारी दूर से काम करना पसंद करते हैं। आमने सामने के कार्य मॉडल की श्रेष्ठता के लिए कई कारण प्रस्तुत किए जाते हैं - 'वाटर कूलर' पर होने वाली मुलाकातें, भौतिक उपस्थिति वाली बैठकों में 'बेहतर' विचार मंथन, 'एक छत - एक टीम' मानकों के अंतर्गत कंपनी मूल्य का जुड़ाव। लेकिन हार्वर्ड बिज़नेस स्कूल के पृथ्वीराज चौधरी जैसे द्वारा किए गए महामारी पूर्व अध्ययन सहित, अनेक अध्ययनों में यह दर्शाया है कि डब्ल्यू एफ ए कर्मचारियों, कंपनियों और समाज सभी के लिए लाभदायक है। डब्ल्यू एफ ए ने आने जाने में लगने वाले समय और ऊर्जा में कटौती की है, कर्मचारियों को अपने परिवेश को चुनने की अनुमति दी है जिससे वे अपने मात्रात्मक व गुणात्मक कार्य निष्पादन में वास्तविक सुधार कर सकते हैं, कार्यालय को अपने आरामदायक कार्यक्षेत्र के रूप में पसंद करने वालों के लिए कम भीड़भाड़ वाला स्थान प्रदान करता है। और सर्वाधिक महत्वपूर्ण, यह कंपनियों को कहीं से भी भर्ती करने -एच एफ ए - की अनुमति देता है और इस तरह से मेघा भंडार के दूरी अवरोध को तोड़ता है।

यह नई मिश्रित कार्य संस्कृति अभी विकसित हो रही है। फ्लोर प्रबंधकों को एक नए प्रकार के फ्लोर प्रबंधन के लिए प्रशिक्षित किया जाना होगा। कंपनी मूल्यों को अंकीकृत गहरे परिवेश में फलना - फूलना होगा। स्वयं कार्य जीवन में संतुलन के विचार को भी पुनः व्यवस्थित करना होगा लेकिन अंतिम सत्य है कार्य - इष्टतमीकरण। और इसके लिए डब्ल्यू एफ ए, महामारी के दबाव के बिना, एक बेहद अच्छा प्रस्ताव है।

Given below are two statements in relation to the passage:

**Statement I:** With ease in the stress of the pandemic around, the relevance of Work from Anywhere will reduce

**Statement II:** For the new hybrid work culture to prevail, companies will have to invest more in technology

In light of the above statements, choose the **most appropriate** answer from the options given below

1. Both Statement I and Statement II are correct
2. Both Statement I and Statement II are incorrect
3. Statement I is correct but Statement II is incorrect
4. Statement I is incorrect but Statement II is correct

(1) 1

(2) 2

(3) 3

(4) 4

नीचे दो कथन, गद्यांश के संदर्भ में दिए गए हैं :

कथन - I : चारों ओर महामारी के दबाव में कमी के साथ, कहीं से भी कार्य करने की प्रासंगिकता में कमी आएगी।

कथन - II : नई मिश्रित संस्कृति के प्रबल होने के लिए कंपनियों को प्रौद्योगिकी में और अधिक निवेश करना होगा।

उपर्युक्त कथनों के आलोक में निम्नलिखित विकल्पों में से सही उत्तर चुनें :

1. कथन I और II दोनों सही हैं।
2. कथन I और II दोनों गलत हैं।
3. कथन I सही है, किन्तु कथन II गलत है।
4. कथन I गलत है, किन्तु कथन II सही है।

(1) 1

(2) 2

(3) 3

(4) 4

1[Option ID=33681]

2[Option ID=33682]

3[Option ID=33683]

4[Option ID=33684]

Question Description : bwlg\_pg\_com\_eng\_2\_q95

SI. No.96

QBID:328096



**Read the passage below carefully and answer the five questions that follow**

Capital flows, exchange rates and the interest rates are causes of immediate concern to the national economies. Central banks of various countries have been using a variety of methods with the excessive capital inflows. Foreign portfolio investment have a direct and indirect impact on exchange rates, valuation of traded assets and yields of various government and corporate securities.

RBI, in the post-pandemic scenario and the recent Russia-Ukraine war situation is working on multiple options to stabilize the exchange rates by protecting both the exporters and importers. One way which RBI adopts to maintain a desirable level of exchanges rates is to mop up nets foreign exchange assets from scheduled commercial banks in exchanges of domestic currency (₹) assets. The liquidity flows are, in essence, inflationary. RBI has projected a comfortable GDP rate for the current fiscal and believes a reasonable level of CPI inflation as 5.3%.

The retail inflation, according to the RBI governor, recently is likely to be 4.5% in 2023 fiscal. With this perspective, the repo rate and reverse repo rate remain at 4% and 3.35%, respectively, since May 22, 2020. A balancing act between economic growth and inflation is visible. Though the RBI rates are consistent, the burden on borrowers for the short-term and long-term, is still unpredictable.

**निम्नलिखित गद्यांश को सावधानीपूर्वक पढ़ें तथा नीचे दिए गए प्रश्नों के उत्तर दें**

पूंजी प्रवाह, विनिमय दरें और ब्याज की दरें राष्ट्रीय अर्थव्यवस्था के लिए तात्कालिक चिंता का विषय है। विभिन्न देशों के केंद्रीय बैंक अत्यधिक पूंजी प्रवाह के साथ अलग-अलग पद्धतियों को अपना रहे हैं। विदेशी (पोर्टफोलियो इन्वेस्टमेंट) निवेश-सूची का विनिमय दरों और व्यापार की गई परिसंपत्तियों के मूल्यांकन तथा विभिन्न सरकारी एवं निगमित प्रतिभूतियों के उपार्जन पर प्रत्यक्ष एवं अप्रत्यक्ष प्रभाव पड़ता है।

महामारी के उत्तर परिदृश्य और हाल के रूस यूक्रेन युद्ध की परिस्थिति में आरबीआई निर्यातकों एवं आयातकों दोनों को संरक्षित करते हुए विनिमय दरों को प्रभावित रखने के विभिन्न विकल्पों पर कार्यशील है। विनिमय दरों को वांछनीय स्तर तक रखने के लिए जिस एक प्रक्रिया को आरबीआई अपना रहा है, वह है घरेलू मुद्रा परिसंपत्तियों के बदले में अधिसूचित वाणिज्यिक बैंकों से निवल विदेशी विनिमय संपत्तियों का अधिग्रहण करना। तरलता के प्रवाह स्वभावतः मुद्रा स्फीतिकारक हैं। आरबीआई ने वर्तमान वित्तीय वर्ष के लिए सहज जीडीपी दर का प्रेक्षण किया है और उसका यह मानना है कि उपभोक्ता मूल्य सूचकांक की मुद्रा स्फीतिदर 5.3% के सामान्य स्तर तक रहेगी।

आरबीआई के गवर्नर के अनुसार वित्तीय वर्ष 2023 में मौजूदा खुदरा मुद्रास्फीति दर के 4.5% तक रहने की संभावना है। इसी दृष्टिकोण के साथ 22 मई 2020 से रेपो दर और रिवर्स रेपो दर के भी क्रमश 4% और 3.35% रहने की संभावना है। आर्थिक प्रगति और मुद्रास्फीति के बीच का संतुलन दृष्टिगोचर है। यद्यपि आरबीआई के दर स्थिर (एक समान) है, फिर भी ऋणदाताओं के लिए अल्पावधिक एवं दीर्घावधिक भार अभी भी अप्रत्याशित है।

The primary purpose of the monetary policy of RBI is to maintain

1. Wealth
2. Exchange Rate Volatility
3. Income Equality
4. Stability of prices

(1) 1

(2) 2

(3) 3

(4) 4

आर बी आई की मौद्रिक नीति का प्रमुख उद्देश्य किसे बनाये रखना है :-

1. संपत्ति
2. मुद्रा दर की अस्थिरता
3. आय की समानता
4. मूल्यों की स्थिरता

(1) 1

- (2) 2  
(3) 3  
(4) 4

1[Option ID=33685] Question Description : bwlg\_pg\_com\_eng\_2\_q96  
2[Option ID=33686]  
3[Option ID=33687]  
4[Option ID=33688]

SI. No.97  
QBID:328097

**Read the passage below carefully and answer the five questions that follow**

Capital flows, exchange rates and the interest rates are causes of immediate concern to the national economies. Central banks of various countries have been using a variety of methods with the excessive capital inflows. Foreign portfolio investment have a direct and indirect impact on exchange rates, valuation of traded assets and yields of various government and corporate securities.

RBI, in the post-pandemic scenario and the recent Russia-Ukraine war situation is working on multiple options to stabilize the exchange rates by protecting both the exporters and importers. One way which RBI adopts to maintain a desirable level of exchanges rates is to mop up nets foreign exchange assets from scheduled commercial banks in exchanges of domestic currency (₹) assets. The liquidity flows are, in essence, inflationary. RBI has projected a comfortable GDP rate for the current fiscal and believes a reasonable level of CPI inflation as 5.3%.

The retail inflation, according to the RBI governor, recently is likely to be 4.5% in 2023 fiscal. With this perspective, the repo rate and reverse repo rate remain at 4% and 3.35%, respectively, since May 22, 2020. A balancing act between economic growth and inflation is visible. Though the RBI rates are consistent, the burden on borrowers for the short-term and long-term, is still unpredictable.

**निम्नलिखित गद्यांश को सावधानीपूर्वक पढ़ें तथा नीचे दिए गए प्रश्नों के उत्तर दें**

पूंजी प्रवाह, विनिमय दरें और ब्याज की दरें राष्ट्रीय अर्थव्यवस्था के लिए तात्कालिक चिंता का विषय है। विभिन्न देशों के केंद्रीय बैंक अत्यधिक पूंजी प्रवाह के साथ अलग-अलग पद्धतियों को अपना रहे हैं। विदेशी (पोर्टफोलियो इन्वेस्टमेंट) निवेश-सूची का विनिमय दरों और व्यापार की गई परिसंपत्तियों के मूल्यांकन तथा विभिन्न सरकारी एवं निगमित प्रतिभूतियों के उपार्जन पर प्रत्यक्ष एवं अप्रत्यक्ष प्रभाव पड़ता है।

महामारी के उत्तर परिदृश्य और हाल के रूस यूक्रेन युद्ध की परिस्थिति में आरबीआई निर्यातकों एवं आयातकों दोनों को संरक्षित करते हुए विनिमय दरों को प्रभावित रखने के विभिन्न विकल्पों पर कार्यशील है। विनिमय दरों को वांछनीय स्तर तक रखने के लिए जिस एक प्रक्रिया को आरबीआई अपना रहा है, वह है घरेलू मुद्रा परिसंपत्तियों के बदले में अधिसूचित वाणिज्यिक बैंकों से निवल विदेशी विनिमय संपत्तियों का अधिग्रहण करना। तरलता के प्रवाह स्वभावतः मुद्रा स्फीतिकारक हैं। आरबीआई ने वर्तमान वित्तीय वर्ष के लिए सहज जीडीपी दर का प्रेक्षण किया है और उसका यह मानना है कि उपभोक्ता मूल्य सूचकांक की मुद्रा स्फीतिदर 5.3% के सामान्य स्तर तक रहेगी।

आरबीआई के गवर्नर के अनुसार वित्तीय वर्ष 2023 में मौजूदा खुदरा मुद्रास्फीति दर के 4.5% तक रहने की संभावना है। इसी दृष्टिकोण के साथ 22 मई 2020 से रेपो दर और रिवर्स रेपो दर के भी क्रमश 4% और 3.35% रहने की संभावना है। आर्थिक प्रगति और मुद्रास्फीति के बीच का संतुलन दृष्टिगोचर है। यद्यपि आरबीआई के दर स्थिर (एक समान) है, फिर भी ऋणदाताओं के लिए अल्पावधिक एवं दीर्घावधिक भार अभी भी अप्रत्याशित है।

The stance of a monetary policy wherein the interest rates may move either way, upwards or downwards, is called

1. Accommodative stance
2. Neutral stance
3. Calibrated stance
4. Hawkish stance

- (1) 1  
(2) 2  
(3) 3  
(4) 4

मौद्रिक नीति की वह अवस्था जिसमें ब्याज की दरें ऊर्ध्ववाही अथवा अधोवाही किसी भी दिशा में जा सकती हैं, कहलाती है -

1. निभाव की अवस्था (एकोमोडेटिव स्टान्स)
2. न्यूट्रल स्टान्स
3. कैलिब्रेटेड स्टान्स
4. हॉकिश स्टान्स

(1) 1

(2) 2

(3) 3

(4) 4

1[Option ID=33689]

Question Description : bwlg\_pg\_com\_eng\_2\_q97

2[Option ID=33690]

3[Option ID=33691]

4[Option ID=33692]

SI. No.98

QBID:328098

### Read the passage below carefully and answer the five questions that follow

Capital flows, exchange rates and the interest rates are causes of immediate concern to the national economies. Central banks of various countries have been using a variety of methods with the excessive capital inflows. Foreign portfolio investment have a direct and indirect impact on exchange rates, valuation of traded assets and yields of various government and corporate securities.

RBI, in the post-pandemic scenario and the recent Russia-Ukraine war situation is working on multiple options to stabilize the exchange rates by protecting both the exporters and importers. One way which RBI adopts to maintain a desirable level of exchanges rates is to mop up nets foreign exchange assets from scheduled commercial banks in exchanges of domestic currency (₹) assets. The liquidity flows are, in essence, inflationary. RBI has projected a comfortable GDP rate for the current fiscal and believes a reasonable level of CPI inflation as 5.3%.

The retail inflation, according to the RBI governor, recently is likely to be 4.5% in 2023 fiscal. With this perspective, the repo rate and reverse repo rate remain at 4% and 3.35%, respectively, since May 22, 2020. A balancing act between economic growth and inflation is visible. Though the RBI rates are consistent, the burden on borrowers for the short-term and long-term, is still unpredictable.

### निम्नलिखित गद्यांश को सावधानीपूर्वक पढ़ें तथा नीचे दिए गए प्रश्नों के उत्तर दें

पूंजी प्रवाह, विनिमय दरें और ब्याज की दरें राष्ट्रीय अर्थव्यवस्था के लिए तात्कालिक चिंता का विषय है। विभिन्न देशों के केंद्रीय बैंक अत्यधिक पूंजी प्रवाह के साथ अलग-अलग पद्धतियों को अपना रहे हैं। विदेशी (पोर्टफोलियो इन्वेस्टमेंट) निवेश-सूची का विनिमय दरों और व्यापार की गई परिसंपत्तियों के मूल्यांकन तथा विभिन्न सरकारी एवं निगमित प्रतिभूतियों के उपार्जन पर प्रत्यक्ष एवं अप्रत्यक्ष प्रभाव पड़ता है।

महामारी के उत्तर परिदृश्य और हाल के रूस यूक्रेन युद्ध की परिस्थिति में आरबीआई निर्यातकों एवं आयातकों दोनों को संरक्षित करते हुए विनिमय दरों को प्रभावित रखने के विभिन्न विकल्पों पर कार्यशील है। विनिमय दरों को वांछनीय स्तर तक रखने के लिए जिस एक प्रक्रिया को आरबीआई अपना रहा है, वह है घरेलू मुद्रा परिसंपत्तियों के बदले में अधिसूचित वाणिज्यिक बैंकों से निवल विदेशी विनिमय संपत्तियों का अधिग्रहण करना। तरलता के प्रवाह स्वभावतः मुद्रा स्फीतिकारक हैं। आरबीआई ने वर्तमान वित्तीय वर्ष के लिए सहज जीडीपी दर का प्रेक्षण किया है और उसका यह मानना है कि उपभोक्ता मूल्य सूचकांक की मुद्रा स्फीतिदर 5.3% के सामान्य स्तर तक रहेगी।

आरबीआई के गवर्नर के अनुसार वित्तीय वर्ष 2023 में मौजूदा खुदरा मुद्रास्फीति दर के 4.5% तक रहने की संभावना है। इसी दृष्टिकोण के साथ 22 मई 2020 से रेपो दर और रिवर्स रेपो दर के भी क्रमशः 4% और 3.35% रहने की संभावना है। आर्थिक प्रगति और मुद्रास्फीति के बीच का संतुलन दृष्टिगोचर है। यद्यपि आरबीआई के दर स्थिर (एक समान) है, फिर भी ऋणदाताओं के लिए अत्यावधिक एवं दीर्घावधिक भार अभी भी अप्रत्याशित है।

An increase in investment is most likely to be caused by

1. Decrease in marginal propensity to consume
2. Expectations of lower GDP
3. Lowering of interest rates
4. Writing-off of Non-performing Assets

(1) 1

(2) 2

(3) 3

(4) 4

निवेश में वृद्धि किसके कारण सर्वाधिक संभावित है :

1. उपभोग के लिए मार्जिनल (उपांतिक) प्रवणता में कमी
2. न्यूनतर जी डी पी की अपेक्षाएं
3. ब्याज दरों में कमी करना
4. गैर निष्पादनकारी आस्तियों (एनपीए) का अपलेखन

(1) 1

(2) 2


(3) 3

(4) 4

1[Option ID=33693]  
2[Option ID=33694]  
3[Option ID=33695]  
4[Option ID=33696]

Question Description : bwlg\_pg\_com\_eng\_2\_q98

Sl. No.99  
QBID:328099



**Read the passage below carefully and answer the five questions that follow**

Capital flows, exchange rates and the interest rates are causes of immediate concern to the national economies. Central banks of various countries have been using a variety of methods with the excessive capital inflows. Foreign portfolio investment have a direct and indirect impact on exchange rates, valuation of traded assets and yields of various government and corporate securities.

RBI, in the post-pandemic scenario and the recent Russia-Ukraine war situation is working on multiple options to stabilize the exchange rates by protecting both the exporters and importers. One way which RBI adopts to maintain a desirable level of exchanges rates is to mop up nets foreign exchange assets from scheduled commercial banks in exchanges of domestic currency (₹) assets. The liquidity flows are, in essence, inflationary. RBI has projected a comfortable GDP rate for the current fiscal and believes a reasonable level of CPI inflation as 5.3%.

The retail inflation, according to the RBI governor, recently is likely to be 4.5% in 2023 fiscal. With this perspective, the repo rate and reverse repo rate remain at 4% and 3.35%, respectively, since May 22, 2020. A balancing act between economic growth and inflation is visible. Though the RBI rates are consistent, the burden on borrowers for the short-term and long-term, is still unpredictable.

**निम्नलिखित गद्यांश को सावधानीपूर्वक पढ़ें तथा नीचे दिए गए प्रश्नों के उत्तर दें**

पूंजी प्रवाह, विनिमय दरें और ब्याज की दरें राष्ट्रीय अर्थव्यवस्था के लिए तात्कालिक चिंता का विषय है। विभिन्न देशों के केंद्रीय बैंक अत्यधिक पूंजी प्रवाह के साथ अलग-अलग पद्धतियों को अपना रहे हैं। विदेशी (पोर्टफोलियो इन्वेस्टमेंट) निवेश-सूची का विनिमय दरों और व्यापार की गई परिसंपत्तियों के मूल्यांकन तथा विभिन्न सरकारी एवं निगमित प्रतिभूतियों के उपाजन पर प्रत्यक्ष एवं अप्रत्यक्ष प्रभाव पड़ता है।

महामारी के उत्तर परिदृश्य और हाल के रूस यूक्रेन युद्ध की परिस्थिति में आरबीआई निर्यातकों एवं आयातकों दोनों को संरक्षित करते हुए विनिमय दरों को प्रभावित रखने के विभिन्न विकल्पों पर कार्यशील है। विनिमय दरों को वांछनीय स्तर तक रखने के लिए जिस एक प्रक्रिया को आरबीआई अपना रहा है, वह है घरेलू मुद्रा परिसंपत्तियों के बदले में अधिसूचित वाणिज्यिक बैंकों से निवल विदेशी विनिमय संपत्तियों का अधिग्रहण करना। तरलता के प्रवाह स्वभावतः मुद्रा स्फीतिकारक हैं। आरबीआई ने वर्तमान वित्तीय वर्ष के लिए सहज जीडीपी दर का प्रेक्षण किया है और उसका यह मानना है कि उपभोक्ता मूल्य सूचकांक की मुद्रा स्फीतिदर 5.3% के सामान्य स्तर तक रहेगी।

आरबीआई के गवर्नर के अनुसार वित्तीय वर्ष 2023 में मौजूदा खुदरा मुद्रास्फीति दर के 4.5% तक रहने की संभावना है। इसी दृष्टिकोण के साथ 22 मई 2020 से रेपो दर और रिवर्स रेपो दर के भी क्रमश 4% और 3.35% रहने की संभावना है। आर्थिक प्रगति और मुद्रास्फीति के बीच का संतुलन दृष्टिगोचर है। यद्यपि आरबीआई के दर स्थिर (एक समान) है, फिर भी ऋणदाताओं के लिए अल्पावधिक एवं दीर्घावधिक भार अभी भी अप्रत्याशित है।

Quantitative easing by the Central bank implies

1. Selling of assets by the Central bank
2. Lowering of interest rates for commercial bank lending
3. Purchase of assets by the Central bank
4. Central bank reducing the policy rate

(1) 1

(2) 2

(3) 3

(4) 4

केंद्रीय बैंक द्वारा मात्रात्मक ऋण का अर्थ है :

1. केंद्रीय बैंक द्वारा आस्तियों की बिक्री
2. वाणिज्य बैंक के लिए ऋण के संबंध में ब्याज दरों में कमी लाना
3. केंद्रीय बैंक द्वारा आस्तियों की खरीद
4. केंद्रीय बैंक द्वारा नीतिगत दर में कमी लाना

(1) 1

- (2) 2  
(3) 3  
(4) 4

1[Option ID=33697] Question Description : bwlg\_pg\_com\_eng\_2\_q99  
2[Option ID=33698]  
3[Option ID=33699]  
4[Option ID=33700]

SI. No.100  
QBID:3280100

**Read the passage below carefully and answer the five questions that follow**

Capital flows, exchange rates and the interest rates are causes of immediate concern to the national economies. Central banks of various countries have been using a variety of methods with the excessive capital inflows. Foreign portfolio investment have a direct and indirect impact on exchange rates, valuation of traded assets and yields of various government and corporate securities.

RBI, in the post-pandemic scenario and the recent Russia-Ukraine war situation is working on multiple options to stabilize the exchange rates by protecting both the exporters and importers. One way which RBI adopts to maintain a desirable level of exchanges rates is to mop up nets foreign exchange assets from scheduled commercial banks in exchanges of domestic currency (₹) assets. The liquidity flows are, in essence, inflationary. RBI has projected a comfortable GDP rate for the current fiscal and believes a reasonable level of CPI inflation as 5.3%.

The retail inflation, according to the RBI governor, recently is likely to be 4.5% in 2023 fiscal. With this perspective, the repo rate and reverse repo rate remain at 4% and 3.35%, respectively, since May 22, 2020. A balancing act between economic growth and inflation is visible. Though the RBI rates are consistent, the burden on borrowers for the short-term and long-term, is still unpredictable.

**निम्नलिखित गद्यांश को सावधानीपूर्वक पढ़ें तथा नीचे दिए गए प्रश्नों के उत्तर दें**

पूंजी प्रवाह, विनिमय दरें और ब्याज की दरें राष्ट्रीय अर्थव्यवस्था के लिए तात्कालिक चिंता का विषय है। विभिन्न देशों के केंद्रीय बैंक अत्यधिक पूंजी प्रवाह के साथ अलग-अलग पद्धतियों को अपना रहे हैं। विदेशी (पोर्टफोलियो इन्वेस्टमेंट) निवेश-सूची का विनिमय दरों और व्यापार की गई परिसंपत्तियों के मूल्यांकन तथा विभिन्न सरकारी एवं निगमित प्रतिभूतियों के उपार्जन पर प्रत्यक्ष एवं अप्रत्यक्ष प्रभाव पड़ता है।

महामारी के उत्तर परिदृश्य और हाल के रूस यूक्रेन युद्ध की परिस्थिति में आरबीआई निर्यातकों एवं आयातकों दोनों को संरक्षित करते हुए विनिमय दरों को प्रभावित रखने के विभिन्न विकल्पों पर कार्यशील है। विनिमय दरों को वांछनीय स्तर तक रखने के लिए जिस एक प्रक्रिया को आरबीआई अपना रहा है, वह है घरेलू मुद्रा परिसंपत्तियों के बदले में अधिसूचित वाणिज्यिक बैंकों से निवल विदेशी विनिमय संपत्तियों का अधिग्रहण करना। तरलता के प्रवाह स्वभावतः मुद्रा स्फीतिकारक हैं। आरबीआई ने वर्तमान वित्तीय वर्ष के लिए सहज जीडीपी दर का प्रेक्षण किया है और उसका यह मानना है कि उपभोक्ता मूल्य सूचकांक की मुद्रा स्फीतिदर 5.3% के सामान्य स्तर तक रहेगी।

आरबीआई के गवर्नर के अनुसार वित्तीय वर्ष 2023 में मौजूदा खुदरा मुद्रास्फीति दर के 4.5% तक रहने की संभावना है। इसी दृष्टिकोण के साथ 22 मई 2020 से रेपो दर और रिवर्स रेपो दर के भी क्रमश 4% और 3.35% रहने की संभावना है। आर्थिक प्रगति और मुद्रास्फीति के बीच का संतुलन दृष्टिगोचर है। यद्यपि आरबीआई के दर स्थिर (एक समान) है, फिर भी ऋणदाताओं के लिए अल्पावधिक एवं दीर्घावधिक भार अभी भी अप्रत्याशित है।

Changes in foreign portfolio investments is directly related to

1. Money demanded
2. Exchange rates
3. Prices
4. Circulation of money

- (1) 1  
(2) 2  
(3) 3  
(4) 4

विदेशी पोर्टफोलियो निवेश में बदलाव प्रत्यक्ष रूप से किससे संबंधित है -

1. मुद्रा की मांग
2. विनिमय दर
3. मूल्य (कीमते)
4. मुद्रा चलन

(1) 1

(2) 2

(3) 3

(4) 4

1[Option ID=33341]  
2[Option ID=33342]  
3[Option ID=33343]  
4[Option ID=33344]

Question Description : bwlg\_pg\_com\_eng\_2\_q100

