

Test Date : 11 Jul 2022

Test Slot : Slot 2

Subject : Defence and Strategic Studies

Sl. No.1

QBID:1531001

The following table shows the number of persons (in Thousands) who got affected by 'COVID-19' pandemic in five different cities (A-E) of India and also presents the ratio of affected male to female in them. Based on the data in the table, answer the questions 1-5:

City-wise Persons Affected by COVID-19

City	Number of Affected (in Thousands)	Ratio of Affected
		Male : Female
A	64	5 : 3
B	54	5 : 4
C	16	3 : 1
D	48	7 : 5
E	27	2 : 1

इस तालिका में भारत के पाँच भिन्न शहरों (A-E) में 'कोविड-19' की महामारी से प्रभावित व्यक्तियों की संख्या (हजार में) दर्शाई गई है और उनमें प्रभावित महिलाओं की तुलना में पुरुषों का अनुपात भी प्रस्तुत किया गया है। इस तालिका के आधार पर प्रश्न संख्या 1 से 5 तक के उत्तर दीजिए:

कोविड-19 से प्रभावित शहर-वार व्यक्ति

शहर	प्रभावित व्यक्तियों की संख्या (हजार में)	प्रभावित व्यक्तियों का अनुपात
		पुरुष : महिला
A	64	5 : 3
B	54	5 : 4
C	16	3 : 1
D	48	7 : 5
E	27	2 : 1

Number of male persons affected by 'COVID-19' in City 'B' is what percent more or less than that of number of male persons from City 'A' who were affected by 'COVID-19'?

- (1) 25% less
- (2) 30% less
- (3) 25% more
- (4) 20% less

'कोविड - 19' से प्रभावित शहर - A के पुरुषों की संख्या की तुलना में 'कोविड - 19' से प्रभावित शहर - B के पुरुषों की संख्या कितने प्रतिशत अधिक या कम है?

- (1) 25% कम
- (2) 30% कम
- (3) 25% अधिक
- (4)

20% कम

- 1[Option ID=21601]
2[Option ID=21602]
3[Option ID=21603]
4[Option ID=21604]

Sl. No.2
QBID:1531002

The following table shows the number of persons (in Thousands) who got affected by 'COVID-19' pandemic in five different cities (A-E) of India and also presents the ratio of affected male to female in them. Based on the data in the table, answer the questions 1-5:

City-wise Persons Affected by COVID-19

City	Number of Affected (in Thousands)	Ratio of Affected
		Male : Female
A	64	5 : 3
B	54	5 : 4
C	16	3 : 1
D	48	7 : 5
E	27	2 : 1

इस तालिका में भारत के पाँच भिन्न शहरों (A-E) में 'कोविड-19' की महामारी से प्रभावित व्यक्तियों की संख्या (हजार में) दर्शाई गई है और उनमें प्रभावित महिलाओं की तुलना में पुरुषों का अनुपात भी प्रस्तुत किया गया है। इस तालिका के आधार पर प्रश्न संख्या 1 से 5 तक के उत्तर दीजिए:

कोविड-19 से प्रभावित शहर-वार व्यक्ति

शहर	प्रभावित व्यक्तियों की संख्या (हजार में)	प्रभावित व्यक्तियों का अनुपात
		पुरुष : महिला
A	64	5 : 3
B	54	5 : 4
C	16	3 : 1
D	48	7 : 5
E	27	2 : 1

Find the average number of females who were affected by 'COVID-19' in all the five cities.

- (1) 14200
(2) 12600
(3) 16200
(4) 12200

सभी पाँच शहरों में 'कोविड - 19' से प्रभावित महिलाओं की औसत संख्या बताइए।

- (1) 14200
(2) 12600
(3) 16200
(4) 12200

- 1[Option ID=21605]
2[Option ID=21606]
3[Option ID=21607]
4[Option ID=21608]

The following table shows the number of persons (in Thousands) who got affected by 'COVID-19' pandemic in five different cities (A-E) of India and also presents the ratio of affected male to female in them. Based on the data in the table, answer the questions 1-5:

City-wise Persons Affected by COVID-19

City	Number of Affected (in Thousands)	Ratio of Affected
		Male : Female
A	64	5 : 3
B	54	5 : 4
C	16	3 : 1
D	48	7 : 5
E	27	2 : 1

इस तालिका में भारत के पाँच भिन्न शहरों (A-E) में 'कोविड-19' की महामारी से प्रभावित व्यक्तियों की संख्या (हजार में) दर्शाई गई है और उनमें प्रभावित महिलाओं की तुलना में पुरुषों का अनुपात भी प्रस्तुत किया गया है। इस तालिका के आधार पर प्रश्न संख्या 1 से 5 तक के उत्तर दीजिए:

कोविड-19 से प्रभावित शहर-वार व्यक्ति

शहर	प्रभावित व्यक्तियों की संख्या (हजार में)	प्रभावित व्यक्तियों का अनुपात
		पुरुष : महिला
A	64	5 : 3
B	54	5 : 4
C	16	3 : 1
D	48	7 : 5
E	27	2 : 1

In the context of City 'D', if out of total affected males, $16\frac{2}{3}\%$ are in the age group of 21-25 years, $33\frac{1}{3}\%$ are in the age group of 26-30 years and rest are in the age group above 30 years, then find the total number of males from City 'D' who are affected by 'COVID-19' having age of 21-30 years:

- (1) 16000
- (2) 14000
- (3) 12000
- (4) 18000

शहर - 'D' के संदर्भ में यदि 'कोविड - 19' से प्रभावित कुल पुरुषों में से $16\frac{2}{3}\%$ 21 - 25 वर्ष के उम्र समूह के हैं, $33\frac{1}{3}\%$ 26 - 30 वर्ष के उम्र समूह के हैं और शेष 30 वर्ष से अधिक उम्र समूह के हैं तो शहर - 'D' में 21 - 30 वर्ष के उम्र समूह के उन पुरुषों की कुल संख्या बताइए, जो 'कोविड - 19' से प्रभावित है?

- (1) 16000
- (2) 14000
- (3) 12000
- (4) 18000

- 1[Option ID=21609]
 2[Option ID=21610]
 3[Option ID=21611]
 4[Option ID=21612]

Sl. No.4
 QBID:1531004

The following table shows the number of persons (in Thousands) who got affected by 'COVID-19' pandemic in five different cities (A-E) of India and also presents the ratio of affected male to female in them. Based on the data in the table, answer the questions 1-5:

City-wise Persons Affected by COVID-19

City	Number of Affected (in Thousands)	Ratio of Affected
		Male : Female
A	64	5 : 3
B	54	5 : 4
C	16	3 : 1
D	48	7 : 5
E	27	2 : 1

इस तालिका में भारत के पाँच भिन्न शहरों (A-E) में 'कोविड-19' की महामारी से प्रभावित व्यक्तियों की संख्या (हजार में) दर्शाई गई है और उनमें प्रभावित महिलाओं की तुलना में पुरुषों का अनुपात भी प्रस्तुत किया गया है। इस तालिका के आधार पर प्रश्न संख्या 1 से 5 तक के उत्तर दीजिए:

कोविड-19 से प्रभावित शहर-वार व्यक्ति

शहर	प्रभावित व्यक्तियों की संख्या (हजार में)	प्रभावित व्यक्तियों का अनुपात
		पुरुष : महिला
A	64	5 : 3
B	54	5 : 4
C	16	3 : 1
D	48	7 : 5
E	27	2 : 1

What is the difference between total number of males in cities 'B', 'C' and 'E' together and total number of females in Cities 'A', 'C' and 'D' together who are affected by 'COVID-19'?

- (1) 15000
 (2) 13000
 (3) 12000
 (4) 14000

शहर 'B', 'C' एवं 'E' में कोविड - 19 से प्रभावित पुरुषों की कुल संख्या और शहर 'A', 'C' एवं 'D' में कोविड-19 से प्रभावित महिलाओं की कुल संख्या के बीच क्या अंतर है?

- (1) 15000
 (2) 13000
 (3) 12000
 (4) 14000

- 1[Option ID=21613]
 2[Option ID=21614]

3[Option ID=21615]
4[Option ID=21616]

Sl. No.5
QBID:1531005

The following table shows the number of persons (in Thousands) who got affected by 'COVID-19' pandemic in five different cities (A-E) of India and also presents the ratio of affected male to female in them. Based on the data in the table, answer the questions 1-5:

City-wise Persons Affected by COVID-19

City	Number of Affected (in Thousands)	Ratio of Affected
		Male : Female
A	64	5 : 3
B	54	5 : 4
C	16	3 : 1
D	48	7 : 5
E	27	2 : 1

इस तालिका में भारत के पाँच भिन्न शहरों (A-E) में 'कोविड-19' की महामारी से प्रभावित व्यक्तियों की संख्या (हजार में) दर्शाई गई है और उनमें प्रभावित महिलाओं की तुलना में पुरुषों का अनुपात भी प्रस्तुत किया गया है। इस तालिका के आधार पर प्रश्न संख्या 1 से 5 तक के उत्तर दीजिए:

कोविड-19 से प्रभावित शहर-वार व्यक्ति

शहर	प्रभावित व्यक्तियों की संख्या (हजार में)	प्रभावित व्यक्तियों का अनुपात
		पुरुष : महिला
A	64	5 : 3
B	54	5 : 4
C	16	3 : 1
D	48	7 : 5
E	27	2 : 1

What is the ratio of number of females in City 'B' and number of females in City 'D' who are affected by 'COVID-19'?

- (1) 2 : 5
- (2) 4 : 5
- (3) 5 : 6
- (4) 6 : 5

'कोविड - 19' से प्रभावित, शहर 'B' में महिलाओं की संख्या और शहर 'D' में महिलाओं की संख्या का अनुपात है

- (1) 2 : 5
- (2) 4 : 5
- (3) 5 : 6
- (4) 6 : 5

1[Option ID=21617]
2[Option ID=21618]
3[Option ID=21619]
4[Option ID=21620]

Sl. No.6

Match List I with List II

List I	List II
National Coordinator	Mandate for development of MOOCs for SWAYAM
(A) UGC-CEC	(I) Engineering Technical Courses
(B) NPTEL	(II) Certificate Courses
(C) AICTE	(III) UG and PG level non-technical courses
(D) IGNOU	(IV) Self-paced and lifelong learning courses

Choose the correct answer from the options given below :

- (1) (A)-(IV), (B)-(I), (C)-(II), (D)-(III)
 (2) (A)-(III), (B)-(I), (C)-(IV), (D)-(II)
 (3) (A)-(III), (B)-(I), (C)-(II), (D)-(IV)
 (4) (A)-(III), (B)-(IV), (C)-(I), (D)-(II)

सूची-I के साथ सूची-II का मिलान कीजिए :

सूची-I
राष्ट्रीय समन्वयक

सूची-II

‘स्वयं’ के लिए मूक्स (MOOCs) के विकास के लिए
अधिदेश

- | | |
|---------------------------|---|
| (A) यू.जी.सी. - सी.ई.सी. | (I) इंजीनियरिंग तकनीकी पाठ्यक्रम |
| (B) एन.पी.टी.ई.एल. | (II) प्रामाणपत्र पाठ्यक्रम |
| (C) ए.आई.सी.टी.ई. | (III) यू.जी. और पी.जी. स्तर के गैर-तकनीकी पाठ्यक्रम |
| (D) इग्नू (आई.जी.एन.ओ.यू) | (IV) स्वतः समगामी और आजीवन अभिगम पाठ्यक्रम |

नीचे दिए गए विकल्पों में से सही उत्तर का चयन कीजिए :

- (1) (A)-(IV), (B)-(I), (C)-(II), (D)-(III)
 (2) (A)-(III), (B)-(I), (C)-(IV), (D)-(II)
 (3) (A)-(III), (B)-(I), (C)-(II), (D)-(IV)
 (4) (A)-(III), (B)-(IV), (C)-(I), (D)-(II)

1[Option ID=21621]

2[Option ID=21622]

3[Option ID=21623]

4[Option ID=21624]

Sl. No.7

QBID:1531007

Which will you rate as a good 21st century teacher?

- (A) Teacher A : Makes notes from various books and shares the xerox copy of notes to the students to learn on their own.
- (B) Teacher B : Uses presentation tools and explains the concepts followed by discussion.
- (C) Teacher C : Makes notes and writes the information on board and tells students to copy and rote-learn.
- (D) Teacher D : Uses presentation embedded with graphic, videos and animation to explain the concept and discusses with students.
- (E) Teacher E : Provides good quality videos before the class and discusses them in classroom.

Choose the correct answer from the options given below :

- (1) (D) and (E) only
- (2) (A) and (B) only
- (3) (B), (C) and (D) only
- (4) (B), (D) and (E) only

आप 21वीं शताब्दी के एक अच्छे अध्यापक के रूप में किसका मूल्यांकन करेंगे ?

- (A) अध्यापक A : विभिन्न पुस्तकों से नोट्स तैयार करता है और उन्हें छात्रों के साथ नोट्स की जीरोक्स कॉपी साझा करता है, जिससे वे स्वयं शिक्षा ग्रहण कर पाएं।
- (B) अध्यापक B : प्रस्तुतीकरण टूल्स का उपयोग करता है और अवधारणाओं को स्पष्ट करता है, जिसके बाद चर्चा होती है।
- (C) अध्यापक C : नोट्स बनाता है और बोर्ड पर लिखता है तथा विद्यार्थियों का कॉपी करने एवं कंठस्थ याद करने के लिए कहता है।
- (D) अध्यापक D : ग्राफिक, वीडियो एवं एनीमेशन के साथ अवधारणाएं स्पष्ट करता है और छात्रों के साथ चर्चा करता है।
- (E) अध्यापक E : कक्षा में पढ़ाने से पहले अच्छी गुणवत्ता के वीडियो प्रदान करता है और कक्षा में उनके बारे में चर्चा करता है।

नीचे दिए गए विकल्पों में से सही उत्तर का चयन कीजिए :

- (1) केवल (D) और (E)
- (2) केवल (A) और (B)
- (3) केवल (B), (C) और (D)
- (4) केवल (B), (D) और (E)

1[Option ID=21625]
2[Option ID=21626]
3[Option ID=21627]
4[Option ID=21628]

Sl. No.8
QBID:1531008

Given below are two statements : One is labelled as Assertion (A) and the other is labelled as Reason (R) :

Assertion (A) : Flipped classroom is a learner-centric effective model for ICT enabled teaching-learning or blended learning.

Reason (R) : Students learn concepts through videos and in classroom, teacher-guided discussions and problem solving is done in face-to-face mode.

In the light of the above statements, choose the most appropriate answer from the options given below :

- (1) Both (A) and (R) are correct and (R) is the correct explanation of (A)
- (2) Both (A) and (R) are correct but (R) is NOT the correct explanation of (A)
- (3) (A) is correct but (R) is not correct
- (4) (A) is not correct but (R) is correct

नीचे दो कथन दिए गए हैं : एक अभिकथन (Assertion A) के रूप में लिखित है तो दूसरा उसके कारण (Reason R) के रूप में :

अभिकथन (A) : उत्क्षेपित कक्षा आई.सी.टी. समर्थित अध्यापन-अभिगम या संयुक्त अभिगम का एक शिक्षार्थी - केन्द्रित प्रभावी प्रतिदर्श है।

कारण (R) : छात्र वीडियो के माध्यम से अवधारणाओं के बारे में सीखते हैं और कक्षा में अध्यापक-निर्देशित चर्चा और समस्या - समाधान आमने-सामने के तरीके से किए जाते हैं।

उपरोक्त कथन के आलोक में, नीचे दिए गए विकल्पों में से सबसे उपयुक्त उत्तर का चयन कीजिए :

- (1) (A) और (R) दोनों सही हैं और (R), (A) की सही व्याख्या है।
- (2) (A) और (R) दोनों सही हैं, लेकिन (R), (A) की सही व्याख्या नहीं है।
- (3) (A) सही है, लेकिन (R) सही नहीं है।
- (4) (A) सही नहीं है, लेकिन (R) सही है।

- 1[Option ID=21629]
2[Option ID=21630]
3[Option ID=21631]
4[Option ID=21632]

Sl. No.9
QBID:1531009

As per copyright laws, 'Fair-use' allows the limited use of copyright works for

- (1) Commercial use
- (2) Educational purpose
- (3) Making videos
- (4)

Making paid online course

कॉपीराइट कानूनों के अनुसार 'यायसंगत उपयोग' (फेयर यूज) किस के लिए कॉपीराइट की कृत्रियों की अनुमति प्रदान करता है?

- (1) वाणिज्यिक उपयोग
- (2) शैक्षिक प्रयोजन
- (3) वीडियो को बनाना
- (4) भुगतान-आधारित ऑनलाइन पाठ्यक्रम तैयार करना

1[Option ID=21633]

2[Option ID=21634]

3[Option ID=21635]

4[Option ID=21636]

Sl. No.10

QBID:1531010

How many modules of e-content in four quadrant format are to be made for covering the syllabi for one MOOC of 4 credits?

- (1) 20-30 modules
- (2) 30-35 modules
- (3) 35-40 modules
- (4) 40-50 modules

चतुष्क कोष्ठिका प्रारूप में ई-विषयवस्तु के कितने माड्यूलस चार क्रेडिट्स के एक मूक (MOOC) के पाठ्यक्रम को शामिल करने के लिए बनाए जाते हैं?

- (1) 20-30 माड्यूलस
- (2) 30-35 माड्यूलस
- (3) 35-40 माड्यूलस
- (4) 40-50 माड्यूलस

1[Option ID=21637]

2[Option ID=21638]

3[Option ID=21639]

4[Option ID=21640]

Sl. No.11

QBID:1531011

When it comes to data arrangement, qualitative research – must guard against the error of

- (1) Segregation
- (2) Reduction
- (3) Expansion
- (4) Control

डेटा व्यवस्था के मामले में गुणात्मक शोध द्वारा किस त्रुटि से रक्षा करना आवश्यक है?

- (1) प्रथक्करण

(2) लघुकरण

(3) विस्तार

(4) नियंत्रण

1[Option ID=21641]

2[Option ID=21642]

3[Option ID=21643]

4[Option ID=21644]

Sl. No.12

QBID:1531012

Which of the following are advantages of personal interviews for research data?

- (A) Personal appearance does not influence the respondent.
- (B) Training the field staff is inexpensive.
- (C) The method is flexible.
- (D) It permits greater depth.
- (E) The identity of the respondent can be controlled.

Choose the correct answer from the options given below :

- (1) (A), (B), (C) only
- (2) (A), (C), (D) only
- (3) (B), (D), (E) only
- (4) (B), (C), (D) only

निम्नलिखित में से कौनसे शोध डेटा के लिये वैयक्तिक साक्षात्कारों के लाभ हैं?

- (A) व्यक्तिगत रूप से पेश होने से उत्तर देने वाले पर प्रभाव नहीं पड़ता है।
- (B) फील्ड स्टाफ का प्रशिक्षण किफायती है।
- (C) यह पद्धति लचीली है।
- (D) यह वृहत्तर गहनता प्रदान करती है।
- (E) उत्तर देने वाले की पहचान नियंत्रित की जा सकती है।

नीचे दिए गए विकल्पों में से सही उत्तर का चयन कीजिए :

- (1) केवल (A), (B), (C)
- (2) केवल (A), (C), (D)
- (3)

केवल (B), (D), (E)

(4) केवल (B), (C), (D)

1[Option ID=21645]

2[Option ID=21646]

3[Option ID=21647]

4[Option ID=21648]

Sl. No.13

QBID:1531013

Which one of the following is parent organization of SCOPUS?

- (1) American Chemical Society
- (2) Thomson Reuters
- (3) Springer
- (4) Elsevier

निम्नलिखित में कौनसा 'स्कोपस' (SCOPUS) का मूल संगठन है?

- (1) अमेरिकन केमिकल सोसायटी
- (2) थॉमसन राइटर्स
- (3) स्प्रिंगर
- (4) एल्सेवियर

1[Option ID=21649]

2[Option ID=21650]

3[Option ID=21651]

4[Option ID=21652]

Sl. No.14

QBID:1531014

Given below are two statements :

Statement I : Multivariate studies demand larger samples than univariate studies.

Statement II : Multivariate studies do not analyse the data sets involving several responses.

In the light of the above statements, choose the correct answer from the options given below:

- (1) Both Statement I and Statement II are true
- (2) Both Statement I and Statement II are false
- (3) Statement I is true but Statement II is false
- (4) Statement I is false but Statement II is true

नीचे दो कथन दिए गए हैं :

कथन (I) : एकल-चर अध्ययनों की तुलना में बहु-चर अध्ययनों में अधिक बड़े प्रतिदर्श आवश्यक होते हैं।

कथन (II) : बहु-चर अध्ययन अनेक अनुक्रियाओं से संबंधित दत्त समुच्चयों (डेटा सेट्स) का विश्लेषण नहीं करते हैं।

उपरोक्त कथन के आलोक में, नीचे दिए गए विकल्पों में से सही उत्तर का चयन कीजिए :

- (1) कथन I और II दोनों सत्य हैं।
- (2) कथन I और II दोनों असत्य हैं।
- (3) कथन I सत्य है, लेकिन कथन II असत्य है।
- (4) कथन I असत्य है, लेकिन कथन II सत्य है।

1[Option ID=21653]

2[Option ID=21654]

3[Option ID=21655]

4[Option ID=21656]

Sl. No.15

QBID:1531015

In the context of Research Methodology, what does the word Ontology refer to?

- (1) Concepts and categories, their properties and relationships
- (2) Research papers and journals and their citation
- (3) Cancers, diseases and their treatments
- (4) A word indexing method

शोध पद्धति के संदर्भ में 'सत्ता मीमांसा' शब्द किसको संदर्भित करता है ?

- (1) अवधारणाएं एवं वर्ग, उनके गुण और संबंध
- (2) शोध लेख एवं शोध पत्रिकाएं और उनके उद्धरण
- (3) कैंसर, रोग और उनके उपचार
- (4) एक सूचकांकीकरण पद्धति

1[Option ID=21657]

2[Option ID=21658]

3[Option ID=21659]

4[Option ID=21660]

Sl. No.16

QBID:1531016

An effectively communicative teacher will ensure

- (1) Uniformity in learning
- (2) Student-learning outcomes
- (3) Changes in personal ideals
- (4) Cultural integration

एक प्रभावी अभिव्यक्तिशील अध्यापक सुनिश्चित करेगा:

- (1) शिक्षण में एकरूपता
- (2) छात्र-अधिगम परिणाम
- (3) व्यक्तिगत आदर्शों में परिवर्तन
- (4) सांस्कृतिक एकीकरण

1[Option ID=21661]
2[Option ID=21662]
3[Option ID=21663]
4[Option ID=21664]

Sl. No.17
QBID:1531017

In communication, interpretation of the message depends upon

- (A) Transmission speed
- (B) Type of channel
- (C) Order of information
- (D) Content character

Choose the most appropriate answer from the options given below :

- (1) (A) and (B) only
- (2) (B) and (C) only
- (3) (C) and (D) only
- (4) (A) and (D) only

सम्प्रेषण में संदेश की व्याख्या किस पर निर्भर है :

- (A) संचरण गति
- (B) चैनल का प्रकार
- (C) सूचना-क्रम
- (D) विषयवस्तु का पात्र

नीचे दिए गए विकल्पों में से सही उत्तर का चयन कीजिए :

- (1) केवल (A) और (B)
- (2) केवल (B) और (C)
- (3) केवल (C) और (D)
- (4) केवल (A) और (D)

1[Option ID=21665]
2[Option ID=21666]
3[Option ID=21667]
4[Option ID=21668]

Sl. No.18
QBID:1531018

In terms of communication, a photograph is considered as a/an

- (1) Balanced text
- (2) Complex text
- (3) Open text
- (4) Closed text

सम्प्रेषण के अर्थ में एक चित्र (फोटोग्राफ) को किस रूप में माना जाता है ?

- (1) संतुलित पाठ
- (2) जटिल पाठ
- (3) खुला पाठ
- (4) बंद पाठ

- 1[Option ID=21669]
2[Option ID=21670]
3[Option ID=21671]
4[Option ID=21672]

Sl. No.19
QBID:1531019

Given below are two statements :

Statement I : Lack of vocabulary can be a serious deficiency in communication.

Statement II : One's vocabulary need not be too complex or simple for communication.

In the light of the above statements, choose the correct answer from the options given below:

- (1) Both Statement I and Statement II are true
- (2) Both Statement I and Statement II are false
- (3) Statement I is true but Statement II is false
- (4) Statement I is false but Statement II is true

नीचे दो कथन दिए गए हैं :

कथन (I) : शब्दों के भंडार का अभाव सम्प्रेषण में एक गंभीर अपूर्णता हो सकता है।

कथन (II) : व्यक्ति के शब्द-भंडार का सम्प्रेषण के लिए बहुत अधिक जटिल या सरल होना आवश्यक नहीं है।

उपरोक्त कथन के आलोक में, नीचे दिए गए विकल्पों में से सही उत्तर का चयन कीजिए :

- (1) कथन I और II दोनों सत्य हैं।
- (2) कथन I और II दोनों असत्य हैं।
- (3) कथन I सत्य है, लेकिन कथन II असत्य है।

(4) कथन I असत्य है, लेकिन कथन II सत्य है।

- 1[Option ID=21673]
2[Option ID=21674]
3[Option ID=21675]
4[Option ID=21676]

Sl. No.20
QBID:1531020

Match List I with List II :

List I Communication Codes	List II Description
(A) Operational	(I) Collective perception
(B) Natural	(II) Rules of appearance
(C) Ideological	(III) Practices of production
(D) Presentational	(IV) Realistic

Choose the correct answer from the options given below:

- (1) (A)-(II), (B)-(III), (C)-(IV), (D)-(I)
(2) (A)-(IV), (B)-(I), (C)-(II), (D)-(III)
(3) (A)-(I), (B)-(II), (C)-(III), (D)-(IV)
(4) (A)-(III), (B)-(IV), (C)-(I), (D)-(II)

सूची I के साथ सूची II का मिलान कीजिए।

सूची I
सम्प्रेषण के कोड

सूची II
वर्णन

- | | |
|-------------------|----------------------------|
| (A) परिचालनमूलक | (I) सामूहिक बोध |
| (B) सहज | (II) प्रकटता के नियम |
| (C) वैचारिक | (III) निर्माण के तौर तरीके |
| (D) प्रस्तुतिमूलक | (IV) यथार्थपरक |

दिए गए विकल्पों में से सही उत्तर का चयन कीजिए :

- (1) (A)-(II), (B)-(III), (C)-(IV), (D)-(I)
(2) (A)-(IV), (B)-(I), (C)-(II), (D)-(III)
(3) (A)-(I), (B)-(II), (C)-(III), (D)-(IV)
(4) (A)-(III), (B)-(IV), (C)-(I), (D)-(II)

- 1[Option ID=21677]
2[Option ID=21678]
3[Option ID=21679]
4[Option ID=21680]

Sl. No.21
QBID:1531021

Find the missing term in the sequence given below:

1, 4, 27, 16, ?, 36, 343,

(1)

64

- (2) 51
- (3) 52
- (4) 125

नीचे दिए गए क्रम में लुप्त संख्या बताएं :

1, 4, 27, 16, ?, 36, 343,

- (1) 64
- (2) 51
- (3) 52
- (4) 125

1[Option ID=21681]

2[Option ID=21682]

3[Option ID=21683]

4[Option ID=21684]

Sl. No.22
QBID:1531022

A person deposited some money at a simple interest rate for 3 years. Had he deposited the money at 2% higher rate, it would have fetched Rs. 360 more. Find the amount of the money deposited.

- (1) 5000
- (2) 4600
- (3) 6000
- (4) 6100

किसी व्यक्ति ने सरल ब्याज की दर पर 3 वर्षों के लिए कुछ राशि जमा की। यदि वह 2% अधिक दर पर राशि जमा किया होता, तब उसे 360 रु. और मिला होता। जमा की गई राशि बताइये।

- (1) 5000
- (2) 4600
- (3) 6000
- (4) 6100

1[Option ID=21685]

2[Option ID=21686]

3[Option ID=21687]

4[Option ID=21688]

Sl. No.23
QBID:1531023

What is the average of first 40 natural numbers?

- (1) 20
- (2) 21
- (3)

21.5

(4) 20.5

प्रथम 40 प्राकृत संख्याओं का औसत क्या है?

(1) 20

(2) 21

(3) 21.5

(4) 20.5

1[Option ID=21689]

2[Option ID=21690]

3[Option ID=21691]

4[Option ID=21692]

Sl. No.24

QBID:1531024

After getting two successive discounts, a shirt with a list price of Rs.150 is available at Rs.105. If the value of second discount is 12.5%, what is the value of the first discount?

(1) 25%

(2) 20%

(3) 20.5%

(4) 15.5%

दो लगातार छूट प्राप्त करने के बाद, 150 रु. की अंकित कीमत वाली एक कमीज 105 रु. पर उपलब्ध है। यदि दूसरी छूट का मान 12.5% है, तब प्रथम छूट का मान क्या है?

(1) 25%

(2) 20%

(3) 20.5%

(4) 15.5%

1[Option ID=21693]

2[Option ID=21694]

3[Option ID=21695]

4[Option ID=21696]

Sl. No.25

QBID:1531025

A man takes 6 hours 30 minutes in going by a cycle and coming back by scooter. He would have lost 2 hrs. and 10 minutes by going on cycle both ways. How long would it take him to go by scooter both ways?

(1) 4 hrs., 20 minutes

(2) 8 hrs., 40 minutes

(3) 13 hrs.

(4) 5 hrs., 20 minutes

एक व्यक्ति साइकिल से जाने में और स्कूटर से वापस आने में 6 घंटे 30 मिनट लेता है। उसे दोनों तरफ साइकिल से जाने में 2 घंटे 10 मिनट का नुकसान हुआ होता। दोनों तरफ स्कूटर से जाने में उसको कितना समय लगेगा?

- (1) 4 घंटे, 20 मिनट
- (2) 8 घंटे, 40 मिनट
- (3) 13 घंटे
- (4) 5 घंटे, 20 मिनट

1[Option ID=21697]

2[Option ID=21698]

3[Option ID=21699]

4[Option ID=21700]

SI. No.26

QBID:1531026

In classical square of opposition if 'Some S is P' is given as false then which of the following could be immediately inferred from it?

- (A) 'All S is P' is false
- (B) 'All S is P' is undetermined
- (C) 'No S is P' is undetermined
- (D) 'No S is P' is true
- (E) 'Some S is not P' is true

Choose the correct answer from the options given below :

- (1) (B), (D), (E) only
- (2) (A), (C), (E) only
- (3) (B), (C), (E) only
- (4) (A), (D), (E) only

विरोध के वर्ग में यदि, 'कुछ S, P है' गलत के रूप में दिया जाता है तब निम्नलिखित में से किसका आशय इससे तत्काल निकाला जा सकता है?

- (A) 'सभी S, P हैं' गलत है
- (B) 'सभी S, P हैं' अनिर्धारित है
- (C) 'कोई भी S, P नहीं है' अनिर्धारित है
- (D) 'कोई भी S, P नहीं है' सही है
- (E) 'कुछ S, P नहीं हैं' सही है

नीचे दिए गए विकल्पों में से सही उत्तर का चयन कीजिए :

- (1) केवल (B), (D), (E)
- (2)

केवल (A), (C), (E)

(3) केवल (B), (C), (E)

(4) केवल (A), (D), (E)

1[Option ID=21701]

2[Option ID=21702]

3[Option ID=21703]

4[Option ID=21704]

Sl. No.27

QBID:1531027

Which of the following Fallacy involves defective Induction?

- (1) Fallacy of Composition
- (2) Fallacy of Division
- (3) The Argument from Ignorance
- (4) Irrelevant Conclusion

निम्नलिखित में से किस तर्काभास में दोषपूर्ण अधिष्ठापन शामिल है?

- (1) संरचना का तर्काभास
- (2) विभाजन का तर्काभास
- (3) अज्ञानता से तर्क
- (4) असंगत निष्कर्ष

1[Option ID=21705]

2[Option ID=21706]

3[Option ID=21707]

4[Option ID=21708]

Sl. No.28

QBID:1531028

Given below are two statements :

Statement I : Analogical reasoning is based on a likeness drawn between two or more entities in one or more respects.

Statement II : There could be argumentative as well as nonargumentative uses of analogy.

In the light of the above statements, choose the correct answer from the options given below:

- (1) Both Statement I and Statement II are true
- (2) Both Statement I and Statement II are false
- (3) Statement I is true but Statement II is false
- (4) Statement I is false but Statement II is true

नीचे दो कथन दिए गए हैं :

कथन (I) : सादृश्यमूलक तर्क दो अथवा उससे अधिक वस्तुओं में एक अथवा उससे अधिक अर्थों में ली गई समानता पर आधारित है।

कथन (II) : सादृश्य का तर्कात्मक और गैर तर्कात्मक प्रयोग हो सकता है।

उपरोक्त कथन के आलोक में, नीचे दिए गए विकल्पों में से सही उत्तर का चयन कीजिए :

- (1) कथन I और II दोनों सत्य हैं।
- (2) कथन I और II दोनों असत्य हैं।
- (3) कथन I सत्य है, लेकिन कथन II असत्य है।
- (4) कथन I असत्य है, लेकिन कथन II सत्य है।

1[Option ID=21709]

2[Option ID=21710]

3[Option ID=21711]

4[Option ID=21712]

Sl. No.29
QBID:1531029

According to Classical Indian School of Logic (Nyāya) which of the following conditions must be fulfilled by a true middle term (hetu)?

- (A) It must be found in minor term (pakṣa).
- (B) It must be found in all similar instances.
- (C) It should not be found anywhere where major term (sādhya) is absent.
- (D) The minor term in which it is said to exist should not be impossible.

Choose the most appropriate answer from the options given below :

- (1) (A), (C), (D) only
- (2) (A), (B), (D) only
- (3) (A), (B), (C), (D) only
- (4) (A), (B), (C) only

भारतीय तर्क मत (न्याय) के अनुसार, निम्नलिखित में से किस शर्त की पूर्ति सही मध्य पद (हेतु) से किया जाना चाहिए?

- (A) इसे लघु पद (पक्ष) में पाया जाना चाहिए।
- (B) इसे सभी समान स्थितियों में पाया जाना चाहिए।
- (C) इसे वहाँ कहीं भी पाया नहीं जाना चाहिए जहाँ प्रमुख पद (साध्य) लुप्त हो।
- (D) लघु पद जिसमें इसके मौजूद रहने के बारे में कहा जाता है, असंभव नहीं होना चाहिए।

नीचे दिए गए विकल्पों में से सबसे उपयुक्त उत्तर का चयन कीजिए :

- (1) केवल (A), (C), (D)
- (2) केवल (A), (B), (D)
- (3) केवल (A), (B), (C), (D)
- (4) केवल (A), (B), (C)

1[Option ID=21713]

2[Option ID=21714]

3[Option ID=21715]

4[Option ID=21716]

Sl. No.30

QBID:1531030

In which of the following means of knowledge a hitherto unseen object is known through cognition of its similarity in some respects with an already seen object when one comes across that hitherto unseen object?

- (1) Perception (Prātyakṣa)
- (2) Non-Cognition (Unupalabdhi)
- (3) Comparison (Upmāna)
- (4) Postulation (Arthāpatti)

निम्नलिखित में से ज्ञान के किस साधन में, अब तक देखी न गई वस्तु को, पहले देखी गई वस्तु के साथ कुछ अर्थों में इसकी समानता के संज्ञान के माध्यम से जाना जाता है जब कोई अब तक न देखी गई वस्तु को देखता है?

- (1) प्रत्यक्ष
- (2) अनुपलब्धि
- (3) उपमान
- (4) अर्थापत्ति

1[Option ID=21717]

2[Option ID=21718]

3[Option ID=21719]

4[Option ID=21720]

Sl. No.31

QBID:1531031

With respect to information technology, which statement best describes 'Cache Memory'?

- (1) USB memory connected to a Computer to increase its storage space.
- (2) An area of memory that contains settings for operating the computer.
- (3) An area of the hard disk that is used when there is insufficient RAM.
- (4) High-speed memory that is included in devices to improve response time.

सूचना पौद्योगिकी के संबंध में, कौन सा कथन केश मेमोरी का सर्वश्रेष्ठ वर्णन करता है?

- (1) कंप्यूटर से जुड़ी यू एस बी मेमोरी उसके भंडारण स्थान को बढ़ाने के लिए।
- (2) मेमोरी का वह क्षेत्र जिसमें कंप्यूटर चलाने के लिए सेटिंग्स रहता है।
- (3) हार्ड डिस्क का वह क्षेत्र जिसका उपयोग तब किया जाता है जब अपर्याप्त RAM हो।
- (4) उच्च गति वाला मेमोरी जिसे रिस्पांस टाइम में सुधार लाने के लिए उपकरणों में शामिल किया जाता है।

1[Option ID=21721]
2[Option ID=21722]
3[Option ID=21723]
4[Option ID=21724]

Sl. No.32
QBID:1531032

Given below are two statements : One is labelled as Assertion (A) and the other is labelled as Reason (R) :

Assertion (A) : E-Governance is regarded as the ICT-enabled system in achieving Good Governance.

Reason (R) : Empathy is one of the desirable characteristics of e-Governance.

In the light of the above statements, choose the correct answer from the options given below :

- (1) Both (A) and (R) are true and (R) is the correct explanation of (A)
- (2) Both (A) and (R) are true but (R) is NOT the correct explanation of (A)
- (3) (A) is true but (R) is false
- (4) (A) is false but (R) is true

नीचे दो कथन दिए गए हैं : एक अभिकथन (Assertion A) के रूप में लिखित है तो दूसरा उसके कारण (Reason R) के रूप में :

अभिकथन (A) : ई-गवर्नेंस को अच्छा शासन प्राप्त करने में आई सी टी समर्थित प्रणाली के रूप में माना जाता है।

कारण (R) : समानुभूति ई.गवर्नेंस की वांछनीय विशेषताओं में से एक है।

उपरोक्त कथन के आलोक में, नीचे दिए गए विकल्पों में से सही उत्तर का चयन कीजिए :

- (1) (A) और (R) दोनों सही हैं और (R), (A) की सही व्याख्या है।

- (2) (A) और (R) दोनों सही हैं, लेकिन (R), (A) की सही व्याख्या नहीं है।
- (3) (A) सही है, लेकिन (R) सही नहीं है।
- (4) (A) सही नहीं है, लेकिन (R) सही है।

1[Option ID=21725]

2[Option ID=21726]

3[Option ID=21727]

4[Option ID=21728]

Sl. No.33

QBID:1531033

If you have a storage device with a capacity of 16 gigabytes, then how many 32 kilobytes files can you fit in that device? (1KB = 1024 bytes)

- (1) 2^{18}
- (2) 2^{19}
- (3) 2^{20}
- (4) 2^{14}

यदि आपके पास 16 गीगाबाइट की क्षमता वाला एक भंडारण उपकरण हो, तब उस उपकरण में कितने 32 किलो बाइट फाइल्स रख सकते हैं? (1 कि बाइट्स = 1024 बाइट्स)

- (1) 2^{18}
- (2) 2^{19}
- (3) 2^{20}
- (4) 2^{14}

1[Option ID=21729]

2[Option ID=21730]

3[Option ID=21731]

4[Option ID=21732]

Sl. No.34

QBID:1531034

In the history of computing, Moore's Law says that the number of Integrated Circuit (IC) Chips in a Computer doubles every two years, which implies that computers become twice as powerful every two years. According to Moore's Law, how many years from now will Computers be 32 times more powerful as they are now?

- (1) 5 years
- (2) 10 years
- (3) 12 years
- (4) 8 years

कंप्यूटिंग के इतिहास में, मूरे का नियम कहता है कि कंप्यूटर में इन्टीग्रेटेड सर्किट (IC) चिप्स की संख्या प्रत्येक दो वर्ष में दुगुनी हो जाती है, जिसका आशय यह है कि कंप्यूटर प्रत्येक दो वर्षों में दो गुणा शक्तिशाली हो जाता है। मूरे के नियम के अनुसार, अब से आगे कितने वर्षों में, कंप्यूटर उससे 32 गुणा अधिक शक्तिशाली हो जाएगा जितने वे अब हैं?

- (1) 5 वर्ष
- (2) 10 वर्ष
- (3) 12 वर्ष

(4) 8 वर्ष

1[Option ID=21733]
2[Option ID=21734]
3[Option ID=21735]
4[Option ID=21736]

Sl. No.35
QBID:1531035

Which of the statements given below are correct?

An Integrated Circuit (IC) is a collection of several circuits (transistors) packed on a single chip. The invention of ICs in the history of computing led to:

- (A) increased reliability of computers.
- (B) reduced cost of computers (because they could be mass manufactured).
- (C) reduced size of computers.

Choose the correct answer from the options given below :

- (1) (A) and (B) only
- (2) (B) and (C) only
- (3) (A) and (C) only
- (4) (A), (B) and (C)

नीचे दिए गए कथनों में से कौन सही है?

एक सर्किट (IC) एक सिंगल चिप पर पैक किये हुआ अनेक परिपथों (ट्राजिस्टर्स) का संग्रह है। कंप्यूटिंग के इतिहास में आई सी के हस्तक्षेप के फलस्वरूप निम्नलिखित हुआ :

- (A) कंप्यूटरों की बढ़ी हुई विश्वसनीयता
- (B) कंप्यूटरों की घटी लागत (क्योंकि उनका व्यापक स्तर पर उत्पादन हो सका है)
- (C) कंप्यूटरों का घटा हुआ आकार

सही विकल्प चुनिए :

- (1) केवल (A) और (B)
- (2) केवल (B) और (C)
- (3) केवल (A) और (C)
- (4) केवल (A,) (B) और (C)

1[Option ID=21737]
2[Option ID=21738]
3[Option ID=21739]
4[Option ID=21740]

Sl. No.36
QBID:1531036

Which one of the following is a chemical treatment process of waste water treatment?

- (1) Sedimentation
- (2) Neutralization
- (3) Aeration
- (4) Adsorption

निम्नलिखित में से कौनसी अपशिष्ट पानी के शोधन की रासायनिक शोधन की प्रक्रिया है?

- (1) तलछटन
- (2) निष्प्रभकरण (न्यूट्रलाइजेशन)
- (3) वातन
- (4) अवशोषण

1[Option ID=21741]

2[Option ID=21742]

3[Option ID=21743]

4[Option ID=21744]

Sl. No.37

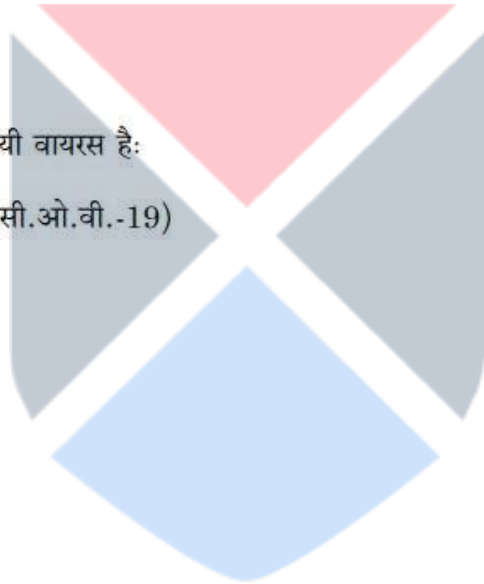
QBID:1531037

Virus responsible for the spread of COVID 19 is

- (1) SARS COV 19
- (2) SARS COV II
- (3) CORONA 19
- (4) SARS COV I

कोविड - 19 के फैलाव के लिए उत्तरदायी वायरस है:

- (1) सार्स कोव - 19 (एस.ए.आर.एस. सी.ओ.वी.-19)
- (2) सार्स कोव - II
- (3) कोरोना - 19
- (4) सार्स कोव - I



1[Option ID=21745]

2[Option ID=21746]

3[Option ID=21747]

4[Option ID=21748]

Sl. No.38

QBID:1531038

'Gobardhan' scheme aimed at Cattle and other biodegradable waste in rural India is being implemented by Department of Drinking Water and Sanitation in collaboration with the following organisations:

- (A) Ministry of New and Renewable Energy
- (B) Ministry of Petroleum and Natural Gas
- (C) Department of Rural Development
- (D) Ministry of Environment, Forest and Climate change
- (E) Department of Animal Husbandry and Dairying

Choose the correct answer from the options given below :

- (1) (A), (B), (C), (D) only
- (2) (A), (C), (D), (E) only
- (3) (A), (B), (C), (E) only

(4) (B), (C), (D), (E) only

पेयजल और स्वच्छता विभाग निम्नलिखित में से किस संगठन के सहयोग से ग्रामीण भारत में मवेशी और अन्य जैव निम्नीकरणीय योग्य अपशिष्ट पर लक्षित गोवर्धन योजना का कार्यान्वयन कर रहा है:

- (A) नवीन और नवीकरणीय ऊर्जा मंत्रालय
- (B) पेट्रोलियम और प्राकृतिक गैस मंत्रालय
- (C) ग्रामीण विकास विभाग
- (D) पर्यावरण, वन और जलवायु परिवर्तन मंत्रालय
- (E) पशुपालन और डेयरी विभाग

नीचे दिए गए विकल्पों में से सही उत्तर का चयन कीजिए :

- (1) केवल (A), (B), (C), (D)
- (2) केवल (A), (C), (D), (E)
- (3) केवल (A), (B), (C), (E)
- (4) केवल (B), (C), (D), (E)

1[Option ID=21749]
2[Option ID=21750]
3[Option ID=21751]
4[Option ID=21752]

Sl. No.39
QBID:1531039

Given below are two statements : One is labelled as Assertion (A) and the other is labelled as Reason (R) :

Assertion (A) : Photochemical smog causes eye irritation.

Reason (R) : Photochemical smog has ozone as one of its constituents.

In the light of the above statements, choose the most appropriate answer from the options given below :

- (1) Both (A) and (R) are correct and (R) is the correct explanation of (A)
- (2) Both (A) and (R) are correct but (R) is NOT the correct explanation of (A)
- (3) (A) is correct but (R) is not correct
- (4) (A) is not correct but (R) is correct

नीचे दो कथन दिए गए हैं : एक अभिकथन (Assertion A) के रूप में लिखित है तो दूसरा उसके कारण (Reason R) के रूप में :

अभिकथन (A) : प्रकाश-रसायन धूम-कोहरा (फोटोकेमिकल स्मॉग) नेत्र में जलन उत्पन्न करता है।

कारण (R) : प्रकाश-रसायन धूम-कोहरा के एक घटक के रूप में ओज़ोन होती है।

उपरोक्त कथन के आलोक में, नीचे दिए गए विकल्पों में से सबसे उपयुक्त उत्तर का चयन कीजिए :

- (1) (A) और (R) दोनों सही हैं और (R), (A) की सही व्याख्या है।
- (2) (A) और (R) दोनों सही हैं, लेकिन (R), (A) की सही व्याख्या नहीं है।
- (3) (A) सही है, लेकिन (R) सही नहीं है।
- (4) (A) सही नहीं है, लेकिन (R) सही है।

1[Option ID=21753]

2[Option ID=21754]

3[Option ID=21755]

4[Option ID=21756]

Sl. No.40

QBID:1531040

Hurricanes are tropical cyclone with surface wind speeds in excess of about

- (1) 119 km/hour
- (2) 71 km/hour
- (3) 51 km/hour
- (4) 47 km/hour

प्रभंजन (हरिकेन्स) उष्णकटिबंधीय चक्रवात हैं, जिनमें धरातल परल पर लगभग निम्न आधिक्य की गति होती है:

- (1) 119 कि.मी./घंटा
- (2) 71 कि.मी./घंटा
- (3) 51 कि.मी./घंटा
- (4) 47 कि.मी./घंटा

1[Option ID=21757]

2[Option ID=21758]

3[Option ID=21759]

4[Option ID=21760]

Sl. No.41

QBID:1531041

Given below are two statements :

Statement I : Value education is knowledge based and information oriented.

Statement II : Value education is essential for holistic development of students.

In the light of the above statements, choose the most appropriate answer from the options given below:

- (1) Both Statement I and Statement II are correct
- (2) Both Statement I and Statement II are incorrect
- (3) Statement I is correct but Statement II is incorrect
- (4) Statement I is incorrect but Statement II is correct

नीचे दो कथन दिए गए हैं :

कथन (I) : मूल्यपरक शिक्षा ज्ञान-आधारित और सूचना-उन्मुखी होती है।

कथन (II) : मूल्यपरक शिक्षा विद्यार्थियों के समग्र विकास के लिए अत्यावश्यक है।

उपरोक्त कथन के आलोक में, नीचे दिए गए विकल्पों में से सबसे उपयुक्त उत्तर का चयन कीजिए :

- (1) कथन I और II दोनों सही हैं।
- (2) कथन I और II दोनों गलत हैं।
- (3) कथन I सही है, लेकिन कथन II गलत है।
- (4) कथन I गलत है, लेकिन कथन II सही है।

1[Option ID=21761]

2[Option ID=21762]

3[Option ID=21763]

4[Option ID=21764]

Sl. No.42

QBID:1531042

As per UGC guidelines (2021) for Multiple Entry and Exit in Academic programmes, the Academic Qualification Level 6 corresponds to

- (1) B.A./B.Sc. (Hons/Research) degree
- (2) Masters degree
- (3) PG Diploma
- (4) Diploma

अकादमिक कार्यक्रमों में बहु-विध प्रविष्टियां और निर्गम केलिये यू.जी.सी. के दिशा निर्देशों (2001) के अनुसार अकादमिक योग्यता स्तर 6 किसके साथ संगत है?

- (1) बी.ए./बी.एस.सी. (ऑनर्स/शोध) डिग्री

- (2) स्नातकोत्तर डिग्री
- (3) पी.जी. डिप्लोमा
- (4) डिप्लोमा

1[Option ID=21765]

2[Option ID=21766]

3[Option ID=21767]

4[Option ID=21768]

Sl. No.43


QBID:1531043

Identify the organisations/bodies which regulate Professional Education in the country.

- (A) Indian Council for Agriculture Research
- (B) Council for Scientific and Industrial Research
- (C) National Council for Vocational Education and Training
- (D) National Council for Teacher Education
- (E) Council of Architecture

Choose the correct answer from the options given below :

- (1) (A), (C), (D), (E) only
- (2) (A), (B), (C), (D) only
- (3) (B), (C), (D), (E) only
- (4) (A), (C), (D) only



देश में वृत्तिक शिक्षा का विनियमन करने वाले संगठनों/निकायों की पहचान कीजिए:

- (A) भारतीय कृषि अनुसंधान परिषद
- (B) वैज्ञानिक और औद्योगिक अनुसंधान परिषद
- (C) राष्ट्रीय व्यावसायिक शिक्षा और प्रशिक्षण परिषद
- (D) राष्ट्रीय अध्यापक शिक्षा परिषद
- (E) स्थापत्य परिषद (काउंसिल ऑफ आर्किटेक्चर)

नीचे दिए गए विकल्पों में से सही उत्तर का चयन कीजिए :

- (1) केवल (A), (C), (D), (E)
- (2) केवल (A), (B), (C), (D)
- (3) केवल (B), (C), (D), (E)
- (4) केवल (A), (C), (D)

- 1[Option ID=21769]
2[Option ID=21770]
3[Option ID=21771]
4[Option ID=21772]

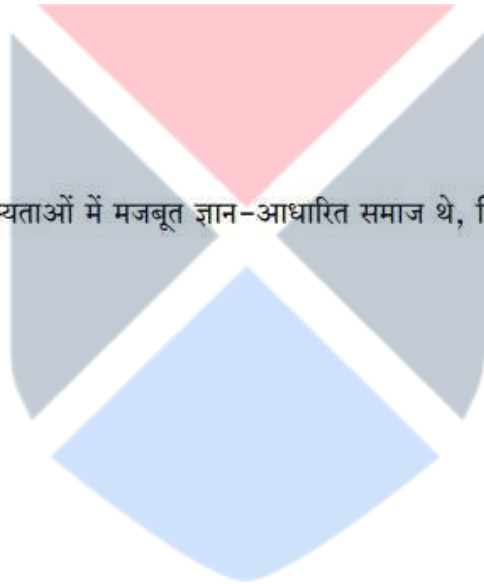
Sl. No.44
QBID:1531044

In ancient times some of the most prosperous civilizations, which were strong knowledge based societies, included

- (A) India
(B) Egypt
(C) Japan
(D) Germany
(E) Greece

Choose the correct answer from the options given below :

- (1) (A), (B), (C), (E) only
(2) (A), (B), (E) only
(3) (A), (C), (E) only
(4) (A), (B), (C), (D) only



प्राचीन काल में कुछ सर्वाधिक समृद्ध सभ्यताओं में मजबूत ज्ञान-आधारित समाज थे, जिनमें शामिल थे :

- (A) भारत
(B) मिस्र
(C) जापान
(D) जर्मनी
(E) यूनान

नीचे दिए गए विकल्पों में से सही उत्तर का चयन कीजिए :

- (1) केवल (A), (B), (C), (E)
(2) केवल (A), (B), (E)
(3) केवल (A), (C), (E)
(4) केवल (A), (B), (C), (D)

- 1[Option ID=21773]
2[Option ID=21774]
3[Option ID=21775]
4[Option ID=21776]

Sl. No.45
QBID:1531045

During British rule in India who among the following observed that: "The Indian Universities turn out only a discontented horde of office seekers, whom we educated for places which are not in existence for them to fill".

- (1)

Curzon

- (2) Annie Besant
- (3) Dalhousie
- (4) Macauley

भारत में ब्रिटिश शासन के दौरान निम्नलिखित में से किसने टिप्पणी की थी कि: “भारतीय विश्वविद्यालयों से केवल पद पान के इच्छुक उम्मीदवारों का असंतुष्ट झुंड निकलती हैं, जिन्हें हमने उन पदों के लिए शिक्षित किया, जो उन्हें रखने के लिए अस्तित्व में नहीं थे।”

- (1) कर्जन
- (2) एनी बिसेन्ट
- (3) डलहौजी
- (4) मेकाले

1[Option ID=21777]
2[Option ID=21778]
3[Option ID=21779]
4[Option ID=21780]

Sl. No.46
QBID:1531046



Read the following passage and answer the questions :

In a very long historical perspective, political development has followed the same general pattern: the forms of political organisation employed by different groups of human beings have varied, and those forms that were more successful – meaning those that could generate greater military and economic power – displaced those that were less successful. At this high level of abstraction, it is hard to see how political development could have proceeded in any other way. What is more important, however, is to understand the ways political evolution differs from human evolution in three ways. First, in political evolution, the units of selection are rules and their embodiments as institutions, rather than genes of human evolution. Although human biology facilitates the formulation and following of rules, it does not determine their content, and that content can vary enormously. Rules are the basis for institutions that confer advantages on those societies employing them and are selected through the interaction of human agents over less advantageous ones. Second, in human societies, variation among institutions can be planned and deliberated, as opposed to random. Human beings can rarely plan for unintended consequences and missing information, but the fact that they can plan means that the variance in institutional forms they create is more likely to produce adaptive solutions than simple randomness. However, we can accept the argument that institutional evolution is not dependent on the ability of human beings to design successful institutions: random variation and the principle of selection by themselves can produce an adaptive evolutionary outcome. The third way political development differs from human evolution is that the selected characteristics – institutions in one case, genes in the other – are transmitted culturally rather than genetically. This represents both an advantage and a disadvantage with respect to the adaptability of the system. Cultural traits, whether norms, customs, laws, beliefs or values, can at least in theory be altered on the fly within the space of a single generation, as in the spread of literacy among the Danish Peasantry in the sixteenth century.

निम्नलिखित गद्यांश को पढ़ें और प्रश्न के उत्तर दीजिए :

एक अत्याधिक लंबे ऐतिहासिक परिप्रेक्ष्य में राजनीतिक उद्विकास ने एक समान सामान्य पैटर्न का अनुसरण किया है: मनुष्यों के भिन्न समूहों द्वारा प्रयुक्त राजनीतिक संगठन के रूपों और सफल रहे रूपों यानी वे रूप, जो बृहत्तर सैनिक और आर्थिक शक्ति उत्पन्न कर पाए, ने उन्हें विस्थापित कर दिया, जो कम सफल रहे। अमूर्तीकरण के इस उच्च स्तर पर यह पता लगाना कठिन है कि कैसे राजनीतिक उद्विकास किसी अन्य तरीके से आगे बढ़ा होगा। लेकिन, यह समझना अधिक महत्वपूर्ण है कि राजनीतिक उद्विकास किस प्रकार तीन तरीकों में मानव उद्विकास से भिन्न है। पहला, राजनीतिक उद्विकास में चयन की इकाइयां संस्था के रूप में नियम और उनके मूर्त रूप होती हैं, न कि मानव उद्विकास के जीन्स। हालांकि मानव जीवशास्त्र निरूपण और नियमों के अनुपालन में सहायक होता है, फिर भी यह उनकी विषयवस्तु को निर्धारित नहीं करता है और यह विषयवस्तु अत्यधिक भिन्न हो सकती है। नियम संस्थाओं के आधार होते हैं और उन्हें प्रयुक्त करने वाले समाजों को लाभ प्रदान करते हैं और कम लाभकारी की तुलना में मानव एजेंट्स की अंतर्क्रिया के माध्यम से उनका चयन किया जाता है। दूसरा, मानव समाजों में संस्थाओं में विभेद को नियोजित और उस पर विचार-विमर्श किया जा सकता है, जबकि यादृच्छिक में स्थिति विपरीत है। मनुष्य अनच्छित परिणामों और अप्राप्य सूचना की विरले ही योजना बना सकते हैं, लेकिन तथ्य यह है कि वे उन साधनों की योजना बना सकते हैं, जो संस्थागत रूपों में भिन्न हैं और उनके द्वारा साधारण यादृच्छिकपन की तुलना में अनुकूलनात्मक समाधानों के उत्पन्न करने की अधिक संभावना है। लेकिन, हम यह तर्क स्वीकार कर सकते हैं कि संस्थागत उद्विकास सफल संस्थाओं की अभिकल्पना करने में मनुष्यों की क्षमता पर निर्भर नहीं है: स्वयं उनकी यादृच्छिक भिन्नता और चयन का सिद्धांत एक अनुकूलनात्मक उद्विकासात्मक परिणाम उत्पन्न कर सकते हैं। तीसरे तरीके में राजनीतिक विकास मानव उद्विकास से इसमें भिन्न है कि चयनित विशेषताएं – एक मामले में संस्थाएं, अन्य मामले में जीन्स – आनुवंशिक रूप के बजाय सांस्कृतिक रूप से संचरित होते हैं। यह प्रणाली की अनुकूलनात्मकता के बारे में लाभों और कमियों दोनों की सूचक है। सांस्कृतिक विशेषक चाहे मानक, रीति-रिवाज कानून विश्वास या मूल्य हों – कम से कम सिद्धांत में तो एक पीढ़ी के समय में प्रवाह पर परिवर्तित किए जा सकते हैं, जैसा कि सोलहवीं शताब्दी में डेनमार्क के किसान वर्ग में साक्षरता के विस्तार में हुआ था।

Historically, the successful forms of political development were based on

- (1) General patterns of human evolution
- (2) Variations in political organisations
- (3) Groups of people with aspirational goals
- (4) Military and economic power

एतिहासिक रूप से राजनीतिक विकास के सफल रूप किस पर आधारित है ?

- (1) मानव उद्विकास के सामान्य पैटर्न
- (2) राजनीतिक संगठनों में विभेद
- (3) आकांक्षी लक्ष्यों वाले जन-समूह
- (4) सैनिक और आर्थिक शक्ति

1[Option ID=21781]

2[Option ID=21782]

3[Option ID=21783]

4[Option ID=21784]

Sl. No.47
QBID:1531047



Read the following passage and answer the questions :

In a very long historical perspective, political development has followed the same general pattern: the forms of political organisation employed by different groups of human beings have varied, and those forms that were more successful – meaning those that could generate greater military and economic power – displaced those that were less successful. At this high level of abstraction, it is hard to see how political development could have proceeded in any other way. What is more important, however, is to understand the ways political evolution differs from human evolution in three ways. First, in political evolution, the units of selection are rules and their embodiments as institutions, rather than genes of human evolution. Although human biology facilitates the formulation and following of rules, it does not determine their content, and that content can vary enormously. Rules are the basis for institutions that confer advantages on those societies employing them and are selected through the interaction of human agents over less advantageous ones. Second, in human societies, variation among institutions can be planned and deliberated, as opposed to random. Human beings can rarely plan for unintended consequences and missing information, but the fact that they can plan means that the variance in institutional forms they create is more likely to produce adaptive solutions than simple randomness. However, we can accept the argument that institutional evolution is not dependent on the ability of human beings to design successful institutions: random variation and the principle of selection by themselves can produce an adaptive evolutionary outcome. The third way political development differs from human evolution is that the selected characteristics – institutions in one case, genes in the other – are transmitted culturally rather than genetically. This represents both an advantage and a disadvantage with respect to the adaptability of the system. Cultural traits, whether norms, customs, laws, beliefs or values, can at least in theory be altered on the fly within the space of a single generation, as in the spread of literacy among the Danish Peasantry in the sixteenth century.

निम्नलिखित गद्यांश को पढ़ें और प्रश्न के उत्तर दीजिए :

एक अत्यधिक लंबे ऐतिहासिक परिप्रेक्ष्य में राजनीतिक उद्विकास ने एक समान सामान्य पैटर्न का अनुसरण किया है: मनुष्यों के भिन्न समूहों द्वारा प्रयुक्त राजनीतिक संगठन के रूपों और सफल रहे रूपों यानी वे रूप, जो बृहत्तर सैनिक और आर्थिक शक्ति उत्पन्न कर पाए, ने उन्हें विस्थापित कर दिया, जो कम सफल रहे। अमूर्तीकरण के इस उच्च स्तर पर यह पता लगाना कठिन है कि कैसे राजनीतिक उद्विकास किसी अन्य तरीके से आगे बढ़ा होगा। लेकिन, यह समझना अधिक महत्वपूर्ण है कि राजनीतिक उद्विकास किस प्रकार तीन तरीकों में मानव उद्विकास से भिन्न है। पहला, राजनीतिक उद्विकास में चयन की इकाइयां संस्था के रूप में नियम और उनके मूर्त रूप होती हैं, न कि मानव उद्विकास के जीन्स। हालांकि मानव जीवशास्त्र निरूपण और नियमों के अनुपालन में सहायक होता है, फिर भी यह उनकी विषयवस्तु को निर्धारित नहीं करता है और यह विषयवस्तु अत्यधिक भिन्न हो सकती है। नियम संस्थाओं के आधार होते हैं और उन्हें प्रयुक्त करने वाले समाजों को लाभ प्रदान करते हैं और कम लाभकारी की तुलना में मानव एजेंट्स की अंतर्क्रिया के माध्यम से उनका चयन किया जाता है। दूसरा, मानव समाजों में संस्थाओं में विभेद को नियोजित और उस पर विचार-विमर्श किया जा सकता है, जबकि यादृच्छिक में स्थिति विपरीत है। मनुष्य अनच्छित परिणामों और अप्राप्य सूचना की विरले ही योजना बना सकते हैं, लेकिन तथ्य यह है कि वे उन साधनों की योजना बना सकते हैं, जो संस्थागत रूपों में भिन्न हैं और उनके द्वारा साधारण यादृच्छिकपन की तुलना में अनुकूलनात्मक समाधानों के उत्पन्न करने की अधिक संभावना है। लेकिन, हम यह तर्क स्वीकार कर सकते हैं कि संस्थागत उद्विकास सफल संस्थाओं की अभिकल्पना करने में मनुष्यों की क्षमता पर निर्भर नहीं है: स्वयं उनकी यादृच्छिक भिन्नता और चयन का सिद्धांत एक अनुकूलनात्मक उद्विकासात्मक परिणाम उत्पन्न कर सकते हैं। तीसरे तरीके में राजनीतिक विकास मानव उद्विकास से इसमें भिन्न है कि चयनित विशेषताएं – एक मामले में संस्थाएं, अन्य मामले में जीन्स – आनुवंशिक रूप के बजाय सांस्कृतिक रूप से संचरित होते हैं। यह प्रणाली की अनुकूलनात्मकता के बारे में लाभों और कमियों दोनों की सूचक है। सांस्कृतिक विशेषक चाहे मानक, रीति-रिवाज कानून विश्वास या मूल्य हों – कम से कम सिद्धांत में तो एक पीढ़ी के समय में प्रवाह पर परिवर्तित किए जा सकते हैं, जैसा कि सोलहवीं शताब्दी में डेनमार्क के किसान वर्ग में साक्षरता के विस्तार में हुआ था।

The foremost stage of political evolution contained

- (1) Biological determination of norms
- (2) Selection of political groups
- (3) Institutionalisation of rules
- (4) Understanding of political evolution

राजनीतिक उद्विकास के सर्वोपरि चरण में सम्मिलित किया जाता है:

- (1) मानकों का जैविक निर्धारण
- (2) राजनीतिक समूहों का चयन
- (3) नियमों का संस्थीकरण
- (4) राजनीतिक उद्विकास की समझ

1[Option ID=21785]

2[Option ID=21786]

3[Option ID=21787]

4[Option ID=21788]

Sl. No.48

QBID:1531048



Read the following passage and answer the questions :

In a very long historical perspective, political development has followed the same general pattern: the forms of political organisation employed by different groups of human beings have varied, and those forms that were more successful – meaning those that could generate greater military and economic power – displaced those that were less successful. At this high level of abstraction, it is hard to see how political development could have proceeded in any other way. What is more important, however, is to understand the ways political evolution differs from human evolution in three ways. First, in political evolution, the units of selection are rules and their embodiments as institutions, rather than genes of human evolution. Although human biology facilitates the formulation and following of rules, it does not determine their content, and that content can vary enormously. Rules are the basis for institutions that confer advantages on those societies employing them and are selected through the interaction of human agents over less advantageous ones. Second, in human societies, variation among institutions can be planned and deliberated, as opposed to random. Human beings can rarely plan for unintended consequences and missing information, but the fact that they can plan means that the variance in institutional forms they create is more likely to produce adaptive solutions than simple randomness. However, we can accept the argument that institutional evolution is not dependent on the ability of human beings to design successful institutions: random variation and the principle of selection by themselves can produce an adaptive evolutionary outcome. The third way political development differs from human evolution is that the selected characteristics – institutions in one case, genes in the other – are transmitted culturally rather than genetically. This represents both an advantage and a disadvantage with respect to the adaptability of the system. Cultural traits, whether norms, customs, laws, beliefs or values, can at least in theory be altered on the fly within the space of a single generation, as in the spread of literacy among the Danish Peasantry in the sixteenth century.

निम्नलिखित गद्यांश को पढ़ें और प्रश्न के उत्तर दीजिए :

एक अत्यधिक लंबे ऐतिहासिक परिप्रेक्ष्य में राजनीतिक उद्विकास ने एक समान सामान्य पैटर्न का अनुसरण किया है: मनुष्यों के भिन्न समूहों द्वारा प्रयुक्त राजनीतिक संगठन के रूपों और सफल रहे रूपों यानी वे रूप, जो बृहत्तर सैनिक और आर्थिक शक्ति उत्पन्न कर पाए, ने उन्हें विस्थापित कर दिया, जो कम सफल रहे। अमूर्तीकरण के इस उच्च स्तर पर यह पता लगाना कठिन है कि कैसे राजनीतिक उद्विकास किसी अन्य तरीके से आगे बढ़ा होगा। लेकिन, यह समझना अधिक महत्वपूर्ण है कि राजनीतिक उद्विकास किस प्रकार तीन तरीकों में मानव उद्विकास से भिन्न है। पहला, राजनीतिक उद्विकास में चयन की इकाइयां संस्था के रूप में नियम और उनके मूर्त रूप होती हैं, न कि मानव उद्विकास के जीन्स। हालांकि मानव जीवशास्त्र निरूपण और नियमों के अनुपालन में सहायक होता है, फिर भी यह उनकी विषयवस्तु को निर्धारित नहीं करता है और यह विषयवस्तु अत्यधिक भिन्न हो सकती है। नियम संस्थाओं के आधार होते हैं और उन्हें प्रयुक्त करने वाले समाजों को लाभ प्रदान करते हैं और कम लाभकारी की तुलना में मानव एजेंट्स की अंतर्क्रिया के माध्यम से उनका चयन किया जाता है। दूसरा, मानव समाजों में संस्थाओं में विभेद को नियोजित और उस पर विचार-विमर्श किया जा सकता है, जबकि यादृच्छिक में स्थिति विपरीत है। मनुष्य अनच्छित परिणामों और अप्राप्य सूचना की विरले ही योजना बना सकते हैं, लेकिन तथ्य यह है कि वे उन साधनों की योजना बना सकते हैं, जो संस्थागत रूपों में भिन्न हैं और उनके द्वारा साधारण यादृच्छिकपन की तुलना में अनुकूलनात्मक समाधानों के उत्पन्न करने की अधिक संभावना है। लेकिन, हम यह तर्क स्वीकार कर सकते हैं कि संस्थागत उद्विकास सफल संस्थाओं की अभिकल्पना करने में मनुष्यों की क्षमता पर निर्भर नहीं है: स्वयं उनकी यादृच्छिक भिन्नता और चयन का सिद्धांत एक अनुकूलनात्मक उद्विकासात्मक परिणाम उत्पन्न कर सकते हैं। तीसरे तरीके में राजनीतिक विकास मानव उद्विकास से इसमें भिन्न है कि चयनित विशेषताएं – एक मामले में संस्थाएं, अन्य मामले में जीन्स – आनुवंशिक रूप के बजाय सांस्कृतिक रूप से संचरित होते हैं। यह प्रणाली की अनुकूलनात्मकता के बारे में लाभों और कमियों दोनों की सूचक है। सांस्कृतिक विशेषक चाहे मानक, रीति-रिवाज कानून विश्वास या मूल्य हों – कम से कम सिद्धांत में तो एक पीढ़ी के समय में प्रवाह पर परिवर्तित किए जा सकते हैं, जैसा कि सोलहवीं शताब्दी में डेनमार्क के किसान वर्ग में साक्षरता के विस्तार में हुआ था।

The variance in planned political institutions features

- (1) Simple randomness of selection
- (2) Adaptive solutions
- (3) Unintended consequences
- (4) Absence of information

नियोजित राजनीतिक संस्थाओं में भिन्नता की विशेषता है:

- (1) चयन का साधारण यादृच्छिकपन
- (2) अनुकूलनात्मक समाधान
- (3) अनिच्छित परिणाम
- (4) सूचना की अनुपस्थिति

1[Option ID=21789]
2[Option ID=21790]
3[Option ID=21791]
4[Option ID=21792]

Sl. No.49
QBID:1531049



Read the following passage and answer the questions :

In a very long historical perspective, political development has followed the same general pattern: the forms of political organisation employed by different groups of human beings have varied, and those forms that were more successful – meaning those that could generate greater military and economic power – displaced those that were less successful. At this high level of abstraction, it is hard to see how political development could have proceeded in any other way. What is more important, however, is to understand the ways political evolution differs from human evolution in three ways. First, in political evolution, the units of selection are rules and their embodiments as institutions, rather than genes of human evolution. Although human biology facilitates the formulation and following of rules, it does not determine their content, and that content can vary enormously. Rules are the basis for institutions that confer advantages on those societies employing them and are selected through the interaction of human agents over less advantageous ones. Second, in human societies, variation among institutions can be planned and deliberated, as opposed to random. Human beings can rarely plan for unintended consequences and missing information, but the fact that they can plan means that the variance in institutional forms they create is more likely to produce adaptive solutions than simple randomness. However, we can accept the argument that institutional evolution is not dependent on the ability of human beings to design successful institutions: random variation and the principle of selection by themselves can produce an adaptive evolutionary outcome. The third way political development differs from human evolution is that the selected characteristics – institutions in one case, genes in the other – are transmitted culturally rather than genetically. This represents both an advantage and a disadvantage with respect to the adaptability of the system. Cultural traits, whether norms, customs, laws, beliefs or values, can at least in theory be altered on the fly within the space of a single generation, as in the spread of literacy among the Danish Peasantry in the sixteenth century.

निम्नलिखित गद्यांश को पढ़ें और प्रश्न के उत्तर दीजिए :

एक अत्यधिक लंबे ऐतिहासिक परिप्रेक्ष्य में राजनीतिक उद्विकास ने एक समान सामान्य पैटर्न का अनुसरण किया है: मनुष्यों के भिन्न समूहों द्वारा प्रयुक्त राजनीतिक संगठन के रूपों और सफल रहे रूपों यानी वे रूप, जो बृहत्तर सैनिक और आर्थिक शक्ति उत्पन्न कर पाए, ने उन्हें विस्थापित कर दिया, जो कम सफल रहे। अमूर्तीकरण के इस उच्च स्तर पर यह पता लगाना कठिन है कि कैसे राजनीतिक उद्विकास किसी अन्य तरीके से आगे बढ़ा होगा। लेकिन, यह समझना अधिक महत्वपूर्ण है कि राजनीतिक उद्विकास किस प्रकार तीन तरीकों में मानव उद्विकास से भिन्न है। पहला, राजनीतिक उद्विकास में चयन की इकाइयां संस्था के रूप में नियम और उनके मूर्त रूप होती हैं, न कि मानव उद्विकास के जीन्स। हालांकि मानव जीवशास्त्र निरूपण और नियमों के अनुपालन में सहायक होता है, फिर भी यह उनकी विषयवस्तु को निर्धारित नहीं करता है और यह विषयवस्तु अत्यधिक भिन्न हो सकती है। नियम संस्थाओं के आधार होते हैं और उन्हें प्रयुक्त करने वाले समाजों को लाभ प्रदान करते हैं और कम लाभकारी की तुलना में मानव एजेंट्स की अंतर्क्रिया के माध्यम से उनका चयन किया जाता है। दूसरा, मानव समाजों में संस्थाओं में विभेद को नियोजित और उस पर विचार-विमर्श किया जा सकता है, जबकि यादृच्छिक में स्थिति विपरीत है। मनुष्य अनच्छित परिणामों और अप्राप्य सूचना की विरले ही योजना बना सकते हैं, लेकिन तब यह है कि वे उन साधनों की योजना बना सकते हैं, जो संस्थागत रूपों में भिन्न हैं और उनके द्वारा साधारण यादृच्छिकपन की तुलना में अनुकूलनात्मक समाधानों के उत्पन्न करने की अधिक संभावना है। लेकिन, हम यह तर्क स्वीकार कर सकते हैं कि संस्थागत उद्विकास सफल संस्थाओं की अभिकल्पना करने में मनुष्यों की क्षमता पर निर्भर नहीं है: स्वयं उनकी यादृच्छिक भिन्नता और चयन का सिद्धांत एक अनुकूलनात्मक उद्विकासात्मक परिणाम उत्पन्न कर सकते हैं। तीसरे तरीके में राजनीतिक विकास मानव उद्विकास से इसमें भिन्न है कि चयनित विशेषताएं – एक मामले में संस्थाएं, अन्य मामले में जीन्स – आनुवंशिक रूप के बजाय सांस्कृतिक रूप से संचरित होते हैं। यह प्रणाली की अनुकूलनात्मकता के बारे में लाभों और कमियों दोनों की सूचक है। सांस्कृतिक विशेषक चाहे मानक, रीति-रिवाज कानून विश्वास या मूल्य हों – कम से कम सिद्धांत में तो एक पीढ़ी के समय में प्रवाह पर परिवर्तित किए जा सकते हैं, जैसा कि सोलहवीं शताब्दी में डेनमार्क के किसान वर्ग में साक्षरता के विस्तार में हुआ था।

The transmission of select characteristics of political development is basically

- (1) Cultural
- (2) Biological
- (3) Rhetorical
- (4) Unsocial

राजनीतिक विकास की चुनिंदा विशेषताओं का संचरण मूल रूप से है:

- (1) सांस्कृतिक
- (2) जैविक
- (3) शब्दाडंबरपूर्ण
- (4) असामाजिक

1[Option ID=21793]

2[Option ID=21794]

3[Option ID=21795]

4[Option ID=21796]

Sl. No.50

QBID:1531050



Read the following passage and answer the questions :

In a very long historical perspective, political development has followed the same general pattern: the forms of political organisation employed by different groups of human beings have varied, and those forms that were more successful – meaning those that could generate greater military and economic power – displaced those that were less successful. At this high level of abstraction, it is hard to see how political development could have proceeded in any other way. What is more important, however, is to understand the ways political evolution differs from human evolution in three ways. First, in political evolution, the units of selection are rules and their embodiments as institutions, rather than genes of human evolution. Although human biology facilitates the formulation and following of rules, it does not determine their content, and that content can vary enormously. Rules are the basis for institutions that confer advantages on those societies employing them and are selected through the interaction of human agents over less advantageous ones. Second, in human societies, variation among institutions can be planned and deliberated, as opposed to random. Human beings can rarely plan for unintended consequences and missing information, but the fact that they can plan means that the variance in institutional forms they create is more likely to produce adaptive solutions than simple randomness. However, we can accept the argument that institutional evolution is not dependent on the ability of human beings to design successful institutions: random variation and the principle of selection by themselves can produce an adaptive evolutionary outcome. The third way political development differs from human evolution is that the selected characteristics – institutions in one case, genes in the other – are transmitted culturally rather than genetically. This represents both an advantage and a disadvantage with respect to the adaptability of the system. Cultural traits, whether norms, customs, laws, beliefs or values, can at least in theory be altered on the fly within the space of a single generation, as in the spread of literacy among the Danish Peasantry in the sixteenth century.

निम्नलिखित गद्यांश को पढ़ें और प्रश्न के उत्तर दीजिए :

एक अत्याधिक लंबे ऐतिहासिक परिप्रेक्ष्य में राजनीतिक उद्विकास ने एक समान सामान्य पैटर्न का अनुसरण किया है: मनुष्यों के भिन्न समूहों द्वारा प्रयुक्त राजनीतिक संगठन के रूपों और सफल रहे रूपों यानी वे रूप, जो बृहत्तर सैनिक और आर्थिक शक्ति उत्पन्न कर पाए, ने उन्हें विस्थापित कर दिया, जो कम सफल रहे। अमूर्तीकरण के इस उच्च स्तर पर यह पता लगाना कठिन है कि कैसे राजनीतिक उद्विकास किसी अन्य तरीके से आगे बढ़ा होगा। लेकिन, यह समझना अधिक महत्वपूर्ण है कि राजनीतिक उद्विकास किस प्रकार तीन तरीकों में मानव उद्विकास से भिन्न है। पहला, राजनीतिक उद्विकास में चयन की इकाइयां संस्था के रूप में नियम और उनके मूर्त रूप होती हैं, न कि मानव उद्विकास के जीन्स। हालांकि मानव जीवशास्त्र निरूपण और नियमों के अनुपालन में सहायक होता है, फिर भी यह उनकी विषयवस्तु को निर्धारित नहीं करता है और यह विषयवस्तु अत्यधिक भिन्न हो सकती है। नियम संस्थाओं के आधार होते हैं और उन्हें प्रयुक्त करने वाले समाजों को लाभ प्रदान करते हैं और कम लाभकारी की तुलना में मानव एजेंट्स की अंतर्क्रिया के माध्यम से उनका चयन किया जाता है। दूसरा, मानव समाजों में संस्थाओं में विभेद को नियोजित और उस पर विचार-विमर्श किया जा सकता है, जबकि यादृच्छिक में स्थिति विपरीत है। मनुष्य अनच्छित परिणामों और अप्राप्य सूचना की विरले ही योजना बना सकते हैं, लेकिन तथ्य यह है कि वे उन साधनों की योजना बना सकते हैं, जो संस्थागत रूपों में भिन्न हैं और उनके द्वारा साधारण यादृच्छिकपन की तुलना में अनुकूलनात्मक समाधानों के उत्पन्न करने की अधिक संभावना है। लेकिन, हम यह तर्क स्वीकार कर सकते हैं कि संस्थागत उद्विकास सफल संस्थाओं की अभिकल्पना करने में मनुष्यों की क्षमता पर निर्भर नहीं है: स्वयं उनकी यादृच्छिक भिन्नता और चयन का सिद्धांत एक अनुकूलनात्मक उद्विकासात्मक परिणाम उत्पन्न कर सकते हैं। तीसरे तरीके में राजनीतिक विकास मानव उद्विकास से इसमें भिन्न है कि चयनित विशेषताएं – एक मामले में संस्थाएं, अन्य मामले में जीन्स – आनुवंशिक रूप के बजाय सांस्कृतिक रूप से संचरित होते हैं। यह प्रणाली की अनुकूलनात्मकता के बारे में लाभों और कमियों दोनों की सूचक है। सांस्कृतिक विशेषक चाहे मानक, रीति-रिवाज कानून विश्वास या मूल्य हों – कम से कम सिद्धांत में तो एक पीढ़ी के समय में प्रवाह पर परिवर्तित किए जा सकते हैं, जैसा कि सोलहवीं शताब्दी में डेनमार्क के किसान वर्ग में साक्षरता के विस्तार में हुआ था।

The inference to be drawn from the passage is that

- (1) People design their political evolution.
- (2) Political evolution is the replica of human evolution.
- (3) Rule based institutions are indispensable to society.
- (4) Cultural traits cannot be organismic to political evolution.

उपरोक्त गद्यांश से निष्कर्ष निकलता है कि :

- (1) लोग अपने राजनीतिक उद्विकास की अभिकल्पना करते हैं।
- (2) राजनीतिक उद्विकास मानव उद्विकास की अनुकृति है।
- (3) नियम-आधारित संस्थाएं समाज के लिए अपरिहार्य हैं।
- (4) सांस्कृतिक विशेषक राजनीतिक उद्विकास के लिए जैविकीय नहीं हो सकते हैं।

1[Option ID=21797]
2[Option ID=21798]
3[Option ID=21799]
4[Option ID=21800]

Sl. No.51
QBID:111001

Maximum percentage of investment under 'Make-in-India' by a Foreign investor is :-

- (1) 47
- (2) 48
- (3) 49
- (4) 50

'मेक-इन इंडिया' के अंतर्गत किसी विदेशी निवेशक द्वारा निवेश की न्यूनतम प्रतिशतता है :-

- (1) 47
- (2) 48
- (3) 49
- (4) 50

1[Option ID=21801]
2[Option ID=21802]
3[Option ID=21803]
4[Option ID=21804]

Sl. No.52
QBID:111002

Which of the following is not a cause of conflict?

- (1) Territorial Domination
- (2) Power politics
- (3) Fight-for-freedom
- (4) Peace proposal

निम्नलिखित में से कौन-सा संघर्ष का कारण नहीं है?

- (1) प्रादेशिक प्रभुत्व
- (2) शक्ति राजनीति
- (3) स्वतंत्रता के लिए युद्ध
- (4) शांति प्रस्ताव

1[Option ID=21805]
2[Option ID=21806]
3[Option ID=21807]
4[Option ID=21808]

Sl. No.53
QBID:111003

DB Shekatkar Committee was formulated to

- (1) Improve 'Teeth-to-Tail' ratio of Indian Armed Forces
- (2) Assess economic viability of Indian Armed Forces
- (3) Improve logistics
- (4) Ratify defence treaties

डी.बी. शेकटकर समिति का गठन निम्नलिखित उद्देश्य के लिए किया गया था :-

- (1) भारतीय सशस्त्र बल के 'टीथ-टू-टेल' अनुपात में सुधार करना
- (2) भारतीय सशस्त्र बल की आर्थिक क्षमता का मूल्यांकन करना
- (3) आपूर्ति में सुधार करना
- (4) रक्षा समझौतों का अनुसमर्थन करना

1[Option ID=21809]
2[Option ID=21810]
3[Option ID=21811]
4[Option ID=21812]

Sl. No.54
QBID:111004

Russian-Ukraine war is a form of

- (1) Total war for economic supremacy
- (2) Limited war
- (3) Civil war
- (4) Strategic Dominance

रूस-यूक्रेन युद्ध निम्नलिखित में से किसका प्रकार है?

- (1) पूर्ण युद्ध
- (2) सीमित युद्ध
- (3) गृह युद्ध
- (4) सामरिक प्रभुता

1[Option ID=21813]
2[Option ID=21814]
3[Option ID=21815]
4[Option ID=21816]

Sl. No.55
QBID:111005

Maritime Silk route was conceived by

- (1) Narendra Modi
- (2) Shinzo Abe
- (3) Donald Trump
- (4) Xi Jinping

समुद्री सिल्क मार्ग की संकल्पना किसकी थी?

- (1) नरेन्द्र मोदी
- (2) शिन्जो एबे
- (3) डोनाल्ड ट्रंप
- (4) शी जिनपिंग

- 1[Option ID=21817]
2[Option ID=21818]
3[Option ID=21819]
4[Option ID=21820]

Sl. No.56
QBID:111006

Full form of SAPTA is

- (1) South-Asian Preferential Trade Agreement
- (2) Sino-Australia Preferential Trade Agreement
- (3) South-African Parity Trade Agreement
- (4) South-American Policy Trade Agreement

एस ए पी टी ए का पूर्ण रूप है :

- (1) साउथ-एशियन प्रेफरेंशियल ट्रेड एग्रीमेंट
- (2) साइनो-ऑस्ट्रेलियन प्रेफरेंशियल ट्रेड एग्रीमेंट
- (3) साउथ-अफ्रीकन पैरिटी ट्रेड एग्रीमेंट
- (4) साउथ-अमेरिकन पॉलिसी ट्रेड एग्रीमेंट

- 1[Option ID=21821]
2[Option ID=21822]
3[Option ID=21823]
4[Option ID=21824]

Sl. No.57
QBID:111007

Which nation had refused to join the League of Nations?

- (1) France
- (2) Germany
- (3) USA
- (4) Italy

किस राष्ट्र ने राष्ट्रसंघ में सम्मिलित होने से इन्कार किया था?

- (1) फ्रांस

(2) जर्मनी

(3) यू एस ए

(4) इटली

1[Option ID=21825]

2[Option ID=21826]

3[Option ID=21827]

4[Option ID=21828]

Sl. No.58

QBID:111008

Who wrote the book 'Art of War'?

(1) Sun Tzu

(2) Confucious

(3) Leo Tolstoy

(4) Machievelli

'आर्ट ऑफ वॉर' पुस्तक किसने लिखी है?

(1) सुन त्जू

(2) कन्फ्यूशियस

(3) लियो टालस्तॉय

(4) मैकियावेली

1[Option ID=21829]

2[Option ID=21830]

3[Option ID=21831]

4[Option ID=21832]

Sl. No.59

QBID:111009

Nagorno-Karabakh was fought between

(1) Armenia and Azerbaijan

(2) Iran and Armenia

(3) Armenia and Turkey

(4) Armenia and Georgia

नागार्नो-काराबख का युद्ध किनके मध्य लड़ा गया?

(1) आर्मेनिया और अजरबैजान

(2) ईरान और आर्मेनिया

(3) आर्मेनिया और टर्की

(4) आर्मेनिया और जार्जिया

1[Option ID=21833]

2[Option ID=21834]

3[Option ID=21835]

4[Option ID=21836]

Sl. No.60

QBID:111010

Treaty of Versailles was signed in the year :-

- (1) April 1919
- (2) May 1920
- (3) June 1921
- (4) July 1918

वर्सेल्स संधि पर किस वर्ष हस्ताक्षर किया गया ?

- (1) अप्रैल 1919
- (2) मई 1920
- (3) जून 1921
- (4) जुलाई 1918

1[Option ID=21837]
2[Option ID=21838]
3[Option ID=21839]
4[Option ID=21840]

Sl. No.61
QBID:111011

What was the immediate cause of World War – I?

- (1) Assassination of Duke of Ferdinand
- (2) Annexation of Germany
- (3) Fall of Poland
- (4) Fall of Italy

विश्व युद्ध- I का तात्कालिक कारण क्या था ?

- (1) ड्यूक ऑफ फर्डिनान्ड की हत्या
- (2) जर्मनी का अधिग्रहण
- (3) पोलैन्ड का पतन
- (4) इटली का पतन

1[Option ID=21841]
2[Option ID=21842]
3[Option ID=21843]
4[Option ID=21844]

Sl. No.62
QBID:111012

'Six-fold' policy was propounded by

- (1) Tiruvalur
- (2) Machiavelli
- (3) Chandra Gupta Maurya
- (4) Kautilya

'छः-सूत्रीय' नीति का प्रतिपादन किसके द्वारा किया गया था ?

- (1)

तिरुवल्लूर

- (2) मेक्रियाविली
- (3) चन्द्रगुप्त मौर्य
- (4) कौटिल्य

1[Option ID=21845]
2[Option ID=21846]
3[Option ID=21847]
4[Option ID=21848]

Sl. No.63
QBID:111013

Which year NAM (Non-Aligned Movement) was launched?

- (1) 1961
- (2) 1971
- (3) 1981
- (4) 1991

'नाम' (गुटनिरपेक्ष आंदोलन) किस वर्ष शुरू किया गया?

- (1) 1961
- (2) 1971
- (3) 1981
- (4) 1991

1[Option ID=21849]
2[Option ID=21850]
3[Option ID=21851]
4[Option ID=21852]

Sl. No.64
QBID:111014

Who was the President of erstwhile USSR when it was disintegrated?

- (1) Mikhail Gorbachev
- (2) Boris Yeltsin
- (3) Nikita Khrushchev
- (4) Leonid Brezhnev

पूर्व 'यू एस एस आर' के विघटन के समय उसका राष्ट्रपति कौन था?

- (1) मिखाइल गोर्बाचोव
- (2) बोरिस येल्तसिन
- (3) निकिता क्रुश्चेव
- (4) लियोनार्ड ब्रेजनेव

1[Option ID=21853]
2[Option ID=21854]
3[Option ID=21855]
4[Option ID=21856]

Sl. No.65
QBID:111015

Where is IAEA Headquarter located?

- (1) Vienna
- (2) Vietnam
- (3) Vladivostok
- (4) Yemen

आई.ए.ई.ए. का मुख्यालय कहाँ स्थित है?

- (1) वियना
- (2) वियतनाम
- (3) व्लाडीवॉसटॉक
- (4) येमेन

1[Option ID=21857]
2[Option ID=21858]
3[Option ID=21859]
4[Option ID=21860]

Sl. No.66
QBID:111016

Who attacked Argentina in Falk Land war?

- (1) Great Britain
- (2) France
- (3) Spain
- (4) Germany

फॉकलैंड-युद्ध में अर्जेन्टिना पर किस देश ने आक्रमण किया था?

- (1) ग्रेट ब्रिटेन
- (2) फ्रांस
- (3) स्पेन
- (4) जर्मनी

1[Option ID=21861]
2[Option ID=21862]
3[Option ID=21863]
4[Option ID=21864]

Sl. No.67
QBID:111017

NBC Warfare refers to :-

- (1) Nuclear-Based-Conflict
- (2) Non-Biological-Centric
- (3) Nuclear-Biological-Chemical
- (4) Non-Biological-Conflict

एन बी सी युद्ध क्या संकेत करता है?

- (1) न्युक्लियर-आधारित संघर्ष
- (2) गैर-जैविक-केंद्रित
- (3) न्युक्लियर-जैविक-रासायनिक
- (4) गैर-जैविक संघर्ष

1[Option ID=21865]
2[Option ID=21866]
3[Option ID=21867]
4[Option ID=21868]

Sl. No.68
QBID:111018

Asymmetric warfare refers to :-

- (1) Two equal forces
- (2) Powerful Vs. weaker forces
- (3) Two weak forces
- (4) Two powerful forces

विषम युद्ध का क्या आशय है?

- (1) दो समान सैन्य बल
- (2) सशक्त बनाम कमजोर सैन्य बल
- (3) दो कमजोर सैन्य बल
- (4) दो शक्तिशाली सैन्य बल



1[Option ID=21869]
2[Option ID=21870]
3[Option ID=21871]
4[Option ID=21872]

Sl. No.69
QBID:111019

Aksai chin is part of which nation?

- (1) India
- (2) Australia
- (3) Pakistan
- (4) Nepal

अकसाई-चीन किस राष्ट्र का हिस्सा है?

- (1) भारत
- (2) ऑस्ट्रेलिया
- (3) पाकिस्तान
- (4) नेपाल

- 1[Option ID=21873]
2[Option ID=21874]
3[Option ID=21875]
4[Option ID=21876]

Sl. No.70
QBID:111020

Who is the 'Missile Man' of India?

- (1) APJ Abdul Kalam
- (2) Vikram Sarabhai
- (3) Hargobind Khurana
- (4) CV Raman

भारत का 'मिसाइल मैन' किसे कहते हैं?

- (1) ए.पी.जे. अब्दुल कलाम
- (2) विक्रम साराभाई
- (3) हरगोविंद खुराना
- (4) सी.वी. रामन

- 1[Option ID=21877]
2[Option ID=21878]
3[Option ID=21879]
4[Option ID=21880]

Sl. No.71
QBID:111021

No first use of WMD in outer space was proposed by :-

- (1) UNFPA
- (2) UNPDF
- (3) UNSC
- (4) UNCA

बाह्य अंतरिक्ष में डब्ल्यु एम डी का प्रथम प्रयोग निषेध का प्रस्ताव किसने किया था?

- (1) यू एन एफ पी ए
- (2) यू एन पी डी एफ
- (3) यू एन एस सी
- (4) यू एन सी ए

- 1[Option ID=21881]
2[Option ID=21882]
3[Option ID=21883]
4[Option ID=21884]

Sl. No.72
QBID:111022

Which Tribunal tried Nazi leaders after Second World War?

- (1) Nuremberg Tribunal
- (2) Bonn Tribunal
- (3) Berlin Tribunal
- (4) Hannover Tribunal

द्वितीय विश्व युद्ध के पश्चात नाज़ी नेताओं पर किस न्यायाधिकरण ने मुकदमा चलाया था ?

- (1) न्यूरेमबर्ग न्यायाधिकरण
- (2) बोन न्यायाधिकरण
- (3) बर्लिन न्यायाधिकरण
- (4) हनोवर न्यायाधिकरण

1[Option ID=21885]

2[Option ID=21886]

3[Option ID=21887]

4[Option ID=21888]

Sl. No.73

QBID:111023

Malabar Naval exercise was conducted between which nations?

- (1) India, USA and Japan
- (2) India, Singapore and Japan
- (3) India, Srilanka and Maldives
- (4) India, Maldives and Australia

मालाबार नौसैनिक अभ्यास किन-किन राष्ट्रों के मध्य किया गया ?

- (1) भारत, यू.एस.ए. तथा जापान
- (2) भारत, सिंगापुर तथा जापान
- (3) भारत, श्रीलंका तथा मालदीव
- (4) भारत, मालदीव तथा ऑस्ट्रेलिया

1[Option ID=21889]

2[Option ID=21890]

3[Option ID=21891]

4[Option ID=21892]

Sl. No.74

QBID:111024

One nautical mile is equal to :-

- (1) 1.5 kms
- (2) 1.6 कि.मी.
- (3) 1.7 कि.मी.

(4) 1.8 कि.मी.

एक सामुद्रिक मील किसके समान है?

(1) 1.5 कि.मी.

(2) 1.6 कि.मी.

(3) 1.7 कि.मी.

(4) 1.8 कि.मी.

1[Option ID=21893]

2[Option ID=21894]

3[Option ID=21895]

4[Option ID=21896]

Sl. No.75

QBID:111025

Who was the first Field Marshal of Indian Army?

(1) Gen K.M. Cariappa

(2) Gen SAM Manekshaw

(3) Gen JN Choudhary

(4) Gen DS Palit

भारतीय सेना का प्रथम फील्ड मार्शल कौन था?

(1) जनरल के.एम. करियप्पा

(2) जनरल एस.ए.एम. मानेक्शा

(3) जनरल जे.एन. चौधरी

(4) जनरल डी.एस. पालित



1[Option ID=21897]

2[Option ID=21898]

3[Option ID=21899]

4[Option ID=21900]

Sl. No.76

QBID:111026

India's highest Gallantry Award is :-

(1) Param Vishist Sewa Medal (PVSM)

(2) Ati Vishist Sewa Medal (AVSM)

(3) Kirti Chakra (KC)

(4) Param Vir Chakra (PVC)

भारत का सर्वोच्च वीरता पुरस्कार है :

(1) परम विशिष्ट सेवा मेडल (पी वी एस एम)

(2) अति विशिष्ट सेवा मेडल (ए वी एस एम)

(3)

कीर्ति चक्र (के सी)

(4) परम वीर चक्र (पी वी सी)

- 1[Option ID=21901]
2[Option ID=21902]
3[Option ID=21903]
4[Option ID=21904]

Sl. No.77
QBID:111027

1857 Revolt started from which city?

- (1) Aligarh
(2) Calcutta
(3) Meerut
(4) Lucknow

वर्ष 1857 का विद्रोह-किस शहर से प्रारंभ आरंभ हुआ ?

- (1) अलीगढ़
(2) कोलकाता
(3) मेरठ
(4) लखनऊ

- 1[Option ID=21905]
2[Option ID=21906]
3[Option ID=21907]
4[Option ID=21908]

Sl. No.78
QBID:111028

There are _____ Army commands in India.

- (1) 05
(2) 07
(3) 09
(4) 11

भारत में _____ सैन्य कमांडर होते हैं।

- (1) 05
(2) 07
(3) 09
(4) 11

- 1[Option ID=21909]
2[Option ID=21910]
3[Option ID=21911]
4[Option ID=21912]

Sl. No.79
QBID:111029

Gaza Strip is in which country?

- (1)

Israel

- (2) Syria
- (3) Lebanon
- (4) Jordan

गाज़ा पट्टी किस देश में स्थित है ?

- (1) इज़रायल
- (2) सीरिया
- (3) लेबनॉन
- (4) जोर्डन

1[Option ID=21913]
2[Option ID=21914]
3[Option ID=21915]
4[Option ID=21916]

Sl. No.80
QBID:111030

Palk Strait connects which countries?

- (1) India and Srilanka
- (2) India and Mauritius
- (3) India and Maldives
- (4) India and Pakistan

पाल्क स्ट्रेट किन राष्ट्रों को जोड़ता है ?

- (1) भारत और श्रीलंका
- (2) भारत और मारीशस
- (3) भारत और मालदीव
- (4) भारत और पाकिस्तान

1[Option ID=21917]
2[Option ID=21918]
3[Option ID=21919]
4[Option ID=21920]

Sl. No.81
QBID:111031

Battle of Longewala was fought in which sector?

- (1) Desert
- (2) Water
- (3) Air
- (4) Mountains

लॉंगेवाला युद्ध किस प्रकार के क्षेत्र में लड़ा गया था ?

- (1) मरूभूमि
- (2) जल
- (3) वायु
- (4) पर्वत

1[Option ID=21921]
2[Option ID=21922]
3[Option ID=21923]
4[Option ID=21924]

Sl. No.82
QBID:111032

Where is the highest battle field located?

- (1) Siachen
- (2) Alps
- (3) Urals
- (4) Andes

विश्व में सबसे ऊँचा युद्ध का मैदान कहाँ स्थित है?

- (1) सियाचिन
- (2) आल्प्स
- (3) यूराल्स
- (4) एन्डीज़

1[Option ID=21925]
2[Option ID=21926]
3[Option ID=21927]
4[Option ID=21928]

Sl. No.83
QBID:111033

TAPI pipelines for energy transportation has been opposed by :-

- (1) Turkmenistan
- (2) Pakistan
- (3) India
- (4) Afghanistan

ऊर्जा परिवहन हेतु 'टी ए पी आई' पाइपलाइन का विरोध किसके द्वारा किया गया ?

- (1) तुर्कमेनिस्तान
- (2) पाकिस्तान
- (3) भारत
- (4) अफगानिस्तान

- 1[Option ID=21929]
2[Option ID=21930]
3[Option ID=21931]
4[Option ID=21932]

Sl. No.84
QBID:111034

As per SIPRI report, South-Asia is the _____ most unstable region in the World.

- (1) 5th
(2) 4th
(3) 3rd
(4) 2nd

दक्षिण एशिया विश्व में _____ सर्वाधिक अस्थिर क्षेत्र है।

- (1) पाँचवाँ
(2) चौथा
(3) तीसरा
(4) दूसरा

- 1[Option ID=21933]
2[Option ID=21934]
3[Option ID=21935]
4[Option ID=21936]

Sl. No.85
QBID:111035

Asharq-Al-Awsat is owned by :-

- (1) Saudi Arabia
(2) UAE
(3) Iran
(4) Iraq

अल-शर्क अल-अस्वात किसके स्वामित्व में है?

- (1) सऊदी अरब
(2) संयुक्त अरब अमीरात (यू ए ई)
(3) ईरान
(4) ईराक

- 1[Option ID=21937]
2[Option ID=21938]
3[Option ID=21939]
4[Option ID=21940]

Sl. No.86
QBID:111036

Which one of the following is a permanent condition for power-conflicts between States?

- (1) Internal balancing
(2) Security dilemma

- (3) External balancing
(4) Both (1) and (2) above

राज्यों के बीच शक्ति संबंधी संघर्षों के लिए निम्नलिखित में से कौन-स्थायी कारण है?

- (1) आंतरिक संतुलन
(2) सुरक्षा संबंधी दुविधा
(3) बाह्य संतुलन
(4) दोनों उपर्युक्त (1) और (2)

1[Option ID=21941]

2[Option ID=21942]

3[Option ID=21943]

4[Option ID=21944]

Sl. No.87

QBID:111037

Who is the 'architect' of US cold war policy of containment?

- (1) Morgenthau
(2) John Herz
(3) George Bush
(4) George F. Kennan

निम्नलिखित में से कौन व्यक्ति यू.एस. शीत युद्ध पर रोक लगाने की नीति का सूत्रधार है?

- (1) मारगनथाऊ
(2) जॉन हर्ज़
(3) जार्ज बुश
(4) जार्ज एफ. केनन

1[Option ID=21945]

2[Option ID=21946]

3[Option ID=21947]

4[Option ID=21948]

Sl. No.88

QBID:111038

Complex interdependence is related to theory of :-

- (1) Realism
(2) Constructivism
(3) Neo-liberalism
(4) Neo-Realism

'काम्प्लेक्स इन्टरडिपेन्डेन्स' किस सिद्धांत से संबंधित है?

- (1) यथार्थवाद
(2) कन्स्ट्रक्टिविज़्म
(3)

नव-उदारवाद

(4) नव-यथार्थवाद

- 1[Option ID=21949]
2[Option ID=21950]
3[Option ID=21951]
4[Option ID=21952]

Sl. No.89
QBID:111039

Investment of Ijtihad refers to

- (1) Development of new rules of law
(2) Development of new rules of taxation
(3) Development of new rules of financing
(4) Development of independent Muslim thinking

इज्तिहाद का माध्यम किससे संबंधित है?

- (1) विधि के नए नियमों का विकास
(2) कराधान के नए नियमों का विकास
(3) वित्त-पोषण के नए नियमों का विकास
(4) निर्मात के नए नियमों का विकास

- 1[Option ID=21953]
2[Option ID=21954]
3[Option ID=21955]
4[Option ID=21956]

Sl. No.90
QBID:111040

Where is the NCOR (National Centre for Ocean Research) located?

- (1) Goa
(2) Maharashtra
(3) Odisha
(4) Tamilnadu

एन सी ओ आर (नेशनल सेंटर फॉर ओशन रिसर्च) कहाँ स्थित है?

- (1) गोवा
(2) महाराष्ट्र
(3) ओडीशा
(4) तमिलनाडु

- 1[Option ID=21957]
2[Option ID=21958]
3[Option ID=21959]
4[Option ID=21960]

Sl. No.91
QBID:111041

'Hellas' is a historical manifestation of 'State' in :-

- (A) Greece
- (B) Latin America
- (C) Ancient Persia
- (D) Aztec Civilisation
- (E) Mesopotamian Civilisation

Choose the correct answer from the options given below :

- (1) A only
- (2) A, B and E only
- (3) A, B and C only
- (4) A, B, C and D only

'हेलास' निम्नलिखित में से किसकी ऐतिहासिक अभिव्यक्ति है?

- (A) यूनान
- (B) लेटिन अमेरिका
- (C) प्राचीन फारस
- (D) एजटेक सभ्यता
- (E) मेसोपोटामिया की सभ्यता

निचे दिए गए विकल्पों में से सही उत्तर का चयन कीजिए :

- (1) केवल A
- (2) केवल A, B और E
- (3) केवल A, B और C
- (4) केवल A, B, C और D



1[Option ID=21961]

2[Option ID=21962]

3[Option ID=21963]

4[Option ID=21964]

Sl. No.92

QBID:111042

'Circle of States' concept was developed by

- (A) Napoleon
- (B) Chanakya
- (C) Ashoka
- (D) Chandragupta Maurya
- (E) Machiavelli

Choose the correct answer from the options given below :

- (1) A and B only
- (2) B only

(3) A, B and C only

(4) B, D and E only

'सर्किल ऑफ स्टेट्स' की संकल्पना किसने विकसित की?

(A) नेपोलियन

(B) चाणक्य

(C) अशोक

(D) चन्द्रगुप्त मौर्य

(E) मैक्रियावेली

निचे दिए गए विकल्पों में से सही उत्तर का चयन कीजिए :

(1) केवल A और B

(2) केवल B

(3) केवल A, B और C

(4) केवल B, D और E

1[Option ID=21965]

2[Option ID=21966]

3[Option ID=21967]

4[Option ID=21968]

Sl. No.93

QBID:111043

'Worthy Allies' by Chanakya included the following

(A) One who exerts himself on behalf of the alliance

(B) One who is worthy of respect

(C) One who is estranged due to action of Traitors

(D) One who is not amenable to be controlled

(E) One who is loyal as long as it helps

Choose the correct answer from the options given below :

(1) A only

(2) B, C and D only

(3) B, C and E only

(4) A, B and C only

चाणक्य के 'योग्य मित्र' में कौन सम्मिलित है?

- (A) जो व्यक्ति जो मैत्री की ओर से स्वयं को प्रबोधित करता है।
- (B) वह व्यक्ति जो सम्मान का पात्र है।
- (C) वह व्यक्ति जो राष्ट्रद्रोही कृत्य के लिए अलग कर दिया जाता है।
- (D) वह व्यक्ति जिस पर नियंत्रण नहीं किया जा सकता है।
- (E) वह व्यक्ति तब तक विश्वास पात्र है, जब तक वह मददगार है।

निचे दिए गए विकल्पों में से सही उत्तर का चयन कीजिए :

- (1) केवल A
- (2) केवल B, C और D
- (3) केवल B, C और E
- (4) केवल A, B और C

1[Option ID=21969]
2[Option ID=21970]
3[Option ID=21971]
4[Option ID=21972]

Sl. No.94
QBID:111044

Basil H.L. Hart was a military strategist of

- (A) 20th Century
- (B) 21st Century
- (C) 19th Century
- (D) 18th Century
- (E) 17th Century

Choose the correct answer from the options given below :

- (1) A only
- (2) B only
- (3) C and E only
- (4) D and E only

बेसिल एच.एल. हार्ट किस शताब्दी का सैन्य रणनीतिकार था?

- (A) 20 वीं शताब्दी
- (B) 21 वीं शताब्दी
- (C) 19 वीं शताब्दी
- (D) 18 वीं शताब्दी
- (E) 17 वीं शताब्दी

निचे दिए गए विकल्पों में से सही उत्तर का चयन कीजिए :

- (1)

केवल A

- (2) केवल B
(3) केवल C और E
(4) केवल D और E

1[Option ID=21973]
2[Option ID=21974]
3[Option ID=21975]
4[Option ID=21976]

Sl. No.95
QBID:111045

Who opined 'Society' as comprising of two separate economic classes?

- (A) Ho Chi Miah
(B) V Lenin
(C) James Wittgenstein
(D) F W Taylor
(E) Karl Marx

Choose the correct answer from the options given below :

- (1) A and B only
(2) B and C only
(3) C and D only
(4) E only

किसकी राय में 'समाज' दो भिन्न-भिन्न आर्थिक श्रेणियों से मिलकर बना है?

- (A) हो चि मिन्न
(B) वी. लेनिन
(C) जेम्स विटजेन्स्टिन
(D) एफ डब्ल्यू टेलर
(E) कार्ल मार्क्स

निचे दिए गए विकल्पों में से सही उत्तर का चयन कीजिए :

- (1) केवल A और B
(2) केवल B और C
(3) केवल C और D
(4) केवल E

1[Option ID=21977]
2[Option ID=21978]
3[Option ID=21979]
4[Option ID=21980]

Sl. No.96
QBID:111046

NTBT (1963) permitted nuclear tests in :-

- (A) Atmosphere only
- (B) Underwater only
- (C) Underground only
- (D) Outer space only
- (E) All of the above

Choose the correct answer from the options given below :

- (1) A and B only
- (2) C only
- (3) B and C only
- (4) C, D and E only

एन टी बी टी (1963) ने न्युक्लियर परीक्षण की अनुमति निम्नलिखित में से कहाँ थी?

- (A) केवल वातावरण में
- (B) केवल जल के नीचे
- (C) केवल भूगर्भ में
- (D) केवल बाह्य अंतरिक्ष में
- (E) उपर्युक्त सभी में

निचे दिए गए विकल्पों में से सही उत्तर का चयन कीजिए :

- (1) केवल A और B
- (2) केवल C
- (3) केवल B और C
- (4) केवल C, D और E



- 1[Option ID=21981]
- 2[Option ID=21982]
- 3[Option ID=21983]
- 4[Option ID=21984]

Sl. No.97
QBID:111047

National Front (1962) in Vietnam liberated South Vietnam promised to :-

- (A) Release all political prisoners unconditionally
- (B) Guarantee freedom to all parties
- (C) Freedom of press
- (D) Hold elections for new assembly
- (E) Eliminate American Trade monopoly

Choose the correct answer from the options given below :

- (1) A and B only

- (2) B and C only
(3) C and D only
(4) A, B, C, D and E only

नेशनल फ्रंट (1962) ने वियतनाम में दक्षिण वियतनाम को मुक्त किया और यह वचन दिया कि वह :-

- (A) समस्त राजनीतिक कैदियों को बिना शर्त रिहा कर देगा।
(B) सभी दलों के लिए आज़ादी की गारंटी देता है।
(C) प्रेस की आज़ादी देगा।
(D) नई एसेम्बली के लिए चुनाव कराएगा।
(E) अमेरिकी व्यापार एकाधिकार को समाप्त करेगा।

निचे दिए गए विकल्पों में से सही उत्तर का चयन कीजिए :

- (1) केवल A और B
(2) केवल B और C
(3) केवल C और D
(4) केवल A, B, C, D और E

1[Option ID=21985]
2[Option ID=21986]
3[Option ID=21987]
4[Option ID=21988]

Sl. No.98
QBID:111048

1971 Indo-Soviet treaty encompassed :-

- (A) Indo-Soviet Treaty of Peace
(B) Indo-Soviet Treaty of Friendship
(C) Indo-Soviet Treaty of Cooperation
(D) Indo-Soviet Treaty of Peace and Friendship
(E) Indo-Soviet Treaty of Peace, Friendship and Cooperation

Choose the correct answer from the options given below :

- (1) A, B and D only
(2) A, B and C only
(3) E only
(4) B, C, D and E only

वर्ष 1971 के भारत-सोवियत समझौते में निम्नलिखित सम्मिलित था :-

- (A) भारत-सोवियत शांति समझौता
- (B) भारत-सोवियत मैत्री समझौता
- (C) भारत-सोवियत सहयोग समझौता
- (D) भारत-सोवियत शांति और मैत्री समझौता
- (E) भारत-सोवियत शांति, मैत्री और सहयोग समझौता

निचे दिए गए विकल्पों में से सही उत्तर का चयन कीजिए :

- (1) केवल A, B और D
- (2) केवल A, B और C
- (3) केवल E
- (4) केवल B, C, D और E

1[Option ID=21989]
2[Option ID=21990]
3[Option ID=21991]
4[Option ID=21992]

Sl. No.99
QBID:111049

Which all are the Terrorist Groups?

- (A) ISIS
- (B) Al Qaeda
- (C) Taliban
- (D) Let
- (E) MQM (Mujahir-Quami-Movement)

Choose the correct answer from the options given below :

- (1) A, B, C and D only
- (2) B, C and D only
- (3) D, E only
- (4) A and E only

निम्नलिखित में से कौन आतंकवादी संगठन हैं?

- (A) आई एस आई एस
- (B) अल-कायदा
- (C) तालिबान
- (D) एल ई टी
- (E) एम क्यू एम (मुज़ाहिर-कौमी-आंदोलन)

निचे दिए गए विकल्पों में से सही उत्तर का चयन कीजिए :

- (1) केवल A, B, C और D
- (2) केवल B, C और D
- (3) केवल D, E
- (4) केवल A और E

1[Option ID=21993]

2[Option ID=21994]

3[Option ID=21995]

4[Option ID=21996]

Sl. No.100

QBID:111050

'The Rise of the Rest' was compiled by :-

- (A) Fareed Zakaria
- (B) Fareed Zakaria and Michael Tanchum
- (C) Seas S Costigan
- (D) Bonis Volkhonsky
- (E) Gordon C. Chang

Choose the correct answer from the options given below :-

- (1) A only
- (2) B and C only
- (3) C and D only
- (4) D and E only

'दि राइज़ ऑफ दि रेस्ट' का संकलन किसने किया ?

- (A) फरीद जकारिया
- (B) फरीद जकारिया और माइकल टेंचम
- (C) सियास एस कास्तीगन
- (D) बोनिस वाल्कहोन्स्की
- (E) गोर्डन सी. चांग

निचे दिए गए विकल्पों में से सही उत्तर का चयन कीजिए :

- (1) केवल A
- (2) केवल B और C
- (3) केवल C और D
- (4) केवल D और E

1[Option ID=21997]

2[Option ID=21998]

3[Option ID=21999]

4[Option ID=22000]

Sl. No.101

QBID:111051

Paris Peace Treaty with Italy was in the year :-

- (A) 1945
- (B) 1946
- (C) 1947
- (D) 1948
- (E) 1949

Choose the correct answer from the options given below :

- (1) A only
- (2) B only
- (3) C only
- (4) D only

इटली के साथ पेरिस शांति समझौता किस वर्ष हुआ ?

- (A) 1945
- (B) 1946
- (C) 1947
- (D) 1948
- (E) 1949

निचे दिए गए विकल्पों में से सही उत्तर का चयन कीजिए :

- (1) केवल A
- (2) केवल B
- (3) केवल C
- (4) केवल D



- 1[Option ID=22001]
- 2[Option ID=22002]
- 3[Option ID=22003]
- 4[Option ID=22004]

Sl. No.102
QBID:111052

Millenium Development Goals fall under

- (A) Geo-strategic Development
- (B) Geo-cultural Development
- (C) Geo-political Development
- (D) Geo-economic Development
- (E) Sustainability Development

Choose the correct answer from the options given below :

- (1) A, B, C only
- (2)

B, C, D only

(3) E only

(4) E, D, C only

सहस्राब्दि विकास लक्ष्य निम्नलिखित में से कौन से हैं?

- (A) भू-रणनीतिक विकास
- (B) भू-सांस्कृतिक विकास
- (C) भू-राजनीतिक विकास
- (D) भू-आर्थिक विकास
- (E) सतत विकास

निचे दिए गए विकल्पों में से सही उत्तर का चयन कीजिए :

- (1) केवल A, B और C
- (2) केवल B, C और D
- (3) केवल E
- (4) केवल E, D और C

1[Option ID=22005]
2[Option ID=22006]
3[Option ID=22007]
4[Option ID=22008]

Sl. No.103
QBID:111053

Who opined, "The roots of wealth is economic activity"?

- (A) Valmiki
- (B) Ramanujam
- (C) Kautilya
- (D) Renowd E
- (E) Jon Turney

Choose the most appropriate answer from the options given below :

- (1) C only
- (2) A only
- (3) B only
- (4) C and D only

किसने कहा, “धन का आधार आर्थिक गतिविधि है।”?

- (A) वाल्मीकि
- (B) रामानुजम
- (C) कौटिल्य
- (D) रेनोड ई
- (E) जॉन टर्नी

निचे दिए गए विकल्पों में से सबसे उपयुक्त उत्तर का चयन कीजिए :

- (1) केवल C
- (2) केवल A
- (3) केवल B
- (4) केवल C और D

1[Option ID=22009]
2[Option ID=22010]
3[Option ID=22011]
4[Option ID=22012]

Sl. No.104
QBID:111054

The book 'Plundered Skulls and Stolen Spirits' is regarding :-

- (A) Hand over skeletons to Tribes
- (B) Hand over sacred objects to Tribes
- (C) Hand over documents to Tribes
- (D) Hand over information to Tribes
- (E) Hand over places of worship to Tribes

Choose the most appropriate answer from the options given below :

- (1) A, C, D only
- (2) C, B, E only
- (3) A and B only
- (4) A, E, B only

'प्लंडर्ड स्कल्स एंड स्टोलेन स्प्रिट्स' किससे संबंधित है?

- (A) जनजातियों को नरककाल सौंपना
- (B) जनजातियों को पवित्र वस्तुएं सौंपना
- (C) जनजातियों को दस्तावेज़ सौंपना
- (D) जनजातियों को सूचनाएं सौंपना
- (E) जनजातियों को पूजा-स्थल सौंपना

निचे दिए गए विकल्पों में से सबसे उपयुक्त उत्तर का चयन कीजिए :

- (1) केवल A, C और D
- (2) केवल C, B और E
- (3) केवल A और B
- (4) केवल A, E और B

1[Option ID=22013]

2[Option ID=22014]

3[Option ID=22015]

4[Option ID=22016]

Sl. No.105

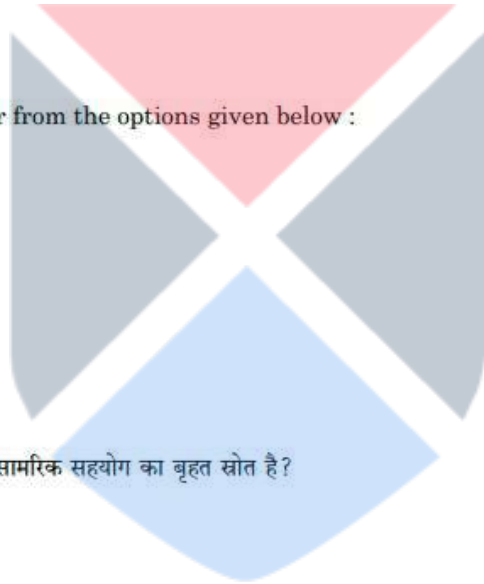
QBID:111055

Which nation opined their 'oil' is a stupendous source of strategic collaboration with Saudi Arabia?

- (A) USA
- (B) USSR
- (C) UK
- (D) Japan
- (E) Korea

Choose the most appropriate answer from the options given below :

- (1) A only
- (2) A and B only
- (3) A, B and C only
- (4) B, D, E only



किस राष्ट्र के कहा कि 'तेल' सऊदी अरब के साथ सामरिक सहयोग का बृहत स्रोत है?

- (A) संयुक्त राज्य अमेरिका
- (B) यू एस एस आर
- (C) यू के
- (D) जापान
- (E) कोरिया

निचे दिए गए विकल्पों में से सबसे उपयुक्त उत्तर का चयन कीजिए :

- (1) केवल A
- (2) केवल A और B
- (3) केवल A, B और C
- (4) केवल B, D और E

1[Option ID=22017]

2[Option ID=22018]

3[Option ID=22019]

4[Option ID=22020]

Sl. No.106
QBID:111056

"A war, whether Civil or International must be actual" refers to

- (A) There must be actual fighting
- (B) There must be deployment of Armed Forces
- (C) There must be violent physical attacks
- (D) There should be economic sanctions
- (E) There must be blockades

Choose the most appropriate answer from the options given below :

- (1) A and B only
- (2) C and D only
- (3) E and D only
- (4) A, B, C, D, E only

'युद्ध चाहे सिविल हो या अन्तरराष्ट्रीय, उसे वास्तविक ही होना चाहिए' यह कथन किसकी ओर संकेत करता है?

- (A) इसमें वास्तविक युद्ध ही होना चाहिए
- (B) इसमें सशस्त्र बलों की तैनाती होनी चाहिए
- (C) इसमें हिंसक शारीरिक आक्रमण होना चाहिए
- (D) इसमें आर्थिक प्रतिबंध होने चाहिए
- (E) इसमें अवरोध होना चाहिए

निचे दिए गए विकल्पों में से सबसे उपयुक्त उत्तर का चयन कीजिए :

- (1) केवल A और B
- (2) केवल C और D
- (3) केवल E और D
- (4) केवल A, B, C, D, E

1[Option ID=22021]
2[Option ID=22022]
3[Option ID=22023]
4[Option ID=22024]

Sl. No.107
QBID:111057

'War', as Napoleon said, includes :-

- (A) A grave, regular and on-going features of human history
- (B) Shapes life of everyone
- (C) Use of weapons and physical force
- (D) Use of cunningness
- (E) Use of sympathy

Choose the most appropriate answer from the options given below :

- (1) B, C and D only

- (2) A, B and C only
(3) C, D and E only
(4) A, D and E only

नेपोलियन के कथनानुसार, 'युद्ध' का मतलब :-

- (A) मानव इतिहास की एक भयावह, सतत और चलते रहने वाली घटना है।
(B) प्रत्येक व्यक्ति के जीवन को प्रभावित करता है।
(C) हथियारों और शारीरिक बल का प्रयोग।
(D) धूर्तता का प्रयोग
(E) सहानुभूति - प्रदर्शन

निचे दिए गए विकल्पों में से सबसे उपयुक्त उत्तर का चयन कीजिए :

- (1) केवल B, C और D
(2) केवल A, B और C
(3) केवल C, D और E
(4) केवल A, D और E

1[Option ID=22025]
2[Option ID=22026]
3[Option ID=22027]
4[Option ID=22028]

Sl. No.108
QBID:111058

'Jus in Bello' version of proportionality implies :-

- (A) Soldiers deploy proportionate force against legitimate targets
(B) About tactics within the war
(C) The rule commands
(D) Chemical weapons can be used
(E) Nuclear weapons can be used

Choose the most appropriate answer from the options given below :

- (1) A and B only
(2) A, B and C only
(3) B, C and D only
(4) C, D and E only

समानुपातिक रूपांतर 'जस इन बेल्लो' का भावार्थ है :

- (A) सैनिक वैध लक्ष्यों के मुकाबले समानुपातिक बल का प्रयोग करते हैं
- (B) युद्ध के अंतर्गत दांवपेंच
- (C) नियम आदेश
- (D) रासायनिक हथियारों का प्रयोग किया जा सकता है
- (E) न्युक्लियर हथियारों का प्रयोग किया जा सकता है

निचे दिए गए विकल्पों में से सबसे उपयुक्त उत्तर का चयन कीजिए :

- (1) केवल A और B
- (2) केवल A, B और C
- (3) केवल B, C और D
- (4) केवल C, D और E

1[Option ID=22029]
2[Option ID=22030]
3[Option ID=22031]
4[Option ID=22032]

Sl. No.109
QBID:111059

Emerging military technologies (cyber war) indicates

- (A) A new form of warfare
- (B) A new form of swarm warfare
- (C) A new form of remote-control warfare
- (D) A new form of algorithm warfare
- (E) A new form of electronic warfare

Choose the most appropriate answer from the options given below :

- (1) E only
- (2) A, B, C only
- (3) B, C, D only
- (4) C, D, E only

विकासशील सैन्य प्रौद्योगिकी (साइबर वार) निम्नलिखित में से किसकी ओर संकेत करती है?

- (A) युद्ध का एक नया रूप
- (B) बड़ी संख्या में सैनिकों के युद्ध का नाम रूप
- (C) दूरस्य नियंत्रण से किया जाने वाला युद्ध का रूप
- (D) 'एलगोरिदम' युद्ध का एक नया रूप
- (E) इलेक्ट्रॉनिक युद्ध का एक नया रूप

निचे दिए गए विकल्पों में से सबसे उपयुक्त उत्तर का चयन कीजिए :

- (1) केवल E

- (2) केवल A, B और C
(3) केवल B, C और D
(4) केवल C, D और E

1[Option ID=22033]
2[Option ID=22034]
3[Option ID=22035]
4[Option ID=22036]

Sl. No.110
QBID:111060

Economic incentives involve use of :-

- (A) Use of money
(B) Use of 'Stick' and 'Carrot'
(C) Gain leverage over the other country
(D) Imposition of tarrifs
(E) Imposition of economic sanctions

Choose the most appropriate answer from the options given below :

- (1) A, B, C, D, E only
(2) A, B, C only
(3) B, C, D only
(4) C, D, E only

आर्थिक प्रोत्साहन का प्रयोग है :

- (A) धन का प्रयोग
(B) 'दंड' और 'पुरस्कार' का प्रयोग
(C) अन्य देश के ऊपर फायदा उत्पोलन
(D) सीमा शुल्क लगाया जाना
(E) आर्थिक प्रतिबंधों का प्रयोग

निचे दिए गए विकल्पों में से सबसे उपयुक्त उत्तर का चयन कीजिए :

- (1) केवल A, B, C, D और E
(2) केवल A, B और C
(3) केवल B, C और D
(4) केवल C, D और E

1[Option ID=22037]
2[Option ID=22038]
3[Option ID=22039]
4[Option ID=22040]

Sl. No.111
QBID:111061

Greatest strength of the western powers in Cold War are :-

- (A) Technological Might
- (B) Scientific Superiority
- (C) Anti-Immigrant Policy
- (D) Kinetic War tactics
- (E) Liberal Peace

Choose the most appropriate answer from the options given below :

- (1) A, B, C Only
- (2) B, C, D Only
- (3) A and B Only
- (4) D, E, A Only

शीत युद्ध में पश्चिमी शक्तियों की अधिक ताकत :-

- (A) प्रौद्योगिकी बल
- (B) वैज्ञानिक श्रेष्ठता
- (C) अप्रवासी विरोधी नीति
- (D) गतिक युद्ध दांवपेंच
- (E) उदार शांति

निचे दिए गए विकल्पों में से सबसे उपयुक्त उत्तर का चयन कीजिए :

- (1) केवल A, B और C
- (2) केवल B, C और D
- (3) केवल A और B
- (4) केवल D, E और A



1[Option ID=22041]

2[Option ID=22042]

3[Option ID=22043]

4[Option ID=22044]

Sl. No.112

QBID:111062

World Trade Organization is viewed as :-

- (A) Governing global – trade negotiations
- (B) Members mutually agree to reduction in trade barriers
- (C) Permits members to negotiate
- (D) A distinctive economic block
- (E) A global economic warfare block

Choose the most appropriate answer from the options given below:

- (1) A and B Only
- (2) C and D Only

- (3) B and D Only
(4) A, B, C, D Only

विश्व व्यापार संगठन को किस रूप में देखा जाता है?

- (A) शासी वैश्विक व्यापार समझौता
(B) व्यापारिक बाधाओं में सदस्य आपसी सहमति रखते हैं
(C) सदस्यों को बातचीत करने की अनुमति है
(D) एक विशिष्ट आर्थिक ब्लॉक
(E) एक वैश्विक आर्थिक युद्ध ब्लॉक

निचे दिए गए विकल्पों में से सबसे उपयुक्त उत्तर का चयन कीजिए :

- (1) केवल A और B
(2) केवल C और D
(3) केवल B और D
(4) केवल A, B, C और D

1[Option ID=22045]
2[Option ID=22046]
3[Option ID=22047]
4[Option ID=22048]

Sl. No.113
QBID:111063

Private Military Companies (PMC) involves the following :

- (A) Mercenaries
(B) War for personal wages
(C) No moral/political/national course
(D) Terrorism
(E) Insurgency

Choose the most appropriate answer from the options given below :

- (1) A, B, C, Only
(2) C, D, E Only
(3) A, D, E Only
(4) A, C, D Only

प्राइवेट मिलिटरी कम्पनी (पी एम सी) में निम्नलिखित शामिल थे :

- (A) धनलोलुप
- (B) वैयक्तिक लाभ के लिए युद्ध में लड़ने वाले
- (C) कोई नैतिक/राजनीतिक/राष्ट्रीय हित का न होना
- (D) आतंकवाद
- (E) विद्रोही

निचे दिए गए विकल्पों में से सबसे उपयुक्त उत्तर का चयन कीजिए :

- (1) केवल A, B और C
- (2) केवल C, D और E
- (3) केवल A, D और E
- (4) केवल A, C और D

1[Option ID=22049]
2[Option ID=22050]
3[Option ID=22051]
4[Option ID=22052]

Sl. No.114
QBID:111064

'Rogue Regimes' are characterised by :-

- (A) Out law nations
- (B) Irresponsible and unpredictable
- (C) Trouble Makers
- (D) Creators of Instability
- (E) Harbour rogue agents

Choose the most appropriate answer from the options given below :

- (1) A, B and C Only
- (2) B, C and D Only
- (3) A, B, C, D Only
- (4) E Only

‘एकाचारी शासन-व्यवस्था’ की क्या विशेषता है?

- (A) विधिबहिष्कृत राष्ट्र
- (B) गैर-जिम्मेदार और अप्रत्याशित
- (C) संकट उत्पन्न करने वाले
- (D) अस्थिरता पैदा करने वाले
- (E) दुष्ट एजेंट लाने वाले

निचे दिए गए विकल्पों में से सबसे उपयुक्त उत्तर का चयन कीजिए :

- (1) केवल A, B और C
- (2) केवल B, C और D
- (3) केवल A, B, C और D
- (4) केवल E

1[Option ID=22053]
2[Option ID=22054]
3[Option ID=22055]
4[Option ID=22056]



Sl. No.115
QBID:111065

‘Failed State’ refers to

- (A) No efficiency in governance
- (B) Cosmopolitan extreme of opinion
- (C) Conduct aggressive form of torture
- (D) Refuses to participate in war
- (E) Fails to pay wages to its Armed Personnel

Choose the most appropriate answer from the options given below :

- (1) A only
- (2) A and B Only
- (3) C and D Only
- (4) D and E only

‘विफल राज्य’ का क्या आशय है?

- (A) शासन में प्रभावकारी न होना
- (B) विचार में अत्यधिक विश्वजनित होना
- (C) उत्पीड़न के आक्रामक रूप का होना
- (D) युद्ध में भाग लेने से इंकार करना
- (E) सशस्त्र कार्मिकों को वेतन देने से मना करना

निचे दिए गए विकल्पों में से सबसे उपयुक्त उत्तर का चयन कीजिए :

- (1) केवल A
- (2) केवल A
- (3) केवल C और D
- (4) केवल C और D

1[Option ID=22057]
2[Option ID=22058]
3[Option ID=22059]
4[Option ID=22060]

Sl. No.116
QBID:111066

Match List I with List II :

List I

- (A) Brahmos
- (B) Patriot
- (C) Stringer
- (D) Gauri

List II

- (I) USA
- (II) India
- (III) Pakistan
- (IV) USA

Choose the correct answer from the options given below :

- (1) (A)-(II), (B)-(I), (C)-(IV), (D)-(III)
- (2) (A)-(II), (B)-(III), (C)-(I), (D)-(IV)
- (3) (A)-(III), (B)-(I), (C)-(II), (D)-(IV)
- (4) (A)-(IV), (B)-(II), (C)-(III), (D)-(I)

सूची I के साथ सूची II का मिलान कीजिए।

सूची-I

- (A) ब्रह्मोस
- (B) पैट्रिओट
- (C) स्ट्रिंगर
- (D) गौरी

सूची-II

- (I) यू एस ए
- (II) भारत
- (III) पाकिस्तान
- (IV) यू एस ए

निचे दिए गए विकल्पों में से सही उत्तर का चयन कीजिए :

- (1) (A)-(II), (B)-(I), (C)-(IV), (D)-(III)
- (2)

(A)-(II), (B)-(III), (C)-(I), (D)-(IV)

(3) (A)-(III), (B)-(I), (C)-(II), (D)-(IV)

(4) (A)-(IV), (B)-(II), (C)-(III), (D)-(I)

1[Option ID=22061]

2[Option ID=22062]

3[Option ID=22063]

4[Option ID=22064]

Sl. No.117

QBID:111067

Match List I with List II :

List I

List II

(A) CISF

(I) 2008

(B) NIA

(II) 1969

(C) BSF

(III) 1991

(D) RAF

(IV) 1965

Choose the correct answer from the options given below:

(1) (A)-(II), (B)-(I), (C)-(IV), (D)-(III)

(2) (A)-(II), (B)-(III), (C)-(IV), (D)-(I)

(3) (A)-(I), (B)-(II), (C)-(IV), (D)-(III)

(4) (A)-(III), (B)-(I), (C)-(II), (D)-(IV)

सूची I के साथ सूची II का मिलान कीजिए।

सूची-I

सूची-II

(A) सी आई एस एफ

(I) 2008

(B) एन आई ए

(II) 1969

(C) बी एस एफ

(III) 1991

(D) आर ए एफ

(IV) 1965

निचे दिए गए विकल्पों में से सही उत्तर का चयन कीजिए :

(1) (A)-(II), (B)-(I), (C)-(IV), (D)-(III)

(2) (A)-(II), (B)-(III), (C)-(IV), (D)-(I)

(3) (A)-(I), (B)-(II), (C)-(IV), (D)-(III)

(4) (A)-(III), (B)-(I), (C)-(II), (D)-(IV)

1[Option ID=22065]

2[Option ID=22066]

3[Option ID=22067]

4[Option ID=22068]

Sl. No.118

QBID:111068

Match List I with List II :

List I	List II
(A) Rashtriya Raksha Vishwavidyala	(I) Azhimula
(B) Indian Naval Academy	(II) Ahmedabad
(C) Indian Police Academy	(III) Dehradun
(D) Indian Military Academy	(IV) Hyderabad

Choose the correct answer from the options given below :

- (1) (A)-(II), (B)-(I), (C)-(IV), (D)-(III)
- (2) (A)-(I), (B)-(II), (C)-(III), (D)-(IV)
- (3) (A)-(IV), (B)-(III), (C)-(II), (D)-(I)
- (4) (A)-(II), (B)-(IV), (C)-(III), (D)-(I)

सूची I के साथ सूची II का मिलान कीजिए।

सूची-I	सूची-II
(A) राष्ट्रीय रक्षा विश्वविद्यालय	(I) आजीमुला
(B) भारतीय नौसेना अकादमी	(II) अहमदाबाद
(C) भारतीय पुलिस अकादमी	(III) देहरादून
(D) भारतीय सैन्य अकादमी	(IV) हैदराबाद

निचे दिए गए विकल्पों में से सही उत्तर का चयन कीजिए :

- (1) (A)-(II), (B)-(I), (C)-(IV), (D)-(III)
- (2) (A)-(I), (B)-(II), (C)-(III), (D)-(IV)
- (3) (A)-(IV), (B)-(III), (C)-(II), (D)-(I)
- (4) (A)-(II), (B)-(IV), (C)-(III), (D)-(I)

- 1[Option ID=22069]
2[Option ID=22070]
3[Option ID=22071]
4[Option ID=22072]

Sl. No.119
QBID:111069

Match List I with List II :

List I	List II
(A) Malabar	(I) India – Sri Lanka
(B) Slinex	(II) India – Japan – USA
(C) Varuna	(III) Singapore – India
(D) Simbex	(IV) India – France

Choose the correct answer from the options given below :

- (1) (A)-(II), (B)-(I), (C)-(III), (D)-(IV)

- (2) (A)-(II), (B)-(I), (C)-(IV), (D)-(III)
 (3) (A)-(I), (B)-(II), (C)-(III), (D)-(IV)
 (4) (A)-(II), (B)-(IV), (C)-(III), (D)-(I)

सूची I के साथ सूची II का मिलान कीजिए।

सूची-I

- (A) मालाबार
 (B) स्लिनेक्स
 (C) वरुणा
 (D) सिमबेक्स

सूची-II

- (I) भारत-श्रीलंका
 (II) भारत-जापान-यू एस ए
 (III) सिंगापुर-भारत
 (IV) भारत-फ्रांस

निचे दिए गए विकल्पों में से सही उत्तर का चयन कीजिए :

- (1) (A)-(II), (B)-(I), (C)-(III), (D)-(IV)
 (2) (A)-(II), (B)-(I), (C)-(IV), (D)-(III)
 (3) (A)-(I), (B)-(II), (C)-(III), (D)-(IV)
 (4) (A)-(II), (B)-(IV), (C)-(III), (D)-(I)

1[Option ID=22073]

2[Option ID=22074]

3[Option ID=22075]

4[Option ID=22076]

Sl. No.120
 QBID:111070

Match List I with List II :

List I

- (A) General Zia-Ur-Rahman
 (B) General Ayub Khan
 (C) Bismark
 (D) Garibaldi Mussolini

List II

- (I) Pakistan
 (II) Germany
 (III) Bangladesh
 (IV) Italy

Choose the correct answer from the options given below :

- (1) (A)-(II), (B)-(III), (C)-(I), (D)-(IV)
 (2) (A)-(IV), (B)-(III), (C)-(I), (D)-(II)
 (3) (A)-(III), (B)-(I), (C)-(II), (D)-(IV)
 (4) (A)-(III), (B)-(IV), (C)-(I), (D)-(II)

सूची I के साथ सूची II का मिलान कीजिए।

सूची-I

- (A) जनरल जिया-उर-रहमान
- (B) जनरल अयूब खान
- (C) बिस्मार्क
- (D) गैरीबाल्डी मुसोलिनी

सूची-II

- (I) पाकिस्तान
- (II) जर्मनी
- (III) बांग्लादेश
- (IV) इटली

निचे दिए गए विकल्पों में से सही उत्तर का चयन कीजिए :

- (1) (A)-(II), (B)-(III), (C)-(I), (D)-(IV)
- (2) (A)-(IV), (B)-(III), (C)-(I), (D)-(II)
- (3) (A)-(III), (B)-(I), (C)-(II), (D)-(IV)
- (4) (A)-(III), (B)-(IV), (C)-(I), (D)-(II)

1[Option ID=22077]

2[Option ID=22078]

3[Option ID=22079]

4[Option ID=22080]

Sl. No.121

QBID:111071

Match List I with List II :

List I

- (A) Redcliff Line
- (B) Line of Actual Control
- (C) Gulf of Gibralter
- (D) Palk Strait

List II

- (I) India – China
- (II) India – Pakistan
- (III) India – SriLanka
- (IV) Spain – Morroco

Choose the correct answer from the options given below :

- (1) (A)-(IV), (B)-(III), (C)-(II), (D)-(I)
- (2) (A)-(II), (B)-(I), (C)-(IV), (D)-(III)
- (3) (A)-(II), (B)-(III), (C)-(I), (D)-(IV)
- (4) (A)-(III), (B)-(IV), (C)-(II), (D)-(I)

सूची I के साथ सूची II का मिलान कीजिए।

सूची-I

सूची-II

(A) रैडक्लिफ लाइन

(B) वास्तविक नियंत्रण रेखा

(C) जिब्राल्टर की खाड़ी

(D) पाल्क स्ट्रेट

(I) भारत-चीन

(II) भारत-पाकिस्तान

(III) भारत-श्रीलंका

(IV) स्पेन-मोरक्को

निचे दिए गए विकल्पों में से सही उत्तर का चयन कीजिए :

(1) (A)-(IV), (B)-(III), (C)-(II), (D)-(I)

(2) (A)-(II), (B)-(I), (C)-(IV), (D)-(III)

(3) (A)-(II), (B)-(III), (C)-(I), (D)-(IV)

(4) (A)-(III), (B)-(IV), (C)-(II), (D)-(I)

1[Option ID=22081]

2[Option ID=22082]

3[Option ID=22083]

4[Option ID=22084]

Sl. No.122

QBID:111072

Match List I with List II :

List I

(A) Ganga

(B) Indus

(C) Mekong

(D) Narmada

List II

(I) India

(II) Tibet

(III) India

(IV) Tibet

Choose the correct answer from the options given below :

(1) (A)-(IV), (B)-(III), (C)-(I), (D)-(II)

(2) (A)-(III), (B)-(I), (C)-(IV), (D)-(II)

(3) (A)-(I), (B)-(II), (C)-(IV), (D)-(III)

(4) (A)-(IV), (B)-(III), (C)-(II), (D)-(I)

सूची I के साथ सूची II का मिलान कीजिए।

सूची-I

सूची-II

- | | |
|------------|-------------|
| (A) गंगा | (I) भारत |
| (B) सिंधु | (II) तिब्बत |
| (C) मेकांग | (III) भारत |
| (D) नर्मदा | (IV) तिब्बत |

निचे दिए गए विकल्पों में से सही उत्तर का चयन कीजिए :

- (1) (A)-(IV), (B)-(III), (C)-(I), (D)-(II)
- (2) (A)-(III), (B)-(I), (C)-(IV), (D)-(II)
- (3) (A)-(I), (B)-(II), (C)-(IV), (D)-(III)
- (4) (A)-(IV), (B)-(III), (C)-(II), (D)-(I)

1[Option ID=22085]

2[Option ID=22086]

3[Option ID=22087]

4[Option ID=22088]

Sl. No.123
QBID:111073

Match List I with List II :

List I

List II

- | | |
|---|----------------|
| (A) Regional Centre for Strategic Studies | (I) Sweden |
| (B) Stockholm International Peace Research Institute | (II) Sri Lanka |
| (C) International Institute of Strategic Studies | (III) India |
| (D) Manohar Parikar Institute of Defence Studies and Analysis | (IV) Britain |

Choose the correct answer from the options given below :

- (1) (A)-(IV), (B)-(III), (C)-(II), (D)-(I)
- (2) (A)-(II), (B)-(IV), (C)-(I), (D)-(III)
- (3) (A)-(III), (B)-(IV), (C)-(II), (D)-(I)
- (4) (A)-(II), (B)-(I), (C)-(IV), (D)-(III)

सूची I के साथ सूची II का मिलान कीजिए।

सूची-I

सूची-II

- | | |
|--|---------------|
| (A) रीजनल सेंटर फॉर स्ट्रेटिजिक स्टडीज़ | (I) स्वीडन |
| (B) स्टॉकहोम इन्टरनेशनल पीस रिसर्च इन्स्टीट्यूट | (II) श्रीलंका |
| (C) इन्टरनेशनल इन्स्टीट्यूट ऑफ स्ट्रेटिजिक स्टडीज़ | (III) भारत |
| (D) मनोहर परिकर इन्स्टीट्यूट ऑफ डिफेन्स स्टडीज़ एंड एनालिसिस | (IV) ब्रिटेन |

निचे दिए गए विकल्पों में से सही उत्तर का चयन कीजिए :

- (1) (A)-(IV), (B)-(III), (C)-(II), (D)-(I)
- (2) (A)-(II), (B)-(IV), (C)-(I), (D)-(III)
- (3) (A)-(III), (B)-(IV), (C)-(II), (D)-(I)
- (4) (A)-(II), (B)-(I), (C)-(IV), (D)-(III)

1[Option ID=22089]

2[Option ID=22090]

3[Option ID=22091]

4[Option ID=22092]

Sl. No.124

QBID:111074

Match List I with List II :

List I

List II

- | | |
|---------------|-------------|
| (A) Apache | (I) Russia |
| (B) MI-17-V-5 | (II) USA |
| (C) Augusta | (III) China |
| (D) AZ-10 | (IV) Sweden |

Choose the correct answer from the options given below :

- (1) (A)-(III), (B)-(II), (C)-(I), (D)-(IV)
- (2) (A)-(II), (B)-(III), (C)-(I), (D)-(IV)
- (3) (A)-(II), (B)-(I), (C)-(IV), (D)-(III)
- (4) (A)-(IV), (B)-(III), (C)-(II), (D)-(I)

सूची I के साथ सूची II का मिलान कीजिए।

सूची-I

सूची-II

- | | |
|------------------|--------------|
| (A) अपाचे | (I) रूस |
| (B) एम आई-17-V-5 | (II) यू एस ए |
| (C) अगस्ता | (III) चीन |
| (D) एजेड-10 | (IV) स्वीडन |

निचे दिए गए विकल्पों में से सही उत्तर का चयन कीजिए :

- (1) (A)-(III), (B)-(II), (C)-(I), (D)-(IV)
- (2) (A)-(II), (B)-(III), (C)-(I), (D)-(IV)
- (3) (A)-(II), (B)-(I), (C)-(IV), (D)-(III)
- (4) (A)-(IV), (B)-(III), (C)-(II), (D)-(I)

1[Option ID=22093]

2[Option ID=22094]

3[Option ID=22095]

4[Option ID=22096]

Sl. No.125

QBID:111075

Match List I with List II :

List I

List II

- | | |
|------------|--------------|
| (A) Arjun | (I) German |
| (B) Panzer | (II) India |
| (C) Patton | (III) Russia |
| (D) T-72 | (IV) USA |

Choose the correct answer from the options given below :

- (1) (A)-(III), (B)-(IV), (C)-(I), (D)-(II)
- (2) (A)-(II), (B)-(III), (C)-(I), (D)-(IV)
- (3) (A)-(II), (B)-(I), (C)-(IV), (D)-(III)
- (4) (A)-(III), (B)-(I), (C)-(II), (D)-(IV)

सूची I के साथ सूची II का मिलान कीजिए।

सूची-I

सूची-II

- | | |
|------------|--------------|
| (A) अर्जुन | (I) जर्मनी |
| (B) पैन्जर | (II) भारत |
| (C) पैटन | (III) रूस |
| (D) टी-72 | (IV) यू एस ए |

निचे दिए गए विकल्पों में से सही उत्तर का चयन कीजिए :

- (1) (A)-(III), (B)-(IV), (C)-(I), (D)-(II)
- (2) (A)-(II), (B)-(III), (C)-(I), (D)-(IV)
- (3) (A)-(II), (B)-(I), (C)-(IV), (D)-(III)
- (4) (A)-(III), (B)-(I), (C)-(II), (D)-(IV)

1[Option ID=22097]

2[Option ID=22098]

3[Option ID=22099]

4[Option ID=22100]

Sl. No.126

QBID:111076

List the following operations chronologically :

- (A) Sino-India War
- (B) Annexation of Goa
- (C) Integration of Dadra and Nagar Haveli
- (D) Bangladesh liberation war
- (E) Kargil war

Choose the correct answer from the options given below :

- (1) C, B, A, D, and E

(2) A, B, C, D and E

(3) C, D, B, A and E

(4) A, C, E, B and D

निम्नलिखित ऑपरेशनों को कालक्रमानुसार व्यवस्थित कीजिए :

(A) चीन-भारत युद्ध

(B) गोवा विलय

(C) दादर व नगर हवेली का एकीकरण

(D) बांग्लादेश स्वतंत्रता युद्ध

(E) कारगिल युद्ध

नीचे दिए गए विकल्पों में से सही उत्तर का चयन कीजिए :

(1) C, B, A, D और E

(2) A, B, C, D और E

(3) C, D, B, A और E

(4) A, C, E, B और D

1[Option ID=22101]

2[Option ID=22102]

3[Option ID=22103]

4[Option ID=22104]

Sl. No.127

QBID:111077

Sequence the following events of Israel-Palistine Conflict in chronological order :-

(A) Oslo Accord

(B) Six day War

(C) First Intifada

(D) Camp David Accord between Egypt and Israel

(E) Yon Kippur war

Choose the correct answer from the options given below :

(1) C, B, E, D, and A

(2) B, E, D, C and A

(3) C, E, B, A, and D

(4) A, B, C, D, and E

इजरायल-फिलिस्तीन संघर्ष की निम्नलिखित घटनाओं को कालक्रमानुसार व्यवस्थित कीजिए :

- (A) ऑस्लो संधि
- (B) छःदिवसीय युद्ध
- (C) फर्स्ट इंटिफाडा
- (D) मिस्र और इजरायल के बीच कैम्प डेविड संधि
- (E) यॉम किपुर युद्ध

नीचे दिए गए विकल्पों में से सही उत्तर का चयन कीजिए :

- (1) C, B, E, D और A
- (2) B, E, D, C और A
- (3) C, E, B, A और D
- (4) A, B, C, D और E

1[Option ID=22105]

2[Option ID=22106]

3[Option ID=22107]

4[Option ID=22108]

Sl. No.128
QBID:111078

Arrange the following International organisations on the basis of their establishment :-

- (A) International Finance Corporation
- (B) UNCTAD
- (C) WTO
- (D) IMF
- (E) OECD

Choose the correct answer from the options given below :

- (1) D, A, B, C, E
- (2) D, A, E, C, B
- (3) A, C, D, B, E
- (4) D, A, E, B, C

निम्नलिखित अन्तरराष्ट्रीय संगठनों को उनकी स्थापना के आधार पर कालक्रमानुसार व्यवस्थित कीजिए :

- (A) अंतरराष्ट्रीय वित्त कारपोरेशन
- (B) अंकटाड
- (C) डब्ल्यू टी ओ
- (D) आई एम एफ
- (E) ओ ई सी डी

नीचे दिए गए विकल्पों में से सही उत्तर का चयन कीजिए :

- (1) D, A, B, C, E

- (2) D, A, E, C, B
(3) A, C, D, B, E
(4) D, A, E, B, C

1[Option ID=22109]
2[Option ID=22110]
3[Option ID=22111]
4[Option ID=22112]

Sl. No.129
QBID:111079

Rank the countries in descending order on the basis of active nuclear warheads in 2021 as per SIPRI report.

- (A) USA
(B) Russia
(C) France
(D) UK
(E) China

Choose the correct answer from the options given below :

- (1) A, B, E, C and D
(2) B, A, E, C and D
(3) A, B, C, D and E
(4) B, A, E, D and C

सिपरी रिपोर्ट के अनुसार सक्रिय नाभकीय वारहेड के आधार पर निम्नलिखित देशों को अवरोही क्रम में व्यवस्थित कीजिए :

- (A) संयुक्त राज्य अमेरीका
(B) रूस
(C) फ्रांस
(D) यूनाइटेड किंगडम
(E) चीन

नीचे दिए गए विकल्पों में से सही उत्तर का चयन कीजिए :

- (1) A, B, E, C और D
(2) B, A, E, C और D
(3) A, B, C, D और E
(4) B, A, E, D और C

1[Option ID=22113]
2[Option ID=22114]
3[Option ID=22115]
4[Option ID=22116]

Sl. No.130
QBID:111080

In Chanakya Model, sequence for 'March to war' is as under :-

- (A) Choice of Routes
- (B) Order of March
- (C) March Array
- (D) Rate of March
- (E) Obstacles and Protection

Choose the correct answer from the options given below :

- (1) E, A, D, B, C
- (2) D, E, A, C, B
- (3) A, B, C, D, E
- (4) E, D, A, B, C

चाणक्य मॉडल में 'युद्ध की ओर बढ़ो' निम्नानुसार है :

- (A) मार्गों का विकल्प
- (B) आगे बढ़ने का क्रम
- (C) व्यवस्थित रूप से आगे बढ़ना
- (D) आगे बढ़ने का क्रम
- (E) बाधाएं और बचाव

नीचे दिए गए विकल्पों में से सही उत्तर का चयन कीजिए :

- (1) E, A, D, B और C
- (2) D, E, A, C और B
- (3) A, B, C, D और E
- (4) E, D, A, B और C



- 1[Option ID=22117]
- 2[Option ID=22118]
- 3[Option ID=22119]
- 4[Option ID=22120]

Sl. No.131
QBID:111081

Arrange the following movements of Mahatma Gandhi in chronological order :-

- (A) Khilafat
- (B) Champaran
- (C) Non-Cooperation
- (D) Kheda
- (E) Dandi March

Choose the correct answer from the options given below :

- (1) B, D, A, C, and E

(2) C, D, B, E and A

(3) A, B, C, D and E

(4) D, B, A, C and E

कालानुक्रम रूप से महात्मा गांधी के निम्नलिखित आंदोलनों को क्रमबद्ध कीजिए :

(A) खिलाफत

(B) चंपारण

(C) असहयोग

(D) खेड़ा

(E) डांडी मार्च

नीचे दिए गए विकल्पों में से सही उत्तर का चयन कीजिए :

(1) B, D, A, C और E

(2) C, D, B, E और A

(3) A, B, C, D और E

(4) D, B, A, C और E

1[Option ID=22121]

2[Option ID=22122]

3[Option ID=22123]

4[Option ID=22124]

Sl. No.132

QBID:111082

List the international Court/Tribunal according to the year of their establishment :-

(A) Permanent Court of Arbitration

(B) International Criminal Court (ICC)

(C) International Court of Arbitration

(D) International Court of Justice (ICJ)

(E) International Criminal Tribunal for the Former Yugoslavia

Choose the correct answer from the options given below :

(1) A, B, C, D and E

(2) A, C, D, E and B

(3) B, C, E, D and A

(4) B, C, D, E and A

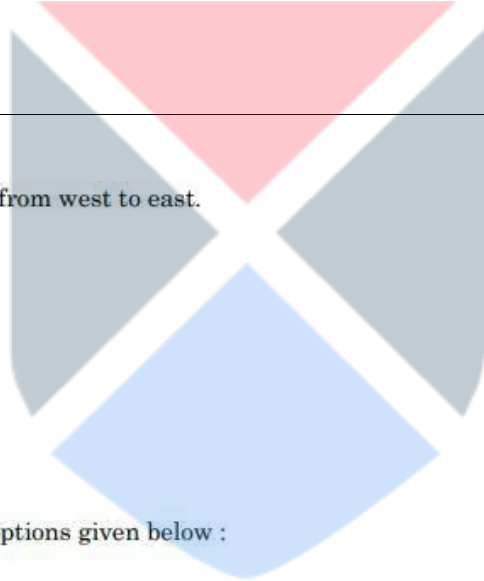
अन्तरराष्ट्रीय न्यायालय/न्यायाधिकरण के स्थापना वर्ष के अनुसार उन्हें सूचीबद्ध कीजिए :

- (A) स्थायी मध्यस्थता न्यायालय
- (B) इन्टरनेशनल क्रिमिनल कोर्ट (आई सी सी)
- (C) अन्तरराष्ट्रीय मध्यस्थता न्यायालय
- (D) अन्तरराष्ट्रीय न्यायालय (आई सी जे)
- (E) इन्टरनेशनल क्रिमिनल ट्रायब्युनल फॉर दि फॉर्मर युगोस्लाविया

नीचे दिए गए विकल्पों में से सही उत्तर का चयन कीजिए :

- (1) A, B, C, D और E
- (2) A, C, D, E और B
- (3) B, C, E, D और A
- (4) B, C, D, E और A

1[Option ID=22125]
2[Option ID=22126]
3[Option ID=22127]
4[Option ID=22128]



Sl. No.133
QBID:111083

Order the following European rivers from west to east.

- (A) Driepu
- (B) Volga
- (C) Rhine
- (D) Danube
- (E) Don

Choose the correct answer from the options given below :

- (1) C, D, A, E and B
- (2) A, B, C, D and E
- (3) C, D, B, A and E
- (4) E, B, C, D, and A

निम्नलिखित यूरोपीय नदियों को पश्चिम से पूर्व के क्रम में रखें :

- (A) ड्रियू
- (B) वोल्गा
- (C) राइन
- (D) डेन्यूब
- (E) डॉन

नीचे दिए गए विकल्पों में से सही उत्तर का चयन कीजिए :

- (1)

C, D, A, E और B

(2) A, B, C, D और E

(3) C, D, B, A और E

(4) E, B, C, D और A

1[Option ID=22129]

2[Option ID=22130]

3[Option ID=22131]

4[Option ID=22132]

Sl. No.134

QBID:111084

Arrange the UN Peace keeping operations in chronological order

(A) UNPROFOR

(B) UNMISS

(C) UNAMIR

(D) UNAMID

(E) MONUSCO

Choose the correct answer from the options given below :

(1) A, B, C, D and E

(2) B, C, D, A and E

(3) B, C, E, D and A

(4) A, C, E, D and B

संयुक्त राष्ट्र शांति रक्षा प्रचालनों को कालानुक्रम रूप में क्रमबद्ध कीजिए :

(A) यू एन पी आर ओ एफ ओ आर

(B) यू एन एम आई एस एस

(C) यू एन ए एम आई आर

(D) यू एन ए एम आई डी

(E) एम ओ एन यू एस सी ओ

नीचे दिए गए विकल्पों में से सही उत्तर का चयन कीजिए :

(1) A, B, C, D और E

(2) B, C, D, A और E

(3) B, C, E, D और A

(4) A, C, E, D और B

1[Option ID=22133]

2[Option ID=22134]

3[Option ID=22135]

4[Option ID=22136]

Sl. No.135

QBID:111085

Chanakya propounded characteristics of Good Edicts as

- (A) Topical order
- (B) Non-Contradiction
- (C) Completeness
- (D) Sweetness
- (E) Dignity and Lucidity

Choose the correct answer from the options given below :

- (1) B, C, D, E, A
- (2) C, D, E, A, B
- (3) E, A, D, B, C
- (4) A, B, C, D, E

चाणक्य ने उत्तम राजाज्ञाओं की विशेषताएं निम्नानुसार प्रतिपादित की हैं :

- (A) प्रासंगिक क्रम में
- (B) गैर-खंडनकारी रूप में
- (C) सक्षमता रूप में
- (D) माधुर्य रूप में
- (E) गरिमायम और प्रांजल रूप में

नीचे दिए गए विकल्पों में से सही उत्तर का चयन कीजिए :

- (1) B, C, D, E और A
- (2) C, D, E, A और B
- (3) E, A, D, B और C
- (4) A, B, C, D और E

- 1[Option ID=22137]
- 2[Option ID=22138]
- 3[Option ID=22139]
- 4[Option ID=22140]

Sl. No.136
QBID:111086

Given below are two statements: One is labelled as Assertion A and the other is labelled as Reason R

Assertion (A) : Strategic, Operational and Tactical are three levels of War.

Reasons (R) : Professional Military Education caters for training of Indian Army leaders at all three levels of War.

In the light of the above statements, choose the correct from the options given below:

- (1) Both (A) and (R) are true and (R) is the correct explanation of (A)
- (2)

Both (A) and (R) are true and (R) is not the correct explanation of (A)

(3) (A) is true but (R) is false

(4) (A) is false but (R) is true

नीचे दो कथन दिए गए हैं : एक अभिकथन (Assertion A) के रूप में लिखित है तो दूसरा उसके कारण (Reason R) के रूप में :

अभिकथन (A) : युद्ध के तीन स्तर अर्थात् सामरिक, प्रचालनात्मक और कार्य कुशलता हैं।

कारण (R) : व्यावसायिक सैन्य शिक्षा युद्ध के सभी तीन स्तरों पर भारतीय सैन्य नेताओं के लिए प्रशिक्षण की जरूरत को पूरी करता है।

उपरोक्त कथन के आलोक में, नीचे दिए गए विकल्पों में से सही उत्तर का चयन कीजिए :

(1) (A) और (R) दोनों सत्य हैं और (R), (A) की सही व्याख्या है

(2) (A) और (R) दोनों सत्य हैं, लेकिन (R), (A) की सही व्याख्या नहीं है

(3) (A) सत्य है, लेकिन (R) असत्य है

(4) (A) असत्य है, लेकिन (R) सत्य है

1[Option ID=22141]

2[Option ID=22142]

3[Option ID=22143]

4[Option ID=22144]

Sl. No.137

QBID:111087

Given below are two statements: One is labelled as Assertion A and the other is labelled as Reason R

Assertion (A) : Types of troops explained by Kautilya are Maula, Bhrita, Sreni, Mitra, Amitra and Atavi.

Reasons (R) : These types of troops can ditch the king and join enemy forces if adequate care is not taken to maintain them.

In the light of the above statements, choose the correct answer from the options given below:

(1) Both (A) and (R) are true and (R) is the correct explanation of (A)

(2) Both (A) and (R) are true and (R) is not the correct explanation of (A)

(3) (A) is true but (R) is false

(4) (A) is false but (R) is true

नीचे दो कथन दिए गए हैं : एक अभिकथन (Assertion A) के रूप में लिखित है तो दूसरा उसके कारण (Reason R) के रूप में :

अभिकथन (A) : कौटिल्य द्वारा वर्णित सैन्यदल के प्रकार हैं - मौला, भृता, सेनी, मित्र, अमित्र और अटावी।

कारण (R) : ये सैन्यदल राजा का त्याग करके शत्रु बल में सम्मिलित हो सकते हैं यदि उन पर आजीविका हेतु पर्याप्त ध्यान नहीं दिया जाता है।

उपरोक्त कथन के आलोक में, नीचे दिए गए विकल्पों में से सही उत्तर का चयन कीजिए :

- (1) (A) और (R) दोनों सत्य हैं और (R), (A) की सही व्याख्या है
- (2) (A) और (R) दोनों सत्य हैं, लेकिन (R), (A) की सही व्याख्या नहीं है
- (3) (A) सत्य है, लेकिन (R) असत्य है
- (4) (A) असत्य है, लेकिन (R) सत्य है

1[Option ID=22145]

2[Option ID=22146]

3[Option ID=22147]

4[Option ID=22148]

Sl. No.138
QBID:111088

Given below are two statements:

Statement (I) : Kautilya defined 'Antardhi' as the weak king among all other friendly or enemy kings.

Statement (II) : 'Ari' is defined as an 'Enemy King'.

In the light of the above statements, choose the most appropriate answer from the options given below:

- (1) Both Statement (I) and Statement (II) are correct
- (2) Both Statement (I) and Statement (II) are incorrect
- (3) Statement (I) is correct but Statement (II) is incorrect
- (4) Statement (I) is incorrect but Statement (II) is correct

नीचे दो कथन दिए गए हैं :

कथन (I) : कौटिल्य ने 'अन्तर्धि' को अन्य सभी मित्र या शत्रु राजाओं में कमजोर राजा के रूप में परिभाषित किया है।

कथन (II) : 'अरि' को 'शत्रु राजा' के रूप में परिभाषित किया गया है।

उपरोक्त कथन के आलोक में, नीचे दिए गए विकल्पों में से सबसे उपयुक्त उत्तर का चयन कीजिए :

- (1) कथन (I) और (II) दोनों सही हैं
- (2) कथन (I) और (II) दोनों गलत हैं
- (3) कथन (I) सही है, लेकिन कथन (II) गलत है
- (4) कथन (I) गलत है, लेकिन कथन (II) सही है

1[Option ID=22149]

2[Option ID=22150]
3[Option ID=22151]
4[Option ID=22152]

Sl. No.139
QBID:111089

Given below are two statements:

Statement (I) : CDS stands for Combined Defence Services.

Statement (II) : CDS stands for Chief of Defence Staff.

In the light of the above statements, choose the most appropriate answer from the options given below:

- (1) Both Statement (I) and Statement (II) are correct
- (2) Both Statement (I) and Statement (II) are incorrect
- (3) Statement (I) is correct but Statement (II) is incorrect
- (4) Statement (I) is incorrect but Statement (II) is correct

नीचे दो कथन दिए गए हैं :

कथन (I) : सी डी एस का पूर्ण रूप है – कम्बाइन्ड डिफेन्स सर्विसेज़।

कथन (II) : सी डी एस का पूर्ण रूप है – चीफ ऑफ डिफेन्स स्टाफ़।

उपरोक्त कथन के आलोक में, नीचे दिए गए विकल्पों में से सबसे उपयुक्त उत्तर का चयन कीजिए :

- (1) कथन (I) और (II) दोनों सही हैं
- (2) कथन (I) और (II) दोनों गलत हैं
- (3) कथन (I) सही है, लेकिन कथन (II) गलत है
- (4) कथन (I) गलत है, लेकिन कथन (II) सही है

1[Option ID=22153]
2[Option ID=22154]
3[Option ID=22155]
4[Option ID=22156]

Sl. No.140
QBID:111090

Given below are two statements:

Statement (I) : Xi Jinping is life time President of China.

Statement (II) : Xi Jinping is part time President of China.

In the light of the above statements, choose the most appropriate answer from the options given below:

- (1) Both Statement (I) and Statement (II) are correct
- (2) Both Statement (I) and Statement (II) are incorrect
- (3) Statement (I) is correct but Statement (II) is incorrect
- (4) Statement (I) is incorrect but Statement (II) is correct

नीचे दो कथन दिए गए हैं :

कथन (I) : शी ज़िनपिंग चीन के आजीवन राष्ट्रपति हैं।

कथन (II) : शी ज़िनपिंग चीन के अंशकालिक राष्ट्रपति हैं।

उपरोक्त कथन के आलोक में, नीचे दिए गए विकल्पों में से सबसे उपयुक्त उत्तर का चयन कीजिए :

- (1) कथन (I) और (II) दोनों सही हैं
- (2) कथन (I) और (II) दोनों गलत हैं
- (3) कथन (I) सही है, लेकिन कथन (II) गलत है
- (4) कथन (I) गलत है, लेकिन कथन (II) सही है

1[Option ID=22157]

2[Option ID=22158]

3[Option ID=22159]

4[Option ID=22160]

Sl. No.141

QBID:111091

Read the following paragraph and answer the five questions that follow :

Chinese Army intruded into Indian area of North Eastern part of Aksai Chin in Ladakh that led to clashes between the soldiers of both armies. Galwan valley witnessed hand to hand fight between the Indian and Chinese soldiers on 16 June 2020 when Chinese troops wanted to occupy Galwan heights and other mountain ridges in the region. Gogra, Hot springs, Depsang and adjoining heights of strategic importance were the objectives of Chinese forces. Col Santhosh Babu (late) with his battalion defended the area bravely and pushed back the Chinese. He laid his life but succeeded in upholding valour and honour of India.

The clashes resulted in deterioration of relations between India and China. Major diplomatic efforts by both sides prevented escalation of situation to a full scale war. India recalibrated its tactical and strategic focus by building infra-structure, strengthening defences and deploying air defence systems.

China lost large number of soldiers and suffered a humiliating defeat at international fora.

निम्नलिखित गद्यांश को पढ़िए और दिए गए प्रश्नों का उत्तर दीजिए :

चीनी सेना ने लद्दाख में अक्साई चीन के उत्तर-पूर्वी भाग के भारतीय हिस्से में घुसपैठ किया जिससे दोनों सेनाओं के सैनिकों के बीच झड़पें हुईं। 16 जून, 2020 को जबकि चीनी सैन्यदल गलवान की चोटियों तथा उक्त क्षेत्र के अन्य पर्वत-श्रेणियों को हथियाना चाहता था, गलवान घाटी में भारतीय और चीनी सैनिकों के बीच हाथापाई हुई। गोगरा, गर्म सोते, डेप्सांग और रणनीतिक महत्व की अन्य चोटियां उनके निशाने पर थीं। कर्नल संतोष बाबू (स्वर्गीय) ने अपनी बटालियन के साथ उक्त क्षेत्र की बहादुरी से रक्षा की तथा चीनियों को पीछे खदेड़ दिया। उन्होंने अपने जीवन की बलि दे दी लेकिन भारत के पराक्रम और प्रतिष्ठा को बनाए रखा।

इन झड़पों ने भारत और चीन के संबंधों को बिगाड़ दिया। दोनों पक्षों के प्रमुख कूटनीतिक प्रयासों से स्थिति को बड़े पैमाने पर युद्ध में तब्दील होने से रोका गया। भारत ने अवसंरचना तैयार करके, सुरक्षा को सुदृढ़ करके तथा वायु-रक्षा प्रणालियों का प्रयोग करके अपने सामरिक एवं रणनीतिक दृष्टि में सुधार किया।

चीन ने बड़ी संख्या में अपने सैनिकों को खोया और अन्तरराष्ट्रीय मंचों पर अपमानजनक पराजय का सामना किया।

Which of the following is not a feature of tactical importance on the border with China?

- (1) Galwan Valley
- (2) Hot Springs
- (3) Gogra
- (4) Chushul

चीन के साथ सीमा पर निम्नलिखित में से क्या रणनीतिक महत्व की विशेषता नहीं है?

- (1) गलवान घाटी
- (2) गर्म सोते
- (3) गोगरा
- (4) चुशुल

1[Option ID=22161]
2[Option ID=22162]
3[Option ID=22163]
4[Option ID=22164]

Sl. No.142
QBID:111092

Read the following paragraph and answer the five questions that follow :

Chinese Army intruded into Indian area of North Eastern part of Aksai Chin in Ladakh that led to clashes between the soldiers of both armies. Galwan valley witnessed hand to hand fight between the Indian and Chinese soldiers on 16 June 2020 when Chinese troops wanted to occupy Galwan heights and other mountain ridges in the region. Gogra, Hot springs, Depsang and adjoining heights of strategic importance were the objectives of Chinese forces. Col Santhosh Babu (late) with his battalion defended the area bravely and pushed back the Chinese. He laid his life but succeeded in upholding valour and honour of India.

The clashes resulted in deterioration of relations between India and China. Major diplomatic efforts by both sides prevented escalation of situation to a full scale war. India recalibrated its tactical and strategic focus by building infra-structure, strengthening defences and deploying air defence systems.

China lost large number of soldiers and suffered a humiliating defeat at international fora.

निम्नलिखित गद्यांश को पढ़िए और दिए गए प्रश्नों का उत्तर दीजिए :

चीनी सेना ने लद्दाख में अक्साई चीन के उत्तर-पूर्वी भाग के भारतीय हिस्से में घुसपैठ किया जिससे दोनों सेनाओं के सैनिकों के बीच झड़पें हुईं। 16 जून, 2020 को जबकि चीनी सैन्यदल गलवान की चोटियों तथा उक्त क्षेत्र के अन्य पर्वत-श्रेणियों को हथियाना चाहता था, गलवान घाटी में भारतीय और चीनी सैनिकों के बीच हाथापाई हुई। गोगरा, गर्म सोते, डेप्सांग और रणनीतिक महत्व की अन्य चोटियां उनके निशाने पर थीं। कर्नल संतोष बाबू (स्वर्गीय) ने अपनी बटालियन के साथ उक्त क्षेत्र की बहादुरी से रक्षा की तथा चीनियों को पीछे खदेड़ दिया। उन्होंने अपने जीवन की बलि दे दी लेकिन भारत के पराक्रम और प्रतिष्ठा को बनाए रखा।

इन झड़पों ने भारत और चीन के संबंधों को बिगाड़ दिया। दोनों पक्षों के प्रमुख कूटनीतिक प्रयासों से स्थिति को बड़े पैमाने पर युद्ध में तब्दील होने से रोका गया। भारत ने अवसंरचना तैयार करके, सुरक्षा को सुदृढ़ करके तथा वायु-रक्षा प्रणालियों का प्रयोग करके अपने सामरिक एवं रणनीतिक दृष्टि में सुधार किया।

चीन ने बड़ी संख्या में अपने सैनिकों को खोया और अन्तरराष्ट्रीय मंचों पर अपमानजनक पराजय का सामना किया।

Galwan clashes led to deterioration of relations between

(1)

India and Pakistan

(2) India and Nepal

(3) India and China

(4) India and Bhutan

गलवान झड़पों के कारण किनके बीच संबंध बिगड़े?

(1) भारत और पाकिस्तान

(2) भारत और नेपाल

(3) भारत और चीन

(4) भारत और भूटान

1[Option ID=22165]

2[Option ID=22166]

3[Option ID=22167]

4[Option ID=22168]

Sl. No.143

QBID:111093

Read the following paragraph and answer the five questions that follow :

Chinese Army intruded into Indian area of North Eastern part of Aksai Chin in Ladakh that led to clashes between the soldiers of both armies. Galwan valley witnessed hand to hand fight between the Indian and Chinese soldiers on 16 June 2020 when Chinese troops wanted to occupy Galwan heights and other mountain ridges in the region. Gogra, Hot springs, Depsang and adjoining heights of strategic importance were the objectives of Chinese forces. Col Santhosh Babu (late) with his battalion defended the area bravely and pushed back the Chinese. He laid his life but succeeded in upholding valour and honour of India.

The clashes resulted in deterioration of relations between India and China. Major diplomatic efforts by both sides prevented escalation of situation to a full scale war. India recalibrated its tactical and strategic focus by building infra-structure, strengthening defences and deploying air defence systems.

China lost large number of soldiers and suffered a humiliating defeat at international fora.

निम्नलिखित गद्यांश को पढ़िए और दिए गए प्रश्नों का उत्तर दीजिए :

चीनी सेना ने लद्दाख में अक्साई चीन के उत्तर-पूर्वी भाग के भारतीय हिस्से में घुसपैठ किया जिससे दोनों सेनाओं के सैनिकों के बीच झड़पें हुईं। 16 जून, 2020 को जबकि चीनी सैन्यदल गलवान की चोटियों तथा उक्त क्षेत्र के अन्य पर्वत-श्रेणियों को हथियाना चाहता था, गलवान घाटी में भारतीय और चीनी सैनिकों के बीच हाथापाई हुई। गोगरा, गर्म सोते, डेप्सांग और रणनीतिक महत्व की अन्य चोटियां उनके निशाने पर थीं। कर्नल संतोष बाबू (स्वर्गीय) ने अपनी बटालियन के साथ उक्त क्षेत्र की बहादुरी से रक्षा की तथा चीनियों को पीछे खदेड़ दिया। उन्होंने अपने जीवन की बलि दे दी लेकिन भारत के पराक्रम और प्रतिष्ठा को बनाए रखा।

इन झड़पों ने भारत और चीन के संबंधों को बिगाड़ दिया। दोनों पक्षों के प्रमुख कूटनीतिक प्रयासों से स्थिति को बड़े पैमाने पर युद्ध में तब्दील होने से रोका गया। भारत ने अवसंरचना तैयार करके, सुरक्षा को सुदृढ़ करके तथा वायु-रक्षा प्रणालियों का प्रयोग करके अपने सामरिक एवं रणनीतिक दृष्टि में सुधार किया।

चीन ने बड़ी संख्या में अपने सैनिकों को खोया और अन्तरराष्ट्रीय मंचों पर अपमानजनक पराजय का सामना किया।

Which of the following is correct?

(1)

India recalibrated tactical and strategic focus

- (2) China launched another offensive in Central sector in India
- (3) Nepal and China had clashes because of Galwan incident
- (4) China launched offensive in North Eastern sector in India

निम्नलिखित में से कौन कथन सही है ?

- (1) भारत ने रणनीतिक और खामरिक दृष्टि में सुधार किया
- (2) चीन ने भारत में केंद्रीय क्षेत्र में एक और आक्रामक गतिविधि की
- (3) नेपाल और चीन के बीच गलवान घटना के कारण झड़पें हुईं
- (4) चीन ने भारत के उत्तर-पूर्व क्षेत्र में आक्रामक प्रहार किया

1[Option ID=22169]

2[Option ID=22170]

3[Option ID=22171]

4[Option ID=22172]

Sl. No.144

QBID:111094

Read the following paragraph and answer the five questions that follow :

Chinese Army intruded into Indian area of North Eastern part of Aksai Chin in Ladakh that led to clashes between the soldiers of both armies. Galwan valley witnessed hand to hand fight between the Indian and Chinese soldiers on 16 June 2020 when Chinese troops wanted to occupy Galwan heights and other mountain ridges in the region. Gogra, Hot springs, Depsang and adjoining heights of strategic importance were the objectives of Chinese forces. Col Santhosh Babu (late) with his battalion defended the area bravely and pushed back the Chinese. He laid his life but succeeded in upholding valour and honour of India.

The clashes resulted in deterioration of relations between India and China. Major diplomatic efforts by both sides prevented escalation of situation to a full scale war. India recalibrated its tactical and strategic focus by building infra-structure, strengthening defences and deploying air defence systems.

China lost large number of soldiers and suffered a humiliating defeat at international fora.

निम्नलिखित गद्यांश को पढ़िए और दिए गए प्रश्नों का उत्तर दीजिए :

चीनी सेना ने लद्दाख में अक्सई चीन के उत्तर-पूर्वी भाग के भारतीय हिस्से में घुसपैठ किया जिससे दोनों सेनाओं के सैनिकों के बीच झड़पें हुईं। 16 जून, 2020 को जबकि चीनी सैन्यदल गलवान की चोटियों तथा उक्त क्षेत्र के अन्य पर्वत-श्रेणियों को हथियाना चाहता था, गलवान घाटी में भारतीय और चीनी सैनिकों के बीच हाथापाई हुई। गोगरा, गर्म सोते, डेप्सांग और रणनीतिक महत्व की अन्य चोटियां उनके निशाने पर थीं। कर्नल संतोष बाबू (स्वर्गीय) ने अपनी बटालियन के साथ उक्त क्षेत्र की बहादुरी से रक्षा की तथा चीनियों को पीछे खदेड़ दिया। उन्होंने अपने जीवन की बलि दे दी लेकिन भारत के पराक्रम और प्रतिष्ठा को बनाए रखा।

इन झड़पों ने भारत और चीन के संबंधों को बिगाड़ दिया। दोनों पक्षों के प्रमुख कूटनीतिक प्रयासों से स्थिति को बड़े पैमाने पर युद्ध में तब्दील होने से रोका गया। भारत ने अवसंरचना तैयार करके, सुरक्षा को सुदृढ़ करके तथा वायु-रक्षा प्रणालियों का प्रयोग करके अपने सामरिक एवं रणनीतिक दृष्टि में सुधार किया।

चीन ने बड़ी संख्या में अपने सैनिकों को खोया और अन्तरराष्ट्रीय मंचों पर अपमानजनक पराजय का सामना किया।

When did Galwan incident take place?

(1) August 2020

(2) June 2020

(3) August 2019

(4) June 2019

गलवान घटना कब हुई?

(1) अगस्त 2020

(2) जून 2020

(3) अगस्त 2019

(4) जून 2019

1[Option ID=22173]

2[Option ID=22174]

3[Option ID=22175]

4[Option ID=22176]

Sl. No.145

QBID:111095

Read the following paragraph and answer the five questions that follow :

Chinese Army intruded into Indian area of North Eastern part of Aksai Chin in Ladakh that led to clashes between the soldiers of both armies. Galwan valley witnessed hand to hand fight between the Indian and Chinese soldiers on 16 June 2020 when Chinese troops wanted to occupy Galwan heights and other mountain ridges in the region. Gogra, Hot springs, Depsang and adjoining heights of strategic importance were the objectives of Chinese forces. Col Santhosh Babu (late) with his battalion defended the area bravely and pushed back the Chinese. He laid his life but succeeded in upholding valour and honour of India.

The clashes resulted in deterioration of relations between India and China. Major diplomatic efforts by both sides prevented escalation of situation to a full scale war. India recalibrated its tactical and strategic focus by building infra-structure, strengthening defences and deploying air defence systems.

China lost large number of soldiers and suffered a humiliating defeat at international fora.

निम्नलिखित गद्यांश को पढ़िए और दिए गए प्रश्नों का उत्तर दीजिए :

चीनी सेना ने लद्दाख में अक्साई चीन के उत्तर-पूर्वी भाग के भारतीय हिस्से में घुसपैठ किया जिससे दोनों सेनाओं के सैनिकों के बीच झड़पें हुईं। 16 जून, 2020 को जबकि चीनी सैन्यदल गलवान की चोटियों तथा उक्त क्षेत्र के अन्य पर्वत-श्रेणियों को हथियाना चाहता था, गलवान घाटी में भारतीय और चीनी सैनिकों के बीच हाथापाई हुई। गोगरा, गर्म सोते, डेप्सांग और रणनीतिक महत्व की अन्य चोटियां उनके निशाने पर थीं। कर्नल संतोष बाबू (स्वर्गीय) ने अपनी बटालियन के साथ उक्त क्षेत्र की बहादुरी से रक्षा की तथा चीनियों को पीछे खदेड़ दिया। उन्होंने अपने जीवन की बलि दे दी लेकिन भारत के पराक्रम और प्रतिष्ठा को बनाए रखा।

इन झड़पों ने भारत और चीन के संबंधों को बिगाड़ दिया। दोनों पक्षों के प्रमुख कूटनीतिक प्रयासों से स्थिति को बड़े पैमाने पर युद्ध में तब्दील होने से रोका गया। भारत ने अवसंरचना तैयार करके, सुरक्षा को सुदृढ़ करके तथा वायु-रक्षा प्रणालियों का प्रयोग करके अपने सामरिक एवं रणनीतिक दृष्टि में सुधार किया।

चीन ने बड़ी संख्या में अपने सैनिकों को खोया और अन्तरराष्ट्रीय मंचों पर अपमानजनक पराजय का सामना किया।

India and China were recently involved in hand to hand fight at

- (1) Galwan valley
- (2) Depsang
- (3) Tawang
- (4) Kachar hills

भारत और चीन हाल ही में हाथापाई की लड़ाई में लिप्त थे :

- (1) गलवान घाटी
- (2) डेप्सांग
- (3) तवांग
- (4) कछार पहाड़ियां

1[Option ID=22177]

2[Option ID=22178]

3[Option ID=22179]

4[Option ID=22180]

Sl. No.146

QBID:111096

Read the following paragraph and answer the five questions that follow :

China conducted its first nuclear test in 1964 and has maintained a no-first use policy. From the early 1960s to early 1980s, China's potential was highly limited. China began fielding silo-based ICBMs in the 1980s and deployed nuclear force to enhance survivability by absorbing first-strike, expand striking power and counter deployments in Missile defence. The transition to survivable nuclear forces such as mobile ICBMs and SSBNs are the most notable aspect of its force modernization and is closely aligned with the nuclear strategy developed by China.

निम्नलिखित गद्यांश को पढ़िए और दिए गए प्रश्नों का उत्तर दीजिए :

चीन ने वर्ष 1964 में अपना पहला नाभकीय परीक्षण किया और इसने पहले प्रयोग न करने की नीति बनाए रखी। 1960 के दशक के आरंभ से 1980 के दशक के आरंभ तक चीन की क्षमता काफी सीमित थी। चीन ने 1980 के दशक में जमीनी आई सी बी एम (साइलो बेस्ड आई सी बी एम) तैनात करना शुरू किया। प्रथम प्रहार को शामिल कर उत्तरजीविता को बढ़ाने, प्रहार शक्ति का विस्तार करने और मिसाइल रक्षा में जवाबी तैनाती के लिए नाभकीय हथियार तैनात किए। गतिशील आई सी बी एम और एस एस बी एन जैसी उत्तरजीवी नाभकीय शक्तियों में संक्राति (परिवर्तन) इसके शक्ति आधुनिकीकरण का सबसे उल्लेखनीय पहलू है और यह चीन द्वारा विकसित नाभकीय रणनीति से घनिष्ठ रूप से जुड़ा हुआ है।

In the context of the above paragraph, ICBMs and SSBNs are

- (1) Are not part of survivable nuclear forces
- (2) Are part of survivable nuclear forces
- (3) Are not part of modernization of Chinese nuclear forces
- (4) Not closely aligned with China's nuclear strategy being developed

उपरोक्त पैराग्राफ के संदर्भ में आई सी बी एम और एस एस बी :

- (1) उत्तरजीवी नाभकीय शक्तियों का भाग नहीं हैं
- (2) उत्तरजीवी नाभकीय शक्तियों का भाग हैं
- (3) चीनी नाभकीय शक्तियों के आधुनिकीकरण का भाग नहीं है
- (4)

विकसित की जा रही चीनी नाभकीय रणनीति से घनिष्ठ रूप से जुड़ा हुआ नहीं है

- 1[Option ID=22181]
2[Option ID=22182]
3[Option ID=22183]
4[Option ID=22184]

Sl. No.147
QBID:111097

Read the following paragraph and answer the five questions that follow :

China conducted its first nuclear test in 1964 and has maintained a no-first use policy. From the early 1960s to early 1980s, China's potential was highly limited. China began fielding silo-based ICBMs in the 1980s and deployed nuclear force to enhance survivability by absorbing first-strike, expand striking power and counter deployments in Missile defence. The transition to survivable nuclear forces such as mobile ICBMs and SSBNs are the most notable aspect of its force modernization and is closely aligned with the nuclear strategy developed by China.

निम्नलिखित गद्यांश को पढ़िए और दिए गए प्रश्नों का उत्तर दीजिए :

चीन ने वर्ष 1964 में अपना पहला नाभकीय परीक्षण किया और इसने पहले प्रयोग न करने की नीति बनाए रखी। 1960 के दशक के आरंभ से 1980 के दशक के आरंभ तक चीन की क्षमता काफी सीमित थी। चीन ने 1980 के दशक में जमीनी आई सी बी एम (साइलो बेस्ड आई सी बी एम) तैनात करना शुरू किया। प्रथम प्रहार को शामिल कर उत्तरजीविता को बढ़ाने, प्रहार शक्ति का विस्तार करने और मिसाइल रक्षा में जवाबी तैनाती के लिए नाभकीय हथियार तैनात किए। गतिशील आई सी बी एम और एस एस बी एन जैसी उत्तरजीवी नाभकीय शक्तियों में संक्राति (परिवर्तन) इसके शक्ति आधुनिकीकरण का सबसे उल्लेखनीय पहलू है और यह चीन द्वारा विकसित नाभकीय रणनीति से घनिष्ठ रूप से जुड़ा हुआ है।

According to the paragraph what is the most important feature of Chinese nuclear force modernization?

- (1) Increasing its nuclear warhead count
- (2) Transition to survivable nuclear forces such as ICBMs and SSBNs
- (3) China's development of most of its nuclear capabilities between 1960s and 1980s
- (4) China's nuclear test in 1964

पैराग्राफ के अनुसार, चीनी नाभकीय शक्ति का आधुनिकीकरण की अति महत्वपूर्ण विशेषता क्या है?

- (1) इसके नाभकीय हथियारों की संख्या बढ़ाना
- (2) आई सी बी एम और एस एस बी एन जैसी उत्तरजीवी नाभकीय शक्तियों में परिवर्तन
- (3) चीन द्वारा 1960 के दशक और 1980 के दशक के बीच अपनी अधिकतर नाभकीय शक्तियों की तैनाती
- (4) चीन का वर्ष 1964 का नाभकीय परीक्षण

- 1[Option ID=22185]
2[Option ID=22186]
3[Option ID=22187]
4[Option ID=22188]

Sl. No.148
QBID:111098

Read the following paragraph and answer the five questions that follow :

China conducted its first nuclear test in 1964 and has maintained a no-first use policy. From the early 1960s to early 1980s, China's potential was highly limited. China began fielding silo-based ICBMs in the 1980s and deployed nuclear force to enhance survivability by absorbing first-strike, expand striking power and counter deployments in Missile defence. The transition to survivable nuclear forces such as mobile ICBMs and SSBNs are the most notable aspect of its force modernization and is closely aligned with the nuclear strategy developed by China.

निम्नलिखित गद्यांश को पढ़िए और दिए गए प्रश्नों का उत्तर दीजिए :

चीन ने वर्ष 1964 में अपना पहला नाभकीय परीक्षण किया और इसने पहले प्रयोग न करने की नीति बनाए रखी। 1960 के दशक के आरंभ से 1980 के दशक के आरंभ तक चीन की क्षमता काफी सीमित थी। चीन ने 1980 के दशक में जमीनी आई सी बी एम (साइलो बेस्ड आई सी बी एम) तैनात करना शुरू किया। प्रथम प्रहार को शामिल कर उत्तरजीविता को बढ़ाने, प्रहार शक्ति का विस्तार करने और मिसाइल रक्षा में जवाबी तैनाती के लिए नाभकीय हथियार तैनात किए। गतिशील आई सी बी एम और एस एस बी एन जैसी उत्तरजीवी नाभकीय शक्तियों में संक्राति (परिवर्तन) इसके शक्ति आधुनिकीकरण का सबसे उल्लेखनीय पहलू है और यह चीन द्वारा विकसित नाभकीय रणनीति से घनिष्ठ रूप से जुड़ा हुआ है।

ICBM stands for

- (1) Inter Country Bombing Missiles
- (2) International Continent Ballistic Missiles
- (3) Inter Continental Bombing Missiles
- (4) Inter Continental Ballistic Missiles

आई सी बी एम निम्नलिखित का विस्तृत रूप है :

- (1) इंटर-कंट्री बाम्बिंग मिसाइल्स
- (2) इंटरनेशनल कांटीनेंट बैलेस्टिक मिसाइल्स
- (3) इंटर कांटीनेंटल बाम्बिंग मिसाइल्स
- (4) इंटर कांटीनेंटल बैलेस्टिक मिसाइल्स

1[Option ID=22189]

2[Option ID=22190]

3[Option ID=22191]

4[Option ID=22192]

Sl. No.149
QBID:111099

Read the following paragraph and answer the five questions that follow :

China conducted its first nuclear test in 1964 and has maintained a no-first use policy. From the early 1960s to early 1980s, China's potential was highly limited. China began fielding silo-based ICBMs in the 1980s and deployed nuclear force to enhance survivability by absorbing first-strike, expand striking power and counter deployments in Missile defence. The transition to survivable nuclear forces such as mobile ICBMs and SSBNs are the most notable aspect of its force modernization and is closely aligned with the nuclear strategy developed by China.

निम्नलिखित गद्यांश को पढ़िए और दिए गए प्रश्नों का उत्तर दीजिए :

चीन ने वर्ष 1964 में अपना पहला नाभकीय परीक्षण किया और इसने पहले प्रयोग न करने की नीति बनाए रखी। 1960 के दशक के आरंभ से 1980 के दशक के आरंभ तक चीन की क्षमता काफी सीमित थी। चीन ने 1980 के दशक में जमीनी आई सी बी एम (साइलो बेस्ड आई सी बी एम) तैनात करना शुरू किया। प्रथम प्रहार को शामिल कर उत्तरजीविता को बढ़ाने, प्रहार शक्ति का विस्तार करने और मिसाइल रक्षा में जवाबी तैनाती के लिए नाभकीय हथियार तैनात किए। गतिशील आई सी बी एम और एस एस बी एन जैसी उत्तरजीवी नाभकीय शक्तियों में संक्राति (परिवर्तन) इसके शक्ति आधुनिकीकरण का सबसे उल्लेखनीय पहलू है और यह चीन द्वारा विकसित नाभकीय रणनीति से घनिष्ठ रूप से जुड़ा हुआ है।

According to the paragraph, Assured Retaliation strategies requires

- (1) Capability to survive the first strike
- (2) Expanding one's nuclear strike power
- (3) Counter deployments to boost missile defences
- (4) All of the above

पैराग्राफ के अनुसार आश्वस्त संबंध रणनीति के लिए आवश्यक है :

- (1) प्रथम प्रहार के बाद बचे रहने की क्षमता
- (2) अपनी प्रहार शक्ति का विस्तार करना
- (3) मिसाइल प्रतिरक्षा को बढ़ाने के लिए जवाबी तैनाती
- (4) उपरोक्त सभी

- 1[Option ID=22193]
2[Option ID=22194]
3[Option ID=22195]
4[Option ID=22196]

Sl. No.150
QBID:111100

Read the following paragraph and answer the five questions that follow :

China conducted its first nuclear test in 1964 and has maintained a no-first use policy. From the early 1960s to early 1980s, China's potential was highly limited. China began fielding silo-based ICBMs in the 1980s and deployed nuclear force to enhance survivability by absorbing first-strike, expand striking power and counter deployments in Missile defence. The transition to survivable nuclear forces such as mobile ICBMs and SSBNs are the most notable aspect of its force modernization and is closely aligned with the nuclear strategy developed by China.

निम्नलिखित गद्यांश को पढ़िए और दिए गए प्रश्नों का उत्तर दीजिए :

चीन ने वर्ष 1964 में अपना पहला नाभकीय परीक्षण किया और इसने पहले प्रयोग न करने की नीति बनाए रखी। 1960 के दशक के आरंभ से 1980 के दशक के आरंभ तक चीन की क्षमता काफी सीमित थी। चीन ने 1980 के दशक में जमीनी आई सी बी एम (साइलो बेस्ड आई सी बी एम) तैनात करना शुरू किया। प्रथम प्रहार को शामिल कर उत्तरजीविता को बढ़ाने, प्रहार शक्ति का विस्तार करने और मिसाइल रक्षा में जवाबी तैनाती के लिए नाभकीय हथियार तैनात किए। गतिशील आई सी बी एम और एस एस बी एन जैसी उत्तरजीवी नाभकीय शक्तियों में संक्राति (परिवर्तन) इसके शक्ति आधुनिकीकरण का सबसे उल्लेखनीय पहलू है और यह चीन द्वारा विकसित नाभकीय रणनीति से घनिष्ठ रूप से जुड़ा हुआ है।

In the context of China's first nuclear test which of the following is true?

- (1) India tested its nuclear weapons before China
- (2) India tested its first nuclear weapons within half a decade of China's first test
- (3) China's first test in 1964 guaranteed an assured retaliation strategy
- (4) None of the above

चीन के प्रथम नाभकीय परीक्षण के संदर्भ में निम्नलिखित में से कौन-सा सत्य है?

- (1) भारत के चीन से पहले अपने हथियारों का परीक्षण किया।
- (2) चीन द्वारा प्रथम परीक्षण करने के एक दशक के भीतर भारत ने अपने पहले हथियारों का परीक्षण किया।
- (3) वर्ष 1964 में चीन के प्रथम परीक्षण ने एक आश्वस्त प्रतिरोध रणनीति की गारंटी दी।
- (4) उपरोक्त में से कोई नहीं।

1[Option ID=22197]

2[Option ID=22198]

3[Option ID=22199]

4[Option ID=22200]