

UGC NET 2022 CHINESE

Topic: - 032_PARTA_S2

1) 下列哪个汉字的意思是“表示起点”?

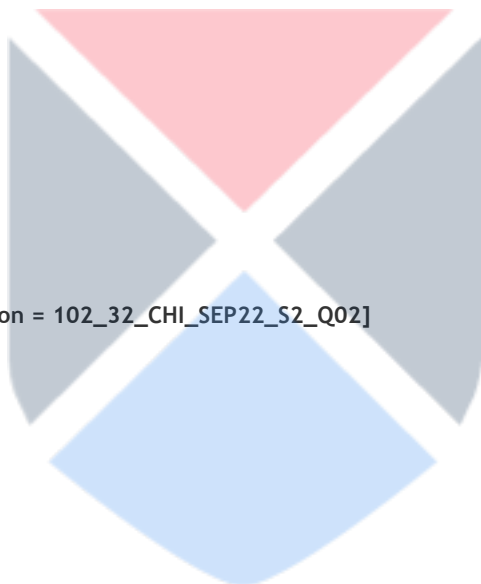
1. 由
2. 甲
3. 毋
4. 申

[Question ID = 4919][Question Description = 101_32_CHI_SEP22_S2_Q01]

1. 1 [Option ID = 19673]
2. 2 [Option ID = 19674]
3. 3 [Option ID = 19675]
4. 4 [Option ID = 19676]

2) 找奇:

1. 顷刻
2. 永久
3. 霎时
4. 刹那



[Question ID = 4920][Question Description = 102_32_CHI_SEP22_S2_Q02]

1. 1 [Option ID = 19677]
2. 2 [Option ID = 19678]
3. 3 [Option ID = 19679]
4. 4 [Option ID = 19680]

3) _____不是纯音译词。

1. 波音
2. 扑克
3. 马克思主义
4. 休克

[Question ID = 4921][Question Description = 103_32_CHI_SEP22_S2_Q03]

1. 1 [Option ID = 19681]
2. 2 [Option ID = 19682]
3. 3 [Option ID = 19683]
4. 4 [Option ID = 19684]

4) 下面哪个不是外来词?

1. 仿照
2. 苦力
3. 蓝领
4. 幽默

[Question ID = 4922][Question Description = 104_32_CHI_SEP22_S2_Q04]

1. 1 [Option ID = 19685]
2. 2 [Option ID = 19686]

- 3. 3 [Option ID = 19687]
- 4. 4 [Option ID = 19688]

5) 下列各句中，括号里的成语使用不正确的一句是：

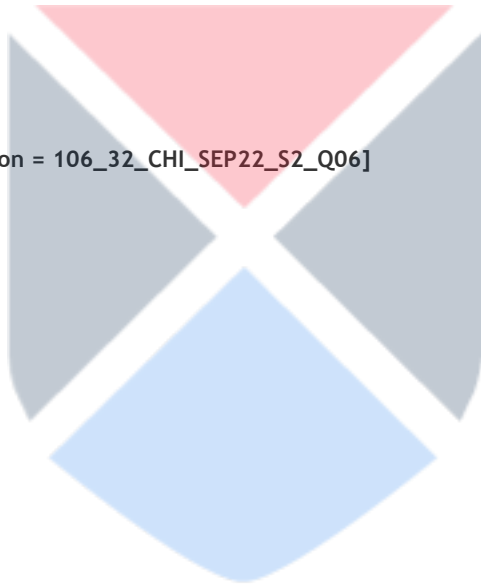
- 1. 虽然这是第一次王万英撰写社论，但由于写的都是那天(耳濡目染)的事情，因此写得又新鲜又优秀。
- 2. 围棋手们憋了一年才迎来了这一次比赛，真是(养兵千日)，用兵一时。
- 3. 现在叙利亚危机四伏，去那儿犹如(自投罗网)。
- 4. 他们俩虽然离婚已经两年了，但是至今还是(藕断丝连)。

[Question ID = 4923][Question Description = 105_32_CHI_SEP22_S2_Q05]

- 1. 1 [Option ID = 19689]
- 2. 2 [Option ID = 19690]
- 3. 3 [Option ID = 19691]
- 4. 4 [Option ID = 19692]

6) "你是吹牛大王，虚虚实实，我真恨你，从实招来，是什么嘛？"句中"虚虚实实"指的是：

- 1. 有时是假的，有时是真的
- 2. 爱夸自己
- 3. 总会说假话
- 4. 按实际情况坦白交代出来



[Question ID = 4924][Question Description = 106_32_CHI_SEP22_S2_Q06]

- 1. 1 [Option ID = 19693]
- 2. 2 [Option ID = 19694]
- 3. 3 [Option ID = 19695]
- 4. 4 [Option ID = 19696]

7) 下列哪种复句不属于偏正复句？

- 1. 目的复句
- 2. 因果复句
- 3. 转折复句
- 4. 递进复句

[Question ID = 4925][Question Description = 107_32_CHI_SEP22_S2_Q07]

- 1. 1 [Option ID = 19697]
- 2. 2 [Option ID = 19698]
- 3. 3 [Option ID = 19699]
- 4. 4 [Option ID = 19700]

8) "图画是与语言不相干的独立的表意系统"句中"不想干"是指：

- 1. 不相同
- 2. 配不上
- 3. 没有关系
- 4. 分不开

[Question ID = 4926][Question Description = 108_32_CHI_SEP22_S2_Q08]

- 1. 1 [Option ID = 19701]
- 2. 2 [Option ID = 19702]
- 3. 3 [Option ID = 19703]
- 4. 4 [Option ID = 19704]

9) “温故而知新，可以为师矣。”出自于_____。

1. 《道德经》
2. 《诗经》
3. 《论语》
4. 《孟子》

[Question ID = 4927][Question Description = 109_32_CHI_SEP22_S2_Q09]

1. 1 [Option ID = 19705]
2. 2 [Option ID = 19706]
3. 3 [Option ID = 19707]
4. 4 [Option ID = 19708]

10) 北魏朝地理文学作品《水经注》的作者是：

1. 郦道元
2. 柳宗元
3. 谢惠连
4. 沈约

[Question ID = 4928][Question Description = 110_32_CHI_SEP22_S2_Q10]

1. 1 [Option ID = 19709]
2. 2 [Option ID = 19710]
3. 3 [Option ID = 19711]
4. 4 [Option ID = 19712]

11) 中国文学史上第一个大力作“词”的文人是：

1. 冯延巳
2. 欧阳修
3. 李煜
4. 温庭筠

[Question ID = 4929][Question Description = 111_32_CHI_SEP22_S2_Q11]

1. 1 [Option ID = 19713]
2. 2 [Option ID = 19714]
3. 3 [Option ID = 19715]
4. 4 [Option ID = 19716]

12) 下列哪位诗人代表北宋的“山谷体”潮流？

1. 苏轼
2. 黄庭坚
3. 范成大
4. 杨万里

[Question ID = 4930][Question Description = 112_32_CHI_SEP22_S2_Q12]

1. 1 [Option ID = 19717]
2. 2 [Option ID = 19718]
3. 3 [Option ID = 19719]
4. 4 [Option ID = 19720]

13)

"周樟寿"是下列哪位有名文学家的原名?

1. 鲁迅
2. 胡适
3. 巴金
4. 茅盾

[Question ID = 4931][Question Description = 113_32_CHI_SEP22_S2_Q13]

1. 1 [Option ID = 19721]
2. 2 [Option ID = 19722]
3. 3 [Option ID = 19723]
4. 4 [Option ID = 19724]

14)

走日本"明治维新"的道路,一八九八年中国就有了什么运动?

1. 戊戌变法
2. 义和团运动
3. 洋务运动
4. 新文化运动

[Question ID = 4932][Question Description = 114_32_CHI_SEP22_S2_Q14]

1. 1 [Option ID = 19725]
2. 2 [Option ID = 19726]
3. 3 [Option ID = 19727]
4. 4 [Option ID = 19728]

15)

跟鲁迅一样在日本留学时"弃医从文"的另一位现代作家是谁?

1. 郁达夫
2. 周作人
3. 郭沫若
4. 茅盾

[Question ID = 4933][Question Description = 115_32_CHI_SEP22_S2_Q15]

1. 1 [Option ID = 19729]
2. 2 [Option ID = 19730]
3. 3 [Option ID = 19731]
4. 4 [Option ID = 19732]

16)

"殷夫"是下列哪位诗人的笔名?

1. 徐志摩
2. 闻捷
3. 贺敬之
4. 徐祖华

[Question ID = 4934][Question Description = 116_32_CHI_SEP22_S2_Q16]

1. 1 [Option ID = 19733]
2. 2 [Option ID = 19734]
3. 3 [Option ID = 19735]
4. 4 [Option ID = 19736]

17)

"十七年"文学中的诗歌创作指的是:

1. "五四运动"前后十七年的诗歌
2. "文化大革命"后十七年时期的诗歌
3. 毛泽东延安文艺讲话以来十七年的诗歌
4. 建国后的十七年的诗歌

[Question ID = 4935][Question Description = 117_32_CHI_SEP22_S2_Q17]

1. 1 [Option ID = 19737]
2. 2 [Option ID = 19738]
3. 3 [Option ID = 19739]
4. 4 [Option ID = 19740]

18)

"白洋淀诗群"是:

1. 建国前解放区出现的诗歌群
2. 80年代后期的诗歌群
3. "文化大革命"时期最有代表性的"地下诗歌群"
4. "十七年"时期写出的革命诗歌群

[Question ID = 4936][Question Description = 118_32_CHI_SEP22_S2_Q18]

1. 1 [Option ID = 19741]
2. 2 [Option ID = 19742]
3. 3 [Option ID = 19743]
4. 4 [Option ID = 19744]

19)

《青春之歌》写于什么时期?

1. "抗战"时期
2. "新时期"
3. "十七年"时期
4. "文化大革命"时期

[Question ID = 4937][Question Description = 119_32_CHI_SEP22_S2_Q19]

1. 1 [Option ID = 19745]
2. 2 [Option ID = 19746]
3. 3 [Option ID = 19747]
4. 4 [Option ID = 19748]

20)

"大散文"概念最先由____于1992年在《美文》的《发刊词》中提出。

1. 贾平凹
2. 王小波
3. 王开林
4. 巴金

[Question ID = 4938][Question Description = 120_32_CHI_SEP22_S2_Q20]

1. 1 [Option ID = 19749]
2. 2 [Option ID = 19750]
3. 3 [Option ID = 19751]
4. 4 [Option ID = 19752]

21)

《茉莉花》是什么省的民歌?

1. 江苏省
2. 贵州省
3. 四川省
4. 云南省

[Question ID = 4939][Question Description = 121_32_CHI_SEP22_S2_Q21]

1. 1 [Option ID = 19753]
2. 2 [Option ID = 19754]
3. 3 [Option ID = 19755]
4. 4 [Option ID = 19756]

22)

中国传统社会的“四民”是士、农、_____和商。

1. 工
2. 君
3. 圣
4. 兵

[Question ID = 4940][Question Description = 122_32_CHI_SEP22_S2_Q22]

1. 1 [Option ID = 19757]
2. 2 [Option ID = 19758]
3. 3 [Option ID = 19759]
4. 4 [Option ID = 19760]

23)

“四大名绣”包括苏绣、湘绣、_____和蜀绣。

1. 晋绣
2. 粤绣
3. 浙绣
4. 鲁绣

[Question ID = 4941][Question Description = 123_32_CHI_SEP22_S2_Q23]

1. 1 [Option ID = 19761]
2. 2 [Option ID = 19762]
3. 3 [Option ID = 19763]
4. 4 [Option ID = 19764]

24)

《婚姻法》什么时候正式实施，成为新中国的第一部法律?

1. 1952年
2. 1955年
3. 1950年
4. 1981年

[Question ID = 4942][Question Description = 124_32_CHI_SEP22_S2_Q24]

1. 1 [Option ID = 19765]
2. 2 [Option ID = 19766]
3. 3 [Option ID = 19767]
4. 4 [Option ID = 19768]



25)

商朝也被称为:

1. 庞醇之
2. 殷朝
3. 储朝
4. 莫国

[Question ID = 4943][Question Description = 125_32_CHI_SEP22_S2_Q25]

1. 1 [Option ID = 19769]
2. 2 [Option ID = 19770]
3. 3 [Option ID = 19771]
4. 4 [Option ID = 19772]

26)

下列哪位被列为“世界四大文化名人”?

1. 孙中山
2. 孔子
3. 屈原
4. 鲁迅

[Question ID = 4944][Question Description = 126_32_CHI_SEP22_S2_Q26]

1. 1 [Option ID = 19773]
2. 2 [Option ID = 19774]
3. 3 [Option ID = 19775]
4. 4 [Option ID = 19776]

27)

夏朝最后的统治者是谁?

1. 伊尹
2. 桀
3. 禹
4. 汤

[Question ID = 4945][Question Description = 127_32_CHI_SEP22_S2_Q27]

1. 1 [Option ID = 19777]
2. 2 [Option ID = 19778]
3. 3 [Option ID = 19779]
4. 4 [Option ID = 19780]

28)

意大利旅行家马可波罗在哪个朝代来华?

1. 宋朝
2. 元朝
3. 明朝
4. 清朝

[Question ID = 4946][Question Description = 128_32_CHI_SEP22_S2_Q28]

1. 1 [Option ID = 19781]
2. 2 [Option ID = 19782]
3. 3 [Option ID = 19783]
4. 4 [Option ID = 19784]

29) 印度总理拉吉夫·甘地哪一年访华?

1. 1990
2. 1988
3. 1987
4. 1985

[Question ID = 4947][Question Description = 129_32_CHI_SEP22_S2_Q29]

1. 1 [Option ID = 19785]
2. 2 [Option ID = 19786]
3. 3 [Option ID = 19787]
4. 4 [Option ID = 19788]

30) 随郑和下西洋来印度的马欢写了什么游记?

1. 《瀛涯胜览》
2. 《星槎胜览》
3. 《西洋番国志》
4. 《东方见闻录》

[Question ID = 4948][Question Description = 130_32_CHI_SEP22_S2_Q30]

1. 1 [Option ID = 19789]
2. 2 [Option ID = 19790]
3. 3 [Option ID = 19791]
4. 4 [Option ID = 19792]

31) 佛教传入中国后的第一个寺院是:

1. 西安市的大慈恩寺
2. 洛阳市的白马寺
3. 五台山的佛光寺
4. 登封市的少林寺

[Question ID = 4949][Question Description = 131_32_CHI_SEP22_S2_Q31]

1. 1 [Option ID = 19793]
2. 2 [Option ID = 19794]
3. 3 [Option ID = 19795]
4. 4 [Option ID = 19796]

32) 中国抗日战争时期, 哪一年印度派遣医疗队支持中国抗战?

1. 1935
2. 1937
3. 1938
4. 1939

[Question ID = 4950][Question Description = 132_32_CHI_SEP22_S2_Q32]

1. 1 [Option ID = 19797]
2. 2 [Option ID = 19798]
3. 3 [Option ID = 19799]
4. 4 [Option ID = 19800]

33)

胡锦涛提出的“三个至上”是人民法院工作的指导思想，是中国特色社会主义法治思想发展史上的一件大事。这“三个至上”不包括：

1. 和谐社会至上
2. 党的事业至上
3. 人民利益至上
4. 选法法律至上

[Question ID = 4951][Question Description = 133_32_CHI_SEP22_S2_Q33]

1. 1 [Option ID = 19801]
2. 2 [Option ID = 19802]
3. 3 [Option ID = 19803]
4. 4 [Option ID = 19804]

34)

“经济建设和文化建设，好像一辆车子的两个轮子，相辅而行。”这句话是谁说的？

1. 邓小平
2. 江泽民
3. 胡锦涛
4. 周恩来

[Question ID = 4952][Question Description = 134_32_CHI_SEP22_S2_Q34]

1. 1 [Option ID = 19805]
2. 2 [Option ID = 19806]
3. 3 [Option ID = 19807]
4. 4 [Option ID = 19808]

35)

20世纪初新文化运动的两个基本口号是拥护“德先生”和“赛先生”；“德先生”和“赛先生”指的是：

1. 民主与科学
2. 文学与文化
3. 民主与革命
4. 文学与科学

[Question ID = 4953][Question Description = 135_32_CHI_SEP22_S2_Q35]

1. 1 [Option ID = 19809]
2. 2 [Option ID = 19810]
3. 3 [Option ID = 19811]
4. 4 [Option ID = 19812]

36)

习近平新时代中国特色社会主义思想明确中国特色社会主义事业的总体布局是_____，战略布局是_____。

1. 三个代表，四个全面
2. 四位一体，三个代表
3. 四个全面，五位一体
4. 五位一体，四个全面

[Question ID = 4954][Question Description = 136_32_CHI_SEP22_S2_Q36]

1. 1 [Option ID = 19813]
2. 2 [Option ID = 19814]
3. 3 [Option ID = 19815]
4. 4 [Option ID = 19816]

37)

找奇:

1. 韬光养晦
2. 致富光荣
3. 破四旧
4. 实事求是

[Question ID = 4955][Question Description = 137_32_CHI_SEP22_S2_Q37]

1. 1 [Option ID = 19817]
2. 2 [Option ID = 19818]
3. 3 [Option ID = 19819]
4. 4 [Option ID = 19820]

38)

中国哪年与美国建交?

1. 1978年
2. 1979年
3. 1980年
4. 1982年

[Question ID = 4956][Question Description = 138_32_CHI_SEP22_S2_Q38]

1. 1 [Option ID = 19821]
2. 2 [Option ID = 19822]
3. 3 [Option ID = 19823]
4. 4 [Option ID = 19824]

39)

下列哪个汉字的意思是“表示起点”?

1. 由
2. 甲
3. 卣
4. 申

[Question ID = 4957][Question Description = 139_32_CHI_SEP22_S2_Q39]

1. 1 [Option ID = 19825]
2. 2 [Option ID = 19826]
3. 3 [Option ID = 19827]
4. 4 [Option ID = 19828]

40)

2020年中印边界冲突在哪里爆发的?

1. 卡尔吉尔
2. 加勒万河谷
3. 克什米尔
4. 洞朗地区

[Question ID = 4958][Question Description = 140_32_CHI_SEP22_S2_Q40]

1. 1 [Option ID = 19829]
2. 2 [Option ID = 19830]
3. 3 [Option ID = 19831]
4. 4 [Option ID = 19832]

41) 下列哪些字不是从繁体字简化成简体字?

- A. 希
- B. 号
- C. 达
- D. 快

选正确答案:

- 1. 只是 A 与 C
- 2. 只是 B 与 D
- 3. 只是 A 与 D
- 4. 只是 B 与 C

[Question ID = 4959][Question Description = 141_32_CHI_SEP22_S2_Q41]

- 1. 1 [Option ID = 19833]
- 2. 2 [Option ID = 19834]
- 3. 3 [Option ID = 19835]
- 4. 4 [Option ID = 19836]

42) 选出有语病的句子。

- A. 为了迫使她屈服，他们停发了她的工资，进而切断了她的一切经济来源。
- B. 由于他看问题的方法不对，又不听从别人的劝告，以至犯了错误。
- C. 他们刚两个人，却打退了敌人的一连，真了不起。
- D. 那些无中生有的诽谤，丝毫无损于他的伟大形象。

选正确答案:

- 1. 只是 A 与 B
- 2. 只是 B 与 C
- 3. 只是 C 与 D
- 4. 只是 B 与 D

[Question ID = 4960][Question Description = 142_32_CHI_SEP22_S2_Q42]

- 1. 1 [Option ID = 19837]
- 2. 2 [Option ID = 19838]
- 3. 3 [Option ID = 19839]
- 4. 4 [Option ID = 19840]

43)

下列哪些小说属于神魔小说?

- A. 《红楼梦》
- B. 《西游记》
- C. 《封神演义》
- D. 《玉梨魂》

选正确答案:

- 1. 只是 A 与 B
- 2. 只是 B 与 C
- 3. 只是 C 与 D
- 4. 只是 A 与 C

[Question ID = 4961][Question Description = 143_32_CHI_SEP22_S2_Q43]

- 1. 1 [Option ID = 19841]
- 2. 2 [Option ID = 19842]
- 3. 3 [Option ID = 19843]
- 4. 4 [Option ID = 19844]

44)

下列哪些不是人生派作家?

- A. 郁达夫
- B. 张资平
- C. 王统照
- D. 冰心

选正确答案:

- 1. 只是 A 与 B
- 2. 只是 A、B 与 C
- 3. 只是 C 与 D
- 4. 只是 A、C 与 D

[Question ID = 4962][Question Description = 144_32_CHI_SEP22_S2_Q44]

- 1. 1 [Option ID = 19845]
- 2. 2 [Option ID = 19846]
- 3. 3 [Option ID = 19847]
- 4. 4 [Option ID = 19848]



45)

“东北文学三杰”是：

A. 双雪涛

B. 刘索拉

C. 班宇

D. 郑执

选正确答案：

1. 只是 A 与 B
2. 只是 A 与 C
3. 只是 A、C 与 D
4. 只是 B 与 D

[Question ID = 4963][Question Description = 145_32_CHI_SEP22_S2_Q45]

1. 1 [Option ID = 19849]
2. 2 [Option ID = 19850]
3. 3 [Option ID = 19851]
4. 4 [Option ID = 19852]

46)

下列哪些文具不是“文房四宝”？

A. 砚

B. 造纸术

C. 印章

D. 纸

选正确答案：

1. 只是 A、C 与 D
2. 只是 B 与 D
3. 只是 A 与 C
4. 只是 A 与 D



[Question ID = 4964][Question Description = 146_32_CHI_SEP22_S2_Q46]

1. 1 [Option ID = 19853]
2. 2 [Option ID = 19854]
3. 3 [Option ID = 19855]
4. 4 [Option ID = 19856]

47)

下列哪些因素影响了山东爆发的义和团运动?

- A. 英国侵犯中国而每天大量的西方游客干涉中国人民生活而激起了中国人民的极大愤慨。
- B. 随着西方列强势力逐步进入中国,大量的西方传教士来到中国。
- C. 来自西方的传教士带来了西方的科学和文化,促进了中国社会的发展。
- D. 帝国主义与中国人之间的矛盾日益激烈。

选正确答案:

- 1. 只是 A 与 B
- 2. 只是 A 与 C
- 3. 只是 A、B 与 D
- 4. 只是 B、C 与 D

[Question ID = 4965][Question Description = 147_32_CHI_SEP22_S2_Q47]

- 1. 1 [Option ID = 19857]
- 2. 2 [Option ID = 19858]
- 3. 3 [Option ID = 19859]
- 4. 4 [Option ID = 19860]

48)

下列印度哪些邦与中国有共同边界?

- A. 喜马拉雅
- B. 锡金
- C. 北阿坎德
- D. 阿萨姆

选正确答案:

- 1. 只是 A、B 与 C
- 2. 只是 B、C 与 D
- 3. 只是 B 与 D
- 4. 只是 A 与 C



[Question ID = 4966][Question Description = 148_32_CHI_SEP22_S2_Q48]

- 1. 1 [Option ID = 19861]
- 2. 2 [Option ID = 19862]
- 3. 3 [Option ID = 19863]
- 4. 4 [Option ID = 19864]

49)

下列哪个汉字的意思是“表示起点”?

- 1. 由
- 2. 甲
- 3. 卅
- 4. 甲

[Question ID = 4967][Question Description = 149_32_CHI_SEP22_S2_Q49]

- 1. 1 [Option ID = 19865]
- 2. 2 [Option ID = 19866]
- 3. 3 [Option ID = 19867]
- 4. 4 [Option ID = 19868]

50)

以下哪些应用程序在中国提供外卖服务?

A. 闲鱼

B. 滴滴

C. 饿了么

D. 美团

选正确答案:

1. 只是 A 与 B
2. 只是 A、C 与 D
3. 只是 C 与 D
4. 只是 A 与 C

[Question ID = 4968][Question Description = 150_32_CHI_SEP22_S2_Q50]

1. 1 [Option ID = 19869]
2. 2 [Option ID = 19870]
3. 3 [Option ID = 19871]
4. 4 [Option ID = 19872]

51)

中国共产党提出的“两个一百年”政策指的是:

A. 把中国达到发达国家水平

B. 全面达到共产主义

C. 全面建成小康社会

D. 全面建成社会主义现代化强国

选正确答案:

1. 只是 A 与 B
2. 只是 A 与 C
3. 只是 C 与 D
4. 只是 A、B 与 D



[Question ID = 4969][Question Description = 151_32_CHI_SEP22_S2_Q51]

1. 1 [Option ID = 19873]
2. 2 [Option ID = 19874]
3. 3 [Option ID = 19875]
4. 4 [Option ID = 19876]

52)

下列哪些是中国“一带一路”工程的项目？

- A. 中欧班列
- B. 日本-印度联合创业中心
- C. 中白工业园
- D. 马中关丹工业园

选正确答案:

- 1. 只是 B 与 D
- 2. 只是 A 与 C
- 3. 只是 A 与 D
- 4. 只是 A、C 与 D

[Question ID = 4970][Question Description = 152_32_CHI_SEP22_S2_Q52]

- 1. 1 [Option ID = 19877]
- 2. 2 [Option ID = 19878]
- 3. 3 [Option ID = 19879]
- 4. 4 [Option ID = 19880]

53)

下列哪些词来源于粤方言？

- A. 冲凉
- B. 耍钱
- C. 卖呆
- D. 打工

选正确答案:

- 1. 只是 A 与 D
- 2. 只是 B 与 C
- 3. 只是 B 与 D
- 4. 只是 A 与 C



[Question ID = 4971][Question Description = 153_32_CHI_SEP22_S2_Q53]

- 1. 1 [Option ID = 19881]
- 2. 2 [Option ID = 19882]
- 3. 3 [Option ID = 19883]
- 4. 4 [Option ID = 19884]

54)

下列哪些句中“得”是补语的标志？

- A. 今天的幸福生活得来不易。
- B. 他倒在大师椅上，半天动弹不得。
- C. 你瞧小李美得。
- D. 他吓得站也站不稳，坐也坐不安。

选正确答案:

- 1. 只是 A 与 B
- 2. 只是 A 与 C
- 3. 只是 A、B 与 C
- 4. 只是 B、C 与 D

[Question ID = 4972][Question Description = 154_32_CHI_SEP22_S2_Q54]

- 1. 1 [Option ID = 19885]
- 2. 2 [Option ID = 19886]
- 3. 3 [Option ID = 19887]
- 4. 4 [Option ID = 19888]

55)

下列哪些句子表示追问？

- A. 嗯，说话呀，怎么了？
- B. 喔，你没被录取吗？
- C. 啊，什么事，再说一遍。
- D. 咦？你怎么来了？不是病了吗？

选正确答案:

- 1. 只是 A 与 B
- 2. 只是 A 与 C
- 3. 只是 B 与 C
- 4. 只是 A、B 与 D



[Question ID = 4973][Question Description = 155_32_CHI_SEP22_S2_Q55]

- 1. 1 [Option ID = 19889]
- 2. 2 [Option ID = 19890]
- 3. 3 [Option ID = 19891]
- 4. 4 [Option ID = 19892]

56)

下列哪两位诗人不属于“建安七子”？

- A. 孔融
- B. 王粲
- C. 曹操
- D. 杜牧

选正确答案：

- 1. 只是 A 与 B
- 2. 只是 A 与 C
- 3. 只是 B 与 C
- 4. 只是 C 与 D

[Question ID = 4974][Question Description = 156_32_CHI_SEP22_S2_Q56]

- 1. 1 [Option ID = 19893]
- 2. 2 [Option ID = 19894]
- 3. 3 [Option ID = 19895]
- 4. 4 [Option ID = 19896]

57)

关于“写实小说”下列哪些不正确？

- A. 指当时按照现实主义方法进行创作的小说
- B. 指当时按照现代主义方法进行创作的小说
- C. 冰心是其代表作家之一
- D. 是抗战时期出现的文学现象

选正确答案：

- 1. 只是 A 与 B
- 2. 只是 A 与 C
- 3. 只是 B 与 D
- 4. 只是 A、C 与 D

[Question ID = 4975][Question Description = 157_32_CHI_SEP22_S2_Q57]

- 1. 1 [Option ID = 19897]
- 2. 2 [Option ID = 19898]
- 3. 3 [Option ID = 19899]
- 4. 4 [Option ID = 19900]



58)

王蒙90年代的“季节”系列长篇小说不包括:

- A. 《恋爱的季节》
- B. 《失恋的季节》
- C. 《分手的季节》
- D. 《狂欢的季节》

选正确答案:

- 1. 只是 A 与 D
- 2. 只是 A 与 C
- 3. 只是 A、B 与 C
- 4. 只是 B 与 C

[Question ID = 4976][Question Description = 158_32_CHI_SEP22_S2_Q58]

- 1. 1 [Option ID = 19901]
- 2. 2 [Option ID = 19902]
- 3. 3 [Option ID = 19903]
- 4. 4 [Option ID = 19904]

59)

下列哪些是中国古代最重要的出口品?

- A. 瓷器
- B. 紫砂陶
- C. 黄酒
- D. 丝绸

选正确答案:

- 1. 只是 A、B 与 D
- 2. 只是 B 与 C
- 3. 只是 A、C 与 D
- 4. 只是 A 与 D



[Question ID = 4977][Question Description = 159_32_CHI_SEP22_S2_Q59]

- 1. 1 [Option ID = 19905]
- 2. 2 [Option ID = 19906]
- 3. 3 [Option ID = 19907]
- 4. 4 [Option ID = 19908]

60)

太平天国运动爆发的原因包括:

- A. 外来侵略势力与清朝腐败的双重压迫
- B. 中国签约一系列不平等条约带来的负面印象
- C. 德国新教传士对社会的影响
- D. 帝国主义对中国带来的民族危机

选正确答案:

- 1. 只是 A 与 B
- 2. 只是 A 与 C
- 3. 只是 B 与 C
- 4. 只是 A 与 D

[Question ID = 4978][Question Description = 160_32_CHI_SEP22_S2_Q60]

- 1. 1 [Option ID = 19909]
- 2. 2 [Option ID = 19910]
- 3. 3 [Option ID = 19911]
- 4. 4 [Option ID = 19912]

61)

中国国民党的组成原因包括:

- A. 限制袁世凯的专权
- B. 联合一些国内的党派
- C. 统一全国人准备第二次起义推翻袁世凯
- D. 统一群雄

选正确答案:

- 1. 只是 A 与 B
- 2. 只是 B 与 C
- 3. 只是 A、C 与 D
- 4. 只是 A、B 与 C



[Question ID = 4979][Question Description = 161_32_CHI_SEP22_S2_Q61]

- 1. 1 [Option ID = 19913]
- 2. 2 [Option ID = 19914]
- 3. 3 [Option ID = 19915]
- 4. 4 [Option ID = 19916]

62)

下列哪些是印中之间的边贸口岸?

- A. 里普列克口岸
- B. 乃堆拉口岸
- C. 什布奇口岸
- D. 吉隆口岸

选正确答案:

- 1. 只是 A 与 B
- 2. 只是 B 与 D
- 3. 只是 B、C 与 D
- 4. 只是 A、B 与 C

[Question ID = 4980][Question Description = 162_32_CHI_SEP22_S2_Q62]

- 1. 1 [Option ID = 19917]
- 2. 2 [Option ID = 19918]
- 3. 3 [Option ID = 19919]
- 4. 4 [Option ID = 19920]

63)

"十四五"时期经济社会发展的主要目标包括:

- A. 常住人口城镇化率提高到65%。
- B. 基本养老保险参保率提高到95%。
- C. 人均预期寿命提高2岁。
- D. 森林覆盖率提高到24%以上。

选正确答案:

- 1. 只是A 与 B
- 2. 只是A、B 与 D
- 3. 只是 B 与 C
- 4. 只是 A、C 与 D



[Question ID = 4981][Question Description = 163_32_CHI_SEP22_S2_Q63]

- 1. 1 [Option ID = 19921]
- 2. 2 [Option ID = 19922]
- 3. 3 [Option ID = 19923]
- 4. 4 [Option ID = 19924]

64)

下列关于中国支持少数民族和民族地区加快经济社会发展的政策措施，正确的是

- A. 为了促进西藏地区的快速发展，1967年开通了青藏铁路。
- B. 为了扩大少数民族公务员的数量，在县级以上政府部门的工作岗位中给55个少数民族保留8%的名额。
- C. 在西藏，国家长期实行“税制一致、适当变通”的税收政策。
- D. 1951年设立少数民族发展教育补助费。

选正确答案:

- 1. 只是 A 与 C
- 2. 只是 B 与 C
- 3. 只是 B 与 D
- 4. 只是 C 与 D

[Question ID = 4982][Question Description = 164_32_CHI_SEP22_S2_Q64]

- 1. 1 [Option ID = 19925]
- 2. 2 [Option ID = 19926]
- 3. 3 [Option ID = 19927]
- 4. 4 [Option ID = 19928]


65)

除了中国以外，上合组织的创始成员国为:

- A. 塔吉克斯坦
- B. 巴基斯坦
- C. 俄罗斯
- D. 乌兹别克斯坦

选正确答案:

- 1. 只是 A 与 B
- 2. 只是 A 与 C
- 3. 只是 A、C 与 D
- 4. 只是 A 与 D



[Question ID = 4983][Question Description = 165_32_CHI_SEP22_S2_Q65]

- 1. 1 [Option ID = 19929]
- 2. 2 [Option ID = 19930]
- 3. 3 [Option ID = 19931]
- 4. 4 [Option ID = 19932]

66)

配对:

List I	List II
A. 楷书	I. 汉朝通用的字体
B. 草书	II. 汉朝末年
C. 隶书	III. 商、周时期
D. 中鼎文	IV. 大约汉朝初期

选正确答案:

1. A - II, B - IV, C - I, D - III
2. A - III, B - I, C - IV, D - II
3. A - II, B - I, C - IV, D - III
4. A - III, B - IV, C - II, D - I

[Question ID = 4984][Question Description = 166_32_CHI_SEP22_S2_Q66]

1. 1 [Option ID = 19933]
2. 2 [Option ID = 19934]
3. 3 [Option ID = 19935]
4. 4 [Option ID = 19936]

67)

配对:

List I	List II
A. 放冷箭	I. 比喻挫伤别人的热情或兴致
B. 碰钉子	II. 比喻利用别人的弱点或以某事为借口来讹诈
C. 敲竹杠	III. 比喻遇到挫折或遭到拒绝
D. 泼冷水	IV. 比喻暗中伤人

选正确答案:

1. A - II, B - I, C - IV, D - III
2. A - IV, B - III, C - II, D - I
3. A - I, B - IV, C - II, D - III
4. A - IV, B - III, C - I, D - II

[Question ID = 4985][Question Description = 167_32_CHI_SEP22_S2_Q67]

1. 1 [Option ID = 19937]
2. 2 [Option ID = 19938]
3. 3 [Option ID = 19939]
4. 4 [Option ID = 19940]

68)

配对:

List I	List II
A. 贾谊	I. 建安风骨
B. 班固	II. 辞赋
C. 曹操	III. 史传文学
D. 李斯	IV. 骈体

选正确答案:

1. A - II, B - III, C - I, D - IV
2. A - IV, B - II, C - III, D - I
3. A - IV, B - III, C - I, D - II
4. A - III, B - II, C - IV, D - I

[Question ID = 4986][Question Description = 168_32_CHI_SEP22_S2_Q68]

1. 1 [Option ID = 19941]
2. 2 [Option ID = 19942]
3. 3 [Option ID = 19943]
4. 4 [Option ID = 19944]

69)

配对:

List I	List II
A. 闻一多	I. 《为祖国而歌》
B. 胡风	II. 《死水》
C. 赵树理	III. 《上海的狐步舞》
D. 穆时英	IV. 《小二黑结婚》

选正确答案:

1. A - I, B - II, C - III, D - IV
2. A - II, B - I, C - IV, D - III
3. A - II, B - I, C - III, D - IV
4. A - I, B - II, C - IV, D - III

[Question ID = 4987][Question Description = 169_32_CHI_SEP22_S2_Q69]

1. 1 [Option ID = 19945]
2. 2 [Option ID = 19946]
3. 3 [Option ID = 19947]
4. 4 [Option ID = 19948]

70)

配对:

List I	List II
A. 赣	I. 贵阳
B. 冀	II. 南昌
C. 黔	III. 太原
D. 晋	IV. 石家庄

选正确答案:

1. A - II, B - III, C - IV, D - I
2. A - III, B - I, C - IV, D - II
3. A - IV, B - II, C - I, D - III
4. A - II, B - IV, C - I, D - III

[Question ID = 4988][Question Description = 170_32_CHI_SEP22_S2_Q70]

1. 1 [Option ID = 19949]
2. 2 [Option ID = 19950]
3. 3 [Option ID = 19951]
4. 4 [Option ID = 19952]

71)

配对:

List I	List II
A. 刘邦	I. 三国时期
B. 曹操	II. 西晋
C. 司马炎	III. 北宋
D. 王安石	IV. 西汉

选正确答案:

1. A - II, B - I, C - IV, D - III
2. A - IV, B - I, C - II, D - III
3. A - III, B - II, C - IV, D - I
4. A - IV, B - II, C - I, D - III

[Question ID = 4989][Question Description = 171_32_CHI_SEP22_S2_Q71]

1. 1 [Option ID = 19953]
2. 2 [Option ID = 19954]
3. 3 [Option ID = 19955]
4. 4 [Option ID = 19956]

72)

据印中姐妹城市的关系，配对：

List I	List II
A. 艾哈迈达巴德	I. 广州
B. 班加罗尔	II. 成都
C. 加尔各答	III. 北京
D. 德里	IV. 昆明

选正确答案：

1. A - I, B - II, C - IV, D - III
2. A - II, B - I, C - IV, D - III
3. A - IV, B - I, C - II, D - III
4. A - II, B - IV, C - I, D - III

[Question ID = 4990][Question Description = 172_32_CHI_SEP22_S2_Q72]

1. 1 [Option ID = 19957]
2. 2 [Option ID = 19958]
3. 3 [Option ID = 19959]
4. 4 [Option ID = 19960]

73)

配对：

List I	List II
A. 李彦宏	I. 农夫山泉
B. 钟睺睺	II. 抖音
C. 张一鸣	III. 哔哩哔哩
D. 徐逸	IV. 百度

选正确答案：

1. A - IV, B - I, C - II, D - III
2. A - I, B - IV, C - II, D - III
3. A - IV, B - II, C - I, D - III
4. A - II, B - III, C - IV, D - I

[Question ID = 4991][Question Description = 173_32_CHI_SEP22_S2_Q73]

1. 1 [Option ID = 19961]
2. 2 [Option ID = 19962]
3. 3 [Option ID = 19963]
4. 4 [Option ID = 19964]

74)

配对:

List I	List II
A. 南昌起义	I. 1957年
B. 延安整风运动	II. 1956年
C. 反右运动发起	III. 1927年
D. 三大改造完成	IV. 1942年

选正确答案:

1. A - II, B - IV, C - I, D - III
2. A - IV, B - III, C - I, D - II
3. A - III, B - IV, C - II, D - I
4. A - III, B - IV, C - I, D - II

[Question ID = 4992][Question Description = 174_32_CHI_SEP22_S2_Q74]

1. 1 [Option ID = 19965]
2. 2 [Option ID = 19966]
3. 3 [Option ID = 19967]
4. 4 [Option ID = 19968]

75)

配对:

List I	List II
A. 非典型肺炎	I. MERS
B. 中东呼吸综合征	II. SARS
C. 新型冠状病毒	III. EBOLA
D. 埃博拉	IV. COVID

选正确答案:

1. A - II, B - I, C - IV, D - III
2. A - I, B - II, C - IV, D - III
3. A - IV, B - II, C - I, D - III
4. A - I, B - III, C - IV, D - II

[Question ID = 4993][Question Description = 175_32_CHI_SEP22_S2_Q75]

1. 1 [Option ID = 19969]
2. 2 [Option ID = 19970]
3. 3 [Option ID = 19971]
4. 4 [Option ID = 19972]

76)

按多音字的多少排序下列字，少的在前，多的在后。

A. 朴

B. 接

C. 和

D. 轧

选正确答案：

1. A, D, B, C

2. C, A, D, B

3. B, D, A, C

4. D, B, C, A

[Question ID = 4994][Question Description = 176_32_CHI_SEP22_S2_Q76]

1. 1 [Option ID = 19973]

2. 2 [Option ID = 19974]

3. 3 [Option ID = 19975]

4. 4 [Option ID = 19976]

77)

按照正确逻辑顺序排列下列语句。

A. 都会在语言的词汇中很快地反映出来

B. 社会的变革、科技的发展、人们思维的活跃和观念的更新

C. 突出表现是新词新义新用法的大量出现

D. 词汇是语言中最活跃的因素

选正确答案：

1. D, B, A, C

2. D, B, C, A

3. B, C, D, A

4. B, A, C, D

[Question ID = 4995][Question Description = 177_32_CHI_SEP22_S2_Q77]

1. 1 [Option ID = 19977]

2. 2 [Option ID = 19978]

3. 3 [Option ID = 19979]

4. 4 [Option ID = 19980]

78)

据出现的先后，排序下列诗人：

- A. 韩愈
- B. 元好问
- C. 欧阳修
- D. 杨万里

选正确答案：

- 1. A, C, D, B
- 2. A, D, B, C
- 3. D, A, B, C
- 4. B, C, A, D

[Question ID = 4996][Question Description = 178_32_CHI_SEP22_S2_Q78]

- 1. 1 [Option ID = 19981]
- 2. 2 [Option ID = 19982]
- 3. 3 [Option ID = 19983]
- 4. 4 [Option ID = 19984]

79)

按出版时间（从后到先）排序下列文学作品：

- A. 《骆驼祥子》
- B. 《冲积期化石》
- C. 《家》
- D. 《过去》

选正确答案：

- 1. B, D, C, A
- 2. B, C, A, D
- 3. D, B, C, A
- 4. A, C, D, B



[Question ID = 4997][Question Description = 179_32_CHI_SEP22_S2_Q79]

- 1. 1 [Option ID = 19985]
- 2. 2 [Option ID = 19986]
- 3. 3 [Option ID = 19987]
- 4. 4 [Option ID = 19988]

80)

按下列作家出生的先后，排序：

A. 高行健

B. 王蒙

C. 莫言

D. 余华

选正确答案：

1. B, A, C, D

2. D, B, A, C

3. D, C, B, A

4. B, C, A, D

[Question ID = 4998][Question Description = 180_32_CHI_SEP22_S2_Q80]

1. 1 [Option ID = 19989]

2. 2 [Option ID = 19990]

3. 3 [Option ID = 19991]

4. 4 [Option ID = 19992]

81)

按时期的先后排序以下的人物。

A. 嬴政

B. 林则徐

C. 隋文帝

D. 诸葛亮

选正确答案：

1. A, C, D, B

2. D, A, C, B

3. D, C, A, B

4. A, D, B, C



[Question ID = 4999][Question Description = 181_32_CHI_SEP22_S2_Q81]

1. 1 [Option ID = 19993]

2. 2 [Option ID = 19994]

3. 3 [Option ID = 19995]

4. 4 [Option ID = 19996]

82)

按事件发生的先后，排序：

- A. 马神甫事件
- B. 八国联军侵华
- C. 洋务运动
- D. 火烧圆明园

选正确答案：

- 1. A, C, B, D
- 2. A, D, C, B
- 3. D, C, A, B
- 4. B, C, A, D

[Question ID = 5000][Question Description = 182_32_CHI_SEP22_S2_Q82]

- 1. 1 [Option ID = 19997]
- 2. 2 [Option ID = 19998]
- 3. 3 [Option ID = 19999]
- 4. 4 [Option ID = 20000]

83)

据与中国边界线长度的大小，排序下列印度邦：

- A. 喜马拉雅尔
- B. 阿鲁纳恰尔邦
- C. 北阿坎德
- D. 锡金

选正确答案：

- 1. A, B, C, D
- 2. B, C, D, A
- 3. C, B, A, D
- 4. C, A, B, D



[Question ID = 5001][Question Description = 183_32_CHI_SEP22_S2_Q83]

- 1. 1 [Option ID = 20001]
- 2. 2 [Option ID = 20002]
- 3. 3 [Option ID = 20003]
- 4. 4 [Option ID = 20004]

84)

按下列高速铁路的先后通车运营，排序：

- A. 京沪高铁
- B. 沪宁城际铁路
- C. 京津城际铁路
- D. 武广高铁

选正确答案：

- 1. A, C, D, B
- 2. A, C, B, D
- 3. C, A, B, D
- 4. C, D, B, A

[Question ID = 5002][Question Description = 184_32_CHI_SEP22_S2_Q84]

- 1. 1 [Option ID = 20005]
- 2. 2 [Option ID = 20006]
- 3. 3 [Option ID = 20007]
- 4. 4 [Option ID = 20008]

85)

按照下列战争结束的先后排序：

- A. 中印边界战争
- B. 卡吉尔战争
- C. 海湾战争
- D. 中越战争

选正确答案：

- 1. A, B, D, C
- 2. A, C, D, B
- 3. A, D, C, B
- 4. B, C, A, D



[Question ID = 5003][Question Description = 185_32_CHI_SEP22_S2_Q85]

- 1. 1 [Option ID = 20009]
- 2. 2 [Option ID = 20010]
- 3. 3 [Option ID = 20011]
- 4. 4 [Option ID = 20012]

86)

下列提到两个语句，一个是观点 (A)，另一个是说明 (R)

观点 (A)：汉语的助词是由一些功能很不相同的虚词组成的，但有共同的特点，可以分为三类：结构助词、动态助词和语气助词。

说明 (R)：“的”、“得”和“地”分别是结构助词、动态助词和语气助词。

选正确答案：

1. A 与 R 都正确，并 R 是 A 的正确解释
2. A 与 R 都正确，但 R 不是 A 的正确解释
3. A 正确，但 R 不正确
4. A 不正确，但 R 正确

[Question ID = 5004][Question Description = 186_32_CHI_SEP22_S2_Q86]

1. 1 [Option ID = 20013]
2. 2 [Option ID = 20014]
3. 3 [Option ID = 20015]
4. 4 [Option ID = 20016]

87)

下列提到两个语句，一个是观点 (A)，另一个是说明 (R)

观点 (A)：学不可以已。青，取之于蓝，而青于蓝；冰，水为之，而寒于水。

说明 (R)：只要不断获得知识，后人就能够超过前人，取得进步发展。

选正确答案：

1. A 与 R 都正确，并 R 是 A 的正确解释
2. A 与 R 都正确，但 R 不是 A 的正确解释
3. A 正确，但 R 不正确
4. A 不正确，但 R 正确

[Question ID = 5005][Question Description = 187_32_CHI_SEP22_S2_Q87]

1. 1 [Option ID = 20017]
2. 2 [Option ID = 20018]
3. 3 [Option ID = 20019]
4. 4 [Option ID = 20020]

88)

下列提到两个观点：

观点 (I)：《阿Q正传》是鲁迅的代表小说之一。

观点 (II)：作为一位现代主义作家，鲁迅善于用严格的写实方法塑造人物。

选正确答案：

1. 观点 I 与 观点 II 都正确
2. 观点 I 与 观点 II 都不正确
3. 观点 I 正确，但观点 II 不正确
4. 观点 I 不正确，但观点 II 正确

[Question ID = 5006][Question Description = 188_32_CHI_SEP22_S2_Q88]

1. 1 [Option ID = 20021]
2. 2 [Option ID = 20022]
3. 3 [Option ID = 20023]
4. 4 [Option ID = 20024]

89)

下列提到两个语句，一个是观点 (A)，另一个是说明 (R)

观点 (A)：中国古代祭祀活动中都有巫舞、傩舞。

说明 (R)：百戏中有动物形象的舞蹈，表演者都面戴“假头”来扮演动物。

选正确答案：

1. A 与 R 都正确，并 R 是 A 的正确解释
2. A 与 R 都正确，但 R 不是 A 的正确解释
3. A 正确，但 R 不正确
4. A 不正确，但 R 正确

[Question ID = 5007][Question Description = 189_32_CHI_SEP22_S2_Q89]

1. 1 [Option ID = 20025]
2. 2 [Option ID = 20026]
3. 3 [Option ID = 20027]
4. 4 [Option ID = 20028]

90)

下列提到两个观点

观点 (I)：1915年陈独秀创办《新青年》以大量刊发抨击袁世凯尊孔复古的文章。

观点 (II)：这标志着新文化运动的开始。

选正确答案：

1. (I) 与 (II) 两个都正确
2. (I) 与 (II) 两个都不正确
3. (I) 正确，但 (II) 不正确
4. (I) 不正确，但 (II) 正确

[Question ID = 5008][Question Description = 190_32_CHI_SEP22_S2_Q90]

1. 1 [Option ID = 20029]
2. 2 [Option ID = 20030]
3. 3 [Option ID = 20031]
4. 4 [Option ID = 20032]

Topic:- 032_PARTB_S2

1) 中国人有崇拜汉字的传统，即便到今天，这传统并没完全消失。汉字是世界文明史上的老寿星，它至少有五千多年的历史。早在商代之前，中国就有成熟的文字系统，我们通过商代的甲骨文——一种刻在龟甲和动物骨骼上的镌刻文字——可以了解那个时代的生活。世界上早期的文字主要有三种：苏美尔和巴比伦人的楔形文字、埃及人的图画文字以及汉字，这三种文字系统都是象形文字。如今前两种文字早已被拼音文字所取代，只有汉字还在使用。汉字伴随着中国文明发展的步子，不仅为使用它的人提供交流思想的工具，而且很多汉字还浓缩了中国人的人生体验，包含中国人对社会人生的看法。这样一种符号受到人们的重视是很自然的事。

在中国人的日常生活中，你会听到这样的话：“与人交往要讲信用，人言为信嘛！”说这话的根据就在汉字中。汉字的“信”，左为“人”，右为“言”。汉字就是这么写的，难道你还不遵守吗？言下之意，汉字具有一种说服人的力量。又如，中国古代就有“止戈为武”的说法，“武”指的是战争，“止戈”就是不用武器。这也是由“武”这个汉字引出来的意思：战争是为了消灭战争；不战才是战争的根本目的。

“汉字是世界文明史上的老寿星”，“老寿星”的意思是_____。

1. 对高手人的尊称
2. 是中国文化的救星
3. 是中国文明的象征
4. 对成熟文字系统的叫法

[Question ID = 5019][Question Description = 191_32_CHI_SEP22_S2_Q91]

1. 1 [Option ID = 20073]
2. 2 [Option ID = 20074]
3. 3 [Option ID = 20075]

4. 4 [Option ID = 20076]

- 2) 中国人有崇拜汉字的传统，即便到今天，这传统并没完全消失。汉字是世界文明史上的老寿星，它至少有五千多年的历史。早在商代之前，中国就有成熟的文字系统，我们通过商代的甲骨文——一种刻在龟甲和动物骨骼上的镌刻文字——可以了解那个时代的生活。世界上早期的文字主要有三种：苏美尔和巴比伦人的楔形文字、埃及人的图画文字以及汉字，这三种文字系统都是象形文字。如今前两种文字早已被拼音文字所取代，只有汉字还在使用。汉字伴随着中国文明发展的步子，不仅为使用它的人提供交流思想的工具，而且很多汉字还浓缩了中国人的人生体验，包含中国人对社会人生的看法。这样一种符号受到人们的重视是很自然的事。

在中国人的日常生活中，你会听到这样的话：“与人交往要讲信用，人言为信嘛！”说这话的根据就在汉字中。汉字的“信”，左为“人”，右为“言”。汉字就是这么写的，难道你还不遵守吗？言下之意，汉字具有一种说服人的力量。又如，中国古代就有“止戈为武”的说法，“武”指的是战争，“止戈”就是不用武器，这也是由“武”这个汉字引出来的意思：战争是为了消灭战争；不战才是战争的根本目的。

“楔形文字”的英文翻译是：

1. Hieroglyph
2. Cyrillic Script
3. Cuneiform Script
4. Ideogram

[Question ID = 5020][Question Description = 192_32_CHI_SEP22_S2_Q92]

1. 1 [Option ID = 20077]
2. 2 [Option ID = 20078]
3. 3 [Option ID = 20079]
4. 4 [Option ID = 20080]

- 3) 中国人有崇拜汉字的传统，即便到今天，这传统并没完全消失。汉字是世界文明史上的老寿星，它至少有五千多年的历史。早在商代之前，中国就有成熟的文字系统，我们通过商代的甲骨文——一种刻在龟甲和动物骨骼上的镌刻文字——可以了解那个时代的生活。世界上早期的文字主要有三种：苏美尔和巴比伦人的楔形文字、埃及人的图画文字以及汉字，这三种文字系统都是象形文字。如今前两种文字早已被拼音文字所取代，只有汉字还在使用。汉字伴随着中国文明发展的步子，不仅为使用它的人提供交流思想的工具，而且很多汉字还浓缩了中国人的人生体验，包含中国人对社会人生的看法。这样一种符号受到人们的重视是很自然的事。

在中国人的日常生活中，你会听到这样的话：“与人交往要讲信用，人言为信嘛！”说这话的根据就在汉字中。汉字的“信”，左为“人”，右为“言”。汉字就是这么写的，难道你还不遵守吗？言下之意，汉字具有一种说服人的力量。又如，中国古代就有“止戈为武”的说法，“武”指的是战争，“止戈”就是不用武器，这也是由“武”这个汉字引出来的意思：战争是为了消灭战争；不战才是战争的根本目的。

下列提到两个语句，一个是观点 (A)，另一个是说明 (R)

观点 (A)：苏美尔和巴比伦人的楔形文字、埃及人的图画文字以及汉字是世界上早期的文字。

说明 (R)：目前人们以汉字为拼音使用。

选正确答案：

1. A 与 R 都正确，并 R 是 A 的正确解释
2. A 与 R 都正确，但 R 不是 A 的正确解释
3. A 正确，但 R 不正确
4. A 不正确，但 R 正确

[Question ID = 5021][Question Description = 193_32_CHI_SEP22_S2_Q93]

1. 1 [Option ID = 20081]
2. 2 [Option ID = 20082]
3. 3 [Option ID = 20083]
4. 4 [Option ID = 20084]

- 4) 中国人有崇拜汉字的传统，即便到今天，这传统并没完全消失。汉字是世界文明史上的老寿星，它至少有五千多年的历史。早在商代之前，中国就有成熟的文字系统，我们通过商代的甲骨文——一种刻在龟甲和动物骨骼上的模刻文字——可以了解那个时代的生活。世界上早期的文字主要有三种：苏美尔和巴比伦人的楔形文字、埃及人的图画文字以及汉字，这三种文字系统都是象形文字。如今前两种文字早已被拼音文字所取代，只有汉字还在使用。汉字伴随着中国文明发展的步子，不仅为使用它的人提供交流思想的工具，而且很多汉字还浓缩了中国人的人生体验，包含中国人对社会人生的看法。这样一种符号受到人们的重视是很自然的事。

在中国人的日常生活中，你会听到这样的话：“与人交往要讲信用，人言为信嘛！”说这话的根据就在汉字中。汉字的“信”，左为“人”，右为“言”，汉字就是这么写的，难道你还不遵守吗？言下之意，汉字具有一种说服人的力量。又如，中国古代就有“止戈为武”的说法，“武”指的是战争，“止戈”就是不用武器，这也是由“武”这个汉字引出来的意思：战争是为了消灭战争；不战才是战争的根本目的。

当前被拼音文字所取代的是：

- A. 模刻字
- B. 图画字
- C. 楔形字
- D. 象形字

选正确答案：

- 1. 只是 A 与 D
- 2. 只是 B 与 C
- 3. 只是 B 与 D
- 4. 只是 A 与 C

[Question ID = 5022][Question Description = 194_32_CHI_SEP22_S2_Q94]

- 1. 1 [Option ID = 20085]
- 2. 2 [Option ID = 20086]
- 3. 3 [Option ID = 20087]
- 4. 4 [Option ID = 20088]

- 5) 中国人有崇拜汉字的传统，即便到今天，这传统并没完全消失。汉字是世界文明史上的老寿星，它至少有五千多年的历史。早在商代之前，中国就有成熟的文字系统，我们通过商代的甲骨文——一种刻在龟甲和动物骨骼上的模刻文字——可以了解那个时代的生活。世界上早期的文字主要有三种：苏美尔和巴比伦人的楔形文字、埃及人的图画文字以及汉字，这三种文字系统都是象形文字。如今前两种文字早已被拼音文字所取代，只有汉字还在使用。汉字伴随着中国文明发展的步子，不仅为使用它的人提供交流思想的工具，而且很多汉字还浓缩了中国人的人生体验，包含中国人对社会人生的看法。这样一种符号受到人们的重视是很自然的事。

在中国人的日常生活中，你会听到这样的话：“与人交往要讲信用，人言为信嘛！”说这话的根据就在汉字中。汉字的“信”，左为“人”，右为“言”，汉字就是这么写的，难道你还不遵守吗？言下之意，汉字具有一种说服人的力量。又如，中国古代就有“止戈为武”的说法，“武”指的是战争，“止戈”就是不用武器，这也是由“武”这个汉字引出来的意思：战争是为了消灭战争；不战才是战争的根本目的。

“止戈为武”中的“戈”是个_____。

- 1. 指事字
- 2. 会意字
- 3. 转注字
- 4. 象形字

[Question ID = 5023][Question Description = 195_32_CHI_SEP22_S2_Q95]

- 1. 1 [Option ID = 20089]
- 2. 2 [Option ID = 20090]
- 3. 3 [Option ID = 20091]
- 4. 4 [Option ID = 20092]

Topic: - 032_PARTC_S2

1)

印度佛教传入中国后，与中国的传统文化相融合，使中国的信仰与习俗产生了新的变化。佛教的因果报应、人生轮回、行善积德、不杀生、阎王、西天等，直到今天仍在民间起作用。

随着佛教的流传，有些佛教神祇也被中国化，如观音菩萨，传入中国后，其形象不断丰富，后来还出现了千手千眼观音及各种名目的观音。又如阎王，在印度佛教里主管地狱，传入中国后还增加了十八层地狱的观念，“见阎王”成了“死”的代名词。有些中国神祇也被佛教化，如关公，人们把他与佛教联系起来，使关帝崇拜更加盛行。此外，有些印度佛教的节庆也传到中国，如观音会、浴佛节、盂兰节等。还有一些习俗，如火葬、浅葬等等，都与佛教有关。

中印两国佛教艺术发达，但中国佛教艺术的发展，曾受印度影响。印度的阿旃陀石窟有许多古老精美的壁画，中国的敦煌千佛洞里也有许多优美的壁画。这两处石窟都是为佛教而修建的，绘画的内容也都以佛教故事为题材，画的风格也有许多相似之处。从中可以看出，中国的绘画艺术曾受到印度的一些影响。

中国的塔、寺建造，起源于佛教。建塔造寺包含建筑艺术、雕像艺术，它们随着佛教的传播而传入中国。公元四至六世纪的南北朝时期，全国到处涌现出壮丽的塔寺建筑，敦煌、云冈和龙门等石窟，都是中国雕塑艺术的宝库。

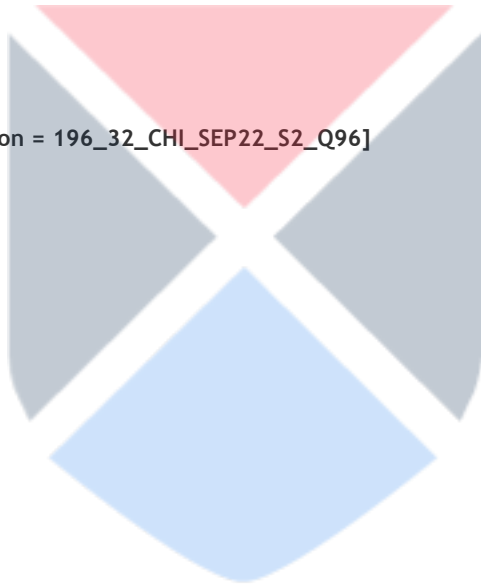
除了语音和词汇的影响外，在唐代兴起的文学体裁传奇、变文，以及宋元以后的说唱文学，甚至中国戏曲的发展，或多或少都受到古印度寓言故事和佛教文化的影响。中国敦煌石窟的藏经洞中曾发现大量的变文，这些变文多半演唱佛教故事，其内容有些取材于佛经，如鸠摩罗什译的《维摩诘经》、《阿弥陀经》等，有些则取材于中国古代故事，如王昭君、孟姜女等故事。而佛理对中国文人的影响也很大，因此某些作品中不难发现禅意十足。

什么使中国信仰与习俗产生变化?

1. 中国的传统文化
2. 印度佛教
3. 中国传统文化与信仰习俗的融合
4. 中国传统文化与佛教的融合

[Question ID = 5024][Question Description = 196_32_CHI_SEP22_S2_Q96]

1. 1 [Option ID = 20093]
2. 2 [Option ID = 20094]
3. 3 [Option ID = 20095]
4. 4 [Option ID = 20096]



2)

印度佛教传入中国后，与中国的传统文化相融合，使中国的信仰与习俗产生了新的变化。佛教的因果报应、人生轮回、行善积德、不杀生、阎王、西天等，直到今天仍在民间起作用。

随着佛教的流传，有些佛教神祇也被中国化，如观音菩萨，传入中国后，其形象不断丰富，后来还出现了千手千眼观音及各种名目的观音。又如阎王，在印度佛教里主管地狱，传入中国后还增加了十八层地狱的观念，“见阎王”成了“死”的代名词。有些中国神祇也被佛教化，如关公，人们把他与佛教联系起来，使关帝崇拜更加盛行。此外，有些印度佛教的节庆也传到中国，如观音会、浴佛节、盂兰节等。还有一些习俗，如火葬、浅葬等等，都与佛教有关。

中印两国佛教艺术发达，但中国佛教艺术的发展，曾受印度影响。印度的阿旃陀石窟有许多古老精美的壁画，中国的敦煌千佛洞里也有许多优美的壁画。这两处石窟都是为佛教而修建的，绘画的内容也都以佛教故事为题材，画的风格也有许多相似之处。从中可以看出，中国的绘画艺术曾受到印度的一些影响。

中国的塔、寺建造，起源于佛教。建塔造寺包含建筑艺术、雕像艺术，它们随着佛教的传播而传入中国。公元四至六世纪的南北朝时期，全国到处涌现出壮丽的塔寺建筑，敦煌、云冈和龙门等石窟，都是中国雕塑艺术的宝库。

除了语音和词汇的影响外，在唐代兴起的文学体裁传奇、变文，以及宋元以后的说唱文学，甚至中国戏曲的发展，或多或少都受到古印度寓言故事和佛教文化的影响。中国敦煌石窟的藏经洞中曾发现大量的变文，这些变文多半演唱佛教故事，其内容有些取材于佛经，如鸠摩罗什译的《维摩诘经》、《阿弥陀经》等，有些则取材于中国古代故事，如王昭君、孟姜女等故事。而佛理对中国文人的影响也很大，因此某些作品中不难发现禅意十足。

佛教传入中国后哪些神祇被中国化了？

- A. 关公
- B. 观音
- C. 阎王
- D. 关帝

选正确答案：

- 1. 只是 A 与 B
- 2. 只是 B 与 C
- 3. 只是 C 与 D
- 4. 只是 A 与 D



[Question ID = 5025][Question Description = 197_32_CHI_SEP22_S2_Q97]

- 1. 1 [Option ID = 20097]
- 2. 2 [Option ID = 20098]
- 3. 3 [Option ID = 20099]
- 4. 4 [Option ID = 20100]

3)

印度佛教传入中国后，与中国的传统文化相融合，使中国的信仰与习俗产生了新的变化。佛教的因果报应、人生轮回、行善积德、不杀生、阎王、西天等，直到今天仍在民间起作用。

随着佛教的流传，有些佛教神祇也被中国化，如观音菩萨，传入中国后，其形象不断丰富，后来还出现了千手千眼观音及各种名目的观音。又如阎王，在印度佛教里主管地狱，传入中国后还增加了十八层地狱的观念，“见阎王”成了“死”的代名词。有些中国神祇也被佛教化，如关公，人们把他与佛教联系起来，便关帝崇拜更加盛行。此外，有些印度佛教的节庆也传到中国，如观音会、浴佛节、盂兰节等。还有一些习俗，如火葬、浅葬等等，都与佛教有关。

中印两国佛教艺术发达，但中国佛教艺术的发展，曾受印度影响。印度的阿旃陀石窟里有许多古老精美的壁画，中国的敦煌千佛洞里也有许多优美的壁画。这两处石窟都是为佛教而修建的，绘画的内容也都以佛教故事为题材，画的风格也有许多相似之处。从中可以看出，中国的绘画艺术曾受到印度的一些影响。

中国的塔、寺建造，起源于佛教。建塔造寺包含建筑艺术、雕像艺术，它们随着佛教的传播而传入中国。公元四至六世纪的南北朝时期，全国到处涌现出壮丽的塔寺建筑，敦煌、云冈和龙门等石窟，都是中国雕塑艺术的宝库。

除了语音和词汇的影响外，在唐代兴起的文学体裁传奇、变文，以及宋元以后的说唱文学，甚至中国戏曲的发展，或多或少都受到古印度寓言故事和佛教文化的影响。中国敦煌石窟的藏经洞中曾发现大量的变文，这些变文多半演唱佛教故事，其内容有些取材于佛经，如鸠摩罗什译的《维摩诘经》、《阿弥陀经》等，有些则取材于中国古代故事，如王昭君、孟姜女等故事。而佛理对中国文人的影响也很大，因此某些作品中不难发现禅意十足。

印度的哪个石窟有佛教绘画？

1. 敦煌
2. 阿旃陀
3. 龙门
4. 云冈

[Question ID = 5026][Question Description = 198_32_CHI_SEP22_S2_Q98]

1. 1 [Option ID = 20101]
2. 2 [Option ID = 20102]
3. 3 [Option ID = 20103]
4. 4 [Option ID = 20104]

4)

印度佛教传入中国后，与中国的传统文化相融合，使中国的信仰与习俗产生了新的变化。佛教的因果报应、人生轮回、行善积德、不杀生、阎王、西天等，直到今天仍在民间起作用。

随着佛教的流传，有些佛教神祇也被中国化，如观音菩萨，传入中国后，其形象不断丰富，后来还出现了千手千眼观音及各种名目的观音。又如阎王，在印度佛教里主管地狱，传入中国后还增加了十八层地狱的观念，“见阎王”成了“死”的代名词。有些中国神祇也被佛教化，如关公，人们把他与佛教联系起来，便关帝崇拜更加盛行。此外，有些印度佛教的节庆也传到中国，如观音会、浴佛节、盂兰节等。还有一些习俗，如火葬、浅葬等等，都与佛教有关。

中印两国佛教艺术发达，但中国佛教艺术的发展，曾受印度影响。印度的阿旃陀石窟里有许多古老精美的壁画，中国的敦煌千佛洞里也有许多优美的壁画。这两处石窟都是为佛教而修建的，绘画的内容也都以佛教故事为题材，画的风格也有许多相似之处。从中可以看出，中国的绘画艺术曾受到印度的一些影响。

中国的塔、寺建造，起源于佛教。建塔造寺包含建筑艺术、雕像艺术，它们随着佛教的传播而传入中国。公元四至六世纪的南北朝时期，全国到处涌现出壮丽的塔寺建筑，敦煌、云冈和龙门等石窟，都是中国雕塑艺术的宝库。

除了语音和词汇的影响外，在唐代兴起的文学体裁传奇、变文，以及宋元以后的说唱文学，甚至中国戏曲的发展，或多或少都受到古印度寓言故事和佛教文化的影响。中国敦煌石窟的藏经洞中曾发现大量的变文，这些变文多半演唱佛教故事，其内容有些取材于佛经，如鸠摩罗什译的《维摩诘经》、《阿弥陀经》等，有些则取材于中国古代故事，如王昭君、孟姜女等故事。而佛理对中国文人的影响也很大，因此某些作品中不难发现禅意十足。

中国哪里发现了大量的说唱佛教故事的变文？

1. 藏经洞
2. 千佛洞
3. 龙门石窟
4. 阿旃陀石窟

[Question ID = 5027][Question Description = 199_32_CHI_SEP22_S2_Q99]

1. 1 [Option ID = 20105]
2. 2 [Option ID = 20106]
3. 3 [Option ID = 20107]

4. 4 [Option ID = 20108]

5)

印度佛教传入中国后，与中国的传统文化相融合，使中国的信仰与习俗产生了新的变化。佛教的因果报应、人生轮回、行善积德、不杀生、阎王、西天等，直到今天仍在民间起作用。

随着佛教的流传，有些佛教神祇也被中国化，如观音菩萨，传入中国后，其形象不断丰富，后来还出现了千手千眼观音及各种名目的观音。又如阎王，在印度佛教里主管地狱，传入中国后还增加了十八层地狱的观念，“见阎王”成了“死”的代名词。有些中国神祇也被佛教化，如关公，人们把他与佛教联系起来，便关帝崇拜更加盛行。此外，有些印度佛教的节庆也传到中国，如观音会、浴佛节、盂兰节等。还有一些习俗，如火葬、浅葬等等，都与佛教有关。

中印两国佛教艺术发达，但中国佛教艺术的发展，曾受印度影响。印度的阿旃陀石窟里有许多古老精美的壁画，中国的敦煌千佛洞里也有许多优美的壁画。这两处石窟都是为佛教而修建的，绘画的内容也都以佛教故事为题材，画的风格也有许多相似之处。从中可以看出，中国的绘画艺术曾受到印度的一些影响。

中国的塔、寺建造，起源于佛教。建塔造寺包含建筑艺术、雕塑艺术，它们随着佛教的传播而传入中国。公元四至六世纪的南北朝时期，全国到处涌现出壮丽的塔寺建筑，敦煌、云冈和龙门等石窟，都是中国雕塑艺术的宝库。

除了语音和词汇的影响外，在唐代兴起的文学体裁传奇、变文，以及宋元以后的说唱文学，甚至中国戏曲的发展，或多或少都受到古印度寓言故事和佛教文化的影响。中国敦煌石窟的藏经洞中曾发现大量的变文，这些变文多半演唱佛教故事，其内容有些取材于佛经，如鸠摩罗什译的《维摩诘经》、《阿弥陀经》等，有些则取材于中国古代故事，如王昭君、孟姜女等故事。而佛理对中国文人的影响也很大，因此某些作品中不难发现禅意十足。

佛教传入中国后成为中国社会的重要部分，因为_____。

1. 佛法很简单
2. 印度佛教跟中国文化没有冲突
3. 印度佛教被中国化
4. 中国僧侣催促了皇帝

[Question ID = 5028][Question Description = 200_32_CHI_SEPT22_S2_Q100]

1. 1 [Option ID = 20109]
2. 2 [Option ID = 20110]
3. 3 [Option ID = 20111]
4. 4 [Option ID = 20112]

Topic:- 22 GP_29SEPT22_SH1_S2_A

1)

Based on the data in the table, answer the five questions that follow

The following table gives the sale figures of five different types of batteries (in thousands) sold by a company during the years 2015 to 2021.

Year-wise Sale of Batteries

Year	Types Of Batteries Sold (in thousands)				
	4AH	7AH	32AH	35AH	55AH
2015	75	144	114	102	108
2016	90	126	102	84	126
2017	96	114	75	105	135
2018	105	90	150	90	75
2019	90	75	135	75	90
2020	105	60	165	45	120
2021	115	85	160	100	145

What was the approximate percentage increase in the sales of 55AH batteries in 2021 compared to that in 2015?

1. 28 %
2. 31 %
3. 33 %
4. 34 %

निम्नलिखित तालिका में वर्ष 2015 से 2021 तक के दौरान एक कंपनी द्वारा बिक्री की गई विभिन्न प्रकार की बैटरियों (हजार में) के बिक्री - आंकड़े दिए गए हैं। इस तालिका के आंकड़ों के आधार पर पांच प्रश्नों के उत्तर दीजिए :

बैटरियों की वर्ष - वार बिक्री :

वर्ष	बिक्री की गई बैटरियों के प्रकार (हजार में)				
	4 ए एच	7 ए एच	32 ए एच	35 ए एच	55 ए एच
2015	75	144	114	102	108
2016	90	126	102	84	126
2017	96	114	75	105	135
2018	105	90	150	90	75
2019	90	75	135	75	90
2020	105	60	165	45	120
2021	115	85	160	100	145

2015 की तुलना में 2021 में 55 ए एच बैटरियों की बिक्री में लगभग प्रतिशत वृद्धि क्या थी ?

1. 28 %
2. 31 %
3. 33 %
4. 34 %

[Question ID = 4374][Question Description = 101_81_GP6_SEP22_S2_Q01]

1. 1 [Option ID = 17493]
2. 2 [Option ID = 17494]
3. 3 [Option ID = 17495]

4. 4 [Option ID = 17496]

2)

Based on the data in the table, answer the five questions that follow

The following table gives the sale figures of five different types of batteries (in thousands) sold by a company during the years 2015 to 2021.

Year-wise Sale of Batteries

Year	Types Of Batteries Sold (in thousands)				
	4AH	7AH	32AH	35AH	55AH
2015	75	144	114	102	108
2016	90	126	102	84	126
2017	96	114	75	105	135
2018	105	90	150	90	75
2019	90	75	135	75	90
2020	105	60	165	45	120
2021	115	85	160	100	145

The total sales of all the seven years is maximum for which type of battery?

1. 4AH
2. 7AH
3. 32AH
4. 35AH

निम्नलिखित तालिका में वर्ष 2015 से 2021 तक के दौरान एक कंपनी द्वारा बिक्री की गई विभिन्न प्रकार की बैटरियों (हजार में) के बिक्री - आंकड़े दिए गए हैं। इस तालिका के आंकड़ों के आधार पर पांच प्रश्नों के उत्तर दीजिए :

बैटरियों की वर्ष - वार बिक्री :

वर्ष	बिक्री की गई बैटरियों के प्रकार (हजार में)				
	4 ए एच	7 ए एच	32 ए एच	35 ए एच	55 ए एच
2015	75	144	114	102	108
2016	90	126	102	84	126
2017	96	114	75	105	135
2018	105	90	150	90	75
2019	90	75	135	75	90
2020	105	60	165	45	120
2021	115	85	160	100	145

इन सभी सात वर्षों में किस प्रकार की बैटरी की कुल बिक्री सर्वाधिक थी ?

1. 4 ए एच
2. 7 ए एच
3. 32 ए एच
4. 35 ए एच

[Question ID = 4375][Question Description = 102_81_GP6_SEP22_S2_Q02]

1. 1 [Option ID = 17497]
2. 2 [Option ID = 17498]

3. 3 [Option ID = 17499]
 4. 4 [Option ID = 17500]

3) **Based on the data in the table, answer the five questions that follow**

The following table gives the sale figures of five different types of batteries (in thousands) sold by a company during the years 2015 to 2021.

Year-wise Sale of Batteries

Year	Types Of Batteries Sold (in thousands)				
	4AH	7AH	32AH	35AH	55AH
2015	75	144	114	102	108
2016	90	126	102	84	126
2017	96	114	75	105	135
2018	105	90	150	90	75
2019	90	75	135	75	90
2020	105	60	165	45	120
2021	115	85	160	100	145

What is the difference in the number of 35AH batteries sold in 2016 and 2020?

1. 24000
2. 28000
3. 35000
4. 39000

निम्नलिखित तालिका में वर्ष 2015 से 2021 तक के दौरान एक कंपनी द्वारा बिक्री की गई विभिन्न प्रकार की बैटरियों (हजार में) के बिक्री - आंकड़े दिए गए हैं। इस तालिका के आंकड़ों के आधार पर पांच प्रश्नों के उत्तर दीजिए :

बैटरियों की वर्ष - वार बिक्री :

वर्ष	बिक्री की गई बैटरियों के प्रकार (हजार में)				
	4 ए एच	7 ए एच	32 ए एच	35 ए एच	55 ए एच
2015	75	144	114	102	108
2016	90	126	102	84	126
2017	96	114	75	105	135
2018	105	90	150	90	75
2019	90	75	135	75	90
2020	105	60	165	45	120
2021	115	85	160	100	145

वर्ष 2016 और 2020 में 35 ए एच बैटरियों की बिक्री संख्या में क्या अंतर है ?

1. 24000
2. 28000
3. 35000
4. 39000

[Question ID = 4376][Question Description = 103_81_GP6_SEP22_S2_Q03]

1. 1 [Option ID = 17501]

2. 2 [Option ID = 17502]
3. 3 [Option ID = 17503]
4. 4 [Option ID = 17504]

4) **Based on the data in the table, answer the five questions that follow**

The following table gives the sale figures of five different types of batteries (in thousands) sold by a company during the years 2015 to 2021.

Year-wise Sale of Batteries

Year	Types Of Batteries Sold (in thousands)				
	4AH	7AH	32AH	35AH	55AH
2015	75	144	114	102	108
2016	90	126	102	84	126
2017	96	114	75	105	135
2018	105	90	150	90	75
2019	90	75	135	75	90
2020	105	60	165	45	120
2021	115	85	160	100	145

The percentage of 4AH batteries sold in a given year to the total number of batteries sold in that same year was maximum in the year:

1. 2017
2. 2018
3. 2019
4. 2020

निम्नलिखित तालिका में वर्ष 2015 से 2021 तक के दौरान एक कंपनी द्वारा बिक्री की गई विभिन्न प्रकार की बैटरियों (हजार में) के बिक्री - आंकड़े दिए गए हैं। इस तालिका के आंकड़ों के आधार पर पांच प्रश्नों के उत्तर दीजिए :

बैटरियों की वर्ष - वार बिक्री :

वर्ष	बिक्री की गई बैटरियों के प्रकार (हजार में)				
	4 ए एच	7 ए एच	32 ए एच	35 ए एच	55 ए एच
2015	75	144	114	102	108
2016	90	126	102	84	126
2017	96	114	75	105	135
2018	105	90	150	90	75
2019	90	75	135	75	90
2020	105	60	165	45	120
2021	115	85	160	100	145

किसी दिए गए वर्ष में बैटरियों की बिक्री की कुल संख्या के साथ उसी वर्ष में बिक्री की गयी 4 ए एच बैटरियों का प्रतिशत किस वर्ष अधिक था ?

1. 2017
2. 2018
3. 2019
4. 2020

[Question ID = 4377][Question Description = 104_81_GP6_SEP22_S2_Q04]

1. 1 [Option ID = 17505]
2. 2 [Option ID = 17506]
3. 3 [Option ID = 17507]
4. 4 [Option ID = 17508]

5)

Based on the data in the table, answer the five questions that follow

The following table gives the sale figures of five different types of batteries (in thousands) sold by a company during the years 2015 to 2021.

Year-wise Sale of Batteries

Year	Types Of Batteries Sold (in thousands)				
	4AH	7AH	32AH	35AH	55AH
2015	75	144	114	102	108
2016	90	126	102	84	126
2017	96	114	75	105	135
2018	105	90	150	90	75
2019	90	75	135	75	90
2020	105	60	165	45	120
2021	115	85	160	100	145

In case of which type of battery there was a continuous decrease in sales from 2015 to 2020?

1. 4AH
2. 7AH
3. 32AH
4. 35AH

निम्नलिखित तालिका में वर्ष 2015 से 2021 तक के दौरान एक कंपनी द्वारा बिक्री की गई विभिन्न प्रकार की बैटरियों (हजार में) के बिक्री - आंकड़े दिए गए हैं। इस तालिका के आंकड़ों के आधार पर पांच प्रश्नों के उत्तर दीजिए :

बैटरियों की वर्ष - वार बिक्री :

वर्ष	बिक्री की गई बैटरियों के प्रकार (हजार में)				
	4 ए एच	7 ए एच	32 ए एच	35 ए एच	55 ए एच
2015	75	144	114	102	108
2016	90	126	102	84	126
2017	96	114	75	105	135
2018	105	90	150	90	75
2019	90	75	135	75	90
2020	105	60	165	45	120
2021	115	85	160	100	145

वर्ष 2015 से 2020 तक किस प्रकार की बैटरी की बिक्री में निरंतर गिरावट हुयी ?

1. 4 ए एच
2. 7 ए एच
3. 32 ए एच
4. 35 ए एच

[Question ID = 4378][Question Description = 105_81_GP6_SEP22_S2_Q05]

1. 1 [Option ID = 17509]
2. 2 [Option ID = 17510]
3. 3 [Option ID = 17511]
4. 4 [Option ID = 17512]

Topic: - 22 GP_29SEPT22_SH1_S2_B

1) Which scheme of Ministry of Education, Government of India, uses Artificial Intelligence to make learning more personalised and customised, as per requirements of the learners?

1. NEAT
2. NEET
3. SWAYAM
4. SWAYAM PRABHA

शिक्षा मंत्रालय, भारत सरकार की कौन सी योजना शिक्षार्थियों की आवश्यकताओं के अनुसार अधिगम को अधिक वैयक्तिक और विद्यार्थी अनुकूल बनाने के लिए कृत्रिम बुद्धिमत्ता का प्रयोग करती है ?

1. एन ई ए टी
2. एन ई ई टी
3. स्वयम (SWAYAM)
4. स्वयम प्रभा (SWAYAMPBABHA)

[Question ID = 4379][Question Description = 106_81_GP6_SEP22_S2_Q06]

1. 1 [Option ID = 17513]
2. 2 [Option ID = 17514]
3. 3 [Option ID = 17515]
4. 4 [Option ID = 17516]

2) Upon completion of academic programmes (Graduation), what outcomes should the students have attained?

1. Programme Education Objectives/ Programme outcomes
2. Lesson outcomes
3. Course outcomes
4. Unit/Chapter outcomes

अकादमिक कार्यक्रमों (स्नातक) के पूरा होने पर, विद्यार्थियों को क्या परिणाम प्राप्त होने चाहिए ?

1. कार्यक्रम शिक्षा उद्देश्य / कार्यक्रम परिणाम
2. पाठ परिणाम
3. पाठ्यक्रम परिणाम
4. यूनिट/ अध्याय परिणाम

[Question ID = 4380][Question Description = 107_81_GP6_SEP22_S2_Q07]

1. 1 [Option ID = 17517]
2. 2 [Option ID = 17518]
3. 3 [Option ID = 17519]
4. 4 [Option ID = 17520]

3) Given below are two statements, one is labelled as **Assertion A** and the other is labelled as **Reason R**.

Assertion A: Teachers must encourage students to ask questions.

Reason R: Asking questions can create curiosity and develop passion for learning.

In light of the above statements, choose the **most appropriate** answer from the options given below

1. Both **A** and **R** are correct and **R** is the correct explanation of **A**
2. Both **A** and **R** are correct but **R** is NOT the correct explanation of **A**
3. **A** is correct but **R** is not correct
4. **A** is not correct but **R** is correct

नीचे दो कथन दिए गए हैं : एक को अभिकथन (A) और दूसरे को कारण (R) कहा गया है।

अभिकथन (A) : शिक्षकों को विद्यार्थियों को प्रश्न पूछने के लिए प्रोत्साहित करना चाहिए।

कारण (R) : प्रश्न पूछने से जिज्ञासा सृजित होती है और अधिगम के लिए उत्साह विकसित होता है।

उपर्युक्त कथनों के आलोक में निम्नांकित विकल्पों में से सही उत्तर चुनें :

1. (A) और (R) दोनों सही हैं और (R), (A) की सही व्याख्या है।
2. (A) और (R) दोनों सही हैं परन्तु (R), (A) की सही व्याख्या नहीं है।
3. (A) सही है परन्तु (R) सही नहीं है।
4. (A) सही नहीं है परन्तु (R) सही है।

[Question ID = 4381][Question Description = 108_81_GP6_SEP22_S2_Q08]

1. 1 [Option ID = 17521]
2. 2 [Option ID = 17522]
3. 3 [Option ID = 17523]
4. 4 [Option ID = 17524]

4) Which of the following model is used for development of e-content for MOOCs on SWAYAM?

1. Four Quadrant
2. Two Quadrant
3. Flipped Classroom
4. Bloom's Taxonomy

स्वयम (SWAYAM) पर मूक्स (MOOCs) के लिए ई-विषयवस्तु के विकास के लिए निम्न में से किस मॉडल का प्रयोग होता है ?

1. चार चतुष्क
2. दो चतुष्क
3. फ्लिप्ड कक्षा
4. ब्लूम का वर्गीकरण विज्ञान

[Question ID = 4382][Question Description = 109_81_GP6_SEP22_S2_Q09]

1. 1 [Option ID = 17525]
2. 2 [Option ID = 17526]
3. 3 [Option ID = 17527]
4. 4 [Option ID = 17528]

5) In order to develop a video for MOOC, how much portion of some copyrighted video is allowed to be used as per the fair use guidelines?

1. Upto 10% or 10 minutes, whichever is less.
2. Upto 10% or 3 minutes, whichever is less.
3. Upto 20% or 10 minutes, whichever is less.
4. Upto 30% or 3 minutes, whichever is less.

मूक (MOOC) के लिए कोई वीडियो बनाने के लिए, उचित प्रयोग दिशानिर्देशों के अनुसार, किसी प्रतिलिप्याधिकारित वीडियो के कितने हिस्से का प्रयोग करने की अनुमति है ?

1. 10% तक, या 10 मिनट, जो भी कम हो।
2. 10% तक, या 3 मिनट, जो भी कम हो।
3. 20% तक, या 10 मिनट, जो भी कम हो।
4. 30% तक, या 3 मिनट, जो भी कम हो।

[Question ID = 4383][Question Description = 110_81_GP6_SEP22_S2_Q10]

1. 1 [Option ID = 17529]
2. 2 [Option ID = 17530]
3. 3 [Option ID = 17531]
4. 4 [Option ID = 17532]

6) When the subjects of a research change or improve their behaviour, not due to changes in experimental stimulus, it is called

1. The Hawthorne effect
2. The Glenn effect
3. The Fischer effect
4. The Kerlinger effect

जब किसी शोध के विषयों के व्यवहार में परिवर्तन या सुधार प्रयोगात्मक उद्दीपकों में परिवर्तन के कारण नहीं होता है, तो उसे कहा जाता है :-

1. हावथोर्न प्रभाव
2. ग्लेन प्रभाव
3. फिशर प्रभाव
4. करलिंगर प्रभाव

[Question ID = 4384][Question Description = 111_81_GP6_SEP22_S2_Q11]

1. 1 [Option ID = 17533]
2. 2 [Option ID = 17534]
3. 3 [Option ID = 17535]
4. 4 [Option ID = 17536]

7)

The advantages of research based on field experiments are:

- A. A strong external validity
- B. Subjects behave normally and naturally.
- C. The experiment takes place in a natural setting.
- D. Generation of primary data
- E. Non-requirement of elaborate logistics

Choose the **correct** answer from the options given below:

1. A, B and C only
2. B, C and D only
3. C, D and E only
4. A, C and E only



क्षेत्र में प्रयोगों पर आधारित शोध के लाभ हैं :-

- A. एक प्रबल बाह्य वैधता।
- B. विषय सामान्य और स्वाभाविक रूप से व्यवहार करते हैं।
- C. प्रयोग प्राकृतिक व्यवस्था में होता है।
- D. प्राथमिक आँकड़ों का सृजन।
- E. विस्तृत संभार-तंत्र की आवश्यकता नहीं होती।

नीचे दिए गए विकल्पों में से सही उत्तर चुनें :

1. केवल A, B और C
2. केवल B, C और D
3. केवल C, D और E
4. केवल A, C और E

[Question ID = 4385][Question Description = 112_81_GP6_SEP22_S2_Q12]

1. 1 [Option ID = 17537]
2. 2 [Option ID = 17538]
3. 3 [Option ID = 17539]
4. 4 [Option ID = 17540]

8) Hypothesis, that is alternative to null hypothesis, is represented as

1. H_0
2. H_1
3. H_{alt}
4. $H_{\neq 0}$

परिकल्पना, जो शून्य परिकल्पना का विकल्प है, को दर्शाया जाता है

1. H_0
2. H_1
3. H_{alt}
4. $H_{\neq 0}$

[Question ID = 4386][Question Description = 113_81_GP6_SEP22_S2_Q13]

1. 1 [Option ID = 17541]
2. 2 [Option ID = 17542]
3. 3 [Option ID = 17543]
4. 4 [Option ID = 17544]

9) What is SCOPUS?

1. Software to prepare Ph.D thesis
2. Database containing abstracts and citations of academic journals
3. Agency to fund research and development
4. Plagiarism checking software

स्कॉपस (SCOPUS) क्या है ?

1. पी.एच.डी. शोध ग्रंथ तैयार करने का सॉफ्टवेयर
2. डाटाबेस जिसमें शैक्षिक पत्रिकाओं के सार एवं उद्धरण होते हैं
3. शोध और विकास के वित्तपोषण के लिए अभिकरण
4. साहित्यिक चोरी की जाँच करने वाला सॉफ्टवेयर

[Question ID = 4387][Question Description = 114_81_GP6_SEP22_S2_Q14]

1. 1 [Option ID = 17545]
2. 2 [Option ID = 17546]
3. 3 [Option ID = 17547]
4. 4 [Option ID = 17548]

10) The Social Science research which is data-based, has been associated with

1. Authoritarian mode
2. Positivist philosophy
3. Network theory
4. Phenomenology

वह सामाजिक विज्ञान शोध, जो आंकड़ा-आधारित होता है, निम्नलिखित से संबद्ध है :-

1. सत्तावादी पद्धति
2. प्रत्यक्षवादी दर्शन
3. नेटवर्क सिद्धांत
4. दृश्यघटना विज्ञान

[Question ID = 4388][Question Description = 115_81_GP6_SEP22_S2_Q15]

1. 1 [Option ID = 17549]
2. 2 [Option ID = 17550]
3. 3 [Option ID = 17551]
4. 4 [Option ID = 17552]

11)

The modern communication revolution is propelled by

1. Cold war propaganda
2. International commerce
3. Technological convergence
4. Change in political systems

आधुनिक सम्प्रेषण क्रांति किसके द्वारा अभिप्रेरित है ?

1. शीत युद्ध का प्रोपेगैंडा
2. अंतर्राष्ट्रीय वाणिज्य
3. प्रौद्योगिकीय अभिसरण
4. राजनीतिक प्रणाली में परिवर्तन

[Question ID = 4389][Question Description = 116_81_GP6_SEP22_S2_Q16]

1. 1 [Option ID = 17553]
2. 2 [Option ID = 17554]
3. 3 [Option ID = 17555]
4. 4 [Option ID = 17556]


12)

Effective classroom communication will enable

- A. Efficient teaching
- B. Interest in learning
- C. Minimal assessment
- D. Interaction between teachers and students
- E. Teacher-centric behaviour

Choose the **correct** answer from the options given below:

1. A, B and C only
2. B, C, D and E only
3. C, D and E only
4. A, B and D only



कक्षा में प्रभावी सम्प्रेषण किसमें सक्षम करेगा :

- A. कुशल अध्यापन
- B. सीखने में रुचि
- C. अल्पतम मूल्यांकन
- D. शिक्षकों और विद्यार्थियों के बीच अन्योन्य क्रिया
- E. अध्यापक- केंद्रित व्यवहार

नीचे दिए गए विकल्पों में से सही उत्तर चुनें :

- 1. केवल A, B और C
- 2. केवल B, C, D और E
- 3. केवल C, D और E
- 4. केवल A, B और D

[Question ID = 4390][Question Description = 117_81_GP6_SEP22_S2_Q17]

- 1. 1 [Option ID = 17557]
- 2. 2 [Option ID = 17558]
- 3. 3 [Option ID = 17559]
- 4. 4 [Option ID = 17560]

13)

Which of the following are barriers to understand the communicated messages?

- A. Emotional quotient
- B. Jargon
- C. Personal space
- D. Pre-judgement
- E. Cultural background

Choose the **correct** answer from the options given below:

- 1. A, B and C only
- 2. B, D and E only
- 3. C, D and E only
- 4. B, C and D only



निम्नलिखित में से कौन से सम्प्रेषित संदेशों को समझने में अवरोधक हैं ?

- A. संवेदात्मक-लब्धि
- B. अनर्गल
- C. वैयक्तिक स्थान
- D. पूर्व-निर्णय
- E. सांस्कृतिक पृष्ठभूमि

नीचे दिए गए विकल्पों में से सही उत्तर चुनें :

- 1. केवल A, B और C
- 2. केवल B, D और E
- 3. केवल C, D और E
- 4. केवल B, C और D

[Question ID = 4391][Question Description = 118_81_GP6_SEP22_S2_Q18]

- 1. 1 [Option ID = 17561]
- 2. 2 [Option ID = 17562]
- 3. 3 [Option ID = 17563]
- 4. 4 [Option ID = 17564]

14)

Given below are two statements

Statement I: Knowledge is a form of cultural capital for all practical purposes.

Statement II: Communication media make cultural capital a form of illimitable property.

In light of the above statements, choose the **most appropriate** answer from the options given below

- 1. Both Statement I and Statement II are correct
- 2. Both Statement I and Statement II are incorrect
- 3. Statement I is correct but Statement II is incorrect
- 4. Statement I is incorrect but Statement II is correct

नीचे दो कथन दिए गए हैं :

कथन - I : ज्ञान सभी व्यावहारिक प्रयोजनों के लिए सांस्कृतिक पूंजी का एक रूप है।

कथन - II : सम्प्रेषण मीडिया, सांस्कृतिक पूंजी को एक प्रकार की असीमित सम्पत्ति बनाता है।

उपर्युक्त कथनों के आलोक में निम्नलिखित विकल्पों में से सही उत्तर चुनें :

- 1. कथन I और II दोनों सही हैं।
- 2. कथन I और II दोनों गलत हैं।
- 3. कथन I सही है, किन्तु कथन II गलत है।
- 4. कथन I गलत है, किन्तु कथन II सही है।

[Question ID = 4392][Question Description = 119_81_GP6_SEP22_S2_Q19]

- 1. 1 [Option ID = 17565]
- 2. 2 [Option ID = 17566]
- 3. 3 [Option ID = 17567]
- 4. 4 [Option ID = 17568]

15)

Match **List I** with **List II**

List I	List II
Concept of presentation	Characteristic
A. Text	I. Order of signification
B. Discourse	II. Subjective invention
C. Connotation	III. Micro data
D. Myth	IV. Macro exchange

Choose the **correct** answer from the options given below:

1. A - I, B - II, C - III, D - IV
2. A - II, B - III, C - IV, D - I
3. A - III, B - IV, C - I, D - II
4. A - IV, B - I, C - II, D - III

सूची -I को सूची -II से सुमेलित कीजिए :

सूची -I	सूची -II
प्रस्तुतीकरण की अवधारणा	विशेषताएं
A. पाठ	I. महत्वीकरण का क्रम
B. विमर्श	II. आत्म-निष्ठ खोज
C. गुणार्थ	III. माइक्रो-डेटा
D. मिथक	IV. बृहत आदान-प्रदान

नीचे दिए गए विकल्पों में से सही उत्तर चुनिए :

1. A - I, B - II, C - III, D - IV
2. A - II, B - III, C - IV, D - I
3. A - III, B - IV, C - I, D - II
4. A - IV, B - I, C - II, D - III

[Question ID = 4393][Question Description = 120_81_GP6_SEP22_S2_Q20]

1. 1 [Option ID = 17569]
2. 2 [Option ID = 17570]
3. 3 [Option ID = 17571]
4. 4 [Option ID = 17572]

16)

Choose the set of numbers, similar to the set (31, 19, 41) out of the following:

A. (27, 29, 47)

B. (23, 34, 49)

C. (29, 16, 41)

D. (29, 17, 37)

E. (23, 37, 49)

Choose the **correct** answer from the options given below:

1. A, C and E only
2. A and B only
3. B and D only
4. D only

निम्नलिखित समुच्चयों में से समुच्चय (31,19,41) के समान संख्याओं के समुच्चय को चुनिए :-

A. (27, 29, 47)

B. (23, 34, 49)

C. (29, 16, 41)

D. (29, 17, 37)

E. (23, 37, 49)

नीचे दिए गए विकल्पों में से सही उत्तर चुनें :

1. केवल A, C और E
2. केवल A और B
3. केवल B और D
4. केवल D



[Question ID = 4394][Question Description = 121_81_GP6_SEP22_S2_Q21]

1. 1 [Option ID = 17573]
2. 2 [Option ID = 17574]
3. 3 [Option ID = 17575]
4. 4 [Option ID = 17576]

17)

Unscramble the strings below to create a meaningful word and then find the odd one out:

- A. EIWNTR
- B. UMRSME
- C. PIGRSN
- D. LCUOD

Choose the **correct** answer from the options given below:

- 1. A only
- 2. B only
- 3. C only
- 4. D only

नीचे दिए गए सूत्र को इस प्रकार सुलझाएँ कि अर्थपूर्ण शब्द बने तथा तदुपरांत विषम को ढूँढें :-

- A. EIWNTR
- B. UMRSME
- C. PIGRSN
- D. LCUOD

नीचे दिए गए विकल्पों में से सही उत्तर चुनें :

- 1. केवल A
- 2. केवल B
- 3. केवल C
- 4. केवल D



[Question ID = 4395][Question Description = 122_81_GP6_SEP22_S2_Q22]

- 1. 1 [Option ID = 17577]
- 2. 2 [Option ID = 17578]
- 3. 3 [Option ID = 17579]
- 4. 4 [Option ID = 17580]

18)

What shall be the value when 0.07 is divided by 350?

- 1. 0.0002
- 2. 0.002
- 3. 0.02
- 4. 0.00002

जब 0.07 को 350 से भाग किया जाएगा तो क्या मान प्राप्त होगा ?

- 1. 0.0002
- 2. 0.002
- 3. 0.02
- 4. 0.00002

[Question ID = 4396][Question Description = 123_81_GP6_SEP22_S2_Q23]

1. 1 [Option ID = 17581]
2. 2 [Option ID = 17582]
3. 3 [Option ID = 17583]
4. 4 [Option ID = 17584]

19)

Six persons went to a hotel for a dinner. Five of them spent Rs 150 each on their meals, while the sixth person spent Rs 80 more than the average expenditure of all the six persons. What is the total money spent by all the six persons?

1. 996
2. 999
3. 1000
4. 1001

छह लोग रात्रि भोजन के लिए होटल में जाते हैं। उनमें पाँच व्यक्तियों में से प्रत्येक अपने भोजन पर ₹150 खर्च करता है। जबकि छठा व्यक्ति सभी छह व्यक्तियों के औसत खर्च से ₹80 अधिक खर्च करता है। सभी छह व्यक्तियों द्वारा कुल कितनी धन राशि खर्च की गई ?

1. ₹ 996
2. ₹ 999
3. ₹ 1000
4. ₹ 1001

[Question ID = 4397][Question Description = 124_81_GP6_SEP22_S2_Q24]

1. 1 [Option ID = 17585]
2. 2 [Option ID = 17586]
3. 3 [Option ID = 17587]
4. 4 [Option ID = 17588]

20)

The selling price of 30 fans is equal to the purchase price of 25 fans. What is the profit or loss in percentage?

1. A gain of $16\frac{2}{3}\%$
2. A loss of 15%
3. A loss of $16\frac{2}{3}\%$
4. No gain, no loss

30 पंखों का बिक्री मूल्य 25 पंखों के खरीद मूल्य के बराबर है। लाभ अथवा हानि प्रतिशत में कितनी है ?

1. $16\frac{2}{3}\%$ लाभ
2. 15% हानि
3. $16\frac{2}{3}\%$ हानि
4. न हानि, न लाभ

[Question ID = 4398][Question Description = 125_81_GP6_SEP22_S2_Q25]

1. 1 [Option ID = 17589]
2. 2 [Option ID = 17590]
3. 3 [Option ID = 17591]
4. 4 [Option ID = 17592]

21)

In Classical Square of Opposition, if 'Some S is P' is given as true then which of the following could be immediately inferred from it?

- A. 'Some S is not P' is false
- B. 'Some S is not P' is true
- C. 'No S is P' is false
- D. 'All S is P' is undetermined
- E. 'Some S is not P' is undetermined

Choose the **correct** answer from the options given below:

- 1. A, C and D only
- 2. C, D and E only
- 3. B, C and D only
- 4. B and C only

विरोधों के शास्त्रीय चतुर्भुज में 'कुछ S, P होते हैं', को यदि सही माना गया हो तो निम्न में से किसको प्रत्यक्ष रूप से अनुमानित किया जा सकता है ?

- A. 'कुछ S, P नहीं है', गलत है
- B. 'कुछ S, P नहीं है', सत्य है
- C. 'कोई S, P नहीं है', गलत है
- D. 'सभी S, P है', अनिर्धारित है
- E. 'कुछ S, P नहीं है', अनिर्धारित है

नीचे दिए गए विकल्पों में से सही उत्तर चुनें :

- 1. केवल A, C और D
- 2. केवल C, D और E
- 3. केवल B, C और D
- 4. केवल B और C

[Question ID = 4399][Question Description = 126_81_GP6_SEP22_S2_Q26]

- 1. 1 [Option ID = 17593]
- 2. 2 [Option ID = 17594]
- 3. 3 [Option ID = 17595]
- 4. 4 [Option ID = 17596]



22)

A fallacy in which the conclusion is stated or assumed within one of the premises is known severally as:

- A. *Petitio Principii*
- B. Irrelevant Conclusion
- C. Begging the Question
- D. Fallacy of Composition
- E. Circular argument

Choose the **correct** answer from the options given below:

- 1. A, D and E only
- 2. C and D only
- 3. B, C and E only
- 4. A, C and E only

कोई तर्क दोष जिसमें निष्कर्ष को एक आधार वाक्य के रूप के अंतर्गत रेखांकित किया गया हो अथवा माना गया हो उसे विभिन्न प्रकारों से क्या कहा जाता है।

- A. पिटिशियो प्रिंसिपी
- B. अप्रासंगिक निष्कर्ष
- C. आत्माश्रय दोष
- D. संयोजन का तर्क-दोष
- E. चक्रक दोष

- 1. केवल A, D और E
- 2. केवल C और D
- 3. केवल B, C और E
- 4. केवल A, C और E

[Question ID = 4400][Question Description = 127_81_GP6_SEP22_S2_Q27]

- 1. 1 [Option ID = 17597]
- 2. 2 [Option ID = 17598]
- 3. 3 [Option ID = 17599]
- 4. 4 [Option ID = 17600]

23)

Analogical Arguments are:

- 1. Deductive in nature
- 2. Inductive in nature
- 3. Valid arguments but fallacious
- 4. Invalid arguments

सदृशमूलक तर्क हैं :

1. निगमात्मक प्रकृति रूपी
2. आगात्मक प्रकृति रूपी
3. वैध परंतु दोषयुक्त तर्क
4. अवैध तर्क

[Question ID = 4401][Question Description = 128_81_GP6_SEP22_S2_Q28]

1. 1 [Option ID = 17601]
2. 2 [Option ID = 17602]
3. 3 [Option ID = 17603]
4. 4 [Option ID = 17604]

24)

Given below are two statements, one is labelled as **Assertion A** and the other is labelled as **Reason R**.

Assertion A: According to Classical Indian School of Logic (Nyāya), it is desirable but not necessary to offer an example in a syllogistic argument or inference.

Reason R: Example shows that there is at least one existent object or case in the world in which the middle and major terms co-exist.

In light of the above statements, choose the **most appropriate** answer from the options given below.

1. Both **A** and **R** are correct and **R** is the correct explanation of **A**.
2. Both **A** and **R** are correct but **R** is NOT the correct explanation of **A**.
3. **A** is correct but **R** is not correct.
4. **A** is not correct but **R** is correct.

नीचे दो कथन दिए गए हैं : एक को अभिकथन (A) और दूसरे को तर्क (R) कहा गया है।

अभिकथन (A) : शास्त्रीय भारतीय न्याय मत के अनुसार किसी न्याय वाक्य अथवा अनुमान का उदाहरण देना वांछनीय है, किंतु अनिवार्य नहीं।

कारण (R) : उदाहरण यह दर्शाता है कि कम से कम एक अस्तित्ववान वस्तु या सांसारिक स्थिति मौजूद है जिसमें मध्य पद और प्रमुख पद सह-विद्यमान हैं।

उपर्युक्त कथनों के आलोक में निम्नांकित विकल्पों में से सही उत्तर चुनें :

1. (A) और (R) दोनों सही हैं और (R), (A) की सही व्याख्या है।
2. (A) और (R) दोनों सही हैं परन्तु (R), (A) की सही व्याख्या नहीं है।
3. (A) सही है परन्तु (R) सही नहीं है।
4. (A) सही नहीं है परन्तु (R) सही है।

[Question ID = 4402][Question Description = 129_81_GP6_SEP22_S2_Q29]

1. 1 [Option ID = 17605]
2. 2 [Option ID = 17606]
3. 3 [Option ID = 17607]
4. 4 [Option ID = 17608]

25)

An American is told by his friend that Asian buffalo is like bison in such and such respects. When the American visits Asia and comes across a buffalo, he comes to know that the animal seen by him is buffalo. Which of the following means of knowledge (pramāṇa) is used in this instance?

1. Postulation (Arthāpatti)
2. Comparison (Upamāna)
3. Perception (Pratyakṣa)
4. Verbal Testimony (Śabda)

एक अमेरिकी को उसके मित्र द्वारा बताया गया कि एक एशियाई भैंस इन और इन सन्दर्भों में बाइसन (BISON) की तरह होता है। जब इस अमेरिकी ने एशिया की यात्रा की और वह भैंस के सम्मुख आया तो उसे यह पता चला कि उसने जिस प्राणी को देखा, वह भैंस है। निम्नलिखित में से किस ज्ञान माध्यम (प्रमाण) का इस्तेमाल उसके द्वारा उस समय किया गया ?

1. अर्थापत्ती
2. उपमान
3. प्रत्यक्ष
4. शब्द

[Question ID = 4403][Question Description = 130_81_GP6_SEP22_S2_Q30]

1. 1 [Option ID = 17609]
2. 2 [Option ID = 17610]
3. 3 [Option ID = 17611]
4. 4 [Option ID = 17612]

26)

Given below are two statements, one is labelled as **Assertion A** and the other is labelled as **Reason R**.

Assertion A : Static RAM is typically used for PC's main memory while Dynamic RAM is used for CPU cache.

Reason R : Static RAM is faster and more expensive than Dynamic RAM.

In light of the above statements, choose the **correct** answer from the options given below

1. Both **A** and **R** are true and **R** is the correct explanation of **A**
2. Both **A** and **R** are true but **R** is NOT the correct explanation of **A**
3. **A** is true but **R** is false
4. **A** is false but **R** is true

नीचे दो कथन दिए गए हैं : एक को अभिकथन (A) और दूसरे को कारण (R) कहा गया है।

अभिकथन (A) : 'स्टैटिक रैम' का विशिष्ट रूप से उपयोग 'पी सी' की मेम मैमोरी के लिए किया जाता है जबकि "डायनेमिक रैम" सी पी यू केशे के लिए प्रयोग की जाती है।

कारण (R) : "स्टैटिक रैम" "डायनेमिक रैम" की तुलना में अधिक तेज और महंगी होती है।

उपर्युक्त कथनों के आलोक में निम्नांकित विकल्पों में से सही उत्तर चुनें :

1. (A) और (R) दोनों सत्य हैं और (R), (A) की सही व्याख्या है।
2. (A) और (R) दोनों सत्य हैं परन्तु (R), (A) की सही व्याख्या नहीं है।
3. (A) सत्य है परन्तु (R) असत्य है।
4. (A) असत्य है परन्तु (R) सत्य है।

[Question ID = 4404][Question Description = 131_81_GP6_SEP22_S2_Q31]

- 1 [Option ID = 17613]
- 2 [Option ID = 17614]
- 3 [Option ID = 17615]
- 4 [Option ID = 17616]

27)

With respect to the Computers, what is the purpose of compressing a data file?

1. To encrypt the data
2. To occupy less storage space
3. To increase transmission time over a network
4. To allow the file to be read by a variety of applications

कम्प्यूटर के संदर्भ में एक डाटा फाइल को कम्प्रेस करने का क्या उद्देश्य होता है ?

1. डाटा को एन्क्रिप्ट करने के लिए
2. कम स्टोरेज स्पेस घेरने के लिए
3. एक नेटवर्क पर ट्रांसमिशन टाइम में वृद्धि करने के लिए
4. एक फाइल को विभिन्न अनुप्रयोगों द्वारा पढ़े जाने के लिए अनुमति देना

[Question ID = 4405][Question Description = 132_81_GP6_SEP22_S2_Q32]

- 1 [Option ID = 17617]
- 2 [Option ID = 17618]
- 3 [Option ID = 17619]
- 4 [Option ID = 17620]


28)

Which of the following peripheral devices are considered as only input devices?

- A. Microphone
- B. Projector
- C. Joy Stick
- D. Scanner
- E. Track-ball

Choose the **correct** answer from the options given below:

1. A, C, D and E only
2. A, B, D and E only
3. B, C, D and E only
4. A, B, C and D only



निम्नलिखित पेरिफेरल डिवाइसेस में से किन्हें केवल इनपुट डिवाइसेस माना जाता है ?

- A. माइक्रोफोन
- B. प्रोजेक्टर
- C. जॉय स्टिक
- D. स्कैनर
- E. ट्रैक बाल

नीचे दिए गए विकल्पों में से सही उत्तर चुनें :

- 1. केवल A, C, D और E
- 2. केवल A, B, D और E
- 3. केवल B, C, D और E
- 4. केवल A, B, C और D

[Question ID = 4406][Question Description = 133_81_GP6_SEP22_S2_Q33]

- 1. 1 [Option ID = 17621]
- 2. 2 [Option ID = 17622]
- 3. 3 [Option ID = 17623]
- 4. 4 [Option ID = 17624]

29)

A Company's word-processed daily report contains a graph from a spreadsheet. The report needs to display the most recent information from the spreadsheet. What feature should be used to insert the most up-to-date graph?

- 1. Copy and paste
- 2. Mail merge wizard
- 3. Automated importing
- 4. Linking and embedding

किसी कम्पनी की वर्ड-प्रोसेस्ड दैनिक रिपोर्ट में स्प्रेडशीट का एक ग्राफ शामिल होता है। रिपोर्ट में स्प्रेडशीट से अद्यतन सूचना को दिया जाना आवश्यक होता है। अद्यतन ग्राफ को अंतर्विष्ट करने के लिए किस गुण (फीचर) का उपयोग किया जाना चाहिए ?

- 1. कापी और पेस्ट
- 2. मेल मर्ज विज़र्ड
- 3. आटोमेटेड इम्पोर्टिंग
- 4. लिंकिंग और एम्बेडिंग

[Question ID = 4407][Question Description = 134_81_GP6_SEP22_S2_Q34]

- 1. 1 [Option ID = 17625]
- 2. 2 [Option ID = 17626]
- 3. 3 [Option ID = 17627]
- 4. 4 [Option ID = 17628]

30)

Which type of virus or destructive software could appear to be useful, but will actually cause damage once installed or run by a user?

1. Hoax
2. Worm
3. Trojan Horse
4. System Sector

किसी प्रयोक्ता को किस प्रकार का वायरस अथवा डैस्ट्रक्टिव सॉफ्टवेयर उपयोगी प्रतीत होता है, लेकिन एक बार सॉफ्टवेयर इंस्टॉल करने के बाद अथवा उसे चलाने पर वास्तव में उससे डैमेज होता है

1. होक्स (HOAX)
2. वार्म (WORM)
3. ट्रॉयन हार्स (TROJAN HORSE)
4. सिस्टम सेक्टर (SYSTEM SECTOR)

[Question ID = 4408][Question Description = 135_81_GP6_SEP22_S2_Q35]

1. 1 [Option ID = 17629]
2. 2 [Option ID = 17630]
3. 3 [Option ID = 17631]
4. 4 [Option ID = 17632]

31)

According to Noise Pollution (Regulation and Control) Rules in India, noise (L_{eq}) in educational institutions during night time (10pm-6am) must not exceed

1. 35 dB
2. 40 dB
3. 45 dB
4. 50 dB

भारत में ध्वनि प्रदूषण (विनियम एवं नियंत्रण) नियमावली के अनुसार, शैक्षिक संस्थाओं में रात 10 बजे अपराह्न से 6 बजे पूर्वाह्न तक की अवधि में ध्वनि (L_{eq}) का स्तर निम्नलिखित से अधिक नहीं होना चाहिए

1. 35 dB
2. 40 dB
3. 45 dB
4. 50 dB

[Question ID = 4409][Question Description = 136_81_GP6_SEP22_S2_Q36]

1. 1 [Option ID = 17633]
2. 2 [Option ID = 17634]
3. 3 [Option ID = 17635]
4. 4 [Option ID = 17636]

32)

The percentage increase in carbon dioxide concentration in atmosphere from pre-industrial times is approximately

1. 55 %
2. 50 %
3. 74 %
4. 62 %

औद्योगिक काल से पहले से वातावरण में कार्बन डाइऑक्साइड सांद्रता में प्रतिशत वृद्धि लगभग है :

1. 55%
2. 50%
3. 74%
4. 62%

[Question ID = 4410][Question Description = 137_81_GP6_SEP22_S2_Q37]

1. 1 [Option ID = 17637]
2. 2 [Option ID = 17638]
3. 3 [Option ID = 17639]
4. 4 [Option ID = 17640]

33)

The highest nonzero dose at which no toxic effect is observed in a study on animals is called

1. LD₅₀
2. NOAEL
3. LOAEL
4. NOEFF

अधिकतम गैर शून्य मात्रा जिस पर कोई भी विषाक्त प्रभाव जानवरों पर अध्ययन में नहीं देखा जाता है, निम्नलिखित कही जाती है :

1. LD₅₀
2. NOAEL
3. LOAEL
4. NOEFF

[Question ID = 4411][Question Description = 138_81_GP6_SEP22_S2_Q38]

1. 1 [Option ID = 17641]
2. 2 [Option ID = 17642]
3. 3 [Option ID = 17643]
4. 4 [Option ID = 17644]

34)

Given below are two statements, one is labelled as **Assertion A** and the other is labelled as **Reason R**.

Assertion A: Hybrid Electric Vehicles' (HEVs) fuel running cost is lesser than Electric Vehicles (EVs).

Reason R: Hybrid Electric Vehicles have both an internal combustion engine and an onboard electric power generation system.

In light of the above statements, choose the **most appropriate** answer from the options given below

1. Both **A** and **R** are correct and **R** is the correct explanation of **A**
2. Both **A** and **R** are correct but **R** is NOT the correct explanation of **A**
3. **A** is correct but **R** is not correct
4. **A** is not correct but **R** is correct

नीचे दो कथन दिए गए हैं : एक को अभिकथन (A) और दूसरे को कारण (R) कहा गया है।

अभिकथन (A) : हाइब्रिड इलेक्ट्रिक वाहनों (HEVs) की ईंधन चालन लागत इलेक्ट्रिक वाहन (EVs) से कम है।

कारण (R) : हाइब्रिड इलेक्ट्रिक वाहन में आंतरिक दहन ईंजन और एक ऑनबोर्ड इलेक्ट्रिक विद्युत उत्पादन प्रणाली दोनों होते हैं।

उपर्युक्त कथनों के आलोक में निम्नांकित विकल्पों में से सही उत्तर चुनें :

1. (A) और (R) दोनों सही हैं और (R), (A) की सही व्याख्या है।
2. (A) और (R) दोनों सही हैं परन्तु (R), (A) की सही व्याख्या नहीं है।
3. (A) सही है परन्तु (R) सही नहीं है।
4. (A) सही नहीं है परन्तु (R) सही है।

[Question ID = 4412][Question Description = 139_81_GP6_SEP22_S2_Q39]

1. 1 [Option ID = 17645]
2. 2 [Option ID = 17646]
3. 3 [Option ID = 17647]
4. 4 [Option ID = 17648]

35)

What is the correct chronological order of sequence from older to newer of the following agreement, summit and protocols?

- A. Paris Agreement
- B. Montreal Protocol
- C. Kyoto Protocol
- D. Rio Summit

Choose the **correct** answer from the options given below

1. A, B, C, D
2. B, D, C, A
3. A, C, D, B
4. B, C, D, A

निम्नलिखित समझौता, शिखर सम्मलेन एवं प्रोटोकॉलों का पुराने से नए कालानुक्रम में सही क्रम क्या है ?

- A. पेरिस समझौता
- B. मॉन्ट्रियल प्रोटोकॉल
- C. क्योटो प्रोटोकॉल
- D. रियो शिखर सम्मेलन

नीचे दिए गए विकल्पों में से सही उत्तर चुनें :

1. A, B, C, D
2. B, D, C, A
3. A, C, D, B
4. B, C, D, A

[Question ID = 4413][Question Description = 140_81_GP6_SEP22_S2_Q40]

1. 1 [Option ID = 17649]

2. 2 [Option ID = 17650]
3. 3 [Option ID = 17651]
4. 4 [Option ID = 17652]

36)

Which of the following universities is an Institute of Eminence?

1. Central University of Gujrat, Gandhinagar
2. University of Hyderabad
3. Tezpur University
4. Jamia Millia Islamia

निम्नलिखित विश्वविद्यालयों में से कौन सा लब्धप्रतिष्ठ संस्थान है ?

1. गुजरात केन्द्रीय विश्वविद्यालय, गांधीनगर
2. हैदराबाद विश्वविद्यालय
3. तेजपुर विश्वविद्यालय
4. जामिया मिलिया इस्लामिया

[Question ID = 4414][Question Description = 141_81_GP6_SEP22_S2_Q41]

1. 1 [Option ID = 17653]
2. 2 [Option ID = 17654]
3. 3 [Option ID = 17655]
4. 4 [Option ID = 17656]

37)

Given below are two statements

Statement I: With Academic Bank of Credit facility in place, a student will be able to customize and design own degree, provided 50% of credit are from the higher education institutions awarding the degree.

Statement II: Credits once used or redeemed by a student cannot be used for any other formal purpose or course waivers.

In light of the above statements, choose the **most appropriate** answer from the options given below

1. Both Statement I and Statement II are correct
2. Both Statement I and Statement II are incorrect
3. Statement I is correct but Statement II is incorrect
4. Statement I is incorrect but Statement II is correct

नीचे दो कथन दिए गए हैं :

कथन - I : अकेडमिक बैंक ऑफ क्रेडिट सुविधा लागू होने के साथ, छात्र अपनी डिग्री को ग्राहकोनुकूल बनाने तथा डिजायन करने में सक्षम होंगे बशर्ते 50% क्रेडिट, डिग्री देने वाले उच्चतर शिक्षण संस्था से हो।

कथन - II : छात्र द्वारा क्रेडिट का उपयोग कर लेने अथवा उसे निस्तार कर लेने के बाद उसका उपयोग किसी अन्य औपचारिक उद्देश्य अथवा कोर्स से छूट के लिए नहीं किया जा सकता है।

उपर्युक्त कथनों के आलोक में निम्नलिखित विकल्पों में से सबसे उपयुक्त उत्तर चुनें :

1. कथन I और II दोनों सही हैं।
2. कथन I और II दोनों गलत हैं।
3. कथन I सही है, किन्तु कथन II गलत है।
4. कथन I गलत है, किन्तु कथन II सही है।

[Question ID = 4415][Question Description = 142_81_GP6_SEP22_S2_Q42]

1. 1 [Option ID = 17657]
2. 2 [Option ID = 17658]
3. 3 [Option ID = 17659]
4. 4 [Option ID = 17660]

38)

In a State government university or Central University, recommendation of the Selection Committee for the recruitment of the faculty is approved by the

1. Academic Council
2. Executive Council
3. Finance Committee
4. Chancellor of University

राज्य सरकार के विश्वविद्यालय या केन्द्रीय विश्वविद्यालय में, संकाय की भर्ती के लिए चयन समिति की सिफारिश को स्वीकृत निम्नलिखित द्वारा किया जाता है :

1. शैक्षिक परिषद
2. कार्यकारी परिषद
3. वित्त समिति
4. विश्वविद्यालय के कुलाधिपति

[Question ID = 4416][Question Description = 143_81_GP6_SEP22_S2_Q43]

1. 1 [Option ID = 17661]
2. 2 [Option ID = 17662]
3. 3 [Option ID = 17663]
4. 4 [Option ID = 17664]

39)

Environmental education encompasses the issues of

- A. Resource Consumption
- B. Environmental degradation
- C. Biodiversity loss
- D. Economic empowerment
- E. Climate change and its impact

Choose the **correct** answer from the options given below:

- 1. A, B, C and D only
- 2. A, B, C and E only
- 3. B, C, D and E only
- 4. B and E only

पर्यावरणीय शिक्षा में निम्नलिखित मुद्दे शामिल हैं :

- A. संसाधन उपभोग
- B. पर्यावरणीय अवनति
- C. जैव विविधता की हानि
- D. आर्थिक सशक्तिकरण
- E. जलवायु परिवर्तन एवं इसका प्रभाव

नीचे दिए गए विकल्पों में से सही उत्तर चुनें :

- 1. केवल A, B, C और D
- 2. केवल A, B, C और E
- 3. केवल B, C, D और E
- 4. केवल B और E



[Question ID = 4417][Question Description = 144_81_GP6_SEP22_S2_Q44]

- 1. 1 [Option ID = 17665]
- 2. 2 [Option ID = 17666]
- 3. 3 [Option ID = 17667]
- 4. 4 [Option ID = 17668]

40)

Given below are two statements

Statement I: The recommendations of the Radhakrishnan Commission in 1949 resemble those of Calcutta University Commission in 1917.

Statement II: The recommendations of the Mudaliar Commission in 1953 resemble those of John Sergent's post-war Educational Development Plan in 1944.

In light of the above statements, choose the **most appropriate** answer from the options given below

1. Both Statement I and Statement II are correct
2. Both Statement I and Statement II are incorrect
3. Statement I is correct but Statement II is incorrect
4. Statement I is incorrect but Statement II is correct

नीचे दो कथन दिए गए हैं :

कथन - I : 1949 में राधाकृष्णन आयोग की सिफारिशों 1917 में कलकत्ता विश्वविद्यालय आयोग की सिफारिशों के सदृश हैं।

कथन - II : 1953 में मुदलियर आयोग की सिफारिशों 1944 में जॉन सर्जेण्ट के युद्ध पश्चात शैक्षिक विकास योजना की सिफारिशों के सदृश है।

उपर्युक्त कथनों के आलोक में निम्नलिखित विकल्पों में से सही उत्तर चुनें :

1. कथन I और II दोनों सही हैं।
2. कथन I और II दोनों गलत हैं।
3. कथन I सही है, किन्तु कथन II गलत है।
4. कथन I गलत है, किन्तु कथन II सही है।

[Question ID = 4418][Question Description = 145_81_GP6_SEP22_S2_Q45]

1. 1 [Option ID = 17669]
2. 2 [Option ID = 17670]
3. 3 [Option ID = 17671]
4. 4 [Option ID = 17672]

Topic: - 22 GP_29SEPT22_SH1_S2_C

1) **Read the given passage and answer the questions that follow**

Human beings are not completely free to socially construct their own behaviour. They have a shared biological nature. The nature is remarkably uniform throughout the world, given the fact that most contemporary humans outside of Africa descended from a single relatively small group of individuals some fifty thousand years ago. This shared nature does not determine political behaviour, but it frames and limits the nature of institutions that are possible. It also means that human politics is subject to certain recurring patterns of behaviour across time and across cultures. This shared nature can be described in certain propositions like that the human beings never existed in a pre-social state.

The idea that human beings at one time existed as isolated individuals, who interacted either through anarchic violence (Hobbes) or in pacific ignorance of one another (Rousseau), is not correct. Human beings as well as their primate ancestors always lived in kin-based social groups of varying sizes. Indeed, they lived in these social units for a sufficiently long period of time that the cognitive and emotional faculties needed to promote social cooperation evolved and became hardwired in their genetic endowments. This means that a rational-choice model of collective action, in which individuals calculate that they will be better off by cooperating with one another, vastly understates the degree of social cooperation that exists in human societies and misunderstands the motives that underlie it.

The next one is the idea of natural human sociability. This is built around two principles, kin selection and reciprocal altruism. The principle of kin selection or inclusive fitness states that human beings will act altruistically toward genetic relatives (or individuals believed to be genetic relatives) in rough proportion to their shared genes. The principle of reciprocal altruism says that human beings tend to develop relationships of mutual benefit or mutual harm as they interact with other individuals over time. Reciprocal altruism, unlike kin selection, does not depend on genetic relatedness: it does, however, depend upon repeated, direct personal interaction.

The shared biological nature of humans influences

1. The division of social constructs
2. The nature of institutions in society
3. The political behaviour of people
4. The formation of social groups

निम्नलिखित उद्धरण को पढ़ें और सम्बंधित पाँच प्रश्नों के उत्तर दें।

मानवजाति अपने व्यवहार को सामाजिक तौर पर निर्माण करने के लिए पूर्ण रूप से स्वतंत्र नहीं है उनकी जैविकीय प्रकृति समान होती है, पूरे विश्व में प्रकृति एक सामान होती है इस तथ्य को देखते हुए कि अधिकांश समकालिक मानवों की उत्पत्ति अफ्रीका के बाहर एक अपेक्षाकृत छोटे समूह के द्वारा लगभग 50 हजार वर्ष पहले हुई थी। यह परस्पर प्रकृति राजनीतिक व्यवहार को निर्धारित नहीं करती है लेकिन यह संभावित संस्थाओं की प्रकृति निर्मित और सीमित करती है। इसका तात्पर्य यह है कि समय और संस्कृतियों के क्रम में मानव राजनीति व्यवहार के कुछ विशिष्ट तरीकों से विनिर्दिष्ट होती है, इस परस्पर प्रकृति को कुछ हद तक इस तरह वर्णित किया जा सकता है कि मानवजाति समाज पूर्व स्थिति से पहले अस्तित्व में नहीं था यह विचार कि मानव जाति एक समय में पृथक व्यक्ति के तौर पर अस्तित्व में थी जो आपस में अराजकतापूर्ण हिंसा (हॉब्स) द्वारा या एक दूसरे से प्रशांत अज्ञानतावश मिलते थे (रूसो) ऐसा कहना सही नहीं है। मानवजाति और उनके पुराप्राचीन पूर्वज हमेशा आपसी संबंधों के आधार पर विभिन्न आकार के सामाजिक समूहों में रहते थे। वास्तव में वे इन सामाजिक एककों में लम्बे समय तक रहे जिससे सामाजिक सहयोग के लिए आवश्यक प्रज्ञामूलक और भावनात्मक क्षमतायें विकसित हुयीं और वे अपने जीन अक्षयनिधि से दृढ़तापूर्वक जुड़ गयीं। इसका अर्थ यह हुआ कि सामूहिक कार्य का विवेकपूर्ण-विकल्प प्रतिदर्श, जिसमें एक व्यक्ति यह समझता है कि वह आपस में सहयोग करके ही बेहतर ढंग से रह सकते हैं, बहुत हद तक सामाजिक सहयोग के महत्त्व को कमतर दिखाता है, जो मानव समाज में विद्यमान होता है और जो इसके अंतर्गत निहित इरादों को ठीक से नहीं समझता है। अगला विचार प्राकृतिक मानवीय सामाजिकता का है। यह दो सिद्धांतों पर आधारित है जो रिश्तेदारों का चयन और परस्पर परोपकारिता पर निर्भर है। यह रिश्तेदार चयन या समावेशी अनुकूलता का सिद्धांत दर्शाता है कि मानवीय क्रिया की परोपकारिता जैनेटिक संबंधों की ओर (या ऐसे व्यक्ति जो जैनेटिक रूप से एक दूसरे से जुड़े हों) साधारण तौर पर उनके साझा जीन्स के समानुपाती होती है। परस्पर परोपकारिता का सिद्धांत यह कहता है कि मानव का स्वभाव आपसी सम्बंध स्थापित करने का है जो परस्पर लाभ या परस्पर हानि पर आधारित होता है जब वह समय के दौरान एक दूसरे से मिलते जुलते हैं। परस्पर परोपकारिता रिश्तेदार चयन के विपरीत जैनेटिक सम्बद्धता पर आधारित नहीं होता है हालांकि यह बार-बार प्रत्यक्ष व्यक्तिगत मेलजोल पर निर्भर है।

मानव की साझा जैविक प्रकृति किसे प्रभावित करती है ?

1. सामाजिक ताने-बाने का विभाजन
2. समाज में संस्थाओं की प्रकृति
3. लोगों का राजनितिक व्यवहार
4. सामाजिक समूहों की रचना

[Question ID = 4419][Question Description = 146_81_GP6_SEP22_S2_Q46]

1. 1 [Option ID = 17673]
2. 2 [Option ID = 17674]
3. 3 [Option ID = 17675]
4. 4 [Option ID = 17676]

2) **Read the given passage and answer the questions that follow**

Human beings are not completely free to socially construct their own behaviour. They have a shared biological nature. The nature is remarkably uniform throughout the world, given the fact that most contemporary humans outside of Africa descended from a single relatively small group of individuals some fifty thousand years ago. This shared nature does not determine political behaviour, but it frames and limits the nature of institutions that are possible. It also means that human politics is subject to certain recurring patterns of behaviour across time and across cultures. This shared nature can be described in certain propositions like that the human beings never existed in a pre-social state.

The idea that human beings at one time existed as isolated individuals, who interacted either through anarchic violence (Hobbes) or in pacific ignorance of one another (Rousseau), is not correct. Human beings as well as their primate ancestors always lived in kin-based social groups of varying sizes. Indeed, they lived in these social units for a sufficiently long period of time that the cognitive and emotional faculties needed to promote social cooperation evolved and became hardwired in their genetic endowments. This means that a rational-choice model of collective action, in which individuals calculate that they will be better off by cooperating with one another, vastly understates the degree of social cooperation that exists in human societies and misunderstands the motives that underlie it.

The next one is the idea of natural human sociability. This is built around two principles, kin selection and reciprocal altruism. The principle of kin selection or inclusive fitness states that human beings will act altruistically toward genetic relatives (or individuals believed to be genetic relatives) in rough proportion to their shared genes. The principle of reciprocal altruism says that human beings tend to develop relationships of mutual benefit or mutual harm as they interact with other individuals over time. Reciprocal altruism, unlike kin selection, does not depend on genetic relatedness: it does, however, depend upon repeated, direct personal interaction.

Human beings did not exist in a pre-social state due to

1. Social kinsfolk
2. Human politics across cultures
3. Institutional limitations
4. Absence of individual independence

निम्नलिखित उद्धरण को पढ़ें और सम्बंधित पाँच प्रश्नों के उत्तर दें।

मानवजाति अपने व्यवहार को सामाजिक तौर पर निर्माण करने के लिए पूर्ण रूप से स्वतंत्र नहीं है उनकी जैविकीय प्रकृति समान होती है, पूरे विश्व में प्रकृति एक सामान होती है इस तथ्य को देखते हुए कि अधिकांश समकालिक मानवों की उत्पत्ति अफ्रीका के बाहर एक अपेक्षाकृत छोटे समूह के द्वारा लगभग 50 हजार वर्ष पहले हुई थी। यह परस्पर प्रकृति राजनीतिक व्यवहार को निर्धारित नहीं करती है लेकिन यह संभावित संस्थाओं की प्रकृति निर्मित और सीमित करती है। इसका तात्पर्य यह है कि समय और संस्कृतियों के क्रम में मानव राजनीति व्यवहार के कुछ विशिष्ट तरीकों से विनिर्दिष्ट होती है, इस परस्पर प्रकृति को कुछ हद तक इस तरह वर्णित किया जा सकता है कि मानवजाति समाज पूर्व स्थिति से पहले अस्तित्व में नहीं था यह विचार कि मानव जाति एक समय में पृथक व्यक्ति के तौर पर अस्तित्व में थी जो आपस में अराजकतापूर्ण हिंसा (हॉब्स) द्वारा या एक दूसरे से प्रशांत अज्ञानतावश मिलते थे (रूसो) ऐसा कहना सही नहीं है। मानवजाति और उनके पुराप्राचीन पूर्वज हमेशा आपसी संबंधों के आधार पर विभिन्न आकार के सामाजिक समूहों में रहते थे। वास्तव में वे इन सामाजिक एककों में लम्बे समय तक रहे जिससे सामाजिक सहयोग के लिए आवश्यक प्रज्ञामूलक और भावनात्मक क्षमतायें विकसित हुयीं और वे अपने जीन अक्षयनिधि से दृढ़तापूर्वक जुड़ गयीं। इसका अर्थ यह हुआ कि सामूहिक कार्य का विवेकपूर्ण-विकल्प प्रतिदर्श, जिसमें एक व्यक्ति यह समझता है कि वह आपस में सहयोग करके ही बेहतर ढंग से रह सकते हैं, बहुत हद तक सामाजिक सहयोग के महत्त्व को कमतर दिखाता है, जो मानव समाज में विद्यमान होता है और जो इसके अंतर्गत निहित इरादों को ठीक से नहीं समझता है। अगला विचार प्राकृतिक मानवीय सामाजिकता का है। यह दो सिद्धांतों पर आधारित है जो रिश्तेदारों का चयन और परस्पर परोपकारिता पर निर्भर है। यह रिश्तेदार चयन या समावेशी अनुकूलता का सिद्धांत दर्शाता है कि मानवीय क्रिया की परोपकारिता जैनेटिक संबंधों की ओर (या ऐसे व्यक्ति जो जैनेटिक रूप से एक दूसरे से जुड़े हों) साधारण तौर पर उनके साझा जीन्स के समानुपाती होती है। परस्पर परोपकारिता का सिद्धांत यह कहता है कि मानव का स्वभाव आपसी सम्बंध स्थापित करने का है जो परस्पर लाभ या परस्पर हानि पर आधारित होता है जब वह समय के दौरान एक दूसरे से मिलते जुलते हैं। परस्पर परोपकारिता रिश्तेदार चयन के विपरीत जैनेटिक सम्बद्धता पर आधारित नहीं होता है हालांकि यह बार-बार प्रत्यक्ष व्यक्तिगत मेलजोल पर निर्भर है।

किस कारण मानव पूर्व-सामाजिक स्थिति में नहीं रहा ?

1. सामाजिक जातिवर्ग
2. समग्र संस्कृतियों में मानव राजनीति
3. संस्थागत सीमाएँ
4. व्यक्तिगत स्वतंत्रता का आभाव

[Question ID = 4420][Question Description = 147_81_GP6_SEP22_S2_Q47]

1. 1 [Option ID = 17677]
2. 2 [Option ID = 17678]
3. 3 [Option ID = 17679]
4. 4 [Option ID = 17680]

3) **Read the given passage and answer the questions that follow**

Human beings are not completely free to socially construct their own behaviour. They have a shared biological nature. The nature is remarkably uniform throughout the world, given the fact that most contemporary humans outside of Africa descended from a single relatively small group of individuals some fifty thousand years ago. This shared nature does not determine political behaviour, but it frames and limits the nature of institutions that are possible. It also means that human politics is subject to certain recurring patterns of behaviour across time and across cultures. This shared nature can be described in certain propositions like that the human beings never existed in a pre-social state.

The idea that human beings at one time existed as isolated individuals, who interacted either through anarchic violence (Hobbes) or in pacific ignorance of one another (Rousseau), is not correct. Human beings as well as their primate ancestors always lived in kin-based social groups of varying sizes. Indeed, they lived in these social units for a sufficiently long period of time that the cognitive and emotional faculties needed to promote social cooperation evolved and became hardwired in their genetic endowments. This means that a rational-choice model of collective action, in which individuals calculate that they will be better off by cooperating with one another, vastly understates the degree of social cooperation that exists in human societies and misunderstands the motives that underlie it.

The next one is the idea of natural human sociability. This is built around two principles, kin selection and reciprocal altruism. The principle of kin selection or inclusive fitness states that human beings will act altruistically toward genetic relatives (or individuals believed to be genetic relatives) in rough proportion to their shared genes. The principle of reciprocal altruism says that human beings tend to develop relationships of mutual benefit or mutual harm as they interact with other individuals over time. Reciprocal altruism, unlike kin selection, does not depend on genetic relatedness: it does, however, depend upon repeated, direct personal interaction.

From the author's point of view, the main characteristic of human society has been

1. Anarchic violence
2. Pacific ignorance of one another
3. Kinship based social groups
4. Calculated individual relations

निम्नलिखित उद्धरण को पढ़ें और सम्बंधित पाँच प्रश्नों के उत्तर दें।

मानवजाति अपने व्यवहार को सामाजिक तौर पर निर्माण करने के लिए पूर्ण रूप से स्वतंत्र नहीं है उनकी जैविकीय प्रकृति समान होती है, पूरे विश्व में प्रकृति एक सामान होती है इस तथ्य को देखते हुए कि अधिकांश समकालिक मानवों की उत्पत्ति अफ्रीका के बाहर एक अपेक्षाकृत छोटे समूह के द्वारा लगभग 50 हजार वर्ष पहले हुई थी। यह परस्पर प्रकृति राजनीतिक व्यवहार को निर्धारित नहीं करती है लेकिन यह संभावित संस्थाओं की प्रकृति निर्मित और सीमित करती है। इसका तात्पर्य यह है कि समय और संस्कृतियों के क्रम में मानव राजनीति व्यवहार के कुछ विशिष्ट तरीकों से विनिर्दिष्ट होती है, इस परस्पर प्रकृति को कुछ हद तक इस तरह वर्णित किया जा सकता है कि मानवजाति समाज पूर्व स्थिति से पहले अस्तित्व में नहीं था यह विचार कि मानव जाति एक समय में पृथक व्यक्ति के तौर पर अस्तित्व में थी जो आपस में अराजकतापूर्ण हिंसा (हॉब्स) द्वारा या एक दूसरे से प्रशांत अज्ञानतावश मिलते थे (रूसो) ऐसा कहना सही नहीं है। मानवजाति और उनके पुराप्राचीन पूर्वज हमेशा आपसी संबंधों के आधार पर विभिन्न आकार के सामाजिक समूहों में रहते थे। वास्तव में वे इन सामाजिक एककों में लम्बे समय तक रहे जिससे सामाजिक सहयोग के लिए आवश्यक प्रज्ञामूलक और भावनात्मक क्षमतायें विकसित हुयीं और वे अपने जीन अक्षयनिधि से दृढ़तापूर्वक जुड़ गयीं। इसका अर्थ यह हुआ कि सामूहिक कार्य का विवेकपूर्ण-विकल्प प्रतिदर्श, जिसमें एक व्यक्ति यह समझता है कि वह आपस में सहयोग करके ही बेहतर ढंग से रह सकते हैं, बहुत हद तक सामाजिक सहयोग के महत्त्व को कमतर दिखाता है, जो मानव समाज में विद्यमान होता है और जो इसके अंतर्गत निहित इरादों को ठीक से नहीं समझता है। अगला विचार प्राकृतिक मानवीय सामाजिकता का है। यह दो सिद्धांतों पर आधारित है जो रिश्तेदारों का चयन और परस्पर परोपकारिता पर निर्भर है। यह रिश्तेदार चयन या समावेशी अनुकूलता का सिद्धांत दर्शाता है कि मानवीय क्रिया की परोपकारिता जैनेटिक संबंधों की ओर (या ऐसे व्यक्ति जो जैनेटिक रूप से एक दूसरे से जुड़े हों) साधारण तौर पर उनके साझा जीन्स के समानुपाती होती है। परस्पर परोपकारिता का सिद्धांत यह कहता है कि मानव का स्वभाव आपसी सम्बंध स्थापित करने का है जो परस्पर लाभ या परस्पर हानि पर आधारित होता है जब वह समय के दौरान एक दूसरे से मिलते जुलते हैं। परस्पर परोपकारिता रिश्तेदार चयन के विपरीत जैनेटिक सम्बद्धता पर आधारित नहीं होता है हालांकि यह बार-बार प्रत्यक्ष व्यक्तिगत मेलजोल पर निर्भर है।

लेखक के दृष्टिकोण से मानवीय समाज की मुख्य विशेषता निम्नलिखित है :

1. अराजकतापूर्ण हिंसा
2. एक दूसरे के प्रति शांतिप्रिय अनभिज्ञता
3. रिश्तेदार आधारित सामाजिक समूह
4. निर्धारित व्यक्तिगत सम्बंध

[Question ID = 4421][Question Description = 148_81_GP6_SEP22_S2_Q48]

1. 1 [Option ID = 17681]
2. 2 [Option ID = 17682]
3. 3 [Option ID = 17683]
4. 4 [Option ID = 17684]

4) **Read the given passage and answer the questions that follow**

Human beings are not completely free to socially construct their own behaviour. They have a shared biological nature. The nature is remarkably uniform throughout the world, given the fact that most contemporary humans outside of Africa descended from a single relatively small group of individuals some fifty thousand years ago. This shared nature does not determine political behaviour, but it frames and limits the nature of institutions that are possible. It also means that human politics is subject to certain recurring patterns of behaviour across time and across cultures. This shared nature can be described in certain propositions like that the human beings never existed in a pre-social state.

The idea that human beings at one time existed as isolated individuals, who interacted either through anarchic violence (Hobbes) or in pacific ignorance of one another (Rousseau), is not correct. Human beings as well as their primate ancestors always lived in kin-based social groups of varying sizes. Indeed, they lived in these social units for a sufficiently long period of time that the cognitive and emotional faculties needed to promote social cooperation evolved and became hardwired in their genetic endowments. This means that a rational-choice model of collective action, in which individuals calculate that they will be better off by cooperating with one another, vastly understates the degree of social cooperation that exists in human societies and misunderstands the motives that underlie it.

The next one is the idea of natural human sociability. This is built around two principles, kin selection and reciprocal altruism. The principle of kin selection or inclusive fitness states that human beings will act altruistically toward genetic relatives (or individuals believed to be genetic relatives) in rough proportion to their shared genes. The principle of reciprocal altruism says that human beings tend to develop relationships of mutual benefit or mutual harm as they interact with other individuals over time. Reciprocal altruism, unlike kin selection, does not depend on genetic relatedness: it does, however, depend upon repeated, direct personal interaction.

The concept of social cooperation involves

- A. Kin selection
- B. Cognitive faculty
- C. Emotional detachment
- D. Reciprocal altruism

Choose the correct option:

- 1. A and B only
- 2. B and C only
- 3. C and D only
- 4. A and D only

निम्नलिखित उद्धरण को पढ़ें और सम्बंधित पाँच प्रश्नों के उत्तर दें।

मानवजाति अपने व्यवहार को सामाजिक तौर पर निर्माण करने के लिए पूर्ण रूप से स्वतंत्र नहीं है उनकी जैविकीय प्रकृति समान होती है, पूरे विश्व में प्रकृति एक सामान होती है इस तथ्य को देखते हुए कि अधिकांश समकालिक मानवों की उत्पत्ति अफ्रीका के बाहर एक अपेक्षाकृत छोटे समूह के द्वारा लगभग 50 हजार वर्ष पहले हुई थी। यह परस्पर प्रकृति राजनीतिक व्यवहार को निर्धारित नहीं करती है लेकिन यह संभावित संस्थाओं की प्रकृति निर्मित और सीमित करती है। इसका तात्पर्य यह है कि समय और संस्कृतियों के क्रम में मानव राजनीति व्यवहार के कुछ विशिष्ट तरीकों से विनिर्दिष्ट होती है, इस परस्पर प्रकृति को कुछ हद तक इस तरह वर्णित किया जा सकता है कि मानवजाति समाज पूर्व स्थिति से पहले अस्तित्व में नहीं था यह विचार कि मानव जाति एक समय में पृथक व्यक्ति के तौर पर अस्तित्व में थी जो आपस में अराजकतापूर्ण हिंसा (हॉब्स) द्वारा या एक दूसरे से प्रशांत अज्ञानतावश मिलते थे (रूसो) ऐसा कहना सही नहीं है। मानवजाति और उनके पुराप्राचीन पूर्वज हमेशा आपसी संबंधों के आधार पर विभिन्न आकार के सामाजिक समूहों में रहते थे। वास्तव में वे इन सामाजिक एककों में लम्बे समय तक रहे जिससे सामाजिक सहयोग के लिए आवश्यक प्रज्ञामूलक और भावनात्मक क्षमतायें विकसित हुयीं और वे अपने जीन अक्षयनिधि से दृढ़तापूर्वक जुड़ गयीं। इसका अर्थ यह हुआ कि सामूहिक कार्य का विवेकपूर्ण-विकल्प प्रतिदर्श, जिसमें एक व्यक्ति यह समझता है कि वह आपस में सहयोग करके ही बेहतर ढंग से रह सकते हैं, बहुत हद तक सामाजिक सहयोग के महत्त्व को कमतर दिखाता है, जो मानव समाज में विद्यमान होता है और जो इसके अंतर्गत निहित इरादों को ठीक से नहीं समझता है। अगला विचार प्राकृतिक मानवीय सामाजिकता का है। यह दो सिद्धांतों पर आधारित है जो रिश्तेदारों का चयन और परस्पर परोपकारिता पर निर्भर है। यह रिश्तेदार चयन या समावेशी अनुकूलता का सिद्धांत दर्शाता है कि मानवीय क्रिया की परोपकारिता जैनेटिक संबंधों की ओर (या ऐसे व्यक्ति जो जैनेटिक रूप से एक दूसरे से जुड़े हों) साधारण तौर पर उनके साझा जीन्स के समानुपाती होती है। परस्पर परोपकारिता का सिद्धांत यह कहता है कि मानव का स्वभाव आपसी सम्बंध स्थापित करने का है जो परस्पर लाभ या परस्पर हानि पर आधारित होता है जब वह समय के दौरान एक दूसरे से मिलते जुलते हैं। परस्पर परोपकारिता रिश्तेदार चयन के विपरीत जैनेटिक सम्बद्धता पर आधारित नहीं होता है हालांकि यह बार-बार प्रत्यक्ष व्यक्तिगत मेलजोल पर निर्भर है।

सामाजिक सहयोग की अवधारणा में निम्नलिखित शामिल हैं

- A. रिश्तेदार चयन
 - B. प्रज्ञानात्मक तंत्र
 - C. भावनात्मक विलगाव
 - D. पारस्परिक परोपकार
1. केवल A और B
 2. केवल B और C
 3. केवल C और D
 4. केवल A और D

[Question ID = 4422][Question Description = 149_81_GP6_SEP22_S2_Q49]

1. 1 [Option ID = 17685]
2. 2 [Option ID = 17686]
3. 3 [Option ID = 17687]
4. 4 [Option ID = 17688]

5) **Read the given passage and answer the questions that follow**

Human beings are not completely free to socially construct their own behaviour. They have a shared biological nature. The nature is remarkably uniform throughout the world, given the fact that most contemporary humans outside of Africa descended from a single relatively small group of individuals some fifty thousand years ago. This shared nature does not determine political behaviour, but it frames and limits the nature of institutions that are possible. It also means that human politics is subject to certain recurring patterns of behaviour across time and across cultures. This shared nature can be described in certain propositions like that the human beings never existed in a pre-social state.

The idea that human beings at one time existed as isolated individuals, who interacted either through anarchic violence (Hobbes) or in pacific ignorance of one another (Rousseau), is not correct. Human beings as well as their primate ancestors always lived in kin-based social groups of varying sizes. Indeed, they lived in these social units for a sufficiently long period of time that the cognitive and emotional faculties needed to promote social cooperation evolved and became hardwired in their genetic endowments. This means that a rational-choice model of collective action, in which individuals calculate that they will be better off by cooperating with one another, vastly understates the degree of social cooperation that exists in human societies and misunderstands the motives that underlie it.

The next one is the idea of natural human sociability. This is built around two principles, kin selection and reciprocal altruism. The principle of kin selection or inclusive fitness states that human beings will act altruistically toward genetic relatives (or individuals believed to be genetic relatives) in rough proportion to their shared genes. The principle of reciprocal altruism says that human beings tend to develop relationships of mutual benefit or mutual harm as they interact with other individuals over time. Reciprocal altruism, unlike kin selection, does not depend on genetic relatedness: it does, however, depend upon repeated, direct personal interaction.

The passage recognises the fact that human sociability has

1. Political determinants
2. Rational choice model
3. Integrated collective action
4. Genetic linkage

निम्नलिखित उद्धरण को पढ़ें और सम्बंधित पाँच प्रश्नों के उत्तर दें।

मानवजाति अपने व्यवहार को सामाजिक तौर पर निर्माण करने के लिए पूर्ण रूप से स्वतंत्र नहीं है उनकी जैविकीय प्रकृति समान होती है, पूरे विश्व में प्रकृति एक सामान होती है इस तथ्य को देखते हुए कि अधिकांश समकालिक मानवों की उत्पत्ति अफ्रीका के बाहर एक अपेक्षाकृत छोटे समूह के द्वारा लगभग 50 हजार वर्ष पहले हुई थी। यह परस्पर प्रकृति राजनीतिक व्यवहार को निर्धारित नहीं करती है लेकिन यह संभावित संस्थाओं की प्रकृति निर्मित और सीमित करती है। इसका तात्पर्य यह है कि समय और संस्कृतियों के क्रम में मानव राजनीति व्यवहार के कुछ विशिष्ट तरीकों से विनिर्दिष्ट होती है, इस परस्पर प्रकृति को कुछ हद तक इस तरह वर्णित किया जा सकता है कि मानवजाति समाज पूर्व स्थिति से पहले अस्तित्व में नहीं था यह विचार कि मानव जाति एक समय में पृथक व्यक्ति के तौर पर अस्तित्व में थी जो आपस में अराजकतापूर्ण हिंसा (हॉब्स) द्वारा या एक दूसरे से प्रशांत अज्ञानतावश मिलते थे (रूसो) ऐसा कहना सही नहीं है। मानवजाति और उनके पुराप्राचीन पूर्वज हमेशा आपसी संबंधों के आधार पर विभिन्न आकार के सामाजिक समूहों में रहते थे। वास्तव में वे इन सामाजिक एककों में लम्बे समय तक रहे जिससे सामाजिक सहयोग के लिए आवश्यक प्रज्ञामूलक और भावनात्मक क्षमतायें विकसित हुयीं और वे अपने जीन अक्षयनिधि से दृढ़तापूर्वक जुड़ गयीं। इसका अर्थ यह हुआ कि सामूहिक कार्य का विवेकपूर्ण-विकल्प प्रतिदर्श, जिसमें एक व्यक्ति यह समझता है कि वह आपस में सहयोग करके ही बेहतर ढंग से रह सकते हैं, बहुत हद तक सामाजिक सहयोग के महत्त्व को कमतर दिखाता है, जो मानव समाज में विद्यमान होता है और जो इसके अंतर्गत निहित इरादों को ठीक से नहीं समझता है। अगला विचार प्राकृतिक मानवीय सामाजिकता का है। यह दो सिद्धांतों पर आधारित है जो रिश्तेदारों का चयन और परस्पर परोपकारिता पर निर्भर है। यह रिश्तेदार चयन या समावेशी अनुकूलता का सिद्धांत दर्शाता है कि मानवीय क्रिया की परोपकारिता जैनेटिक संबंधों की ओर (या ऐसे व्यक्ति जो जैनेटिक रूप से एक दूसरे से जुड़े हों) साधारण तौर पर उनके साझा जीन्स के समानुपाती होती है। परस्पर परोपकारिता का सिद्धांत यह कहता है कि मानव का स्वभाव आपसी सम्बंध स्थापित करने का है जो परस्पर लाभ या परस्पर हानि पर आधारित होता है जब वह समय के दौरान एक दूसरे से मिलते जुलते हैं। परस्पर परोपकारिता रिश्तेदार चयन के विपरीत जैनेटिक सम्बद्धता पर आधारित नहीं होता है हालांकि यह बार-बार प्रत्यक्ष व्यक्तिगत मेलजोल पर निर्भर है।

उद्धरण यह मानता है कि मानवीय सामाजिकता में निहित है

1. राजनीतिक निर्धारक
2. विवेक आधारित चयन प्रतिदर्श
3. समेकित सामूहिक कार्य
4. जैनेटिक सम्बद्धता

[Question ID = 4423][Question Description = 150_81_GP6_SEP22_S2_Q50]

1. 1 [Option ID = 17689]
2. 2 [Option ID = 17690]
3. 3 [Option ID = 17691]
4. 4 [Option ID = 17692]