

PREVIEW QUESTION BANK(Dual)

Module Name : Philosophy
Exam Date : 19-Jun-2023 Batch : 15:00-18:00

Sr. No.	Client Question ID	Question Body and Alternatives	Marks	Negativ Marks																																																
Objective Question																																																				
1	1951	<p>The following table shows the number of votes polled along with the percentage (%) of valid votes and ratio of valid votes of male and females among them during an election in a college for the last five years from 2018-2022. Some values are missing in the table (indicated by '-') that you are expected to calculate if required. Based on the data in the table, answer the questions that follows.</p> <p><u>Year-wise Details of Voters Polled in an Election</u></p> <table border="1"> <thead> <tr> <th>Year</th> <th>Number of votes polled</th> <th>Percentage of valid votes polled (%)</th> <th>Ratio of valid votes of male and females</th> </tr> </thead> <tbody> <tr> <td>2018</td> <td>-</td> <td>-</td> <td>5:3</td> </tr> <tr> <td>2019</td> <td>1000</td> <td>-</td> <td>5:4</td> </tr> <tr> <td>2020</td> <td>2000</td> <td>38%</td> <td>-</td> </tr> <tr> <td>2021</td> <td>-</td> <td>60%</td> <td>7:5</td> </tr> <tr> <td>2022</td> <td>5000</td> <td>40%</td> <td>-</td> </tr> </tbody> </table> <p>In the year 2020, if the number of valid votes of females was 300 then what was the ratio of valid votes of males and females in the same year?</p> <ol style="list-style-type: none"> 15:19 13:11 23:15 13:5 <p>नीचे दी गई तालिका में वर्ष 2018 से 2022 तक पिछले पाँच वर्षों में किसी कॉलेज में चुनाव के दौरान डाले गए मतों की संख्या के साथ-साथ वैध मतों का प्रतिशत तथा उनमें से पुरुषों और महिलाओं के वैध मतों का अनुपात दर्शाया गया है। तालिका में कुछ मान दर्शाए नहीं गए हैं (इन्हें '-' द्वारा इंगित किया गया है) जिनकी यदि आवश्यकता हो तो आपसे उनकी गणना करने की अपेक्षा की जाती है। तालिका में दिए गए आंकड़ों के आधार पर उसके नीचे दिए गए प्रश्नों के उत्तर दीजिए।</p> <p>चुनाव में डाले गए मतों का वर्ष-वार विवरण</p> <table border="1"> <thead> <tr> <th>वर्ष</th> <th>डाले गए मतों की संख्या</th> <th>डाले गए वैध मतों का प्रतिशत (%)</th> <th>पुरुषों और महिलाओं के वैध मतों का अनुपात</th> </tr> </thead> <tbody> <tr> <td>2018</td> <td>—</td> <td>—</td> <td>5:3</td> </tr> <tr> <td>2019</td> <td>1000</td> <td>—</td> <td>5:4</td> </tr> <tr> <td>2020</td> <td>2000</td> <td>38%</td> <td>—</td> </tr> <tr> <td>2021</td> <td>—</td> <td>60%</td> <td>7:5</td> </tr> <tr> <td>2022</td> <td>5000</td> <td>40%</td> <td>—</td> </tr> </tbody> </table> <p>यदि वर्ष 2020 में महिलाओं के वैध मतों की संख्या 300 थी तो उस वर्ष पुरुषों और महिलाओं के वैध मतों का अनुपात कितना था?</p> <ol style="list-style-type: none"> 15:19 13:11 23:15 13:5 	Year	Number of votes polled	Percentage of valid votes polled (%)	Ratio of valid votes of male and females	2018	-	-	5:3	2019	1000	-	5:4	2020	2000	38%	-	2021	-	60%	7:5	2022	5000	40%	-	वर्ष	डाले गए मतों की संख्या	डाले गए वैध मतों का प्रतिशत (%)	पुरुषों और महिलाओं के वैध मतों का अनुपात	2018	—	—	5:3	2019	1000	—	5:4	2020	2000	38%	—	2021	—	60%	7:5	2022	5000	40%	—		
Year	Number of votes polled	Percentage of valid votes polled (%)	Ratio of valid votes of male and females																																																	
2018	-	-	5:3																																																	
2019	1000	-	5:4																																																	
2020	2000	38%	-																																																	
2021	-	60%	7:5																																																	
2022	5000	40%	-																																																	
वर्ष	डाले गए मतों की संख्या	डाले गए वैध मतों का प्रतिशत (%)	पुरुषों और महिलाओं के वैध मतों का अनुपात																																																	
2018	—	—	5:3																																																	
2019	1000	—	5:4																																																	
2020	2000	38%	—																																																	
2021	—	60%	7:5																																																	
2022	5000	40%	—																																																	

A1 1
:
1
A2 2
:
2
A3 3
:
3
A4 4
:
4

Objective Question

2 1952 The following table shows the number of votes polled along with the percentage (%) of valid votes and ratio of valid votes of male and females among them during an election in a college for the last five years from 2018-2022. Some values are missing in the table (indicated by '-') that you are expected to calculate if required. Based on the data in the table, answer the questions that follows.

Year-wise Details of Voters Polled in an Election

Year	Number of votes polled	Percentage of valid votes polled (%)	Ratio of valid votes of male and females
2018	-	-	5:3
2019	1000	-	5:4
2020	2000	38%	-
2021	-	60%	7:5
2022	5000	40%	-

If the number of votes increased by 600% from 2019 to 2023 and 76% of the votes were valid in 2023, then the number of valid votes polled in 2023 was

1. 5320
2. 5040
3. 5410
4. 4560

नीचे दी गई तालिका में वर्ष 2018 से 2022 तक पिछले पाँच वर्षों में किसी कॉलेज में चुनाव के दौरान डाले गए मतों की संख्या के साथ-साथ वैध मतों का प्रतिशत तथा उनमें से पुरुषों और महिलाओं के वैध मतों का अनुपात दर्शाया गया है। तालिका में कुछ मान दर्शाए नहीं गए हैं (इन्हें '—' द्वारा इंगित किया गया है) जिनकी यदि आवश्यकता हो तो आपसे उनकी गणना करने की अपेक्षा की जाती है। तालिका में दिए गए आंकड़ों के आधार पर उसके नीचे दिए गए प्रश्नों के उत्तर दीजिए।

चुनाव में डाले गए मतों का वर्ष-वार विवरण

वर्ष	डाले गए मतों की संख्या	डाले गए वैध मतों का प्रतिशत (%)	पुरुषों और महिलाओं के वैध मतों का अनुपात
2018	—	—	5:3
2019	1000	—	5:4
2020	2000	38%	—
2021	—	60%	7:5
2022	5000	40%	—

यदि 2019 से 2023 तक मतों की संख्या में 600% की वृद्धि हुई और 2023 में 76% मत वैध थे, तो 2023 में डाले गए वैध मतों की संख्या कितनी थी?

1. 5320
2. 5040
3. 5410
4. 4560

A1

:

1

A2

:

2

A3

:

3

A4

:

4



Objective Question

3 1953

The following table shows the number of votes polled along with the percentage (%) of valid votes and ratio of valid votes of male and females among them during an election in a college for the last five years from 2018-2022. Some values are missing in the table (indicated by '-') that you are expected to calculate if required. Based on the data in the table, answer the questions that follows.

Year-wise Details of Voters Polled in an Election

Year	Number of votes polled	Percentage of valid votes polled (%)	Ratio of valid votes of male and females
2018	-	-	5:3
2019	1000	-	5:4
2020	2000	38%	-
2021	-	60%	7:5
2022	5000	40%	-

If the average number of valid votes polled in 2019 and 2022 was 1270 then the number of valid votes polled by females in 2019 was

1. 270
2. 300
3. 210
4. 240

नीचे दी गई तालिका में वर्ष 2018 से 2022 तक पिछले पाँच वर्षों में किसी कॉलेज में चुनाव के दौरान डाले गए मतों की संख्या के साथ-साथ वैध मतों का प्रतिशत तथा उनमें से पुरुषों और महिलाओं के वैध मतों का अनुपात दर्शाया गया है। तालिका में कुछ मान दर्शाए नहीं गए हैं (इन्हें '-' द्वारा इंगित किया गया है) जिनकी यदि आवश्यकता हो तो आपसे उनकी गणना करने की अपेक्षा की जाती है। तालिका में दिए गए आंकड़ों के आधार पर उसके नीचे दिए गए प्रश्नों के उत्तर दीजिए।

चुनाव में डाले गए मतों का वर्ष-वार विवरण

वर्ष	डाले गए मतों की संख्या	डाले गए वैध मतों का प्रतिशत (%)	पुरुषों और महिलाओं के वैध मतों का अनुपात
2018	—	—	5:3
2019	1000	—	5:4
2020	2000	38%	—
2021	—	60%	7:5
2022	5000	40%	—

यदि वर्ष 2019 और 2022 में डाले गए वैध मतों की संख्या का औसत 1270 था, तो 2019 में महिलाओं द्वारा डाले गए वैध मतों की संख्या कितनी थी?

1. 270
2. 300
3. 210
4. 240

A1 : 1

1

A2 : 2

2

A3 : 3

3

A4 : 4

Objective Question

4 1954

The following table shows the number of votes polled along with the percentage (%) of valid votes and ratio of valid votes of male and females among them during an election in a college for the last five years from 2018-2022. Some values are missing in the table (indicated by '—') that you are expected to calculate if required. Based on the data in the table, answer the questions that follows.

Year-wise Details of Voters Polled in an Election

Year	Number of votes polled	Percentage of valid votes polled (%)	Ratio of valid votes of male and females
2018	—	—	5:3
2019	1000	—	5:4
2020	2000	38%	—
2021	—	60%	7:5
2022	5000	40%	—

In 2021, if the difference between the number of valid votes polled by males and females was 300, then the number of votes polled in 2021 was

1. 3690
2. 3000
3. 3120
4. 3440

नीचे दी गई तालिका में वर्ष 2018 से 2022 तक पिछले पाँच वर्षों में किसी कॉलेज में चुनाव के दौरान डाले गए मतों की संख्या के साथ-साथ वैध मतों का प्रतिशत तथा उनमें से पुरुषों और महिलाओं के वैध मतों का अनुपात दर्शाया गया है। तालिका में कुछ मान दर्शाए नहीं गए हैं (इन्हें '—' द्वारा इंगित किया गया है) जिनकी यदि आवश्यकता हो तो आपसे उनकी गणना करने की अपेक्षा की जाती है। तालिका में दिए गए आंकड़ों के आधार पर उसके नीचे दिए गए प्रश्नों के उत्तर दीजिए।

चुनाव में डाले गए मतों का वर्ष-वार विवरण

वर्ष	डाले गए मतों की संख्या	डाले गए वैध मतों का प्रतिशत (%)	पुरुषों और महिलाओं के वैध मतों का अनुपात
2018	—	—	5:3
2019	1000	—	5:4
2020	2000	38%	—
2021	—	60%	7:5
2022	5000	40%	—

यदि 2021 में पुरुषों और महिलाओं द्वारा डाले गए वैध मतों की संख्या का अंतर 300 था, तो वर्ष 2021 में डाले गए मतों की संख्या कितनी थी?

1. 3690
2. 3000
3. 3120
4. 3440

A1 1

:

1

A2 2

:

2

A3 3

:

3
A4 :
4

Objective Question

5 1955

The following table shows the number of votes polled along with the percentage (%) of valid votes and ratio of valid votes of male and females among them during an election in a college for the last five years from 2018-2022. Some values are missing in the table (indicated by '—') that you are expected to calculate if required. Based on the data in the table, answer the questions that follows.

Year-wise Details of Voters Polled in an Election

Year	Number of votes polled	Percentage of valid votes polled (%)	Ratio of valid votes of male and females
2018	-	-	5:3
2019	1000	-	5:4
2020	2000	38%	-
2021	-	60%	7:5
2022	5000	40%	-

In 2018, if the ratio of number of votes to number of valid votes was 5:4, then the number of valid votes by females in 2018 is _____% less than the number of votes polled in the same year.

1. 60
2. 30
3. 35
4. 70

नीचे दी गई तालिका में वर्ष 2018 से 2022 तक पिछले पाँच वर्षों में किसी कॉलेज में चुनाव के दौरान डाले गए मतों की संख्या के साथ-साथ वैध मतों का प्रतिशत तथा उनमें से पुरुषों और महिलाओं के वैध मतों का अनुपात दर्शाया गया है। तालिका में कुछ मान दर्शाए नहीं गए हैं (इन्हें '—' द्वारा इंगित किया गया है) जिनकी यदि आवश्यकता हो तो आपसे उनकी गणना करने की अपेक्षा की जाती है। तालिका में दिए गए आंकड़ों के आधार पर उसके नीचे दिए गए प्रश्नों के उत्तर दीजिए।

चुनाव में डाले गए मतों का वर्ष-वार विवरण

वर्ष	डाले गए मतों की संख्या	डाले गए वैध मतों का प्रतिशत (%)	पुरुषों और महिलाओं के वैध मतों का अनुपात
2018	—	—	5:3
2019	1000	—	5:4
2020	2000	38%	—
2021	—	60%	7:5
2022	5000	40%	—

यदि वर्ष 2018 में डाले गए मतों की संख्या और वैध मतों की संख्या का अनुपात 5:4 था, तो वर्ष 2018 में महिलाओं द्वारा डाले गए वैध मतों की संख्या उस वर्ष डाले गए मतों की संख्या से _____% कम है।

1. 60
2. 30
3. 35
4. 70

A1 :
1
1

A2 2
:
2
A3 3
:
3
A4 4
:
4

Objective Question

6 1956

Which of the following are the secondary laws of learning?

- A. Law of multiple response
- B. Law of Associative shifting
- C. Law of effect
- D. Law of Analogy
- E. Law of exercise

Choose the most appropriate answer from the options given below:

- 1. B, C and E only
- 2. A, B and D only
- 3. A, B and E only
- 4. C, D and E only

अधिगम के द्वितीयक नियम निम्नलिखित में से कौन से हैं?

- A. बहु प्रत्युत्तर का नियम
- B. सहचारी स्थानान्तरण का नियम
- C. प्रभाव का नियम
- D. अनुरूपता का नियम
- E. अभ्यास नियम

नीचे दिए गए विकल्पों में से सही उत्तर का चयन कीजिए:

- 1. केवल B, C, E
- 2. केवल A, B, D
- 3. केवल A, B, E
- 4. केवल C, D, E

A1 1
:
1
A2 2
:
2
A3 3
:
3
A4 4
:
4

Objective Question

7 1957

A collection of the student's work in an area, showing growth, self-reflection, and achievement is called as.

- 1. Positive practice
- 2. Personal development
- 3. Anecdotal record
- 4. Portfolios

किसी क्षेत्र में विद्यार्थियों के कार्यों का संकलन जिसमें वृद्धि, आत्म-चिंतन और उपलब्धि प्रदर्शित होती है, उसे कहा जाता है:

1. सकारात्मक व्यवहार
2. व्यक्तिगत विकास
3. उपाख्यानत्मक अभिलेख
4. पोर्टफोलियो (पत्राधान)

A1
:

1

A2
:

2

A3
:

3

A4
:

4

Objective Question

8 1958

Given below are two statements:

Statement I: Contiguity theory gives no place to effect in learning.

Statement II: Watson's theory gave emphasis on the importance of frequency or exercise in learning.

In the light of the above statements, choose the most appropriate answer from the options given below.

1. Both Statement I and Statement II are correct
2. Both Statement I and Statement II are incorrect
3. Statement I is correct but Statement II is incorrect
4. Statement I is incorrect but Statement II is correct

नीचे दो कथन दिए गए हैं:

कथन I: संसक्ति सिद्धांत अधिगम में प्रभाव हेतु कोई स्थान नहीं देता है।

कथन II: वाटसन का सिद्धांत अधिगम में आवृत्ति या अभ्यास की महत्ता पर बल देता है।

उपरोक्त कथन के आलोक में, नीचे दिए गए विकल्पों में से सही उत्तर का चयन कीजिए:

1. कथन I और II दोनों सत्य हैं
2. कथन I और II दोनों असत्य हैं
3. कथन I सत्य है, लेकिन कथन II असत्य है
4. कथन I असत्य है, लेकिन कथन II सत्य है

A1
:

1

A2
:

2

A3
:

3

A4 4
:
4

Objective Question

9 1959 Mr. Kim wants to create a live polling and feedback tool for his students in this context which of the following would be most suitable?

- A. Mentimeter
- B. Screen-casto-matic
- C. Padlet
- D. Polleverywhere
- E. Book-creator

Choose the most appropriate answer from the options given below:

- 1. B, C and E only
- 2. A, and D only
- 3. A, B and D only
- 4. C and E only

मि. किम अपने विद्यार्थियों के लिए सजीव (लाइव) मतदान एवं प्रतिपुष्टि के लिए एक उपकरण बनाना चाहता है। इस हेतु निम्नलिखित में से कौन से सर्वाधिक उपयुक्त होंगे?

- A. मेन्टीमीटर
- B. स्क्रीन कास्टो-मेटिक
- C. पैडलेट
- D. पोलिएवरीव्हेयर
- E. बुक-क्रियेटर

नीचे दिए गए विकल्पों में से सही उत्तर का चयन कीजिए:

- 1. केवल B, C, E
- 2. केवल A, D
- 3. केवल A, B, D
- 4. केवल C, E



A1 1
:
1

A2 2
:
2

A3 3
:
3

A4 4
:
4

Objective Question

10 1960

What are the different steps followed by the self-regulated learning?

- A. Setting goals
- B. Analyzing the task
- C. Regulating learning
- D. Devising plans
- E. Enacting tactics and strategies

Choose the correct answer from the options given below:

- 1. C, A, B, D, E
- 2. D, C, A, E, B
- 3. B, A, D, E, C
- 4. D, C, E, A, B

स्व - विनियमित अधिगम द्वारा अनुपालित विभिन्न सोपान निम्नलिखित में से कौन से हैं?

- A. लक्ष्य निर्धारित करना
- B. कार्य का विश्लेषण करना
- C. अधिगम को विनियमित करना
- D. योजनाओं को आविष्कृत करना
- E. युक्तियाँ एवं कार्यनीतियाँ अधिनियमित करना

नीचे दिए गए विकल्पों में से सही उत्तर का चयन कीजिए:

- 1. C, A, B, D, E
- 2. D, C, A, E, B
- 3. B, A, D, E, C
- 4. D, C, E, A, B

A1
:
1
A2
:
2
A3
:
3
A4
:
4



Objective Question

11 1961

Given below are two statements:

Statement I: In Cohort studies, samples are drawn from a generally defined population over time.

Statement II: In Trend studies, samples are drawn from sepcific well defined population.

In the light of the above statements, choose the most appropriate answer from the options given below.

- 1. Both Statement I and Statement II are correct
- 2. Both Statement I and Statement II are incorrect
- 3. Statement I is correct but Statement II is incorrect
- 4. Statement I is incorrect but Statement II is correct

नीचे दो कथन दिए गए हैं:

कथन I: सहगण अध्ययन में, प्रतिदर्श एक सामान्य रूप से परिभाषित जनसंख्या से अलग-अलग समय में लिए जाते हैं।

कथन II: उपनति अध्ययन में, प्रतिदर्श विशिष्ट भलीभाँति परिभाषित जनसंख्या से लिए जाते हैं।

उपरोक्त कथन के आलोक में, नीचे दिए गए विकल्पों में से सही उत्तर का चयन कीजिए:

1. कथन I और II दोनों सत्य हैं
2. कथन I और II दोनों असत्य हैं
3. कथन I सत्य है, लेकिन कथन II असत्य है
4. कथन I असत्य है, लेकिन कथन II सत्य है

A1
:

1

1

A2
:

2

2

A3
:

3

3

A4
:

4

4

Objective Question

12 1962

In APA style of referencing for a journal article, which of the following would come in the end?

1. last name of the author
2. title of the research article
3. page numbers
4. DOI number

किसी जर्नल के लेख के लिए ए पी ए संदर्भण शैली में, निम्नलिखित में से कौन सा अंत में आयेगा?

1. लेखक का अंतिम नाम
2. अनुसंधान लेख का शीर्षक
3. पृष्ठ संख्या
4. डी ओ आई संख्या

A1
:

1

1

A2
:

2

2

A3
:

3

3

A4
:

4

4

Objective Question

13 1963

According to UGC regulations 2018 on promotion of academic integrity , the Institutional Academic Integrity Panel will consist of

1. two members
2. three members
3. four members
4. five members

अकादमिक निष्ठा के संवर्धन संबंधी यू जी सी अधिनियम, 2018 के अनुसार, सांस्थानिक अकादमिक निष्ठा पैनल में होंगे:

1. दो सदस्य
2. तीन सदस्य
3. चार सदस्य
4. पाँच सदस्य

A1

:

1

A2

:

2

A3

:

3

A4

:

4

Objective Question

14 1964

For a negatively skewed distribution, the median would be equal to which of the following measures?

- A. Mean
- B. Mode
- C. Second quartile
- D. Fifth quartile
- E. 50th percentile

Choose the most appropriate answer from the options given below:

1. A, B and C only
2. B, C and D only
3. C, D and E only
4. A, B, C, D and E

ऋणात्मक रूप से विषम वितरण हेतु, माधिका निम्नलिखित में से किन मापों के समतुल्य होगी?

- A. माध्य
- B. बहुलक
- C. द्वितीय चतुर्थक
- D. पंचम दशयक
- E. 50 वां शतमक

नीचे दिए गए विकल्पों में से सही उत्तर का चयन कीजिए:

1. केवल A, B, C
2. केवल B, C, D
3. केवल C, D, E
4. A, B, C, D, E

A1

:

1

1
A2 2
:
2
A3 3
:
3
A4 4
:
4

Objective Question

15 1965

For which of the following p -values of a test statistic a null hypothesis is likely to be accepted

- A. 0.32 of 2%
- B. 32%
- C. 2%
- D. 0.42

Choose the correct answer from the options given below:

- 1. A and B only
- 2. B and C only
- 3. B and D only
- 4. A and C only

किसी परीक्षण सांख्यिकी के निम्नलिखित में से किन p मानों के लिए, शून्य परिकल्पना के स्वीकार्य होने की संभावना होती है?

- A. 2% का 0.32
- B. 32%
- C. 2%
- D. 0.42

नीचे दिए गए विकल्पों में से सही उत्तर का चयन कीजिए:

- 1. केवल A, B
- 2. केवल B, C
- 3. केवल B, D
- 4. केवल A, C

A1 1
:
1
A2 2
:
2
A3 3
:
3
A4 4
:
4

Objective Question

16 1966

Sharing of meaning between two positions of thought within a person is called

- 1. Selfish communication
- 2. Intra-personal communication
- 3. Inter-personal communication
- 4. Spiritual communication

एक व्यक्ति के भीतर दो वैचारिक दृष्टिकोण के बीच अर्थ को साझा करना क्या कहलाता है?

1. स्वार्थी संचार
2. अंतः वैयक्तिक संचार
3. अंतर-वैयक्तिक संचार
4. आध्यत्मिक संचार

A1
:

1

A2
:

2

A3
:

3

A4
:

4

Objective Question

17 1967

In decision-making process, group communication helps in maintaining

1. Status of top management
2. Policy deviation
3. Ethnic prejudices
4. Equilibrium related socio-emotional concerns

निर्णय लेने की प्रक्रिया में सामूहिक संचार से किसे कायम रखने में मदद मिलती है?

1. शीर्ष प्रबंधन की हैसियत
2. नीतिगत विचलन
3. नृजातीय पूर्वाग्रह
4. साम्य संबंधी सामाजिक-भावनात्मक सरोकार

A1
:

1

A2
:

2

A3
:

3

A4
:

4

Objective Question

18 1968

Which of the following are emphasized in high-context cultures?

- A. Use of Colloquialism
- B. Fractured sentences
- C. Politeness in communication
- D. Non-verbal communication
- E. Indirect phrasings

Choose the correct answer from the options given below:

- 1. A, B C only
- 2. B, C, D only
- 3. C, D, E only B
- 4. A, B, E only

निम्नलिखित उच्च संदर्भ संस्कृतियों में किस पर बल दिया जाता है?

- A. बोलचाल की शैली का प्रयोग
- B. खण्डित वाक्य
- C. संचार में विनम्रता
- D. गैर-शाब्दिक संचार
- E. अप्रत्यक्ष वाक्य विधान

नीचे दिए गए विकल्पों में से सही उत्तर का चयन कीजिए:

- 1. केवल A, B, C
- 2. केवल B, C, D
- 3. केवल C, D, E
- 4. केवल A, B, E

A1
:

1

A2
:

2

A3
:

3

A4
:

4



Objective Question

19 1969

Given below are two statements:

Statement I: Perceptual time is related to the processing of non-verbal cues or signals by us.

Statement II: Signalic or perceptual communication is related to the induction of others' communication into our brains, and this kind of communication is also known as semiotics.

In the light of the above statements, choose the correct answer from the options given below.

- 1. Both Statement I and Statement II are true
- 2. Both Statement I and Statement II are false
- 3. Statement I is true but Statement II is false
- 4. Statement I is false but Statement II is true

नीचे दो कथन दिए गए हैं:

कथन I: प्रत्यक्षज्ञानपरक समय का संबंध हमारे द्वारा गैर-शाब्दिक संकेतों या इशारों के प्रसंस्करण से है।

कथन II: सांकेतिक या प्रत्यक्षज्ञानपरक संचार का संबंध दूसरों के संचार को अपने दिमाग में शामिल करने से है, और इस प्रकार के संचार को संकेत विज्ञान कहा जाता है।

उपरोक्त कथन के आलोक में, नीचे दिए गए विकल्पों में से सही उत्तर का चयन कीजिए:

1. कथन I और II दोनों सत्य हैं
2. कथन I और II दोनों असत्य हैं
3. कथन I सत्य है, लेकिन कथन II असत्य है
4. कथन I असत्य है, लेकिन कथन II सत्य है

A1
:

1

A2
:

2

A3
:

3

A4
:

4

Objective Question

20 1970

Given below are two statements:

Statement I: The Hindu view of communication considers language as a tool to understand an illusory world.

Statement II: According to the Hindu view of communication, hearing and understanding of language are for realisation of some state c affairs.

In the light of the above statements, choose the correct answer from the options given below.

1. Both Statement I and Statement II are true
2. Both Statement I and Statement II are false
3. Statement I is true but Statement II is false
4. Statement I is false but Statement II is true

नीचे दो कथन दिए गए हैं:

कथन I: संचार के हिंदू दृष्टिकोण में भाषा को आभासी दुनिया को समझने का साधन माना जाता है।

कथन II: संचार के हिंदू दृष्टिकोण के अनुसार, भाषा को सुनना और समझना कुछ मामलों/कार्यों की अनुभूति के लिए आवश्यक है।

उपरोक्त कथन के आलोक में, नीचे दिए गए विकल्पों में से सही उत्तर का चयन कीजिए:

1. कथन I और II दोनों सत्य हैं
2. कथन I और II दोनों असत्य हैं
3. कथन I सत्य है, लेकिन कथन II असत्य है
4. कथन I असत्य है, लेकिन कथन II सत्य है

A1
:

1

A2 2
:
2
A3 3
:
3
A4 4
:
4

Objective Question

21 1971 Find the missing term in the following series 0,6,24,60,120,?,336,.....

1. 180
2. 210
3. 272
4. 316

निम्नलिखित श्रृंखला में लुप्त पद ज्ञात करें

0, 6, 24, 60, 120, ?, 336,

1. 180
2. 210
3. 272
4. 316

A1 1
:
1
A2 2
:
2
A3 3
:
3
A4 4
:
4



Objective Question

22 1972 If 'MALE' is coded as 31 and 'FEMALE' is coded as 42, then how will 'ADULT' be coded in the same scheme?

1. 35
2. 53
3. 58
4. 62

यदि 'MALE' को 31 के रूप में और 'FEMALE' को 42 के रूप में कूटरचित किया गया हो, तो उसी योजना में 'ADULT' को कैसे कूटरचित किया जाएगा?

1. 35
2. 53
3. 58
4. 62

A1 1
:
1
A2 2
:
2

2
A3
:
3
A4
:
4

Objective Question

23 1973

A rectangular sports field has dimensions $(150 \text{ m} \times 120 \text{ m})$. Its length is increased by 0.8% and width is reduced by 0.5%. What is the percent change in the area of the field?

1. $\sim 0.3\%$
2. $\sim 0.4\%$
3. $\sim 1.3\%$
4. $\sim 1.6\%$

एक आयताकार खेल मैदान का परिमाण $150 \text{ m} \times 120 \text{ m}$ है। इसकी लम्बाई में 0.80% की वृद्धि और चौड़ाई में 0.50% की कमी होती है। मैदान के क्षेत्रफल में प्रतिशत बदलाव क्या होगा?

1. $\sim 0.3\%$
2. $\sim 0.4\%$
3. $\sim 1.3\%$
4. $\sim 1.6\%$

A1
:
1
A2
:
2
A3
:
3
A4
:
4



Objective Question

24 1974

A and B can complete a work in 10 days; B and C in 12 days; C and A in 15 days. A alone can complete the work in

1. 30 days
2. 24 days
3. 36 days
4. 32 days

A और B किसी कार्य को 10 दिन में, B और C 12 दिन में, C और A 15 दिन में पूर्ण कर सकते हैं। A अकेले कार्य को कितने दिन में पूर्ण कर सकता है

1. 30 दिन
2. 24 दिन
3. 36 दिन
4. 32 दिन

A1
:
1
A2
:
2

A3 3
:
3
A4 4
:
4

Objective Question

25 1975

How many kilograms of sugar costing Rs.50 per kg should be mixed with 30kg of sugar costing Rs.45 per kg so that the mixture is worth Rs.48 per kg?

1. 50 kg
2. 48 kg
3. 45 kg
4. 42 kg

₹45 प्रति किग्रा. कीमत वाली 30 किग्रा. चीनी में ₹50 प्रति किग्रा. चीनी मिश्रित की जाए कि मिश्रण की किमत ₹48 प्रति किग्रा. हो जाए?

1. 50 किग्रा.
2. 48 किग्रा.
3. 45 किग्रा.
4. 42 किग्रा.

A1 1
:

1

A2 2
:

2

A3 3
:

3

A4 4
:

4



Objective Question

26 1976

Arrange the following group of terms in order of decreasing extension.

- A. Mammal
- B. Wildcat
- C. Feline
- D. Animal
- E. Vertebrate

Choose the correct answer from the options given below:

1. C, B, E, A, D
2. B, C, A, E, D
3. D, A, E, B, C
4. D, E, A, C, B

निम्नलिखित शब्द-समूहों को वस्त्वर्थ के अवरोही क्रम में व्यवस्थित कीजिए:

- A. स्तनपायी
- B. बनबिलाव
- C. विडाल
- D. पशु
- E. कशेरुकी

नीचे दिए गए विकल्पों में से सही उत्तर का चयन कीजिए:

1. C, B, E, A, D
2. B, C, A, E, D
3. D, A, E, B, C
4. D, E, A, C, B

A1
:

1

1

A2
:

2

2

A3
:

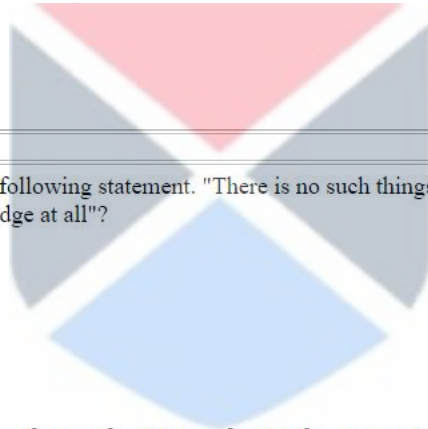
3

3

A4
:

4

4



Objective Question

27 | 1977

Which fallacy is exemplified in the following statement. "There is no such things as knowledge which cannot be carried into practice , for such knowledge is really no knowledge at all"?

1. Begging the question
2. Hasty Generalisation
3. Red Herring
4. Slippery slope

निम्नलिखित कथन में कौन सा तर्कदोष दर्शाया गया है: "ऐसे ज्ञान जैसी कोई वस्तु नहीं होती है जिसे व्यवहार में नहीं लाया जा सकता है क्योंकि ऐसा ज्ञान वास्तव में ज्ञान ही नहीं होता"?

1. आत्माश्रय दोष
2. अविचारित सामान्यीकरण
3. रेड हेरिंग
4. फिसलनयुक्त ढलान

A1
:

1

1

A2
:

2

2

A3
:

3

3

A4
:

4

4

Objective Question

28 | 1978

Which formal fallacy is committed in the following argument: "if your pet is a cat, then it has a tail. Your pet is not a cat. therefore your pet does not have a tail"?

1. Existential fallacy
2. Denying the antecedent
3. Exclusive Premises
4. Affirming the Consequent

निम्नलिखित युक्ति में कौन सा आकारिक तर्क दोष है:

"यदि बिल्ली आपकी पालतू पशु है, तो इसके पास पूँछ है। आपका पालतू पशु बिल्ली नहीं है। इसलिए आपके पालतू पशु के पास पूँछ नहीं है"?

1. अस्तित्वपरक तर्कदोष
2. हेतुवाक्य निषेध दोष
3. व्यावर्तक आधारवाक्य
4. फलवाक्य-विधान दोष

A1
:

1

A2
:

2

A3
:

3

A4
:

4



Objective Question

29 1979

Given below are two statements:

Statement I: In deductive arguments, the claim is made that conclusions follow with certainty from their premises.

Statement II: Any inductive argument, if it is good, brings to light in its conclusion what was already buried in its premises.

In the light of the above statements, choose the most appropriate answer from the options given below.

1. Both Statement I and Statement II are correct
2. Both Statement I and Statement II are incorrect
3. Statement I is correct but Statement II is incorrect
4. Statement I is incorrect but Statement II is correct

नीचे दो कथन दिए गए हैं:

कथन I: निगमनात्मक युक्ति में, यह दावा किया जाता है कि निष्कर्ष निश्चित रूप से आधारवाक्यों से फलित होते हैं।

कथन II: कोई अगमनात्मक युक्ति, यदि अच्छी होती है, तो जो इसके आधारवाक्य में पहले से छिपा होता है उसे ही अपने निष्कर्ष में प्रकाश में ले आता है।

उपरोक्त कथन के आलोक में, नीचे दिए गए विकल्पों में से सही उत्तर का चयन कीजिए:

1. कथन I और II दोनों सही हैं।
2. कथन I और II दोनों गलत हैं।
3. कथन I सही है, लेकिन कथन II गलत है।
4. कथन I गलत है, लेकिन कथन II सही है।

A1 1
:
1
A2 2
:
2
A3 3
:
3
A4 4
:
4

Objective Question

30 1980

Given below are two statements: one is labelled as Assertion A and the other is labelled as Reason R.

Assertion A: The argument that sound is eternal because it is produced, is fallacious.

Reason R: In the argument-"sound is eternal because it is produced," the middle term is contradicted by some other pramāṇa and not by inference .

In the light of the above statements, choose the correct answer from the options given below.

1. Both A and R are true and R is the correct explanation of A
2. Both A and R are true but R is NOT the correct explanation of A
3. A is true but R is false
4. A is false but R is true

नीचे दो कथन दिए गए हैं, एक अभिकथन (Assertion A) के रूप में लिखित है तो दूसरा उसके कारण (Reason R) के रूप में:

अभिकथन A: यह युक्ति कि ध्वनी शाश्वत है क्योंकि वह उत्पादित होती है, तर्कदोषपूर्ण है।

कारण R: "ध्वनी शाश्वत है क्योंकि वह उत्पादित होती है" - इस युक्ति में मध्य पद अनुमान से नहीं किन्तु किसी अन्य प्रमाण से व्याधातित होता है।

उपरोक्त कथन के आलोक में, नीचे दिए गए विकल्पों में से सबसे उपयुक्त उत्तर का चयन कीजिए:

1. A और R दोनों सही हैं और R, A की सही व्याख्या है
2. A और R दोनों सही हैं और R, A की सही व्याख्या नहीं है
3. A सही है लेकिन R सही नहीं है
4. A सही नहीं है लेकिन R सही है

A1 1
:
1
A2 2
:
2
A3 3
:
3
A4 4
:
4

Objective Question

31 1981

What is the name of the computing term described below?

Software that gives the user the chance to try it out free of charge before actually buying it. The software is subject to the usual copyright laws. As a rule, not all the features found in the full version are available at this stage.

1. Freeware
2. Shareware
3. Firmware
4. Malware

नीचे वर्णित परिकलन पद का क्या नाम है? ऐसा साफ्टवेयर जिसे वास्तव में खरीदने से पहले प्रयोक्ता को उसका निशुल्क प्रयोग करने का अवसर मिलता है। यह साफ्टवेयर सामान्य स्वत्वाधिकार कानूनों के अधधीन है। नियमतः संपूर्ण रूप में विद्यमान सभी विशिष्टताएं इस चरण में उपलब्ध नहीं होती हैं।

1. फ्रीवेयर
2. शेयरवेयर
3. फर्मवेयर
4. मालवेयर

A1
:

1

A2
:

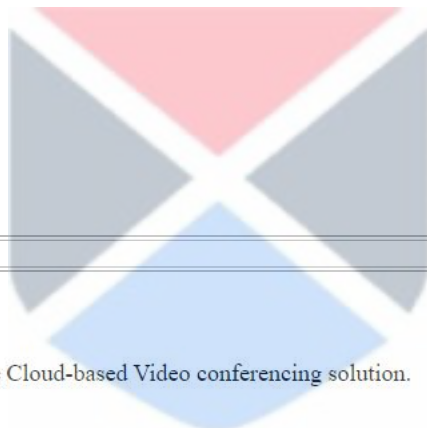
2

A3
:

3

A4
:

4



Objective Question

32 1982

Given below are two statements:

Statement I: Google Meet is a pure Cloud-based Video conferencing solution.

Statement II: Google Meet provides clouds storage as well as the ability to open and modify documents online.

In the light of the above statements, choose the correct answer from the options given below.

1. Both Statement I and Statement II are true
2. Both Statement I and Statement II are false
3. Statement I is true but Statement II is false
4. Statement I is false but Statement II is true

नीचे दो कथन दिए गए हैं:

कथन I: गूगल मीट एक विशुद्ध क्लाउड आधारित वीडियो कान्फ्रेंसिंग सॉल्यूशन है।

कथन II: गूगल मीट क्लाउड भंडारण और साथ ही दस्तावेजों को ऑनलाइन खोलने और संशोधित करने का सामर्थ्य प्रदान करता है।

उपरोक्त कथन के आलोक में, नीचे दिए गए विकल्पों में से सही उत्तर का चयन कीजिए:

1. कथन I और II दोनों सत्य हैं
2. कथन I और II दोनों असत्य हैं
3. कथन I सत्य है, लेकिन कथन II असत्य है
4. कथन I असत्य है, लेकिन कथन II सत्य है

A1 1
:
1
A2 2
:
2
A3 3
:
3
A4 4
:
4

Objective Question

33 1983

Given below are two statements:

Statement I: Solid State Drives (SSDs) are considerably faster than Hard Disk Drives (HDDs) when it comes to data access.

Statement II: RAM is much faster to write to or read from in comparison to secondary memory such as hard disk, but its main drawback is its volatility.

In the light of the above statements, choose the correct answer from the options given below.

1. Both Statement I and Statement II are true
2. Both Statement I and Statement II are false
3. Statement I is true but Statement II is false
4. Statement I is false but Statement II is true

नीचे दो कथन दिए गए हैं:

कथन I: डेटा अभिगम के संबंध में हार्डडिस्क ड्राइव (HDD) की अपेक्षा सॉलिड स्टेट ड्राइव (SSD) काफी तीव्र होती है।

कथन II: हार्ड डिस्क जैसी द्वितीयक स्मृति की तुलना में लिखने अथवा उससे पढ़ने में आर ए एम अधिक तीव्र है परन्तु इसकी मुख्य कमी इसकी लोपशीलता है।

उपरोक्त कथन के आलोक में, नीचे दिए गए विकल्पों में से सही उत्तर का चयन कीजिए:

1. कथन I और II दोनों सत्य हैं
2. कथन I और II दोनों असत्य हैं
3. कथन I सत्य है, लेकिन कथन II असत्य है
4. कथन I असत्य है, लेकिन कथन II सत्य है

A1 1
:
1
A2 2
:
2
A3 3
:
3
A4 4
:
4

Objective Question

34 1984

You and your friend decided to go to Goa after you finish your finals. however your demanding parents set a couple of conditions to join your friends (see MS-EXCEL spreadsheet below)

	A	B	C	D
1	Category of condition	Minimal results needed	Actual results	Allowed (Yes/No)?
2	Hours spent on homework weekly	2	3	
3	Midterm score	70	68	
4	Final exam score	75	77	

Imagine your parents ask you to either meet the final exam score condition or both if the two remaining (homework and midterm) conditions. Which of the following formulas A-C can be used in the cell D2 to answer the question: will you be able to join your friends with the results given?

A. = IF (C4>=B4, "Yes", IF (AND(C2>=B2, C3>=B3), "Yes", "No"))

B. = IF (AND (C2>= B2, C3>=B3), "Yes", IF (C4>=B4, "Yes", "No"))

C. = IF (OR (AND (C2>=B2, C3>=B3), C4>=B4), "Yes", "No")

Choose the correct answer from the options given below:

1. A and B only
2. A and C only
3. B and C only
4. A, B and C

अंतिम परीक्षा समाप्त होने के बाद आप और आपके मित्रों ने गोवा जाने का निर्णय किया है। तथापि आपके कठोर माता-पिता ने आपको अपने मित्रों के साथ जाने की अनुमति देने के लिए कुछ शर्तें रखी हैं। (नीचे एम एक्स-एक्सेल स्प्रेडशीट देखिए)

	A	B	C	D
1	शर्त की श्रेणी	न्यूनतम आवश्यक परिणाम	वास्तविक परिणाम	अनुमति दी गई (Yes/No)
2	प्रति सप्ताह गृहकार्य पर व्यय घंटे	2	3	
3	मध्यावधि अंक	70	68	
4	अंतिम परीक्षा अंक	75	77	

कल्पना कीजिए कि आपके माता पिता आपसे अंतिम परीक्षा अंक संबंधी शर्त अथवा शेष दोनों (गृह कार्य व मध्यावधि) शर्तों को पूरा करने के लिए कह रहे हैं। इस प्रश्न का उत्तर देने के लिए आप निम्न सूत्रों A – B में से प्रकोष्ठ C2 में आप किन सूत्रों का प्रयोग करेंगे: प्रदत्त परिणाम से क्या आप अपने मित्रों के साथ जा सकेंगे?

A. = IF (C4 >= B4, "YES", IF (AND(C2 >= B2, C3 >= B3), "YES", "NO"))

B. = IF (AND(C2 >= B2, C3 >= B3), "YES", IF (C4 >= B4, "YES", "NO"))

C. = IF (OR(AND(C2 >= B2, C3 >= B3), C4 >= B4), "YES", "NO")

नीचे दिए गए विकल्पों में से सही उत्तर का चयन कीजिए:

1. केवल A और B
2. केवल A और C
3. केवल B और C
4. A, B और C

A1 1

:

1

A2 2

:

2

A3 3
:
3
A4 4
:
4

Objective Question

35 1985

Match List I with List II

Computer term	Defination
A. Router	I. The rules that govern the division of a file into packets and subsequent reassembly of the file from those packets
B. Firewall	II. An organization assigned responsibility for reducing problems and incidents related to computer security.
C. CERT-In	III. A device that provides perimeter security by filtering packets.
D. Transmission Control Protocol	IV. A device that uses the Internet Protocol (IP) to send packets across network.

Choose the correct answer from the options given below:

1. A-IV, B-II, C-III, D-I
2. A-IV, B-III, C-II, D-I
3. A-I, B-III, C-II, D-IV
4. A-II, B-III, C-IV, D-I

सूची I का सूची II से मिलान कीजिए

सूची I कंप्यूटर पद	सूची II परिभाषा
A. राउटर	I. फाईल को पैकेटों में विभाजित करने व तदनन्तर उन पैकेटों से फाईल को पुनः जोड़ने को शासित करने वाले नियम
B. फायरवाल	II. कंप्यूटर सुरक्षा संबंधी समस्याओं व घटनाओं के समाधान के उत्तरदायित्व वाला संगठन
C. सी ई आर टी - इन	III. पैकेटों को फिल्टर कर परिधि सुरक्षा प्रदान करने की युक्ति
D. संचरण नियंत्रण प्रोटोकॉल	IV. नेटवर्कों के पार पैकेट भेजन के लिए इंटरनेट प्रोटोकॉल (आई पी) का प्रयोग करने वाली युक्ति

निम्नलिखित विकल्पों में से सही उत्तर का चयन कीजिए :

1. A-IV, B-II, C-III, D-I
2. A-IV, B-III, C-II, D-I
3. A-I, B-III, C-II, D-IV
4. A-I, B-III, C-IV, D-I

A1 1
:
1
A2 2
:
2
A3 3
:
3
A4 4
:
4

Objective Question

36 1986

When was the Environmental Protection Act (1986) last amended .

1. 1990
2. 1991
3. 1992
4. 1993

पर्यावरण संरक्षण अधिनियम (1986) में अंतिम बार संशोधन कब किया गया था?

1. 1990
2. 1991
3. 1992
4. 1993

A1
:

1

1

A2
:

2

2

A3
:

3

3

A4
:

4

4

Objective Question

37 1987

Given below are two statements:

Statement I: Stratospheric ozone is known as 'good ozone'.

Statement II: Ozone at the surface level is a serious health hazard and known as pollutant.

In the light of the above statements, choose the most appropriate answer from the options given below.

1. Both Statement I and Statement II are correct
2. Both Statement I and Statement II are incorrect
3. Statement I is correct but Statement II is incorrect
4. Statement I is incorrect but Statement II is correct

नीचे दो कथन दिए गए हैं:

कथन I: समतापीय ओजोन 'गुड ओजोन' के रूप में ज्ञात है।

कथन II: धरातल पर ओजोन स्वास्थ्य के लिए गंभीर जोखिम है और प्रदूषक के रूप में ज्ञात है।

उपरोक्त कथन के आलोक में, नीचे दिए गए विकल्पों में से सही उत्तर का चयन कीजिए:

1. कथन I और II दोनों सत्य हैं
2. कथन I और II दोनों असत्य हैं
3. कथन I सत्य है, लेकिन कथन II असत्य है
4. कथन I असत्य है, लेकिन कथन II सत्य है

A1
:

1

1

A2 2
:
2
A3 3
:
3
A4 4
:
4

Objective Question

38 1988

Many nations blend petrol with ethanol to reduce the emission of CO. The mixture is known as

1. Gasol
2. Petrohol
3. Gasohol
4. Ethopetrol

अनेक राष्ट्र CO के उत्सर्जन में कमी लाने के लिए पेट्रोल का इथेनॉल के साथ मिश्रण करते हैं। यह मिश्रण निम्न में से किस रूप में ज्ञात है?

1. गैसोल
2. पेट्रोहोल
3. गैसोहोल
4. इथोपेट्रोल

A1 1
:
1
A2 2
:
2
A3 3
:
3
A4 4
:
4



Objective Question

39 1989

Given below are two statements:

Statement I: Screen chamber in wastewater treatment is used to remove small and heavy suspended solids.

Statement II: Grit chamber in waste water treatment is used to remove large floating materials.

In the light of the above statements, choose the most appropriate answer from the options given below.

1. Both Statement I and Statement II are correct
2. Both Statement I and Statement II are incorrect
3. Statement I is correct but Statement II is incorrect
4. Statement I is incorrect but Statement II is correct

नीचे दो कथन दिए गए हैं:

कथन I: अपशिष्ट जल उपचार में स्क्रीन चेंबर का प्रयोग छोटे और भारी प्रलंबित ठोस पदार्थों को हटाने के लिए किया जाता है।

कथन II: अपशिष्ट जल उपचार में ग्रिट चेंबर का प्रयोग तिरने वाली वृहद सामग्री को हटाने के लिए किया जाता है।

उपरोक्त कथन के आलोक में, नीचे दिए गए विकल्पों में से सही उत्तर का चयन कीजिए:

1. कथन I और II दोनों सत्य हैं
2. कथन I और II दोनों असत्य हैं
3. कथन I सत्य है, लेकिन कथन II असत्य है
4. कथन I असत्य है, लेकिन कथन II सत्य है

A1
:

1

A2
:

2

A3
:

3

A4
:

4

Objective Question

40 1990

Which one of the following gases has the maximum Global Warming Potential(GWP)

1. Methane (CH₄)
2. Nitrous Oxide (N₂O)
3. Carbon dioxide (CO₂)
4. Carbon Monoxide (CO)

निम्नलिखित में से कौन सी गैस अप्रत्यक्ष रूप से ग्रीन हाउसइफेक्ट का कारण बन सकती है?

1. मीथेन (CH₄)
2. नाइट्रस ऑक्साइड (N₂O)
3. कार्बन डाईऑक्साइड (CO₂)
4. कार्बन मोनोऑक्साइड (CO)

A1
:

1

A2
:

2

A3
:

3

A4
:

4

Objective Question

41 1991

The college that was exclusively meant for the education of Indian princes before independence was

1. Reid college, Lucknow
2. Daly college, Indore
3. St. Xavier college, Kolkata
4. Forman College, Lahore

निम्नलिखित में से वह कौन सा महाविद्यालय है जो स्वतंत्रता पूर्व अनन्य रूप से भारतीय राजकुमारों की शिक्षा के लिए था?

1. रीड कॉलेज, लखनऊ
2. डेली कॉलेज, इंदौर
3. सेंट जेवियर कॉलेज, कोलकाता
4. फोरमैन कॉलेज, लाहौर

A1
:

1

1

A2
:

2

2

A3
:


3

3

A4
:

4

4



Objective Question

42 1992

Which of the following institutions was established before Indian independence?

1. ICSSR
2. AICTE
3. ICHR
4. ICPR

भारतीय स्वाधीनता से पहले निम्नलिखित संस्थानों में से किसकी स्थापना की गई थी?

1. आई सी एस एस आर
2. ए आई सी टी ई
3. आई सी एच आर
4. आई सी पी आर

A1
:

1

1

A2
:

2

2

A3
:

3

3

A4
:

4

4

Objective Question

43 1993

Which of the following were the recommendations of the Radhakrishnan Commission regarding medium of instruction in higher education?

- The medium of higher education should be in regional language.
- Immediate steps should be taken to prepare scientific and technical terminologies in federal languages.
- All the federal languages must be written in Devanagari script.
- International and scientific terminological words should be avoided.
- English should be banished from the higher education field in India immediately.

Choose the correct answer from the options given below:

- A, B and C only
- B, C and D only
- C, D and E only
- A, D and E only

उच्च शिक्षा में अनुदेशन के माध्यम के संबंध में राधाकृष्णन आयोग की निम्न में से कौन-सी अनुशंसाएं थीं?

- उच्च शिक्षा का माध्यम क्षेत्रीय भाषाएं होनी चाहिए।
- संघीय भाषाओं में वैज्ञानिक व तकनीकी शब्दावली तैयार करने के लिए तत्काल कदम उठाए जाने चाहिए।
- सभी संघीय भाषाओं को अनिवार्य रूप से देवनागरी में लिखा जाना चाहिए।
- अंतर्राष्ट्रीय व वैज्ञानिक शब्दावली के शब्दों का परिहार किया जाना चाहिए।
- भारत में उच्च शिक्षा क्षेत्र से अंग्रेजी को तत्काल बहिष्कृत कर देना चाहिए।

नीचे दिए गए विकल्पों में से सही उत्तर का चयन कीजिए:

- केवल A, B, C
- केवल B, C, D
- केवल C, D, E
- केवल A, D, E

A1
:

1

A2
:

2

A3
:

3

A4
:

4



Objective Question

44 1994

Given below are two statements:

Statement I: According to NEP, 2020, value-based education shall include universal values and scientific temper.

Statement II: Value based education did not include life skills and constitutional values as per the NEP document.

In the light of the above statements, choose the correct answer from the options given below.

- Both Statement I and Statement II are true
- Both Statement I and Statement II are false
- Statement I is true but Statement II is false
- Statement I is false but Statement II is true

नीचे दो कथन दिए गए हैं:

कथन I: राष्ट्रीय शिक्षा नीति, 2020 के अनुसार, मूल्य आधारित शिक्षा में सार्वभौमिक मूल्य और वैज्ञानिक मनोदशा शामिल होगी।

कथन II: राष्ट्रीय शिक्षा नीति दस्तावेज के अनुसार, मूल्य आधारित शिक्षा में जीवन-कौशल और संवैधानिक मूल्य शामिल नहीं किये गये।

उपरोक्त कथन के आलोक में, नीचे दिए गए विकल्पों में से सही उत्तर का चयन कीजिए:

1. कथन I और II दोनों सत्य हैं
2. कथन I और II दोनों असत्य हैं
3. कथन I सत्य है, लेकिन कथन II असत्य है
4. कथन I असत्य है, लेकिन कथन II सत्य है

A1

:

1

A2

:

2

A3

:

3

A4

:

4

Objective Question

45 1995

Higher education in ancient India was based on an integrated system of

- A. Ahimsa (Non-violence)
- B. Dharma (Religion)
- C. Darshan (Philosophy)
- D. Arth Shastra (Economics)
- E. Niti (Ethics)

Choose the correct answer from the options given below:

1. A, B and C only
2. A, C and D only
3. A, D and E only
4. B, C, D and E only

प्राचीन भारत में उच्च शिक्षा निम्न में से किस-किस की समाकलित प्रणाली पर आधारित थी?

- A. अहिंसा
- B. धर्म
- C. दर्शन
- D. अर्थशास्त्र
- E. नीति


नीचे दिए गए विकल्पों में से सही उत्तर का चयन कीजिए:

1. केवल A, B, C
2. केवल A, C, D
3. केवल A, D, E
4. केवल B, C, D, E

A1

:

1



A2 2
:
2
A3 3
:
3
A4 4
:
4

Objective Question

46 1996

Read the following passage and answer the question (46-50) that follows:

Political freedom and economic justice are two sides of democracy; both are essential. We should lay stress on the improvements of the economic conditions of the people as well as on liberty and freedom. No society can claim to be democratic if it does not permit political liberty, freedom of conscience, freedom of choice between parties, and opportunities of peaceful and orderly changes of Government.

In the context of the international situation, there are many misunderstandings. We can build peace even on the basis of misunderstandings. When once peace is built, misunderstandings will diminish.


We, in our country, are now engaged in the enterprise of effecting a social and economic revolution. The word 'revolution' need not scare us. It does not mean barricades and bloodshed. It means only speedy and drastic changes. We are interested not only in our objectives but in our methods; not only in what we achieve but in how we achieve. Through peaceful, constitutional processes we won our independence and integrated our country; and now we are striving to raise the material standards of our people. Even if we meet defeat in our attempt to replace force by persuasion, the politics of power by the politics of brotherhood, we are convinced that the defeat will be only temporary, for goodness is rooted in the nature of things; kindness and love are as contagious as unkindness and hate.

For a democratic society it is essential to have

- A. Complete literacy
- B. Political freedom
- C. Freedom of individual
- D. Population control
- E. Economic justice

Choose the correct answer from the options given below:

1. A, B and E only
2. B, C and D only
3. C and E only
4. B, C and E only



निम्नलिखित गद्यांश को ध्यानपूर्वक पढ़िए और उसके नीचे दिए गए प्रश्नों के उत्तर दीजिए:

राजनीतिक स्वतंत्रता और आर्थिक न्याय लोकतंत्र के दो पहलू हैं, दोनों ही अनिवार्य हैं। हमें लोगों की आर्थिक स्थितियों में सुधार के साथ-साथ स्वाधीनता और स्वतंत्रता पर भी बल देना चाहिए। यदि कोई भी समाज राजनीतिक स्वाधीनता, अंतरात्मा की स्वतंत्रता, विभिन्न दलों के बीच विकल्प चुनने की स्वतंत्रता तथा सरकार के शांतिपूर्ण और व्यवस्थित बदलावों के अवसरों की अनुमति नहीं देता है तो वह लोकतांत्रिक होने का दावा नहीं कर सकता है। अंतरराष्ट्रीय स्थिति के संदर्भ में कई गलतफहमियां हैं। हम गलतफहमियों के आधार पर भी शांति स्थापित कर सकते हैं। एक बार शांति स्थापित होने के बाद गलतफहमियां कम हो जाएंगी।

हम अपने देश में अब सामाजिक और आर्थिक क्रांति लाने के उद्यम में लगे हुए हैं। हमें 'क्रांति' शब्द से भयभीत होने की आवश्यकता नहीं है। इसका अनाकाबंदी और खून-खराबा नहीं है। इसके अर्थ केवल शीघ्र और बड़े बदलाव करना है। हमें केवल अपने उद्देश्यों का ही नहीं, बल्कि उन्हें प्राप्त करने के विधियों का भी ध्यान रखना है, केवल साध्य का ही नहीं, बल्कि साधन का भी ध्यान रखना है। हमने शांतिपूर्ण, संवैधानिक प्रक्रियाओं के माध्यम से अपने स्वतंत्रता प्राप्त की और अपने देश को एकता के सूत्र में बांधा, और अब हम अपने लोगों के भौतिक स्तर को ऊँचा उठाने के लिए प्रयासरत हैं। यहाँ तक कि यदि हमें बल के स्थान पर अनुनय का और सत्ता की राजनीति के स्थान पर बंधुत्व की राजनीति का उपयोग करने के अपने प्रयास में पराजय मिलती है, तो भी हमें पक्का विश्वास है कि यह पराजय केवल अस्थायी होगी, क्योंकि अच्छाई चीजों की प्रकृति में निहित है, दयालुता और प्रेमभाव उतने ही संक्रामक है जितनी कि निर्दयता और घृणा।

लोकतांत्रिक समाज के लिए निम्नलिखित में से क्या अनिवार्य है?

- पूर्ण साक्षरता
- राजनीतिक स्वतंत्रता
- व्यक्ति की स्वतंत्रता
- जनसंख्या नियंत्रण
- आर्थिक न्याय

नीचे दिए गए विकल्पों में से सही उत्तर का चयन कीजिए:

- केवल A, B और E
- केवल B, C और D
- केवल C और E
- केवल B, C और E

A1 1
:
1
A2 2
:
2
A3 3
:
3
A4 4
:
4



Objective Question

47 1997

Read the following passage and answer the question (46-50) that follows:

Political freedom and economic justice are two sides of democracy; both are essential. We should lay stress on the improvements of the economic conditions of the people as well as on liberty and freedom. No society can claim to be democratic if it does not permit political liberty, freedom of conscience, freedom of choice between parties, and opportunities of peaceful and orderly changes of Government.

In the context of the international situation, there are many misunderstandings. We can build peace even on the basis of misunderstandings. When once peace is built, misunderstandings will diminish.

We, in our country, are now engaged in the enterprise of effecting a social and economic revolution. The word 'revolution' need not scare us. It does not mean barricades and bloodshed. It means only speedy and drastic changes. We are interested not only in our objectives but in our methods; not only in what we achieve but in how we achieve. Through peaceful, constitutional processes we won our independence and integrated our country; and now we are striving to raise the material standards of our people. Even if we meet defeat in our attempt to replace force by persuasion, the politics of power by the politics of brotherhood, we are convinced that the defeat will be only temporary, for goodness is rooted in the nature of things; kindness and love are as contagious as unkindness and hate.

The word 'revolution' in the passage implies

1. Bloodshed
2. Violent protests
3. Political transformation
4. Social and economic transformation

निम्नलिखित गद्यांश को ध्यानपूर्वक पढ़िए और उसके नीचे दिए गए प्रश्नों के उत्तर दीजिए:

राजनीतिक स्वतंत्रता और आर्थिक न्याय लोकतंत्र के दो पहलू हैं, दोनों ही अनिवार्य हैं। हमें लोगों की आर्थिक स्थितियों में सुधार के साथ-साथ स्वाधीनता और स्वतंत्रता पर भी बल देना चाहिए। यदि कोई भी समाज राजनीतिक स्वाधीनता, अंतरात्मा की स्वतंत्रता, विभिन्न दलों के बीच विकल्प चुनने की स्वतंत्रता तथा सरकार के शांतिपूर्ण और व्यवस्थित बदलावों के अवसरों की अनुमति नहीं देता है तो वह लोकतांत्रिक होने का दावा नहीं कर सकता है। अंतरराष्ट्रीय स्थिति के संदर्भ में कई गलतफहमियां हैं। हम गलतफहमियों के आधार पर भी शांति स्थापित कर सकते हैं। एक बार शांति स्थापित होने के बाद गलतफहमियां कम हो जाएंगी।

हम अपने देश में अब सामाजिक और आर्थिक क्रांति लाने के उद्यम में लगे हुए हैं। हमें 'क्रांति' शब्द से भयभीत होने की आवश्यकता नहीं है। इसका अनाकाबंदी और खून-खराबा नहीं है। इसके अर्थ केवल शीघ्र और बड़े बदलाव करना है। हमें केवल अपने उद्देश्यों का ही नहीं, बल्कि उन्हें प्राप्त करने के विधियों का भी ध्यान रखना है, केवल साध्य का ही नहीं, बल्कि साधन का भी ध्यान रखना है। हमने शांतिपूर्ण, संवैधानिक प्रक्रियाओं के माध्यम से अपने स्वतंत्रता प्राप्त की और अपने देश को एकता के सूत्र में बांधा, और अब हम अपने लोगों के भौतिक स्तर को ऊँचा उठाने के लिए प्रयासरत हैं। यहाँ तक कि यदि हमें बल के स्थान पर अनुनय का और सत्ता की राजनीति के स्थान पर बंधुत्व की राजनीति का उपयोग करने के अपने प्रयास में पराजय मिलती है, तो भी हमें पक्का विश्वास है कि यह पराजय केवल अस्थायी होगी, क्योंकि अच्छाई चीजों की प्रकृति में निहित है, दयालुता और प्रेमभाव उतने ही संक्रामक है जितनी कि निर्दयता और घृणा।

गद्यांश में 'क्रांति' शब्द का निहितार्थ है

1. खून-खराबा
2. हिंसक विरोध प्रदर्शन
3. राजनीतिक बदलाव
4. सामाजिक और आर्थिक बदलाव

A1

:

1

A2

:

2

A3

:

3

A4

:

4

Objective Question

48 1998

Read the following passage and answer the question (46-50) that follows:

Political freedom and economic justice are two sides of democracy; both are essential. We should lay stress on the improvements of the economic conditions of the people as well as on liberty and freedom. No society can claim to be democratic if it does not permit political liberty, freedom of conscience, freedom of choice between parties, and opportunities of peaceful and orderly changes of Government.

In the context of the international situation, there are many misunderstandings. We can build peace even on the basis of misunderstandings. When once peace is built, misunderstandings will diminish.

We, in our country, are now engaged in the enterprise of effecting a social and economic revolution. The word 'revolution' need not scare us. It does not mean barricades and bloodshed. It means only speedy and drastic changes. We are interested not only in our objectives but in our methods; not only in what we achieve but in how we achieve. Through peaceful, constitutional processes we won our independence and integrated our country; and now we are striving to raise the material standards of our people. Even if we meet defeat in our attempt to replace force by persuasion, the politics of power by the politics of brotherhood, we are convinced that the defeat will be only temporary, for goodness is rooted in the nature of things; kindness and love are as contagious as unkindness and hate.

Which of the following traits of human nature are considered to be contagious?

- A. Honesty
- B. Kindness
- C. Love
- D. Hate
- E. Integrity

Choose the correct answer from the options given below:

- 1. A, B and C only
- 2. B, C and D only
- 3. C and D only
- 4. B, D and E only

निम्नलिखित गद्यांश को ध्यानपूर्वक पढ़िए और उसके नीचे दिए गए प्रश्नों के उत्तर दीजिए:

राजनीतिक स्वतंत्रता और आर्थिक न्याय लोकतंत्र के दो पहलू हैं, दोनों ही अनिवार्य हैं। हमें लोगों की आर्थिक स्थितियों में सुधार के साथ-साथ स्वाधीनता और स्वतंत्रता पर भी बल देना चाहिए। यदि कोई भी समाज राजनीतिक स्वाधीनता, अंतरात्मा की स्वतंत्रता, विभिन्न दलों के बीच विकल्प चुनने की स्वतंत्रता तथा सरकार के शांतिपूर्ण और व्यवस्थित बदलावों के अवसरों की अनुमति नहीं देता है तो वह लोकतांत्रिक होने का दावा नहीं कर सकता है। अंतरराष्ट्रीय स्थिति के संदर्भ में कई गलतफहमियां हैं। हम गलतफहमियों के आधार पर भी शांति स्थापित कर सकते हैं। एक बार शांति स्थापित होने के बाद गलतफहमियां कम हो जाएंगी।

हम अपने देश में अब सामाजिक और आर्थिक क्रांति लाने के उद्यम में लगे हुए हैं। हमें 'क्रांति' शब्द से भयभीत होने की आवश्यकता नहीं है। इसका अनाकाबंदी और खून-खराबा नहीं है। इसके अर्थ केवल शीघ्र और बड़े बदलाव करना है। हमें केवल अपने उद्देश्यों का ही नहीं, बल्कि उन्हें प्राप्त करने के विधियों का भी ध्यान रखना है, केवल साध्य का ही नहीं, बल्कि साधन का भी ध्यान रखना है। हमने शांतिपूर्ण, संवैधानिक प्रक्रियाओं के माध्यम से अपन स्वतंत्रता प्राप्त की और अपने देश को एकता के सूत्र में बांधा, और अब हम अपने लोगों के भौतिक स्तर को उँचा उठाने के लिए प्रयासरत हैं। यहाँ तक कि यदि हमें बल के स्थान पर अनुनय का और सत्ता की राजनीति के स्थान पर बंधुत्व की राजनीति का उपयोग करने के अपने प्रयास में पराजय मिलती है, तो भी हमें पक्का विश्वास है कि यह पराजय केवल अस्थायी होगी, क्योंकि अच्छाई चीजों की प्रकृति में निहित है, दयालुता और प्रेमभाव उतने ही संक्रामक है जितनी कि निर्दयता और घृणा।

निम्नलिखित में से मानव प्रकृति के किन गुणों को संक्रामक माना जाता है?

- A. ईमानदारी
- B. दयालुता
- C. प्रेमभाव
- D. घृणा
- E. सत्यनिष्ठा

नीचे दिए गए विकल्पों में से सही उत्तर का चयन कीजिए:

- 1. केवल A, B और C
- 2. केवल B, C और D
- 3. केवल C और D
- 4. केवल B, D और E

A1 1
:
1
A2 2
:
2
A3 3
:
3
A4 4
:
4

Objective Question

49 1999

Read the following passage and answer the question (46-50) that follows:

Political freedom and economic justice are two sides of democracy; both are essential. We should lay stress on the improvements of the economic conditions of the people as well as on liberty and freedom. No society can claim to be democratic if it does not permit political liberty, freedom of conscience, freedom of choice between parties, and opportunities of peaceful and orderly changes of Government.

In the context of the international situation, there are many misunderstandings. We can build peace even on the basis of misunderstandings. When once peace is built, misunderstandings will diminish.

We, in our country, are now engaged in the enterprise of effecting a social and economic revolution. The word 'revolution' need not scare us. It does not mean barricades and bloodshed. It means only speedy and drastic changes. We are interested not only in our objectives but in our methods; not only in what we achieve but in how we achieve. Through peaceful, constitutional processes we won our independence and integrated our country; and now we are striving to raise the material standards of our people. Even if we meet defeat in our attempt to replace force by persuasion, the politics of power by the politics of brotherhood, we are convinced that the defeat will be only temporary, for goodness is rooted in the nature of things; kindness and love are as contagious as unkindness and hate.

Economic standards of people could be raised by

1. Force
2. Politics of power
3. Politics of Brotherhood
4. Politics of exclusion

निम्नलिखित गद्यांश को ध्यानपूर्वक पढ़िए और उसके नीचे दिए गए प्रश्नों के उत्तर दीजिए:

राजनीतिक स्वतंत्रता और आर्थिक न्याय लोकतंत्र के दो पहलू हैं, दोनों ही अनिवार्य हैं। हमें लोगों की आर्थिक स्थितियों में सुधार के साथ-साथ स्वाधीनता और स्वतंत्रता पर भी बल देना चाहिए। यदि कोई भी समाज राजनीतिक स्वाधीनता, अंतरात्मा की स्वतंत्रता, विभिन्न दलों के बीच विकल्प चुनने की स्वतंत्रता तथा सरकार के शांतिपूर्ण और व्यवस्थित बदलावों के अवसरों की अनुमति नहीं देता है तो वह लोकतांत्रिक होने का दावा नहीं कर सकता है। अंतरराष्ट्रीय स्थिति के संदर्भ में कई गलतफहमियां हैं। हम गलतफहमियों के आधार पर भी शांति स्थापित कर सकते हैं। एक बार शांति स्थापित होने के बाद गलतफहमियां कम हो जाएंगी।

हम अपने देश में अब सामाजिक और आर्थिक क्रांति लाने के उद्यम में लगे हुए हैं। हमें 'क्रांति' शब्द से भयभीत होने की आवश्यकता नहीं है। इसका अनाकाबंदी और खून-खराबा नहीं है। इसके अर्थ केवल शीघ्र और बड़े बदलाव करना है। हमें केवल अपने उद्देश्यों का ही नहीं, बल्कि उन्हें प्राप्त करने के विधियों का भी ध्यान रखना है, केवल साध्य का ही नहीं, बल्कि साधन का भी ध्यान रखना है। हमने शांतिपूर्ण, संवैधानिक प्रक्रियाओं के माध्यम से अपूर्ण स्वतंत्रता प्राप्त की और अपने देश को एकता के सूत्र में बांधा, और अब हम अपने लोगों के भौतिक स्तर को ऊँचा उठाने के लिए प्रयासरत हैं। यहाँ तक कि यदि हमें बल के स्थान पर अनुनय का और सत्ता की राजनीति के स्थान पर बंधुत्व की राजनीति का उपयोग करने के अपने प्रयास में पराजय मिलती है, तो भी हमें पक्का विश्वास है कि यह पराजय केवल अस्थायी होगी, क्योंकि अच्छाई चीजों की प्रकृति में निहित है, दयालुता और प्रेमभाव उतने ही संक्रामक है जितनी कि निर्दयता और घृणा।

लोगों के आर्थिक स्तर को किसके द्वारा ऊँचा उठाया जा सकता है?

1. बल
2. सत्ता की राजनीति
3. बंधुत्व की राजनीति
4. बहिःकरण की राजनीति

A1 1
:
1
A2 2
:
2
A3 3
:
3
A4 4
:
4

Objective Question

50 2000

Read the following passage and answer the question (46-50) that follows:

Political freedom and economic justice are two sides of democracy; both are essential. We should lay stress on the improvements of the economic conditions of the people as well as on liberty and freedom. No society can claim to be democratic if it does not permit political liberty, freedom of conscience, freedom of choice between parties, and opportunities of peaceful and orderly changes of Government.

In the context of the international situation, there are many misunderstandings. We can build peace even on the basis of misunderstandings. When once peace is built, misunderstandings will diminish.

We, in our country, are now engaged in the enterprise of effecting a social and economic revolution. The word 'revolution' need not scare us. It does not mean barricades and bloodshed. It means only speedy and drastic changes. We are interested not only in our objectives but in our methods; not only in what we achieve but in how we achieve. Through peaceful, constitutional processes we won our independence and integrated our country; and now we are striving to raise the material standards of our people. Even if we meet defeat in our attempt to replace force by persuasion, the politics of power by the politics of brotherhood, we are convinced that the defeat will be only temporary, for goodness is rooted in the nature of things; kindness and love are as contagious as unkindness and hate.

Given below are two statements:

Statement I: In international arena, understandings are a pre-requisite for building peace.

Statement II: India achieved its independence and integration through peaceful revolution.

In the light of the above statements, choose the correct answer from the options given below.

1. Both Statement I and Statement II are true
2. Both Statement I and Statement II are false
3. Statement I is true but Statement II is false
4. Statement I is false but Statement II is true

निम्नलिखित गद्यांश को ध्यानपूर्वक पढ़िए और उसके नीचे दिए गए प्रश्नों के उत्तर दीजिए:

राजनीतिक स्वतंत्रता और आर्थिक न्याय लोकतंत्र के दो पहलू हैं, दोनों ही अनिवार्य हैं। हमें लोगों की आर्थिक स्थितियों में सुधार के साथ-साथ स्वाधीनता और स्वतंत्रता पर भी बल देना चाहिए। यदि कोई भी समाज राजनीतिक स्वाधीनता, अंतरात्मा की स्वतंत्रता, विभिन्न दलों के बीच विकल्प चुनने की स्वतंत्रता तथा सरकार के शांतिपूर्ण और व्यवस्थित बदलावों के अवसरों की अनुमति नहीं देता है तो वह लोकतांत्रिक होने का दावा नहीं कर सकता है। अंतरराष्ट्रीय स्थिति के संदर्भ में कई गलतफहमियां हैं। हम गलतफहमियों के आधार पर भी शांति स्थापित कर सकते हैं। एक बार शांति स्थापित होने के बाद गलतफहमियां कम हो जाएंगी।

हम अपने देश में अब सामाजिक और आर्थिक क्रांति लाने के उद्यम में लगे हुए हैं। हमें 'क्रांति' शब्द से भयभीत होने की आवश्यकता नहीं है। इसका अनाकाबंदी और खून-खराबा नहीं है। इसके अर्थ केवल शीघ्र और बड़े बदलाव करना है। हमें केवल अपने उद्देश्यों का ही नहीं, बल्कि उन्हें प्राप्त करने के विधियों का भी ध्यान रखना है, केवल साध्य का ही नहीं, बल्कि साधन का भी ध्यान रखना है। हमने शांतिपूर्ण, संवैधानिक प्रक्रियाओं के माध्यम से अपने स्वतंत्रता प्राप्त की और अपने देश को एकता के सूत्र में बांधा, और अब हम अपने लोगों के भौतिक स्तर को ऊँचा उठाने के लिए प्रयासरत हैं। यहाँ तक कि यदि हमें बल के स्थान पर अनुनय का और सत्ता की राजनीति के स्थान पर बंधुत्व की राजनीति का उपयोग करने के अपने प्रयास में पराजय मिलती है, तो भी हमें पक्का विश्वास है कि यह पराजय केवल अस्थायी होगी, क्योंकि अच्छाई चीजों की प्रकृति में निहित है, दयालुता और प्रेमभाव उतने ही संक्रामक है जितनी कि निर्दयता और घृणा।

नीचे दो कथन दिए गए हैं:

कथन I: अंतरराष्ट्रीय क्षेत्र में शांति स्थापित करने के लिए आपसी समझ पूर्वपेक्षा है।

कथन II: भारत ने शांतिपूर्ण क्रांति के माध्यम से अपनी स्वतंत्रता और एकीकरण को प्राप्त किया।

उपरोक्त कथन के आलोक में, नीचे दिए गए विकल्पों में से सही उत्तर का चयन कीजिए:

1. कथन I और II दोनों सत्य हैं
2. कथन I और II दोनों असत्य हैं
3. कथन I सत्य है, लेकिन कथन II असत्य है
4. कथन I असत्य है, लेकिन कथन II सत्य है

A1
:

1

A2
:

2

A3
:

3

A4
:

4



Objective Question

51 900301

Nozick advocates the theory of justice as:

1. Fairness
2. Right
3. Entitlement
4. Liberty

नोज़िक न्याय के सिद्धांत का पक्ष इस रूप में रखते हैं:

1. निष्पक्षता
2. अधिकार
3. पात्रता
4. स्वतंत्रता